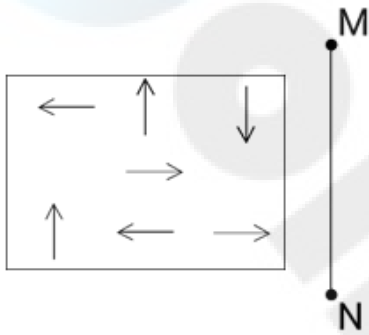


Sub Inspector in Delhi Police and Central Armed Police Forces Examination 2023 Paper I

Roll Number	
Candidate Name	
Venue Name	
Exam Date	05/10/2023
Exam Time	9:00 AM - 11:00 AM
Subject	SICPO Paper I 2023

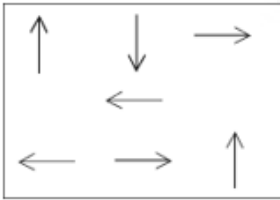
Section : General Intelligence and Reasoning

Q.1 यदि दर्पण को नीचे दिखाए गए अनुसार रेखा MN पर रखा गया हो, तो दी गई आकृति के सही दर्पण प्रतिबिम्ब का चयन कीजिए।

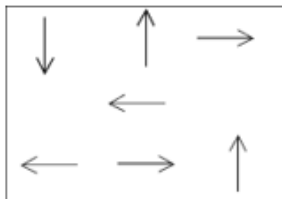


Ans

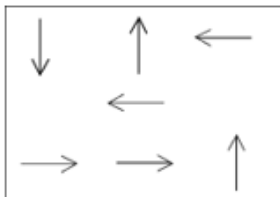
✗ 1.



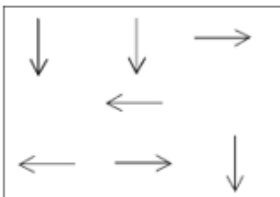
✓ 2.



✗ 3.



✗ 4.



Question ID : 264330170164

Option 1 ID : 264330667332

Option 2 ID : 264330667331

Option 3 ID : 264330667333

Option 4 ID : 264330667334

Status : Answered

Chosen Option : 2

Q.2 गणितीय चिह्नों के निम्नलिखित संयोजनों में से सही संयोजन का चयन कीजिए, जिसे निम्नलिखित समीकरण को संतुलित करने के लिए दिए गए कोष्ठक में भरा जा सकता है।

86 ○ 42 ○ 12 ○ 3 ○ 12 ○ 3 ○ 4

Ans ✓ 1. —, —, ÷, =, ×, +

✗ 2. —, +, ×, =, ÷, +

✗ 3. —, +, ÷, ×, =, +

✗ 4. +, —, ÷, ×, =, +

Question ID : 264330129642

Option 1 ID : 264330507936

Option 2 ID : 264330507934

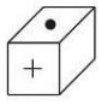
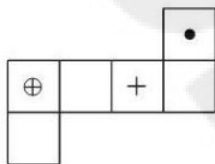
Option 3 ID : 264330507937

Option 4 ID : 264330507935

Status : Answered

Chosen Option : 1

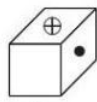
Q.3 यदि दी गई शीट को मोड़कर एक घन बनाया जाए, तो दी गई आकृतियों में से कौन-सी आकृति बनना संभव है? (एलिमेंट केवल फलकों को इंगित करने के लिए दिखाए गए हैं।)



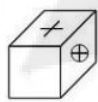
1



2



3



4

Ans ✓ 1. केवल 1 और 3

✗ 2. केवल 2 और 3

✗ 3. केवल 2 और 4

✗ 4. केवल 1 और 4

Question ID : 26433065677

Option 1 ID : 264330257270

Option 2 ID : 264330257271

Option 3 ID : 264330257269

Option 4 ID : 264330257268

Status : Answered

Chosen Option : 1

Q.4 P, Q के उत्तर में है। T, Q के पूर्व में है, और S, P के पूर्व में है। S, T के उत्तर-पूर्व में, और R के दक्षिण-पश्चिम में है। Q के सापेक्ष R की स्थिति क्या है? (सभी स्थितियों को ग्रिड पैटर्न में व्यवस्थित किया गया है)

Ans ✓ 1. उत्तर-पूर्व

✗ 2. पूर्व

✗ 3. दक्षिण

✗ 4. दक्षिण-पश्चिम

Question ID : 26433068362

Option 1 ID : 264330267962

Option 2 ID : 264330267961

Option 3 ID : 264330267960

Option 4 ID : 264330267963

Status : Answered

Chosen Option : 1

Q.5 उस विकल्प का चयन करें, जो तीसरे शब्द से उसी प्रकार संबंधित है, जिस प्रकार दूसरा शब्द पहले शब्द से संबंधित है।
(शब्दों को अर्थपूर्ण शब्दों के रूप में माना जाना चाहिए, और इन्हें शब्द में अक्षरों की संख्या/व्यंजनों की संख्या/स्वरों की संख्या के आधार पर एक-दूसरे से संबद्ध नहीं किया जाना चाहिए।)
पेडल (Pedal) : साइकिल (Bicycle) :: चप्पू (Oar) : ?

- Ans
- 1. कार (Car)
 - 2. डोंगी (Canoe)
 - 3. मोटरसाइकिल (Motorcycle)
 - 4. टेलीविजन (Television)

Question ID : 26433087294
Option 1 ID : 264330342813
Option 2 ID : 264330342814
Option 3 ID : 264330342815
Option 4 ID : 264330342816
Status : Answered
Chosen Option : 2

Q.6 विकल्पों में से कौन-सी संख्या दी गई श्रृंखला में प्रश्न चिह्न (?) को प्रतिस्थापित करेगी?

32, 32, 32, 34, ?, 106, 530

- Ans
- 1. 96
 - 2. 38
 - 3. 34
 - 4. 102

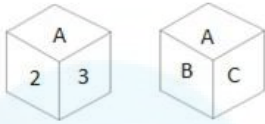
Question ID : 264330145336
Option 1 ID : 264330569599
Option 2 ID : 264330569600
Option 3 ID : 264330569601
Option 4 ID : 264330569602
Status : Answered
Chosen Option : 4

Q.7 यदि '+' का अर्थ '-' है, '-' का अर्थ '+' है, '÷' का अर्थ '×' है और '×' का अर्थ '÷' है, तो दिए गए समीकरण में प्रश्नवाचक चिह्न (?) के स्थान पर क्या आएगा?
 $15 \times 30 + 15 - 3 \div 2 = ?$

- Ans
- 1. 35
 - 2. 30
 - 3. 15
 - 4. 40

Question ID : 264330114249
Option 1 ID : 264330449083
Option 2 ID : 264330449082
Option 3 ID : 264330449081
Option 4 ID : 264330449084
Status : Answered
Chosen Option : 1

Q.8 एक पासे के अलग-अलग फलकों पर छह अक्षर/अंक A, B, C, 1, 2 और 3 लिखे गए हैं। इस पासे की दो स्थितियां दी गई आकृति में दिखाई गई हैं। C अक्षर वाले फलक के विपरीत फलक पर कौन-सा अक्षर/अंक है?



- Ans
- 1. 3
 - 2. B
 - 3. 2
 - 4. 1

Question ID : 264330109201
Option 1 ID : 264330429083
Option 2 ID : 264330429082
Option 3 ID : 264330429081
Option 4 ID : 264330429084
Status : Answered
Chosen Option : 1

Q.9 निम्नलिखित में से कौन-सी संख्या दी गई श्रृंखला में प्रश्न चिह्न (?) के स्थान पर आएगी?
473, 517, 561, ?, 649, 693

- Ans
- 1. 598
 - 2. 607
 - 3. 603
 - 4. 605

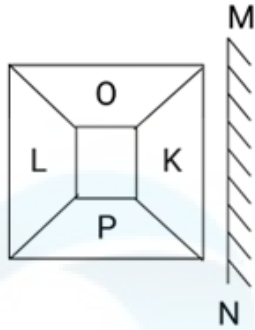
Question ID : 26433067627
Option 1 ID : 264330265020
Option 2 ID : 264330265022
Option 3 ID : 264330265021
Option 4 ID : 264330265023
Status : Answered
Chosen Option : 4

Q.10 एक निश्चित कूट भाषा में "GRAPE" को 21-54-3-48-15 के रूप में कूटबद्ध किया जाता है, और "MELON" को 39-15-36-45-42 के रूप में कूटबद्ध किया जाता है। उसी कूट भाषा में "PEACH" को किस प्रकार कूटबद्ध किया जाएगा?

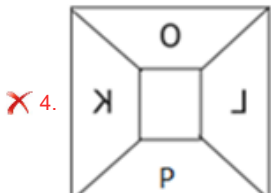
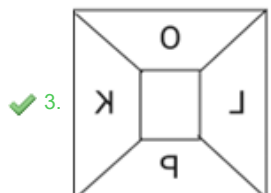
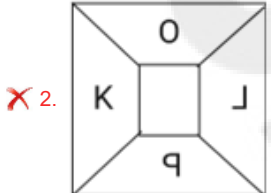
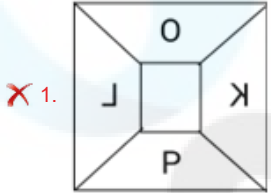
- Ans
- 1. 48-15-3-9-24
 - 2. 49-15-3-9-27
 - 3. 45-16-3-9-24
 - 4. 48-15-3-8-27

Question ID : 264330132208
Option 1 ID : 264330517928
Option 2 ID : 264330517930
Option 3 ID : 264330517929
Option 4 ID : 264330517927
Status : Answered
Chosen Option : 1

Q.11 यदि दर्पण को नीचे दर्शाए अनुसार रेखा 'MN' पर रखा जाता है तो दिए गए पैटर्न का सही दर्पण प्रतिबिम्ब कौन सा होगा?



Ans



Question ID : 264330134117
 Option 1 ID : 264330525492
 Option 2 ID : 264330525494
 Option 3 ID : 264330525491
 Option 4 ID : 264330525493
 Status : Answered
 Chosen Option : 3

Q.12 नीचे दो कथन और दो निष्कर्ष दिए गए हैं। कथनों को सत्य मानते हुए, भले ही वे सामान्य रूप से ज्ञात तथ्यों से भिन्न प्रतीत होते हों, निर्धारित करें कि कौन-से निष्कर्ष दिए गए कथनों का तार्किक रूप से पालन करते हैं?

कथन:

कुछ खजूर हेज़लनट हैं।

सभी हेज़लनट अखरोट हैं।

निष्कर्ष:

I. कुछ खजूर अखरोट हैं।

II. कुछ अखरोट हेज़लनट हैं।

- Ans 1. केवल निष्कर्ष I पालन करता है
2. दोनों निष्कर्ष पालन करते हैं
3. न तो निष्कर्ष I और न ही निष्कर्ष II पालन करता है
4. केवल निष्कर्ष II पालन करता है

Question ID : 26433056646

Option 1 ID : 264330221568

Option 2 ID : 264330221570

Option 3 ID : 264330221571

Option 4 ID : 264330221569

Status : Answered

Chosen Option : 2

Q.13 निम्नलिखित श्रृंखला में प्रश्नचिह्न (?) के स्थान पर कौन-सी संख्या आएगी?
6, 20, 42, ?, 110, 156

- Ans 1. 80
2. 72
3. 50
4. 64

Question ID : 26433067831

Option 1 ID : 264330265836

Option 2 ID : 264330265837

Option 3 ID : 264330265839

Option 4 ID : 264330265838

Status : Answered

Chosen Option : 2

Q.14 यदि A का अर्थ '+' हो, B का अर्थ 'x' हो, C का अर्थ '-' हो और D का अर्थ '÷' हो, तो निम्नलिखित समीकरण का मान कितना होगा?
94 C 12 B 6 A 216 D 9 = ?

- Ans 1. 47
2. 46
3. 68
4. 52

Question ID : 264330129785

Option 1 ID : 264330508374

Option 2 ID : 264330508372

Option 3 ID : 264330508371

Option 4 ID : 264330508373

Status : Answered

Chosen Option : 2

Q.15 निम्नलिखित में से कौन-सी आकृति दी गई श्रृंखला में 5वें स्थान पर रखे जाने पर पहली चार आकृतियों द्वारा निर्मित श्रृंखला को जारी रखेगी?

M	+	W	S	+
S	2	+	M	2

1 2 3 4

Ans

✗ 1.

	+
M	
	S

✗ 2.

	W
S	
	+

✓ 3.

	M
S	
	+

✗ 4.

	S
M	
	+

Question ID : 26433087308

Option 1 ID : 264330342869

Option 2 ID : 264330342872

Option 3 ID : 264330342870

Option 4 ID : 264330342871

Status : Answered

Chosen Option : 3

Q.16 निम्नलिखित में से कौन-सा विकल्प दी गई श्रृंखला में प्रश्नचिह्न (?) के स्थान पर आएगा?
HKOE , KNOE , ? , QTOE , TWOE

- Ans
- 1. QNOE
 - 2. NQEO
 - 3. NOQE
 - 4. NQOE

Question ID : 264330102492
Option 1 ID : 264330402398
Option 2 ID : 264330402399
Option 3 ID : 264330402400
Option 4 ID : 264330402397
Status : Answered
Chosen Option : 4

Q.17 F, J का भाई है। E, D की बहन है। K, L की बहन है। D, L का पुत्र है। J, E का पिता है। D का F से क्या संबंध है?

- Ans
- 1. भतीजी
 - 2. पत्नी
 - 3. भतीजा
 - 4. बहनोई

Question ID : 264330126019
Option 1 ID : 264330493748
Option 2 ID : 264330493750
Option 3 ID : 264330493751
Option 4 ID : 264330493749
Status : Answered
Chosen Option : 3

Q.18 कौन-सा अक्षर-समूह प्रश्नचिह्न (?) के स्थान पर आकर दी गई श्रृंखला को पूर्ण करेगा?
ZFKQ, BCMN, ?, FWQH, HTSE

- Ans
- 1. DZPJ
 - 2. DZOK
 - 3. DBOM
 - 4. DAOL

Question ID : 26433076663
Option 1 ID : 264330300719
Option 2 ID : 264330300716
Option 3 ID : 264330300718
Option 4 ID : 264330300717
Status : Answered
Chosen Option : 2

Q.19 उस सही विकल्प का चयन कीजिए, जो दिए गए शब्दों के उसी क्रम में व्यवस्थापन को दर्शाता है, जिस क्रम में वे अंग्रेजी शब्दकोश में मौजूद होते हैं।

1. Desperate
2. Desolate
3. Destruction
4. Desire
5. Descend
6. Destination

Ans 1. 5, 4, 1, 2, 6, 3
 2. 5, 4, 1, 6, 2, 3
 3. 5, 4, 2, 1, 6, 3
 4. 5, 4, 2, 1, 3, 6

Question ID : 264330145379

Option 1 ID : 264330569774

Option 2 ID : 264330569771

Option 3 ID : 264330569772

Option 4 ID : 264330569773

Status : Answered

Chosen Option : 3

Q.20 "Z @ A" का अर्थ है "Z, A का पुत्र है"।
"Z * A" का अर्थ है "Z, A का भाई है"।
"Z x A" का अर्थ है "Z, A के पिता है"।
"Z # A" का अर्थ है "Z, A की बहन है"।
"Z \$ A" का अर्थ है "Z, A की पुत्री है"।
"Z = A" का अर्थ है "Z, A की माता है"।
निम्नलिखित व्यंजक में A का Y से क्या संबंध है?
A * S = J @ M x Y

Ans 1. A, Y का भाई है।
 2. A, Y की माता का भाई है।
 3. A, Y का चचेरा/ममेरा/फुफेरा/मौसेरा भाई/बहन है।
 4. A, Y के पिता है।

Question ID : 26433057298

Option 1 ID : 264330224176

Option 2 ID : 264330224177

Option 3 ID : 264330224178

Option 4 ID : 264330224179

Status : Answered

Chosen Option : 2

Q.21 पूजा बिंदु A से पूर्व की ओर 4 km झाड़व करती है। वह दाएं मुड़ती है, और 2 km झाड़व करती है। फिर वह बाएं मुड़ती है, और 3 km झाड़व करती है। वह पुनः बाएं मुड़ती है, और बिंदु B तक पहुंचने के लिए 2 km झाड़व करती है। बिंदु A पर पुनः पहुंचने के लिए अब उसे कितनी दूर और किस दिशा में झाड़व करना चाहिए?

Ans 1. उत्तर की ओर 5 km
 2. पूर्व की ओर 4 km
 3. पश्चिम की ओर 7 km
 4. दक्षिण की ओर 4 km

Question ID : 26433091676

Option 1 ID : 264330360070

Option 2 ID : 264330360072

Option 3 ID : 264330360071

Option 4 ID : 264330360069

Status : Answered

Chosen Option : 3

Q.22 यदि '+' का अर्थ '-' है, '-' का अर्थ 'x' है, 'x' का अर्थ '+' है और '+' का अर्थ '+' है, तो निम्नलिखित समीकरण में '?' के स्थान पर क्या आएगा?
 $42 \times 6 - 7 \div 13 + 28 = ?$

- Ans 1. 39
 2. 27
 3. 43
 4. 34

Question ID : 264330101146
Option 1 ID : 264330397131
Option 2 ID : 264330397129
Option 3 ID : 264330397132
Option 4 ID : 264330397130
Status : Answered
Chosen Option : 4

Q.23 निम्नलिखित में से तीन अक्षर-समूह किसी न किसी तरह से संगत हैं, और एक असंगत है। असंगत अक्षर समूह का चयन करें।

- Ans 1. HDGE
 2. JQAZ
 3. OKNL
 4. FBEC

Question ID : 264330145347
Option 1 ID : 264330569646
Option 2 ID : 264330569644
Option 3 ID : 264330569643
Option 4 ID : 264330569645
Status : Answered
Chosen Option : 2

Q.24 यदि '+' का अर्थ '-' है, '-' का अर्थ 'x' है, 'x' का अर्थ '+' है और '+' का अर्थ '+' है, तो निम्नलिखित समीकरण में '?' के स्थान पर क्या आएगा?
 $45 - 3 \div 144 \times 12 + 38 = ?$

- Ans 1. 91
 2. 123
 3. 95
 4. 109

Question ID : 264330101153
Option 1 ID : 264330397160
Option 2 ID : 264330397159
Option 3 ID : 264330397157
Option 4 ID : 264330397158
Status : Answered
Chosen Option : 4

Q.25 किसी निश्चित कूट भाषा में, 'COLD' को '6428' के रूप में कूटबद्ध किया जाता है, और 'TIDE' को '9673' के रूप में कूटबद्ध किया जाता है। दी गई उस कूट भाषा में 'D' के लिए कूट क्या है?

Ans ✓ 1. 6

✗ 2. 2

✗ 3. 3

✗ 4. 9

Question ID : 264330169654

Option 1 ID : 264330665317

Option 2 ID : 264330665315

Option 3 ID : 264330665316

Option 4 ID : 264330665318

Status : Answered

Chosen Option : 1

Q.26 उस विकल्प का चयन करें, जो उन अक्षरों को निरूपित करता है, जिन्हें नीचे दिए गए रिक्त स्थानों में क्रमिक रूप से बाएं से दाएं रखे जाने पर दी गई अक्षर श्रृंखला पूरी हो जाएगी।

_ L _ _ K S _ T U _ S L _ _ K

Ans ✗ 1. KTULUTS

✓ 2. STULK TU

✗ 3. UTSKTLU

✗ 4. LUSKTUK

Question ID : 26433086953

Option 1 ID : 264330341456

Option 2 ID : 264330341455

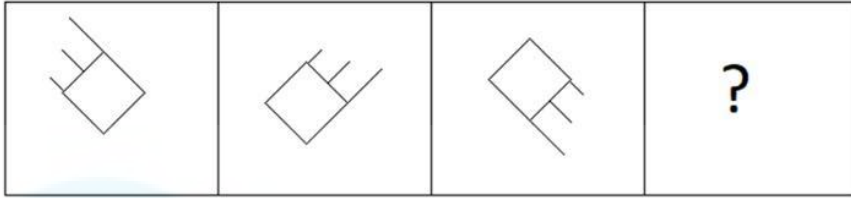
Option 3 ID : 264330341453

Option 4 ID : 264330341454

Status : Answered

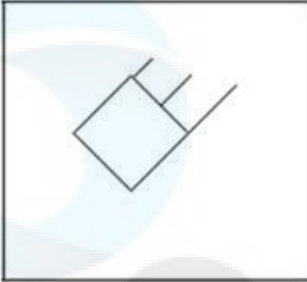
Chosen Option : 2

Q.27 निम्नलिखित आकृति श्रृंखला में आगे आने वाली आकृति का चयन करें।

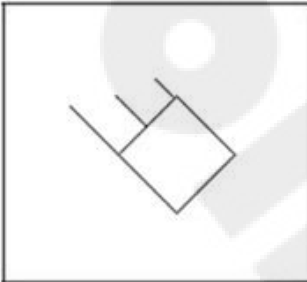


Ans

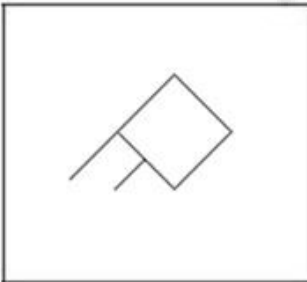
✗ 1.



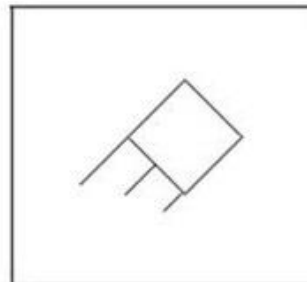
✗ 2.



✗ 3.



✓ 4.



Question ID : 26433087071

Option 1 ID : 264330341926

Option 2 ID : 264330341925

Option 3 ID : 264330341927

Option 4 ID : 264330341928

Status : Answered

Chosen Option : 4

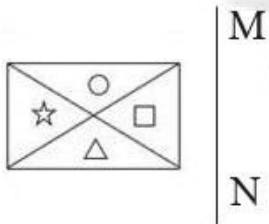
Q.28 उस विकल्प का चयन कीजिए, जो दिए गए शब्दों के उस सही क्रम को दर्शाता है, जिस क्रम में वे अंग्रेजी शब्दकोश में मौजूद होते हैं।

1. Flint
2. Flec
3. Flaw
4. Fleet
5. Flight

- Ans 1. 3, 5, 4, 2, 1
 2. 3, 2, 4, 5, 1
 3. 2, 3, 4, 5, 1
 4. 3, 4, 2, 5, 1

Question ID : 26433067248
 Option 1 ID : 264330263504
 Option 2 ID : 264330263505
 Option 3 ID : 264330263506
 Option 4 ID : 264330263507
 Status : Answered
 Chosen Option : 2

Q.29 जब दर्पण को रेखा MN पर रखा जाता है, तो दी गई आकृति का सही दर्पण प्रतिबिंब ज्ञात कीजिए।



Ans

- 1.
- 2.
- 3.
- 4.

Question ID : 26433056624
 Option 1 ID : 264330221481
 Option 2 ID : 264330221480
 Option 3 ID : 264330221483
 Option 4 ID : 264330221482
 Status : Answered
 Chosen Option : 2

Q.30 छह विद्यार्थी एक वृत्ताकार मेज के परितः केंद्र की ओर मुख करके बैठे हैं। A, E और D दोनों के ठीक बगल में है। E, C के दाईं ओर तीसरे स्थान पर बैठा है। D, F के बाईं ओर तीसरे स्थान पर बैठा है। E, F के ठीक बगल में है। B, E के बाईं ओर दूसरे स्थान पर बैठा है। A और C, दोनों के ठीक बगल में कौन बैठा है?

- Ans
- 1. E
 - 2. F
 - 3. B
 - 4. D

Question ID : 26433068168
Option 1 ID : 264330267187
Option 2 ID : 264330267185
Option 3 ID : 264330267186
Option 4 ID : 264330267184
Status : Answered
Chosen Option : 4

Q.31 एक निश्चित कूट भाषा में "EDUCATION" को "FCVBBSJNO" लिखा जाता है, और "MICROSOFT" को "NHDQPRPEU" लिखा जाता है। उसी कूट भाषा में "SEMICIRCLE" को किस प्रकार लिखा जाएगा?

- Ans
- 1. TDHNDHSFBD
 - 2. TDNHHDSBFD
 - 3. TDNHDHSBMD
 - 4. TDNHHDSBFM

Question ID : 26433070268
Option 1 ID : 264330275550
Option 2 ID : 264330275549
Option 3 ID : 264330275548
Option 4 ID : 264330275551
Status : Answered
Chosen Option : 3

Q.32 उस विकल्प का चयन करें जो पांचवीं संख्या से उसी प्रकार संबंधित है जैसे पहली संख्या दूसरी संख्या से और तीसरी संख्या चौथी संख्या से संबंधित है।
32 : 10 :: 24 : 12 :: 98 : ?

- Ans
- 1. 43
 - 2. 34
 - 3. 24
 - 4. 25

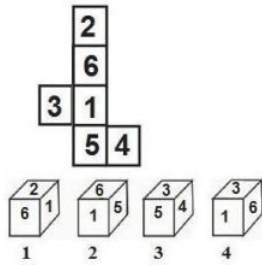
Question ID : 26433079116
Option 1 ID : 264330310469
Option 2 ID : 264330310470
Option 3 ID : 264330310468
Option 4 ID : 264330310471
Status : Answered
Chosen Option : 2

Q.33 उस समुच्चय का चयन कीजिए जिसमें संख्याएँ आपस में उसी प्रकार संबंधित हैं जिस प्रकार निम्नलिखित समुच्चयों की संख्याएँ आपस में संबंधित हैं। (नोट: संख्याओं को उसके घटक अंकों में विभाजित किए बिना, पूर्ण संख्याओं पर गणितीय संक्रियाएँ की जानी चाहिए। उदाहरण के लिए 13 - गणितीय संक्रियाएँ जैसे कि जोड़ना/घटाना/गुणा करना इत्यादि 13 में किया जा सकता है। 13 को 1 और 3 में विभाजित करना और फिर 1 और 3 पर गणितीय संक्रियाएँ करने की अनुमति नहीं है।)
(23, 6, 35)
(13, 5, 23)

- Ans 1. (16, 4, 20)
 2. (24, 5, 33)
 3. (25, 8, 41)
 4. (13, 7, 28)

Question ID : 26433057444
Option 1 ID : 264330224760
Option 2 ID : 264330224762
Option 3 ID : 264330224763
Option 4 ID : 264330224761
Status : Answered
Chosen Option : 3

Q.34 यदि दी गई शीट को मोड़कर एक घन बनाया जाए, तो निम्न में से कौन सी आकृति/आकृतियाँ बनना संभव है?
(संख्या केवल घनों के फलकों को इंगित करने के लिए दी गई हैं)



- Ans 1. केवल 4
 2. केवल 2
 3. केवल 3
 4. केवल 1 और 4

Question ID : 26433065672
Option 1 ID : 264330257251
Option 2 ID : 264330257249
Option 3 ID : 264330257250
Option 4 ID : 264330257248
Status : Answered
Chosen Option : 1

Q.35 यदि '+' का अर्थ '-' है, '-' का अर्थ '+' है, 'x' का अर्थ '-' है और '÷' का अर्थ 'x' है, तो दिए गए समीकरण में प्रश्नवाचक चिह्न (?) के स्थान पर क्या आएगा?
 $8 \div 5 - 5 \times 10 + 2 = ?$

- Ans 1. 45
 2. 40
 3. 35
 4. 30

Question ID : 26433091648
Option 1 ID : 264330359959
Option 2 ID : 264330359958
Option 3 ID : 264330359957
Option 4 ID : 264330359960
Status : Answered
Chosen Option : 2

Q.36 नीचे दो कथन और दो निष्कर्ष दिए गए हैं। कथनों को सत्य मानते हुए, भले ही वे सामान्य रूप से ज्ञात तथ्यों से भिन्न प्रतीत होते हों, निर्धारित करें कि कौन-से निष्कर्ष दिए गए कथनों का तार्किक रूप से पालन करते हैं?

कथन

सभी आयरन कॉपर हैं।
सभी कॉपर एल्युमिनियम हैं।

निष्कर्ष:

- I. कुछ एल्युमीनियम आयरन हैं
II. कुछ एल्युमीनियम कॉपर हैं

- Ans 1. केवल निष्कर्ष I पालन करता है
 2. न तो निष्कर्ष I और न ही निष्कर्ष II पालन करता है
 3. दोनों निष्कर्ष पालन करते हैं
 4. केवल निष्कर्ष II पालन करता है

Question ID : 26433056641
Option 1 ID : 264330221548
Option 2 ID : 264330221551
Option 3 ID : 264330221550
Option 4 ID : 264330221549
Status : Answered
Chosen Option : 3

Q.37 दिए गए समीकरण को सही बनाने के लिए किन दो चिह्नों को आपस में बदल देना चाहिए?

$$729 \times 9 - (56 - 6) \times 5 \div 2 + 152 \times 19 = 69$$

- Ans 1. \times और +
 2. + और -
 3. + और -
 4. \times और +

Question ID : 264330145337
Option 1 ID : 264330569603
Option 2 ID : 264330569606
Option 3 ID : 264330569604
Option 4 ID : 264330569605
Status : Answered
Chosen Option : 4

Q.38 छह मित्र एक वृत्ताकार स्थिति में केंद्र की ओर मुख करके बैठे हुए हैं। सुमित, अमित के दाईं ओर दूसरे स्थान पर बैठा है। करण, परम के ठीक बगल में है। टोनी, अमित के दाईं ओर तीसरे स्थान पर बैठा है। धरम, अमित और सुमित के ठीक बगल में बैठा है। करण, सुमित के दाईं ओर दूसरे स्थान पर बैठा है। परम के दाईं ओर चौथे स्थान पर कौन बैठा है?

- Ans 1. सुमित
 2. धरम
 3. टोनी
 4. करण

Question ID : 264330145407
Option 1 ID : 264330569884
Option 2 ID : 264330569886
Option 3 ID : 264330569883
Option 4 ID : 264330569885
Status : Answered
Chosen Option : 3

Q.39 उस समुच्चय का चयन कीजिए जिसमें संख्याएँ एक-दूसरे से उसी प्रकार संबंधित हैं जिस प्रकार निम्नलिखित समुच्चय की संख्याएँ आपस में संबंधित हैं।

(नोट: संख्याओं को उसके घटक अंकों में विभाजित किए बिना, पूर्ण संख्याओं पर गणितीय संक्रियाएँ की जानी चाहिए। उदाहरण के लिए 13 - संख्या 13 पर गणितीय संक्रियाएँ जैसे कि जोड़ना / घटाना / गुणा करना आदि को 13 से किया जा सकता है। 13 को 1 और 3 में तोड़ना और फिर 1 और 3 पर गणितीय संक्रियाएँ करने की अनुमति नहीं है)

(2, 5, 341)
(1, 7, 510)

- Ans 1. (8,2,140)
 2. (1,2,25)
 3. (3,6,64)
 4. (2,5,56)

Question ID : 264330145323

Option 1 ID : 264330569547

Option 2 ID : 264330569549

Option 3 ID : 264330569548

Option 4 ID : 264330569550

Status : Answered

Chosen Option : 2

Q.40 निम्नलिखित में से तीन अक्षर-समूह किसी न किसी तरह से संगत हैं, और एक असंगत है। असंगत अक्षर समूह का चयन करें।

- Ans 1. KPLO
 2. LOKP
 3. HMIL
 4. SXTW

Question ID : 264330180759

Option 1 ID : 264330709003

Option 2 ID : 264330709006

Option 3 ID : 264330709005

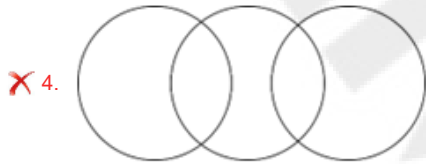
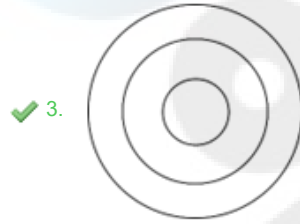
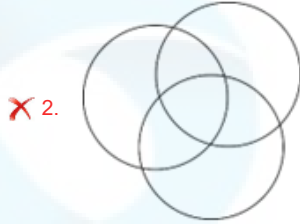
Option 4 ID : 264330709004

Status : Answered

Chosen Option : 2

Q.41 उस वेन आरेख का चयन करें, जो निम्नलिखित वर्गों के बीच के संबंध को सर्वोत्तम ढंग से दर्शाता है।
यूरोप, यूनाइटेड किंगडम, लंदन

Ans



Question ID : 264330132030

Option 1 ID : 264330517218

Option 2 ID : 264330517215

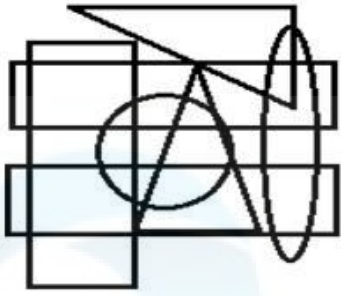
Option 3 ID : 264330517217

Option 4 ID : 264330517216

Status : Answered

Chosen Option : 3

Q.42 उस विकल्प आकृति का चयन कीजिए जो दी गई आकृति में उसके एक भाग के रूप में अंतर्निहित है
(आकृति को घूमने की अनुमति नहीं है)।



Ans



Question ID : 264330145464

Option 1 ID : 264330570112

Option 2 ID : 264330570111

Option 3 ID : 264330570114

Option 4 ID : 264330570113

Status : Answered

Chosen Option : 1

Q.43 उस विकल्प का चयन कीजिए, जो तीसरे शब्द से उसी प्रकार संबंधित है, जिस प्रकार दूसरा शब्द पहले शब्द से संबंधित है। (शब्दों को अर्थपूर्ण शब्दों के रूप में माना जाना चाहिए, और वह शब्द में अक्षरों की संख्या/व्यंजनों/स्वरों की संख्या के आधार पर एक-दूसरे से संबंधित नहीं होना चाहिए।)

इच्छा करना (Yearn) : लालसा करना (Crave) :: फुरती (Haste) : ?

Ans ✗ 1. विलंब (Delay)

✗ 2. विश्राम (Leisure)

✓ 3. तत्परता (Alacrity)

✗ 4. तरसना (Hanker)

Question ID : 264330145399

Option 1 ID : 264330569852

Option 2 ID : 264330569853

Option 3 ID : 264330569854

Option 4 ID : 264330569851

Status : Answered

Chosen Option : 3

Q.44 एक निश्चित कूट भाषा में, "YATCH" को 67 और "DINE" को 40 के रूप में कूटबद्ध किया जाता है। उसी कूट भाषा में "MANGO" को किस प्रकार कूटबद्ध किया जाएगा?

- Ans
- 1. 57
 - 2. 65
 - 3. 60
 - 4. 62

Question ID : 26433074707
Option 1 ID : 264330292917
Option 2 ID : 264330292916
Option 3 ID : 264330292918
Option 4 ID : 264330292919
Status : Answered
Chosen Option : 3

Q.45 एक निश्चित कूट भाषा में "STORY" को "97" और "PULL" को "61" के रूप में कूटबद्ध किया जाता है। उसी कूट भाषा में "INCOME" को किस प्रकार कूटबद्ध किया जाएगा?

- Ans
- 1. 47
 - 2. 59
 - 3. 54
 - 4. 49

Question ID : 26433079044
Option 1 ID : 264330310182
Option 2 ID : 264330310181
Option 3 ID : 264330310183
Option 4 ID : 264330310180
Status : Answered
Chosen Option : 2

Q.46 उस समुच्चय का चयन कीजिए जिसमें संख्याएँ उसी प्रकार संबंधित हैं जिस प्रकार निम्नलिखित समुच्चयों की संख्याएँ संबंधित हैं।

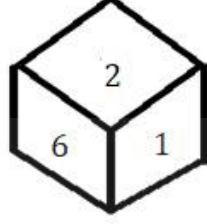
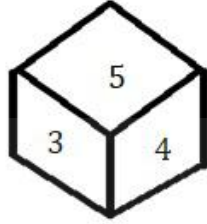
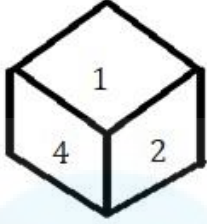
(नोट: संख्याओं को उसके घटक अंकों में विभाजित किए बिना, पूर्ण संख्याओं पर संक्रियाएँ की जानी चाहिए। उदाहरण के लिए 13 - इसमें 13 पर जोड़ने / घटाने / गुणा करने आदि जैसी संक्रियाओं को 13 में किया जा सकता है। 13 को 1 और 3 में विभाजित करने और फिर 1 और 3 पर गणितीय संक्रियाएँ करने की अनुमति नहीं है)

(7, 52), (9, 84)

- Ans
- 1. (11, 125)
 - 2. (8, 65)
 - 3. (13, 172)
 - 4. (14, 196)

Question ID : 264330145295
Option 1 ID : 264330569437
Option 2 ID : 264330569436
Option 3 ID : 264330569435
Option 4 ID : 264330569438
Status : Answered
Chosen Option : 3

Q.47 एक ही पासे की तीन अलग-अलग स्थितियाँ दर्शाई गई हैं। '6' दर्शाने वाले फलक के विपरीत फलक पर कौन-सी संख्या होगी?



- Ans
- 1. 2
 - 2. 4
 - 3. 1
 - 4. 3

Question ID : 264330108969
Option 1 ID : 264330428154
Option 2 ID : 264330428156
Option 3 ID : 264330428153
Option 4 ID : 264330428155
Status : Answered
Chosen Option : 2

Q.48 निम्नलिखित में से कौन-सी संख्या दी गई शृंखला में प्रश्न-चिह्न (?) का स्थान लेगी?

42, 53, 46, ?, 53, 66

- Ans
- 1. 58
 - 2. 51
 - 3. 55
 - 4. 48

Question ID : 26433091012
Option 1 ID : 264330357458
Option 2 ID : 264330357460
Option 3 ID : 264330357459
Option 4 ID : 264330357457
Status : Answered
Chosen Option : 1

Q.49 यदि निम्नलिखित आकृति श्रृंखला को जारी रखा जाए, तो दिए गए विकल्पों में से कौन-सी आकृति प्रश्नवाचक चिन्ह (?) को प्रतिस्थापित करेगी?

○	↑	□	2	2	○	↑	□	
B	T	△	△	B	T	T	△	B
2	□	↑	○	□	↑	○	2	?

Ans

✗ 1.

○	↑	
△	B	T
2		□

✗ 2.

○	↑	
B	T	△
2		□

✗ 3.

□	2	
B	T	△
↑		○

✓ 4.

□	2	
△	B	T
↑		○

Question ID : 264330145481

Option 1 ID : 264330570180

Option 2 ID : 264330570181

Option 3 ID : 264330570182

Option 4 ID : 264330570179

Status : Answered

Chosen Option : 1

Q.50 इस प्रश्न में, तीन कथन और उसके बाद दो निष्कर्ष I और II दिए गए हैं। कथनों को सत्य मानते हुए, भले ही वे सामान्यतः ज्ञात तथ्यों से भिन्न प्रतीत होते हों, निर्णय लें कि कौन-से निष्कर्ष तार्किक रूप से कथनों का पालन करते हैं?

कथन:

- I. सभी चाय, कॉफी हैं।
- II. सभी कॉफी, पेय पदार्थ हैं।
- III. कुछ चाय, ड्रिंक हैं।

निष्कर्ष:

- I. सभी चाय, पेय पदार्थ हैं।
- II. कोई ड्रिंक, कॉफी नहीं है।

- Ans
- 1. दोनों निष्कर्ष I और II पालन करते हैं
 - 2. केवल निष्कर्ष I पालन करता है
 - 3. केवल निष्कर्ष II पालन करता है
 - 4. न तो निष्कर्ष I और न ही निष्कर्ष II पालन करता है

Question ID : 264330104075

Option 1 ID : 264330408603

Option 2 ID : 264330408601

Option 3 ID : 264330408602

Option 4 ID : 264330408604

Status : Answered

Chosen Option : 2

Section : General Knowledge and General Awareness

Q.1 निम्नलिखित में से कौन-सा भारत के गौण औद्योगिक क्षेत्र (minor industrial region) का उदाहरण नहीं है?

- Ans
- 1. अंबाला-अमृतसर क्षेत्र
 - 2. हुगली क्षेत्र
 - 3. उत्तरी मालाबार क्षेत्र
 - 4. दुर्ग-रायपुर क्षेत्र

Question ID : 264330145256

Option 1 ID : 264330569281

Option 2 ID : 264330569279

Option 3 ID : 264330569280

Option 4 ID : 264330569282

Status : Not Answered

Chosen Option : --

Q.2 अकबर द्वारा खानदेश का मुगल साम्राज्य में विलय कब किया गया था?

- Ans
- 1. 1605 में
 - 2. 1595 में
 - 3. 1597 में
 - 4. 1601 में

Question ID : 264330109022

Option 1 ID : 264330428366

Option 2 ID : 264330428365

Option 3 ID : 264330428368

Option 4 ID : 264330428367

Status : Answered

Chosen Option : 4

Q.3 हर शंकर भट्टाचार्य _____ के उस्ताद (maestro) हैं।

- Ans
- 1. वायलिन
 - 2. सारंगी
 - 3. सितार
 - 4. संतूर

Question ID : 264330145186

Option 1 ID : 264330569002

Option 2 ID : 264330569000

Option 3 ID : 264330569001

Option 4 ID : 264330568999

Status : Answered

Chosen Option : 1

Q.4 सत्यजित रे की कृति 'चाइल्डहुड डेज़ - ए मेमोयर (Childhood Days - A Memoir)' निम्नलिखित में से किस भाषा में लिखी गई है?

- Ans
- 1. तेलुगू
 - 2. बंगाली
 - 3. कन्नड़
 - 4. हिन्दी

Question ID : 264330145183

Option 1 ID : 264330568989

Option 2 ID : 264330568987

Option 3 ID : 264330568990

Option 4 ID : 264330568988

Status : Answered

Chosen Option : 4

Q.5 सरकार ने सातवीं पंचवर्षीय योजना के बाद निम्नलिखित में से किन वर्षों में योजना अवकाश (plan holiday) लिया था?

- Ans
- 1. 1989 से 1991 तक
 - 2. 1992 से 1993 तक
 - 3. 1990 से 1992 तक
 - 4. 1991 से 1993 तक

Question ID : 264330145226

Option 1 ID : 264330569159

Option 2 ID : 264330569162

Option 3 ID : 264330569161

Option 4 ID : 264330569160

Status : Answered

Chosen Option : 3

Q.6 2016 के विश्व बैंक के आंकड़ों के अनुसार भारत में कितने प्रतिशत नौकरियों पर ऑटोमेशन का खतरा है?

- Ans 1. 69%
 2. 55%
 3. 77%
 4. 40%

Question ID : 264330111359
Option 1 ID : 264330437522
Option 2 ID : 264330437523
Option 3 ID : 264330437521
Option 4 ID : 264330437524
Status : Not Answered
Chosen Option : --

Q.7 निम्नलिखित में से किस नृत्य शैली की उत्पत्ति दक्षिणपूर्वी भारत में हुई थी?

- Ans 1. कथक
 2. छऊ
 3. कुचिपुड़ी
 4. सत्रीया

Question ID : 26433064643
Option 1 ID : 264330253164
Option 2 ID : 264330253167
Option 3 ID : 264330253165
Option 4 ID : 264330253166
Status : Answered
Chosen Option : 3

Q.8 भारत ने क्रिकेट में आईसीसी टी20 (ICC T20) पुरुष विश्व कप कितनी बार जीता है?

- Ans 1. 2
 2. 4
 3. 3
 4. 1

Question ID : 26433071373
Option 1 ID : 264330279917
Option 2 ID : 264330279919
Option 3 ID : 264330279918
Option 4 ID : 264330279916
Status : Answered
Chosen Option : 4

Q.9 हिमालय को पश्चिम से पूर्व तक क्षेत्रों के आधार पर विभाजित किया गया है। पश्चिम से पूर्व तक के क्षेत्रों का सही क्रम क्या है?

- Ans 1. पंजाब हिमालय, नेपाल हिमालय, कुमाऊँ हिमालय और असम हिमालय
 2. पंजाब हिमालय, कुमाऊँ हिमालय, नेपाल हिमालय और असम हिमालय
 3. पंजाब हिमालय, कुमाऊँ हिमालय, असम हिमालय और नेपाल हिमालय
 4. पंजाब हिमालय, नेपाल हिमालय, असम हिमालय और कुमाऊँ हिमालय

Question ID : 264330169318
Option 1 ID : 264330664053
Option 2 ID : 264330664054
Option 3 ID : 264330664052
Option 4 ID : 264330664051
Status : Answered
Chosen Option : 2

Q.10 निम्नलिखित में से कौन-सा पद लॉर्ड कॉर्नवालिस द्वारा बंगाल में लागू की गई एक प्रणाली/व्यवस्था को इंगित करता है, जिसके तहत जमींदारों को एक निश्चित तिथि तक एक निश्चित राजस्व प्राप्त करने के लिए भूमि का कानूनी स्वामित्व प्रदान किया जाता था?

- Ans
- 1. तालुकदारी व्यवस्था
 - 2. महलवाड़ी व्यवस्था
 - 3. स्थायी बंदोबस्त
 - 4. रैयतवाड़ी व्यवस्था

Question ID : 26433099165
Option 1 ID : 264330389275
Option 2 ID : 264330389276
Option 3 ID : 264330389274
Option 4 ID : 264330389273
Status : Answered
Chosen Option : 3

Q.11 भारतीय संविधान में वर्णित मूल कर्तव्यों का प्रावधान निम्नलिखित में से किससे प्रेरित है?

- Ans
- 1. यूएसएसआर (USSR) के संविधान से
 - 2. फ्रांस के संविधान से
 - 3. कनाडा के संविधान से
 - 4. संयुक्त राज्य अमेरिका के संविधान से

Question ID : 264330111510
Option 1 ID : 264330438125
Option 2 ID : 264330438128
Option 3 ID : 264330438127
Option 4 ID : 264330438126
Status : Answered
Chosen Option : 1

Q.12 ममिता (Maimata) निम्नलिखित में से किस राज्य का लोकप्रिय लोक नृत्य है?

- Ans
- 1. उत्तराखंड
 - 2. पंजाब
 - 3. हरियाणा
 - 4. त्रिपुरा

Question ID : 264330164794
Option 1 ID : 264330646303
Option 2 ID : 264330646305
Option 3 ID : 264330646304
Option 4 ID : 264330646306
Status : Answered
Chosen Option : 1

Q.13 अष्टाध्यायी, व्याकरण पर एक संस्कृत ग्रंथ है, जिसकी रचना छठी से पाँचवीं शताब्दी ईसा पूर्व में द्वारा की गई थी।

- Ans 1. पाणिनी
 2. अगस्त्य
 3. पतंजलि
 4. विश्वामित्र

Question ID : 264330165550
Option 1 ID : 264330649282
Option 2 ID : 264330649279
Option 3 ID : 264330649280
Option 4 ID : 264330649281
Status : Answered
Chosen Option : 1

Q.14 निम्नलिखित में से किस देश के राष्ट्रपति को 26 जनवरी 2020 को गणतंत्र दिवस परेड में मुख्य अतिथि के रूप में आमंत्रित किया गया था?

- Ans 1. ब्राज़ील
 2. न्यूजीलैंड
 3. इंडोनेशिया
 4. ऑस्ट्रेलिया

Question ID : 26433070819
Option 1 ID : 264330277724
Option 2 ID : 264330277725
Option 3 ID : 264330277727
Option 4 ID : 264330277726
Status : Answered
Chosen Option : 3

Q.15 हिंदू धर्म के भीतर बुराइयों पर प्रहार करने के लिए आत्मीय सभा की स्थापना कब की गई थी?

- Ans 1. 1839
 2. 1845
 3. 1828
 4. 1814

Question ID : 264330112194
Option 1 ID : 264330440863
Option 2 ID : 264330440864
Option 3 ID : 264330440861
Option 4 ID : 264330440862
Status : Answered
Chosen Option : 4

Q.16 आवर्त सारणी के समूह 18 का कौन-सा रासायनिक तत्व मृदा और चट्टानों में यूरेनियम के प्राकृतिक रेडियोधर्मी क्षय से उत्पन्न होता है?

- Ans
- 1. क्रिप्टॉन (Krypton)
 - 2. रेडॉन (Radon)
 - 3. नियॉन (Neon)
 - 4. ओगनेसन (Oganesson)

Question ID : 264330110061
Option 1 ID : 264330432522
Option 2 ID : 264330432524
Option 3 ID : 264330432521
Option 4 ID : 264330432523
Status : Answered
Chosen Option : 4

Q.17 हिमालय में सियाचिन _____ है।

- Ans
- 1. एक झील
 - 2. एक राष्ट्रीय उद्यान
 - 3. एक ग्लेशियर
 - 4. एक बांध

Question ID : 264330169991
Option 1 ID : 264330666642
Option 2 ID : 264330666641
Option 3 ID : 264330666640
Option 4 ID : 264330666639
Status : Answered
Chosen Option : 3

Q.18 लाल झील (Red Lake) कहाँ स्थित है?

- Ans
- 1. जापान
 - 2. यूएसए
 - 3. यूके
 - 4. चीन

Question ID : 26433064474
Option 1 ID : 264330252489
Option 2 ID : 264330252490
Option 3 ID : 264330252491
Option 4 ID : 264330252488
Status : Answered
Chosen Option : 2

Q.19 प्रशुल्क एवं व्यापार पर सामान्य समझौता (GATT) का 8वां राउंड, जिसे 'उरुग्वे राउंड' भी कहा जाता है, कब हुआ था, जिसके परिणामस्वरूप विश्व व्यापार संगठन (WTO) की स्थापना हुई थी?

- Ans
- 1. 1994 में
 - 2. 1993 में
 - 3. 1992 में
 - 4. 1991 में

Question ID : 26433064581
Option 1 ID : 264330252919
Option 2 ID : 264330252918
Option 3 ID : 264330252917
Option 4 ID : 264330252916
Status : Answered
Chosen Option : 1

Q.20 निम्नलिखित में से कौन सा नृत्य रूप, अपनी उत्पत्ति को प्राचीन नृत्य सादिर अट्टम से जोड़ता है?

- Ans
- 1. कथकली
 - 2. कुचिपुड़ी
 - 3. भरतनाट्यम्
 - 4. मोहिनीअट्टम

Question ID : 264330145146
Option 1 ID : 264330568842
Option 2 ID : 264330568841
Option 3 ID : 264330568840
Option 4 ID : 264330568839
Status : Answered
Chosen Option : 4

Q.21 पूर्वी घाट _____ से लेकर दक्षिण में नीलगिरी तक फैला हुआ है।

- Ans
- 1. महानदी घाटी
 - 2. गोदावरी घाटी
 - 3. सोन घाटी
 - 4. दामोदर घाटी

Question ID : 264330119793
Option 1 ID : 264330469448
Option 2 ID : 264330469450
Option 3 ID : 264330469447
Option 4 ID : 264330469449
Status : Answered
Chosen Option : 1

Q.22 भारतीय संविधान द्वारा अनुच्छेद 368 के अनुसार कितने प्रकार के संशोधनों का उल्लेख किया गया है?

- Ans
- 1. दो
 - 2. पाँच
 - 3. चार
 - 4. तीन

Question ID : 264330118523
Option 1 ID : 264330465496
Option 2 ID : 264330465493
Option 3 ID : 264330465494
Option 4 ID : 264330465495
Status : Not Answered
Chosen Option : --

Q.23 भारत के संविधान के किस अनुच्छेद में कहा गया है कि प्रधानमंत्री की नियुक्ति भारत के राष्ट्रपति द्वारा की जाती है?

- Ans
- 1. अनुच्छेद 73
 - 2. अनुच्छेद 75
 - 3. अनुच्छेद 76
 - 4. अनुच्छेद 74

Question ID : 264330130471
Option 1 ID : 264330510995
Option 2 ID : 264330510997
Option 3 ID : 264330510998
Option 4 ID : 264330510996
Status : Answered
Chosen Option : 4

Q.24 तारानुमा मंदिर (star-shaped temples) किसके शासनकाल के दौरान बनाए गए थे?

- Ans
- 1. चोल
 - 2. चालुक्य
 - 3. बादामी
 - 4. होयसल

Question ID : 264330164855
Option 1 ID : 264330646550
Option 2 ID : 264330646548
Option 3 ID : 264330646547
Option 4 ID : 264330646549
Status : Not Answered
Chosen Option : --

Q.25 निम्नलिखित में से किसने 'कुली' उपन्यास लिखा था, जो अमानवीयता के कारण होने वाले सामाजिक कष्टों पर केंद्रित था?

- Ans
- 1. मुल्क राज आनंद
 - 2. वी.एस. नायपॉल
 - 3. विजय तेंदुलकर
 - 4. आर.के. नारायण

Question ID : 26433071684
Option 1 ID : 264330281161
Option 2 ID : 264330281160
Option 3 ID : 264330281163
Option 4 ID : 264330281162
Status : Not Answered
Chosen Option : --

Q.26 _____ भूमि नियमित रूप से फसल के लिए उपयुक्त है।

- Ans
- 1. सीमांत (Marginal)
 - 2. नगरीय (Urban)
 - 3. कृष्य (Arable)
 - 4. बंजर (Barren)

Question ID : 264330163191
Option 1 ID : 264330640078
Option 2 ID : 264330640075
Option 3 ID : 264330640077
Option 4 ID : 264330640076
Status : Answered
Chosen Option : 3

Q.27 किस प्रकार की वर्षा में, हवाएँ, उत्तरी गोलार्ध में हवा की दिशा दक्षिणावर्त, और दक्षिणी गोलार्ध में हवा की दिशा वामावर्त रखते हुए उच्च दाब वाले क्षेत्र से बाहर की ओर चलती हैं?

- Ans
- 1. चक्रवात (Cyclones)
 - 2. पर्वत - विज्ञान (Orography)
 - 3. प्रतिचक्रवात (Anticyclone)
 - 4. संवहन (Convection)

Question ID : 264330111911
Option 1 ID : 264330439731
Option 2 ID : 264330439732
Option 3 ID : 264330439729
Option 4 ID : 264330439730
Status : Answered
Chosen Option : 4

Q.28 आधुनिक आवर्त सारणी में परमाणु संख्या 43 वाला कौन-सा रेडियोधर्मी तत्व अस्थिर है, और इसके सभी समस्थानिकों की अर्द्ध आयु अपेक्षाकृत छोटी है, जो 4.2 मिलियन वर्ष से 5.0 सेकंड तक है?

- Ans
- 1. नॉबेलियम (Nobelium)
 - 2. नेप्टूनियम (Neptunium)
 - 3. प्रोमैथियम (Promethium)
 - 4. टेक्नेटियम (Technetium)

Question ID : 264330110064
Option 1 ID : 264330432536
Option 2 ID : 264330432535
Option 3 ID : 264330432533
Option 4 ID : 264330432534
Status : Not Answered
Chosen Option : --

Q.29 16वीं शताब्दी के दौरान बहमनी साम्राज्य के विघटन के परिणामस्वरूप निम्नलिखित में से कौन-सा अस्तित्व में नहीं आया?

- Ans
- 1. गौर
 - 2. बीदर
 - 3. अहमदनगर
 - 4. गोलकुंडा

Question ID : 264330106564
Option 1 ID : 264330418560
Option 2 ID : 264330418557
Option 3 ID : 264330418558
Option 4 ID : 264330418559
Status : Answered
Chosen Option : 1

Q.30 निम्नलिखित में से कौन-सा गोलकृमि है?

- Ans
- 1. टीनिया (Taenia)
 - 2. प्लैनेरिया (Planaria)
 - 3. यकृत पर्णकृमि (Liver fluke)
 - 4. एस्केरिस (Ascaris)

Question ID : 26433082205
Option 1 ID : 264330322654
Option 2 ID : 264330322656
Option 3 ID : 264330322655
Option 4 ID : 264330322653
Status : Answered
Chosen Option : 3

Q.31 बास्केटबॉल कोर्ट की आकृति _____ होती है।

- Ans
- 1. त्रिभुजाकार
 - 2. वृत्ताकार
 - 3. वर्गाकार
 - 4. आयताकार

Question ID : 264330109852
Option 1 ID : 264330431688
Option 2 ID : 264330431687
Option 3 ID : 264330431685
Option 4 ID : 264330431686
Status : Answered
Chosen Option : 4

Q.32 गिद्ध _____ होते हैं।

- Ans
- 1. अपघटक
 - 2. शाकाहारी
 - 3. मांसाहारी
 - 4. सर्वाहारी

Question ID : 26433086613
Option 1 ID : 264330340093
Option 2 ID : 264330340095
Option 3 ID : 264330340096
Option 4 ID : 264330340094
Status : Answered
Chosen Option : 3

Q.33 सर्वेट्स ऑफ इंडिया सोसाइटी' निम्नलिखित में से किस नेता का मौलिक विचार था?

- Ans
- 1. गोपाल कृष्ण गोखले
 - 2. चितरंजन दास
 - 3. लाला लाजपत राय
 - 4. बी.आर. अम्बेडकर

Question ID : 264330165392
Option 1 ID : 264330648647
Option 2 ID : 264330648648
Option 3 ID : 264330648650
Option 4 ID : 264330648649
Status : Answered
Chosen Option : 1

Q.34 2022 तक प्राप्त जानकारी के अनुसार, भारतीय संविधान में कितने मूल कर्तव्यों को सूचीबद्ध किया गया है?

- Ans
- 1. 12
 - 2. 11
 - 3. 10
 - 4. 13

Question ID : 264330113380
Option 1 ID : 264330445607
Option 2 ID : 264330445606
Option 3 ID : 264330445605
Option 4 ID : 264330445608
Status : Answered
Chosen Option : 2

Q.35 अम्मनूर माधव चाकियार को निम्नलिखित में से किस नृत्य शैली में उनके योगदान के लिए पद्म श्री से सम्मानित किया गया था?

- Ans
- 1. कुचिपुड़ी
 - 2. कथकली
 - 3. यक्षगान
 - 4. कुटियाट्टम

Question ID : 264330145160
Option 1 ID : 264330568898
Option 2 ID : 264330568897
Option 3 ID : 264330568896
Option 4 ID : 264330568895
Status : Not Answered
Chosen Option : --

Q.36 निम्नलिखित में से कौन सा उद्योग, औद्योगिक नीति 1956 की अनुसूची A में शामिल नहीं था?

- Ans 1. नमक का खनन
 2. लौह एवं इस्पात
 3. खनिज तेल
 4. हवाई परिवहन

Question ID : 264330141497
Option 1 ID : 264330554326
Option 2 ID : 264330554323
Option 3 ID : 264330554324
Option 4 ID : 264330554325
Status : Answered
Chosen Option : 1

Q.37 राष्ट्रीय आय की गणना करते समय, निम्नलिखित में से किसे इनवेंटरी निवेश (inventory investment) में शामिल नहीं किया जाता है?

- Ans 1. अर्ध-निर्मित माल के स्टॉक में परिवर्तन (Change in stock of semi-finished goods)
 2. वर्ष के दौरान बिक्री में परिवर्तन (Change in sales during the year)
 3. कच्चे माल के स्टॉक में परिवर्तन (Change in stock of raw material)
 4. निर्मित माल के स्टॉक में परिवर्तन (Change in stock of finished goods)

Question ID : 264330120865
Option 1 ID : 264330473676
Option 2 ID : 264330473678
Option 3 ID : 264330473677
Option 4 ID : 264330473675
Status : Answered
Chosen Option : 2

Q.38 1 किलोवाट _____ के समतुल्य है।

- Ans 1. 3600 कैलोरी
 2. 3600 KJ/h
 3. 7200 जूल
 4. 7200 KJ/h

Question ID : 264330131763
Option 1 ID : 264330516153
Option 2 ID : 264330516151
Option 3 ID : 264330516154
Option 4 ID : 264330516152
Status : Answered
Chosen Option : 1

Q.39 दिए गए विकल्पों में से उस विकल्प का चयन कीजिए, जो लेड नाइट्रेट की अपघटन अभिक्रिया का एक उत्पाद नहीं है।

- Ans 1. ऑक्सीजन
 2. नाइट्रोजन
 3. नाइट्रोजन डाइऑक्साइड
 4. लेड ऑक्साइड

Question ID : 264330169298
Option 1 ID : 264330663973
Option 2 ID : 264330663974
Option 3 ID : 264330663972
Option 4 ID : 264330663971
Status : Answered
Chosen Option : 3

Q.40 निम्न में से कौन-सा विकल्प लघु बचतों का उदाहरण नहीं है?

- Ans
- 1. राष्ट्रीय बचत प्रमाणपत्र (National Savings Certificates)
 - 2. डाकघर जमा (Post Office Deposits)
 - 3. किसान विकास पत्र (Kisan Vikas Patras)
 - 4. म्यूचुअल फंड (Mutual Funds)

Question ID : 264330145238

Option 1 ID : 264330569207

Option 2 ID : 264330569208

Option 3 ID : 264330569210

Option 4 ID : 264330569209

Status : Answered

Chosen Option : 1

Q.41 भारतीय संविधान के किस अनुच्छेद के तहत संघ की कार्यपालिकीय शक्ति राष्ट्रपति में निहित होगी?

- Ans
- 1. अनुच्छेद 55
 - 2. अनुच्छेद 53
 - 3. अनुच्छेद 58
 - 4. अनुच्छेद 56

Question ID : 264330114494

Option 1 ID : 264330450062

Option 2 ID : 264330450061

Option 3 ID : 264330450064

Option 4 ID : 264330450063

Status : Answered

Chosen Option : 2

Q.42 आइस हॉकी के खेल में, सामान्य खेल के दौरान प्रतिस्पर्धा करने के लिए किसी भी एक समय पर, प्रत्येक टीम में कितने खिलाड़ी बर्फ (आइस) पर होते हैं?

- Ans
- 1. 5
 - 2. 10
 - 3. 12
 - 4. 6

Question ID : 26433089942

Option 1 ID : 264330353248

Option 2 ID : 264330353246

Option 3 ID : 264330353247

Option 4 ID : 264330353245

Status : Not Answered

Chosen Option : --

Q.43 चाद शुक्र (Chad Sukra) त्यौहार _____ की जयंतिया जनजाति द्वारा मनाया जाता है।

- Ans
- 1. झारखण्ड
 - 2. मेघालय
 - 3. पंजाब
 - 4. असम

Question ID : 26433086641

Option 1 ID : 264330340208

Option 2 ID : 264330340206

Option 3 ID : 264330340205

Option 4 ID : 264330340207

Status : Not Answered

Chosen Option : --

Q.44 केंद्र द्वारा राज्यपाल की नियुक्ति भारत के संविधान की किस विशेषता से संबंधित है?

- Ans 1. एकात्मक प्रणाली (Unitary system)
 2. संघीय विशेषता (Federal feature)
 3. निदेशक सिद्धांत (Directive Principles)
 4. संविधान की सर्वोच्चता (Supremacy of the Constitution)

Question ID : 264330145268

Option 1 ID : 264330569328

Option 2 ID : 264330569330

Option 3 ID : 264330569327

Option 4 ID : 264330569329

Status : Answered

Chosen Option : 2

Q.45 _____ जन्म दर, वर्ष के मध्य में आकलित प्रति 1000 जनसंख्या पर वर्ष के दौरान जीवित जन्म लेने वाले बच्चों की संख्या को इंगित करती है।

- Ans 1. धनात्मक
 2. अशोधित
 3. ऋणात्मक
 4. उदासीन

Question ID : 264330163246

Option 1 ID : 264330640296

Option 2 ID : 264330640298

Option 3 ID : 264330640297

Option 4 ID : 264330640295

Status : Answered

Chosen Option : 4

Q.46 आप उस प्रकार की दवाओं को क्या कहते हैं, जो ग्राही (receptor) को स्विच ऑन करके प्राकृतिक संदेशवाहक (natural messenger) की प्रतिकृति करती हैं?

- Ans 1. एगोनिस्ट (Agonist)
 2. प्रति-अवसादक (Antidepressants)
 3. एंटागोनिस्ट (Antagonist)
 4. अवसादक (Depressants)

Question ID : 264330145209

Option 1 ID : 264330569093

Option 2 ID : 264330569094

Option 3 ID : 264330569092

Option 4 ID : 264330569091

Status : Answered

Chosen Option : 2

Q.47 एक आनत तल पर वस्तुओं की गति का अवलोकन करके, _____ ने यह निष्कर्ष निकाला कि जब वस्तुओं पर कोई बल कार्य नहीं करता है, तो वस्तुएं नियत गति से गतिमान रहती हैं।

- Ans
- 1. आर्किमिडीज़
 - 2. माइकल फैराडे
 - 3. जोहान्स केप्लर
 - 4. गैलीलियो

Question ID : 26433055071
Option 1 ID : 264330215269
Option 2 ID : 264330215270
Option 3 ID : 264330215271
Option 4 ID : 264330215268
Status : Answered
Chosen Option : 4

Q.48 निम्नलिखित में से कौन-सा कोशिकांग इलेक्ट्रॉन माइक्रोस्कोपी में गोल या तश्तरी (sausage) के आकार की संरचनाओं के रूप में दिखाई देता है, जिसका व्यास लगभग 0.5-1.0 μm और लंबाई 2-8 μm होती है?

- Ans
- 1. प्लास्टिड
 - 2. लाइसोसोम
 - 3. माइटोकॉन्ड्रिया
 - 4. राइबोसोम

Question ID : 264330145196
Option 1 ID : 264330569040
Option 2 ID : 264330569041
Option 3 ID : 264330569042
Option 4 ID : 264330569039
Status : Answered
Chosen Option : 4

Q.49 'पारी/इनिंग (inning)' शब्द निम्नलिखित में से किस खेल से संबंधित है?

- Ans
- 1. बास्केटबॉल
 - 2. खो-खो
 - 3. वालीबॉल
 - 4. हॉकी

Question ID : 264330118473
Option 1 ID : 264330465293
Option 2 ID : 264330465295
Option 3 ID : 264330465294
Option 4 ID : 264330465296
Status : Answered
Chosen Option : 2

Q.50 जगजीत सिंह गायन की किस विधा से संबंधित हैं?

- Ans
- 1. टप्पा
 - 2. ठुमरी
 - 3. गज़ल
 - 4. ध्रुपद

Question ID : 26433074854

Option 1 ID : 264330293506

Option 2 ID : 264330293504

Option 3 ID : 264330293507

Option 4 ID : 264330293505

Status : Not Answered

Chosen Option : --

Section : Quantitative Aptitude

Q.1 यदि $\sin A = \frac{2}{3}$ है, तो $(7 - \tan A)(3 + \cos A)$ का मान ज्ञात कीजिए।

- Ans
- 1. $\frac{61}{3} - \frac{17}{3\sqrt{5}}$
 - 2. $\frac{61}{3\sqrt{5}} + \frac{17}{3}$
 - 3. $\frac{61}{3} + \frac{17}{3\sqrt{5}}$
 - 4. $\frac{61}{3} + \frac{17}{\sqrt{5}}$

Question ID : 264330158301

Option 1 ID : 264330620563

Option 2 ID : 264330620564

Option 3 ID : 264330620565

Option 4 ID : 264330620566

Status : Answered

Chosen Option : 3

Q.2 एक लड़का 30 km/h की चाल से घर से स्कूल जाता है, और 70 km/h की चाल से वापस लौटता है। पूरी यात्रा के लिए उसकी औसत चाल ज्ञात करें।

- Ans
- 1. 38 km/h
 - 2. 48 km/h
 - 3. 36 km/h
 - 4. 42 km/h

Question ID : 264330104489

Option 1 ID : 264330410258

Option 2 ID : 264330410257

Option 3 ID : 264330410260

Option 4 ID : 264330410259

Status : Answered

Chosen Option : 4

Q.3

$$\frac{1\frac{1}{2} \div 3\frac{1}{4} + \frac{1}{2} \div \frac{13}{14} + \frac{1}{5}}{\frac{1}{5} \times 3\frac{1}{2} - \frac{1}{3} \div 1\frac{3}{4} \times 3\frac{1}{2}}$$

का मान ज्ञात कीजिए।

- Ans
- 1. 33
 - 2. 38
 - 3. 36
 - 4. 40

Question ID : 26433064877
Option 1 ID : 264330254103
Option 2 ID : 264330254102
Option 3 ID : 264330254100
Option 4 ID : 264330254101
Status : Answered
Chosen Option : 3

Q.4 यदि 2 पुरुष या 4 महिलाएं एक दीवार को 34 दिनों में बना सकते हैं, तो 6 पुरुष और 5 महिलाएं उसी दीवार को कितने दिनों में बना सकते हैं?

- Ans
- 1. 12
 - 2. 16
 - 3. 8
 - 4. 24

Question ID : 264330102378
Option 1 ID : 264330401978
Option 2 ID : 264330401979
Option 3 ID : 264330401977
Option 4 ID : 264330401980
Status : Answered
Chosen Option : 3

Q.5

यदि $\sin A = \frac{\sqrt{3}}{2}$, $0 < A < 90^\circ$ है, तो $2(\operatorname{cosec} A + \cot A)$ का मान क्या होगा?

- Ans
- 1. $\frac{2}{\sqrt{3}}$
 - 2. $\sqrt{3}$
 - 3. $\frac{1}{\sqrt{3}}$
 - 4. $2\sqrt{3}$

Question ID : 264330157749
Option 1 ID : 264330618358
Option 2 ID : 264330618355
Option 3 ID : 264330618357
Option 4 ID : 264330618356
Status : Answered
Chosen Option : 4

Q.6 7:30 P.M. पर एक साइकिल के मालिक ने देखा कि एक चोर उसकी साइकिल को उसके घर से चुराकर एक विशेष दिशा में ले जा रहा है, और 10 km प्रति घंटे की लगभग चाल से साइकिल चला रहा है। उसने पुलिस को चोरी की सूचना दी, और पुलिसकर्मी ने चोरी के समय से आधे घंटे बाद, लेकिन 12 km प्रति घंटे की चाल से उसी बिंदु से चोर का पीछा करना शुरू किया। पुलिसकर्मी चोर को कितने बजे पकड़ लेगा?

Ans 1. 10:45 P.M.

2. 10:00 P.M.

3. 9: 30 P.M.

4. 10:30 P.M.

Question ID : 26433090262

Option 1 ID : 264330354528

Option 2 ID : 264330354526

Option 3 ID : 264330354525

Option 4 ID : 264330354527

Status : Answered

Chosen Option : 4

Q.7 $\triangle ABC$ में, कोण ABC और कोण ACB के समद्विभाजक एक दूसरे को बिंदु O पर प्रतिच्छेदित करते हैं। यदि कोण BOC का मान 125° है, तो कोण BAC का मान किसके बराबर है?

Ans 1. 78°

2. 75°

3. 70°

4. 82°

Question ID : 264330165492

Option 1 ID : 264330649049

Option 2 ID : 264330649047

Option 3 ID : 264330649048

Option 4 ID : 264330649050

Status : Answered

Chosen Option : 3

Q.8 वह छोटी से छोटी संख्या ज्ञात कीजिए, जो 20, 28, 34, 60 और 75 से पूर्णतः विभाज्य हो।

Ans 1. 35900

2. 34500

3. 35700

4. 36220

Question ID : 264330102310

Option 1 ID : 264330401707

Option 2 ID : 264330401708

Option 3 ID : 264330401705

Option 4 ID : 264330401706

Status : Answered

Chosen Option : 3

Q.9 एक ठोस अर्धगोले का संपूर्ण पृष्ठीय क्षेत्रफल 4158 cm^2 है। इसका आयतन (cm^3 में) ज्ञात कीजिए।

- Ans
- 1. 1848
 - 2. 19404
 - 3. 9702
 - 4. 462

Question ID : 264330145109
Option 1 ID : 264330568693
Option 2 ID : 264330568694
Option 3 ID : 264330568691
Option 4 ID : 264330568692
Status : Answered
Chosen Option : 2

Q.10 78, 84, 90 और 112 का महत्तम समापवर्तक (HCF) ज्ञात कीजिए।

- Ans
- 1. 1
 - 2. 7
 - 3. 5
 - 4. 2

Question ID : 264330102308
Option 1 ID : 264330401697
Option 2 ID : 264330401700
Option 3 ID : 264330401699
Option 4 ID : 264330401698
Status : Answered
Chosen Option : 4

Q.11 12.25% वार्षिक साधारण ब्याज की दर पर तीन वर्ष में देय ₹9,429 के ऋण का भुगतान करने के लिए वार्षिक किश्त (₹में) कितनी होगी? [नोट: किश्तों का भुगतान पहले वर्ष, दूसरे वर्ष और तीसरे वर्ष के अंत में किया जाएगा।]

- Ans
- 1. 2800
 - 2. 2,840
 - 3. 2700
 - 4. 2760

Question ID : 264330112545
Option 1 ID : 264330442268
Option 2 ID : 264330442265
Option 3 ID : 264330442267
Option 4 ID : 264330442266
Status : Answered
Chosen Option : 2

Q.12 एक आयत की भुजाओं का अनुपात 3 : 8 है, और इसका क्षेत्रफल 1944 cm^2 है। इसका परिमाण कितना होगा?

- Ans
- 1. 208 cm
 - 2. 198 cm
 - 3. 308 cm
 - 4. 189 cm

Question ID : 264330106082

Option 1 ID : 264330416629

Option 2 ID : 264330416631

Option 3 ID : 264330416630

Option 4 ID : 264330416632

Status : Answered

Chosen Option : 2

Q.13 A और B प्रतिदिन 10 घंटे कार्य करते हुए एक कार्य को क्रमशः 24 और 30 दिनों में पूरा करते हैं। कार्य दो पालियों में किया जाना है। सुबह की पाली 6 घंटे की, और शाम की पाली 4 घंटे की है। पहले दिन, A सुबह कार्य करता है, और B शाम को कार्य करता है, और वे प्रतिदिन अपनी पाली परस्पर बदल लेते हैं। कार्य किस दिन पूरा होगा?

- Ans
- 1. 30वें दिन
 - 2. 24वें दिन
 - 3. 27वें दिन
 - 4. 21वें दिन

Question ID : 26433091569

Option 1 ID : 264330359644

Option 2 ID : 264330359642

Option 3 ID : 264330359643

Option 4 ID : 264330359641

Status : Answered

Chosen Option : 3

Q.14 एक वृत्त में, जीवाएं AB और CD आंतरिक रूप से E पर प्रतिच्छेदित करती हैं। यदि $CD = 18 \text{ cm}$, $DE = 5 \text{ cm}$, $AE = 13 \text{ cm}$ है, तो BE की लंबाई ज्ञात कीजिए।

- Ans
- 1. 4 cm
 - 2. 3 cm
 - 3. 5 cm
 - 4. 7 cm

Question ID : 264330168755

Option 1 ID : 264330661832

Option 2 ID : 264330661831

Option 3 ID : 264330661834

Option 4 ID : 264330661833

Status : Answered

Chosen Option : 3

Q.15 दी गई तालिका का अध्ययन कीजिए, और नीचे दिए गए प्रश्न का उत्तर दीजिए।
दी गई तालिका तीन अलग-अलग गांवों की जनसंख्या में, जनसंख्या और साक्षरता/निरक्षरता दर के आंकड़े दर्शाती है।

गांव	पुरुषों और महिलाओं की संख्याओं का क्रमशः अनुपात	कुल जनसंख्या में से साक्षरों (पुरुष और महिला) का प्रतिशत	कुल जनसंख्या में से निरक्षरों (पुरुष और महिलाएँ) की संख्या
P	2 : 5	45	380
Q	3 : 7	65	270
R	1 : 3	80	150

गांव R में निरक्षरों की संख्या, गांव P में निरक्षरों की संख्या से कितने प्रतिशत कम है?

Ans

1. $60\frac{9}{19}\%$
2. $60\frac{10}{19}\%$
3. $60\frac{11}{19}\%$
4. $60\frac{8}{19}\%$

Question ID : 264330165501

Option 1 ID : 264330649085

Option 2 ID : 264330649084

Option 3 ID : 264330649083

Option 4 ID : 264330649086

Status : Answered

Chosen Option : 2

Q.16 0.03 और 0.0003 का मध्यानुपाती (mean proportion) कितना है?

Ans

1. 0.033
2. 0.003
3. 0.0003
4. 0.0013

Question ID : 264330145037

Option 1 ID : 264330568406

Option 2 ID : 264330568404

Option 3 ID : 264330568405

Option 4 ID : 264330568403

Status : Answered

Chosen Option : 2

Q.17 एक लंब वर्गाकार पिरामिड का पार्श्व पृष्ठीय क्षेत्रफल 624 cm^2 है। यदि उस वर्ग के विकर्ण की लंबाई $24\sqrt{2}$ हो, तो पिरामिड का आयतन ज्ञात कीजिए।

- Ans
- 1. 780 cm^3
 - 2. 1150 cm^3
 - 3. 1083 cm^3
 - 4. 960 cm^3

Question ID : 264330123011
Option 1 ID : 264330482109
Option 2 ID : 264330482110
Option 3 ID : 264330482107
Option 4 ID : 264330482108
Status : Answered
Chosen Option : 4

Q.18 मिहिर एक किताब ₹625 में खरीदता है। हालाँकि, कुछ अत्यावश्यकता के कारण, वह इसे ₹550 में बेच देता है। उसकी प्रतिशत हानि ज्ञात कीजिए।

- Ans
- 1. 14%
 - 2. 15%
 - 3. 12%
 - 4. 10%

Question ID : 264330102340
Option 1 ID : 264330401827
Option 2 ID : 264330401828
Option 3 ID : 264330401826
Option 4 ID : 264330401825
Status : Answered
Chosen Option : 3

Q.19 42 cm त्रिज्या वाले एक वृत्त में, एक चाप केंद्र पर 60° का कोण अंतरित करता है। चाप की लंबाई ज्ञात कीजिये।

$$\left(\pi = \frac{22}{7} \text{ लीजिए}\right)$$

- Ans
- 1. 44 cm
 - 2. 42 cm
 - 3. 22 cm
 - 4. 21 cm

Question ID : 264330165441
Option 1 ID : 264330648843
Option 2 ID : 264330648845
Option 3 ID : 264330648844
Option 4 ID : 264330648846
Status : Answered
Chosen Option : 1

Q.20 एक दुकानदार किसी वस्तु के क्रय मूल्य में 50% की वृद्धि करके मूल्य अंकित करता है, और इसके अंकित मूल्य पर 40% की छूट प्रदान करता है। उसकी प्रतिशत हानि ज्ञात करें।

- Ans 1. 20%
 2. 10%
 3. 15%
 4. 5%

Question ID : 264330104507

Option 1 ID : 264330410330

Option 2 ID : 264330410332

Option 3 ID : 264330410329

Option 4 ID : 264330410331

Status : Answered

Chosen Option : 2

Q.21 दी गई तालिका का अध्ययन करें, और नीचे दिए गए प्रश्न का उत्तर दें।
निम्न तालिका 6 अलग-अलग स्कूलों की 6 अलग-अलग कक्षाओं में पढ़ने वाले विद्यार्थियों की संख्या को दर्शाती है।

स्कूल	V	VI	VII	VIII	IX	X
P	152	160	145	156	147	144
Q	148	166	150	155	157	143
R	161	152	140	145	143	165
S	159	142	149	140	142	168
T	147	144	158	163	154	150
U	150	160	162	160	160	140
कुल	917	924	904	919	903	910

सभी स्कूलों में मिलाकर किस कक्षा में विद्यार्थियों की संख्या न्यूनतम है?

- Ans 1. X
 2. VIII
 3. VII
 4. IX

Question ID : 264330157723

Option 1 ID : 264330618254

Option 2 ID : 264330618252

Option 3 ID : 264330618251

Option 4 ID : 264330618253

Status : Answered

Chosen Option : 4

Q.22 यदि ब्याज की गणना अर्ध-वार्षिक चक्रवृद्धि आधार पर की जाती है, तो ₹8,000 की राशि पर 20% वार्षिक की दर से 1 वर्ष का चक्रवृद्धि ब्याज ज्ञात करें।

Ans 1. ₹1,675

2. ₹1,680

3. ₹1,690

4. ₹1,685

Question ID : 264330145058

Option 1 ID : 264330568487

Option 2 ID : 264330568488

Option 3 ID : 264330568490

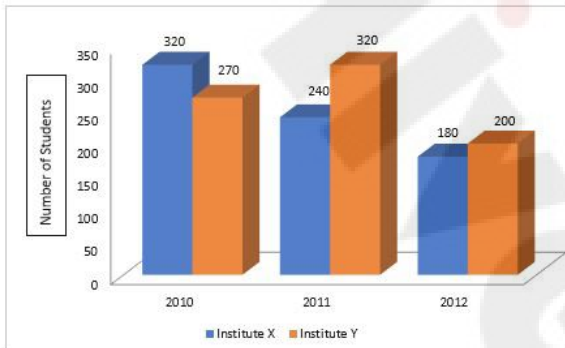
Option 4 ID : 264330568489

Status : Answered

Chosen Option : 2

Q.23 दिए गए आलेख का अध्ययन कीजिए और नीचे दिए गए प्रश्न का उत्तर दीजिए।

आलेख तीन वर्षों के दौरान दो संस्थानों (X और Y) में व्यावसायिक पाठ्यक्रम के लिए नामांकित छात्रों की संख्या से संबंधित डेटा दिखाता है।



Number of students = छात्रों की संख्या, Institute X = संस्थान X, Institute Y = संस्थान Y

2010 और 2011 में संस्थान X में नामांकित छात्रों की औसत संख्या तथा 2011 और 2012 में संस्थान Y में नामांकित छात्रों की औसत संख्या के बीच कितना अंतर है?

Ans 1. 22

2. 20

3. 15

4. 18

Question ID : 264330158274

Option 1 ID : 264330620458

Option 2 ID : 264330620457

Option 3 ID : 264330620455

Option 4 ID : 264330620456

Status : Answered

Chosen Option : 2

Q.24 एक बेलन में 16 cm की ऊंचाई तक पानी भरा है। यदि 9 cm त्रिज्या का एक गोला इसमें डाला जाता है, तो बेलन की त्रिज्या 12 cm होने पर उसमें पानी की ऊंचाई में हुई वृद्धि ज्ञात कीजिए।

- Ans 1. 8.75 cm
 2. 6 cm
 3. 8 cm
 4. 6.75 cm

Question ID : 264330104421
Option 1 ID : 264330409988
Option 2 ID : 264330409985
Option 3 ID : 264330409987
Option 4 ID : 264330409986
Status : Answered
Chosen Option : 4

Q.25 निम्नलिखित तालिका विभिन्न क्षेत्रों से एक वर्ष में हुई किसी कंपनी की आय को दर्शाती है:

क्षेत्र	वित्त	संचार	उत्पादन	बिक्री	परिवहन
राशि (लाख ₹ में)	85	60	67	115	75

अधिकतम कमाई वाले क्षेत्र और न्यूनतम कमाई वाले क्षेत्र से होने वाली आय के बीच का अंतर (लाख ₹ में) कितना है?

- Ans 1. 30
 2. 55
 3. 40
 4. 48

Question ID : 264330165074
Option 1 ID : 264330647425
Option 2 ID : 264330647426
Option 3 ID : 264330647424
Option 4 ID : 264330647423
Status : Answered
Chosen Option : 2

Q.26 तीन संख्याएं 5 : 7 : 9 के अनुपात में हैं, और उनका लघुत्तम समापवर्त्य (LCM) 34,650 है। उनका महत्तम समापवर्तक (HCF) ज्ञात कीजिए।

- Ans 1. 55
 2. 99
 3. 110
 4. 315

Question ID : 26433063670
Option 1 ID : 264330249292
Option 2 ID : 264330249295
Option 3 ID : 264330249294
Option 4 ID : 264330249293
Status : Answered
Chosen Option : 3

Q.27 निकुंज, धारा के विपरीत दिशा में 1 घंटे में 4 किलोमीटर, और धारा की दिशा में 15 मिनट में 2 किलोमीटर की दूरी तय करता है। शांत जल में 7 किलोमीटर की दूरी तय करने में उसे कितना समय लगेगा?

- Ans
- 1. 1 घंटा 5 मिनट
 - 2. 1 घंटा 20 मिनट
 - 3. 1 घंटा 10 मिनट
 - 4. 1 घंटा 15 मिनट

Question ID : 264330103626
Option 1 ID : 264330406809
Option 2 ID : 264330406812
Option 3 ID : 264330406810
Option 4 ID : 264330406811
Status : Answered
Chosen Option : 3

Q.28 एक लंब वृत्तीय शंकु की ऊंचाई और उसके आधार की त्रिज्या का अनुपात 12 : 5 है। यदि इसका आयतन 314 cm^3 है, तो शंकु की तिर्यक ऊंचाई क्या है? ($\pi = 3.14$ का प्रयोग करें)

- Ans
- 1. 14 cm
 - 2. 13 cm
 - 3. 12 cm
 - 4. 11 cm

Question ID : 264330145134
Option 1 ID : 264330568794
Option 2 ID : 264330568793
Option 3 ID : 264330568792
Option 4 ID : 264330568791
Status : Answered
Chosen Option : 2

Q.29 यदि $\cos A = \frac{1}{2}$, $0 \leq A \leq 90^\circ$ है, तो $\sin (180 - A)$ का मान क्या होगा?

- Ans
- 1. 1
 - 2. $\frac{\sqrt{3}}{2}$
 - 3. $\frac{1}{2}$
 - 4. $\frac{1}{\sqrt{3}}$

Question ID : 264330157753
Option 1 ID : 264330618373
Option 2 ID : 264330618372
Option 3 ID : 264330618371
Option 4 ID : 264330618374
Status : Answered
Chosen Option : 2

Q.30 महेश चावल को 24% हानि पर बेचने हेतु सहमत हो गया, क्योंकि चावल खराब हो गया था। हालांकि, उसने ग्राहकों को धोखा दिया, और 50 gm चावल के स्थान पर केवल 19 gm चावल दिए। उसके लाभ या हानि का प्रतिशत कितना है?

- Ans
- ✗ 1. $\frac{100}{3}\%$ लाभ
 - ✗ 2. $\frac{100}{3}\%$ हानि
 - ✓ 3. 100% लाभ
 - ✗ 4. 100% हानि

Question ID : 264330131521

Option 1 ID : 264330515189

Option 2 ID : 264330515190

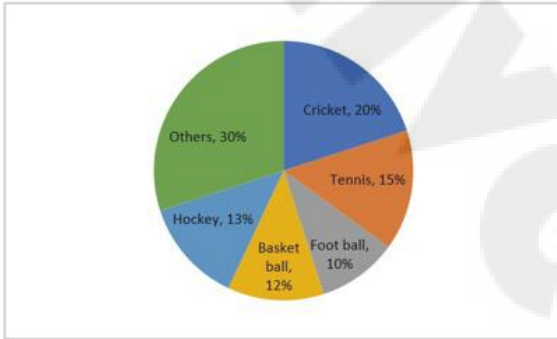
Option 3 ID : 264330515187

Option 4 ID : 264330515188

Status : Answered

Chosen Option : 3

Q.31 नीचे दिए गए पाई चार्ट में एक विशेष वर्ष के दौरान विभिन्न खेलों पर राज्य द्वारा किए गए व्यय को दर्शाया गया है:



Cricket = क्रिकेट Tennis = टेनिस Foot ball = फुटबॉल Basket ball = बास्केट बॉल Hockey = हॉकी Others = अन्य

यदि वर्ष के दौरान खेलों पर व्यय की गई कुल राशि ₹75,00,000 थी, तो क्रिकेट और हॉकी पर कुल मिलाकर कितनी राशि (₹ में) व्यय की गई थी?

- Ans
- ✓ 1. ₹24, 75, 000
 - ✗ 2. ₹26, 80, 000
 - ✗ 3. ₹21, 55, 000
 - ✗ 4. ₹18, 75, 000

Question ID : 264330158399

Option 1 ID : 264330620957

Option 2 ID : 264330620958

Option 3 ID : 264330620956

Option 4 ID : 264330620955

Status : Answered

Chosen Option : 1

Q.32 850 m और 700 m लंबी दो रेलगाड़ियाँ - मुंबई राजधानी और किसान एक्सप्रेस एक दूसरे से 1050 m दूर हैं, और एक दूसरे की ओर समानांतर पटरियों पर चल रही हैं। मुंबई राजधानी 62 km/h की रफ्तार से चल रही है, और किसान एक्सप्रेस 55 km/h की रफ्तार से चल रही है। कितने समय (सेकंड में) में रेलगाड़ियाँ एक दूसरे को पार करेंगी?

Ans 1. 70

2. 75

3. 80

4. 45

Question ID : 26433058800

Option 1 ID : 264330230139

Option 2 ID : 264330230136

Option 3 ID : 264330230138

Option 4 ID : 264330230137

Status : Answered

Chosen Option : 3

Q.33 वह बड़ी से बड़ी संख्या कौन-सी है, जिससे 1036, 1813 और 3885 में से प्रत्येक को विभाजित करने पर कुछ भी शेष न रहे?

Ans 1. 111

2. 37

3. 259

4. 333

Question ID : 264330103225

Option 1 ID : 264330405207

Option 2 ID : 264330405205

Option 3 ID : 264330405206

Option 4 ID : 264330405208

Status : Answered

Chosen Option : 4

Q.34 73 और 657 का लघुत्तम समापवर्त्य (LCM) ज्ञात कीजिए।

Ans 1. 657

2. 365

3. 73

4. 146

Question ID : 26433065037

Option 1 ID : 264330254742

Option 2 ID : 264330254740

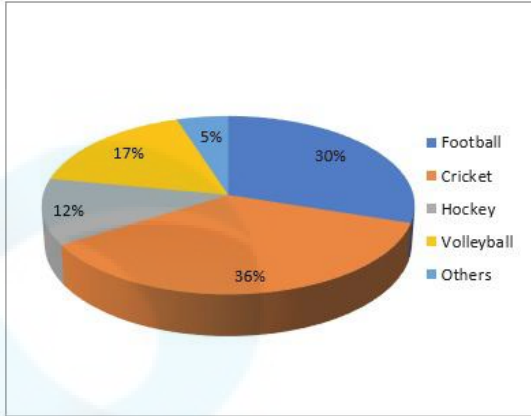
Option 3 ID : 264330254743

Option 4 ID : 264330254741

Status : Answered

Chosen Option : 1

Q.35 दिया गया पाई-चार्ट युवा लोगों के एक समूह के पसंदीदा खेलों पर सर्वेक्षण रिपोर्ट को दर्शाता है।



यदि कुल 4980 लोगों का सर्वेक्षण किया गया, तो फुटबाल को दर्शाने वाले क्षेत्र द्वारा निर्मित केंद्रीय कोण क्या है?

- Ans
- ✓ 1. 108°
 - ✗ 2. 100°
 - ✗ 3. 105°
 - ✗ 4. 90°

Question ID : 264330145024

Option 1 ID : 264330568351

Option 2 ID : 264330568353

Option 3 ID : 264330568354

Option 4 ID : 264330568352

Status : Answered

Chosen Option : 1

Q.36 $(x^6 + 1)$ और $(x^4 - 1)$ का महत्तम समापवर्तक (HCF) क्या है?

- Ans
- ✗ 1. 1
 - ✗ 2. $(1 - x^2)$
 - ✓ 3. $(1 + x^2)$
 - ✗ 4. $(1 + x)$

Question ID : 26433064881

Option 1 ID : 264330254118

Option 2 ID : 264330254116

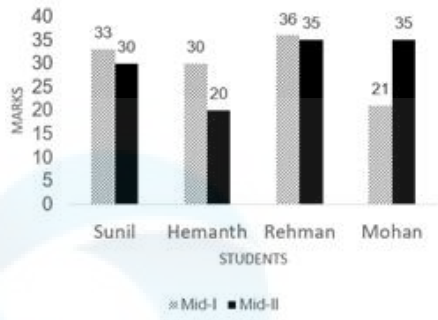
Option 3 ID : 264330254119

Option 4 ID : 264330254117

Status : Answered

Chosen Option : 3

Q.37 दिए गए बार ग्राफ का ध्यानपूर्वक अध्ययन कीजिए और निम्नलिखित प्रश्न का उत्तर दीजिए।
मिड-I और मिड-II में चार छात्रों द्वारा प्राप्त अंक



Marks = अंक
Students = छात्र
Mid = मिड

मिड-I में हेमंत द्वारा प्राप्त अंक, मिड-I में सभी छात्रों द्वारा प्राप्त कुल अंकों के कितने प्रतिशत के बराबर है?

- Ans
- 1. 15%
 - 2. 25%
 - 3. 30%
 - 4. 20%

Question ID : 264330165426

Option 1 ID : 264330648784

Option 2 ID : 264330648786

Option 3 ID : 264330648783

Option 4 ID : 264330648785

Status : Answered

Chosen Option : 2

Q.38 निम्नलिखित व्यंजक का मान क्या होगा?

$$(1 - 2x)^2 - (1 + 2x)^2$$

- Ans
- 1. $-(2 + 8x^2)$
 - 2. $-8x$
 - 3. $8x$
 - 4. $2 + 8x^2$

Question ID : 264330157760

Option 1 ID : 264330618400

Option 2 ID : 264330618402

Option 3 ID : 264330618401

Option 4 ID : 264330618399

Status : Answered

Chosen Option : 2

Q.39 यदि दो वृत्तों की त्रिज्याएं 6 cm और 9 cm है, और अनुप्रस्थ उभयनिष्ठ स्पर्शरेखा की लंबाई 20 cm है, तो दोनों केंद्रों के बीच की दूरी ज्ञात कीजिए।

Ans ✓ 1. 25 cm

✗ 2. 22 cm

✗ 3. 24 cm

✗ 4. 27 cm

Question ID : 264330165540

Option 1 ID : 264330649241

Option 2 ID : 264330649239

Option 3 ID : 264330649240

Option 4 ID : 264330649242

Status : Answered

Chosen Option : 1

Q.40 दो उम्मीदवारों के बीच हुए एक चुनाव में, मतदाता सूची के 20% मतदाताओं ने मतदान नहीं किया, और 80 मतदाताओं ने अपने मतपत्र खाली छोड़ दिए। विजेता उम्मीदवार ने मतदाता सूची में दर्ज कुल मतदाताओं के 45% मत प्राप्त किए, और उसे अपने विरोधी उम्मीदवार से 280 मत अधिक मिले। सूची में मतदाताओं की संख्या कितनी थी?

Ans ✗ 1. 2500

✗ 2. 1500

✗ 3. 2800

✓ 4. 2000

Question ID : 264330158381

Option 1 ID : 264330620885

Option 2 ID : 264330620883

Option 3 ID : 264330620886

Option 4 ID : 264330620884

Status : Answered

Chosen Option : 4

Q.41 A किसी कार्य का $\frac{1}{5}$ भाग 20 दिन में कर सकता है, B उसी कार्य का 30% भाग 36 दिन में कर सकता है, जबकि C उसी कार्य का 80% भाग 160 दिन में कर सकता है। B और C ने मिलकर कार्य करना शुरू किया और x दिनों तक कार्य किया। x दिनों के बाद B ने कार्य छोड़ दिया, और A ने C के साथ मिलकर कार्य करना शुरू किया और दोनों ने शेष कार्य (x - 41) दिनों में कार्य पूरा किया। यदि (B + C) द्वारा एकसाथ मिलकर किए गए कार्य तथा (A + C) द्वारा एकसाथ मिलकर किए गए कार्य का अनुपात 19 : 6 है, तो अकेले C द्वारा 2x दिनों में उसी कार्य का कितना भाग पूरा किया जा सकता है?

- Ans
- 1. $\frac{19}{25}$
 - 2. $\frac{57}{100}$
 - 3. $\frac{6}{25}$
 - 4. $\frac{13}{25}$

Question ID : 264330114533

Option 1 ID : 264330450219

Option 2 ID : 264330450220

Option 3 ID : 264330450218

Option 4 ID : 264330450217

Status : Answered

Chosen Option : 2

Q.42 रूपू की आय, मधु की आय से 20% अधिक है। मधु की आय रूपू की आय से कितने प्रतिशत कम है?

- Ans
- 1. $16\frac{2}{3}\%$
 - 2. 20%
 - 3. $18\frac{2}{3}\%$
 - 4. $17\frac{2}{3}\%$

Question ID : 264330145077

Option 1 ID : 264330568566

Option 2 ID : 264330568563

Option 3 ID : 264330568564

Option 4 ID : 264330568565

Status : Answered

Chosen Option : 1

Q.43 खराब प्रदर्शन के कारण अर्पित का वेतन 1 वर्ष के बाद 5% कम हो गया, और दूसरे वर्ष के बाद 8% और कम हो गया। प्रारंभ में, उसका वेतन ₹80,000 था। उसका वर्तमान वेतन (₹में) कितना है?

Ans ✓ 1. 69920

✗ 2. 70920

✗ 3. 69620

✗ 4. 65720

Question ID : 264330103310

Option 1 ID : 264330405547

Option 2 ID : 264330405545

Option 3 ID : 264330405546

Option 4 ID : 264330405548

Status : Answered

Chosen Option : 1

Q.44 यदि $a + b + c = 5$ और $ab + bc + ca = 7$ है, तो $a^3 + b^3 + c^3 - 3abc$ का मान क्या होगा?

Ans ✓ 1. 20

✗ 2. 30

✗ 3. 15

✗ 4. 25

Question ID : 264330157773

Option 1 ID : 264330618452

Option 2 ID : 264330618454

Option 3 ID : 264330618451

Option 4 ID : 264330618453

Status : Answered

Chosen Option : 1

Q.45 0.48, 0.84 और 32 का चतुर्थानुपाती (fourth proportional) ज्ञात करें।

Ans ✗ 1. 34

✗ 2. 43

✗ 3. 65

✓ 4. 56

Question ID : 264330103973

Option 1 ID : 264330408195

Option 2 ID : 264330408196

Option 3 ID : 264330408194

Option 4 ID : 264330408193

Status : Answered

Chosen Option : 4

Q.46 नीचे दी गई तालिका 4 विक्रेताओं द्वारा बेचे गए लैपटॉप की संख्या तथा बेचे गए ब्रांड 1 लैपटॉप और बेचे गए ब्रांड 2 लैपटॉप का अनुपात दर्शाती है।

विक्रेता	बेचे गए कुल लैपटॉप	बेचे गए ब्रांड 1 लैपटॉप : बेचे गए ब्रांड 2 लैपटॉप
A	4000	3 : 1
B	6000	2 : 1
C	8000	5 : 3
D	5000	1 : 4

A विक्रेता द्वारा बेचे गए ब्रांड 1 लैपटॉप की संख्या B विक्रेता द्वारा बेचे गए ब्रांड 2 लैपटॉप की संख्या से कितनी अधिक है?

- Ans
- 1. 800
 - 2. 600
 - 3. 1000
 - 4. 1200

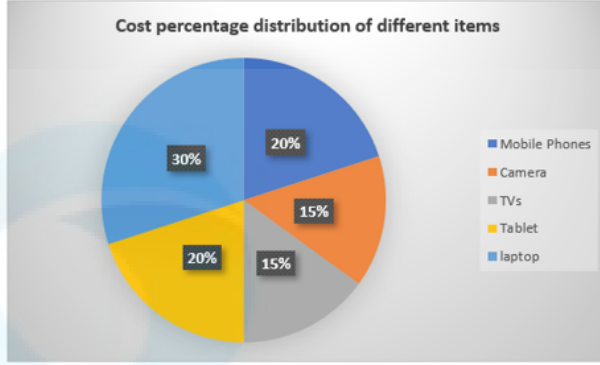
Question ID : 264330167245
Option 1 ID : 264330655976
Option 2 ID : 264330655975
Option 3 ID : 264330655978
Option 4 ID : 264330655977
Status : Answered
Chosen Option : 3

Q.47 8 छात्रों का औसत वजन 48 kg है। यदि 44 kg औसत वजन वाले चार छात्रों, और 58 kg औसत वजन वाले चार छात्रों को भी शामिल कर लिया जाए, तो 16 छात्रों का औसत वजन ज्ञात करें।

- Ans
- 1. 48.5 kg
 - 2. 49 kg
 - 3. 48 kg
 - 4. 49.5 kg

Question ID : 264330165520
Option 1 ID : 264330649161
Option 2 ID : 264330649160
Option 3 ID : 264330649159
Option 4 ID : 264330649162
Status : Answered
Chosen Option : 4

Q.48 दिए गए ग्राफ का अध्ययन कीजिए और उसके बाद पूछे गए प्रश्न का उत्तर दीजिए।
निम्नांकित ग्राफ विभिन्न वस्तुओं के लागत प्रतिशत के वितरण को दर्शाता है।



Cost percentage distribution of different items =

विभिन्न वस्तुओं का लागत प्रतिशत बंटन Mobile Phones = मोबाइल फोन,

Camera = कैमरा, TVs = टी.वी., Tablet = टेबलेट, laptop = लैपटॉप

यदि किसी व्यक्ति ने सभी वस्तुएँ ₹3,00,000 में खरीदीं, तो एक टी.वी. की लागत, लैपटॉप के लागत की तुलना में _____ कम है।

- Ans
- ✓ 1. ₹45,000
 - ✗ 2. ₹40,000
 - ✗ 3. ₹55,000
 - ✗ 4. ₹50,000

Question ID : 264330157065

Option 1 ID : 264330615632

Option 2 ID : 264330615633

Option 3 ID : 264330615634

Option 4 ID : 264330615631

Status : Answered

Chosen Option : 1

Q.49 यदि $\sin \beta = \frac{1}{3}$ है, तो $(\sec \beta - \tan \beta)^2$ किसके बराबर है?

- Ans
- ✗ 1. $\frac{2}{3}$
 - ✓ 2. $\frac{1}{2}$
 - ✗ 3. $\frac{1}{3}$
 - ✗ 4. $\frac{3}{4}$

Question ID : 264330145128

Option 1 ID : 264330568768

Option 2 ID : 264330568770

Option 3 ID : 264330568767

Option 4 ID : 264330568769

Status : Answered

Chosen Option : 2

Q.50 ₹Z के अंकित मूल्य वाली एक वस्तु को 12% की छूट देने के बाद ₹6,622 में बेचा गया। Z का मान कितना था?

- Ans
- 1. ₹7,500
 - 2. ₹7,575
 - 3. ₹7,525
 - 4. ₹7,425

Question ID : 264330131159
Option 1 ID : 264330513748
Option 2 ID : 264330513749
Option 3 ID : 264330513747
Option 4 ID : 264330513750
Status : Answered
Chosen Option : 3

Section : English Comprehension

Q.1 Select the option that can be used as a one-word substitute for the given phrase.

One who goes from place to place, begging

- Ans
- 1. Meticulous
 - 2. Mendicant
 - 3. Malleable
 - 4. Misogamist

Question ID : 26433073742
Option 1 ID : 264330289109
Option 2 ID : 264330289108
Option 3 ID : 264330289110
Option 4 ID : 264330289111
Status : Answered
Chosen Option : 2

Q.2 Select the most appropriate ANTONYM of the given word.
Authentic

- Ans
- 1. Different
 - 2. Genuine
 - 3. Fake
 - 4. Basic

Question ID : 264330164169
Option 1 ID : 264330643929
Option 2 ID : 264330643927
Option 3 ID : 264330643930
Option 4 ID : 264330643928
Status : Answered
Chosen Option : 3

Q.3 Select the most appropriate meaning of the given idiom.
Apple of discord

- Ans** 1. Bone of contention
 2. Distant love
 3. Practical
 4. Centre of attraction

Question ID : 264330141095
Option 1 ID : 264330552727
Option 2 ID : 264330552729
Option 3 ID : 264330552730
Option 4 ID : 264330552728
Status : Answered
Chosen Option : 1

Q.4 Select the option that best expresses the meaning of the underlined idiom.
Christy should discuss this with her face to face.

- Ans** 1. Come to fully accept or understand something
 2. Remained normal and realistic
 3. Almost always
 4. With another person in their presence rather than, say, by phone or letter

Question ID : 264330136000
Option 1 ID : 264330532839
Option 2 ID : 264330532842
Option 3 ID : 264330532840
Option 4 ID : 264330532841
Status : Answered
Chosen Option : 1

Q.5 Select the option that can be used as a one-word substitute for the given group of words.
To tell the nature of a disease by its symptoms.

- Ans** 1. Design
 2. Diagnosis
 3. Dosage
 4. Decisive

Question ID : 26433088804
Option 1 ID : 264330348771
Option 2 ID : 264330348770
Option 3 ID : 264330348772
Option 4 ID : 264330348769
Status : Answered
Chosen Option : 2

Q.6 Select the most appropriate option that can substitute the underlined segment in the given sentence.

Rajib's habit of sneering at the beliefs of others often hurts others' sentiments.

- Ans
- 1. manipulation
 - 2. cynicism
 - 3. certainty
 - 4. cleverness

Question ID : 26433070593
Option 1 ID : 264330276837
Option 2 ID : 264330276839
Option 3 ID : 264330276836
Option 4 ID : 264330276838
Status : Answered
Chosen Option : 2

Q.7 Select the most appropriate option that can substitute the underlined segment in the given sentence.

You can become confident to speak English within one year.

- Ans
- 1. reassured of speaking
 - 2. confident in speaking
 - 3. convinced to speaking
 - 4. assured of speaking

Question ID : 26433098973
Option 1 ID : 264330388543
Option 2 ID : 264330388544
Option 3 ID : 264330388542
Option 4 ID : 264330388541
Status : Answered
Chosen Option : 2

Q.8 Select the most appropriate meaning of the given idiom.

Fit as a fiddle

- Ans
- 1. In good health
 - 2. To betray a close person
 - 3. To ignore what someone is saying
 - 4. At the last moment

Question ID : 26433091831
Option 1 ID : 264330360661
Option 2 ID : 264330360664
Option 3 ID : 264330360663
Option 4 ID : 264330360662
Status : Answered
Chosen Option : 1

Q.9 Select the most appropriate option that can substitute the underlined segment in the given sentence. If there is no need to substitute it, select 'No substitution required'.
Politics and money go together in this country.

- Ans
- 1. go arm in arm
 - 2. go hand in hand
 - 3. No substitution required
 - 4. go holding hands

Question ID : 264330117195
Option 1 ID : 264330460842
Option 2 ID : 264330460843
Option 3 ID : 264330460844
Option 4 ID : 264330460841
Status : Answered
Chosen Option : 2

Q.10 Fill in the blank by selecting the meaningful and correctly spelt word from the given options.

They knew that the stock of the food was getting reduced and the fund _____ for that was not enough for the next week.

- Ans
- 1. allotted
 - 2. alerted
 - 3. abandoned
 - 4. asserted

Question ID : 26433059538
Option 1 ID : 264330233003
Option 2 ID : 264330233001
Option 3 ID : 264330233002
Option 4 ID : 264330233000
Status : Answered
Chosen Option : 1

Q.11 Select the INCORRECTLY spelt word in the given sentence.

It is beyond my cognitive capacity to solve the mathematical problems.

- Ans
- 1. mathematical
 - 2. cognitive
 - 3. capacity
 - 4. problems

Question ID : 264330163432
Option 1 ID : 264330641004
Option 2 ID : 264330641003
Option 3 ID : 264330641006
Option 4 ID : 264330641005
Status : Answered
Chosen Option : 3

Q.12 The following sentence has been split into four segments. Identify the segment that contains a grammatical error.

The students / are expected / to come / in the right time.

- Ans
- 1. to come
 - 2. are expected
 - 3. in the right time
 - 4. The students

Question ID : 264330145283
Option 1 ID : 264330569389
Option 2 ID : 264330569388
Option 3 ID : 264330569390
Option 4 ID : 264330569387
Status : Answered
Chosen Option : 3

Q.13 Select the most appropriate option that can substitute the underlined segment in the given sentence.
We all should respect each other.

- Ans
- 1. all of us
 - 2. every other
 - 3. all other
 - 4. one another

Question ID : 26433084644
Option 1 ID : 264330332348
Option 2 ID : 264330332346
Option 3 ID : 264330332347
Option 4 ID : 264330332345
Status : Answered
Chosen Option : 4

Q.14 The following sentence has been divided into parts. One of them may contain an error. Select the part that contains the error from the given options. If you don't find any error, mark 'No error' as your answer.
We will / have been know the result / of the CAT exam by next week.

- Ans
- 1. No error
 - 2. have been know the result
 - 3. We will
 - 4. of the CAT exam by next week

Question ID : 26433059005
Option 1 ID : 264330230911
Option 2 ID : 264330230909
Option 3 ID : 264330230908
Option 4 ID : 264330230910
Status : Answered
Chosen Option : 2

Q.15 Select the most appropriate meaning of the given idiom.

Come what may

- Ans
- 1. To get frightened
 - 2. Meeting someone
 - 3. No matter what happens
 - 4. To be among the latest

Question ID : 26433091883
Option 1 ID : 264330360872
Option 2 ID : 264330360869
Option 3 ID : 264330360870
Option 4 ID : 264330360871
Status : Answered
Chosen Option : 3

Q.16 Select the most appropriate synonym of the highlighted word in the given sentence.

The plane crash was a harrowing experience for everyone involved.

- Ans
- 1. Exterminate
 - 2. Awesome
 - 3. Sad
 - 4. Excruciating

Question ID : 264330108891
Option 1 ID : 264330427844
Option 2 ID : 264330427842
Option 3 ID : 264330427843
Option 4 ID : 264330427841
Status : Answered
Chosen Option : 3

Q.17 Select the most appropriate one-word substitution of the given group of words.

A form of government in which the supreme power is vested in the people and exercised by their elected agents under a free electoral system.

- Ans
- 1. Anarchy
 - 2. Autocracy
 - 3. Democracy
 - 4. Monarchy

Question ID : 26433090856
Option 1 ID : 264330356835
Option 2 ID : 264330356833
Option 3 ID : 264330356834
Option 4 ID : 264330356836
Status : Answered
Chosen Option : 3

Q.18 Select the most appropriate meaning of the underlined word.
She has no desire for money.

- Ans
- 1. Disgust
 - 2. Despise
 - 3. Care
 - 4. Wish

Question ID : 264330121036
Option 1 ID : 264330474352
Option 2 ID : 264330474351
Option 3 ID : 264330474354
Option 4 ID : 264330474353
Status : Answered
Chosen Option : 4

Q.19 Select the most appropriate ANTONYM of the underlined word in the given sentence.

After losing his job and his home, he found himself destitute and living on the streets.

- Ans
- 1. ridiculous
 - 2. disturbed
 - 3. glorious
 - 4. affluent

Question ID : 264330164568
Option 1 ID : 264330645459
Option 2 ID : 264330645462
Option 3 ID : 264330645460
Option 4 ID : 264330645461
Status : Answered
Chosen Option : 4

Q.20 The following sentence has been divided into parts. One of them may contain an error.
Select the part that contains the error from the given options. If you don't find any error, mark 'No error' as your answer.

My elder brother / yesterday had took / my Facebook password.

- Ans
- 1. yesterday had took
 - 2. my Facebook password
 - 3. My elder brother
 - 4. No error

Question ID : 26433073526
Option 1 ID : 264330288253
Option 2 ID : 264330288254
Option 3 ID : 264330288252
Option 4 ID : 264330288255
Status : Answered
Chosen Option : 1

Q.21 Identify the option that rectifies the spelling of the incorrectly spelt word in the given sentence.

Students should have a good vocabulary to write an essay efectively.

- Ans
- 1. Wriite
 - 2. Gud
 - 3. Effectively
 - 4. Voicabulary

Question ID : 26433089015
Option 1 ID : 264330349599
Option 2 ID : 264330349600
Option 3 ID : 264330349597
Option 4 ID : 264330349598
Status : Answered
Chosen Option : 3

Q.22 Select the INCORRECTLY spelt word from the underlined words in the following sentence.

It is important to see school holistically, it is not a set of atomic items of rooms, library, assembly halls, canteen and playgrounds; it is all of these but in symbiotic relationship with each other, the contors of which are often far too obvious and often simply mysterious.

- Ans
- 1. symbiotic
 - 2. mysterious
 - 3. contors
 - 4. holistically

Question ID : 264330141158
Option 1 ID : 264330552976
Option 2 ID : 264330552978
Option 3 ID : 264330552977
Option 4 ID : 264330552975
Status : Answered
Chosen Option : 4

Q.23 Select the most appropriate synonym of the word 'factual' in the given sentence and choose the correct option.

The scientist's hypothesis was based on empirical evidence and rigorous experimentation.

- Ans
- 1. Empirical
 - 2. Hypothesis
 - 3. Evidence
 - 4. Rigorous

Question ID : 264330163535
Option 1 ID : 264330641396
Option 2 ID : 264330641395
Option 3 ID : 264330641398
Option 4 ID : 264330641397
Status : Answered
Chosen Option : 3

Q.24 Select the most appropriate ANTONYM of the given word.
Inquisitive

- Ans
- 1. Curious
 - 2. Studious
 - 3. Indifferent
 - 4. Innocent

Question ID : 264330165247
Option 1 ID : 264330648087
Option 2 ID : 264330648089
Option 3 ID : 264330648090
Option 4 ID : 264330648088
Status : Answered
Chosen Option : 3

Q.25 Select the most appropriate meaning of the underlined word.
She has become a familiar figure in the world of politics.

- Ans
- 1. Fancy
 - 2. Elevated
 - 3. Known
 - 4. Legend

Question ID : 264330121037
Option 1 ID : 264330474355
Option 2 ID : 264330474358
Option 3 ID : 264330474356
Option 4 ID : 264330474357
Status : Answered
Chosen Option : 3

Q.26 Select the most appropriate meaning of the given idiom.
Break a leg

- Ans
- 1. To love someone
 - 2. To avoid someone
 - 3. To wish someone good luck
 - 4. To hurt someone

Question ID : 264330117234
Option 1 ID : 264330460996
Option 2 ID : 264330460994
Option 3 ID : 264330460995
Option 4 ID : 264330460993
Status : Answered
Chosen Option : 3

Q.27 Select the most appropriate ANTONYM of the underlined word.
He is so stingy that I have never seen him spending money on basic necessities.

- Ans
- 1. Obnoxious
 - 2. Wicked
 - 3. Extravagant
 - 4. Indecent

Question ID : 264330121873
Option 1 ID : 264330477651
Option 2 ID : 264330477652
Option 3 ID : 264330477654
Option 4 ID : 264330477653
Status : Answered
Chosen Option : 3

Q.28 Select the most appropriate meaning of the underlined idiom.
Sanchit stands by his friends through thick and thin .

- Ans
- 1. Under all circumstances
 - 2. In favourable situations
 - 3. In winter and summer
 - 4. In crowded areas

Question ID : 264330122977
Option 1 ID : 264330481971
Option 2 ID : 264330481972
Option 3 ID : 264330481974
Option 4 ID : 264330481973
Status : Answered
Chosen Option : 1

Q.29 Select the most appropriate synonym of the given word.

Reminiscence

- Ans
- 1. Benevolence
 - 2. Harsh
 - 3. Oblivion
 - 4. Remembrance

Question ID : 264330163372
Option 1 ID : 264330640775
Option 2 ID : 264330640776
Option 3 ID : 264330640777
Option 4 ID : 264330640778
Status : Answered
Chosen Option : 4

Q.30 Select the most appropriate synonym of the given word.
Rehabilitate

- Ans 1. Absolve
 2. Decline
 3. Develop
 4. Reinstall

Question ID : 264330117194
Option 1 ID : 264330460838
Option 2 ID : 264330460839
Option 3 ID : 264330460840
Option 4 ID : 264330460837
Status : Answered
Chosen Option : 4

Q.31 Select the most appropriate option that can substitute the underlined segment in the given sentence.

The decision to engage in an armed conflict is tacit.

- Ans 1. implied without being stated
 2. regretted by everyone
 3. ineffective completely
 4. incomprehensible for some

Question ID : 26433099887
Option 1 ID : 264330392139
Option 2 ID : 264330392137
Option 3 ID : 264330392138
Option 4 ID : 264330392140
Status : Answered
Chosen Option : 1

Q.32 Select the option that can be used as a one-word substitute for the given group of words.

A book published after author's death.

- Ans 1. Predecessor publication
 2. Posthuman publication
 3. Posthumous publication
 4. Supernatural publication

Question ID : 26433088809
Option 1 ID : 264330348792
Option 2 ID : 264330348789
Option 3 ID : 264330348790
Option 4 ID : 264330348791
Status : Answered
Chosen Option : 3

Q.33 Select the most appropriate meaning of the given idiom.
To hit the nail on the head

- Ans 1. To express an idea with great precision
 2. To be indecisive
 3. To miss an opportunity
 4. To hit something accurately

Question ID : 264330140553
Option 1 ID : 264330550567
Option 2 ID : 264330550570
Option 3 ID : 264330550569
Option 4 ID : 264330550568
Status : Answered
Chosen Option : 4

Q.34 Select the option that can be used as a one-word substitute for the given group of words.

Centre of public attention

- Ans 1. Limelight
 2. Obscurity
 3. Ambiguity
 4. Fuzziness

Question ID : 26433088968
Option 1 ID : 264330349410
Option 2 ID : 264330349409
Option 3 ID : 264330349412
Option 4 ID : 264330349411
Status : Answered
Chosen Option : 1

Q.35 Select the most appropriate meaning of the given idiom.
Fit as a fiddle

- Ans 1. To be in good health
 2. To be extremely excited and energetic
 3. A good and useful invention
 4. Something is perfect

Question ID : 264330164175
Option 1 ID : 264330643951
Option 2 ID : 264330643953
Option 3 ID : 264330643952
Option 4 ID : 264330643954
Status : Answered
Chosen Option : 1

Q.36 Select the most appropriate option that can substitute the underlined segment in the given sentence. If there is no need to substitute it, select 'No substitution required'
The unexpected turn beside the project put the company in a big financial crisis.

- Ans
- 1. between the project
 - 2. No substitution required
 - 3. until the project
 - 4. in the project

Question ID : 264330117212
Option 1 ID : 264330460910
Option 2 ID : 264330460912
Option 3 ID : 264330460911
Option 4 ID : 264330460909
Status : Answered
Chosen Option : 4

Q.37 Select the most appropriate option that can substitute the underlined word which has been incorrectly spelt.
Mrs. Lal taught me English gramar.

- Ans
- 1. gramerr
 - 2. gramer
 - 3. gramarr
 - 4. grammar

Question ID : 264330123044
Option 1 ID : 264330482240
Option 2 ID : 264330482242
Option 3 ID : 264330482239
Option 4 ID : 264330482241
Status : Answered
Chosen Option : 4

Q.38 Select the most appropriate option that can substitute the underlined segment in the given sentence.

The book narrated the athlete's prowess in a lucid manner.

- Ans
- 1. refined arguments
 - 2. exceptional mastery
 - 3. difficult situation
 - 4. affluent days

Question ID : 26433099883
Option 1 ID : 264330392123
Option 2 ID : 264330392121
Option 3 ID : 264330392122
Option 4 ID : 264330392124
Status : Answered
Chosen Option : 3

Q.39 The following sentence has been split into four segments. Identify the segment that contains an error.

Will Ramya / had completed / that work / by 2025?

- Ans 1. by 2025
 2. had completed
 3. Will Ramya
 4. that work

Question ID : 26433088292
Option 1 ID : 264330346764
Option 2 ID : 264330346762
Option 3 ID : 264330346761
Option 4 ID : 264330346763
Status : Answered
Chosen Option : 2

Q.40 Select the most appropriate meaning of the underlined phrase.
She can't make up her mind where to go for her summer vacation.

- Ans 1. Engage her mind in creative activities
 2. Decide on a suitable parlour
 3. Decide how to do her makeup
 4. Decide between alternatives or come to a decision

Question ID : 264330139841
Option 1 ID : 264330547762
Option 2 ID : 264330547761
Option 3 ID : 264330547759
Option 4 ID : 264330547760
Status : Answered
Chosen Option : 4

Comprehension:

In the following passage some words have been deleted. Read the passage carefully and select the most appropriate option to fill in each blank.

Swans are large waterbirds that (1) _____ to the family Anatidae, which also includes ducks and geese. They (2) _____ for their beauty and grace and are often used as symbols of love, fidelity, and elegance. They are also famous for their (3) _____ features, such as their long necks, large wingspans, and striking white feathers. (4) _____, not all swan species are white; the Black Swan, (5) _____, has black feathers with a red bill. Swans are found on every continent and are known for their strong pair bonds. They mate for life and can live up to 20 years.

SubQuestion No : 41

Q.41 Select the most appropriate option to fill in blank number 1.

- Ans 1. belonged
 2. belong
 3. belonging
 4. belongs

Question ID : 264330163346
Option 1 ID : 264330640678
Option 2 ID : 264330640676
Option 3 ID : 264330640677
Option 4 ID : 264330640675
Status : Answered
Chosen Option : 2

Comprehension:

In the following passage some words have been deleted. Read the passage carefully and select the most appropriate option to fill in each blank.

Swans are large waterbirds that (1) _____ to the family Anatidae, which also includes ducks and geese. They (2) _____ for their beauty and grace and are often used as symbols of love, fidelity, and elegance. They are also famous for their (3) _____ features, such as their long necks, large wingspans, and striking white feathers. (4) _____, not all swan species are white; the Black Swan, (5) _____, has black feathers with a red bill. Swans are found on every continent and are known for their strong pair bonds. They mate for life and can live up to 20 years.

SubQuestion No : 42

Q.42 Select the most appropriate option to fill in blank number 2.

- Ans
- 1. have knowing
 - 2. are known
 - 3. had know
 - 4. were known

Question ID : 264330163347

Option 1 ID : 264330640681

Option 2 ID : 264330640679

Option 3 ID : 264330640682

Option 4 ID : 264330640680

Status : Answered

Chosen Option : 2

Comprehension:

In the following passage some words have been deleted. Read the passage carefully and select the most appropriate option to fill in each blank.

Swans are large waterbirds that (1) _____ to the family Anatidae, which also includes ducks and geese. They (2) _____ for their beauty and grace and are often used as symbols of love, fidelity, and elegance. They are also famous for their (3) _____ features, such as their long necks, large wingspans, and striking white feathers. (4) _____, not all swan species are white; the Black Swan, (5) _____, has black feathers with a red bill. Swans are found on every continent and are known for their strong pair bonds. They mate for life and can live up to 20 years.

SubQuestion No : 43

Q.43 Select the most appropriate option to fill in blank number 3.

- Ans
- 1. distinctive
 - 2. popular
 - 3. finite
 - 4. similar

Question ID : 264330163348

Option 1 ID : 264330640686

Option 2 ID : 264330640684

Option 3 ID : 264330640685

Option 4 ID : 264330640683

Status : Answered

Chosen Option : 1

Comprehension:

In the following passage some words have been deleted. Read the passage carefully and select the most appropriate option to fill in each blank.

Swans are large waterbirds that (1) _____ to the family Anatidae, which also includes ducks and geese. They (2) _____ for their beauty and grace and are often used as symbols of love, fidelity, and elegance. They are also famous for their (3) _____ features, such as their long necks, large wingspans, and striking white feathers. (4) _____, not all swan species are white; the Black Swan, (5) _____, has black feathers with a red bill. Swans are found on every continent and are known for their strong pair bonds. They mate for life and can live up to 20 years.

SubQuestion No : 44

Q.44 Select the most appropriate option to fill in blank number 4.

- Ans
- 1. Consequently
 - 2. Formerly
 - 3. However
 - 4. Because

Question ID : 264330163349

Option 1 ID : 264330640689

Option 2 ID : 264330640687

Option 3 ID : 264330640688

Option 4 ID : 264330640690

Status : Answered

Chosen Option : 3

Comprehension:

In the following passage some words have been deleted. Read the passage carefully and select the most appropriate option to fill in each blank.

Swans are large waterbirds that (1) _____ to the family Anatidae, which also includes ducks and geese. They (2) _____ for their beauty and grace and are often used as symbols of love, fidelity, and elegance. They are also famous for their (3) _____ features, such as their long necks, large wingspans, and striking white feathers. (4) _____, not all swan species are white; the Black Swan, (5) _____, has black feathers with a red bill. Swans are found on every continent and are known for their strong pair bonds. They mate for life and can live up to 20 years.

SubQuestion No : 45

Q.45 Select the most appropriate option to fill in blank number 5.

- Ans
- 1. for example
 - 2. of course
 - 3. in addition
 - 4. after all

Question ID : 264330163350

Option 1 ID : 264330640693

Option 2 ID : 264330640694

Option 3 ID : 264330640692

Option 4 ID : 264330640691

Status : Answered

Chosen Option : 1

Comprehension:

Read the given passage carefully and answer the questions that follow.

As the world's population approaches 8 billion and resource use intensifies, pollution is ever more extensive, pervasive, and persistent. It affects our health through the food we eat, the water we drink and the air we breathe. By 2025, the world's cities will produce 2.2 billion tonnes of waste every year, more than three times the amount produced in 2009. That said, pollution is not a new phenomenon and is largely controllable and often avoidable, as shown in some countries and cities that have succeeded in decoupling economic growth from pollution and waste accumulation.

With the end goal to eradicate all forms of pollution by 2030, the UN Environment Programme was tasked by the UN Environment Assembly to coordinate the implementation of a global plan reiterating that pollution is not only an environmental priority, it's a priority for the achievement of the Sustainable Development Goals.

SubQuestion No : 46

Q.46 What is the ANTONYM for the word 'pervasive' from the passage?

- Ans 1. Limited
 2. Offensive
 3. Clear
 4. Emotional

Question ID : 264330164715

Option 1 ID : 264330646012

Option 2 ID : 264330646011

Option 3 ID : 264330646014

Option 4 ID : 264330646013

Status : Answered

Chosen Option : 2

Comprehension:

Read the given passage carefully and answer the questions that follow.

As the world's population approaches 8 billion and resource use intensifies, pollution is ever more extensive, pervasive, and persistent. It affects our health through the food we eat, the water we drink and the air we breathe. By 2025, the world's cities will produce 2.2 billion tonnes of waste every year, more than three times the amount produced in 2009. That said, pollution is not a new phenomenon and is largely controllable and often avoidable, as shown in some countries and cities that have succeeded in decoupling economic growth from pollution and waste accumulation.

With the end goal to eradicate all forms of pollution by 2030, the UN Environment Programme was tasked by the UN Environment Assembly to coordinate the implementation of a global plan reiterating that pollution is not only an environmental priority, it's a priority for the achievement of the Sustainable Development Goals.

SubQuestion No : 47

Q.47 What is the ANTONYM for the word 'priority' from the passage?

- Ans 1. Part
 2. Last
 3. Factor
 4. Task

Question ID : 264330164717

Option 1 ID : 264330646022

Option 2 ID : 264330646019

Option 3 ID : 264330646021

Option 4 ID : 264330646020

Status : Answered

Chosen Option : 2

Comprehension:

Read the given passage carefully and answer the questions that follow.

As the world's population approaches 8 billion and resource use intensifies, pollution is ever more extensive, pervasive, and persistent. It affects our health through the food we eat, the water we drink and the air we breathe. By 2025, the world's cities will produce 2.2 billion tonnes of waste every year, more than three times the amount produced in 2009. That said, pollution is not a new phenomenon and is largely controllable and often avoidable, as shown in some countries and cities that have succeeded in decoupling economic growth from pollution and waste accumulation.

With the end goal to eradicate all forms of pollution by 2030, the UN Environment Programme was tasked by the UN Environment Assembly to coordinate the implementation of a global plan reiterating that pollution is not only an environmental priority, it's a priority for the achievement of the Sustainable Development Goals.

SubQuestion No : 48

Q.48 Which of the following most accurately states the central idea of the passage?

- Ans 1. United Nations
 2. Pollution free planet
 3. Population explosion
 4. Economic growth

Question ID : 264330164713

Option 1 ID : 264330646003

Option 2 ID : 264330646006

Option 3 ID : 264330646005

Option 4 ID : 264330646004

Status : Answered

Chosen Option : 3

Comprehension:

Read the given passage carefully and answer the questions that follow.

As the world's population approaches 8 billion and resource use intensifies, pollution is ever more extensive, pervasive, and persistent. It affects our health through the food we eat, the water we drink and the air we breathe. By 2025, the world's cities will produce 2.2 billion tonnes of waste every year, more than three times the amount produced in 2009. That said, pollution is not a new phenomenon and is largely controllable and often avoidable, as shown in some countries and cities that have succeeded in decoupling economic growth from pollution and waste accumulation.

With the end goal to eradicate all forms of pollution by 2030, the UN Environment Programme was tasked by the UN Environment Assembly to coordinate the implementation of a global plan reiterating that pollution is not only an environmental priority, it's a priority for the achievement of the Sustainable Development Goals.

SubQuestion No : 49

Q.49 Which of the following represents the structure of the passage?

- Ans 1. Cause-effect
 2. Critique
 3. Chronology
 4. Definition

Question ID : 264330164716

Option 1 ID : 264330646015

Option 2 ID : 264330646018

Option 3 ID : 264330646017

Option 4 ID : 264330646016

Status : Answered

Chosen Option : 1

Comprehension:

Read the given passage carefully and answer the questions that follow.

As the world's population approaches 8 billion and resource use intensifies, pollution is ever more extensive, pervasive, and persistent. It affects our health through the food we eat, the water we drink and the air we breathe. By 2025, the world's cities will produce 2.2 billion tonnes of waste every year, more than three times the amount produced in 2009. That said, pollution is not a new phenomenon and is largely controllable and often avoidable, as shown in some countries and cities that have succeeded in decoupling economic growth from pollution and waste accumulation.

With the end goal to eradicate all forms of pollution by 2030, the UN Environment Programme was tasked by the UN Environment Assembly to coordinate the implementation of a global plan reiterating that pollution is not only an environmental priority, it's a priority for the achievement of the Sustainable Development Goals.

SubQuestion No : 50

Q.50 Which is the best description of the tone of the passage?

- Ans
- 1. Technical
 - 2. Dogmatic
 - 3. Sarcastic
 - 4. Humanistic

Question ID : 264330164714

Option 1 ID : 264330646009

Option 2 ID : 264330646010

Option 3 ID : 264330646008

Option 4 ID : 264330646007

Status : Answered

Chosen Option : 4