

Constable GD in Central Armed Police Forces CAPFs SSF Rifleman GD in Assam
Rifles Examination 2024

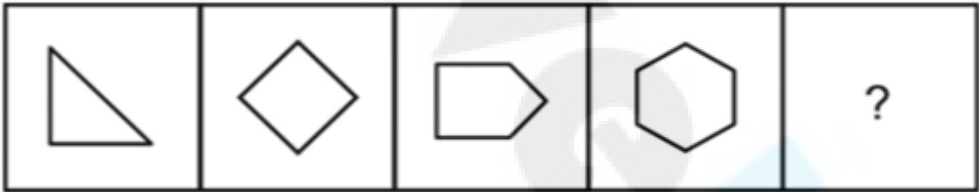
Exam Date	20/02/2024
Exam Time	2:30 PM - 3:30 PM
Subject	Constable GD Examination 2024

Section : Part-A-General Intelligence and Reasoning

Q.1 Select the option that is related to the fifth word in the same way as the fourth word is related to the third word and the second word is related to the first word.
CABBAGE : VEGETABLE :: CUSTARD : DESSERT :: PEACH : ?

- Ans
- ✗ 1. DRINK
 - ✗ 2. DESSERT
 - ✓ 3. FRUIT
 - ✗ 4. VEGETABLE

Q.2 Select the figure that will replace the question mark (?) in the following figure series.



- Ans
- ✓ 1. A regular heptagon.
 - ✗ 2. A regular octagon.
 - ✗ 3. A pentagon with a horizontal base.
 - ✗ 4. A house-shaped pentagon.

Q.3 In the following question, select the missing number from the given series.

55, 165, 495, 1485, ?, 13365

- Ans**
- ☒ 1. 7055
 - ☒ 2. 6000
 - ☒ 3. 5055
 - ☒ 4. 4455

Q.4 From the given option figures, select the one in which the question figure is hidden/embedded. (rotation is NOT allowed)



Ans

- ☒ 1.
- ☒ 2.
- ☒ 3.
- ☒ 4.

Q.5 In a certain code language, if AMRITSAR is coded as MAIRSTRA, DURGAPUR is coded as UDGRPARU, then what will SHILLONG be coded as?

- Ans**
- ☒ 1. GNLIOLSH
 - ☒ 2. NGLOILSH
 - ☒ 3. HSLIOLGN
 - ☒ 4. HSLOILGN

Q.6 In the following question, select the related letters from the given alternatives.

PTX : RVZ :: CGK : ?

- Ans**
- ☒ 1. EIM
 - ☒ 2. ABC
 - ☒ 3. VVW
 - ☒ 4. MNL

Q.7 Five friends London, Madrid, Paris, Rome, and Vienna are arranged in a circle facing the center. Madrid is to the immediate left of Paris. Rome is exactly between London and Vienna. Vienna is to the immediate right of Paris. Which friend is to the immediate left of Madrid?

- Ans**
- ✓ 1. London
 - ✗ 2. Paris
 - ✗ 3. Rome
 - ✗ 4. Vienna

Q.8 Five friends Pooja, Bhawna, Charu, Geeta and Hema are sitting around a circular table facing towards the centre. Charu is not the immediate neighbour of Bhawna. Bhawna is second to the left of Hema. Geeta is the immediate neighbour of Bhawna and Hema. Who is sitting to the immediate right of Hema?

- Ans**
- ✗ 1. Geeta
 - ✓ 2. Charu
 - ✗ 3. Pooja
 - ✗ 4. Bhawna

Q.9 Which of the following groups of letters when sequentially placed from left to right will complete the given series?

opq_stopqrsto_qrstopqrs_opqr_t

- Ans**
- ✗ 1. qpqr
 - ✓ 2. rpts
 - ✗ 3. rtp
 - ✗ 4. opqr

Q.10 Which two numbers should be interchanged to make the given equation correct?

$$8 + 7 \times 5 \div 14 - 3 = 6$$

- Ans**
- ✗ 1. 3 and 5
 - ✗ 2. 14 and 6
 - ✓ 3. 8 and 5
 - ✗ 4. 8 and 7

Q.11 After arranging the given words according to dictionary order, which word will come at 'Fourth' position?

- 1. Wheel
- 2. Wheat
- 3. Whale
- 4. Whet
- 5. When

- Ans**
- ✗ 1. Whet
 - ✗ 2. Wheel
 - ✓ 3. When
 - ✗ 4. Wheat

Q.12 Which of the following letter-number cluster will replace the question mark (?) in the given series?
UDF6, VFI9, ?, XJO15, YLR18, ZNU21

- Ans
- ✓ 1. WHL12
 - ✗ 2. XHL12
 - ✗ 3. WIK11
 - ✗ 4. VGK11

Q.13 'P × Q' means 'P is the father of Q'
'P + Q' means 'P is the brother of Q'
'P ÷ Q' means 'P is the son of Q'
'P - Q' means 'P is the husband of Q'
How is O related to L in the expression 'O + N ÷ M - L'?

- Ans
- ✗ 1. Father
 - ✗ 2. Husband
 - ✗ 3. Brother
 - ✓ 4. Son

Q.14 In the following question, select the figure which can be placed at the sign of question mark (?) from the given alternatives.

6			12	18			24	?
	78	72			60	42		

Ans

✓ 1.

30	
	18

✗ 2.

30	
	24

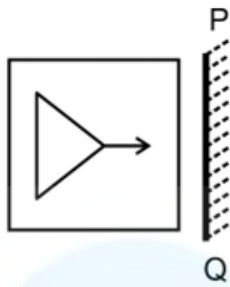
✗ 3.

	30
18	

✗ 4.

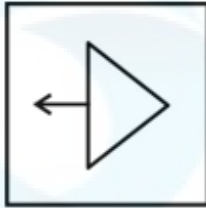
24	
	30

Q.15 Select the correct mirror image of the given figure when the mirror PQ is placed to the right side of the figure.

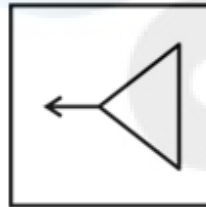


Ans

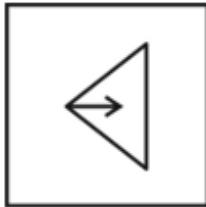
✗ 1.



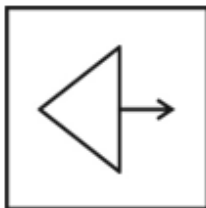
✓ 2.



✗ 3.



✗ 4.



Q.16 In the following question, select the missing number from the given series.

14, 6, 5, 6.5, 12, ?

Ans

✗ 1. 17

✗ 2. 25

✗ 3. 20

✓ 4. 29

Q.17 After interchanging the given two signs what will be the values of equation (I) and (II) respectively?

\times and \div

I. $18 \div 3 - 4 \times 2 + 7$

II. $18 \times 3 \div 6 - 8 + 4$

Ans

✗ 1. 40 and 80

✗ 2. 16 and 30

✓ 3. 59 and 32

✗ 4. 9 and 7

Q.18 In a certain code language, 'ALLIES' is coded as 'REHLKA'. What is the code for 'BALLET' in that code language?

- Ans**
- ☐ 1. SEKLZC
 - ☒ 2. SEKLZB
 - ☐ 3. SDKLZB
 - ☐ 4. SEKZLB

Q.19 Three Statements are given followed by two conclusions numbered I and II. Assuming the statements to be true, even if they seem to be at variance with commonly known facts, decide which of the conclusions logically follow(s) from the statements.

Statement I: All pens are stationery items.

Statement II: Some stationery items are rubbers.

Statement III: All markers are pens.

Conclusion I: Some stationery items are not rubbers.

Conclusion II: Some markers are not stationery items.

- Ans**
- ☐ 1. Only conclusion II follows
 - ☐ 2. Both conclusions I and II follow
 - ☐ 3. Only conclusion I follows
 - ☒ 4. Neither conclusion I nor II follows

Q.20 Which answer figure will complete the pattern in the question figure? (rotation is not allowed)



Ans

✗ 1.



✓ 2.



✗ 3.



✗ 4.



Section : Part-B-General Knowledge and General awareness

Q.1 _____ is a lively dance form of the Bundelkhand region. Its performance begins with the beating of mridang and gradually gains momentum dotted with prose and poetic dialogues.

- Ans
- ✗ 1. Matki
 - ✗ 2. Gangaur
 - ✗ 3. Rai
 - ✓ 4. Swang

Q.2 Which of the following statement is correct regarding Gautama Buddha?

- I. Siddhartha, also known as Gautama, the founder of Buddhism, was born about 2500 years ago.
- II. The Gautama Buddha belonged to a small gana known as the Sakya gana.

- Ans
- ✗ 1. Only II
 - ✗ 2. Only I
 - ✗ 3. Neither I nor II
 - ✓ 4. Both I and II

Q.3 Indian origin _____, was United Kingdom's Home Secretary until November 2023.

- Ans
- ☐ 1. Kamala Harris
 - ☐ 2. Akshata Murty
 - ☐ 3. Rishi Sunak
 - ☒ 4. Suella Braverman

Q.4 Which Union Ministry announced the launch of the 'Amazon Future Engineer Programme'?

- Ans
- ☐ 1. Ministry of Electronics and Information Technology
 - ☒ 2. Ministry of Tribal Affairs
 - ☐ 3. Ministry of Science and Technology
 - ☐ 4. Ministry of Education

Q.5 In which year was the Gandhi-Irwin Pact signed?

- Ans
- ☐ 1. 1911
 - ☐ 2. 1921
 - ☐ 3. 1941
 - ☒ 4. 1931

Q.6 Leander Paes is associated with _____.

- Ans
- ☐ 1. Badminton
 - ☒ 2. Lawn Tennis
 - ☐ 3. Cricket
 - ☐ 4. Golf

Q.7 Ustad Binda Khan is associated with which of the following instruments?

- Ans
- ☐ 1. Shehnai
 - ☐ 2. Tabla
 - ☒ 3. Sarangi
 - ☐ 4. Flute

Q.8 In August 2023, Which of the following former Chief Justice of India was appointed a member of Singapore's International Mediator Panel?

- Ans
- ☐ 1. UU Lalit
 - ☐ 2. Ranjan Gogoi
 - ☒ 3. NV Ramana
 - ☐ 4. Sharad Arvind Bobde

Q.9 With how many countries does India share a sea border?

- Ans
- ☐ 1. 6
 - ☐ 2. 4
 - ☐ 3. 8
 - ☒ 4. 2

Q.10 Where was the International Shooting Sport Federation World Cup 2022 held?

- Ans
- ☒ 1. Cairo, Egypt
 - ☐ 2. Munich, Germany
 - ☐ 3. New Delhi, India
 - ☐ 4. Sydney, Australia

Q.11 The Green Revolution was instrumental in reducing India's dependence on imports of:

- Ans
- ☐ 1. Petroleum
 - ☒ 2. Food grains
 - ☐ 3. Textiles
 - ☐ 4. Machinery

Q.12 "Mysuru Dasara" is a grand celebration in the Indian state of _____, featuring a royal procession, cultural events, and a display of decorated elephants.

- Ans
- ☐ 1. Kerala
 - ☒ 2. Karnataka
 - ☐ 3. Orissa
 - ☐ 4. Tamil Nadu

Q.13 In which unit, noise pollution is measured?

- Ans
- ☐ 1. Centimeter
 - ☐ 2. Ohm
 - ☒ 3. Decibel
 - ☐ 4. Hertz

Q.14 At the end of which of the following Five-year plans of India, five IITs were set up in the country?

- Ans
- ☐ 1. Third
 - ☐ 2. Fourth
 - ☒ 3. First
 - ☐ 4. Second

Q.15 Which of the following statements is correct regarding Depreciation?

- I. Depreciation is termed as loss of value of fixed assets due to wear and tear during its useful life.
- II. Depreciation does not take into account unexpected or sudden destruction.

- Ans
- ☐ 1. Only I
 - ☒ 2. Both I and II
 - ☐ 3. Neither I nor II
 - ☐ 4. Only II

Q.16 How many cities of the host state hosted the National Games 2023?

- Ans**
- ☐ 1. 8
 - ☐ 2. 2
 - ☒ 3. 5
 - ☐ 4. 10

Q.17 Constitutions limit the power of government in many ways. The most common way of limiting the power of government is to specify certain _____ that all of us possess as citizens and which no government can ever be allowed to violate.

- Ans**
- ☒ 1. Fundamental Rights
 - ☐ 2. Directive Principles of State Policy
 - ☐ 3. Economic Duties
 - ☐ 4. Fundamental Duties

Q.18 In Olympics table tennis event, if the points are tied at 10-10, a player then has to strive for a _____ point lead to win the game.

- Ans**
- ☒ 1. 2
 - ☐ 2. 3
 - ☐ 3. 1
 - ☐ 4. 4

Q.19 Which of the following states/Union Territories have the highest male literacy rate according to Census of India 2011?

- Ans**
- ☐ 1. Mizoram
 - ☒ 2. Kerala
 - ☐ 3. Tripura
 - ☐ 4. Lakshadweep

Q.20 In August 2023, the Central government has granted a _____ extension to Cabinet Secretary Rajiv Gauba, making him the longest-serving cabinet secretary in India's history.

- Ans**
- ☐ 1. Four-years
 - ☐ 2. Two-years
 - ☒ 3. One-year
 - ☐ 4. Three-years

Section : Part-C-Elementary Mathematics

Q.1 Six friends have an average height of 144 cm. A boy with a height of 150 cm leaves the group. Find the new average height.

- Ans**
- ☒ 1. 142.8 cm
 - ☐ 2. 155.5 cm
 - ☐ 3. 160.5 cm
 - ☐ 4. 108.6 cm

Q.2 The difference between cost price and selling price is Rs. 264. If profit percentage is 33 percent, then what is the selling price?

- Ans**
- ☒ 1. Rs. 1064
 - ☐ 2. Rs. 1526
 - ☐ 3. Rs. 1084
 - ☐ 4. Rs. 1024

Q.3 A and B can complete a work alone in 20 days and 60 days respectively. They began the work together but A left the work after some days and B completed the remaining work in 12 days. After how many days from the beginning A left the work?

- Ans**
- ☐ 1. 15 days
 - ☐ 2. 10 days
 - ☐ 3. 9 days
 - ☒ 4. 12 days

Q.4 Average of 4 numbers is 52. Average of first two numbers is thrice the average of other two numbers. What is the sum of first two numbers?

- Ans**
- ☒ 1. 156
 - ☐ 2. 174
 - ☐ 3. 148
 - ☐ 4. 147

Q.5 Marked price of a chair is Rs. 5000. After giving two successive discounts of 10 percent and x percent, the chair is sold for Rs. 3150. What is the value of x?

- Ans**
- ☐ 1. 40 percent
 - ☐ 2. 20 percent
 - ☐ 3. 25 percent
 - ☒ 4. 30 percent

Q.6 What is the value of $880 + 41 \div 14 \times 84 - 26$?

- Ans**
- ☐ 1. 1150
 - ☐ 2. 1200
 - ☐ 3. 1000
 - ☒ 4. 1100

Q.7 The radius of a sphere is 4.2 cm. What is the volume of the sphere?

- Ans**
- ☐ 1. 348.21 cm^3
 - ☐ 2. 329.32 cm^3
 - ☐ 3. 284.62 cm^3
 - ☒ 4. 310.46 cm^3

Q.8 Marked price of an article is Rs. 28500 and its selling price is Rs. 15675. What is the discount percentage?

- Ans**
- ☐ 1. 48 percent
 - ☐ 2. 52 percent
 - ☒ 3. 45 percent
 - ☐ 4. 42 percent

Q.9 The price of a movie ticket was increased by 18%. The increase in ticket price reduced the number of audience by 25%. What is the effect on revenue?

- Ans**
- ☐ 1. increase by 10%
 - ☐ 2. decrease by 14%
 - ☒ 3. decrease by 11.5%
 - ☐ 4. decrease by 9.5%

Q.10 The ratio of copper and zinc in brass is 25 : 12. How much amount of copper will be there in 370 kg of brass?

- Ans**
- ☐ 1. 150 kg
 - ☒ 2. 250 kg
 - ☐ 3. 50 kg
 - ☐ 4. 350 kg

Q.11 Two numbers are in the ratio of 11: 13. If their HCF is 7, find the numbers.

- Ans**
- ☐ 1. 63 and 70
 - ☒ 2. 77 and 91
 - ☐ 3. 70 and 80
 - ☐ 4. 21 and 28

Q.12 If $P : Q : R = 9 : 10 : 11$, then what is the value of $(P + Q) : (Q + R) : (R + P)$?

- Ans**
- ☒ 1. 19 : 21 : 20
 - ☐ 2. 19 : 21 : 19
 - ☐ 3. 19 : 21 : 22
 - ☐ 4. 19 : 21 : 23

Q.13 If a certain sum of money becomes thrice of itself in 8 years 6 months at simple interest, then what will be the annual rate of interest?

- Ans**
- ☐ 1. 24.78 percent
 - ☐ 2. 21.28 percent
 - ☐ 3. 24.48 percent
 - ☒ 4. 23.52 percent

Q.14 If 25 is subtracted from a number, then number becomes 50 percent of itself. What is the number?

- Ans
- ✓ 1. 50
 - ✗ 2. 55
 - ✗ 3. 40
 - ✗ 4. 45

Q.15 If interest is being compound annually, then what sum will amount to Rs. 9464 in 2 years at the rate of 30 percent per annum at compound interest?

- Ans
- ✓ 1. Rs. 5600
 - ✗ 2. Rs. 5400
 - ✗ 3. Rs. 6800
 - ✗ 4. Rs. 5750

Q.16 A person covers first 11 km in 60 minutes and next 22 km in 30 minutes. What is his average speed for the whole journey?

- Ans
- ✗ 1. 18 km/hr
 - ✓ 2. 22 km/hr
 - ✗ 3. 27 km/hr
 - ✗ 4. 25 km/hr

Q.17 What is the value of $[19 \times \{24 \div 4 \text{ of } (24 \times 4 \div 16)\}]$?

- Ans
- ✗ 1. 1
 - ✓ 2. 19
 - ✗ 3. 38
 - ✗ 4. 76

Q.18 What is the value of $\frac{16 \times (9 + 4) - 13 \times 14}{50 - (12 + 12)}$?

- Ans
- ✓ 1. 1
 - ✗ 2. 26
 - ✗ 3. 13
 - ✗ 4. 2

Q.19 If 18 men can finish a work in 13 days. Then in how many days will 54 men finish the same work?

- Ans
- ✓ 1. 13/3 days
 - ✗ 2. 9 days
 - ✗ 3. 8/5 days
 - ✗ 4. 18/4 days

Q.20 If selling price of a table is 25 percent of its cost price, then what is the loss percentage?

- Ans
- ☐ 1. 55 percent
 - ☐ 2. 45 percent
 - ☐ 3. 35 percent
 - ☒ 4. 75 percent

Section : Part-D-English

Q.1 Fill in the blank with the most appropriate option.

His first movement after the shock _____ to work in his loom; and he went on with this unremittingly.

- Ans
- ☐ 1. was been
 - ☐ 2. has being
 - ☒ 3. had been
 - ☐ 4. have been

Q.2 Improve the underlined part of the sentence. Choose 'No improvement' as an answer if the sentence is grammatically correct.

I can't wait to gone camping next weekend.

- Ans
- ☐ 1. going camping
 - ☐ 2. No improvement
 - ☒ 3. go camping
 - ☐ 4. go camps

Q.3 Select the most appropriate option for the given blank.

Please _____ my apology for this mistake.

- Ans
- ☐ 1. develop
 - ☐ 2. acquire
 - ☒ 3. accept
 - ☐ 4. obtain

Q.4 Select the word segment that substitutes (replaces) the bracketed word segment correctly and completes the sentence meaningfully. Select the option 'no correction required' if the sentence is correct as given.

Sapna was abstracted, biting her lip restlessly and reading over the guide-books to the battle-field that Suraj (had brought along).

- Ans
- ☒ 1. No correction required
 - ☐ 2. have brought along
 - ☐ 3. have brought
 - ☐ 4. has brought along

Q.5 Find the part of the given sentence that has an error in it. If there is no error, choose 'No error'.
We had been collected and studied over 14,000 dung beetles from 98 different species.

- Ans**
- ☐ 1. beetles from 98 different species.
 - ☐ 2. No error
 - ☐ 3. studied over 14,000 dung
 - ☒ 4. We had been collected and

Q.6 Fill in the blank with the correct homophone:

In the dense forest, a mother _____ and her cubs roamed freely, enjoying the tranquillity of their natural habitat.

- Ans**
- ☐ 1. bare
 - ☐ 2. beer
 - ☒ 3. bear
 - ☐ 4. Ber

Q.7 Select the sentence with no spelling errors.

- Ans**
- ☐ 1. The man walks with a grate deal of poise, in fact, very much like an elephant, but he also has the agelity of the panther.
 - ☒ 2. The man walks with a great deal of poise, in fact, very much like an elephant, but he also has the agility of the panther.
 - ☐ 3. The man walks with a great deal of poise, in fact, very much like an elephant, but he also has the agility of the panthur.
 - ☐ 4. The man walks with a great deel of poise, in fact, very much like an ephalnt, but he also has the agility of the panther.

Q.8 Find the part of the given sentence that has an error in it. If there is no error, choose 'No error'.

This is the most simple and basic component of life.

- Ans**
- ☒ 1. No error
 - ☐ 2. simple and basic
 - ☐ 3. component of life.
 - ☐ 4. This is the most

Q.9 Select the incorrectly spelt word from the given sentence.

The univarsity claims students can face a law-suit or fine for violating the UNO smoking prohibition.

- Ans**
- ☒ 1. univarsity
 - ☐ 2. violating
 - ☐ 3. prohibition
 - ☐ 4. claims

Q.10 Choose the most appropriate synonym of the underlined word.

This query is no doubt a very correct and moral one, but it seems somewhat **cryptic**.

- Ans
- ☐ 1. Clear
 - ☒ 2. Mysterious
 - ☐ 3. Obvious
 - ☐ 4. Common

Q.11 Choose the most appropriate antonym of the underlined word.

While some people may face legitimate obstacles, others are just **obstinate**.

- Ans
- ☐ 1. firm
 - ☐ 2. dogged
 - ☐ 3. stubborn
 - ☒ 4. obedient

Q.12 The sentence has been divided into three parts, identify the error segment in the sentence given below. Choose no error if there is no error in the sentence.

After a long day at work, he decided to switch of his/ phone, disconnecting from the digital world/ to immerse himself in a good book.

- Ans
- ☐ 1. to immerse himself in a good book.
 - ☐ 2. no error
 - ☐ 3. phone, disconnecting from the digital world
 - ☒ 4. After a long day at work, he decided to switch of his

Q.13 Select the most appropriate word to fill in the blank.

He was dismissed for being combative and antagonistic _____ his supervisor.

- Ans
- ☐ 1. about
 - ☐ 2. above
 - ☐ 3. through
 - ☒ 4. towards

Q.14 Choose the idiom/phrase that can substitute the highlighted group of words meaningfully.

She never has to worry about money as she is **born into a very rich family**.

- Ans
- ☐ 1. Spill the beans
 - ☐ 2. Out of the blue
 - ☒ 3. Born with a silver spoon in mouth
 - ☐ 4. Eats like a bird

Q.15 In the following question, out of the given four alternatives, select the alternative which best expresses the meaning of the Idiom/Phrase.

Under the sun

- Ans**
- ☐ 1. In public
 - ☒ 2. On earth
 - ☐ 3. Under suspicion
 - ☐ 4. At high risk

Comprehension:

Read the passage carefully and select the correct answer for the given blanks out of the four alternatives.

The number of measles cases (1)_____ the world increased by 18 per cent during the same period, the report said, bringing the total number of infections (2)_____ nine million.

Measles, a (3)_____ contagious viral disease, spreads through respiratory droplets (4)_____ by the breath, sneeze or cough of an infected person. It may result in serious illness or even death. Some 37 countries saw significant or disruptive measles (5)_____ in 2022, compared to 22 nations in 2021.

SubQuestion No : 16

Q.16 Select the most appropriate option for blank(1)

- Ans**
- ☐ 1. for
 - ☒ 2. across
 - ☐ 3. through
 - ☐ 4. along

Comprehension:

Read the passage carefully and select the correct answer for the given blanks out of the four alternatives.

The number of measles cases (1)_____ the world increased by 18 per cent during the same period, the report said, bringing the total number of infections (2)_____ nine million.

Measles, a (3)_____ contagious viral disease, spreads through respiratory droplets (4)_____ by the breath, sneeze or cough of an infected person. It may result in serious illness or even death. Some 37 countries saw significant or disruptive measles (5)_____ in 2022, compared to 22 nations in 2021.

SubQuestion No : 17

Q.17 Select the most appropriate option for blank(2)

- Ans**
- ☐ 1. upon
 - ☐ 2. too
 - ☒ 3. to
 - ☐ 4. in

Comprehension:

Read the passage carefully and select the correct answer for the given blanks out of the four alternatives.

The number of measles cases (1)_____ the world increased by 18 per cent during the same period, the report said, bringing the total number of infections (2)_____ nine million.

Measles, a (3)_____ contagious viral disease, spreads through respiratory droplets (4)_____ by the breath, sneeze or cough of an infected person. It may result in serious illness or even death. Some 37 countries saw significant or disruptive measles (5)_____ in 2022, compared to 22 nations in 2021.

SubQuestion No : 18

Q.18 Select the most appropriate option for blank(3)

- Ans
- ☐ 1. mutant
 - ☐ 2. partially
 - ☐ 3. great
 - ☒ 4. highly

Comprehension:

Read the passage carefully and select the correct answer for the given blanks out of the four alternatives.

The number of measles cases (1)_____ the world increased by 18 per cent during the same period, the report said, bringing the total number of infections (2)_____ nine million.

Measles, a (3)_____ contagious viral disease, spreads through respiratory droplets (4)_____ by the breath, sneeze or cough of an infected person. It may result in serious illness or even death. Some 37 countries saw significant or disruptive measles (5)_____ in 2022, compared to 22 nations in 2021.

SubQuestion No : 19

Q.19 Select the most appropriate option for blank(4)

- Ans
- ☐ 1. transported
 - ☐ 2. transited
 - ☒ 3. transmitted
 - ☐ 4. transgressed

Comprehension:

Read the passage carefully and select the correct answer for the given blanks out of the four alternatives.

The number of measles cases (1)_____ the world increased by 18 per cent during the same period, the report said, bringing the total number of infections (2)_____ nine million.

Measles, a (3)_____ contagious viral disease, spreads through respiratory droplets (4)_____ by the breath, sneeze or cough of an infected person. It may result in serious illness or even death. Some 37 countries saw significant or disruptive measles (5)_____ in 2022, compared to 22 nations in 2021.

SubQuestion No : 20

Q.20 Select the most appropriate option for blank(5)

- Ans
- ☒ 1. pointer
 - ☒ 2. outbreak
 - ☒ 3. ailment
 - ☒ 4. break

Section : Part-D-Hindi

Q.1 निम्नलिखित प्रश्न में, दिए गए चार विकल्पों में से, उस विकल्प का चयन करें जो दिए गए मुहावरे के अर्थ को सर्वश्रेष्ठ रूप से व्यक्त करता है।

तंग हाल होना

- Ans
- ☒ 1. युद्ध में फंसना
 - ☒ 2. बहुत अधिक बीमार होना
 - ☒ 3. मानसिक बीमारी होना
 - ☒ 4. आर्थिक तंगी होना

Q.2 दिए गए वाक्य में रेखांकित शब्दों के लिए सही शब्दों वाले विकल्प का चयन करें।

कैदियों को कुत्ते की तरह घसीटा गया।

- Ans
- ☒ 1. कैदियों के कुत्ता को तरह घसीटा गया।
 - ☒ 2. कैदियों को कुत्तों की तरह घसीटा गया।
 - ☒ 3. परिवर्तन की आवश्यकता नहीं है।
 - ☒ 4. कैदियों के कुत्तों की तरह घसीटा गया।

Q.3 दिए गए वाक्य में रेखांकित शब्दों के लिए सही शब्दों वाले विकल्प का चयन करें।

जो परिश्रम करते हैं, वह सफल होते हैं।

- Ans
- ✓ 1. जो परिश्रम करते हैं, वे सफल होते हैं।
 - ✗ 2. जो परिश्रम करते हैं, जो सफल होते हैं।
 - ✗ 3. जो परिश्रम करते हैं, वैसे सफल होते हैं।
 - ✗ 4. जो परिश्रम करते हैं, वह सफल होता है।

Q.4 निम्नलिखित वाक्य में, उस वाक्यांश को पहचानिए जिसमें मात्राओं से संबंधित अशुद्धियाँ हैं। यदि कोई गलती नहीं है तो 'कोई त्रुटि नहीं है' का चुनाव कीजिए।

होली पर हमें अप्राकृतिक रंगों से त्यौहार को नहीं मनाना/ चाहिए बल्कि प्राकृतिक फूलों के रंग से और/ अबीर को होली खेलनी चाहिए।

- Ans
- ✗ 1. कोई त्रुटि नहीं है
 - ✗ 2. होली पर हमें अप्राकृतिक रंगों से त्यौहार को नहीं मनाना
 - ✓ 3. अबीर को होली खेलनी चाहिए
 - ✗ 4. चाहिए बल्कि प्राकृतिक फूलों के रंग से और

Q.5 निम्नलिखित प्रश्न में, चार विकल्पों में से, उस विकल्प का चयन करें जो रिक्त स्थान के लिए सही भाववाचक संज्ञा वाला विकल्प हो।

किसी ने सच ही कहा है, जिसे _____ आता है वही माता के दर्शन के लिए जा पता है।

- Ans
- ✗ 1. बुला
 - ✓ 2. बुलावा
 - ✗ 3. बुलाना
 - ✗ 4. बुलवाया

Q.6 दिए गए विकल्पों में से शुद्ध वर्तनी वाले विकल्प का चयन करें।

- Ans
- ✓ 1. मेरी प्रार्थना स्वीकार करें।
 - ✗ 2. आग लगने का कारड़ सब नष्ट हो गया।
 - ✗ 3. मृत्यु पर किसी का वश नहीं चलता।
 - ✗ 4. किसकी तेयारी कर रहे हो?

Q.7 दिए गए वाक्य में उचित देशज-विदेशज शब्द का चयन करके रिक्त स्थान की पूर्ति कीजिए।

वाह! तुम तो बहुत बड़े _____ बन गए हो।

- Ans
- ☐ 1. नीलाम
 - ☐ 2. थैटर
 - ☐ 3. लालटेन
 - ☒ 4. अफसर

Q.8 दिए गए वाक्य का वह भाग ज्ञात करें, जिसमें कोई त्रुटि है।

विद्वानों के बीच बोलने का उत्साह भला कौन ही करेगा।

- Ans
- ☐ 1. बोलने का
 - ☒ 2. उत्साह भला कौन
 - ☐ 3. विद्वानों के बीच
 - ☐ 4. ही करेगा।

Q.9 निम्नलिखित प्रश्न में, चार विकल्पों में से, उस विकल्प का चयन करें जो रिक्त स्थान के लिए सही शब्द वाला विकल्प हो।

आज वही देश सबसे _____ है जिसके पास ज्ञान की अद्भुत शक्ति है।

- Ans
- ☐ 1. पिछड़ा
 - ☐ 2. हारा हुआ
 - ☒ 3. कामयाब
 - ☐ 4. दुखी

Q.10 निम्नलिखित प्रश्न में, चार विकल्पों में से, उस विकल्प का चयन करें जो कोष्ठक में दिए गए शब्द के विलोम शब्द का सही विकल्प है।

सफर के दौरान हमने देखा कि फलों से (अवनत) _____ डालियाँ धरती को चूम रही हैं।

- Ans
- ☐ 1. भरी
 - ☒ 2. उन्नत
 - ☐ 3. लदी
 - ☐ 4. झुकी हुई

Q.11 दिए गए वाक्य में रेखांकित शब्द का विलोम शब्द ज्ञात कीजिए।

कृष्ण जी को उनके रंग के कारण श्याम भी कहते हैं।

- Ans
- ☒ 1. श्वेत
 - ☐ 2. व्यास
 - ☐ 3. कान्हा
 - ☐ 4. जंगम

Q.12 निम्नलिखित प्रश्न में, दिए गए चार विकल्पों में से, उस विकल्प का चयन करें जो दिए गए मुहावरे के अर्थ को सर्वश्रेष्ठ रूप से व्यक्त करता है।

कहा सुनी होना

Ans

✗ 1. दुखी हो जाना

✗ 2. वश न चलना

✓ 3. वाद-विवाद होना

✗ 4. प्यार जताना

Q.13 निम्नलिखित प्रश्न में, चार विकल्पों में से, उस विकल्प का चयन करें जो कोष्ठक में दिए गए शब्द के पर्यायवाची शब्द का सही विकल्प नहीं है।

मेरे परिवार में सभी को (आम) _____ खाना बहुत पसंद है।

Ans

✗ 1. रसाल

✓ 2. अंकुसी

✗ 3. अतिसौरभ

✗ 4. फलराज

Q.14 निम्नलिखित प्रश्न में, चार विकल्पों में से, उस विकल्प का चयन करें जो कोष्ठक में दिए गए शब्द के पर्यायवाची शब्द का सही विकल्प है।

आज की सभा में सिर्फ कुछ ही लोग (इकट्ठा) _____ हुए थे।

Ans

✗ 1. स्वीकृत

✗ 2. आदर

✓ 3. समवेत

✗ 4. संकलित

Q.15 दिए गए वाक्य में तत्सम शब्द का चयन करके रिक्त स्थान की पूर्ति करें।

भिखारी को _____ दे दो।

Ans

✓ 1. भिक्षा

✗ 2. भ्रमर

✗ 3. भू

✗ 4. भिक्षुक

Comprehension:

नीचे दिए गए गद्य में कुछ शब्द छोड़ दिए गए हैं और प्रत्येक रिक्त स्थान के चार विकल्प दिए गए हैं। इन चारों में से कौन सा विकल्प रिक्त स्थान की पूर्ति करेगा-

इतिहास साक्षी है कि किसी राष्ट्र का गौरव तभी (1)_____ रहता है जब वो अपने स्वाभिमान और बलिदान की परम्पराओं को अगली (2)_____ को भी सिखाता है, संस्कारित करता है, उन्हें इसके लिए (3)_____ प्रेरित करता है। किसी राष्ट्र का भविष्य तभी (4)_____ होता है जब वो अपने अतीत के अनुभवों और विरासत के गर्व से पल-पल जूड़ा रहता है। फिर भारत के पास तो गर्व करने के लिए अथाह भंडार है, समृद्ध इतिहास है, चेतनामय सांस्कृतिक (5)_____ है।

SubQuestion No : 16

Q.16 रिक्त1 के लिए सबसे उपयुक्त विकल्प का चयन कीजिए।

- Ans
- ☒ 1. चेतन
 - ☒ 2. निद्रा
 - ☒ 3. प्रतिष्ठा
 - ☒ 4. जाग्रत

Comprehension:

नीचे दिए गए गद्य में कुछ शब्द छोड़ दिए गए हैं और प्रत्येक रिक्त स्थान के चार विकल्प दिए गए हैं। इन चारों में से कौन सा विकल्प रिक्त स्थान की पूर्ति करेगा-

इतिहास साक्षी है कि किसी राष्ट्र का गौरव तभी (1)_____ रहता है जब वो अपने स्वाभिमान और बलिदान की परम्पराओं को अगली (2)_____ को भी सिखाता है, संस्कारित करता है, उन्हें इसके लिए (3)_____ प्रेरित करता है। किसी राष्ट्र का भविष्य तभी (4)_____ होता है जब वो अपने अतीत के अनुभवों और विरासत के गर्व से पल-पल जूड़ा रहता है। फिर भारत के पास तो गर्व करने के लिए अथाह भंडार है, समृद्ध इतिहास है, चेतनामय सांस्कृतिक (5)_____ है।

SubQuestion No : 17

Q.17 रिक्त2 के लिए सबसे उपयुक्त विकल्प का चयन कीजिए।

- Ans
- ☒ 1. पीढ़ी
 - ☒ 2. प्राचीन
 - ☒ 3. दुनिया
 - ☒ 4. नवीन

Comprehension:

नीचे दिए गए गद्यांश में कुछ शब्द छोड़ दिए गए हैं और प्रत्येक रिक्त स्थान के चार विकल्प दिए गए हैं। इन चारों में से कौन सा विकल्प रिक्त स्थान की पूर्ति करेगा-

इतिहास साक्षी है कि किसी राष्ट्र का गौरव तभी (1)_____ रहता है जब वो अपने स्वाभिमान और बलिदान की परम्पराओं को अगली (2)_____ को भी सिखाता है, संस्कारित करता है, उन्हें इसके लिए (3)_____ प्रेरित करता है। किसी राष्ट्र का भविष्य तभी (4)_____ होता है जब वो अपने अतीत के अनुभवों और विरासत के गर्व से पल-पल जुड़ा रहता है। फिर भारत के पास तो गर्व करने के लिए अथाह भंडार है, समृद्ध इतिहास है, चेतनामय सांस्कृतिक (5)_____ है।

SubQuestion No : 18

Q.18 रिक्त3 के लिए सबसे उपयुक्त विकल्प का चयन कीजिए।

- Ans
- ☒ 1. घनिष्ठ
 - ☒ 2. अनेक
 - ☒ 3. घोर
 - ☒ 4. निरंतर

Comprehension:

नीचे दिए गए गद्यांश में कुछ शब्द छोड़ दिए गए हैं और प्रत्येक रिक्त स्थान के चार विकल्प दिए गए हैं। इन चारों में से कौन सा विकल्प रिक्त स्थान की पूर्ति करेगा-

इतिहास साक्षी है कि किसी राष्ट्र का गौरव तभी (1)_____ रहता है जब वो अपने स्वाभिमान और बलिदान की परम्पराओं को अगली (2)_____ को भी सिखाता है, संस्कारित करता है, उन्हें इसके लिए (3)_____ प्रेरित करता है। किसी राष्ट्र का भविष्य तभी (4)_____ होता है जब वो अपने अतीत के अनुभवों और विरासत के गर्व से पल-पल जुड़ा रहता है। फिर भारत के पास तो गर्व करने के लिए अथाह भंडार है, समृद्ध इतिहास है, चेतनामय सांस्कृतिक (5)_____ है।

SubQuestion No : 19

Q.19 रिक्त4 के लिए सबसे उपयुक्त विकल्प का चयन कीजिए।

- Ans
- ☒ 1. मालूम
 - ☒ 2. नीचता
 - ☒ 3. चिंताजनक
 - ☒ 4. उज्ज्वल

Comprehension:

नीचे दिए गए गद्य में कुछ शब्द छोड़ दिए गए हैं और प्रत्येक रिक्त स्थान के चार विकल्प दिए गए हैं। इन चारों में से कौन सा विकल्प रिक्त स्थान की पूर्ति करेगा-

इतिहास साक्षी है कि किसी राष्ट्र का गौरव तभी (1)_____ रहता है जब वो अपने स्वाभिमान और बलिदान की परम्पराओं को अगली (2)_____ को भी सिखाता है, संस्कारित करता है, उन्हें इसके लिए (3)_____ प्रेरित करता है। किसी राष्ट्र का भविष्य तभी (4)_____ होता है जब वो अपने अतीत के अनुभवों और विरासत के गर्व से पल-पल जूड़ा रहता है। फिर भारत के पास तो गर्व करने के लिए अथाह भंडार है, समृद्ध इतिहास है, चेतनामय सांस्कृतिक (5)_____ है।

SubQuestion No : 20

Q.20

रिक्त5 के लिए सबसे उपयुक्त विकल्प का चयन कीजिए।

Ans

✗ 1. खानदान

✗ 2. विडंबना

✗ 3. कोष्टक

✓ 4. विरासत