

Constable GD in Central Armed Police Forces CAPFs SSF Rifleman GD in Assam Rifles Examination 2024

Exam Date	26/02/2024
Exam Time	11:30 AM - 12:30 PM
Subject	Constable GD Examination 2024

Section : Part-A-General Intelligence and Reasoning

Q.1 Six friends Adam, Beth, Carl, Diana, Eric, and Fiona are sitting around a circular table facing the center. Beth sits to the immediate right of Carl. Adam is second to the right of Beth. Fiona and Adam are neighbours. Diana is not sitting next to Eric or Fiona. Who is sitting to the immediate right of Eric?

- Ans**
- ✓ 1. Carl
 - ✗ 2. Beth
 - ✗ 3. Adam
 - ✗ 4. Fiona

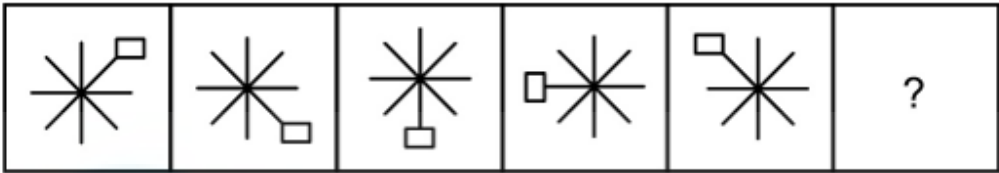
Q.2 A series is given with one term missing. Select the correct alternative from the given ones that will complete the series.
PQRT, STUW, VWXZ, YZAC, ?

- Ans**
- ✗ 1. BMTD
 - ✓ 2. BCDF
 - ✗ 3. BRQC
 - ✗ 4. AMRQ

Q.3 Which of the following numbers will replace the question mark (?) in the given series?
62, 67, 74, 83, 94, 107, ?

- Ans**
- ✗ 1. 121
 - ✗ 2. 120
 - ✗ 3. 112
 - ✓ 4. 122

Q.4 Select the figure that will replace the question mark (?) in the following figure series.



Ans

- ☒ 1.
- ☒ 2.
- ☒ 3.
- ☒ 4.

Q.5 In the following question below are given some statements followed by some conclusions based on those statements. Taking the given statements to be true even if they seem to be at variance from commonly known facts. Read all the conclusions and then decide which of the given conclusion (s) logically follows the given statements.

Statements:

- I. No land is cup.
- II. Some spoon are land.

Conclusions:

- I. All cup are land.
- II. All cup are spoon.
- III. Some cup are not land.

Ans

- ☒ 1. Only conclusion II follows
- ☒ 2. Neither conclusion follows
- ☒ 3. Both conclusions I and III follows
- ☒ 4. Only conclusion III follows

Q.6 Which of the following letter cluster will replace the blank (____) in the given series?
IAL, JAK, KAJ, LAI, _____

- Ans
- ☐ 1. JAM
 - ☐ 2. HAM
 - ☐ 3. MAJ
 - ☒ 4. MAH

Q.7 Which two numbers should be interchanged to make the given equation correct?
 $36 \times 11 \div 3 - 10 + 4 = 49$

- Ans
- ☐ 1. 10 and 4
 - ☒ 2. 4 and 11
 - ☐ 3. 49 and 36
 - ☐ 4. 11 and 3

Q.8 In a certain code language, if TOGETHER is coded as 'RPEFRICS', TOMORROW is coded as 'RPKPPSMX', then what will 'BATHROOM' be coded as?

- Ans
- ☐ 1. WLEPSJAS
 - ☐ 2. NMPPIRBZ
 - ☐ 3. RHSPLRWM
 - ☒ 4. ZBRIPPMN

Q.9 In the following question, select the missing number from the given series.
5, 19, 75, 299, 1195, ?

- Ans
- ☐ 1. 4750
 - ☐ 2. 4785
 - ☒ 3. 4779
 - ☐ 4. 4781

Q.10 In the following question, select the related letter pair from the given alternatives.

DHKL : CGJK :: ?

- Ans
- ☐ 1. NUWX : RUCN
 - ☐ 2. ZUZY : ABOD
 - ☒ 3. FXYI : EWXH
 - ☐ 4. TXZW : RULM

Q.11 By interchanging the given two signs which of the following equation will be correct?

\times and \div

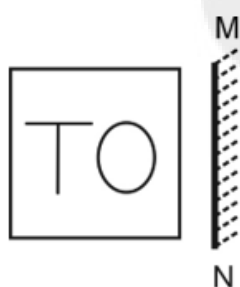
- Ans
- ☐ 1. $9 \times 3 - 4 \div 2 + 5 = 4$
 - ☒ 2. $11 \div 12 \times 6 + 8 - 10 = 20$
 - ☐ 3. $5 + 6 \times 2 - 4 \div 1 = 10$
 - ☐ 4. $70 \div 3 \times 7 + 50 - 10 = 80$

Q.12 Two positions of a dice are given below. What will come on the face opposite to the face containing 'K' on it?



- Ans
- ☒ 1. P
 - ☒ 2. Q
 - ☒ 3. V
 - ☒ 4. R

Q.13 Select the correct mirror image of the given figure when the mirror MN is placed to the right side of the figure.



- Ans
- ☒ 1. TO
 - ☒ 2. HO
 - ☒ 3. OT
 - ☒ 4. OL

Q.14 In a certain code language, 'MUSCLE' is coded as 'NTTBMD'. What is the code for 'PLANET' in that code language?

- Ans
- ☒ 1. QKBMGS
 - ☒ 2. QKBMFS
 - ☒ 3. QLBMGS
 - ☒ 4. QLCMGS

Q.15 Arrange the given words in the sequence in which they occur in the dictionary.

1. Consume
2. Consumer
3. Consult
4. Contact
5. Contain

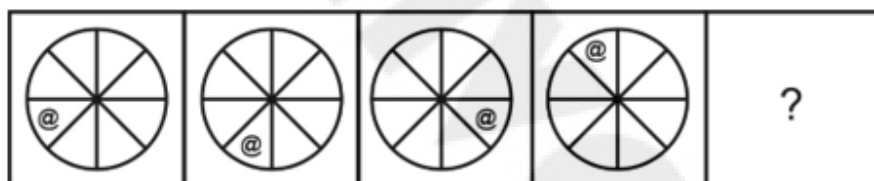
Ans ☒ 1. 3,1,2,5,4

☒ 2. 3,1,2,4,5

☒ 3. 1,2,4,5,3

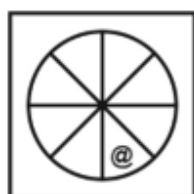
☒ 4. 1,2,3,5,4

Q.16 Select the figure that will replace the question mark (?) in the following figure series.



Ans

☒ 1.



☒ 2.



☒ 3.



☒ 4.



Q.17 Six friends Aarav, Bhavya, Charul, Devansh, Ekta, and Faizan are seated at a circular table facing each other. Bhavya is to the immediate left of Faizan, and Aarav is second to the left of Bhavya. Charul is second to the left of Devansh. Who is the immediate neighbour of both Bhavya and Aarav?

- Ans**
- ✓ 1. Devansh
 - ✗ 2. Aarav
 - ✗ 3. Faizan
 - ✗ 4. Bhavya

Q.18 Pointing towards a photo of a man, Rakhi said, “He is the father of my grandfather’s son”. How is the man related to Rakhi?

- Ans**
- ✓ 1. Grandfather
 - ✗ 2. Father
 - ✗ 3. Husband
 - ✗ 4. Brother

Q.19 If a mirror is placed on the line AB, then out of the option figures which figure will be the right image of the question figure?



Ans

✓ 1.



✗ 2.



✗ 3.



✗ 4.



Q.20 In the following question, select the related letters from the given alternatives.

HXP : CSK :: ANT : ?

Ans

✓ 1. VIO

✗ 2. ZXX

✗ 3. DPP

✗ 4. PPO

Section : Part-B-General Knowledge and General awareness

Q.1 In which Indian state is Kambala, the traditional buffalo race, conducted during the winter months to celebrate the harvest season?

- Ans
- ☐ 1. Telangana
 - ☒ 2. Karnataka
 - ☐ 3. Kerala
 - ☐ 4. Tamil Nadu

Q.2 Brahmotsavam festival is historically native to which of the following states?

- Ans
- ☒ 1. Andhra Pradesh
 - ☐ 2. Kerala
 - ☐ 3. Karnataka
 - ☐ 4. Tamil Nadu

Q.3 In which month, Women's Reservation Bill 2023 [The Constitution (One Hundred Twenty-Eighth Amendment) Bill, 2023] was introduced in Lok Sabha in 2023?

- Ans
- ☐ 1. May
 - ☒ 2. September
 - ☐ 3. March
 - ☐ 4. July

Q.4 Who wrote the original handwritten version of the Indian Constitution?

- Ans
- ☐ 1. B.N.Rau
 - ☒ 2. Prem Behari Narain Raizada
 - ☐ 3. BR. Ambedkar
 - ☐ 4. Kailash Nath Katju

Q.5 The concept of "judicial review" in India allows the judiciary to review and strike down laws that are found to be:

- Ans
- ☐ 1. Passed by the Parliament
 - ☒ 2. In violation of fundamental rights
 - ☐ 3. Supported by a two-thirds majority in the State Legislature
 - ☐ 4. Supported by the President

Q.6 The National Rural Employment Guarantee Act (NREGA) aims to provide a guarantee of how many days of employment per year to rural households in India?

- Ans
- ☒ 1. 100
 - ☐ 2. 50
 - ☐ 3. 1000
 - ☐ 4. 75

Q.7 After the first five-year Plan of India, two subsequent five-year plans were formulated till _____.

- Ans
- ☐ 1. 1962
 - ☐ 2. 1963
 - ☐ 3. 1964
 - ☒ 4. 1965

Q.8 In Football a direct _____ is awarded if a player commits any of the following offences against an opponent in a manner considered by the referee to be careless, reckless or using excessive force:

- Ans
- ☐ 1. head kick
 - ☐ 2. court kick
 - ☒ 3. free kick
 - ☐ 4. hat trick

Q.9 Sonal Mansingh is mainly associated with which dance style?

- Ans
- ☐ 1. Bharatnatyam and Sattriya
 - ☒ 2. Odissi and Bharatnatyam
 - ☐ 3. Odissi and Kathak
 - ☐ 4. Bharatnatyam and Kathak

Q.10 In India, there are how many steel-manufacturing Central Public Sector Enterprises (CPSEs) under the Ministry of Steel?

- Ans
- ☒ 1. Two
 - ☐ 2. Five
 - ☐ 3. Four
 - ☐ 4. Three

Q.11 Which of the following statements regarding money is correct?

I. Money supply is a stock variable.

II. The total stock of money in circulation among the public at a particular point of time is called money supply.

- Ans
- ☒ 1. Both I and II
 - ☐ 2. Only II
 - ☐ 3. Only I
 - ☐ 4. Neither I nor II

Q.12 In which year was the first War of Independence taken place in India?

- Ans
- ☐ 1. 1557
 - ☒ 2. 1857
 - ☐ 3. 1757
 - ☐ 4. 1657

Q.13 Into how many ages is the prehistoric times in terms of technology divided?

- Ans
- ☐ 1. Five
 - ☐ 2. Six
 - ☒ 3. Three
 - ☐ 4. Four

Q.14 According to the 2011 Census of India, among the State/ UTs, the male and female literacy rate is highest in _____.

- Ans
- ☐ 1. Goa
 - ☒ 2. Kerala
 - ☐ 3. Mizoram
 - ☐ 4. Tamil Nadu

Q.15 Who has been chosen as the national icon to raise awareness about voting and educate voters for the upcoming 2024 elections in India?

- Ans
- ☐ 1. MS Dhoni
 - ☐ 2. Amitabh Bachchan
 - ☐ 3. Aamir Khan
 - ☒ 4. Sachin Tendulkar

Q.16 Which of the following pair of sports persons – sports associated with is correct?

I. Manu Bhaker – Shooting

II. Tajinderpal Singh Toor – Shotput

- Ans
- ☐ 1. Neither I nor II
 - ☐ 2. Only I
 - ☒ 3. Both I and II
 - ☐ 4. Only II

Q.17 Renowned violinist - _____ trained in Carnatic music as well as Western classical music.

- Ans
- ☐ 1. Ravi Shankar
 - ☐ 2. Ustad Zakir Hussain
 - ☐ 3. Ustad Bismillah Khan
 - ☒ 4. Lakshminarayana Subramaniam

Q.18 In August 2023, Former Indian cricketer _____ will become a “national icon” of the Election Commission (EC) to spread awareness regarding the need for greater voter participation in the electoral process.

- Ans
- ☒ 1. Sachin Tendulkar
 - ☐ 2. Sunil Gavaskar
 - ☐ 3. Kapil Dev
 - ☐ 4. M S Dhoni

Q.19 Which dance style was kept alive by the Devadasis?

- Ans
- ☐ 1. Odissi
 - ☒ 2. Bharatnatyam
 - ☐ 3. Kathakali
 - ☐ 4. Kuchipudi

Q.20 Which sport is played by the Indian sportsperson Sania Mirza?

- Ans
- ☐ 1. Table Tennis
 - ☒ 2. Lawn Tennis
 - ☐ 3. Hockey
 - ☐ 4. Badminton

Section : Part-C-Elementary Mathematics

Q.1 The difference between cost price and selling price of a table is Rs. 224. If loss percentage is 40 percent, then what is the selling price?

- Ans
- ☒ 1. Rs. 336
 - ☐ 2. Rs. 352
 - ☐ 3. Rs. 306
 - ☐ 4. Rs. 406

Q.2 What is the value of $[21 + 14 - 7 \times (91 \div 7 - 12) + 42]$?

- Ans
- ☐ 1. 80
 - ☐ 2. 50
 - ☒ 3. 70
 - ☐ 4. 60

Q.3 What is the value of $0.\bar{4} + 0.\bar{2}$?

- Ans
- ☐ 1. $\frac{7}{8}$
 - ☐ 2. $\frac{6}{7}$
 - ☒ 3. $\frac{2}{3}$
 - ☐ 4. $\frac{8}{9}$

Q.4 Umesh sells an article and earns a profit of 75 percent. What will be the ratio of cost price and selling price?

- Ans
- ☒ 1. 4 : 7
 - ☐ 2. 8 : 5
 - ☐ 3. 5 : 8
 - ☐ 4. 7 : 4

Q.5 Hiten marks his pen at Rs. 15625 and after allowing discount of 20 percent, he still earns 25 percent profit. What is the cost price of the pen?

- Ans**
- ☒ 1. Rs. 10000
 - ☐ 2. Rs. 11800
 - ☐ 3. Rs. 10500
 - ☐ 4. Rs. 12500

Q.6 Y and Z together can complete a work in 20 days. Z alone can complete the same work in 60 days. In how many days will Y alone complete the same work?

- Ans**
- ☐ 1. 35 days
 - ☐ 2. 42 days
 - ☒ 3. 30 days
 - ☐ 4. 37 days

Q.7 If the perimeter of a rhombus is 200 cm and one of its diagonal is 80 cm, then what is the area of the rhombus?

- Ans**
- ☒ 1. 2400 cm^2
 - ☐ 2. 1620 cm^2
 - ☐ 3. 2250 cm^2
 - ☐ 4. 1600 cm^2

Q.8 Find the rate of discount when the marked price is ₹ 2280 and the selling price is ₹ 1482.

- Ans**
- ☒ 1. 35%
 - ☐ 2. 40%
 - ☐ 3. 25%
 - ☐ 4. 33%

Q.9 What is the average of all the multiples of 13 from 70 to 144?

- Ans**
- ☐ 1. 105
 - ☐ 2. 111.5
 - ☒ 3. 110.5
 - ☐ 4. 109

Q.10 Two trains are moving in the same direction at the speed of 34 km/hr and 86 km/hr, their lengths are 300 metres and 480 metres respectively. What will be the time taken by faster train to cross the slower train?

- Ans**
- ☒ 1. 54 seconds
 - ☐ 2. 48 seconds
 - ☐ 3. 60 seconds
 - ☐ 4. 36 seconds

Q.11 Chetan alone can do a work in 6 days working 5 hours a day. Rashmi alone can do the same work in 2 days working 10 hours a day. How many hours do they need to work together in a day to complete the same work in 4 days?

- Ans**
- ☐ 1. 2.5 hours
 - ☐ 2. 5 hours
 - ☐ 3. 4 hours
 - ☒ 4. 3 hours

Q.12 What is the value of $\frac{0.25 \times (0.25 \div 0.25)}{(0.25 \times 0.25) \times 0.25}$?

- Ans**
- ☐ 1. 4
 - ☐ 2. 0.4
 - ☒ 3. 16
 - ☐ 4. 1.6

Q.13 If the ratio of the ages of A and B is 3:4 and the sum of their ages is 28, then find the age of B.

- Ans**
- ☒ 1. 16 years
 - ☐ 2. 18 years
 - ☐ 3. 17 years
 - ☐ 4. 14 years

Q.14 Find the HCF of 31 and 73.

- Ans**
- ☐ 1. 3
 - ☒ 2. 1
 - ☐ 3. 7
 - ☐ 4. 11

Q.15 Average of 50 observations was calculated as 23. Three observations 19, 33 and 66 were wrongly taken as 30, 38 and 69. What will be the correct average?

- Ans**
- ☐ 1. 19.92
 - ☐ 2. 23.42
 - ☒ 3. 22.62
 - ☐ 4. 21.78

Q.16 The ratio of three numbers is 9 : 8 : 7. If the sum of the three numbers is 480, then what is the largest number among the three numbers?

- Ans**
- ☐ 1. 170
 - ☒ 2. 180
 - ☐ 3. 160
 - ☐ 4. 140

Q.17 A certain sum becomes 5 times of itself in 8 years at a rate of simple interest. In 24 years it will become how many times of itself at the same rate of simple interest?

- Ans**
- ☐ 1. 11
 - ☒ 2. 13
 - ☐ 3. 12
 - ☐ 4. 10

Q.18 75% of 1256 is

- Ans**
- ☐ 1. 756
 - ☒ 2. 942
 - ☐ 3. 876
 - ☐ 4. 848

Q.19 Weight of A1 is six times of A2 and A2's weight is 50 percent more than that of A3. If the average weight of all three is 299 kgs, then what is the weight of A1?

- Ans**
- ☐ 1. 897 kg
 - ☐ 2. 1544 kg
 - ☒ 3. 702 kg
 - ☐ 4. 979 kg

Q.20 On a sum, simple interest at the annual rate of 10 percent for 7 years is Rs. 21630. What will be the compound interest on the same sum at the annual rate of 20 percent (compounding annually) for 2 years?

- Ans**
- ☐ 1. Rs. 12570
 - ☒ 2. Rs. 13596
 - ☐ 3. Rs. 12788
 - ☐ 4. Rs. 13484

Section : Part-D-English

Q.1 Select the word segment that substitutes (replaces) the bracketed word segment correctly and completes the sentence meaningfully. Select the option 'no correction required' if the sentence is correct as given.

She opened her mouth to say something, (but as she does she realizes that she) couldn't find any words to express her surprise.

- Ans**
- ☐ 1. but when she does she realises that she
 - ☐ 2. but when she didn't she realised that she
 - ☒ 3. but when she did she realized that she
 - ☐ 4. No correction required

Q.2 In the following question, out of the given four alternatives, select the alternative which best expresses the meaning of the Idiom/Phrase.

To throw cold water on

- Ans**
- ☐ 1. To elevate someone's plans
 - ☐ 2. To awake someone
 - ☒ 3. To be discouraging or unenthusiastic about something
 - ☐ 4. To make someone see the truth

Q.3 Select the most appropriate word to fill in the blank.

The markets experienced a _____ at the news of the sale.

- Ans**
- ☒ 1. meltdown
 - ☐ 2. melt
 - ☐ 3. melting
 - ☐ 4. melting down

Q.4 Choose the most appropriate antonym of the underlined word.

Figurative language employs words with meanings not strictly literal, but varying from their ordinary definitions.

- Ans**
- ☐ 1. descriptive
 - ☒ 2. literal
 - ☐ 3. fanciful
 - ☐ 4. flowery

Q.5 Select the incorrectly spelt word from the given sentence.

A vivacious and attractive blonde, Mary had no shortage of male admirers.

- Ans**
- ☐ 1. admirers
 - ☒ 2. vivacious
 - ☐ 3. attractive
 - ☐ 4. shortage

Q.6 Improve the underlined part of the sentence. Choose 'No improvement' as an answer if the sentence is grammatically correct.

The pasta is served with a meat sauce.

- Ans**
- ☐ 1. is serves
 - ☐ 2. is serve
 - ☐ 3. are served
 - ☒ 4. No improvement

Q.7 Identify the segment that contains a grammatical error. If there is no error, select 'No error'.

After I shut the door and started back to the living room, / he yelled something at me, / but I couldn't strictly hear him.

- Ans**
- ☒ 1. No error
 - ☒ 2. he yelled something at me,
 - ☒ 3. but I couldn't strictly hear him.
 - ☒ 4. After I shut the door and started back to the living room,

Q.8 Select the sentence with no spelling errors.

- Ans**
- ☒ 1. These structures have come to play an important role.
 - ☒ 2. These structres have come to play an important role.
 - ☒ 3. These structures have come to play an important role.
 - ☒ 4. These strucures have come to play an important role.

Q.9 Choose the word that is opposite in meaning to the given word.

Accessible

- Ans**
- ☒ 1. Furnished
 - ☒ 2. Lacking
 - ☒ 3. Popular
 - ☒ 4. Budget

Q.10 Find the part of the given sentence that has an error in it. If there is no error, choose 'No error'.
It's so stressful to think that what you have build with hard work is at risk .

- Ans**
- ☒ 1. think that what you have build
 - ☒ 2. No error
 - ☒ 3. It's so stressful to
 - ☒ 4. with hard work is at risk.

Q.11 Find the part of the given sentence that has an error in it. If there is no error, choose 'No error'.

Why are you calling her the much amazing woman?

- Ans**
- ☒ 1. amazing woman?
 - ☒ 2. No error
 - ☒ 3. Why are you calling
 - ☒ 4. her the much

Q.12 Choose the word that means the same as the given word.

Gullibly

- Ans
- ☐ 1. Immunity
 - ☐ 2. Fraternity
 - ☒ 3. Naïve
 - ☐ 4. Critical

Q.13 Choose the idiom/phrase that can substitute the highlighted group of words meaningfully.

The matter is very serious and delicate. So, I urge you **to behave or speak carefully to avoid causing problem.**

- Ans
- ☐ 1. In the dark
 - ☐ 2. Cut corners
 - ☒ 3. To tread carefully
 - ☐ 4. Beat around the bush

Q.14 Select the most appropriate option for the given blank.

They _____ a strike when the party members refused their plea.

- Ans
- ☐ 1. told
 - ☐ 2. behold
 - ☐ 3. fallen
 - ☒ 4. called

Q.15 Improve the underlined part of the sentence. Choose 'No improvement' as an answer if the sentence is grammatically correct.

Emily has just come homes from school.

- Ans
- ☐ 1. No improvement
 - ☒ 2. come home
 - ☐ 3. came homely
 - ☐ 4. came homes

Comprehension:

Read the passage carefully and select the correct answer for the given blanks out of the four alternatives.

Government of India stands committed to (1)_____ climate change. The Government is implementing several programmes and (2)_____ including the National Action Plan on Climate Change (NAPCC), which (3)_____ missions in specific areas of solar energy, energy efficiency, water, sustainable agriculture, Himalayan ecosystem, sustainable habitat, health, green India and (4)_____ knowledge for climate change. The NAPCC provides an overarching (5)_____ for all climate actions.

SubQuestion No : 16

Q.16 Select the most appropriate option for blank(1)

- Ans
- ☐ 1. replicating
 - ☐ 2. marking
 - ☒ 3. combating
 - ☐ 4. insinuating

Comprehension:

Read the passage carefully and select the correct answer for the given blanks out of the four alternatives.

Government of India stands committed to (1)_____ climate change. The Government is implementing several programmes and (2)_____ including the National Action Plan on Climate Change (NAPCC), which (3)_____ missions in specific areas of solar energy, energy efficiency, water, sustainable agriculture, Himalayan ecosystem, sustainable habitat, health, green India and (4)_____ knowledge for climate change. The NAPCC provides an overarching (5)_____ for all climate actions.

SubQuestion No : 17

Q.17 Select the most appropriate option for blank(2)

- Ans
- ☐ 1. tokens
 - ☐ 2. themes
 - ☒ 3. schemes
 - ☐ 4. subjects

Comprehension:

Read the passage carefully and select the correct answer for the given blanks out of the four alternatives.

Government of India stands committed to (1)_____ climate change. The Government is implementing several programmes and (2)_____ including the National Action Plan on Climate Change (NAPCC), which (3)_____ missions in specific areas of solar energy, energy efficiency, water, sustainable agriculture, Himalayan ecosystem, sustainable habitat, health, green India and (4)_____ knowledge for climate change. The NAPCC provides an overarching (5)_____ for all climate actions.

SubQuestion No : 18

Q.18 Select the most appropriate option for blank(3)

- Ans
- ☐ 1. comprise
 - ☒ 2. comprises
 - ☐ 3. comprised
 - ☐ 4. comprising

Comprehension:

Read the passage carefully and select the correct answer for the given blanks out of the four alternatives.

Government of India stands committed to (1)_____ climate change. The Government is implementing several programmes and (2)_____ including the National Action Plan on Climate Change (NAPCC), which (3)_____ missions in specific areas of solar energy, energy efficiency, water, sustainable agriculture, Himalayan ecosystem, sustainable habitat, health, green India and (4)_____ knowledge for climate change. The NAPCC provides an overarching (5)_____ for all climate actions.

SubQuestion No : 19

Q.19 Select the most appropriate option for blank(4)

- Ans
- ☐ 1. stubborn
 - ☐ 2. nostalgic
 - ☒ 3. strategic
 - ☐ 4. manipulative

Comprehension:

Read the passage carefully and select the correct answer for the given blanks out of the four alternatives.

Government of India stands committed to (1)_____ climate change. The Government is implementing several programmes and (2)_____ including the National Action Plan on Climate Change (NAPCC), which (3)_____ missions in specific areas of solar energy, energy efficiency, water, sustainable agriculture, Himalayan ecosystem, sustainable habitat, health, green India and (4)_____ knowledge for climate change. The NAPCC provides an overarching (5)_____ for all climate actions.

SubQuestion No : 20

Q.20 Select the most appropriate option for blank(5)

- Ans
- ☐ 1. pretext
 - ☐ 2. Stature
 - ☒ 3. framework
 - ☐ 4. sojourn

Section : Part-D-Hindi

Q.1 निम्नलिखित प्रश्न में, चार विकल्पों में से, उस विकल्प का चयन करें जो दिए गए मुहावरे का सही अर्थ वाला विकल्प है।
ठीकरा फूटना

- Ans
- ☐ 1. मुक्त कर देना
 - ☒ 2. किसी के सर झूठा दोष लगाना
 - ☐ 3. अन्याय करना
 - ☐ 4. अनिष्ट की आशंका

Q.2 निम्नलिखित प्रश्न में, चार विकल्पों में से, उस विकल्प का चयन करें जो रिक्त स्थान के लिए सही शब्द वाला विकल्प हो।
सपने हर किसी के होते हैं, लेकिन केवल वे जिन्हें सही मायने में संजोया जा सकता है, उन्हें ही _____ माना जा सकता है।

- Ans
- ✓ 1. वास्तविक
 - ✗ 2. कभी-कभार
 - ✗ 3. आश्चर्य
 - ✗ 4. अनदेखा

Q.3 दिए गए वाक्य में रेखांकित शब्द का विलोम शब्द ज्ञात कीजिए।
इसके प्रयोग के लिए शुल्क लगेगा।

- Ans
- ✗ 1. भीरू
 - ✓ 2. निःशुल्क
 - ✗ 3. दौलत
 - ✗ 4. धन

Q.4 निम्नलिखित प्रश्न में, दिए गए चार विकल्पों में से, उस विकल्प का चयन करें जो दिए गए मुहावरे के अर्थ को सर्वश्रेष्ठ रूप से व्यक्त करता है।

एक आँख से देखना

- Ans
- ✗ 1. काना होना
 - ✓ 2. सबको बराबर समझना
 - ✗ 3. आँख मारना
 - ✗ 4. किसी को छेड़ना

Q.5 दिए गए विकल्पों में से सार्थक शब्द ज्ञात कीजिए।

- Ans
- ✗ 1. चागीब
 - ✓ 2. हवाई
 - ✗ 3. नथास्
 - ✗ 4. लटिज

Q.6 दिए गए वाक्य में से गलत वर्तनी ज्ञात कीजिए।

ऐसी बाणी बोलिए जिससे हृदय शीतल रहें।

- Ans
- ✗ 1. शीतल
 - ✓ 2. बाणी
 - ✗ 3. बोलिए
 - ✗ 4. हृदय

Q.7 निम्नलिखित प्रश्न में, चार विकल्पों में से, उस विकल्प का चयन करें जो रिक्त स्थान के लिए सही शब्द वाला विकल्प हो।
रक्त और रक्त उत्पादों का आदान प्रदान हर वर्ष लाखों लोगों को _____ में सहायता करता है।

- Ans
- ☒ 1. आयोजन
 - ☒ 2. व्यस्त
 - ☒ 3. बचाने
 - ☒ 4. जानकारी

Q.8 निम्नलिखित प्रश्न में, चार विकल्पों में से, उस विकल्प का चयन करें जो रिक्त स्थान के लिए सही स्त्रीलिंग रूप वाला विकल्प हो।

तुम्हारी _____ कुछ ठीक नहीं लग रही है।

- Ans
- ☒ 1. तबीयत
 - ☒ 2. घाव
 - ☒ 3. होश
 - ☒ 4. स्वास्थ्य

Q.9 निम्नलिखित प्रश्न में, चार विकल्पों में से, उस विकल्प का चयन करें जो कोष्ठक में दिए गए शब्द के तत्सम रूप का सही विकल्प है।
हमें बिना पाखण्डी और (कायर) _____ बने सब कार्य करना चाहिए।

- Ans
- ☒ 1. कज्जल
 - ☒ 2. काष्ठ
 - ☒ 3. कुब्ज
 - ☒ 4. कातर

Q.10 दिए गए वाक्य में उचित पर्यायवाची शब्द का चयन करके रिक्त स्थान की पूर्ति करें।

वह _____ (लौकिक) बातों से परे है।

- Ans
- ☒ 1. भास्कर
 - ☒ 2. चैन
 - ☒ 3. सांसारिक
 - ☒ 4. अराधना

Q.11 दिए गए वाक्य में रेखांकित शब्द के लिए सही वर्तनी ज्ञात कीजिए।

हमें परसपर सहयोग करना चाहिए।

- Ans
- ☒ 1. परस्पर
 - ☒ 2. पर्सपर
 - ☒ 3. प्रसपर
 - ☒ 4. परसप्र

Q.12 दिए गए वाक्य का वह भाग ज्ञात करें, जिसमें कोई त्रुटि है।
ईशा ने माँ से कहा कि उसे भारत का भूगोल की एक प्रति खरीदनी है।

- Ans
- ✓ 1. भारत का भूगोल
 - ✗ 2. की एक प्रति खरीदनी है।
 - ✗ 3. ईशा ने माँ से
 - ✗ 4. कहा कि उसे

Q.13 दिए गए शब्द का पर्यायवाची ज्ञात कीजिए।

शीघ्र

- Ans
- ✗ 1. दिव
 - ✗ 2. विलंब
 - ✗ 3. नाग
 - ✓ 4. अविलंब

Q.14 दिए गए वाक्य में रेखांकित शब्द का विलोम शब्द ज्ञात कीजिए।

हमें बड़ों का अपमान नहीं करना चाहिए।

- Ans
- ✗ 1. शोक
 - ✗ 2. मुक्ति
 - ✗ 3. साक्षर
 - ✓ 4. सम्मान

Q.15 निम्नलिखित वाक्य में रेखांकित भाग के लिए एक सार्थक शब्द ज्ञात कीजिए।

मेरी पत्नी के नयन बिल्कुल हिरणी से है।

- Ans
- ✗ 1. मृगोष्ठ
 - ✗ 2. मृगावाती
 - ✓ 3. मृगनयनी
 - ✗ 4. मृगपादुका

Comprehension:

नीचे दिए गये गद्यांश में कुछ शब्द छोड़ दिये गए हैं, प्रत्येक अनुच्छेद के सामने चार विकल्प दिए गए हैं। इस गद्यांश को ध्यानपूर्वक पढ़ें और चार विकल्पों में से सर्वोत्तम उत्तर वाला विकल्प चुनें।

धन जीवन की आधारभूत आवश्यकता है, जिसके बिना कोई भी स्वस्थ और _____ जीवन की कल्पना नहीं कर सकता है। हमें अपनी छोटी से छोटी आवश्यकता को पूरा करने के लिए धन की आवश्यकता होती है। आधुनिक समय में, जब सभ्यता का विकास तेजी से हो रहा है और हर कोई पाश्चात्य संस्कृति का _____ कर रहा है, ऐसे समय में हमें वस्तुओं के बढ़ते हुए मूल्य के कारण अधिक धन की आवश्यकता होती है। पहले समय में, एक प्रथा प्रचलन में थी जिसे विनिमय प्रणाली कहा जाता था, जिसमें किसी को भी एक वस्तु के _____ में दूसरी वस्तु प्राप्त हो जाती थी हालांकि, अब इस आधुनिक संसार में प्रत्येक वस्तु या चीज को खरीदने के लिए केवल धन की आवश्यकता होती है। धन का महत्व दिन प्रति दिन बढ़ता जा रहा है, क्योंकि हमारा रहन-सहन बहुत _____ हो गया है। धन के महत्व में उत्पादन, उपभोग, विनिमय, वितरण, सार्वजनिक राजस्व आदि के क्षेत्र में बड़े स्तर पर वृद्धि हुई है। यह आय, रोजगार, आगम-निर्गम, सामान्य मूल्य स्तर आदि के निर्धारण में बहुत _____ भूमिका निभाता है। यदि वर्तमान समय के परिदृश्य को देखा जाए तो इस बात में कोई संदेह नहीं है कि, जिसके पास धन की अधिकता है, वो ही संसार में अधिक सभ्य माना जाता है।

SubQuestion No : 16

Q.16 जिसके बिना कोई भी स्वस्थ और _____ जीवन की कल्पना नहीं कर सकता है।

- Ans**
- ☒ 1. अकेले
 - ☒ 2. शान्तिपूर्ण
 - ☒ 3. अंजान
 - ☒ 4. अशान्तिपूर्ण

Comprehension:

नीचे दिए गये गद्यांश में कुछ शब्द छोड़ दिये गए हैं, प्रत्येक अनुच्छेद के सामने चार विकल्प दिए गए हैं। इस गद्यांश को ध्यानपूर्वक पढ़ें और चार विकल्पों में से सर्वोत्तम उत्तर वाला विकल्प चुनें।

धन जीवन की आधारभूत आवश्यकता है, जिसके बिना कोई भी स्वस्थ और _____ जीवन की कल्पना नहीं कर सकता है। हमें अपनी छोटी से छोटी आवश्यकता को पूरा करने के लिए धन की आवश्यकता होती है। आधुनिक समय में, जब सभ्यता का विकास तेजी से हो रहा है और हर कोई पाश्चात्य संस्कृति का _____ कर रहा है, ऐसे समय में हमें वस्तुओं के बढ़ते हुए मूल्य के कारण अधिक धन की आवश्यकता होती है। पहले समय में, एक प्रथा प्रचलन में थी जिसे विनिमय प्रणाली कहा जाता था, जिसमें किसी को भी एक वस्तु के _____ में दूसरी वस्तु प्राप्त हो जाती थी हालांकि, अब इस आधुनिक संसार में प्रत्येक वस्तु या चीज को खरीदने के लिए केवल धन की आवश्यकता होती है। धन का महत्व दिन प्रति दिन बढ़ता जा रहा है, क्योंकि हमारा रहन-सहन बहुत _____ हो गया है। धन के महत्व में उत्पादन, उपभोग, विनिमय, वितरण, सार्वजनिक राजस्व आदि के क्षेत्र में बड़े स्तर पर वृद्धि हुई है। यह आय, रोजगार, आगम-निर्गम, सामान्य मूल्य स्तर आदि के निर्धारण में बहुत _____ भूमिका निभाता है। यदि वर्तमान समय के परिदृश्य को देखा जाए तो इस बात में कोई संदेह नहीं है कि, जिसके पास धन की अधिकता है, वो ही संसार में अधिक सभ्य माना जाता है।

SubQuestion No : 17

Q.17 आधुनिक समय में, जब सभ्यता का विकास तेजी से हो रहा है और हर कोई पाश्चात्य संस्कृति का _____ कर रहा है

Ans

- ☒ 1. अनदेखा
- ☒ 2. प्रयास
- ☒ 3. अनुसरण
- ☒ 4. दोहन

Comprehension:

नीचे दिए गये गद्यांश में कुछ शब्द छोड़ दिये गए हैं, प्रत्येक अनुच्छेद के सामने चार विकल्प दिए गए हैं। इस गद्यांश को ध्यानपूर्वक पढ़ें और चार विकल्पों में से सर्वोत्तम उत्तर वाला विकल्प चुनें।

धन जीवन की आधारभूत आवश्यकता है, जिसके बिना कोई भी स्वस्थ और _____ जीवन की कल्पना नहीं कर सकता है। हमें अपनी छोटी से छोटी आवश्यकता को पूरा करने के लिए धन की आवश्यकता होती है। आधुनिक समय में, जब सभ्यता का विकास तेजी से हो रहा है और हर कोई पाश्चात्य संस्कृति का _____ कर रहा है, ऐसे समय में हमें वस्तुओं के बढ़ते हुए मूल्य के कारण अधिक धन की आवश्यकता होती है। पहले समय में, एक प्रथा प्रचलन में थी जिसे विनिमय प्रणाली कहा जाता था, जिसमें किसी को भी एक वस्तु के _____ में दूसरी वस्तु प्राप्त हो जाती थी हालांकि, अब इस आधुनिक संसार में प्रत्येक वस्तु या चीज को खरीदने के लिए केवल धन की आवश्यकता होती है। धन का महत्व दिन प्रति दिन बढ़ता जा रहा है, क्योंकि हमारा रहन-सहन बहुत _____ हो गया है। धन के महत्व में उत्पादन, उपभोग, विनिमय, वितरण, सार्वजनिक राजस्व आदि के क्षेत्र में बड़े स्तर पर वृद्धि हुई है। यह आय, रोजगार, आगम-निर्गम, सामान्य मूल्य स्तर आदि के निर्धारण में बहुत _____ भूमिका निभाता है। यदि वर्तमान समय के परिदृश्य को देखा जाए तो इस बात में कोई संदेह नहीं है कि, जिसके पास धन की अधिकता है, वो ही संसार में अधिक सभ्य माना जाता है।

SubQuestion No : 18

Q.18 जिसमें किसी को भी एक वस्तु के _____ में दूसरी वस्तु प्राप्त हो जाती थी

- Ans**
- ✓ 1. बदले
 - ✗ 2. साथ
 - ✗ 3. पास
 - ✗ 4. खरीदने

Comprehension:

नीचे दिए गये गद्यांश में कुछ शब्द छोड़ दिये गए हैं, प्रत्येक अनुच्छेद के सामने चार विकल्प दिए गए हैं। इस गद्यांश को ध्यानपूर्वक पढ़ें और चार विकल्पों में से सर्वोत्तम उत्तर वाला विकल्प चुनें।

धन जीवन की आधारभूत आवश्यकता है, जिसके बिना कोई भी स्वस्थ और _____ जीवन की कल्पना नहीं कर सकता है। हमें अपनी छोटी से छोटी आवश्यकता को पूरा करने के लिए धन की आवश्यकता होती है। आधुनिक समय में, जब सभ्यता का विकास तेजी से हो रहा है और हर कोई पाश्चात्य संस्कृति का _____ कर रहा है, ऐसे समय में हमें वस्तुओं के बढ़ते हुए मूल्य के कारण अधिक धन की आवश्यकता होती है। पहले समय में, एक प्रथा प्रचलन में थी जिसे विनिमय प्रणाली कहा जाता था, जिसमें किसी को भी एक वस्तु के _____ में दूसरी वस्तु प्राप्त हो जाती थी हालांकि, अब इस आधुनिक संसार में प्रत्येक वस्तु या चीज को खरीदने के लिए केवल धन की आवश्यकता होती है। धन का महत्व दिन प्रति दिन बढ़ता जा रहा है, क्योंकि हमारा रहन-सहन बहुत _____ हो गया है। धन के महत्व में उत्पादन, उपभोग, विनिमय, वितरण, सार्वजनिक राजस्व आदि के क्षेत्र में बड़े स्तर पर वृद्धि हुई है। यह आय, रोजगार, आगम-निर्गम, सामान्य मूल्य स्तर आदि के निर्धारण में बहुत _____ भूमिका निभाता है। यदि वर्तमान समय के परिदृश्य को देखा जाए तो इस बात में कोई संदेह नहीं है कि, जिसके पास धन की अधिकता है, वो ही संसार में अधिक सभ्य माना जाता है।

SubQuestion No : 19

Q.19 धन का महत्व दिन प्रतिदिन बढ़ता जा रहा है, क्योंकि हमारा रहन-सहन बहुत _____ हो गया है।

Ans

☒ 1. दिखावा

☒ 2. महँगा

☒ 3. बेकार

☒ 4. सस्ता

Comprehension:

नीचे दिए गये गद्यांश में कुछ शब्द छोड़ दिये गए हैं, प्रत्येक अनुच्छेद के सामने चार विकल्प दिए गए हैं। इस गद्यांश को ध्यानपूर्वक पढ़ें और चार विकल्पों में से सर्वोत्तम उत्तर वाला विकल्प चुनें।

धन जीवन की आधारभूत आवश्यकता है, जिसके बिना कोई भी स्वस्थ और _____ जीवन की कल्पना नहीं कर सकता है। हमें अपनी छोटी से छोटी आवश्यकता को पूरा करने के लिए धन की आवश्यकता होती है। आधुनिक समय में, जब सभ्यता का विकास तेजी से हो रहा है और हर कोई पाश्चात्य संस्कृति का _____ कर रहा है, ऐसे समय में हमें वस्तुओं के बढ़ते हुए मूल्य के कारण अधिक धन की आवश्यकता होती है। पहले समय में, एक प्रथा प्रचलन में थी जिसे विनिमय प्रणाली कहा जाता था, जिसमें किसी को भी एक वस्तु के _____ में दूसरी वस्तु प्राप्त हो जाती थी हालांकि, अब इस आधुनिक संसार में प्रत्येक वस्तु या चीज को खरीदने के लिए केवल धन की आवश्यकता होती है। धन का महत्व दिन प्रति दिन बढ़ता जा रहा है, क्योंकि हमारा रहन-सहन बहुत _____ हो गया है। धन के महत्व में उत्पादन, उपभोग, विनिमय, वितरण, सार्वजनिक राजस्व आदि के क्षेत्र में बड़े स्तर पर वृद्धि हुई है। यह आय, रोजगार, आगम-निर्गम, सामान्य मूल्य स्तर आदि के निर्धारण में बहुत _____ भूमिका निभाता है। यदि वर्तमान समय के परिदृश्य को देखा जाए तो इस बात में कोई संदेह नहीं है कि, जिसके पास धन की अधिकता है, वो ही संसार में अधिक सभ्य माना जाता है।

SubQuestion No : 20

Q.20 यह आय, रोजगार, आगम-निर्गम, सामान्य मूल्य स्तर आदि के निर्धारण में बहुत _____ भूमिका निभाता है।

- Ans**
- ☒ 1. सजगता
 - ☒ 2. महत्वपूर्ण
 - ☒ 3. कम
 - ☒ 4. विफलता