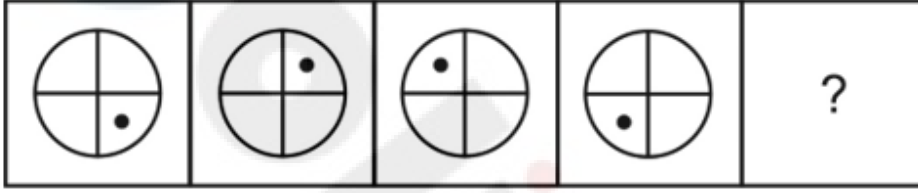


**Constable GD in Central Armed Police Forces CAPFs SSF Rifleman GD in Assam Rifles Examination 2024**

Exam Date	27/02/2024
Exam Time	5:00 PM - 6:00 PM
Subject	Constable GD Examination 2024

Section : Part-A-General Intelligence and Reasoning

Q.1 ఈ క్రింది చిత్రాల శ్రేణిలో ప్రశ్న గుర్తు (?) స్థానాన్ని భర్తీ చేసే చిత్రాన్ని ఎంచుకోండి.

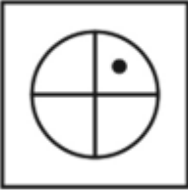


Ans

✗ 1.



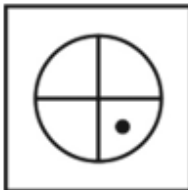
✗ 2.



✗ 3.



✓ 4.



Q.2 A is the husband of B. B is the sister of C. C is the mother of D. D is the brother of E. E is the wife of F. F is the father of G. How is D related to F?

Ans

✗ 1. Mother

✓ 2. Wife's brother

✗ 3. Father

✗ 4. Brother

Q.3 నాల్గవ పదం మూడవ పదానికి సంబంధించినది మరియు రెండవ పదం మొదటి పదానికి సంబంధించినది, అదే విధంగా ఐదవ పదానికి సంబంధించిన ఐచ్ఛికాన్ని ఎంచుకోండి.

ఒమన్ : రియల్ :: భారతదేశం : భారత రూపాయి :: యుఎస్ఎ : ?

- Ans
- 1. యూరో
  - 2. డాలర్
  - 3. దిర్హామ్
  - 4. పౌండ్

Q.4 ఒక నిర్దిష్ట కోడ్ భాషలో, ఒకవేళ TOGETHER అనునది 95గా, FUTURE అనునది 88గా కోడ్ చేయబడినట్లైతే, అప్పుడు FOREVER అనునది ఏ విధంగా కోడ్ చేయబడుతుంది?

- Ans
- 1. 86
  - 2. 89
  - 3. 96
  - 4. 102

Q.5 In a certain code language, 'TUMOR' is coded as '27564', 'VAPOR' is coded as '12345', 'VOTER' is coded as '86215'. What can be the code for 'O' in that code language?

- Ans
- 1. 3
  - 2. 4
  - 3. 2
  - 4. 1

Q.6 Seven friends P, Q, R, S, T, U, and V are sitting in a circle facing the center. R is sitting third to the right of S and is in between U and T. S is not a neighbour to P. Q and T are neighbours. Who is sitting to the immediate left of Q?

- Ans
- 1. R
  - 2. U
  - 3. P
  - 4. S

Q.7 ఈ క్రింది ప్రశ్నలో, ఇవ్వబడిన ఐచ్ఛికాల నుండి సంబంధిత అక్షరాలను ఎంచుకోండి.

HSQ : FQO :: ZDF : ?

- Ans
- 1. IAK
  - 2. XBD
  - 3. SON
  - 4. ALE

Q.8 ఇవ్వబడిన ఐచ్ఛిక చిత్రాల నుండి, ప్రశ్న చిత్రం దాగి/ఇమిడి ఉన్నదాన్ని ఎంచుకోండి. (తిప్పడం అనుమతించబడదు)




Ans

✗ 1.



✗ 2.



✗ 3.



✓ 4.



Q.9 A, B, C, D, E, F, G మరియు H అనే ఎనిమిది మంది బాలురు ఒకే వరుసలో దక్షిణాభిముఖంగా కూర్చున్నారు (ఇచ్చిన ఇదే క్రమంలో కూర్చోవాల్సిన అవసరం లేదు). A మరియు H లు వరుస యొక్క అత్యంత చివరల్లో ఉన్నారు. B కి తక్షణ పొరుగున E మరియు F లు ఉన్నారు. B కి ఎడమవైపు నాల్గవ స్థానంలో C ఉన్నాడు. A కు తక్షణ ఎడమవైపు F ఉన్నాడు. C కి తక్షణ పొరుగున D లేడు. అయిన F కి తక్షణ ఎడమ వైపు ఎవరు కూర్చున్నారు?

Ans

✓ 1. B

✗ 2. A

✗ 3. E

✗ 4. C

Q.10 ఇచ్చిన శ్రేణిలోని ఖాళీ ( )ని ఈ క్రింది అక్షరాల సమూహాల్లో ఏది భర్తీ చేస్తుంది?

QLM, \_\_\_\_\_, SPQ, TRS, UTU, VVW

Ans

✓ 1. RNO

✗ 2. RMQ

✗ 3. ONO

✗ 4. MNO

Q.11 ఈ క్రింది ప్రశ్నలో కొన్ని ప్రకటనలు మరియు వాటి ఆధారంగా కొన్ని తీర్మానాలు ఇవ్వబడ్డాయి. ఇచ్చిన ప్రకటనలు సాధారణంగా తెలిసిన వాస్తవాలకు భిన్నంగా ఉన్నట్లు అనిపించినప్పటికీ వాటిని వాస్తవంగా భావించాలి. అన్ని తీర్మానాలను చదివి, వాటిలో ఏది ఇవ్వబడిన ప్రకటనలను తార్కికంగా అనుసరిస్తుందో నిర్ణయించండి.

ప్రకటనలు:

I. ఏ G కూడా M కాదు.

II. కొన్ని Aలు Mలు.

తీర్మానాలు:

I. కొన్ని Mలు A లు.

II. కొన్ని Mలు G లు.

Ans **X** 1. I మరియు II రెండు తీర్మానాలు అనుసరిస్తాయి

**X** 2. ఏ తీర్మానం కూడా అనుసరించదు

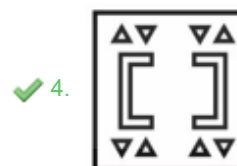
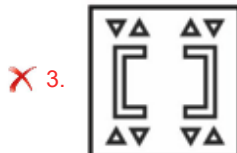
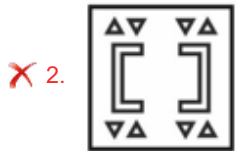
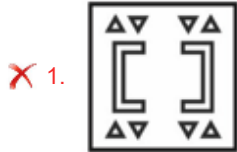
**X** 3. తీర్మానం II మాత్రమే అనుసరిస్తుంది

**✓** 4. తీర్మానం I మాత్రమే అనుసరిస్తుంది

Q.12 ప్రశ్న చిత్రాలలో క్రింద చూపిన విధంగా కాగితం ముక్క మడిచి, పంచ్ చేయబడింది. అది తెరిచినప్పుడు అది ఎలా కనిపిస్తుందో ఇచ్చిన ఐచ్ఛిక చిత్రాల నుండి సూచించండి.



Ans



Q.13 ఇవ్వబడిన రెండు సంఖ్యలను పరస్పరం మార్చడం ద్వారా ఈ క్రింది సమీకరణాలలో సరైనది కానిది ఏది?

3 మరియు 7

- Ans
- ✓ 1.  $7 \times 2 + 3 - 4 = 11$
  - ✗ 2.  $7 \times 8 - 3 + 2 = 19$
  - ✗ 3.  $7 + 3 \times 4 - 6 = 25$
  - ✗ 4.  $8 + 7 - 3 = 4$

Q.14 ఒక పదం లోపించిన శ్రేణి ఇవ్వబడింది. ఇవ్వబడిన ఐచ్ఛికాల నుండి శ్రేణిని పూర్తి చేసే సరైన పదాన్ని ఎంచుకోండి.

AB, DC, EF, HG, ?

- Ans
- ✓ 1. IJ
  - ✗ 2. IM
  - ✗ 3. IT
  - ✗ 4. IQ

Q.15 ఒక పాచిక యొక్క మూడు స్థానాలు క్రింద ఇవ్వబడ్డాయి. 'B' ఉన్న తలానికి ఎదురుగా ఉన్న తలపై ఏమి వస్తుంది?



- Ans
- ✓ 1. F
  - ✗ 2. E
  - ✗ 3. A
  - ✗ 4. D

Q.16 ఇవ్వబడిన శ్రేణిలోని ప్రశ్న గుర్తు (?) స్థానాన్ని ఈ క్రింది సంఖ్యలలో ఏది భర్తీ చేస్తుంది?  
85, 95, ?, 96, 83, 97

- Ans
- ✗ 1. 94
  - ✗ 2. 86
  - ✓ 3. 84
  - ✗ 4. 93

Q.17 ఒకవేళ  $49 R 15 S 18 T 8 = -80$  మరియు  $99 R 80 S 17 T 5 = 94$  అయితే,  $85 R 30 S 15 T 4 = ?$

- Ans
- ✗ 1. 70
  - ✓ 2. 55
  - ✗ 3. 58
  - ✗ 4. 64

Q.18 ఈ క్రింది ప్రశ్నలో, ప్రశ్న గుర్తు (?) స్థానంలో ఉంచగల చిత్రాన్ని ఇవ్వబడిన ఐచ్ఛికాల నుండి ఎంచుకోండి.



Ans

✓ 1.



✗ 2.



✗ 3.



✗ 4.



Q.19 ఇవ్వబడిన శ్రేణిలోని ప్రశ్న గుర్తు (?) స్థానాన్ని ఈ క్రింది సంఖ్యలలో ఏది భర్తీ చేస్తుంది?  
24, 12, 36, 18, ?, 27

Ans

✗ 1. 42

✗ 2. 68

✓ 3. 54

✗ 4. 48

Q.20 ఇచ్చిన పదాలను నిఘంటువులోని క్రమం ప్రకారం అమర్చిన తరువాత, ఏ పదం 'మూడవ' స్థానంలో వస్తుంది?

1. Shrink

2. Shrug

3. Shriek

4. Shrimp

5. Shred

Ans ✓ 1. Shrimp

✗ 2. Shrug

✗ 3. Shriek

✗ 4. Shrink

Section : Part-B-General Knowledge and General awareness

Q.1 ఇంటర్ కాంటినెంటల్ కప్ 2023 ను గెలవడానికి భారత పుట్ బాల్ జట్టు ఏ దేశాన్ని ఓడించింది?

Ans ✓ 1. లెబనాన్ (Lebanon)

✗ 2. వనాటు (Vanuatu)

✗ 3. మాల్దీవులు (Maldives)

✗ 4. మంగోలియా (Mangolia)

Q.2 నవంబర్ 2023 లో, ప్రపంచంలోని అత్యంత ఎత్తైన ఎవరెస్ట్ శిఖరం ముందు 21,500 అడుగుల ఎత్తు నుండి హెలికాప్టర్ నుండి దూకిన భారతీయ స్కైడైవర్ ఎవరు?

Ans ✗ 1. శ్వేతా పర్మార్

✗ 2. అనామిక శర్మ

✗ 3. లాన్స్ నాయక్ మంజు

✓ 4. శీతల్ మహాజన్

Q.3 వాహనం ప్రయాణించిన దూరాన్ని కొలవడానికి దిగువ పేర్లొన్న ఏ పరికరాన్ని ఉపయోగిస్తారు?

Ans ✗ 1. టాకోమీటర్ (Tachometer)

✓ 2. ఓడోమీటర్ (Odometer)

✗ 3. ఫ్యూయల్/ఇంధన గేజ్ (Fuel gauge)

✗ 4. స్పీడోమీటర్ (Speedometer)

Q.4 జాతీయ నమూనా సర్వే ఆఫీస్ (NSSO) ప్రకారం, పట్టణ ప్రాంతాల్లో 15 సంవత్సరాలు మరియు అంతకంటే ఎక్కువ వయస్సు గల వ్యక్తుల నిరుద్యోగ రేటు 2023 జనవరి-మార్చిల మధ్య సంవత్సరం క్రితపు 8.2 శాతం నుండి \_\_\_\_\_ శాతానికి తగ్గింది.

- Ans
- 1. 2.4 %
  - 2. 6.8%
  - 3. 5.1%
  - 4. 9.2%

Q.5 ఈ క్రింది వాటిలో 'బతుకమ్మలు' ఏ రాష్ట్రానికి సంబంధించినవి?

- Ans
- 1. బీహార్
  - 2. పంజాబ్
  - 3. అస్సాం
  - 4. తెలంగాణ

Q.6 వాక్ స్వాతంత్ర్యం మరియు భావవ్యక్తీకరణ హక్కు దీని కింద ఇవ్వబడింది:

- Ans
- 1. ఆర్టికల్ 32
  - 2. ఆర్టికల్ 19
  - 3. ఆర్టికల్ 20
  - 4. ఆర్టికల్ 30

Q.7 ఆగ్రా ఘరానా స్థాపకుడు ఎవరు?

- Ans
- 1. నాథన్ పీర్జీ
  - 2. ఖుదా బక్ష్
  - 3. హద్దు ఖాన్
  - 4. హస్సు ఖాన్

Q.8 మూడవ ప్రణాళిక విఫలం కావడం వల్ల ద్రవ్యోల్బణ మాంద్యంతో పాటు రూపాయి విలువ క్షీణించడం (ఎగుమతులను పెంచడానికి) నాల్గవ FYP వాయిదాకు దారితీసింది, అందువల్ల దీనికి బదులుగా \_\_\_\_\_ వార్షిక ప్రణాళికలు ప్రవేశపెట్టబడ్డాయి.

- Ans
- 1. మూడు
  - 2. నాలుగు
  - 3. ఒకటి
  - 4. రెండు

Q.9 జవారా నృత్యం \_\_\_\_\_ యొక్క సుప్రసిద్ధ జానపద నృత్యం.

- Ans
- 1. హిమాచల్ ప్రదేశ్
  - 2. కేరళ
  - 3. గుజరాత్
  - 4. మధ్య ప్రదేశ్

Q.10 జార్జండ్ మరియు మధ్య బారతదేశంలోని కొన్ని ప్రాంతాల్లో మాట్లాడే భాషలు ప్రధానంగా కింది ఏ భాషా కుటుంబానికి చెందినవి?  
Ans  1. ఇండో-యూరోపియన్ కుటుంబం  
 2. ద్రావిడియన్ కుటుంబం  
 3. ఆస్ట్రో-ఎషియాటిక్ కుటుంబం  
 4. టిబెట్-బర్మన్ కుటుంబం

Q.11 నమో శేతీకరి మహాసన్మాన్ యోజనను \_\_\_\_\_ రాష్ట్రం ప్రారంభించింది.

Ans  1. మధ్య ప్రదేశ్  
 2. జార్ఖండ్  
 3. గుజరాత్  
 4. మహారాష్ట్ర

Q.12 \_\_\_\_\_ లో, ప్రధానమంత్రి చైర్ పర్సన్ గా ప్రణాళికా సంఘం ఏర్పాటు చేయబడింది.

Ans  1. 1970  
 2. 1950  
 3. 1850  
 4. 1890

Q.13 ఈ క్రింది వాటిలో పసుమర్తి రామలింగ శాస్త్రి ఏ నృత్య శైలితో సంబంధాన్ని కలిగి ఉన్నారు?

Ans  1. సత్రియా  
 2. కూచిపూడి  
 3. భరతనాట్యం  
 4. కథక్

Q.14 భారతీయ బ్యాంకింగ్ సందర్భంలో "CRR" అనే పదం దీన్ని సూచిస్తుంది:

Ans  1. క్యాపిటల్ రికవరీ రేటు (Capital Recovery Rate)  
 2. కంజ్యూమర్ రైట్స్ అండ్ రెస్పాన్సిబిలిటీస్ (Consumer Rights and Responsibilities)  
 3. క్రెడిట్ రేటింగ్ రెగ్యులేషన్ (Credit Rating Regulation)  
 4. క్యాష్ రిసర్వ్ రేషియో (Cash Reserve Ratio)

Q.15 'ది ఫిలాసఫీ ఆఫ్ ది బాంబ్ (The philosophy of the bomb)' అనే పుస్తకాన్ని ఎవరు రచించారు?

Ans  1. అల్పనా దత్  
 2. సూర్య సేన్  
 3. భగవతి చరణ్ వోహ్రా  
 4. భగత్ సింగ్

Q.16 2011 జనాభా లెక్కల ప్రకారం \_\_\_\_\_ జనాభాతో హిందువులు 79.80% గా కలరు.

- Ans
- 1. 110 కోట్లకు పైగా
  - 2. 100 కోట్లకు పైగా
  - 3. 90 కోట్లకు పైగా
  - 4. 80 కోట్ల కంటే తక్కువ

Q.17 \_\_\_\_\_లో, ఆల్ ఇండియా కబడ్డీ ఫెడరేషన్ ఉనికిలోకి రావడంతో పాటు ప్రామాణిక నియమాలను సంకలనం చేసింది.

- Ans
- 1. 1952
  - 2. 1953
  - 3. 1950
  - 4. 1951

Q.18 క్రికెట్లో "మెయిడెన్ ఓవర్ (maiden over)" అంటే ఏమిటి?

- Ans
- 1. బౌలర్ ఒక వికెట్ తీసుకున్న ఓవర్
  - 2. ఒక స్పిన్ బౌలర్ వేసిన ఓవర్
  - 3. బ్యాట్స్మన్ పరుగులు చేయని ఓవర్
  - 4. ఆరు డెలివరీలతో ఒక ఓవర్

Q.19 రాజ్యాంగ చట్టం మరియు పౌరుల హక్కుల ద్వారా నిర్దేశించిన పరిమితుల్లో \_\_\_\_\_ ప్రభుత్వం పాలిస్తుంది.

- Ans
- 1. నియంతృత్వ
  - 2. ప్రజాస్వామ్య
  - 3. రాచరిక
  - 4. నిరంకుశత్వ

Q.20 రాజస్థాన్లోని నాగౌర్లో దివంగత నాథూరామ్ మిర్చా విగ్రహాన్ని ఎవరు ఆవిష్కరించారు?

- Ans
- 1. ప్రధాన మంత్రి
  - 2. ఉప రాష్ట్రపతి
  - 3. రాష్ట్రపతి
  - 4. రాజస్థాన్ గవర్నర్

Section : Part-C-Elementary Mathematics

Q.1 One third part of a certain journey is covered at the speed of 22 km/hr, one fourth part at the speed of 33 km/hr and the rest part at the speed of 55 km/hr. What will be the average speed for the whole journey?

- Ans
- 1. 36 km/hr
  - 2. 39 km/hr
  - 3. 33 km/hr
  - 4. 27 km/hr

Q.2  $18 \div (3 + 5) - 2$  ను సూక్ష్మీకరించండి.

- Ans
- 1. 1.9
  - 2. 3.5
  - 3. 0.25
  - 4. 4

Q.3 ఒకవేళ 60 టేబుళ్లను Rs. 14800 లకు కొనుగోలు చేసినట్లైతే, అప్పుడు 20 శాతం లాభాన్ని పొందడానికి Rs.14800 లకు ఎన్ని టేబుళ్లను విక్రయించాలి?

- Ans
- 1. 48
  - 2. 50
  - 3. 54
  - 4. 40

Q.4 ఒకవేళ ఒక చొక్కా యొక్క అమ్మినవెల మరియు కొన్నవెలలు వరుసగా రూ. 1430 మరియు రూ. 1000 అయినట్లైతే, అప్పుడు లాభం శాతం ఎంత?

- Ans
- 1. 37 శాతం
  - 2. 44 శాతం
  - 3. 40 శాతం
  - 4. 43 శాతం

Q.5 R మరియు S లు ఒక పనిని వరుసగా 15 రోజులు మరియు 60 రోజుల్లో పూర్తి చేయగలరు. వారు రోజు విడిచి రోజు ఒక రోజు ఒక్కరే పనిచేస్తారు మరియు R మొదటి రోజు పనిచేస్తారు. మొత్తం పని ఎన్ని రోజుల్లో పూర్తవుతుంది?

- Ans
- 1. 47 రోజులు
  - 2. 25 రోజులు
  - 3. 48 రోజులు
  - 4. 24 రోజులు

Q.6 కొంత సొమ్మును చక్రవడ్డీ (సంవత్సరానికి చక్రీయం చేయబడినట్లయితే)పై పెట్టుబడి పెట్టినప్పుడు అది 2 సంవత్సరాలలో దానికి 3.24 రెట్లు అవుతుంది. వార్షిక వడ్డీ రేటు ఎంత?

- Ans
- 1. 80 శాతం
  - 2. 75 శాతం
  - 3. 60 శాతం
  - 4. 90 శాతం

Q.7 రెండు సంఖ్యల లబ్ధం 3375, మరియు వాటి గ.సా.భా 15. అయిన వాటి క.సా.గు ని కనుగొనండి.

- Ans
- 1. 215
  - 2. 220
  - 3. 250
  - 4. 225

Q.8 ఒకవేళ ఒక సంఖ్య నుండి 60 ను తీసివేస్తే, ఫలిత సంఖ్య ఆ సంఖ్యలో 85 శాతం ఉంటుంది. అయిన ఆ సంఖ్య ఎంత?

- Ans
- 1. 200
  - 2. 400
  - 3. 300
  - 4. 500

Q.9 ఒకవేళ  $A : B = 7 : 4$  అయితే, అప్పుడు  $(A + B) : (A - B)$  యొక్క విలువ ఎంత?

- Ans
- 1. 11 : 3
  - 2. 11 : 6
  - 3. 11 : 5
  - 4. 11 : 4

Q.10 ఎంత బారు వడ్డీ రేటుపై 36 సంవత్సరాలలో కొంత సొమ్ము దానికి మూడు రెట్లు అవుతుంది?

- Ans
- 1. 5.80 శాతం
  - 2. 6.28 శాతం
  - 3. 5.20 శాతం
  - 4. 5.55 శాతం

Q.11 ఒక వస్తువు ముద్రిత వల Rs. 2280. ఒకవేళ 40 శాతం డిస్కాంట్ ఇచ్చినట్లయితే, అప్పుడు వస్తువు యొక్క అమ్మకపు వల ఎంత?

- Ans
- 1. Rs. 1248
  - 2. Rs. 1342
  - 3. Rs. 1368
  - 4. Rs. 1272

Q.12 A మరియు B ల సగటు 30. B మరియు C ల సగటు 60. అయిన C మరియు A ల మధ్య గల వ్యత్యాసం ఎంత?

- Ans
- 1. 48
  - 2. 62
  - 3. 50
  - 4. 60

Q.13 విద్యార్థి రామన్ కంటే విద్యార్థి రాజుకు 30 మార్కులు ఎక్కువ వచ్చాయి మరియు రాజు మార్కులు వారి మార్కుల మొత్తంలో 60 శాతానికి సమానంగా ఉన్నాయి. రాజు మరియు రామన్లకు వరుసగా వచ్చిన మార్కులు ఎన్ని?

- Ans
- 1. 90, 60
  - 2. 100, 70
  - 3. 60, 30
  - 4. 50, 20

Q.14 రెండు సంఖ్యలు 49 : 64 నిష్పత్తిలో కలవు. రెండు సంఖ్యలను 10 పెంచినట్లయితే, అప్పుడు వాటి నిష్పత్తి 54 : 69 అవుతుంది. రెండు సంఖ్యల మధ్య గల వ్యత్యాసం ఎంత?

- Ans
- 1. 60
  - 2. 15
  - 3. 30
  - 4. 95

Q.15 నాలుగు సంఖ్యలలో, మొదటి మూడు సంఖ్యల సగటు 24 మరియు చివరి మూడు సంఖ్యల సగటు 29. ఒకవేళ చివరి సంఖ్య 33 అయితే, మొదటి సంఖ్యను కనుగొనండి.

Ans ✓ 1. 18

✗ 2. 17

✗ 3. 15

✗ 4. 16

Q.16 6 మరియు 29 ల కనిష్ఠ సామాన్య గుణిజం X, 6 మరియు 29 యొక్క గరిష్ఠ సామాన్య భాజకం Y. అయిన  $(X + 4Y)$  యొక్క విలువ ఎంత?

Ans ✓ 1. 178

✗ 2. 190

✗ 3. 244

✗ 4. 180

Q.17 ఒకవేళ ముద్రిత వెలలో 35%, కొన్న వెలలో 45% కి సమానం అయితే, డిస్కాంట్ ఇవ్వని పక్షంలో, లాభ శాతాన్ని కనుగొనండి.

Ans ✗ 1. 33.5%

✗ 2. 22.5%

✓ 3. 28.57%

✗ 4. 27.56%

Q.18 ముగ్గురు స్నేహితులు 5 రోజుల్లో గోడ కట్టగలరు. ఒకవేళ మరో ఇద్దరు స్నేహితులు చేరితే, అదే గోడను పూర్తి చేయడానికి ఎన్ని రోజులు పడుతుంది?

Ans ✗ 1. 4.5 రోజులు

✗ 2. 3.5 రోజులు

✗ 3. 4 రోజులు

✓ 4. 3 రోజులు

Q.19 విలువను కనుగొనండి:  $14 \div (2 \times 2) + 5$

Ans ✗ 1. 7.4

✗ 2. 5.8

✗ 3. 6.3

✓ 4. 8.5

Q.20 వ్యాసార్థం 15 cm మరియు ఎత్తు 8 cm గాగల శంకువు సంపూర్ణతల వైశాల్యం ఎంత?

Ans ✗ 1.  $1624.37 \text{ cm}^2$

✓ 2.  $1508.57 \text{ cm}^2$

✗ 3.  $1413.27 \text{ cm}^2$

✗ 4.  $1396.71 \text{ cm}^2$

Q.1 Select the most appropriate option for the given blank.

Choose the right resolution \_\_\_\_\_ your project.

- Ans
- 1. in
  - 2. by
  - 3. to
  - 4. for

Q.2 Choose the option which is antonym of (opposite of) the word "abase" in the sentence given below:

She couldn't help but smile when he gave her a sincere compliment on her artwork.

- Ans
- 1. compliment
  - 2. help
  - 3. sincere
  - 4. smile

Q.3 Find the part of the given sentence that has an error in it. If there is no error, choose 'No error'.

I saw so much of those peasant carts in your yard.

- Ans
- 1. of those peasant
  - 2. carts in your yard.
  - 3. I saw so much
  - 4. No error

Q.4 Choose the most appropriate antonym of the underlined word.

Russia brandishes the threat of a gas cutoff to squeeze Kiev and coerce Europe.

- Ans
- 1. Force
  - 2. Bully
  - 3. Assist
  - 4. Intimidate

Q.5 Select the word segment that substitutes (replaces) the bracketed word segment correctly and completes the sentence meaningfully. Select the option 'no correction required' if the sentence is correct as given.

(We are used of being) happy together every day, and I can't think of happiness without him.

- Ans
- 1. We are used to being
  - 2. No correction required
  - 3. We were use to being
  - 4. We have used to been

**Q.6** Four sentences are given, out of which three have all correct spellings. Choose the sentence with the incorrect spelt word/ words.

**Ans** ✗ 1. Tommy telephoned a man in Cannes to act as second and McKisco said he wasn't going to be seconded by Campion.

✗ 2. The old man said that what a man wanted was sympathy, and the judge said it was so.

✓ 3. Silas might have driven a profitable trade in charms as well as in his small list of drugs.

✗ 4. That was still the state of things when the car got to the hotel.

**Q.7** Choose the idiom/phrase that can substitute the highlighted group of words meaningfully.

I felt nervous all through the interview, but I replied **as well as was possible** for anyone in the situation.

**Ans** ✗ 1. Run out of steam

✗ 2. Eats like a bird

✗ 3. Through thick and thin

✓ 4. To the best of one's ability

**Q.8** Find the part of the given sentence that has an error in it. If there is no error, choose 'No error'.

I waited for so more years to be with you.

**Ans** ✗ 1. with you

✗ 2. No error

✗ 3. years to be

✓ 4. I waited for so more

**Q.9** Select the most appropriate option for the given blank.

Don't \_\_\_\_\_ your voice at me.

**Ans** ✓ 1. raise

✗ 2. pull

✗ 3. keep

✗ 4. erupt

**Q.10** In the following question, out of the given four alternatives, select the alternative which best expresses the meaning of the Idiom/Phrase.

Full of beans

**Ans** ✗ 1. Very dramatic

✗ 2. Full of secrets

✗ 3. Bad drinking habits

✓ 4. Full of energy and life

**Q.11** Improve the underlined part of the sentence. Choose 'No improvement' as an answer if the sentence is grammatically correct.

We saw a yellow coloured bus full of excited children.

- Ans**
- 1. yellow colouring
  - 2. yellower coloured
  - 3. yellowing coloured
  - 4. No improvement

**Q.12** Select the sentence with no spelling errors.

- Ans**
- 1. Volunteering is linked to beter mental and physical wellbeing.
  - 2. Volunteering is linked to better mental and physical welbeing.
  - 3. Voluntering is linked to better mental and physical wellbeing.
  - 4. Volunteering is linked to better mental and physical wellbeing.

**Q.13** Select the most appropriate word to fill in the blank.

He has to look after his \_\_\_\_\_ aunt.

- Ans**
- 1. ages
  - 2. aged
  - 3. edge
  - 4. age old

**Q.14** Choose the word that means the same as the given word.

Denizen

- Ans**
- 1. Exile
  - 2. Transient
  - 3. Visitor
  - 4. Habitat

**Q.15** Find the part of the given sentence that has an error in it. If there is no error, choose 'No error'.

Governments around the world need to took dramatic action towards massive investments in health, sanitation, and basic income.

- Ans**
- 1. Governments around the world need to
  - 2. took dramatic action towards massive
  - 3. No error
  - 4. investments in health, sanitation, and basic income

**Comprehension:**

Read the passage carefully and select the correct answer for the given blanks out of the four alternatives.

Don't (1)\_\_\_\_\_ guilty for feeling disengaged from the news. It's normal to find it distressing when (2)\_\_\_\_\_ traumatic news stories, or seeing distressing images. This (3)\_\_\_\_\_ technique is called avoidance and explains why so many of us want to switch (4)\_\_\_\_\_ from troubling things. Knowing and accepting that this is a normal (5)\_\_\_\_\_ given the circumstances is the initial step to overcoming compassion fatigue.

**SubQuestion No : 16**

**Q.16** Select the most appropriate option for blank(1)

- Ans**
- 1. bear
  - 2. say
  - 3. feel
  - 4. sense

**Comprehension:**

Read the passage carefully and select the correct answer for the given blanks out of the four alternatives.

Don't (1)\_\_\_\_\_ guilty for feeling disengaged from the news. It's normal to find it distressing when (2)\_\_\_\_\_ traumatic news stories, or seeing distressing images. This (3)\_\_\_\_\_ technique is called avoidance and explains why so many of us want to switch (4)\_\_\_\_\_ from troubling things. Knowing and accepting that this is a normal (5)\_\_\_\_\_ given the circumstances is the initial step to overcoming compassion fatigue.

**SubQuestion No : 17**

**Q.17** Select the most appropriate option for blank(2)

- Ans**
- 1. taunting
  - 2. liberating
  - 3. trapping
  - 4. hearing

**Comprehension:**

Read the passage carefully and select the correct answer for the given blanks out of the four alternatives.

Don't (1)\_\_\_\_\_ guilty for feeling disengaged from the news. It's normal to find it distressing when (2)\_\_\_\_\_ traumatic news stories, or seeing distressing images. This (3)\_\_\_\_\_ technique is called avoidance and explains why so many of us want to switch (4)\_\_\_\_\_ from troubling things. Knowing and accepting that this is a normal (5)\_\_\_\_\_ given the circumstances is the initial step to overcoming compassion fatigue.

**SubQuestion No : 18**

**Q.18** Select the most appropriate option for blank(3)

- Ans**
- 1. condemn
  - 2. coping
  - 3. principal
  - 4. hoping

**Comprehension:**

Read the passage carefully and select the correct answer for the given blanks out of the four alternatives.

Don't (1)\_\_\_\_\_ guilty for feeling disengaged from the news. It's normal to find it distressing when (2)\_\_\_\_\_ traumatic news stories, or seeing distressing images. This (3)\_\_\_\_\_ technique is called avoidance and explains why so many of us want to switch (4)\_\_\_\_\_ from troubling things. Knowing and accepting that this is a normal (5)\_\_\_\_\_ given the circumstances is the initial step to overcoming compassion fatigue.

**SubQuestion No : 19**

**Q.19** Select the most appropriate option for blank(4)

- Ans**
- 1. along
  - 2. away
  - 3. about
  - 4. by

**Comprehension:**

Read the passage carefully and select the correct answer for the given blanks out of the four alternatives.

Don't (1)\_\_\_\_\_ guilty for feeling disengaged from the news. It's normal to find it distressing when (2)\_\_\_\_\_ traumatic news stories, or seeing distressing images. This (3)\_\_\_\_\_ technique is called avoidance and explains why so many of us want to switch (4)\_\_\_\_\_ from troubling things. Knowing and accepting that this is a normal (5)\_\_\_\_\_ given the circumstances is the initial step to overcoming compassion fatigue.

**SubQuestion No : 20**

**Q.20** Select the most appropriate option for blank(5)

- Ans**
- 1. response
  - 2. perseverance
  - 3. comeback
  - 4. caustic

**Section : Part-D-Hindi**

**Q.1** निम्नलिखित प्रश्न में, चार विकल्पों में से, उस विकल्प का चयन करें जो रिक्त स्थान के लिए सही स्त्रीलिंग रूप वाला विकल्प हो।  
हमें किसी भी अधिकारी को \_\_\_\_\_ नहीं देनी चाहिए।

- Ans**
- 1. आईना
  - 2. क्रोध
  - 3. तीर
  - 4. घूस

Q.2 दिए गए वाक्य में रेखांकित शब्द का विलोम शब्द ज्ञात कीजिए।

भारी वस्तु पानी में तैरती है।

- Ans
- ✗ 1. ऊपरी
  - ✗ 2. दौड़ना
  - ✓ 3. डुबती
  - ✗ 4. चलना

Q.3 दिए गए वाक्य का वह भाग ज्ञात करें, जिसमें कोई त्रुटि है।

दोनों चोटियों में से जो चोटी उच्चतम होगी मैं उसी की चढ़ाई करूँगा।

- Ans
- ✗ 1. की चढ़ाई करूँगा।
  - ✗ 2. होगी मैं उसी
  - ✓ 3. जो चोटी उच्चतम
  - ✗ 4. दोनो चोटियों में से

Q.4 दिए गए वाक्य में रेखांकित शब्द के लिए सही वर्तनी ज्ञात कीजिए।

मृतक के घर वाले वहीं मौजूद थे।

- Ans
- ✓ 1. मृतक
  - ✗ 2. मरितक
  - ✗ 3. मरतक
  - ✗ 4. मत्रक

Q.5 निम्नलिखित प्रश्न में, चार विकल्पों में से, उस विकल्प का चयन करें जो कोष्ठक में दिए गए शब्द के पर्यायवाची शब्द का सही विकल्प है।

मेरे घर में सिर्फ एक ही (देवता) \_\_\_\_\_ की पूजा की जाती है।

- Ans
- ✗ 1. याज्ञसेनी
  - ✗ 2. कार्मुक
  - ✓ 3. विबुध
  - ✗ 4. लक्ष्य

Q.6 निम्नलिखित प्रश्न में, चार विकल्पों में से, उस विकल्प का चयन करें जो कोष्ठक में दिए गए शब्द के विलोम शब्द का सही विकल्प है।

मैंने कल ही एक (उपन्यास) \_\_\_\_\_ पढ़ी।

- Ans
- ✗ 1. जानकारी
  - ✗ 2. काव्य
  - ✗ 3. रचना
  - ✓ 4. एकांकी

Q.7 दिए गए शब्द का पर्यायवाची ज्ञात कीजिए।

हिम

- Ans
- ✓ 1. बर्फ
  - ✗ 2. पहाड़
  - ✗ 3. पर्वत
  - ✗ 4. शैलेन्द्र

Q.8 निम्नलिखित प्रश्न में, दिए गए चार विकल्पों में से, उस विकल्प का चयन करें जो दिए गए मुहावरे के अर्थ को सर्वश्रेष्ठ रूप से व्यक्त करता है।

हाथ-पाँव मारना

- Ans
- ✓ 1. प्रयत्न करना
  - ✗ 2. लालच दिखाना
  - ✗ 3. असन्तुष्ट होना
  - ✗ 4. लड़ाई करना

Q.9 दिए गए वाक्यांश के लिए सार्थक शब्द ज्ञात कीजिए।

स्त्री जो कविता लिखती है

- Ans
- ✗ 1. कवियत्री
  - ✗ 2. कवियीत्री
  - ✗ 3. कवियित्री
  - ✓ 4. कवयित्री

Q.10 दिए गए वाक्य में रेखांकित शब्दों के लिए सही शब्दों वाले विकल्प का चयन करें।

हमारा संपर्क अनेकों व्यक्तियों से नित्य होता है।

- Ans
- ✗ 1. हमारा संपर्क अनेक व्यक्ति से नित्य होता है।
  - ✗ 2. हमारा संपर्क अनेकों व्यक्ति से नित्य होता है।
  - ✗ 3. परिवर्तन की आवश्यकता नहीं है।
  - ✓ 4. हमारा संपर्क अनेक व्यक्तियों से नित्य होता है।

Q.11 निम्नलिखित प्रश्न में, चार विकल्पों में से, उस सही विकल्प का चयन करें जो वाक्यांशों के लिए एक शब्द का विकल्प हो।

जो सहनशील न हो

- Ans
- ✗ 1. सहिष्णु
  - ✗ 2. अशोक्य
  - ✗ 3. अशक्य
  - ✓ 4. असहिष्णु

Q.12 दिए गए वाक्य में से निरर्थक शब्द ज्ञात कीजिए।

लाइब्रेरी से फिताब लाकर दीजिए।

- Ans
- ✗ 1. लाइब्रेरी
  - ✓ 2. फिताब
  - ✗ 3. किताब
  - ✗ 4. दीजिए

Q.13 दिए गए वाक्य में रेखांकित शब्द का तत्सम शब्द ज्ञात कीजिए।

भगवान को फूल अर्पित करो।

- Ans
- ✗ 1. पक्ष
  - ✗ 2. प्रिय
  - ✗ 3. पक्षु
  - ✓ 4. पुष्प

Q.14 निम्नलिखित प्रश्न में, दिए गए चार विकल्पों में से, उस विकल्प का चयन करें जो दिए गए मुहावरे के अर्थ को सर्वश्रेष्ठ रूप से व्यक्त करता है।

आटा गीला होना

- Ans
- ✗ 1. स्वार्थ सिद्ध करना
  - ✗ 2. बहकाना
  - ✓ 3. संकट में और संकट का आ जाना
  - ✗ 4. बुरा सोचना

Q.15 निम्नलिखित वाक्य में, उस वाक्यांश को पहचानिए जिसमें मात्राओं या व्याकरण से संबंधित अशुद्धियाँ हैं। यदि कोई गलती नहीं है तो 'कोई त्रुटि नहीं है' का चुनाव कीजिए।  
लोगों को गंदगी के गंभीर परिणामों के बारे में/ बताना होगा, जिससे कि उनको पता चले कि उनके गंदगी फैलाने से/ उनके साथ-साथ पूरे वातावरण ही पर कितना नुकसान होता है।

- Ans
- 1. बताना होगा, जिससे कि उनको पता चले कि उनके गंदगी फैलाने से
  - 2. लोगों को गंदगी के गंभीर परिणामों के बारे में
  - 3. उनके साथ-साथ पूरे वातावरण ही पर कितना नुकसान होता है
  - 4. कोई त्रुटि नहीं है

**Comprehension:**

नीचे दिए गए गद्य में कुछ शब्द छोड़ दिए गए हैं और प्रत्येक रिक्त स्थान के चार विकल्प दिए गए हैं। इन चारों में से कौन सा विकल्प रिक्त स्थान की पूर्ति करेगा-

शहरी इलाकों में आबादी का अधिक (1)\_\_\_\_, वाहनों की ज्यादा संख्या और अधिक आवाजाही के (2)\_\_\_\_ सड़क हादसों का सबसे अधिक (3)\_\_\_\_ ग्रामीण इलाकों में है। एक रिपोर्ट के अनुसार, 2022 में शहरी क्षेत्रों में 54000 लोगों को (4)\_\_\_\_ में जान (5)\_\_\_\_ पड़ी।

**SubQuestion No : 16**

Q.16 रिक्त 1 के लिए सबसे उपयुक्त विकल्प का चयन कीजिए।

- Ans
- 1. घनत्व
  - 2. घना
  - 3. घटना
  - 4. घोर

**Comprehension:**

नीचे दिए गए गद्य में कुछ शब्द छोड़ दिए गए हैं और प्रत्येक रिक्त स्थान के चार विकल्प दिए गए हैं। इन चारों में से कौन सा विकल्प रिक्त स्थान की पूर्ति करेगा-

शहरी इलाकों में आबादी का अधिक (1)\_\_\_\_, वाहनों की ज्यादा संख्या और अधिक आवाजाही के (2)\_\_\_\_ सड़क हादसों का सबसे अधिक (3)\_\_\_\_ ग्रामीण इलाकों में है। एक रिपोर्ट के अनुसार, 2022 में शहरी क्षेत्रों में 54000 लोगों को (4)\_\_\_\_ में जान (5)\_\_\_\_ पड़ी।

**SubQuestion No : 17**

Q.17 रिक्त 2 के लिए सबसे उपयुक्त विकल्प का चयन कीजिए।

- Ans
- 1. परस्पर
  - 2. बावजूद
  - 3. लिए
  - 4. वजह

**Comprehension:**

नीचे दिए गए गद्य में कुछ शब्द छोड़ दिए गए हैं और प्रत्येक रिक्त स्थान के चार विकल्प दिए गए हैं। इन चारों में से कौन सा विकल्प रिक्त स्थान की पूर्ति करेगा-

शहरी इलाकों में आबादी का अधिक (1)\_\_\_\_, वाहनों की ज्यादा संख्या और अधिक आवाजाही के (2)\_\_\_\_ सड़क हादसों का सबसे अधिक (3)\_\_\_\_ ग्रामीण इलाकों में है। एक रिपोर्ट के अनुसार, 2022 में शहरी क्षेत्रों में 54000 लोगों को (4)\_\_\_\_ में जान (5)\_\_\_\_ पड़ी।

**SubQuestion No : 18**

Q.18 रिक्त 3 के लिए सबसे उपयुक्त विकल्प का चयन कीजिए।

- Ans
- 1. परिणाम
  - 2. जोखिम
  - 3. इज्जत
  - 4. कारोबार

**Comprehension:**

नीचे दिए गए गद्य में कुछ शब्द छोड़ दिए गए हैं और प्रत्येक रिक्त स्थान के चार विकल्प दिए गए हैं। इन चारों में से कौन सा विकल्प रिक्त स्थान की पूर्ति करेगा-

शहरी इलाकों में आबादी का अधिक (1)\_\_\_\_, वाहनों की ज्यादा संख्या और अधिक आवाजाही के (2)\_\_\_\_ सड़क हादसों का सबसे अधिक (3)\_\_\_\_ ग्रामीण इलाकों में है। एक रिपोर्ट के अनुसार, 2022 में शहरी क्षेत्रों में 54000 लोगों को (4)\_\_\_\_ में जान (5)\_\_\_\_ पड़ी।

**SubQuestion No : 19**

Q.19 रिक्त 4 के लिए सबसे उपयुक्त विकल्प का चयन कीजिए।

- Ans
- 1. सुविधा
  - 2. दुर्घनाओं
  - 3. सुविचार
  - 4. मंत्रालय

**Comprehension:**

नीचे दिए गए गद्य में कुछ शब्द छोड़ दिए गए हैं और प्रत्येक रिक्त स्थान के चार विकल्प दिए गए हैं। इन चारों में से कौन सा विकल्प रिक्त स्थान की पूर्ति करेगा-

शहरी इलाकों में आबादी का अधिक (1)\_\_\_\_, वाहनों की ज्यादा संख्या और अधिक आवाजाही के (2)\_\_\_\_ सड़क हादसों का सबसे अधिक (3)\_\_\_\_ ग्रामीण इलाकों में है। एक रिपोर्ट के अनुसार, 2022 में शहरी क्षेत्रों में 54000 लोगों को (4)\_\_\_\_ में जान (5)\_\_\_\_ पड़ी।

**SubQuestion No : 20**

Q.20 रिक्त 5 के लिए सबसे उपयुक्त विकल्प का चयन कीजिए।

- Ans
- 1. बचानी
  - 2. गंवानी
  - 3. चलाकी
  - 4. हालात