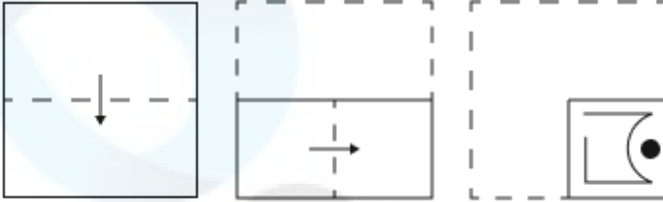


## Constable GD in CAPFs and SSF Rifleman GD in AR and Sepoy in NCB Examination 2025

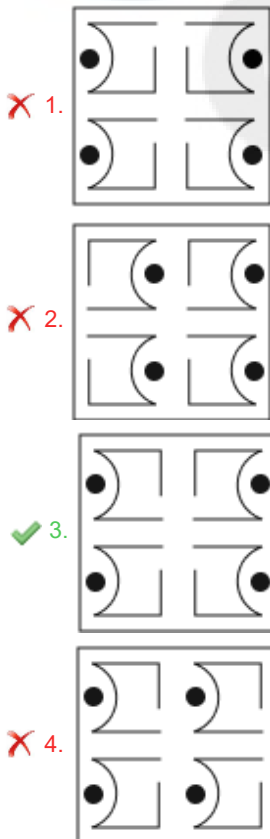
Exam Date	05/02/2025
Exam Time	12:00 PM - 1:00 PM
Subject	Constable GD Examination 2025

### Section : Part-A-General Intelligence and Reasoning

Q.1 A paper is folded and punched as shown below. How will it appear when unfolded?



Ans



Q.2 In a certain code language,

'A + B' means 'A is the daughter of B',  
 'A - B' means 'A is the brother of B',  
 'A × B' means 'A is the wife of B' and  
 'A ÷ B' means 'A is the father of B'.

Based on the above, how is P related to T if 'P + Q ÷ R × S - T'?

- Ans
- ✓ 1. Brother's wife's sister
  - ✗ 2. Wife's sister
  - ✗ 3. Brother's wife's mother
  - ✗ 4. Wife's mother

**Q.3** DSXL is related to FUZN in a certain way based on the English alphabetical order. In the same way, GMUB is related to IOWD. To which of the following is TFON related, following the same logic?

- Ans**
- 1. SEQP
  - 2. VHQP
  - 3. SENM
  - 4. VHNM

**Q.4** What will come in the place of the question mark (?) in the following equation, if '+' and '-' are interchanged and 'x' and '÷' are interchanged?

$$19 + 55 \times 5 - 7 \div 3 = ?$$

- Ans**
- 1. 33
  - 2. 41
  - 3. 29
  - 4. 37

**Q.5** Eight people are sitting in two parallel rows containing 4 people each in such a way that there is equal distance between adjacent persons.

In row 1 – L, M, N and O are seated and all of them are facing south.

In row 2 – P, Q, R and S are seated and all of them are facing north.

Thus, each person faces another person from the other row. Q sits to the immediate right of S. Only two people sit between L and M. S faces L. The one who faces N, sits to the immediate left of P. R does not sit at any of the extreme ends.

Who among the following faces O?

- Ans**
- 1. P
  - 2. S
  - 3. R
  - 4. Q

**Q.6** What should come in place of the question mark (?) in the given series?

878 880 884 890 898 ?

- Ans**
- 1. 904
  - 2. 906
  - 3. 908
  - 4. 910

**Q.7** Select the Venn diagram that best illustrates the relationship between the following classes.

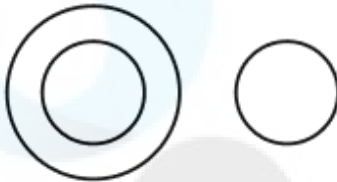
Married, Women, Doctors

Ans

✓ 1.



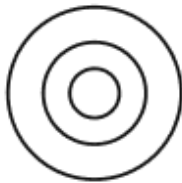
✗ 2.



✗ 3.



✗ 4.



**Q.8** In a certain code language, 'MRGF' is coded as '15-20-9-8' and 'YDXB' is coded as '27-6-26-4'. What is the code for 'JWAS' in the given code language?

Ans ✗ 1. 14-27-5-23

✗ 2. 11-23-2-22

✓ 3. 12-25-3-21

✗ 4. 16-28-6-24

**Q.9** DKSO is related to CIPK in a certain way based on the English alphabetical order. In the same way, LAPZ is related to KYMV. To which of the given options is EYGN related, following the same logic?

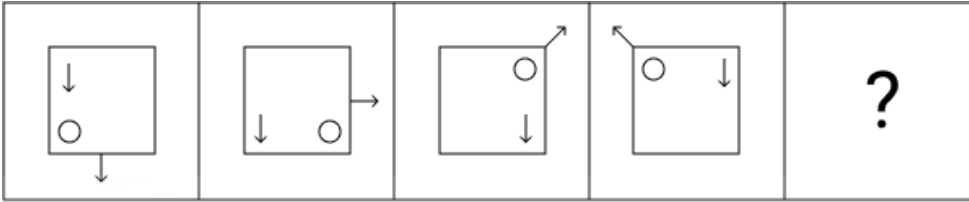
Ans ✗ 1. BWDK

✓ 2. DWDJ

✗ 3. BVDK

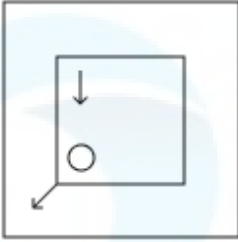
✗ 4. CVCI

**Q.10** Identify the figure given in the options, which when put in place of the question mark (?) will logically complete the series.

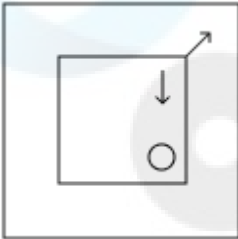


**Ans**

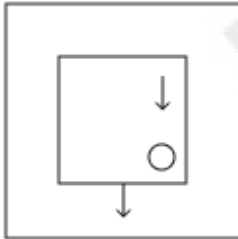
1.



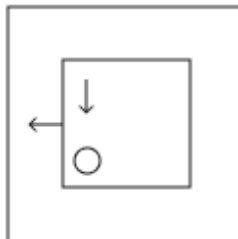
2.



3.



4.



**Q.11** The position(s) of how many letters will remain unchanged if each letter in the word SCRAMBLE is arranged in the English alphabetical order?

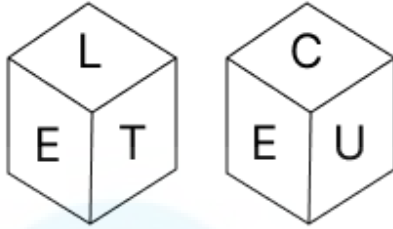
- Ans**
- 1. Three
  - 2. None
  - 3. One
  - 4. Two

**Q.12** What should come in place of the question mark (?) in the given series?

83 95 108 122 137 ?

- Ans**
- 1. 148
  - 2. 153
  - 3. 166
  - 4. 172

Q.13 A dice has its faces marked by letters C, L, A, U, T and E. Two positions of the same dice are shown in the given figures. Which face is opposite to face A?



- Ans
- 1. T
  - 2. E
  - 3. C
  - 4. U

Q.14 Read the given statements and conclusions carefully. Assuming that the information given in the statements is true, even if it appears to be at variance with commonly known facts, decide which of the given conclusions logically follow(s) from the statements.

Statements:

All cars are rabbits.

All rabbits are bananas.

All bananas are lamps.

Conclusions:

(I): All cars are lamps.

(II): Some lamps are rabbits.

- Ans
- 1. Only conclusion (I) follows.
  - 2. Only conclusion (II) follows.
  - 3. Both conclusions (I) and (II) follow.
  - 4. Neither conclusion (I) nor (II) follows.

Q.15 Seven people A, B, C, D, E, F and G are sitting in a straight line facing the north (but not necessarily in the same order). G and C are sitting at the ends of the line not necessarily in the same order. F is sitting to the immediate right of G and the immediate left of D. E is sitting to the immediate right of D. A is sitting second to the right of E. B is sitting second to the left of C. Who is sitting between B and C?

- Ans
- 1. E
  - 2. F
  - 3. A
  - 4. D

Q.16 Select the option that represents the letters that, when sequentially placed from left to right in the blanks below, will complete the letter series.

A \_ \_ F D \_ S G F \_ A \_ \_ F D A S \_ \_ D

- Ans
- 1. SGADGSDF
  - 2. SGADGSGF
  - 3. SGADSGGF
  - 4. SGADAGGF

Q.17 What should come in place of the question mark (?) in the given series based on the English alphabetical order?

GID KMH OQL SUP ?

- Ans
- 1. WYR
  - 2. RWT
  - 3. WYT
  - 4. VXS

Q.18 Based on the English alphabetical order, three of the following four letter-clusters are alike in a certain way and thus form a group. Which letter-cluster DOES NOT belong to that group?

(Note: The odd one out is not based on the number of consonants/vowels or their position in the letter-cluster.)

- Ans
- 1. GKI
  - 2. MQO
  - 3. SWU
  - 4. KON

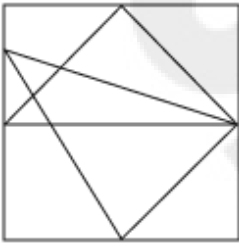
Q.19 Select the option figure in which the given figure (X) is embedded as its part (rotation is NOT allowed).



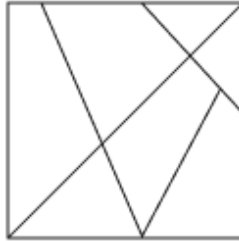
(X)

Ans

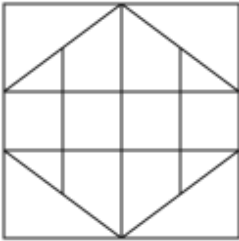
1.



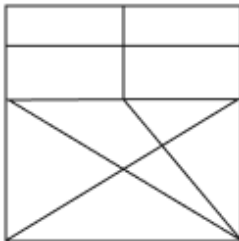
2.



3.



4.



Q.20 In a certain code language, 'WEDS' is coded as '3' and 'MAIUFQX' is coded as '6'. How is 'GIQRBZLA' coded in the given language?

- Ans
- 1. 7
  - 2. 8
  - 3. 5
  - 4. 4

**Q.1** The increased concentration of suspended solids in water and their accumulation on bottoms where they are undesirable, creates what kind of water pollution?

- Ans**
- 1. Siltation
  - 2. Microbiological pollution
  - 3. Nutrient pollution
  - 4. Thermal pollution

**Q.2** Which law is Willebrod Snell's most important contribution to science?

- Ans**
- 1. Law of electrolysis
  - 2. Law of viscosity
  - 3. Law of refraction
  - 4. Law of motion

**Q.3** Which of the following was a new agricultural practice introduced during the Green Revolution?

- Ans**
- 1. Use of traditional seeds
  - 2. Use of modern irrigation techniques
  - 3. Reliance on animal labour
  - 4. Organic farming methods

**Q.4** Which of the following generally form at the upper part of a river?

- Ans**
- 1. Meanders
  - 2. Oxbow lakes
  - 3. Gorges
  - 4. Floodplains

**Q.5** The Attorney General of India provides legal advice to \_\_\_\_\_.

- Ans**
- 1. Governor of the State
  - 2. Chief Minister of the State
  - 3. Union Government
  - 4. Chief Justice of India

**Q.6** What was the pre-determined principle announced in the Union Budget for 2018-19 regarding the Minimum Support Price (MSP) for the principal crops in India?

- Ans**
- 1. 50 per cent less than the cost of production
  - 2. One-and-a-half times the cost of production
  - 3. Equal to the cost of production
  - 4. Double the cost of production

**Q.7** In which month does the Rann Utsav start at Kachchh, Gujarat?

- Ans**
- 1. April
  - 2. November
  - 3. February
  - 4. May

**Q.8** The Government of India Act, 1935 provided for how many lists of divisions of power between the federation (central government) and provinces?

- Ans**
- 1. One list
  - 2. Four lists
  - 3. Two lists
  - 4. Three lists

**Q.9** In which sport does the “Timed Out” rule apply?

- Ans**
- 1. Wrestling
  - 2. Badminton
  - 3. Cricket
  - 4. Judo

**Q.10** The Union Cabinet chaired by Prime Minister, approved which scheme to promote sustainable agriculture and to achieve food security for self sufficiency in October 2024?

- Ans**
- 1. National Mission on Agricultural Extension and Technology
  - 2. National Mission on Oilseeds and Oil Palm
  - 3. National Food Security Mission
  - 4. PM Rashtriya Krishi Vikas Yojana

**Q.11** As per Census 2011, which of the following northern states has the highest literacy rate?

- Ans**
- 1. Haryana
  - 2. Uttarakhand
  - 3. Punjab
  - 4. Himachal Pradesh

**Q.12** According to the Vishnu Purana, who was Chandragupta Maurya's mother?

- Ans**
- 1. The wife of a Nanda king
  - 2. Mura, daughter of a hunter
  - 3. A Greek noblewoman
  - 4. Subhadrangi, daughter of a Brahmin

**Q.13** The President of India, Droupadi Murmu, was previously the Governor of \_\_\_\_\_.

- Ans**
- 1. Jharkhand
  - 2. Odisha
  - 3. Uttar Pradesh
  - 4. Assam

**Q.14** Padmashree Mukund Nayak was honoured with the Sangeet Natak Akademi Award 2017 for which of the following categories?

- Ans**
- 1. Folk music
  - 2. Qawwali
  - 3. Carnatic music
  - 4. Hindustani classical music

**Q.15** When was the First Five-Year Plan launched in India?

- Ans**
- 1. 1951
  - 2. 1956
  - 3. 1950
  - 4. 1947

**Q.16** What is the standard width of the field in an international hockey match?

- Ans**
- 1. 45 m
  - 2. 55 m
  - 3. 50 m
  - 4. 60 m

**Q.17** Which classical dance form originated in Kuchelapuram village of Krishna district?

- Ans**
- 1. Kathakali
  - 2. Mohiniattam
  - 3. Kuchipudi
  - 4. Kathak

**Q.18** 87-year-old Ramlal Bareth, the only surviving Kathak Dancer of Raigarh court, was awarded with which of the following awards in 2024?

- Ans**
- 1. Padma Vibhushan
  - 2. Sahitya Academy Award
  - 3. Padma Shri
  - 4. Padma Bhushan

**Q.19** The Quit India Resolution was passed during which session of the Indian National Congress?

- Ans**
- 1. Calcutta Session
  - 2. Bombay Session
  - 3. Karachi Session
  - 4. Lahore Session

**Q.20** According to Census 2011, in which State is the difference in the male and female literacy rates the highest?

- Ans**
- 1. Rajasthan
  - 2. Bihar
  - 3. Jharkhand
  - 4. Madhya Pradesh

Section : Part-C-Elementary Mathematics

**Q.1** Mahesh has ₹1617 with him. He divided it amongst his sons Vijay and Ajay and asked them to invest it at 10% rate of interest compounded annually. It was seen that Vijay and Ajay got same amount after 15 and 16 years respectively. How much (in ₹) did Mahesh give to Vijay?

- Ans**
- 1. 847
  - 2. 697
  - 3. 870
  - 4. 770

**Q.2** The average age of 30 students in a group is 18 years. When the teacher's age is included, the average age of the group increases by 1 year. What is the teacher's age (in years)?

- Ans**
- 1. 49
  - 2. 56
  - 3. 40
  - 4. 45

**Q.3** A dishonest shopkeeper promises to sell his goods at cost price. However, he uses a weight that actually weighs 21% less than what is written on it. Find his profit percentage.

- Ans**
- 1.  $27\frac{47}{79}\%$
  - 2.  $26\frac{46}{79}\%$
  - 3.  $25\frac{46}{79}\%$
  - 4.  $28\frac{92}{79}\%$

**Q.4** A and B are two stations 370 km apart. A train starts from station A at 9:00 A.M. and travels towards station B at a speed of 20 km/hr. Another train starts from station B at 10:00 A.M. and travels towards station A at a speed of 50 km per/hr. At what time do they meet?

- Ans**
- 1. 3:00 P.M.
  - 2. 2:30 P.M.
  - 3. 2:00 P.M.
  - 4. 1:00 P.M.

**Q.5** LCM and HCF of two numbers are 168 and 6 respectively. If one of the numbers is 24, then find the other number.

- Ans**
- 1. 45
  - 2. 42
  - 3. 40
  - 4. 44

**Q.6** Find the value of  $\left[ (44 \div 4) \times \left\{ \frac{48}{8} + \frac{21}{5} \times (7 - 2) \right\} \right]$

- Ans**
- 1. 296
  - 2. 299
  - 3. 313
  - 4. 297

**Q.7** The population of a district is 369000, out of which 186000 are males. 45% of the population is literate. If 45% males are literate, then what percentage of females are literate?

- Ans**
- 1. 44%
  - 2. 46%
  - 3. 45%
  - 4. 47%

**Q.8** What will be the volume (V) of the cuboid, if its length is doubled, height is halved and breadth is tripled?

- Ans**
- 1. 4V
  - 2. 2V
  - 3. 6V
  - 4. 3V

Q.9 The average weight of Anwar, Amit and Gopal is 45 kg. If the average weight of Anwar and Amit be 43 kg and that of Amit and Gopal be 42 kg, then the weight of Amit (in kg) is:

- Ans
- 1. 35
  - 2. 45
  - 3. 55
  - 4. 50

Q.10 Evaluate:  $32 \div 8 \times 3 - 3 \times 3$

- Ans
- 1. 5
  - 2. 2
  - 3. 6
  - 4. 3

Q.11 Amit invests a sum of ₹5400 and Gopal invests a sum of ₹9400 at the same rate of simple interest per annum. If, at the end of 6 years, Gopal gets ₹960 more interest than Amit, then find the rate of interest per annum (in percentage).

- Ans
- 1. 6
  - 2. 3
  - 3. 4
  - 4. 2

Q.12 The price of a shirt is first increased by 15% and then decreased by 12%, and again increased by 8%. Find the net increase or decrease percentage (correct to one decimal place) in the price of the shirt.

- Ans
- 1. Increase of 10.6%
  - 2. Increase of 9.3%
  - 3. Decrease of 10.6%
  - 4. Decrease of 9.3%

Q.13 Find the value of  $\left[ (91 \div 7) \times \left\{ \frac{64}{4} + \frac{17}{6} \times (8 - 2) \right\} \right]$

- Ans
- 1. 434
  - 2. 447
  - 3. 432
  - 4. 429

Q.14 Two trains having lengths of 170 m and 480 m are running at speeds of 70 km/h and 80 km/h, respectively, in the same direction. The time taken (in minutes) by the faster train, coming from behind, to completely cross the other train is:

- Ans
- 1. 4
  - 2. 4.2
  - 3. 5
  - 4. 3.9

Q.15 To do a certain work, A and B work on alternate days with B beginning the work on the first day.

A alone can complete the same work in 22 days. If the work gets completed in  $11\frac{1}{2}$  days, then B alone

can complete  $\frac{3}{4}$ th part of the original work in:

- Ans
- 1. eight days
  - 2. seven days
  - 3. six days
  - 4. nine days

Q.16 Divide ₹4,800 among Ram, Shyam and Kartik in the ratio of 4 : 8 : 3. Find the amount received by Shyam.

- Ans
- 1. ₹1,850
  - 2. ₹1,680
  - 3. ₹2,270
  - 4. ₹2,560

Q.17 If F1 and F2 are the fourth proportional to  $\frac{2}{7}$ ,  $\frac{7}{12}$ , 8 and  $\frac{5}{6}$ ,  $\frac{4}{3}$ , 10, respectively, then what is F1 : F2?

- Ans
- 1. 16 : 9
  - 2. 49 : 48
  - 3. 49 : 16
  - 4. 25 : 16

Q.18 Manoj has ₹1612 with him. He divided it amongst his sons Anand and Anil and asked them to invest it at 8% rate of interest compounded annually. It was seen that Anand and Anil got same amount after 13 and 14 years respectively. How much (in ₹) did Manoj give to Anand?

- Ans
- 1. 875
  - 2. 775
  - 3. 687
  - 4. 837

Q.19 A shopkeeper bought an article for ₹500. At what price (in ₹) should he sell the article to make 28% profit?

- Ans
- 1. 628
  - 2. 652
  - 3. 640
  - 4. 360

Q.20 A dealer marks 20% above the cost price and allows a 20% discount. What is the profit or loss per cent?

- Ans
- 1. Loss of 4%
  - 2. Profit of 1%
  - 3. Loss of 1%
  - 4. Profit of 4%

Section : Part-D-English

Q.1 Fill in the blank with the most appropriate synonym of the word in brackets in the following sentence.

In that case, a gentle chemical peel from a dermatologist may \_\_\_\_\_ up (hasten) improvement.

- Ans
- 1. loiter
  - 2. delay
  - 3. speed
  - 4. stall

**Q.2** Select the option that best defines the given word.

**Apportion**

- Ans**
- 1. To confess
  - 2. To allocate
  - 3. To request
  - 4. To complicate

**Q.3** Select the word that best completes the given sentence. Determine the collocation through the sentence.

Santra took a deep breath before \_\_\_\_\_ onto the stage to deliver her speech.

- Ans**
- 1. stuck
  - 2. hit
  - 3. made
  - 4. stepping

**Q.4** Select the appropriate ANTONYM of the given word.

**Opaque**

- Ans**
- 1. Cloudy
  - 2. Transparent
  - 3. Dull
  - 4. Dark

**Q.5** Select the most appropriate synonym of the highlighted word.

You need to have at least a rudimentary understanding of technology before you can upload a video on website.

- Ans**
- 1. primitive
  - 2. exquisite
  - 3. creative
  - 4. mysterious

**Q.6** Select the most appropriate idiom that can substitute the underlined segment in the given sentence.

Her explanation was so convoluted that it left everyone confused.

- Ans**
- 1. scratching their heads
  - 2. turning a blind eye
  - 3. stealing the show
  - 4. biting the bullet

**Q.7** Select the most appropriate option that can substitute the underlined segment in the given sentence.

Each of the two farmers wants the certified seeds but neither have any papers.

- Ans**
- 1. But neither has any papers
  - 2. But either has any papers
  - 3. Yet neither has many papers
  - 4. Yet none has many papers

**Q.8** Select the most appropriate idiom that refers to the underlined segment in the given sentence.

The agents are struck in a difficult circumstance with no escape at all.

- Ans
- 1. To go to the dogs
  - 2. Back against the wall
  - 3. To give currency
  - 4. To give one a long rope

**Q.9** Identify the sentence with the INCORRECT usage of adverb.

- Ans
- 1. Mohan could usually make out the distant figure.
  - 2. Mohan could barely make out the distant figure.
  - 3. Mohan could make out barely the distant figure.
  - 4. Mohan could often make out the distant figure.

**Q.10** Select the INCORRECTLY spelt word in the following sentence.  
"I can't believe I recieved such a beautiful gift."

- Ans
- 1. such
  - 2. gift
  - 3. recieved
  - 4. believe

**Q.11** Parts of the following sentence have been given as options. Select the option that contains an error.

'The rain fell heavy and caused flooding in the streets'.

- Ans
- 1. and caused flooding
  - 2. in the streets
  - 3. fell heavy
  - 4. The rain

**Q.12** Select the most appropriate synonym of the given word.

**Dodge**

- Ans
- 1. Display
  - 2. Trick
  - 3. Panic
  - 4. Opine

**Q.13** Select the most appropriate word segment that rectifies the bracketed word segment and complete the given sentence meaningfully.

It took quite (few some time) to finish the project.

- Ans
- 1. some time
  - 2. time
  - 3. some a time
  - 4. a time some

**Q.14** Select the most appropriate idiom to substitute the underlined phrase in the given sentence.

When it comes to negotiations, he knows how to act in a way that maximises his advantages and get the best deal.

- Ans
- 1. play it safe
  - 2. play it by air
  - 3. play his cards right
  - 4. play it by the ear

**Q.15** Identify the INCORRECTLY spelt word in the given sentence.

The report was filled with spurious data and ambiguous conclusions, making it untenable to rely on.

- Ans**
- 1. conclusions
  - 2. untenable
  - 3. ambiguous
  - 4. spurious

**Comprehension:**

In the following passage, some words have been deleted. Read the passage carefully and select the most appropriate option to fill in each blank.

Sarah and Tom love to go to the park (1) \_\_\_\_\_ weekends. Last Sunday, they (2) \_\_\_\_\_ a picnic basket with sandwiches, fruit, and juice. They (3) \_\_\_\_\_ a blanket to sit on and a frisbee to play with. As soon as (4) \_\_\_\_\_ at the park, Sarah spread the blanket on the green grass. They enjoyed their sandwiches and had juicy oranges. After eating, (5) \_\_\_\_\_ to play with the frisbee.

**SubQuestion No : 16**

**Q.16** Select the most appropriate option to fill in blank no. 1.

- Ans**
- 1. on
  - 2. before
  - 3. during
  - 4. in

**Comprehension:**

In the following passage, some words have been deleted. Read the passage carefully and select the most appropriate option to fill in each blank.

Sarah and Tom love to go to the park (1) \_\_\_\_\_ weekends. Last Sunday, they (2) \_\_\_\_\_ a picnic basket with sandwiches, fruit, and juice. They (3) \_\_\_\_\_ a blanket to sit on and a frisbee to play with. As soon as (4) \_\_\_\_\_ at the park, Sarah spread the blanket on the green grass. They enjoyed their sandwiches and had juicy oranges. After eating, (5) \_\_\_\_\_ to play with the frisbee.

**SubQuestion No : 17**

**Q.17** Select the most appropriate option to fill in blank no. 2.

- Ans**
- 1. packed
  - 2. gathered
  - 3. arranged
  - 4. accumulated

**Comprehension:**

In the following passage, some words have been deleted. Read the passage carefully and select the most appropriate option to fill in each blank.

Sarah and Tom love to go to the park (1) \_\_\_\_\_ weekends. Last Sunday, they (2) \_\_\_\_\_ a picnic basket with sandwiches, fruit, and juice. They (3) \_\_\_\_\_ a blanket to sit on and a frisbee to play with. As soon as (4) \_\_\_\_\_ at the park, Sarah spread the blanket on the green grass. They enjoyed their sandwiches and had juicy oranges. After eating, (5) \_\_\_\_\_ to play with the frisbee.

**SubQuestion No : 18**

**Q.18** Select the most appropriate option to fill in blank no. 3.

- Ans**
- 1. brought
  - 2. manage
  - 3. buy
  - 4. arrange

**Comprehension:**

In the following passage, some words have been deleted. Read the passage carefully and select the most appropriate option to fill in each blank.

Sarah and Tom love to go to the park (1) \_\_\_\_\_ weekends. Last Sunday, they (2) \_\_\_\_\_ a picnic basket with sandwiches, fruit, and juice. They (3) \_\_\_\_\_ a blanket to sit on and a frisbee to play with. As soon as (4) \_\_\_\_\_ at the park, Sarah spread the blanket on the green grass. They enjoyed their sandwiches and had juicy oranges. After eating, (5) \_\_\_\_\_ to play with the frisbee.

**SubQuestion No : 19**

Q.19 Select the most appropriate option to fill in blank no. 4.

- Ans
- 1. they was arrive
  - 2. they arrive
  - 3. they arrived
  - 4. they had arrive

**Comprehension:**

In the following passage, some words have been deleted. Read the passage carefully and select the most appropriate option to fill in each blank.

Sarah and Tom love to go to the park (1) \_\_\_\_\_ weekends. Last Sunday, they (2) \_\_\_\_\_ a picnic basket with sandwiches, fruit, and juice. They (3) \_\_\_\_\_ a blanket to sit on and a frisbee to play with. As soon as (4) \_\_\_\_\_ at the park, Sarah spread the blanket on the green grass. They enjoyed their sandwiches and had juicy oranges. After eating, (5) \_\_\_\_\_ to play with the frisbee.

**SubQuestion No : 20**

Q.20 Select the most appropriate option to fill in blank no. 5.

- Ans
- 1. they had decide
  - 2. everyone decide
  - 3. they decided
  - 4. they all decide

**Section : Part-D-Hindi**

Q.1 'मैं बीमार हूँ, इसलिए कार्यालय नहीं जा सकता।' निम्नलिखित विकल्पों में से इस वाक्य के लिए कौन सा एक उचित सरल वाक्य होगा?

- Ans
- 1. मैं कार्यालय नहीं जा सका बीमारी के कारण।
  - 2. बीमार होने के कारण मैं कार्यालय नहीं जा सका।
  - 3. मैं बीमार था इसलिए कार्यालय नहीं जा सका।
  - 4. मैं नहीं जा सका बीमारी होने के कारण।

Q.2 वाक्य के रेखांकित शब्दों के आधार पर बताइए कि किस विकल्प में पुल्लिंग शब्द का प्रयोग नहीं हुआ है-

- Ans
- 1. पुराने पीपल के पेड़ पर चुड़ैल रहती है यह अच्छा मज़ाक है।
  - 2. राजा-रजवाड़े चाँदी के बर्तनों में खाना खाते थे।
  - 3. मेरी मोती की माला टूट गई।
  - 4. नदी की धारा बहती है।

Q.3 'माली ने पौधों को पानी देने से मना कर दिया।'

सर्वाधिक उपयुक्त विकल्प चुनकर वाक्य के रेखांकित अंश को बदलें-

- Ans
- 1. सींचने
  - 2. पानी गिरना
  - 3. पानी उड़ेलने
  - 4. भिगोने

Q.4 दिए गए वाक्य में त्रुटि पहचानें। दूध में थोड़ा पड़ गया है।

- Ans
- 1. थोड़ा
  - 2. दूध
  - 3. पड़
  - 4. गया

Q.5 'अपने को धोखा देने वाला' वाक्यांश के लिए इनमें से उपयुक्त शब्द कौन-सा है?

- Ans
- 1. आत्मश्लाघा
  - 2. आत्मवंचक
  - 3. आत्मपीड़क
  - 4. आत्मवादी

Q.6 ईश्वर में विश्वास न रखने वालों को समाज नास्तिक कहता है। वाक्य में प्रयुक्त नास्तिक का विलोमार्थी शब्द है।

- Ans
- 1. आस्तिक
  - 2. अनासक्त
  - 3. विश्वासपात्र
  - 4. नास्तिक

Q.7 'अपने स्थान पर अचल रहने वाला' वाक्यांश के लिए सार्थक शब्द इनमें से कौन-सा है?

- Ans
- 1. बुध
  - 2. ध्रुव
  - 3. मंगल
  - 4. शुक

Q.8 निम्नलिखित वाक्य को ध्यानपूर्वक पढ़ें और वाक्य में प्रयुक्त त्रुटिपूर्ण शब्द की पहचान करें।

कहानी हमारे व्यक्तित्व को एक दर्पण की भांति हमारे सामने प्रेशित करती है

- Ans
- 1. प्रेशित
  - 2. दर्पण
  - 3. कहानी
  - 4. व्यक्तित्व

Q.9 निम्नलिखित वाक्य में वर्तनी संबंधी त्रुटि की पहचान कर शुद्ध वाक्य का चयन करें?

गर्मी में हम शिमला घूमने जाएंगे।

- Ans
- 1. गमी मे हम शिमला घूमने जाएगे।
  - 2. गर्मि में हम शिमला घूमने जाएंगे।
  - 3. गर्मी में हम शिमला पर घुमने जाएं।
  - 4. गर्मियों में हम शिमला घूमने जाएंगे।

Q.10 कौन-सा शब्द 'वसंत' का विलोम है ?

- Ans
- 1. मुखर
  - 2. पतझर
  - 3. साकार
  - 4. पुरस्कार

Q.11 'समतल' के लिए उपयुक्त विलोम शब्द है-

- Ans
- 1. ढाल
  - 2. सीधा
  - 3. समान
  - 4. धरती

Q.12 'मेरी किताब मेरी मित्र प्रिया के पास है।' वाक्य में प्रयुक्त कौन सा शब्द विदेशज है ?

- Ans
- 1. प्रिया
  - 2. मित्र
  - 3. पास
  - 4. किताब

Q.13 निम्नांकित मुहावरे के रिक्त स्थान के लिए सर्वाधिक उपयुक्त शब्द कौन-सा है?

अपनी खिचड़ी अलग \_\_\_\_\_।

- Ans
- 1. पीना
  - 2. खाना
  - 3. बनाना
  - 4. पकाना

Q.14 'परलोक' का विलोम शब्द है-

- Ans
- 1. पारलौकिक
  - 2. इहलोक
  - 3. सांसारिक
  - 4. अलौकिक

Q.15 'मुझे आये इतनी देर हो गयी, अब तक \_\_\_\_\_।'

उपरोक्त वाक्य पूर्ण करने के लिए उचित सार्थक और निरर्थक शब्द-युग्म वाले विकल्प का चयन करें-

- Ans
- 1. किसी ने पानी-शरबत भी नहीं दिया।
  - 2. किसी ने चाय-बिस्कुट तक नहीं मिला।
  - 3. किसी ने चाय-वाय भी नहीं पूछा।
  - 4. किसी ने दाना-पानी भी नहीं पूछा।

#### Comprehension:

निम्नलिखित गद्यांश को पढ़कर प्रश्नों के उत्तर दीजिए-

हमारा यह \_\_\_1\_\_\_ नौसिखुआ नहीं है उसके ज्ञान-विज्ञान का \_\_\_1\_\_\_ विशाल है। उसके खोहों और भग्नावशेष में प्रेरणा का समुद्र लहरा रहा है। यह हमारा परम सौभाग्य है की जड़ तत्वों के इतने \_\_\_2\_\_\_ हमारी साधना के लिए देश के \_\_\_2\_\_\_ में बिखरे पड़े हैं। अन्य किसी भी देश को शायद ही इतनी परिपूर्ण साधन-सामग्री प्राप्त हो। यदि हम \_\_\_3\_\_\_ के साथ इस संपूर्ण सामग्री का उपयोग \_\_\_3\_\_\_ के लिए करें, तभी कल्याण है। केवल इन सामग्रियों को ही लक्ष्य मान लेना गलती है। इनके \_\_\_4\_\_\_ से सिद्धि नहीं मिलेगी, यद्यपि इनकी सूक्ष्म और \_\_\_4\_\_\_ जानकारी परम आवश्यक है। प्राचीनता का अध्ययन \_\_\_5\_\_\_ है। उसमें पग-पग पर सावधानी की आवश्यकता है, प्रतिक्षण अपने लक्ष्य को याद रखने की आवश्यकता है और सदा-सर्वदा कठोर \_\_\_5\_\_\_ साहस का होना जरूरी है।

#### SubQuestion No : 16

Q.16 हमारा यह \_\_\_1\_\_\_ नौसिखुआ नहीं है उसके ज्ञान-विज्ञान का \_\_\_1\_\_\_ विशाल है। उसके खोहों और भग्नावशेषों में प्रेरणा का समुद्र लहरा रहा है। प्रस्तुत अप्रत्यक्ष गद्य लेखन के आधार पर निम्नलिखित वाक्य में रिक्त स्थान 1 में उचित शब्दों का प्रयोग कीजिए

- Ans
- 1. विश्व/नाटक
  - 2. देश/ इतिहास
  - 3. भारत/अकारण
  - 4. नियति/दशा

**Comprehension:**

निम्नलिखित गद्यांश को पढ़कर प्रश्नों के उत्तर दीजिए-

हमारा यह \_\_\_1\_\_\_ नौसिखुआ नहीं है उसके ज्ञान-विज्ञान का \_\_\_1\_\_\_ विशाल है। उसके खोहों और भग्नावशेष में प्रेरणा का समुद्र लहरा रहा है। यह हमारा परम सौभाग्य है की जड़ तत्वों के इतने \_\_\_2\_\_\_ हमारी साधना के लिए देश के \_\_\_2\_\_\_ में बिखरे पड़े हैं। अन्य किसी भी देश को शायद ही इतनी परिपूर्ण साधन-सामग्री प्राप्त हो। यदि हम \_\_\_3\_\_\_ के साथ इस संपूर्ण सामग्री का उपयोग \_\_\_3\_\_\_ के लिए करें, तभी कल्याण है। केवल इन सामग्रियों को ही लक्ष्य मान लेना गलती है। इनके \_\_\_4\_\_\_ से सिद्धि नहीं मिलेगी, यद्यपि इनकी सूक्ष्म और \_\_\_4\_\_\_ जानकारी परम आवश्यक है। प्राचीनता का अध्ययन \_\_\_5\_\_\_ है। उसमें पग-पग पर सावधानी की आवश्यकता है, प्रतिक्षण अपने लक्ष्य को याद रखने की आवश्यकता है और सदा-सर्वदा कठोर \_\_\_5\_\_\_ साहस का होना जरूरी है।

**SubQuestion No : 17**

Q.17 यह हमारा परम सौभाग्य है की जड़ तत्वों के इतने \_\_\_2\_\_\_ हमारी साधना के लिए देश के \_\_\_2\_\_\_ में बिखरे पड़े हैं। अन्य किसी भी देश को शायद ही इतनी परिपूर्ण साधन-सामग्री प्राप्त हो। प्रस्तुत अप्रत्यक्ष गद्य लेखन के आधार पर निम्नलिखित वाक्य में रिक्त स्थान 2 में उचित शब्दों का प्रयोग कीजिए

- Ans
- 1. उम्मीद/स्वास्थ्य
  - 2. परिपूर्णसंघात/कोने-कोने
  - 3. क्रूर/आसपास
  - 4. आलोचना/सम्भावना

**Comprehension:**

निम्नलिखित गद्यांश को पढ़कर प्रश्नों के उत्तर दीजिए-

हमारा यह \_\_\_1\_\_\_ नौसिखुआ नहीं है उसके ज्ञान-विज्ञान का \_\_\_1\_\_\_ विशाल है। उसके खोहों और भग्नावशेष में प्रेरणा का समुद्र लहरा रहा है। यह हमारा परम सौभाग्य है की जड़ तत्वों के इतने \_\_\_2\_\_\_ हमारी साधना के लिए देश के \_\_\_2\_\_\_ में बिखरे पड़े हैं। अन्य किसी भी देश को शायद ही इतनी परिपूर्ण साधन-सामग्री प्राप्त हो। यदि हम \_\_\_3\_\_\_ के साथ इस संपूर्ण सामग्री का उपयोग \_\_\_3\_\_\_ के लिए करें, तभी कल्याण है। केवल इन सामग्रियों को ही लक्ष्य मान लेना गलती है। इनके \_\_\_4\_\_\_ से सिद्धि नहीं मिलेगी, यद्यपि इनकी सूक्ष्म और \_\_\_4\_\_\_ जानकारी परम आवश्यक है। प्राचीनता का अध्ययन \_\_\_5\_\_\_ है। उसमें पग-पग पर सावधानी की आवश्यकता है, प्रतिक्षण अपने लक्ष्य को याद रखने की आवश्यकता है और सदा-सर्वदा कठोर \_\_\_5\_\_\_ साहस का होना जरूरी है।

**SubQuestion No : 18**

Q.18 यदि हम \_\_\_3\_\_\_ के साथ इस संपूर्ण सामग्री का उपयोग \_\_\_3\_\_\_ के लिए करें, तभी कल्याण है। प्रस्तुत अप्रत्यक्ष गद्य लेखन के आधार पर निम्नलिखित वाक्य में रिक्त स्थान 3 में उचित शब्दों का प्रयोग कीजिए

- Ans
- 1. करुणा/दया
  - 2. निष्ठा और प्रेम/ भविष्य-निर्माण
  - 3. श्रद्धा और भक्ति/प्रेम
  - 4. असहज/संकुचित

**Comprehension:**

निम्नलिखित गद्यांश को पढ़कर प्रश्नों के उत्तर दीजिए-

हमारा यह \_\_\_1\_\_\_ नौसिखुआ नहीं है उसके ज्ञान-विज्ञान का \_\_\_1\_\_\_ विशाल है। उसके खोहों और भग्नावशेष में प्रेरणा का समुद्र लहरा रहा है। यह हमारा परम सौभाग्य है की जड़ तत्वों के इतने \_\_\_2\_\_\_ हमारी साधना के लिए देश के \_\_\_2\_\_\_ में बिखरे पड़े हैं। अन्य किसी भी देश को शायद ही इतनी परिपूर्ण साधन-सामग्री प्राप्त हो। यदि हम \_\_\_3\_\_\_ के साथ इस संपूर्ण सामग्री का उपयोग \_\_\_3\_\_\_ के लिए करें, तभी कल्याण है। केवल इन सामग्रियों को ही लक्ष्य मान लेना गलती है। इनके \_\_\_4\_\_\_ से सिद्धि नहीं मिलेगी, यद्यपि इनकी सूक्ष्म और \_\_\_4\_\_\_ जानकारी परम आवश्यक है। प्राचीनता का अध्ययन \_\_\_5\_\_\_ है। उसमें पग-पग पर सावधानी की आवश्यकता है, प्रतिक्षण अपने लक्ष्य को याद रखने की आवश्यकता है और सदा-सर्वदा कठोर \_\_\_5\_\_\_ साहस का होना जरूरी है।

**SubQuestion No : 19**

Q.19 सामग्रियों को ही लक्ष्य मान लेना गलती है। इनके \_\_\_4\_\_\_ से सिद्धि नहीं मिलेगी, यद्यपि इनकी सूक्ष्म और \_\_\_4\_\_\_ जानकारी परम आवश्यक है। प्रस्तुत अप्रत्यक्ष गद्य लेखन के आधार पर निम्नलिखित वाक्य में रिक्त स्थान 4 में उचित शब्दों का प्रयोग कीजिए

- Ans
- 1. यहाँ/जहाँ
  - 2. जैसा/निराला
  - 3. कृपा/प्रतिभावान
  - 4. ज्ञान-मात्र/ ठीक-ठीक

**Comprehension:**

निम्नलिखित गद्यांश को पढ़कर प्रश्नों के उत्तर दीजिए-

हमारा यह \_\_\_1\_\_\_ नौसिखुआ नहीं है उसके ज्ञान-विज्ञान का \_\_\_1\_\_\_ विशाल है। उसके खोहों और भग्नावशेष में प्रेरणा का समुद्र लहरा रहा है। यह हमारा परम सौभाग्य है की जड़ तत्वों के इतने \_\_\_2\_\_\_ हमारी साधना के लिए देश के \_\_\_2\_\_\_ में बिखरे पड़े हैं। अन्य किसी भी देश को शायद ही इतनी परिपूर्ण साधन-सामग्री प्राप्त हो। यदि हम \_\_\_3\_\_\_ के साथ इस संपूर्ण सामग्री का उपयोग \_\_\_3\_\_\_ के लिए करें, तभी कल्याण है। केवल इन सामग्रियों को ही लक्ष्य मान लेना गलती है। इनके \_\_\_4\_\_\_ से सिद्धि नहीं मिलेगी, यद्यपि इनकी सूक्ष्म और \_\_\_4\_\_\_ जानकारी परम आवश्यक है। प्राचीनता का अध्ययन \_\_\_5\_\_\_ है। उसमें पग-पग पर सावधानी की आवश्यकता है, प्रतिक्षण अपने लक्ष्य को याद रखने की आवश्यकता है और सदा-सर्वदा कठोर \_\_\_5\_\_\_ साहस का होना जरूरी है।

**SubQuestion No : 20**

Q.20 प्राचीनता का अध्ययन \_\_\_5\_\_\_ है। उसमें पग-पग पर सावधानी की आवश्यकता है, प्रतिक्षण अपने लक्ष्य को याद रखने की आवश्यकता है और सदा-सर्वदा कठोर \_\_\_5\_\_\_ साहस का होना जरूरी है। प्रस्तुत अप्रत्यक्ष गद्य लेखन के आधार पर निम्नलिखित वाक्य में रिक्त स्थान 5 में उचित शब्दों का प्रयोग कीजिए

Ans  1. किसने/महान

2. उत्तम शव-साधना/ संयम और अपार

3. प्रकाशवान/सरल

4. उम्मीद की किरण/जगराता