

## Constable GD in CAPFs and SSF Rifleman GD in AR and Sepoy in NCB Examination 2025

Exam Date	17/02/2025
Exam Time	3:00 PM - 4:00 PM
Subject	Constable GD Examination 2025

### Section : Part-A-General Intelligence and Reasoning

**Q.1** What will come in the place of the question mark '?' in the following equation, if '÷' and '×' are interchanged and '+' and '-' are interchanged?

$$31 - 5 \div 7 + 27 \times 9 = ?$$

- Ans
- 1. 64
  - 2. 65
  - 3. 66
  - 4. 63

**Q.2** What should come in place of the question mark (?) in the given series based on the English alphabetical order?

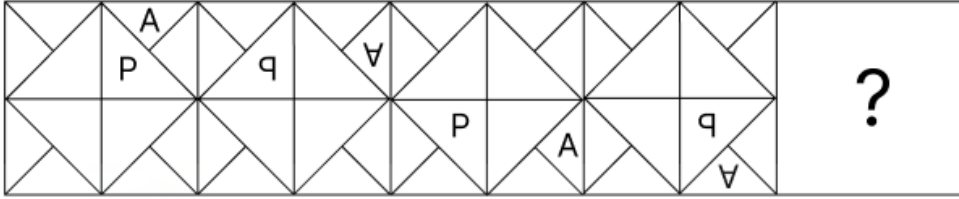
ABBA, CDDC, EFFE, ? , IJJI

- Ans
- 1. GHHI
  - 2. GGHG
  - 3. GHHH
  - 4. GHHG

**Q.3** In a certain code language, 'DIMS' is coded as '1973' and 'MIND' is coded as '3279'. What is the code for 'N' in the given code language?

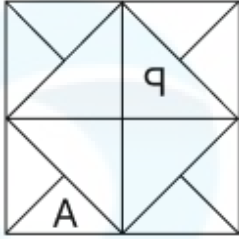
- Ans
- 1. 9
  - 2. 2
  - 3. 3
  - 4. 7

**Q.4** Identify the figure given in the options, which when put in place of the question mark (?) will logically complete the series.

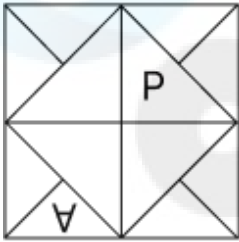


**Ans**

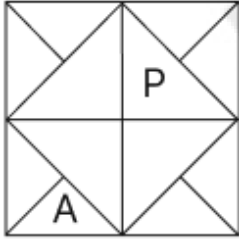
✗ 1.



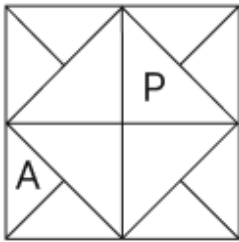
✗ 2.



✓ 3.



✗ 4.



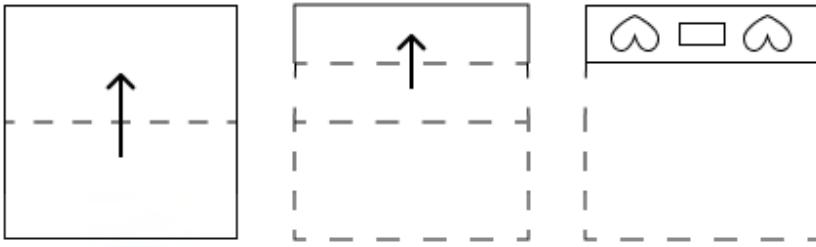
**Q.5** In a certain code language,

- 'A + B' means 'A is the mother of B',
- 'A - B' means 'A is the brother of B',
- 'A × B' means 'A is the wife of B' and
- 'A ÷ B' means 'A is the father of B'.

Based on the above, how is K related to N if 'K × L ÷ M + N - O'?

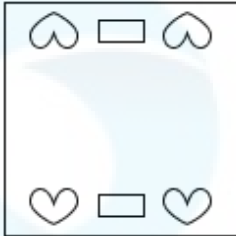
- Ans**
- ✗ 1. Father's brother
  - ✓ 2. Mother's mother
  - ✗ 3. Wife's father
  - ✗ 4. Brother's wife

Q.6 A paper is folded and cut as shown below. How will it appear when unfolded?

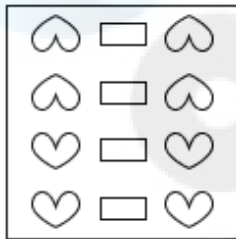


Ans

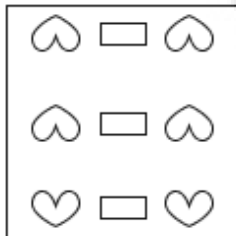
X 1.



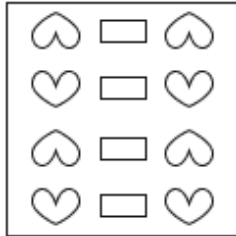
X 2.



X 3.



✓ 4.



Q.7 TQ 100 is related to SR 10 in a certain way. In the same way, WO 9 is related to VP 3. To which of the given options is JP 121 related, following the same logic?

Ans ✓ 1. IQ 11

X 2. JQ 11

X 3. KQ 11

X 4. IQ 12

Q.8 Seven people, L, M, N, O, W, X and Y, are sitting in a row, facing north (but not necessarily in the same order). Only five people sit between W and X. N sits to the immediate left of X. Only one person sits between N and L. M sits at some place to the left of O but at some place to the right of Y. Who sits third from the left end of the line?

Ans X 1. L

X 2. Y

✓ 3. M

X 4. W

**Q.9** Each letter in the word MONKEYS is arranged in the English alphabetical order. How many letters are there in the English alphabetical order between the letter which is third from the left end and the one which is fourth from the right end in the new letter-cluster thus formed?

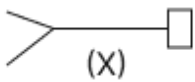
- Ans**
- 1. 2
  - 2. 3
  - 3. 0
  - 4. 1

**Q.10** What should come in place of the question mark (?) in the given series?

18 28 40 54 70 ?

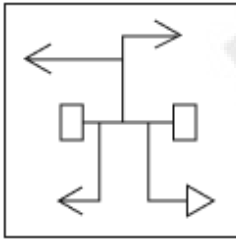
- Ans**
- 1. 88
  - 2. 90
  - 3. 87
  - 4. 89

**Q.11** Select the option in which the given figure (X) is embedded (rotation is NOT allowed).

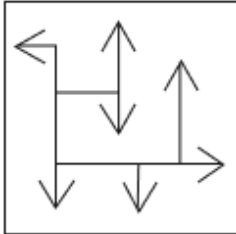


**Ans**

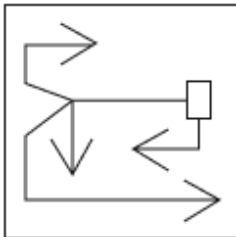
1.



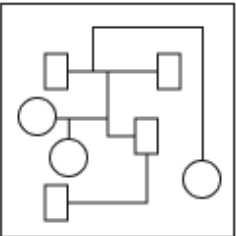
2.



3.



4.



**Q.12** ABYW is related to VWTR in a certain way based on the English alphabetical order. In the same way, UVSQ is related to PQNL. To which of the given options is GHEC related, following the same logic?

- Ans**
- 1. BBYX
  - 2. BCYX
  - 3. BDYC
  - 4. BCZX

**Q.13** Based on the English alphabetical order, three of the following four letter-clusters are alike in a certain way and thus form a group. Which letter-cluster DOES NOT belong to that group?

(Note: The odd one out is not based on the number of consonants/vowels or their position in the letter-cluster.)

- Ans**
- 1. KNG
  - 2. PRM
  - 3. EGB
  - 4. GID

**Q.14** Select the option that represents the letters that, when sequentially placed from left to right in the blanks below, will complete the letter series.

H I \_ L \_ H \_ K \_ M H \_ \_ L M H I K \_ \_

- Ans**
- 1. MKILIKLM
  - 2. MKLIKML
  - 3. KMLIKML
  - 4. KMILIKLM

**Q.15** What should come in place of the question mark (?) in the given series?

13 18 29 34 45 ?

- Ans**
- 1. 58
  - 2. 48
  - 3. 56
  - 4. 50

**Q.16** Read the given statements and conclusions carefully. Assuming that the information given in the statements is true, even if it appears to be at variance with commonly known facts, decide which of the given conclusions logically follow(s) from the statements.

**Statements:**

All trees are mud.

Some mud are sand.

No sand is a flower.

**Conclusions:**

(I): No tree is a flower.

(II): Some sand are trees.

- Ans**
- 1. Neither conclusion (I) nor (II) follows.
  - 2. Only conclusion (I) follows.
  - 3. Only conclusion (II) follows.
  - 4. Both conclusions (I) and (II) follow.

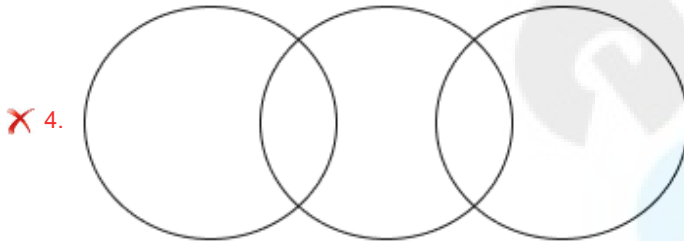

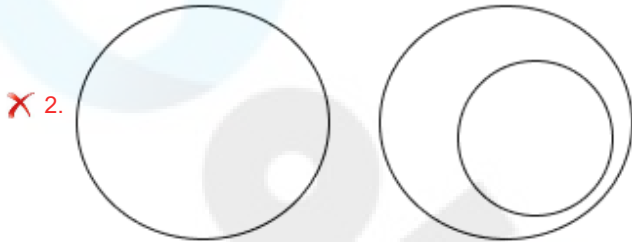

**Q.17** K, L, M, N, O, P and Q are sitting around a circular table, facing the centre (but not necessarily in the same order). M sits second to the right of L. Q sits to the immediate right of M. O sits fourth to the right of K. N sits to the immediate left of P. What is the position of N with respect to L?

- Ans**
- 1. Third to the Right
  - 2. Second to the Left
  - 3. Second to the Right
  - 4. Immediate Left

Q.18 Select the Venn diagram that best illustrates the relationship between the following classes.

Table, Tiger, Lake

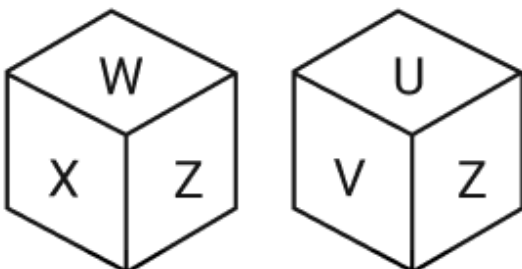
Ans



Q.19 In a certain code language 'VSDO' is coded as '20-17-2-13' and 'ILCY' is coded as '7-10-1-23'. What is the code for 'QNR' in the given language?

- Ans
- ✗ 1. 17-15-18-5
  - ✗ 2. 16-14-18-6
  - ✓ 3. 15-12-16-4
  - ✗ 4. 13-14-17-5

Q.20 A dice has its faces marked by letters U, V, W, X, Y and Z. Two different positions of the same dice are given below. Select the letter that will be on the face opposite to the one having Y?



- Ans
- ✓ 1. Z
  - ✗ 2. V
  - ✗ 3. X
  - ✗ 4. U

Section : Part-B-General Knowledge and General awareness

**Q.1** In which year was the Nobel prize awarded jointly to Eric A Cornell, Wolfgang Ketterle and Carl E Wieman 'for the achievement of Bose-Einstein condensation in dilute gases of alkali atoms'?

- Ans**
- 1. 2001
  - 2. 2004
  - 3. 1999
  - 4. 2008

**Q.2** In 2016, Pandit Birju Maharaj won the Filmfare Award for Best Choreography for which film?

- Ans**
- 1. Devdas
  - 2. Bajirao Mastani
  - 3. Jodhaa Akbar
  - 4. Mohenjo Daro

**Q.3** 'Disputes regarding the election of the President and Vice-President shall be inquired into and decided by the Supreme Court whose decision shall be final' is mentioned under which Article of the Constitution?

- Ans**
- 1. Article 54
  - 2. Article 74
  - 3. Article 58
  - 4. Article 71

**Q.4** Who among the following personalities introduced the Sattriya dance in Assam?

- Ans**
- 1. Ramanujacharya
  - 2. Swami Narayan
  - 3. Srimanta Sankardev
  - 4. Tukaram

**Q.5** As per National Multidimensional Poverty Index: A Progress Review 2023, how many indicators were included while calculating multidimensional poverty in India?

- Ans**
- 1. 14
  - 2. 8
  - 3. 10
  - 4. 12

**Q.6** Which football club in India has the longest history?

- Ans**
- 1. Sarada FC
  - 2. Mahindra United
  - 3. East Bengal Club
  - 4. Mumbai City FC

**Q.7** During which Five-Year Plan (FYP) was the Department of Biotechnology set up by the Government of India?

- Ans**
- 1. Seventh
  - 2. Sixth
  - 3. Ninth
  - 4. Eighth

**Q.8** The Directive Principles of State Policy (DPSP) are listed under which Articles of the Constitution of India?

- Ans**
- 1. Article 32-42
  - 2. Article 36-51
  - 3. Article 34-40
  - 4. Article 33-45

**Q.9** Which king of the Maukharis claimed to have defeated the Later Guptas?

- Ans**
- 1. Isanavarman
  - 2. Avantivarman
  - 3. Grahavarman
  - 4. Sarvavarman

**Q.10** In which year was the Cripps Mission sent to India?

- Ans**
- 1. 1940
  - 2. 1939
  - 3. 1935
  - 4. 1942

**Q.11** According to Census 2011, in which State is the difference in male and female literacy rates the lowest?

- Ans**
- 1. Tamil Nadu
  - 2. Kerala
  - 3. Gujarat
  - 4. Maharashtra

**Q.12** In economics, which of the following concepts is defined over a period of time?

- Ans**
- 1. Only Flow
  - 2. Only Stock
  - 3. Both Flow and Stock
  - 4. Neither Flow nor Stock

**Q.13** Who among the following singers had been conferred with the Padma Bhushan, the third highest civilian award of India, in 2021?

- Ans**
- 1. Shreya Ghoshal
  - 2. Kavitha Krishnamurthy
  - 3. Krishnan Nair Shantakumari Chithra
  - 4. Alka Yagnik

**Q.14** Which of the following rivers does NOT originate from the peninsular plateau?

- Ans**
- 1. The Son
  - 2. The Gandak
  - 3. The Chambal
  - 4. The Mahanadi

**Q.15** All the five-year plans were not given equal importance due to:

- Ans**
- 1. limitation of resources
  - 2. private ownership of resources
  - 3. equality of available resources
  - 4. availability of resources

**Q.16** What is the name of the Indian Kho-Kho league tournament/event in India?

- Ans**
- 1. Professional Kho-Kho League
  - 2. Ultimate Kho-Kho
  - 3. Pro Kho-Kho League
  - 4. Unlimited Kho-Kho

**Q.17** Who gave the keynote address at the Conference on Maritime Decarbonization in India, which was held on October 3, 2024 in New Delhi?

- Ans**
- 1. Shantanu Thakur
  - 2. TK Ramachandran
  - 3. Amit Kumar
  - 4. P Dinesh

**Q.18** The saliva helps in the digestion of food in animals. What does it do?

- Ans**
- 1. Breaks down starch into sugar
  - 2. Prevents food from entering the wind pipe
  - 3. Helps in sensing taste of food
  - 4. Lowers chances of allergies

**Q.19** How many national festivals are celebrated in India as of 01 January 2024?

- Ans**
- 1. 5
  - 2. 3
  - 3. 2
  - 4. 4

**Q.20** Who among the following was appointed as the Chairperson of the Union Public Service Commission (UPSC) in India on August 1, 2024?

- Ans**
- 1. Alka Sirohi
  - 2. Manoj Soni
  - 3. TCA Anant
  - 4. Preeti Sudan

Section : Part-C-Elementary Mathematics

**Q.1** A car runs for one hour with a speed 60 km per hour, for 2 hours with a speed 70 km per hour and for 5 hours with a speed 50 km per hour. What is the average speed of the car in km per hour?

- Ans**
- 1. 56.25
  - 2. 53.33
  - 3. 55.62
  - 4. 52.65

**Q.2** Find the value of  $\left[ (90 \div 5) \times \left\{ \frac{78}{6} + \frac{12}{1} \times (8 - 7) \right\} \right]$

- Ans**
- 1. 450
  - 2. 462
  - 3. 463
  - 4. 458

**Q.3** When the numbers 8651, 8018 and 7807 were divided by the greatest number  $x$ , then the remainder in each case was the same. The value of  $x$  is:

- Ans**
- 1. 119
  - 2. 132
  - 3. 207
  - 4. 211

**Q.4** The ratio between the original price of a movie ticket and increased price of the movie ticket is 10 : 13. What is the increase in the revenue of the cinema hall, if the original price of the movie ticket was ₹250 and total 3600 tickets were sold as per the maximum capacity of the cinema hall that is 3600 persons?

- Ans**
- 1. ₹2,70,000
  - 2. ₹1,28,000
  - 3. ₹82,000
  - 4. ₹1,98,000

**Q.5** When the numbers 7807, 8022 and 8667 were divided by the greatest number  $x$ , then the remainder in each case was the same. The sum of the digits of  $x$  is:

- Ans**
- 1. 8
  - 2. 9
  - 3. 6
  - 4. 7

**Q.6** Two cyclists, M and N, start from the same point on a 1500 m circular track, cycling in opposite directions. M cycles at 18 km/hr and N at 22 km/hr. How long (in seconds) will it take for them to meet?

- Ans**
- 1. 132
  - 2. 127
  - 3. 130
  - 4. 135

**Q.7** Find the value of  $\left[ (25 \times 13) \times \left\{ 2 \div 2 \times \frac{(16 - 13)}{3} \right\} \right]$

- Ans**
- 1. 344
  - 2. 313
  - 3. 325
  - 4. 312

**Q.8** The population of a district is 372000, out of which 168000 are males. 20% of the population is literate. If 20% males are literate, then what percentage of females are literate?

- Ans**
- 1. 20%
  - 2. 23%
  - 3. 18%
  - 4. 19%

**Q.9** The average age of 26 students of a class is 43 years. If the age of the teacher is also included, the average age of the whole group becomes 44 years. The age (in years) of the teacher is:

- Ans**
- 1. 68
  - 2. 72
  - 3. 67
  - 4. 70

**Q.10** Rodney sold 153 chairs and had a gain equal to the selling price of 63 chairs. What is his profit percentage?

- Ans
- 1. 80%
  - 2. 75%
  - 3. 70%
  - 4. 65%

**Q.11** The salary of an employee is increased by 30%. By what percentage should the new salary be reduced in order to restore the original salary? (Rounded off to 2 decimal places)

- Ans
- 1. 25%
  - 2. 27.02%
  - 3. 30%
  - 4. 23.08%

**Q.12** Varun has ₹1230 with him. He divided it amongst his sons Ashish and Arun and asked them to invest it at 5% rate of interest compounded annually. It was seen that Ashish and Arun got same amount after 11 and 12 years respectively. How much (in ₹) did Varun give to Arun?

- Ans
- 1. 600
  - 2. 450
  - 3. 730
  - 4. 630

**Q.13** Find the volume (in  $\text{cm}^3$ ) of a cylinder with a diameter 6 cm and height 14 cm.

- Ans
- 1. 396
  - 2. 412
  - 3. 376
  - 4. 388

**Q.14** A, B and C can do a piece of work in 15 days, 30 days and 40 days, respectively. A starts working on the first day, A and B works on the second day and A and C works on the third day. This pattern is repeated till the work gets completed. In how many days will the work be over?

- Ans
- 1.  $11\frac{7}{11}$
  - 2.  $13\frac{1}{4}$
  - 3.  $12\frac{2}{5}$
  - 4.  $8\frac{3}{5}$

**Q.15** The marked price of a platinum ring is ₹52,300 and it is available for sale at two successive discounts of 20% and 4%. What is the selling price (in ₹) of the platinum ring? (Round off to the nearest rupee.)

- Ans
- 1. 40,200
  - 2. 40,033
  - 3. 40,166
  - 4. 40,233

**Q.16** A shopkeeper bought an article for ₹540. At what price (in ₹) should he sell the article to make 10% profit?

- Ans
- 1. 606
  - 2. 594
  - 3. 582
  - 4. 486

**Q.17** The force acting on an object is directly proportional to its mass. If a force of 10 N is required to move an object of mass 2 kg, what force (in newtons) is needed to move an object of mass 5 kg?

- Ans**
- 1. 25
  - 2. 30
  - 3. 20
  - 4. 15

**Q.18** Two trains having lengths of 450 m and 350 m are running at speeds of 80 km/h and 110 km/h, respectively, in the same direction. The time taken (in minutes) by the faster train, coming from behind, to completely cross the other train is:

- Ans**
- 1. 2.4
  - 2. 3.4
  - 3. 1.6
  - 4. 3

**Q.19** Rakesh invests a sum of ₹5400 and Shivam invests a sum of ₹10200 at the same rate of simple interest per annum. If, at the end of 4 years, Shivam gets ₹480 more interest than Rakesh, then find the rate of interest per annum (in percentage).

- Ans**
- 1. 2.5
  - 2. 3.5
  - 3. 1.5
  - 4. 4.5

**Q.20** Veer has ₹1632 with him. He divided it amongst his sons Nitin and Pravin and asked them to invest it at 4% rate of interest compounded annually. It was seen that Nitin and Pravin got same amount after 12 and 13 years respectively. How much (in ₹) did Veer give to Nitin?

- Ans**
- 1. 800
  - 2. 832
  - 3. 682
  - 4. 900

Section : Part-D-English

**Q.1** Select the sentence with the most appropriate use of adverb.

- Ans**
- 1. They have arrived with recently.
  - 2. They have arrived recent.
  - 3. They have recently arrived.
  - 4. They have arrived on recently.

**Q.2** Select the most appropriate synonym of the given word.

**Cumbersome**

- Ans**
- 1. Royal
  - 2. Heavy
  - 3. Fickle
  - 4. New

**Q.3** The following sentence has been split into four segments. Identify the segment that contains a spelling error.

The marathon player / had a sophisticated taste / but was definitely / a virtuous man.

- Ans**
- 1. but was definitely
  - 2. The marathon player
  - 3. a virtuous man.
  - 4. had a sophisticated taste

Q.4 Select the most appropriate synonym of the given word.

Capture

- Ans
- 1. Shorten
  - 2. Release
  - 3. Attain
  - 4. Arrest

Q.5 Select the correct spelling of the underlined incorrectly spelt word in the given sentence.

The company didn't have sufishient funds to start the new project.

- Ans
- 1. suffeeciant
  - 2. sufficient
  - 3. suffishient
  - 4. sufficeint

Q.6 Select the word that best completes the given sentence. Determine the collocation through the sentence.

Henry \_\_\_\_\_ objections to the proposed changes in company policy.

- Ans
- 1. spelt
  - 2. stood
  - 3. raised
  - 4. spread

Q.7 Select the most appropriate option to fill in the blank.

The city is famous for its \_\_\_\_\_ architecture, which dates back to the 18<sup>th</sup> century.

- Ans
- 1. classical
  - 2. dystopic
  - 3. futuristic
  - 4. modern

Q.8 Select the most appropriate option to fill in the blank.

A lot of olive oil is \_\_\_\_\_ in Spain this year.

- Ans
- 1. produce
  - 2. producing
  - 3. production
  - 4. produced

Q.9 Select the most appropriate option that can substitute the underlined segment in the given sentence.

I had told you to wash these clothes, or I had not told you?

- Ans
- 1. didn't I?
  - 2. had I?
  - 3. did I?
  - 4. hadn't I?

**Q.10** Select the most appropriate meaning of the underlined idiom.

Giving Astha a make-over was a piece of cake because she's so naturally beautiful.

- Ans**
- 1. a slice of pizza
  - 2. A piece of pie
  - 3. A task easily accomplished
  - 4. A piece of bread

**Q.11** Select the most appropriate synonym for the given word.

**Serene**

- Ans**
- 1. Calm
  - 2. Agitated
  - 3. Chaotic
  - 4. Disturbed

**Q.12** Select the most appropriate ANTONYM of the given word.

**Impoverished**

- Ans**
- 1. Shy
  - 2. Rich
  - 3. Humble
  - 4. Tiny

**Q.13** Select the most appropriate option to substitute the underlined segment in the given sentence.

She is a talented artist which paints beautiful landscapes.

- Ans**
- 1. that paints beautiful landscapes
  - 2. whatever paints beautiful landscapes
  - 3. who paints beautiful landscapes
  - 4. whichever paints beautiful landscapes

**Q.14** Select the most appropriate ANTONYM of the given word.

**Muddle**

- Ans**
- 1. Expand
  - 2. Order
  - 3. Assume
  - 4. Linger

**Q.15** The given sentence is divided into four segments. Select the option that has the segment with an adverbial usage error.

Margaret swiftly / waited for / her turn / at the Cineplex.

- Ans**
- 1. waited for
  - 2. at the Cineplex
  - 3. her turn
  - 4. Margaret swiftly

**Comprehension:**

In the following passage, some words have been deleted. Read the passage carefully and answer the questions that follow select the most appropriate option to fill in each blank.

Global warming, a phenomenon primarily 1. \_\_\_\_\_ by human activities, has 2. \_\_\_\_\_ profound changes in weather patterns worldwide. The increase in greenhouse gases, particularly carbon dioxide, 3. \_\_\_\_\_ the Earth's atmosphere to trap more heat. As a result, glaciers 4. \_\_\_\_\_, sea levels 5. \_\_\_\_\_ and extreme weather events have become more frequent and severe.

**SubQuestion No : 16**

**Q.16** Select the most appropriate option to fill in blank number 1.

- Ans**
- 1. cause
  - 2. causing
  - 3. caused
  - 4. causes

**Comprehension:**

In the following passage, some words have been deleted. Read the passage carefully and answer the questions that follow select the most appropriate option to fill in each blank.

Global warming, a phenomenon primarily 1. \_\_\_\_\_ by human activities, has 2. \_\_\_\_\_ profound changes in weather patterns worldwide. The increase in greenhouse gases, particularly carbon dioxide, 3. \_\_\_\_\_ the Earth's atmosphere to trap more heat. As a result, glaciers 4. \_\_\_\_\_, sea levels 5. \_\_\_\_\_ and extreme weather events have become more frequent and severe.

**SubQuestion No : 17**

**Q.17** Select the most appropriate option to fill in blank number 2.

- Ans**
- 1. bring
  - 2. brings
  - 3. brought
  - 4. bringing

**Comprehension:**

In the following passage, some words have been deleted. Read the passage carefully and answer the questions that follow select the most appropriate option to fill in each blank.

Global warming, a phenomenon primarily 1. \_\_\_\_\_ by human activities, has 2. \_\_\_\_\_ profound changes in weather patterns worldwide. The increase in greenhouse gases, particularly carbon dioxide, 3. \_\_\_\_\_ the Earth's atmosphere to trap more heat. As a result, glaciers 4. \_\_\_\_\_, sea levels 5. \_\_\_\_\_ and extreme weather events have become more frequent and severe.

**SubQuestion No : 18**

**Q.18** Select the most appropriate option to fill in blank number 3.

- Ans**
- 1. allows
  - 2. allowed
  - 3. allow
  - 4. allowing

**Comprehension:**

In the following passage, some words have been deleted. Read the passage carefully and answer the questions that follow select the most appropriate option to fill in each blank.

Global warming, a phenomenon primarily 1. \_\_\_\_\_ by human activities, has 2. \_\_\_\_\_ profound changes in weather patterns worldwide. The increase in greenhouse gases, particularly carbon dioxide, 3. \_\_\_\_\_ the Earth's atmosphere to trap more heat. As a result, glaciers 4. \_\_\_\_\_, sea levels 5. \_\_\_\_\_ and extreme weather events have become more frequent and severe.

**SubQuestion No : 19**

**Q.19** Select the most appropriate option to fill in blank number 4.

- Ans**
- 1. retreating
  - 2. retreated
  - 3. retreats
  - 4. retreat

**Comprehension:**

In the following passage, some words have been deleted. Read the passage carefully and answer the questions that follow select the most appropriate option to fill in each blank.

Global warming, a phenomenon primarily 1.\_\_\_\_\_ by human activities, has 2.\_\_\_\_\_ profound changes in weather patterns worldwide. The increase in greenhouse gases, particularly carbon dioxide, 3.\_\_\_\_\_ the Earth's atmosphere to trap more heat. As a result, glaciers 4.\_\_\_\_\_, sea levels 5.\_\_\_\_\_ and extreme weather events have become more frequent and severe.

**SubQuestion No : 20**

**Q.20** Select the most appropriate option to fill in blank number 5.

- Ans**
- 1. rise
  - 2. rising
  - 3. risen
  - 4. rose

**Section : Part-D-Hindi**

**Q.1** 'सरिता' पर्याय है-

- Ans**
- 1. लक्ष्मी का
  - 2. अप्सरा का
  - 3. नदी का
  - 4. स्त्री का

**Q.2** निम्नलिखित में से बहुवचन से संबंधित वाक्य है-

- Ans**
- 1. कुछ अधिकारियों ने एक मीटिंग की।
  - 2. छात्र विद्यालय जा रहा है।
  - 3. मजदूर को उसकी मजदूरी दे दो।
  - 4. हिंदी के शिक्षक कक्षा में नहीं गए हैं।

**Q.3** निम्नलिखित वाक्य को ध्यानपूर्वक पढ़ें और बताएं कि प्रस्तुत विकल्पों में से कौनसा विकल्प चिन्हित शब्द का विलोम शब्द है?

खेल में उत्तम प्रदर्शन के कारण ही खिलाड़ी को पुरस्कृत किया गया।

- Ans**
- 1. तिरस्कृत
  - 2. अपकृस्ति
  - 3. पुरस्कार
  - 4. पदक

**Q.4** निम्नलिखित वाक्य में रेखांकित खंड के स्थान पर प्रयुक्त होने वाले सबसे उपयुक्त विकल्प का चयन कीजिए-

विनोबा भावे आंदोलन के भूदान प्रवर्तक थे।

- Ans**
- 1. के आंदोलन भूदान
  - 2. आंदोलन भूदान
  - 3. भूदान आंदोलन के
  - 4. आंदोलन भूदान के

**Q.5** 'इन तीनों में आपस में घनिष्ठ मैत्रता है'।

उपरोक्त वाक्य में वर्तनी सम्बन्धी अशुद्धियाँ हैं। अशुद्धि रहित वाक्य का चयन करें-

- Ans**
- 1. इन तीनों में आपस में घनिष्ठ मित्रता है।
  - 2. इन तीनों में आपस में घनिष्ठ मित्रता है।
  - 3. इन तीनों में आपस में घनिष्ठ मित्रता है।
  - 4. इन तीनों में आपस में घनिष्ठ मैत्रता है।

Q.6 निम्न वाक्य में वर्तनी गत अशुद्धि छाँटिए।  
योगीराज कृष्ण ने अर्जुन को गीता का उपदेश दिया था।

- Ans
- 1. अर्जुन
  - 2. कृष्ण
  - 3. योगीराज
  - 4. गीता

Q.7 मुहावरे और उसके अर्थ के लिए सही विकल्प चुनें।  
घर बसाना

- Ans
- 1. घर सजाना
  - 2. घर में रहना
  - 3. घर बना लेना
  - 4. विवाह करना

Q.8 निम्नलिखित वाक्य में रिक्त स्थान की पूर्ति सार्थक शब्द के माध्यम से करें।

मेरे कहने का \_\_\_\_\_ है कि मुझे \_\_\_\_\_ की प्राप्ति हुई है।

- Ans
- 1. बल
  - 2. तात्पर्य
  - 3. अर्थ
  - 4. मतलब

Q.9 रमेश मेरा सच्चा मित्र है।

रेखांकित शब्द के उचित विलोम शब्द का चयन कीजिए।

- Ans
- 1. विरोधी
  - 2. शत्रु
  - 3. दुश्मन
  - 4. दुश्मनी

Q.10 निम्नलिखित वाक्य में अशुद्ध शब्द है-

मैं मंदिर दर्शन देने आया था।

- Ans
- 1. दर्शन
  - 2. देने
  - 3. मैं
  - 4. आया

Q.11 इनमें से 'अनुराग' का विलोम शब्द कौन-सा है?

- Ans
- 1. राग
  - 2. विराग
  - 3. दुराग
  - 4. सुराग

Q.12 निम्न वाक्य में रेखांकित पद को संशोधित कीजिए।  
अमावस की रातें बड़ी रमणीय होती हैं।

- Ans
- 1. काली
  - 2. बादलों
  - 3. चाँदनी
  - 4. अंधेरी

Q.13 प्रेम करना तलवार की नोक पर चलना है।

उपरोक्त वाक्य में रेखांकित पद के बदले कौन-सा विकल्प उपयुक्त है?

- Ans
- 1. धार
  - 2. तीक्ष्ण
  - 3. पार्श्व
  - 4. किनारे

Q.14 'होली \_\_\_\_\_ ।

शुद्ध तद्भव शब्द युक्त विकल्प से वाक्य पूर्ण करें -

- Ans
- 1. फाल्गुनी में मनाई जाती है
  - 2. फागन में मनाई जाती है
  - 3. फागुन में मनाई जाती है
  - 4. फाल्गुन में मनाई जाती है

Q.15 'मैंने हरि बुलाया।'

किस कारक का प्रयोग नहीं करने से इस वाक्य में त्रुटि है?

- Ans
- 1. करण
  - 2. संप्रदान
  - 3. कर्ता
  - 4. कर्म

#### Comprehension:

निम्नलिखित गद्यांश में से कुछ शब्द हटा दिए गए हैं। दिए गए विकल्पों की सहायता से रिक्त स्थानों की पूर्ति कीजिए। प्रत्येक संख्या के लिए उपयुक्त विकल्प का चयन कीजिए-

यदि अपने समय के प्रत्येक पल की चिंता \_\_\_\_\_ (1) रखे तो थोड़ी आयु को भी बहुत बढ़ा सकता है, जिसे वह एक मास में कर सकेगा उसी को बहुतेरे जीवन \_\_\_\_\_ (2) भी नहीं करेंगे। यदि उसका ध्यान उचित और उत्तम कृत्यों में निमग्न है तो समय सुख से व्यतीत करता नहीं तो बहुतेरों का \_\_\_\_\_ (3) भारभूत-सा हुआ रहता है। दिन-रात जम्हाते बीतना है इनकी दीर्घ-सूत्रता और रात-दिन के बर्ताव को देखने से यही जान पड़ेगा कि मानो ये अपने को अमर समझे हुए हैं। बहुतेरे खूब खाकर पेट पर हाथ फेरते पान कूचते तकिया आश्रय ले पलंग पर जा सो जाते हैं और बारह चौदह घंटा अपना समय नींद में खोते हैं। वैद्यों और डॉक्टरों का मत है कि छह घंटा शारीरिक स्वास्थ्य के लिए नियमित सोना उपयुक्त \_\_\_\_\_ (4) यदि इतना ही सोने का अभ्यास किया जाए तो कितना समय बच सकता है। अधिक सोने से केवल समय हानि ही नहीं होती, शरीर के जितने अवयव हैं, शिथिल और अयोग्य हो जाते हैं और 12 घंटे सोने के बाद उतनी ही व्याकुलता और अशक्तता कार्य करने में होती है। शरीर और \_\_\_\_\_ (5) दोनों को इससे हानि पहुँचती है। फिर खाने के पश्चात् तुरंत सो जाने से आलस्य हाइफूटन, अपच, म्लानता, शिरोव्यथा होती है, यद्यपि नींद झटपट आ जाती है।

#### SubQuestion No : 16

Q.16 उपरोक्त गद्यांश के आधार पर निम्नलिखित रिक्त स्थान की पूर्ति करें।

यदि अपने समय के प्रत्येक पल की चिंता \_\_\_\_\_ (1) रखे तो थोड़ी आयु को भी बहुत बढ़ा सकता है

- Ans
- 1. नीर
  - 2. वृक्ष
  - 3. वाहन
  - 4. मनुष्य

**Comprehension:**

निम्नलिखित गद्यांश में से कुछ शब्द हटा दिए गए हैं। दिए गए विकल्पों की सहायता से रिक्त स्थानों की पूर्ति कीजिए। प्रत्येक संख्या के लिए उपयुक्त विकल्प का चयन कीजिए-

यदि अपने समय के प्रत्येक पल की चिंता \_\_\_\_\_ (1) रखे तो थोड़ी आयु को भी बहुत बढ़ा सकता है, जिसे वह एक मास में कर सकेगा उसी को बहुतेरे जीवन \_\_\_\_\_ (2) भी नहीं करेंगे। यदि उसका ध्यान उचित और उत्तम कृत्यों में निमग्न है तो समय सुख से व्यतीत करता नहीं तो बहुतेरों का \_\_\_\_\_ (3) भारभूत-सा हुआ रहता है। दिन-रात जम्हाते बीतना है इनकी दीर्घ- सूत्रता और रात-दिन के बर्ताव को देखने से यही जान पड़ेगा कि मानो ये अपने को अमर समझे हुए हैं। बहुतेरे खूब खाकर पेट पर हाथ फेरते पान कूचते तकिया आश्रय ले पलंग पर जा सो जाते हैं और बारह चौदह घंटा अपना समय नींद में खोते हैं। वैद्यों और डॉक्टरों का मत है कि छह घंटा शारीरिक स्वास्थ्य के लिए नियमित सोना उपयुक्त \_\_\_\_\_। (4) यदि इतना ही सोने का अभ्यास किया जाए तो कितना समय बच सकता है। अधिक सोने से केवल समय हानि ही नहीं होती, शरीर के जितने अवयव हैं, शिथिल और अयोग्य हो जाते हैं और 12 घंटे सोने के बाद उतनी ही व्याकुलता और अशक्तता कार्य करने में होती है। शरीर और \_\_\_\_\_ (5) दोनों को इससे हानि पहुँचती है। फिर खाने के पश्चात तुरंत सो जाने से आलस्य हाड़फूटन, अपच, म्लानता, शिरोव्यथा होती है, यद्यपि नींद झटपट आ जाती है।

**SubQuestion No : 17**

Q.17 उपरोक्त गद्यांश के आधार पर निम्नलिखित रिक्त स्थान की पूर्ति करें।  
उसी को बहुतेरे जीवन \_\_\_\_\_ (2) भी नहीं करेंगे।

- Ans
- 1. दुर्ग
  - 2. नज़र
  - 3. पर्यन्त
  - 4. जीवन

**Comprehension:**

निम्नलिखित गद्यांश में से कुछ शब्द हटा दिए गए हैं। दिए गए विकल्पों की सहायता से रिक्त स्थानों की पूर्ति कीजिए। प्रत्येक संख्या के लिए उपयुक्त विकल्प का चयन कीजिए-

यदि अपने समय के प्रत्येक पल की चिंता \_\_\_\_\_ (1) रखे तो थोड़ी आयु को भी बहुत बढ़ा सकता है, जिसे वह एक मास में कर सकेगा उसी को बहुतेरे जीवन \_\_\_\_\_ (2) भी नहीं करेंगे। यदि उसका ध्यान उचित और उत्तम कृत्यों में निमग्न है तो समय सुख से व्यतीत करता नहीं तो बहुतेरों का \_\_\_\_\_ (3) भारभूत-सा हुआ रहता है। दिन-रात जम्हाते बीतना है इनकी दीर्घ- सूत्रता और रात-दिन के बर्ताव को देखने से यही जान पड़ेगा कि मानो ये अपने को अमर समझे हुए हैं। बहुतेरे खूब खाकर पेट पर हाथ फेरते पान कूचते तकिया आश्रय ले पलंग पर जा सो जाते हैं और बारह चौदह घंटा अपना समय नींद में खोते हैं। वैद्यों और डॉक्टरों का मत है कि छह घंटा शारीरिक स्वास्थ्य के लिए नियमित सोना उपयुक्त \_\_\_\_\_। (4) यदि इतना ही सोने का अभ्यास किया जाए तो कितना समय बच सकता है। अधिक सोने से केवल समय हानि ही नहीं होती, शरीर के जितने अवयव हैं, शिथिल और अयोग्य हो जाते हैं और 12 घंटे सोने के बाद उतनी ही व्याकुलता और अशक्तता कार्य करने में होती है। शरीर और \_\_\_\_\_ (5) दोनों को इससे हानि पहुँचती है। फिर खाने के पश्चात तुरंत सो जाने से आलस्य हाड़फूटन, अपच, म्लानता, शिरोव्यथा होती है, यद्यपि नींद झटपट आ जाती है।

**SubQuestion No : 18**

Q.18 उपरोक्त गद्यांश के आधार पर निम्नलिखित रिक्त स्थान की पूर्ति करें।  
यदि उसका ध्यान उचित और उत्तम कृत्यों में निमग्न है तो समय सुख से व्यतीत करता नहीं तो बहुतेरों का \_\_\_\_\_ (3) भारभूत-सा हुआ रहता है।

- Ans
- 1. चौखट
  - 2. नदी
  - 3. गाड़ी
  - 4. जीवन

**Comprehension:**

निम्नलिखित गद्यांश में से कुछ शब्द हटा दिए गए हैं। दिए गए विकल्पों की सहायता से रिक्त स्थानों की पूर्ति कीजिए। प्रत्येक संख्या के लिए उपयुक्त विकल्प का चयन कीजिए-

यदि अपने समय के प्रत्येक पल की चिंता \_\_\_\_\_ (1) रखे तो थोड़ी आयु को भी बहुत बढ़ा सकता है, जिसे वह एक मास में कर सकेगा उसी को बहुतेरे जीवन \_\_\_\_\_ (2) भी नहीं करेंगे। यदि उसका ध्यान उचित और उत्तम कृत्यों में निमग्न है तो समय सुख से व्यतीत करता नहीं तो बहुतेरों का \_\_\_\_\_ (3) भारभूत-सा हुआ रहता है। दिन-रात जम्हाते बीतना है इनकी दीर्घ- सूत्रता और रात-दिन के बर्ताव को देखने से यही जान पड़ेगा कि मानो ये अपने को अमर समझे हुए हैं। बहुतेरे खूब खाकर पेट पर हाथ फेरते पान कूचते तकिया आश्रय ले पलंग पर जा सो जाते हैं और बारह चौदह घंटा अपना समय नींद में खोते हैं। वैद्यों और डॉक्टरों का मत है कि छह घंटा शारीरिक स्वास्थ्य के लिए नियमित सोना उपयुक्त \_\_\_\_\_। (4) यदि इतना ही सोने का अभ्यास किया जाए तो कितना समय बच सकता है। अधिक सोने से केवल समय हानि ही नहीं होती, शरीर के जितने अवयव हैं, शिथिल और अयोग्य हो जाते हैं और 12 घंटे सोने के बाद उतनी ही व्याकुलता और अशक्तता कार्य करने में होती है। शरीर और \_\_\_\_\_ (5) दोनों को इससे हानि पहुँचती है। फिर खाने के पश्चात तुरंत सो जाने से आलस्य हाड़फूटन, अपच, म्लानता, शिरोव्यथा होती है, यद्यपि नींद झटपट आ जाती है।

**SubQuestion No : 19**

Q.19 उपरोक्त गद्यांश के आधार पर निम्नलिखित रिक्त स्थान की पूर्ति करें।  
वैद्यों और डॉक्टरों का मत है कि छह घंटा शारीरिक स्वास्थ्य के लिए नियमित सोना उपयुक्त \_\_\_\_\_। (4)

- Ans
- 1. है
  - 2. थी
  - 3. थे
  - 4. रहेंगे

**Comprehension:**

निम्नलिखित गद्यांश में से कुछ शब्द हटा दिए गए हैं। दिए गए विकल्पों की सहायता से रिक्त स्थानों की पूर्ति कीजिए। प्रत्येक संख्या के लिए उपयुक्त विकल्प का चयन कीजिए-

यदि अपने समय के प्रत्येक पल की चिंता \_\_\_\_\_ (1) रखे तो थोड़ी आयु को भी बहुत बढ़ा सकता है, जिसे वह एक मास में कर सकेगा उसी को बहुतेरे जीवन \_\_\_\_\_ (2) भी नहीं करेंगे। यदि उसका ध्यान उचित और उत्तम कृत्यों में निमग्न है तो समय सुख से व्यतीत करता नहीं तो बहुतेरों का \_\_\_\_\_ (3) भारभूत-सा हुआ रहता है। दिन-रात जम्हाते बीतना है इनकी दीर्घ- सूत्रता और रात-दिन के बर्ताव को देखने से यही जान पड़ेगा कि मानो ये अपने को अमर समझे हुए हैं। बहुतेरे खूब खाकर पेट पर हाथ फेरते पान कूचते तकिया आश्रय ले पलंग पर जा सो जाते हैं और बारह चौदह घंटा अपना समय नींद में खोते हैं। वैद्यों और डॉक्टरों का मत है कि छह घंटा शारीरिक स्वास्थ्य के लिए नियमित सोना उपयुक्त \_\_\_\_\_ (4) यदि इतना ही सोने का अभ्यास किया जाए तो कितना समय बच सकता है। अधिक सोने से केवल समय हानि ही नहीं होती, शरीर के जितने अवयव हैं, शिथिल और अयोग्य हो जाते हैं और 12 घंटे सोने के बाद उतनी ही व्याकुलता और अशक्तता कार्य करने में होती है। शरीर और \_\_\_\_\_ (5) दोनों को इससे हानि पहुँचती है। फिर खाने के पश्चात तुरंत सो जाने से आलस्य हाड़फूटन, अपच, म्लानता, शिरोव्यथा होती है, यद्यपि नींद झटपट आ जाती है।

**SubQuestion No : 20**

**Q.20** उपरोक्त गद्यांश के आधार पर निम्नलिखित रिक्त स्थान की पूर्ति करें।  
शरीर और \_\_\_\_\_ (5) दोनों को इससे हानि पहुँचती है।

- Ans**
- 1. कल
  - 2. जन
  - 3. वन
  - 4. मन