

Constable GD in CAPFs and SSF Rifleman GD in AR and Sepoy in NCB Examination 2025

Exam Date	18/02/2025
Exam Time	12:00 PM - 1:00 PM
Subject	Constable GD Examination 2025

Section : Part-A-General Intelligence and Reasoning

Q.1 Based on the English alphabetical order, three of the following four letter-clusters are alike in a certain way and thus form a group. Which letter-cluster DOES NOT belong to that group? (Note: The odd one out is not based on the number of consonants/vowels or their position in the letter-cluster.)

- Ans
- 1. LIM
 - 2. BYC
 - 3. QNR
 - 4. IGJ

Q.2 Select the figure from among the given options that can replace the question mark (?) in the following series.

●	h	x	□	●	h	x	□	?
□	x	h	●	□	x	h	●	

Ans

- 1.

h	□
x	●
- 2.

●	□
h	x
- 3.

h	●
□	x
- 4.

●	h
□	x

Q.3 In a certain code language, 'CALF' is coded as '7904' and 'FACE' is coded as '0489'. What is the code for 'E' in the given code language?

- Ans**
- 1. 0
 - 2. 4
 - 3. 9
 - 4. 8

Q.4 XUYZ is related to WTXY in a certain way based on the English alphabetical order. In the same way, EBFG is related to DAEF. To which of the given options is DAEF related, following the same logic?

- Ans**
- 1. CYCE
 - 2. CACH
 - 3. CZCE
 - 4. CZDE

Q.5 USTD is related to VUWH in a certain way based on the English alphabetical order. In the same way, PAVG is related to QCYK. To which of the given options is ZJOU related, following the same logic?

- Ans**
- 1. CKSZ
 - 2. CMQY
 - 3. BHRX
 - 4. ALRY

Q.6 Q is the daughter of P. P is the father of R. R is the wife of S. T is the son of S. How is Q related to T?

- Ans**
- 1. Sister
 - 2. Mother's sister
 - 3. Mother
 - 4. Mother's mother

Q.7 C, D, G, H, I, K and L are sitting around a circular table facing the centre of the table (but not necessarily in the same order). Only two people sit between K and I when counted from the right of K. Only three people sit between H and C when counted from the right of C. I sits to the immediate right of C. G sits to the immediate right of L. Who sits fourth to the right of D?

- Ans**
- 1. G
 - 2. C
 - 3. I
 - 4. L

Q.8 Select the combination of letters that when sequentially placed in the blanks of the given series will complete the series.
PMS__P__TV__M_TVPM__V

- Ans**
- 1. MVTSPSST
 - 2. TVMSPSST
 - 3. TVMSPTSS
 - 4. TMVSPSST

Q.9 Read the given statements and conclusions carefully. Assuming that the information given in the statements is true, even if it appears to be at variance with commonly known facts, decide which of the given conclusions logically follow(s) from the statements.

Statements:

All cages are nests.

Some nests are houses.

No house is a den.

Conclusions:

(I): No cage is a den.

(II): Some houses are cages.

Ans 1. Both conclusions (I) and (II) follow.

2. Only conclusion (II) follows.

3. Only conclusion (I) follows.

4. Neither conclusion (I) nor (II) follows.

Q.10 Select the option in which the given figure (X) is embedded (rotation is NOT allowed).



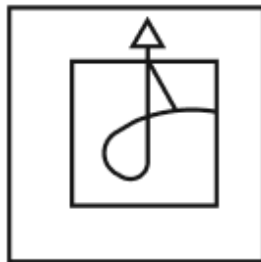
(X)

Ans

1.



2.



3.



4.



Q.11 What should come in place of the question mark (?) in the given series based on the English alphabetical order?

EBF FCG GDH HEI ?

- Ans
- 1. IKM
 - 2. IJF
 - 3. FIJ
 - 4. IFJ

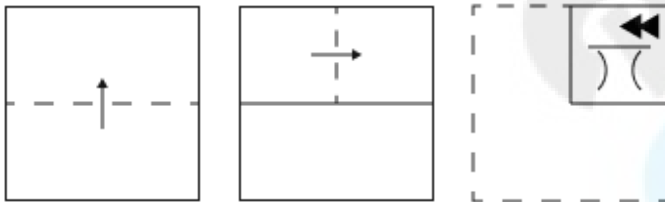
Q.12 G, H, I, J, M, N and O are sitting around a circular table facing the centre of the table (but not necessarily in the same order). Only two people sit between O and J when counted from the right of O. Only three people sit between H and I when counted from the right of I. J sits to the immediate right of I. G sits to the immediate right of N. Who sits fourth to the right of M?

- Ans
- 1. N
 - 2. I
 - 3. G
 - 4. O

Q.13 In a certain code language, 'FWOD' is coded as '23-6-14-25' and 'SINH' is coded as '10-20-15-21'. How is 'TYLB' coded in the given language?

- Ans
- 1. 12-8-20-27
 - 2. 10-6-19-29
 - 3. 9-4-17-27
 - 4. 10-5-18-26

Q.14 A paper is folded and punched as shown below. How will it appear when unfolded?



Ans

- 1.
- 2.
- 3.
- 4.

Q.15 Select the Venn diagram that best illustrates the relationship between the following classes.


Asia, Bangalore, India

Ans

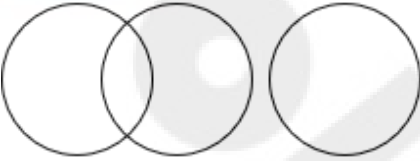
✓ 1.



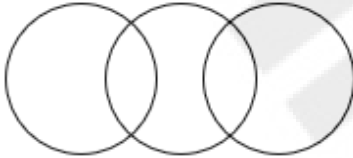
✗ 2.



✗ 3.



✗ 4.



Q.16 What should come in place of the question mark (?) in the given series?

105 155 196 228 251 ?

Ans ✗ 1. 258

✓ 2. 265

✗ 3. 280

✗ 4. 272

Q.17 What should come in place of the question mark (?) in the given series?

18 22 27 33 40 ?

Ans ✗ 1. 47

✓ 2. 48

✗ 3. 50

✗ 4. 49

Q.18 The position(s) of how many letters will remain unchanged if each of the letters in the word ALTERING is arranged in reverse English alphabetical order?

Ans ✗ 1. Two

✓ 2. Zero

✗ 3. Three

✗ 4. One

Q.19 If 'P' stands for '×', 'Q' stands for '÷', 'R' stands for '-' and 'S' stands for '+', then the resultant of which of the following would be 57?

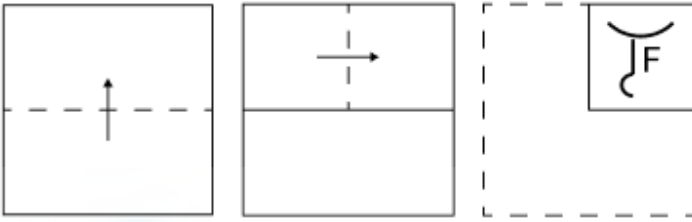
Ans ✗ 1. (160 R 10) S (30 Q 2) S (16 Q 4) R 45

✓ 2. (160 Q 10) S (30 P 2) R (16 P 4) S 45

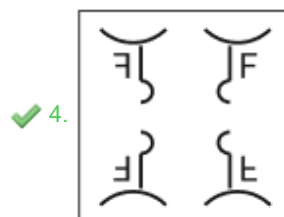
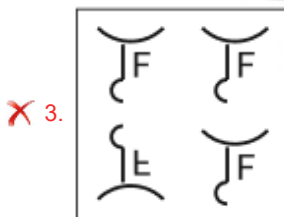
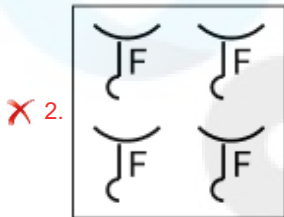
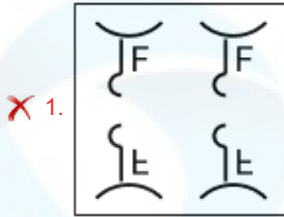
✗ 3. (160 Q 10) R (30 Q 2) S (16 P 4) R 45

✗ 4. (160 Q 10) R (30 P 2) R (16 Q 4) S 45

Q.20 A paper is folded and punched as shown below. How will it appear when unfolded?



Ans



Section : Part-B-General Knowledge and General awareness

Q.1 Padma Bhushan awardee Lalgudi Gopala Jayaraman was associated with which of the following musical genres?

- Ans**
- ✓ 1. Carnatic music
 - ✗ 2. Ghazal
 - ✗ 3. Dance music
 - ✗ 4. Folk music

Q.2 Which dancer founded the Kalakshetra Institute in Chennai that promotes performing art forms?

- Ans**
- ✗ 1. Hema Malini
 - ✓ 2. Rukmini Devi Arundale
 - ✗ 3. Yamini Krishnamurthy
 - ✗ 4. Mrinalini Sarabhai

Q.3 How does flexibility of the cell membrane help living organisms?

- Ans**
- ✗ 1. Protects from pollution
 - ✗ 2. Defines structure
 - ✓ 3. Absorbs food
 - ✗ 4. Gives long life

Q.4 The Hornbill Festival is celebrated in the state of _____.

- Ans**
- 1. Sikkim
 - 2. Nagaland
 - 3. Haryana
 - 4. Punjab

Q.5 According to Köppen's climate classification scheme, which letter represents Warm Temperate climate?

- Ans**
- 1. W
 - 2. C
 - 3. D
 - 4. H

Q.6 Who has taken on the role of Defence Secretary in the South Block, New Delhi, in November 2024?

- Ans**
- 1. Bibhab Kumar Talukdar
 - 2. Deepak Agarwal
 - 3. Rajesh Kumar Singh
 - 4. Ashish Khanna

Q.7 Which law of thermodynamics states that energy cannot be created or destroyed, only transferred or converted?

- Ans**
- 1. Third law
 - 2. First law
 - 3. Zeroth law
 - 4. Second law

Q.8 Which of the following subjects comes under the Concurrent List?

- Ans**
- 1. Fisheries
 - 2. Currency
 - 3. Newspapers
 - 4. Gambling

Q.9 Which of the statements is also known as the government budget?

- Ans**
- 1. Annual Expenditure Statement
 - 2. Annual Loss Statement
 - 3. Annual Financial Statement
 - 4. Annual Revenue Statement

Q.10 When did the Indian Census start?

- Ans**
- 1. 1901
 - 2. 1872
 - 3. 1951
 - 4. 1947

Q.11 Who is the cabinet minister of the Union Ministry of Micro, Small and Medium Enterprises, as of September 2024?

- Ans**
- 1. Jitan Ram Manjhi
 - 2. Manohar Lal
 - 3. Dharmendra Pradhan
 - 4. Piyush Goyal

Q.12 Padma Shri awardees in 2022, known for their great performances of the dance style of Kathak, sister duo Kamalini Asthana and Nalini Asthana belong to which state?

- Ans**
- 1. Haryana
 - 2. Uttar Pradesh
 - 3. Rajasthan
 - 4. Bihar

Q.13 The five-year plan for 1956–1961 was prepared by:

- Ans**
- 1. PC Mahalanobis
 - 2. Jawaharlal Nehru
 - 3. DR Gadgil
 - 4. Harod-Domar

Q.14 Which of the following Constitutional Amendment Acts added the Fundamental Duties in the Indian Constitution?

- Ans**
- 1. 42nd Amendment Act
 - 2. 44th Amendment Act
 - 3. 52nd Amendment Act
 - 4. 46th Amendment Act

Q.15 As per SRS Bulletin 2020, what was the death rate in India?

- Ans**
- 1. 20
 - 2. 6
 - 3. 5
 - 4. 10

Q.16 Which of the following organisations was started by Pandita Ramabai Saraswati in 1882?

- Ans**
- 1. Women's Indian Association
 - 2. Tattvabodhini Sabha
 - 3. Arya Mahila Samaj
 - 4. Mahila Atma Raksha Samiti

Q.17 Which of the following periods does the Iron Age in India encompass?

- Ans**
- 1. 1500 BCE - 200 BCE
 - 2. 200 BCE - 400 CE
 - 3. 500 BCE - 300 CE
 - 4. 1000 BCE - 100 CE

Q.18 What is a good indicator of economic growth?

- Ans**
- 1. Gross Domestic Product
 - 2. Foreign Investment
 - 3. National Consumption
 - 4. National Income

Q.19 To which state does the women's hockey player Savita Punia belong?

- Ans**
- 1. Rajasthan
 - 2. Uttar Pradesh
 - 3. Punjab
 - 4. Haryana

Q.20 Ministry of Youth Affairs and Sports (MYAS) has sanctioned a total of _____ sportspersons across 17 sporting disciplines for participation in the upcoming Asian Para Games.

- Ans**
- 1. 200
 - 2. 158
 - 3. 303
 - 4. 350

Section : Part-C-Elementary Mathematics

Q.1 What time (in seconds) is required for a 398 m long train to cross a 802 m long tunnel, if the train travels at a speed of 45 km/h?

- Ans**
- 1. 103
 - 2. 94
 - 3. 93
 - 4. 96

Q.2 A shopkeeper marks his jackets at 18.8% above the cost price and allows the purchaser a discount of 12.5% for online payment. What profit percentage does the shopkeeper make (correct to two places of decimals)?

- Ans**
- 1. 5.27%
 - 2. 2.58%
 - 3. 3.95%
 - 4. 4.06%

Q.3 Raj has ₹1218 with him. He divided it amongst his sons Varun and Ashish and asked them to invest it at 10% rate of interest compounded annually. It was seen that Varun and Ashish got same amount after 13 and 14 years respectively. How much (in ₹) did Raj give to Ashish?

- Ans**
- 1. 638
 - 2. 738
 - 3. 430
 - 4. 580

Q.4 The LCM of 36, 30, 114 and 380 is:

- Ans**
- 1. 3440
 - 2. 3420
 - 3. 3475
 - 4. 3456

Q.5 Given that X is the third proportional of 20 and Y, if Y is the sum of the first three prime numbers, then the value of X is:

- Ans**
- 1. 6
 - 2. 10
 - 3. 5
 - 4. 3

Q.6 A, B and C can do a piece of work in 22 days, 24 days and 33 days, respectively. In how many days will the work be finished if, A works on the 1st day, C works on the 2nd day, B works on the 3rd day, A works on the 4th day and so on?

Ans 1. 24

2. $28\frac{1}{3}$

3. $25\frac{1}{2}$

4. $22\frac{2}{3}$

Q.7 The fourth proportional to 4, a and 16a is 81. Find the value of a².

Ans 1. 20.25

2. 16.5

3. 22.5

4. 24.75

Q.8 Aditya appeared in a competitive exam in which the final grades are determined by three different exams of 100 marks having weights 20%, 35% and 45%, respectively. If Aditya scored 80, 70 and 60 marks in these exams, respectively, then what is the weighted average score of Aditya?

Ans 1. 67

2. 66.5

3. 67.5

4. 66

Q.9 If at same rate of interest, in 2 years, the simple interest is ₹40 and compound interest is ₹50, then what is the principal (in ₹)?

Ans 1. 40

2. 35

3. 33

4. 44

Q.10 Evaluate: $16 + 12 \div 3 - 2 \times 3$

Ans 1. 17

2. 13

3. 16

4. 14

Q.11 The LCM of 51, 18, 432 and 144 is:

Ans 1. 7344

2. 7276

3. 7320

4. 7294

Q.12 Two televisions are sold for ₹7,980 each, gaining 5% from one and losing 5% from the other. Find the gain or loss percentage in the whole transaction.

Ans 1. 0.5% loss

2. 0.25% loss

3. 0.25% gain

4. 0.5% gain

Q.13 Find the area (in cm^2) of a triangle whose length of each side is 7 cm, 24 cm and 0.25 m.

- Ans
- 1. 84
 - 2. 72
 - 3. 42
 - 4. 56

Q.14 The average age of 40 students in a class is 12 years. The average age of group of 5 of students is 10 years and that of another group of 5 of them is 14 years. The average age of the remaining students is:

- Ans
- 1. 13 years
 - 2. 12 years
 - 3. 10 years
 - 4. 11 years

Q.15 The price (per litre) of petrol increases by 90%. By what percent should its consumption be reduced such that the expenditure on it increases by 33% only?

- Ans
- 1. 30%
 - 2. 64%
 - 3. 70%
 - 4. 36%

Q.16 Chetan invests a sum of ₹5400 and Vipul invests a sum of ₹10200 at the same rate of simple interest per annum. If, at the end of 3 years, Vipul gets ₹720 more interest than Chetan, then find the rate of interest per annum (in percentage).

- Ans
- 1. 4
 - 2. 3
 - 3. 5
 - 4. 7

Q.17 Evaluate: $(-9) - (-60) \div (-15) + (-2) \times 8$

- Ans
- 1. -28
 - 2. -31
 - 3. -32
 - 4. -29

Q.18 Sachin sold 153 chairs and had a gain equal to the selling price of 85 chairs. What is his profit percentage?

- Ans
- 1. 135%
 - 2. 125%
 - 3. 120%
 - 4. 130%

Q.19 If 2% of $x = 312$, then x is equal to:

- Ans
- 1. 15600
 - 2. 31200
 - 3. 31300
 - 4. 15700

Q.20 Two trains, 200 m and 250 m long, are moving in the same direction at speeds of 80 km/hr and 60 km/hr, respectively. How long (in seconds) will it take for the faster train to completely pass the slower one?

- Ans**
- 1. 81
 - 2. 77
 - 3. 79
 - 4. 75

Section : Part-D-English

Q.1 The given sentence is divided into four segments. Select the option that has the segment with an adverbial usage error.

Lily and her mother / brightly handled / the difficult / situation.

- Ans**
- 1. Lily and her mother
 - 2. situation
 - 3. brightly handled
 - 4. the difficult

Q.2 Select the most appropriate ANTONYM of the given word.
Construct

- Ans**
- 1. Detect
 - 2. Compensate
 - 3. Demolish
 - 4. Proceed

Q.3 Select the most appropriate ANTONYM of the underlined word.
The museum's collection features both modern and antiquated artifacts, showcasing the evolution of art over the centuries.

- Ans**
- 1. Obsolete
 - 2. Contemporary
 - 3. Ancient
 - 4. Outdated

Q.4 The following sentence has been divided into parts. One of them may contain an error. Select the part that contains the error from the given options. If you don't find any error, mark 'No error' as your answer.

(A) While teaching, / (B) she draws the diagrams very careful / (C) on the board.

- Ans**
- 1. B
 - 2. No error
 - 3. A
 - 4. C

Q.5 Select the most appropriate idiom that can substitute the underlined segment in the given sentence.

Despite the initial setbacks, the team remained optimistic and pushed through to achieve their goals.

- Ans**
- 1. kept their chin up
 - 2. kept a close eye
 - 3. kept a stiff upper lip
 - 4. kept a bay

Q.6 Select the most appropriate ANTONYM of the highlighted word in the given sentence to fill in the blank.

The nature of these two brothers is different. One is arrogant whereas the other one is _____.

- Ans**
- 1. humble
 - 2. honest
 - 3. rude
 - 4. better

Q.7 Select the most appropriate meaning of the given idiom.

Cat's pajamas

- Ans**
- 1. Boring and repetitive
 - 2. Frightening and dubious
 - 3. Soft and soothing
 - 4. Excellent and Outstanding

Q.8 Select the most appropriate option to fill in the blank.
Much to his astonishment, the once chaotic office was now surprisingly _____ after the new management took over.

- Ans**
- 1. tumultuous
 - 2. organized
 - 3. hectic
 - 4. disorganised

Q.9 Select the most appropriate option to fill in the blank. Determine the collocation through the sentence.

The drowning fisherman waved his hands _____ to get the attention of the rescue team.

- Ans**
- 1. strongly
 - 2. softly
 - 3. poorly
 - 4. frantically

Q.10 Select the most appropriate ANTONYM of the given word.

Despair

- Ans**
- 1. Faith
 - 2. Appear
 - 3. Clumsy
 - 4. Incline

Q.11 Fill in the blank with the most appropriate ANTONYM of the word given in brackets.
It's got a pretty (bleak) _____ outlook on old age.

- Ans**
- 1. clean
 - 2. blank
 - 3. stony
 - 4. cheerful

Q.12 Select the most appropriate option that can substitute the underlined word(s) in the given sentence.

I have just come to know that the engine part is no longer produced and that I require it.

- Ans**
- 1. is not produced by the company
 - 2. that I require is no longer made.
 - 3. which I need has absent in the market
 - 4. which I needs is not available.

Q.13 Select the correct spelling of the underlined incorrectly spelt word in the given sentence.

The delicate white lilies bloomed in the cemetarry.

- Ans**
- 1. cemetary
 - 2. cematerly
 - 3. cemmetarry
 - 4. cemetery

Q.14 Select the option that rectifies the INCORRECTLY spelt word in the given sentence.

Thank you for granting me 2 days' leave.

- Ans**
- 1. Grannting
 - 2. Grainting
 - 3. Granting
 - 4. Grenting

Q.15 Select the most appropriate phrase that can substitute the underlined segment in the given sentence without altering the sentence's meaning.

The CEO's decision to restructure the company was seen as a bold move to stay competitive.

- Ans**
- 1. predictable response
 - 2. cautious approach
 - 3. timid action
 - 4. daring step

Comprehension:

In the following passage, some words have been deleted. Read the passage carefully and select the most appropriate option to fill in each blank.

Climate justice connects the climate (1)_____ to the social, racial and environmental issues in (2)_____ it is deeply entangled. It recognises the disproportionate impacts of climate (3)_____ on low-income and BIPOC communities around the world, the people and places least responsible (4)_____ the problem. For example, in refineries located in California's Bay Area Oil Corridor, low-income communities and communities of colour are the (5)_____ impacted by the presence of the petrochemical industry.

SubQuestion No : 16

Q.16 Select the most appropriate option to fill in blank number 1.

- Ans**
- 1. crisis
 - 2. chapter
 - 3. context
 - 4. case

Comprehension:

In the following passage, some words have been deleted. Read the passage carefully and select the most appropriate option to fill in each blank.

Climate justice connects the climate (1)_____ to the social, racial and environmental issues in (2)_____ it is deeply entangled. It recognises the disproportionate impacts of climate (3)_____ on low-income and BIPOC communities around the world, the people and places least responsible (4)_____ the problem. For example, in refineries located in California's Bay Area Oil Corridor, low-income communities and communities of colour are the (5)_____ impacted by the presence of the petrochemical industry.

SubQuestion No : 17

Q.17 Select the most appropriate option to fill in blank number 2.

- Ans**
- 1. which
 - 2. whom
 - 3. that
 - 4. whose

Comprehension:

In the following passage, some words have been deleted. Read the passage carefully and select the most appropriate option to fill in each blank.

Climate justice connects the climate (1)_____ to the social, racial and environmental issues in (2)_____ it is deeply entangled. It recognises the disproportionate impacts of climate (3)_____ on low-income and BIPOC communities around the world, the people and places least responsible (4)_____ the problem. For example, in refineries located in California's Bay Area Oil Corridor, low-income communities and communities of colour are the (5)_____ impacted by the presence of the petrochemical industry.

SubQuestion No : 18

Q.18 Select the most appropriate option to fill in blank number 3.

- Ans**
- 1. challenge
 - 2. controlling
 - 3. change
 - 4. measure

Comprehension:

In the following passage, some words have been deleted. Read the passage carefully and select the most appropriate option to fill in each blank.

Climate justice connects the climate (1)_____ to the social, racial and environmental issues in (2)_____ it is deeply entangled. It recognises the disproportionate impacts of climate (3)_____ on low-income and BIPOC communities around the world, the people and places least responsible (4)_____ the problem. For example, in refineries located in California's Bay Area Oil Corridor, low-income communities and communities of colour are the (5)_____ impacted by the presence of the petrochemical industry.

SubQuestion No : 19

Q.19 Select the most appropriate option to fill in blank number 4.

- Ans**
- 1. in
 - 2. for
 - 3. by
 - 4. at

Comprehension:

In the following passage, some words have been deleted. Read the passage carefully and select the most appropriate option to fill in each blank.

Climate justice connects the climate (1)_____ to the social, racial and environmental issues in (2)_____ it is deeply entangled. It recognises the disproportionate impacts of climate (3)_____ on low-income and BIPOC communities around the world, the people and places least responsible (4)_____ the problem. For example, in refineries located in California's Bay Area Oil Corridor, low-income communities and communities of colour are the (5)_____ impacted by the presence of the petrochemical industry.

SubQuestion No : 20

Q.20 Select the most appropriate option to fill in blank number 5.

- Ans**
- 1. big
 - 2. drastic
 - 3. most
 - 4. easy

Q.1 'राकेश इलाहाबाद घूमने-फिरने गया था।' वाक्य में प्रयुक्त घूमने-फिरने किस प्रकार का शब्द युग्म है ?

- Ans
- 1. सार्थक-निरर्थक
 - 2. निरर्थक-निरर्थक
 - 3. सार्थक-सार्थक
 - 4. पर्यायवाची शब्द

Q.2 निम्न में से नारी का पर्यायवाची शब्द नहीं है-

- Ans
- 1. पूनो
 - 2. रमणी
 - 3. वामा
 - 4. वनिता

Q.3 मुहावरे और उसके अर्थ, सही विकल्प चुनें।
खाक छानना

- Ans
- 1. बिना काम दौड़ना
 - 2. जहाँ-तहाँ जाना
 - 3. काम से जाना
 - 4. भटकना

Q.4 निम्नलिखित वाक्य के किस खंड में अशुद्धि है?

हमारे बाप-दादाओं ने कभी ऐसा नहीं किया।

- Ans
- 1. हमारे
 - 2. किया
 - 3. बाप-दादाओं
 - 4. कभी

Q.5 वर्तनी की दृष्टि से वाक्य के किस अंश में त्रुटि है?
हमें परिस्थितियों के अनुकूल स्वयं को ढालने का हुनर आना चाहिए।

- Ans
- 1. के अनुकूल स्वयं
 - 2. हुनर आना चाहिए।
 - 3. को ढालने का
 - 4. हमें परिस्थितियों

Q.6 'बिना किसी प्रयास के' - वाक्यांश के लिए एक शब्द का चयन करें-

- Ans
- 1. अनुग्रह
 - 2. अनुकम्पा
 - 3. अनायास
 - 4. अनुलाप

Q.7 'यहाँ किसी को भी इस कार्यालय का पता मालुम नहीं है।'
उपरोक्त वाक्य में वर्तनी सम्बन्धी अशुद्धि है। इसके शुद्ध रूप का चयन करें-

- Ans
- 1. परिणीत
 - 2. विवाहिता
 - 3. वैवाहिक
 - 4. परिणीता

Q.8 उसका कलम खो गया है। - स्त्रीलिंग की दृष्टि से वाक्य का शुद्ध रूप है-

- Ans
- 1. उसकी कलम खोने ही वाली है।
 - 2. उसकी कलम खो गई है।
 - 3. उसके कलम खो गए हैं।
 - 4. उसकी कलम खो गया है।

Q.9 यह आसक्ति है और कुछ नहीं। - वाक्य में प्रयुक्त रेखांकित एकार्थी शब्द का उचित अर्थ है-

- Ans
- 1. स्वार्थजनित प्रेम
 - 2. रोगजनित प्रेम
 - 3. मोहजनित प्रेम
 - 4. पीड़ाजनित प्रेम

Q.10 मोहन हिंदी पढ़ने के लिए शास्त्री जी के यहाँ गया। इस वाक्य के संयुक्त वाक्य रूप की पहचान कीजिए

- Ans
- 1. मोहन को हिंदी पढ़नी के लिए शास्त्री जी के यहाँ गया था।
 - 2. मोहन शास्त्री जी के यहाँ गया क्योंकि उसे हिंदी पढ़नी है।
 - 3. मोहन को हिंदी पढ़नी है और इसलिए शास्त्री जी के यहाँ गया।
 - 4. मोहन को हिंदी पढ़नी है इसलिए शास्त्री जी के यहाँ गया।

Q.11 निम्नलिखित वाक्यांश के लिए सार्थक शब्द चुनिए -
जो इसी लोक से संबंध रखता हो

- Ans
- 1. परलोकी
 - 2. अलौकिक
 - 3. लौकिक
 - 4. पारलौकिक

Q.12 मैं पूरे _____ दिन बाद आया हूँ। - रिक्त स्थान के लिए उचित विशेषण है-

- Ans
- 1. बीस
 - 2. कुछ
 - 3. सब
 - 4. तोले

Q.13 निम्नलिखित में से गलत मुहावरे युग्म की पहचान कीजिए।

- Ans
- 1. तारे गिनना - व्यग्रता से प्रतीक्षा करना
 - 2. छिपा रुस्तम - देखने में साधारण, वास्तव में गुणी
 - 3. चेहरे पर हवाइयाँ उड़ना - घबरा जाना
 - 4. घड़ों पानी पड़ जाना - बहुत अधिक खुश होना।

Q.14 'राजा हरिश्चंद्र ने सदैव सत्य का पक्ष लिया।' इस वाक्य में प्रयुक्त 'सत्य' शब्द का विलोम निम्न में से कौनसा शब्द है?

- Ans
- 1. मिथ्या
 - 2. वास्तविक
 - 3. कटुसत्य
 - 4. यथार्थ

Q.15 दिए गए शब्द का उचित विलोम शब्द चुनिए-

आयात

- Ans
- 1. लाना
 - 2. निर्यात
 - 3. वियात
 - 4. ख्यात

Comprehension:

प्रश्न संख्या 21 से 25 तक के उत्तर दिए गए गद्यांश के आधार पर दीजिए।

दिए गए विकल्पों में से उचित विकल्पों से खाली स्थान भरें।

भारत प्राचीन काल से ही _____ (21) एवं अहिंसापूर्ण वातावरण वाले विश्व की स्थापना का पक्षधर रहा है और उसने अपनी आंतरिक एवं वैदेशिक नीतियों में भी सर्वाधिक बल इसी पर दिया है। परंतु, भारत की इस नीति का गलत लाभ _____ (22) काल से ही उठाया गया है और समय-समय पर उसे अनेक प्रकार की अप्रत्याशित _____ (23) उठानी पड़ी है। वर्तमान भारत भी (1947 में स्वतंत्रता प्राप्ति के बाद का भारत) इस समस्या से उबरा नहीं है। स्वाधीनता प्राप्ति के बाद अपने कुछ पड़ोसी राष्ट्रों के साथ भारत के सम्बंध अभी भी तनावपूर्ण बने हुए हैं। द्वितीय विश्व युद्ध के दौरान अमरीका द्वारा जापान पर _____ (24) बम गिराये जाने के बाद से इस शब्द ने सम्पूर्ण विश्व को अपनी ओर आकर्षित किया। कुछ राष्ट्रों ने इसे शस्त्र के रूप में अपनाया, जबकि कुछ राष्ट्रों ने अपने विकास की गति को तेज़ करने के उद्देश्य से शांतिपूर्ण _____ (25) के लिए।

SubQuestion No : 16

Q.16 गद्यांश के रिक्त स्थान की पूर्ति दिए गए विकल्पों में से उचित विकल्प से कीजिए

- Ans**
- 1. योग
 - 2. ज्ञान
 - 3. शांति
 - 4. समृद्धि

Comprehension:

प्रश्न संख्या 21 से 25 तक के उत्तर दिए गए गद्यांश के आधार पर दीजिए।

दिए गए विकल्पों में से उचित विकल्पों से खाली स्थान भरें।

भारत प्राचीन काल से ही _____ (21) एवं अहिंसापूर्ण वातावरण वाले विश्व की स्थापना का पक्षधर रहा है और उसने अपनी आंतरिक एवं वैदेशिक नीतियों में भी सर्वाधिक बल इसी पर दिया है। परंतु, भारत की इस नीति का गलत लाभ _____ (22) काल से ही उठाया गया है और समय-समय पर उसे अनेक प्रकार की अप्रत्याशित _____ (23) उठानी पड़ी है। वर्तमान भारत भी (1947 में स्वतंत्रता प्राप्ति के बाद का भारत) इस समस्या से उबरा नहीं है। स्वाधीनता प्राप्ति के बाद अपने कुछ पड़ोसी राष्ट्रों के साथ भारत के सम्बंध अभी भी तनावपूर्ण बने हुए हैं। द्वितीय विश्व युद्ध के दौरान अमरीका द्वारा जापान पर _____ (24) बम गिराये जाने के बाद से इस शब्द ने सम्पूर्ण विश्व को अपनी ओर आकर्षित किया। कुछ राष्ट्रों ने इसे शस्त्र के रूप में अपनाया, जबकि कुछ राष्ट्रों ने अपने विकास की गति को तेज़ करने के उद्देश्य से शांतिपूर्ण _____ (25) के लिए।

SubQuestion No : 17

Q.17 गद्यांश के रिक्त स्थान की पूर्ति दिए गए विकल्पों में से उचित विकल्प से कीजिए

- Ans**
- 1. हड़प्पा
 - 2. प्राचीन
 - 3. नवीन
 - 4. मध्य

Comprehension:

प्रश्न संख्या 21 से 25 तक के उत्तर दिए गए गद्यांश के आधार पर दीजिए।

दिए गए विकल्पों में से उचित विकल्पों से खाली स्थान भरें।

भारत प्राचीन काल से ही _____ (21) एवं अहिंसापूर्ण वातावरण वाले विश्व की स्थापना का पक्षधर रहा है और उसने अपनी आंतरिक एवं वैदेशिक नीतियों में भी सर्वाधिक बल इसी पर दिया है। परंतु, भारत की इस नीति का गलत लाभ _____ (22) काल से ही उठाया गया है और समय-समय पर उसे अनेक प्रकार की अप्रत्याशित _____ (23) उठानी पड़ी है। वर्तमान भारत भी (1947 में स्वतंत्रता प्राप्ति के बाद का भारत) इस समस्या से उबरा नहीं है। स्वाधीनता प्राप्ति के बाद अपने कुछ पड़ोसी राष्ट्रों के साथ भारत के सम्बंध अभी भी तनावपूर्ण बने हुए हैं। द्वितीय विश्व युद्ध के दौरान अमरीका द्वारा जापान पर _____ (24) बम गिराये जाने के बाद से इस शब्द ने सम्पूर्ण विश्व को अपनी ओर आकर्षित किया। कुछ राष्ट्रों ने इसे शस्त्र के रूप में अपनाया, जबकि कुछ राष्ट्रों ने अपने विकास की गति को तेज़ करने के उद्देश्य से शांतिपूर्ण _____ (25) के लिए।

SubQuestion No : 18

Q.18 गद्यांश के रिक्त स्थान की पूर्ति दिए गए विकल्पों में से उचित विकल्प से कीजिए _____

- Ans**
- 1. आसानियाँ
 - 2. क्षतियाँ
 - 3. हीनता
 - 4. बाधाएँ

Comprehension:

प्रश्न संख्या 21 से 25 तक के उत्तर दिए गए गद्यांश के आधार पर दीजिए।
दिए गए विकल्पों में से उचित विकल्पों से खाली स्थान भरें।

भारत प्राचीन काल से ही _____ (21) एवं अहिंसापूर्ण वातावरण वाले विश्व की स्थापना का पक्षधर रहा है और उसने अपनी आंतरिक एवं वैदेशिक नीतियों में भी सर्वाधिक बल इसी पर दिया है। परंतु, भारत की इस नीति का गलत लाभ _____ (22) काल से ही उठाया गया है और समय-समय पर उसे अनेक प्रकार की अप्रत्याशित _____ (23) उठानी पड़ी है। वर्तमान भारत भी (1947 में स्वतंत्रता प्राप्ति के बाद का भारत) इस समस्या से उबरा नहीं है। स्वाधीनता प्राप्ति के बाद अपने कुछ पड़ोसी राष्ट्रों के साथ भारत के सम्बंध अभी भी तनावपूर्ण बने हुए हैं। द्वितीय विश्व युद्ध के दौरान अमरीका द्वारा जापान पर _____ (24) बम गिराये जाने के बाद से इस शब्द ने सम्पूर्ण विश्व को अपनी ओर आकर्षित किया। कुछ राष्ट्रों ने इसे शस्त्र के रूप में अपनाया, जबकि कुछ राष्ट्रों ने अपने विकास की गति को तेज़ करने के उद्देश्य से शांतिपूर्ण _____ (25) के लिए।

SubQuestion No : 19

Q.19 गद्यांश के रिक्त स्थान की पूर्ति दिए गए विकल्पों में से उचित विकल्प से कीजिए

- Ans**
- 1. परमाणु
 - 2. रासायनिक
 - 3. जैविक
 - 4. मानव

Comprehension:

प्रश्न संख्या 21 से 25 तक के उत्तर दिए गए गद्यांश के आधार पर दीजिए।
दिए गए विकल्पों में से उचित विकल्पों से खाली स्थान भरें।

भारत प्राचीन काल से ही _____ (21) एवं अहिंसापूर्ण वातावरण वाले विश्व की स्थापना का पक्षधर रहा है और उसने अपनी आंतरिक एवं वैदेशिक नीतियों में भी सर्वाधिक बल इसी पर दिया है। परंतु, भारत की इस नीति का गलत लाभ _____ (22) काल से ही उठाया गया है और समय-समय पर उसे अनेक प्रकार की अप्रत्याशित _____ (23) उठानी पड़ी है। वर्तमान भारत भी (1947 में स्वतंत्रता प्राप्ति के बाद का भारत) इस समस्या से उबरा नहीं है। स्वाधीनता प्राप्ति के बाद अपने कुछ पड़ोसी राष्ट्रों के साथ भारत के सम्बंध अभी भी तनावपूर्ण बने हुए हैं। द्वितीय विश्व युद्ध के दौरान अमरीका द्वारा जापान पर _____ (24) बम गिराये जाने के बाद से इस शब्द ने सम्पूर्ण विश्व को अपनी ओर आकर्षित किया। कुछ राष्ट्रों ने इसे शस्त्र के रूप में अपनाया, जबकि कुछ राष्ट्रों ने अपने विकास की गति को तेज़ करने के उद्देश्य से शांतिपूर्ण _____ (25) के लिए।

SubQuestion No : 20

Q.20 गद्यांश के रिक्त स्थान की पूर्ति दिए गए विकल्पों में से उचित विकल्प से कीजिए _____

- Ans**
- 1. उपभोग
 - 2. अनुपयोग
 - 3. योग
 - 4. उपयोग