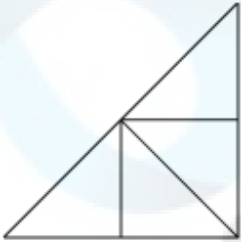


# Constable GD in CAPFs and SSF Rifleman GD in AR and Sepoy in NCB Examination 2025

Exam Date	18/02/2025
Exam Time	3:00 PM - 4:00 PM
Subject	Constable GD Examination 2025

## Section : Part-A-General Intelligence and Reasoning


Q.1 Select the option figure in which the given figure (X) is embedded as its part (rotation is NOT allowed).



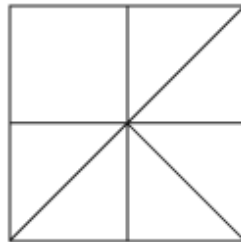
(X)

Ans


✗ 1.



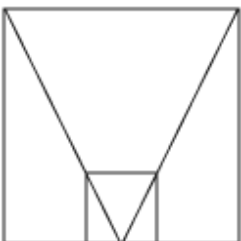
✓ 2.



✗ 3.



✗ 4.



Q.2 Select the combination of letters that when sequentially placed in the blanks of the given series, will logically complete the series.

\_YSXR\_QVPU\_TNSM\_LQK\_

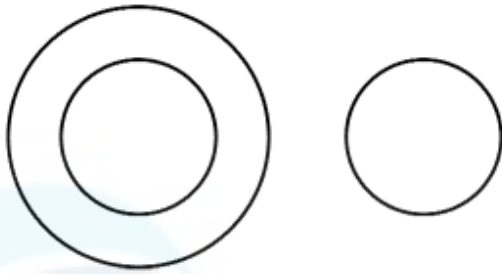
- Ans
- ✗ 1. QWNRJ
  - ✗ 2. QXNSJ
  - ✗ 3. TXOSP
  - ✓ 4. TWORP

**Q.3** Select the Venn diagram that best illustrates the relationship between the following classes.

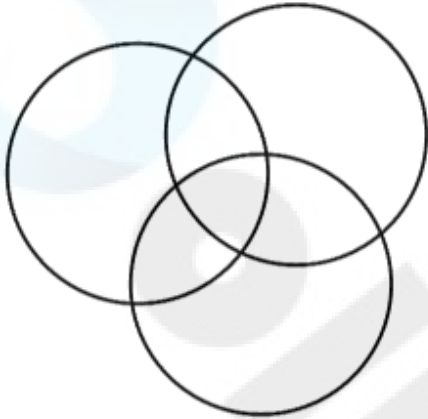
Body, Hands, Eyes

Ans

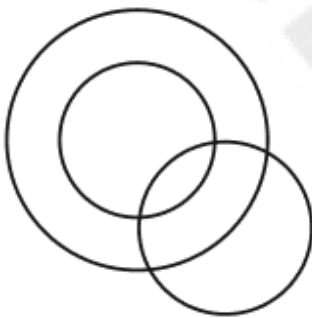
1.



2.



3.



4.



**Q.4** Seven people, A, B, L, M, N, S and T, are sitting in a row, facing north (but not necessarily in the same order). Only two people sit between T and M. Only L sits to the right of N. Only one person sits between M and N. B sits at some place to the right of S but at some place to the left of A.

How many people sit between A and S?

Ans  1. One

2. Two

3. Three

4. Four

**Q.5** The position(s) of how many letters will remain unchanged if each letter in the word GLORIFY is arranged in the English alphabetical order?

Ans  1. 2

2. 0

3. 1

4. 3

**Q.6** What will come in the place of the question mark '?' in the following equation, if 'x' and '÷' are interchanged and '-' and '+' are interchanged?

$$72 + 5 - 42 \times 7 \div 1 = ?$$

- Ans**
- 1. 71
  - 2. 70
  - 3. 73
  - 4. 72

**Q.7** What should come in place of the question mark (?) in the given series?

310 320 331 343 356 ?

- Ans**
- 1. 374
  - 2. 372
  - 3. 368
  - 4. 370

**Q.8** What should come in place of the question mark (?) in the given series?

719 729 739 ? 759 769

- Ans**
- 1. 747
  - 2. 746
  - 3. 748
  - 4. 749

**Q.9** Read the given statements and conclusions carefully. Assuming that the information given in the statements is true, even if it appears to be at variance with commonly known facts, decide which of the given conclusions logically follow(s) from the statements.

**Statements:**

Some superstars are actors.

Some superstars are writers.

Some actors are producers.

**Conclusions:**

(I): Some superstars are producers.

(II): Some actors are writers.

- Ans**
- 1. Both conclusions (I) and (II) follow.
  - 2. Neither conclusion (I) nor (II) follows.
  - 3. Only conclusion (I) follows.
  - 4. Only conclusion (II) follows.

**Q.10** E, F, G, H, J, K and L are sitting around a circular table facing the centre of the table (but not necessarily in the same order).

Only two people sit between K and J when counted from the right of K. Only three people sit between H and F when counted from the right of F. J sits to the immediate right of F. G sits to the immediate right of L.

Who sits fourth to the right of E?

- Ans**
- 1. F
  - 2. G
  - 3. H
  - 4. L

**Q.11** Based on the English alphabetical order, three of the following four letter-clusters are alike in a certain way and thus form a group. Which letter-cluster DOES NOT belong to that group?

(Note: The odd man out is not based on the number of consonants/vowels or their position in the letter-cluster.)

- Ans**
- 1. KAQ
  - 2. RHX
  - 3. WMC
  - 4. QEU

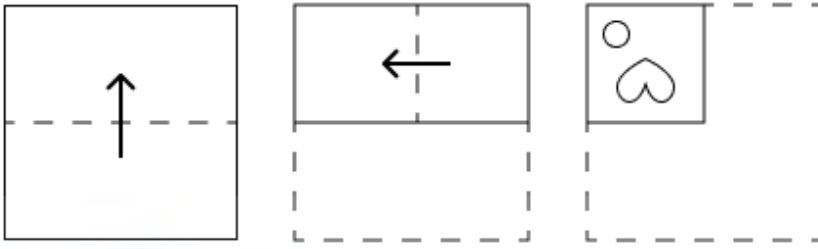
**Q.12** ADGI is related to BFJM in a certain way based on the English alphabetical order. In the same way, EHLN is related to FJOR. To which of the given options is GKPQ related, following the same logic?

- Ans**
- 1. PQGK
  - 2. HMSU
  - 3. HLQR
  - 4. IMRS

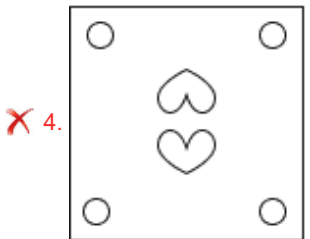
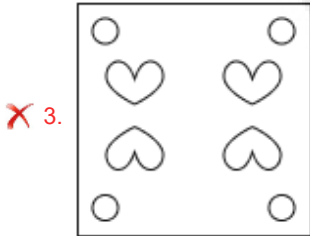
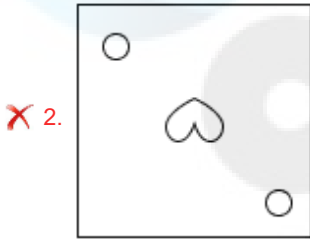

**Q.13** In a certain code language, 'DSBQCA' is coded as '4' and 'SJTB' is coded as '2'. What is the code for 'XTPLIKAE' in the given language?

- Ans**
- 1. 7
  - 2. 8
  - 3. 6
  - 4. 5

Q.14 A paper is folded and cut as shown below. How will it appear when unfolded?



Ans



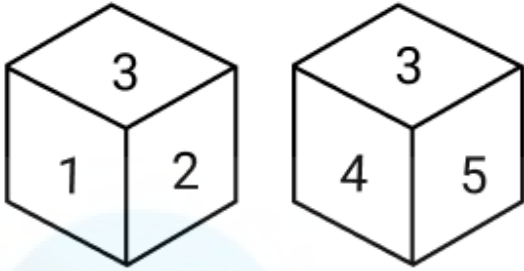
Q.15 What should come in place of the question mark (?) in the given series based on the English alphabetical order?  
DDI BBD ZZY XXT ?

- Ans
- ✗ 1. VVQ
  - ✓ 2. VVO
  - ✗ 3. VVR
  - ✗ 4. VVP

Q.16 KB 23 is related to SK 50 in a certain way. In the same way, BP 12 is related to JY 39. To which of the given options is MH 31 related, following the same logic?

- Ans
- ✗ 1. TQ 58
  - ✗ 2. UP 57
  - ✗ 3. VR 56
  - ✓ 4. UQ 58

Q.17 Two different positions of the same dice are given below. Which is the number on the face opposite to the face containing 6?



- Ans
- 1. 3
  - 2. 5
  - 3. 2
  - 4. 4

Q.18 In a certain code language, 'NFTBZ' is coded as '20' and 'ZOQ' is coded as '12'. What is the code for 'GZFESITY' in the given language?

- Ans
- 1. 22
  - 2. 37
  - 3. 28
  - 4. 32

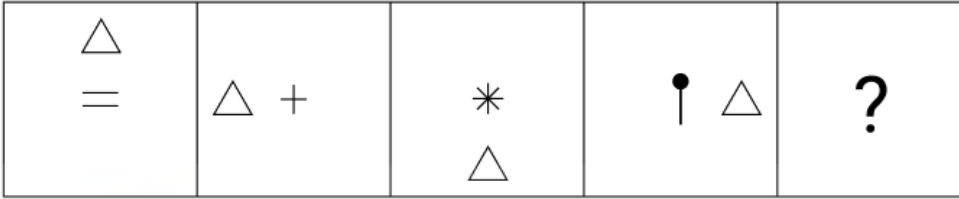
Q.19 In a certain code language,

'A + B' means 'A is the daughter of B',  
'A - B' means 'A is the brother of B',  
'A × B' means 'A is the wife of B' and  
'A ÷ B' means 'A is the father of B'.

Based on the above, how is P related to T if 'P + Q × R ÷ S - T'?

- Ans
- 1. Daughter
  - 2. Wife
  - 3. Sister
  - 4. Mother

Q.20 Select the figure from among the given options that can replace the question mark (?) in the following series.

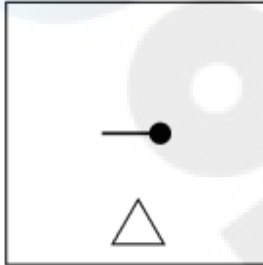


Ans

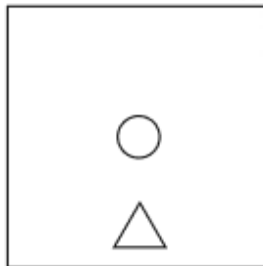
✗ 1.



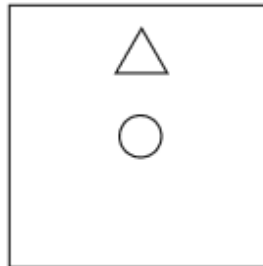
✗ 2.



✗ 3.



✓ 4.



Section : Part-B-General Knowledge and General awareness

Q.1 Which dynasty succeeded the Mauryan Empire?

Ans

✗ 1. Gupta

✗ 2. Kanva

✓ 3. Shunga

✗ 4. Kushan

**Q.2 Match the following items.**

Name of the scheme	Year
i. Jawahar Rozgar Yojana	1. 1988
ii. The Employment Assurance Scheme	2. 1989
iii. The Million Wells Scheme	3. 1995
iv. National Social Assistance Programme	4. 1993

- Ans**
- 1. i-3, ii-4, iii-2, iv-1
  - 2. i-2, ii-3, iii-4, iv-1
  - 3. i-4, ii-1, iii-2, iv-3
  - 4. i-2, ii-4, iii-1, iv-3

**Q.3 As per Sample Registration System (SRS) Bulletin 2020, what was the difference between death rates of rural and urban India?**

- Ans**
- 1. 1.3
  - 2. 6.0
  - 3. 6.4
  - 4. 5.1

**Q.4 When was the last time India hosted Asian Games?**

- Ans**
- 1. 1982
  - 2. 1988
  - 3. 1983
  - 4. 1990

**Q.5 Which of the following can be separated from a mixture by the process of centrifugation, but NOT by the process of filtration?**

- Ans**
- 1. Suspension only
  - 2. Solution
  - 3. Both Colloid and suspension
  - 4. Colloid only

**Q.6 Oli Jerang, a Sattriya dancer, belongs to which of the following states?**

- Ans**
- 1. Arunachal Pradesh
  - 2. Meghalaya
  - 3. Assam
  - 4. Sikkim

**Q.7 What was the motto of the 37<sup>th</sup> National games held in 2023?**

- Ans**
- 1. Ready Get Set Go
  - 2. Get Set Goa
  - 3. Ready Get Set Goa
  - 4. Get Set Go

**Q.8 In a state, the Council of Ministers are collectively responsible to:**

- Ans**
- 1. State Legislative Assembly
  - 2. President
  - 3. Chief Minister
  - 4. Governor

**Q.9** The Indian Association, founded in 1876, was established by:

- Ans**
- 1. Surendranath Banerjee and Anandamohan Bose
  - 2. Mahatma Gandhi and Jawaharlal Nehru
  - 3. Bal Gangadhar Tilak and Bipin Chandra Pa
  - 4. Lala Lajpat Rai and Chittaranjan Das

**Q.10** From which region is the westerly jet stream responsible for bringing western disturbances into the Indian subcontinent?

- Ans**
- 1. Arabian
  - 2. Mediterranean
  - 3. East Siberian
  - 4. Caspian

**Q.11** In March 2024, Gyanesh Kumar, a 1988-batch Kerala cadre officer of the Indian Administrative Service, joined which of the following departments of the Indian Government?

- Ans**
- 1. Reserve Bank of India (RBI)
  - 2. Election Commission of India (ECI)
  - 3. Union Public Service Commission (UPSC)
  - 4. Comptroller and Auditor General of India (CAG)

**Q.12** The concept of Fundamental Duties in the Constitution of India is inspired by which country's constitution?

- Ans**
- 1. The US
  - 2. Japan
  - 3. The UK
  - 4. Soviet Union

**Q.13** The Bohag Bihu, also called the \_\_\_\_\_ Bihu is a festival of merriment and heralds, the Assamese New Year and the onset of spring.

- Ans**
- 1. Kati
  - 2. Goru
  - 3. Manuh
  - 4. Rongali

**Q.14** Who launched the Pradhan Mantri Mudra Yojana?

- Ans**
- 1. Nirmala Sitharaman
  - 2. Amit Shah
  - 3. Narendra Modi
  - 4. Rajnath Singh

**Q.15** For Republic Day 2023, which state's tableau based on the theme 'Manaskhand' was given the best tableau award among the 17 states/union territories tableaux?

- Ans**
- 1. Assam
  - 2. Karnataka
  - 3. Goa
  - 4. Uttarakhand

**Q.16** Pralhad Joshi, who inaugurated the India Sugar & Bio Energy Conference held on 26<sup>th</sup> and 27<sup>th</sup> September 2024, is currently heading which Union ministry as of October 2024?

- Ans**
- 1. Consumer Affairs, Food and Public Distribution & New and Renewable Energy
  - 2. Environment, Forest and Climate Change
  - 3. Electronics and Information Technology
  - 4. Development of North Eastern Region

**Q.17** What is one significant drawback of the Green Revolution?

- Ans**
- 1. Decreased industrial growth
  - 2. Lower use of technology
  - 3. Loss of biodiversity
  - 4. Increased urbanisation

**Q.18** Which of the following best describes a progressive tax system?

- Ans**
- 1. Higher tax rate for corporations than individuals
  - 2. Tax rate decreases as the taxable amount increases
  - 3. Uniform tax rate for all income groups
  - 4. Tax rate increases as the taxable amount increases

**Q.19** The eponymous track 'Breathless' is one of the most notable works of which music artist, which was released in 1998?

- Ans**
- 1. Shankar Mahadevan
  - 2. Mohit Chauhan
  - 3. Shaan
  - 4. A R Rahman

**Q.20** Select the INCORRECT statement of the following.

- Ans**
- 1. Fat is considered as a good source of energy during the exercise and competition.
  - 2. Vitamin A, E and C act as antioxidants.
  - 3. Vitamin C facilitates absorption and utilisation of iron in the body.
  - 4. Vitamin C plays an important role in collagen synthesis.

Section : Part-C-Elementary Mathematics

**Q.1** If the diagonal of a rhombus are 15 cm and 24 cm, then its area will be:

- Ans**
- 1. 160 cm<sup>2</sup>
  - 2. 180 cm<sup>2</sup>
  - 3. 360 cm<sup>2</sup>
  - 4. 90 cm<sup>2</sup>

**Q.2** Avi can finish a piece of work in 6 days, Avni can finish it in 8 days, Aarti can do it in 12 days and Reeta can do it in 16 days. They all decided to work one by one, Avi starts the work and works for one-fourth of a day, then Avni works for one-fourth of a day, then Aarti works for one-fourth of a day and then Reeta works for the remaining one-fourth of a day. The cycle is repeated till the work finished. Who was working when the work finished?

- Ans**
- 1. Aarti
  - 2. Reeta
  - 3. Avi
  - 4. Avni

Q.3 What will come in place of 'A' in the given equation?

$$\frac{A}{192} = \frac{48}{A}$$

- Ans
- 1. 86
  - 2. 84
  - 3. 74
  - 4. 96

Q.4 The population of a district is 385000, out of which 168000 are males. 52% of the population is literate. If 21% males are literate, then what percentage of females are literate?

- Ans
- 1. 78%
  - 2. 73%
  - 3. 76%
  - 4. 74%

Q.5 Hari travels from City A to City B. If Hari drives his car at  $\frac{1}{8}$  of his normal speed, then he reaches City B 21 minutes late. Find the time (in minutes) that Hari would have taken to travel from City A to City B if he drove at his normal speed.

- Ans
- 1. 1
  - 2. 3
  - 3. 7
  - 4. 11

Q.6 LCM and HCF of two numbers are 198 and 9 respectively. If one of the numbers is 99, then find the other number.

- Ans
- 1. 16
  - 2. 20
  - 3. 18
  - 4. 17

Q.7 A man sold an article for ₹222, thereby gaining 20%. The cost of the article (in ₹) was:

- Ans
- 1. 266
  - 2. 178
  - 3. 185
  - 4. 278

Q.8 A car travels four consecutive distances of 2 km each at speeds of 10 km/hr, 20 km/hr, 30 km/hr, and 40 km/hr, respectively. What is the average speed of the car (in km/hr) over this total distance?

- Ans
- 1. 21.2
  - 2. 18.3
  - 3. 19.2
  - 4. 17.36

Q.9 The average age of 48 students of a class is 10 years. If the age of the teacher is also included, the average age of the whole group becomes 11 years. The age (in years) of the teacher is:

- Ans
- 1. 65
  - 2. 62
  - 3. 59
  - 4. 60

**Q.10** A refinery produces 3 grades of gasoline: Regular (85% octane), Mid-grade (90% octane), and Premium (95% octane). If 200 barrels of Regular, 100 barrels of Mid-grade, and 100 barrels of Premium are mixed, what is the average octane rating?

- Ans**
- 1. 88.75%
  - 2. 88.25%
  - 3. 89%
  - 4. 88.5%

**Q.11** Find the third proportional of 18 and 30.

- Ans**
- 1. 48
  - 2. 53
  - 3. 60
  - 4. 50

**Q.12** Rupesh has two grandsons Mandar and Ketan. 13 year old Mandar gets some money from Rupesh's wealth and 14 year old Ketan gets rest of the money. But Mandar and Ketan will get money only when they turn 23 years old. Till then the money is in a bank getting interest at rate 5% compounded annually. When both turn 23, they receive the same amount. How much had Rupesh given Ketan (in ₹) initially, if total money with Rupesh was ₹24600?

- Ans**
- 1. 12950
  - 2. 12000
  - 3. 12600
  - 4. 11750

**Q.13** If 4% of  $x = 36$ , then  $x$  is equal to:

- Ans**
- 1. 900
  - 2. 1000
  - 3. 1800
  - 4. 1900

**Q.14** Akshay invests a sum of ₹5400 and Atul invests a sum of ₹9400 at the same rate of simple interest per annum. If, at the end of 4 years, Atul gets ₹720 more interest than Akshay, then find the rate of interest per annum (in percentage).

- Ans**
- 1. 6.5
  - 2. 4.5
  - 3. 3.5
  - 4. 2.5

**Q.15** The smallest natural number which is divisible by 12, 28, 36 and 27 is:

- Ans**
- 1. 822
  - 2. 688
  - 3. 756
  - 4. 691

**Q.16** The marked price of an article is ₹60,000. It is sold at successive discounts of 10%, 15% and 20%. Find the selling price of the article.

- Ans**
- 1. ₹36,720
  - 2. ₹36,710
  - 3. ₹36,750
  - 4. ₹36,700

Q.17 If at same rate of interest, in 2 years, the simple interest is ₹40 and compound interest is ₹45, then what is the principal (in ₹)?

- Ans
- 1. 80
  - 2. 84
  - 3. 75
  - 4. 73

Q.18 Find the value of  $\left[ (90 \div 3) \times \left\{ \frac{63}{7} + \frac{28}{3} \times (8 - 5) \right\} \right]$

- Ans
- 1. 1127
  - 2. 1102
  - 3. 1091
  - 4. 1110

Q.19 A dishonest shopkeeper promises to sell his goods at cost price. However, he uses a weight that actually weighs 32% less than what is written on it. Find his profit percentage.

- Ans
- 1.  $48\frac{2}{17}\%$
  - 2.  $46\frac{1}{17}\%$
  - 3.  $47\frac{1}{17}\%$
  - 4.  $49\frac{2}{17}\%$

Q.20 Two numbers are in the ratio 1 : 3. If the product of their HCF and LCM is 1200, then the numbers are \_\_\_\_\_ and \_\_\_\_\_.

- Ans
- 1. 20, 60
  - 2. 30, 90
  - 3. 15, 45
  - 4. 10, 30

Section : Part-D-English

Q.1 Fill in the blank with the most suitable collocation.

It is impossible that the bank will \_\_\_\_\_.

- Ans
- 1. forgive a debt
  - 2. format a debt
  - 3. follow a debt
  - 4. fragment a debt

Q.2 Which of the following sentences contains the meaning of the word 'listless'?

- Ans
- 1. As soon as Ravi reported for duty, he was asked to present himself for roster call.
  - 2. To apply for a passport, a list of documents is to be submitted.
  - 3. Rudresh is good at creating a linearly ordered data structure on his computer.
  - 4. After listening to a long speech, Tanuja felt exhausted and devoid of energy.

**Q.3** Select the most appropriate synonym of the underlined word.

Though she is my best friend, Sarah's compliments felt superficial, lacking genuine warmth or understanding of my efforts.

- Ans**
- 1. substantial
  - 2. kind
  - 3. profound
  - 4. shallow

**Q.4** Parts of the following sentence have been given as options. Select the option that contains an error.

He was playing cricket when I have walked past the stadium early in the morning.

- Ans**
- 1. He was playing cricket
  - 2. when I have walked
  - 3. early this morning.
  - 4. past the stadium

**Q.5** Select the most appropriate option to fill in the blanks.

His (1)\_\_\_ speech was clear, (2)\_\_\_ and passionate, leaving a (3)\_\_\_ impression on the audience during the conference.

- Ans**
- 1. (1) persuasive ; (2) lasting ; (3) well-structured
  - 2. (1) well-structured ; (2) lasting ; (3) persuasive
  - 3. (1) lasting ; (2) persuasive ; (3) well-structured
  - 4. (1) persuasive ; (2) well-structured ; (3) lasting

**Q.6** Identify the INCORRECTLY spelt word in the given sentence.

The diplomat's erudition was matched only by his arrogance and recalcitrent attitude towards compromise.

- Ans**
- 1. recalcitrent
  - 2. compromise
  - 3. erudition
  - 4. arrogance

**Q.7** Identify the INCORRECTLY spelt word in the given sentence.

After receiving the parcel, she immedietely opened it.

- Ans**
- 1. immedietely
  - 2. receiving
  - 3. parcel
  - 4. opened

**Q.8** Select the most appropriate option to fill in the blanks.

The serene beach offered (1)\_\_\_ waters, (2)\_\_\_ sand and (3)\_\_\_ sunsets, creating a perfect spot for relaxation and reflection after a long day.

- Ans**
- 1. (1) clear ; (2) soft ; (3) stunning
  - 2. (1) soft ; (2) stunning ; (3) clear
  - 3. (1) stunning ; (2) soft ; (3) clear
  - 4. (1) soft ; (2) clear ; (3) stunning

**Q.9** Select the most appropriate synonym of the underlined word.

Maya couldn't hide her glee when our rival came last.

- Ans
- 1. Wickedness
  - 2. Unhappiness
  - 3. Sorrow
  - 4. Happiness

**Q.10** Select the most appropriate option to fill in the blank.

The family heirloom was not only rare but was also \_\_\_\_\_.

- Ans
- 1. productivity
  - 2. profit
  - 3. artist
  - 4. priceless

**Q.11** The following sentence has been split into four segments. Identify the segment that contains a grammatical error.

(A) The cat quiet stalked its prey, / (B) moving stealthily through the tall grass, / (C) demonstrating its hunting skills / (D) with great precision and grace.

- Ans
- 1. C
  - 2. A
  - 3. D
  - 4. B

**Q.12** Select the most appropriate meaning of the given idiom.

Far and wide

- Ans
- 1. Everywhere
  - 2. Now and then
  - 3. To give away a secret
  - 4. By itself

**Q.13** Select the most appropriate ANTONYM of the given word.

Young

- Ans
- 1. Boyish
  - 2. Mature
  - 3. Moist
  - 4. Stiff

**Q.14** Select the word segment that can substitute the bracketed word segment correctly and complete the sentence. Select 'No substitution required' if the given sentence is correct.

The detective (had been solved the murder mystery) within a week.

- Ans
- 1. have been solved the murder mystery
  - 2. No substitution required
  - 3. solved the murder mystery
  - 4. solve the murder mystery

**Q.15** Select the most appropriate option that can substitute the underlined segment in the given sentence.

The new software update brought quite a few improvements in the transactions.

- Ans**
- 1. interplay
  - 2. intralingual
  - 3. interpretation
  - 4. deals

**Comprehension:**

In the following passage, some words have been deleted. Read the passage carefully and select the most appropriate option to fill in each blank.

Recycling at home is a simple (1) \_\_\_\_\_ impactful way to contribute to environmental conservation. Separating recyclables (2) \_\_\_\_\_ paper, plastic and glass from regular waste reduces landfill waste. (3) \_\_\_\_\_ adopting this habit, individuals (4) \_\_\_\_\_ participate in sustainable practices. It not only helps the environment but also sets an example for future generations on (5) \_\_\_\_\_ living.

**SubQuestion No : 16**

**Q.16** Select the most appropriate option to fill in blank no. 1.

- Ans**
- 1. but
  - 2. yet
  - 3. and
  - 4. also

**Comprehension:**

In the following passage, some words have been deleted. Read the passage carefully and select the most appropriate option to fill in each blank.

Recycling at home is a simple (1) \_\_\_\_\_ impactful way to contribute to environmental conservation. Separating recyclables (2) \_\_\_\_\_ paper, plastic and glass from regular waste reduces landfill waste. (3) \_\_\_\_\_ adopting this habit, individuals (4) \_\_\_\_\_ participate in sustainable practices. It not only helps the environment but also sets an example for future generations on (5) \_\_\_\_\_ living.

**SubQuestion No : 17**

**Q.17** Select the most appropriate option to fill in blank no. 2.

- Ans**
- 1. such
  - 2. dislike
  - 3. like
  - 4. similar to

**Comprehension:**

In the following passage, some words have been deleted. Read the passage carefully and select the most appropriate option to fill in each blank.

Recycling at home is a simple (1) \_\_\_\_\_ impactful way to contribute to environmental conservation. Separating recyclables (2) \_\_\_\_\_ paper, plastic and glass from regular waste reduces landfill waste. (3) \_\_\_\_\_ adopting this habit, individuals (4) \_\_\_\_\_ participate in sustainable practices. It not only helps the environment but also sets an example for future generations on (5) \_\_\_\_\_ living.

**SubQuestion No : 18**

**Q.18** Select the most appropriate option to fill in blank no. 3.

- Ans**
- 1. Again
  - 2. By
  - 3. Also
  - 4. And

**Comprehension:**

In the following passage, some words have been deleted. Read the passage carefully and select the most appropriate option to fill in each blank.

Recycling at home is a simple (1) \_\_\_\_\_ impactful way to contribute to environmental conservation. Separating recyclables (2) \_\_\_\_\_ paper, plastic and glass from regular waste reduces landfill waste. (3) \_\_\_\_\_ adopting this habit, individuals (4) \_\_\_\_\_ participate in sustainable practices. It not only helps the environment but also sets an example for future generations on (5) \_\_\_\_\_ living.

**SubQuestion No : 19**

**Q.19** Select the most appropriate option to fill in blank no. 4.

- Ans
- 1. vehemently
  - 2. strong
  - 3. actively
  - 4. vociferously

**Comprehension:**

In the following passage, some words have been deleted. Read the passage carefully and select the most appropriate option to fill in each blank.

Recycling at home is a simple (1) \_\_\_\_\_ impactful way to contribute to environmental conservation. Separating recyclables (2) \_\_\_\_\_ paper, plastic and glass from regular waste reduces landfill waste. (3) \_\_\_\_\_ adopting this habit, individuals (4) \_\_\_\_\_ participate in sustainable practices. It not only helps the environment but also sets an example for future generations on (5) \_\_\_\_\_ living.

**SubQuestion No : 20**

**Q.20** Select the most appropriate option to fill in blank no. 5.

- Ans
- 1. responsible
  - 2. wisely
  - 3. independent
  - 4. obligated

**Section : Part-D-Hindi**

**Q.1** 'क्षीण' का विलोम शब्द नीचे दिए विकल्पों में से चुनिए-

- Ans
- 1. पुष्ट
  - 2. अपुष्ट
  - 3. पापी
  - 4. कमज़ोर

**Q.2** भारत को संधि प्रस्ताव अग्राह्य रहा।

रेखांकित पद का विलोम कौन-सा है ?

- Ans
- 1. विग्रह
  - 2. समास
  - 3. असंधि
  - 4. निःसंदेह

**Q.3** 'पानी-वानी' किस प्रकार के युग्म रूप के अंतर्गत आएँगे?

- Ans
- 1. विरोधी युग्म
  - 2. पर्यायवाची
  - 3. शब्द विलोम
  - 4. सार्थक-निरर्थक

Q.4 चौपाल \_\_\_\_\_  
उपर्युक्त वाक्य में रिक्त स्थान का उपयुक्त विकल्प निम्न में से क्या होगा।

- Ans
- 1. वह जगह होती है, जहाँ गाँव के लोग सार्वजनिक मुद्दों पर चर्चा हेतु एकत्र होते हैं।
  - 2. वह जगह होती है, जहाँ गाँव के लोग पशुओं का गोबर एकत्रित करते हैं।
  - 3. वह जगह होती है, जहाँ गाँव के लोग पानी भरते हैं।
  - 4. वह जगह होती है, जहाँ गाँव के लोग पशु चराते हैं।

Q.5 इनमें से किस वाक्य में त्रुटि नहीं है ?

- Ans
- 1. मैंने यह कहानी पढ़ी है।
  - 2. यह फूल आम का है।
  - 3. यह मेरा पुस्तक है।
  - 4. गया था मैं कानपुर

Q.6 'मुमुक्षु' शब्द के लिए सही वाक्य होगा-

- Ans
- 1. मोक्ष प्राप्त करने वाला
  - 2. मोक्ष के मार्ग को सरल बनाने वाला
  - 3. मोक्ष की इच्छा करने वाला
  - 4. मोक्ष के पथ पर चलने वाला

Q.7 'मैं आपका दर्शन करने आया हूँ।'

इस वाक्य में कहाँ अशुद्धि है?

- Ans
- 1. आया
  - 2. आपका
  - 3. दर्शन
  - 4. करने

Q.8 निम्नलिखित वाक्य के किस खंड में अशुद्धि है?

अधिकान्स धन व्यर्थ गया।

- Ans
- 1. धन
  - 2. अधिकान्स
  - 3. गया
  - 4. व्यर्थ

Q.9 'इस क्षेत्र में मकान तो छोड़ो, उचित ढंग से \_\_\_\_\_'।

प्रतिदिन की बोलचाल में प्रयोग किये जाने वाले उचित सार्थक-निरर्थक शब्द-युग्म का चयन करके उपरोक्त वाक्य पूर्ण करें-

- Ans
- 1. सड़कें-नालियाँ भी नहीं बनी हैं
  - 2. गलियाँ-पोखर भी नहीं बनी हैं
  - 3. सड़कें-वड़कें भी नहीं बनी हैं
  - 4. सड़क-गली भी नहीं बनी हैं

Q.10 'नदी' का पर्याय निम्न में से है-

- Ans
- 1. अब्धि
  - 2. गिरी
  - 3. तटिनी
  - 4. चपला

Q.11 मुझे रमेश से सहायता मिला थी। - स्त्रीलिंग की दृष्टि से वाक्य का शुद्ध रूप है-

- Ans
- 1. मुझे रमेश से सहायता मिली थी।
  - 2. मुझे रमेश से सहायता मिलता था।
  - 3. मुझे रमेश से सहायता मिला था।
  - 4. मुझे रमेश से सहायता मिला है।

Q.12 'इस जीवन में अनेक अध्याय हैं जो सम्पूर्ण सृष्टि को प्रभावित करते हैं।'

रेखांकित शब्दों को इनके अनेकार्थी शब्द से प्रतिस्थापित करें-

- Ans
- 1. उद्गम
  - 2. पृष्ठ
  - 3. सर्ग
  - 4. प्रवाह

Q.13 निम्नलिखित वाक्यांश के लिए सार्थक शब्द चुनिए -  
लम्बे पेट वाला

- Ans
- 1. लंपट
  - 2. लंबोधर
  - 3. लंबोदर
  - 4. लंबू

Q.14 वाक्य के रेखांकित शब्द को नीचे दिये गये शब्दों में से सर्वोचित शब्द से परिवर्तित करें-

अँधेरे के पीछे ठीक से चल पाना कठिन था।

- Ans
- 1. समीप
  - 2. बनिस्पत
  - 3. समक्ष
  - 4. कारण

Q.15 'छाती पर मूंग दलना' मुहावरे का सही अर्थ इनमें से क्या होगा?

- Ans
- 1. गुस्सा करना
  - 2. झगड़ा करना
  - 3. मारपीट करना
  - 4. कष्ट पहुँचाना

#### Comprehension:

निम्नलिखित गद्यांश को पढ़कर प्रश्नों के उत्तर दीजिए-

सृष्टि के प्रत्येक कार्यकलाप को अनुशासित तथा सुष्ठु रूप में गतिशील देखकर उसके (26) \_\_\_\_\_ को जानने की अभिलाषा मनुष्य में आदिकाल से रही है। वैदिक ऋषियों ने उसके रूप - निर्माण का भरसक प्रयत्न किया, किंतु हताश होकर वे (27) \_\_\_\_\_ करके रह गये। उसका रूप स्थिर करने में स्वयं को असमर्थ मानकर उन्होंने उसे अरूप ही रहने दिया, किंतु उसे जानने की प्रक्रिया में कई नवीन रहस्यों के (28) \_\_\_\_\_ हुए। प्राचीन आर्य दो दलों में बँट गये। उनमें से एक एक दल तर्क और युक्ति से ब्रह्मा के रूप - निर्धारण का प्रयत्न करता रहा और दूसरे दल ने उसके रूप - निर्माण में तर्क और बुद्धि की पराजय को घोषित किया। इसी दूसरे दल के मनीषियों ने यह अनुभव किया कि मन केवल उसको जानने की (29) \_\_\_\_\_ से संतुष्ट नहीं है, बल्कि अधिकाधिक उस ओर आकर्षित होता जा रहा है। कभी - कभी ऐसे स्थल भी अनुभूति में आते हैं, जहाँ व्यक्ति उसके आलिंगन में स्वयं संपूर्ण विश्व को कुछ समय के लिए ऐसे भूल जाता है, मानो कोई पुरुष अपनी प्रिया के आलिंगन में स्वयं को और विश्व को भूल जाता हो। रहस्य - भावना के उद्गम के विषय में यह उक्ति (30) \_\_\_\_\_ ही है।

#### SubQuestion No : 16

Q.16 निम्न विकल्पों में से उचित शब्द चयन कर अनुच्छेद में रिक्त स्थान की पूर्ति करें।(26)

- Ans
- 1. प्रबंधक
  - 2. संचालक
  - 3. नियंता
  - 4. नियतांक

**Comprehension:**

निम्नलिखित गद्यांश को पढ़कर प्रश्नों के उत्तर दीजिए-

सृष्टि के प्रत्येक कार्यकलाप को अनुशासित तथा सुष्ठु रूप में गतिशील देखकर उसके (26) \_\_\_\_\_ को जानने की अभिलाषा मनुष्य में आदिकाल से रही है। वैदिक ऋषियों ने उसके रूप – निर्माण का भरसक प्रयत्न किया, किंतु हताश होकर वे (27) \_\_\_\_\_ करके रह गये। उसका रूप स्थिर करने में स्वयं को असमर्थ मानकर उन्होंने उसे अरूप ही रहने दिया, किंतु उसे जानने की प्रक्रिया में कई नवीन रहस्यों के (28) \_\_\_\_\_ हुए। प्राचीन आर्य दो दलों में बँट गये। उनमें से एक एक दल तर्क और युक्ति से ब्रह्मा के रूप – निर्धारण का प्रयत्न करता रहा और दूसरे दल ने उसके रूप – निर्माण में तर्क और बुद्धि की पराजय को घोषित किया। इसी दूसरे दल के मनीषियों ने यह अनुभव किया कि मन केवल उसको जानने की (29) \_\_\_\_\_ से संतुष्ट नहीं है, बल्कि अधिकाधिक उस ओर आकर्षित होता जा रहा है। कभी – कभी ऐसे स्थल भी अनुभूति में आते हैं, जहाँ व्यक्ति उसके आलिंगन में स्वयं संपूर्ण विश्व को कुछ समय के लिए ऐसे भूल जाता है, मानो कोई पुरुष अपनी प्रिया के आलिंगन में स्वयं को और विश्व को भूल जाता हो। रहस्य – भावना के उद्गम के विषय में यह उक्ति (30) \_\_\_\_\_ ही है।

**SubQuestion No : 17**

Q.17 निम्न विकल्पों में से उचित शब्द चयन कर अनुच्छेद में रिक्त स्थान की पूर्ति करें।(27)

- Ans
- 1. नेति - नेति
  - 2. चेतनकी
  - 3. नेति - धोती
  - 4. नेक - बशती

**Comprehension:**

निम्नलिखित गद्यांश को पढ़कर प्रश्नों के उत्तर दीजिए-

सृष्टि के प्रत्येक कार्यकलाप को अनुशासित तथा सुष्ठु रूप में गतिशील देखकर उसके (26) \_\_\_\_\_ को जानने की अभिलाषा मनुष्य में आदिकाल से रही है। वैदिक ऋषियों ने उसके रूप – निर्माण का भरसक प्रयत्न किया, किंतु हताश होकर वे (27) \_\_\_\_\_ करके रह गये। उसका रूप स्थिर करने में स्वयं को असमर्थ मानकर उन्होंने उसे अरूप ही रहने दिया, किंतु उसे जानने की प्रक्रिया में कई नवीन रहस्यों के (28) \_\_\_\_\_ हुए। प्राचीन आर्य दो दलों में बँट गये। उनमें से एक एक दल तर्क और युक्ति से ब्रह्मा के रूप – निर्धारण का प्रयत्न करता रहा और दूसरे दल ने उसके रूप – निर्माण में तर्क और बुद्धि की पराजय को घोषित किया। इसी दूसरे दल के मनीषियों ने यह अनुभव किया कि मन केवल उसको जानने की (29) \_\_\_\_\_ से संतुष्ट नहीं है, बल्कि अधिकाधिक उस ओर आकर्षित होता जा रहा है। कभी – कभी ऐसे स्थल भी अनुभूति में आते हैं, जहाँ व्यक्ति उसके आलिंगन में स्वयं संपूर्ण विश्व को कुछ समय के लिए ऐसे भूल जाता है, मानो कोई पुरुष अपनी प्रिया के आलिंगन में स्वयं को और विश्व को भूल जाता हो। रहस्य – भावना के उद्गम के विषय में यह उक्ति (30) \_\_\_\_\_ ही है।

**SubQuestion No : 18**

Q.18 निम्न विकल्पों में से उचित शब्द चयन कर अनुच्छेद में रिक्त स्थान की पूर्ति करें।(28)

- Ans
- 1. उद्भावन
  - 2. उद्ग्रहण
  - 3. उद्घाटन
  - 4. उदजनीकरण

**Comprehension:**

निम्नलिखित गद्यांश को पढ़कर प्रश्नों के उत्तर दीजिए-

सृष्टि के प्रत्येक कार्यकलाप को अनुशासित तथा सुष्ठु रूप में गतिशील देखकर उसके (26) \_\_\_\_\_ को जानने की अभिलाषा मनुष्य में आदिकाल से रही है। वैदिक ऋषियों ने उसके रूप – निर्माण का भरसक प्रयत्न किया, किंतु हताश होकर वे (27) \_\_\_\_\_ करके रह गये। उसका रूप स्थिर करने में स्वयं को असमर्थ मानकर उन्होंने उसे अरूप ही रहने दिया, किंतु उसे जानने की प्रक्रिया में कई नवीन रहस्यों के (28) \_\_\_\_\_ हुए। प्राचीन आर्य दो दलों में बँट गये। उनमें से एक एक दल तर्क और युक्ति से ब्रह्मा के रूप – निर्धारण का प्रयत्न करता रहा और दूसरे दल ने उसके रूप – निर्माण में तर्क और बुद्धि की पराजय को घोषित किया। इसी दूसरे दल के मनीषियों ने यह अनुभव किया कि मन केवल उसको जानने की (29) \_\_\_\_\_ से संतुष्ट नहीं है, बल्कि अधिकाधिक उस ओर आकर्षित होता जा रहा है। कभी – कभी ऐसे स्थल भी अनुभूति में आते हैं, जहाँ व्यक्ति उसके आलिंगन में स्वयं संपूर्ण विश्व को कुछ समय के लिए ऐसे भूल जाता है, मानो कोई पुरुष अपनी प्रिया के आलिंगन में स्वयं को और विश्व को भूल जाता हो। रहस्य – भावना के उद्गम के विषय में यह उक्ति (30) \_\_\_\_\_ ही है।

**SubQuestion No : 19**

Q.19 निम्न विकल्पों में से उचित शब्द चयन कर अनुच्छेद में रिक्त स्थान की पूर्ति करें।(29)

- Ans
- 1. जिहासा
  - 2. जिज्ञासा
  - 3. जिघांसा
  - 4. जिगीषा

**Comprehension:**

निम्नलिखित गद्यांश को पढ़कर प्रश्नों के उत्तर दीजिए-

सृष्टि के प्रत्येक कार्यकलाप को अनुशासित तथा सुष्ठु रूप में गतिशील देखकर उसके (26) \_\_\_\_\_ को जानने की अभिलाषा मनुष्य में आदिकाल से रही है। वैदिक ऋषियों ने उसके रूप – निर्माण का भरसक प्रयत्न किया, किंतु हताश होकर वे (27) \_\_\_\_\_ करके रह गये। उसका रूप स्थिर करने में स्वयं को असमर्थ मानकर उन्होंने उसे अरूप ही रहने दिया, किंतु उसे जानने की प्रक्रिया में कई नवीन रहस्यों के (28) \_\_\_\_\_ हुए। प्राचीन आर्य दो दलों में बँट गये। उनमें से एक एक दल तर्क और युक्ति से ब्रह्मा के रूप – निर्धारण का प्रयत्न करता रहा और दूसरे दल ने उसके रूप – निर्माण में तर्क और बुद्धि की पराजय को घोषित किया। इसी दूसरे दल के मनीषियों ने यह अनुभव किया कि मन केवल उसको जानने की (29) \_\_\_\_\_ से संतुष्ट नहीं है, बल्कि अधिकाधिक उस ओर आकर्षित होता जा रहा है। कभी – कभी ऐसे स्थल भी अनुभूति में आते हैं, जहाँ व्यक्ति उसके आलिंगन में स्वयं संपूर्ण विश्व को कुछ समय के लिए ऐसे भूल जाता है, मानो कोई पुरुष अपनी प्रिया के आलिंगन में स्वयं को और विश्व को भूल जाता हो। रहस्य – भावना के उद्गम के विषय में यह उक्ति (30) \_\_\_\_\_ ही है।

**SubQuestion No : 20**

Q.20 निम्न विकल्पों में से उचित शब्द चयन कर अनुच्छेद में रिक्त स्थान की पूर्ति करें।(30)

- Ans
- 1. संगत
  - 2. संहत
  - 3. शकुंत
  - 4. संगंध