

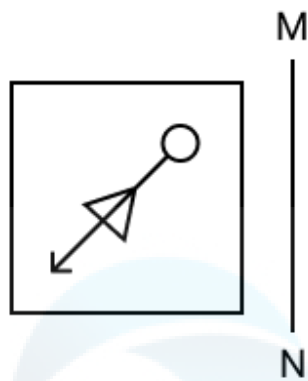
Constable GD in CAPFs and SSF Rifleman GD in AR and Sepoy in NCB Examination 2025

Exam Date	05/02/2025
Exam Time	3:00 PM - 4:00 PM
Subject	Constable GD Examination 2025

Section : Part-A-General Intelligence and Reasoning

Q.1	दी गई श्रृंखला में प्रश्नवाचक चिन्ह (?) के स्थान पर क्या आना चाहिए? 419 424 430 437 445 ?
Ans	<div><div><div>✗</div><div>1. 453</div></div><div><div>✗</div><div>2. 456</div></div><div><div>✗</div><div>3. 455</div></div><div><div>✓</div><div>4. 454</div></div></div>
Q.2	GD 34 एक निश्चित तरीके से HE 24 से संबंधित है। उसी तरीके से CJ 12, DK 2 से संबंधित है। उसी तर्क का अनुसरण करते हुए XV 56 दिए गए विकल्पों में से किससे संबंधित है?
Ans	<div><div><div>✓</div><div>1. YW 46</div></div><div><div>✗</div><div>2. YW 47</div></div><div><div>✗</div><div>3. XW 46</div></div><div><div>✗</div><div>4. YX 46</div></div></div>
Q.3	दी गई श्रृंखला में प्रश्नचिह्न (?) के स्थान पर क्या आना चाहिए? 19 19 20 24 33 ?
Ans	<div><div><div>✗</div><div>1. 51</div></div><div><div>✓</div><div>2. 49</div></div><div><div>✗</div><div>3. 48</div></div><div><div>✗</div><div>4. 50</div></div></div>
Q.4	किसी निश्चित कूट भाषा में, 'LTRH' को '58' के रूप में कूट बद्ध किया जाता है और 'NBZW' को '65' के रूप में कूट बद्ध किया जाता है। दी गई कूट भाषा में 'GSCE' को किस प्रकार कूट बद्ध किया जाएगा?
Ans	<div><div><div>✗</div><div>1. 40</div></div><div><div>✗</div><div>2. 31</div></div><div><div>✓</div><div>3. 34</div></div><div><div>✗</div><div>4. 39</div></div></div>

Q.5 जब दर्पण को नीचे दर्शाए गए अनुसार MN पर रखा जाता है, तो दी गई आकृति के सही दर्पण प्रतिबिंब का चयन कीजिए।



Ans

- ✓ 1.

A stick figure with a circle head and an arrow pointing up and to the right, which is the correct mirror image of the object.
- ✗ 2.

A stick figure with a circle head and an arrow pointing down and to the right, which is not the correct mirror image.
- ✗ 3.

A stick figure with a circle head and an arrow pointing up and to the left, which is not the correct mirror image.
- ✗ 4.

A stick figure with a circle head and an arrow pointing down and to the left, which is not the correct mirror image.

Q.6 अंग्रेजी वर्णमाला क्रम के आधार पर दी गई श्रृंखला में प्रश्न चिह्न (?) के स्थान पर क्या आना चाहिए?

MAN, OAP, QAR, ? , UAV

Ans

- ✓ 1. SAT
- ✗ 2. SBT
- ✗ 3. AST
- ✗ 4. STA

Q.7 सात व्यक्ति, G, H, I, J, K, L और M, एक पंक्ति में उत्तर की ओर मुख करके बैठे हैं। (परंतु जरूरी नहीं कि वे इसी क्रम में बैठे हों)। J के बाईं ओर केवल G बैठा है। G और H के बीच में केवल चार व्यक्ति बैठे हैं। L और I के बीच में केवल K बैठा है, और L, H का निकटतम पड़ोसी नहीं है। M और J के बीच में कितने व्यक्ति बैठे हैं?

- Ans
- ✓ 1. चार
 - ✗ 2. एक
 - ✗ 3. दो
 - ✗ 4. तीन

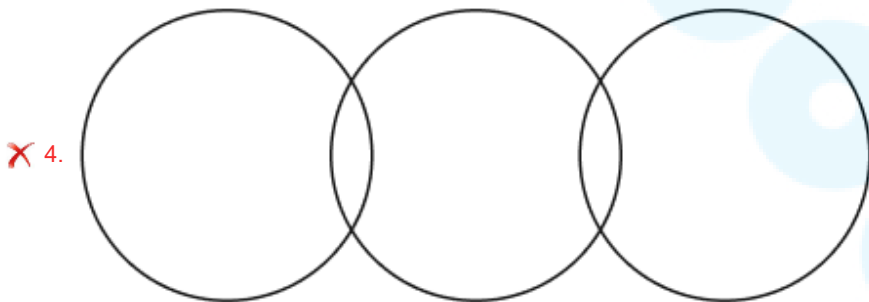
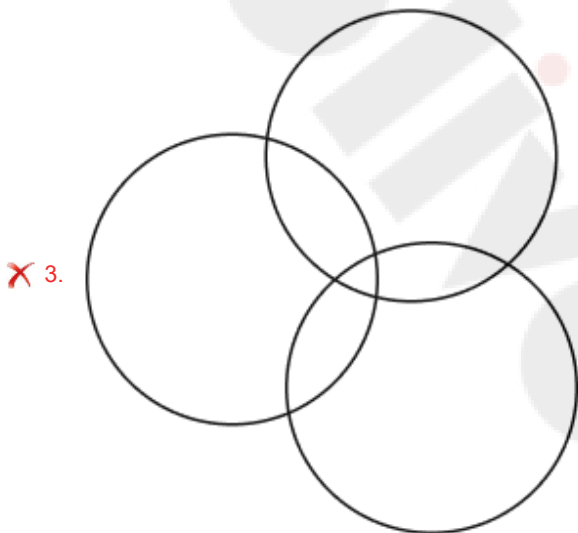
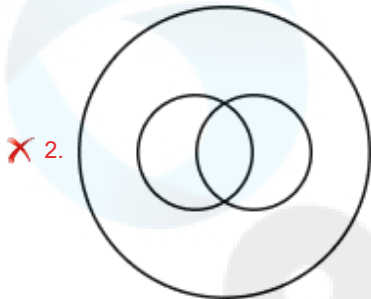
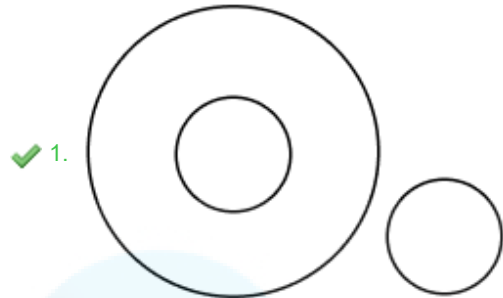
Q.8 अंग्रेजी वर्णमाला क्रम के आधार पर, निम्नलिखित चार अक्षर-समूहों में से तीन एक निश्चित प्रकार से समान हैं और इस प्रकार एक समूह बनाते हैं। वह कौन-सा अक्षर-समूह है जो उस समूह से संबंधित नहीं है? (ध्यान दें: असंगत अक्षर-समूह, उस अक्षर-समूह में व्यंजनों/स्वरों की संख्या या उनके स्थान पर आधारित नहीं है।)

- Ans
- ✗ 1. LOU
 - ✗ 2. HKQ
 - ✓ 3. OIG
 - ✗ 4. BEK

Q.9 उस वेन-आरेख का चयन कीजिए, जो निम्नलिखित वर्गों के बीच संबंध को सर्वोत्तम रूप से दर्शाता हो।

जानवर, घोड़े, पेड़

Ans



Q.10 उस विकल्प का चयन करें, जो उन अक्षरों का निरूपण करता है, जिन्हें नीचे दिए गए रिक्त स्थानों में बाएँ से दाएँ क्रमिक रूप से रखे जाने पर अक्षर श्रृंखला को पूरा करेगा।
_ O _ K R _ _ J K _ E

Ans ✗ 1. RJEEO

✓ 2. EJEOR

✗ 3. OERJE

✗ 4. JEORE

Q.11 विकल्पों में दी गई उस आकृति की पहचान कीजिए जिसे प्रश्न चिह्न (?) के स्थान पर रखने पर श्रृंखला तार्किक रूप से पूर्ण हो जाएगी।



Ans

✓ 1.



✗ 2.



✗ 3.



✗ 4.



Q.12 दिए गए कथनों और निष्कर्षों को ध्यानपूर्वक पढ़िए। यह मानते हुए कि कथनों में दी गई जानकारी सत्य है, चाहे वह सामान्यतः ज्ञात तथ्यों से भिन्न प्रतीत होती हो और निर्णय लीजिए कि दिए गए निष्कर्षों में से कौन-सा/कौन-से निष्कर्ष कथनों का तार्किक रूप से अनुसरण करता है/करते हैं।

कथन:
सभी सलाद, ऐपेटाइज़र हैं।
सभी सलाद, भोजन हैं।
सभी भोजन, चावल हैं।

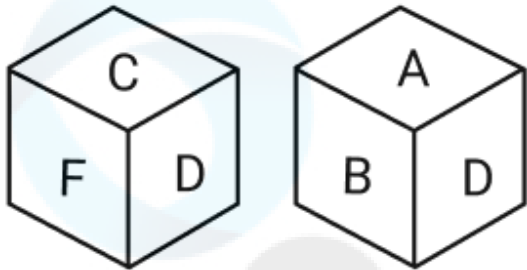
निष्कर्ष:
(I): सभी सलाद, चावल हैं।
(II): कुछ भोजन, ऐपेटाइज़र हैं।

- Ans
- ✗ 1. न तो निष्कर्ष (I) और न ही (II) अनुसरण करता है।
 - ✗ 2. केवल निष्कर्ष (II) अनुसरण करता है।
 - ✓ 3. दोनों निष्कर्ष (I) और (II) अनुसरण करते हैं।
 - ✗ 4. केवल निष्कर्ष (I) अनुसरण करता है।

Q.13 एक निश्चित कूट भाषा में, 'USJI' को '49' के रूप में और 'DPTQ' को '51' के रूप में कूटबद्ध किया जाता है। दी गई भाषा में 'FAUL' के लिए कूट क्या होगा?

- Ans
- ✗ 1. 57
 - ✗ 2. 62
 - ✗ 3. 59
 - ✓ 4. 68

Q.14 एक पासे के फलकों पर अक्षर A, B, C, D, E और F अंकित हैं। नीचे एक ही पासे की दो अलग-अलग स्थितियाँ दर्शाई गई हैं। उस अक्षर का चयन कीजिए, जो फलक E के विपरीत फलक पर होगा।



- Ans
- ✗ 1. B
 - ✗ 2. A
 - ✓ 3. D
 - ✗ 4. C

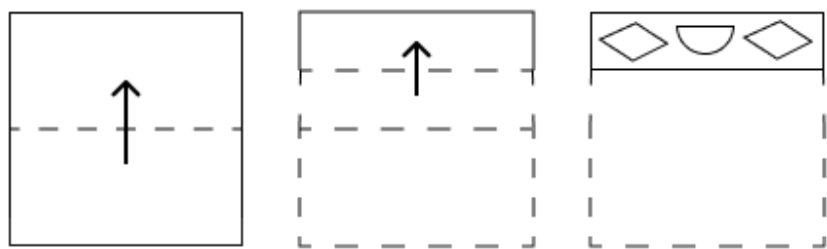
Q.15 एक निश्चित कूट भाषा में,

'Z + H' का अर्थ है कि 'Z, H की पुत्री है',
'Z # H' का अर्थ है कि 'Z, H की बहन है',
'Z @ H' का अर्थ है कि 'Z, H की माता है' और
'Z % H' का अर्थ है कि 'Z, H का भाई है'।

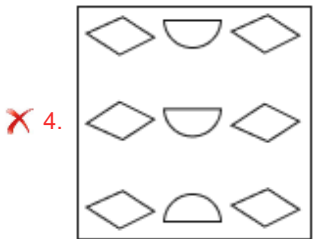
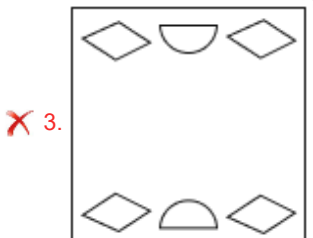
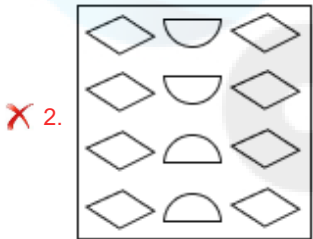
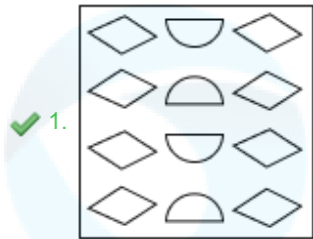
यदि 'E % L # R + B' है, तो उपरोक्त के आधार पर R, E से किस प्रकार संबंधित है?

- Ans
- ✗ 1. माता
 - ✗ 2. पुत्री
 - ✗ 3. भाई
 - ✓ 4. बहन

Q.16 एक कागज़ को नीचे दर्शाए गए अनुसार मोड़कर काटा जाता है। खोलने पर यह कैसा दिखाई देगा?



Ans



Q.17 AMBUSH अंग्रेजी वर्णमाला क्रम के आधार पर एक निश्चित प्रकार से FPIWTH से संबंधित है। LYPASE ठीक उसी प्रकार QBWCTE से संबंधित है। उसी तर्क का अनुसरण करते हुए, OCTANE दिए गए विकल्पों में से किससे संबंधित है?

- Ans
- ✗ 1. TFBDM E
 - ✗ 2. TFADME
 - ✗ 3. TFBCOF
 - ✓ 4. TFACOE

Q.18 E, F, G, H, K, L और N, एक वृत्ताकार मेज के चारों ओर मेज के केंद्र की ओर मुख करके बैठे हैं (परंतु जरूरी नहीं कि वे इसी क्रम में बैठे हों)। H के बायीं ओर से गिनने पर H और N के बीच में केवल तीन व्यक्ति बैठे हैं। E के दायीं ओर से गिनने पर L और E के बीच में केवल तीन व्यक्ति बैठे हैं। K, L के ठीक दायीं ओर बैठा है। F, E के साथ-साथ N का भी निकटतम पड़ोसी है। G के दायीं ओर से दूसरे स्थान पर कौन बैठा है?

- Ans
- ✗ 1. N
 - ✗ 2. L
 - ✗ 3. E
 - ✓ 4. K

Q.19	यदि '+' और 'x' को परस्पर बदल दिया जाए तथा '-' और '÷' को परस्पर बदल दिया जाए, तो निम्नलिखित समीकरण में प्रश्न चिह्न (?) के स्थान पर क्या आएगा? 28 - 4 × 12 ÷ 5 + 3 = ?
Ans	<div><div>✓ 1. 4</div><div>✗ 2. 1</div><div>✗ 3. 14</div><div>✗ 4. 9</div></div>
Q.20	यदि शब्द REVERSAL के प्रत्येक अक्षर को उल्टे अंग्रेजी वर्णमाला क्रम में व्यवस्थित किया जाए, तो कितने अक्षरों का स्थान अपरिवर्तित रहेगा?
Ans	<div><div>✗ 1. एक</div><div>✗ 2. तीन</div><div>✓ 3. एक का भी नहीं</div><div>✗ 4. दो</div></div>

Section : Part-B-General Knowledge and General awareness

Q.1	मार्च 2023 में किस उम्मत-हट (Ummathat) लोक नृत्य कलाकार को पद्म श्री से सम्मानित किया गया?
Ans	<div><div>✓ 1. रानी मछैया (Rani Machaiah)</div><div>✗ 2. सुभद्रा देवी (Subhadra Devi)</div><div>✗ 3. वाणी जयराम (Vani Jairam)</div><div>✗ 4. सुमन कल्याणपुर (Suman Kalyanpur)</div></div>
Q.2	निम्नलिखित में से किस केंद्रीय मंत्रालय ने फरवरी 2024 में संसद में जल (प्रदूषण की रोकथाम एवं नियंत्रण) संशोधन विधेयक, 2024 प्रस्तुत किया?
Ans	<div><div>✗ 1. नागर विमानन मंत्रालय</div><div>✗ 2. कृषि एवं किसान कल्याण मंत्रालय</div><div>✗ 3. उपभोक्ता मामले, खाद्य और सार्वजनिक वितरण मंत्रालय</div><div>✓ 4. पर्यावरण, वन एवं जलवायु परिवर्तन मंत्रालय</div></div>
Q.3	जून 2024 में, पूर्व क्रिकेटर यूसुफ पठान ने बहरामपुर लोकसभा सीट जीती; यह निर्वाचन क्षेत्र किस राज्य में स्थित है?
Ans	<div><div>✗ 1. उत्तराखंड</div><div>✗ 2. उत्तर प्रदेश</div><div>✗ 3. त्रिपुरा</div><div>✓ 4. पश्चिम बंगाल</div></div>
Q.4	डालचंद शर्मा निम्नलिखित में से किस घराने के प्रख्यात पखावज वादक (Pakhawaj exponent) हैं?
Ans	<div><div>✗ 1. अतरौली - जयपुर</div><div>✗ 2. रामपुर - सहस्रवान</div><div>✗ 3. लखनऊ</div><div>✓ 4. नाथद्वारा</div></div>
Q.5	योजना आयोग में प्रधानमंत्री की भूमिका क्या थी?
Ans	<div><div>✗ 1. पदेन सदस्य</div><div>✓ 2. पदेन अध्यक्ष</div><div>✗ 3. संवाद सहयोगी</div><div>✗ 4. सचिव</div></div>

Q.6	निम्नलिखित में से किस शास्त्रीय नृत्य में 'पुंग (pung)' को सबसे महत्वपूर्ण वाद्ययंत्र के रूप में उपयोग किया जाता है?
Ans	<div><div><div>✖</div><div>1. कथकली</div></div><div><div>✖</div><div>2. कथक</div></div><div><div>✖</div><div>3. ओडिसी</div></div><div><div>✔</div><div>4. मणिपुरी</div></div></div>
Q.7	ब्रिटिश ईस्ट इंडिया कंपनी और मराठा पेशवा बाजी राव द्वितीय के बीच बेसिन की संधि (Treaty of Bassein) पर हस्ताक्षर निम्नलिखित में से किस वर्ष किए गए थे?
Ans	<div><div><div>✖</div><div>1. 1818</div></div><div><div>✖</div><div>2. 1824</div></div><div><div>✖</div><div>3. 1835</div></div><div><div>✔</div><div>4. 1802</div></div></div>
Q.8	क्रमशः 2 kg और 3 kg द्रव्यमान वाली दो वस्तुओं A और B को अलग-अलग ऊँचाई से गिराया जाता है। धरातल को स्पर्श करने में A को 5 सेकंड और B को 3 सेकंड लगते हैं। उनकी उस गतिज ऊर्जा का अनुपात कितना है जिससे वे धरातल से टकराते हैं?
Ans	<div><div><div>✖</div><div>1. 2/3</div></div><div><div>✖</div><div>2. 10/9</div></div><div><div>✔</div><div>3. 50/27</div></div><div><div>✖</div><div>4. 5/3</div></div></div>
Q.9	भारतीय संविधान का कौन-सा अनुच्छेद काम की न्यायसंगत और मानवोचित दशाओं के सिद्धांत को रेखांकित करता है?
Ans	<div><div><div>✖</div><div>1. अनुच्छेद 41</div></div><div><div>✖</div><div>2. अनुच्छेद 48</div></div><div><div>✖</div><div>3. अनुच्छेद 46</div></div><div><div>✔</div><div>4. अनुच्छेद 42</div></div></div>
Q.10	टी-20 ब्लाइंड क्रिकेट विश्व कप (T20 Blind Cricket World Cup) 2022 का फाइनल मैच कहाँ आयोजित किया गया था?
Ans	<div><div><div>✔</div><div>1. एम. चिन्नास्वामी स्टेडियम, बेंगलुरु</div></div><div><div>✖</div><div>2. नरेंद्र मोदी स्टेडियम, अहमदाबाद</div></div><div><div>✖</div><div>3. वानखेड़े स्टेडियम, मुंबई</div></div><div><div>✖</div><div>4. होल्कर स्टेडियम, इंदौर</div></div></div>
Q.11	बेकिंग उद्योग में ब्रेड, पेस्ट्री और केक बनाने के लिए किस कार्बनिक लेवनर (leavener) का उपयोग किया जाता है?
Ans	<div><div><div>✖</div><div>1. मोल्ड (Molds)</div></div><div><div>✖</div><div>2. स्मट (Smuts)</div></div><div><div>✖</div><div>3. रस्ट (Rusts)</div></div><div><div>✔</div><div>4. खमीर (Yeasts)</div></div></div>
Q.12	ब्रह्मपुत्र नदी, निम्नलिखित में से किस देश में नहीं बहती है?
Ans	<div><div><div>✖</div><div>1. चीन</div></div><div><div>✔</div><div>2. नेपाल</div></div><div><div>✖</div><div>3. भारत</div></div><div><div>✖</div><div>4. बांग्लादेश</div></div></div>

Q.13	प्रकृति से कच्चे माल के निष्कर्षण में कौन-सा उद्योग सम्मिलित है?
Ans	<div><div><input type="checkbox"/></div>1. विनिर्माण उद्योग (Manufacturing industry)</div> <div><div><input checked="" type="checkbox"/></div>2. निष्कर्षण उद्योग (Extractive industry)</div> <div><div><input type="checkbox"/></div>3. निर्माण उद्योग (Construction industry)</div> <div><div><input type="checkbox"/></div>4. सेवा उद्योग (Service industry)</div>
Q.14	पाइरैनोमीटर (pyranometer), _____ मापने वाला एक उपकरण है, जिसका उपयोग आमतौर पर जलवायु अनुसंधान या मौसम प्रदर्शन की निगरानी के लिए किया जाता है।
Ans	<div><div><input checked="" type="checkbox"/></div>1. सौर किरणता (solar irradiance)</div> <div><div><input type="checkbox"/></div>2. वायुमंडलीय दाब (atmospheric pressure)</div> <div><div><input type="checkbox"/></div>3. पवन चाल (wind speed)</div> <div><div><input type="checkbox"/></div>4. मेघ छাদ (cloud ceiling)</div>
Q.15	भारत में कोयला खदानों का राष्ट्रीयकरण किस समयावधि में किया गया था?
Ans	<div><div><input type="checkbox"/></div>1. 1966-1970</div> <div><div><input checked="" type="checkbox"/></div>2. 1971-1975</div> <div><div><input type="checkbox"/></div>3. 1961-1965</div> <div><div><input type="checkbox"/></div>4. 1976-1980</div>
Q.16	पूर्व क्रिकेटर रोजर बिन्नी किस देश के लिए क्रिकेट खेलते थे?
Ans	<div><div><input type="checkbox"/></div>1. ऑस्ट्रेलिया</div> <div><div><input type="checkbox"/></div>2. इंग्लैंड</div> <div><div><input type="checkbox"/></div>3. न्यूज़ीलैंड</div> <div><div><input checked="" type="checkbox"/></div>4. भारत</div>
Q.17	_____ दिनों का काम (रोजगार) देने के लिए भारत सरकार द्वारा गरीब कल्याण रोजगार योजना 2020 शुरू की गई थी।
Ans	<div><div><input type="checkbox"/></div>1. 120</div> <div><div><input type="checkbox"/></div>2. 115</div> <div><div><input type="checkbox"/></div>3. 130</div> <div><div><input checked="" type="checkbox"/></div>4. 125</div>
Q.18	ऋग्वेद में गंगा नदी का उल्लेख कितनी बार हुआ है?
Ans	<div><div><input type="checkbox"/></div>1. 4</div> <div><div><input type="checkbox"/></div>2. 3</div> <div><div><input type="checkbox"/></div>3. 2</div> <div><div><input checked="" type="checkbox"/></div>4. 1</div>
Q.19	गणतंत्र दिवस 2023 पर किस देश की टुकड़ी ने भारतीय सैनिकों के साथ मार्च किया?
Ans	<div><div><input type="checkbox"/></div>1. जापान</div> <div><div><input checked="" type="checkbox"/></div>2. मिस्र</div> <div><div><input type="checkbox"/></div>3. फ्रांस</div> <div><div><input type="checkbox"/></div>4. जर्मनी</div>
Q.20	निम्नलिखित में से कौन, भारत में मानवाधिकारों के उल्लंघन की शिकायतों की जांच के लिए उत्तरदायी नहीं होता है?
Ans	<div><div><input type="checkbox"/></div>1. राष्ट्रीय अनुसूचित जाति आयोग</div> <div><div><input checked="" type="checkbox"/></div>2. अंतर्राष्ट्रीय मानवाधिकार आयोग</div> <div><div><input type="checkbox"/></div>3. राष्ट्रीय महिला आयोग</div> <div><div><input type="checkbox"/></div>4. भारत का राष्ट्रीय मानवाधिकार आयोग</div>

Q.1 यदि $3x^2$ और $4xy$ का तृतीयानुपाती 48 है, तो y का धनात्मक मान कितना है?

- Ans
- ☐ 1. 2
 - ☐ 2. 9
 - ☐ 3. 6
 - ☒ 4. 3

Q.2 A और B की चाल का अनुपात 3 : 5 है। यदि B को एक निश्चित दूरी तय करने में 18 मिनट लगते हैं, तो A को समान दूरी तय करने में कितना समय लगेगा?

- Ans
- ☐ 1. 25 मिनट
 - ☒ 2. 30 मिनट
 - ☐ 3. 20 मिनट
 - ☐ 4. 33 मिनट

Q.3 केतन ने 151 कुर्सियाँ बेचीं और उसे 51 कुर्सियों के विक्रय मूल्य के बराबर लाभ हुआ। उसका लाभ प्रतिशत कितना है?

- Ans
- ☒ 1. 51%
 - ☐ 2. 56%
 - ☐ 3. 46%
 - ☐ 4. 61%

Q.4 यदि एक अर्धगोले की त्रिज्या $13\sqrt{3}$ cm है, तो इसका वक्र पृष्ठीय क्षेत्रफल ज्ञात कीजिए।

- Ans
- ☐ 1. $1044\pi \text{ cm}^2$
 - ☒ 2. $1014\pi \text{ cm}^2$
 - ☐ 3. $1034\pi \text{ cm}^2$
 - ☐ 4. $1024\pi \text{ cm}^2$

Q.5 ईंधन की कीमत क्रमागत तीन महीनों में 40%, 50% और 15% कम की गई है, लेकिन चौथे महीने में 40% वृद्धि की गई है। चौथे महीने में ईंधन की कीमत में उसकी मूल कीमत की तुलना में कितने प्रतिशत की वृद्धि/कमी हुई है?

- Ans
- ☐ 1. 65.47% की वृद्धि
 - ☐ 2. 65.91% की वृद्धि
 - ☒ 3. 64.3% की कमी
 - ☐ 4. 69.09% की कमी

Q.6 x तीन अंकों की एक बड़ी से बड़ी संख्या है जो 12, 20 और 25 से पूर्णतः विभाज्य है। x के अंकों का योग ज्ञात कीजिए।

- Ans
- ☐ 1. 8
 - ☐ 2. 7
 - ☐ 3. 5
 - ☒ 4. 9

Q.7 x तथा $x + 100$ का तृतीयानुपाती 405 है, x का मान ज्ञात कीजिए (जहाँ $x > 100$) है।

- Ans
- ☐ 1. 225
 - ☒ 2. 125
 - ☐ 3. 115
 - ☐ 4. 180

Q.8	<p>वार्षिक साधारण ब्याज की समान दर पर अमित ₹5400 की राशि का निवेश करता है और गोपाल ₹9400 की राशि का निवेश करता है। यदि 3 वर्ष के अंत में, गोपाल को अमित से ₹840 अधिक ब्याज प्राप्त होता है, तो वार्षिक ब्याज की दर (प्रतिशत में) ज्ञात कीजिए।</p> <p>Ans <input checked="" type="checkbox"/> 1. 7</p> <p><input type="checkbox"/> 2. 5</p> <p><input type="checkbox"/> 3. 6</p> <p><input type="checkbox"/> 4. 9</p>
Q.9	<p>मूल्यांकन कीजिए : $32 \div 8 \times 4 - 3 \times 4$</p> <p>Ans <input type="checkbox"/> 1. 6</p> <p><input type="checkbox"/> 2. 3</p> <p><input type="checkbox"/> 3. 7</p> <p><input checked="" type="checkbox"/> 4. 4</p>
Q.10	<p>यदि अंकित मूल्य पर 26% की छूट देने के बाद पांच ब्लूटूथ उपकरणों का विक्रय मूल्य ₹14,430 है, तो एक उपकरण का अंकित मूल्य ज्ञात कीजिए।</p> <p>Ans <input type="checkbox"/> 1. ₹2,886</p> <p><input checked="" type="checkbox"/> 2. ₹3,900</p> <p><input type="checkbox"/> 3. ₹3,000</p> <p><input type="checkbox"/> 4. ₹3,365</p>
Q.11	<p>एक खुदरा विक्रेता ₹22,400 में 12 जोड़ी जूते खरीदता है। उसका उपरि खर्च ₹1,600 है। यदि वह इन 12 जोड़ी जूतों की बिक्री से ₹28,500 अर्जित करता है, तो उसका लाभ प्रतिशत ज्ञात कीजिए।</p> <p>Ans <input type="checkbox"/> 1. 17.5%</p> <p><input type="checkbox"/> 2. 19.25%</p> <p><input type="checkbox"/> 3. 20%</p> <p><input checked="" type="checkbox"/> 4. 18.75%</p>
Q.12	<p>एक कक्षा के 39 विद्यार्थियों की औसत आयु 39 वर्ष है। यदि शिक्षक की आयु भी सम्मिलित कर ली जाए, तो संपूर्ण समूह की औसत आयु 40 वर्ष हो जाती है। शिक्षक की आयु (वर्ष में) ज्ञात कीजिए।</p> <p>Ans <input type="checkbox"/> 1. 77</p> <p><input type="checkbox"/> 2. 81</p> <p><input type="checkbox"/> 3. 83</p> <p><input checked="" type="checkbox"/> 4. 79</p>
Q.13	<p>एक कंप्यूटर की कीमत ₹22,200 है। 25% की कमी के बाद कंप्यूटर की कीमत कितनी होगी?</p> <p>Ans <input type="checkbox"/> 1. ₹16,750</p> <p><input type="checkbox"/> 2. ₹16,450</p> <p><input type="checkbox"/> 3. ₹16,550</p> <p><input checked="" type="checkbox"/> 4. ₹16,650</p>
Q.14	<p>निम्नलिखित का मान ज्ञात कीजिए।</p> $\left[(63 \div 9) \times \left\{ \frac{14}{7} + \frac{19}{1} \times (7 - 6) \right\} \right]$ <p>Ans <input type="checkbox"/> 1. 159</p> <p><input type="checkbox"/> 2. 148</p> <p><input type="checkbox"/> 3. 150</p> <p><input checked="" type="checkbox"/> 4. 147</p>

Q.15	एक कार 8 km की चार क्रमिक दूरियां क्रमशः 12 km/hr, 18 km/hr, 24 km/hr और 36 km/hr की चाल से तय करती है। पूरी दूरी के लिए इसकी औसत चाल (km/hr में) कितनी है?
Ans	<div>✗ 1. 22.5</div> <div>✓ 2. 19.2</div> <div>✗ 3. 18</div> <div>✗ 4. 20</div>
Q.16	निम्नलिखित का मान ज्ञात कीजिए। $\left[(42 \div 7) \times \left\{ \frac{42}{3} + \frac{19}{4} \times (8 - 4) \right\} \right]$
Ans	<div>✓ 1. 198</div> <div>✗ 2. 180</div> <div>✗ 3. 209</div> <div>✗ 4. 202</div>
Q.17	4 पुरुष और 3 महिलाएँ एक कार्य को 6 दिनों में पूरा करते हैं, तथा 5 पुरुष और 7 महिलाएँ उसी कार्य को 4 दिनों में पूरा कर सकते हैं। 8 पुरुष और 6 महिलाएँ उसी कार्य को पूरा करने में कितना समय लेंगे?
Ans	<div>✓ 1. 3 दिन</div> <div>✗ 2. 9 दिन</div> <div>✗ 3. 8 दिन</div> <div>✗ 4. 6 दिन</div>
Q.18	यदि 4% वार्षिक ब्याज दर से तीन वर्षों के चक्रवृद्धि ब्याज तथा साधारण ब्याज का अंतर ₹228 है, तो मूलधन (₹ में) ज्ञात कीजिए।
Ans	<div>✗ 1. 47295</div> <div>✓ 2. 46875</div> <div>✗ 3. 48075</div> <div>✗ 4. 46300</div>
Q.19	यदि समान ब्याज दर पर, 2 वर्ष में, साधारण ब्याज ₹40 तथा चक्रवृद्धि ब्याज ₹65 है, तो मूलधन (₹ में) ज्ञात कीजिए।
Ans	<div>✗ 1. 11</div> <div>✓ 2. 16</div> <div>✗ 3. 20</div> <div>✗ 4. 9</div>
Q.20	चेतन शहर A से शहर B तक यात्रा करता है। यदि चेतन अपनी कार को अपनी सामान्य चाल की $\frac{3}{4}$ चाल पर चलाता है, तो वह शहर B तक 33 मिनट देरी से पहुंचता है। यदि चेतन अपनी कार सामान्य चाल से चलाता, तो शहर A से शहर B तक यात्रा करने में उसे कितना समय (मिनट में) लगता?
Ans	<div>✗ 1. 100</div> <div>✗ 2. 93</div> <div>✓ 3. 99</div> <div>✗ 4. 97</div>

Q.1	Select the most appropriate option that can substitute the underlined word in the given sentence.
	Give the cake to <u>which</u> asks for it first.
Ans	<div><input checked="" type="checkbox"/> 1. whom so ever</div> <div><input checked="" type="checkbox"/> 2. whomever</div> <div><input checked="" type="checkbox"/> 3. whoever</div> <div><input checked="" type="checkbox"/> 4. whichever</div>
Q.2	The given sentence is divided into four segments. Select the option that has the segment with an adverbial usage error.
	Mrs. Jennifer, / our English professor, / told us that the wind / reluctantly rustled the branches.
Ans	<div><input checked="" type="checkbox"/> 1. reluctantly rustled the branches.</div> <div><input checked="" type="checkbox"/> 2. told us that the wind</div> <div><input checked="" type="checkbox"/> 3. our English professor,</div> <div><input checked="" type="checkbox"/> 4. Mrs. Jennifer,</div>
Q.3	Select the most appropriate synonym of the underlined word. The explorer ventured into the <u>uncharted</u> territory in search of adventure.
Ans	<div><input checked="" type="checkbox"/> 1. Familiar</div> <div><input checked="" type="checkbox"/> 2. Mapped</div> <div><input checked="" type="checkbox"/> 3. Explored</div> <div><input checked="" type="checkbox"/> 4. Undiscovered</div>
Q.4	Identify the INCORRECTLY spelt word in the given sentence.
	The vicissitudes of life can be incredulus, but the perseverance and unyielding tenacity of the human spirit remain indomitable.
Ans	<div><input checked="" type="checkbox"/> 1. incredulus</div> <div><input checked="" type="checkbox"/> 2. vicissitudes</div> <div><input checked="" type="checkbox"/> 3. indomitable</div> <div><input checked="" type="checkbox"/> 4. unyielding</div>
Q.5	Select the most appropriate option that can substitute the highlighted word segment in the given sentence. If the sentence is grammatically correct, select 'No correction'.
	The boy play football since he has come from school.
Ans	<div><input checked="" type="checkbox"/> 1. has been playing</div> <div><input checked="" type="checkbox"/> 2. was playing</div> <div><input checked="" type="checkbox"/> 3. plays</div> <div><input checked="" type="checkbox"/> 4. No correction</div>
Q.6	Select the most appropriate ANTONYM of the given word.
	Snug
Ans	<div><input checked="" type="checkbox"/> 1. Persistent</div> <div><input checked="" type="checkbox"/> 2. Ample</div> <div><input checked="" type="checkbox"/> 3. Uncomfortable</div> <div><input checked="" type="checkbox"/> 4. Aromatic</div>

Q.7	Select the most appropriate option to fill in the blank and make the sentence meaningful. You must refrain _____ unpleasant conversations.
Ans	<div><div><input checked="" type="checkbox"/></div>1. with</div> <div><div><input checked="" type="checkbox"/></div>2. to</div> <div><div><input checked="" type="checkbox"/></div>3. from</div> <div><div><input checked="" type="checkbox"/></div>4. by</div>
Q.8	In the sentence, 'The room was filled with an eerie silence after the announcement', what is a synonym of the word 'eerie'?
Ans	<div><div><input checked="" type="checkbox"/></div>1. Mysterious</div> <div><div><input checked="" type="checkbox"/></div>2. Tense</div> <div><div><input checked="" type="checkbox"/></div>3. Soothing</div> <div><div><input checked="" type="checkbox"/></div>4. Comfortable</div>
Q.9	Select the INCORRECTLY spelt word.
Ans	<div><div><input checked="" type="checkbox"/></div>1. Grateful</div> <div><div><input checked="" type="checkbox"/></div>2. Persuade</div> <div><div><input checked="" type="checkbox"/></div>3. Accross</div> <div><div><input checked="" type="checkbox"/></div>4. Navigate</div>
Q.10	Select the most appropriate option to fill in the blank. The scientist's _____ research into renewable energy sources is expected to revolutionize the industry.
Ans	<div><div><input checked="" type="checkbox"/></div>1. hasty</div> <div><div><input checked="" type="checkbox"/></div>2. superficial</div> <div><div><input checked="" type="checkbox"/></div>3. meticulous</div> <div><div><input checked="" type="checkbox"/></div>4. cursory</div>
Q.11	Select the most appropriate meaning of the given word. Ambiguous
Ans	<div><div><input checked="" type="checkbox"/></div>1. Harsh and severe</div> <div><div><input checked="" type="checkbox"/></div>2. Uncertain or open to interpretation</div> <div><div><input checked="" type="checkbox"/></div>3. Funny and humorous</div> <div><div><input checked="" type="checkbox"/></div>4. Clear and straightforward</div>
Q.12	Select the most appropriate ANTONYM of the given word. Establish
Ans	<div><div><input checked="" type="checkbox"/></div>1. Enlarge</div> <div><div><input checked="" type="checkbox"/></div>2. Charge</div> <div><div><input checked="" type="checkbox"/></div>3. Demolish</div> <div><div><input checked="" type="checkbox"/></div>4. Alert</div>
Q.13	Select the most appropriate option to fill in the blank. Determine the collocation through the sentence. Resolution is the courage to act despite the _____ of failure.
Ans	<div><div><input checked="" type="checkbox"/></div>1. hope</div> <div><div><input checked="" type="checkbox"/></div>2. fear</div> <div><div><input checked="" type="checkbox"/></div>3. love</div> <div><div><input checked="" type="checkbox"/></div>4. hate</div>

Q.14

The following sentence has been divided into parts. Select the part that contains a grammatical error from the given options. If you don't find any error, mark 'No error' as your answer.

A tiger be strayed into a village / at Gosaba in the Sundarbans, entered a / cowshed and killed three cows last night.

Ans

✗

1. cowshed and killed three cows last night.

✓

2. A tiger be strayed into a village

✗

3. at Gosaba in the Sundarbans, entered a

✗

4. No error.

Q.15

Select the most appropriate option to fill in the blank and complete the given idiom.

Although our backgrounds are different, we sail in the _____ boat.

Ans

✗

1. different

✓

2. same

✗

3. biggest

✗

4. old

Comprehension:

In the following passage, some words have been deleted. Read the passage carefully and select the most appropriate option to fill in each blank.

Effective time management is (1) _____ for success. By prioritising tasks, individuals can enhance (2) _____ and reduce stress. Planning allows for a balance (3) _____ work and personal life. Studies show that those who manage their time (4) _____ are more likely to achieve their goals. It is a skill (5) _____ positively impacts both professional and personal aspects of life.

SubQuestion No : 16

Q.16

Select the most appropriate option to fill in blank no. 1.

Ans

✗

1. trivial

✓

2. crucial

✗

3. desperate

✗

4. optional

Comprehension:

In the following passage, some words have been deleted. Read the passage carefully and select the most appropriate option to fill in each blank.

Effective time management is (1) _____ for success. By prioritising tasks, individuals can enhance (2) _____ and reduce stress. Planning allows for a balance (3) _____ work and personal life. Studies show that those who manage their time (4) _____ are more likely to achieve their goals. It is a skill (5) _____ positively impacts both professional and personal aspects of life.

SubQuestion No : 17

Q.17

Select the most appropriate option to fill in blank no. 2.

Ans

✗

1. production

✗

2. fertility

✗

3. capacity

✓

4. productivity

Comprehension:

In the following passage, some words have been deleted. Read the passage carefully and select the most appropriate option to fill in each blank.

Effective time management is (1) _____ for success. By prioritising tasks, individuals can enhance (2) _____ and reduce stress. Planning allows for a balance (3) _____ work and personal life. Studies show that those who manage their time (4) _____ are more likely to achieve their goals. It is a skill (5) _____ positively impacts both professional and personal aspects of life.

SubQuestion No : 18

Q.18 Select the most appropriate option to fill in blank no. 3.

- Ans**
- ☒ 1. between
 - ☐ 2. around
 - ☐ 3. with
 - ☐ 4. beyond

Comprehension:

In the following passage, some words have been deleted. Read the passage carefully and select the most appropriate option to fill in each blank.

Effective time management is (1) _____ for success. By prioritising tasks, individuals can enhance (2) _____ and reduce stress. Planning allows for a balance (3) _____ work and personal life. Studies show that those who manage their time (4) _____ are more likely to achieve their goals. It is a skill (5) _____ positively impacts both professional and personal aspects of life.

SubQuestion No : 19

Q.19 Select the most appropriate option to fill in blank no. 4.

- Ans**
- ☐ 1. strongly
 - ☐ 2. efficient
 - ☐ 3. excitedly
 - ☒ 4. effectively

Comprehension:

In the following passage, some words have been deleted. Read the passage carefully and select the most appropriate option to fill in each blank.

Effective time management is (1) _____ for success. By prioritising tasks, individuals can enhance (2) _____ and reduce stress. Planning allows for a balance (3) _____ work and personal life. Studies show that those who manage their time (4) _____ are more likely to achieve their goals. It is a skill (5) _____ positively impacts both professional and personal aspects of life.

SubQuestion No : 20

Q.20 Select the most appropriate option to fill in blank no. 5.

- Ans**
- ☐ 1. whereby
 - ☐ 2. what
 - ☐ 3. those
 - ☒ 4. which

Q.1	दिए गए शब्द का सही पर्यायवाची शब्द पहचानिए - नदी
Ans	<div><div>✓</div>1. सरिता</div> <div><div>✗</div>2. सुनीता</div> <div><div>✗</div>3. सरोज</div> <div><div>✗</div>4. कविता</div>
Q.2	निम्नलिखित विकल्पों में से कौन सा एक विलोम युग्म सही नहीं है?
Ans	<div><div>✓</div>1. ऐहिक-ऐश्वर्य</div> <div><div>✗</div>2. करुणा-निष्ठुरता</div> <div><div>✗</div>3. क्रोध-क्षमा</div> <div><div>✗</div>4. ऐहिक-पारलौकिक</div>
Q.3	निम्नलिखित वाक्यांश हेतु सार्थक शब्द बताएं। बिना वेतन के कार्य करने वाला
Ans	<div><div>✗</div>1. वेतन सहित</div> <div><div>✗</div>2. अन्य वैतनिक</div> <div><div>✓</div>3. अवैतनिक</div> <div><div>✗</div>4. वैतनिक</div>
Q.4	आज कारखाने का <u>श्रीगणेश</u> होगा। रेखांकित शब्द के विलोम शब्द का चयन कीजिए।
Ans	<div><div>✗</div>1. कमी</div> <div><div>✗</div>2. हानि</div> <div><div>✗</div>3. बंद</div> <div><div>✓</div>4. इतिश्री</div>
Q.5	निम्नलिखित वाक्य के किस भाग में त्रुटि है? अब हमें उनका धन्यवाद देना चाहिए।
Ans	<div><div>✓</div>1. धन्यवाद देना</div> <div><div>✗</div>2. उनका</div> <div><div>✗</div>3. चाहिए</div> <div><div>✗</div>4. अब हमें</div>
Q.6	निम्नलिखित विकल्पों में से कौन सा एक वाक्य वर्तनी की दृष्टि से अशुद्ध है?
Ans	<div><div>✓</div>1. आज रेणू का व्याख्यान होगा।</div> <div><div>✗</div>2. पुस्तकों का एक सूची पत्र दे दें।</div> <div><div>✗</div>3. वस्तुओं की कीमतें बढ़ रहीं हैं।</div> <div><div>✗</div>4. वह अब नीरोग है।</div>
Q.7	निम्नलिखित मुहावरे का उचित अर्थ लिखें। अक्ल के अंधे
Ans	<div><div>✗</div>1. तनाव में आना</div> <div><div>✓</div>2. बुद्धिहीन</div> <div><div>✗</div>3. पागल होना</div> <div><div>✗</div>4. याददाश्त खोना</div>

Q.8	दिए गए शब्द का उचित विलोम शब्द चुनिए-
	अथ
Ans	<div><div><div>✖</div><div>1. अथा</div></div><div><div>✔</div><div>2. इति</div></div><div><div>✖</div><div>3. इत्यादि</div></div><div><div>✖</div><div>4. अति</div></div></div>
Q.9	निम्नलिखित वाक्यांश के लिए सार्थक शब्द चुनिए - जिसके आर पार देखा जा सकता हो
Ans	<div><div><div>✖</div><div>1. अपारदर्शी</div></div><div><div>✖</div><div>2. पारंगत</div></div><div><div>✔</div><div>3. पारदर्शी</div></div><div><div>✖</div><div>4. पारलौकिक</div></div></div>
Q.10	निम्नलिखित वाक्यांश हेतु सार्थक शब्द का चुनाव करें। जो संविधान के प्रतिकूल हो।
Ans	<div><div><div>✖</div><div>1. संवैधानिक</div></div><div><div>✖</div><div>2. अनुकूल</div></div><div><div>✖</div><div>3. संविधान से संबन्धित</div></div><div><div>✔</div><div>4. असंवैधानिक</div></div></div>
Q.11	निम्नलिखित में से एकवचन की दृष्टि से शुद्ध वाक्य है-
Ans	<div><div><div>✖</div><div>1. कुछ महिलाएँ बाज़ार जा रही हैं।</div></div><div><div>✖</div><div>2. ये दोनों भाई बड़े समझदार हैं।</div></div><div><div>✔</div><div>3. तुम्हें यह आदत छोड़ देनी चाहिए।</div></div><div><div>✖</div><div>4. मैंने नए कपड़े खरीदे।</div></div></div>
Q.12	मुहावरे और उसके अर्थ के लिए सही विकल्प चुनें। उल्टी गंगा बहाना
Ans	<div><div><div>✖</div><div>1. प्रतीकूल कार्य</div></div><div><div>✔</div><div>2. प्रतिकूल कार्य</div></div><div><div>✖</div><div>3. उलटा चलना</div></div><div><div>✖</div><div>4. गंगा की तरफ जाना</div></div></div>
Q.13	'भारत ने इस वर्ष यूरोप को गेहूँ _____ किया।' रिक्त स्थान की पूर्ति के लिए उचित सार्थक शब्द है -
Ans	<div><div><div>✖</div><div>1. संयोग</div></div><div><div>✖</div><div>2. निर्माण</div></div><div><div>✔</div><div>3. निर्यात</div></div><div><div>✖</div><div>4. उत्कर्ष</div></div></div>
Q.14	माँ ने मुझे दही लाने को कहा है। इस वाक्य में दही शब्द का तत्सम रूप प्रयुक्त कर वाक्य पूर्ण कीजिए।
Ans	<div><div><div>✖</div><div>1. माँ ने मुझे क्षीर लाने को कहा है।</div></div><div><div>✔</div><div>2. माँ ने मुझे दधि लाने को कहा है।</div></div><div><div>✖</div><div>3. माँ ने मुझे दुग्ध लाने को कहा है।</div></div><div><div>✖</div><div>4. माँ ने मुझे पय लाने को कहा है।</div></div></div>

Q.15 रेखांकित शब्द के स्थान पर सर्वोचित विकल्प चुनिए।

उसका घर जलकर राख हो गया इसलिए वह मालामाल हो गया।

- Ans
- ☒ 1. कंजूस
 - ☒ 2. कँटीला
 - ☒ 3. कंकाल
 - ☒ 4. कंगाल

Comprehension:

गद्यांश के आधार पर प्रश्न का उत्तर दें।
भरत अयोध्या के राजा _____ के पुत्र थे। इनकी माता का नाम कैकेयी था। कैकेयी ने राजा दशरथ से भरत को राजगद्दी और राम को _____ के वनवास का वरदान माँगा। ननिहाल से लौटने पर जब राजा की मृत्यु के कारण का उनको पता चला तो लज्जा के कारण उनका मुख पीला पड़ गया और उन्होंने अपनी माता को खूब फटकारा। सब मंत्रियों व रानियों ने सिंहासन पर बैठने की प्रार्थना की परन्तु वे गद्दी पर नहीं बैठे। वे वन में राम को लेने गए। जब रामचंद्र जी नहीं लौटे तो वे उनकी _____ लेकर लौट आए। खड़ाऊँओं को सिंहासन पर रखकर राम के _____ के रूप में शासन का काम करने लगे। संसार में ऐसा _____ दूसरा देखने को नहीं मिलता।

SubQuestion No : 16

Q.16 ‘भरत अयोध्या के राजा _____ के पुत्र थे।’
गद्यांश की पंक्ति में रिक्त स्थान की पूर्ति हेतु उपयुक्त शब्द होगा-

- Ans
- ☒ 1. जनक
 - ☒ 2. मनु
 - ☒ 3. दशरथ
 - ☒ 4. अज

Comprehension:

गद्यांश के आधार पर प्रश्न का उत्तर दें।
भरत अयोध्या के राजा _____ के पुत्र थे। इनकी माता का नाम कैकेयी था। कैकेयी ने राजा दशरथ से भरत को राजगद्दी और राम को _____ के वनवास का वरदान माँगा। ननिहाल से लौटने पर जब राजा की मृत्यु के कारण का उनको पता चला तो लज्जा के कारण उनका मुख पीला पड़ गया और उन्होंने अपनी माता को खूब फटकारा। सब मंत्रियों व रानियों ने सिंहासन पर बैठने की प्रार्थना की परन्तु वे गद्दी पर नहीं बैठे। वे वन में राम को लेने गए। जब रामचंद्र जी नहीं लौटे तो वे उनकी _____ लेकर लौट आए। खड़ाऊँओं को सिंहासन पर रखकर राम के _____ के रूप में शासन का काम करने लगे। संसार में ऐसा _____ दूसरा देखने को नहीं मिलता।

SubQuestion No : 17

Q.17 ‘कैकेयी ने राजा दशरथ से भरत को राजगद्दी और राम को _____ के वनवास का वरदान माँगा।’
गद्यांश की पंक्ति में रिक्त स्थान की पूर्ति हेतु उपयुक्त शब्द होगा-

- Ans
- ☒ 1. बारह वर्ष
 - ☒ 2. चार वर्ष
 - ☒ 3. दस वर्ष
 - ☒ 4. चौदह वर्ष

Comprehension:

गद्यांश के आधार पर प्रश्न का उत्तर दें।
भरत अयोध्या के राजा _____ के पुत्र थे। इनकी माता का नाम कैकेयी था। कैकेयी ने राजा दशरथ से भरत को राजगद्दी और राम को _____ के वनवास का वरदान माँगा। ननिहाल से लौटने पर जब राजा की मृत्यु के कारण का उनको पता चला तो लज्जा के कारण उनका मुख पीला पड़ गया और उन्होंने अपनी माता को खूब फटकारा। सब मंत्रियों व रानियों ने सिंहासन पर बैठने की प्रार्थना की परन्तु वे गद्दी पर नहीं बैठे। वे वन में राम को लेने गए। जब रामचंद्र जी नहीं लौटे तो वे उनकी _____ लेकर लौट आए। खड़ाऊँओं को सिंहासन पर रखकर राम के _____ के रूप में शासन का काम करने लगे। संसार में ऐसा _____ दूसरा देखने को नहीं मिलता।

SubQuestion No : 18

Q.18 ‘जब रामचंद्र जी नहीं लौटे तो वे उनकी _____ लेकर लौट आए।’
गद्यांश की पंक्ति में रिक्त स्थान की पूर्ति हेतु उपयुक्त शब्द होगा-

- Ans
- ☒ 1. वस्त्र
 - ☒ 2. धनुष
 - ☒ 3. बाण
 - ☒ 4. खड़ाऊँ

Comprehension:

गद्यांश के आधार पर प्रश्न का उत्तर दें।
भरत अयोध्या के राजा _____ के पुत्र थे। इनकी माता का नाम कैकेयी था। कैकेयी ने राजा दशरथ से भरत को राजगद्दी और राम को _____ के वनवास का वरदान माँगा। ननिहाल से लौटने पर जब राजा की मृत्यु के कारण का उनको पता चला तो लज्जा के कारण उनका मुख पीला पड़ गया और उन्होंने अपनी माता को खूब फटकारा। सब मंत्रियों व रानियों ने सिंहासन पर बैठने की प्रार्थना की परन्तु वे गद्दी पर नहीं बैठे। वे वन में राम को लेने गए। जब रामचंद्र जी नहीं लौटे तो वे उनकी _____ लेकर लौट आए। खड़ाऊँओं को सिंहासन पर रखकर राम के _____ के रूप में शासन का काम करने लगे। संसार में ऐसा _____ दूसरा देखने को नहीं मिलता।

SubQuestion No : 19

Q.19 'राम के _____ के रूप में शासन का काम करने लगे।'
गद्यांश की पंक्ति में रिक्त स्थान की पूर्ति हेतु उपयुक्त शब्द होगा-

- Ans**
- ☒ 1. उत्तराधिकारी
 - ☒ 2. भाई
 - ☒ 3. प्रतिनिधि
 - ☒ 4. स्वामी

Comprehension:

गद्यांश के आधार पर प्रश्न का उत्तर दें।
भरत अयोध्या के राजा _____ के पुत्र थे। इनकी माता का नाम कैकेयी था। कैकेयी ने राजा दशरथ से भरत को राजगद्दी और राम को _____ के वनवास का वरदान माँगा। ननिहाल से लौटने पर जब राजा की मृत्यु के कारण का उनको पता चला तो लज्जा के कारण उनका मुख पीला पड़ गया और उन्होंने अपनी माता को खूब फटकारा। सब मंत्रियों व रानियों ने सिंहासन पर बैठने की प्रार्थना की परन्तु वे गद्दी पर नहीं बैठे। वे वन में राम को लेने गए। जब रामचंद्र जी नहीं लौटे तो वे उनकी _____ लेकर लौट आए। खड़ाऊँओं को सिंहासन पर रखकर राम के _____ के रूप में शासन का काम करने लगे। संसार में ऐसा _____ दूसरा देखने को नहीं मिलता।

SubQuestion No : 20

Q.20 'संसार में ऐसा _____ दूसरा देखने को नहीं मिलता।'
गद्यांश की पंक्ति में रिक्त स्थान की पूर्ति हेतु उपयुक्त शब्द होगा-'

- Ans**
- ☒ 1. परोपकार
 - ☒ 2. त्याग
 - ☒ 3. तिरस्कार
 - ☒ 4. कृतघ्न