

Constable GD in CAPFs and SSF Rifleman GD in AR and Sepoy in NCB Examination 2025

Exam Date	06/02/2025
Exam Time	12:00 PM - 1:00 PM
Subject	Constable GD Examination 2025

Section : Part-A-General Intelligence and Reasoning

Q.1 छह मित्र, E, F, G, X, Y और Z, उत्तर की ओर अभिमुख होकर एक पंक्ति में बैठे हैं (परंतु जरूरी नहीं कि वे इसी क्रम में बैठे हों)। F के बाईं ओर कोई मित्र नहीं बैठा है। F और E के बीच केवल चार मित्र बैठे हैं। Z के बाईं ओर केवल तीन मित्र बैठे हैं। X, G के ठीक बाईं ओर बैठा है। Y और F के बीच में कितने मित्र बैठे हैं?

- Ans
- ☒ 1. चार
 - ☒ 2. एक
 - ☒ 3. तीन
 - ☒ 4. दो

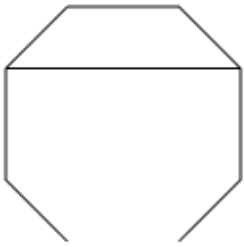
Q.2 एक निश्चित कूट भाषा में,

'A + B' का अर्थ है कि 'A, B की माता है',
'A – B' का अर्थ है कि 'A, B का भाई है',
'A × B' का अर्थ है कि 'A, B की पत्नी है' और
'A ÷ B' का अर्थ है कि 'A, B का पिता है'।

यदि 'Q × R – S ÷ T + U' है, तो उपरोक्त के आधार पर, S का U से क्या संबंध है?

- Ans
- ☒ 1. भाई की पत्नी
 - ☒ 2. पुत्री
 - ☒ 3. माता का पति
 - ☒ 4. माता के पिता

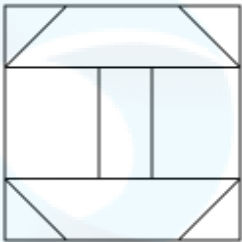
Q.3 उस विकल्प आकृति का चयन कीजिए जिसमें दी गई आकृति (X) उसके एक भाग के रूप में निहित है (घूर्णन की अनुमति नहीं है)।



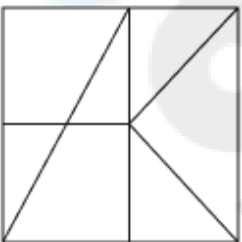
(X)

Ans

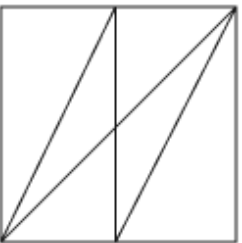
✓ 1.



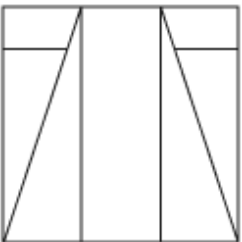
✗ 2.



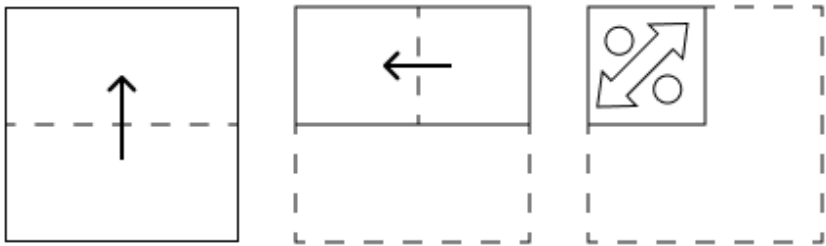
✗ 3.



✗ 4.



Q.4 एक कागज़ को नीचे दर्शाए गए अनुसार मोड़कर काटा जाता है। खोलने पर यह कैसा दिखाई देगा?



Ans

- ✓ 1.
- ✗ 2.
- ✗ 3.
- ✗ 4.

Q.5 अंग्रेजी वर्णमाला क्रम के आधार पर SBFU एक निश्चित प्रकार से VDHX से संबंधित है। HOXA ठीक उसी प्रकार KQZD से संबंधित है। उसी तर्क का अनुसरण करते हुए ZEPI दिए गए विकल्पों में से किससे संबंधित है?

- Ans
- ✗ 1. DISK

✓ 2. CGRL

✗ 3. BHTM

✗ 4. DHSN

Q.6 दिए गए कथनों और निष्कर्षों को ध्यानपूर्वक पढ़िए। यह मानते हुए कि कथनों में दी गई जानकारी सत्य है, चाहे वह सामान्यतः ज्ञात तथ्यों से भिन्न प्रतीत होती हो और निर्णय लीजिए कि दिए गए निष्कर्षों में से कौन-सा/कौन-से निष्कर्ष कथनों का तार्किक रूप से अनुसरण करता है/करते हैं।

कथन:
सभी मरहम, कान हैं।
सभी मरहम, पैर हैं।
कुछ पैर, उंगलियाँ हैं।

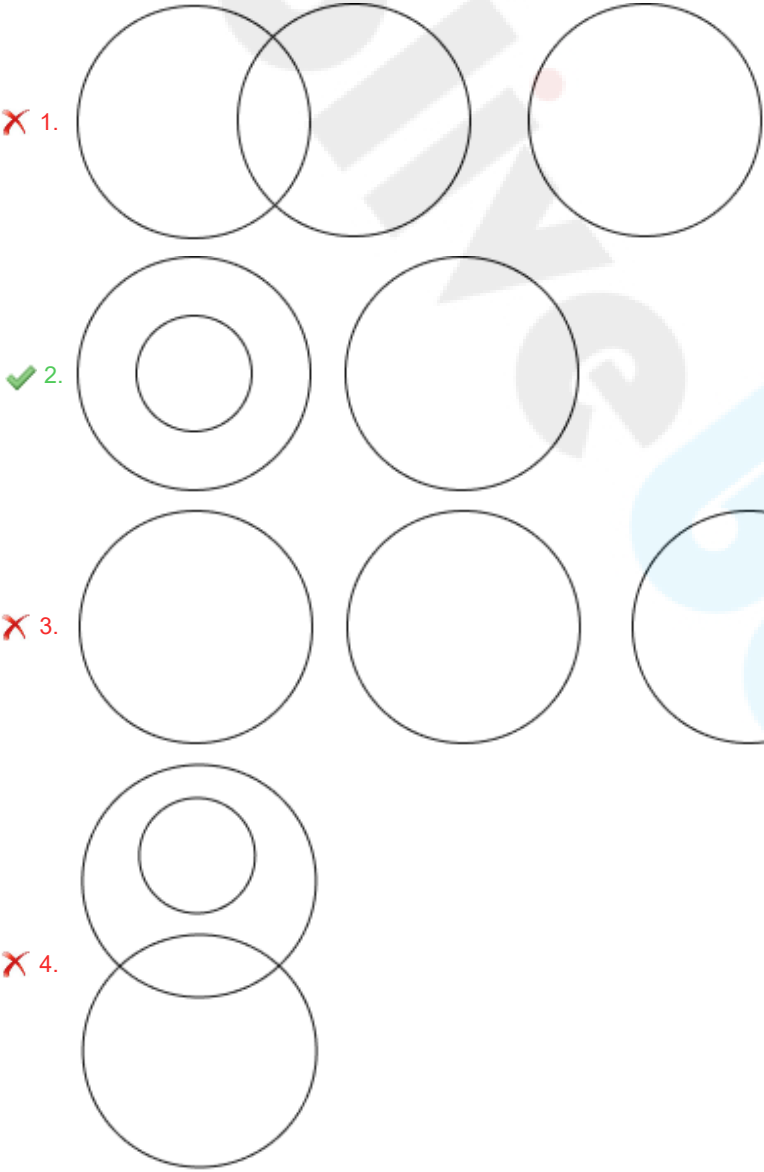
निष्कर्ष:
(I): कुछ उंगलियाँ, मरहम हैं।
(II): कुछ पैर, कान हैं।

- Ans
- ☒ 1. निष्कर्ष (I) और निष्कर्ष (II) दोनों अनुसरण करते हैं।
 - ☒ 2. केवल निष्कर्ष (II) अनुसरण करता है।
 - ☒ 3. न तो निष्कर्ष (I) और न ही निष्कर्ष (II) अनुसरण करता है।
 - ☒ 4. केवल निष्कर्ष (I) अनुसरण करता है।

Q.7 निम्नलिखित वर्गों के बीच संबंधों को सबसे उचित ढंग से निरूपित करने वाले वेन आरेख का चयन कीजिए।

आम, फल, फूलगोभी

Ans



Q.8 अंग्रेजी वर्णमाला क्रम के आधार पर, निम्नलिखित चार अक्षर-समूहों में से तीन एक निश्चित प्रकार से समान हैं और इस प्रकार एक समूह बनाते हैं। वह कौन-सा अक्षर-समूह है जो उस समूह से संबंधित नहीं है?
(ध्यान दें: असंगत अक्षर-समूह, उस अक्षर-समूह में व्यंजनों/स्वरों की संख्या या उनके स्थान पर आधारित नहीं है।)

- Ans
- ✓ 1. TTW
 - ✗ 2. ZYC
 - ✗ 3. EDH
 - ✗ 4. QPT

Q.9 यदि शब्द SYMPHONY के प्रत्येक अक्षर को अंग्रेजी वर्णमाला क्रम के अनुसार व्यवस्थित किया जाए, तो कितने अक्षरों का स्थान अपरिवर्तित रहेगा?

- Ans
- ✗ 1. तीन
 - ✓ 2. एक
 - ✗ 3. दो
 - ✗ 4. चार

Q.10 दिए गए विकल्पों में से उस आकृति का चयन कीजिए जो निम्नलिखित श्रृंखला में प्रश्न चिह्न (?) के स्थान पर आ सकती है।

<div><div>●</div><div>O</div><div>ω</div><div>Y</div></div>	<div><div>▲</div><div>ω</div><div>Y</div><div>O</div></div>	<div><div>■</div><div>Y</div><div>ω</div><div>O</div></div>	<div><div>★</div><div>O</div><div>Y</div><div>ω</div></div>	<div><div>?</div></div>
---	---	---	---	-------------------------

Ans

- ✗ 1.

●

Y

ω

O
- ✓ 2.

●

O

Y

ω
- ✗ 3.

▲

Y

O

ω
- ✗ 4.

▲

O

Y

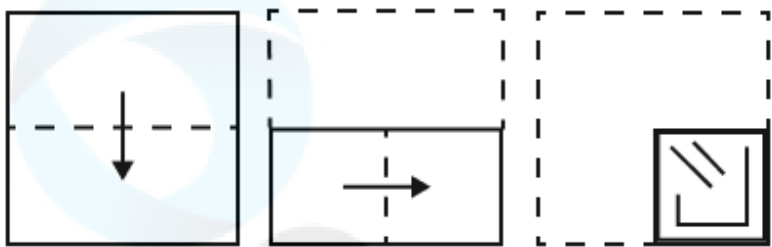
ω

Q.11 दी गई श्रृंखला में प्रश्न चिह्न (?) के स्थान पर क्या आना चाहिए?

35 43 53 65 79 ?

- Ans
- ✗ 1. 103
 - ✗ 2. 112
 - ✓ 3. 95
 - ✗ 4. 107

Q.12 एक कागज को नीचे दर्शाए गए अनुसार मोड़कर पंच किया (punched) जाता है। खोले जाने पर यह कैसा दिखाई देगा?



Ans

- ✓ 1.
- ✗ 2.
- ✗ 3.
- ✗ 4.

Q.13 दी गई श्रृंखला में प्रश्नवाचक चिह्न (?) के स्थान पर क्या आना चाहिए?

101 111 122 134 147 ?

- Ans
- ✗ 1. 151
 - ✗ 2. 158
 - ✓ 3. 161
 - ✗ 4. 156

Q.14 किसी निश्चित कूट भाषा में, 'get the book' को 'as pg nk' के रूप में कूट बद्ध किया जाता है और 'book is good' को 'nk ml bt' के रूप में कूट बद्ध किया जाता है। दी गई कूट भाषा में 'book' को किस प्रकार कूट बद्ध किया जाएगा?

- Ans
- ☒ 1. bt
 - ☒ 2. nk
 - ☒ 3. pg
 - ☒ 4. as

Q.15 उस सही विकल्प का चयन कीजिए, जिसे नीचे दी गई श्रृंखला के रिक्त स्थानों में इसी क्रम में रखने पर श्रृंखला तार्किक रूप से पूरी हो जाएगी।

_DGIK_JLNJ_OQMP_TPS_

- Ans
- ☒ 1. EGNRV
 - ☒ 2. EFNSV
 - ☒ 3. HGMRU
 - ☒ 4. HFMSU

Q.16 किसी निश्चित कूट भाषा में, 'are you busy' को 'mg rc tp' के रूप में कूटबद्ध किया जाता है और 'you need rest' को 'rc as bo' के रूप में कूटबद्ध किया जाता है। दी गई कूट भाषा में 'you' को किस प्रकार कूटबद्ध किया जाएगा?

- Ans
- ☒ 1. mg
 - ☒ 2. rc
 - ☒ 3. bo
 - ☒ 4. as

Q.17 अंग्रेजी वर्णानुक्रम के आधार पर दी गई श्रृंखला में प्रश्न-चिह्न (?) के स्थान पर क्या आएगा?

DKC ZGY ? RYQ NUM

- Ans
- ☒ 1. VCU
 - ☒ 2. UDU
 - ☒ 3. VDU
 - ☒ 4. VCV

Q.18 यदि '+' और 'x' को परस्पर बदल दिया जाए तथा '-' और '÷' को परस्पर बदल दिया जाए, तो निम्नलिखित समीकरण में प्रश्न चिह्न (?) के स्थान पर क्या आएगा?

$18 \div 90 - 5 \times 11 + 2 = ?$

- Ans
- ☒ 1. 22
 - ☒ 2. 18
 - ☒ 3. 27
 - ☒ 4. 15

Q.19 अंग्रेजी वर्णमाला क्रम के आधार पर एक निश्चित तरीके से 'NEYG', 'PHBI' से संबंधित है। उसी तरीके से 'LAVS', 'NDYU' से संबंधित है। समान तर्क का अनुसरण करते हुए 'HCTB' निम्नलिखित में से किससे संबंधित है?

- Ans
- ☒ 1. HEVB
 - ☒ 2. GEXD
 - ☒ 3. HGVC
 - ☒ 4. JFWD

Q.20 आठ व्यक्ति दो समानांतर पंक्तियों में बैठे हैं जिनमें से प्रत्येक पंक्ति में 4 व्यक्ति इस प्रकार बैठे हैं कि आसन्न व्यक्तियों के बीच की दूरी समान है।
पंक्ति 1 में - L, M, N और O बैठे हैं और उन सभी का मुख दक्षिण की ओर है।
पंक्ति 2 में - P, Q, R और S बैठे हैं और उन सभी का मुख उत्तर की ओर है।
इस प्रकार, पहली पंक्ति के प्रत्येक व्यक्ति का मुख दूसरी पंक्ति के किसी अन्य व्यक्ति की ओर है। N और M के बीच में केवल एक व्यक्ति बैठा है। Q और P के बीच में केवल एक व्यक्ति बैठा है। P के सम्मुख बैठा व्यक्ति पंक्ति के बाएँ से दूसरे स्थान पर बैठा है। N, O के ठीक बाएँ और S के सम्मुख बैठा है। O, P के सम्मुख नहीं बैठा है।
निम्नलिखित में से कौन-सा विकल्प, एक दूसरे के सम्मुख दोनों व्यक्तियों को दर्शाता है?

- Ans
- ☒ 1. L और P
 - ☐ 2. M और S
 - ☐ 3. N और R
 - ☐ 4. L और S

Section : Part-B-General Knowledge and General awareness

Q.1 रोजगार कार्यालय सांख्यिकी 2023 के अनुसार, वर्ष 2022 में भारत में लाइव रजिस्टर (Live Register) की नौकरी खोजने वालों में महिलाओं का प्रतिशत कितना था?

- Ans
- ☐ 1. 50%
 - ☐ 2. 35.9%
 - ☐ 3. 33%
 - ☒ 4. 35.6%

Q.2 भारतीय संगीत, नृत्य और नाटक की विभिन्न शैलियों के संरक्षण एवं संवर्धन के लिए, देश में प्रदर्शन कला के क्षेत्र में सर्वोच्च संस्था, संगीत नाटक अकादमी की स्थापना किस वर्ष की गई थी?

- Ans
- ☐ 1. 1961
 - ☒ 2. 1953
 - ☐ 3. 1949
 - ☐ 4. 1963

Q.3 एएआई (AAI) 50^{वीं} अखिल भारतीय अंतर-संस्थागत टेबल टेनिस चैंपियनशिप 2023 का आयोजन _____ द्वारा किया गया।

- Ans
- ☐ 1. तेलंगाना राज्य टेबल टेनिस एसोसिएशन
 - ☐ 2. मध्य प्रदेश राज्य टेबल टेनिस एसोसिएशन
 - ☐ 3. गुजरात राज्य टेबल टेनिस एसोसिएशन
 - ☒ 4. आंध्र प्रदेश राज्य टेबल टेनिस एसोसिएशन

Q.4 मानव शरीर में दाँतों के इनेमल (enamel) का निर्माण करने वाले पदार्थ का रासायनिक नाम क्या है?

- Ans
- ☐ 1. हाइड्रोक्लोरिक अम्ल
 - ☒ 2. कैल्शियम हाइड्रॉक्सीएपेटाइट
 - ☐ 3. सोडियम
 - ☐ 4. कैल्शियम

Q.5 निम्नलिखित में से क्या जल संरक्षण में सहायता कर सकता है?

- Ans
- ☐ 1. जीव-जंतुओं की आबादी को कम करने के लिए मारना
 - ☐ 2. जल उपचार कारखानों की स्थापना
 - ☐ 3. पेय जल की आपूर्ति को आधा करना
 - ☒ 4. वर्षा जल संग्रहण

Q.6	किसी पिंड को शून्य प्रारंभिक संवेग के साथ 20 मीटर की ऊंचाई से गिराया जाता है; यदि यह 40 kg. m/s संवेग के साथ भू-तल से टकराता है, तो इसके द्रव्यमान का परिकलन कीजिए। (मान लीजिए गुरुत्वीय त्वरण 'g' = 10 m/s ²)
Ans	<div><div><div>✗</div><div>1. 20 kg</div></div><div><div>✗</div><div>2. 1 kg</div></div><div><div>✓</div><div>3. 2 kg</div></div><div><div>✗</div><div>4. 4 kg</div></div></div>
Q.7	ऋग्वेद में लिखी प्रार्थनाओं को निम्नलिखित में से किस नाम से जाना जाता है?
Ans	<div><div><div>✗</div><div>1. ऋचा</div></div><div><div>✗</div><div>2. श्लोक</div></div><div><div>✗</div><div>3. काव्य</div></div><div><div>✓</div><div>4. सूक्त</div></div></div>
Q.8	ICC पुरुष क्रिकेट विश्व कप 2023, ODI टूर्नामेंट में सर्वाधिक विकेट लेने वाले गेंदबाज कौन थे?
Ans	<div><div><div>✓</div><div>1. मोहम्मद शमी</div></div><div><div>✗</div><div>2. मोहम्मद सिराज</div></div><div><div>✗</div><div>3. जसप्रीत बुमराह</div></div><div><div>✗</div><div>4. कुलदीप यादव</div></div></div>
Q.9	गोवा राज्य के विधानसभा निर्वाचन क्षेत्रों में अनुसूचित जनजातियों के प्रतिनिधित्व का पुनर्समायोजन विधेयक, 2024 के तहत राज्य में एसटी (ST) समुदायों से संबंधित व्यक्तियों की जनसंख्या का प्राक्कलन करने के लिए जनगणना आयुक्त की नियुक्ति करने की शक्ति किसके पास है?
Ans	<div><div><div>✗</div><div>1. सर्वोच्च न्यायालय</div></div><div><div>✓</div><div>2. केंद्र सरकार</div></div><div><div>✗</div><div>3. केंद्रीय जनजातीय कार्य मंत्रालय</div></div><div><div>✗</div><div>4. राज्य सरकार</div></div></div>
Q.10	सातवीं पंचवर्षीय योजना के दौरान स्व-रोजगार महिलाओं और अनौपचारिक क्षेत्र में महिलाओं पर राष्ट्रीय आयोग द्वारा प्रस्तुत व्यापक रिपोर्ट का शीर्षक क्या है?
Ans	<div><div><div>✗</div><div>1. नारी शक्ति</div></div><div><div>✗</div><div>2. शक्ति सहयोग</div></div><div><div>✓</div><div>3. श्रमशक्ति</div></div><div><div>✗</div><div>4. महिला विकास</div></div></div>
Q.11	1993 में एक दिन में 28 गाने रिकॉर्ड करने के लिए किसका नाम गिनीज बुक ऑफ वर्ल्ड रिकॉर्ड्स में दर्ज किया गया था?
Ans	<div><div><div>✗</div><div>1. सोनू निगम</div></div><div><div>✗</div><div>2. कृष्णकुमार कुन्नथ</div></div><div><div>✓</div><div>3. कुमार सानू</div></div><div><div>✗</div><div>4. उदित नारायण</div></div></div>
Q.12	निम्नलिखित में से कौन 'सार्वजनिक ऋण (Public Debt)' शब्द का सबसे अच्छा वर्णन करता है?
Ans	<div><div><div>✗</div><div>1. सरकार द्वारा किया गया कुल निवेश</div></div><div><div>✓</div><div>2. सरकार द्वारा अपने ऋणदाताओं को देय कुल धनराशि</div></div><div><div>✗</div><div>3. किसी देश के नागरिकों द्वारा देय कुल धनराशि</div></div><div><div>✗</div><div>4. सरकार द्वारा उत्पन्न कुल राजस्व</div></div></div>

Q.13	के चंद्रशेखर राव, जिन्हें 2023 में तेलंगाना चुनावों में बड़ी असफलता मिली, निम्नलिखित में से किस राजनीतिक दल से संबंधित हैं?
Ans	<div><div><input type="checkbox"/></div>1. तेलुगु देशम पार्टी (TDP)</div> <div><div><input type="checkbox"/></div>2. इंडियन नेशनल कांग्रेस (INC)</div> <div><div><input checked="" type="checkbox"/></div>3. भारत राष्ट्र समिति (BRS)</div> <div><div><input type="checkbox"/></div>4. भारतीय जनता पार्टी (BJP)</div>
Q.14	भारतीय संविधान के अनुसार, राज्य का वास्तविक कार्यपालक किसे माना जाता है?
Ans	<div><div><input type="checkbox"/></div>1. राज्यपाल</div> <div><div><input checked="" type="checkbox"/></div>2. मुख्यमंत्री</div> <div><div><input type="checkbox"/></div>3. अध्यक्ष</div> <div><div><input type="checkbox"/></div>4. उप-मुख्यमंत्री</div>
Q.15	निम्नलिखित में से कौन-सी, पंजाब की एक लोकप्रिय नृत्य शैली है?
Ans	<div><div><input type="checkbox"/></div>1. घूमर</div> <div><div><input type="checkbox"/></div>2. गरबा</div> <div><div><input type="checkbox"/></div>3. छऊ</div> <div><div><input checked="" type="checkbox"/></div>4. भांगड़ा</div>
Q.16	‘चेइराओबा (Cheiraoba)’ उत्सव, _____ राज्य में मनाया जाने वाला नववर्ष उत्सव है।
Ans	<div><div><input type="checkbox"/></div>1. गोवा</div> <div><div><input type="checkbox"/></div>2. उत्तराखंड</div> <div><div><input checked="" type="checkbox"/></div>3. मणिपुर</div> <div><div><input type="checkbox"/></div>4. कर्नाटक</div>
Q.17	राज्य के नीति निदेशक तत्वों का उल्लेख संविधान के अनुच्छेदों _____ में किया गया है।
Ans	<div><div><input type="checkbox"/></div>1. 35-45</div> <div><div><input type="checkbox"/></div>2. 45-55</div> <div><div><input type="checkbox"/></div>3. 40-60</div> <div><div><input checked="" type="checkbox"/></div>4. 36-51</div>
Q.18	द्वितीय पंचवर्षीय योजना की लक्षित वृद्धि दर कितनी थी?
Ans	<div><div><input type="checkbox"/></div>1. 3.6%</div> <div><div><input type="checkbox"/></div>2. 5.6%</div> <div><div><input type="checkbox"/></div>3. 5.2%</div> <div><div><input checked="" type="checkbox"/></div>4. 4.5%</div>
Q.19	राष्ट्रीय बहुआयामी गरीबी सूचकांक 2023 के अनुसार, किस केंद्र शासित प्रदेश में बहुआयामी गरीब आबादी का प्रतिशत सबसे कम है?
Ans	<div><div><input type="checkbox"/></div>1. लक्षद्वीप</div> <div><div><input type="checkbox"/></div>2. चंडीगढ़</div> <div><div><input checked="" type="checkbox"/></div>3. पुदुचेरी</div> <div><div><input type="checkbox"/></div>4. दिल्ली</div>
Q.20	स्वामी दयानंद सरस्वती के नेतृत्व में किस आंदोलन ने वेदों की शिक्षाओं की ओर लौटने का पक्ष-समर्थन किया?
Ans	<div><div><input type="checkbox"/></div>1. अलीगढ़ आंदोलन</div> <div><div><input checked="" type="checkbox"/></div>2. आर्य समाज</div> <div><div><input type="checkbox"/></div>3. प्रार्थना समाज</div> <div><div><input type="checkbox"/></div>4. ब्रह्म समाज</div>

Q.1 रमन की आय ₹75400 है। वह अपनी आय में से 23% की बचत करता है। यदि उसकी आय में 27% की वृद्धि होती है और व्यय में 50% की वृद्धि होती है, तो उसकी बचत में _____।

- Ans
- ☒ 1. ₹8666 की कमी होगी
 - ☒ 2. ₹8670 की वृद्धि होगी
 - ☒ 3. ₹8671 की कमी होगी
 - ☒ 4. ₹8667 की वृद्धि होगी

Q.2 एक गोले का पृष्ठीय क्षेत्रफल (cm² में) ज्ञात कीजिए जिसका व्यास 21 cm है।

- Ans
- ☒ 1. 1316
 - ☒ 2. 1386
 - ☒ 3. 1346
 - ☒ 4. 1286

Q.3 किसी काम को करने में B को जितना समय लगता है, उसके तीन-चौथाई समय में A वही काम आधा कर पाता है। यदि दोनों मिलकर काम को 66 दिनों में पूरा करते हैं, तो B को अकेले वह काम पूरा करने में कितने दिन लगेंगे?

- Ans
- ☒ 1. 110
 - ☒ 2. 66
 - ☒ 3. 90
 - ☒ 4. 55

Q.4 मूल्यांकन कीजिए : $16 + 10 \div 5 - 2 \times 4$

- Ans
- ☒ 1. 9
 - ☒ 2. 13
 - ☒ 3. 12
 - ☒ 4. 10

Q.5 36 और 42 का तृतीयानुपाती ज्ञात कीजिए।

- Ans
- ☒ 1. 56
 - ☒ 2. 42
 - ☒ 3. 49
 - ☒ 4. 38

Q.6 गोपाल ने 152 कुर्सियाँ बेचीं और उसे 76 कुर्सियों के विक्रय मूल्य के बराबर लाभ हुआ। उसका लाभ प्रतिशत कितना है?

- Ans
- ☒ 1. 100%
 - ☒ 2. 110%
 - ☒ 3. 105%
 - ☒ 4. 95%

Q.7 एक खाद्य पदार्थ पर 30% और 20% की दो क्रमिक छूटें प्रदान की गईं। एक व्यक्ति ने खाद्य पदार्थ के लिए ₹840 का भुगतान किया। खाद्य पदार्थ की बिल राशि (₹ में) ज्ञात कीजिए।

- Ans
- ☒ 1. 1,800
 - ☒ 2. 1,500
 - ☒ 3. 1,200
 - ☒ 4. 2,000

Q.8 दो ट्रेनें 50 km/h और 110 km/h की चाल से विपरीत दिशाओं से आ रही हैं। एक ट्रेन की लंबाई 500 m है। उन्हें एक दूसरे को पार करने में 12 सेकंड का समय लगता है। दूसरी ट्रेन की लंबाई (m में) दशमलव के 2 स्थानों तक ज्ञात कीजिए।

- Ans ☒ 1. 33.33
☐ 2. 31.44
☐ 3. 32.68
☐ 4. 34.58

Q.9 निम्नलिखित का मान ज्ञात कीजिए।

$$\left[(27 \times 3) \times \left\{ 3 \div 3 \times \frac{(19 - 15)}{4} \right\} \right]$$

- Ans ☐ 1. 67
☐ 2. 80
☒ 3. 81
☐ 4. 72

Q.10 एक दुकानदार ने ₹500 में एक वस्तु खरीदी। 26% लाभ प्राप्त करने के लिए उसे वस्तु को किस मूल्य (₹ में) पर बेचना चाहिए?

- Ans ☐ 1. 370
☒ 2. 630
☐ 3. 618
☐ 4. 642

Q.11 यदि x का 2% = 276 है, तो x _____ के बराबर है।

- Ans ☐ 1. 27600
☐ 2. 13900
☐ 3. 27700
☒ 4. 13800

Q.12 75 km/hr की चाल से चलने वाली एक ट्रेन, समान दिशा में 30 km/hr की चाल से चलने वाली दूसरी ट्रेन को 108 सेकंड में पार करती है। यदि तेज़ चाल से चलने वाली ट्रेन की लंबाई 950 m है, तो धीमी चाल से चलने वाली ट्रेन की लंबाई (m में) कितनी है?

- Ans ☐ 1. 300
☐ 2. 450
☐ 3. 350
☒ 4. 400

Q.13 जनवरी, फरवरी, मार्च और अप्रैल में रमेश का व्यय क्रमशः ₹28,312, ₹32,252, ₹25,012 और ₹33,500 था। इन चार महीनों के दौरान उसका औसत व्यय (₹ में) कितना था?

- Ans ☐ 1. 28,999
☐ 2. 27,969
☐ 3. 30,696
☒ 4. 29,769

Q.14 निम्नलिखित का मान ज्ञात कीजिए।

$$\left[(63 \div 9) \times \left\{ \frac{96}{8} + \frac{11}{4} \times (9 - 5) \right\} \right]$$

- Ans ☒ 1. 161
☐ 2. 165
☐ 3. 169
☐ 4. 153

Q.15 मनोज के पास ₹1224 हैं। उन्होंने इसे अपने पुत्रों आनंद और अनिल के बीच बांट दिया और उन्हें इसे वार्षिक रूप से चक्रवृद्धि 4% वार्षिक ब्याज दर पर निवेश करने को कहा। यह देखा गया कि आनंद और अनिल को क्रमशः 17 और 18 वर्ष बाद समान धनराशि प्राप्त हुई। मनोज ने अनिल को कितनी धनराशि (₹ में) दी थी?

- Ans
- ☐ 1. 624
 - ☐ 2. 724
 - ☐ 3. 450
 - ☒ 4. 600

Q.16 दो संख्याएँ x और $4x$ हैं, तथा उनका माध्यानुपाती 456976 है। x का मान ज्ञात कीजिए।

- Ans
- ☐ 1. 288488
 - ☒ 2. 228488
 - ☐ 3. 228448
 - ☐ 4. 228848

Q.17 किसी मूलधन पर 9% की वार्षिक दर से 5 वर्ष की अवधि के लिए साधारण ब्याज ₹378 है। मूलधन (₹ में) ज्ञात कीजिए।

- Ans
- ☐ 1. 837
 - ☐ 2. 845
 - ☐ 3. 844
 - ☒ 4. 840

Q.18 अशोक के पास ₹1612 हैं। उसने इसे अपने पुत्रों राज और वरुण के बीच बांट दिया तथा उन्हें इसे वार्षिक रूप से चक्रवृद्धि होने वाली 8% ब्याज दर पर निवेश करने को कहा। यह देखा गया कि राज और वरुण को क्रमशः 15 और 16 वर्ष बाद समान धनराशि प्राप्त हुई। अशोक ने राज को कितनी धनराशि (₹ में) दी थी?

- Ans
- ☒ 1. 837
 - ☐ 2. 687
 - ☐ 3. 775
 - ☐ 4. 875

Q.19 महेश, राम और अनवर का औसत वज़न 46 kg है। यदि महेश और राम का औसत वज़न 39 kg है और राम और अनवर का औसत वज़न 49 kg है, तो राम का वज़न (kg में) ज्ञात कीजिए।

- Ans
- ☐ 1. 53
 - ☐ 2. 58
 - ☐ 3. 48
 - ☒ 4. 38

Q.20 दो संख्याओं के LCM का मान 4158 है तथा उनके HCF का मान 54 है। यदि उनमें से एक संख्या 378 है, तो दूसरी संख्या ज्ञात कीजिए।

- Ans
- ☐ 1. 459
 - ☒ 2. 594
 - ☐ 3. 398
 - ☐ 4. 495

Q.1	<p>Select the most appropriate option that can substitute the underlined segment in the given sentence.</p> <p>A teacher should be assessed on the basis of his ability to interact well with the children and to handle their <u>issues promptly</u>.</p>
Ans	<p><input checked="" type="checkbox"/> 1. solutions nicely</p> <p><input checked="" type="checkbox"/> 2. queries well</p> <p><input checked="" type="checkbox"/> 3. chapters slowly</p> <p><input checked="" type="checkbox"/> 4. parents respectfully</p>
Q.2	<p>Select the most appropriate ANTONYM of the highlighted word in the given sentence to fill in the blank.</p> <p>The manager is so stingy that he never appreciates the efforts of the teammates but the chairperson is really very _____ in this matter.</p>
Ans	<p><input checked="" type="checkbox"/> 1. aggressive</p> <p><input checked="" type="checkbox"/> 2. generous</p> <p><input checked="" type="checkbox"/> 3. strict</p> <p><input checked="" type="checkbox"/> 4. lazy</p>
Q.3	<p>Select the most appropriate option to substitute the underlined segment in the given sentence.</p> <p>The meeting in the conference hall has ended on a <u>temporary agreement</u>.</p>
Ans	<p><input checked="" type="checkbox"/> 1. truce</p> <p><input checked="" type="checkbox"/> 2. hot war</p> <p><input checked="" type="checkbox"/> 3. agenda</p> <p><input checked="" type="checkbox"/> 4. fight</p>
Q.4	<p>Select the most appropriate idiom to substitute the underlined phrase in the given sentence.</p> <p>Although he was nervous before the presentation, he managed to <u>face the situation with courage</u> and deliver a fantastic speech.</p>
Ans	<p><input checked="" type="checkbox"/> 1. bite the tongue</p> <p><input checked="" type="checkbox"/> 2. bite the dust</p> <p><input checked="" type="checkbox"/> 3. bite the bullet</p> <p><input checked="" type="checkbox"/> 4. bite the pain</p>
Q.5	<p>Select the most appropriate meaning of the highlighted idiom in the given sentence.</p> <p>Jake and Emily worked together on a project, and it was a piece of cake for them to complete it on time.</p>
Ans	<p><input checked="" type="checkbox"/> 1. Something enjoyable</p> <p><input checked="" type="checkbox"/> 2. A difficult task</p> <p><input checked="" type="checkbox"/> 3. Something annoying</p> <p><input checked="" type="checkbox"/> 4. An easy task</p>
Q.6	<p>Select the most appropriate synonym of the underlined word.</p> <p>She groaned at the memory, suffering all over again the <u>excruciating</u> embarrassment of those moments.</p>
Ans	<p><input checked="" type="checkbox"/> 1. Rational</p> <p><input checked="" type="checkbox"/> 2. Painful</p> <p><input checked="" type="checkbox"/> 3. Excited</p> <p><input checked="" type="checkbox"/> 4. Justified</p>

Q.7 Select the correctly spelt sentence.

Ans ☒ 1. She was excited to recieve a surprize gift from her friend on her birthday.

☒ 2. She was excited to receive a surprise gift from her friend on her birthday.

☒ 3. She was excited to recieve a surprise gift from her friend on her birthday.

☒ 4. She was excited to recieve a surprize gift from her freind on her birthday.

Q.8 Select the INCORRECTLY spelt word.

Ans ☒ 1. Analytically

☒ 2. Apparently

☒ 3. Astonishingly

☒ 4. Appropreately

Q.9 The given sentence is divided into four segments. Select the option that has the segment with an adverbial usage error.

Michael and Robert / played rapidly / in the park / near the apartment.

Ans ☒ 1. Michael and Robert

☒ 2. in the park

☒ 3. near the apartment

☒ 4. played rapidly

Q.10 The following sentence has been divided into parts. One of them may contain an error. Select the part that contains the error from the given options. If you don't find any error, mark 'No error' as your answer.

At 6 p.m. tomorrow, / I will have been studied / for five hours straight.

Ans ☒ 1. for five hours straight.

☒ 2. At 6 p.m. tomorrow,

☒ 3. No error

☒ 4. I will have been studied

Q.11 Select the correct collocation to fill in the blank.

The CEO has a _____ effect on the future of the company, which includes global expansion.

Ans ☒ 1. far-reaching

☒ 2. grand

☒ 3. broad

☒ 4. gorgeous

Q.12 Select the most appropriate synonym of the underlined word in the following sentence to fill in the blank.

Shravan is known for his compliant nature. He is very _____.

Ans ☒ 1. complaining

☒ 2. difficult

☒ 3. adamant

☒ 4. yielding

Q.13 Select the most appropriate ANTONYM of the given word.

Approbate

Ans ☒ 1. Accept

☒ 2. Supply

☒ 3. Reject

☒ 4. Permit

Q.14 Select the most appropriate one-word substitute for the underlined segment in the given sentence.

There is a lack of security and stability in his bank balance. This is indicative of a hazardous and perilous situation.

- Ans
- ☐ 1. definite
 - ☐ 2. reliable
 - ☐ 3. guarded
 - ☒ 4. precarious

Q.15 Select the most appropriate ANTONYM of the given word.

Trenchant

- Ans
- ☒ 1. Dull
 - ☐ 2. Insightful
 - ☐ 3. Sharp
 - ☐ 4. Acute

Comprehension:

In the following passage, some words have been deleted. Read the passage carefully and select the most appropriate option to fill in each blank.

Naval architects never claim that a ship is unsinkable, but the sinking of the passenger-and-car ferry Estonia (1) _____ the Baltic surely (2) _____ never have happened. It was well designed and (3) _____ maintained. It carried the proper number of lifeboats. It (4) _____ thoroughly inspected on the day of its fatal voyage. Yet hours later, the Estonia rolled over and (5) _____ in a cold and stormy night.

SubQuestion No : 16

Q.16 Select the most appropriate option to fill in blank no. 1.

- Ans
- ☐ 1. up
 - ☐ 2. on
 - ☐ 3. over
 - ☒ 4. in

Comprehension:

In the following passage, some words have been deleted. Read the passage carefully and select the most appropriate option to fill in each blank.

Naval architects never claim that a ship is unsinkable, but the sinking of the passenger-and-car ferry Estonia (1) _____ the Baltic surely (2) _____ never have happened. It was well designed and (3) _____ maintained. It carried the proper number of lifeboats. It (4) _____ thoroughly inspected on the day of its fatal voyage. Yet hours later, the Estonia rolled over and (5) _____ in a cold and stormy night.

SubQuestion No : 17

Q.17 Select the most appropriate option to fill in blank no. 2.

- Ans
- ☐ 1. might
 - ☐ 2. would
 - ☐ 3. could
 - ☒ 4. should

Comprehension:

In the following passage, some words have been deleted. Read the passage carefully and select the most appropriate option to fill in each blank.

Naval architects never claim that a ship is unsinkable, but the sinking of the passenger-and-car ferry Estonia (1) _____ the Baltic surely (2) _____ never have happened. It was well designed and (3) _____ maintained. It carried the proper number of lifeboats. It (4) _____ thoroughly inspected on the day of its fatal voyage. Yet hours later, the Estonia rolled over and (5) _____ in a cold and stormy night.

SubQuestion No : 18

Q.18 Select the most appropriate option to fill in blank no. 3.

- Ans**
- ☒ 1. awkwardly
 - ☒ 2. haphazardly
 - ☒ 3. carefully
 - ☒ 4. carelessly

Comprehension:

In the following passage, some words have been deleted. Read the passage carefully and select the most appropriate option to fill in each blank.

Naval architects never claim that a ship is unsinkable, but the sinking of the passenger-and-car ferry Estonia (1) _____ the Baltic surely (2) _____ never have happened. It was well designed and (3) _____ maintained. It carried the proper number of lifeboats. It (4) _____ thoroughly inspected on the day of its fatal voyage. Yet hours later, the Estonia rolled over and (5) _____ in a cold and stormy night.

SubQuestion No : 19

Q.19 Select the most appropriate option to fill in blank no. 4.

- Ans**
- ☒ 1. have been
 - ☒ 2. has been
 - ☒ 3. was been
 - ☒ 4. was

Comprehension:

In the following passage, some words have been deleted. Read the passage carefully and select the most appropriate option to fill in each blank.

Naval architects never claim that a ship is unsinkable, but the sinking of the passenger-and-car ferry Estonia (1) _____ the Baltic surely (2) _____ never have happened. It was well designed and (3) _____ maintained. It carried the proper number of lifeboats. It (4) _____ thoroughly inspected on the day of its fatal voyage. Yet hours later, the Estonia rolled over and (5) _____ in a cold and stormy night.

SubQuestion No : 20

Q.20 Select the most appropriate option to fill in blank no. 5.

- Ans**
- ☒ 1. marched
 - ☒ 2. sank
 - ☒ 3. upgraded
 - ☒ 4. improved

Section : Part-D-Hindi

Q.1 'खत पढ़ते हुए उसकी _____ लड़खड़ाने लगी थी।' वाक्य के रिक्त स्थान के लिए विदेशी शब्द चुनकर वाक्य पूर्ण कीजिए--

- Ans**
- ☒ 1. आवाज़
 - ☒ 2. मिजाज
 - ☒ 3. स्वर
 - ☒ 4. वाणी

Q.2	निम्नलिखित वाक्यांश के लिए सार्थक शब्द चुनिए - जो नष्ट हो जाता हो
Ans	<div><div><div>✗</div><div>1. अश्वर</div></div><div><div>✗</div><div>2. ईश्वर</div></div><div><div>✗</div><div>3. निराश्वर</div></div><div><div>✓</div><div>4. नश्वर</div></div></div>
Q.3	निम्न में से किस वाक्य में कारक चिह्न का अशुद्ध प्रयोग हुआ है?
Ans	<div><div><div>✓</div><div>1. वह अभी तक हैदराबाद द्वारा नहीं लौटा है।</div></div><div><div>✗</div><div>2. गर्मी से उसका चेहरा तमतमाया हुआ था।</div></div><div><div>✗</div><div>3. हमें अपने पड़ोसी से ईर्ष्या नहीं करनी चाहिए।</div></div><div><div>✗</div><div>4. विद्यार्थी के लिए ब्रह्मचर्य का पालन करना उचित है।</div></div></div>
Q.4	निम्नलिखित में से 'प्रेम' का विलोम शब्द है -
Ans	<div><div><div>✗</div><div>1. क्रूर</div></div><div><div>✗</div><div>2. स्नेह</div></div><div><div>✓</div><div>3. घृणा</div></div><div><div>✗</div><div>4. अनुराग</div></div></div>
Q.5	निम्नलिखित वाक्य में रेखांकित पद के बदले कौन से विकल्प में सही वाक्य लिखा गया है? उस भवन में <u>कोई व्यक्ति नहीं था</u> ।
Ans	<div><div><div>✗</div><div>1. उस भवन में कम व्यक्ति थे।</div></div><div><div>✗</div><div>2. वह भवन लोकारण्य था।</div></div><div><div>✓</div><div>3. वह भवन जनशून्य था।</div></div><div><div>✗</div><div>4. उसमें जनशून्य था।</div></div></div>
Q.6	'अकाल' का पर्याय निम्न में से नहीं है-
Ans	<div><div><div>✗</div><div>1. दुर्भिक्ष</div></div><div><div>✗</div><div>2. कुकाल</div></div><div><div>✓</div><div>3. सुकाल</div></div><div><div>✗</div><div>4. दुष्काल</div></div></div>
Q.7	घर के चारों ओर धुँआ व्याप्त हो गया। इस वाक्य में धुँआ शब्द का तत्सम रूप प्रयुक्त कर वाक्य पूर्ण कीजिए।
Ans	<div><div><div>✗</div><div>1. घर के चारों ओर जल व्याप्त हो गया।</div></div><div><div>✓</div><div>2. घर के चारों ओर धूम व्याप्त हो गया।</div></div><div><div>✗</div><div>3. घर के चारों ओर कूड़ा व्याप्त हो गया।</div></div><div><div>✗</div><div>4. घर के चारों ओर घटा व्याप्त हो गई।</div></div></div>
Q.8	'दीपावली के अवसर पर बने सारे पकवान <u>खाने में बहुत अच्छे</u> लगते हैं।' सर्वाधिक उपयुक्त विकल्प चुनकर वाक्य के रेखांकित अंश को बदलें-
Ans	<div><div><div>✗</div><div>1. बहुत गरिष्ठ</div></div><div><div>✗</div><div>2. बहुत मीठे</div></div><div><div>✓</div><div>3. बहुत स्वादिष्ट</div></div><div><div>✗</div><div>4. बहुत सुपाच्य</div></div></div>

Q.9	निम्नलिखित मुहावरे के लिए उपयुक्त सार्थक शब्द है- चाँद पर थूकना Ans <input checked="" type="checkbox"/> 1. ऊपर नीचे करना <input checked="" type="checkbox"/> 2. मनमानी करना <input checked="" type="checkbox"/> 3. सम्माननीय व्यक्ति का निरादर करना <input checked="" type="checkbox"/> 4. साहसी काम करना
Q.10	निम्नलिखित वाक्य में अशुद्ध शब्द है- अच्छे कार्य में अनेकों संकट आते हैं। Ans <input checked="" type="checkbox"/> 1. अच्छे <input checked="" type="checkbox"/> 2. आते <input checked="" type="checkbox"/> 3. अनेकों <input checked="" type="checkbox"/> 4. कार्य
Q.11	निम्नलिखित वाक्य के अशुद्ध भाग का चयन करें- 'व्यक्ति को समय का दुरुपयोग नहीं करना चाहिए।' Ans <input checked="" type="checkbox"/> 1. समय का <input checked="" type="checkbox"/> 2. व्यक्ति को <input checked="" type="checkbox"/> 3. करना चाहिए <input checked="" type="checkbox"/> 4. दुरुपयोग नहीं
Q.12	दिए गए शब्द का सही पर्यायवाची शब्द पहचानिए - चंद्रहास Ans <input checked="" type="checkbox"/> 1. तलवार <input checked="" type="checkbox"/> 2. त्रिशूल <input checked="" type="checkbox"/> 3. खंजर <input checked="" type="checkbox"/> 4. भाला
Q.13	निम्नलिखित में से कौन सी अनुस्वारान्त संज्ञा स्त्रीलिंग नहीं है? Ans <input checked="" type="checkbox"/> 1. गेहूँ <input checked="" type="checkbox"/> 2. खड़ाऊँ <input checked="" type="checkbox"/> 3. जोखों <input checked="" type="checkbox"/> 4. सरसों
Q.14	निम्नलिखित वाक्य को ध्यानपूर्वक पढ़ें और बताएं कि वाक्य में किस प्रकार की त्रुटि है? हमने यह कार्य जल्दी पूरा करना है। Ans <input checked="" type="checkbox"/> 1. लिंग संबंधी अशुद्धि <input checked="" type="checkbox"/> 2. संज्ञा संबंधी अशुद्धि <input checked="" type="checkbox"/> 3. वचन संबंधी अशुद्धि <input checked="" type="checkbox"/> 4. कारक संबंधी अशुद्धि
Q.15	निम्नलिखित में से किस वाक्य में अंतरंग शब्द का सर्वाधिक उपयुक्त विलोम शब्द प्रयुक्त है? Ans <input checked="" type="checkbox"/> 1. यह अस्पताल बहिरंग रोगियों के लिए है। <input checked="" type="checkbox"/> 2. वह बहुमुखी प्रतिभा का व्यक्ति है। <input checked="" type="checkbox"/> 3. मित्र के बिना जीवन बेरंग है। <input checked="" type="checkbox"/> 4. वह बहुत रंगीन मिजाज है

Comprehension:

निम्नलिखित गद्यांश में से कुछ शब्द हटा दिए गए हैं। दिए गए विकल्पों की सहायता से रिक्त स्थानों की पूर्ति कीजिए। प्रत्येक संख्या के लिए उपयुक्त विकल्प का चयन कीजिए-

मैं अवाक् 1. _____ ओर देखता रहा। फिर मैंने देखा, पिताजी स्टूल पर से नीचे उतर 2. _____ हैं और घोंसले के तिनकों में से लाठी निकालकर उन्होंने 3. _____ को एक ओर रख दिया है 4. _____ चुपचाप कुर्सी पर आकर बैठ 5. _____ हैं।

SubQuestion No : 16

Q.16 रिक्त स्थान 1 की पूर्ति के लिए सर्वाधिक उपयुक्त विकल्प का चयन कीजिए।

- Ans**
- ☒ 1. उनके
 - ☒ 2. उनकी
 - ☒ 3. उन तक
 - ☒ 4. उनका

Comprehension:

निम्नलिखित गद्यांश में से कुछ शब्द हटा दिए गए हैं। दिए गए विकल्पों की सहायता से रिक्त स्थानों की पूर्ति कीजिए। प्रत्येक संख्या के लिए उपयुक्त विकल्प का चयन कीजिए-

मैं अवाक् 1. _____ ओर देखता रहा। फिर मैंने देखा, पिताजी स्टूल पर से नीचे उतर 2. _____ हैं और घोंसले के तिनकों में से लाठी निकालकर उन्होंने 3. _____ को एक ओर रख दिया है 4. _____ चुपचाप कुर्सी पर आकर बैठ 5. _____ हैं।

SubQuestion No : 17

Q.17 रिक्त स्थान 2 की पूर्ति के लिए सर्वाधिक उपयुक्त विकल्प का चयन कीजिए।

- Ans**
- ☒ 1. आए
 - ☒ 2. सकी
 - ☒ 3. आई
 - ☒ 4. सके

Comprehension:

निम्नलिखित गद्यांश में से कुछ शब्द हटा दिए गए हैं। दिए गए विकल्पों की सहायता से रिक्त स्थानों की पूर्ति कीजिए। प्रत्येक संख्या के लिए उपयुक्त विकल्प का चयन कीजिए-

मैं अवाक् 1. _____ ओर देखता रहा। फिर मैंने देखा, पिताजी स्टूल पर से नीचे उतर 2. _____ हैं और घोंसले के तिनकों में से लाठी निकालकर उन्होंने 3. _____ को एक ओर रख दिया है 4. _____ चुपचाप कुर्सी पर आकर बैठ 5. _____ हैं।

SubQuestion No : 18

Q.18 रिक्त स्थान 3 की पूर्ति के लिए सर्वाधिक उपयुक्त विकल्प का चयन कीजिए।

- Ans**
- ☒ 1. लाठी
 - ☒ 2. छड़
 - ☒ 3. लोहे
 - ☒ 4. डंडे

Comprehension:

निम्नलिखित गद्यांश में से कुछ शब्द हटा दिए गए हैं। दिए गए विकल्पों की सहायता से रिक्त स्थानों की पूर्ति कीजिए। प्रत्येक संख्या के लिए उपयुक्त विकल्प का चयन कीजिए-

मैं अवाक् 1. _____ ओर देखता रहा। फिर मैंने देखा, पिताजी स्टूल पर से नीचे उतर 2. _____ हैं और घोंसले के तिनकों में से लाठी निकालकर उन्होंने 3. _____ को एक ओर रख दिया है 4. _____ चुपचाप कुर्सी पर आकर बैठ 5. _____ हैं।

SubQuestion No : 19

Q.19 रिक्त स्थान 4 की पूर्ति के लिए सर्वाधिक उपयुक्त विकल्प का चयन कीजिए।

- Ans**
- ☒ 1. ऊपर
 - ☒ 2. किंतु
 - ☒ 3. साथ
 - ☒ 4. और

Comprehension:

निम्नलिखित गद्यांश में से कुछ शब्द हटा दिए गए हैं। दिए गए विकल्पों की सहायता से रिक्त स्थानों की पूर्ति कीजिए। प्रत्येक संख्या के लिए उपयुक्त विकल्प का चयन कीजिए-

मैं अवाक् 1. _____ ओर देखता रहा। फिर मैंने देखा, पिताजी स्टूल पर से नीचे उतर 2. _____ हैं और घोंसले के तिनकों में से लाठी निकालकर उन्होंने 3. _____ को एक ओर रख दिया है 4. _____ चुपचाप कुर्सी पर आकर बैठ 5. _____ हैं।

SubQuestion No : 20

Q.20 रिक्त स्थान 5 की पूर्ति के लिए सर्वाधिक उपयुक्त विकल्प का चयन कीजिए।

- Ans**
- ☒ 1. उठे
 - ☒ 2. सके
 - ☒ 3. गई
 - ☒ 4. गए