

## Multi Tasking Non Technical Staff and Havaldar CBIC and CBN Examination 2022

Roll Number	
Candidate Name	
Venue Name	iON Digital Zone iDZ4 Patliputra
Exam Date	02/05/2023
Exam Time	9:00 AM - 10:30 AM
Subject	MTS Non Tech Havaldar CBIC and CBN Examination 2022

### Section : Numerical and Mathematical Ability

Q.1 p, q, r और s का औसत 30 है। यदि p और q का औसत 12 है, तो r और s का औसत क्या होगा?

- Ans
- 1. 52
  - 2. 50
  - 3. 48
  - 4. 56

Question Type : MCQ

Question ID : 264330139079

Option 1 ID : 264330544925

Option 2 ID : 264330544923

Option 3 ID : 264330544926

Option 4 ID : 264330544924

Status : Answered

Chosen Option : 3

Q.2 जया ने Rs. 14800 की धनराशि को 8.5% वार्षिक दर पर साधारण ब्याज पर निवेश किया। 6 माह पश्चात अर्जित ब्याज कितना है?

- Ans
- 1. Rs. 642
  - 2. Rs. 629
  - 3. Rs. 598
  - 4. Rs. 580

Question Type : MCQ

Question ID : 264330138711

Option 1 ID : 264330543453

Option 2 ID : 264330543451

Option 3 ID : 264330543454

Option 4 ID : 264330543452

Status : Answered

Chosen Option : 2

Q.3 A, B और C अकाउंटेंट हैं। A अकेले 6 घंटों में रिटर्न फाइल कर सकता है और B अकेले उसी रिटर्न को 10 घंटों में फाइल कर सकता है। तीनों मिलकर इसे 3 घंटे में कर सकते हैं। C अकेले वही रिटर्न कितने समय में फाइल करेगा?

- Ans
- 1. 7 घंटे
  - 2. 15 घंटे
  - 3. 8 घंटे
  - 4. 4 घंटे

Question Type : MCQ  
Question ID : 264330135428  
Option 1 ID : 264330530619  
Option 2 ID : 264330530622  
Option 3 ID : 264330530621  
Option 4 ID : 264330530620  
Status : Answered  
Chosen Option : 2

Q.4 एक कंप्यूटर का अंकित मूल्य Rs.10000 है। कंप्यूटर का विक्रय मूल्य Rs.7650 है। यदि 15 प्रतिशत और x प्रतिशत के दो क्रमागत बड़े दिए जाते हैं, तो x का मान क्या है?

- Ans
- 1. 10 प्रतिशत
  - 2. 20 प्रतिशत
  - 3. 5 प्रतिशत
  - 4. 15 प्रतिशत

Question Type : MCQ  
Question ID : 264330139088  
Option 1 ID : 264330544959  
Option 2 ID : 264330544960  
Option 3 ID : 264330544961  
Option 4 ID : 264330544962  
Status : Answered  
Chosen Option : 1

Q.5 A अपनी आय का 18% बचाता है। यदि उसकी आय में 41% की वृद्धि होती है और फिर भी वह उतनी ही धनराशि बचा पाता है, तो उसके व्यय में कितने प्रतिशत वृद्धि हुई?

- Ans
- 1. 60%
  - 2. 50%
  - 3. 40%
  - 4. 35%

Question Type : MCQ  
Question ID : 264330138418  
Option 1 ID : 264330542282  
Option 2 ID : 264330542279  
Option 3 ID : 264330542281  
Option 4 ID : 264330542280  
Status : Answered  
Chosen Option : 2

Q.6 यदि दो गोलों के पृष्ठीय क्षेत्रफल 81 : 25 के अनुपात में हैं, तो उनकी त्रिज्याओं का अनुपात क्या है?

- Ans
- ✓ 1. 9 : 5
  - ✗ 2. 5 : 7
  - ✗ 3. 7 : 9
  - ✗ 4. 5 : 8

Question Type : MCQ  
Question ID : 264330135433  
Option 1 ID : 264330530642  
Option 2 ID : 264330530640  
Option 3 ID : 264330530641  
Option 4 ID : 264330530639  
Status : Answered  
Chosen Option : 1

Q.7 15 और 25 का लघुत्तम समापवर्त्य (LCM) क्या है?

- Ans
- ✗ 1. 125
  - ✗ 2. 25
  - ✗ 3. 105
  - ✓ 4. 75

Question Type : MCQ  
Question ID : 264330139091  
Option 1 ID : 264330544973  
Option 2 ID : 264330544972  
Option 3 ID : 264330544974  
Option 4 ID : 264330544971  
Status : Answered  
Chosen Option : 4

Q.8 अमन, कमल और मनन की चाल का अनुपात क्रमशः 2 : 3 : 4 है। अमन, कमल और मनन द्वारा समान दूरी तय करने में लगने वाले समय का क्रमशः अनुपात क्या है?

- Ans
- ✗ 1. 8 : 9 : 16
  - ✗ 2. 2 : 3 : 4
  - ✓ 3. 6 : 4 : 3
  - ✗ 4. 4 : 3 : 2

Question Type : MCQ  
Question ID : 264330139085  
Option 1 ID : 264330544949  
Option 2 ID : 264330544947  
Option 3 ID : 264330544950  
Option 4 ID : 264330544948  
Status : Answered  
Chosen Option : 3

Q.9 एक बस 45 मिनट में 45 km की दूरी तय करती है। यदि इसकी चाल को 20 km/hr कम कर दिया जाए, तो समान दूरी तय करने में इसे कितना समय लगेगा?

- Ans
- 1. 78.5 मिनट
  - 2. 72.5 मिनट
  - 3. 67.5 मिनट
  - 4. 62.5 मिनट

Question Type : MCQ

Question ID : 264330139078

Option 1 ID : 264330544921

Option 2 ID : 264330544919

Option 3 ID : 264330544920

Option 4 ID : 264330544922

Status : Answered

Chosen Option : 3

Q.10 M अकेले किसी कार्य को 50 दिनों में पूरा कर सकता है और N अकेले उसी कार्य को 100 दिनों में पूरा कर सकता है। यदि वे दोनों साथ मिलकर कार्य करें, तो 25 दिनों में कुल कार्य का कितना प्रतिशत कार्य पूरा हो जाएगा?

- Ans
- 1. 60 प्रतिशत
  - 2. 80 प्रतिशत
  - 3. 75 प्रतिशत
  - 4. 55 प्रतिशत

Question Type : MCQ

Question ID : 264330138996

Option 1 ID : 264330544593

Option 2 ID : 264330544592

Option 3 ID : 264330544591

Option 4 ID : 264330544594

Status : Answered

Chosen Option : 3

Q.11 नीचे दी गई तालिका में पाँच अलग-अलग वस्तुओं के अंकित मूल्य और छूट के मूल्य को दर्शाया गया है।

वस्तु	अंकित मूल्य	छूट
A	Rs. 350	Rs. 70
B	Rs. 650	Rs. 75
C	Rs. 450	Rs. 66
D	Rs. 750	Rs. 72
E	Rs. 850	Rs. 80

विक्रय मूल्य = अंकित मूल्य - छूट

L1 = वस्तु C और D की छूट के औसत का मूल्य।

L2 = सभी वस्तुओं के विक्रय मूल्य का योग।

(L1 + L2) का मान क्या है?

- Ans
- 1. 2816
  - 2. 2618
  - 3. 2756
  - 4. 2687

Question Type : MCQ

Question ID : 264330137172

Option 1 ID : 264330537334

Option 2 ID : 264330537331

Option 3 ID : 264330537332

Option 4 ID : 264330537333

Status : Answered

Chosen Option : 3

Q.12 यदि किसी घनाभ की लंबाई और चौड़ाई दोनों में 50 प्रतिशत की वृद्धि कर दी जाए, तो इसकी ऊँचाई में कितने प्रतिशत की कमी करनी होगी ताकि इसका आयतन वही रहे?

- Ans
- 1. 55.55 प्रतिशत
  - 2. 37.25 प्रतिशत
  - 3. 48.75 प्रतिशत
  - 4. 62.34 प्रतिशत

Question Type : MCQ

Question ID : 264330139009

Option 1 ID : 264330544646

Option 2 ID : 264330544643

Option 3 ID : 264330544644

Option 4 ID : 264330544645

Status : Answered

Chosen Option : 1

Q.13 एक व्यक्ति को एक स्थान तक पैदल जाने और वहाँ से पैदल वापस आने में 6 घंटे का समय लगता है। यदि वह दोनों ओर गाड़ी से जाता तो 2 घंटे का समय बचा सकता था। पूरी यात्रा में तय की गई दूरी 20 मील है। यदि वह पैदल जाता है और गाड़ी से वापस आता है, तो पूरी यात्रा के दौरान उसकी औसत चाल कितनी है?

- Ans
- 1. 6 मील/घंटा
  - 2. 4 मील/घंटा
  - 3. 5 मील/घंटा
  - 4. 8 मील/घंटा

Question Type : MCQ  
Question ID : 264330138093  
Option 1 ID : 264330540980  
Option 2 ID : 264330540979  
Option 3 ID : 264330540982  
Option 4 ID : 264330540981  
Status : Answered  
Chosen Option : 2

Q.14  $28 \times 25 \div 7 \times 15 + 63 \times 56 \div 72 \times 5 + 24 \times 7 + 8$  का मान क्या है?

- Ans
- 1. 2101
  - 2. 1901
  - 3. 1821
  - 4. 1921

Question Type : MCQ  
Question ID : 264330137171  
Option 1 ID : 264330537330  
Option 2 ID : 264330537329  
Option 3 ID : 264330537327  
Option 4 ID : 264330537328  
Status : Answered  
Chosen Option : 4

Q.15 यदि दो मिक्सर और एक टीवी का मूल्य Rs.700 है। जबकि दो टीवी और एक मिक्सर का मूल्य Rs.980 है, तो एक टीवी का मूल्य कितना है?

- Ans
- 1. Rs.450
  - 2. Rs.420
  - 3. Rs.400
  - 4. Rs.480

Question Type : MCQ  
Question ID : 264330141043  
Option 1 ID : 264330552521  
Option 2 ID : 264330552520  
Option 3 ID : 264330552519  
Option 4 ID : 264330552522  
Status : Answered  
Chosen Option : 2

Q.16 यदि  $(7x + y) : (7x - y) = 7 : 3$ , तो  $x : y$  का मान क्या है?

Ans  1. 6 : 15

2. 4 : 3

3. 5 : 14

4. 15 : 6

Question Type : MCQ

Question ID : 264330139084

Option 1 ID : 264330544945

Option 2 ID : 264330544946

Option 3 ID : 264330544943

Option 4 ID : 264330544944

Status : Answered

Chosen Option : 3

Q.17 दो अभाज्य संख्याओं X और Y का महत्तम समापवर्तक (HCF) क्या है?

Ans  1. X

2. 2

3. Y

4. 1

Question Type : MCQ

Question ID : 264330135370

Option 1 ID : 264330530389

Option 2 ID : 264330530388

Option 3 ID : 264330530390

Option 4 ID : 264330530387

Status : Answered

Chosen Option : 4

Q.18 Rs. 16,000 की राशि पर दो वर्ष के लिए चक्रवृद्धि ब्याज और साधारण ब्याज के बीच का अंतर Rs. 160 है। वार्षिक ब्याज दर ज्ञात कीजिए।

Ans  1. 11%

2. 12%

3. 10%

4. 15%

Question Type : MCQ

Question ID : 264330138425

Option 1 ID : 264330542308

Option 2 ID : 264330542310

Option 3 ID : 264330542307

Option 4 ID : 264330542309

Status : Answered

Chosen Option : 3

Q.19 एक आदमी एक बाइक को एक निश्चित मूल्य पर बेचकर 45 प्रतिशत का लाभ अर्जित करता है। यदि वह उस बाइक को दोगुने मूल्य पर बेचता है, तो उसका लाभ प्रतिशत क्या होगा?

- Ans
- ✓ 1. 190 प्रतिशत
  - ✗ 2. 90 प्रतिशत
  - ✗ 3. 80 प्रतिशत
  - ✗ 4. 180 प्रतिशत

Question Type : MCQ

Question ID : 264330139083

Option 1 ID : 264330544942

Option 2 ID : 264330544940

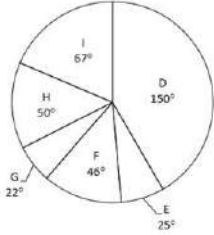
Option 3 ID : 264330544941

Option 4 ID : 264330544939

Status : Answered

Chosen Option : 1

Q.20 नीचे दिए गए वृत्त आलेख में एक वर्ष में छः कंपनियों द्वारा निर्मित ट्रकों की संख्या को दर्शाया गया है। इन सभी छः कंपनियों द्वारा निर्मित कुल ट्रक 1800 हैं। इनमें से किसी एक विशिष्ट कंपनी द्वारा निर्मित ट्रकों की संख्या को इन सभी छः कंपनियों द्वारा निर्मित ट्रकों की कुल संख्या के सापेक्ष डिग्री में दर्शाया गया है।



D और F द्वारा निर्मित कुल ट्रकों की संख्या, G और I द्वारा निर्मित कुल ट्रकों की संख्या का कितना प्रतिशत है?

- Ans
- ✗ 1. 140.2 प्रतिशत
  - ✓ 2. 220.2 प्रतिशत
  - ✗ 3. 260.4 प्रतिशत
  - ✗ 4. 234.3 प्रतिशत

Question Type : MCQ

Question ID : 264330139095

Option 1 ID : 264330544988

Option 2 ID : 264330544989

Option 3 ID : 264330544990

Option 4 ID : 264330544987

Status : Answered

Chosen Option : 2

Q.1 एक लिखित कूट भाषा में, 'ACCENT' को 'CCATNE' लिखा जाता है। इस कूट भाषा में 'VENDOR' को कैसे लिखा जाएगा?

- Ans
- 1. VENROD
  - 2. NEVROD
  - 3. NVEDOR
  - 4. NEVORD

Question Type : MCQ

Question ID : 264330138607

Option 1 ID : 264330543037

Option 2 ID : 264330543038

Option 3 ID : 264330543036

Option 4 ID : 264330543035

Status : Answered

Chosen Option : 2

Q.2 उस विकल्प को चुनिए जो पाँचवें पद से ठीक उसी प्रकार संबंधित है जिस प्रकार दूसरा पद पहले पद से संबंधित है और चौथा पद तीसरे पद से संबंधित है।

PRAY : UWFD :: MONK : RTSP :: FAIT : ?

- Ans
- 1. KEMY
  - 2. KENY
  - 3. KFMY
  - 4. KFNy

Question Type : MCQ

Question ID : 264330138852

Option 1 ID : 264330544017

Option 2 ID : 264330544016

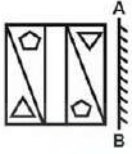
Option 3 ID : 264330544018

Option 4 ID : 264330544015

Status : Answered

Chosen Option : 4

Q.3 यदि एक दर्पण को रेखा AB पर रखा जाए, तो दिए गए विकल्पों में से कौन-सी आकृति प्रश्न आकृति का सही प्रतिबिम्ब होगी?

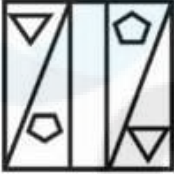


Ans

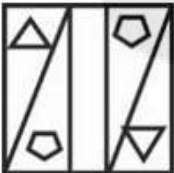
✓ 1.



✗ 2.



✗ 3.



✗ 4.



Question Type : MCQ

Question ID : 264330137128

Option 1 ID : 264330537155

Option 2 ID : 264330537157

Option 3 ID : 264330537158

Option 4 ID : 264330537156

Status : Answered

Chosen Option : 1

**Q.4** उस विकल्प को चुनिए जिसमें समुच्चय की संख्याएँ वही संबंध साझा करती हैं जो दिए गए समुच्चय में संख्याओं द्वारा साझा किया जाता है। (ध्यान दें: संख्याओं को उनके घटक अंकों में अलग-अलग किए बिना, पूर्ण संख्याओं पर संक्रियाएँ की जानी चाहिए। उदा. 13 - 13 पर संक्रियाएँ जैसे 13 को जोड़ना /घटाना /गुणा करना आदि किया जा सकता है। 13 को 1 और 3 में अलग-अलग करने और फिर 1 और 3 पर गणितीय संक्रियाएँ करने की अनुमति नहीं है।)

(8, 27, 125)  
(64, 1331, 1728)

- Ans**
- 1. (125, 172, 144)
  - 2. (289, 212, 196)
  - 3. (200, 215, 256)
  - 4. (216, 343, 512)

Question Type : **MCQ**

Question ID : **264330138865**

Option 1 ID : **264330544070**

Option 2 ID : **264330544069**

Option 3 ID : **264330544068**

Option 4 ID : **264330544067**

Status : **Answered**

Chosen Option : **4**

**Q.5** सात लड़के J, K, L, M, N, P और Q एक वृत्ताकार मेज के चारों ओर केंद्र की ओर मुख करके बैठे हैं (परंतु जरूरी नहीं कि वे इसी क्रम में बैठें हों)। P, Q के दाईं ओर से दूसरे स्थान पर है। M, J और Q दोनों का निकटतम पड़ोसी है। L, Q का निकटतम पड़ोसी नहीं है। N, P के दाईं ओर से दूसरे स्थान पर है। L के ठीक बाईं ओर कौन है?

- Ans**
- 1. **P**
  - 2. **N**
  - 3. **J**
  - 4. **M**

Question Type : **MCQ**

Question ID : **264330138858**

Option 1 ID : **264330544039**

Option 2 ID : **264330544040**

Option 3 ID : **264330544041**

Option 4 ID : **264330544042**

Status : **Answered**

Chosen Option : **1**

Q.6 निम्नलिखित प्रश्न में कुछ कथन दिए गए हैं और उन कथनों के आधार पर कुछ निष्कर्ष दिए गए हैं। आपको मानना है कि दिए गए कथन सत्य हैं चाहे वे समान्यतः जात तथ्यों से अलग प्रतीत होते हों। सभी निष्कर्षों को पढ़िए और फिर निश्चय कीजिए कि दिए गए निष्कर्षों में से कौन-सा निष्कर्ष तार्किक रूप से दिए गए कथनों के अनुसार है।

कथन:

I. सभी H, G हैं।

II. कुछ G, I हैं।

निष्कर्ष:

I. कोई I, H नहीं है।

II. सभी I, G हैं।

Ans

1. केवल निष्कर्ष I कथनों के अनुसार है
2. केवल निष्कर्ष II कथनों के अनुसार है
3. कोई भी निष्कर्ष कथनों के अनुसार नहीं है
4. दोनों निष्कर्ष I और II कथनों के अनुसार हैं

Question Type : MCQ

Question ID : 264330138860

Option 1 ID : 264330544047

Option 2 ID : 264330544048

Option 3 ID : 264330544050

Option 4 ID : 264330544049

Status : Answered

Chosen Option : 3

Q.7 एक निश्चित कूट भाषा में, 'APPLE' को '25' लिखा जाता है और 'JUNIOR' को '36' लिखा जाता है। उस कूट भाषा में 'PACKAGE' को कैसे लिखा जाएगा?

Ans

1. 36
2. 49
3. 64
4. 81

Question Type : MCQ

Question ID : 264330137347

Option 1 ID : 264330538017

Option 2 ID : 264330538015

Option 3 ID : 264330538016

Option 4 ID : 264330538018

Status : Answered

Chosen Option : 2

Q.8 उस विकल्प आकृति को चुनिए जिसमें दी गई आकृति निहित है। (घूर्णन की अनुमति नहीं है)

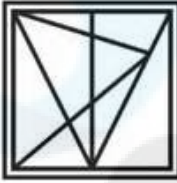


Ans

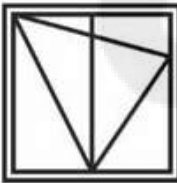
✗ 1.



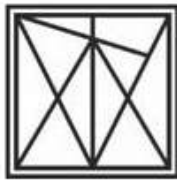
✗ 2.



✗ 3.



✓ 4.



Question Type : MCQ

Question ID : 264330137127

Option 1 ID : 264330537151

Option 2 ID : 264330537153

Option 3 ID : 264330537152

Option 4 ID : 264330537154

Status : Answered

Chosen Option : 4

Q.9 Words given on the left side of (::) are related with each other by some Logic/Rule/Relation. Select the missing word/word pair on the right side of (::) from the given alternatives based on the same Logic/Rule/Relation.

Electric Current : Ampere :: ?

Ans ✗ 1. Resistance : Seconds

✗ 2. Temperature : Watt

✓ 3. Force : Newton

✗ 4. Joule : Work

Question Type : MCQ

Question ID : 264330138853

Option 1 ID : 264330544020

Option 2 ID : 264330544022

Option 3 ID : 264330544021

Option 4 ID : 264330544019

Status : Answered

Chosen Option : 3

Q.10 उस विकल्प को चुनिए जो पाँचवी संख्या से ठीक उसी प्रकार संबंधित है जिस प्रकार दूसरी संख्या पहली संख्या से संबंधित है और चौथी संख्या तीसरी संख्या से संबंधित है।

7 : 36 :: 16 : 225 :: 21 : ?

- Ans
- 1. 441
  - 2. 385
  - 3. 395
  - 4. 400

Question Type : MCQ  
Question ID : 264330138533  
Option 1 ID : 264330542740  
Option 2 ID : 264330542739  
Option 3 ID : 264330542742  
Option 4 ID : 264330542741  
Status : Answered  
Chosen Option : 4

Q.11 एक निश्चित कूट भाषा में, 'He is my nephew' को 'Co Pv Zs Mn' लिखा जाता है, 'That is my car' को 'Zs Pt Pv Ga' लिखा जाता है, 'He is your uncle' को 'Co Pv Ex Yz' लिखा जाता है। उस कूट भाषा में 'nephew' को कैसे लिखा जाएगा?

- Ans
- 1. Co
  - 2. Zs
  - 3. Mn
  - 4. Pv

Question Type : MCQ  
Question ID : 264330133491  
Option 1 ID : 264330522996  
Option 2 ID : 264330522995  
Option 3 ID : 264330522998  
Option 4 ID : 264330522997  
Status : Answered  
Chosen Option : 3

Q.12 एक श्रृंखला दी गई है जिसमें एक पद लुप्त है। दिए गए विकल्पों में से उस सही विकल्प को चुनिए जो श्रृंखला को पूरा करेगा।  
LAGB, NDIE, PGKH, RJMK, ?

- Ans
- 1. TMOM
  - 2. TMNO
  - 3. TNON
  - 4. TMON

Question Type : MCQ  
Question ID : 264330138850  
Option 1 ID : 264330544009  
Option 2 ID : 264330544010  
Option 3 ID : 264330544008  
Option 4 ID : 264330544007  
Status : Answered  
Chosen Option : 4

Q.13 निम्नलिखित प्रश्न में, दी गई श्रृंखला में लुप्त संख्या को चुनिए।  
108, 129, 104, ?, 100, 137, 96

- Ans
- 1. 140
  - 2. 138
  - 3. 133
  - 4. 135

Question Type : MCQ  
Question ID : 264330138863  
Option 1 ID : 264330544062  
Option 2 ID : 264330544061  
Option 3 ID : 264330544059  
Option 4 ID : 264330544060  
Status : Answered  
Chosen Option : 3

Q.14 किन दो चिन्हों को आपस में बदलने पर निम्न समीकरण सही होगा?

$$15 + 5 \div 2 - 9 \times 3 = 22$$

- Ans
- 1. + और -
  - 2.  $\times$  और  $\div$
  - 3.  $\div$  और +
  - 4.  $\times$  और -

Question Type : MCQ  
Question ID : 264330138866  
Option 1 ID : 264330544072  
Option 2 ID : 264330544071  
Option 3 ID : 264330544074  
Option 4 ID : 264330544073  
Status : Answered  
Chosen Option : 2

Q.15 पाँच कारों C1, C2, C3, C4 और C5 की चाल की तुलना की जाती है। C1 की चाल केवल एक कार से अधिक है। C5 की चाल चार कारों से अधिक है। C4 की चाल C1 से अधिक लेकिन C3 और C5 से कम है। कितनी कारों की चाल C3 की चाल से कम है?

- Ans
- 1. 0
  - 2. 1
  - 3. 2
  - 4. 3

Question Type : MCQ  
Question ID : 264330138859  
Option 1 ID : 264330544046  
Option 2 ID : 264330544045  
Option 3 ID : 264330544043  
Option 4 ID : 264330544044  
Status : Answered  
Chosen Option : 4

Q.16 सात लड़के राम, सुमित, सुनील, राहुल, राज, अमन और अमित एक वृत्ताकार मेज के चारों ओर केंद्र की ओर मुख करके बैठे हैं (परंतु जरूरी नहीं कि वे इसी क्रम में बैठें हों)। राज, अमन के दाईं ओर से दूसरे स्थान पर है। सुनील, अमन के बाईं ओर से तीसरे स्थान पर है। राम, अमन का निकटतम पड़ोसी नहीं है। अमित, राम के दाईं ओर से दूसरे स्थान पर है। राहुल, अमित का निकटतम पड़ोसी नहीं है। सुमित के बाईं ओर से तीसरे स्थान पर कौन है?

- Ans
- 1. सुनील
  - 2. राज
  - 3. राहुल
  - 4. राम

Question Type : MCQ  
Question ID : 264330138857  
Option 1 ID : 264330544038  
Option 2 ID : 264330544036  
Option 3 ID : 264330544035  
Option 4 ID : 264330544037  
Status : Answered  
Chosen Option : 4

Q.17 दी गई दो संख्याओं को आपस में बदलने पर, निम्नलिखित में से कौनसा समीकरण सही होगा?

1 और 6

I.  $7 - 5 + 1 \times 3 \div 6 = 20$

II.  $1 \times 7 + 6 - 4 \div 2 = 40$

- Ans
- 1. केवल II
  - 2. न तो I और न ही II
  - 3. I और II दोनों
  - 4. केवल I

Question Type : MCQ  
Question ID : 264330138578  
Option 1 ID : 264330542920  
Option 2 ID : 264330542922  
Option 3 ID : 264330542921  
Option 4 ID : 264330542919  
Status : Answered  
Chosen Option : 4

Q.18 निम्नलिखित प्रश्न में कुछ कथन दिए गए हैं और उन कथनों के आधार पर कुछ निष्कर्ष दिए गए हैं। आपको मानना है कि दिए गए कथन सत्य हैं चाहे वे समान्यतः जात तथ्यों से अलग प्रतीत होते हों। सभी निष्कर्षों को पढ़िए और फिर निश्चय कीजिए कि दिए गए निष्कर्षों में से कौन-सा निष्कर्ष तार्किक रूप से दिए गए कथनों के अनुसार है।

कथन:

- I. सभी Z, Y हैं।
- II. कुछ Y, B हैं।

निष्कर्ष:

- I. कुछ B, Z नहीं हैं।
- II. कुछ Y, Z नहीं हैं।
- III. कुछ Z, Y हैं।

- Ans
- 1. दोनों निष्कर्ष II और III कथनों के अनुसार हैं
  - 2. दोनों निष्कर्ष I और III कथनों के अनुसार हैं
  - 3. केवल निष्कर्ष III कथनों के अनुसार है
  - 4. सभी निष्कर्ष कथनों के अनुसार हैं

Question Type : MCQ

Question ID : 264330138861

Option 1 ID : 264330544052

Option 2 ID : 264330544053

Option 3 ID : 264330544051

Option 4 ID : 264330544054

Status : Answered

Chosen Option : 3

Q.19 निम्नलिखित प्रश्न में, दी गई श्रृंखला में लुप्त संख्या चुनिए ।

342, 365, 388,?, 434, 457

- Ans
- 1. 425
  - 2. 430
  - 3. 435
  - 4. 411

Question Type : MCQ

Question ID : 264330138531

Option 1 ID : 264330542732

Option 2 ID : 264330542733


Option 3 ID : 264330542734

Option 4 ID : 264330542731

Status : Answered

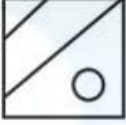
Chosen Option : 4

Q.20 कौन-सी उत्तर आकृति प्रश्न आकृति में दिए गए पैटर्न को पूरा करेगी?

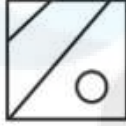


Ans

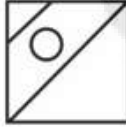
✗ 1.



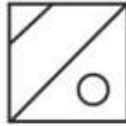
✗ 2.



✗ 3.



✓ 4.



Question Type : MCQ

Question ID : 264330138870

Option 1 ID : 264330544088

Option 2 ID : 264330544090

Option 3 ID : 264330544089

Option 4 ID : 264330544087

Status : Answered

Chosen Option : 4

Section : General Awareness

Q.1 करगम लोक नृत्य किस राज्य से संबंधित है?

Ans

✗ 1. हरियाणा

✗ 2. राजस्थान

✓ 3. तमिलनाडु

✗ 4. असम

Question Type : MCQ

Question ID : 264330133975

Option 1 ID : 264330524925

Option 2 ID : 264330524926

Option 3 ID : 264330524923

Option 4 ID : 264330524924

Status : Answered

Chosen Option : 3

Q.2 ऐसे अपराध, जिनके लिए पुलिस न्यायालय के आदेश के बिना किसी व्यक्ति को गिरफ्तार कर सकती है, उसे \_\_\_\_\_ कहते हैं।

- Ans
- 1. असंज्ञेय अपराध (Non-Cognizable offences)
  - 2. क्रॉस अपराध (Cross offences)
  - 3. नजरबंदी अपराध (Detention offences)
  - 4. संज्ञेय अपराध (Cognizable offences)

Question Type : MCQ  
Question ID : 264330138635  
Option 1 ID : 264330543148  
Option 2 ID : 264330543149  
Option 3 ID : 264330543150  
Option 4 ID : 264330543147  
Status : Answered  
Chosen Option : 3

Q.3 सोने की खदान के धंसने के कारण खबरों में रहा शिनजियांग (Xinjiang) प्रांत किस देश में स्थित है?

- Ans
- 1. उत्तर कोरिया
  - 2. जापान
  - 3. दक्षिण कोरिया
  - 4. चीन

Question Type : MCQ  
Question ID : 264330138929  
Option 1 ID : 264330544324  
Option 2 ID : 264330544326  
Option 3 ID : 264330544323  
Option 4 ID : 264330544325  
Status : Answered  
Chosen Option : 4

Q.4 "मैग्नुस कार्लसन (Magnus Carlsen)" निम्नलिखित में से किस खेल से संबंधित हैं?

- Ans
- 1. शतरंज
  - 2. गोल्फ़
  - 3. मुक्केबाजी
  - 4. टेबल टेनिस

Question Type : MCQ  
Question ID : 264330138300  
Option 1 ID : 264330541808  
Option 2 ID : 264330541809  
Option 3 ID : 264330541810  
Option 4 ID : 264330541807  
Status : Answered  
Chosen Option : 1

Q.5 18वीं शताब्दी में, ब्रिटेन में सूती कपड़ा उद्योग के विकास का क्या परिणाम हुआ?

- Ans
- 1. भारत में कपड़ा उत्पादन में गिरावट
  - 2. भारत में ब्रिटिश कपड़ा उद्योगों में गिरावट
  - 3. ब्रिटेन में भारतीय वस्त्रों की मांग में वृद्धि
  - 4. भारत में भारतीय वस्त्रों की मांग में वृद्धि

Question Type : MCQ  
Question ID : 264330138647  
Option 1 ID : 264330543198  
Option 2 ID : 264330543197  
Option 3 ID : 264330543195  
Option 4 ID : 264330543196  
Status : Not Answered  
Chosen Option : --

Q.6 वर्ष 1982 के एशियाई खेलों की मेजबानी किस देश ने की थी?

- Ans
- 1. पाकिस्तान
  - 2. भारत
  - 3. चीन
  - 4. कतर

Question Type : MCQ  
Question ID : 264330138924  
Option 1 ID : 264330544304  
Option 2 ID : 264330544305  
Option 3 ID : 264330544303  
Option 4 ID : 264330544306  
Status : Not Answered  
Chosen Option : --

Q.7 "एस्किमो (Eskimos)" किस भौगोलिक क्षेत्र से संबंधित हैं?

- Ans
- 1. सवाना घास के मैदान
  - 2. शुष्क क्षेत्र
  - 3. उष्णकटिबंधीय वर्षावन क्षेत्र
  - 4. ध्रुवीय क्षेत्र

Question Type : MCQ  
Question ID : 264330138941  
Option 1 ID : 264330544373  
Option 2 ID : 264330544372  
Option 3 ID : 264330544371  
Option 4 ID : 264330544374  
Status : Answered  
Chosen Option : 4

Q.8 भारतीय संविधान की प्रस्तावना में, \_\_\_\_\_ किसी व्यक्ति की गरिमा को सुनिश्चित करता है।

- Ans
- 1. समानता
  - 2. स्वतंत्रता
  - 3. बंधुता
  - 4. न्याय

Question Type : MCQ

Question ID : 264330138933

Option 1 ID : 264330544341

Option 2 ID : 264330544340

Option 3 ID : 264330544342

Option 4 ID : 264330544339

Status : Answered

Chosen Option : 2

Q.9 अशोक के अभिलेखों के अनुसार निम्नलिखित में से कौनसा मगध साम्राज्य में एक प्रांतीय केंद्र नहीं था?

- Ans
- 1. तोसलि
  - 2. उज्जयिनी
  - 3. इंद्रप्रस्थ
  - 4. तक्षशिला

Question Type : MCQ

Question ID : 264330137049

Option 1 ID : 264330536841

Option 2 ID : 264330536840

Option 3 ID : 264330536842

Option 4 ID : 264330536839

Status : Answered

Chosen Option : 3

Q.10 The cells having well - organized nucleus with a nuclear membrane are designated as \_\_\_\_\_.

- Ans
- 1. Cheek cells
  - 2. prokaryotic cells
  - 3. eukaryotic cells
  - 4. autokaryotic cells

Question Type : MCQ

Question ID : 264330138310

Option 1 ID : 264330541847

Option 2 ID : 264330541848

Option 3 ID : 264330541850

Option 4 ID : 264330541849

Status : Answered

Chosen Option : 3

Q.11 विश्व बैंक वर्गीकरण (World Bank classification) 2020-2021 के अनुसार, भारत \_\_\_\_\_ की श्रेणी में आता है।

- Ans
- 1. उच्च आय वाले देश
  - 2. उच्च-मध्यम आय वाले देश
  - 3. निम्न-मध्यम आय वाले देश
  - 4. निम्न आय वाले देश

Question Type : MCQ

Question ID : 264330134068

Option 1 ID : 264330525297

Option 2 ID : 264330525295

Option 3 ID : 264330525296

Option 4 ID : 264330525298

Status : Answered

Chosen Option : 3

Q.12 भारतीय राष्ट्रीय कांग्रेस का पहला अधिवेशन \_\_\_\_\_ में आयोजित हुआ।

- Ans
- 1. कलकत्ता
  - 2. बंबई
  - 3. लाहौर
  - 4. सूरत

Question Type : MCQ

Question ID : 264330137052

Option 1 ID : 264330536854

Option 2 ID : 264330536853

Option 3 ID : 264330536852

Option 4 ID : 264330536851

Status : Answered

Chosen Option : 2

Q.13 Fungi can grow on which of the following items?

- I. Bread
- II. Pickles
- III. Leather
- IV. Clothes

Select the correct option.

- Ans
- 1. I, II and III
  - 2. I and II
  - 3. I and III
  - 4. I, II, III and IV

Question Type : MCQ  
Question ID : 264330138934  
Option 1 ID : 264330544345  
Option 2 ID : 264330544343  
Option 3 ID : 264330544344  
Option 4 ID : 264330544346  
Status : Answered  
Chosen Option : 4

Q.14 किस प्रकार की कृषि में भूमि का उपयोग भोजन व चारे की फसलें उगाने और पशुधन पालन के लिए किया जाता है?

- Ans
- 1. दुग्ध कृषि
  - 2. मिश्रित कृषि
  - 3. रोपण कृषि
  - 4. वाणिज्यिक कृषि

Question Type : MCQ  
Question ID : 264330133965  
Option 1 ID : 264330524883  
Option 2 ID : 264330524885  
Option 3 ID : 264330524886  
Option 4 ID : 264330524884  
Status : Answered  
Chosen Option : 2

Q.15 निम्नलिखित में से कौन-सा अरुणाचल प्रदेश का एक कृषि उत्सव है जो गालो जनजाति द्वारा मनाया जाता है?

- Ans
- 1. लोसर
  - 2. उगादि
  - 3. कर्मा
  - 4. मोपिन

Question Type : MCQ

Question ID : 264330137039

Option 1 ID : 264330536801

Option 2 ID : 264330536800

Option 3 ID : 264330536802

Option 4 ID : 264330536799

Status : Answered

Chosen Option : 4

Q.16 भारत में कितने जैवमण्डल आरक्षित क्षेत्र हैं?

- Ans
- 1. अठारह
  - 2. सोलह
  - 3. सत्रह
  - 4. उन्नीस

Question Type : MCQ

Question ID : 264330138939

Option 1 ID : 264330544365

Option 2 ID : 264330544363

Option 3 ID : 264330544364

Option 4 ID : 264330544366

Status : Answered

Chosen Option : 1

Q.17 वर्ष 2023 - 24 के बजट के अनुसार, सरकार द्वारा प्रत्येक 1 रुपए की प्राप्ति में कोरपोरेशन टैक्स (corporation tax) कितना होता है?

- Ans
- 1. 17 पैसे
  - 2. 7 पैसे
  - 3. 15 पैसे
  - 4. 4 पैसे

Question Type : MCQ

Question ID : 264330133980

Option 1 ID : 264330524946

Option 2 ID : 264330524945

Option 3 ID : 264330524943

Option 4 ID : 264330524944

Status : Not Answered

Chosen Option : --

Q.18 निम्नलिखित में से कौन तीन प्रमुख प्रकार की शैलों में से एक 'नहीं' है?

- Ans
- 1. आग्नेय शैल
  - 2. चुंबकीय शैल
  - 3. कायांतरित शैल
  - 4. अवसादी शैल

Question Type : MCQ  
Question ID : 264330138311  
Option 1 ID : 264330541851  
Option 2 ID : 264330541852  
Option 3 ID : 264330541854  
Option 4 ID : 264330541853  
Status : Answered  
Chosen Option : 2

Q.19 'द रेस ऑफ माई लाइफ (The Race of My Life)' प्रसिद्ध भारतीय खिलाड़ी \_\_\_\_\_ की आत्मकथा है।

- Ans
- 1. कपिल देव
  - 2. मिल्खा सिंह
  - 3. सानिया मिर्जा
  - 4. युवराज सिंह

Question Type : MCQ  
Question ID : 264330133973  
Option 1 ID : 264330524915  
Option 2 ID : 264330524916  
Option 3 ID : 264330524918  
Option 4 ID : 264330524917  
Status : Answered  
Chosen Option : 2

Q.20 खजुराहो के मंदिर किस राजवंश के दौरान बनाए गए थे?

- Ans
- 1. नंद वंश
  - 2. चंदेल वंश
  - 3. विजयनगर वंश
  - 4. मौर्य वंश

Question Type : MCQ  
Question ID : 264330138626  
Option 1 ID : 264330543112  
Option 2 ID : 264330543113  
Option 3 ID : 264330543114  
Option 4 ID : 264330543111  
Status : Answered  
Chosen Option : 2

Q.21 गैर नृत्य राजस्थान के \_\_\_\_\_ समुदाय द्वारा किया जाता है।

- Ans
- 1. गुज्जर
  - 2. जाट
  - 3. भील
  - 4. गोंड

Question Type : MCQ  
Question ID : 264330138921  
Option 1 ID : 264330544292  
Option 2 ID : 264330544294  
Option 3 ID : 264330544293  
Option 4 ID : 264330544291  
Status : Answered  
Chosen Option : 3

Q.22 दक्कन में मराठों द्वारा वसूले जाने वाले भू-राजस्व के 25 प्रतिशत को \_\_\_\_\_ कहा जाता था।

- Ans
- 1. चौथ
  - 2. भोग
  - 3. भाग
  - 4. सरदेशमुखी

Question Type : MCQ  
Question ID : 264330138318  
Option 1 ID : 264330541881  
Option 2 ID : 264330541880  
Option 3 ID : 264330541882  
Option 4 ID : 264330541879  
Status : Answered  
Chosen Option : 4

Q.23 इलियास खान का जन्म लखनऊ के संगीतकारों के घराने में हुआ था। वह \_\_\_\_\_ बजाने के लिए जाने जाते थे।

- Ans
- 1. सितार
  - 2. वीना
  - 3. तबला
  - 4. मृदंगम

Question Type : MCQ  
Question ID : 264330138927  
Option 1 ID : 264330544315  
Option 2 ID : 264330544316  
Option 3 ID : 264330544318  
Option 4 ID : 264330544317  
Status : Not Answered  
Chosen Option : --

Q.24 मानव शरीर का सामान्य तापमान \_\_\_\_\_ होता है।

- Ans
- ✓ 1. 37° C
  - ✗ 2. 32° C
  - ✗ 3. 31° C
  - ✗ 4. 34° C

Question Type : MCQ

Question ID : 264330138312

Option 1 ID : 264330541858

Option 2 ID : 264330541856

Option 3 ID : 264330541855

Option 4 ID : 264330541857

Status : Answered

Chosen Option : 1

Q.25 अगस्त 2022 में, भारत के प्रधानमंत्री ने \_\_\_\_\_ में होमी भाभा कैंसर अस्पताल का उद्घाटन किया।

- Ans
- ✓ 1. मोहाली
  - ✗ 2. नई दिल्ली
  - ✗ 3. चेन्नई
  - ✗ 4. पुणे

Question Type : MCQ

Question ID : 264330138930

Option 1 ID : 264330544327

Option 2 ID : 264330544330

Option 3 ID : 264330544329

Option 4 ID : 264330544328

Status : Answered

Chosen Option : 1

Section : English Language and Comprehension

Q.1 Find the part of the given sentence that has an error in it. If there is no error, choose 'No error'.

Adding aloe vera gel will prevent the hand sanitizer of drying out your skin.

- Ans
- ✗ 1. No error
  - ✓ 2. will prevent the hand sanitizer of
  - ✗ 3. Adding aloe vera gel
  - ✗ 4. drying out your skin.

Question Type : MCQ

Question ID : 264330136875

Option 1 ID : 264330536190

Option 2 ID : 264330536188

Option 3 ID : 264330536187

Option 4 ID : 264330536189

Status : Answered

Chosen Option : 2

Q.2 Choose the word that can substitute the given group of words.

The young of a frog

- Ans
- 1. Tadpole
  - 2. Kitten
  - 3. Antelope
  - 4. Pup

Question Type : MCQ  
Question ID : 264330136888  
Option 1 ID : 264330536238  
Option 2 ID : 264330536237  
Option 3 ID : 264330536236  
Option 4 ID : 264330536235  
Status : Answered  
Chosen Option : 1

Q.3 Select the most appropriate option to fill in the blank.

Wheat is widely \_\_\_\_\_ but the output is not large.

- Ans
- 1. gross
  - 2. groan
  - 3. grown
  - 4. grilled

Question Type : MCQ  
Question ID : 264330135332  
Option 1 ID : 264330530235  
Option 2 ID : 264330530237  
Option 3 ID : 264330530238  
Option 4 ID : 264330530236  
Status : Answered  
Chosen Option : 3

Q.4 Select the appropriate synonym for the underlined word.

Make sure that you always challenge yourself.

- Ans
- 1. Approve
  - 2. Carry
  - 3. Place
  - 4. Question

Question Type : MCQ  
Question ID : 264330136889  
Option 1 ID : 264330536241  
Option 2 ID : 264330536239  
Option 3 ID : 264330536242  
Option 4 ID : 264330536240  
Status : Answered  
Chosen Option : 4

Q.5 Select the most appropriate word for the given group of words.

Tending to associate with others of one's kind

- Ans
- 1. Pungent
  - 2. Venial
  - 3. Gregarious
  - 4. Pedantic

Question Type : MCQ  
Question ID : 264330136679  
Option 1 ID : 264330535434  
Option 2 ID : 264330535433  
Option 3 ID : 264330535431  
Option 4 ID : 264330535432  
Status : Answered  
Chosen Option : 2

Q.6 Select the most appropriate antonym of the given word.

Viscous

- Ans
- 1. Watery
  - 2. Grim
  - 3. Brutal
  - 4. Thick

Question Type : MCQ  
Question ID : 264330136735  
Option 1 ID : 264330535649  
Option 2 ID : 264330535648  
Option 3 ID : 264330535647  
Option 4 ID : 264330535650  
Status : Not Answered  
Chosen Option : --

Q.7 In the following question, out of the given four alternatives, select the alternative which best expresses the meaning of the Idiom/Phrase.

A blind spot

- Ans
- 1. A person who is blind
  - 2. A situation where no progress is made
  - 3. A person with no emotional feelings
  - 4. An area in your range of vision that you cannot see properly

Question Type : MCQ  
Question ID : 264330136894  
Option 1 ID : 264330536262  
Option 2 ID : 264330536261  
Option 3 ID : 264330536260  
Option 4 ID : 264330536259  
Status : Answered  
Chosen Option : 2

Q.8 Fill in the blank with the most appropriate choice.

His intent was to become sole lord and to \_\_\_\_\_ his tiny principality.

- Ans
- 1. subsidize
  - 2. jeopardize
  - 3. methodize
  - 4. aggrandize

Question Type : MCQ  
Question ID : 264330135774  
Option 1 ID : 264330531975  
Option 2 ID : 264330531978  
Option 3 ID : 264330531976  
Option 4 ID : 264330531977  
Status : Answered  
Chosen Option : 3

Q.9 Find the part of the given sentence that has an error in it. If there is no error, choose 'No error'.

In my opinion, you should went for higher studies in London.

- Ans
- 1. No error
  - 2. In my opinion,
  - 3. you should went for
  - 4. higher studies in London.

Question Type : MCQ  
Question ID : 264330135257  
Option 1 ID : 264330529950  
Option 2 ID : 264330529947  
Option 3 ID : 264330529948  
Option 4 ID : 264330529949  
Status : Answered  
Chosen Option : 3

Q.10 Improve the underlined part of the sentence. Choose 'No improvement' as an answer if the sentence is grammatically correct.

That movie is so sad; the ending always makes me bawling.

- Ans
- 1. made me bawl
  - 2. No improvement
  - 3. makes me bawl
  - 4. makes me bawled

Question Type : MCQ  
Question ID : 264330136877  
Option 1 ID : 264330536195  
Option 2 ID : 264330536198  
Option 3 ID : 264330536197  
Option 4 ID : 264330536196  
Status : Answered  
Chosen Option : 3

**Q.11** Improve the underlined part of the sentence. Choose 'No improvement' as an answer if the sentence is grammatically correct.

It is the most effective means of mass communication.

- Ans**
- 1. the most effectively
  - 2. a most effectives
  - 3. a most effecting
  - 4. No improvement

Question Type : **MCQ**  
Question ID : **264330141162**  
Option 1 ID : **264330552992**  
Option 2 ID : **264330552991**  
Option 3 ID : **264330552993**  
Option 4 ID : **264330552994**  
Status : **Answered**  
Chosen Option : **4**

**Q.12** Choose the sentence with no spelling error.

- Ans**
- 1. Protest is also a safety valvve.
  - 2. Protest is also a saffety valve.
  - 3. Protast is also a safety valve.
  - 4. Protest is also a safety valve.

Question Type : **MCQ**  
Question ID : **264330135331**  
Option 1 ID : **264330530234**  
Option 2 ID : **264330530232**  
Option 3 ID : **264330530231**  
Option 4 ID : **264330530233**  
Status : **Answered**  
Chosen Option : **4**

**Q.13** Select the most appropriate synonym to substitute the bracketed word in the given sentence.

In the twentieth century, many (radical) intellectuals embraced the mass media.

- Ans**
- 1. sabbatical
  - 2. egotistical
  - 3. sceptical
  - 4. fanatical

Question Type : **MCQ**  
Question ID : **264330135784**  
Option 1 ID : **264330532012**  
Option 2 ID : **264330532014**  
Option 3 ID : **264330532011**  
Option 4 ID : **264330532013**  
Status : **Answered**  
Chosen Option : **4**

Q.14 Find the part of the given sentence that has an error in it. If there is no error, choose 'No error'.

Restoring soil health would help at mitigate the effects of climate change.

- Ans
- 1. help at mitigate the
  - 2. Restoring soil health would
  - 3. effects of climate change.
  - 4. No error

Question Type : MCQ

Question ID : 264330136874

Option 1 ID : 264330536184

Option 2 ID : 264330536183

Option 3 ID : 264330536185

Option 4 ID : 264330536186

Status : Answered

Chosen Option : 1

Q.15 Select the most appropriate option to substitute the bracketed segment in the given sentence. If there is no need to substitute it, select 'no substitution required'.

The unit twitched like a bird (preening it's plumage and becomes motionless).

- Ans
- 1. No substitution required
  - 2. preening its plumage and became motionless
  - 3. to preen it's plumage and becomes motionless
  - 4. preening it's plumage while becoming motionless

Question Type : MCQ

Question ID : 264330135770

Option 1 ID : 264330531962

Option 2 ID : 264330531959

Option 3 ID : 264330531960

Option 4 ID : 264330531961

Status : Answered

Chosen Option : 2

Q.16 Select the appropriate antonym for the underlined word.

The arms and legs lay in a careless way.

- Ans
- 1. Forgetful
  - 2. Unsafe
  - 3. Neglectful
  - 4. Vigilant

Question Type : MCQ

Question ID : 264330136892

Option 1 ID : 264330536254

Option 2 ID : 264330536253

Option 3 ID : 264330536251

Option 4 ID : 264330536252

Status : Answered

Chosen Option : 4

Q.17 Select the most appropriate meaning of the given idiom.

Get down to brass tacks

- Ans
- 1. Compromise, cooperation between people
  - 2. To become serious about something
  - 3. Get fired from the job
  - 4. To be ready

Question Type : MCQ  
Question ID : 264330136685  
Option 1 ID : 264330535457  
Option 2 ID : 264330535455  
Option 3 ID : 264330535456  
Option 4 ID : 264330535458  
Status : Answered  
Chosen Option : 2

Q.18 Select the most appropriate option to fill in the blank.

Police used \_\_\_\_\_ evidence to convict a victim who was innocent.

- Ans
- 1. stunted
  - 2. authentic
  - 3. hateful
  - 4. fabricated

Question Type : MCQ  
Question ID : 264330136898  
Option 1 ID : 264330536275  
Option 2 ID : 264330536278  
Option 3 ID : 264330536276  
Option 4 ID : 264330536277  
Status : Answered  
Chosen Option : 2

Q.19 Choose the incorrectly spelt word.

- Ans
- 1. Locker
  - 2. Rift
  - 3. Tihgt
  - 4. Stock

Question Type : MCQ  
Question ID : 264330136895  
Option 1 ID : 264330536265  
Option 2 ID : 264330536263  
Option 3 ID : 264330536266  
Option 4 ID : 264330536264  
Status : Answered  
Chosen Option : 3

**Q.20** A sentence has been given with a blank to be filled with an appropriate option. Choose the correct alternative.

The person driving the car \_\_\_\_\_ control over the wheels and knocked her down.

- Ans**
- 1. loose
  - 2. losing
  - 3. lost
  - 4. lose

Question Type : **MCQ**

Question ID : **264330136879**

Option 1 ID : **264330536205**

Option 2 ID : **264330536206**

Option 3 ID : **264330536204**

Option 4 ID : **264330536203**

Status : **Answered**

Chosen Option : **3**

**Comprehension:**

In the following passage some words have been deleted. Fill in the blanks with the help of the alternatives given. Select the most appropriate option for each number.

Salvador Dali (1) \_\_\_\_\_ a prominent Spanish surrealist painter (2) \_\_\_\_\_ in Figueres, Catalonia, on 11 May 1904. Dali's father was strict in the education of his children unlike (3) \_\_\_\_\_ mother. Dali had a brother named Salvador (4) \_\_\_\_\_ was born nine months before him and died of gastroenteritis. When he was five, Dali was taken to his brother's grave and was told that he was his brother's (5) \_\_\_\_\_.

**SubQuestion No : 21**

**Q.21** Select the most appropriate option to fill in the blank No. 1.

- Ans**
- 1. has
  - 2. is
  - 3. was
  - 4. were

Question Type : **MCQ**

Question ID : **264330136726**

Option 1 ID : **264330535614**

Option 2 ID : **264330535611**

Option 3 ID : **264330535612**

Option 4 ID : **264330535613**

Status : **Answered**

Chosen Option : **3**

**Comprehension:**

In the following passage some words have been deleted. Fill in the blanks with the help of the alternatives given. Select the most appropriate option for each number.

Salvador Dali (1) \_\_\_\_\_ a prominent Spanish surrealist painter (2) \_\_\_\_\_ in Figueres, Catalonia, on 11 May 1904. Dali's father was strict in the education of his children unlike (3) \_\_\_\_\_ mother. Dali had a brother named Salvador (4) \_\_\_\_\_ was born nine months before him and died of gastroenteritis. When he was five, Dali was taken to his brother's grave and was told that he was his brother's (5) \_\_\_\_\_.

**SubQuestion No : 22**

**Q.22** Select the most appropriate option to fill in the blank No. 2.

- Ans**
- 1. bought
  - 2. rooted
  - 3. born
  - 4. brought

Question Type : **MCQ**

Question ID : **264330136727**

Option 1 ID : **264330535617**

Option 2 ID : **264330535618**

Option 3 ID : **264330535615**

Option 4 ID : **264330535616**

Status : **Answered**

Chosen Option : **3**

**Comprehension:**

In the following passage some words have been deleted. Fill in the blanks with the help of the alternatives given. Select the most appropriate option for each number.

Salvador Dali (1) \_\_\_\_\_ a prominent Spanish surrealist painter (2) \_\_\_\_\_ in Figueres, Catalonia, on 11 May 1904. Dali's father was strict in the education of his children unlike (3) \_\_\_\_\_ mother. Dali had a brother named Salvador (4) \_\_\_\_\_ was born nine months before him and died of gastroenteritis. When he was five, Dali was taken to his brother's grave and was told that he was his brother's (5) \_\_\_\_\_.

**SubQuestion No : 23**

**Q.23** Select the most appropriate option to fill in the blank No. 3.

- Ans**
- 1. her
  - 2. him
  - 3. their
  - 4. his

Question Type : **MCQ**

Question ID : **264330136728**

Option 1 ID : **264330535622**

Option 2 ID : **264330535621**

Option 3 ID : **264330535619**

Option 4 ID : **264330535620**

Status : **Answered**

Chosen Option : **1**

**Comprehension:**

In the following passage some words have been deleted. Fill in the blanks with the help of the alternatives given. Select the most appropriate option for each number.

Salvador Dali (1) \_\_\_\_\_ a prominent Spanish surrealist painter (2) \_\_\_\_\_ in Figueres, Catalonia, on 11 May 1904. Dali's father was strict in the education of his children unlike (3) \_\_\_\_\_ mother. Dali had a brother named Salvador (4) \_\_\_\_\_ was born nine months before him and died of gastroenteritis. When he was five, Dali was taken to his brother's grave and was told that he was his brother's (5) \_\_\_\_\_.

**SubQuestion No : 24**

Q.24 Select the most appropriate option to fill in the blank No. 4.

- Ans
- 1. who
  - 2. whose
  - 3. that
  - 4. whom

Question Type : MCQ

Question ID : 264330136729

Option 1 ID : 264330535623

Option 2 ID : 264330535625

Option 3 ID : 264330535626

Option 4 ID : 264330535624

Status : Answered

Chosen Option : 1

**Comprehension:**

In the following passage some words have been deleted. Fill in the blanks with the help of the alternatives given. Select the most appropriate option for each number.

Salvador Dali (1) \_\_\_\_\_ a prominent Spanish surrealist painter (2) \_\_\_\_\_ in Figueres, Catalonia, on 11 May 1904. Dali's father was strict in the education of his children unlike (3) \_\_\_\_\_ mother. Dali had a brother named Salvador (4) \_\_\_\_\_ was born nine months before him and died of gastroenteritis. When he was five, Dali was taken to his brother's grave and was told that he was his brother's (5) \_\_\_\_\_.

**SubQuestion No : 25**

Q.25 Select the most appropriate option to fill in the blank No. 5.

- Ans
- 1. ordination
  - 2. detonation
  - 3. reincarnation
  - 4. stagnation

Question Type : MCQ

Question ID : 264330136730

Option 1 ID : 264330535627

Option 2 ID : 264330535628

Option 3 ID : 264330535630

Option 4 ID : 264330535629

Status : Answered

Chosen Option : 3