

## Multi Tasking Non Technical Staff and Havaldar CBIC and CBN Examination 2022

Roll Number	
Candidate Name	
Venue Name	TCS Gito Bitan
Exam Date	02/05/2023
Exam Time	12:00 PM - 2:00 PM
Subject	MTS Non Tech Havaldar CBIC and CBN Examination 2022

### Section : Numerical and Mathematical Ability

Q.1 एक व्यक्ति ने 150 कुर्सियाँ बेचीं और उसे 25 कुर्सियों के विक्रय मूल्य के बराबर लाभ हुआ। उसका लाभ प्रतिशत ज्ञात कीजिए।

- Ans
- 1. 13%
  - 2. 15%
  - 3. 20%
  - 4. 18%

Question Type : MCQ

Question ID : 264330135071

Option 1 ID : 264330529222

Option 2 ID : 264330529219

Option 3 ID : 264330529220

Option 4 ID : 264330529221

Status : Answered

Chosen Option : 3

Q.2 एक परिवार के 6 सदस्यों की औसत आयु 20 वर्ष है। यदि नौकर की आयु को भी जोड़ लिया जाए, तो औसत आयु में 20 प्रतिशत की वृद्धि हो जाती है। नौकर की आयु कितनी है?

- Ans
- 1. 50 वर्ष
  - 2. 56 वर्ष
  - 3. 52 वर्ष
  - 4. 48 वर्ष

Question Type : MCQ

Question ID : 264330139000

Option 1 ID : 264330544610

Option 2 ID : 264330544609

Option 3 ID : 264330544607

Option 4 ID : 264330544608

Status : Answered

Chosen Option : 4

Q.3 एक बगीचे की सफाई में 6 घंटे का समय लगता है। 2 घंटे 30 मिनट में बगीचे का कितना हिस्सा साफ किया जा सकता है?

- Ans
- 1.  $\frac{5}{8}$
  - 2.  $\frac{5}{12}$
  - 3.  $\frac{5}{6}$
  - 4.  $\frac{5}{2}$

Question Type : MCQ

Question ID : 264330133829

Option 1 ID : 264330524342

Option 2 ID : 264330524339

Option 3 ID : 264330524341

Option 4 ID : 264330524340

Status : Answered

Chosen Option : 2

Q.4  $(0.18 \div 0.9 + 0.8) \times 0.001$  का मान है:

- Ans
- 1. 0.001
  - 2. 0.1
  - 3. 0.01
  - 4. 1.001

Question Type : MCQ

Question ID : 264330133627

Option 1 ID : 264330523532

Option 2 ID : 264330523534

Option 3 ID : 264330523533

Option 4 ID : 264330523531

Status : Answered

Chosen Option : 1

Q.5 दो संख्याएँ 11:6 के अनुपात में हैं। यदि उनका महत्तम समापवर्तक (HCF) 4 है, तो सबसे छोटी संख्या ज्ञात कीजिए।

- Ans
- 1. 12
  - 2. 18
  - 3. 30
  - 4. 24

Question Type : MCQ

Question ID : 264330135132

Option 1 ID : 264330529464

Option 2 ID : 264330529465

Option 3 ID : 264330529466

Option 4 ID : 264330529463

Status : Answered

Chosen Option : 4

Q.6 Rs.14136 की राशि को A, B और C के बीच इस प्रकार बाँटिए कि A के हिस्से का 2 गुना, B के हिस्से का 3 गुना और C के हिस्से का 5 गुना सभी बराबर हों। C का हिस्सा कितना है?

- Ans
- 1. Rs.456
  - 2. Rs.1413
  - 3. Rs.2736
  - 4. Rs.3680

Question Type : MCQ

Question ID : 264330133636

Option 1 ID : 264330523567

Option 2 ID : 264330523568

Option 3 ID : 264330523569

Option 4 ID : 264330523570

Status : Answered

Chosen Option : 3

Q.7 जब एक तार को एक वर्ग के आकार में मोड़ा जाता है, तो इसके द्वारा परिबद्ध क्षेत्रफल  $5929 \text{ cm}^2$  होता है। यदि तार को एक वृत्त के आकार में मोड़ा जाए, तो तार द्वारा परिबद्ध क्षेत्रफल कितना होगा?

- Ans
- 1.  $7546 \text{ cm}^2$
  - 2.  $8542 \text{ cm}^2$
  - 3.  $7632 \text{ cm}^2$
  - 4.  $6954 \text{ cm}^2$

Question Type : MCQ

Question ID : 264330138029

Option 1 ID : 264330540725

Option 2 ID : 264330540726

Option 3 ID : 264330540724

Option 4 ID : 264330540723

Status : Answered

Chosen Option : 2

Q.8 यदि  $A + \{5 \times 8 \div 2^2\} \times 11 = 134$ , तो A का मान क्या है?

- Ans
- 1. 4
  - 2. 14
  - 3. 24
  - 4. 34

Question Type : MCQ

Question ID : 264330138036

Option 1 ID : 264330540751

Option 2 ID : 264330540752

Option 3 ID : 264330540753

Option 4 ID : 264330540754

Status : Answered

Chosen Option : 3

Q.9 एक धनराशि पर 7 वर्षों में 6% वार्षिक दर पर Rs. 3360 का साधारण ब्याज प्राप्त होता है। वह धनराशि ज्ञात कीजिए।

- Ans
- 1. Rs. 9500
  - 2. Rs. 6000
  - 3. Rs. 8000
  - 4. Rs. 7500

Question Type : MCQ  
Question ID : 264330135142  
Option 1 ID : 264330529506  
Option 2 ID : 264330529503  
Option 3 ID : 264330529505  
Option 4 ID : 264330529504  
Status : Answered  
Chosen Option : 3

Q.10 दो संख्याओं का अनुपात 5 : 9 है। यदि बड़ी संख्या में 6 जोड़ा जाए और छोटी संख्या में से 6 घटाया जाए, तो बड़ी संख्या छोटी संख्या का 6 गुना हो जाती है। संख्याएँ क्या हैं?

- Ans
- 1. 20 और 36
  - 2. 15 और 27
  - 3. 10 और 18
  - 4. 25 और 45

Question Type : MCQ  
Question ID : 264330133635  
Option 1 ID : 264330523564  
Option 2 ID : 264330523563  
Option 3 ID : 264330523565  
Option 4 ID : 264330523566  
Status : Answered  
Chosen Option : 3

Q.11 अंकित मूल्य क्रय मूल्य से 10% अधिक है। अंकित मूल्य पर 10% का बट्टा दिया जाता है। लाभ या हानि प्रतिशत क्या है?

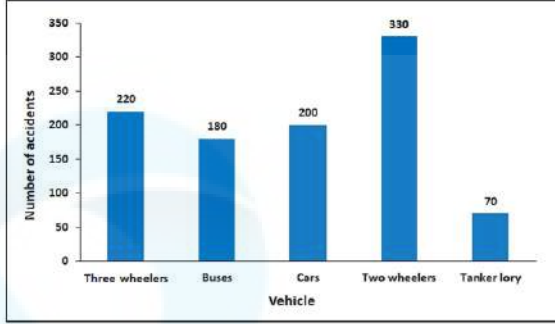
- Ans
- 1. 1% लाभ
  - 2. 1% हानि
  - 3. 5% लाभ
  - 4. 5% हानि

Question Type : MCQ  
Question ID : 264330133634  
Option 1 ID : 264330523560  
Option 2 ID : 264330523559  
Option 3 ID : 264330523562  
Option 4 ID : 264330523561  
Status : Answered  
Chosen Option : 2

Q.12 निम्नलिखित दंड आलेख में वर्ष 2021 के दौरान एक शहर में हुई दुर्घटनाओं की संख्या को दर्शाया गया है।

B = दुपहिया वाहनों और बसों की दुर्घटनाओं में अंतर।

B, कुल दुर्घटनाओं का कितना प्रतिशत है?



Number of accidents = दुर्घटनाओं की संख्या Buses = बस Two wheelers = दुपहिया वाहन Vehicle = वाहन

- Ans
- ✓ 1. 15%
  - ✗ 2. 18%
  - ✗ 3. 10%
  - ✗ 4. 33%

Question Type : MCQ

Question ID : 264330133643

Option 1 ID : 264330523596

Option 2 ID : 264330523598

Option 3 ID : 264330523597

Option 4 ID : 264330523595

Status : Answered

Chosen Option : 1

Q.13 3.6 मीटर परिमाण वाले अर्धवृत्त का क्षेत्रफल क्या होगा?

- Ans
- ✓ 1.  $0.77 \text{ m}^2$
  - ✗ 2.  $1.54 \text{ m}^2$
  - ✗ 3.  $1.76 \text{ m}^2$
  - ✗ 4.  $1.10 \text{ m}^2$

Question Type : MCQ

Question ID : 264330133834

Option 1 ID : 264330524359

Option 2 ID : 264330524362

Option 3 ID : 264330524361

Option 4 ID : 264330524360

Status : Answered

Chosen Option : 3

Q.14 एक सेंटर टेबल को Rs.13440 में बेचने पर अर्जित लाभ प्रतिशत समान सेंटर टेबल को Rs.10560 में बेचने पर हुई हानि के प्रतिशत के बराबर है। 20% का लाभ अर्जित करने के लिए इस टेबल को किस मूल्य पर बेचा जाना चाहिए?

- Ans  1. Rs.14400  
 2. Rs.18000  
 3. Rs.24000  
 4. Rs.12000

Question Type : MCQ

Question ID : 264330133633

Option 1 ID : 264330523556

Option 2 ID : 264330523558

Option 3 ID : 264330523557

Option 4 ID : 264330523555

Status : Answered

Chosen Option : 1

Q.15 ग्यारह दोस्तों में हर एक ने एक दूर पर Rs. 18 खर्च किए और बारहवें दोस्त ने उन सभी बारह दोस्तों के औसत खर्च से Rs. 11 कम खर्च किए। बारह दोस्तों द्वारा खर्च की गई कुल धनराशि कितनी है?

- Ans  1. Rs.212  
 2. Rs.208  
 3. Rs.204  
 4. Rs.215

Question Type : MCQ

Question ID : 264330137178

Option 1 ID : 264330537355

Option 2 ID : 264330537356

Option 3 ID : 264330537358

Option 4 ID : 264330537357

Status : Answered

Chosen Option : 3

Q.16 नीचे दी गई तालिका में वर्ष 2014 से 2017 के बीच दो कंपनियों द्वारा बेचे गए म्यूजिक सिस्टम की संख्या को दर्शाया गया है।

कंपनी A और कंपनी B की औसत बिक्री में कितना अंतर है?

Year	Company A	Company B
2014	5640	6980
2015	8412	10512
2016	7148	8620
2017	8424	10020

Year - वर्ष, Company A - कंपनी A, Company B - कंपनी B

- Ans  1. 1627  
 2. 7406  
 3. 9033  
 4. 2016

Question Type : MCQ

Question ID : 264330138052

Option 1 ID : 264330540815

Option 2 ID : 264330540817

Option 3 ID : 264330540816

Option 4 ID : 264330540818

Status : Answered

Chosen Option : 4

Q.17 एक पुलिसकर्मी को एक चोर 150 m की दूरी पर दिखाई देता है। चोर भागने लगता है और पुलिसकर्मी उसका पीछा करता है। चोर और पुलिसकर्मी क्रमशः 8 kmph और 10 kmph की चाल से दौड़ते हैं। पुलिसकर्मी चोर को कितनी दूरी पर पकड़ लेगा?

- Ans  1. 750 मीटर  
 2. 1000 मीटर  
 3. 500 मीटर  
 4. 850 मीटर

Question Type : MCQ

Question ID : 264330133639

Option 1 ID : 264330523581

Option 2 ID : 264330523579

Option 3 ID : 264330523580

Option 4 ID : 264330523582

Status : Answered

Chosen Option : 1

Q.18 Rs. 7205 को चक्रवृद्धि ब्याज (वार्षिक रूप से संयोजित) की एक योजना में निवेश किया जाता है। यदि ब्याज दर 20% वार्षिक है, तो 1 वर्ष में अर्जित ब्याज (Rs में) कितना है?

- Ans  1. Rs. 1544  
 2. Rs. 1540  
 3. Rs. 1422  
 4. Rs. 1441

Question Type : MCQ

Question ID : 264330135143

Option 1 ID : 264330529508

Option 2 ID : 264330529509

Option 3 ID : 264330529510

Option 4 ID : 264330529507

Status : Answered

Chosen Option : 4

Q.19 10 संख्याओं का औसत 42 है। यदि प्रत्येक संख्या में 5 की वृद्धि कर दी जाए, तो नया औसत क्या होगा?

- Ans  1. 57  
 2. 42  
 3. 92  
 4. 47

Question Type : MCQ

Question ID : 264330133629

Option 1 ID : 264330523540

Option 2 ID : 264330523541

Option 3 ID : 264330523539

Option 4 ID : 264330523542

Status : Answered

Chosen Option : 4

Q.20 यदि किसी संख्या का 33.33%, 16 में जोड़ा जाता है, तो परिणाम वही संख्या होती है। वह संख्या ज्ञात कीजिए।

Ans  1. 30

2. 36

3. 24

4. 33

Question Type : MCQ

Question ID : 264330135136

Option 1 ID : 264330529482

Option 2 ID : 264330529480

Option 3 ID : 264330529481

Option 4 ID : 264330529479

Status : Answered

Chosen Option : 3

Section : Reasoning Ability and Problem Solving

Q.1 एक निश्चित कूट भाषा में, 'ACTOR' को '52' लिखा जाता है और 'PACK' को '27' लिखा जाता है। उस कूट भाषा में 'SEVEN' को कैसे लिखा जाएगा?

Ans  1. 72

2. 60

3. 65

4. 59

Question Type : MCQ

Question ID : 264330137350

Option 1 ID : 264330538030

Option 2 ID : 264330538028

Option 3 ID : 264330538027

Option 4 ID : 264330538029

Status : Answered

Chosen Option : 4

Q.2 पाँच मित्र X, Y, Z, A और B एक परिधि में केंद्र की ओर मुख करके बैठे हैं। X, Y के ठीक बाएँ पर और Z के ठीक दाएँ पर है। B, A के ठीक दाएँ पर है। A के ठीक बाएँ पर कौन है?

Ans  1. Z

2. X

3. Y

4. B

Question Type : MCQ

Question ID : 264330133373

Option 1 ID : 264330522525

Option 2 ID : 264330522524

Option 3 ID : 264330522523

Option 4 ID : 264330522526

Status : Answered

Chosen Option : 3

Q.3 पाँच मित्र अमन, बिराज, चमन, सौरव और राजेश एक वृत्ताकार मेज़ के चारों ओर केंद्र की ओर मुख करके बैठे हैं। अमन, चमन के ठीक दाएँ पर है, जो सौरव के दाएँ से दूसरे स्थान पर है। बिराज, चमन के ठीक बाएँ पर है। अमन के दाएँ से दूसरे स्थान पर कौन है?

- Ans
- ✓ 1. सौरव
  - ✗ 2. राजेश
  - ✗ 3. बिराज
  - ✗ 4. चमन

Question Type : MCQ  
Question ID : 264330133372  
Option 1 ID : 264330522519  
Option 2 ID : 264330522521  
Option 3 ID : 264330522522  
Option 4 ID : 264330522520  
Status : Answered  
Chosen Option : 2

Q.4 दी गई श्रृंखला में निम्नलिखित में से कौन-सी संख्या प्रश्न चिन्ह (?) के स्थान पर आएगी?  
7, 14, 21, 28, 35, 42, 49, ?

- Ans
- ✗ 1. 63
  - ✓ 2. 56
  - ✗ 3. 68
  - ✗ 4. 82

Question Type : MCQ  
Question ID : 264330133378  
Option 1 ID : 264330522545  
Option 2 ID : 264330522544  
Option 3 ID : 264330522546  
Option 4 ID : 264330522543  
Status : Answered  
Chosen Option : 2

Q.5 दी गई श्रृंखला में निम्नलिखित में से कौन-सी संख्या प्रश्न चिन्ह (?) के स्थान पर आएगी?  
7, 7, 5, 15, 11, 55, 49, 343, ?

- Ans
- ✗ 1. 395
  - ✓ 2. 335
  - ✗ 3. 194
  - ✗ 4. 293

Question Type : MCQ  
Question ID : 264330135033  
Option 1 ID : 264330529067  
Option 2 ID : 264330529069  
Option 3 ID : 264330529070  
Option 4 ID : 264330529068  
Status : Answered  
Chosen Option : 2

Q.6 किसी एक खास कूट भाषा में, '231' का अर्थ 'Pant is Brown' है, '307' का अर्थ 'His Brown Shirt' है, और '781' का अर्थ 'Shirt and Pant' है। 'is' के लिए क्या कोड होगा?

- Ans
- 1. 8
  - 2. 0
  - 3. 1
  - 4. 2

Question Type : MCQ

Question ID : 264330133471

Option 1 ID : 264330522918

Option 2 ID : 264330522916

Option 3 ID : 264330522917

Option 4 ID : 264330522915

Status : Answered

Chosen Option : 4

Q.7 दिए गए पैटर्न का ध्यानपूर्वक अध्ययन कीजिए और उस संख्या को चुनिए जो इसमें प्रश्न चिन्ह (?) के स्थान पर आ सकती है।

प्रथम पंक्ति- 14, 42, 84

द्वितीय पंक्ति- 28, 84, 168

तृतीय पंक्ति- 19, 57, ?

- Ans
- 1. 114
  - 2. 126
  - 3. 112
  - 4. 129

Question Type : MCQ

Question ID : 264330133380

Option 1 ID : 264330522554

Option 2 ID : 264330522552

Option 3 ID : 264330522553

Option 4 ID : 264330522551

Status : Answered

Chosen Option : 1

Q.8 उस विकल्प को चुनिए जो तीसरी संख्या से ठीक उसी प्रकार संबंधित है जिस प्रकार दूसरी संख्या पहली संख्या से संबंधित है।

9 : 28 :: 13 : ?

- Ans
- 1. 28
  - 2. 39
  - 3. 40
  - 4. 54

Question Type : MCQ

Question ID : 264330135035

Option 1 ID : 264330529078

Option 2 ID : 264330529075

Option 3 ID : 264330529076

Option 4 ID : 264330529077

Status : Answered

Chosen Option : 3

Q.9 दिए गए समीकरण को सही करने के लिए किन दो संख्याओं को आपस में बदला जाना चाहिए?

$$13 + 4 \div 16 \times 5 - 22 = 11$$

Ans  1. 13 और 16

2. 13 और 22

3. 16 और 22

4. 4 और 16

Question Type : MCQ

Question ID : 264330133381

Option 1 ID : 264330522555

Option 2 ID : 264330522558

Option 3 ID : 264330522557

Option 4 ID : 264330522556

Status : Answered

Chosen Option : 4

Q.10 निम्नलिखित में से कौन-सा अक्षर-समूह दी गई श्रृंखला में रिक्त स्थानों को पूरा करेगा ?

ca\_pcaa\_caa\_caap\_aap

Ans  1. appc

2. appp

3. aapp

4. aacp

Question Type : MCQ

Question ID : 264330133366

Option 1 ID : 264330522498

Option 2 ID : 264330522495

Option 3 ID : 264330522496

Option 4 ID : 264330522497

Status : Answered

Chosen Option : 1

Q.11 यदि A का अर्थ 'जोड़ना', B का अर्थ 'गुणा करना', C का अर्थ 'घटाना' और D का अर्थ 'भाग' है, तो निम्नलिखित समीकरण का मान क्या होगा?

$$14 C (18 D 3) A 5 = ?$$

Ans  1. 17

2. 20

3. 31

4. 13

Question Type : MCQ

Question ID : 264330135038

Option 1 ID : 264330529090

Option 2 ID : 264330529087

Option 3 ID : 264330529089

Option 4 ID : 264330529088

Status : Answered

Chosen Option : 4

Q.12 एक कोचिंग सेंटर के सात छात्रों, परम, काज़ी, रवि, सुरेश, तनवीर, उदय और वर्षा ने अलग-अलग प्रतिशत प्राप्त किए। कोचिंग सेंटर में दूसरे स्थान पर परम ने सबसे अधिक प्रतिशत प्राप्त किया। वर्षा द्वारा प्राप्त किया गया प्रतिशत केवल एक छात्र से अधिक था। सुरेश का प्रतिशत तनवीर से अधिक लेकिन परम से कम था। तीन छात्रों को तनवीर से अधिक प्रतिशत और तीन को तनवीर से कम प्रतिशत प्राप्त हुए। रवि और काज़ी दोनों में से किसी को भी सबसे कम प्रतिशत नहीं मिले। किसका प्रतिशत सबसे कम था?

- Ans
- 1. परम
  - 2. काज़ी
  - 3. उदय
  - 4. तनवीर

Question Type : MCQ  
Question ID : 264330133374  
Option 1 ID : 264330522529  
Option 2 ID : 264330522530  
Option 3 ID : 264330522528  
Option 4 ID : 264330522527  
Status : Answered  
Chosen Option : 2

Q.13 उस विकल्प को चुनिए जो तीसरे शब्द से ठीक उसी तरह संबंधित है जिस तरह दूसरा शब्द पहले शब्द से संबंधित है।  
रवींद्रनाथ टैगोर : साहित्य :: मदर टेरेसा :

- Ans
- 1. गणित
  - 2. शांति
  - 3. रसायन विज्ञान
  - 4. भौतिकी

Question Type : MCQ  
Question ID : 264330133367  
Option 1 ID : 264330522500  
Option 2 ID : 264330522502  
Option 3 ID : 264330522501  
Option 4 ID : 264330522499  
Status : Answered  
Chosen Option : 2

Q.14 उस विकल्प को चुनिए जो पाँचवे पद से ठीक उसी प्रकार संबंधित है जिस प्रकार दूसरा पद पहले पद से संबंधित है और चौथा पद तीसरे पद से संबंधित है।

KP2 : PK16 :: AG3 : FB81 :: TR5 : ?

- Ans
- 1. YM625
  - 2. MY125
  - 3. MY625
  - 4. YM125

Question Type : MCQ  
Question ID : 264330138520  
Option 1 ID : 264330542688  
Option 2 ID : 264330542690  
Option 3 ID : 264330542687  
Option 4 ID : 264330542689  
Status : Answered  
Chosen Option : 2

**Q.15** दो कथन दिए गए हैं और उनके बाद दो निष्कर्ष I और II दिए गए हैं। कथनों को सत्य मानते हुए, चाहे वे सामान्यतः ज्ञात तथ्यों से अलग प्रतीत होते हों, निश्चय कीजिए कि कौन-सा निष्कर्ष तार्किक रूप से कथनों के अनुसार है।

कथन:

सभी पेन, कार हैं।

कुछ कार, बल्ब हैं।

निष्कर्ष:

I. कुछ कारें, बल्ब नहीं हैं।

II. कुछ पेन का बल्ब होना एक संभावना है।

Ans

- 1. सिर्फ निष्कर्ष I कथनों के अनुसार है
- 2. निष्कर्ष I और II में से कोई भी कथनों के अनुसार नहीं है
- 3. निष्कर्ष I और II दोनों कथनों के अनुसार हैं
- 4. सिर्फ निष्कर्ष II कथनों के अनुसार है

Question Type : MCQ

Question ID : 264330133376

Option 1 ID : 264330522535

Option 2 ID : 264330522538

Option 3 ID : 264330522537

Option 4 ID : 264330522536

Status : Answered

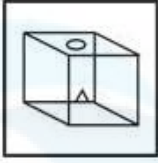
Chosen Option : 4

Q.16 उस विकल्प आकृति को चुनिए जिसमें नीचे दी गई आकृति उसके भाग के रूप में निहित है (घूर्णन की अनुमति नहीं है)।

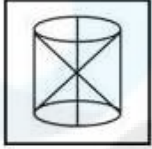


Ans

✗ 1.



✓ 2.



✗ 3.



✗ 4.



Question Type : MCQ

Question ID : 264330137849

Option 1 ID : 264330540006

Option 2 ID : 264330540004

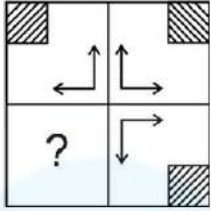
Option 3 ID : 264330540003

Option 4 ID : 264330540005

Status : Answered

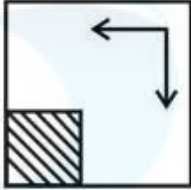
Chosen Option : 2

Q.17 उस विकल्प आकृति को चुनिए जो नीचे दी गई आकृति में पैटर्न को पूरा करने के लिए प्रश्न चिन्ह (?) के स्थान पर आएगी। (घूर्णन की अनुमति नहीं है)।

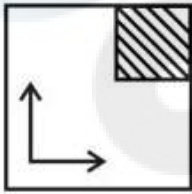


Ans

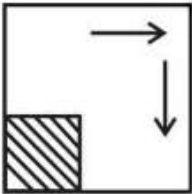
✓ 1.



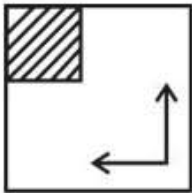
✗ 2.



✗ 3.



✗ 4.



Question Type : MCQ

Question ID : 264330133385

Option 1 ID : 264330522573

Option 2 ID : 264330522572

Option 3 ID : 264330522574

Option 4 ID : 264330522571

Status : Answered

Chosen Option : 1

**Q.18** दो कथन दिए गए हैं और उनके बाद दो निष्कर्ष I और II दिए गए हैं। कथनों को सत्य मानते हुए, चाहे वे सामान्यतः ज्ञात तथ्यों से अलग प्रतीत होते हों, निश्चय कीजिए कि कौन-सा निष्कर्ष तार्किक रूप से कथनों के अनुसार है।

कथन:

सभी लड़कियाँ, होशियार हैं।

सभी होशियार, बुद्धिमान हैं।

निष्कर्ष:

I. सभी लड़कियाँ, बुद्धिमान हैं।

II. कुछ लड़कियाँ, बुद्धिमान नहीं हैं।

Ans

1. निष्कर्ष I और II दोनों कथनों के अनुसार हैं
2. सिर्फ निष्कर्ष I कथनों के अनुसार है
3. सिर्फ निष्कर्ष II कथनों के अनुसार है
4. निष्कर्ष I और II में से कोई भी कथनों के अनुसार नहीं है

Question Type : MCQ

Question ID : 264330133375

Option 1 ID : 264330522533

Option 2 ID : 264330522531

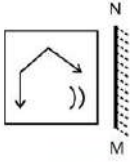
Option 3 ID : 264330522532

Option 4 ID : 264330522534

Status : Answered


Chosen Option : 4

Q.19 दी गई आकृति के उस सही दर्पण प्रतिबिंब को चुनिए जो दर्पण MN को आकृति के दाईं ओर रखने पर बनेगा।

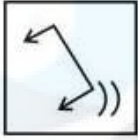


Ans

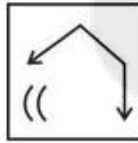
✗ 1.



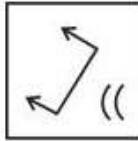
✗ 2.



✓ 3.



✗ 4.



Question Type : MCQ

Question ID : 264330137850

Option 1 ID : 264330540008

Option 2 ID : 264330540007

Option 3 ID : 264330540009

Option 4 ID : 264330540010

Status : Answered

Chosen Option : 3

Q.20 उस विकल्प को चुनिए जो तीसरे शब्द से ठीक उसी तरह संबंधित है जिस तरह दूसरा शब्द पहले शब्द से संबंधित है।  
त्याग देना : छोड़ना :: विचारमग्न (Pensive) : ?

Ans

✓ 1. विचारशील

✗ 2. खुश

✗ 3. नाचना

✗ 4. अवसाद-ग्रस्त

Question Type : MCQ

Question ID : 264330133368

Option 1 ID : 264330522503

Option 2 ID : 264330522505

Option 3 ID : 264330522506

Option 4 ID : 264330522504

Status : Answered

Chosen Option : 4

Q.1 भारतीय संविधान का अनुच्छेद 17 \_\_\_\_\_ से संबंधित है।

- Ans
- 1. शिक्षा के अधिकार
  - 2. अस्पृश्यता के उन्मूलन
  - 3. कानून के समक्ष समानता
  - 4. उपाधियों के उन्मूलन

Question Type : MCQ  
Question ID : 264330133868  
Option 1 ID : 264330524497  
Option 2 ID : 264330524495  
Option 3 ID : 264330524498  
Option 4 ID : 264330524496  
Status : Answered  
Chosen Option : 2

Q.2 2011 की जनगणना के अनुसार, भारत में निम्न में से किस राज्य का लिंगानुपात सबसे अधिक है?

- Ans
- 1. महाराष्ट्र
  - 2. आंध्रप्रदेश
  - 3. केरल
  - 4. तमिलनाडु

Question Type : MCQ  
Question ID : 264330134705  
Option 1 ID : 264330527776  
Option 2 ID : 264330527775  
Option 3 ID : 264330527777  
Option 4 ID : 264330527778  
Status : Answered  
Chosen Option : 3

Q.3 भारतीय अर्थव्यवस्था के FRBM अधिनियम, 2003 में 'F' का क्या अर्थ है?

- Ans
- 1. फाइनेंशियल (Financial)
  - 2. फंक्शनल (Functional)
  - 3. फिस्कल (Fiscal)
  - 4. फ्रीडम (Freedom)

Question Type : MCQ  
Question ID : 264330133955  
Option 1 ID : 264330524843  
Option 2 ID : 264330524846  
Option 3 ID : 264330524844  
Option 4 ID : 264330524845  
Status : Answered  
Chosen Option : 1

Q.4 गैल्वनीकरण(यशदलेपन)वह प्रक्रिया है जिसमें लोहे को जंग लगने से बचाने के लिए इस पर \_\_\_\_\_ की एक पतली परत चढ़ाई जाती है।

- Ans
- ✓ 1. जस्ते
  - ✗ 2. ताँबे
  - ✗ 3. चाँदी
  - ✗ 4. निकल

Question Type : MCQ  
Question ID : 264330134699  
Option 1 ID : 264330527754  
Option 2 ID : 264330527752  
Option 3 ID : 264330527753  
Option 4 ID : 264330527751  
Status : Answered  
Chosen Option : 2

Q.5 निम्नलिखित में से किसने सल्तनत काल के दो मूल सिक्के - 'चाँदी का टंका (silver tanka)' और 'ताँबे का जीतल (copper jital)' चलवाया था?

- Ans
- ✗ 1. अलाउद्दीन खिलजी
  - ✗ 2. इब्राहिम लोदी
  - ✓ 3. इल्तुतमिश
  - ✗ 4. कुतुबुद्दीन ऐबक

Question Type : MCQ  
Question ID : 264330134708  
Option 1 ID : 264330527789  
Option 2 ID : 264330527790  
Option 3 ID : 264330527787  
Option 4 ID : 264330527788  
Status : Answered  
Chosen Option : 3

Q.6 वॉकर (Walker) कप निम्नलिखित में से किस खेल से संबंधित है?

- Ans
- ✓ 1. गॉल्फ़
  - ✗ 2. शतरंज
  - ✗ 3. हॉकी
  - ✗ 4. फुटबॉल

Question Type : MCQ  
Question ID : 264330134717  
Option 1 ID : 264330527824  
Option 2 ID : 264330527826  
Option 3 ID : 264330527825  
Option 4 ID : 264330527823  
Status : Answered  
Chosen Option : 3

Q.7 निम्नलिखित में से कौन-सा विटामिन हमारी त्वचा और आँखों को स्वस्थ रखने में सहायता करता है?

- Ans
- 1. विटामिन C
  - 2. विटामिन B
  - 3. विटामिन A
  - 4. विटामिन D

Question Type : MCQ  
Question ID : 264330133869  
Option 1 ID : 264330524501  
Option 2 ID : 264330524500  
Option 3 ID : 264330524499  
Option 4 ID : 264330524502  
Status : Answered  
Chosen Option : 3

Q.8 निम्नलिखित में से कौन-सा एक जोवियन (Jovian) ग्रह नहीं है?

- Ans
- 1. बृहस्पति
  - 2. बुध
  - 3. नेपच्यून
  - 4. शनि

Question Type : MCQ  
Question ID : 264330134702  
Option 1 ID : 264330527763  
Option 2 ID : 264330527766  
Option 3 ID : 264330527764  
Option 4 ID : 264330527765  
Status : Answered  
Chosen Option : 3

Q.9 नवंबर 2022 तक, निम्नलिखित में से कौन-सा राज्य भारत में कपास का अग्रणी उत्पादक है?

- Ans
- 1. मध्यप्रदेश
  - 2. कर्नाटक
  - 3. गुजरात
  - 4. तेलंगाना

Question Type : MCQ  
Question ID : 264330133940  
Option 1 ID : 264330524783  
Option 2 ID : 264330524784  
Option 3 ID : 264330524786  
Option 4 ID : 264330524785  
Status : Answered  
Chosen Option : 3

Q.10 भारतीय रेलवे की वर्ष \_\_\_\_\_ तक शुद्ध-शून्य कार्बन उत्सर्जक (Net Zero Carbon Emitter) बनने की योजना है।

- Ans
- 1. 2025
  - 2. 2027
  - 3. 2030
  - 4. 2032

Question Type : MCQ  
Question ID : 264330133865  
Option 1 ID : 264330524483  
Option 2 ID : 264330524484  
Option 3 ID : 264330524485  
Option 4 ID : 264330524486  
Status : Answered  
Chosen Option : 3

Q.11 ब्रिटेन के किस प्रधानमंत्री ने 44 दिनों तक कार्यभार संभालने के बाद 20 अक्टूबर, 2022 को इस्तीफा दे दिया था?

- Ans
- 1. थेरेसा मे (Theresa May)
  - 2. लिज़ ट्रस (Liz Truss)
  - 3. बोरिस जॉनसन (Boris Johnson)
  - 4. ऋषि सुनक (Rishi Sunak)

Question Type : MCQ  
Question ID : 264330133864  
Option 1 ID : 264330524481  
Option 2 ID : 264330524480  
Option 3 ID : 264330524479  
Option 4 ID : 264330524482  
Status : Answered  
Chosen Option : 2

Q.12 दिल्ली नगर निगम (संशोधन) विधेयक, 2022 का उद्देश्य दिल्ली के \_\_\_\_\_ नगर निगमों को एक इकाई में एकीकृत करना है जिससे तालमेल और रणनीतिक योजना और संसाधनों के इष्टतम उपयोग के लिए एक मजबूत व्यवस्था सुनिश्चित की जा सकेगी।

- Ans
- 1. तीन
  - 2. पाँच
  - 3. दो
  - 4. चार

Question Type : MCQ  
Question ID : 264330134695  
Option 1 ID : 264330527736  
Option 2 ID : 264330527738  
Option 3 ID : 264330527735  
Option 4 ID : 264330527737  
Status : Not Answered  
Chosen Option : --

Q.13 वर्ष 2011 की जनगणना के अनुसार नई दिल्ली जिले की साक्षरता दर कितनी है?

- Ans
- ✓ 1. 88.01 प्रतिशत
  - ✗ 2. 54.12 प्रतिशत
  - ✗ 3. 64.09 प्रतिशत
  - ✗ 4. 98.42 प्रतिशत

Question Type : MCQ

Question ID : 264330137406

Option 1 ID : 264330538251

Option 2 ID : 264330538254

Option 3 ID : 264330538252

Option 4 ID : 264330538253

Status : Answered

Chosen Option : 1

Q.14 भारतीय राष्ट्रीय कांग्रेस के निम्नलिखित अधिवेशनों में से किस अधिवेशन की अध्यक्षता पहली बार एक महिला ने की थी?

- Ans
- ✓ 1. कलकत्ता - 1917
  - ✗ 2. सूरत - 1907
  - ✗ 3. कानपुर - 1925
  - ✗ 4. लाहौर - 1929

Question Type : MCQ

Question ID : 264330134709

Option 1 ID : 264330527792

Option 2 ID : 264330527794

Option 3 ID : 264330527791

Option 4 ID : 264330527793

Status : Answered

Chosen Option : 1

Q.15 भरतनाट्यम नृत्य किस राज्य से संबंधित है?

- Ans
- ✗ 1. महाराष्ट्र
  - ✗ 2. मध्यप्रदेश
  - ✗ 3. केरल
  - ✓ 4. तमिलनाडु

Question Type : MCQ

Question ID : 264330133856

Option 1 ID : 264330524447

Option 2 ID : 264330524449

Option 3 ID : 264330524450

Option 4 ID : 264330524448

Status : Answered

Chosen Option : 4

Q.16 निम्नलिखित में से किसे "पैरा शूटिंग (Para Shooting )" के लिए मेजर ध्यानचंद खेल रत्न पुरस्कार 2021 से सम्मानित किया गया है?

- Ans
- 1. प्रमोद भगत
  - 2. कृष्णा नागर
  - 3. सुमित अंतिल
  - 4. अवनी लेखरा

Question Type : MCQ  
Question ID : 264330133859  
Option 1 ID : 264330524461  
Option 2 ID : 264330524462  
Option 3 ID : 264330524460  
Option 4 ID : 264330524459  
Status : Not Answered  
Chosen Option : --

Q.17 निम्नलिखित में से किस तत्व का उपयोग इसके आर्द्रतावाही गुणों (hygroscopic properties) के कारण मॉइस्चराइजिंग क्रीम और साबुन में किया जाता है?

- Ans
- 1. ग्लिसरॉल (Glycerol)
  - 2. फ़ेयॉन (Galena)
  - 3. एथेनॉल (Ethanol)
  - 4. गैलेना (Galena)

Question Type : MCQ  
Question ID : 264330134701  
Option 1 ID : 264330527760  
Option 2 ID : 264330527762  
Option 3 ID : 264330527759  
Option 4 ID : 264330527761  
Status : Answered  
Chosen Option : 1

Q.18 प्रसिद्ध भारतीय वैज्ञानिक, डॉ. एपीजे अब्दुल कलाम की आत्मकथा को \_\_\_\_\_ के नाम से जाना जाता है।

- Ans
- 1. वेटिंग फॉर ए वीसा (Waiting for a Visa)
  - 2. द रेस ऑफ़ माई लाइफ़ (The Race of My Life)
  - 3. वन लाइफ़ इस नॉट इनफ़ (One Life is Not Enough)
  - 4. विंग्स ऑफ़ फायर (Wings of Fire)

Question Type : MCQ  
Question ID : 264330133948  
Option 1 ID : 264330524818  
Option 2 ID : 264330524816  
Option 3 ID : 264330524815  
Option 4 ID : 264330524817  
Status : Answered  
Chosen Option : 4

Q.19 निम्नलिखित में से कौन-सा भारत के मेघालय का एक प्रसिद्ध फसल कटाई उत्सव है?

- Ans
- 1. हॉर्नबिल उत्सव ( Hornbill festival)
  - 2. चपचार कुट उत्सव ( Chapcharkut festival)
  - 3. नॉगक्रम उत्सव ( Nongkrem festival)
  - 4. सनबर्न उत्सव (Sunburn festival)

Question Type : MCQ

Question ID : 264330137947

Option 1 ID : 264330540397

Option 2 ID : 264330540395

Option 3 ID : 264330540396

Option 4 ID : 264330540398

Status : Not Answered

Chosen Option : --

Q.20 कुचिपुड़ी नृत्य शैली के किस गुरु को वर्ष 1998 में पद्म भूषण मिला था?

- Ans
- 1. उदय शंकर
  - 2. गुरु वेम्पति चिन्ना सत्यम
  - 3. गुरु बिपिन सिंह
  - 4. केलुचरण महापात्र

Question Type : MCQ

Question ID : 264330133950

Option 1 ID : 264330524823

Option 2 ID : 264330524826

Option 3 ID : 264330524825

Option 4 ID : 264330524824

Status : Not Answered

Chosen Option : --

Q.21 भारत का क्षेत्रफल विश्व के कुल भौगोलिक क्षेत्रफल का कितना प्रतिशत है?

- Ans
- 1. 5.2 प्रतिशत
  - 2. 4.8 प्रतिशत
  - 3. 2.4 प्रतिशत
  - 4. 3.2 प्रतिशत

Question Type : MCQ

Question ID : 264330133874

Option 1 ID : 264330524522

Option 2 ID : 264330524521

Option 3 ID : 264330524519

Option 4 ID : 264330524520

Status : Answered

Chosen Option : 3

Q.22 मनुष्य के आरंभिक विकास के प्रागैतिहासिक काल को समान्यतः \_\_\_\_\_ के नाम से जाना जाता है।

- Ans
- 1. लौह युग (Iron age)
  - 2. मध्यपाषाण युग (Mesolithic age)
  - 3. नवपाषाण युग (New stone age)
  - 4. पुरापाषाण युग ( Old stone age)

Question Type : MCQ  
Question ID : 264330137957  
Option 1 ID : 264330540437  
Option 2 ID : 264330540435  
Option 3 ID : 264330540436  
Option 4 ID : 264330540438  
Status : Answered  
Chosen Option : 4

Q.23 भारतीय संगीतकार और कंपोजर पंडित शिव कुमार शर्मा \_\_\_\_\_ के एक सर्वश्रेष्ठ प्रतिपादक थे।

- Ans
- 1. संतूर
  - 2. गिटार
  - 3. हारमोनियम
  - 4. वायलिन

Question Type : MCQ  
Question ID : 264330133862  
Option 1 ID : 264330524471  
Option 2 ID : 264330524473  
Option 3 ID : 264330524474  
Option 4 ID : 264330524472  
Status : Answered  
Chosen Option : 1

Q.24 वर्ष 1922 में गठित स्वराज पार्टी के अध्यक्ष कौन थे?

- Ans
- 1. चितरंजन दास
  - 2. सी. राजगोपालाचारी
  - 3. मोतीलाल नेहरू
  - 4. महात्मा गांधी

Question Type : MCQ  
Question ID : 264330137960  
Option 1 ID : 264330540450  
Option 2 ID : 264330540447  
Option 3 ID : 264330540449  
Option 4 ID : 264330540448  
Status : Answered  
Chosen Option : 3

Q.25 पट्टदकल (Pattadakal) में जैन मंदिर का निर्माण \_\_\_\_\_ वंश द्वारा करवाया गया था।

- Ans
- 1. चोल
  - 2. होयसल (Hoyasalas)
  - 3. चालुक्य
  - 4. राष्ट्रकूट (Rashtrakutas)

Question Type : MCQ  
Question ID : 264330134698  
Option 1 ID : 264330527747  
Option 2 ID : 264330527748  
Option 3 ID : 264330527750  
Option 4 ID : 264330527749  
Status : Answered  
Chosen Option : 3

Section : English Language and Comprehension

Q.1 Select the most appropriate synonym to substitute the bracketed word in the given sentence.

They wanted me to (expound) on this topic because I had some decent ideas on the subject.

- Ans
- 1. notoriety
  - 2. partisan
  - 3. paucity
  - 4. expatiate

Question Type : MCQ  
Question ID : 264330136526  
Option 1 ID : 264330534846  
Option 2 ID : 264330534843  
Option 3 ID : 264330534844  
Option 4 ID : 264330534845  
Status : Answered  
Chosen Option : 4

Q.2 Select the appropriate antonym for the underlined word.  
There can't be anything positive about plastics with pathogens floating around.

- Ans
- 1. fundamental
  - 2. approving
  - 3. depreciative
  - 4. flattering

Question Type : MCQ  
Question ID : 264330134339  
Option 1 ID : 264330526345  
Option 2 ID : 264330526343  
Option 3 ID : 264330526344  
Option 4 ID : 264330526346  
Status : Answered  
Chosen Option : 3

**Q.3** Identify the segment that contains a grammatical error. If there is no error, select 'No error'.

The front part is used for carving / the lines and the back end / for scratching of whole areas.

- Ans**
- 1. the lines and the back end
  - 2. for scratching of whole areas.
  - 3. No Error
  - 4. The front part is used for carving

Question Type : **MCQ**  
Question ID : **264330135793**  
Option 1 ID : **264330532048**  
Option 2 ID : **264330532049**  
Option 3 ID : **264330532050**  
Option 4 ID : **264330532047**  
Status : **Answered**  
Chosen Option : **4**

**Q.4** Choose the word that is opposite in meaning to the given word.

Curtailed

- Ans**
- 1. Pruned
  - 2. Slashed
  - 3. Lengthened
  - 4. Trimmed

Question Type : **MCQ**  
Question ID : **264330134841**  
Option 1 ID : **264330528302**  
Option 2 ID : **264330528300**  
Option 3 ID : **264330528301**  
Option 4 ID : **264330528299**  
Status : **Answered**  
Chosen Option : **3**

**Q.5** Choose the word that can substitute the given group of words.  
A group of people who have no permanent abode but wander from place to place

- Ans**
- 1. Nomad
  - 2. Truant
  - 3. Usurer
  - 4. Ponderer

Question Type : **MCQ**  
Question ID : **264330134335**  
Option 1 ID : **264330526328**  
Option 2 ID : **264330526329**  
Option 3 ID : **264330526327**  
Option 4 ID : **264330526330**  
Status : **Answered**  
Chosen Option : **1**

**Q.6** In the following question, out of the given four alternatives, select the alternative which best expresses the meaning of the Idiom/Phrase.  
**Break sweat**

- Ans**
- 1. To lie
  - 2. To make a futile attempt
  - 3. To be caught stealing
  - 4. To use a lot of energy or effort

Question Type : **MCQ**  
Question ID : **264330134341**  
Option 1 ID : **264330526351**  
Option 2 ID : **264330526354**  
Option 3 ID : **264330526353**  
Option 4 ID : **264330526352**  
Status : **Answered**  
Chosen Option : **1**

**Q.7** Improve the underlined part of the sentence. Choose 'No improvement' as an answer if the sentence is grammatically correct.  
He started a newly jobs on Tuesday.

- Ans**
- 1. No improvement
  - 2. a new job
  - 3. a new jobs
  - 4. an new job

Question Type : **MCQ**  
Question ID : **264330134298**  
Option 1 ID : **264330526190**  
Option 2 ID : **264330526188**  
Option 3 ID : **264330526187**  
Option 4 ID : **264330526189**  
Status : **Answered**  
Chosen Option : **2**

**Q.8** In the following question, out of the given four alternatives, select the alternative which best expresses the meaning of the Idiom/Phrase.  
**To poke one's nose into**

- Ans**
- 1. To give permission
  - 2. To interfere
  - 3. To bring no sense
  - 4. To show disrespect

Question Type : **MCQ**  
Question ID : **264330134843**  
Option 1 ID : **264330528307**  
Option 2 ID : **264330528308**  
Option 3 ID : **264330528310**  
Option 4 ID : **264330528309**  
Status : **Answered**  
Chosen Option : **2**

**Q.9** Find the part of the given sentence that has an error in it. If there is no error, choose 'No error'.

This is most unique thing I have ever seen in my life.

- Ans**
- 1. seen in my life.
  - 2. thing I have ever
  - 3. This is most unique
  - 4. No error

Question Type : **MCQ**  
Question ID : **264330134322**  
Option 1 ID : **264330526281**  
Option 2 ID : **264330526280**  
Option 3 ID : **264330526279**  
Option 4 ID : **264330526282**  
Status : **Answered**  
Chosen Option : **3**

**Q.10** Fill in the blank with the most appropriate option.

Rohan was now standing on tiptoe to \_\_\_\_\_ over at the inhabitants of the two beds.

- Ans**
- 1. view
  - 2. stare
  - 3. peep
  - 4. look

Question Type : **MCQ**  
Question ID : **264330136408**  
Option 1 ID : **264330534398**  
Option 2 ID : **264330534397**  
Option 3 ID : **264330534396**  
Option 4 ID : **264330534395**  
Status : **Answered**  
Chosen Option : **4**

**Q.11** Select the most appropriate option to fill in the blank.

Plastic inhabits the oceans, \_\_\_\_\_ up in the guts of seagulls and great white sharks.

- Ans**
- 1. provoking
  - 2. sailing
  - 3. building
  - 4. burning

Question Type : **MCQ**  
Question ID : **264330134345**  
Option 1 ID : **264330526370**  
Option 2 ID : **264330526368**  
Option 3 ID : **264330526367**  
Option 4 ID : **264330526369**  
Status : **Answered**  
Chosen Option : **3**

Q.12 Fill in the blank with the most appropriate option.

“May I \_\_\_\_\_ your coats, Mr. and Mrs. Mason?”

- Ans
- 1. trek
  - 2. taste
  - 3. track
  - 4. take

Question Type : MCQ  
Question ID : 264330136594  
Option 1 ID : 264330535110  
Option 2 ID : 264330535108  
Option 3 ID : 264330535107  
Option 4 ID : 264330535109  
Status : Answered  
Chosen Option : 4

Q.13 Select the appropriate synonym for the underlined word.  
It is not that you seem heartless.

- Ans
- 1. mild
  - 2. cruel
  - 3. robust
  - 4. warm

Question Type : MCQ  
Question ID : 264330134336  
Option 1 ID : 264330526331  
Option 2 ID : 264330526332  
Option 3 ID : 264330526334  
Option 4 ID : 264330526333  
Status : Answered  
Chosen Option : 2

Q.14 Find the part of the given sentence that has an error in it. If there is no error, choose  
'No error'.  
Make sure you known how to swim.

- Ans
- 1. Make sure
  - 2. No error
  - 3. you known
  - 4. how to swim.

Question Type : MCQ  
Question ID : 264330134476  
Option 1 ID : 264330526871  
Option 2 ID : 264330526874  
Option 3 ID : 264330526872  
Option 4 ID : 264330526873  
Status : Answered  
Chosen Option : 3

**Q.15** Choose the incorrectly spelt word.

- Ans
- 1. Robber
  - 2. Banker
  - 3. Artiset
  - 4. Teacher

Question Type : **MCQ**  
Question ID : **264330134342**  
Option 1 ID : **264330526356**  
Option 2 ID : **264330526355**  
Option 3 ID : **264330526358**  
Option 4 ID : **264330526357**  
Status : **Answered**  
Chosen Option : **3**

**Q.16** Four sentences are given, out of which three have spelling errors. Choose the sentence with all correctly spelt words.

- Ans
- 1. The paralel lives of two contemporaries.
  - 2. She took a pair of sissors and cut his hair.
  - 3. He made the most delicious pumkin pie.
  - 4. I need a strong adhesive.

Question Type : **MCQ**  
Question ID : **264330136407**  
Option 1 ID : **264330534391**  
Option 2 ID : **264330534393**  
Option 3 ID : **264330534394**  
Option 4 ID : **264330534392**  
Status : **Answered**  
Chosen Option : **3**

**Q.17** Select the most appropriate option to substitute the bracketed segment in the given sentence. If there is no need to substitute it, select 'no substitution required'.  
No, they are normal people, (although they perceive the world different).

- Ans
- 1. No substitution required
  - 2. but they perceive the world differently
  - 3. from they perceive the world differently
  - 4. while they perceive the world different

Question Type : **MCQ**  
Question ID : **264330135796**  
Option 1 ID : **264330532062**  
Option 2 ID : **264330532059**  
Option 3 ID : **264330532061**  
Option 4 ID : **264330532060**  
Status : **Answered**  
Chosen Option : **2**

Q.18 Improve the underlined part of the sentence. Choose 'No improvement' as an answer if the sentence is grammatically correct.  
We went to the mall; however, us only gone window-shopping.

- Ans
- 1. we only gone
  - 2. we only went
  - 3. they only going
  - 4. No improvement

Question Type : MCQ  
Question ID : 264330134325  
Option 1 ID : 264330526293  
Option 2 ID : 264330526292  
Option 3 ID : 264330526291  
Option 4 ID : 264330526294  
Status : Answered  
Chosen Option : 2

Q.19 Choose the word that can substitute the given group of words.

That can be carried or moved easily

- Ans
- 1. Handful
  - 2. Potable
  - 3. Portable
  - 4. Illegible

Question Type : MCQ  
Question ID : 264330134837  
Option 1 ID : 264330528285  
Option 2 ID : 264330528283  
Option 3 ID : 264330528284  
Option 4 ID : 264330528286  
Status : Answered  
Chosen Option : 2

Q.20 A sentence has been given with a blank to be filled with an appropriate option. Choose the correct alternative.  
I strained \_\_\_\_\_ to catch his options.

- Ans
- 1. hardest
  - 2. hardness
  - 3. hardly
  - 4. hard

Question Type : MCQ  
Question ID : 264330134326  
Option 1 ID : 264330526296  
Option 2 ID : 264330526295  
Option 3 ID : 264330526298  
Option 4 ID : 264330526297  
Status : Answered  
Chosen Option : 4

**Comprehension:**

In the following passage some of the words have been deleted. Read the passage carefully and select the correct answer for the given blank out of the four alternatives.

A young man walks toward me with a stick slung across his back and a (1) \_\_\_\_\_ of sheep at his feet, which carry him down the path (2) \_\_\_\_\_ a crowd of rowdy children. An older man follows, weatherworn but still (3) \_\_\_\_\_, a rifle over his left shoulder. He clicks his tongue to (4) \_\_\_\_\_ the flock. Behind him are two women on horses; I guess (5) \_\_\_\_\_ are his wife and daughter.

**SubQuestion No : 21**

Q.21 Select the most appropriate option to fill in blank number 1.

- Ans
- 1. shoal
  - 2. flock
  - 3. horde
  - 4. army

Question Type : MCQ

Question ID : 264330134832

Option 1 ID : 264330528265

Option 2 ID : 264330528263

Option 3 ID : 264330528264

Option 4 ID : 264330528266

Status : Answered

Chosen Option : 2

**Comprehension:**

In the following passage some of the words have been deleted. Read the passage carefully and select the correct answer for the given blank out of the four alternatives.

A young man walks toward me with a stick slung across his back and a (1) \_\_\_\_\_ of sheep at his feet, which carry him down the path (2) \_\_\_\_\_ a crowd of rowdy children. An older man follows, weatherworn but still (3) \_\_\_\_\_, a rifle over his left shoulder. He clicks his tongue to (4) \_\_\_\_\_ the flock. Behind him are two women on horses; I guess (5) \_\_\_\_\_ are his wife and daughter.

**SubQuestion No : 22**

Q.22 Select the most appropriate option to fill in blank number 2.

- Ans
- 1. like
  - 2. liking
  - 3. likeness
  - 4. likely

Question Type : MCQ

Question ID : 264330134833

Option 1 ID : 264330528268

Option 2 ID : 264330528267

Option 3 ID : 264330528270

Option 4 ID : 264330528269

Status : Answered

Chosen Option : 1

**Comprehension:**

In the following passage some of the words have been deleted. Read the passage carefully and select the correct answer for the given blank out of the four alternatives.

A young man walks toward me with a stick slung across his back and a (1) \_\_\_\_\_ of sheep at his feet, which carry him down the path (2) \_\_\_\_\_ a crowd of rowdy children. An older man follows, weatherworn but still (3) \_\_\_\_\_, a rifle over his left shoulder. He clicks his tongue to (4) \_\_\_\_\_ the flock. Behind him are two women on horses; I guess (5) \_\_\_\_\_ are his wife and daughter.

**SubQuestion No : 23**

**Q.23** Select the most appropriate option to fill in blank number 3.

- Ans**
- 1. strong
  - 2. slow
  - 3. sick
  - 4. thin

Question Type : **MCQ**

Question ID : **264330134834**

Option 1 ID : **264330528272**

Option 2 ID : **264330528271**

Option 3 ID : **264330528273**

Option 4 ID : **264330528274**

Status : **Answered**

Chosen Option : **1**

**Comprehension:**

In the following passage some of the words have been deleted. Read the passage carefully and select the correct answer for the given blank out of the four alternatives.

A young man walks toward me with a stick slung across his back and a (1) \_\_\_\_\_ of sheep at his feet, which carry him down the path (2) \_\_\_\_\_ a crowd of rowdy children. An older man follows, weatherworn but still (3) \_\_\_\_\_, a rifle over his left shoulder. He clicks his tongue to (4) \_\_\_\_\_ the flock. Behind him are two women on horses; I guess (5) \_\_\_\_\_ are his wife and daughter.

**SubQuestion No : 24**

**Q.24** Select the most appropriate option to fill in blank number 4.

- Ans**
- 1. dress
  - 2. claim
  - 3. encourage
  - 4. punish

Question Type : **MCQ**

Question ID : **264330134835**

Option 1 ID : **264330528278**

Option 2 ID : **264330528275**

Option 3 ID : **264330528277**

Option 4 ID : **264330528276**

Status : **Answered**

Chosen Option : **3**

**Comprehension:**

In the following passage some of the words have been deleted. Read the passage carefully and select the correct answer for the given blank out of the four alternatives.

A young man walks toward me with a stick slung across his back and a (1) \_\_\_\_\_ of sheep at his feet, which carry him down the path (2) \_\_\_\_\_ a crowd of rowdy children. An older man follows, weatherworn but still (3) \_\_\_\_\_, a rifle over his left shoulder. He clicks his tongue to (4) \_\_\_\_\_ the flock. Behind him are two women on horses; I guess (5) \_\_\_\_\_ are his wife and daughter.

**SubQuestion No : 25**

**Q.25** Select the most appropriate option to fill in blank number 5.

- Ans**
- 1. this
  - 2. they
  - 3. them
  - 4. these

Question Type : **MCQ**

Question ID : **264330134836**

Option 1 ID : **264330528280**

Option 2 ID : **264330528281**

Option 3 ID : **264330528282**

Option 4 ID : **264330528279**

Status : **Answered**

Chosen Option : **2**