

Multi Tasking Non Technical Staff and Havaldar CBIC and CBN Examination 2022

Roll Number	
Candidate Name	
Venue Name	Maa Santoshi Computers Pvt. Ltd.
Exam Date	03/05/2023
Exam Time	12:00 PM - 2:00 PM
Subject	MTS Non Tech Havaldar CBIC and CBN Examination 2022

Section : Numerical and Mathematical Ability

Q.1

$\sqrt{[(13^2 - 8^2) \times 5 + 4]}$ का मान ज्ञात कीजिए:

- Ans
- 1. 22
 - 2. 26
 - 3. 24
 - 4. 23

Question Type : MCQ

Question ID : 264330135369

Option 1 ID : 264330530383

Option 2 ID : 264330530384

Option 3 ID : 264330530385

Option 4 ID : 264330530386

Status : Answered

Chosen Option : 4

Q.2

$\frac{14+7-12+15-17+2-3+17}{2+7-9+2-4+22}$ का मान क्या है?

- Ans
- 1. 23/20
 - 2. 17/20
 - 3. 19/20
 - 4. 33/20

Question Type : MCQ

Question ID : 264330135060

Option 1 ID : 264330529175

Option 2 ID : 264330529178

Option 3 ID : 264330529176

Option 4 ID : 264330529177

Status : Answered

Chosen Option : 1

Q.3 तृप्ति अकेले 4 दिनों में एक डिवाइडर का निर्माण कर सकती है जबकि राजन अकेले इसे 3 दिनों में बना सकता है। यदि वे इसे साथ मिलकर बनाते हैं और उन्हें Rs.14000 का कुल भुगतान किया जाता है, तो इसमें तृप्ति का हिस्सा कितना है?

- Ans
- ✓ 1. Rs.6000
 - ✗ 2. Rs.8000
 - ✗ 3. Rs.5000
 - ✗ 4. Rs.7000

Question Type : MCQ

Question ID : 264330133686

Option 1 ID : 264330523768

Option 2 ID : 264330523769

Option 3 ID : 264330523770

Option 4 ID : 264330523767

Status : Answered

Chosen Option : 1

Q.4 अजय स्थिर जल में अपनी नाव को 11 km/hr की चाल से चला सकता है। यदि धारा की चाल 7 km/hr है, तो उसे धारा के अनुकूल 54 km की दूरी तय करने में कितना समय लगेगा?

- Ans
- ✗ 1. 2 घंटे
 - ✓ 2. 3 घंटे
 - ✗ 3. 2.5 घंटे
 - ✗ 4. 4 घंटे

Question Type : MCQ

Question ID : 264330135382

Option 1 ID : 264330530436

Option 2 ID : 264330530435

Option 3 ID : 264330530437

Option 4 ID : 264330530438

Status : Answered

Chosen Option : 2

Q.5 एक आदमी एक रुपये में 13 पेन खरीदता है। 30 प्रतिशत का लाभ अर्जित करने के लिए उसे एक रुपये में कितने पेन बेचने चाहिए?

- Ans
- ✓ 1. 10
 - ✗ 2. 15
 - ✗ 3. 8
 - ✗ 4. 5

Question Type : MCQ

Question ID : 264330137671

Option 1 ID : 264330539291

Option 2 ID : 264330539294

Option 3 ID : 264330539293

Option 4 ID : 264330539292

Status : Answered

Chosen Option : 1

Q.6 180 लीटर के एक मिश्रण में, दूध और पानी का अनुपात 5 : 1 है। यदि इस अनुपात को 3 : 2 करना हो, तो इसमें पानी की और कितनी मात्रा मिलानी होगी?

- Ans
- 1. 72 लीटर
 - 2. 70 लीटर
 - 3. 88 लीटर
 - 4. 66 लीटर

Question Type : MCQ

Question ID : 264330135068

Option 1 ID : 264330529208

Option 2 ID : 264330529210

Option 3 ID : 264330529207

Option 4 ID : 264330529209

Status : Answered

Chosen Option : 2

Q.7 एक किसान की भूमि एक समलंब के आकार की है जिसकी समानांतर भुजाएँ 6.32 गज (yards) और 7.68 गज हैं और समानांतर भुजाओं के बीच की दूरी 5.50 गज है। भूमि की जुताई की लागत Rs. 1200 प्रति वर्ग गज है। पूरी भूमि को जोतने के लिए कितनी राशि खर्च करनी होगी?

- Ans
- 1. Rs. 36600
 - 2. Rs. 46200
 - 3. Rs. 32500
 - 4. Rs. 55400

Question Type : MCQ

Question ID : 264330137617

Option 1 ID : 264330539078

Option 2 ID : 264330539076

Option 3 ID : 264330539075

Option 4 ID : 264330539077

Status : Answered

Chosen Option : 2

Q.8 एक मोबाइल का मूल्य Rs.30,000 है। पहले वर्ष के अंत में मोबाइल का मूल्य 12% घट जाता है और उसके अगले वर्ष के अंत में, यह 15% घट जाता है। 2 वर्ष बाद मोबाइल का मूल्य क्या होगा?

- Ans
- 1. Rs. 22,440
 - 2. Rs. 25,255
 - 3. Rs. 20,000
 - 4. Rs. 25,000

Question Type : MCQ

Question ID : 264330133766

Option 1 ID : 264330524087

Option 2 ID : 264330524090

Option 3 ID : 264330524088

Option 4 ID : 264330524089

Status : Answered

Chosen Option : 1

Q.9 माया ने 14% GST सहित Rs.7980 में एक टीवी खरीदा। GST के बिना टीवी का वास्तविक मूल्य क्या है?

- Ans
- 1. Rs.8880
 - 2. Rs.7000
 - 3. Rs.7900
 - 4. Rs.7080

Question Type : MCQ

Question ID : 264330135376

Option 1 ID : 264330530411

Option 2 ID : 264330530414

Option 3 ID : 264330530413

Option 4 ID : 264330530412

Status : Answered

Chosen Option : 2

Q.10 9 बक्सों का औसत भार 61 kg है। यदि 70 kg के औसत भार वाले तीन बक्सों को हटा दिया जाए, तो शेष बक्सों का नया औसत भार क्या होगा?

- Ans
- 1. 55.5 kg
 - 2. 56.5 kg
 - 3. 45.5 kg
 - 4. 54 kg

Question Type : MCQ

Question ID : 264330135371

Option 1 ID : 264330530392

Option 2 ID : 264330530393

Option 3 ID : 264330530391

Option 4 ID : 264330530394

Status : Answered

Chosen Option : 2

Q.11 यदि 3 और x का तृतीय समानुपाती 27 है और 2 और y का तृतीय समानुपाती 8 है, तो x:y का मान ज्ञात कीजिए।

- Ans
- 1. 4:5
 - 2. 3:7
 - 3. 9:4
 - 4. 7:9

Question Type : MCQ

Question ID : 264330135379

Option 1 ID : 264330530424

Option 2 ID : 264330530425

Option 3 ID : 264330530423

Option 4 ID : 264330530426

Status : Not Answered

Chosen Option : --

Q.12 निम्न तालिका में वर्ष 2018 से 2021 तक चार कंपनियों A, B, C और D द्वारा भर्ती किए गए उम्मीदवारों की संख्या को दर्शाया गया है। वर्ष 2019 में कंपनी B द्वारा भर्ती किए गए उम्मीदवारों की संख्या और वर्ष 2020 में कंपनी D द्वारा भर्ती किए गए उम्मीदवारों की संख्या का अनुपात ज्ञात कीजिए।

Years	A	B	C	D
2018	55	40	25	15
2019	60	75	50	25
2020	65	30	40	65
2021	45	35	70	35

years - वर्ष

- Ans
- 1. 13:12
 - 2. 15:13
 - 3. 12:11
 - 4. 15:11

Question Type : MCQ

Question ID : 264330135385

Option 1 ID : 264330530449

Option 2 ID : 264330530447

Option 3 ID : 264330530450

Option 4 ID : 264330530448

Status : Answered

Chosen Option : 2

Q.13 एक अर्धगोले का आयतन $486\pi \text{ cm}^3$ है। त्रिज्या ज्ञात कीजिए।

- Ans
- 1. 9 cm
 - 2. 7 cm
 - 3. 4 cm
 - 4. 8 cm

Question Type : MCQ

Question ID : 264330135388

Option 1 ID : 264330530461

Option 2 ID : 264330530460

Option 3 ID : 264330530459

Option 4 ID : 264330530462

Status : Answered

Chosen Option : 1

Q.14 एक वस्तु का अंकित मूल्य Rs. 400 है। इसे Rs. 300 में बेचा जाता है। यदि 15% की हानि होती है, तो वस्तु को क्रय मूल्य से कितने प्रतिशत अधिक मूल्य पर अंकित किया गया है?

- Ans
- 1. 35.25%
 - 2. 25.05%
 - 3. 28.24%
 - 4. 13.33%

Question Type : MCQ

Question ID : 264330135377

Option 1 ID : 264330530415

Option 2 ID : 264330530417

Option 3 ID : 264330530418

Option 4 ID : 264330530416

Status : Answered

Chosen Option : 4

Q.15 $4 \times \{44 + (84 + 18 \div 3 \times 3 - 40)\}$ का मान ज्ञात कीजिए:

Ans 1. 331

2. 424

3. 330

4. 250

Question Type : MCQ

Question ID : 264330135368

Option 1 ID : 264330530380

Option 2 ID : 264330530379

Option 3 ID : 264330530381

Option 4 ID : 264330530382

Status : Not Answered

Chosen Option : --

Q.16 एक कॉलेज के 19 लड़कों के प्राप्तांकों का औसत 48 है। यदि प्राप्तांकों में से अधिकतम अंक और न्यूनतम अंक हटा दिए जाए, तो औसत में 4 की कमी आ जाती है। प्राप्तांकों में से अधिकतम और न्यूनतम अंकों का औसत क्या है?

Ans 1. 76

2. 82

3. 80

4. 84

Question Type : MCQ

Question ID : 264330137669

Option 1 ID : 264330539284

Option 2 ID : 264330539286

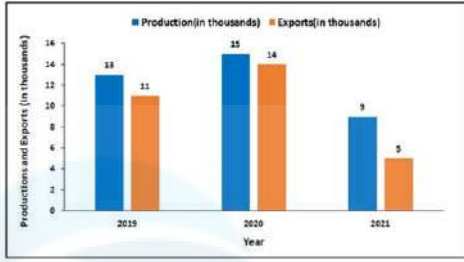
Option 3 ID : 264330539283

Option 4 ID : 264330539285

Status : Answered

Chosen Option : 2

Q.17 निम्न दंड आलेख में तीन वर्षों में एक कंपनी द्वारा किए गए कंप्यूटर के कुल उत्पादन और निर्यात (हजारों में) को दर्शाया गया है। दिए गए वर्षों में कंपनी द्वारा किया गया औसत निर्यात ज्ञात कीजिए।



Production (in thousands) - उत्पादन (हजारों में), export (in thousands) - निर्यात (हजारों में), Production and export (in thousands) - उत्पादन और निर्यात (हजारों में), year - वर्ष

- Ans
- ✗ 1. 15,000
 - ✗ 2. 16,000
 - ✓ 3. 10,000
 - ✗ 4. 12,000

Question Type : MCQ

Question ID : 264330135386

Option 1 ID : 264330530451

Option 2 ID : 264330530452

Option 3 ID : 264330530453

Option 4 ID : 264330530454

Status : Answered

Chosen Option : 3

Q.18 C1, C2 और C3 अकेले किसी कार्य को क्रमशः 10, 12 और 15 दिनों में कर सकते हैं। उन तीनों ने एक साथ कार्य शुरू किया लेकिन कार्य पूरा होने से 2 दिन पहले C2 ने कार्य छोड़ दिया। कार्य कितने दिनों में पूरा हुआ?

- Ans
- ✗ 1. (17/3) दिन
 - ✗ 2. (12/5) दिन
 - ✓ 3. (14/3) दिन
 - ✗ 4. (18/5) दिन

Question Type : MCQ

Question ID : 264330137604

Option 1 ID : 264330539024

Option 2 ID : 264330539025

Option 3 ID : 264330539026

Option 4 ID : 264330539023

Status : Answered

Chosen Option : 3

Q.19 यदि Rs. 4200 को A, B और C के बीच इस प्रकार बाँटा जाता है कि $A : B = 2 : 3$ और $B : C = 6 : 5$ है, तो B का हिस्सा ज्ञात कीजिए।

- Ans
- 1. Rs.1770
 - 2. Rs.1680
 - 3. Rs.1800
 - 4. Rs.1550

Question Type : MCQ

Question ID : 264330135378

Option 1 ID : 264330530419

Option 2 ID : 264330530420

Option 3 ID : 264330530422

Option 4 ID : 264330530421

Status : Answered

Chosen Option : 2

Q.20 Rs. 64000 की धनराशि पर 5% वार्षिक दर पर 2 वर्षों के लिए वार्षिक रूप से संयोजित चक्रवृद्धि ब्याज कितना होगा?

- Ans
- 1. Rs. 4580
 - 2. Rs. 6560
 - 3. Rs. 8550
 - 4. Rs. 3050

Question Type : MCQ

Question ID : 264330138447

Option 1 ID : 264330542398

Option 2 ID : 264330542395

Option 3 ID : 264330542397

Option 4 ID : 264330542396

Status : Answered

Chosen Option : 2

Section : Reasoning Ability and Problem Solving

Q.1 उस विकल्प को चुनिए जिसमें समुच्चय की संख्याएँ वही संबंध साझा करती हैं जो दिए गए समुच्चय में संख्याओं द्वारा साझा किया जाता है। (ध्यान दें: संख्याओं को उनके घटक अंकों में अलग-अलग किए बिना, पूर्ण संख्याओं पर संक्रियाएँ की जानी चाहिए। उदा. 13 - 13 पर संक्रियाएँ जैसे 13 को जोड़ना /घटाना /गुणा करना आदि किया जा सकता है। 13 को 1 और 3 में अलग-अलग करने की और फिर 1 और 3 पर गणितीय संक्रियाएँ करने की अनुमति नहीं है)

(100, 150, 125)

(500, 400, 450)

- Ans
- 1. (200, 400, 300)
 - 2. (180, 140, 260)
 - 3. (14, 16, 28)
 - 4. (120, 100, 130)

Question Type : MCQ

Question ID : 264330135577

Option 1 ID : 264330531209

Option 2 ID : 264330531210

Option 3 ID : 264330531208

Option 4 ID : 264330531207

Status : Not Answered

Chosen Option : --

Q.2 उस विकल्प को चुनिए जो पाँचवें पद से ठीक उसी प्रकार संबंधित है जिस प्रकार दूसरा पद पहले पद से संबंधित है और चौथा पद तीसरे पद से संबंधित है।

K4N : P9N :: A5Z : B11D :: P6R : ?

- Ans 1. T13S
 2. R13T
 3. R13S
 4. S13T

Question Type : MCQ

Question ID : 264330135564

Option 1 ID : 264330531156

Option 2 ID : 264330531158

Option 3 ID : 264330531157

Option 4 ID : 264330531155

Status : Not Answered

Chosen Option : --

Q.3 निम्नलिखित प्रश्न में, दी गई श्रृंखला में लुप्त संख्या को चुनिए।

10, 9, 17, -10, 54, ?

- Ans 1. -82
 2. -71
 3. -67
 4. -103

Question Type : MCQ

Question ID : 264330135575

Option 1 ID : 264330531199

Option 2 ID : 264330531201

Option 3 ID : 264330531202

Option 4 ID : 264330531200

Status : Not Answered

Chosen Option : --

Q.4 Select the option that is related to the third word in the same way as the second word is related to the first word.

Garage : Bike :: Aquarium : ?

- Ans 1. Fish
 2. Rat
 3. Rabbit
 4. Sparrow

Question Type : MCQ

Question ID : 264330134955

Option 1 ID : 264330528757

Option 2 ID : 264330528755

Option 3 ID : 264330528756

Option 4 ID : 264330528758

Status : Answered

Chosen Option : 1

Q.5 एक निश्चित कूट भाषा में, 'CORRECT' को '3Q1818G320' लिखा जाता है। उस भाषा में 'WRONG' को कैसे लिखा जाएगा?

- Ans
- ✓ 1. 2318Q147
 - ✗ 2. 2218P147
 - ✗ 3. 2138Q741
 - ✗ 4. 2314Q147

Question Type : MCQ
Question ID : 264330133530
Option 1 ID : 264330523151
Option 2 ID : 264330523153
Option 3 ID : 264330523154
Option 4 ID : 264330523152
Status : Answered
Chosen Option : 1

Q.6 सात कर्मचारी राहुल, राम, रमेश, सोहन, साहिल, अनिल और सोनू एक वृत्ताकार मेज के चारों ओर केंद्र की ओर मुख करके बैठे हैं (परंतु जरूरी नहीं कि वे इसी क्रम में बैठे हों)। अनिल, राम और सोनू दोनों का निकटतम पड़ोसी है। राम, साहिल के दाईं ओर से दूसरे स्थान पर है। राहुल, साहिल और सोहन दोनों का निकटतम पड़ोसी है। राहुल के बाईं ओर से दूसरे स्थान पर कौन है?

- Ans
- ✗ 1. रमेश
 - ✗ 2. राम
 - ✗ 3. अनिल
 - ✓ 4. सोनू

Question Type : MCQ
Question ID : 264330135570
Option 1 ID : 264330531179
Option 2 ID : 264330531180
Option 3 ID : 264330531182
Option 4 ID : 264330531181
Status : Answered
Chosen Option : 1

Q.7 उस विकल्प को चुनिए जो चौथे पद से ठीक उसी प्रकार संबंधित है जिस प्रकार पहला पद दूसरे पद से संबंधित है और पाँचवाँ पद छठवें पद से संबंधित है।

FAR : HDT :: ? : ODD :: PQR : RTT

- Ans
- ✗ 1. NBB
 - ✗ 2. NAB
 - ✓ 3. MAB
 - ✗ 4. MAC

Question Type : MCQ
Question ID : 264330135563
Option 1 ID : 264330531153
Option 2 ID : 264330531151
Option 3 ID : 264330531154
Option 4 ID : 264330531152
Status : Answered
Chosen Option : 3

Q.8 छः लड़कियाँ मानसी, श्वेता, मोनिका, पायल, आरती और काजल एक वृत्ताकार मेज के चारों ओर केंद्र की ओर मुख करके बैठी हैं(परंतु जरूरी नहीं कि वे इसी क्रम में बैठी हों)। काजल, मानसी के ठीक बाईं ओर है। श्वेता, मानसी के बाईं ओर से तीसरे स्थान पर है। पायल, काजल के दाईं ओर से दूसरे स्थान पर है। मोनिका, मानसी के बाईं ओर से दूसरे स्थान पर नहीं है। आरती की दाईं ओर से चौथे स्थान पर कौन है?

- Ans
- 1. काजल
 - 2. मोनिका
 - 3. श्वेता
 - 4. पायल

Question Type : MCQ

Question ID : 264330135569

Option 1 ID : 264330531178

Option 2 ID : 264330531176

Option 3 ID : 264330531175

Option 4 ID : 264330531177

Status : Answered

Chosen Option : 2

Q.9 एक श्रृंखला दी गई है जिसमें एक पद लुप्त है। दिए गए विकल्पों में से उस सही विकल्प को चुनिए जो श्रृंखला को पूरा करेगा।

PV, RZ, TD, ?, XL

- Ans
- 1. VG
 - 2. UG
 - 3. VH
 - 4. UH

Question Type : MCQ

Question ID : 264330135561

Option 1 ID : 264330531143

Option 2 ID : 264330531144

Option 3 ID : 264330531146

Option 4 ID : 264330531145

Status : Answered

Chosen Option : 3

Q.10 यदि एक दर्पण को रेखा AB पर रखा जाए, तो दिए गए विकल्पों में से कौन-सी आकृति प्रश्न आकृति का सही प्रतिबिम्ब होगी?

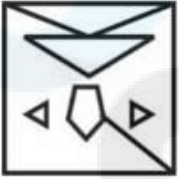


Ans

✓ 1.



✗ 2.



✗ 3.



✗ 4.



Question Type : MCQ

Question ID : 264330135581

Option 1 ID : 264330531224

Option 2 ID : 264330531226

Option 3 ID : 264330531223

Option 4 ID : 264330531225

Status : Answered

Chosen Option : 1

Q.11 किसी एक खास कूट भाषा में, 'ZEBRA' को 'YDAQZ' लिखा जाता है। उस कूट भाषा में 'HORSE' को कैसे लिखा जाएगा?

Ans

✓ 1. GNQRD

✗ 2. GNRQA

✗ 3. GNQRS

✗ 4. GQDRE

Question Type : MCQ

Question ID : 264330133325

Option 1 ID : 264330522337

Option 2 ID : 264330522335

Option 3 ID : 264330522338

Option 4 ID : 264330522336

Status : Answered

Chosen Option : 1

Q.12 निम्नलिखित प्रश्न में, दी गई श्रृंखला में लुप्त संख्या को चुनिए ।

44, 20, -4, ?, -52, -76

Ans 1. -10

2. -28

3. -20

4. 0

Question Type : MCQ

Question ID : 264330138552

Option 1 ID : 264330542817

Option 2 ID : 264330542816

Option 3 ID : 264330542815

Option 4 ID : 264330542818

Status : Answered

Chosen Option : 2

Q.13 एक निश्चित कूट भाषा में, 'JUNO' को '1356' लिखा जाता है और 'HATE' को '8125' लिखा जाता है। उस भाषा में 'TOWER' को कैसे लिखा जाएगा?

Ans 1. 26559

2. 25659

3. 26569

4. 26659

Question Type : MCQ

Question ID : 264330134961

Option 1 ID : 264330528781

Option 2 ID : 264330528779

Option 3 ID : 264330528780

Option 4 ID : 264330528782

Status : Answered

Chosen Option : 1

Q.14 निम्नलिखित प्रश्न में कुछ कथन दिए गए हैं और उन कथनों के आधार पर कुछ निष्कर्ष दिए गए हैं। आपको यह मानना है कि दिए गए कथन सत्य हैं चाहे वे समान्यतः ज्ञात तथ्यों से अलग प्रतीत होते हों। सभी निष्कर्षों को पढ़िए और फिर निश्चय कीजिए कि दिए गए निष्कर्षों में से कौन-सा निष्कर्ष तार्किक रूप से दिए गए कथनों के अनुसार है।

कथन:

I. कोई चूहा, गाय नहीं है।

II. कुछ जानवर, चूहे हैं।

निष्कर्ष:

I. कुछ जानवर, गाय हैं।

II. कुछ गाय, चूहे नहीं हैं।

III. सभी चूहे, जानवर हैं।

Ans 1. दोनों निष्कर्ष I और II कथनों के अनुसार हैं

2. केवल निष्कर्ष II कथनों के अनुसार है

3. कोई भी निष्कर्ष कथनों के अनुसार नहीं है

4. दोनों निष्कर्ष I और III कथनों के अनुसार हैं

Question Type : MCQ

Question ID : 264330135573

Option 1 ID : 264330531193

Option 2 ID : 264330531192

Option 3 ID : 264330531194

Option 4 ID : 264330531191

Status : Answered

Chosen Option : 1

Q.15 किन दो संख्याओं को आपस में बदलने पर, दिए गए समीकरण का मान '5' होगा?

$$7 - 3 \div 9 \times 2 + 4$$

Ans 1. 7 और 4

2. 3 और 9

3. 4 और 2

4. 2 और 9

Question Type : MCQ

Question ID : 264330135578

Option 1 ID : 264330531211

Option 2 ID : 264330531214

Option 3 ID : 264330531213

Option 4 ID : 264330531212

Status : Answered

Chosen Option : 2

Q.16 निम्नलिखित प्रश्न में कुछ कथन दिए गए हैं और उन कथनों के आधार पर कुछ निष्कर्ष दिए गए हैं। आपको यह मानना है कि दिए गए कथन सत्य हैं चाहे वे समान्यतः ज्ञात तथ्यों से अलग प्रतीत होते हों। सभी निष्कर्षों को पढ़िए और फिर निश्चय कीजिए कि दिए गए निष्कर्षों में से कौन-सा निष्कर्ष तार्किक रूप से दिए गए कथनों के अनुसार है।

कथन:

I. सभी L, P हैं।

II. सभी P, V हैं।

निष्कर्ष:

I. कुछ L, V हैं।

II. कोई V, L नहीं है।

Ans

- ✓ 1. केवल निष्कर्ष I कथनों के अनुसार है
- ✗ 2. कोई भी निष्कर्ष कथनों के अनुसार नहीं है
- ✗ 3. दोनों निष्कर्ष I और II कथनों के अनुसार हैं
- ✗ 4. केवल निष्कर्ष II कथनों के अनुसार है

Question Type : MCQ

Question ID : 264330135572

Option 1 ID : 264330531187

Option 2 ID : 264330531190

Option 3 ID : 264330531189

Option 4 ID : 264330531188

Status : Answered

Chosen Option : 1

Q.17 उस विकल्प आकृति को चुनिए जिसमें दी गई आकृति निहित है। (घूर्णन की अनुमति नहीं है)



Ans

✓ 1.



✗ 2.



✗ 3.



✗ 4.



Question Type : MCQ

Question ID : 264330135580

Option 1 ID : 264330531219

Option 2 ID : 264330531222

Option 3 ID : 264330531220

Option 4 ID : 264330531221

Status : Answered

Chosen Option : 1

Q.18 एक निश्चित कूट भाषा में, 'DOGS' को '5279' लिखा जाता है, 'DRAW' को '1032' लिखा जाता है, 'DOWN' को '8205' लिखा जाता है। उस कूट भाषा में 'S' को कैसे लिखा जाएगा?

Ans ✗ 1. 5

✗ 2. 0

✗ 3. 2

✓ 4. 7

Question Type : MCQ

Question ID : 264330138608

Option 1 ID : 264330543039

Option 2 ID : 264330543041

Option 3 ID : 264330543040

Option 4 ID : 264330543042

Status : Answered

Chosen Option : 4

Q.19 कौन-सी उत्तर आकृति प्रश्न आकृति में दिए गए पैटर्न को पूरा करेगी?



Ans

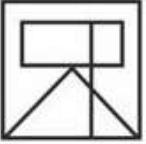
✗ 1.



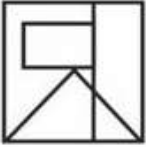
✓ 2.



✗ 3.



✗ 4.



Question Type : MCQ

Question ID : 264330135582

Option 1 ID : 264330531229

Option 2 ID : 264330531227

Option 3 ID : 264330531228

Option 4 ID : 264330531230

Status : Answered

Chosen Option : 2

Q.20 पाँच पार्किंग क्षेत्रों S1, S2, S3, S4 और S5 में खड़े ट्रकों की संख्या की तुलना की जाती है। S3 में खड़े ट्रकों की संख्या केवल S2 से अधिक है। S5 में खड़े ट्रकों की संख्या केवल S1 से कम है। यदि पार्किंग क्षेत्र S3 में खड़े ट्रकों की संख्या 1200 है, तो पार्किंग क्षेत्र S1 में कितने ट्रक खड़े किए जा सकते हैं?

Ans

✗ 1. 1197

✗ 2. 1154

✗ 3. 1184

✓ 4. 1346

Question Type : MCQ

Question ID : 264330135571

Option 1 ID : 264330531184

Option 2 ID : 264330531186

Option 3 ID : 264330531185

Option 4 ID : 264330531183

Status : Answered

Chosen Option : 4

Section : General Awareness

Q.1 निम्नलिखित में से किस सामाजिक धार्मिक समुदाय की स्थापना राजा राम मोहन राय ने की थी?

- Ans
- 1. आर्य समाज
 - 2. प्रार्थना समाज
 - 3. ब्रह्म समाज
 - 4. अकाली दल

Question Type : MCQ
Question ID : 264330133946
Option 1 ID : 264330524807
Option 2 ID : 264330524810
Option 3 ID : 264330524808
Option 4 ID : 264330524809
Status : Answered
Chosen Option : 3

Q.2 दिल्ली सल्तनत के दौरान, "उलेमा (Ulema)" शब्द का संबंध _____ से था।

- Ans
- 1. ग्राम राजस्व अधिकारी
 - 2. प्रमुख कमांडर
 - 3. डाक अधिकारी
 - 4. विद्वान धर्मशास्त्री और न्याय-शास्त्री

Question Type : MCQ
Question ID : 264330138343
Option 1 ID : 264330541979
Option 2 ID : 264330541981
Option 3 ID : 264330541980
Option 4 ID : 264330541982
Status : Answered
Chosen Option : 4

Q.3 2008-2010 की मंदी के कारण हुई बेरोजगारी निम्न में से किस प्रकार की बेरोजगारी का उदाहरण है?

- Ans
- 1. शास्त्रीय
 - 2. संरचनात्मक
 - 3. चक्रीय
 - 4. प्रतिरोधात्मक

Question Type : MCQ
Question ID : 264330134018
Option 1 ID : 264330525097
Option 2 ID : 264330525095
Option 3 ID : 264330525096
Option 4 ID : 264330525098
Status : Answered
Chosen Option : 3

Q.4 कौन-सा पादप ऊतक मृदा से जल और खनिज पोषकों को तनों और पत्तियों तक पहुँचाने के लिए उत्तरदायी है?

Ans

- 1. पैरेन्काइमा
- 2. कोलेन्काइमा
- 3. फ्लोएम
- 4. जाइलम

Question Type : MCQ

Question ID : 264330135440

Option 1 ID : 264330530668

Option 2 ID : 264330530670

Option 3 ID : 264330530669

Option 4 ID : 264330530667

Status : Answered

Chosen Option : 4

Q.5 किसी अम्ल और किसी क्षारक के बीच होने वाली अभिक्रिया _____ कहलाती है।

Ans

- 1. ऑक्सीकरण अभिक्रिया (Oxidation reaction)
- 2. संघनन अभिक्रिया (Condensation reaction)
- 3. उदासीनीकरण अभिक्रिया (Neutralisation reaction)
- 4. उप-परिवर्तन अभिक्रिया (Sub-alteration reaction)

Question Type : MCQ

Question ID : 264330138337

Option 1 ID : 264330541956

Option 2 ID : 264330541958

Option 3 ID : 264330541955

Option 4 ID : 264330541957

Status : Answered

Chosen Option : 3

Q.6 कर्नाटक के गुलबर्गा में स्थित बहमनी स्मारक, वास्तुकला की _____ शैली को दर्शाते हैं।

Ans

- 1. मामलुक
- 2. दक्कन
- 3. नागर
- 4. सिख

Question Type : MCQ

Question ID : 264330133935

Option 1 ID : 264330524763

Option 2 ID : 264330524765

Option 3 ID : 264330524764

Option 4 ID : 264330524766

Status : Answered

Chosen Option : 2

Q.7 'ए लाइफ ऑफ द जीनियस: द मैन व्हू न्यू इनफिनिटी (A Life of the Genius: The Man Who Knew Infinity)' भारतीय गणितज्ञ _____ की जीवनी है।

- Ans
- ✓ 1. श्रीनिवास रामानुजन
 - ✗ 2. आर्यभट्ट
 - ✗ 3. नीना गुप्ता
 - ✗ 4. आचार्य पिंगला

Question Type : MCQ
Question ID : 264330133665
Option 1 ID : 264330523683
Option 2 ID : 264330523684
Option 3 ID : 264330523685
Option 4 ID : 264330523686
Status : Answered
Chosen Option : 1

Q.8 किस केंद्र शासित प्रदेश का अपना एक उच्च न्यायालय है?

- Ans
- ✗ 1. दादरा और नगर हवेली
 - ✗ 2. चंडीगढ़
 - ✓ 3. दिल्ली
 - ✗ 4. अंडमान और निकोबार द्वीप समूह

Question Type : MCQ
Question ID : 264330135455
Option 1 ID : 264330530727
Option 2 ID : 264330530730
Option 3 ID : 264330530729
Option 4 ID : 264330530728
Status : Answered
Chosen Option : 3

Q.9 दुनिया में सबसे पुराना टेनिस टूर्नामेंट कौन-सा है?

- Ans
- ✗ 1. फ्रेंच ओपन
 - ✗ 2. ऑस्ट्रेलियन ओपन
 - ✗ 3. यू.एस. ओपन
 - ✓ 4. विंबलडन

Question Type : MCQ
Question ID : 264330138325
Option 1 ID : 264330541907
Option 2 ID : 264330541910
Option 3 ID : 264330541909
Option 4 ID : 264330541908
Status : Answered
Chosen Option : 4

Q.10 रुक्मिणी देवी अरुंडेल किस नृत्य शैली की प्रसिद्ध नृत्यांगना थीं?

- Ans
- 1. मोहिनीअट्टम
 - 2. भरतनाट्यम
 - 3. कथकली
 - 4. कुचिपुड़ी

Question Type : MCQ
Question ID : 264330135436
Option 1 ID : 264330530653
Option 2 ID : 264330530654
Option 3 ID : 264330530651
Option 4 ID : 264330530652
Status : Answered
Chosen Option : 4

Q.11 निम्नलिखित में से कौन-सा भारत के संविधान में एक मौलिक अधिकार है?

- Ans
- 1. मताधिकार (Right to Vote)
 - 2. अवसरों का अधिकार (Right to Opportunities)
 - 3. स्वतंत्रता का अधिकार (Right to Freedom)
 - 4. रोजगार का अधिकार (Right to Work)

Question Type : MCQ
Question ID : 264330135454
Option 1 ID : 264330530726
Option 2 ID : 264330530724
Option 3 ID : 264330530723
Option 4 ID : 264330530725
Status : Answered
Chosen Option : 3

Q.12 निम्न में से कौन-सा फसल कटाई त्योहार प्रसिद्ध रूप से असम में मनाया जाता है?

- Ans
- 1. भोगाली बिहू
 - 2. ओणम
 - 3. लोहड़ी
 - 4. मकर संक्रांति

Question Type : MCQ
Question ID : 264330135437
Option 1 ID : 264330530655
Option 2 ID : 264330530658
Option 3 ID : 264330530656
Option 4 ID : 264330530657
Status : Answered
Chosen Option : 1

Q.13 वर्ष 1947 में जब भारत में ब्रिटिश शासन समाप्त हुआ तो साक्षरता दर सिर्फ _____ थी।

- Ans
- ✓ 1. 12 प्रतिशत
 - ✗ 2. 22 प्रतिशत
 - ✗ 3. 18 प्रतिशत
 - ✗ 4. 20 प्रतिशत

Question Type : MCQ
Question ID : 264330137955
Option 1 ID : 264330540428
Option 2 ID : 264330540430
Option 3 ID : 264330540429
Option 4 ID : 264330540427
Status : Answered
Chosen Option : 2

Q.14 नेशनल इंस्टीट्यूट ऑफ इंडियन क्लासिकल डांस (National Institute of Indian Classical Dance) द्वारा 2021 का प्रतिष्ठित अभिनंदन सरोजा राष्ट्रीय पुरस्कार किसे दिया गया?

- Ans
- ✗ 1. सरोज खान
 - ✗ 2. पंडित बिरजू महाराज
 - ✗ 3. श्रीमंत शंकरदेव
 - ✓ 4. अपर्णा सतीसन (Aparna Satheesan)

Question Type : MCQ
Question ID : 264330133667
Option 1 ID : 264330523693
Option 2 ID : 264330523694
Option 3 ID : 264330523691
Option 4 ID : 264330523692
Status : Answered
Chosen Option : 4

Q.15 उस्ताद शफात अहमद खान निम्नलिखित में से किस वाद्य यंत्र के लिए प्रसिद्ध थे?

- Ans
- ✗ 1. हरमोनियम
 - ✓ 2. तबला
 - ✗ 3. वायलिन
 - ✗ 4. रुद्र वीणा

Question Type : MCQ
Question ID : 264330135452
Option 1 ID : 264330530717
Option 2 ID : 264330530715
Option 3 ID : 264330530716
Option 4 ID : 264330530718
Status : Answered
Chosen Option : 4

Q.16 हर्षवर्धन के दरबारी कवि कौन थे?

- Ans
- 1. हेम सरस्वती
 - 2. श्री पोन्ना
 - 3. बाणभट्ट
 - 4. परमानन्द

Question Type : MCQ
Question ID : 264330135447
Option 1 ID : 264330530697
Option 2 ID : 264330530696
Option 3 ID : 264330530698
Option 4 ID : 264330530695
Status : Answered
Chosen Option : 3

Q.17 जो बल पृथ्वी के आंतरिक भाग में घटित होते हैं उन्हें _____ कहते हैं।

- Ans
- 1. बहिर्जनिक बल
 - 2. गुरुत्वाकर्षण बल
 - 3. अंतर्जनित बल
 - 4. घर्षण बल

Question Type : MCQ
Question ID : 264330138336
Option 1 ID : 264330541951
Option 2 ID : 264330541953
Option 3 ID : 264330541952
Option 4 ID : 264330541954
Status : Answered
Chosen Option : 3

Q.18 सर्वप्रथम कॉक की कोशिकाओं की खोज _____ ने 1665 में की।

- Ans
- 1. एडवर्ड जेनर (Edward Jenner)
 - 2. रॉबर्ट हुक (Robert Hooke)
 - 3. थियोफ्रेस्टस (Theophrastus)
 - 4. एंटोनी वॉन ल्यूवेनहुक (Anton van Leeuwenhoek)

Question Type : MCQ
Question ID : 264330138335
Option 1 ID : 264330541948
Option 2 ID : 264330541947
Option 3 ID : 264330541950
Option 4 ID : 264330541949
Status : Answered
Chosen Option : 4

Q.19 चुनाव कानून (संशोधन) विधेयक, 2021 भारत के _____ मंत्रालय से संबंधित है।

- Ans
- ✓ 1. कानून और न्याय
 - ✗ 2. पृथ्वी विज्ञान
 - ✗ 3. जनजातीय कार्य
 - ✗ 4. गृह मंत्रालय

Question Type : MCQ
Question ID : 264330133932
Option 1 ID : 264330524754
Option 2 ID : 264330524753
Option 3 ID : 264330524752
Option 4 ID : 264330524751
Status : Answered
Chosen Option : 1

Q.20 प्रार्थना समाज के संस्थापक कौन थे?

- Ans
- ✗ 1. तुलसी राम
 - ✓ 2. आत्माराम पांडुरंग
 - ✗ 3. राम सिंह
 - ✗ 4. स्वामी विवेकानंद

Question Type : MCQ
Question ID : 264330135450
Option 1 ID : 264330530710
Option 2 ID : 264330530707
Option 3 ID : 264330530709
Option 4 ID : 264330530708
Status : Answered
Chosen Option : 2

Q.21 किस राज्य सरकार ने "पंचामृत योजना (Panchamrut Yojana)" शुरू की है?

- Ans
- ✗ 1. कर्नाटक
 - ✓ 2. उत्तरप्रदेश
 - ✗ 3. उड़ीसा
 - ✗ 4. पश्चिम बंगाल

Question Type : MCQ
Question ID : 264330135434
Option 1 ID : 264330530646
Option 2 ID : 264330530643
Option 3 ID : 264330530645
Option 4 ID : 264330530644
Status : Answered
Chosen Option : 3

Q.22 सरकार का हस्तक्षेप, चाहे वह माँग का विस्तार करने के लिए हो अथवा इसे कम करने के लिए _____ कहलाता है।

- Ans
- 1. व्यय कार्य (expenditure function)
 - 2. संक्रमण कार्य (transition function)
 - 3. पुनर्वितरण कार्य (redistribution function)
 - 4. स्थिरीकरण कार्य (stabilisation function)

Question Type : MCQ

Question ID : 264330133672

Option 1 ID : 264330523712

Option 2 ID : 264330523714

Option 3 ID : 264330523713

Option 4 ID : 264330523711

Status : Answered

Chosen Option : 4

Q.23 एक हॉकी टीम में मैदान पर कितने खिलाड़ी (field players) होते हैं?

- Ans
- 1. 14
 - 2. 7
 - 3. 9
 - 4. 11

Question Type : MCQ

Question ID : 264330135456

Option 1 ID : 264330530731

Option 2 ID : 264330530733

Option 3 ID : 264330530734

Option 4 ID : 264330530732

Status : Answered

Chosen Option : 4

Q.24 किस नदी को दक्षिण गंगा के नाम से भी जाना जाता है?

- Ans
- 1. कृष्णा
 - 2. गोदावरी
 - 3. कावेरी
 - 4. तुंगभद्रा

Question Type : MCQ

Question ID : 264330135444

Option 1 ID : 264330530683

Option 2 ID : 264330530686

Option 3 ID : 264330530684

Option 4 ID : 264330530685

Status : Answered

Chosen Option : 2

Q.25 गोरखपुर भारत के _____ रेलवे का मुख्यालय है।

- Ans
- 1. पूर्वी
 - 2. पश्चिमी
 - 3. उत्तर-पूर्वी
 - 4. उत्तरी

Question Type : MCQ
Question ID : 264330133657
Option 1 ID : 264330523654
Option 2 ID : 264330523653
Option 3 ID : 264330523652
Option 4 ID : 264330523651
Status : Answered
Chosen Option : 1

Section : English Language and Comprehension

Q.1 Choose the incorrectly spelt word.

- Ans
- 1. Start
 - 2. Discribe
 - 3. Melting
 - 4. Advance

Question Type : MCQ
Question ID : 264330135200
Option 1 ID : 264330529730
Option 2 ID : 264330529727
Option 3 ID : 264330529728
Option 4 ID : 264330529729
Status : Answered
Chosen Option : 2

Q.2 In the following question, out of the given four alternatives, select the alternative which best expresses the meaning of the Idiom/Phrase.

Out of the woods

- Ans
- 1. Out of danger
 - 2. To meet with disaster
 - 3. Not adhering to rules
 - 4. To lose contact

Question Type : MCQ
Question ID : 264330135199
Option 1 ID : 264330529724
Option 2 ID : 264330529725
Option 3 ID : 264330529726
Option 4 ID : 264330529723
Status : Answered
Chosen Option : 3

Q.3 Choose the sentence with no spelling error.

- Ans
- 1. Servise industries rely on a set of processes.
 - 2. Service industreis relie on a set of processes.
 - 3. Service industries rely on a set of processes.
 - 4. Service industries rely on a set of procesces.

Question Type : MCQ
Question ID : 264330135201
Option 1 ID : 264330529734
Option 2 ID : 264330529733
Option 3 ID : 264330529732
Option 4 ID : 264330529731
Status : Answered
Chosen Option : 3

Q.4 Select the most appropriate option to fill in the blank.

We didn't mean to _____ all of you waiting.

- Ans
- 1. make
 - 2. seep
 - 3. creep
 - 4. keep

Question Type : MCQ
Question ID : 264330135202
Option 1 ID : 264330529738
Option 2 ID : 264330529737
Option 3 ID : 264330529736
Option 4 ID : 264330529735
Status : Answered
Chosen Option : 4

Q.5 Select the word segment that substitutes (replaces) the bracketed word segment correctly and completes the sentence meaningfully. Select the option 'no correction required' if the sentence is correct as given.

Now, (how much autograph) would you like? I can do joined-up writing now, you know!

- Ans
- 1. how much many autographs
 - 2. how many autographs
 - 3. how most autographs
 - 4. No correction required

Question Type : MCQ
Question ID : 264330136387
Option 1 ID : 264330534317
Option 2 ID : 264330534315
Option 3 ID : 264330534316
Option 4 ID : 264330534318
Status : Answered
Chosen Option : 2

Q.6 Select the most appropriate meaning of the given idiom.

Buy a lemon

- Ans
- 1. To buy something that is worthless
 - 2. The ability to know what's happening
 - 3. To not complain
 - 4. Wear fashionable clothing

Question Type : MCQ
Question ID : 264330136711
Option 1 ID : 264330535556
Option 2 ID : 264330535555
Option 3 ID : 264330535558
Option 4 ID : 264330535557
Status : Answered
Chosen Option : 1

Q.7 Find the part of the given sentence that has an error in it. If there is no error, choose 'No error'.

Some plants secrete oils during dry periods, and when it rains, these oils are released on the air.

- Ans
- 1. Some plants secrete oils during
 - 2. dry periods, and when it rains,
 - 3. these oils are released on the air.
 - 4. No error

Question Type : MCQ
Question ID : 264330135180
Option 1 ID : 264330529651
Option 2 ID : 264330529652
Option 3 ID : 264330529653
Option 4 ID : 264330529654
Status : Answered
Chosen Option : 3

Q.8 Improve the underlined part of the sentence. Choose 'No improvement' as an answer if the sentence is grammatically correct.

The water leaked in with a hole in the roof.

- Ans
- 1. through a holes
 - 2. through a hole
 - 3. by a holed
 - 4. No improvement

Question Type : MCQ
Question ID : 264330134480
Option 1 ID : 264330526887
Option 2 ID : 264330526888
Option 3 ID : 264330526889
Option 4 ID : 264330526890
Status : Answered
Chosen Option : 2

Q.9 Select the most appropriate option to fill in the blank.

Everyone who studies forests knows trees have been dying in large and _____ numbers.

- Ans
- 1. scanty
 - 2. massive
 - 3. minority
 - 4. peculiar

Question Type : **MCQ**
Question ID : **264330135203**
Option 1 ID : **264330529741**
Option 2 ID : **264330529742**
Option 3 ID : **264330529740**
Option 4 ID : **264330529739**
Status : **Answered**
Chosen Option : **2**

Q.10 Select the appropriate synonym for the underlined word.

He wasn't entirely convinced.

- Ans
- 1. doubting
 - 2. trustless
 - 3. submerged
 - 4. accepting

Question Type : **MCQ**
Question ID : **264330135194**
Option 1 ID : **264330529706**
Option 2 ID : **264330529704**
Option 3 ID : **264330529703**
Option 4 ID : **264330529705**
Status : **Answered**
Chosen Option : **4**

Q.11 A sentence has been given with a blank to be filled with an appropriate option. Choose the correct alternative.

Air Travel is the _____ growing emitter of climate change gases.

- Ans
- 1. fast
 - 2. fasting
 - 3. fastest
 - 4. fastly

Question Type : **MCQ**
Question ID : **264330135184**
Option 1 ID : **264330529670**
Option 2 ID : **264330529667**
Option 3 ID : **264330529668**
Option 4 ID : **264330529669**
Status : **Answered**
Chosen Option : **3**

Q.12 Choose the word that means the same as the given word.

Valiance

- Ans
- 1. Cravenness
 - 2. Patience
 - 3. Gallantry
 - 4. Dastardliness

Question Type : MCQ
Question ID : 264330135221
Option 1 ID : 264330529809
Option 2 ID : 264330529807
Option 3 ID : 264330529810
Option 4 ID : 264330529808
Status : Answered
Chosen Option : 3

Q.13 Choose the word that can substitute the given group of words.

A diagram showing the path of planets

- Ans
- 1. Platitude
 - 2. Horoscope
 - 3. Zodiac
 - 4. Planetarium

Question Type : MCQ
Question ID : 264330135193
Option 1 ID : 264330529701
Option 2 ID : 264330529702
Option 3 ID : 264330529700
Option 4 ID : 264330529699
Status : Answered
Chosen Option : 4

Q.14 Find the part of the given sentence that has an error in it. If there is no error, choose 'No error'.

Just because I am quiet doesn't mean I can't scold you.

- Ans
- 1. quiet doesn't mean
 - 2. Just because I am
 - 3. No error
 - 4. I can't scold you.

Question Type : MCQ
Question ID : 264330134346
Option 1 ID : 264330526372
Option 2 ID : 264330526371
Option 3 ID : 264330526374
Option 4 ID : 264330526373
Status : Answered
Chosen Option : 1

Q.15 Select the most appropriate word for the given group of words.

One who makes an active effort to promote human welfare

Ans ✓ 1. Philanthropist

✗ 2. Misogynist

✗ 3. Feminist

✗ 4. Sexist

Question Type : **MCQ**

Question ID : **264330136705**

Option 1 ID : **264330535533**

Option 2 ID : **264330535532**

Option 3 ID : **264330535531**

Option 4 ID : **264330535534**

Status : **Answered**

Chosen Option : **1**

Q.16 A sentence has been given with a blank to be filled with an appropriate option. Choose the correct alternative.

The home I _____ with my husband in 1986 still smelled like him.

Ans ✗ 1. shared

✓ 2. had shared

✗ 3. sharing

✗ 4. have shared

Question Type : **MCQ**

Question ID : **264330135211**

Option 1 ID : **264330529773**

Option 2 ID : **264330529774**

Option 3 ID : **264330529771**

Option 4 ID : **264330529772**

Status : **Answered**

Chosen Option : **2**

Q.17 Choose the word that is opposite in meaning to the given word.
Proceed

Ans ✗ 1. Wide

✓ 2. Withdraw

✗ 3. Local

✗ 4. Accidental

Question Type : **MCQ**

Question ID : **264330134416**

Option 1 ID : **264330526639**

Option 2 ID : **264330526641**

Option 3 ID : **264330526642**

Option 4 ID : **264330526640**

Status : **Answered**

Chosen Option : **2**

Q.18 Identify the segment that contains a grammatical error. If there is no error, select 'No error'.

Much of the art he / discusses is funny, playing / and mischievous.

- Ans**
- 1. No error
 - 2. Much of the art he
 - 3. and mischievous.
 - 4. discusses is funny, playing

Question Type : **MCQ**
Question ID : **264330136384**
Option 1 ID : **264330534306**
Option 2 ID : **264330534303**
Option 3 ID : **264330534305**
Option 4 ID : **264330534304**
Status : **Answered**
Chosen Option : **4**

Q.19 Improve the underlined part of the sentence. Choose 'No improvement' as an answer if the sentence is grammatically correct.

My parents used to encouraged me to devote more time to study.

- Ans**
- 1. encouraging me devoting
 - 2. encourages me to devote
 - 3. encourage me to devote
 - 4. No improvement

Question Type : **MCQ**
Question ID : **264330135209**
Option 1 ID : **264330529764**
Option 2 ID : **264330529763**
Option 3 ID : **264330529765**
Option 4 ID : **264330529766**
Status : **Answered**
Chosen Option : **3**

Q.20 Select the appropriate antonym for the underlined word.

A war has been unleashed on financial untouchability.

- Ans**
- 1. regarded
 - 2. unchained
 - 3. confined
 - 4. free

Question Type : **MCQ**
Question ID : **264330135197**
Option 1 ID : **264330529718**
Option 2 ID : **264330529715**
Option 3 ID : **264330529717**
Option 4 ID : **264330529716**
Status : **Answered**
Chosen Option : **3**

Comprehension:

In the following passage some of the words have been deleted. Read the passage carefully and select the correct answer for the given blank out of the four alternatives.

When Jane died (1) _____ 1850, she was called "one of the most distinguished novelists (2) _____ England has produced" and "the first who (3) _____ that beautiful kind of fiction, the historical romance." The Porter sisters' careers ended (4) _____ as the Brontë sisters were getting started in the early Victorian (5) _____.

SubQuestion No : 21

Q.21 Select the most appropriate option to fill in blank number 1.

- Ans 1. into
 2. in
 3. at
 4. on

Question Type : MCQ

Question ID : 264330134407

Option 1 ID : 264330526606

Option 2 ID : 264330526603

Option 3 ID : 264330526605

Option 4 ID : 264330526604

Status : Answered

Chosen Option : 2

Comprehension:

In the following passage some of the words have been deleted. Read the passage carefully and select the correct answer for the given blank out of the four alternatives.

When Jane died (1) _____ 1850, she was called "one of the most distinguished novelists (2) _____ England has produced" and "the first who (3) _____ that beautiful kind of fiction, the historical romance." The Porter sisters' careers ended (4) _____ as the Brontë sisters were getting started in the early Victorian (5) _____.

SubQuestion No : 22

Q.22 Select the most appropriate option to fill in blank number 2.

- Ans 1. who
 2. which
 3. what
 4. whose

Question Type : MCQ

Question ID : 264330134408

Option 1 ID : 264330526608

Option 2 ID : 264330526607

Option 3 ID : 264330526610

Option 4 ID : 264330526609

Status : Answered

Chosen Option : 2

Comprehension:

In the following passage some of the words have been deleted. Read the passage carefully and select the correct answer for the given blank out of the four alternatives.

When Jane died (1) _____ 1850, she was called "one of the most distinguished novelists (2) _____ England has produced" and "the first who (3) _____ that beautiful kind of fiction, the historical romance." The Porter sisters' careers ended (4) _____ as the Brontë sisters were getting started in the early Victorian (5) _____.

SubQuestion No : 23

Q.23 Select the most appropriate option to fill in blank number 3.

- Ans
- 1. dismissed
 - 2. energized
 - 3. introduced
 - 4. casted

Question Type : **MCQ**

Question ID : **264330134409**

Option 1 ID : **264330526614**

Option 2 ID : **264330526611**

Option 3 ID : **264330526612**

Option 4 ID : **264330526613**

Status : **Answered**

Chosen Option : **3**

Comprehension:

In the following passage some of the words have been deleted. Read the passage carefully and select the correct answer for the given blank out of the four alternatives.

When Jane died (1) _____ 1850, she was called "one of the most distinguished novelists (2) _____ England has produced" and "the first who (3) _____ that beautiful kind of fiction, the historical romance." The Porter sisters' careers ended (4) _____ as the Brontë sisters were getting started in the early Victorian (5) _____.

SubQuestion No : 24

Q.24 Select the most appropriate option to fill in blank number 4.

- Ans
- 1. lest
 - 2. just
 - 3. must
 - 4. that

Question Type : **MCQ**

Question ID : **264330134410**

Option 1 ID : **264330526618**

Option 2 ID : **264330526617**

Option 3 ID : **264330526616**

Option 4 ID : **264330526615**

Status : **Answered**

Chosen Option : **2**

Comprehension:

In the following passage some of the words have been deleted. Read the passage carefully and select the correct answer for the given blank out of the four alternatives.

When Jane died (1) _____ 1850, she was called "one of the most distinguished novelists (2) _____ England has produced" and "the first who (3) _____ that beautiful kind of fiction, the historical romance." The Porter sisters' careers ended (4) _____ as the Brontë sisters were getting started in the early Victorian (5) _____.

SubQuestion No : 25

Q.25 Select the most appropriate option to fill in blank number 5.

- Ans
- 1. spell
 - 2. session
 - 3. terms
 - 4. period

Question Type : **MCQ**

Question ID : **264330134411**

Option 1 ID : **264330526619**

Option 2 ID : **264330526621**

Option 3 ID : **264330526620**

Option 4 ID : **264330526622**

Status : **Answered**

Chosen Option : **4**