

Multi Tasking Non Technical Staff and Havaldar CBIC and CBN Examination 2022

Roll Number	
Candidate Name	
Venue Name	Allenhouse Informatics Center
Exam Date	03/05/2023
Exam Time	3:30 PM - 5:00 PM
Subject	MTS Non Tech Havaldar CBIC and CBN Examination 2022

Section : Numerical and Mathematical Ability

Q.1 एक निश्चित धनराशि पर 2 वर्षों में 3% वार्षिक दर पर साधारण ब्याज और चक्रवृद्धि ब्याज में 90 पैसे (paise) का अंतर है। वह धनराशि क्या है?

- Ans
- 1. Rs. 3000
 - 2. Rs. 9000
 - 3. Rs. 1000
 - 4. Rs. 5000

Question Type : MCQ

Question ID : 264330135121

Option 1 ID : 264330529421

Option 2 ID : 264330529420

Option 3 ID : 264330529419

Option 4 ID : 264330529422

Status : Answered

Chosen Option : 3

Q.2 निम्नलिखित तालिका में एक सप्ताह में चार अलग-अलग ब्रांड स्टोर में आने वाले खरीदारों की संख्या को दर्शाया गया है। इस सप्ताह के दौरान ब्रांड R के खरीदारों की संख्या, ब्रांड P के खरीदारों की संख्या से कितने प्रतिशत अधिक है?

Brand	Number of buyers
P	400
Q	530
R	415
S	310

Brand - ब्रांड, Number of buyers - खरीदारों की संख्या

- Ans
- 1. 2.25%
 - 2. 5.50%
 - 3. 3.75%
 - 4. 4.25%

Question Type : MCQ

Question ID : 264330138741

Option 1 ID : 264330543574

Option 2 ID : 264330543572

Option 3 ID : 264330543573

Option 4 ID : 264330543571

Status : Answered

Chosen Option : 3

Q.3 $841 + 6 \times 15 + 45\% \text{ of } 60$ का मान ज्ञात कीजिए:

Ans 1. 765

2. 888

3. 958

4. 654

Question Type : MCQ

Question ID : 264330135130

Option 1 ID : 264330529458

Option 2 ID : 264330529457

Option 3 ID : 264330529456

Option 4 ID : 264330529455

Status : Answered

Chosen Option : 3

Q.4 साजिद ने 60 km/hr की चाल से 6 घंटे और 50 km/hr की चाल से 4 घंटे गाड़ी चलाई। पूरी यात्रा के दौरान उसकी औसत चाल क्या थी?

Ans 1. 52 kmph

2. 58 kmph

3. 56 kmph

4. 54 kmph

Question Type : MCQ

Question ID : 264330141022

Option 1 ID : 264330552436

Option 2 ID : 264330552438

Option 3 ID : 264330552435

Option 4 ID : 264330552437

Status : Answered

Chosen Option : 3

Q.5 1.05 और 6.23 का महत्तम समापवर्तक (HCF) क्या है?

Ans 1. 0.21

2. 0.89

3. 0.35

4. 0.07

Question Type : MCQ

Question ID : 264330141021

Option 1 ID : 264330552433

Option 2 ID : 264330552432

Option 3 ID : 264330552434

Option 4 ID : 264330552431

Status : Answered

Chosen Option : 4

Q.6 एक उत्पाद, जिसका अंकित मूल्य Rs. 840 है, एक थोक व्यापारी द्वारा Rs. 798 में बेचा जाता है। व्यापारी द्वारा दिया गया बड़ा प्रतिशत क्या है?

- Ans
- 1. 6%
 - 2. 5%
 - 3. 4%
 - 4. 3%

Question Type : MCQ
Question ID : 264330135139
Option 1 ID : 264330529491
Option 2 ID : 264330529494
Option 3 ID : 264330529492
Option 4 ID : 264330529493
Status : Answered
Chosen Option : 2

Q.7 8, 14 और 24 का चतुर्थ समानुपाती ज्ञात कीजिए।

- Ans
- 1. 36
 - 2. 26
 - 3. 42
 - 4. 40

Question Type : MCQ
Question ID : 264330135141
Option 1 ID : 264330529502
Option 2 ID : 264330529499
Option 3 ID : 264330529501
Option 4 ID : 264330529500
Status : Answered
Chosen Option : 3

Q.8 अखिल ने 13 kg सेब Rs. 2,400 में खरीदे। उसने 7 kg सेब के विक्रय मूल्य के बराबर लाभ पर इन्हें बेच दिया। सेब का प्रति किलोग्राम विक्रय मूल्य ज्ञात कीजिए।

- Ans
- 1. Rs. 400
 - 2. Rs. 600
 - 3. Rs. 650
 - 4. Rs. 350

Question Type : MCQ
Question ID : 264330135138
Option 1 ID : 264330529488
Option 2 ID : 264330529487
Option 3 ID : 264330529489
Option 4 ID : 264330529490
Status : Answered
Chosen Option : 1

Q.9 एक बेलन और शंकु की विज्याओं का अनुपात 3:1 है। यदि उनकी ऊँचाइयाँ बराबर हैं, तो उनके आयतनों का अनुपात क्या है?

Ans 1. 27:1

2. 9:1

3. 1:9

4. 1:3

Question Type : MCQ

Question ID : 264330138367

Option 1 ID : 264330542075

Option 2 ID : 264330542077

Option 3 ID : 264330542078

Option 4 ID : 264330542076

Status : Answered

Chosen Option : 1

Q.10 A अकेले किसी कार्य का आधा भाग 150 दिनों में पूरा कर सकता है। 50 दिनों में, A द्वारा कितने प्रतिशत कार्य पूरा किया जाएगा?

Ans 1. 15 प्रतिशत

2. 16.67 प्रतिशत

3. 22.5 प्रतिशत

4. 20 प्रतिशत

Question Type : MCQ

Question ID : 264330135042

Option 1 ID : 264330529106

Option 2 ID : 264330529105

Option 3 ID : 264330529103

Option 4 ID : 264330529104

Status : Answered

Chosen Option : 2

Q.11 यदि ब्याज अर्धवार्षिक रूप से संयोजित किया जा रहा है, तो कितनी राशि चक्रवृद्धि ब्याज पर 40 प्रतिशत वार्षिक दर से 2 वर्ष में Rs. 51840 हो जाएगी।

Ans 1. Rs.20000

2. Rs.15000

3. Rs.25000

4. Rs.30000

Question Type : MCQ

Question ID : 264330137186

Option 1 ID : 264330537388

Option 2 ID : 264330537387

Option 3 ID : 264330537389

Option 4 ID : 264330537390

Status : Answered

Chosen Option : 3

Q.12

$\left[\frac{1}{4} \text{ of } 18 \div \frac{6}{5} + \left(\frac{1}{8} + \frac{7}{4} \right) \right] \times \frac{1}{15}$ का मान है:

- Ans
- 1. 4/5
 - 2. 5/8
 - 3. 6/7
 - 4. 3/8

Question Type : MCQ

Question ID : 264330138725

Option 1 ID : 264330543508

Option 2 ID : 264330543510

Option 3 ID : 264330543509

Option 4 ID : 264330543507

Status : Answered

Chosen Option : 1

Q.13 स्थिर जल में एक नाव की चाल 17 km/hr है और धारा की चाल 11 km/hr है। नाव की धारा के प्रतिकूल चाल और धारा के अनुकूल चाल के बीच का अंतर ज्ञात कीजिए।

- Ans
- 1. 21 km/hr
 - 2. 18 km/hr
 - 3. 28 km/hr
 - 4. 22 km/hr

Question Type : MCQ

Question ID : 264330135144

Option 1 ID : 264330529511

Option 2 ID : 264330529514

Option 3 ID : 264330529513

Option 4 ID : 264330529512

Status : Answered

Chosen Option : 4

Q.14 संख्या A और B का औसत 16 है। संख्या B और C का औसत 40 है। संख्या C और A में कितना अंतर है?

- Ans
- 1. 48
 - 2. 12
 - 3. 66
 - 4. 80

Question Type : MCQ

Question ID : 264330135133

Option 1 ID : 264330529470

Option 2 ID : 264330529469

Option 3 ID : 264330529467

Option 4 ID : 264330529468

Status : Answered

Chosen Option : 1

Q.15 a:b = 5:8 और b:c = 2:6, यदि a = 25 है, तो c का मान ज्ञात कीजिए।

- Ans
- 1. 90
 - 2. 140
 - 3. 120
 - 4. 96

Question Type : MCQ
Question ID : 264330135140
Option 1 ID : 264330529496
Option 2 ID : 264330529498
Option 3 ID : 264330529495
Option 4 ID : 264330529497
Status : Answered
Chosen Option : 3

Q.16 D अकेले किसी कार्य को 20 दिनों में कर सकता है और E अकेले उसी कार्य को 25 दिनों में कर सकता है। यदि वे 8 दिनों तक साथ मिलकर कार्य करते हैं, तो शेष रह गए कार्य का अंश है:

- Ans
- 1. 7/25
 - 2. 9/100
 - 3. 11/25
 - 4. 51/100

Question Type : MCQ
Question ID : 264330138362
Option 1 ID : 264330542055
Option 2 ID : 264330542058
Option 3 ID : 264330542057
Option 4 ID : 264330542056
Status : Answered
Chosen Option : 1

Q.17 एक घनाभ की लंबाई उसकी चौड़ाई की छः गुनी है और घनाभ की ऊँचाई उसकी चौड़ाई की चार गुनी है। यदि घनाभ की चौड़ाई 3 cm है, तो घनाभ का कुल पृष्ठीय क्षेत्रफल कितना है?

- Ans
- 1. 612 cm²
 - 2. 576 cm²
 - 3. 484 cm²
 - 4. 676 cm²

Question Type : MCQ
Question ID : 264330135057
Option 1 ID : 264330529166
Option 2 ID : 264330529164
Option 3 ID : 264330529163
Option 4 ID : 264330529165
Status : Answered
Chosen Option : 1

Q.18 रोहित Rs.880 में एक पुराना बल्ला खरीदता है और उसकी मरम्मत पर Rs.120 खर्च करता है। यदि वह इसे Rs.800 में बेचता है, तो हानि प्रतिशत क्या है?

- Ans
- 1. 25 प्रतिशत
 - 2. 20 प्रतिशत
 - 3. 10 प्रतिशत
 - 4. 30 प्रतिशत

Question Type : MCQ

Question ID : 264330137651

Option 1 ID : 264330539211

Option 2 ID : 264330539213

Option 3 ID : 264330539214

Option 4 ID : 264330539212

Status : Answered

Chosen Option : 2

Q.19 किसी वस्तु के मूल्य में क्रमागत 20% और 30% की कमी, वस्तु के मूल्य में _____ एकल कमी के बराबर है।

- Ans
- 1. 50%
 - 2. 40%
 - 3. 44%
 - 4. 25%

Question Type : MCQ

Question ID : 264330135114

Option 1 ID : 264330529391

Option 2 ID : 264330529394

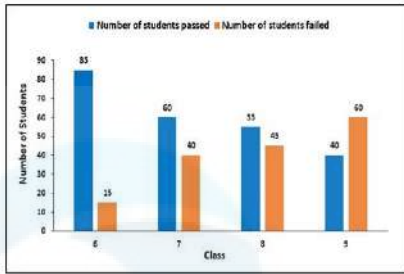
Option 3 ID : 264330529393

Option 4 ID : 264330529392

Status : Answered

Chosen Option : 3

Q.20 निम्न दंड आलेख में एक विद्यालय में विभिन्न कक्षाओं में उत्तीर्ण और अनुत्तीर्ण होने वाले छात्रों की संख्या को दर्शाया गया है। यदि प्रत्येक कक्षा में विद्यार्थियों की कुल संख्या 100 है, तो परीक्षा में उत्तीर्ण होने वाले विद्यार्थियों का प्रतिशत ज्ञात कीजिए।



number of students - छात्रों की संख्या

number of students passed - उत्तीर्ण छात्रों की संख्या

number of students failed - अनुत्तीर्ण छात्रों की संख्या

class- कक्षा

- Ans
- 1. 25%
 - 2. 65%
 - 3. 55%
 - 4. 60%

Question Type : MCQ

Question ID : 264330135148

Option 1 ID : 264330529527

Option 2 ID : 264330529530

Option 3 ID : 264330529529

Option 4 ID : 264330529528

Status : Answered

Chosen Option : 4

Section : Reasoning Ability and Problem Solving

Q.1 एक निश्चित कूट भाषा में, 'CUT' को 'BD21SU' लिखा जाता है। उस कूट भाषा में 'DRY' को कैसे लिखा जाएगा?

- Ans
- 1. CE18XZ
 - 2. CE18ZX
 - 3. C18EXZ
 - 4. CZ18EX

Question Type : MCQ

Question ID : 264330137812

Option 1 ID : 264330539855

Option 2 ID : 264330539858

Option 3 ID : 264330539856

Option 4 ID : 264330539857

Status : Answered

Chosen Option : 1

Q.2 दो कथन दिए गए हैं और दो निष्कर्ष I और II दिए गए हैं। कथनों को सत्य मानते हुए, चाहे वे सामान्यतः जात तथ्यों से अलग प्रतीत होते हों, निश्चय कीजिए कि कौन-सा निष्कर्ष तार्किक रूप से कथनों के अनुसार है।

कथन:

कुछ गाने, बर्फ हैं।

कुछ बर्फ, जूते हैं।

निष्कर्ष:

I. कुछ जूते, बर्फ हैं।

II. कुछ बर्फ, गाने हैं।

Ans 1.

न तो निष्कर्ष I और न ही निष्कर्ष II कथनों के अनुसार है।

2. केवल निष्कर्ष II कथनों के अनुसार है।

3. दोनों निष्कर्ष I और II कथनों के अनुसार हैं।

4. केवल निष्कर्ष I कथनों के अनुसार है।

Question Type : MCQ

Question ID : 264330135031

Option 1 ID : 264330529062

Option 2 ID : 264330529060

Option 3 ID : 264330529061

Option 4 ID : 264330529059

Status : Answered

Chosen Option : 3

Q.3 उस विकल्प को चुनिए जो तीसरे शब्द से ठीक उसी प्रकार संबंधित है जिस प्रकार दूसरा शब्द पहले शब्द से संबंधित है।

सेल्सियस : तापमान :: पाउंड : ?

Ans 1. कोण

2. दूरी

3. समय

4. वजन

Question Type : MCQ

Question ID : 264330135022

Option 1 ID : 264330529026

Option 2 ID : 264330529023

Option 3 ID : 264330529025

Option 4 ID : 264330529024

Status : Answered

Chosen Option : 4

Q.4 दिए गए समीकरण को सही करने के लिए किन दो संख्याओं को आपस में बदला जाना चाहिए?

$$120 \div 12 \times 6 + 24 - 15 = 27$$

Ans 1. 6 और 24

2. 12 और 24

3. 12 और 15

4. 12 और 6

Question Type : MCQ

Question ID : 264330137361

Option 1 ID : 264330538073

Option 2 ID : 264330538072

Option 3 ID : 264330538074

Option 4 ID : 264330538071

Status : Answered

Chosen Option : 2

Q.5 तीन कथन दिए गए हैं और दो निष्कर्ष I और II दिए गए हैं। कथनों को सत्य मानते हुए, चाहे वे सामान्यतः ज्ञात तथ्यों से अलग प्रतीत होते हों, निश्चय कीजिए कि कौन-सा निष्कर्ष तार्किक रूप से कथनों के अनुसार है।

कथन:

सभी कागज, कुर्सी हैं।

कुछ कुर्सी, जमीन हैं।

सभी बिल्ली, जमीन हैं।

निष्कर्ष:

I. कुछ बिल्ली, कुर्सी हैं।

II. कुछ कुर्सी, कागज नहीं हैं।

Ans 1. केवल निष्कर्ष II कथनों के अनुसार है।

2. केवल निष्कर्ष I कथनों के अनुसार है।

3.

न तो निष्कर्ष I और न ही निष्कर्ष II कथनों के अनुसार है।

4. दोनों निष्कर्ष I और II कथनों के अनुसार हैं।

Question Type : MCQ

Question ID : 264330135032

Option 1 ID : 264330529064

Option 2 ID : 264330529063

Option 3 ID : 264330529066

Option 4 ID : 264330529065

Status : Answered

Chosen Option : 2

Q.6 A, B और C एक बेंच पर दक्षिण की ओर मुख करके बैठे हैं। D, E, और F एक समानांतर बेंच पर उत्तर की ओर मुख करके बैठे हैं। D किसी एक सिरे पर और F के ठीक बाईं ओर बैठा है। B, D की ओर उन्मुख होकर बैठा है। C, A के दाईं ओर बैठा है। A की ओर उन्मुख होकर कौन बैठा है?

- Ans
- 1. F
 - 2. E
 - 3. C
 - 4. D

Question Type : MCQ
Question ID : 264330135028
Option 1 ID : 264330529050
Option 2 ID : 264330529049
Option 3 ID : 264330529047
Option 4 ID : 264330529048
Status : Answered
Chosen Option : 2

Q.7 दिए गए पैटर्न का ध्यानपूर्वक अध्ययन कीजिए और उस संख्या को चुनिए जो इसमें प्रश्न चिन्ह (?) के स्थान पर आ सकती है।
पहली पंक्ति - 14, 42, 84
दूसरी पंक्ति - 21, 63, 126
तीसरी पंक्ति - 8, 24, ?

- Ans
- 1. 82
 - 2. 38
 - 3. 48
 - 4. 65

Question Type : MCQ
Question ID : 264330135036
Option 1 ID : 264330529081
Option 2 ID : 264330529080
Option 3 ID : 264330529082
Option 4 ID : 264330529079
Status : Answered
Chosen Option : 3

Q.8 एक निश्चित कूट भाषा में, 'ALBUMS' को 'UMWBNA' लिखा जाता है। उस कूट भाषा में 'CLEVER' को कैसे लिखा जाएगा?

- Ans
- 1. XETENC
 - 2. TEXNEC
 - 3. TEXENC
 - 4. TXEENC

Question Type : MCQ
Question ID : 264330138588
Option 1 ID : 264330542960
Option 2 ID : 264330542961
Option 3 ID : 264330542962
Option 4 ID : 264330542959
Status : Answered
Chosen Option : 3

Q.9 दी गई श्रृंखला में निम्नलिखित में से कौन-सी संख्या प्रश्न चिन्ह (?) के स्थान पर आएगी?
-34, -31, -25, -16, -4, 11, 29, ?

- Ans
- 1. 80
 - 2. 70
 - 3. 60
 - 4. 50

Question Type : MCQ
Question ID : 264330135034
Option 1 ID : 264330529073
Option 2 ID : 264330529074
Option 3 ID : 264330529071
Option 4 ID : 264330529072
Status : Answered
Chosen Option : 4

Q.10 उस विकल्प आकृति को चुनिए जिसमें दी गई आकृति निहित है। (घूर्णन की अनुमति नहीं है)



Ans

- 1.
- 2.
- 3.
- 4.

Question Type : MCQ
Question ID : 264330138600
Option 1 ID : 264330543007
Option 2 ID : 264330543010
Option 3 ID : 264330543009
Option 4 ID : 264330543008
Status : Answered
Chosen Option : 1

Q.11 एक निश्चित कूट भाषा में, 'STOCK' को '19V15E11' लिखा जाता है। उस भाषा में 'CRYPTO' को कैसे लिखा जाएगा?

- Ans
- 1. 3T25S6VT5
 - 2. 3T2F1AV15
 - 3. 2T2316V15
 - 4. 3T25R20Q

Question Type : MCQ
Question ID : 264330133529
Option 1 ID : 264330523148
Option 2 ID : 264330523149
Option 3 ID : 264330523147
Option 4 ID : 264330523150
Status : Answered
Chosen Option : 4

Q.12 दिए गए समीकरण को सही करने के लिए किन दो चिन्हों को आपस में बदला जाना चाहिए?
 $2 - 8 \div 4 = 6 \times 3 + 18$

- Ans
- 1. \times और $-$
 - 2. $+$ और $-$
 - 3. \times और $+$
 - 4. $=$ और $+$

Question Type : MCQ
Question ID : 264330135037
Option 1 ID : 264330529083
Option 2 ID : 264330529084
Option 3 ID : 264330529085
Option 4 ID : 264330529086
Status : Answered
Chosen Option : 4

Q.13 उमेश, सतीश से बड़ा है। सुरेश, नीरज से छोटा है लेकिन उमेश से बड़ा है। तरुण, रितेश से बड़ा है लेकिन सतीश से छोटा है। मनीष सबसे छोटा है। उनमें से सबसे बड़ा कौन है?

- Ans
- 1. रितेश
 - 2. नीरज
 - 3. सतीश
 - 4. सुरेश

Question Type : MCQ
Question ID : 264330135030
Option 1 ID : 264330529055
Option 2 ID : 264330529057
Option 3 ID : 264330529058
Option 4 ID : 264330529056
Status : Answered
Chosen Option : 2

Q.14 अमर, बिदिशा, कारमेल, दीपा और एलेन एक बेंच पर दक्षिण की ओर मुख करके बैठे हैं। एलेन बेंच के किसी एक सिरे पर बैठी है और उसकी बाईं ओर पर कोई नहीं है। कारमेल, दीपा के ठीक बाईं ओर बैठा है, जो बेंच के एक सिरे पर बैठी है। अमर, बिदिशा की दाहिनी ओर बैठा है। अमर किस स्थान पर बैठा है?

- Ans
- 1. ठीक दीपा और कारमेल के बीच
 - 2. ठीक बिदिशा और एलेन के बीच
 - 3. ठीक दीपा और बिदिशा के बीच
 - 4. ठीक कारमेल और बिदिशा के बीच

Question Type : MCQ

Question ID : 264330135029

Option 1 ID : 264330529051

Option 2 ID : 264330529053

Option 3 ID : 264330529054

Option 4 ID : 264330529052

Status : Answered

Chosen Option : 4

Q.15 उस विकल्प को चुनिए जो तीसरी संख्या से ठीक उसी प्रकार संबंधित है जिस प्रकार दूसरी संख्या पहली संख्या से संबंधित है।

17 : 272 :: 22 : ?

- Ans
- 1. 394
 - 2. 596
 - 3. 462
 - 4. 448

Question Type : MCQ

Question ID : 264330135013

Option 1 ID : 264330528988

Option 2 ID : 264330528987

Option 3 ID : 264330528990

Option 4 ID : 264330528989

Status : Answered

Chosen Option : 3

Q.16 दी गई श्रृंखला में निम्नलिखित में से कौन-सी संख्या प्रश्न चिन्ह (?) के स्थान पर आएगी?
1, 8, 9, 64, 25, 216, 49, ?

- Ans
- 1. 552
 - 2. 385
 - 3. 512
 - 4. 612

Question Type : MCQ

Question ID : 264330135011

Option 1 ID : 264330528982

Option 2 ID : 264330528980

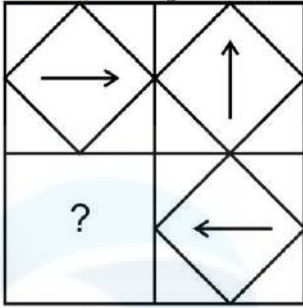
Option 3 ID : 264330528981

Option 4 ID : 264330528979

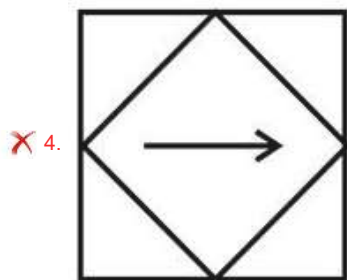
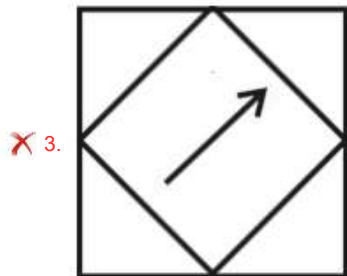
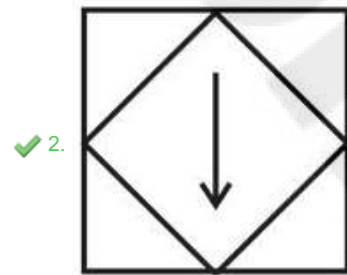
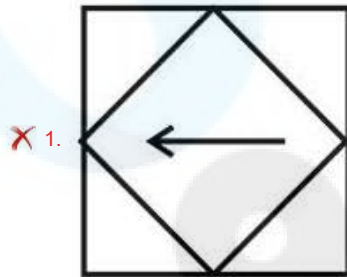
Status : Answered

Chosen Option : 3

Q.17 उस विकल्प आकृति को चुनिए जो पैटर्न को पूरा करने के लिए नीचे दी गई आकृति में प्रश्न चिन्ह (?) के स्थान पर आएगी। (घूर्णन की अनुमति नहीं है)



Ans



Question Type : MCQ

Question ID : 264330135041

Option 1 ID : 264330529102

Option 2 ID : 264330529100

Option 3 ID : 264330529099

Option 4 ID : 264330529101

Status : Answered

Chosen Option : 2

Q.18 दी गई श्रृंखला में निम्नलिखित में से कौन-सा अक्षर प्रश्न चिन्ह (?) के स्थान पर आएगा?
O, N, L, K, I, H, F, ?

- Ans
- 1. A
 - 2. H
 - 3. F
 - 4. E

Question Type : MCQ
 Question ID : 264330135020
 Option 1 ID : 264330529016
 Option 2 ID : 264330529018
 Option 3 ID : 264330529015
 Option 4 ID : 264330529017
 Status : Answered
 Chosen Option : 4

Q.19 यदि एक दर्पण को रेखा AB पर रखा जाए, तो दी गई विकल्प आकृतियों में से कौन-सी आकृति प्रश्न आकृति का सही प्रतिबिम्ब होगी?



Ans

- 1.
- 2.
- 3.
- 4.

Question Type : MCQ
 Question ID : 264330138601
 Option 1 ID : 264330543011
 Option 2 ID : 264330543013
 Option 3 ID : 264330543014
 Option 4 ID : 264330543012
 Status : Answered
 Chosen Option : 4

Q.20 उस विकल्प को चुनिए जो तीसरे शब्द से ठीक उसी प्रकार संबंधित है जिस प्रकार दूसरा शब्द पहले शब्द से संबंधित है।
पंखा : पंखड़ियाँ :: साइकिल : ?

- Ans
- 1. कार
 - 2. हाथ
 - 3. बाइक
 - 4. पहिये

Question Type : MCQ
Question ID : 264330135023
Option 1 ID : 264330529027
Option 2 ID : 264330529029
Option 3 ID : 264330529030
Option 4 ID : 264330529028
Status : Answered
Chosen Option : 4

Section : General Awareness

Q.1 वर्ष 2011 की जनगणना के अनुसार, वर्ष 2001-11 के बीच किस केंद्र शासित प्रदेश की दशकीय जनसंख्या वृद्धि दर सबसे अधिक है?

- Ans
- 1. दादरा और नगर हवेली
 - 2. दिल्ली राष्ट्रीय राजधानी क्षेत्र (NCT of Delhi)
 - 3. लक्षद्वीप
 - 4. चंडीगढ़

Question Type : MCQ
Question ID : 264330137030
Option 1 ID : 264330536765
Option 2 ID : 264330536764
Option 3 ID : 264330536766
Option 4 ID : 264330536763
Status : Answered
Chosen Option : 2

Q.2 "मिशन कर्मयोगी (Mission Karmayogi)" कार्यक्रम _____ के लिए है।

- Ans
- 1. प्रशासनिक सेवक
 - 2. चिकित्सक
 - 3. महिला उद्यमी
 - 4. निर्माण श्रमिक

Question Type : MCQ
Question ID : 264330137062
Option 1 ID : 264330536892
Option 2 ID : 264330536893
Option 3 ID : 264330536894
Option 4 ID : 264330536891
Status : Answered
Chosen Option : 3

Q.3 _____ में, अपने मद्रास अधिवेशन में, भारतीय राष्ट्रीय कांग्रेस ने भारत के संविधान का मसौदा (draft) तैयार करने के लिए एक सर्वदलीय बैठक आयोजित की थी।

- Ans
- 1. 1922
 - 2. 1932
 - 3. 1927
 - 4. 1915

Question Type : MCQ
Question ID : 264330137076
Option 1 ID : 264330536948
Option 2 ID : 264330536947
Option 3 ID : 264330536949
Option 4 ID : 264330536950
Status : Answered
Chosen Option : 3

Q.4 निम्नलिखित में से कौन-सा देश 2024 दक्षिण एशियाई खेलों की मेज़बानी करेगा?

- Ans
- 1. नेपाल
 - 2. भारत
 - 3. पाकिस्तान
 - 4. भूटान

Question Type : MCQ
Question ID : 264330134716
Option 1 ID : 264330527819
Option 2 ID : 264330527822
Option 3 ID : 264330527821
Option 4 ID : 264330527820
Status : Answered
Chosen Option : 2

Q.5 निम्नलिखित में से किस पवन का संबंध अत्यधिक ठंड और शुष्कता से है?

- Ans
- 1. व्यापारिक पवनें
 - 2. पछुआ पवनें
 - 3. ध्रुवीय पूर्वी पवनें
 - 4. मानसूनी पवनें

Question Type : MCQ
Question ID : 264330134677
Option 1 ID : 264330527663
Option 2 ID : 264330527666
Option 3 ID : 264330527665
Option 4 ID : 264330527664
Status : Answered
Chosen Option : 3

Q.6 फर्न किस पादप वर्ग का एक उदाहरण है ?

- Ans
- 1. ब्रायोफ़ाइट (Bryophyta)
 - 2. फैनरोगैम (Phanerogams)
 - 3. टैरिडोफ़ाइट (Pteridophyta)
 - 4. थैलोफ़ाइट (Thallophyta)

Question Type : MCQ

Question ID : 264330134700

Option 1 ID : 264330527757

Option 2 ID : 264330527758

Option 3 ID : 264330527755

Option 4 ID : 264330527756

Status : Answered

Chosen Option : 1

Q.7 कौन-सा अम्ल आमाशय में प्रवेश करने वाले जीवाणुओं को नष्ट कर देता है?

- Ans
- 1. नाइट्रिक अम्ल
 - 2. बोरिक अम्ल
 - 3. हाइड्रोक्लोरिक अम्ल
 - 4. यूरिक अम्ल

Question Type : MCQ

Question ID : 264330134676

Option 1 ID : 264330527659

Option 2 ID : 264330527660

Option 3 ID : 264330527662

Option 4 ID : 264330527661

Status : Answered

Chosen Option : 3

Q.8 पद्मा सुब्रह्मण्यम (Padma Subrahmanyam) निम्नलिखित में से किस नृत्य शैली की प्रसिद्ध नृत्यांगना हैं?

- Ans
- 1. मणिपुरी
 - 2. कुचिपुड़ी
 - 3. भरतनाट्यम
 - 4. ओडिसी

Question Type : MCQ

Question ID : 264330134696

Option 1 ID : 264330527741

Option 2 ID : 264330527740

Option 3 ID : 264330527739

Option 4 ID : 264330527742

Status : Answered

Chosen Option : 3

Q.9 वी. सत्यनारायण सरमा को वर्ष 1970 में _____ नृत्य के क्षेत्र में उनके योगदान के लिए पद्म श्री से सम्मानित किया गया था।

- Ans
- 1. कथक
 - 2. मणिपुरी
 - 3. ओडिसी
 - 4. कुचिपुडी

Question Type : MCQ
Question ID : 264330138656
Option 1 ID : 264330543232
Option 2 ID : 264330543231
Option 3 ID : 264330543234
Option 4 ID : 264330543233
Status : Answered
Chosen Option : 1

Q.10 1895 में अन्य भारतीयों के साथ महात्मा गांधी ने तस्लीय भेदभाव का विरोध करने के लिए _____ का गठन किया था।

- Ans
- 1. साबरमती आश्रम (Sabarmati Ashram)
 - 2. देव समाज (Dev Samaj)
 - 3. ब्रह्म समाज (Brahmo Samaj)
 - 4. नेटाल कांग्रेस (Natal Congress)

Question Type : MCQ
Question ID : 264330138673
Option 1 ID : 264330543300
Option 2 ID : 264330543302
Option 3 ID : 264330543301
Option 4 ID : 264330543299
Status : Answered
Chosen Option : 4

Q.11 स्वर्ण सिंह समिति की सिफारिशों पर _____ संवैधानिक संशोधन अधिनियम, 1976 द्वारा संविधान के भाग IV-A में मौलिक कर्तव्यों को शामिल किया गया था।

- Ans
- 1. 42वें
 - 2. 35वें
 - 3. 51वें
 - 4. 47वें

Question Type : MCQ
Question ID : 264330134714
Option 1 ID : 264330527814
Option 2 ID : 264330527813
Option 3 ID : 264330527811
Option 4 ID : 264330527812
Status : Answered
Chosen Option : 1

Q.12 बैसाखी महोत्सव प्रमुख रूप से _____ और _____ राज्यों में मनाया जाता है।

- Ans
- 1. नगालैंड, त्रिपुरा
 - 2. पंजाब, हरियाणा
 - 3. राजस्थान, मध्यप्रदेश
 - 4. तमिलनाडु, केरल

Question Type : MCQ
Question ID : 264330138650
Option 1 ID : 264330543208
Option 2 ID : 264330543209
Option 3 ID : 264330543210
Option 4 ID : 264330543207
Status : Answered
Chosen Option : 2

Q.13 अंतर-राज्य परिषद में भारत के प्रधानमंत्री द्वारा मनोनीत केंद्रीय मंत्रिपरिषद में केंद्र के _____ मंत्री होते हैं।

- Ans
- 1. दो
 - 2. दस
 - 3. चार
 - 4. छः

Question Type : MCQ
Question ID : 264330134715
Option 1 ID : 264330527818
Option 2 ID : 264330527815
Option 3 ID : 264330527817
Option 4 ID : 264330527816
Status : Answered
Chosen Option : 1

Q.14 'इंडियाज स्ट्रगल फॉर इंडिपेंडेंस (India's Struggle for Independence)' _____ द्वारा लिखी गई उल्लेखनीय पुस्तकों में से एक है।

- Ans
- 1. आर.के. नारायण
 - 2. शेखर बंधोपाध्याय
 - 3. आर.सी. मजूमदार
 - 4. विपिन चंद्र

Question Type : MCQ
Question ID : 264330138654
Option 1 ID : 264330543223
Option 2 ID : 264330543226
Option 3 ID : 264330543224
Option 4 ID : 264330543225
Status : Answered
Chosen Option : 2

Q.15 केंद्रीय कृषि मंत्री नरेंद्र सिंह तोमर ने अक्टूबर 2022 में यह घोषणा की है कि केंद्र सरकार कृषि व्यवसायों के लाभकारी विचारों (productive ideas) का समर्थन करने के लिए _____ करोड़ का एक्सेलरेटर (accelerator) प्रोग्राम शुरू करेगी।

- Ans
- 1. Rs.300
 - 2. Rs.350
 - 3. Rs.500
 - 4. Rs.450

Question Type : MCQ

Question ID : 264330134694

Option 1 ID : 264330527732

Option 2 ID : 264330527731

Option 3 ID : 264330527734

Option 4 ID : 264330527733

Status : Not Answered

Chosen Option : --

Q.16 किस युद्ध के कारण विजयनगर साम्राज्य का पतन हुआ?

- Ans
- 1. आर्कोट का युद्ध
 - 2. हल्दीघाटी का युद्ध
 - 3. तालीकोटा का युद्ध
 - 4. रायचूर का युद्ध

Question Type : MCQ

Question ID : 264330134683

Option 1 ID : 264330527687

Option 2 ID : 264330527688

Option 3 ID : 264330527690

Option 4 ID : 264330527689

Status : Answered

Chosen Option : 3

Q.17 आरक्षित नकदी तिथि अनुपात मुद्रा आपूर्ति को नियंत्रित करने के लिए एक _____ साधन है।

I. गुणात्मक

II. परिमाणात्मक

- Ans
- 1. केवल II
 - 2. केवल I
 - 3. न तो I और न ही II
 - 4. I और II दोनों

Question Type : MCQ

Question ID : 264330138659

Option 1 ID : 264330543244

Option 2 ID : 264330543243

Option 3 ID : 264330543246

Option 4 ID : 264330543245

Status : Not Answered

Chosen Option : --

Q.18 निम्नलिखित में से किसे वर्ष 2001 में भारत रत्न से सम्मानित किया गया था और जिन्हें शहनाई को विवाह मंडप से कंसर्ट हॉल तक ले जाने का श्रेय भी ही दिया जाता है?

- Ans
- 1. अली अकबर खान
 - 2. हरिप्रसाद चौरसिया
 - 3. रवि शंकर
 - 4. बिस्मिल्लाह खान

Question Type : MCQ
Question ID : 264330134712
Option 1 ID : 264330527804
Option 2 ID : 264330527803
Option 3 ID : 264330527806
Option 4 ID : 264330527805
Status : Answered
Chosen Option : 4

Q.19 चन्द्रगुप्त मौर्य के दरबार में यूनानी राजा सेल्युकस निकेटर (Seleucus Nicator) का राजदूत _____ था।

- Ans
- 1. हेरोडोटस (Herodotus)
 - 2. स्ट्रैबो (Strabo)
 - 3. होमर (Homer)
 - 4. मेगस्थनीज़ (Megasthenes)

Question Type : MCQ
Question ID : 264330138670
Option 1 ID : 264330543290
Option 2 ID : 264330543287
Option 3 ID : 264330543288
Option 4 ID : 264330543289
Status : Answered
Chosen Option : 4

Q.20 Hindustan Aeronautics limited comes under which sector?

- Ans
- 1. Private sector
 - 2. Foreign sector
 - 3. Public sector
 - 4. Co-operative sector

Question Type : MCQ
Question ID : 264330138666
Option 1 ID : 264330543271
Option 2 ID : 264330543273
Option 3 ID : 264330543272
Option 4 ID : 264330543274
Status : Answered
Chosen Option : 3

Q.21 नेपाल भारत के निम्नलिखित में से किस राज्य के साथ अपनी सीमा साझा नहीं करता है?

- Ans
- 1. पश्चिम बंगाल
 - 2. सिक्किम
 - 3. बिहार
 - 4. मणिपुर

Question Type : MCQ

Question ID : 264330137931

Option 1 ID : 264330540332

Option 2 ID : 264330540333

Option 3 ID : 264330540331

Option 4 ID : 264330540334

Status : Answered

Chosen Option : 4

Q.22 कोनेरू हंपी (Koneru Humpy) निम्नलिखित में से किस खेल से संबंधित हैं?

- Ans
- 1. शतरंज
 - 2. क्रिकेट
 - 3. मुक्केबाज़ी
 - 4. बैडमिंटन

Question Type : MCQ

Question ID : 264330134692

Option 1 ID : 264330527726

Option 2 ID : 264330527724

Option 3 ID : 264330527725

Option 4 ID : 264330527723

Status : Answered

Chosen Option : 1

Q.23 निम्न में से कौन-सी भारतीय प्रायद्वीप की तीसरी सबसे बड़ी और उड़ीसा राज्य की सबसे बड़ी नदी है?

- Ans
- 1. महानदी
 - 2. गोदावरी
 - 3. कृष्णा
 - 4. नर्मदा

Question Type : MCQ

Question ID : 264330134704

Option 1 ID : 264330527773

Option 2 ID : 264330527771

Option 3 ID : 264330527774

Option 4 ID : 264330527772

Status : Answered

Chosen Option : 1

Q.24 महाबलीपुरम स्मारक _____ वंश स्थापत्यकला शैली में बनाए गए थे।

- Ans
- 1. चंदेल
 - 2. पाली
 - 3. पल्लव
 - 4. गुप्त

Question Type : MCQ
Question ID : 264330137065
Option 1 ID : 264330536903
Option 2 ID : 264330536906
Option 3 ID : 264330536904
Option 4 ID : 264330536905
Status : Answered
Chosen Option : 3

Q.25 न्यूटन के गति के प्रथम नियम को _____ भी कहते हैं।

- Ans
- 1. परिमाण का नियम (Law of magnitude)
 - 2. प्रतिक्रिया का नियम (Law of reaction)
 - 3. जड़ता का नियम (Law of Inertia)
 - 4. द्रव्यमान का नियम (Law of masses)

Question Type : MCQ
Question ID : 264330134674
Option 1 ID : 264330527653
Option 2 ID : 264330527654
Option 3 ID : 264330527651
Option 4 ID : 264330527652
Status : Answered
Chosen Option : 3

Section : English Language and Comprehension

Q.1 Find the part of the given sentence that has an error in it. If there is no error, choose 'No error'.

Soap removes traces of pesticides and heavy metals that hand sanitizers can left behind.

- Ans
- 1. and heavy metals that hand
 - 2. Soap removes traces of pesticides
 - 3. No error
 - 4. sanitizers can left behind.

Question Type : MCQ
Question ID : 264330134825
Option 1 ID : 264330528240
Option 2 ID : 264330528239
Option 3 ID : 264330528242
Option 4 ID : 264330528241
Status : Not Answered
Chosen Option : --

Q.2 Choose the word that can substitute the given group of words.

A sound that cannot be heard

- Ans
- 1. Delible
 - 2. Autonomous
 - 3. Inaudible
 - 4. Audacious

Question Type : MCQ
Question ID : 264330134811
Option 1 ID : 264330528185
Option 2 ID : 264330528184
Option 3 ID : 264330528186
Option 4 ID : 264330528183
Status : Answered
Chosen Option : 3

Q.3 A sentence has been given with a blank to be filled with an appropriate option. Choose the correct alternative.

Potato milk is _____ another option for those wanting an alternative to cow's milk.

- Ans
- 1. yet
 - 2. so
 - 3. but
 - 4. though

Question Type : MCQ
Question ID : 264330136828
Option 1 ID : 264330536007
Option 2 ID : 264330536009
Option 3 ID : 264330536008
Option 4 ID : 264330536010
Status : Answered
Chosen Option : 1

Q.4 Select the appropriate antonym for the underlined word.

Social justice has been one of the cherished goals of the makers of our Constitution.

- Ans
- 1. relished
 - 2. valued
 - 3. despised
 - 4. treasured

Question Type : MCQ
Question ID : 264330134842
Option 1 ID : 264330528304
Option 2 ID : 264330528305
Option 3 ID : 264330528303
Option 4 ID : 264330528306
Status : Answered
Chosen Option : 3

Q.5 Choose the word that can substitute the given group of words.

Something that is necessary or crucial

- Ans
- 1. Trivial
 - 2. Indispensable
 - 3. Auxiliary
 - 4. Pedantic

Question Type : MCQ
Question ID : 264330134838
Option 1 ID : 264330528287
Option 2 ID : 264330528290
Option 3 ID : 264330528288
Option 4 ID : 264330528289
Status : Answered
Chosen Option : 2

Q.6 Identify the segment that contains a grammatical error. If there is no error, select 'No error'

The police released a statement saying/, "This was one of the most vicious/ attack we have ever seen."

- Ans
- 1. No error
 - 2. "This was one of the most vicious
 - 3. attack we have ever seen."
 - 4. The police released a statement saying,

Question Type : MCQ
Question ID : 264330136292
Option 1 ID : 264330533950
Option 2 ID : 264330533948
Option 3 ID : 264330533949
Option 4 ID : 264330533947
Status : Answered
Chosen Option : 3

Q.7 Choose the incorrectly spelt word.

- Ans
- 1. Monitour
 - 2. Chemical
 - 3. Constant
 - 4. Slope

Question Type : MCQ
Question ID : 264330134845
Option 1 ID : 264330528317
Option 2 ID : 264330528315
Option 3 ID : 264330528318
Option 4 ID : 264330528316
Status : Answered
Chosen Option : 1

Q.8 Select the most appropriate option to fill in the blank.

His father was killed in a _____, when the boy was nine years old.

- Ans
- 1. duel
 - 2. drool
 - 3. dual
 - 4. dwell

Question Type : MCQ

Question ID : 264330136793

Option 1 ID : 264330535872

Option 2 ID : 264330535874

Option 3 ID : 264330535871

Option 4 ID : 264330535873

Status : Answered

Chosen Option : 4

Q.9 Improve the underlined part of the sentence. Choose 'No improvement' as an answer if the sentence is grammatically correct.

After the concert, his voice has hoarse from cheering.

- Ans
- 1. voice were
 - 2. voice was
 - 3. voiced was
 - 4. No improvement

Question Type : MCQ

Question ID : 264330134479

Option 1 ID : 264330526885

Option 2 ID : 264330526884

Option 3 ID : 264330526883

Option 4 ID : 264330526886

Status : Answered

Chosen Option : 2

Q.10 Select the appropriate synonym for the underlined word.

There is no need to panic, not yet.

- Ans
- 1. mock
 - 2. cheer
 - 3. block
 - 4. fright

Question Type : MCQ

Question ID : 264330134839

Option 1 ID : 264330528292

Option 2 ID : 264330528294

Option 3 ID : 264330528291

Option 4 ID : 264330528293

Status : Answered

Chosen Option : 4

Q.11 Choose the sentence with no spelling error.

- Ans**
- 1. And he wanted to sea him sufer.
 - 2. And he wanted to see him suffer.
 - 3. And he wanted to see him suffer.
 - 4. And he wanted to see him sufer.

Question Type : **MCQ**
Question ID : **264330136792**
Option 1 ID : **264330535868**
Option 2 ID : **264330535867**
Option 3 ID : **264330535869**
Option 4 ID : **264330535870**
Status : **Answered**
Chosen Option : **3**

Q.12 Find the part of the given sentence that has an error in it. If there is no error, choose 'No error'.

Why is your friend giving me weird looks?

- Ans**
- 1. No error
 - 2. giving me
 - 3. Why is your friend
 - 4. weird looks?

Question Type : **MCQ**
Question ID : **264330134719**
Option 1 ID : **264330527834**
Option 2 ID : **264330527832**
Option 3 ID : **264330527831**
Option 4 ID : **264330527833**
Status : **Answered**
Chosen Option : **1**

Q.13 A sentence has been given with a blank to be filled with an appropriate option. Choose the correct alternative.

She had no _____ of telling him the truth.

- Ans**
- 1. intents
 - 2. intending
 - 3. intended
 - 4. intention

Question Type : **MCQ**
Question ID : **264330134829**
Option 1 ID : **264330528257**
Option 2 ID : **264330528258**
Option 3 ID : **264330528255**
Option 4 ID : **264330528256**
Status : **Answered**
Chosen Option : **4**

Q.14 In the following question, out of the given four alternatives, select the alternative which best expresses the meaning of the Idiom/Phrase.

To make one's mouth water

- Ans**
- 1. To make faces
 - 2. To feel no pain
 - 3. Feel hungry
 - 4. To tremble with fear

Question Type : **MCQ**
Question ID : **264330134817**
Option 1 ID : **264330528207**
Option 2 ID : **264330528209**
Option 3 ID : **264330528210**
Option 4 ID : **264330528208**
Status : **Answered**
Chosen Option : **4**

Q.15 Select the most appropriate antonym of the given word.

Misunderstand

- Ans**
- 1. Impossible
 - 2. Delayed
 - 3. Comprehend
 - 4. Sluggish

Question Type : **MCQ**
Question ID : **264330135785**
Option 1 ID : **264330532018**
Option 2 ID : **264330532016**
Option 3 ID : **264330532017**
Option 4 ID : **264330532015**
Status : **Answered**
Chosen Option : **3**

Q.16 Select the most appropriate option to substitute the bracketed segment in the given sentence. If there is no need to substitute it, select 'no substitution required'.

This looks (like one of those unwelcome social summons which call upon a man) either to be bored or to lie.

- Ans**
- 1. No substitution required
 - 2. like one of these unwelcome social summons that call upon a man
 - 3. like one of those unwelcome social summon that call upon a man
 - 4. like one of those unwelcome social summonses which call upon a man

Question Type : **MCQ**
Question ID : **264330136295**
Option 1 ID : **264330533962**
Option 2 ID : **264330533959**
Option 3 ID : **264330533961**
Option 4 ID : **264330533960**
Status : **Answered**
Chosen Option : **2**

Q.17 Select the most appropriate option to fill in the blank.

Each band is known across a wide area because all residents of a given region are typically tied to one another through a large _____ of kinship and reciprocity

- Ans**
- 1. variation
 - 2. network
 - 3. clash
 - 4. mesh

Question Type : **MCQ**
Question ID : **264330134848**
Option 1 ID : **264330528329**
Option 2 ID : **264330528330**
Option 3 ID : **264330528327**
Option 4 ID : **264330528328**
Status : **Answered**
Chosen Option : **2**

Q.18 Choose the word that means the same as the given word.

Wage

- Ans**
- 1. Sycophant
 - 2. Emolument
 - 3. Jackpot
 - 4. Jocular

Question Type : **MCQ**
Question ID : **264330136812**
Option 1 ID : **264330535945**
Option 2 ID : **264330535946**
Option 3 ID : **264330535944**
Option 4 ID : **264330535943**
Status : **Not Answered**
Chosen Option : **--**

Q.19 In the following question, out of the given four alternatives, select the alternative which best expresses the meaning of the Idiom/Phrase.

To turn over a new leaf

- Ans**
- 1. To have an inclination towards gardening
 - 2. To turn your back on someone
 - 3. To make a fresh start
 - 4. To reply brazenly

Question Type : **MCQ**
Question ID : **264330134844**
Option 1 ID : **264330528312**
Option 2 ID : **264330528313**
Option 3 ID : **264330528311**
Option 4 ID : **264330528314**
Status : **Answered**
Chosen Option : **3**

Q.20 Improve the underlined part of the sentence. Choose 'No improvement' as an answer if the sentence is grammatically correct.

When I was eight years old, I used to played with toys.

- Ans**
- 1. used to play
 - 2. use to played
 - 3. No improvement
 - 4. used to playing

Question Type : **MCQ**

Question ID : **264330135183**

Option 1 ID : **264330529664**

Option 2 ID : **264330529665**

Option 3 ID : **264330529666**

Option 4 ID : **264330529663**

Status : **Answered**

Chosen Option : **3**

Comprehension:

In the following passage some words have been deleted. Fill in the blanks with the help of the alternatives given. Select the most appropriate option for each number.

To mark the 25th anniversary of the run, (1) _____ Royal Canadian Mint unveiled a one-dollar commemorative circulation coin (2) _____ Monday on the campus of Simon Fraser University. Fox was (3) _____ undergraduate student and basketball player at SFU when a malignant tumour was discovered in his right leg in 1977. It resulted in (4) _____. A bronze statue of Fox, one of many such tributes across Canada, looks over the academic quadrangle of the university, just a short stroll from the theatre where Monday's (5) _____ was held.

SubQuestion No : 21

Q.21 Select the most appropriate option to fill in the blank No. 1

- Ans**
- 1. a
 - 2. in
 - 3. the
 - 4. of

Question Type : **MCQ**

Question ID : **264330135776**

Option 1 ID : **264330531979**

Option 2 ID : **264330531982**

Option 3 ID : **264330531980**

Option 4 ID : **264330531981**

Status : **Answered**

Chosen Option : **1**

Comprehension:

In the following passage some words have been deleted. Fill in the blanks with the help of the alternatives given. Select the most appropriate option for each number.

To mark the 25th anniversary of the run, (1) _____ Royal Canadian Mint unveiled a one-dollar commemorative circulation coin (2) _____ Monday on the campus of Simon Fraser University. Fox was (3) _____ undergraduate student and basketball player at SFU when a malignant tumour was discovered in his right leg in 1977. It resulted in (4) _____. A bronze statue of Fox, one of many such tributes across Canada, looks over the academic quadrangle of the university, just a short stroll from the theatre where Monday's (5) _____ was held.

SubQuestion No : 22

Q.22 Select the most appropriate option to fill in the blank No. 2.

- Ans**
- 1. through
 - 2. on
 - 3. at
 - 4. over

Question Type : **MCQ**
Question ID : **264330135777**
Option 1 ID : **264330531983**
Option 2 ID : **264330531985**
Option 3 ID : **264330531986**
Option 4 ID : **264330531984**
Status : **Answered**
Chosen Option : **2**

Comprehension:

In the following passage some words have been deleted. Fill in the blanks with the help of the alternatives given. Select the most appropriate option for each number.

To mark the 25th anniversary of the run, (1) _____ Royal Canadian Mint unveiled a one-dollar commemorative circulation coin (2) _____ Monday on the campus of Simon Fraser University. Fox was (3) _____ undergraduate student and basketball player at SFU when a malignant tumour was discovered in his right leg in 1977. It resulted in (4) _____. A bronze statue of Fox, one of many such tributes across Canada, looks over the academic quadrangle of the university, just a short stroll from the theatre where Monday's (5) _____ was held.

SubQuestion No : 23

Q.23 Select the most appropriate option to fill in the blank No. 3.

- Ans**
- 1. the
 - 2. a
 - 3. an
 - 4. their

Question Type : **MCQ**
Question ID : **264330135778**
Option 1 ID : **264330531990**
Option 2 ID : **264330531988**
Option 3 ID : **264330531989**
Option 4 ID : **264330531987**
Status : **Answered**
Chosen Option : **3**

Comprehension:

In the following passage some words have been deleted. Fill in the blanks with the help of the alternatives given. Select the most appropriate option for each number.

To mark the 25th anniversary of the run, (1) _____ Royal Canadian Mint unveiled a one-dollar commemorative circulation coin (2) _____ Monday on the campus of Simon Fraser University. Fox was (3) _____ undergraduate student and basketball player at SFU when a malignant tumour was discovered in his right leg in 1977. It resulted in (4) _____. A bronze statue of Fox, one of many such tributes across Canada, looks over the academic quadrangle of the university, just a short stroll from the theatre where Monday's (5) _____ was held.

SubQuestion No : 24

Q.24 Select the most appropriate option to fill in the blank No. 4.

- Ans
- 1. implantation
 - 2. vasodilation
 - 3. fragmentation
 - 4. amputation

Question Type : MCQ

Question ID : 264330135779

Option 1 ID : 264330531991

Option 2 ID : 264330531993

Option 3 ID : 264330531992

Option 4 ID : 264330531994

Status : Not Answered

Chosen Option : --

Comprehension:

In the following passage some words have been deleted. Fill in the blanks with the help of the alternatives given. Select the most appropriate option for each number.

To mark the 25th anniversary of the run, (1) _____ Royal Canadian Mint unveiled a one-dollar commemorative circulation coin (2) _____ Monday on the campus of Simon Fraser University. Fox was (3) _____ undergraduate student and basketball player at SFU when a malignant tumour was discovered in his right leg in 1977. It resulted in (4) _____. A bronze statue of Fox, one of many such tributes across Canada, looks over the academic quadrangle of the university, just a short stroll from the theatre where Monday's (5) _____ was held.

SubQuestion No : 25

Q.25 Select the most appropriate option to fill in the blank No. 5.

- Ans
- 1. countervailing
 - 2. unveiling
 - 3. reconciling
 - 4. veiling

Question Type : MCQ

Question ID : 264330135780

Option 1 ID : 264330531997

Option 2 ID : 264330531996

Option 3 ID : 264330531998

Option 4 ID : 264330531995

Status : Not Answered

Chosen Option : --