

Multi Tasking Non Technical Staff and Havaldar CBIC and CBN Examination 2022

Roll Number	
Candidate Name	
Venue Name	iON Digital Zone iDZ 2 Patliputra
Exam Date	04/05/2023
Exam Time	9:00 AM - 10:30 AM
Subject	MTS Non Tech Havaldar CBIC and CBN Examination 2022

Section : Numerical and Mathematical Ability

Q.1 Rs. 28500 की धनराशि 6.4% वार्षिक साधारण ब्याज पर 10 वर्षों के लिए ऋण पर दी जाती है। 10 वर्षों के बाद यह धनराशि कितनी होगी?

- Ans
- 1. Rs. 32480
 - 2. Rs. 285000
 - 3. Rs. 40290
 - 4. Rs. 46740

Question Type : MCQ

Question ID : 264330133806

Option 1 ID : 264330524249

Option 2 ID : 264330524247

Option 3 ID : 264330524250

Option 4 ID : 264330524248

Status : Answered

Chosen Option : 4

Q.2 तीन धावकों की चाल का अनुपात 3 : 2 : 4 है। तीन धावकों द्वारा समान दूरी तय करने में लिए गए समय का क्रमशः अनुपात क्या है?

- Ans
- 1. 4 : 6 : 3
 - 2. 4 : 8 : 5
 - 3. 10 : 8 : 3
 - 4. 6 : 8 : 9

Question Type : MCQ

Question ID : 264330137653

Option 1 ID : 264330539222

Option 2 ID : 264330539219

Option 3 ID : 264330539220

Option 4 ID : 264330539221

Status : Answered

Chosen Option : 1

Q.3 24 संख्याओं का औसत 43 है। यदि हम प्रत्येक संख्या में से एक संख्या 'M' घटाते हैं, तो औसत 38 हो जाता है। M का मान क्या था?

- Ans
- 1. 12
 - 2. 5
 - 3. 7
 - 4. 10

Question Type : MCQ

Question ID : 264330137648

Option 1 ID : 264330539199

Option 2 ID : 264330539202

Option 3 ID : 264330539201

Option 4 ID : 264330539200

Status : Answered

Chosen Option : 2

Q.4 एक पार्टी हॉल में, लोग नीले और लाल परिधानों में हैं। नीले परिधानों में पुरुषों की संख्या और लाल परिधानों में महिलाओं की संख्या का अनुपात 3 : 7 है। लाल परिधानों में पुरुषों की संख्या और नीले परिधानों में महिलाओं की संख्या का अनुपात 2 : 1 है। यदि नीले परिधानों में लोगों की संख्या और लाल परिधानों में लोगों की संख्या का अनुपात 35 : 76 है, तो पुरुषों की संख्या और महिलाओं की संख्या का अनुपात कितना है?

- Ans
- 1. 62 : 57
 - 2. 47 : 51
 - 3. 52 : 59
 - 4. 40 : 43

Question Type : MCQ

Question ID : 264330137654

Option 1 ID : 264330539224

Option 2 ID : 264330539226

Option 3 ID : 264330539225

Option 4 ID : 264330539223

Status : Not Answered

Chosen Option : --

Q.5 पाइप A और B मिलकर एक टंकी को 10 घंटे में भर सकते हैं। पाइप B और C मिलकर उसी टंकी को 12 घंटे में भर सकते हैं। पाइप A और C मिलकर उसी टंकी को 15 घंटे में भर सकते हैं। पाइप B अकेले उसी टंकी को कितने घंटे में भर सकता है?

- Ans
- 1. 125/11 घंटे
 - 2. 15 घंटे
 - 3. 120/7 घंटे
 - 4. 155/13 घंटे

Question Type : MCQ

Question ID : 264330137624

Option 1 ID : 264330539104

Option 2 ID : 264330539103

Option 3 ID : 264330539105

Option 4 ID : 264330539106

Status : Answered

Chosen Option : 3

Q.6 $\left(\frac{1}{5}\right) + \left[1\frac{1}{4} - \frac{1}{2}\right] \times \left(\frac{2}{5}\right)$ का मान निम्न में से किस के बीच में स्थित है?

Ans 1. 1.5 और 1.8

2. 2.1 और 2.4

3. 0.2 और 0.6

4. 0.8 और 1.2

Question Type : MCQ

Question ID : 264330133837

Option 1 ID : 264330524373

Option 2 ID : 264330524374

Option 3 ID : 264330524371

Option 4 ID : 264330524372

Status : Answered

Chosen Option : 3

Q.7 मान लीजिए कि एक थैले में 2 kg चीनी और 3 kg नमक है। थैले में कुल मात्रा का कितने प्रतिशत भाग चीनी से भरा है?

Ans 1. 35 %

2. 30 %

3. 40 %

4. 50 %

Question Type : MCQ

Question ID : 264330135092

Option 1 ID : 264330529305

Option 2 ID : 264330529306

Option 3 ID : 264330529304

Option 4 ID : 264330529303

Status : Answered

Chosen Option : 3

Q.8 330 मीटर लंबी एक रेलगाड़ी 550 मीटर लंबे पुल को पार करने में 11 सेकंड का समय लेती है। रेलगाड़ी 570 मीटर लंबे पुल को पार करने में कितना समय लेगी?

Ans 1. 20 सेकंड

2. $(45/4)$ सेकंड

3. $(47/4)$ सेकंड

4. 16 सेकंड

Question Type : MCQ

Question ID : 264330137647

Option 1 ID : 264330539195

Option 2 ID : 264330539196

Option 3 ID : 264330539197

Option 4 ID : 264330539198

Status : Answered

Chosen Option : 2

Q.9 एक त्रिभुज की भुजाओं का अनुपात 11 : 11 : 4 है। यदि त्रिभुज का क्षेत्रफल $2\sqrt{117}$ cm² है, तो बराबर भुजाओं की लंबाई कितनी है?

- Ans
- ✓ 1. 11 cm
 - ✗ 2. 9 cm
 - ✗ 3. 13 cm
 - ✗ 4. 3 cm

Question Type : MCQ

Question ID : 264330137639

Option 1 ID : 264330539166

Option 2 ID : 264330539163

Option 3 ID : 264330539164

Option 4 ID : 264330539165

Status : Answered

Chosen Option : 1

Q.10 अंकित मूल्य का 30 प्रतिशत क्रय मूल्य के 50 प्रतिशत के बराबर है। यदि कोई बड़ा नहीं दिया जाता है, तो लाभ प्रतिशत क्या होगा?

- Ans
- ✓ 1. 66.67 प्रतिशत
 - ✗ 2. 50 प्रतिशत
 - ✗ 3. 33.33 प्रतिशत
 - ✗ 4. 52.5 प्रतिशत

Question Type : MCQ

Question ID : 264330137657

Option 1 ID : 264330539236

Option 2 ID : 264330539237

Option 3 ID : 264330539235

Option 4 ID : 264330539238

Status : Answered

Chosen Option : 1

Q.11 उस त्रिभुज का क्षेत्रफल ज्ञात कीजिए जिसका आधार 34 cm है और संगत ऊँचाई 22 cm है।

- Ans
- ✗ 1. 378 cm²
 - ✗ 2. 453 cm²
 - ✓ 3. 374 cm²
 - ✗ 4. 234 cm²

Question Type : MCQ

Question ID : 264330133754

Option 1 ID : 264330524040

Option 2 ID : 264330524041

Option 3 ID : 264330524039

Option 4 ID : 264330524042

Status : Answered

Chosen Option : 3

Q.12 अनिल अकेले किसी कार्य को पूरा करने में 2 घंटे 40 मिनट का समय लेता है और सुमित अकेले उसी कार्य को अनिल से आधे समय में पूरा कर सकता है। कार्य को पूरा करने में सुमित को कितना समय लगेगा?

- Ans
- ✓ 1. 80 मिनट
 - ✗ 2. 70 मिनट
 - ✗ 3. 75 मिनट
 - ✗ 4. 90 मिनट

Question Type : MCQ

Question ID : 264330133749

Option 1 ID : 264330524021

Option 2 ID : 264330524019

Option 3 ID : 264330524020

Option 4 ID : 264330524022

Status : Answered

Chosen Option : 1

Q.13 राम और रहीम की औसत आयु 10 वर्ष है। रहीम और रमेश की औसत आयु 15 वर्ष है। राम और रमेश की औसत आयु 20 वर्ष है। इन तीनों में सबसे बड़े व्यक्ति की आयु कितनी है?

- Ans
- ✗ 1. 15 वर्ष
 - ✗ 2. 10 वर्ष
 - ✓ 3. 25 वर्ष
 - ✗ 4. 30 वर्ष

Question Type : MCQ

Question ID : 264330137135

Option 1 ID : 264330537185

Option 2 ID : 264330537183

Option 3 ID : 264330537184

Option 4 ID : 264330537186

Status : Answered

Chosen Option : 3

Q.14 P, Q को एक खिलौना 40 प्रतिशत के लाभ पर बेचता है और Q इसे R को 10 प्रतिशत के लाभ पर बेचता है। यदि R खिलौने के लिए Rs.539 का भुगतान करता है, तो P के लिए खिलौने का क्रय मूल्य क्या था?

- Ans
- ✗ 1. Rs. 400
 - ✗ 2. Rs. 300
 - ✗ 3. Rs. 450
 - ✓ 4. Rs. 350

Question Type : MCQ

Question ID : 264330137652

Option 1 ID : 264330539216

Option 2 ID : 264330539217

Option 3 ID : 264330539218

Option 4 ID : 264330539215

Status : Answered

Chosen Option : 4

Q.15 Rs. 12,600 पर 2 वर्ष के लिए 10% वार्षिक दर पर वार्षिक रूप से संयोजित चक्रवृद्धि ब्याज (CI) ज्ञात कीजिए।

- Ans
- 1. Rs. 3146
 - 2. Rs. 3646
 - 3. Rs. 2645
 - 4. Rs. 2646

Question Type : MCQ

Question ID : 264330135099

Option 1 ID : 264330529333

Option 2 ID : 264330529334

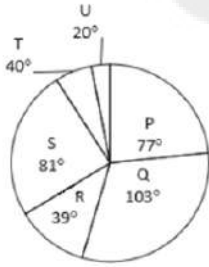
Option 3 ID : 264330529332

Option 4 ID : 264330529331

Status : Answered

Chosen Option : 4

Q.16 नीचे दिए गए चूत आलेख में 6 अलग-अलग कंपनियों में कर्मचारियों की संख्या को दर्शाया गया है। इन सभी 6 कंपनियों में कर्मचारियों की कुल संख्या 15840 है। इनमें से किसी एक विशिष्ट कंपनी में कर्मचारियों की संख्या को इन सभी 6 कंपनियों में कर्मचारियों की कुल संख्या के सापेक्ष डिग्री में दर्शाया गया है।



J1 = P, Q, S, T और U में कर्मचारियों की कुल संख्या।

J2 = P और Q में कर्मचारियों की कुल संख्या और T और U में कर्मचारियों की कुल संख्या के बीच का अंतर।

(J1 + J2) का मान क्या है?

- Ans
- 1. 19404
 - 2. 16302
 - 3. 12804
 - 4. 6600

Question Type : MCQ

Question ID : 264330137664

Option 1 ID : 264330539264

Option 2 ID : 264330539263

Option 3 ID : 264330539265

Option 4 ID : 264330539266

Status : Answered

Chosen Option : 1

Q.17 वह सबसे छोटी संख्या कौनसी है जिसे 478 में जोड़ा जाना चाहिए ताकि प्राप्त संख्या 5, 6 और 12 से पूर्णतः विभाज्य हो जाए?

- Ans
- 1. 12
 - 2. 52
 - 3. 2
 - 4. 62

Question Type : MCQ

Question ID : 264330137660

Option 1 ID : 264330539248

Option 2 ID : 264330539249

Option 3 ID : 264330539247

Option 4 ID : 264330539250

Status : Answered

Chosen Option : 3

Q.18 $3/4$, $15/16$ और $18/5$ का महत्तम समापवर्तक (HCF) है:

- Ans
- 1. $5/16$
 - 2. $15/16$
 - 3. $18/5$
 - 4. $3/80$

Question Type : MCQ

Question ID : 264330141026

Option 1 ID : 264330552453

Option 2 ID : 264330552451

Option 3 ID : 264330552454

Option 4 ID : 264330552452

Status : Answered

Chosen Option : 4

Q.19 निम्नलिखित तालिका में वर्ष 2018 और 2019 में एक परिवार के व्यय को दर्शाया गया है।

वर्ष 2018 से 2019 में कुल व्यय में कितने प्रतिशत की वृद्धि या कमी हुई है?

Articles	Expenditure(in Rs.)	
	2018	2019
Education	24000	30000
Housing	40000	48000
Entertainment	4000	3600
Food	15000	15500
Clothing	5600	3800

Expenditure (in Rs.) = व्यय (Rs. में)

Articles = प्रयोजन, Education = शिक्षा, Housing = आवासन, Entertainment = मनोरंजन, Food = भोजन,
Clothing = कपड़े

Ans

- 1. 20.33% की वृद्धि
- 2. 12.11% की कमी
- 3. 13.88% की वृद्धि
- 4. 11.44% की कमी

Question Type : MCQ

Question ID : 264330133851

Option 1 ID : 264330524428

Option 2 ID : 264330524427

Option 3 ID : 264330524429

Option 4 ID : 264330524430

Status : Answered

Chosen Option : 3

Q.20 एक मेज को Rs. 2450 में खरीदा जाता है और फिर Rs. 2940 में बेच दिया जाता है। लाभ प्रतिशत ज्ञात कीजिए।

Ans

- 1. 10%
- 2. 22%
- 3. 20%
- 4. 12%

Question Type : MCQ

Question ID : 264330138441

Option 1 ID : 264330542374

Option 2 ID : 264330542372

Option 3 ID : 264330542373

Option 4 ID : 264330542371

Status : Answered

Chosen Option : 2

Q.1 सात छात्र P, Q, R, S, T, U, और V कक्षा में शीर्ष रैंक प्राप्त करने वाले छात्र हैं। कोई भी दो छात्रों को समान रैंक नहीं मिली है। सबसे अधिक अंक वाले छात्र को प्रथम रैंक दी गई है और सबसे कम अंक वाले छात्र को सातवीं रैंक मिली है। Q को R से कम लेकिन T से अधिक अंक मिले हैं। V को S से अधिक अंक मिले हैं। U को P से अधिक लेकिन S से कम अंक मिले हैं। Q को दूसरे स्थान पर सबसे कम रैंक मिली है और S को दूसरे स्थान पर सबसे अधिक रैंक मिली है। R को P से कम अंक मिले हैं। किस छात्र को सबसे कम अंक मिले हैं?

- Ans
- 1. P
 - 2. R
 - 3. T
 - 4. U

Question Type : MCQ
Question ID : 264330137569
Option 1 ID : 264330538884
Option 2 ID : 264330538885
Option 3 ID : 264330538886
Option 4 ID : 264330538883
Status : Answered
Chosen Option : 3

Q.2 उस विकल्प को चुनिए जो तीसरी संख्या से ठीक उसी तरह संबंधित है जिस तरह दूसरी संख्या पहली संख्या से संबंधित है।

23 : 168 :: 16 : ?

- Ans
- 1. 119
 - 2. 180
 - 3. 64
 - 4. 256

Question Type : MCQ
Question ID : 264330134991
Option 1 ID : 264330528899
Option 2 ID : 264330528902
Option 3 ID : 264330528901
Option 4 ID : 264330528900
Status : Answered
Chosen Option : 1

Q.3 एक लिखित कूट भाषा में, 'SHOULD' को 'AIRLEP' लिखा जाता है। उस कूट भाषा में 'WIDELY' को कैसे लिखा जाएगा?

- Ans
- 1. VIBAGT
 - 2. VICBFT
 - 3. VIBAFU
 - 4. VIBAFT

Question Type : MCQ
Question ID : 264330138609
Option 1 ID : 264330543045
Option 2 ID : 264330543043
Option 3 ID : 264330543044
Option 4 ID : 264330543046
Status : Not Answered
Chosen Option : --

Q.4 दी गई श्रृंखला में निम्नलिखित में से कौन-सा अक्षर प्रश्न चिन्ह (?) के स्थान पर आएगा?
L, N, P, R, T, V, ?

- Ans 1. X
 2. V
 3. N
 4. F

Question Type : MCQ
Question ID : 264330137559
Option 1 ID : 264330538846
Option 2 ID : 264330538843
Option 3 ID : 264330538844
Option 4 ID : 264330538845
Status : Answered
Chosen Option : 1

Q.5 दी गई श्रृंखला में निम्नलिखित में से कौन-सी संख्या प्रश्न चिन्ह (?) के स्थान पर आएगी?
153, 158, 151, 156, 149, 154, 147, ?

- Ans 1. 152
 2. 156
 3. 159
 4. 144

Question Type : MCQ
Question ID : 264330134989
Option 1 ID : 264330528894
Option 2 ID : 264330528892
Option 3 ID : 264330528893
Option 4 ID : 264330528891
Status : Answered
Chosen Option : 1

Q.6 पाँच व्यक्ति एक बेंच पर उत्तर की ओर मुख करके बैठे हैं। S, R के ठीक बाएँ पर है और B के ठीक दाएँ पर है। M, R के दाएँ पर है। T, R और M के बीच में है। T के ठीक दाएँ पर कौन बैठा है?

- Ans 1. M
 2. B
 3. S
 4. R

Question Type : MCQ
Question ID : 264330137567
Option 1 ID : 264330538878
Option 2 ID : 264330538875
Option 3 ID : 264330538876
Option 4 ID : 264330538877
Status : Answered
Chosen Option : 1

Q.7 दिए गए पैटर्न का ध्यानपूर्वक अध्ययन कीजिए और उस संख्या को चुनिए जो इसमें प्रश्न चिन्ह (?) के स्थान पर आ सकती है।
पहली पंक्ति- 82, 91, 100
दूसरी पंक्ति- 63, 72, 81
तीसरी पंक्ति- 24, 33, ?

- Ans
- 1. 56
 - 2. 34
 - 3. 48
 - 4. 42

Question Type : MCQ
Question ID : 264330137575
Option 1 ID : 264330538909
Option 2 ID : 264330538908
Option 3 ID : 264330538910
Option 4 ID : 264330538907
Status : Answered
Chosen Option : 4

Q.8 दो कथन दिए गए हैं और दो निष्कर्ष I और II दिए गए हैं। कथनों को सत्य मानते हुए, चाहे वे सामान्यतः ज्ञात तथ्यों से अलग प्रतीत होते हों, निश्चय कीजिए कि कौन-सा निष्कर्ष तार्किक रूप से कथनों के अनुसार है।

कथन:

सभी बैग, काले हैं।
कुछ बैग, सफेद हैं।

निष्कर्ष:

- I. कुछ काले, सफेद हैं।
- II. सभी काले, बैग हैं।

- Ans
- 1. केवल निष्कर्ष II कथनों के अनुसार है
 - 2. केवल निष्कर्ष I कथनों के अनुसार है
 - 3. दोनों निष्कर्ष I और II कथनों के अनुसार हैं
 - 4. न तो निष्कर्ष I और न ही II कथनों के अनुसार है

Question Type : MCQ
Question ID : 264330137570
Option 1 ID : 264330538888
Option 2 ID : 264330538887
Option 3 ID : 264330538889
Option 4 ID : 264330538890
Status : Answered
Chosen Option : 2

Q.9 दिए गए समीकरण को सही करने के लिए किन दो संख्याओं को आपस में बदला जाना चाहिए?

$$4 \times 6 - 3 + 8 = 14$$

Ans 1. 3 और 6

2. 3 और 8

3. 8 और 14

4. 6 और 4

Question Type : MCQ

Question ID : 264330137576

Option 1 ID : 264330538912

Option 2 ID : 264330538913

Option 3 ID : 264330538914

Option 4 ID : 264330538911

Status : Answered

Chosen Option : 1

Q.10 एक निश्चित कूट भाषा में, 'CAUTION' को 'NOITCAU' लिखा जाता है। उस कूट भाषा में 'FOREVER' को कैसे लिखा जाएगा?

Ans 1. REVEFOR

2. PEVEROF

3. PEVEEOR

4. FOEVRPR

Question Type : MCQ

Question ID : 264330134980

Option 1 ID : 264330528858

Option 2 ID : 264330528856

Option 3 ID : 264330528857

Option 4 ID : 264330528855

Status : Answered

Chosen Option : 1

Q.11 एक निश्चित कूट भाषा में, 'FORTUNE' को 'ENU20ROF' लिखा जाता है। उस कूट भाषा में 'PATRICK' को कैसे लिखा जाएगा?

Ans 1. KCI18TAP

2. KCI81TAP

3. KIC18TAP

4. KCI18TPA

Question Type : MCQ

Question ID : 264330137791

Option 1 ID : 264330539772

Option 2 ID : 264330539773

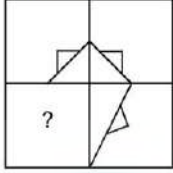
Option 3 ID : 264330539771

Option 4 ID : 264330539774

Status : Answered

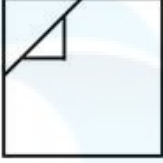
Chosen Option : 1

Q.12 उस विकल्प आकृति को चुनिए जो पैटर्न को पूरा करने के लिए नीचे दी गई आकृति में प्रश्न चिन्ह (?) के स्थान पर आएगी। (घूर्णन की अनुमति नहीं है)



Ans

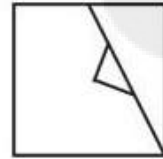
✗ 1.



✗ 2.



✓ 3.



✗ 4.



Question Type : **MCQ**

Question ID : **264330137580**

Option 1 ID : **264330538929**

Option 2 ID : **264330538930**

Option 3 ID : **264330538927**

Option 4 ID : **264330538928**

Status : **Answered**

Chosen Option : **3**

Q.13 छः मित्र एक परिधि में केंद्र की ओर मुख करके बैठे हैं। D, P और Q के बीच में है। T, M और L के बीच में है। P और M एक-दूसरे के ठीक आमने-सामने हैं। P, L के ठीक दाईं ओर है। Q के ठीक सामने कौन बैठा है?

Ans

✓ 1. **L**

✗ 2. **M**

✗ 3. **P**

✗ 4. **D**

Question Type : **MCQ**

Question ID : **264330137568**

Option 1 ID : **264330538879**

Option 2 ID : **264330538881**

Option 3 ID : **264330538880**

Option 4 ID : **264330538882**

Status : **Answered**

Chosen Option : **1**

Q.14 तीन कथन दिए गए हैं और दो निष्कर्ष I और II दिए गए हैं। कथनों को सत्य मानते हुए, चाहे वे सामान्यतः ज्ञात तथ्यों से अलग प्रतीत होते हों, निश्चय कीजिए कि कौन-सा निष्कर्ष तार्किक रूप से कथनों के अनुसार है।
कथन:

सभी बकरियाँ, काली हैं।

कुछ काले, सफेद हैं।

कोई काला, सोना नहीं है।

निष्कर्ष:

I. कुछ बकरियाँ, सफेद हैं।

II. कुछ बकरियों के सोना होने की संभावना है।

Ans

✗ 1. केवल निष्कर्ष II कथनों के अनुसार है

✗ 2. केवल निष्कर्ष I कथनों के अनुसार है

✓ 3. न तो निष्कर्ष I और न ही II कथनों के अनुसार है

✗ 4. दोनों निष्कर्ष I और II कथनों के अनुसार हैं

Question Type : MCQ

Question ID : 264330137571

Option 1 ID : 264330538892

Option 2 ID : 264330538891

Option 3 ID : 264330538894

Option 4 ID : 264330538893

Status : Answered

Chosen Option : 3

Q.15 उस विकल्प को चुनिए जो तीसरे शब्द से ठीक उसी प्रकार संबंधित है जिस प्रकार दूसरा शब्द पहले शब्द से संबंधित है।

डॉक्टर : स्टेथोस्कोप :: बढ़ई : ?

Ans

✗ 1. कप

✓ 2. हथौड़ा

✗ 3. लैपटॉप

✗ 4. चित्रकला

Question Type : MCQ

Question ID : 264330137561

Option 1 ID : 264330538854

Option 2 ID : 264330538851

Option 3 ID : 264330538852

Option 4 ID : 264330538853

Status : Answered

Chosen Option : 2

Q.16 दी गई आकृति के उस सही दर्पण प्रतिबिंब को चुनिए, जो नीचे दर्शाए गए अनुसार दर्पण को MN पर रखने पर बनेगा।

NOTIFICATION

M
N

Ans

- ✗ 1. NOTIFICATION
- ✗ 2. NOTIFICATION
- ✓ 3. NOTIFICATION
- ✗ 4. NOTIFICATION

Question Type : MCQ

Question ID : 264330133579

Option 1 ID : 264330523342

Option 2 ID : 264330523341

Option 3 ID : 264330523339

Option 4 ID : 264330523340

Status : Answered

Chosen Option : 3

Q.17 दी गई श्रृंखला में निम्नलिखित में से कौन-सी संख्या प्रश्न चिन्ह (?) के स्थान पर आएगी?
44, 52, 54, 62, 64, 72, ?

Ans

- ✗ 1. 96
- ✗ 2. 79
- ✗ 3. 85
- ✓ 4. 74

Question Type : MCQ

Question ID : 264330137573

Option 1 ID : 264330538900

Option 2 ID : 264330538901

Option 3 ID : 264330538899

Option 4 ID : 264330538902

Status : Answered

Chosen Option : 4

Q.18 दिए गए समीकरण को सही करने के लिए किन दो संख्याओं को आपस में बदला जाना चाहिए?

$$96 \div 6 - 16 + 12 \times 8 = 40$$

- Ans
- 1. 6 और 8
 - 2. 6 और 12
 - 3. 6 और 16
 - 4. 96 और 16

Question Type : MCQ

Question ID : 264330133522

Option 1 ID : 264330523120

Option 2 ID : 264330523122

Option 3 ID : 264330523121

Option 4 ID : 264330523119

Status : Answered

Chosen Option : 2

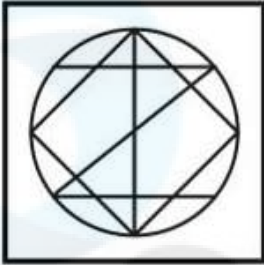
Q.19 उस विकल्प आकृति को चुनिए जिसमें दी गई आकृति (X) उसके भाग के रूप में निहित है (घूर्णन की अनुमति नहीं है)।



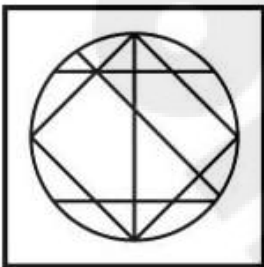
(X)

Ans

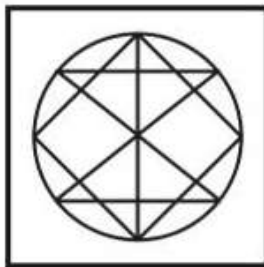
✗ 1.



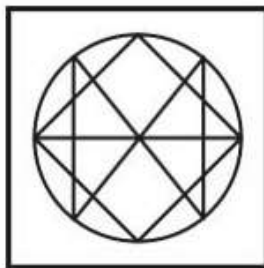
✗ 2.



✓ 3.



✗ 4.



Question Type : MCQ

Question ID : 264330133578

Option 1 ID : 264330523336

Option 2 ID : 264330523338

Option 3 ID : 264330523335

Option 4 ID : 264330523337

Status : Answered

Chosen Option : 3

Q.20 उस विकल्प को चुनिए जो तीसरे अक्षर-समूह से ठीक उसी प्रकार संबंधित है जिस प्रकार दूसरा अक्षर-समूह पहले अक्षर-समूह से संबंधित है।
REG : SDH :: UFC : ?

- Ans
- 1. VMD
 - 2. DEV
 - 3. VEF
 - 4. VED

Question Type : MCQ

Question ID : 264330137562

Option 1 ID : 264330538857

Option 2 ID : 264330538855

Option 3 ID : 264330538858

Option 4 ID : 264330538856

Status : Answered

Chosen Option : 4

Section : General Awareness

Q.1 संविधान सभा का गठन, कैबिनेट मिशन की सिफारिश पर किया गया था जिसने _____ में भारत का दौरा किया था।

- Ans
- 1. 1952
 - 2. 1959
 - 3. 1946
 - 4. 1962

Question Type : MCQ

Question ID : 264330137756

Option 1 ID : 264330539631

Option 2 ID : 264330539633

Option 3 ID : 264330539632

Option 4 ID : 264330539634

Status : Answered

Chosen Option : 3

Q.2 किस युद्ध के बाद अशोक ने भौतिक अधिग्रहण (physical occupation) की नीति को त्याग दिया?

- Ans
- 1. कलिंग युद्ध (Kalinga War)
 - 2. तराइन के युद्ध (Battle of the Tarain)
 - 3. मगध-अंग युद्ध (Magadha-Anga war)
 - 4. झेलम के युद्ध (Battle of the Hydaspes)

Question Type : MCQ

Question ID : 264330134044

Option 1 ID : 264330525199

Option 2 ID : 264330525201

Option 3 ID : 264330525202

Option 4 ID : 264330525200

Status : Answered

Chosen Option : 1

Q.3 स्वामी विवेकानंद के आध्यात्मिक गुरु कौन थे?

- Ans
- 1. नरेंद्र दत्ता
 - 2. गोपाल कृष्ण गोखले
 - 3. आचार्य नरेंद्र देव
 - 4. रामकृष्ण परमहंस

Question Type : MCQ
Question ID : 264330134047
Option 1 ID : 264330525211
Option 2 ID : 264330525214
Option 3 ID : 264330525212
Option 4 ID : 264330525213
Status : Answered
Chosen Option : 2

Q.4 निम्नलिखित में से किस ग्रह को पृथ्वी का जुड़वाँ ग्रह भी कहा जाता है?

- Ans
- 1. शुक्र
 - 2. शनि
 - 3. बृहस्पति
 - 4. नेपच्यून

Question Type : MCQ
Question ID : 264330134652
Option 1 ID : 264330527563
Option 2 ID : 264330527566
Option 3 ID : 264330527564
Option 4 ID : 264330527565
Status : Answered
Chosen Option : 1

Q.5 Which RBI tool refers to buying and selling of bonds issued by the Government in the open market?

- Ans
- 1. Moral suasion
 - 2. Marginal standing facility
 - 3. Liquidity adjustment facility
 - 4. Open Market Operations

Question Type : MCQ
Question ID : 264330138684
Option 1 ID : 264330543343
Option 2 ID : 264330543346
Option 3 ID : 264330543345
Option 4 ID : 264330543344
Status : Answered
Chosen Option : 3

Q.6 निम्नलिखित नृत्य शैलियों में से कौन-सी मूल रूप से तमिलनाडु के मंदिरों में देवदासियों द्वारा की जाती थी और इसलिए इसे दासिअट्टम (Dasiattam) के नाम से भी जाना जाता है?

- Ans
- 1. मणिपुरी
 - 2. कुचिपुड़ी
 - 3. भरतनाट्यम
 - 4. ओडिसी

Question Type : MCQ
Question ID : 264330137738
Option 1 ID : 264330539559
Option 2 ID : 264330539562
Option 3 ID : 264330539561
Option 4 ID : 264330539560
Status : Answered
Chosen Option : 3

Q.7 भारत में उगादि त्यौहार _____ के उपलक्ष्य में मनाता है।

- Ans
- 1. पहली बारिश
 - 2. बारिश के मौसम
 - 3. नववर्ष की शुरुआत
 - 4. फसल कटाई के मौसम

Question Type : MCQ
Question ID : 264330134034
Option 1 ID : 264330525162
Option 2 ID : 264330525161
Option 3 ID : 264330525160
Option 4 ID : 264330525159
Status : Answered
Chosen Option : 4

Q.8 खेले इंडिया यूथ खेलों का पाँचवा संस्करण वर्ष 2023 में कहाँ आयोजित किया गया?

- Ans
- 1. महाराष्ट्र
 - 2. पश्चिम बंगाल
 - 3. आंध्रप्रदेश
 - 4. मध्यप्रदेश

Question Type : MCQ
Question ID : 264330137758
Option 1 ID : 264330539642
Option 2 ID : 264330539641
Option 3 ID : 264330539640
Option 4 ID : 264330539639
Status : Answered
Chosen Option : 4

Q.9 बैलेनोग्लोसस (Balanoglossus) प्राणी जगत के निम्नलिखित में से किस संघ से संबंधित है?

- Ans
- 1. हेमीकार्डेटा (Hemichordata)
 - 2. एकाइनोडर्मेटा (Echinodermata)
 - 3. मोलस्का (Mollusca)
 - 4. आर्थ्रोपोडा (Arthropoda)

Question Type : MCQ
Question ID : 264330137742
Option 1 ID : 264330539576
Option 2 ID : 264330539575
Option 3 ID : 264330539577
Option 4 ID : 264330539578
Status : Answered
Chosen Option : 2

Q.10 बाबर ने महमूद लोदी और सुल्तान नुसरत शाह को 1529 में _____ के युद्ध में हराकर भारत में मुगल शासन की स्थापना की।

- Ans
- 1. चौसा
 - 2. घाघरा
 - 3. कन्नौज
 - 4. खानवा

Question Type : MCQ
Question ID : 264330134658
Option 1 ID : 264330527590
Option 2 ID : 264330527587
Option 3 ID : 264330527589
Option 4 ID : 264330527588
Status : Answered
Chosen Option : 2

Q.11 प्रधानमंत्री ग्रामोदय योजना वर्ष _____ में शुरू की गई थी।

- Ans
- 1. 1998
 - 2. 2005
 - 3. 2000
 - 4. 2010

Question Type : MCQ
Question ID : 264330138291
Option 1 ID : 264330541771
Option 2 ID : 264330541773
Option 3 ID : 264330541772
Option 4 ID : 264330541774
Status : Answered
Chosen Option : 2

Q.12 मशहूर कलाकार सितारा देवी की 101वीं जयंती पर निर्माता राज सी आनंद (Raj C Anand) ने उनके जीवन पर एक चलचित्र बनाने की घोषणा की है। सितारा देवी एक प्रसिद्ध _____ नर्तकी थीं।

- Ans
- 1. ओडिसी
 - 2. कथक
 - 3. कुचिपुड़ी
 - 4. कथकली

Question Type : MCQ

Question ID : 264330138681

Option 1 ID : 264330543333

Option 2 ID : 264330543331

Option 3 ID : 264330543332

Option 4 ID : 264330543334

Status : Answered

Chosen Option : 4

Q.13 निम्नलिखित अधिनियमों में से किस अधिनियम ने द्वैध शासन की शुरुआत की, अर्थात्, कार्यकारी पार्षद और लोकप्रिय मंत्री दोनों का शासन?

- Ans
- 1. चार्टर अधिनियम, 1813
 - 2. भारतीय परिषद अधिनियम, 1861
 - 3. भारत सरकार अधिनियम, 1858
 - 4.

मॉन्टेग्यू-चेम्सफोर्ड सुधार (Montague-Chelmsford Reform) (भारत सरकार अधिनियम), 1919

Question Type : MCQ

Question ID : 264330133996

Option 1 ID : 264330525009

Option 2 ID : 264330525010

Option 3 ID : 264330525007

Option 4 ID : 264330525008

Status : Answered

Chosen Option : 4

Q.14 संगमरमर का रासायनिक नाम क्या है ?

- Ans
- 1. कैल्शियम हाइड्रॉक्साइड (Calcium hydroxide)
 - 2. मैग्नीशियम ऑक्साइड (Magnesium oxide)
 - 3. कैल्शियम कार्बोनेट (Calcium carbonate)
 - 4. सोडियम हाइड्रॉक्साइड (Sodium hydroxide)

Question Type : MCQ

Question ID : 264330134651

Option 1 ID : 264330527562

Option 2 ID : 264330527560

Option 3 ID : 264330527559

Option 4 ID : 264330527561

Status : Answered

Chosen Option : 3

Q.15 2011 की जनगणना के अनुसार, भारत में नगरीय जनसंख्या का प्रतिशत कितना था? (अनुमानित सीमा प्रदान करें)

- Ans
- 1. 40-45%
 - 2. 20-25%
 - 3. 10-15%
 - 4. 30-35%

Question Type : MCQ
Question ID : 264330133942
Option 1 ID : 264330524794
Option 2 ID : 264330524792
Option 3 ID : 264330524791
Option 4 ID : 264330524793
Status : Answered
Chosen Option : 4

Q.16 निम्नलिखित में से किसे 'ठुमरी की रानी' ('Queen of Thumri') के नाम से जाना जाता था?

- Ans
- 1. सिद्धेश्वरी देवी (Siddheswari Devi)
 - 2. बेगम परवीन सुल्ताना (Begum Parveen Sultana)
 - 3. गिरिजा देवी (Girija Devi)
 - 4. गंगूबाई हंगल (Gangubai Hangal)

Question Type : MCQ
Question ID : 264330137754
Option 1 ID : 264330539625
Option 2 ID : 264330539624
Option 3 ID : 264330539626
Option 4 ID : 264330539623
Status : Answered
Chosen Option : 3

Q.17 कोदों (Kodon), कुटकी (Kutki), हड़का (Hraka), बाउटी (Bauti) _____ के उदाहरण हैं।

- Ans
- 1. बाजरा
 - 2. फलों
 - 3. सब्जियों
 - 4. रेशम

Question Type : MCQ
Question ID : 264330138691
Option 1 ID : 264330543373
Option 2 ID : 264330543371
Option 3 ID : 264330543372
Option 4 ID : 264330543374
Status : Answered
Chosen Option : 1

Q.18 निम्नलिखित में से क्या भारत के संविधान में संघ सूची के अंतर्गत आता है?

- Ans
- ✓ 1. प्रत्यर्पण (Extradition)
 - ✗ 2. सामाजिक नियोजन (Social planning)
 - ✗ 3. शराब (Liquor)
 - ✗ 4. बॉयलर (Boilers)

Question Type : MCQ
Question ID : 264330137757
Option 1 ID : 264330539638
Option 2 ID : 264330539636
Option 3 ID : 264330539635
Option 4 ID : 264330539637
Status : Answered
Chosen Option : 1

Q.19 कवास थर्मल पावर स्टेशन निम्नलिखित में से किस राज्य में स्थित है?

- Ans
- ✗ 1. राजस्थान
 - ✗ 2. पश्चिम बंगाल
 - ✓ 3. गुजरात
 - ✗ 4. महाराष्ट्र

Question Type : MCQ
Question ID : 264330137746
Option 1 ID : 264330539591
Option 2 ID : 264330539592
Option 3 ID : 264330539594
Option 4 ID : 264330539593
Status : Answered
Chosen Option : 3

Q.20 निम्नलिखित में से किसने सुल्तान जोहोर कप 2022 जीता है?

- Ans
- ✗ 1. ऑस्ट्रेलिया
 - ✗ 2. न्यूज़ीलैंड
 - ✓ 3. भारत
 - ✗ 4. इंग्लैंड

Question Type : MCQ
Question ID : 264330134667
Option 1 ID : 264330527625
Option 2 ID : 264330527623
Option 3 ID : 264330527626
Option 4 ID : 264330527624
Status : Answered
Chosen Option : 3

Q.21 प्रतिस्पर्धा (संशोधन) विधेयक (The Competition (Amendment) Bill), 2022 का उद्देश्य लेन-देन के मूल्य के आधार पर विलय और अधिग्रहण (mergers and acquisitions) को विनियमित करना है, और यह कहता है कि ₹2,000 करोड़ से अधिक के सौदे मूल्य वाले किसी भी लेन-देन के लिए भारतीय प्रतिस्पर्धा आयोग (Competition Commission of India) की स्वीकृति (approval) आवश्यक होगी। मंजूरी में तेजी लाने के लिए, प्रस्तावित कानून यह भी कहता है कि सीसीआई (CCI) के लिए इस तरह के लेन-देन पर आदेश पारित करने की समय सीमा 210 कार्य दिवसों से घटाकर _____ दिवस कर दी जाएगी।

- Ans
- 1. 200
 - 2. 120
 - 3. 175
 - 4. 150

Question Type : MCQ
Question ID : 264330133982
Option 1 ID : 264330524954
Option 2 ID : 264330524952
Option 3 ID : 264330524953
Option 4 ID : 264330524951
Status : Answered
Chosen Option : 2

Q.22 आगरा का किला 16वीं शताब्दी में _____ द्वारा बनवाए गए लोकप्रिय मुगल स्मारकों में से एक है।

- Ans
- 1. अकबर
 - 2. बाबर
 - 3. हुमायूँ
 - 4. शाहजहाँ

Question Type : MCQ
Question ID : 264330133985
Option 1 ID : 264330524963
Option 2 ID : 264330524965
Option 3 ID : 264330524964
Option 4 ID : 264330524966
Status : Answered
Chosen Option : 3

Q.23 निम्नलिखित में से किस रसायन का उपयोग विसंक्रामक के रूप में जल को शुद्ध करने के लिए किया जाता है?

- Ans
- 1. टेफ्लॉन
 - 2. फॉस्फर
 - 3. एथेनॉल
 - 4. क्लोरीन

Question Type : MCQ
Question ID : 264330134649
Option 1 ID : 264330527552
Option 2 ID : 264330527554
Option 3 ID : 264330527551
Option 4 ID : 264330527553
Status : Answered
Chosen Option : 4

Q.24 उपन्यास 'द पैलेस ऑफ इल्यूजन्स (The Palace of Illusions)' _____ द्वारा लिखा गया है।

- Ans
- 1. अमीश त्रिपाठी
 - 2. किरण देसाई
 - 3. चित्रा बनर्जी दिवाकरणी
 - 4. इंदु सुंदरेसन

Question Type : MCQ
Question ID : 264330138679
Option 1 ID : 264330543325
Option 2 ID : 264330543323
Option 3 ID : 264330543326
Option 4 ID : 264330543324
Status : Answered
Chosen Option : 1

Q.25 केंद्रीय वित्तमंत्री निर्मला सीतारमण ने 2022 में यह घोषणा की है कि वह _____ प्लेटफॉर्म लॉन्च करेंगी, जो ओरिएंटल और दक्षिण एशियाई अध्ययन (Oriental and South Asian Studies) के लिए एक ऑनलाइन शिक्षण प्लेटफॉर्म है।

- Ans
- 1. हर घर विद्या (Har Ghar Vidya)
 - 2. भारत विद्या (Bharat Vidya)
 - 3. विद्या, मेरा अधिकार (Vidya, Mera Adhikar)
 - 4. विद्या (Vidya)

Question Type : MCQ
Question ID : 264330137736
Option 1 ID : 264330539554
Option 2 ID : 264330539553
Option 3 ID : 264330539552
Option 4 ID : 264330539551
Status : Answered
Chosen Option : 2

Section : English Language and Comprehension

Q.1 Select the most appropriate option to fill in the blank.
Multi-client messaging systems make it easier to keep in _____.

- Ans
- 1. roll
 - 2. touch
 - 3. diary
 - 4. secret

Question Type : MCQ
Question ID : 264330134526
Option 1 ID : 264330527065
Option 2 ID : 264330527066
Option 3 ID : 264330527064
Option 4 ID : 264330527063
Status : Answered
Chosen Option : 2

Q.2 Choose the word that can substitute the given group of words.

Bearing no name

- Ans
- 1. Pseudonym
 - 2. Anonymous
 - 3. Anomaly
 - 4. Namesake

Question Type : **MCQ**
Question ID : **264330134785**
Option 1 ID : **264330528085**
Option 2 ID : **264330528086**
Option 3 ID : **264330528083**
Option 4 ID : **264330528084**
Status : **Answered**
Chosen Option : **2**

Q.3 Improve the underlined part of the sentence. Choose 'No improvement' as an answer if the sentence is grammatically correct.

I rode my bike to worked those morning.

- Ans
- 1. work this
 - 2. No improvement
 - 3. work these
 - 4. worked this

Question Type : **MCQ**
Question ID : **264330134774**
Option 1 ID : **264330528043**
Option 2 ID : **264330528046**
Option 3 ID : **264330528044**
Option 4 ID : **264330528045**
Status : **Answered**
Chosen Option : **1**

Q.4 Select the most appropriate synonym of the given word.

Equivocal

- Ans
- 1. Definite
 - 2. Secure
 - 3. Ambiguous
 - 4. Insecure

Question Type : **MCQ**
Question ID : **264330136099**
Option 1 ID : **264330533203**
Option 2 ID : **264330533204**
Option 3 ID : **264330533206**
Option 4 ID : **264330533205**
Status : **Answered**
Chosen Option : **3**

Q.5 Choose the sentence with no spelling error.

- Ans** ✓ 1. Everything hurt in a dull, constant way.
✗ 2. Everything hurrt in a dull, constant way.
✗ 3. Everything hurt in a dul, contant weigh.
✗ 4. Everything hurt in a dull, contsant way.

Question Type : **MCQ**
Question ID : **264330134525**
Option 1 ID : **264330527061**
Option 2 ID : **264330527060**
Option 3 ID : **264330527062**
Option 4 ID : **264330527059**
Status : **Answered**
Chosen Option : **1**

Q.6 Select the most appropriate option to substitute the bracketed segment in the given sentence. If there is no need to substitute it, select 'no substitution required'.

This preoccupation with him was becoming an obsession (that was beginning to effect her) ability to take care of the house.

- Ans** ✗ 1. No substitution required
✓ 2. that was beginning to affect her ability
✗ 3. which was begin to affect her ability
✗ 4. which was beginning to effect her ability

Question Type : **MCQ**
Question ID : **264330136218**
Option 1 ID : **264330533666**
Option 2 ID : **264330533665**
Option 3 ID : **264330533664**
Option 4 ID : **264330533663**
Status : **Answered**
Chosen Option : **4**

Q.7 Select the most appropriate option to fill in the blank.

Join our networks to _____ better Governance.

- Ans** ✗ 1. sedate
✗ 2. drain
✓ 3. promote
✗ 4. disintegrate

Question Type : **MCQ**
Question ID : **264330136089**
Option 1 ID : **264330533168**
Option 2 ID : **264330533167**
Option 3 ID : **264330533170**
Option 4 ID : **264330533169**
Status : **Answered**
Chosen Option : **3**

Q.8 Select the most appropriate word for the given group of words.

Persons who are unfairly blamed for something that others have done

- Ans
- 1. Disdain
 - 2. Epitome
 - 3. Expedition
 - 4. Scapegoat

Question Type : MCQ
Question ID : 264330136098
Option 1 ID : 264330533201
Option 2 ID : 264330533200
Option 3 ID : 264330533199
Option 4 ID : 264330533202
Status : Answered
Chosen Option : 1

Q.9 Identify the segment that contains a grammatical error. If there is no error, select 'No error'.

The timescale of prokaryote evolution / have been difficult to reconstruct / because of a limited fossil record.

- Ans
- 1. because of a limited fossil record.
 - 2. have been difficult to reconstruct
 - 3. The timescale of prokaryote evolution
 - 4. No error

Question Type : MCQ
Question ID : 264330136085
Option 1 ID : 264330533153
Option 2 ID : 264330533152
Option 3 ID : 264330533151
Option 4 ID : 264330533154
Status : Answered
Chosen Option : 4

Q.10 Choose the word that is opposite in meaning to the given word.

Disregard

- Ans
- 1. Curiosity
 - 2. Demote
 - 3. Split
 - 4. Hidden

Question Type : MCQ
Question ID : 264330134468
Option 1 ID : 264330526841
Option 2 ID : 264330526840
Option 3 ID : 264330526839
Option 4 ID : 264330526842
Status : Answered
Chosen Option : 1

Q.11 A sentence has been given with a blank to be filled with an appropriate option. Choose the correct alternative.

I _____ the cake before my mother arrived.

- Ans**
- 1. had baked
 - 2. have baked
 - 3. bake
 - 4. baked

Question Type : **MCQ**
Question ID : **264330134535**
Option 1 ID : **264330527100**
Option 2 ID : **264330527102**
Option 3 ID : **264330527101**
Option 4 ID : **264330527099**
Status : **Answered**
Chosen Option : **1**

Q.12 Select the word segment that substitutes (replaces) the bracketed word segment correctly and completes the sentence meaningfully. Select the option 'no correction required' if the sentence is correct as given.

She ran 12 kms at a stretch, (which are a greater) distance for a rookie.

- Ans**
- 1. which are greatest
 - 2. No correction required
 - 3. what is great
 - 4. which is quite some

Question Type : **MCQ**
Question ID : **264330136643**
Option 1 ID : **264330535295**
Option 2 ID : **264330535298**
Option 3 ID : **264330535296**
Option 4 ID : **264330535297**
Status : **Answered**
Chosen Option : **2**

Q.13 Identify the segment that contains a grammatical error. If there is no error, select 'No error'.

The last time he repeated / the same mistake I thought he would / feel many sorry but I was wrong.

- Ans**
- 1. The last time he repeated
 - 2. No error
 - 3. feel many sorry but I was wrong.
 - 4. the same mistake I thought he would

Question Type : **MCQ**
Question ID : **264330136640**
Option 1 ID : **264330535283**
Option 2 ID : **264330535286**
Option 3 ID : **264330535285**
Option 4 ID : **264330535284**
Status : **Answered**
Chosen Option : **3**

Q.14 Select the correctly spelt word.

- Ans
- 1. Epiphene
 - 2. Epiphany
 - 3. Epephany
 - 4. Epipheny

Question Type : MCQ
Question ID : 264330136105
Option 1 ID : 264330533230
Option 2 ID : 264330533228
Option 3 ID : 264330533227
Option 4 ID : 264330533229
Status : Answered
Chosen Option : 4

Q.15 Select the most appropriate antonym to substitute the bracketed word in the given sentence.
So it would appear that from now on I am going to have to be more (tactful) and diplomatic in my meanderings.

- Ans
- 1. Ungracious
 - 2. Sycophantic
 - 3. Grovelling
 - 4. Fawning

Question Type : MCQ
Question ID : 264330136102
Option 1 ID : 264330533217
Option 2 ID : 264330533216
Option 3 ID : 264330533215
Option 4 ID : 264330533218
Status : Answered
Chosen Option : 4

Q.16 Select the most appropriate option to fill in the blank.

Eventually, the water will _____ through the surrounding concrete.

- Ans
- 1. permeate
 - 2. statolith
 - 3. aerate
 - 4. delegate

Question Type : MCQ
Question ID : 264330136108
Option 1 ID : 264330533240
Option 2 ID : 264330533241
Option 3 ID : 264330533242
Option 4 ID : 264330533239
Status : Answered
Chosen Option : 1

Q.17 In the following question, out of the given four alternatives, select the alternative which best expresses the meaning of the Idiom/Phrase.

To meet one's eyes

- Ans**
- 1. To confess something
 - 2. To make haste
 - 3. To meet someone regularly
 - 4. To look at someone directly while they are looking at you

Question Type : **MCQ**
Question ID : **264330134791**
Option 1 ID : **264330528110**
Option 2 ID : **264330528108**
Option 3 ID : **264330528109**
Option 4 ID : **264330528107**
Status : **Answered**
Chosen Option : **1**

Q.18 Select the most appropriate meaning of the bracketed idiom in the given sentence.

The first sample of ore from the trial boring is very promising, but we should remember that (one swallow does not make a summer.)

- Ans**
- 1. The whole of everything
 - 2.
- A single fortunate event does not mean that what follows will also be good.
- 3. To come out of one trouble and get into a worse
 - 4.
- The fact of failure or escape is not affected by the narrowness of the margin

Question Type : **MCQ**
Question ID : **264330136104**
Option 1 ID : **264330533226**
Option 2 ID : **264330533223**
Option 3 ID : **264330533224**
Option 4 ID : **264330533225**
Status : **Answered**
Chosen Option : **4**

Q.19 Choose the word that means the same as the given word.
Gauge

- Ans**
- 1. Measure
 - 2. Attempt
 - 3. Valve
 - 4. Diagnose

Question Type : **MCQ**
Question ID : **264330134545**
Option 1 ID : **264330527135**
Option 2 ID : **264330527136**
Option 3 ID : **264330527138**
Option 4 ID : **264330527137**
Status : **Answered**
Chosen Option : **1**

Q.20 Find the part of the given sentence that has an error in it. If there is no error, choose 'No error'.

Participants in our studies reviewed these online dating profiles.

- Ans**
- 1. online dating profiles.
 - 2. studies reviewed these
 - 3. Participants in our
 - 4. No error

Question Type : **MCQ**

Question ID : **264330134372**

Option 1 ID : **264330526473**

Option 2 ID : **264330526472**

Option 3 ID : **264330526471**

Option 4 ID : **264330526474**

Status : **Answered**

Chosen Option : **3**

Comprehension:

In the following passage some of the words have been deleted. Read the passage carefully and select the correct answer for the given blank out of the four alternatives.

The "Sesame Street" spinoff (1) _____ to be the first Russian-language educational TV (2) _____ aimed specifically at preschoolers. The project (3) _____ support from both American and Russian government officials. "If we do not reform our (4) _____, we can hardly hope that we will reform our society," (5) _____ Elena Lenskaya, a director in Russia's Ministry of Education, during a 1992 U.S. congressional hearing on the planned adaptation.

SubQuestion No : 21

Q.21 Select the most appropriate option to fill in blank number 1.

- Ans**
- 1. set out
 - 2. set in
 - 3. set aside
 - 4. set off

Question Type : **MCQ**

Question ID : **264330134459**

Option 1 ID : **264330526803**

Option 2 ID : **264330526805**

Option 3 ID : **264330526806**

Option 4 ID : **264330526804**

Status : **Answered**

Chosen Option : **1**

Comprehension:

In the following passage some of the words have been deleted. Read the passage carefully and select the correct answer for the given blank out of the four alternatives.

The "Sesame Street" spinoff (1) _____ to be the first Russian-language educational TV (2) _____ aimed specifically at preschoolers. The project (3) _____ support from both American and Russian government officials. "If we do not reform our (4) _____, we can hardly hope that we will reform our society," (5) _____ Elena Lenskaya, a director in Russia's Ministry of Education, during a 1992 U.S. congressional hearing on the planned adaptation.

SubQuestion No : 22

Q.22 Select the most appropriate option to fill in blank number 2.

- Ans 1. program
 2. solution
 3. pattern
 4. recipe

Question Type : **MCQ**

Question ID : **264330134460**

Option 1 ID : **264330526808**

Option 2 ID : **264330526807**

Option 3 ID : **264330526809**

Option 4 ID : **264330526810**

Status : **Answered**

Chosen Option : **1**

Comprehension:

In the following passage some of the words have been deleted. Read the passage carefully and select the correct answer for the given blank out of the four alternatives.

The "Sesame Street" spinoff (1) _____ to be the first Russian-language educational TV (2) _____ aimed specifically at preschoolers. The project (3) _____ support from both American and Russian government officials. "If we do not reform our (4) _____, we can hardly hope that we will reform our society," (5) _____ Elena Lenskaya, a director in Russia's Ministry of Education, during a 1992 U.S. congressional hearing on the planned adaptation.

SubQuestion No : 23

Q.23 Select the most appropriate option to fill in blank number 3.

- Ans 1. receive
 2. received
 3. did received
 4. receiving

Question Type : **MCQ**

Question ID : **264330134461**

Option 1 ID : **264330526812**

Option 2 ID : **264330526814**

Option 3 ID : **264330526813**

Option 4 ID : **264330526811**

Status : **Answered**

Chosen Option : **2**