

Multi Tasking Non Technical Staff and Havaldar CBIC and CBN Examination 2022

Roll Number	
Candidate Name	
Venue Name	iON Digital Zone iDZ Sandalpur
Exam Date	04/05/2023
Exam Time	12:00 PM - 2:00 PM
Subject	MTS Non Tech Havaldar CBIC and CBN Examination 2022

Section : Numerical and Mathematical Ability

Q.1 13, 26 और 52 के लघुत्तम समापवर्त्य और महत्तम समापवर्तक का अनुपात क्या होगा?

- Ans
- 1. 13 : 1
 - 2. 6 : 1
 - 3. 5 : 1
 - 4. 4 : 1

Question Type : MCQ

Question ID : 264330139071

Option 1 ID : 264330544894

Option 2 ID : 264330544891

Option 3 ID : 264330544892

Option 4 ID : 264330544893

Status : Answered

Chosen Option : 4

Q.2 यदि अमन अपनी सामान्य चाल से 12.5 प्रतिशत कम चाल से यात्रा करता है, तो वह 9 मिनट देर से पहुँचेगा। उसके द्वारा लिया जाने वाला सामान्य समय क्या है?

- Ans
- 1. 56 मिनट
 - 2. 70 मिनट
 - 3. 63 मिनट
 - 4. 49 मिनट

Question Type : MCQ

Question ID : 264330139058

Option 1 ID : 264330544840

Option 2 ID : 264330544842

Option 3 ID : 264330544841

Option 4 ID : 264330544839

Status : Answered

Chosen Option : 3

Q.3 यदि $p : q$ बराबर $4 : 3$ है और $q : r$ बराबर $5 : 2$ है, तो $p : q : r$ ज्ञात कीजिए।

- Ans
- 1. $10 : 4 : 7$
 - 2. $15 : 6 : 20$
 - 3. $7 : 4 : 10$
 - 4. $20 : 15 : 6$

Question Type : MCQ

Question ID : 264330135098

Option 1 ID : 264330529329

Option 2 ID : 264330529328

Option 3 ID : 264330529330

Option 4 ID : 264330529327

Status : Answered

Chosen Option : 4

Q.4 एक कंप्यूटर का अंकित मूल्य Rs.14000 है। कंप्यूटर का विक्रय मूल्य Rs.9702 है। यदि 23 प्रतिशत और y प्रतिशत के दो क्रमिक बट्टे दिए जाते हैं, तो y का मान क्या है?

- Ans
- 1. 12 प्रतिशत
 - 2. 15 प्रतिशत
 - 3. 10 प्रतिशत
 - 4. 5 प्रतिशत

Question Type : MCQ

Question ID : 264330139068

Option 1 ID : 264330544882

Option 2 ID : 264330544881

Option 3 ID : 264330544880

Option 4 ID : 264330544879

Status : Answered

Chosen Option : 3

Q.5 एक व्यापारी एक वस्तु को 20 प्रतिशत लाभ पर बेचता है। यदि वह उसे क्रय मूल्य के आधे मूल्य पर खरीदता है और पहले वाले विक्रय मूल्य पर ही बेच देता है, तो लाभ प्रतिशत क्या होगा?

- Ans
- 1. 100 प्रतिशत
 - 2. 140 प्रतिशत
 - 3. 150 प्रतिशत
 - 4. 50 प्रतिशत

Question Type : MCQ

Question ID : 264330139063

Option 1 ID : 264330544859

Option 2 ID : 264330544860

Option 3 ID : 264330544861

Option 4 ID : 264330544862

Status : Answered

Chosen Option : 2

Q.6 12 और 25 के बीच की अभाज्य संख्याओं का औसत क्या है?

Ans 1. 24

2. 18

3. 20

4. 23

Question Type : MCQ

Question ID : 264330139059

Option 1 ID : 264330544846

Option 2 ID : 264330544845

Option 3 ID : 264330544844

Option 4 ID : 264330544843

Status : Answered

Chosen Option : 2

Q.7 $96 \text{ of } 10 - 40 + 19 \div \{ [70 + (40 - 22) \div 3] \div 4 \}$ का मान है :

Ans 1. 900

2. 921

3. 880

4. 800

Question Type : MCQ

Question ID : 264330135065

Option 1 ID : 264330529196

Option 2 ID : 264330529198

Option 3 ID : 264330529195

Option 4 ID : 264330529197

Status : Answered

Chosen Option : 2

Q.8 राजीव 9% के लाभ पर मोहन को एक पुस्तक बेचता है और मोहन इसे गोपाल को 13% के लाभ पर बेचता है। यदि गोपाल इसके लिए Rs.12,317 का भुगतान करता है, तो राजीव द्वारा चुकाया गया क्रय मूल्य ज्ञात कीजिए।

Ans 1. Rs. 16,000

2. Rs. 11,000

3. Rs. 10,000

4. Rs. 15,000

Question Type : MCQ

Question ID : 264330141038

Option 1 ID : 264330552502

Option 2 ID : 264330552501

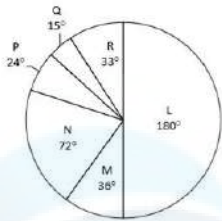
Option 3 ID : 264330552499

Option 4 ID : 264330552500

Status : Answered

Chosen Option : 3

Q.9 नीचे दिए गए वृत्त आलेख में एक वर्ष में छः कंपनियों द्वारा निर्मित टुकों की संख्या को दर्शाया गया है। इन सभी छः कंपनियों द्वारा निर्मित कुल टुक 2160 हैं। इनमें से किसी एक विशिष्ट कंपनी द्वारा निर्मित टुकों की संख्या को इन सभी छः कंपनियों द्वारा निर्मित कुल टुकों की संख्या के सापेक्ष डिग्री में दर्शाया गया है।



L, N और Q द्वारा निर्मित टुकों की कुल संख्या, M और R द्वारा निर्मित टुकों की कुल संख्या से कितने प्रतिशत अधिक है?

- Ans**
- 1. 192.85 प्रतिशत
 - 2. 286.95 प्रतिशत
 - 3. 188.24 प्रतिशत
 - 4. 274.56 प्रतिशत

Question Type : MCQ

Question ID : 264330139075

Option 1 ID : 264330544909

Option 2 ID : 264330544908

Option 3 ID : 264330544910

Option 4 ID : 264330544907

Status : Answered

Chosen Option : 2

Q.10 वार्षिक चक्रवृद्धि ब्याज की किस वार्षिक दर पर, Rs.20000 की धनराशि 1 वर्ष 6 माह में अर्धवार्षिक रूप से संयोजित होकर Rs.23152.50 हो जाती है?

- Ans**
- 1. 8% वार्षिक
 - 2. 5% वार्षिक
 - 3. 12% वार्षिक
 - 4. 10% वार्षिक

Question Type : MCQ

Question ID : 264330138101

Option 1 ID : 264330541013

Option 2 ID : 264330541011

Option 3 ID : 264330541014

Option 4 ID : 264330541012

Status : Answered

Chosen Option : 4

Q.11 चावल के मूल्य में 10% की वृद्धि होती है। हमें खपत में कितनी कमी करनी चाहिए जिससे चावल पर होने वाले व्यय में वृद्धि न हो?

- Ans
- 1. 50/3%
 - 2. 51/7%
 - 3. 100/11%
 - 4. 300/7%

Question Type : MCQ

Question ID : 264330138094

Option 1 ID : 264330540983

Option 2 ID : 264330540986

Option 3 ID : 264330540984

Option 4 ID : 264330540985

Status : Answered

Chosen Option : 3

Q.12 निम्न तालिका में पाँच अलग-अलग सोसाइटी में पुरुषों और महिलाओं की संख्या को दर्शाया गया है। सोसाइटी R की कुल जनसंख्या और सोसाइटी P में महिलाओं की संख्या के बीच कितना अंतर है?

Societies	Men	Women
P	440	320
Q	600	550
R	380	120
S	250	400
T	440	300

Societies - सोसाइटी, Men - पुरुष, Women - महिलाएं

- Ans
- 1. 180
 - 2. 320
 - 3. 300
 - 4. 210

Question Type : MCQ

Question ID : 264330135081

Option 1 ID : 264330529260

Option 2 ID : 264330529261

Option 3 ID : 264330529259

Option 4 ID : 264330529262

Status : Answered

Chosen Option : 1

Q.13 यदि दो संख्याओं का लघुत्तम समापवर्त्य (LCM) 72 है और उनका गुणनफल 1728 है, तो उन संख्याओं का महत्तम समापवर्तक (HCF) कितना है?

- Ans
- 1. 12
 - 2. 18
 - 3. 24
 - 4. 1

Question Type : MCQ

Question ID : 264330141001

Option 1 ID : 264330552351

Option 2 ID : 264330552352

Option 3 ID : 264330552353

Option 4 ID : 264330552354

Status : Answered

Chosen Option : 3

Q.14 यदि $J/4 = K/5 = L/3$ है, तो $(L + J)^2 : (J + K)^2 : (K + L)^2$ का मान क्या है?

- Ans
- ✓ 1. 49 : 81 : 64
 - ✗ 2. 49 : 81 : 62
 - ✗ 3. 64 : 25 : 81
 - ✗ 4. 25 : 16 : 9

Question Type : MCQ

Question ID : 264330139065

Option 1 ID : 264330544867

Option 2 ID : 264330544870

Option 3 ID : 264330544868

Option 4 ID : 264330544869

Status : Answered

Chosen Option : 1

Q.15 मिया और रिया अकेले एक कार्य को क्रमशः 15 दिन और 10 दिन में कर सकती हैं। मिया ने अकेले कार्य शुरू किया और फिर 5 दिन बाद, रिया उसके साथ शामिल हो गई और कार्य पूरा होने तक साथ रही। कार्य कितने समय तक चला?

- Ans
- ✗ 1. 4 दिन
 - ✗ 2. 12 दिन
 - ✗ 3. 5 दिन
 - ✓ 4. 9 दिन

Question Type : MCQ

Question ID : 264330133809

Option 1 ID : 264330524259

Option 2 ID : 264330524262

Option 3 ID : 264330524260

Option 4 ID : 264330524261

Status : Answered

Chosen Option : 4

Q.16 एक समूह में 300 पुरुष हैं। उनके पास 30 दिनों का भोजन है। 10 दिनों के बाद, समूह में 100 पुरुष और शामिल हो जाते हैं। शेष भोजन कितने दिनों तक चलेगा?

- Ans
- ✗ 1. 12 दिन
 - ✗ 2. 10 दिन
 - ✗ 3. 20 दिन
 - ✓ 4. 15 दिन

Question Type : MCQ

Question ID : 264330137875

Option 1 ID : 264330540107

Option 2 ID : 264330540108

Option 3 ID : 264330540109

Option 4 ID : 264330540110

Status : Answered

Chosen Option : 4

Q.17 एक व्यक्ति शुरुआती 25 km की दूरी 60 मिनट में और अगले 38 km की दूरी 30 मिनट में तय करता है। पूरी यात्रा में उसकी औसत चाल कितनी है?

- Ans 1. 42 km/hr
 2. 49 km/hr
 3. 36 km/hr
 4. 46 km/hr

Question Type : MCQ
Question ID : 264330137326
Option 1 ID : 264330537932
Option 2 ID : 264330537931
Option 3 ID : 264330537934
Option 4 ID : 264330537933
Status : Answered
Chosen Option : 1

Q.18 12 mm व्यास वाले एक वृत्त का क्षेत्रफल कितना होगा?

- Ans 1. $24\pi \text{ mm}^2$
 2. $12\pi \text{ mm}^2$
 3. $36\pi \text{ mm}^2$
 4. $48\pi \text{ mm}^2$

Question Type : MCQ
Question ID : 264330133814
Option 1 ID : 264330524280
Option 2 ID : 264330524281
Option 3 ID : 264330524279
Option 4 ID : 264330524282
Status : Answered
Chosen Option : 3

Q.19 The two adjacent sides of a parallelogram are 12 cm and 5 cm respectively. If one of the diagonals is 13 cm long, then what is the area of the parallelogram?

- Ans 1. 75 cm^2
 2. 30 cm^2
 3. 25 cm^2
 4. 60 cm^2

Question Type : MCQ
Question ID : 264330137888
Option 1 ID : 264330540162
Option 2 ID : 264330540161
Option 3 ID : 264330540159
Option 4 ID : 264330540160
Status : Answered
Chosen Option : 4

Q.20 यदि $(9g + 2h) : (9g - 2h) = 9 : 2$ है, तो $g : h$ का मान क्या है?

Ans 1. 35 : 24

2. 22 : 63

3. 45 : 19

4. 18 : 35

Question Type : MCQ

Question ID : 264330139064

Option 1 ID : 264330544864

Option 2 ID : 264330544865

Option 3 ID : 264330544866

Option 4 ID : 264330544863

Status : Answered

Chosen Option : 2

Section : Reasoning Ability and Problem Solving

Q.1 दी गई श्रृंखला में निम्नलिखित में से कौन-सी संख्या प्रश्न चिन्ह (?) के स्थान पर आएगी?
46, 63, 80, 97, 114, ?

Ans 1. 113

2. 128

3. 126

4. 131

Question Type : MCQ

Question ID : 264330137865

Option 1 ID : 264330540067

Option 2 ID : 264330540069

Option 3 ID : 264330540070

Option 4 ID : 264330540068

Status : Answered

Chosen Option : 4

Q.2 एक निश्चित कूट भाषा में, 'PHONES' को 'NFMLCQ' लिखा जाता है। उस कूट भाषा में 'REALLY' को कैसे लिखा जाएगा?

Ans 1. PCYJJY

2. PCYJJV

3. PCYKKW

4. PCYJJW

Question Type : MCQ

Question ID : 264330138565

Option 1 ID : 264330542869

Option 2 ID : 264330542867

Option 3 ID : 264330542870

Option 4 ID : 264330542868

Status : Answered

Chosen Option : 4

Q.3 छः लड़के राम, सुमित, सुनील, राहुल, राज और अमन एक वृत्ताकार मेज के चारों ओर केंद्र की ओर मुख करके बैठे हैं (परंतु जरूरी नहीं कि वे इसी क्रम में बैठें हों)। सुनील, अमन का निकटतम पड़ोसी नहीं है। अमन, राम के दाईं ओर से दूसरे स्थान पर है। राहुल, सुमित के दाईं ओर से दूसरे स्थान पर है। राज, राम के ठीक बाईं ओर है। राहुल के दाईं ओर से दूसरे स्थान पर कौन है?

- Ans 1. राज
 2. सुनील
 3. अमन
 4. सुमित

Question Type : MCQ
Question ID : 264330138836
Option 1 ID : 264330543952
Option 2 ID : 264330543951
Option 3 ID : 264330543953
Option 4 ID : 264330543954
Status : Answered
Chosen Option : 1

Q.4 आठ लड़के अनिल, कमल, राम, संजय, आकाश, विवेक, राहुल और रामू एक वृत्ताकार मेज के चारों ओर केंद्र की ओर मुख करके बैठे हैं (परंतु जरूरी नहीं कि वे इसी क्रम में बैठें हों)। विवेक, कमल के दाईं ओर से तीसरे स्थान पर है। कमल, संजय के दाईं ओर से दूसरे स्थान पर है। राम, अनिल के दाईं ओर से दूसरे स्थान पर है। अनिल, विवेक के दाईं ओर से दूसरे स्थान पर है। राहुल, आकाश के दाईं ओर से तीसरे स्थान पर है। कमल के दाईं ओर से दूसरे स्थान पर कौन है?

- Ans 1. आकाश
 2. संजय
 3. रामू
 4. विवेक

Question Type : MCQ
Question ID : 264330138837
Option 1 ID : 264330543957
Option 2 ID : 264330543955
Option 3 ID : 264330543956
Option 4 ID : 264330543958
Status : Answered
Chosen Option : 3

Q.5 दिए गए समीकरण को सही करने के लिए किन दो चिन्हों को आपस में बदला जाना चाहिए?
 $11 - 2 \times 16 + 19 = 25$

- Ans 1. - और \times
 2. \times और +
 3. - और +
 4. = और +

Question Type : MCQ
Question ID : 264330134994
Option 1 ID : 264330528911
Option 2 ID : 264330528912
Option 3 ID : 264330528913
Option 4 ID : 264330528914
Status : Answered
Chosen Option : 1

Q.6 (::) के बाईं ओर दिए गए शब्द आपस में किसी तर्क / नियम / संबंध द्वारा संबंधित हैं। समान तर्क / नियम / संबंध के आधार पर दिए गए विकल्पों में से (::) के दाईं ओर लुप्त शब्द / शब्द युग्म को चुनिए।

अखबार : संपादक :: डिज़ाइन : ?

- Ans
- 1. चिकित्सक
 - 2. अध्यापक
 - 3. नाटककार
 - 4. वास्तुकार

Question Type : MCQ

Question ID : 264330138831

Option 1 ID : 264330543932

Option 2 ID : 264330543934

Option 3 ID : 264330543933

Option 4 ID : 264330543931

Status : Answered

Chosen Option : 4

Q.7 निम्नलिखित प्रश्न में कुछ कथन दिए गए हैं और उन कथनों के आधार पर कुछ निष्कर्ष दिए गए हैं। आपको यह मानना है कि दिए गए कथन सत्य हैं चाहे वे समान्यतः ज्ञात तथ्यों से अलग प्रतीत होते हों। सभी निष्कर्षों को पढ़िए और फिर निश्चय कीजिए कि दिए गए निष्कर्षों में से कौन-सा निष्कर्ष तार्किक रूप से दिए गए कथनों के अनुसार है।

कथन:

I. सभी P, G हैं।

II. कुछ F, P हैं।

निष्कर्ष:

I. सभी G, P हैं।

II. सभी P, F हैं।

III. कुछ F, G नहीं हैं।

- Ans
- 1. कोई भी निष्कर्ष कथनों के अनुसार नहीं है
 - 2. सभी निष्कर्ष कथनों के अनुसार हैं
 - 3. केवल निष्कर्ष III कथनों के अनुसार है
 - 4. दोनों निष्कर्ष II और III कथनों के अनुसार हैं

Question Type : MCQ

Question ID : 264330138840

Option 1 ID : 264330543968

Option 2 ID : 264330543969

Option 3 ID : 264330543967

Option 4 ID : 264330543970

Status : Answered

Chosen Option : 3

Q.8 निम्नलिखित प्रश्न में कुछ कथन दिए गए हैं और उन कथनों के आधार पर कुछ निष्कर्ष दिए गए हैं। आपको यह मानना है कि दिए गए कथन सत्य हैं चाहे वे समान्यतः ज्ञात तथ्यों से अलग प्रतीत होते हों। सभी निष्कर्षों को पढ़िए और फिर निश्चय कीजिए कि दिए गए निष्कर्षों में से कौन-सा निष्कर्ष तार्किक रूप से दिए गए कथनों के अनुसार है।

कथन:

I. सभी U, M हैं।

II सभी G, M हैं।

निष्कर्ष:

I. कुछ G, U हैं।

II कुछ G, M हैं।

Ans

- ✗ 1. केवल निष्कर्ष I कथनों के अनुसार है
- ✓ 2. केवल निष्कर्ष II कथनों के अनुसार है
- ✗ 3. दोनों निष्कर्ष I और II कथनों के अनुसार हैं
- ✗ 4. कोई निष्कर्ष कथनों के अनुसार नहीं है

Question Type : MCQ

Question ID : 264330138839

Option 1 ID : 264330543963

Option 2 ID : 264330543964

Option 3 ID : 264330543965

Option 4 ID : 264330543966

Status : Answered

Chosen Option : 2

Q.9 उस विकल्प को चुनिए जो तीसरी संख्या से ठीक उसी प्रकार संबंधित है जिस प्रकार दूसरी संख्या पहली संख्या से संबंधित है।

169 : 12 :: 81 : ?

Ans

- ✓ 1. 8
- ✗ 2. 7
- ✗ 3. 9
- ✗ 4. 6

Question Type : MCQ

Question ID : 264330137867

Option 1 ID : 264330540078

Option 2 ID : 264330540076

Option 3 ID : 264330540077

Option 4 ID : 264330540075

Status : Answered

Chosen Option : 1

Q.10 निम्नलिखित प्रश्न में, दी गई श्रृंखला में लुप्त संख्या चुनिए ।

2, 6, 14, 30, 62, ?

Ans 1. 128

2. 131

3. 126

4. 130

Question Type : MCQ

Question ID : 264330138842

Option 1 ID : 264330543975

Option 2 ID : 264330543978

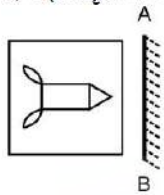
Option 3 ID : 264330543976

Option 4 ID : 264330543977

Status : Answered

Chosen Option : 3

Q.11 दी गई आकृति के उस सही दर्पण प्रतिबिंब को चुनिए जो दर्पण AB को आकृति के दाईं ओर रखने पर बनेगा।

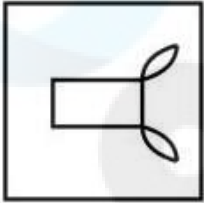


Ans


✗ 1.




✗ 2.



✓ 3.



✗ 4.



Question Type : MCQ

Question ID : 264330134974

Option 1 ID : 264330528833

Option 2 ID : 264330528832

Option 3 ID : 264330528831

Option 4 ID : 264330528834

Status : Answered

Chosen Option : 3

Q.12 एक श्रृंखला दी गई है जिसमें एक पद लुप्त है। दिए गए विकल्पों में से उस सही विकल्प को चुनिए जो श्रृंखला को पूरा करेगा।

ANTQ, YMRP, ?, UKNN, SJLM

- Ans
- 1. WLPQ
 - 2. XLPO
 - 3. WLQO
 - 4. WLPO

Question Type : MCQ

Question ID : 264330138829

Option 1 ID : 264330543923

Option 2 ID : 264330543925


Option 3 ID : 264330543924

Option 4 ID : 264330543926

Status : Answered

Chosen Option : 4

Q.13 कौन-सी उत्तर आकृति प्रश्न आकृति में दिए गए पैटर्न को पूरा करेगी?



Ans

- 1.
- 2.
- 3.
- 4.

Question Type : MCQ

Question ID : 264330138849

Option 1 ID : 264330544005

Option 2 ID : 264330544006

Option 3 ID : 264330544004

Option 4 ID : 264330544003

Status : Answered

Chosen Option : 1

Q.14 (::) के बाईं ओर दिए गए शब्द आपस में किसी तर्क / नियम / संबंध द्वारा संबंधित हैं। समान तर्क / नियम / संबंध के आधार पर दिए गए विकल्पों में से (::) के दाईं ओर लुप्त शब्द / शब्द युग्म को चुनिए।

तलवार : योद्धा :: ?

Ans

- ✗ 1. औजार : मूर्तिकार
- ✗ 2. राजमिस्त्री : साहुल सूत्र (Plumblin)
- ✓ 3. कुल्हाड़ी : लकड़हारा
- ✗ 4. दर्जी : सुई

Question Type : MCQ

Question ID : 264330138832

Option 1 ID : 264330543936

Option 2 ID : 264330543937

Option 3 ID : 264330543935

Option 4 ID : 264330543938

Status : Answered

Chosen Option : 3

Q.15 छः टंकियों A, B, C, D, E और F की धारिताओं (क्षमता) की तुलना की जाती है। कोई भी दो टंकियों की धारिता समान नहीं है। D की धारिता F और C से अधिक है। A की धारिता केवल B से कम है। टंकियों की धारिताओं के संबंध में निम्नलिखित में से कौन-सा क्रम सही हो सकता है?

I. $A > D > E$

II. $C > F > E$

Ans

- ✗ 1. न तो I और न ही II
- ✗ 2. केवल II
- ✗ 3. केवल I
- ✓ 4. I और II दोनों

Question Type : MCQ

Question ID : 264330138838

Option 1 ID : 264330543962

Option 2 ID : 264330543960

Option 3 ID : 264330543959

Option 4 ID : 264330543961

Status : Answered

Chosen Option : 2

Q.16 एक निश्चित कूट भाषा में, 'HANG' को 'LSFM' लिखा जाता है। उस कूट भाषा में 'GRAW' को कैसे लिखा जाएगा?

Ans

- ✗ 1. BGXK
- ✓ 2. BFWL
- ✗ 3. BFVL
- ✗ 4. CGXL

Question Type : MCQ

Question ID : 264330138504

Option 1 ID : 264330542624

Option 2 ID : 264330542626

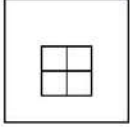
Option 3 ID : 264330542625

Option 4 ID : 264330542623

Status : Answered

Chosen Option : 2


Q.17 उस विकल्प आकृति को चुनिए जिसमें दी गई आकृति (X) उसके भाग के रूप में निहित है (घूर्णन की अनुमति नहीं है)।



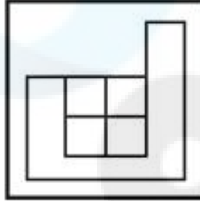
(X)

Ans

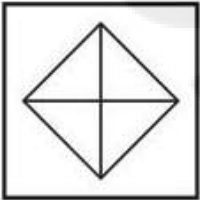
✗ 1.




✓ 2.



✗ 3.



✗ 4.



Question Type : MCQ

Question ID : 264330134973

Option 1 ID : 264330528827

Option 2 ID : 264330528830

Option 3 ID : 264330528828

Option 4 ID : 264330528829

Status : Answered

Chosen Option : 2

Q.18 किन दो संख्याओं को आपस में बदलने पर निम्न समीकरण सही होगा?

$$9 \times 3 \div 6 + 4 - 8 = 1$$

- Ans
- 1. 8 और 9
 - 2. 3 और 6
 - 3. 3 और 4
 - 4. 6 और 8

Question Type : MCQ

Question ID : 264330138845

Option 1 ID : 264330543989

Option 2 ID : 264330543987

Option 3 ID : 264330543988

Option 4 ID : 264330543990

Status : Answered

Chosen Option : 3

Q.19 उस विकल्प को चुनिए जिसमें समुच्चय की संख्याएँ वही संबंध साझा करती हैं जो दिए गए समुच्चय में संख्याओं द्वारा साझा किया जाता है। (ध्यान दें: संख्याओं को उनके घटक अंकों में अलग-अलग किए बिना, पूर्ण संख्याओं पर संक्रियाएँ की जानी चाहिए। उदा. 13 - 13 पर संक्रियाएँ जैसे 13 को जोड़ना /घटाना /गुणा करना आदि किया जा सकता है। 13 को 1 और 3 में अलग-अलग करने की और फिर 1 और 3 पर गणितीय संक्रियाएँ करने की अनुमति नहीं है)

(125, 2, 3)

(512, 5, 3)

- Ans
- 1. (1000, 7, 3)
 - 2. (343, 5, 3)
 - 3. (216, 4, 3)
 - 4. (1782, 8, 6)

Question Type : MCQ

Question ID : 264330138844

Option 1 ID : 264330543983

Option 2 ID : 264330543985

Option 3 ID : 264330543984

Option 4 ID : 264330543986

Status : Answered

Chosen Option : 1

Q.20 एक निश्चित कूट भाषा में, 'TAKES' को '51' लिखा जाता है, 'LEAVE' को '40' लिखा जाता है। उस कूट भाषा में 'TEAM' को कैसे लिखा जाएगा?

- Ans
- 1. 34
 - 2. 49
 - 3. 39
 - 4. 36

Question Type : MCQ

Question ID : 264330137113

Option 1 ID : 264330537098

Option 2 ID : 264330537096

Option 3 ID : 264330537095

Option 4 ID : 264330537097

Status : Answered

Chosen Option : 1

Section : General Awareness

Q.1 भारत में लिंग अनुपात को जनसंख्या में प्रति _____ पर स्त्रियों की संख्या के आधार पर निर्धारित किया जाता है।

- Ans
- 1. 100 बच्चों
 - 2. 1000 पुरुषों
 - 3. 500 पुरुषों
 - 4. 100 पुरुषों

Question Type : MCQ
Question ID : 264330138940
Option 1 ID : 264330544369
Option 2 ID : 264330544368
Option 3 ID : 264330544370
Option 4 ID : 264330544367
Status : Answered
Chosen Option : 2

Q.2 ओलंपिक खेलों में भारत का पहला बैडमिंटन पदक किसने जीता था?

- Ans
- 1. पुलेला गोपीचंद
 - 2. साइना नेहवाल
 - 3. पी.वी.सिंधु
 - 4. प्रकाश पादुकोण

Question Type : MCQ
Question ID : 264330138899
Option 1 ID : 264330544205
Option 2 ID : 264330544204
Option 3 ID : 264330544203
Option 4 ID : 264330544206
Status : Answered
Chosen Option : 3

Q.3 निम्नलिखित में से किसे 'ठुमरी की रानी (Queen of Thumri)' के नाम से सम्मानित किया गया था?

- Ans
- 1. सिद्धेश्वरी देवी
 - 2. अन्नपूर्णा देवी
 - 3. नैना देवी
 - 4. गिरिजा देवी

Question Type : MCQ
Question ID : 264330138902
Option 1 ID : 264330544217
Option 2 ID : 264330544216
Option 3 ID : 264330544218
Option 4 ID : 264330544215
Status : Answered
Chosen Option : 1

Q.4 भारतीय संविधान का अनुच्छेद 43B _____ का प्रावधान करता है।

- Ans
- 1. ग्राम पंचायतों के संगठन
 - 2. कार्यपालिका से न्यायपालिका के पृथक्करण
 - 3. सहकारी समितियों को बढ़ावा देने
 - 4. काम पाने के अधिकार

Question Type : MCQ
Question ID : 264330138908
Option 1 ID : 264330544239
Option 2 ID : 264330544242
Option 3 ID : 264330544241
Option 4 ID : 264330544240
Status : Answered
Chosen Option : 3

Q.5 चावल की खेती के लिए _____ के साथ-साथ अत्याधिक वर्षा की आवश्यकता होती है।

- Ans
- 1. कम तापमान और कम आर्द्रता
 - 2. कम तापमान और अधिक आर्द्रता
 - 3. उच्च तापमान और कम आर्द्रता
 - 4. उच्च तापमान और अधिक आर्द्रता

Question Type : MCQ
Question ID : 264330138288
Option 1 ID : 264330541761
Option 2 ID : 264330541760
Option 3 ID : 264330541759
Option 4 ID : 264330541762
Status : Answered
Chosen Option : 2

Q.6 पद्म सुब्रह्मण्यम को वर्ष _____ में भारतीय शास्त्रीय नृत्य में उनके योगदान के लिए पद्म भूषण पुरस्कार मिला।

- Ans
- 1. 2001
 - 2. 1998
 - 3. 2003
 - 4. 2010

Question Type : MCQ
Question ID : 264330138278
Option 1 ID : 264330541720
Option 2 ID : 264330541719
Option 3 ID : 264330541721
Option 4 ID : 264330541722
Status : Answered
Chosen Option : 2

Q.7 निम्नलिखित में से बंगाल के किस गवर्नर जनरल ने सती प्रथा को गैरकानूनी घोषित किया था?

- Ans
- ✓ 1. विलियम बैंटिक
 - ✗ 2. वारेन हेस्टिंग्स
 - ✗ 3. चार्ल्स कार्नवालिस
 - ✗ 4. चार्ल्स कैनिंग

Question Type : MCQ

Question ID : 264330134659

Option 1 ID : 264330527591

Option 2 ID : 264330527592

Option 3 ID : 264330527593

Option 4 ID : 264330527594

Status : Answered

Chosen Option : 1

Q.8 कौन-सा देश "वोस्तोक 2022(Vostok-2022)" सैन्य अभ्यास का मेजबान है?

- Ans
- ✗ 1. अमेरीका
 - ✗ 2. भारत
 - ✗ 3. संयुक्त अरब अमीरात
 - ✓ 4. रूस

Question Type : MCQ

Question ID : 264330138905

Option 1 ID : 264330544227

Option 2 ID : 264330544229

Option 3 ID : 264330544228

Option 4 ID : 264330544230

Status : Answered

Chosen Option : 4

Q.9 मालगुडी डेज़ (Malgudi Days) _____ की लघु कहानियों का एक संग्रह है।

- Ans
- ✗ 1. अमीश त्रिपाठी
 - ✗ 2. झुंपा लाहिड़ी
 - ✓ 3. आर.के. नारायण
 - ✗ 4. चेतन भगत

Question Type : MCQ

Question ID : 264330138276

Option 1 ID : 264330541712

Option 2 ID : 264330541714

Option 3 ID : 264330541713

Option 4 ID : 264330541711

Status : Answered

Chosen Option : 3

Q.10 निम्नलिखित में से कौन अकबर के बाद भारत में मुगल वंश के सिंहासन पर बैठा?

- Ans
- ✓ 1. जहाँगीर
 - ✗ 2. औरंगजेब
 - ✗ 3. शाहजहाँ
 - ✗ 4. शेरशाह सूरी

Question Type : MCQ
Question ID : 264330137983
Option 1 ID : 264330540542
Option 2 ID : 264330540540
Option 3 ID : 264330540541
Option 4 ID : 264330540539
Status : Answered
Chosen Option : 1

Q.11 सिमोन बाइल्स (Simone Biles) का संबंध किस खेल से है?

- Ans
- ✗ 1. तैराकी
 - ✓ 2. जिम्नास्टिक्स
 - ✗ 3. बैडमिंटन
 - ✗ 4. टेबल टेनिस

Question Type : MCQ
Question ID : 264330134622
Option 1 ID : 264330527444
Option 2 ID : 264330527443
Option 3 ID : 264330527446
Option 4 ID : 264330527445
Status : Answered
Chosen Option : 1

Q.12 राष्ट्रीय आय के मापन की उत्पाद विधि में, हमें _____ के लिए मध्यवर्ती वस्तुओं के मूल्य को घटाना होगा।

- Ans
- ✓ 1. दुहरी गणना को दूर करने
 - ✗ 2. उत्पादन के कारकों का विश्लेषण करने
 - ✗ 3. अधिक खपत से बचने
 - ✗ 4. व्यय के समस्त मूल्य का अनुमान लगाने

Question Type : MCQ
Question ID : 264330138281
Option 1 ID : 264330541731
Option 2 ID : 264330541734
Option 3 ID : 264330541732
Option 4 ID : 264330541733
Status : Answered
Chosen Option : 2

Q.13 बाल विवाह निषेध (संशोधन) विधेयक, 2021 महिलाओं की विवाह की न्यूनतम आयु को बढ़ाकर _____ वर्ष करने का प्रयास करता है।

- Ans
- 1. 18
 - 2. 22
 - 3. 21
 - 4. 25

Question Type : MCQ

Question ID : 264330134645

Option 1 ID : 264330527535

Option 2 ID : 264330527538

Option 3 ID : 264330527536

Option 4 ID : 264330527537

Status : Answered

Chosen Option : 3

Q.14 _____ में स्थित रावण फाड़ी (Ravan Phadi) गुफा पूर्वकालीन चालुक्य शैली स्थापत्यकला का एक उदाहरण है जो अपनी विशिष्ट मूर्तिकला शैली के लिए जानी जाती है।

- Ans
- 1. केरल
 - 2. तमिलनाडु
 - 3. आंध्रप्रदेश
 - 4. कर्नाटक

Question Type : MCQ

Question ID : 264330134648

Option 1 ID : 264330527548

Option 2 ID : 264330527549

Option 3 ID : 264330527547

Option 4 ID : 264330527550

Status : Not Answered

Chosen Option : --

Q.15 निम्नलिखित में से किस ग्रह का कोई उपग्रह नहीं है?

- Ans
- 1. शनि
 - 2. बृहस्पति
 - 3. यूरेनस
 - 4. शुक्र

Question Type : MCQ

Question ID : 264330137977

Option 1 ID : 264330540515

Option 2 ID : 264330540517

Option 3 ID : 264330540518

Option 4 ID : 264330540516

Status : Answered

Chosen Option : 4

Q.16 दंत शल्य चिकित्सा में निश्चेतक (anaesthetic) के रूप में निम्नलिखित में से किस गैस का उपयोग किया जाता है?

- Ans
- 1. हीलियम
 - 2. नाइट्रस ऑक्साइड
 - 3. आर्गन
 - 4. रेडॉन

Question Type : MCQ
Question ID : 264330137974
Option 1 ID : 264330540504
Option 2 ID : 264330540505
Option 3 ID : 264330540506
Option 4 ID : 264330540503
Status : Answered
Chosen Option : 3

Q.17 The period of life, when the body undergoes changes leading to reproductive maturity is called _____.

- Ans
- 1. adolescence
 - 2. cloning
 - 3. budding
 - 4. maturity

Question Type : MCQ
Question ID : 264330138909
Option 1 ID : 264330544243
Option 2 ID : 264330544244
Option 3 ID : 264330544245
Option 4 ID : 264330544246
Status : Answered
Chosen Option : 1

Q.18 The 36th meeting of 'Parliamentary committee on official language' was chaired by _____.

- Ans
- 1. Piyush Goyal
 - 2. Rajnath Singh
 - 3. Narendra Modi
 - 4. Amit Shah

Question Type : MCQ
Question ID : 264330138904
Option 1 ID : 264330544226
Option 2 ID : 264330544225
Option 3 ID : 264330544223
Option 4 ID : 264330544224
Status : Answered
Chosen Option : 3

Q.19 2022 तक कितने देश भारत के साथ अंतर्राष्ट्रीय स्थलीय सीमा साझा करते हैं?

- Ans
- ✓ 1. 7
 - ✗ 2. 6
 - ✗ 3. 5
 - ✗ 4. 8

Question Type : MCQ
Question ID : 264330133968
Option 1 ID : 264330524897
Option 2 ID : 264330524896
Option 3 ID : 264330524895
Option 4 ID : 264330524898
Status : Answered
Chosen Option : 1

Q.20 वे पदार्थ जो अपने अंदर से विद्युत्-धारा को प्रवाहित नहीं होने देते, _____ कहलाते हैं।

- Ans
- ✓ 1. विद्युत्-रोधक (insulators)
 - ✗ 2. संधारित्र (capacitors)
 - ✗ 3. चालक (conductors)
 - ✗ 4. प्रेरक (inductor)

Question Type : MCQ
Question ID : 264330134635
Option 1 ID : 264330527496
Option 2 ID : 264330527497
Option 3 ID : 264330527495
Option 4 ID : 264330527498
Status : Answered
Chosen Option : 1

Q.21 कार्बिलान कप (Corbillon Cup) निम्नलिखित में से किस खेल से संबंधित है?

- Ans
- ✗ 1. गॉल्फ़
 - ✗ 2. हॉकी
 - ✓ 3. टेबल टेनिस
 - ✗ 4. बैडमिंटन

Question Type : MCQ
Question ID : 264330137992
Option 1 ID : 264330540575
Option 2 ID : 264330540578
Option 3 ID : 264330540576
Option 4 ID : 264330540577
Status : Answered
Chosen Option : 1

Q.22 हरे एवं कोमल तने वाले पौधे _____ कहलाते हैं।

- Ans
- 1. वृक्ष (trees)
 - 2. झाड़ियाँ (shrubs)
 - 3. शाक (herbs)
 - 4. आच्छादन (canopy)

Question Type : MCQ
Question ID : 264330134632
Option 1 ID : 264330527485
Option 2 ID : 264330527484
Option 3 ID : 264330527483
Option 4 ID : 264330527486
Status : Answered
Chosen Option : 3

Q.23 सिरका (Vinegar) का रासायनिक नाम क्या है?

- Ans
- 1. ऑक्सैलिक अम्ल
 - 2. लॉरिक अम्ल
 - 3. मैलिक अम्ल
 - 4. ऐसीटिक अम्ल

Question Type : MCQ
Question ID : 264330137976
Option 1 ID : 264330540514
Option 2 ID : 264330540513
Option 3 ID : 264330540512
Option 4 ID : 264330540511
Status : Answered
Chosen Option : 4

Q.24 निम्न में से कौन-सा जानवर भारत में केवल गिर के जंगलों में पाया जाता है?

- Ans
- 1. एशियाई शेर
 - 2. काला तेंदुआ
 - 3. एशियाई चीता
 - 4. हिम तेंदुआ

Question Type : MCQ
Question ID : 264330138914
Option 1 ID : 264330544263
Option 2 ID : 264330544265
Option 3 ID : 264330544264
Option 4 ID : 264330544266
Status : Answered
Chosen Option : 1

Q.25 राजस्थान के किस लोकनृत्य को 'सपेरा नृत्य (Sapera dance)' भी कहा जाता है?

- Ans
- 1. कालबेलिया
 - 2. चरी
 - 3. गैर
 - 4. घूमर

Question Type : MCQ
Question ID : 264330138896
Option 1 ID : 264330544193
Option 2 ID : 264330544191
Option 3 ID : 264330544194
Option 4 ID : 264330544192
Status : Answered
Chosen Option : 1

Section : English Language and Comprehension

Q.1 Find the part of the given sentence that has an error in it. If there is no error, choose 'No error'.
To treat nightmare disorder, there is a number of medications and therapies.

- Ans
- 1. of medications and therapies.
 - 2. To treat nightmare disorder,
 - 3. there is a number
 - 4. No error

Question Type : MCQ
Question ID : 264330136849
Option 1 ID : 264330536089
Option 2 ID : 264330536087
Option 3 ID : 264330536088
Option 4 ID : 264330536090
Status : Answered
Chosen Option : 3

Q.2 In the following question, out of the given four alternatives, select the alternative which best expresses the meaning of the Idiom/Phrase.
A blast from the past

- Ans
- 1. Something powerfully nostalgic
 - 2. A competition where the outcome is difficult to judge or predict
 - 3. An unresolved argument
 - 4. Punishment for the crime committed in the past

Question Type : MCQ
Question ID : 264330136868
Option 1 ID : 264330536159
Option 2 ID : 264330536162
Option 3 ID : 264330536160
Option 4 ID : 264330536161
Status : Marked For Review
Chosen Option : 3

Q.3 Choose the word that means the same as the given word.

Confirm

- Ans
- 1. Corrosion
 - 2. Corroborate
 - 3. Collision
 - 4. Collaborate

Question Type : MCQ
Question ID : 264330134788
Option 1 ID : 264330528097
Option 2 ID : 264330528096
Option 3 ID : 264330528098
Option 4 ID : 264330528095
Status : Answered
Chosen Option : 3

Q.4 Choose the incorrectly spelt word.

- Ans
- 1. Neweset
 - 2. Drape
 - 3. Vibe
 - 4. Surround

Question Type : MCQ
Question ID : 264330136869
Option 1 ID : 264330536163
Option 2 ID : 264330536166
Option 3 ID : 264330536165
Option 4 ID : 264330536164
Status : Answered
Chosen Option : 1

Q.5 Select the most appropriate option to fill in the blank.

What to do in the event of a gas _____.

- Ans
- 1. leak
 - 2. leek
 - 3. lead
 - 4. leer

Question Type : MCQ
Question ID : 264330134769
Option 1 ID : 264330528023
Option 2 ID : 264330528024
Option 3 ID : 264330528025
Option 4 ID : 264330528026
Status : Answered
Chosen Option : 1

Q.6 Find the part of the given sentence that has an error in it. If there is no error, choose 'No error'.

I particular like that kitten because it has white feet.

- Ans**
- 1. that kitten because it
 - 2. has white feet
 - 3. No error
 - 4. I particular like

Question Type : **MCQ**
Question ID : **264330134450**
Option 1 ID : **264330526772**
Option 2 ID : **264330526773**
Option 3 ID : **264330526774**
Option 4 ID : **264330526771**
Status : **Answered**
Chosen Option : **4**

Q.7 Select the appropriate antonym for the underlined word.

They must have been more than just suspicious of you.

- Ans**
- 1. Queer
 - 2. Doubtful
 - 3. Ambiguous
 - 4. Definitive

Question Type : **MCQ**
Question ID : **264330136866**
Option 1 ID : **264330536154**
Option 2 ID : **264330536151**
Option 3 ID : **264330536152**
Option 4 ID : **264330536153**
Status : **Answered**
Chosen Option : **4**

Q.8 A sentence has been given with a blank to be filled with an appropriate option. Choose the correct alternative.

Snow _____ lightly as everyone was leaving church.

- Ans**
- 1. fallen
 - 2. falling
 - 3. is falling
 - 4. was falling

Question Type : **MCQ**
Question ID : **264330134778**
Option 1 ID : **264330528061**
Option 2 ID : **264330528060**
Option 3 ID : **264330528062**
Option 4 ID : **264330528059**
Status : **Answered**
Chosen Option : **1**

Q.9 Find the part of the given sentence that has an error in it. If there is no error, choose 'No error'.

There is no big deal if she didn't came to the party.

- Ans**
- 1. came to the party.
 - 2. No error
 - 3. There is no big
 - 4. deal if she didn't

Question Type : **MCQ**
Question ID : **264330136873**
Option 1 ID : **264330536181**
Option 2 ID : **264330536182**
Option 3 ID : **264330536179**
Option 4 ID : **264330536180**
Status : **Answered**
Chosen Option : **1**

Q.10 Select the most appropriate meaning of the given idiom.

Against the clock

- Ans**
- 1. To take on a task that is a way to big
 - 2. On the point of achievement
 - 3. Rushed and short on time
 - 4. To avoid talking

Question Type : **MCQ**
Question ID : **264330136529**
Option 1 ID : **264330534857**
Option 2 ID : **264330534856**
Option 3 ID : **264330534855**
Option 4 ID : **264330534858**
Status : **Answered**
Chosen Option : **3**

Q.11 Choose the sentence with no spelling error.

- Ans**
- 1. His grip tightned a fraction on her arm.
 - 2. His grip tightend a fractoin on her arm.
 - 3. His gripe tightened a fracton on her arm.
 - 4. His grip tightened a fraction on her arm.

Question Type : **MCQ**
Question ID : **264330134768**
Option 1 ID : **264330528019**
Option 2 ID : **264330528022**
Option 3 ID : **264330528020**
Option 4 ID : **264330528021**
Status : **Answered**
Chosen Option : **4**

Q.12 Improve the underlined part of the sentence. Choose 'No improvement' as an answer if the sentence is grammatically correct.

MLA is a representative electing by the voters of a constituency to the legislature.

- Ans**
- 1. elected by a
 - 2. elected by the
 - 3. elects by a
 - 4. No improvement

Question Type : **MCQ**
Question ID : **264330136878**
Option 1 ID : **264330536200**
Option 2 ID : **264330536199**
Option 3 ID : **264330536201**
Option 4 ID : **264330536202**
Status : **Answered**
Chosen Option : **2**

Q.13 Choose the word that is opposite in meaning to the given word.

Abolish

- Ans**
- 1. Efface
 - 2. Formalize
 - 3. Deface
 - 4. Jettison

Question Type : **MCQ**
Question ID : **264330134789**
Option 1 ID : **264330528099**
Option 2 ID : **264330528100**
Option 3 ID : **264330528101**
Option 4 ID : **264330528102**
Status : **Answered**
Chosen Option : **2**

Q.14 Select the most appropriate option to fill in the blank.

She was moving slowly and _____ yesterday when she fell.

- Ans**
- 1. firmly
 - 2. vaguely
 - 3. strongly
 - 4. shakily

Question Type : **MCQ**
Question ID : **264330136872**
Option 1 ID : **264330536175**
Option 2 ID : **264330536176**
Option 3 ID : **264330536177**
Option 4 ID : **264330536178**
Status : **Answered**
Chosen Option : **4**

Q.15 A sentence has been given with a blank to be filled with an appropriate option. Choose the correct alternative.

Satya Nadella completed his primary education _____ Hyderabad Public School, Begumpet.

- Ans**
- 1. from
 - 2. over
 - 3. by
 - 4. onto

Question Type : **MCQ**

Question ID : **264330136853**

Option 1 ID : **264330536105**

Option 2 ID : **264330536103**

Option 3 ID : **264330536104**

Option 4 ID : **264330536106**

Status : **Answered**

Chosen Option : **1**

Q.16 Choose the word that can substitute the given group of words.

Beginning to exist; recently formed or developed

- Ans**
- 1. Herald
 - 2. Blasphemy
 - 3. Knave
 - 4. Nascent

Question Type : **MCQ**

Question ID : **264330136862**

Option 1 ID : **264330536138**

Option 2 ID : **264330536136**

Option 3 ID : **264330536135**

Option 4 ID : **264330536137**

Status : **Answered**

Chosen Option : **3**

Q.17 Select the appropriate synonym for the underlined word.

In the absence of miracles, my frustration spikes.

- Ans**
- 1. Increases
 - 2. Falls
 - 3. Losses
 - 4. Digs

Question Type : **MCQ**

Question ID : **264330136863**

Option 1 ID : **264330536141**

Option 2 ID : **264330536139**

Option 3 ID : **264330536140**

Option 4 ID : **264330536142**

Status : **Answered**

Chosen Option : **1**

Q.18 Improve the underlined part of the sentence. Choose 'No improvement' as an answer if the sentence is grammatically correct.

The day are warm, so the students ate their lunch outside.

- Ans**
- 1. was warm
 - 2. was warming
 - 3. No improvement
 - 4. is warm

Question Type : **MCQ**
Question ID : **264330136876**
Option 1 ID : **264330536193**
Option 2 ID : **264330536192**
Option 3 ID : **264330536194**
Option 4 ID : **264330536191**
Status : **Answered**
Chosen Option : **1**

Q.19 Improve the underlined part of the sentence. Choose 'No improvement' as an answer if the sentence is grammatically correct.

Don't try to force the window open, or you might broken it.

- Ans**
- 1. you might breaks
 - 2. you have break
 - 3. No improvement
 - 4. you might break

Question Type : **MCQ**
Question ID : **264330135312**
Option 1 ID : **264330530159**
Option 2 ID : **264330530161**
Option 3 ID : **264330530162**
Option 4 ID : **264330530160**
Status : **Answered**
Chosen Option : **4**

Q.20 Select the most appropriate word for the given group of words.

Extreme physical or mental sufferings

- Ans**
- 1. Aviary
 - 2. Autonomy
 - 3. Autocracy
 - 4. Agony

Question Type : **MCQ**
Question ID : **264330136523**
Option 1 ID : **264330534834**
Option 2 ID : **264330534832**
Option 3 ID : **264330534833**
Option 4 ID : **264330534831**
Status : **Answered**
Chosen Option : **4**

Comprehension:

In the following passage some of the words have been deleted. Read the passage carefully and select the correct answer for the given blank out of the four alternatives.

"I am proud to (1) _____ to a religion which has taught the world both tolerance (2) _____ universal acceptance," he declared (3) _____ September 11, 1893. "We believe not only in universal toleration, (4) _____ we accept all religions as true. I am proud to belong to a nation which has sheltered the persecuted and the (5) _____ of all religions and all nations of the earth."

SubQuestion No : 21**Q.21** Select the most appropriate option to fill in blank number 1.

- Ans
- 1. behest
 - 2. gain
 - 3. belong
 - 4. live

Question Type : **MCQ**Question ID : **264330134780**Option 1 ID : **264330528065**Option 2 ID : **264330528063**Option 3 ID : **264330528064**Option 4 ID : **264330528066**Status : **Answered**Chosen Option : **3****Comprehension:**

In the following passage some of the words have been deleted. Read the passage carefully and select the correct answer for the given blank out of the four alternatives.

"I am proud to (1) _____ to a religion which has taught the world both tolerance (2) _____ universal acceptance," he declared (3) _____ September 11, 1893. "We believe not only in universal toleration, (4) _____ we accept all religions as true. I am proud to belong to a nation which has sheltered the persecuted and the (5) _____ of all religions and all nations of the earth."

SubQuestion No : 22**Q.22** Select the most appropriate option to fill in blank number 2.

- Ans
- 1. also
 - 2. and
 - 3. as well as
 - 4. or

Question Type : **MCQ**Question ID : **264330134781**Option 1 ID : **264330528067**Option 2 ID : **264330528068**Option 3 ID : **264330528070**Option 4 ID : **264330528069**Status : **Answered**Chosen Option : **2**

Comprehension:

In the following passage some of the words have been deleted. Read the passage carefully and select the correct answer for the given blank out of the four alternatives.

"I am proud to (1) _____ to a religion which has taught the world both tolerance (2) _____ universal acceptance," he declared (3) _____ September 11, 1893. "We believe not only in universal toleration, (4) _____ we accept all religions as true. I am proud to belong to a nation which has sheltered the persecuted and the (5) _____ of all religions and all nations of the earth."

SubQuestion No : 23**Q.23** Select the most appropriate option to fill in blank number 3.

- Ans
- 1. on
 - 2. upon
 - 3. in
 - 4. at

Question Type : **MCQ**Question ID : **264330134782**Option 1 ID : **264330528073**Option 2 ID : **264330528072**Option 3 ID : **264330528074**Option 4 ID : **264330528071**Status : **Answered**Chosen Option : **1****Comprehension:**

In the following passage some of the words have been deleted. Read the passage carefully and select the correct answer for the given blank out of the four alternatives.

"I am proud to (1) _____ to a religion which has taught the world both tolerance (2) _____ universal acceptance," he declared (3) _____ September 11, 1893. "We believe not only in universal toleration, (4) _____ we accept all religions as true. I am proud to belong to a nation which has sheltered the persecuted and the (5) _____ of all religions and all nations of the earth."

SubQuestion No : 24**Q.24** Select the most appropriate option to fill in blank number 4.

- Ans
- 1. yet
 - 2. though
 - 3. and
 - 4. but

Question Type : **MCQ**Question ID : **264330134783**Option 1 ID : **264330528077**Option 2 ID : **264330528075**Option 3 ID : **264330528078**Option 4 ID : **264330528076**Status : **Answered**Chosen Option : **2**

Comprehension:

In the following passage some of the words have been deleted. Read the passage carefully and select the correct answer for the given blank out of the four alternatives.

"I am proud to (1) _____ to a religion which has taught the world both tolerance (2) _____ universal acceptance," he declared (3) _____ September 11, 1893. "We believe not only in universal toleration, (4) _____ we accept all religions as true. I am proud to belong to a nation which has sheltered the persecuted and the (5) _____ of all religions and all nations of the earth."

SubQuestion No : 25

Q.25 Select the most appropriate option to fill in blank number 5.

- Ans**
- 1. workers
 - 2. refugees
 - 3. peons
 - 4. toilers

Question Type : **MCQ**

Question ID : **264330134784**

Option 1 ID : **264330528079**

Option 2 ID : **264330528081**

Option 3 ID : **264330528080**

Option 4 ID : **264330528082**

Status : **Answered**

Chosen Option : **2**