

## Multi Tasking Non Technical Staff and Havaldar CBIC and CBN Examination 2022

Roll Number	
Candidate Name	
Venue Name	iON Digital Zone iDZ Borjhar
Exam Date	08/05/2023
Exam Time	12:00 PM - 2:00 PM
Subject	MTS Non Tech Havaldar CBIC and CBN Examination 2022

### Section : Numerical and Mathematical Ability

**Q.1** सोहन समान दूरी की चार यात्राएँ करता है। पहली यात्रा में उसकी चाल 240 km/hr थी और बाद की प्रत्येक यात्रा में उसकी चाल पिछली यात्रा की चाल से आधी थी। इन चारों यात्राओं में सोहन की औसत चाल क्या है?

- Ans
- 1. 52 km/hr
  - 2. 50 km/hr
  - 3. 60 km/hr
  - 4. 64 km/hr

Question Type : MCQ

Question ID : 264330137134

Option 1 ID : 264330537181

Option 2 ID : 264330537182

Option 3 ID : 264330537179

Option 4 ID : 264330537180

Status : Answered

Chosen Option : 4

**Q.2** रानी अकेले किसी कार्य को 10 दिनों में कर सकती है और प्रिया अकेले उसी कार्य को 12 दिनों में कर सकती है और गुड्डू अकेले उसी कार्य को 15 दिनों में कर सकता है। यदि वे उस कार्य को साथ मिलकर करते हैं और उन्हें Rs. 6000 का भुगतान किया जाता है, तो उसमें प्रिया का हिस्सा कितना है?

- Ans
- 1. Rs.1800
  - 2. Rs.1600
  - 3. Rs.2500
  - 4. Rs.2000

Question Type : MCQ

Question ID : 264330137174

Option 1 ID : 264330537341

Option 2 ID : 264330537342

Option 3 ID : 264330537339

Option 4 ID : 264330537340

Status : Answered

Chosen Option : 4

Q.3 कबीर 3 मील प्रति घंटे (miles per hour) की चाल से एक पहाड़ी पर चढ़ता है और 5 मील प्रति घंटे की चाल से नीचे उतरता है। यदि पूरी यात्रा में कुल 10 घंटे का समय लगता है, तो पहाड़ी की चोटी और तलहटी के बीच की दूरी कितनी थी?

- Ans
- ✓ 1. 18.75 मील
  - ✗ 2. 20.5 मील
  - ✗ 3. 37.5 मील
  - ✗ 4. 3.75 मील

Question Type : MCQ  
Question ID : 264330133593  
Option 1 ID : 264330523396  
Option 2 ID : 264330523398  
Option 3 ID : 264330523395  
Option 4 ID : 264330523397  
Status : Answered  
Chosen Option : 1

Q.4  $1.65 \times 1.65 \times 1.65 + 0.35 \times 0.35 \times 0.35 + 3.465$  का मान क्या है?

- Ans
- ✓ 1. 8
  - ✗ 2. 7.5
  - ✗ 3. 5.5
  - ✗ 4. 4

Question Type : MCQ  
Question ID : 264330139093  
Option 1 ID : 264330544980  
Option 2 ID : 264330544981  
Option 3 ID : 264330544982  
Option 4 ID : 264330544979  
Status : Answered  
Chosen Option : 3

Q.5 (2 : 5), (5 : 11) और (33 : 8) का मिश्रित अनुपात क्या है?

- Ans
- ✗ 1. 2 : 5
  - ✓ 2. 3 : 4
  - ✗ 3. 33 : 5
  - ✗ 4. 2 : 11

Question Type : MCQ  
Question ID : 264330133589  
Option 1 ID : 264330523380  
Option 2 ID : 264330523379  
Option 3 ID : 264330523382  
Option 4 ID : 264330523381  
Status : Not Answered  
Chosen Option : --

Q.6 एक वस्तु का क्रय मूल्य Rs.350 है। यदि लाभ प्रतिशत 35 प्रतिशत है, तो लाभ का मूल्य क्या है?

- Ans  1. Rs.122.5  
 2. Rs.112.8  
 3. Rs.145.6  
 4. Rs.135.6

Question Type : MCQ

Question ID : 264330135049

Option 1 ID : 264330529131

Option 2 ID : 264330529133

Option 3 ID : 264330529132

Option 4 ID : 264330529134

Status : Answered

Chosen Option : 1

Q.7  $1/5$  of 30 -  $(1/4)$  of 20 + 1 का मान है:

- Ans  1. 0  
 2. 2  
 3. 6  
 4. 12

Question Type : MCQ

Question ID : 264330133581

Option 1 ID : 264330523349

Option 2 ID : 264330523350

Option 3 ID : 264330523348

Option 4 ID : 264330523347

Status : Answered

Chosen Option : 2

Q.8 एक बेईमान दुकानदार Rs.45 प्रति किलोग्राम की दर से चीनी बेचता है। चीनी का क्रय मूल्य Rs.40 प्रति किलोग्राम है। ऐसा करने के बाद भी वह 1 kg के प्रत्येक पैकेट से 100 gm चीनी निकालकर अपना मुनाफा बढ़ाने की कोशिश करता है। दुकानदार का लाभ प्रतिशत कितना है?

- Ans  1. 35%  
 2. 30%  
 3. 20%  
 4. 25%

Question Type : MCQ

Question ID : 264330133587

Option 1 ID : 264330523374

Option 2 ID : 264330523373

Option 3 ID : 264330523371

Option 4 ID : 264330523372

Status : Answered

Chosen Option : 3

Q.9 उस अर्धगोले के आयतन का  $\frac{1}{21}$ वां भाग ज्ञात कीजिए जिसकी त्रिज्या 4.2 m है।

- Ans
- 1.  $7.1 \text{ m}^3$
  - 2.  $8.2 \text{ m}^3$
  - 3.  $6.6 \text{ m}^3$
  - 4.  $7.3 \text{ m}^3$

Question Type : MCQ

Question ID : 264330135410

Option 1 ID : 264330530550

Option 2 ID : 264330530549

Option 3 ID : 264330530547

Option 4 ID : 264330530548

Status : Answered

Chosen Option : 4

Q.10 सुरेश अकेले प्रतिदिन 1 घंटा कार्य करके किसी कार्य को 10 दिनों में पूरा कर सकता है। शालू अकेले उसी कार्य को प्रतिदिन 5 घंटे कार्य करके 2 दिनों में कर सकती है। इसी कार्य को 10 दिनों में पूरा करने के लिए उन्हें साथ मिलकर एक दिन में कितने घंटे कार्य करना होगा?

- Ans
- 1. 1.5 घंटे
  - 2. 1 घंटे
  - 3. 0.5 घंटे
  - 4. 2 घंटे

Question Type : MCQ

Question ID : 264330139077

Option 1 ID : 264330544915

Option 2 ID : 264330544918

Option 3 ID : 264330544917

Option 4 ID : 264330544916

Status : Answered

Chosen Option : 3

Q.11 प्रत्येक 9 cm किनारे वाले दो घनों को जोड़कर एक घनाभ बनाया जाता है। इस नए घनाभ का कुल पृष्ठीय क्षेत्रफल कितना है?

- Ans
- 1.  $990 \text{ cm}^2$
  - 2.  $1024 \text{ cm}^2$
  - 3.  $810 \text{ cm}^2$
  - 4.  $775 \text{ cm}^2$

Question Type : MCQ

Question ID : 264330137189

Option 1 ID : 264330537402

Option 2 ID : 264330537400

Option 3 ID : 264330537401

Option 4 ID : 264330537399

Status : Answered

Chosen Option : 3

Q.12 नीचे दी गई तालिका में 6 अलग-अलग स्कूलों में छात्रों की संख्या को दर्शाया गया है।

स्कूल	छात्र
A	120
B	60
C	70
D	80
E	30
F	50

स्कूल A में छात्रों की संख्या, स्कूल F में छात्रों की संख्या का कितना प्रतिशत है?

- Ans
- 1. 41.66 प्रतिशत
  - 2. 120 प्रतिशत
  - 3. 200 प्रतिशत
  - 4. 240 प्रतिशत

Question Type : MCQ

Question ID : 264330139094

Option 1 ID : 264330544986

Option 2 ID : 264330544985

Option 3 ID : 264330544983

Option 4 ID : 264330544984

Status : Answered

Chosen Option : 4

Q.13 Rs. 2400 के मूलधन पर 8 प्रतिशत वार्षिक दर से 6 वर्षों का साधारण ब्याज कितना होगा?

- Ans
- 1. Rs. 1082
  - 2. Rs. 972
  - 3. Rs. 1152
  - 4. Rs. 1232

Question Type : MCQ

Question ID : 264330137884

Option 1 ID : 264330540144

Option 2 ID : 264330540146

Option 3 ID : 264330540143

Option 4 ID : 264330540145

Status : Answered

Chosen Option : 3

Q.14 15%, 10% और 5% के क्रमिक बढ़ों के समतुल्य एक एकल बढ़ा \_\_\_\_\_ के बराबर है।

- Ans
- 1. 32%
  - 2. 31.5%
  - 3. 27.325%
  - 4. 26.5%

Question Type : MCQ

Question ID : 264330133588

Option 1 ID : 264330523376

Option 2 ID : 264330523375

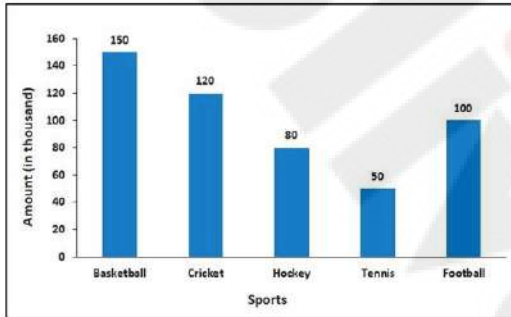
Option 3 ID : 264330523377

Option 4 ID : 264330523378

Status : Answered

Chosen Option : 3

Q.15 निम्नलिखित दंड आलेख में किसी विशिष्ट वर्ष में एक स्कूल प्रशासन द्वारा विभिन्न खेलों पर खर्च की गई धनराशि को दर्शाया गया है। हॉकी और फुटबॉल पर खर्च की गई धनराशि, बास्केटबॉल और टेनिस पर खर्च की गई राशि का कितना प्रतिशत है?



Amount (in thousand) = धनराशि (हजार में)

Sports = खेल

Basketball = बास्केटबॉल, Cricket = क्रिकेट, Hockey = हॉकी, Tennis = टेनिस, Football = फुटबॉल

- Ans
- 1. 20%
  - 2. 50%
  - 3. 70%
  - 4. 90%

Question Type : MCQ

Question ID : 264330133597

Option 1 ID : 264330523411

Option 2 ID : 264330523412

Option 3 ID : 264330523413

Option 4 ID : 264330523414

Status : Answered

Chosen Option : 4

Q.16 पाँच क्रमागत संख्याओं का औसत 53 है। इनमें से सबसे बड़ी संख्या कौन-सी है?

- Ans
- 1. 52
  - 2. 53
  - 3. 55
  - 4. 54

Question Type : MCQ  
Question ID : 264330133583  
Option 1 ID : 264330523355  
Option 2 ID : 264330523356  
Option 3 ID : 264330523358  
Option 4 ID : 264330523357  
Status : Answered  
Chosen Option : 3

Q.17 यदि 540 kg घास 100 गायों के लिए 9 दिन का पर्याप्त चारा है, तो 900 kg घास 50 गायों के लिए कितने दिन के लिए पर्याप्त होगी?

- Ans
- 1. 10 दिन
  - 2. 50 दिन
  - 3. 30 दिन
  - 4. 20 दिन

Question Type : MCQ  
Question ID : 264330133590  
Option 1 ID : 264330523385  
Option 2 ID : 264330523383  
Option 3 ID : 264330523384  
Option 4 ID : 264330523386  
Status : Answered  
Chosen Option : 3

Q.18 दो सह-अभाज्य संख्याओं का गुणनफल 483 है। दोनों संख्याओं का लघुतम समापवर्त्य ज्ञात कीजिए।

- Ans
- 1. 21
  - 2. 483
  - 3. 1
  - 4. 23

Question Type : MCQ  
Question ID : 264330138370  
Option 1 ID : 264330542089  
Option 2 ID : 264330542087  
Option 3 ID : 264330542088  
Option 4 ID : 264330542090  
Status : Answered  
Chosen Option : 2

Q.19 840, 1500 का कितना प्रतिशत है?

- Ans
- 1. 64 प्रतिशत
  - 2. 57 प्रतिशत
  - 3. 56 प्रतिशत
  - 4. 62 प्रतिशत

Question Type : MCQ

Question ID : 264330137879

Option 1 ID : 264330540124

Option 2 ID : 264330540123

Option 3 ID : 264330540126

Option 4 ID : 264330540125

Status : Answered

Chosen Option : 3

Q.20 एक कार पहले घंटे के लिए 40 km/hr की चाल से और अगले घंटे के लिए 60 km/hr की चाल से यात्रा करती है। कार की औसत चाल क्या होगी?

- Ans
- 1. 50 km/hr
  - 2. 40 km/hr
  - 3. 60 km/hr
  - 4. 45 km/hr

Question Type : MCQ

Question ID : 264330141042

Option 1 ID : 264330552516

Option 2 ID : 264330552515

Option 3 ID : 264330552517

Option 4 ID : 264330552518

Status : Answered

Chosen Option : 1

Section : Reasoning Ability and Problem Solving

Q.1 एक निश्चित कूट भाषा में, 'READER' को 'UHGDHU' लिखा जाता है। उसी कूट भाषा में 'SENIOR' को कैसे लिखा जाएगा?

- Ans
- 1. URMQHV
  - 2. URLQIV
  - 3. URLQHV
  - 4. URLQHW

Question Type : MCQ

Question ID : 264330137371

Option 1 ID : 264330538112

Option 2 ID : 264330538113

Option 3 ID : 264330538114

Option 4 ID : 264330538111

Status : Answered

Chosen Option : 3

Q.2 छः मिन पवन, कांता, ऋषभ, सुभम, मयंक और विक्रम एक परिधि में केंद्र की ओर मुख करके बैठे हैं। पवन, विक्रम के ठीक बाएँ पर है। ऋषभ, पवन के दाएँ से चौथे स्थान पर है। पवन और ऋषभ के बीच केवल मयंक बैठा है। सुभम, विक्रम के आसन्न नहीं बैठा है। सुभम के ठीक दाएँ कौन बैठा है?

- Ans
- 1. मयंक
  - 2. पवन
  - 3. कांता
  - 4. ऋषभ

Question Type : MCQ  
Question ID : 264330133327  
Option 1 ID : 264330522346  
Option 2 ID : 264330522345  
Option 3 ID : 264330522344  
Option 4 ID : 264330522343  
Status : Answered  
Chosen Option : 4

Q.3 उस विकल्प को चुनिए जो तीसरे अक्षर-समूह से ठीक उसी तरह संबंधित है जिस तरह दूसरा अक्षर-समूह पहले अक्षर-समूह से संबंधित है।  
MNO : RST :: GHI : ?

- Ans
- 1. MNL
  - 2. LOM
  - 3. LMN
  - 4. LNO

Question Type : MCQ  
Question ID : 264330133321  
Option 1 ID : 264330522320  
Option 2 ID : 264330522321  
Option 3 ID : 264330522319  
Option 4 ID : 264330522322  
Status : Answered  
Chosen Option : 3

Q.4 दिए गए पैटर्न का ध्यानपूर्वक अध्ययन कीजिए और उस संख्या को चुनिए जो इसमें प्रश्न चिन्ह (?) के स्थान पर आ सकती है।  
प्रथम पंक्ति- 80, 40, 160  
द्वितीय पंक्ति- 30, 15, 60  
तृतीय पंक्ति- 24, 12, ?

- Ans
- 1. 54
  - 2. 38
  - 3. 48
  - 4. 65

Question Type : MCQ  
Question ID : 264330133334  
Option 1 ID : 264330522374  
Option 2 ID : 264330522371  
Option 3 ID : 264330522372  
Option 4 ID : 264330522373  
Status : Answered  
Chosen Option : 3

Q.5 एक निश्चित कूट भाषा में, 'HEG' को '840' लिखा जाता है, 'JFD' को '720' लिखा जाता है। उस कूट भाषा में 'JDK' को कैसे लिखा जाएगा?

- Ans
- 1. 1400
  - 2. 1280
  - 3. 1320
  - 4. 1380

Question Type : MCQ  
Question ID : 264330137093  
Option 1 ID : 264330537015  
Option 2 ID : 264330537017  
Option 3 ID : 264330537018  
Option 4 ID : 264330537016  
Status : Answered  
Chosen Option : 3

Q.6 दी गई श्रृंखला में निम्नलिखित में से कौन-सी संख्या प्रश्न चिन्ह (?) के स्थान पर आएगी?  
68, 62, 50, 32, 8, -22, ?

- Ans
- 1. 58
  - 2. -53
  - 3. -58
  - 4. -75

Question Type : MCQ  
Question ID : 264330137799  
Option 1 ID : 264330539805  
Option 2 ID : 264330539806  
Option 3 ID : 264330539803  
Option 4 ID : 264330539804  
Status : Answered  
Chosen Option : 3

Q.7 दो कथन दिए गए हैं और उनके बाद दो निष्कर्ष I और II दिए गए हैं। कथनों को सत्य मानते हुए, चाहे वे सामान्यतः ज्ञात तथ्यों से अलग प्रतीत होते हों, निश्चय कीजिए कि कौन-सा निष्कर्ष तार्किक रूप से कथनों के अनुसार है।  
कथन:  
सभी मेज़ें, मज़बूत हैं।  
कोई मज़बूत, कमजोर नहीं है।  
निष्कर्ष:  
I. कोई मेज़, कमजोर नहीं है।  
II. कुछ कमजोर, मेज़ें हैं।

- Ans
- 1. निष्कर्ष I और II दोनों कथनों के अनुसार हैं
  - 2. सिर्फ निष्कर्ष I कथनों के अनुसार है
  - 3. सिर्फ निष्कर्ष II कथनों के अनुसार है
  - 4. निष्कर्ष I और II में से कोई भी कथनों के अनुसार नहीं है

Question Type : MCQ  
Question ID : 264330133330  
Option 1 ID : 264330522357  
Option 2 ID : 264330522355  
Option 3 ID : 264330522356  
Option 4 ID : 264330522358  
Status : Answered  
Chosen Option : 4

Q.8 एक निश्चित कूट भाषा में, 'SNOW' को '21, 16, 17, 25' लिखा जाता है, 'RIDE' को '20, 11, 6, 7' लिखा जाता है। उस कूट भाषा में 'TAPE' को कैसे लिखा जाएगा?

- Ans
- 1. 20, 3, 18, 7
  - 2. 22, 3, 17, 7
  - 3. 22, 3, 18, 7
  - 4. 22, 3, 18, 6

Question Type : MCQ

Question ID : 264330138524

Option 1 ID : 264330542705

Option 2 ID : 264330542703

Option 3 ID : 264330542704

Option 4 ID : 264330542706

Status : Answered

Chosen Option : 3

Q.9 पाँच पुरुष M, N, O, P और Q एक पंक्ति में उत्तर की ओर मुख करके बैठे हैं। M एक छोर पर बैठा है और O दूसरे छोर पर बैठा है। Q, M के ठीक बाएँ और P के ठीक दाएँ पर बैठा है। O के दाएँ से तीसरे स्थान पर कौन बैठा है?

- Ans
- 1. N
  - 2. Q
  - 3. P
  - 4. M

Question Type : MCQ

Question ID : 264330133326

Option 1 ID : 264330522340

Option 2 ID : 264330522342

Option 3 ID : 264330522341

Option 4 ID : 264330522339

Status : Answered

Chosen Option : 2

Q.10 दी गई श्रृंखला में निम्नलिखित में से कौन-सी संख्या प्रश्न चिन्ह (?) के स्थान पर आएगी?  
55, 42, 31, 22, 15, 10, ?

- Ans
- 1. 6
  - 2. 5
  - 3. 7
  - 4. 3

Question Type : MCQ

Question ID : 264330133332

Option 1 ID : 264330522363

Option 2 ID : 264330522366

Option 3 ID : 264330522364

Option 4 ID : 264330522365

Status : Answered

Chosen Option : 3

Q.11 उस विकल्प को चुनिए जो तीसरी संख्या से ठीक उसी तरह संबंधित है जिस तरह दूसरी संख्या पहली संख्या से संबंधित है।

435 : 87 :: 285 : ?

- Ans
- 1. 58
  - 2. 57
  - 3. 56
  - 4. 59

Question Type : MCQ

Question ID : 264330137801

Option 1 ID : 264330539811

Option 2 ID : 264330539812

Option 3 ID : 264330539813

Option 4 ID : 264330539814

Status : Answered

Chosen Option : 2

Q.12 दो कथन दिए गए हैं और उनके बाद दो निष्कर्ष I और II दिए गए हैं। कथनों को सत्य मानते हुए, चाहे वे सामान्यतः ज्ञात तथ्यों से अलग प्रतीत होते हों, निश्चय कीजिए कि कौन-सा निष्कर्ष तार्किक रूप से कथनों के अनुसार है।

कथन:

सभी बोटलें, काली हैं।

कुछ काले, सफेद हैं।

निष्कर्ष:

I. सभी काले, बोटलें हैं।

II. कुछ काले, सफेद नहीं हैं।

- Ans
- 1. सिर्फ निष्कर्ष II कथनों के अनुसार है
  - 2. निष्कर्ष I और II में से कोई भी कथनों के अनुसार नहीं है
  - 3. निष्कर्ष I और II दोनों कथनों के अनुसार हैं
  - 4. सिर्फ निष्कर्ष I कथनों के अनुसार है

Question Type : MCQ

Question ID : 264330133329

Option 1 ID : 264330522352

Option 2 ID : 264330522354

Option 3 ID : 264330522353

Option 4 ID : 264330522351

Status : Answered

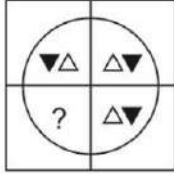
Chosen Option : 1

Q.13 अलग-अलग कद वाले सात मित्र हारून, इमान, जेसन, कीर्ति, लिसा, मोहन और नीति अपने कद के अवरोही क्रम में खड़े हैं। सबसे ऊँचा व्यक्ति पंक्ति में सबसे आगे और सबसे छोटा व्यक्ति पंक्ति में सबसे आखिर में खड़ा है। हारून, लिसा के ठीक पीछे खड़ा है, जो कीर्ति के ठीक पीछे खड़ी है। मोहन और नीति के बीच सिर्फ दो व्यक्ति खड़े हैं। इमान आगे से दूसरे स्थान पर खड़ा है। मोहन सबसे ऊँचा नहीं है। पंक्ति में सबसे आगे कौन खड़ा है?

- Ans
- 1. मोहन
  - 2. नीति
  - 3. जेसन
  - 4. कीर्ति

Question Type : MCQ  
 Question ID : 264330133328  
 Option 1 ID : 264330522347  
 Option 2 ID : 264330522349  
 Option 3 ID : 264330522350  
 Option 4 ID : 264330522348  
 Status : Answered  
 Chosen Option : 2

Q.14 उस विकल्प आकृति को चुनिए जो नीचे दी गई आकृति में पैटर्न को पूरा करने के लिए प्रश्न चिह्न (?) के स्थान पर आएगी। (पूर्णन की अनुमति नहीं है)।



- Ans
- 1.
  - 2.
  - 3.
  - 4.

Question Type : MCQ  
 Question ID : 264330133339  
 Option 1 ID : 264330522391  
 Option 2 ID : 264330522393  
 Option 3 ID : 264330522392  
 Option 4 ID : 264330522394  
 Status : Answered  
 Chosen Option : 4

Q.15 दी गई श्रृंखला में निम्नलिखित में से कौन-सा अक्षर प्रश्न चिन्ह (?) के स्थान पर आएगा?  
d, f, h, j, l, n, p, r,?

- Ans
- ✓ 1. t
  - ✗ 2. s
  - ✗ 3. u
  - ✗ 4. v

Question Type : MCQ  
Question ID : 264330133320  
Option 1 ID : 264330522316  
Option 2 ID : 264330522315  
Option 3 ID : 264330522317  
Option 4 ID : 264330522318  
Status : Answered  
Chosen Option : 1

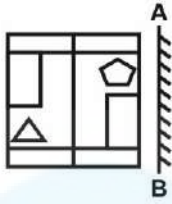
Q.16 (::) के बाईं ओर दिए गए शब्द आपस में किसी तर्क/नियम/संबंध द्वारा संबंधित हैं। समान तर्क/नियम/संबंध के आधार पर दिए गए विकल्पों में से (::) के दाईं ओर लुप्त शब्द/शब्द युग्म को चुनिए।

गुजरात : गांधीनगर:: राजस्थान : ?

- Ans
- ✗ 1. जोधपुर
  - ✓ 2. जयपुर
  - ✗ 3. उदयपुर
  - ✗ 4. चंडीगढ़

Question Type : MCQ  
Question ID : 264330138478  
Option 1 ID : 264330542521  
Option 2 ID : 264330542519  
Option 3 ID : 264330542520  
Option 4 ID : 264330542522  
Status : Answered  
Chosen Option : 2

Q.17 यदि एक दर्पण को रेखा AB पर रखा जाए, तो दी गई विकल्प आकृतियों में से कौन-सी आकृति प्रश्न आकृति का सही प्रतिबिम्ब होगी?

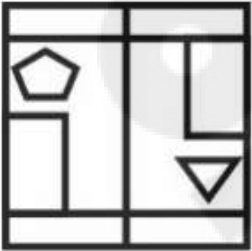


Ans

✓ 1.



✗ 2.



✗ 3.



✗ 4.



Question Type : MCQ

Question ID : 264330138869

Option 1 ID : 264330544085

Option 2 ID : 264330544086

Option 3 ID : 264330544083

Option 4 ID : 264330544084

Status : Answered

Chosen Option : 1

Q.18 (::) के बाईं ओर दिए गए शब्द आपस में किसी तर्क/नियम/संबंध द्वारा संबंधित हैं। समान तर्क/नियम/संबंध के आधार पर दिए गए विकल्पों में से (::) के दाईं ओर लुप्त शब्द/शब्द युग्म को चुनिए।

वॉट : शक्ति (Power) :: ओम : ?

- Ans
- 1. आयतन
  - 2. विद्युत धारा
  - 3. बल
  - 4. विद्युत प्रतिरोध

Question Type : MCQ

Question ID : 264330137087

Option 1 ID : 264330536993

Option 2 ID : 264330536992

Option 3 ID : 264330536994

Option 4 ID : 264330536991

Status : Answered

Chosen Option : 4

Q.19 उस विकल्प आकृति को चुनिए जिसमें दी गई आकृति निहित है।(घूर्णन की अनुमति नहीं है)

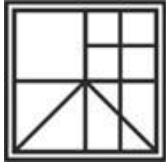


Ans

1.



2.



3.



4.



Question Type : MCQ

Question ID : 264330138868

Option 1 ID : 264330544082

Option 2 ID : 264330544080

Option 3 ID : 264330544081

Option 4 ID : 264330544079

Status : Answered

Chosen Option : 2

Q.20 उस विकल्प को चुनिए जो तीसरे शब्द से ठीक उसी तरह संबंधित है जिस तरह दूसरा शब्द पहले शब्द से संबंधित है।  
अंडविज्ञान : अंडे :: कवक विज्ञान : ?

- Ans
- 1. विषाणु
  - 2. कवक
  - 3. जीवाणु
  - 4. प्रोटोजोआ

Question Type : MCQ  
Question ID : 264330133322  
Option 1 ID : 264330522325  
Option 2 ID : 264330522326  
Option 3 ID : 264330522323  
Option 4 ID : 264330522324  
Status : Answered  
Chosen Option : 2

Section : General Awareness

Q.1 गुरु केलुचरण महापात्र पुरस्कार की शुरुआत वर्ष 1995 में की गई थी। गुरु केलुचरण महापात्र को किस नृत्य शैली के लिए जाना जाता था?

- Ans
- 1. ओडिसी
  - 2. छऊ
  - 3. मणिपुरी
  - 4. कथक

Question Type : MCQ  
Question ID : 264330137394  
Option 1 ID : 264330538203  
Option 2 ID : 264330538206  
Option 3 ID : 264330538204  
Option 4 ID : 264330538205  
Status : Answered  
Chosen Option : 1

Q.2 उत्पादित वस्तुओं और सेवाओं के वार्षिक मूल्य की गणना करने के लिए उपयोग की जाने वाली उत्पाद विधि को \_\_\_\_\_ भी कहा जाता है।

- Ans
- 1. आय विधि
  - 2. मूल्यहास विधि
  - 3. व्यय विधि
  - 4. मूल्यवर्धित विधि

Question Type : MCQ  
Question ID : 264330137397  
Option 1 ID : 264330538218  
Option 2 ID : 264330538215  
Option 3 ID : 264330538216  
Option 4 ID : 264330538217  
Status : Answered  
Chosen Option : 1

Q.3 विश्व का सबसे बड़ा महाद्वीप कौन-सा है ?

- Ans
- 1. अफ्रीका
  - 2. एशिया
  - 3. दक्षिण अमेरिका
  - 4. उत्तर अमेरिका

Question Type : MCQ  
Question ID : 264330137902  
Option 1 ID : 264330540217  
Option 2 ID : 264330540218  
Option 3 ID : 264330540216  
Option 4 ID : 264330540215  
Status : Answered  
Chosen Option : 2

Q.4 निम्नलिखित में से कौन-सी जलसंधि श्रीलंका को भारत से अलग करती है?

- Ans
- 1. यूकाटन जलसंधि (Yucatan Strait)
  - 2. मलक्का जलसंधि (Malacca Strait)
  - 3. पाक जलसंधि (Palk Strait)
  - 4. सुंडा जलसंधि (Sunda Strait)

Question Type : MCQ  
Question ID : 264330137073  
Option 1 ID : 264330536937  
Option 2 ID : 264330536938  
Option 3 ID : 264330536935  
Option 4 ID : 264330536936  
Status : Answered  
Chosen Option : 3

Q.5 सातवाहन का सबसे महत्वपूर्ण शासक \_\_\_\_\_ था।

- Ans
- 1. गौतमीपुत्र श्री सातकर्णी (Gautamiputra Shri Satakarni)
  - 2. पुलुमावी चतुर्थ (Pulumavi IV)
  - 3. सिमुका (Simuka)
  - 4. वशिष्ठिपुत्र पुलुमावी (Vasisthiputra Pulamavi)

Question Type : MCQ  
Question ID : 264330138942  
Option 1 ID : 264330544375  
Option 2 ID : 264330544378  
Option 3 ID : 264330544377  
Option 4 ID : 264330544376  
Status : Answered  
Chosen Option : 1

Q.6 भारतीय संविधान का कौन-सा अनुच्छेद अपने धर्म विषयक कार्यों का प्रबंध करने की स्वतंत्रता प्रदान करता है?

Ans

- ✓ 1. अनुच्छेद 26
- ✗ 2. अनुच्छेद 30
- ✗ 3. अनुच्छेद 210
- ✗ 4. अनुच्छेद 5

Question Type : MCQ

Question ID : 264330133668

Option 1 ID : 264330523696

Option 2 ID : 264330523697

Option 3 ID : 264330523698

Option 4 ID : 264330523695

Status : Answered

Chosen Option : 1

Q.7 निम्नलिखित में से किस नदी का उद्गम महाराष्ट्र में होता है?

Ans

- ✓ 1. गोदावरी
- ✗ 2. यमुना
- ✗ 3. तापी
- ✗ 4. नर्मदा

Question Type : MCQ

Question ID : 264330133658

Option 1 ID : 264330523658

Option 2 ID : 264330523655

Option 3 ID : 264330523656

Option 4 ID : 264330523657

Status : Answered

Chosen Option : 1

Q.8 निम्नलिखित में से किसे "सेरीकल्चर" कहा जाता है?

Ans

- ✗ 1. अंगूरों की खेती
- ✗ 2. मत्स्यपालन
- ✓ 3. रेशम के कीटों का वाणिज्यिक पालन
- ✗ 4. फलों को उगाना

Question Type : MCQ

Question ID : 264330137404

Option 1 ID : 264330538243

Option 2 ID : 264330538245

Option 3 ID : 264330538244

Option 4 ID : 264330538246

Status : Answered

Chosen Option : 3

Q.9 निम्नलिखित में से कौन-सा एक कृत्रिम मधुरक (artificial sweetener) है?

- Ans
- 1. सोडियम बेंजोएट
  - 2. शर्करा (ग्लूकोस)
  - 3. लैक्टामेज़ (Lactamase)
  - 4. सैकरीन (Saccharin)

Question Type : MCQ

Question ID : 264330137901

Option 1 ID : 264330540213

Option 2 ID : 264330540211

Option 3 ID : 264330540212

Option 4 ID : 264330540214

Status : Answered

Chosen Option : 1

Q.10 भगत सिंह और बी.के. दत्त ने \_\_\_\_\_ को केंद्रीय विधान परिषद में बम फेंका था।

- Ans
- 1. 8 अप्रैल 1930
  - 2. 10 अप्रैल 1929
  - 3. 10 अप्रैल 1930
  - 4. 8 अप्रैल 1929

Question Type : MCQ

Question ID : 264330138945

Option 1 ID : 264330544388

Option 2 ID : 264330544389

Option 3 ID : 264330544390

Option 4 ID : 264330544387

Status : Answered

Chosen Option : 4

Q.11 2011 की जनगणना के अनुसार निम्न में से किस राज्य का लिंगानुपात सबसे कम है?

- Ans
- 1. बिहार
  - 2. हरियाणा
  - 3. झारखंड
  - 4. सिक्किम

Question Type : MCQ

Question ID : 264330137072

Option 1 ID : 264330536933

Option 2 ID : 264330536932

Option 3 ID : 264330536934

Option 4 ID : 264330536931

Status : Answered

Chosen Option : 2

Q.12 एक फुटबॉल टीम में कितने खिलाड़ी मैदान (field players) पर होते हैं?

- Ans
- 1. 14
  - 2. 12
  - 3. 13
  - 4. 11

Question Type : MCQ  
Question ID : 264330137917  
Option 1 ID : 264330540278  
Option 2 ID : 264330540276  
Option 3 ID : 264330540277  
Option 4 ID : 264330540275  
Status : Answered  
Chosen Option : 4

Q.13 मानव शरीर में निम्नलिखित में से कौन-सा अंग निमोनिया रोग से सबसे अधिक प्रभावित होता है?

- Ans
- 1. फेफड़े
  - 2. वृक्क
  - 3. हृदय
  - 4. मूत्राशय

Question Type : MCQ  
Question ID : 264330133654  
Option 1 ID : 264330523640  
Option 2 ID : 264330523642  
Option 3 ID : 264330523639  
Option 4 ID : 264330523641  
Status : Answered  
Chosen Option : 1

Q.14 भारत के संविधान की व्याख्या करने की शक्ति किसके पास है?

- Ans
- 1. भारत के राष्ट्रपति
  - 2. केवल सर्वोच्च न्यायालय
  - 3. केवल उच्च न्यायालय
  - 4. सर्वोच्च न्यायालय और उच्च न्यायालय दोनों

Question Type : MCQ  
Question ID : 264330138932  
Option 1 ID : 264330544338  
Option 2 ID : 264330544335  
Option 3 ID : 264330544336  
Option 4 ID : 264330544337  
Status : Answered  
Chosen Option : 2

Q.15 निम्नलिखित में से किस नृत्य शैली का संबंध राजस्थान से है?

- Ans
- 1. कथक
  - 2. कालबेलिया
  - 3. ओडिसी
  - 4. भरतनाट्यम

Question Type : MCQ  
Question ID : 264330133650  
Option 1 ID : 264330523623  
Option 2 ID : 264330523626  
Option 3 ID : 264330523624  
Option 4 ID : 264330523625  
Status : Answered  
Chosen Option : 2

Q.16 2022 तक, किस भारतीय संगीतकार के पास सबसे अधिक ऑस्कर पुरस्कार हैं?

- Ans
- 1. लता मंगेशकर
  - 2. गुलज़ार
  - 3. ए आर रहमान
  - 4. आशा भोसले

Question Type : MCQ  
Question ID : 264330133666  
Option 1 ID : 264330523689  
Option 2 ID : 264330523687  
Option 3 ID : 264330523690  
Option 4 ID : 264330523688  
Status : Answered  
Chosen Option : 3

Q.17 निम्नलिखित में से कौन-सा पदार्थ विद्युत का सुचालक है?

- Ans
- 1. अभ्रक (Mica)
  - 2. काँच
  - 3. एबोनाइट (Ebonite)
  - 4. चाँदी

Question Type : MCQ  
Question ID : 264330137899  
Option 1 ID : 264330540206  
Option 2 ID : 264330540203  
Option 3 ID : 264330540204  
Option 4 ID : 264330540205  
Status : Answered  
Chosen Option : 4

Q.18 "अंबुबाची मेला (Ambubachi Mela)" कहाँ आयोजित किया जाता है?

Ans  1. गुवाहाटी

2. पटना

3. लखनऊ

4. पुणे

Question Type : MCQ

Question ID : 264330138922

Option 1 ID : 264330544295

Option 2 ID : 264330544296

Option 3 ID : 264330544297

Option 4 ID : 264330544298

Status : Answered

Chosen Option : 1

Q.19 'फ्रीडम इन एक्साइल (Freedom in Exile)' \_\_\_\_\_ की आत्मकथात्मक किताब है।

Ans  1. जवाहर लाल नेहरू

2. दलाई लामा

3. महात्मा गांधी

4. जे. बी. कृपलानी

Question Type : MCQ

Question ID : 264330137392

Option 1 ID : 264330538196

Option 2 ID : 264330538195

Option 3 ID : 264330538198

Option 4 ID : 264330538197

Status : Answered

Chosen Option : 2

Q.20 चंगेज़ खान के नेतृत्व में मंगोलों ने \_\_\_\_\_ में उत्तर-पूर्वी ईरान में ट्रांसऑक्ससियाना पर हमला किया।

Ans  1. 1212

2. 1219

3. 1230

4. 1227

Question Type : MCQ

Question ID : 264330137908

Option 1 ID : 264330540242

Option 2 ID : 264330540239

Option 3 ID : 264330540241

Option 4 ID : 264330540240

Status : Answered

Chosen Option : 2

Q.21 किस प्रसिद्ध भारतीय खिलाड़ी को 'कैप्टन कूल (Captain Cool)' के नाम से जाना जाता है?

- Ans
- 1. मिल्खा सिंह
  - 2. मेजर ध्यानचंद
  - 3. महेन्द्र सिंह धोनी
  - 4. रोहित शर्मा

Question Type : MCQ  
Question ID : 264330133670  
Option 1 ID : 264330523705  
Option 2 ID : 264330523706  
Option 3 ID : 264330523703  
Option 4 ID : 264330523704  
Status : Answered  
Chosen Option : 3

Q.22 भारत में सन् \_\_\_\_\_ में "सती" प्रथा पर प्रतिबंध लगा दिया गया था।

- Ans
- 1. 1857
  - 2. 1819
  - 3. 1847
  - 4. 1829

Question Type : MCQ  
Question ID : 264330138944  
Option 1 ID : 264330544386  
Option 2 ID : 264330544383  
Option 3 ID : 264330544385  
Option 4 ID : 264330544384  
Status : Answered  
Chosen Option : 4

Q.23 स्टैंड-अप इंडिया (Stand Up India) योजना का उद्देश्य भारत के \_\_\_\_\_ समुदाय को उद्यमिता में समर्थन करना है।

- Ans
- 1. गरीबी रेखा के नीचे जीवनयापन करने वाले
  - 2. निर्माण कर्मी
  - 3. अनुसूचित जाति
  - 4. व्यापारी

Question Type : MCQ  
Question ID : 264330133648  
Option 1 ID : 264330523616  
Option 2 ID : 264330523617  
Option 3 ID : 264330523615  
Option 4 ID : 264330523618  
Status : Answered  
Chosen Option : 4

Q.24 सन् 1568 में चित्तौड़ पर अकबर का कब्ज़ा होने के बाद \_\_\_\_\_ ने उदयपुर की स्थापना की।

- Ans
- ✓ 1. राणा उदय सिंह
  - ✗ 2. मान सिंह
  - ✗ 3. राजा भारमल
  - ✗ 4. सवाई जयसिंह

Question Type : MCQ  
Question ID : 264330138923  
Option 1 ID : 264330544300  
Option 2 ID : 264330544301  
Option 3 ID : 264330544302  
Option 4 ID : 264330544299  
Status : Answered  
Chosen Option : 1

Q.25 राज्यसभा का सदस्य बनने के लिए एक भारतीय नागरिक की न्यूनतम आयु कितनी होनी चाहिए?

- Ans
- ✗ 1. 25 वर्ष
  - ✓ 2. 30 वर्ष
  - ✗ 3. 35 वर्ष
  - ✗ 4. 20 वर्ष

Question Type : MCQ  
Question ID : 264330133669  
Option 1 ID : 264330523700  
Option 2 ID : 264330523701  
Option 3 ID : 264330523702  
Option 4 ID : 264330523699  
Status : Answered  
Chosen Option : 2

Section : English Language and Comprehension

Q.1 Identify the segment that contains a grammatical error. If there is no error, select 'No error'  
We talked about writing a will, but it / was one of the best thing you never get / around to doing.

- Ans
- ✗ 1. around to doing.
  - ✗ 2. We talked about writing a will, but it
  - ✓ 3. was one of the best thing you never get
  - ✗ 4. No Error

Question Type : MCQ  
Question ID : 264330135768  
Option 1 ID : 264330531953  
Option 2 ID : 264330531951  
Option 3 ID : 264330531952  
Option 4 ID : 264330531954  
Status : Answered  
Chosen Option : 3

Q.2 A sentence has been given with a blank to be filled with an appropriate option. Choose the correct alternative.

Ram is \_\_\_\_\_ like the kings before him.

- Ans
- 1. nor
  - 2. no
  - 3. not
  - 4. none

Question Type : MCQ  
Question ID : 264330134300  
Option 1 ID : 264330526197  
Option 2 ID : 264330526198  
Option 3 ID : 264330526195  
Option 4 ID : 264330526196  
Status : Answered  
Chosen Option : 3

Q.3 Choose the sentence with no spelling error.

- Ans
- 1. A few examples can illustrate this.
  - 2. A few examples can ilustrate this.
  - 3. A few exemples can illustrate this.
  - 4. A few examples can illustrate this.

Question Type : MCQ  
Question ID : 264330136896  
Option 1 ID : 264330536268  
Option 2 ID : 264330536269  
Option 3 ID : 264330536267  
Option 4 ID : 264330536270  
Status : Answered  
Chosen Option : 1

Q.4 Improve the underlined part of the sentence. Choose 'No improvement' as an answer if the sentence is grammatically correct.

When my calculations are wrong, I have to pore over the spreadsheet to find the error.

- Ans
- 1. No improvement
  - 2. to pore by
  - 3. to poring over
  - 4. to pored over

Question Type : MCQ  
Question ID : 264330134299  
Option 1 ID : 264330526194  
Option 2 ID : 264330526193  
Option 3 ID : 264330526191  
Option 4 ID : 264330526192  
Status : Answered  
Chosen Option : 1

Q.5 Choose the word that is opposite in meaning to the given word.

Abstract

- Ans
- 1. Transcend
  - 2. Romantic
  - 3. Concrete
  - 4. Utopian

Question Type : MCQ  
Question ID : 264330136891  
Option 1 ID : 264330536247  
Option 2 ID : 264330536248  
Option 3 ID : 264330536249  
Option 4 ID : 264330536250  
Status : Answered  
Chosen Option : 3

Q.6 Select the appropriate antonym for the underlined word.  
The pillar of light has faded.

- Ans
- 1. grown
  - 2. vanished
  - 3. melted
  - 4. painted

Question Type : MCQ  
Question ID : 264330134313  
Option 1 ID : 264330526243  
Option 2 ID : 264330526244  
Option 3 ID : 264330526246  
Option 4 ID : 264330526245  
Status : Answered  
Chosen Option : 1

Q.7 Select the most appropriate meaning of the given idiom.

Walk on air

- Ans
- 1. To work hard
  - 2. To be extremely happy
  - 3. To describe an unusual situation
  - 4. Feeling weakened or tired

Question Type : MCQ  
Question ID : 264330136259  
Option 1 ID : 264330533820  
Option 2 ID : 264330533822  
Option 3 ID : 264330533821  
Option 4 ID : 264330533819  
Status : Answered  
Chosen Option : 2

Q.8 Choose the word that can substitute the given group of words.  
A person who easily believes without demanding proof

- Ans
- 1. Cosmopolitan
  - 2. Wary
  - 3. Credulous
  - 4. Streetwise

Question Type : MCQ  
Question ID : 264330134309  
Option 1 ID : 264330526228  
Option 2 ID : 264330526229  
Option 3 ID : 264330526227  
Option 4 ID : 264330526230  
Status : Answered  
Chosen Option : 3

Q.9 Select the most appropriate option to fill in the blank.  
A national holiday \_\_\_\_\_ on the same day as my birthday.

- Ans
- 1. flows
  - 2. falls
  - 3. fouls
  - 4. false

Question Type : MCQ  
Question ID : 264330136897  
Option 1 ID : 264330536272  
Option 2 ID : 264330536271  
Option 3 ID : 264330536274  
Option 4 ID : 264330536273  
Status : Answered  
Chosen Option : 2

Q.10 Improve the underlined part of the sentence. Choose 'No improvement' as an answer if  
the sentence is grammatically correct.  
The sun was shining through the window.

- Ans
- 1. were shined
  - 2. was shines
  - 3. No improvement
  - 4. were shining

Question Type : MCQ  
Question ID : 264330134297  
Option 1 ID : 264330526184  
Option 2 ID : 264330526185  
Option 3 ID : 264330526186  
Option 4 ID : 264330526183  
Status : Answered  
Chosen Option : 3

Q.11 Identify the segment that contains a grammatical error. If there is no error, select 'No error'

If Tom was here, / he could have / solved the issue.

- Ans
- 1. If Tom was here,
  - 2. solved the issue.
  - 3. No Error
  - 4. he could have

Question Type : MCQ

Question ID : 264330135767

Option 1 ID : 264330531947

Option 2 ID : 264330531949

Option 3 ID : 264330531950

Option 4 ID : 264330531948

Status : Answered

Chosen Option : 1

Q.12 Choose the word that means the same as the given word.

Jaded

- Ans
- 1. Unwearied
  - 2. Fatigued
  - 3. Weariless
  - 4. Beguiled

Question Type : MCQ

Question ID : 264330141164

Option 1 ID : 264330553001

Option 2 ID : 264330553002

Option 3 ID : 264330552999

Option 4 ID : 264330553000

Status : Answered

Chosen Option : 2

Q.13 Select the appropriate synonym for the underlined word.

Are you kidding?

- Ans
- 1. pleading
  - 2. joking
  - 3. mixing
  - 4. rocking

Question Type : MCQ

Question ID : 264330134310

Option 1 ID : 264330526232

Option 2 ID : 264330526234

Option 3 ID : 264330526231

Option 4 ID : 264330526233

Status : Answered

Chosen Option : 2

**Q.14** In the following question, out of the given four alternatives, select the alternative which best expresses the meaning of the Idiom/Phrase.  
**Wet behind the ears**

- Ans**
- 1. To place a bad bet
  - 2. A sudden change in fortune due to a windfall
  - 3. To win a bet
  - 4. To be young and without experience

Question Type : **MCQ**  
Question ID : **264330134315**  
Option 1 ID : **264330526252**  
Option 2 ID : **264330526254**  
Option 3 ID : **264330526253**  
Option 4 ID : **264330526251**  
Status : **Answered**  
Chosen Option : **4**

**Q.15** Select the most appropriate option to substitute the bracketed segment in the given sentence. If there is no need to substitute it, select 'no substitution required'.  
(Democrats control neither Congress and neither the White House, but) they are doing their best to control the judicial processes.

- Ans**
- 1.  
Democrats control neither Congress or the White House, but
  - 2.  
Democrats control neither Congress nor the White House, but
  - 3. No substitution required
  - 4.  
Democrat controls neither Congress and nor the White House, though

Question Type : **MCQ**  
Question ID : **264330135771**  
Option 1 ID : **264330531963**  
Option 2 ID : **264330531964**  
Option 3 ID : **264330531966**  
Option 4 ID : **264330531965**  
Status : **Answered**  
Chosen Option : **4**

**Q.16** Select the most appropriate word for the given group of words.

Fear of heights

- Ans**
- 1. Vaccinophobia
  - 2. Acrophobia
  - 3. Hydrophobia
  - 4. Bathophobia

Question Type : **MCQ**  
Question ID : **264330136253**  
Option 1 ID : **264330533798**  
Option 2 ID : **264330533797**  
Option 3 ID : **264330533796**  
Option 4 ID : **264330533795**  
Status : **Answered**  
Chosen Option : **2**

Q.17 Fill in the blank with the most appropriate option.

That remark \_\_\_\_\_ a stir.

- Ans
- 1. produced
  - 2. constructed
  - 3. created
  - 4. built

Question Type : MCQ  
Question ID : 264330141198  
Option 1 ID : 264330553130  
Option 2 ID : 264330553128  
Option 3 ID : 264330553127  
Option 4 ID : 264330553129  
Status : Answered  
Chosen Option : 3

Q.18 Find the part of the given sentence that has an error in it. If there is no error, choose 'No error'.

Shivam is more cleverer than any other boy in the office.

- Ans
- 1. than any other boy
  - 2. No error
  - 3. Shivam is more cleverer
  - 4. in the office.

Question Type : MCQ  
Question ID : 264330134296  
Option 1 ID : 264330526180  
Option 2 ID : 264330526182  
Option 3 ID : 264330526179  
Option 4 ID : 264330526181  
Status : Answered  
Chosen Option : 3

Q.19 Select the most appropriate option to fill in the blank.

To \_\_\_\_\_ your self-worth, write down some things that are positive about yourself.

- Ans
- 1. repudiate
  - 2. affirm
  - 3. overlook
  - 4. sanctify

Question Type : MCQ  
Question ID : 264330134319  
Option 1 ID : 264330526267  
Option 2 ID : 264330526269  
Option 3 ID : 264330526270  
Option 4 ID : 264330526268  
Status : Answered  
Chosen Option : 1

**Q.20 Choose the incorrectly spelt word.**

- Ans  1. Blast  
 2. Jutsice  
 3. Caste  
 4. Toast

Question Type : MCQ

Question ID : 264330134316

Option 1 ID : 264330526258

Option 2 ID : 264330526256

Option 3 ID : 264330526255

Option 4 ID : 264330526257

Status : Answered

Chosen Option : 2

**Comprehension:**

In the following passage some of the words have been deleted. Read the passage carefully and select the correct answer for the given blank out of the four alternatives.

One afternoon, a dozen Arizona State University students (1) \_\_\_\_\_ to spend the morning cutting cardboard, taping fans and assembling filters in an effort to (2) \_\_\_\_\_ 125 portable air purifiers for local schools. That (3) \_\_\_\_\_ morning, staff members at a homeless shelter in Los Angeles were setting (4) \_\_\_\_\_ 20 homemade purifiers of their own, while in Brookline, Massachusetts, another DIY air purifier was whirring quietly in the back of a day care (5) \_\_\_\_\_ as children played.

**SubQuestion No : 21**

**Q.21 Select the most appropriate option to fill in the blank No. 1.**

- Ans  1. dismissed  
 2. plated  
 3. gathered  
 4. triggered

Question Type : MCQ

Question ID : 264330136882

Option 1 ID : 264330536212

Option 2 ID : 264330536213

Option 3 ID : 264330536211

Option 4 ID : 264330536214

Status : Answered

Chosen Option : 3

**Comprehension:**

In the following passage some of the words have been deleted. Read the passage carefully and select the correct answer for the given blank out of the four alternatives.

One afternoon, a dozen Arizona State University students (1) \_\_\_\_\_ to spend the morning cutting cardboard, taping fans and assembling filters in an effort to (2) \_\_\_\_\_ 125 portable air purifiers for local schools. That (3) \_\_\_\_\_ morning, staff members at a homeless shelter in Los Angeles were setting (4) \_\_\_\_\_ 20 homemade purifiers of their own, while in Brookline, Massachusetts, another DIY air purifier was whirring quietly in the back of a day care (5) \_\_\_\_\_ as children played.

**SubQuestion No : 22**

**Q.22** Select the most appropriate option to fill in the blank No. 2.

- Ans**
- 1. sieve
  - 2. build
  - 3. beat
  - 4. weld

Question Type : **MCQ**

Question ID : **264330136883**

Option 1 ID : **264330536215**

Option 2 ID : **264330536217**

Option 3 ID : **264330536218**

Option 4 ID : **264330536216**

Status : **Answered**

Chosen Option : **2**

**Comprehension:**

In the following passage some of the words have been deleted. Read the passage carefully and select the correct answer for the given blank out of the four alternatives.

One afternoon, a dozen Arizona State University students (1) \_\_\_\_\_ to spend the morning cutting cardboard, taping fans and assembling filters in an effort to (2) \_\_\_\_\_ 125 portable air purifiers for local schools. That (3) \_\_\_\_\_ morning, staff members at a homeless shelter in Los Angeles were setting (4) \_\_\_\_\_ 20 homemade purifiers of their own, while in Brookline, Massachusetts, another DIY air purifier was whirring quietly in the back of a day care (5) \_\_\_\_\_ as children played.

**SubQuestion No : 23**

**Q.23** Select the most appropriate option to fill in the blank No. 3.

- Ans**
- 1. cruel
  - 2. resembling
  - 3. same
  - 4. copy

Question Type : **MCQ**

Question ID : **264330136884**

Option 1 ID : **264330536219**

Option 2 ID : **264330536220**

Option 3 ID : **264330536222**

Option 4 ID : **264330536221**

Status : **Answered**

Chosen Option : **3**

**Comprehension:**

In the following passage some of the words have been deleted. Read the passage carefully and select the correct answer for the given blank out of the four alternatives.

One afternoon, a dozen Arizona State University students (1) \_\_\_\_\_ to spend the morning cutting cardboard, taping fans and assembling filters in an effort to (2) \_\_\_\_\_ 125 portable air purifiers for local schools. That (3) \_\_\_\_\_ morning, staff members at a homeless shelter in Los Angeles were setting (4) \_\_\_\_\_ 20 homemade purifiers of their own, while in Brookline, Massachusetts, another DIY air purifier was whirring quietly in the back of a day care (5) \_\_\_\_\_ as children played.

**SubQuestion No : 24**

Q.24 Select the most appropriate option to fill in the blank No. 4.

- Ans
- 1. off
  - 2. on
  - 3. in
  - 4. up

Question Type : MCQ

Question ID : 264330136885

Option 1 ID : 264330536224

Option 2 ID : 264330536223

Option 3 ID : 264330536225

Option 4 ID : 264330536226

Status : Answered

Chosen Option : 2

**Comprehension:**

In the following passage some of the words have been deleted. Read the passage carefully and select the correct answer for the given blank out of the four alternatives.

One afternoon, a dozen Arizona State University students (1) \_\_\_\_\_ to spend the morning cutting cardboard, taping fans and assembling filters in an effort to (2) \_\_\_\_\_ 125 portable air purifiers for local schools. That (3) \_\_\_\_\_ morning, staff members at a homeless shelter in Los Angeles were setting (4) \_\_\_\_\_ 20 homemade purifiers of their own, while in Brookline, Massachusetts, another DIY air purifier was whirring quietly in the back of a day care (5) \_\_\_\_\_ as children played.

**SubQuestion No : 25**

Q.25 Select the most appropriate option to fill in the blank No. 5.

- Ans
- 1. podium
  - 2. hangar
  - 3. classroom
  - 4. auditorium

Question Type : MCQ

Question ID : 264330136886

Option 1 ID : 264330536228

Option 2 ID : 264330536227

Option 3 ID : 264330536229

Option 4 ID : 264330536230

Status : Answered

Chosen Option : 3