

Multi Tasking Non Technical Staff and Havaldar CBIC and CBN Examination 2022

Roll Number	
Candidate Name	
Venue Name	iON Digital Zone iDZ Laxman Nagar
Exam Date	08/05/2023
Exam Time	3:30 PM - 5:00 PM
Subject	MTS Non Tech Havaldar CBIC and CBN Examination 2022

Section : Numerical and Mathematical Ability

Q.1 48, 84 का कितना प्रतिशत है?

- Ans
- 1. $\frac{100}{11}$ %
 - 2. $\frac{51}{7}$ %
 - 3. $\frac{103}{17}$ %
 - 4. $\frac{400}{7}$ %

Question Type : MCQ

Question ID : 264330133820

Option 1 ID : 264330524304

Option 2 ID : 264330524306

Option 3 ID : 264330524305

Option 4 ID : 264330524303

Status : Answered

Chosen Option : 4

Q.2 अंकुर और अंकित के वेतन का अनुपात 3:2 है। यदि प्रत्येक के वेतन में Rs. 2500 की कमी कर दी जाए, तो नया अनुपात 8:5 हो जाता है। उनके वेतन का योग क्या है?

- Ans
- 1. Rs. 7500
 - 2. Rs. 28500
 - 3. Rs. 12500
 - 4. Rs. 37500

Question Type : MCQ

Question ID : 264330133825

Option 1 ID : 264330524324

Option 2 ID : 264330524325

Option 3 ID : 264330524326

Option 4 ID : 264330524323

Status : Answered

Chosen Option : 4

Q.3 3.6, 4.2 और 5.4 का चतुर्थ समानुपाती है:

- Ans
- 1. 1.2
 - 2. 7.2
 - 3. 6.3
 - 4. 1.4

Question Type : MCQ

Question ID : 264330133824

Option 1 ID : 264330524320

Option 2 ID : 264330524322

Option 3 ID : 264330524321

Option 4 ID : 264330524319

Status : Answered

Chosen Option : 3

Q.4 पाँच क्रमागत विषम संख्याओं का औसत 37 है। सबसे बड़ी और सबसे छोटी संख्या का योग क्या है?

- Ans
- 1. 41
 - 2. 8
 - 3. 66
 - 4. 74

Question Type : MCQ

Question ID : 264330133818

Option 1 ID : 264330524297

Option 2 ID : 264330524298

Option 3 ID : 264330524296

Option 4 ID : 264330524295

Status : Answered

Chosen Option : 4

Q.5 दी गई तालिका में 7 अलग-अलग शहरों में लड़कों द्वारा की गई नौकरियों की संख्या को दर्शाया गया है। इनमें से किस शहर में लड़कों द्वारा की गई नौकरियों की संख्या सबसे कम है?

Cities	Jobs
Delhi	230
Mumbai	420
Raipur	340
Kolkata	245
Pune	654
Bhopal	234
Kanpur	321

Cities - शहर, Jobs - नौकरियाँ, Delhi - दिल्ली, Mumbai - मुंबई, Raipur - रायपुर,

Kolkata - कोलकाता, Pune - पुणे, Bhopal - भोपाल, Kanpur - कानपुर

- Ans
- 1. रायपुर
 - 2. पुणे
 - 3. दिल्ली
 - 4. मुंबई

Question Type : MCQ

Question ID : 264330135103

Option 1 ID : 264330529350

Option 2 ID : 264330529349

Option 3 ID : 264330529347

Option 4 ID : 264330529348

Status : Answered

Chosen Option : 3

Q.6 जब एक व्यक्ति द्वारा एक लैपटॉप को Rs.55,000 में बेचा जाता है, तो वह 25% लाभ अर्जित करता है। लैपटॉप का क्रय मूल्य ज्ञात कीजिए।

- Ans
- 1. Rs.44,000
 - 2. Rs.33,000
 - 3. Rs.45,000
 - 4. Rs.30,000

Question Type : MCQ

Question ID : 264330135419

Option 1 ID : 264330530584

Option 2 ID : 264330530585

Option 3 ID : 264330530586

Option 4 ID : 264330530583

Status : Answered

Chosen Option : 1

Q.7 हल कीजिए : $\left\{\left(\frac{42}{7}\right) \times 6\right\} \{45 \times 6 + 65\} \left[\frac{63}{7}\right] - 76$

- Ans
- ✓ 1. 108464
 - ✗ 2. 10987
 - ✗ 3. 10998
 - ✗ 4. 10876

Question Type : MCQ

Question ID : 264330135087

Option 1 ID : 264330529283

Option 2 ID : 264330529284

Option 3 ID : 264330529286

Option 4 ID : 264330529285

Status : Answered

Chosen Option : 1

Q.8 एक आदमी अकेले एक घर को 9 दिनों में पेंट कर सकता है और एक महिला अकेले उस घर को 18 दिनों में पेंट कर सकती है। यदि 3 आदमी और 3 महिलाएँ मिलकर काम करते हैं, तो वे घर को कितने दिनों में पेंट करेंगे?

- Ans
- ✗ 1. 6 दिन
 - ✓ 2. 2 दिन
 - ✗ 3. 4 दिन
 - ✗ 4. 3 दिन

Question Type : MCQ

Question ID : 264330138104

Option 1 ID : 264330541026

Option 2 ID : 264330541025

Option 3 ID : 264330541023

Option 4 ID : 264330541024

Status : Answered

Chosen Option : 2

Q.9 एक आदमी एक निश्चित दूरी का आधा भाग 25 km/hr की चाल से तय करता है। वह शेष दूरी का 40 प्रतिशत 8 km/hr की चाल से तय करता है और शेष दूरी 18 km/hr की चाल से तय करता है। पूरी यात्रा में उसकी औसत चाल क्या है?

- Ans
- ✗ 1. (650/37) km/hr
 - ✗ 2. (540/37) km/hr
 - ✓ 3. (600/37) km/hr
 - ✗ 4. (480/37) km/hr

Question Type : MCQ

Question ID : 264330137607

Option 1 ID : 264330539038

Option 2 ID : 264330539037

Option 3 ID : 264330539035

Option 4 ID : 264330539036

Status : Answered

Chosen Option : 3

Q.10 A_1 , A_2 और A_3 अकेले किसी कार्य को क्रमशः 12 घंटे, 24 घंटे और 16 घंटे में पूरा कर सकते हैं। एक साथ कार्य करके, वे इसी कार्य को कितने समय में पूरा करेंगे?

- Ans
- 1. 5 घंटे 30 मिनट
 - 2. 3 घंटे 30 मिनट
 - 3. 4 घंटे 20 मिनट
 - 4. 5 घंटे 20 मिनट

Question Type : MCQ

Question ID : 264330134094

Option 1 ID : 264330525401

Option 2 ID : 264330525400

Option 3 ID : 264330525402

Option 4 ID : 264330525399

Status : Answered

Chosen Option : 1

Q.11 एक शंक्वाकार तंबू के आधार की त्रिज्या 8 m और इसकी ऊँचाई 15 m है। यदि तंबू बनाने की लागत Rs.54 प्रति π m^2 है, तो इसे बनाने के लिए आवश्यक सामग्री की लागत कितनी होगी?

- Ans
- 1. Rs.7344
 - 2. Rs.7454
 - 3. Rs.8678
 - 4. Rs.6454

Question Type : MCQ

Question ID : 264330138108

Option 1 ID : 264330541041

Option 2 ID : 264330541039

Option 3 ID : 264330541040

Option 4 ID : 264330541042

Status : Answered

Chosen Option : 2

Q.12 8% का बट्टा मिलने पर, रश्मि ने Rs. 7912 में एक साइकिल खरीदी। साइकिल का वास्तविक मूल्य क्या था?

- Ans
- 1. Rs. 8600
 - 2. Rs. 7800
 - 3. Rs. 8800
 - 4. Rs. 9200

Question Type : MCQ

Question ID : 264330133823

Option 1 ID : 264330524316

Option 2 ID : 264330524315

Option 3 ID : 264330524317

Option 4 ID : 264330524318

Status : Answered

Chosen Option : 1

Q.13 एक लड़का एक रुपये में 6 टॉफी खरीदता है। 20% का लाभ अर्जित करने के लिए उसे एक रुपये में कितनी टॉफी बेचनी चाहिए?

- Ans
- 1. 5
 - 2. 7
 - 3. 4
 - 4. 3

Question Type : MCQ

Question ID : 264330133822

Option 1 ID : 264330524311

Option 2 ID : 264330524314

Option 3 ID : 264330524312

Option 4 ID : 264330524313

Status : Answered

Chosen Option : 1

Q.14 एक मोबाइल फोन Rs. 25000 में खरीदा गया। उस मोबाइल फोन के उपयोग के कारण उसके मूल्य में प्रति वर्ष 5% की गिरावट आती है। 2 वर्ष पश्चात मोबाइल फोन का मूल्य होगा:

- Ans
- 1. Rs. 24800.50
 - 2. Rs. 21546.50
 - 3. Rs. 22562.50
 - 4. Rs. 23842.50

Question Type : MCQ

Question ID : 264330133827

Option 1 ID : 264330524333

Option 2 ID : 264330524334

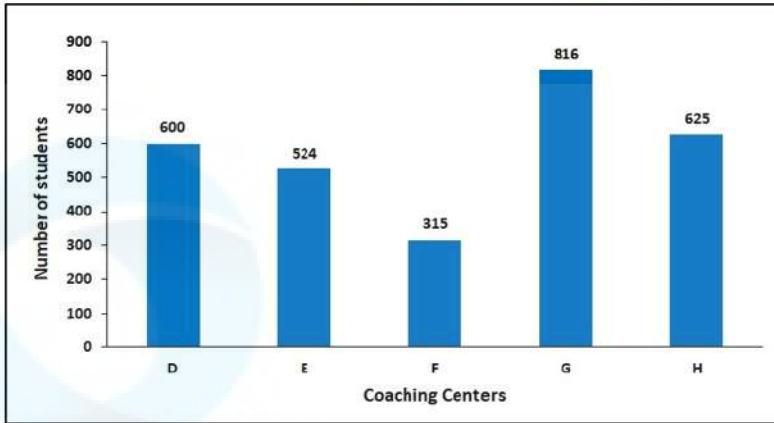
Option 3 ID : 264330524331

Option 4 ID : 264330524332

Status : Answered

Chosen Option : 3

- Q.15 निम्नलिखित दंड आलेख में पाँच अलग-अलग कोचिंग संस्थानों में छात्रों की संख्या को दर्शाया गया है।
कितने कोचिंग संस्थानों में छात्रों की संख्या, इन संस्थानों के छात्रों की औसत संख्या से अधिक है?



Number of students = छात्रों की संख्या, Coaching Centres = कोचिंग संस्थान

- Ans
- 1. 2
 - 2. 3
 - 3. 4
 - 4. 1

Question Type : MCQ
Question ID : 264330133832
Option 1 ID : 264330524353
Option 2 ID : 264330524354
Option 3 ID : 264330524352
Option 4 ID : 264330524351
Status : Answered
Chosen Option : 2

- Q.16 Rs. 20000 की धनराशि 1 वर्ष के लिए 16 प्रतिशत वार्षिक दर से चक्रवृद्धि ब्याज पर ऋण पर दी गई। यदि ब्याज का संयोजन अर्धवार्षिक रूप से किया जाए, तो कितना ब्याज प्राप्त होगा?

- Ans
- 1. Rs. 3180
 - 2. Rs. 3328
 - 3. Rs. 3224
 - 4. Rs. 3396

Question Type : MCQ
Question ID : 264330137142
Option 1 ID : 264330537214
Option 2 ID : 264330537213
Option 3 ID : 264330537212
Option 4 ID : 264330537211
Status : Answered
Chosen Option : 2

Q.17 $100 \div (10 + 12 - 2 \times 6)$ का मान है:

Ans 1. 100

2. 10

3. 88

4. 12

Question Type : MCQ

Question ID : 264330133816

Option 1 ID : 264330524287

Option 2 ID : 264330524290

Option 3 ID : 264330524288

Option 4 ID : 264330524289

Status : Answered

Chosen Option : 2

Q.18 $\frac{192}{64} \times \left(\frac{47}{94} + \frac{42}{84}\right) + \frac{182}{14}$ का मान क्या है?

Ans 1. 14

2. 16

3. 8

4. 23

Question Type : MCQ

Question ID : 264330138031

Option 1 ID : 264330540734

Option 2 ID : 264330540732

Option 3 ID : 264330540731

Option 4 ID : 264330540733

Status : Answered

Chosen Option : 1

Q.19 एक ट्रक एक निश्चित चाल से 540 km की दूरी 9 घंटे में तय करता है। यदि एक कार की औसत चाल इस ट्रक की चाल से 16 km/hr अधिक है, तो ट्रक द्वारा तय की गई दूरी से 68 km अधिक दूरी तय करने में कार को कितना समय लगेगा?

Ans 1. 6 घंटे

2. 12 घंटे

3. 10 घंटे

4. 8 घंटे

Question Type : MCQ

Question ID : 264330133828

Option 1 ID : 264330524335

Option 2 ID : 264330524338

Option 3 ID : 264330524337

Option 4 ID : 264330524336

Status : Answered

Chosen Option : 4

Q.20 एक त्रिभुज का आधार 120 cm और संगत ऊँचाई 35 cm है। उस त्रिभुज का क्षेत्रफल क्या है?

- Ans
- 1. 2010 cm²
 - 2. 2120 cm²
 - 3. 2630 cm²
 - 4. 2100 cm²

Question Type : MCQ

Question ID : 264330134099

Option 1 ID : 264330525419

Option 2 ID : 264330525421

Option 3 ID : 264330525422

Option 4 ID : 264330525420

Status : Answered

Chosen Option : 4

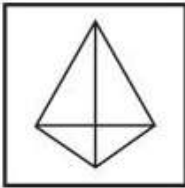
Section : Reasoning Ability and Problem Solving

Q.1 उस विकल्प आकृति को चुनिए जिसमें नीचे दी गई आकृति इसके भाग के रूप में निहित है। (घूर्णन की अनुमति नहीं है)।

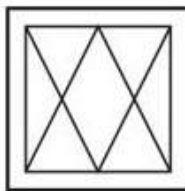


Ans

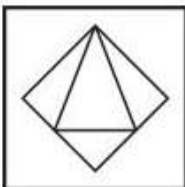
1.



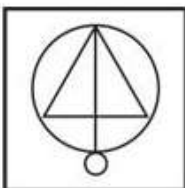
2.



3.



4.



Question Type : MCQ

Question ID : 264330134995

Option 1 ID : 264330528917

Option 2 ID : 264330528915

Option 3 ID : 264330528916

Option 4 ID : 264330528918

Status : Answered

Chosen Option : 2

Q.2 छः सहकर्मी X, Y, Z, A, B और C एक पंक्ति में दक्षिण की ओर मुख करके बैठे हैं। Z, C के ठीक दाहिनी ओर बैठा है जो एक कोने पर बैठा है। A, B के दाहिनी ओर तीसरे स्थान पर बैठा है। X, B के निकट नहीं बैठा है। A के ठीक बाईं ओर कौन बैठा है?

- Ans
- 1. Y
 - 2. Z
 - 3. X
 - 4. C

Question Type : MCQ

Question ID : 264330133532

Option 1 ID : 264330523159

Option 2 ID : 264330523161

Option 3 ID : 264330523160

Option 4 ID : 264330523162

Status : Answered

Chosen Option : 4

Q.3 किसी एक खास कूट भाषा में, 'WATCH' को '5B2D8' लिखा जाता है। उस भाषा में 'HEAR' को कैसे लिखा जाएगा?

- Ans
- 1. 8F2S
 - 2. F8S1
 - 3. 1SF8
 - 4. 8F1S

Question Type : MCQ

Question ID : 264330133450

Option 1 ID : 264330522832

Option 2 ID : 264330522833

Option 3 ID : 264330522834

Option 4 ID : 264330522831

Status : Answered

Chosen Option : 4

Q.4 एक निश्चित कूट भाषा में, 'SEARCH' को 'ACEHRS' लिखा जाता है। उस भाषा में 'IMPORT' को कैसे लिखा जाएगा?

- Ans
- 1. IMOPRT
 - 2. EXPORT
 - 3. IMOPTR
 - 4. IMPORT

Question Type : MCQ

Question ID : 264330137563

Option 1 ID : 264330538861

Option 2 ID : 264330538859

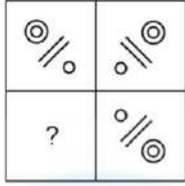
Option 3 ID : 264330538862

Option 4 ID : 264330538860

Status : Answered

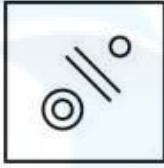
Chosen Option : 1

Q.5 उस विकल्प आकृति को चुनिए जो पैटर्न को पूरा करने के लिए नीचे दी गई आकृति में प्रश्न चिन्ह (?) के स्थान पर आएगी। (घूर्णन की अनुमति नहीं है)



Ans

✓ 1.



✗ 2.



✗ 3.



✗ 4.



Question Type : MCQ

Question ID : 264330133545

Option 1 ID : 264330523212

Option 2 ID : 264330523214

Option 3 ID : 264330523211

Option 4 ID : 264330523213

Status : Answered

Chosen Option : 1

Q.6 दिए गए समीकरण को सही करने के लिए किन दो संख्याओं को आपस में बदला जाना चाहिए?

$$7 \times 3 - 98 \div 14 + 5 = 31$$

Ans

✗ 1. 7 और 98

✗ 2. 31 और 7

✓ 3. 5 और 3

✗ 4. 3 और 14

Question Type : MCQ

Question ID : 264330133541

Option 1 ID : 264330523196

Option 2 ID : 264330523195

Option 3 ID : 264330523198

Option 4 ID : 264330523197

Status : Answered

Chosen Option : 3

Q.7 दो कथन दिए गए हैं और दो निष्कर्ष I और II दिए गए हैं। कथनों को सत्य मानते हुए, चाहे वे सामान्यतः ज्ञात तथ्यों से अलग प्रतीत होते हों, निश्चय कीजिए कि कौन-सा निष्कर्ष तार्किक रूप से कथनों के अनुसार है।

कथन:

कुछ गाने, छोटे हैं।

कुछ छोटे, अच्छे हैं।

निष्कर्ष:

I. कुछ गाने, अच्छे हैं।

II. कुछ छोटों का अच्छा नहीं होना एक संभावना है।

Ans

- ✓ 1. केवल निष्कर्ष II कथनों के अनुसार है।
- ✗ 2. दोनों निष्कर्ष I और II कथनों के अनुसार हैं।
- ✗ 3. केवल निष्कर्ष I कथनों के अनुसार है।
- ✗ 4. न तो निष्कर्ष I और न ही II कथनों के अनुसार है।

Question Type : MCQ

Question ID : 264330133535

Option 1 ID : 264330523172

Option 2 ID : 264330523173

Option 3 ID : 264330523171

Option 4 ID : 264330523174

Status : Answered

Chosen Option : 1

Q.8 एक कॉलेज के आठ प्रोफेसर अर्थात् X, Y, Z, A, B, C, D और E एक वर्गाकार मेज के चारों ओर इस प्रकार बैठे हैं कि उनमें से चार मेज के चारों कोनों पर बैठे हैं जबकि अन्य चार मेज की प्रत्येक भुजा के मध्य में एक दूसरे की ओर मुख करके बैठे हैं। C, A के ठीक दाहिनी ओर बैठा है, जो Z की ओर उन्मुख है। E, X के सम्मुख बैठा है, जो Y के ठीक दाहिनी ओर बैठा है। B, Y के ठीक बाईं ओर बैठा है और C के सम्मुख है। निम्नलिखित में से कौन Y की ओर उन्मुख है?

Ans

- ✗ 1. Z
- ✓ 2. D
- ✗ 3. A
- ✗ 4. C

Question Type : MCQ

Question ID : 264330133533

Option 1 ID : 264330523163

Option 2 ID : 264330523164

Option 3 ID : 264330523166

Option 4 ID : 264330523165

Status : Answered

Chosen Option : 3

Q.9 दी गई श्रृंखला में निम्नलिखित में से कौन-सी संख्या प्रश्न चिन्ह (?) के स्थान पर आएगी?
5, 10, 30, 60, 180, 360, 1080, ?

- Ans 1. 2400
 2. 3240
 3. 2160
 4. 2610

Question Type : **MCQ**

Question ID : **264330133538**

Option 1 ID : **264330523184**

Option 2 ID : **264330523185**

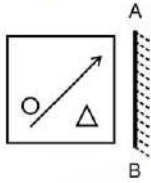
Option 3 ID : **264330523183**

Option 4 ID : **264330523186**

Status : **Answered**

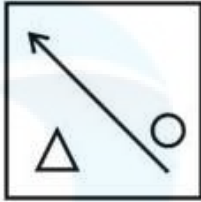
Chosen Option : **3**

Q.10 दी गई आकृति के उस सही दर्पण प्रतिबिंब को चुनिए, जो नीचे दर्शाए गए अनुसार दर्पण को AB पर रखने पर बनेगा।

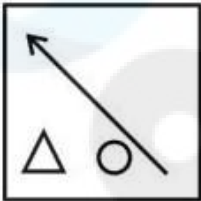


Ans

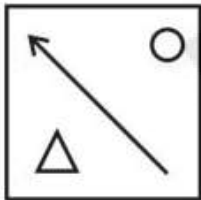
✓ 1.



✗ 2.



✗ 3.



✗ 4.



Question Type : MCQ

Question ID : 264330134996

Option 1 ID : 264330528922

Option 2 ID : 264330528919

Option 3 ID : 264330528921

Option 4 ID : 264330528920

Status : Answered

Chosen Option : 1

Q.11 दी गई दो संख्याओं को आपस में बदलने पर, निम्नलिखित में से कौन-सा समीकरण सही होगा?

7 और 8

I. $5 \times 7 + 6 \div 2 - 8 = 36$

II. $8 + 3 \times 7 - 5 \div 1 = 26$

Ans 1. I और II दोनों

2. केवल I

3. केवल II

4. न तो I और न ही II

Question Type : MCQ

Question ID : 264330137104

Option 1 ID : 264330537061

Option 2 ID : 264330537059

Option 3 ID : 264330537060

Option 4 ID : 264330537062

Status : Answered

Chosen Option : 1

Q.12 दिए गए पैटर्न का ध्यानपूर्वक अध्ययन कीजिए और उस संख्या को चुनिए जो इसमें प्रश्न चिन्ह (?) के स्थान पर आ सकती है।

पहली पंक्ति- 26, 35, 44

दूसरी पंक्ति- 47, 56, 65

तीसरी पंक्ति- 15, 24, ?

Ans 1. 22

2. 35

3. 19

4. 33

Question Type : MCQ

Question ID : 264330133540

Option 1 ID : 264330523192

Option 2 ID : 264330523191

Option 3 ID : 264330523193

Option 4 ID : 264330523194

Status : Answered

Chosen Option : 4

Q.13 एक लिखित कूट भाषा में, 'PLANET' को 'RCLYJN' लिखा जाता है। उस कूट भाषा में 'MODELS' को कैसे लिखा जाएगा?

Ans 1. QJCBMK

2. QJCBML

3. QJCBNK

4. QJCCCM

Question Type : MCQ

Question ID : 264330135621

Option 1 ID : 264330531383

Option 2 ID : 264330531384

Option 3 ID : 264330531385

Option 4 ID : 264330531386

Status : Answered

Chosen Option : 1

Q.14 उस विकल्प को चुनिए जो तीसरे शब्द से ठीक उसी प्रकार संबंधित है जिस प्रकार दूसरा शब्द पहले शब्द से संबंधित है।
तुच्छ : महत्त्वहीन :: दीर्घानुभावी : ?

- Ans
- 1. मूर्ख
 - 2. हास्यजनक
 - 3. अनुभवी
 - 4. अनुभवहीन

Question Type : MCQ
Question ID : 264330133527
Option 1 ID : 264330523140
Option 2 ID : 264330523141
Option 3 ID : 264330523139
Option 4 ID : 264330523142
Status : Answered
Chosen Option : 3

Q.15 उस विकल्प को चुनिए जो तीसरे अक्षर-समूह से ठीक उसी प्रकार संबंधित है जिस प्रकार दूसरा-अक्षर समूह पहले अक्षर-समूह से संबंधित है।
HOME : 8N13D :: BALL : ?

- Ans
- 1. 2Z12K
 - 2. 2Z21M
 - 3. 12MZ2
 - 4. 4Z14

Question Type : MCQ
Question ID : 264330133528
Option 1 ID : 264330523144
Option 2 ID : 264330523143
Option 3 ID : 264330523145
Option 4 ID : 264330523146
Status : Answered
Chosen Option : 1

Q.16 एक फेयरवेल पार्टी में सात सहकर्मियों P, A, R, S, T, U और V ने धनराशि का योगदान दिया। कोई भी दो सहकर्मियों ने समान धनराशि का योगदान नहीं दिया। V ने P से अधिक धनराशि का योगदान दिया जिसने A से अधिक धनराशि का योगदान दिया। R और T ने अधिकतम और न्यूनतम धनराशि का योगदान दिया परंतु जरूरी नहीं कि इसी क्रम में दिया हो। U का योगदान केवल R से कम था। S का योगदान केवल एक व्यक्ति से अधिक था। तीसरे स्थान पर सर्वाधिक योगदान किसका था?

- Ans
- 1. T
 - 2. R
 - 3. S
 - 4. V

Question Type : MCQ
Question ID : 264330133534
Option 1 ID : 264330523170
Option 2 ID : 264330523167
Option 3 ID : 264330523169
Option 4 ID : 264330523168
Status : Answered
Chosen Option : 4

Q.17 उस विकल्प को चुनिए जो तीसरी संख्या से ठीक उसी प्रकार संबंधित है जिस प्रकार दूसरी संख्या पहली संख्या से संबंधित है।
83 : 161 :: 71 : ?

- Ans
- 1. 150
 - 2. 232
 - 3. 149
 - 4. 210

Question Type : MCQ

Question ID : 264330133539

Option 1 ID : 264330523187

Option 2 ID : 264330523188

Option 3 ID : 264330523190

Option 4 ID : 264330523189

Status : Answered

Chosen Option : 1

Q.18 दी गई श्रृंखला में निम्नलिखित में से कौन-सा अक्षर प्रश्न चिन्ह (?) के स्थान पर आएगा?
C, E, G, I, K, M, O, ?

- Ans
- 1. S
 - 2. T
 - 3. R
 - 4. Q

Question Type : MCQ

Question ID : 264330133526

Option 1 ID : 264330523135

Option 2 ID : 264330523138

Option 3 ID : 264330523137

Option 4 ID : 264330523136

Status : Answered

Chosen Option : 4

Q.19 तीन कथन दिए गए हैं और दो निष्कर्ष I और II दिए गए हैं। कथनों को सत्य मानते हुए, चाहे वे सामान्यतः ज्ञात तथ्यों से अलग प्रतीत होते हों, निश्चय कीजिए कि कौन-सा निष्कर्ष तार्किक रूप से कथनों के अनुसार है।
कथन:

सभी सोना, चाँदी हैं।

सभी चाँदी, पीतल हैं।

सभी पीतल, तांबा हैं।

निष्कर्ष:

I. सभी सोना, तांबा हैं।

II. सभी चाँदी, तांबा हैं।

- Ans
- 1. दोनों निष्कर्ष I और II कथनों के अनुसार हैं।
 - 2. केवल निष्कर्ष II कथनों के अनुसार है।
 - 3. न तो निष्कर्ष I और न ही II कथनों के अनुसार है।
 - 4. केवल निष्कर्ष I कथनों के अनुसार है।

Question Type : MCQ

Question ID : 264330133536

Option 1 ID : 264330523177

Option 2 ID : 264330523176

Option 3 ID : 264330523178

Option 4 ID : 264330523175

Status : Answered

Chosen Option : 1

Q.20 दी गई श्रृंखला में निम्नलिखित में से कौन-सी संख्या प्रश्न चिन्ह (?) के स्थान पर आएगी?
63, 56, 49, 42, 35, 28, ?

- Ans
- 1. 35
 - 2. 22
 - 3. 14
 - 4. 21

Question Type : MCQ
Question ID : 264330133537
Option 1 ID : 264330523180
Option 2 ID : 264330523182
Option 3 ID : 264330523179
Option 4 ID : 264330523181
Status : Answered
Chosen Option : 4

Section : General Awareness

Q.1 निम्नलिखित में से किसने 25 अक्टूबर 2022 तक पुरुष टेनिस एकल में सर्वाधिक ग्रैंड स्लैम टूर्नामेंट (Grand Slam Tournaments) जीते?

- Ans
- 1. नोवाक जोकोविच (Novak Djokovic)
 - 2. पीट सम्प्रास (Pete Sampras)
 - 3. रोजर फ़ेडरर (Roger Federer)
 - 4. राफेल नडाल (Rafael Nadal)

Question Type : MCQ
Question ID : 264330134029
Option 1 ID : 264330525142
Option 2 ID : 264330525139
Option 3 ID : 264330525140
Option 4 ID : 264330525141
Status : Answered
Chosen Option : 3

Q.2 निम्नलिखित में से किस नृत्य को एकहार्य (Ekaharya) के नाम से भी जाना जाता है, जिसमें एक नर्तक एक ही नृत्य प्रदर्शन में कई भूमिकाएँ निभाता है?

- Ans
- 1. भरतनाट्यम
 - 2. कथकली
 - 3. कथक
 - 4. कुचिपुड़ी

Question Type : MCQ
Question ID : 264330134008
Option 1 ID : 264330525055
Option 2 ID : 264330525057
Option 3 ID : 264330525056
Option 4 ID : 264330525058
Status : Answered
Chosen Option : 1

Q.3 अंतर्राष्ट्रीय क्रिकेट परिषद (ICC) महिला क्रिकेट विश्व कप 2022 की मेजबानी _____ द्वारा मार्च और अप्रैल 2022 में की गई थी।

- Ans
- 1. बांग्लादेश
 - 2. न्यूजीलैंड
 - 3. इंग्लैंड
 - 4. भारत

Question Type : MCQ
Question ID : 264330134028
Option 1 ID : 264330525135
Option 2 ID : 264330525138
Option 3 ID : 264330525137
Option 4 ID : 264330525136
Status : Answered
Chosen Option : 3

Q.4 निम्नलिखित में से कौन-सा शहर मुगलों का पहला नियोजित शहर था?

- Ans
- 1. मिर्जापुर
 - 2. लखनऊ
 - 3. लाहौर
 - 4. फतेहपुर सीकरी

Question Type : MCQ
Question ID : 264330137013
Option 1 ID : 264330536697
Option 2 ID : 264330536698
Option 3 ID : 264330536695
Option 4 ID : 264330536696
Status : Answered
Chosen Option : 4

Q.5 हिंदुस्तानी शास्त्रीय परंपरा में सबसे महान भारतीय गायकों में से एक भीमसेन जोशी _____ से थे।

- Ans
- 1. कर्नाटक
 - 2. तमिलनाडु
 - 3. केरल
 - 4. महाराष्ट्र

Question Type : MCQ
Question ID : 264330134024
Option 1 ID : 264330525121
Option 2 ID : 264330525120
Option 3 ID : 264330525119
Option 4 ID : 264330525122
Status : Not Answered
Chosen Option : --

Q.6 महात्मा गांधी ने 'अखिल भारतीय हरिजन सेवक संघ' की स्थापना कब की थी?

- Ans
- 1. 1920
 - 2. 1928
 - 3. 1932
 - 4. 1936

Question Type : MCQ

Question ID : 264330134660

Option 1 ID : 264330527596

Option 2 ID : 264330527597

Option 3 ID : 264330527598

Option 4 ID : 264330527595

Status : Not Answered

Chosen Option : --

Q.7 निम्नलिखित में से कौन सा थैलोफाइट का एक उदाहरण नहीं है?

- Ans
- 1. मारकेंशिया (Marchantia)
 - 2. स्पाइरोगाइरा (Spirogyra)
 - 3. कारा (Chara)
 - 4. क्लैडोफोरा (Cladophora)

Question Type : MCQ

Question ID : 264330134012

Option 1 ID : 264330525074

Option 2 ID : 264330525073

Option 3 ID : 264330525071

Option 4 ID : 264330525072

Status : Not Answered

Chosen Option : --

Q.8 _____ खेतों में बीज बोने वाला एक त्योहार है। यह झारखंड में मनाया जाने वाला एक प्रमुख त्योहार है।

- Ans
- 1. जावा (Jawa)
 - 2. बान्दाना (Bandana)
 - 3. रोहिणी (Rohini)
 - 4. करम (Karam)

Question Type : MCQ

Question ID : 264330134647

Option 1 ID : 264330527546

Option 2 ID : 264330527543

Option 3 ID : 264330527545

Option 4 ID : 264330527544

Status : Not Answered

Chosen Option : --

Q.9 लोकसभा का _____ वर्ष का एक निश्चित कार्यकाल होता है और राष्ट्रपति द्वारा इसे किसी भी समय भंग किया जा सकता है।

- Ans
- 1. 8
 - 2. 5
 - 3. 12
 - 4. 10

Question Type : MCQ
Question ID : 264330134027
Option 1 ID : 264330525132
Option 2 ID : 264330525131
Option 3 ID : 264330525134
Option 4 ID : 264330525133
Status : Answered
Chosen Option : 2

Q.10 ब्लैकबक राष्ट्रीय पार्क (कालियार पार्क) _____ में स्थित है।

- Ans
- 1. सिक्किम
 - 2. गुजरात
 - 3. हरियाणा
 - 4. मध्य प्रदेश

Question Type : MCQ
Question ID : 264330134013
Option 1 ID : 264330525075
Option 2 ID : 264330525077
Option 3 ID : 264330525076
Option 4 ID : 264330525078
Status : Not Answered
Chosen Option : --

Q.11 निम्नलिखित में से कौन-सी पुस्तक राजा हर्षवर्धन द्वारा नहीं लिखी गई थी?

- Ans
- 1. नागानंद (Nagananda)
 - 2. प्रियदर्शिका (Priyadarsika)
 - 3. रत्नावली (Ratnavali)
 - 4. अमुक्तमाल्यद (Amuktamalayada)

Question Type : MCQ
Question ID : 264330134657
Option 1 ID : 264330527585
Option 2 ID : 264330527584
Option 3 ID : 264330527583
Option 4 ID : 264330527586
Status : Answered
Chosen Option : 1

Q.12 निम्नलिखित में से किस नदी का प्राचीन नाम विपाशा (Vipasha) है?

- Ans 1. ब्यास
 2. चिनाब
 3. सतलुज
 4. रावि

Question Type : MCQ
Question ID : 264330134016
Option 1 ID : 264330525088
Option 2 ID : 264330525089
Option 3 ID : 264330525090
Option 4 ID : 264330525087
Status : Answered
Chosen Option : 1

Q.13 भारत में 5G दूरसंचार तकनीक किस वर्ष शुरू की गई थी?

- Ans 1. 2019
 2. 2017
 3. 2014
 4. 2022

Question Type : MCQ
Question ID : 264330135493
Option 1 ID : 264330530881
Option 2 ID : 264330530880
Option 3 ID : 264330530879
Option 4 ID : 264330530882
Status : Answered
Chosen Option : 4

Q.14 2011 की जनगणना के अनुसार, भारत के निम्नलिखित में से किस केंद्र शासित प्रदेश की जनसंख्या सबसे कम है?

- Ans 1. लक्षद्वीप
 2. दमन और दीव
 3. चंडीगढ़
 4. दादरा और नगर हवेली

Question Type : MCQ
Question ID : 264330137747
Option 1 ID : 264330539598
Option 2 ID : 264330539597
Option 3 ID : 264330539595
Option 4 ID : 264330539596
Status : Not Answered
Chosen Option : --

Q.15 किस प्रसिद्ध भारतीय कथक नर्तक को 1986 में भारत के दूसरे सर्वोच्च नागरिक पुरस्कार पद्म विभूषण से सम्मानित किया गया ?

- Ans
- 1. मल्लिका साराभाई
 - 2. माधवी मुद्गल
 - 3. बिरजू महाराज
 - 4. मंजरी चतुर्वेदी

Question Type : MCQ
Question ID : 264330135503
Option 1 ID : 264330530919
Option 2 ID : 264330530920
Option 3 ID : 264330530921
Option 4 ID : 264330530922
Status : Not Answered
Chosen Option : --

Q.16 2011 की जनगणना के अनुसार निम्न में से किस राज्य की साक्षरता दर सर्वाधिक है?

- Ans
- 1. तमिलनाडु
 - 2. कर्नाटक
 - 3. केरल
 - 4. महाराष्ट्र

Question Type : MCQ
Question ID : 264330133992
Option 1 ID : 264330524994
Option 2 ID : 264330524992
Option 3 ID : 264330524993
Option 4 ID : 264330524991
Status : Answered
Chosen Option : 3

Q.17 गवर्नर जनरल लॉर्ड डलहौज़ी ने _____ की रियासत के बारे में कहा था कि "ये गिलास फल एक दिन हमारे ही मुँह में आकर गिरेगा (as a cherry that will drop into our mouth one day)।"

- Ans
- 1. अहोम
 - 2. मैसूर
 - 3. मराठा
 - 4. अवध

Question Type : MCQ
Question ID : 264330137034
Option 1 ID : 264330536780
Option 2 ID : 264330536781
Option 3 ID : 264330536779
Option 4 ID : 264330536782
Status : Answered
Chosen Option : 2

Q.18 निम्नलिखित में से खिलजी वंश के संस्थापक कौन थे?

- Ans
- 1. अलाउद्दीन खिलजी
 - 2. नासिरुद्दीन खुसरो शाह
 - 3. कुतुबुद्दीन मुबारक शाह
 - 4. जलालुद्दीन फिरोज खिलजी

Question Type : MCQ
Question ID : 264330134020
Option 1 ID : 264330525105
Option 2 ID : 264330525103
Option 3 ID : 264330525104
Option 4 ID : 264330525106
Status : Answered
Chosen Option : 4

Q.19 रवींद्रनाथ टैगोर द्वारा लिखित 'गल्पगुच्छ (Galpaguchcha)' _____ का एक संग्रह है।

- Ans
- 1. अंग्रेजी शायरियों
 - 2. भक्ति गीतों
 - 3. लघु कथाओं
 - 4. कविताओं

Question Type : MCQ
Question ID : 264330135501
Option 1 ID : 264330530913
Option 2 ID : 264330530914
Option 3 ID : 264330530912
Option 4 ID : 264330530911
Status : Answered
Chosen Option : 4

Q.20 _____ प्राकृतिक रूप से पाया जाने वाला आवर्त सारणी का सबसे भारी तत्व है, जिसका परमाणु भार 238 है।

- Ans
- 1. पारा
 - 2. यूरेनियम
 - 3. हीलियम
 - 4. जीनॉन (Xenon)

Question Type : MCQ
Question ID : 264330134011
Option 1 ID : 264330525068
Option 2 ID : 264330525069
Option 3 ID : 264330525067
Option 4 ID : 264330525070
Status : Answered
Chosen Option : 2

Q.21 निम्नलिखित में से कौन-सा भारत का पहला मानव अंतरिक्ष उड़ान कार्यक्रम (Human spaceflight programme) है?

- Ans
- 1. शुक्रयान
 - 2. गगनयान
 - 3. मंगलयान
 - 4. चंद्रयान - 1

Question Type : MCQ
Question ID : 264330134014
Option 1 ID : 264330525079
Option 2 ID : 264330525082
Option 3 ID : 264330525081
Option 4 ID : 264330525080
Status : Answered
Chosen Option : 2

Q.22 दिल्ली उच्च न्यायालय की स्थापना सन् _____ में की गई थी।

- Ans
- 1. 1951
 - 2. 1947
 - 3. 1962
 - 4. 1966

Question Type : MCQ
Question ID : 264330137022
Option 1 ID : 264330536732
Option 2 ID : 264330536731
Option 3 ID : 264330536733
Option 4 ID : 264330536734
Status : Not Answered
Chosen Option : --

Q.23 अर्थशास्त्र का कौन-सा नियम कहता है कि "बुरी मुद्रा अच्छी मुद्रा को प्रचलन से निकाल बाहर करती है (Bad money drives out good money)"?

- Ans
- 1. बैक्सटर का नियम (Baxter's Law)
 - 2. गॉस का नियम (Gauss's Law)
 - 3. ओम का नियम (Ohm's Law)
 - 4. ग्रेशम का नियम (Gresham's Law)

Question Type : MCQ
Question ID : 264330135508
Option 1 ID : 264330530942
Option 2 ID : 264330530941
Option 3 ID : 264330530939
Option 4 ID : 264330530940
Status : Not Answered
Chosen Option : --

Q.24 भारतीय संविधान में राज्य के नीति निर्देशक सिद्धांतों की विशेषता _____ के संविधान से ली गई है।

- Ans
- 1. फ्रांस
 - 2. ब्रिटेन
 - 3. आयरलैंड
 - 4. कनाडा

Question Type : MCQ
Question ID : 264330134026
Option 1 ID : 264330525127
Option 2 ID : 264330525128
Option 3 ID : 264330525129
Option 4 ID : 264330525130
Status : Answered
Chosen Option : 3

Q.25 The Department of Pharmaceuticals has given 'in-principle' approval to the proposals to set up bulk drug parks in three states- Himachal Pradesh, Gujarat and _____ under the scheme of "Promotion of Bulk Drug Parks".

- Ans
- 1. Madhya Pradesh
 - 2. West Bengal
 - 3. Andhra Pradesh
 - 4. Uttar Pradesh

Question Type : MCQ
Question ID : 264330134006
Option 1 ID : 264330525048
Option 2 ID : 264330525047
Option 3 ID : 264330525049
Option 4 ID : 264330525050
Status : Not Answered
Chosen Option : --

Section : English Language and Comprehension

Q.1 Find the part of the given sentence that has an error in it. If there is no error, choose 'No error'.
India is already the third-largest aviation market in terms of domestic travel.

- Ans
- 1. India is already the third-largest
 - 2. No error
 - 3. aviation market in
 - 4. terms of domestic travel.

Question Type : MCQ
Question ID : 264330134478
Option 1 ID : 264330526879
Option 2 ID : 264330526882
Option 3 ID : 264330526880
Option 4 ID : 264330526881
Status : Answered
Chosen Option : 4

Q.2 Identify the segment that contains a grammatical error. If there is no error, select 'No error'.

Never put of / until tomorrow what / you can do today.

- Ans**
- 1. Never put of
 - 2. No error
 - 3. you can do today.
 - 4. until tomorrow what

Question Type : **MCQ**
Question ID : **264330136083**
Option 1 ID : **264330533143**
Option 2 ID : **264330533146**
Option 3 ID : **264330533145**
Option 4 ID : **264330533144**
Status : **Answered**
Chosen Option : **4**

Q.3 Select the appropriate antonym for the underlined word.
Amenorrhea can cause a range of issues, including infertility.

- Ans**
- 1. sterile
 - 2. barrenness
 - 3. stance
 - 4. fecund

Question Type : **MCQ**
Question ID : **264330134495**
Option 1 ID : **264330526944**
Option 2 ID : **264330526943**
Option 3 ID : **264330526946**
Option 4 ID : **264330526945**
Status : **Answered**
Chosen Option : **4**

Q.4 Select the most appropriate option to substitute the bracketed segment in the given sentence. If there is no need to substitute it, select 'no substitution required'.

Chia is currently pursuing a (master's in developmental studies in Netherlands).

- Ans**
- 1. masters' in developmental studies in the Netherlands.
 - 2. master's in developmental studies at Netherlands.
 - 3. No substitution required
 - 4. master's in developmental studies in the Netherlands.

Question Type : **MCQ**
Question ID : **264330136086**
Option 1 ID : **264330533156**
Option 2 ID : **264330533157**
Option 3 ID : **264330533158**
Option 4 ID : **264330533155**
Status : **Answered**
Chosen Option : **1**

Q.5 Select the most appropriate option to fill in the blank.

In 1971, he was awarded the silver _____ of the Society of Arts, London.

- Ans
- 1. medieval
 - 2. medal
 - 3. meddle
 - 4. metal

Question Type : MCQ
Question ID : 264330134795
Option 1 ID : 264330528123
Option 2 ID : 264330528126
Option 3 ID : 264330528125
Option 4 ID : 264330528124
Status : Answered
Chosen Option : 2

Q.6 A sentence has been given with a blank to be filled with an appropriate option. Choose the correct alternative.

When there is not _____ to eat, people starve to death.

- Ans
- 1. some
 - 2. a few
 - 3. enough
 - 4. any

Question Type : MCQ
Question ID : 264330134804
Option 1 ID : 264330528161
Option 2 ID : 264330528160
Option 3 ID : 264330528162
Option 4 ID : 264330528159
Status : Answered
Chosen Option : 3

Q.7 Choose the word that means the same as the given word.

Impede

- Ans
- 1. Stalwart
 - 2. Stampede
 - 3. Sore
 - 4. Thwart

Question Type : MCQ
Question ID : 264330134814
Option 1 ID : 264330528196
Option 2 ID : 264330528195
Option 3 ID : 264330528198
Option 4 ID : 264330528197
Status : Not Answered
Chosen Option : --

Q.8 Select the most appropriate option to fill in the blank.
I enjoy finding ways to make the most of my budget by being _____.

- Ans 1. frugal
 2. miser
 3. lethargic
 4. gloomy

Question Type : MCQ
Question ID : 264330134501
Option 1 ID : 264330526968
Option 2 ID : 264330526967
Option 3 ID : 264330526969
Option 4 ID : 264330526970
Status : Answered
Chosen Option : 2

Q.9 Choose the word that is opposite in meaning to the given word.

Analogous

- Ans 1. Dissimilar
 2. Puzzle
 3. Straight
 4. Matching

Question Type : MCQ
Question ID : 264330135300
Option 1 ID : 264330530111
Option 2 ID : 264330530114
Option 3 ID : 264330530113
Option 4 ID : 264330530112
Status : Answered
Chosen Option : 1

Q.10 Choose the sentence with no spelling error.

- Ans 1. After a long momant, she shock her head.
 2. After a long moment, she shook her head.
 3. After a long moment, she shuok her head.
 4. After a long momment, she shook her head.

Question Type : MCQ
Question ID : 264330134794
Option 1 ID : 264330528122
Option 2 ID : 264330528119
Option 3 ID : 264330528121
Option 4 ID : 264330528120
Status : Answered
Chosen Option : 2

Q.11 Find the part of the given sentence that has an error in it. If there is no error, choose 'No error'.
Methanol is released from pectin, and is therefore many abundant in fermented fruit.

- Ans**
- 1. No error
 - 2. Methanol is released from pectin,
 - 3. and is therefore many
 - 4. abundant in fermented fruit.

Question Type : **MCQ**
Question ID : **264330134528**
Option 1 ID : **264330527074**
Option 2 ID : **264330527071**
Option 3 ID : **264330527072**
Option 4 ID : **264330527073**
Status : **Answered**
Chosen Option : **3**

Q.12 In the following question, out of the given four alternatives, select the alternative which best expresses the meaning of the Idiom/Phrase.
To have the heart of stone

- Ans**
- 1. To be fearless
 - 2. Not being able to make a decision
 - 3. To feel no pity
 - 4. To have a hidden agenda

Question Type : **MCQ**
Question ID : **264330134497**
Option 1 ID : **264330526952**
Option 2 ID : **264330526951**
Option 3 ID : **264330526954**
Option 4 ID : **264330526953**
Status : **Answered**
Chosen Option : **3**

Q.13 In the following question, out of the given four alternatives, select the alternative which best expresses the meaning of the Idiom/Phrase.
To have a foot in the grave

- Ans**
- 1. To trip somebody over
 - 2. To take risks
 - 3. To be near death
 - 4. To hire a contract killer

Question Type : **MCQ**
Question ID : **264330134496**
Option 1 ID : **264330526947**
Option 2 ID : **264330526950**
Option 3 ID : **264330526949**
Option 4 ID : **264330526948**
Status : **Answered**
Chosen Option : **3**

Q.14 Select the appropriate synonym for the underlined word.
It was a distraction.

- Ans
- 1. faith
 - 2. conviction
 - 3. confusion
 - 4. assurance

Question Type : MCQ
Question ID : 264330134492
Option 1 ID : 264330526933
Option 2 ID : 264330526934
Option 3 ID : 264330526932
Option 4 ID : 264330526931
Status : Answered
Chosen Option : 3

Q.15 Choose the word that can substitute the given group of words.
The editor of a dictionary

- Ans
- 1. Stenographer
 - 2. Hagiographer
 - 3. Lexicographer
 - 4. Scenographer

Question Type : MCQ
Question ID : 264330134491
Option 1 ID : 264330526928
Option 2 ID : 264330526929
Option 3 ID : 264330526930
Option 4 ID : 264330526927
Status : Answered
Chosen Option : 3

Q.16 Improve the underlined part of the sentence. Choose 'No improvement' as an answer if the sentence is grammatically correct.
They selling postage stamps at the corner store.

- Ans
- 1. sold postal stamped
 - 2. sell postage stamps
 - 3. No improvement
 - 4. sells postage stamps

Question Type : MCQ
Question ID : 264330134376
Option 1 ID : 264330526488
Option 2 ID : 264330526489
Option 3 ID : 264330526490
Option 4 ID : 264330526487
Status : Answered
Chosen Option : 2

Q.17 Choose the incorrectly spelt word.

- Ans
- 1. Helpful
 - 2. Energetic
 - 3. Juorney
 - 4. Possible

Question Type : MCQ
Question ID : 264330134498
Option 1 ID : 264330526955
Option 2 ID : 264330526956
Option 3 ID : 264330526958
Option 4 ID : 264330526957
Status : Answered
Chosen Option : 3

Q.18 A sentence has been given with a blank to be filled with an appropriate option. Choose the correct alternative.

I always try to _____ chocolates for you.

- Ans
- 1. brought
 - 2. bought
 - 3. bring
 - 4. bringing

Question Type : MCQ
Question ID : 264330134482
Option 1 ID : 264330526897
Option 2 ID : 264330526898
Option 3 ID : 264330526896
Option 4 ID : 264330526895
Status : Answered
Chosen Option : 3

Q.19 Improve the underlined part of the sentence. Choose 'No improvement' as an answer if the sentence is grammatically correct.

The most worrying aspect of climate change is the effect it has on the world's food supply.

- Ans
- 1. No improvement
 - 2. A most worry aspect
 - 3. A worried aspects
 - 4. The most worrying aspects

Question Type : MCQ
Question ID : 264330134481
Option 1 ID : 264330526894
Option 2 ID : 264330526891
Option 3 ID : 264330526893
Option 4 ID : 264330526892
Status : Answered
Chosen Option : 1

Q.20 Choose the word that can substitute the given group of words.
A person appointed by two parties to solve a problem

- Ans
- 1. Jury
 - 2. Advocate
 - 3. Judge
 - 4. Arbitrator

Question Type : **MCQ**
Question ID : **264330134490**
Option 1 ID : **264330526924**
Option 2 ID : **264330526925**
Option 3 ID : **264330526923**
Option 4 ID : **264330526926**
Status : **Answered**
Chosen Option : **4**

Comprehension:

In the following passage some of the words have been deleted. Read the passage carefully and select the correct answer for the given blank out of the four alternatives.

Although the (1) _____ in the Supreme Court arise out of the judgments or orders made by the Subordinate Courts including the High Courts, but of late the Supreme Court has started entertaining (2) _____ in which interest of the public at large is involved and the Court can be moved by any (3) _____ or group of persons either by filing a Writ Petition at the Filing Counter of the Court or by (4) _____ a letter to Hon'ble the Chief Justice of India highlighting the question of public importance for (5) _____ this jurisdiction.

SubQuestion No : 21

Q.21 Select the most appropriate option to fill in blank number 1.

- Ans
- 1. arrangement
 - 2. battles
 - 3. punctuality
 - 4. proceedings

Question Type : **MCQ**
Question ID : **264330135291**
Option 1 ID : **264330530078**
Option 2 ID : **264330530076**
Option 3 ID : **264330530077**
Option 4 ID : **264330530075**
Status : **Answered**
Chosen Option : **4**

Comprehension:

In the following passage some of the words have been deleted. Read the passage carefully and select the correct answer for the given blank out of the four alternatives.

Although the (1) _____ in the Supreme Court arise out of the judgments or orders made by the Subordinate Courts including the High Courts, but of late the Supreme Court has started entertaining (2) _____ in which interest of the public at large is involved and the Court can be moved by any (3) _____ or group of persons either by filing a Writ Petition at the Filing Counter of the Court or by (4) _____ a letter to Hon'ble the Chief Justice of India highlighting the question of public importance for (5) _____ this jurisdiction.

SubQuestion No : 22

Q.22 Select the most appropriate option to fill in blank number 2.

- Ans**
- 1. jams
 - 2. matters
 - 3. tangents
 - 4. means

Question Type : **MCQ**
Question ID : **264330135292**
Option 1 ID : **264330530080**
Option 2 ID : **264330530081**
Option 3 ID : **264330530082**
Option 4 ID : **264330530079**
Status : **Answered**
Chosen Option : **2**

Comprehension:

In the following passage some of the words have been deleted. Read the passage carefully and select the correct answer for the given blank out of the four alternatives.

Although the (1) _____ in the Supreme Court arise out of the judgments or orders made by the Subordinate Courts including the High Courts, but of late the Supreme Court has started entertaining (2) _____ in which interest of the public at large is involved and the Court can be moved by any (3) _____ or group of persons either by filing a Writ Petition at the Filing Counter of the Court or by (4) _____ a letter to Hon'ble the Chief Justice of India highlighting the question of public importance for (5) _____ this jurisdiction.

SubQuestion No : 23

Q.23 Select the most appropriate option to fill in blank number 3.

- Ans**
- 1. individual
 - 2. personnel
 - 3. species
 - 4. fauna

Question Type : **MCQ**
Question ID : **264330135293**
Option 1 ID : **264330530084**
Option 2 ID : **264330530086**
Option 3 ID : **264330530083**
Option 4 ID : **264330530085**
Status : **Answered**
Chosen Option : **1**

Comprehension:

In the following passage some of the words have been deleted. Read the passage carefully and select the correct answer for the given blank out of the four alternatives.

Although the (1) _____ in the Supreme Court arise out of the judgments or orders made by the Subordinate Courts including the High Courts, but of late the Supreme Court has started entertaining (2) _____ in which interest of the public at large is involved and the Court can be moved by any (3) _____ or group of persons either by filing a Writ Petition at the Filing Counter of the Court or by (4) _____ a letter to Hon'ble the Chief Justice of India highlighting the question of public importance for (5) _____ this jurisdiction.

SubQuestion No : 24

Q.24 Select the most appropriate option to fill in blank number 4.

- Ans**
- 1. addressing
 - 2. Tagging
 - 3. calculating
 - 4. summoning

Question Type : **MCQ**
Question ID : **264330135294**
Option 1 ID : **264330530090**
Option 2 ID : **264330530087**
Option 3 ID : **264330530088**
Option 4 ID : **264330530089**
Status : **Answered**
Chosen Option : **1**

Comprehension:

In the following passage some of the words have been deleted. Read the passage carefully and select the correct answer for the given blank out of the four alternatives.

Although the (1) _____ in the Supreme Court arise out of the judgments or orders made by the Subordinate Courts including the High Courts, but of late the Supreme Court has started entertaining (2) _____ in which interest of the public at large is involved and the Court can be moved by any (3) _____ or group of persons either by filing a Writ Petition at the Filing Counter of the Court or by (4) _____ a letter to Hon'ble the Chief Justice of India highlighting the question of public importance for (5) _____ this jurisdiction.

SubQuestion No : 25

Q.25 Select the most appropriate option to fill in blank number 5.

- Ans**
- 1. Invoking
 - 2. Joking
 - 3. Halting
 - 4. Rocking

Question Type : **MCQ**
Question ID : **264330135295**
Option 1 ID : **264330530093**
Option 2 ID : **264330530094**
Option 3 ID : **264330530091**
Option 4 ID : **264330530092**
Status : **Answered**
Chosen Option : **3**