

Multi Tasking Non Technical Staff and Havaladar CBIC and CBN Examination 2022

Roll Number	
Candidate Name	
Venue Name	Arya Institute of Engineering and Technology
Exam Date	09/05/2023
Exam Time	9:00 AM - 10:30 AM
Subject	MTS Non Tech Havaladar CBIC and CBN Examination 2022

Section : Numerical and Mathematical Ability

Q.1 6 cm भुजा वाले एक घन से एक सबसे बड़ा संभवित गोला बनाया जाता है। उस गोले का आयतन क्या है?

- Ans
- ✓ 1. $792/7 \text{ cm}^3$
 - ✗ 2. $144/7 \text{ cm}^3$
 - ✗ 3. $444/7 \text{ cm}^3$
 - ✗ 4. $133/3 \text{ cm}^3$

Question Type : MCQ

Question ID : 264330135085

Option 1 ID : 264330529277

Option 2 ID : 264330529276

Option 3 ID : 264330529278

Option 4 ID : 264330529275

Status : Answered

Chosen Option : 1

Q.2 यदि $p : q : r = 2 : 5 : 3$ है और $r : s = 6 : 5$ है , तो $p : q : r : s$ का मान क्या है ?

- Ans
- ✗ 1. 4 : 12 : 7 : 3
 - ✗ 2. 8 : 12 : 7 : 8
 - ✗ 3. 6 : 5 : 8 : 10
 - ✓ 4. 4 : 10 : 6 : 5

Question Type : MCQ

Question ID : 264330137882

Option 1 ID : 264330540138

Option 2 ID : 264330540137

Option 3 ID : 264330540136

Option 4 ID : 264330540135

Status : Answered

Chosen Option : 4

Q.3 एक व्यक्ति ने एक वस्तु खरीदी और उसे 10 प्रतिशत की हानि पर बेच दिया। यदि उसने इसे 30 प्रतिशत कम मूल्य पर खरीदा होता और इसे Rs. 90 अधिक में बेचा होता, तो उसे 35 प्रतिशत का लाभ होता। वस्तु का क्रय मूल्य क्या है?

- Ans
- 1. Rs. 2100
 - 2. Rs. 2000
 - 3. Rs. 2400
 - 4. Rs. 2200

Question Type : MCQ

Question ID : 264330137881

Option 1 ID : 264330540133

Option 2 ID : 264330540132

Option 3 ID : 264330540131

Option 4 ID : 264330540134

Status : Answered

Chosen Option : 2

Q.4 पाँच क्रमागत विषम संख्याओं का औसत 15 है। इन पाँच संख्याओं में सबसे छोटी संख्या कौन-सी है?

- Ans
- 1. 9
 - 2. 11
 - 3. 15
 - 4. 13

Question Type : MCQ

Question ID : 264330137877

Option 1 ID : 264330540118

Option 2 ID : 264330540117

Option 3 ID : 264330540115

Option 4 ID : 264330540116

Status : Answered

Chosen Option : 2

Q.5 आशा ने Rs. 4000 में एक साड़ी खरीदी और उसे Rs. 4400 में बेच दिया। उसका लाभ प्रतिशत कितना है?

- Ans
- 1. 5%
 - 2. 40%
 - 3. 10%
 - 4. 80%

Question Type : MCQ

Question ID : 264330138731

Option 1 ID : 264330543531

Option 2 ID : 264330543533

Option 3 ID : 264330543532

Option 4 ID : 264330543534

Status : Answered

Chosen Option : 3

Q.6 एक वस्तु का अंकित मूल्य उसके क्रय मूल्य का 160 प्रतिशत है। यदि वस्तु पर 20 की प्रतिशत छूट दी जाती है, तो लाभ प्रतिशत कितना होगा?

- Ans
- 1. 28 प्रतिशत
 - 2. 25 प्रतिशत
 - 3. 32 प्रतिशत
 - 4. 22 प्रतिशत

Question Type : MCQ
Question ID : 264330137886
Option 1 ID : 264330540152
Option 2 ID : 264330540153
Option 3 ID : 264330540154
Option 4 ID : 264330540151
Status : Answered
Chosen Option : 1

Q.7 एक रेलगाड़ी 30 m/s की चाल से चलती है और 650 मीटर लंबे पुल को 50 सेकंड में पार कर लेती है। रेलगाड़ी की लंबाई कितनी है?

- Ans
- 1. 900 मीटर
 - 2. 850 मीटर
 - 3. 1000 मीटर
 - 4. 750 मीटर

Question Type : MCQ
Question ID : 264330137876
Option 1 ID : 264330540111
Option 2 ID : 264330540113
Option 3 ID : 264330540114
Option 4 ID : 264330540112
Status : Answered
Chosen Option : 2

Q.8 प्रतिदिन 15 घंटे कार्य करके वैभव एक कार्य को 35 दिनों में पूरा कर सकता है। उसे एक दिन में कितने घंटे कार्य करना चाहिए ताकि कार्य 25 दिनों में पूरा हो जाए?

- Ans
- 1. 17 घंटे
 - 2. 21 घंटे
 - 3. 20 घंटे
 - 4. 18 घंटे

Question Type : MCQ
Question ID : 264330135080
Option 1 ID : 264330529258
Option 2 ID : 264330529256
Option 3 ID : 264330529255
Option 4 ID : 264330529257
Status : Answered
Chosen Option : 2

Q.9 12, 22 और 32 से विभाज्य सबसे छोटा पूर्णांक क्या है?

- Ans
- 1. 1144
 - 2. 444
 - 3. 1080
 - 4. 1056

Question Type : MCQ

Question ID : 264330141036

Option 1 ID : 264330552494

Option 2 ID : 264330552492

Option 3 ID : 264330552493

Option 4 ID : 264330552491

Status : Answered

Chosen Option : 4

Q.10 A किसी कार्य को 21 दिनों में कर सकता है और B उसी कार्य को 28 दिनों में कर सकता है। यदि वे हर दूसरे दिन कार्य करते हैं तो वे कितने दिनों में कार्य को पूरा करेंगे?

- Ans
- 1. 20 दिन
 - 2. 28 दिन
 - 3. 22 दिन
 - 4. 24 दिन

Question Type : MCQ

Question ID : 264330138405

Option 1 ID : 264330542229

Option 2 ID : 264330542230

Option 3 ID : 264330542228

Option 4 ID : 264330542227

Status : Answered

Chosen Option : 4

Q.11 निम्न तालिका में 5 वर्षों में एक कंपनी द्वारा निर्मित और बेचे गए उत्पाद की इकाइयों की संख्या को दर्शाया गया है। न बिके हुए उत्पादों (unsold products) की कुल संख्या की गणना कीजिए।

Years	Number of units manufactured (in hundred)	Sold (in hundred)
2018	440	350
2019	500	450
2020	320	300
2021	450	400
2022	290	200

Number of units manufactured (in hundreds) - निर्मित किए गए उत्पाद की इकाइयों (सैकड़ों में),

Sold (in hundreds) - बेचे गए (सैकड़ों में),

Years - वर्ष

- Ans
- 1. 20,000
 - 2. 40,000
 - 3. 50,000
 - 4. 30,000

Question Type : MCQ

Question ID : 264330135147

Option 1 ID : 264330529523

Option 2 ID : 264330529525

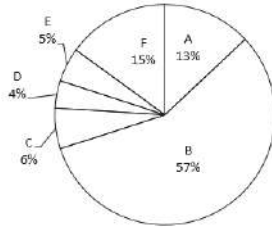
Option 3 ID : 264330529526

Option 4 ID : 264330529524

Status : Answered

Chosen Option : 4

Q.12 नीचे दिए गए वृत्त आलेख में एक वर्ष में छः कंपनियों द्वारा बेचे गए मोबाइल फोन की संख्या को दर्शाया गया है। छः कंपनियों द्वारा बेचे गए कुल मोबाइल फोन की संख्या 500 है। इनमें से किसी एक विशिष्ट कंपनी द्वारा बेचे गए मोबाइल फोन की संख्या को इन सभी छः कंपनियों द्वारा बेचे गए मोबाइल फोन की कुल संख्या के प्रतिशत के रूप में दर्शाया गया है।



C द्वारा बेचे गए मोबाइल फोन की संख्या और F द्वारा बेचे गए मोबाइल फोन की संख्या का अनुपात कितना है?

- Ans
- 1. 5 : 2
 - 2. 2 : 7
 - 3. 3 : 2
 - 4. 2 : 5

Question Type : MCQ

Question ID : 264330137893

Option 1 ID : 264330540180

Option 2 ID : 264330540182

Option 3 ID : 264330540181

Option 4 ID : 264330540179

Status : Answered

Chosen Option : 4

Q.13 एक संख्या में पहले 12% की वृद्धि की जाती है और फिर उसमें 12% की कमी की जाती है। संख्या में परिवर्तन है:

- Ans
- 1. 12% की वृद्धि
 - 2. 1.44% की वृद्धि
 - 3. 1.44% की कमी
 - 4. 12% की कमी

Question Type : MCQ

Question ID : 264330133800

Option 1 ID : 264330524226

Option 2 ID : 264330524224

Option 3 ID : 264330524223

Option 4 ID : 264330524225

Status : Answered

Chosen Option : 3

Q.14 एक निश्चित राशि पर, 2 वर्षों के लिए साधारण ब्याज Rs. 12000 है। यदि यह राशि Rs. 12000 है, तो पहले 3 वर्षों के लिए इसी राशि पर समान ब्याज दर पर चक्रवृद्धि ब्याज (वार्षिक रूप से संयोजित) कितना होगा?

- Ans
- 1. Rs. 29300
 - 2. Rs. 22750
 - 3. Rs. 29250
 - 4. Rs. 28500

Question Type : MCQ

Question ID : 264330137635

Option 1 ID : 264330539149

Option 2 ID : 264330539147

Option 3 ID : 264330539150

Option 4 ID : 264330539148

Status : Answered

Chosen Option : 4

Q.15 एक समिति के 15 सदस्यों की औसत आयु 4 वर्ष बढ़ जाती है जब 60 वर्ष और 70 वर्ष आयु वाले दो सदस्यों के स्थान पर दो नए सदस्य आ जाते हैं। नए सदस्यों की औसत आयु क्या है?

- Ans
- 1. 85 वर्ष
 - 2. 105 वर्ष
 - 3. 80 वर्ष
 - 4. 95 वर्ष

Question Type : MCQ

Question ID : 264330137649

Option 1 ID : 264330539203

Option 2 ID : 264330539204

Option 3 ID : 264330539205

Option 4 ID : 264330539206

Status : Answered

Chosen Option : 1

Q.16 Rs. 10000 पर 1 वर्ष 6 माह में 10% वार्षिक दर पर चक्रवृद्धि ब्याज कितना है, जहाँ ब्याज अर्ध-वार्षिक रूप से संयोजित किया जा रहा है?

- Ans
- 1. Rs. 1625.50
 - 2. Rs. 1576.25
 - 3. Rs. 1422.25
 - 4. Rs. 1826.50

Question Type : MCQ
Question ID : 264330133807
Option 1 ID : 264330524254
Option 2 ID : 264330524251
Option 3 ID : 264330524253
Option 4 ID : 264330524252
Status : Answered
Chosen Option : 2

Q.17 $62.5 \times 2 + 1100 - (16)^2 + (30)^2$ का मान ज्ञात कीजिए:

- Ans
- 1. 1666
 - 2. 1900
 - 3. 1869
 - 4. 1445

Question Type : MCQ
Question ID : 264330135131
Option 1 ID : 264330529459
Option 2 ID : 264330529462
Option 3 ID : 264330529461
Option 4 ID : 264330529460
Status : Answered
Chosen Option : 3

Q.18 चार अंकों की वह सबसे बड़ी संख्या कौन-सी है जिसे 3 और 4 से भाग देने पर प्रत्येक स्थिति में शेषफल 2 बचता है?

- Ans
- 1. 9996
 - 2. 9994
 - 3. 9998
 - 4. 9995

Question Type : MCQ
Question ID : 264330137889
Option 1 ID : 264330540164
Option 2 ID : 264330540166
Option 3 ID : 264330540163
Option 4 ID : 264330540165
Status : Answered
Chosen Option : 3

Q.19 एक समचतुर्भुज के विकर्ण 16 cm और 20 cm हैं। समचतुर्भुज का क्षेत्रफल ज्ञात कीजिए।

- Ans
- 1. 120 cm²
 - 2. 150 cm²
 - 3. 110 cm²
 - 4. 160 cm²

Question Type : MCQ

Question ID : 264330138409

Option 1 ID : 264330542246

Option 2 ID : 264330542244

Option 3 ID : 264330542243

Option 4 ID : 264330542245

Status : Answered

Chosen Option : 4

Q.20 दो छात्रों की आयु का अनुपात 5 : 4 है। उनकी आयु के बीच का अंतर 8 वर्ष है। छोटे छात्र की आयु कितनी है?

- Ans
- 1. 40 वर्ष
 - 2. 48 वर्ष
 - 3. 32 वर्ष
 - 4. 24 वर्ष

Question Type : MCQ

Question ID : 264330137883

Option 1 ID : 264330540139

Option 2 ID : 264330540140

Option 3 ID : 264330540141

Option 4 ID : 264330540142

Status : Answered

Chosen Option : 3

Section : Reasoning Ability and Problem Solving

Q.1 दी गई श्रृंखला में निम्नलिखित में से कौन-सी संख्या प्रश्न चिन्ह (?) के स्थान पर आएगी?
69, 80, 89, 96, 101, ?

- Ans
- 1. 102
 - 2. 104
 - 3. 106
 - 4. 105

Question Type : MCQ

Question ID : 264330133517

Option 1 ID : 264330523099

Option 2 ID : 264330523100

Option 3 ID : 264330523102

Option 4 ID : 264330523101

Status : Answered

Chosen Option : 2

Q.2 दी गई श्रृंखला में निम्नलिखित में से कौन-सी संख्या प्रश्न चिन्ह (?) के स्थान पर आएगी?
57, 54, 52, 49, 47, 44, 42, ?

- Ans
- 1. 40
 - 2. 47
 - 3. 39
 - 4. 27

Question Type : MCQ
Question ID : 264330137800
Option 1 ID : 264330539807
Option 2 ID : 264330539809
Option 3 ID : 264330539810
Option 4 ID : 264330539808
Status : Answered
Chosen Option : 3

Q.3 उस विकल्प को चुनिए जो तीसरे अक्षर-समूह से ठीक उसी तरह संबंधित है जिस तरह दूसरा अक्षर-समूह पहले अक्षर-समूह से संबंधित है।
DAK : FCM :: PVH : ?

- Ans
- 1. RXI
 - 2. SXJ
 - 3. RXJ
 - 4. RJZ

Question Type : MCQ
Question ID : 264330137789
Option 1 ID : 264330539765
Option 2 ID : 264330539766
Option 3 ID : 264330539764
Option 4 ID : 264330539763
Status : Answered
Chosen Option : 3

Q.4 दो कथन दिए गए हैं और दो निष्कर्ष I और II दिए गए हैं। कथनों को सत्य मानते हुए, चाहे वे सामान्यतः ज्ञात तथ्यों से अलग प्रतीत होते हों, निश्चय कीजिए कि कौन-सा निष्कर्ष तार्किक रूप से कथनों के अनुसार है।
कथन:
कुछ सोना, चाँदी हैं।
सभी सोना, प्लैटिनम हैं।
निष्कर्ष:
I. कुछ चाँदी, प्लैटिनम हैं।
II. सभी प्लैटिनम, सोना हैं।

- Ans
- 1. सिर्फ निष्कर्ष I कथनों के अनुसार है
 - 2. निष्कर्ष I और II में से कोई भी कथनों के अनुसार नहीं है
 - 3. सिर्फ निष्कर्ष II कथनों के अनुसार है
 - 4. दोनों निष्कर्ष I और II कथनों के अनुसार है

Question Type : MCQ
Question ID : 264330137797
Option 1 ID : 264330539795
Option 2 ID : 264330539798
Option 3 ID : 264330539796
Option 4 ID : 264330539797
Status : Answered
Chosen Option : 1

Q.5 यदि A का अर्थ 'जोड़', B का अर्थ 'गुणा', C का अर्थ 'घटाव' और D का अर्थ 'भाग' हो, तो निम्नलिखित समीकरण का मान क्या होगा?
7 A 5 C (6 D 3) = ?

- Ans
- 1. 19
 - 2. 16
 - 3. 32
 - 4. 10

Question Type : MCQ
Question ID : 264330137555
Option 1 ID : 264330538829
Option 2 ID : 264330538828
Option 3 ID : 264330538830
Option 4 ID : 264330538827
Status : Answered
Chosen Option : 4

Q.6 एक निश्चित कूट भाषा में, 'AJDM' को 'JDMA' लिखा जाता है। उस कूट भाषा में 'SKWM' को कैसे लिखा जाएगा?

- Ans
- 1. KMMS
 - 2. KWMS
 - 3. KSMW
 - 4. KMWS

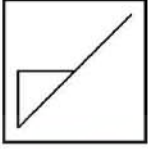
Question Type : MCQ
Question ID : 264330135002
Option 1 ID : 264330528946
Option 2 ID : 264330528944
Option 3 ID : 264330528945
Option 4 ID : 264330528943
Status : Answered
Chosen Option : 2

Q.7 सात भाइयों P, Q, R, S, T, U, और V का जन्म अलग-अलग वर्षों में हुआ था। S, केवल 2 भाइयों से छोटा है और उनमें से कोई भी U नहीं है। P, R से बड़ा है परंतु U और S से छोटा है। R सबसे छोटा नहीं है। U, Q से छोटा है जो T से छोटा है। सबसे छोटा कौन है?

- Ans
- 1. T
 - 2. V
 - 3. Q
 - 4. P

Question Type : MCQ
Question ID : 264330137796
Option 1 ID : 264330539792
Option 2 ID : 264330539794
Option 3 ID : 264330539791
Option 4 ID : 264330539793
Status : Answered
Chosen Option : 2

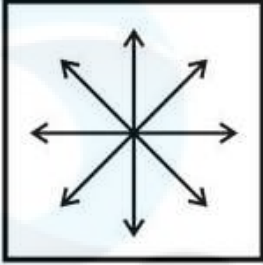
Q.8 उस विकल्प आकृति को चुनिए जिसमें दी गई आकृति (X) उसके भाग के रूप में निहित है (घूर्णन की अनुमति नहीं है)।



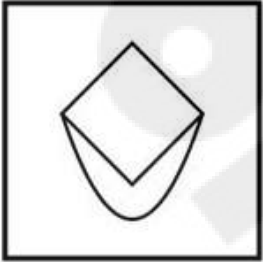
X

Ans

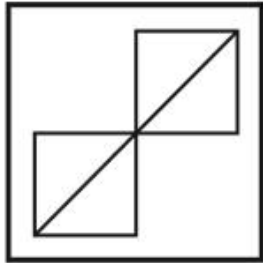
✗ 1.



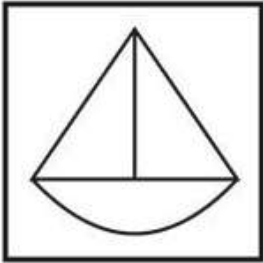
✗ 2.



✓ 3.



✗ 4.



Question Type : MCQ

Question ID : 264330135039

Option 1 ID : 264330529094

Option 2 ID : 264330529091

Option 3 ID : 264330529093

Option 4 ID : 264330529092

Status : Answered

Chosen Option : 3

Q.9 एक निश्चित कूट भाषा में, 'FELLOW' को 'FDNLNY' लिखा जाता है। उस कूट भाषा में 'GOLDEN' को कैसे लिखा जाएगा?

- Ans
- 1. GNNDDP
 - 2. GNNEDQ
 - 3. GNMDEP
 - 4. DNNDDQ

Question Type : MCQ

Question ID : 264330138835

Option 1 ID : 264330543948

Option 2 ID : 264330543950

Option 3 ID : 264330543947

Option 4 ID : 264330543949

Status : Answered

Chosen Option : 1

Q.10 रीना, मीना, टीना, लीना, और नीना एक सीधी रेखा में दक्षिण की ओर मुख करके बैठी हैं। टीना, रीना के ठीक दाईं ओर बैठी है। रीना और लीना के बीच केवल नीना बैठी है। टीना सबसे आखिर में नहीं बैठी है। नीना के ठीक बाईं ओर कौन बैठा है?

- Ans
- 1. टीना
 - 2. मीना
 - 3. रीना
 - 4. लीना

Question Type : MCQ

Question ID : 264330137795

Option 1 ID : 264330539788

Option 2 ID : 264330539787

Option 3 ID : 264330539789

Option 4 ID : 264330539790

Status : Answered

Chosen Option : 4

Q.11 दी गई श्रृंखला में निम्नलिखित में से कौन-सा अक्षर-समूह प्रश्न चिन्ह (?) के स्थान पर आएगा?
AGM, CEO, ECQ, GAS, ?

- Ans
- 1. JZS
 - 2. IUYY
 - 3. YUI
 - 4. IYU

Question Type : MCQ

Question ID : 264330137786

Option 1 ID : 264330539754

Option 2 ID : 264330539752

Option 3 ID : 264330539753

Option 4 ID : 264330539751

Status : Answered

Chosen Option : 4

Q.12 तीन कथन दिए गए हैं और दो निष्कर्ष I और II दिए गए हैं। कथनों को सत्य मानते हुए, चाहे वे सामान्यतः ज्ञात तथ्यों से अलग प्रतीत होते हों, निश्चय कीजिए कि कौन-सा निष्कर्ष तार्किक रूप से कथनों के अनुसार है।
कथन:

सभी छात्र, अच्छे हैं।

रेचेल, छात्र है।

कुछ अच्छे, ईमानदार हैं।

निष्कर्ष:

I. रेचेल, ईमानदार है।

II. कुछ ईमानदार, अच्छे हैं।

Ans

- ✓ 1. सिर्फ निष्कर्ष II कथनों के अनुसार है
- ✗ 2. निष्कर्ष I और II में से कोई भी कथनों के अनुसार नहीं है
- ✗ 3. दोनों निष्कर्ष I और II कथनों के अनुसार हैं
- ✗ 4. सिर्फ निष्कर्ष I कथनों के अनुसार है

Question Type : MCQ

Question ID : 264330137798

Option 1 ID : 264330539800

Option 2 ID : 264330539802

Option 3 ID : 264330539801

Option 4 ID : 264330539799

Status : Answered

Chosen Option : 1

Q.13 उस विकल्प को चुनिए जो तीसरे शब्द से ठीक उसी तरह संबंधित है जिस तरह दूसरा शब्द पहले शब्द से संबंधित है।
घमंडी : अहंकारी :: अमंगल : ?

Ans

- ✗ 1. शांतिप्रिय
- ✓ 2. अशुभ
- ✗ 3. शांतिदायक
- ✗ 4. शांत

Question Type : MCQ

Question ID : 264330137788

Option 1 ID : 264330539759

Option 2 ID : 264330539762

Option 3 ID : 264330539761

Option 4 ID : 264330539760

Status : Answered

Chosen Option : 2

Q.14 दिए गए समीकरण को सही करने के लिए किन दो चिन्हों को आपस में बदला जाना चाहिए?

$$12 + 4 \div 2 - 6 = 16$$

Ans 1. \div और $+$

2. \div और $=$

3. $+$ और $-$

4. $-$ और $=$

Question Type : MCQ

Question ID : 264330137803

Option 1 ID : 264330539821

Option 2 ID : 264330539819

Option 3 ID : 264330539822

Option 4 ID : 264330539820

Status : Answered

Chosen Option : 3

Q.15 पाँच लोग P, Q, T, V और R एक परिधि में केंद्र से बाहर की ओर मुख करके बैठे हैं। P, V के ठीक दाईं ओर है। T, V और R के बीच में है। R के ठीक बाईं ओर कौन बैठा है?

Ans 1. V

2. P

3. T

4. Q

Question Type : MCQ

Question ID : 264330137794

Option 1 ID : 264330539786

Option 2 ID : 264330539783

Option 3 ID : 264330539785

Option 4 ID : 264330539784

Status : Answered

Chosen Option : 4

Q.16 उस विकल्प को चुनिए जो तीसरी संख्या से ठीक उसी प्रकार संबंधित है जिस प्रकार दूसरी संख्या पहली संख्या से संबंधित है।

$$289 : 325 :: 361 : ?$$

Ans 1. 401

2. 399

3. 411

4. 400

Question Type : MCQ

Question ID : 264330133519

Option 1 ID : 264330523107

Option 2 ID : 264330523109

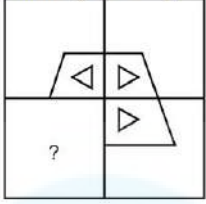
Option 3 ID : 264330523110

Option 4 ID : 264330523108

Status : Answered

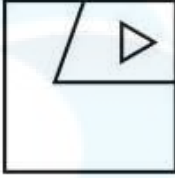
Chosen Option : 1

Q.17 उस विकल्प आकृति को चुनिए जो नीचे दी गई आकृति में पैटर्न को पूरा करने के लिए प्रश्न चिन्ह (?) के स्थान पर आएगी। (घूर्णन की अनुमति नहीं है)

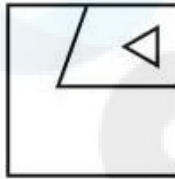


Ans

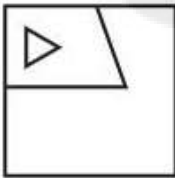
✗ 1.



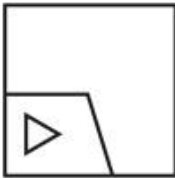
✓ 2.



✗ 3.



✗ 4.



Question Type : MCQ

Question ID : 264330137807

Option 1 ID : 264330539838

Option 2 ID : 264330539835

Option 3 ID : 264330539836

Option 4 ID : 264330539837

Status : Answered

Chosen Option : 2

Q.18 एक निश्चित कूट भाषा में, 'ABSENCE' को 'ASBECNE' लिखा जाता है। उस कूट भाषा में 'EXACTLY' को कैसे लिखा जाएगा?

Ans

✗ 1. EXACTLY

✗ 2. EAXCLYT

✓ 3. EAXCLTY

✗ 4. EAXTCLY

Question Type : MCQ

Question ID : 264330137542

Option 1 ID : 264330538775

Option 2 ID : 264330538778

Option 3 ID : 264330538776

Option 4 ID : 264330538777

Status : Answered

Chosen Option : 3

Q.19 दिए गए पैटर्न का ध्यानपूर्वक अध्ययन कीजिए और उस संख्या को चुनिए जो इसमें प्रश्न चिन्ह (?) के स्थान पर आ सकती है?
प्रथम पंक्ति- 6, 36, 72
द्वितीय पंक्ति- 8, 48, 96
तृतीय पंक्ति- 9, 54, ?

- Ans** ✓ 1. 108
✗ 2. 105
✗ 3. 231
✗ 4. 130

Question Type : **MCQ**

Question ID : **264330137802**

Option 1 ID : **264330539818**

Option 2 ID : **264330539815**

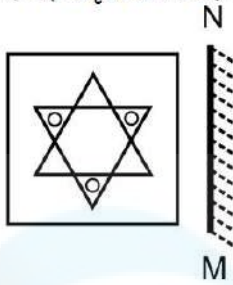
Option 3 ID : **264330539816**

Option 4 ID : **264330539817**

Status : **Answered**


Chosen Option : **1**

Q.20 दी गई आकृति के उस सही दर्पण प्रतिबिंब को चुनिए जो दर्पण को आकृति के दाईं ओर रखने पर बनेगा।

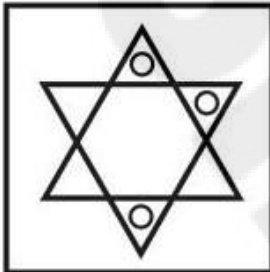


Ans

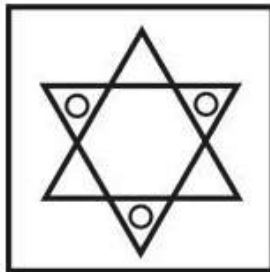
✗ 1.



✗ 2.



✓ 3.



✗ 4.



Question Type : MCQ

Question ID : 264330135040

Option 1 ID : 264330529096

Option 2 ID : 264330529095

Option 3 ID : 264330529097

Option 4 ID : 264330529098

Status : Answered

Chosen Option : 3

Q.1 वर्ष 2011 की जनगणना के अनुसार, निम्नलिखित में से कौन-सा देश सबसे अधिक आबादी वाले शीर्ष दस देशों की सूची में शामिल नहीं है?

- Ans
- 1. पाकिस्तान
 - 2. नाइजीरिया
 - 3. कनाडा
 - 4. जापान

Question Type : MCQ
Question ID : 264330138316
Option 1 ID : 264330541874
Option 2 ID : 264330541872
Option 3 ID : 264330541873
Option 4 ID : 264330541871
Status : Answered
Chosen Option : 2

Q.2 निम्नलिखित में से कौन-सी वायुमंडलीय परत सबसे ठंडी परत है?

- Ans
- 1. क्षोभ मंडल
 - 2. मध्य मंडल
 - 3. समताप मंडल
 - 4. ताप मंडल

Question Type : MCQ
Question ID : 264330133989
Option 1 ID : 264330524979
Option 2 ID : 264330524981
Option 3 ID : 264330524980
Option 4 ID : 264330524982
Status : Answered
Chosen Option : 2

Q.3 निम्नलिखित में से किस राज्य में माघ साजी (Magha Saaji) को मकर संक्रांति के रूप में मनाया जाता है?

- Ans
- 1. गुजरात
 - 2. गोवा
 - 3. मध्यप्रदेश
 - 4. हिमाचल प्रदेश

Question Type : MCQ
Question ID : 264330134697
Option 1 ID : 264330527744
Option 2 ID : 264330527745
Option 3 ID : 264330527743
Option 4 ID : 264330527746
Status : Answered
Chosen Option : 4

Q.4 लोकसभा के पीठासीन अधिकारी को _____ कहा जाता है।

Ans ✓ 1. लोकसभा अध्यक्ष (स्पीकर)

✗ 2. अध्यक्ष

✗ 3. उपाध्यक्ष

✗ 4. उप सभापति

Question Type : MCQ

Question ID : 264330137915

Option 1 ID : 264330540267

Option 2 ID : 264330540268

Option 3 ID : 264330540269

Option 4 ID : 264330540270

Status : Answered

Chosen Option : 1

Q.5 मुद्रा की एक इकाई का एक इकाई अवधि में जितनी बार हस्तांतरण होता है, उसे _____ कहते हैं।

Ans ✓ 1. मुद्रा का संचलन वेग

✗ 2. शून्य आर्थिक लाभ

✗ 3. आधार मुद्रा

✗ 4. प्रेषित मुद्रा

Question Type : MCQ

Question ID : 264330138906

Option 1 ID : 264330544231

Option 2 ID : 264330544234

Option 3 ID : 264330544232

Option 4 ID : 264330544233

Status : Answered

Chosen Option : 1

Q.6 निम्नलिखित में से कौन-सा नृत्य महाराष्ट्र का एक लोकप्रिय लोक नृत्य है?

Ans ✗ 1. झूमर

✗ 2. गिद्धा

✗ 3. बिहू

✓ 4. लावणी

Question Type : MCQ

Question ID : 264330137896

Option 1 ID : 264330540194

Option 2 ID : 264330540192

Option 3 ID : 264330540191

Option 4 ID : 264330540193

Status : Answered

Chosen Option : 4

Q.7 सास्वती सेन (Saswati Sen) 2004-2005 के संगीत नाटक अकादमी पुरस्कार की एक गौरवान्वित प्राप्तकर्ता हैं। वह किस नृत्य शैली के लिए पहचानी जाती हैं?

- Ans
- ✓ 1. कथक
 - ✗ 2. मणिपुरी
 - ✗ 3. मोहिनीअट्टम
 - ✗ 4. कुचिपुड़ी

Question Type : MCQ
Question ID : 264330138903
Option 1 ID : 264330544222
Option 2 ID : 264330544219
Option 3 ID : 264330544220
Option 4 ID : 264330544221
Status : Answered
Chosen Option : 4

Q.8 निम्नलिखित में से किस अधिनियम ने प्रांतीय स्तर पर 'द्वैध शासन' प्रणाली को त्याग दिया और लोकप्रिय रूप से निर्वाचित प्रांतीय विधानसभाओं के उद्गमन में सहायता की?

- Ans
- ✗ 1. चार्टर अधिनियम, 1793
 - ✗ 2. पिट्स इंडिया एक्ट, 1784
 - ✓ 3. भारत सरकार अधिनियम, 1935
 - ✗ 4. मांटैग्यू-चेम्सफोर्ड सुधार (भारत शासन अधिनियम), 1919

Question Type : MCQ
Question ID : 264330137726
Option 1 ID : 264330539512
Option 2 ID : 264330539511
Option 3 ID : 264330539514
Option 4 ID : 264330539513
Status : Answered
Chosen Option : 3

Q.9 निम्नलिखित में से किस उपकरण का उपयोग हवा या गैस की आर्द्रता को मापने के लिए किया जाता है?

- Ans
- ✗ 1. बोलोमीटर (Bolometer)
 - ✓ 2. हाइग्रोमीटर (Hygrometer)
 - ✗ 3. हाइड्रोमीटर (Hydrometer)
 - ✗ 4. अल्टिमीटर (Altimeter)

Question Type : MCQ
Question ID : 264330133986
Option 1 ID : 264330524968
Option 2 ID : 264330524970
Option 3 ID : 264330524969
Option 4 ID : 264330524967
Status : Answered
Chosen Option : 2

Q.10 परिवार न्यायालय (संशोधन) विधेयक निम्नलिखित में से किन राज्यों में परिवार न्यायालय अधिनियम के कार्यक्षेत्र के विस्तार के लिए प्रावधान करना चाहता है?

- Ans
- 1. हिमाचल प्रदेश और सिक्किम
 - 2. सिक्किम और मणिपुर
 - 3. हिमाचल प्रदेश और नागालैंड
 - 4. नागालैंड और सिक्किम

Question Type : MCQ
Question ID : 264330137712
Option 1 ID : 264330539457
Option 2 ID : 264330539458
Option 3 ID : 264330539455
Option 4 ID : 264330539456
Status : Not Answered
Chosen Option : --

Q.11 निम्नलिखित में से किसने जहाँगीर की जीवनी लिखी जो इकबालनामा-ए जहाँगीरी (Iqbalnama-i Jahangiri) के नाम से जानी जाती है?

- Ans
- 1. मुतामिद खान
 - 2. इनायत खान
 - 3. अबुल फ़ज़ल
 - 4. अब्दुल रहीम खान

Question Type : MCQ
Question ID : 264330133995
Option 1 ID : 264330525005
Option 2 ID : 264330525006
Option 3 ID : 264330525004
Option 4 ID : 264330525003
Status : Answered
Chosen Option : 2

Q.12 निम्नलिखित में से किस मुगल बादशाह ने आगरा में शीश महल का निर्माण करवाया था?

- Ans
- 1. अकबर
 - 2. हुमायूँ
 - 3. बाबर
 - 4. शाहजहाँ

Question Type : MCQ
Question ID : 264330137715
Option 1 ID : 264330539468
Option 2 ID : 264330539470
Option 3 ID : 264330539469
Option 4 ID : 264330539467
Status : Answered
Chosen Option : 4

Q.13 निम्नलिखित में से किसने मेल्टवाटर चैंपियंस शतरंज टूर (Meltwater Champions Chess Tour) 2022 जीता?

- Ans
- 1. विदित संतोष गुजराती (Vidit Santosh Gujrathi)
 - 2. अर्जुन एरिगोसी (Arjun Erigaisi)
 - 3. यान क्रिस्टोफ डुडा (Jan-Krzysztof Duda)
 - 4. मैग्नस कार्लसन (Magnus Carlsen)

Question Type : MCQ
Question ID : 264330134004
Option 1 ID : 264330525042
Option 2 ID : 264330525039
Option 3 ID : 264330525041
Option 4 ID : 264330525040
Status : Answered
Chosen Option : 2

Q.14 लवलीना बोरगोहेन (Lovlina Borgohain) किस खेल से संबंधित हैं?

- Ans
- 1. टेबल टेनिस
 - 2. मुक्केबाज़ी
 - 3. शतरंज
 - 4. तैराकी

Question Type : MCQ
Question ID : 264330137916
Option 1 ID : 264330540272
Option 2 ID : 264330540273
Option 3 ID : 264330540274
Option 4 ID : 264330540271
Status : Answered
Chosen Option : 2

Q.15 2011 की जनगणना के अनुसार, निम्न में से किस राज्य की जनसंख्या सर्वाधिक है?

- Ans
- 1. बिहार
 - 2. तमिलनाडु
 - 3. महाराष्ट्र
 - 4. उत्तर प्रदेश

Question Type : MCQ
Question ID : 264330134017
Option 1 ID : 264330525091
Option 2 ID : 264330525093
Option 3 ID : 264330525092
Option 4 ID : 264330525094
Status : Answered
Chosen Option : 4

Q.16 कोशिका भित्ति का प्रमुख कार्य क्या है?

- Ans
- ✓ 1. यह कोशिका को आकार और दृढ़ता प्रदान करती है
 - ✗ 2. यह सामाग्री के भंडार गृह की तरह काम करती है
 - ✗ 3. यह कार्बोहाइड्रेट के संश्लेषण में मदद करती है
 - ✗ 4. यह कोशिका विभाजन के लिए उत्तरदायी होती है

Question Type : MCQ

Question ID : 264330137900

Option 1 ID : 264330540210

Option 2 ID : 264330540207

Option 3 ID : 264330540208

Option 4 ID : 264330540209

Status : Answered

Chosen Option : 1

Q.17 म्यांमार निम्नलिखित में से किस राज्य के साथ अपनी सीमा साझा नहीं करता?

- Ans
- ✗ 1. नागालैंड
 - ✓ 2. सिक्किम
 - ✗ 3. मणिपुर
 - ✗ 4. मिज़ोरम

Question Type : MCQ

Question ID : 264330134707

Option 1 ID : 264330527783

Option 2 ID : 264330527786

Option 3 ID : 264330527785

Option 4 ID : 264330527784

Status : Answered

Chosen Option : 2

Q.18 _____ की स्थापना सन् 1867 में दादोबा पांडुरंग और उनके भाई आत्माराम पांडुरंग ने की थी।

- Ans
- ✗ 1. तत्वबोधिनी सभा (Tattvabodhini Sabha)
 - ✗ 2. आर्य समाज
 - ✗ 3. ब्रह्म समाज
 - ✓ 4. प्रार्थना समाज

Question Type : MCQ

Question ID : 264330134710

Option 1 ID : 264330527797

Option 2 ID : 264330527798

Option 3 ID : 264330527796

Option 4 ID : 264330527795

Status : Answered

Chosen Option : 4

Q.19 प्रधानमंत्री जन-धन योजना (Pradhan Mantri Jan-Dhan Yojana (PMJDY)) के अंतर्गत, अब तक 472 मिलियन से अधिक खाते खोले जा चुके हैं। इस सूची में कौन-सा राज्य शीर्ष स्थान पर है (12 अक्टूबर, 2022 तक)?

- Ans
- 1. हरियाणा
 - 2. उत्तरप्रदेश
 - 3. महाराष्ट्र
 - 4. पश्चिम बंगाल

Question Type : MCQ
Question ID : 264330137894
Option 1 ID : 264330540185
Option 2 ID : 264330540184
Option 3 ID : 264330540183
Option 4 ID : 264330540186
Status : Not Answered
Chosen Option : --

Q.20 सूचना प्रौद्योगिकी के प्रमुख केंद्रों में से एक सिलिकॉन वैली _____ में स्थित है।

- Ans
- 1. कैलिफोर्निया
 - 2. न्यूयॉर्क
 - 3. टोक्यो
 - 4. लंदन

Question Type : MCQ
Question ID : 264330138913
Option 1 ID : 264330544261
Option 2 ID : 264330544262
Option 3 ID : 264330544260
Option 4 ID : 264330544259
Status : Answered
Chosen Option : 1

Q.21 _____ का उपयोग ऐसे मिश्रण को पृथक् करने में किया जाता है जो विघटित हुए बिना उबलते हैं तथा जिनके घटकों के क्वथनांकों के मध्य अधिक अंतराल होता है।

- Ans
- 1. पायसीकरण
 - 2. कार्बोनेशन
 - 3. उर्ध्वपातन
 - 4. आसवन

Question Type : MCQ
Question ID : 264330133988
Option 1 ID : 264330524976
Option 2 ID : 264330524975
Option 3 ID : 264330524977
Option 4 ID : 264330524978
Status : Answered
Chosen Option : 4

Q.22 स्वर्गीय जगजीत सिंह एक लोकप्रिय संगीतकार और _____ गायक थे।

- Ans
- ✓ 1. ग़ज़ल
 - ✗ 2. रॉक
 - ✗ 3. ऑपेरा
 - ✗ 4. पॉप

Question Type : MCQ
Question ID : 264330137912
Option 1 ID : 264330540258
Option 2 ID : 264330540255
Option 3 ID : 264330540256
Option 4 ID : 264330540257
Status : Answered
Chosen Option : 4

Q.23 जिम कॉर्बेट राष्ट्रीय उद्यान भारत के किस राज्य में स्थित है ?

- Ans
- ✓ 1. उत्तराखंड
 - ✗ 2. पंजाब
 - ✗ 3. हिमाचल प्रदेश
 - ✗ 4. उत्तरप्रदेश

Question Type : MCQ
Question ID : 264330137904
Option 1 ID : 264330540223
Option 2 ID : 264330540226
Option 3 ID : 264330540224
Option 4 ID : 264330540225
Status : Answered
Chosen Option : 1

Q.24 भारतीय संविधान का कौन-सा अनुच्छेद समान नागरिक संहिता निर्धारित करता है?

- Ans
- ✗ 1. अनुच्छेद 12
 - ✗ 2. अनुच्छेद 370
 - ✓ 3. अनुच्छेद 44
 - ✗ 4. अनुच्छेद 377

Question Type : MCQ
Question ID : 264330137914
Option 1 ID : 264330540266
Option 2 ID : 264330540264
Option 3 ID : 264330540265
Option 4 ID : 264330540263
Status : Answered
Chosen Option : 3

Q.25 'इन द आफ्टरनून ऑफ टाइम (In The Afternoon of Time)' _____ की एक आत्मकथात्मक पुस्तक है।

- Ans
- 1. पी.टी. उषा
 - 2. सत्यजीत रे
 - 3. हरिवंशराय बच्चन
 - 4. सैम पित्रोदा

Question Type : MCQ
Question ID : 264330138901
Option 1 ID : 264330544211
Option 2 ID : 264330544213
Option 3 ID : 264330544214
Option 4 ID : 264330544212
Status : Answered
Chosen Option : 4

Section : English Language and Comprehension

Q.1 Select the most appropriate antonym of the given word.

Mad

- Ans
- 1. Dense
 - 2. Distemper
 - 3. Sound
 - 4. Indisposition

Question Type : MCQ
Question ID : 264330136075
Option 1 ID : 264330533113
Option 2 ID : 264330533112
Option 3 ID : 264330533114
Option 4 ID : 264330533111
Status : Answered
Chosen Option : 1

Q.2 Select the most appropriate option to substitute the bracketed segment in the given sentence. If there is no need to substitute it, select 'no substitution required'.

He suggested (there was collusions through objectors, due to similarities) in some letters sent to the council.

- Ans
- 1. their was collusion by the objectors, due to similarities
 - 2. No substitution required
 - 3. there was collusion between objectors, due to similarities
 - 4. there was collusions from the objector, due to similarities

Question Type : MCQ
Question ID : 264330136296
Option 1 ID : 264330533965
Option 2 ID : 264330533966
Option 3 ID : 264330533963
Option 4 ID : 264330533964
Status : Answered
Chosen Option : 3

Q.3 Choose the word that means the same as the given word.

Valet

- Ans
- 1. Carrier
 - 2. Carrousel
 - 3. Kingpin
 - 4. Butler

Question Type : MCQ
Question ID : 264330135195
Option 1 ID : 264330529708
Option 2 ID : 264330529710
Option 3 ID : 264330529707
Option 4 ID : 264330529709
Status : Not Answered
Chosen Option : --

Q.4 Select the most appropriate option to fill in the blank.

After suffering so many losses, the company is about to go _____.

- Ans
- 1. awry
 - 2. silent
 - 3. cynical
 - 4. bankrupt

Question Type : MCQ
Question ID : 264330134847
Option 1 ID : 264330528326
Option 2 ID : 264330528324
Option 3 ID : 264330528323
Option 4 ID : 264330528325
Status : Answered
Chosen Option : 4

Q.5 Four words are given, out of which only one word is spelt correctly. Choose the correctly spelt word.

- Ans
- 1. SPLATER
 - 2. ARGUMENT
 - 3. ASSASINATION
 - 4. CALANDER

Question Type : MCQ
Question ID : 264330136261
Option 1 ID : 264330533827
Option 2 ID : 264330533829
Option 3 ID : 264330533828
Option 4 ID : 264330533830
Status : Answered
Chosen Option : 2

Q.6 Find the part of the given sentence that has an error in it. If there is no error, choose 'No error'.

Shapes that are impossible to make of machining can be printed.

- Ans**
- 1. Shapes that are impossible
 - 2. can be printed.
 - 3. No error
 - 4. to make of machining

Question Type : **MCQ**
Question ID : **264330134746**
Option 1 ID : **264330527935**
Option 2 ID : **264330527937**
Option 3 ID : **264330527938**
Option 4 ID : **264330527936**
Status : **Answered**
Chosen Option : **1**

Q.7 In the following question, out of the given four alternatives, select the alternative which best expresses the meaning of the Idiom/Phrase.
Fit as a fiddle

- Ans**
- 1. To drink alcohol regularly
 - 2. To be in love
 - 3. To be firm
 - 4. In a very good physical condition

Question Type : **MCQ**
Question ID : **264330134470**
Option 1 ID : **264330526847**
Option 2 ID : **264330526850**
Option 3 ID : **264330526848**
Option 4 ID : **264330526849**
Status : **Answered**
Chosen Option : **4**

Q.8 Select the most appropriate option to substitute the bracketed segment in the given sentence. If there is no need to substitute it, select 'no substitution required'.

The government appears (to be at war with it's own people.)

- Ans**
- 1. No substitution required
 - 2. to be at war with its own people
 - 3. to be at war against it's own people
 - 4. to be on war with it's own people

Question Type : **MCQ**
Question ID : **264330136669**
Option 1 ID : **264330535398**
Option 2 ID : **264330535396**
Option 3 ID : **264330535397**
Option 4 ID : **264330535395**
Status : **Answered**
Chosen Option : **2**

Q.9 Select the most appropriate word for the given group of words.

The act of destroying or damaging something

- Ans**
- 1. Revenge
 - 2. Vengeance
 - 3. Sabotage
 - 4. Avenge

Question Type : **MCQ**
Question ID : **264330136254**
Option 1 ID : **264330533801**
Option 2 ID : **264330533799**
Option 3 ID : **264330533800**
Option 4 ID : **264330533802**
Status : **Answered**
Chosen Option : **3**

Q.10 Select the word from the options which is exactly opposite in meaning to the bracketed word given in the sentence below.

I was (disappointed) to see the lack of coverage afforded to this event.

- Ans**
- 1. Humiliated
 - 2. Dizzy
 - 3. Encouraged
 - 4. Gloomy

Question Type : **MCQ**
Question ID : **264330136258**
Option 1 ID : **264330533817**
Option 2 ID : **264330533818**
Option 3 ID : **264330533815**
Option 4 ID : **264330533816**
Status : **Answered**
Chosen Option : **3**

Q.11 Choose the word that can substitute the given group of words.
A woman with brown hair

- Ans**
- 1. Blunt
 - 2. Blonde
 - 3. Bumble
 - 4. Brunette

Question Type : **MCQ**
Question ID : **264330134464**
Option 1 ID : **264330526825**
Option 2 ID : **264330526826**
Option 3 ID : **264330526824**
Option 4 ID : **264330526823**
Status : **Answered**
Chosen Option : **4**

Q.12 A sentence has been given with a blank to be filled with an appropriate option. Choose the correct alternative.

The story of human evolution _____ a moving target in recent years.

- Ans**
- 1. did has
 - 2. has been
 - 3. have been
 - 4. had being

Question Type : **MCQ**
Question ID : **264330135185**
Option 1 ID : **264330529671**
Option 2 ID : **264330529672**
Option 3 ID : **264330529674**
Option 4 ID : **264330529673**
Status : **Answered**
Chosen Option : **2**

Q.13 Improve the underlined part of the sentence. Choose 'No improvement' as an answer if the sentence is grammatically correct.

My grandmother taught me how to sew my own clothes.

- Ans**
- 1. taught myself
 - 2. taught I
 - 3. No improvement
 - 4. teach mine

Question Type : **MCQ**
Question ID : **264330134800**
Option 1 ID : **264330528145**
Option 2 ID : **264330528143**
Option 3 ID : **264330528146**
Option 4 ID : **264330528144**
Status : **Answered**
Chosen Option : **3**

Q.14 Fill in the blank with the most appropriate option.

I am sorry that I was unable to see _____ of you over the summer.

- Ans**
- 1. many more
 - 2. much
 - 3. many
 - 4. more

Question Type : **MCQ**
Question ID : **264330136245**
Option 1 ID : **264330533770**
Option 2 ID : **264330533769**
Option 3 ID : **264330533767**
Option 4 ID : **264330533768**
Status : **Answered**
Chosen Option : **4**

Q.15 Select the most appropriate synonym of the given word.

Paradise

- Ans
- 1. Ghost
 - 2. Trivial
 - 3. Display
 - 4. Bliss

Question Type : MCQ
Question ID : 264330136255
Option 1 ID : 264330533806
Option 2 ID : 264330533803
Option 3 ID : 264330533805
Option 4 ID : 264330533804
Status : Answered
Chosen Option : 4

Q.16 Identify the segment that contains a grammatical error. If there is no error, select 'No error'.

Our passage across the Arabian Sea/ was smooth as the most timid of/ navigators could desire.

- Ans
- 1. navigators could desire.
 - 2. was smooth as the most timid of
 - 3. Our passage across the Arabian Sea
 - 4. No error

Question Type : MCQ
Question ID : 264330136666
Option 1 ID : 264330535385
Option 2 ID : 264330535384
Option 3 ID : 264330535383
Option 4 ID : 264330535386
Status : Answered
Chosen Option : 1

Q.17 Choose the sentence with no spelling error.

- Ans
- 1. How is your currant brand strategy working?
 - 2. How is your current brand strategy working?
 - 3. How is your current brrand strategy working?
 - 4. How is your current brand stretagy working?

Question Type : MCQ
Question ID : 264330134846
Option 1 ID : 264330528319
Option 2 ID : 264330528320
Option 3 ID : 264330528322
Option 4 ID : 264330528321
Status : Answered
Chosen Option : 2

Q.18 The statement below has been given with bracketed text. Select the option with correct idiom for the bracketed text.

That new budget bill was (totally useless) before it hit the Senate.

- Ans**
- 1. cold feet
 - 2. a fuel to the fire
 - 3. a dead duck
 - 4. a cry wolf

Question Type : **MCQ**
Question ID : **264330136260**
Option 1 ID : **264330533823**
Option 2 ID : **264330533824**
Option 3 ID : **264330533826**
Option 4 ID : **264330533825**
Status : **Answered**
Chosen Option : **3**

Q.19 Fill in the blank with the most appropriate option.

Today is cloudy, but yesterday the sun _____.

- Ans**
- 1. shown
 - 2. burned
 - 3. flamed
 - 4. shone

Question Type : **MCQ**
Question ID : **264330136264**
Option 1 ID : **264330533839**
Option 2 ID : **264330533841**
Option 3 ID : **264330533840**
Option 4 ID : **264330533842**
Status : **Answered**
Chosen Option : **4**

Q.20 Identify the segment that contains a grammatical error. If there is no error, select 'No error'.

The Gryffindors trooped back up / to the castle, none of them talking; / it have been another long day.

- Ans**
- 1. The Gryffindors trooped back up
 - 2. it have been another long day.
 - 3. to the castle, none of them talking;
 - 4. No error

Question Type : **MCQ**
Question ID : **264330136241**
Option 1 ID : **264330533751**
Option 2 ID : **264330533753**
Option 3 ID : **264330533752**
Option 4 ID : **264330533754**
Status : **Answered**
Chosen Option : **2**

Comprehension:

In the following passage some words have been deleted. Fill in the blanks with the help of the alternatives given. Select the most appropriate option for each number.

In 700 BCE Greek poet Hesiod (1) _____ "Theogony" and "Work and Days". In these mythologies, Atlas was a Titan (2) _____ enormous strength. He along with other titans (3) _____ the gods of Mount Olympus. While the other Titans were banished to Tartarus after being defeated by the god Zeus as retribution, Atlas (4) _____ was forced to carry the earth and the sky for an eternity. In depictions of Atlas, obviously carved by human based on myths, he is shown as a stooped figure carrying the (5) _____ on his shoulders. Because of his association with the globe, maps began to be decorated with this image of Atlas.

SubQuestion No : 21

Q.21 Select the most appropriate option to fill in the blank No. 1.

- Ans
- 1. wrote
 - 2. will write
 - 3. writes
 - 4. had written

Question Type : **MCQ**

Question ID : **264330136066**

Option 1 ID : **264330533076**

Option 2 ID : **264330533078**

Option 3 ID : **264330533075**

Option 4 ID : **264330533077**

Status : **Answered**

Chosen Option : 1

Comprehension:

In the following passage some words have been deleted. Fill in the blanks with the help of the alternatives given. Select the most appropriate option for each number.

In 700 BCE Greek poet Hesiod (1) _____ "Theogony" and "Work and Days". In these mythologies, Atlas was a Titan (2) _____ enormous strength. He along with other titans (3) _____ the gods of Mount Olympus. While the other Titans were banished to Tartarus after being defeated by the god Zeus as retribution, Atlas (4) _____ was forced to carry the earth and the sky for an eternity. In depictions of Atlas, obviously carved by human based on myths, he is shown as a stooped figure carrying the (5) _____ on his shoulders. Because of his association with the globe, maps began to be decorated with this image of Atlas.

SubQuestion No : 22

Q.22 Select the most appropriate option to fill in the blank No. 2.

- Ans
- 1. at
 - 2. of
 - 3. from
 - 4. in

Question Type : **MCQ**

Question ID : **264330136067**

Option 1 ID : **264330533081**

Option 2 ID : **264330533079**

Option 3 ID : **264330533082**

Option 4 ID : **264330533080**

Status : **Answered**

Chosen Option : 2

Comprehension:

In the following passage some words have been deleted. Fill in the blanks with the help of the alternatives given. Select the most appropriate option for each number.

In 700 BCE Greek poet Hesiod (1) _____ "Theogony" and "Work and Days". In these mythologies, Atlas was a Titan (2) _____ enormous strength. He along with other titans (3) _____ the gods of Mount Olympus. While the other Titans were banished to Tartarus after being defeated by the god Zeus as retribution, Atlas (4) _____ was forced to carry the earth and the sky for an eternity. In depictions of Atlas, obviously carved by human based on myths, he is shown as a stooped figure carrying the (5) _____ on his shoulders. Because of his association with the globe, maps began to be decorated with this image of Atlas.

SubQuestion No : 23

Q.23 Select the most appropriate option to fill in the blank No. 3.

- Ans**
- 1. challenged
 - 2. corroborated
 - 3. claimed
 - 4. collaborated

Question Type : **MCQ**

Question ID : **264330136068**

Option 1 ID : **264330533085**

Option 2 ID : **264330533084**

Option 3 ID : **264330533083**

Option 4 ID : **264330533086**

Status : **Answered**

Chosen Option : **1**

Comprehension:

In the following passage some words have been deleted. Fill in the blanks with the help of the alternatives given. Select the most appropriate option for each number.

In 700 BCE Greek poet Hesiod (1) _____ "Theogony" and "Work and Days". In these mythologies, Atlas was a Titan (2) _____ enormous strength. He along with other titans (3) _____ the gods of Mount Olympus. While the other Titans were banished to Tartarus after being defeated by the god Zeus as retribution, Atlas (4) _____ was forced to carry the earth and the sky for an eternity. In depictions of Atlas, obviously carved by human based on myths, he is shown as a stooped figure carrying the (5) _____ on his shoulders. Because of his association with the globe, maps began to be decorated with this image of Atlas.

SubQuestion No : 24

Q.24 Select the most appropriate option to fill in the blank No. 4.

- Ans**
- 1. unlike
 - 2. in fact
 - 3. however
 - 4. despite

Question Type : **MCQ**

Question ID : **264330136069**

Option 1 ID : **264330533089**

Option 2 ID : **264330533088**

Option 3 ID : **264330533090**

Option 4 ID : **264330533087**

Status : **Answered**

Chosen Option : **3**

Comprehension:

In the following passage some words have been deleted. Fill in the blanks with the help of the alternatives given. Select the most appropriate option for each number.

In 700 BCE Greek poet Hesiod (1) _____ "Theogony" and "Work and Days". In these mythologies, Atlas was a Titan (2) _____ enormous strength. He along with other titans (3) _____ the gods of Mount Olympus. While the other Titans were banished to Tartarus after being defeated by the god Zeus as retribution, Atlas (4) _____ was forced to carry the earth and the sky for an eternity. In depictions of Atlas, obviously carved by human based on myths, he is shown as a stooped figure carrying the (5) _____ on his shoulders. Because of his association with the globe, maps began to be decorated with this image of Atlas.

SubQuestion No : 25

Q.25 Select the most appropriate option to fill in the blank No. 5.

- Ans**
- 1. universe
 - 2. heavens
 - 3. seas
 - 4. globe

Question Type : **MCQ**

Question ID : **264330136070**

Option 1 ID : **264330533094**

Option 2 ID : **264330533092**

Option 3 ID : **264330533093**

Option 4 ID : **264330533091**

Status : **Answered**

Chosen Option : **4**