

Multi Tasking Non Technical Staff and Havaldar CBIC and CBN Examination 2022

| | |
|----------------|--|
| Roll Number | |
| Candidate Name | |
| Venue Name | iON Digital Zone iDZ Jalalpur |
| Exam Date | 09/05/2023 |
| Exam Time | 12:00 PM - 2:00 PM |
| Subject | MTS Non Tech Havaldar CBIC and CBN Examination 2022 Extra Time |

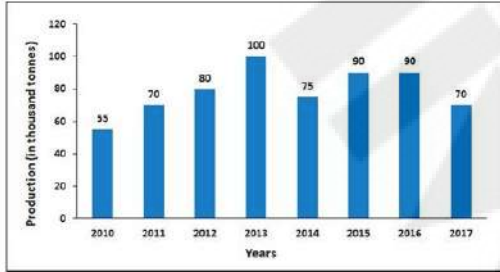
Section : Numerical and Mathematical Ability

Q.1 निम्नलिखित दंड आलेख में कुछ वर्षों में भारत में हुए गेहूँ के उत्पादन (1000 टन में) को दर्शाया गया है।

वर्ष 2013 से 2014 तक हुए गेहूँ के उत्पादन में कितने प्रतिशत की गिरावट आई?

production (in thousand tonnes)- उत्पादन (हजार टन में)

years- वर्ष



- Ans
- 1. 5%
 - 2. 25%
 - 3. 35%
 - 4. 15%

Question Type : MCQ

Question ID : 264330133812

Option 1 ID : 264330524272

Option 2 ID : 264330524271

Option 3 ID : 264330524274

Option 4 ID : 264330524273

Status : Answered

Chosen Option : 2

Q.2 एक बस 3 घंटे में 166 Km की यात्रा करती है और फिर अगले 2 घंटे की यात्रा 134 Km/hr की चाल से तय करती है। बस की औसत चाल ज्ञात कीजिए।

- Ans
- 1. 50.4 km/hr
 - 2. 43.8 km/hr
 - 3. 86.8 km/hr
 - 4. 59.4 km/hr

Question Type : MCQ
Question ID : 264330141037
Option 1 ID : 264330552497
Option 2 ID : 264330552498
Option 3 ID : 264330552496
Option 4 ID : 264330552495
Status : Answered
Chosen Option : 3

Q.3 A और B मिलकर एक कार्य को 90 दिनों में पूरा कर सकते हैं। उनकी कुशलता का अनुपात 3:5 है। तेज़ व्यक्ति कितने दिनों में कार्य को पूरा कर सकता है?

- Ans
- 1. 144 दिनों में
 - 2. 118 दिनों में
 - 3. 90 दिनों में
 - 4. 80 दिनों में

Question Type : MCQ
Question ID : 264330138428
Option 1 ID : 264330542321
Option 2 ID : 264330542320
Option 3 ID : 264330542322
Option 4 ID : 264330542319
Status : Answered
Chosen Option : 1

Q.4 $(1/2 + 3/4) \div (1/5 + 3/10)$ का मान निम्न में से _____ के बीच स्थित है।

- Ans
- 1. 2.3 और 2.6
 - 2. 2.0 और 2.2
 - 3. 2.7 और 3.0
 - 4. 1.5 और 1.8

Question Type : MCQ
Question ID : 264330133796
Option 1 ID : 264330524209
Option 2 ID : 264330524208
Option 3 ID : 264330524210
Option 4 ID : 264330524207
Status : Answered
Chosen Option : 1

Q.5 नीचे दी गई तालिका में 6 अलग-अलग स्कूलों में छात्रों की संख्या को दर्शाया गया है।

| स्कूल | छात्र |
|-------|-------|
| J | 360 |
| K | 180 |
| L | 210 |
| M | 240 |
| N | 90 |
| P | 150 |

सभी स्कूलों में छात्रों की कुल संख्या कितनी है?

- Ans
- 1. 1180
 - 2. 1020
 - 3. 1230
 - 4. 1340

Question Type : MCQ

Question ID : 264330139074

Option 1 ID : 264330544903

Option 2 ID : 264330544906

Option 3 ID : 264330544904

Option 4 ID : 264330544905

Status : Answered

Chosen Option : 3

Q.6 एक व्यक्ति ने साधारण ब्याज पर 20 प्रतिशत वार्षिक दर पर एक निश्चित राशि ऋण पर दी। 10 वर्षों में, ब्याज की राशि, ऋण पर दी गई राशि से Rs. 800 अधिक है। ऋण पर दी गई राशि कितनी है?

- Ans
- 1. Rs. 400
 - 2. Rs. 1200
 - 3. Rs. 800
 - 4. Rs. 500

Question Type : MCQ

Question ID : 264330139006

Option 1 ID : 264330544633

Option 2 ID : 264330544631

Option 3 ID : 264330544632

Option 4 ID : 264330544634

Status : Answered

Chosen Option : 3

Q.7 एक व्यक्ति ने 2 रुपये में 8 वस्तुएँ खरीदीं। 10% लाभ अर्जित करने के लिए उसे 120 वस्तुओं को किस मूल्य पर बेचना चाहिए?

- Ans
- 1. Rs. 44
 - 2. Rs. 20
 - 3. Rs. 33
 - 4. Rs. 22

Question Type : MCQ

Question ID : 264330135397

Option 1 ID : 264330530495

Option 2 ID : 264330530498

Option 3 ID : 264330530496

Option 4 ID : 264330530497

Status : Answered

Chosen Option : 3

Q.8 एक आयत की भुजाएँ 45 cm और 55 cm हैं। इस आयत का क्षेत्रफल कितना है?

- Ans
- 1. 2475 cm^2
 - 2. 2350 cm^2
 - 3. 2550 cm^2
 - 4. 2675 cm^2

Question Type : MCQ

Question ID : 264330135127

Option 1 ID : 264330529443

Option 2 ID : 264330529446

Option 3 ID : 264330529444

Option 4 ID : 264330529445

Status : Answered

Chosen Option : 1

Q.9 कपिला, विपुल से तीन गुना अधिक कुशल है और साथ मिलकर वे एक कार्य को 30 दिनों में पूरा कर सकते हैं। विपुल अकेले उस कार्य को कितने दिनों में पूरा कर सकता है?

- Ans
- 1. 30 दिन
 - 2. 120 दिन
 - 3. 90 दिन
 - 4. 60 दिन

Question Type : MCQ

Question ID : 264330135123

Option 1 ID : 264330529427

Option 2 ID : 264330529430

Option 3 ID : 264330529429

Option 4 ID : 264330529428

Status : Answered

Chosen Option : 2

Q.10 एक बेईमान दुकानदार अपने माल को क्रय मूल्य पर बेचने का दावा करता है लेकिन खोटे बाट (false weights) का उपयोग करके 10% का लाभ अर्जित करता है। वह 1 kg भार के स्थान पर किस बाट का उपयोग कर रहा है?

- Ans
- 1. 920.30 gm
 - 2. 911.12 gm
 - 3. 900 gm
 - 4. 909.09 gm

Question Type : MCQ
Question ID : 264330133802
Option 1 ID : 264330524234
Option 2 ID : 264330524233
Option 3 ID : 264330524232
Option 4 ID : 264330524231
Status : Answered
Chosen Option : 4

Q.11 एक आदमी ने 11 घंटे में 110 km की दूरी तय की। उसने कुछ दूरी पैदल चलकर 6 km/hr की चाल से तय की और शेष दूरी साइकिल से 14 km/hr की चाल से तय की। साइकिल पर तय की गई दूरी कितनी है?

- Ans
- 1. 77 km
 - 2. 99 km
 - 3. 88 km
 - 4. 66 km

Question Type : MCQ
Question ID : 264330133808
Option 1 ID : 264330524256
Option 2 ID : 264330524258
Option 3 ID : 264330524257
Option 4 ID : 264330524255
Status : Answered
Chosen Option : 1

Q.12 लोहे के दो घन जिनके किनारे 7 cm और 11 cm हैं, को पिघलाकर एक नया घन बनाया जाता है। नए घन का आयतन ज्ञात कीजिए।

- Ans
- 1. 1221 cm^3
 - 2. 1881 cm^3
 - 3. 1674 cm^3
 - 4. 1444 cm^3

Question Type : MCQ
Question ID : 264330138433
Option 1 ID : 264330542342
Option 2 ID : 264330542340
Option 3 ID : 264330542339
Option 4 ID : 264330542341
Status : Answered
Chosen Option : 3

Q.13 श्रृंखला 500, 505, 515, 530, 550 का औसत है:

- Ans
- 1. 530
 - 2. 520
 - 3. 505
 - 4. 515

Question Type : MCQ
Question ID : 264330133798
Option 1 ID : 264330524218
Option 2 ID : 264330524217
Option 3 ID : 264330524215
Option 4 ID : 264330524216
Status : Answered
Chosen Option : 2

Q.14 एक निश्चित राशि पर 60 प्रतिशत वार्षिक दर से 2 वर्षों के लिए चक्रवृद्धि ब्याज (वार्षिक रूप से संयोजित) Rs. 6240 है। समान राशि और समान ब्याज दर पर 3 वर्षों के लिए साधारण ब्याज कितना होगा?

- Ans
- 1. Rs. 6800
 - 2. Rs. 6500
 - 3. Rs. 7100
 - 4. Rs. 7200

Question Type : MCQ
Question ID : 264330137885
Option 1 ID : 264330540149
Option 2 ID : 264330540147
Option 3 ID : 264330540150
Option 4 ID : 264330540148
Status : Answered
Chosen Option : 4

Q.15 दो संख्याएँ 3:5 के अनुपात में हैं। यदि उनका महत्तम समापवर्तक (HCF) 11 है, तो दोनों संख्याओं का योग ज्ञात कीजिए।

- Ans
- 1. 53
 - 2. 33
 - 3. 88
 - 4. 55

Question Type : MCQ
Question ID : 264330138392
Option 1 ID : 264330542176
Option 2 ID : 264330542178
Option 3 ID : 264330542175
Option 4 ID : 264330542177
Status : Answered
Chosen Option : 3

Q.16 एक व्यक्ति J से K तक 55 km/hr की चाल से जाता है। वह एक निश्चित चाल से K से J तक वापस आता है। यदि उसकी औसत चाल 660/17 km/hr है, तो K से J की ओर जाते समय उसकी चाल क्या थी?

- Ans
- 1. 24 km/hr
 - 2. 42 km/hr
 - 3. 38 km/hr
 - 4. 30 km/hr

Question Type : MCQ
Question ID : 264330135046
Option 1 ID : 264330529119
Option 2 ID : 264330529122
Option 3 ID : 264330529121
Option 4 ID : 264330529120
Status : Answered
Chosen Option : 4

Q.17 एक बटुए में क्रमशः 2:5:3 के अनुपात में Rs. 1, Rs. 2 और Rs. 5 के सिक्के हैं। यदि बटुए में कुल Rs. 54 हैं, तो Rs. 5 के कितने सिक्के हैं?

- Ans
- 1. 6
 - 2. 10
 - 3. 20
 - 4. 4

Question Type : MCQ
Question ID : 264330133804
Option 1 ID : 264330524241
Option 2 ID : 264330524240
Option 3 ID : 264330524242
Option 4 ID : 264330524239
Status : Answered
Chosen Option : 1

Q.18 $3.25 \times 3.25 \times 3.25 + 0.75 \times 0.75 \times 0.75 + 29.25$ का मान क्या है?

- Ans
- 1. 80
 - 2. 64
 - 3. 75
 - 4. 84

Question Type : MCQ
Question ID : 264330139073
Option 1 ID : 264330544901
Option 2 ID : 264330544899
Option 3 ID : 264330544900
Option 4 ID : 264330544902
Status : Answered
Chosen Option : 2

Q.19 एक स्पीकर का अंकित मूल्य Rs.1000 है। एक आदमी 10% और x% के दो क्रमागत बड़े मिलने पर इसे Rs. 873 में खरीदता है। x का मान क्या है?

- Ans
- 1. 8%
 - 2. 4%
 - 3. 5%
 - 4. 3%

Question Type : MCQ

Question ID : 264330133803

Option 1 ID : 264330524237

Option 2 ID : 264330524236

Option 3 ID : 264330524235

Option 4 ID : 264330524238

Status : Answered

Chosen Option : 4

Q.20 एक विद्यालय के पुस्तकालय में विज्ञान और अंग्रेजी की किताबों का अनुपात 10:13 है। यदि विज्ञान की 400 पुस्तकें हैं और विज्ञान की पुस्तकों की माँग में वृद्धि के कारण, विद्यालय प्राधिकरण द्वारा विज्ञान की कुछ पुस्तकें शामिल की जाती हैं और अनुपात 25:26 हो जाता है। नई शामिल की गई विज्ञान की पुस्तकों की संख्या कितनी है?

- Ans
- 1. 80
 - 2. 120
 - 3. 100
 - 4. 50

Question Type : MCQ

Question ID : 264330133805

Option 1 ID : 264330524244

Option 2 ID : 264330524246

Option 3 ID : 264330524243

Option 4 ID : 264330524245

Status : Answered

Chosen Option : 3

Section : Reasoning Ability and Problem Solving

Q.1 यदि A का अर्थ 'जोड़', B का अर्थ 'गुणा', C का अर्थ 'घटाव' और D का अर्थ 'भाग' हो, तो निम्नलिखित समीकरण का मान क्या होगा?
 $10 B 2 C (15 D 5) = ?$

- Ans
- 1. 15
 - 2. 17
 - 3. 21
 - 4. 19

Question Type : MCQ

Question ID : 264330137804

Option 1 ID : 264330539823

Option 2 ID : 264330539825

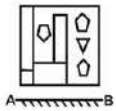
Option 3 ID : 264330539824

Option 4 ID : 264330539826

Status : Answered

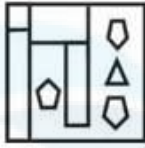
Chosen Option : 2

Q.2 यदि एक दर्पण को रेखा AB पर रखा जाए, तो दी गई विकल्प आकृतियों में से कौन-सी आकृति प्रश्न आकृति का सही प्रतिबिम्ब होगी?

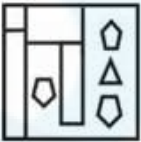


Ans

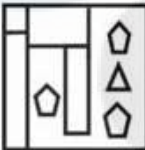
✓ 1.



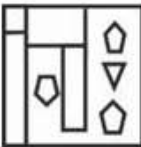
✗ 2.



✗ 3.



✗ 4.



Question Type : MCQ

Question ID : 264330138848

Option 1 ID : 264330544001

Option 2 ID : 264330544002

Option 3 ID : 264330543999

Option 4 ID : 264330544000

Status : Answered

Chosen Option : 1

Q.3 दी गई श्रृंखला में निम्नलिखित में से कौन-सा अक्षर समूह प्रश्न चिन्ह (?) के स्थान पर आएगा?
LB, NZ, PX, RV, ?

Ans ✗ 1. TS

✓ 2. TT

✗ 3. UT

✗ 4. ST

Question Type : MCQ

Question ID : 264330133506

Option 1 ID : 264330523056

Option 2 ID : 264330523055

Option 3 ID : 264330523058

Option 4 ID : 264330523057

Status : Answered

Chosen Option : 2

Q.4 उस विकल्प आकृति को चुनिए जिसमें दी गई आकृति निहित है।(घूर्णन की अनुमति नहीं है)

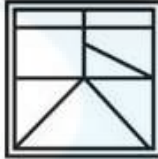


Ans

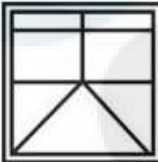
✗ 1.



✓ 2.



✗ 3.



✗ 4.



Question Type : MCQ

Question ID : 264330138847

Option 1 ID : 264330543996

Option 2 ID : 264330543998

Option 3 ID : 264330543995

Option 4 ID : 264330543997

Status : Answered

Chosen Option : 2

Q.5 दो कथन दिए गए हैं और दो निष्कर्ष I और II दिए गए हैं। कथनों को सत्य मानते हुए, चाहे वे सामान्यतः ज्ञात तथ्यों से अलग प्रतीत होते हों, निश्चय कीजिए कि कौन-सा निष्कर्ष तार्किक रूप से कथनों के अनुसार है।
कथन:

कुछ छात्र, प्यारे हैं।

सभी लड़के, प्यारे हैं।

निष्कर्ष:

I. सभी प्यारे, लड़के हैं।

II. कुछ छात्र, लड़के हैं।

Ans

1. केवल निष्कर्ष I कथनों के अनुसार है।
2. न तो निष्कर्ष I न ही II कथनों के अनुसार है।
3. दोनों निष्कर्ष I और II कथनों के अनुसार हैं।
4. केवल निष्कर्ष II कथनों के अनुसार है।

Question Type : MCQ

Question ID : 264330133516

Option 1 ID : 264330523095

Option 2 ID : 264330523098

Option 3 ID : 264330523097

Option 4 ID : 264330523096

Status : Answered

Chosen Option : 2

Q.6 सात छात्र A, B, C, D, X, Y और Z अपनी कक्षा में दक्षिण दिशा की ओर मुख करके बैठे हैं। A और D एक साथ नहीं बैठे हैं। Z, X के बाएँ से दूसरे स्थान पर बैठा है। B, Z के साथ नहीं बैठा है। X, C के दाएँ से चौथे स्थान पर है। A और B एक साथ नहीं बैठे हैं। C, D और Y के बीच में बैठा है। Y, B के बाएँ से दूसरे स्थान पर बैठे व्यक्ति के बाएँ से दूसरे स्थान पर बैठा है। छोरों पर कौन बैठे हैं?

Ans

1. C और Y
2. Z और X
3. B और D
4. A और B

Question Type : MCQ

Question ID : 264330133513

Option 1 ID : 264330523086

Option 2 ID : 264330523083

Option 3 ID : 264330523085

Option 4 ID : 264330523084

Status : Answered

Chosen Option : 3

Q.7 उस विकल्प को चुनिए जो तीसरे शब्द से ठीक उसी प्रकार संबंधित है जिस प्रकार दूसरा शब्द पहले शब्द से संबंधित है।

फ्रांसीसी : भाषा :: रेलगाड़ी : ?

- Ans
- 1. पटरियाँ
 - 2. सामान
 - 3. वाहन
 - 4. यात्रा करना

Question Type : MCQ
Question ID : 264330133507
Option 1 ID : 264330523059
Option 2 ID : 264330523062
Option 3 ID : 264330523060
Option 4 ID : 264330523061
Status : Answered
Chosen Option : 3

Q.8 प्रतीक, किरण, रोहित, सूरज और टोनी पाँच मित्र हैं जिन्होंने एक परीक्षा में अलग-अलग अंक प्राप्त किए हैं। केवल दो मित्रों ने प्रतीक और सूरज के बीच अंक प्राप्त किए हैं। किरण ने सर्वाधिक अंक प्राप्त किए हैं। टोनी ने रोहित से अधिक अंक प्राप्त किए हैं। चौथे स्थान पर सबसे अधिक अंक किसने प्राप्त किए हैं?

- Ans
- 1. रोहित
 - 2. सूरज
 - 3. किरण
 - 4. प्रतीक

Question Type : MCQ
Question ID : 264330133514
Option 1 ID : 264330523089
Option 2 ID : 264330523090
Option 3 ID : 264330523088
Option 4 ID : 264330523087
Status : Answered
Chosen Option : 4

Q.9 6 लोगों के एक परिवार में अनिल, पल्लवी, नवीन, सुमंत, प्रियंका, हरिका दो पंक्तियों में बराबर संख्या में एक दूसरे की ओर मुख करके बैठे हैं। नवीन और प्रियंका पड़ोसी हैं जो उत्तर की ओर मुख करके बैठे हैं। हरिका, नवीन के विकर्णतः सम्मुख बैठी है। पल्लवी, हरिका के बायीं ओर बैठी है। प्रियंका, अनिल के सम्मुख बैठी है। निम्नलिखित में से कौनसे तीन व्यक्ति, दोनों पंक्तियों में से किसी एक पंक्ति में बैठे हैं?

- Ans
- 1. हरिका, प्रियंका, नवीन
 - 2. पल्लवी, अनिल, हरिका
 - 3. पल्लवी, नवीन, प्रियंका
 - 4. हरिका, सुमंत, पल्लवी

Question Type : MCQ
Question ID : 264330133512
Option 1 ID : 264330523079
Option 2 ID : 264330523082
Option 3 ID : 264330523081
Option 4 ID : 264330523080
Status : Answered
Chosen Option : 2

Q.10 एक लिखित कूट भाषा में, 'FLED' को '4, 10, 3, 2' लिखा जाता है, 'GOAT' को '5, 13, 25, 18' लिखा जाता है।
उस कूट भाषा में 'HECK' को कैसे लिखा जाएगा ?

- Ans 1. 6, 3, 1, 9
 2. 8, 3, 1, 9
 3. 6, 3, 3, 9
 4. 6, 3, 1, 11

Question Type : MCQ

Question ID : 264330138834

Option 1 ID : 264330543945

Option 2 ID : 264330543946


Option 3 ID : 264330543943

Option 4 ID : 264330543944

Status : Answered

Chosen Option : 1

Q.11 उस विकल्प आकृति को चुनिए जो नीचे दी गई आकृति में पैटर्न को पूरा करने के लिए प्रश्न चिन्ह(?) के स्थान पर आएगी। (घूर्णन की अनुमति नहीं है)

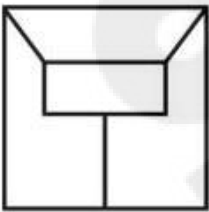


Ans

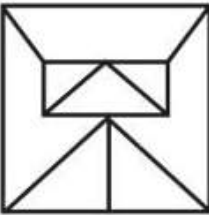
✓ 1.



✗ 2.



✗ 3.



✗ 4.



Question Type : MCQ

Question ID : 264330133525

Option 1 ID : 264330523134

Option 2 ID : 264330523131

Option 3 ID : 264330523132

Option 4 ID : 264330523133

Status : Answered

Chosen Option : 1

Q.12 दो कथन दिए गए हैं और दो निष्कर्ष I और II दिए गए हैं। कथनों को सत्य मानते हुए, चाहे वे सामान्यतः ज्ञात तथ्यों से अलग प्रतीत होते हों, निश्चय कीजिए कि कौन-सा निष्कर्ष तार्किक रूप से कथनों के अनुसार है।
कथन:

कुछ तोते, पक्षी हैं।

सभी पक्षी, जानवर हैं।

निष्कर्ष:

I. सभी जानवर, पक्षी हैं।

II. कुछ जानवर, तोते हैं।

- Ans
- 1. न तो निष्कर्ष I न ही II कथनों के अनुसार है।
 - 2. केवल निष्कर्ष II कथनों के अनुसार है।
 - 3. दोनों निष्कर्ष I और II कथनों के अनुसार हैं।
 - 4. केवल निष्कर्ष I कथनों के अनुसार है।

Question Type : MCQ

Question ID : 264330133515

Option 1 ID : 264330523094

Option 2 ID : 264330523092

Option 3 ID : 264330523093

Option 4 ID : 264330523091

Status : Answered

Chosen Option : 2

Q.13 उस विकल्प को चुनिए जो तीसरे शब्द से ठीक उसी प्रकार संबंधित है जिस प्रकार दूसरा शब्द पहले शब्द से संबंधित है।
बांग्लादेश : ढाका :: न्यूजीलैंड : ?

- Ans
- 1. सिडनी
 - 2. कैनबरा
 - 3. वेलिंग्टन
 - 4. मेलबोर्न

Question Type : MCQ

Question ID : 264330133508

Option 1 ID : 264330523064

Option 2 ID : 264330523065

Option 3 ID : 264330523063

Option 4 ID : 264330523066

Status : Answered

Chosen Option : 3

Q.14 दी गई श्रृंखला में निम्नलिखित में से कौन-सी संख्या प्रश्न चिन्ह (?) के स्थान पर आएगी?
87, 168, 217, 242, 251, ?

- Ans
- 1. 253
 - 2. 255
 - 3. 252
 - 4. 254

Question Type : MCQ
Question ID : 264330133518
Option 1 ID : 264330523104
Option 2 ID : 264330523106
Option 3 ID : 264330523103
Option 4 ID : 264330523105
Status : Answered
Chosen Option : 3

Q.15 उस विकल्प को चुनिए जो तीसरे शब्द से ठीक उसी प्रकार संबंधित है जिस प्रकार दूसरा शब्द पहले शब्द से संबंधित है।
दाब: पास्कल :: ऊर्जा : ?

- Ans
- 1. जूल
 - 2. लीटर
 - 3. न्यूटन
 - 4. मीटर

Question Type : MCQ
Question ID : 264330134933
Option 1 ID : 264330528668
Option 2 ID : 264330528669
Option 3 ID : 264330528670
Option 4 ID : 264330528667
Status : Answered
Chosen Option : 1

Q.16 उस समुच्चय को चुनिए जिसमें संख्याएँ उसी प्रकार संबंधित हैं जिस प्रकार निम्नलिखित समुच्चयों की संख्याएँ संबंधित हैं। (ध्यान दें: संख्याओं को उनके घटक अंकों में अलग-अलग किए बिना, पूर्ण संख्याओं पर संक्रियाएँ की जानी चाहिए। उदाहरण 13 - 13 पर संक्रियाएँ जैसे 13 को जोड़ना / घटाना / गुणा करना आदि किया जा सकता है। 13 को 1 एवं 3 में अलग करने की और फिर 1 एवं 3 पर गणितीय संक्रियाएँ करने की अनुमति नहीं है)
(4, 3, 49)
(5, 4, 81)

- Ans
- 1. (5, 4, 100)
 - 2. (6, 5, 121)
 - 3. (6, 2, 36)
 - 4. (7, 5, 121)

Question Type : MCQ
Question ID : 264330133520
Option 1 ID : 264330523111
Option 2 ID : 264330523112
Option 3 ID : 264330523113
Option 4 ID : 264330523114
Status : Answered
Chosen Option : 2

Q.17 नीचे दिए गए समीकरण में कौन-से गणितीय चिन्हों को आपस में बदला जाना चाहिए जिससे यह समीकरण गणितीय रूप से सही हो जाएगा?

$$10 + 54 \div 9 - 4 \times 60 = 116$$

- Ans
- 1. + और -
 - 2. \div और \times
 - 3. - और \times
 - 4. + और \times

Question Type : MCQ

Question ID : 264330133521

Option 1 ID : 264330523117

Option 2 ID : 264330523116

Option 3 ID : 264330523118

Option 4 ID : 264330523115

Status : Answered

Chosen Option : 4

Q.18 एक निश्चित कूट भाषा में, 'MODERN' को 'KOBALJ' लिखा जाता है। उस कूट भाषा में 'PEOPLE' को कैसे लिखा जाएगा?

- Ans
- 1. BINLBN
 - 2. BIMLBN
 - 3. BIMLCM
 - 4. BIMLBM

Question Type : MCQ

Question ID : 264330137521

Option 1 ID : 264330538694

Option 2 ID : 264330538693

Option 3 ID : 264330538691

Option 4 ID : 264330538692

Status : Answered

Chosen Option : 4

Q.19 एक निश्चित कूट भाषा में, 'KHIE' को '9673' लिखा जाता है और 'PEJ' को '1438' लिखा जाता है। उस भाषा में 'DFJC' को कैसे लिखा जाएगा?

- Ans
- 1. 2841
 - 2. 2418
 - 3. 2185
 - 4. 2481

Question Type : MCQ

Question ID : 264330134939

Option 1 ID : 264330528691

Option 2 ID : 264330528693

Option 3 ID : 264330528692

Option 4 ID : 264330528694

Status : Answered

Chosen Option : 4

Q.20 उस विकल्प को चुनिए जो तीसरी संख्या से ठीक उसी तरह संबंधित है जिस तरह दूसरी संख्या पहली संख्या से संबंधित है।

25 : 125 :: 40 : ?

- Ans
- 1. 160
 - 2. 200
 - 3. 130
 - 4. 190

Question Type : MCQ

Question ID : 264330138822

Option 1 ID : 264330543895

Option 2 ID : 264330543897

Option 3 ID : 264330543898

Option 4 ID : 264330543896

Status : Answered

Chosen Option : 2

Section : General Awareness

Q.1 संगम राज्य 'पांड्य' की राजधानी _____ थी।

- Ans
- 1. कावेरीपट्टनम
 - 2. नागपट्टिनम
 - 3. थिरुवरुर
 - 4. मदुरै

Question Type : MCQ

Question ID : 264330138917

Option 1 ID : 264330544275

Option 2 ID : 264330544277

Option 3 ID : 264330544278

Option 4 ID : 264330544276

Status : Answered

Chosen Option : 4

Q.2 किस ब्रिटिश अधिकारी के 'गोली चलाने' के आदेश के परिणामस्वरूप जलियांवाला बाग हत्याकांड हुआ था?

- Ans
- 1. वारेन हेस्टिंग्स
 - 2. चार्ल्स मेटकॉफ
 - 3. चार्ल्स कार्नवालिस
 - 4. रेजिनाल्ड डायर

Question Type : MCQ

Question ID : 264330137909

Option 1 ID : 264330540245

Option 2 ID : 264330540246

Option 3 ID : 264330540243

Option 4 ID : 264330540244

Status : Answered

Chosen Option : 4

Q.3 निम्नलिखित में से कौन भारत रत्न से सम्मानित होने वाले पहले संगीतकार थे?

Ans ✓ 1. एम.एस. सुब्बुलक्ष्मी (M.S. Subbulakshmi)

✗ 2.

सेम्मनगुडी श्रीनिवास अय्यर (Semmangudi Srinivasa Iyer)

✗ 3. गिरिजा देवी (Girija Devi)

✗ 4. सिद्धेश्वरी देवी (Siddheswari Devi)

Question Type : MCQ

Question ID : 264330133999

Option 1 ID : 264330525022

Option 2 ID : 264330525019

Option 3 ID : 264330525020

Option 4 ID : 264330525021

Status : Answered

Chosen Option : 1

Q.4 राजनीति पर ग्रंथ "अर्थशास्त्र (Arthashastra)" किसने लिखा था?

Ans ✗ 1. रघुवंशम

✗ 2. कादंबरी

✓ 3. कौटिल्य

✗ 4. कालिदास

Question Type : MCQ

Question ID : 264330137703

Option 1 ID : 264330539421

Option 2 ID : 264330539422

Option 3 ID : 264330539420

Option 4 ID : 264330539419

Status : Answered

Chosen Option : 3

Q.5 _____ ने जुलाई 2022 में विश्व खेलों 2022 की मेजबानी की।

Ans ✗ 1. इटली

✗ 2. जापान

✗ 3. जर्मनी

✓ 4. संयुक्त राज्य अमेरिका

Question Type : MCQ

Question ID : 264330134003

Option 1 ID : 264330525038

Option 2 ID : 264330525035

Option 3 ID : 264330525037

Option 4 ID : 264330525036

Status : Not Answered

Chosen Option : --

Q.6 भारत में, सड़कों को उनकी क्षमता के अनुसार _____ वर्गों में वर्गीकृत किया गया है।

- Ans
- 1. तीन
 - 2. सात
 - 3. छः
 - 4. चार

Question Type : MCQ
Question ID : 264330137695
Option 1 ID : 264330539389
Option 2 ID : 264330539390
Option 3 ID : 264330539388
Option 4 ID : 264330539387
Status : Answered
Chosen Option : 4

Q.7 निम्नलिखित में से क्या पश्चिमी घाट का एक हिस्सा नहीं है?

- Ans
- 1. अन्नामलाई पहाड़ियाँ (Anaimalai Hills)
 - 2. नीलगिरी पहाड़ियाँ (Nilgiri Hills)
 - 3. महादेव पहाड़ियाँ (Mahadeo Hills)
 - 4. इलायची पहाड़ियाँ (Cardamom Hills)

Question Type : MCQ
Question ID : 264330133991
Option 1 ID : 264330524990
Option 2 ID : 264330524988
Option 3 ID : 264330524989
Option 4 ID : 264330524987
Status : Answered
Chosen Option : 3

Q.8 जिस प्रतिबिंब को पर्दे पर प्राप्त नहीं किया जा सकता है, _____ कहलाता है।

- Ans
- 1. वास्तविक प्रतिबिंब
 - 2. वेक्टर प्रतिबिंब
 - 3. आभासी प्रतिबिंब
 - 4. वर्णक्रमीय प्रतिबिंब

Question Type : MCQ
Question ID : 264330138887
Option 1 ID : 264330544155
Option 2 ID : 264330544158
Option 3 ID : 264330544156
Option 4 ID : 264330544157
Status : Answered
Chosen Option : 2

Q.9 फीफा विश्व कप 2022 की मेजबानी किस देश ने की थी?

- Ans
- 1. फ्रांस
 - 2. जापान
 - 3. जर्मनी
 - 4. कतर

Question Type : MCQ
Question ID : 264330138875
Option 1 ID : 264330544108
Option 2 ID : 264330544110
Option 3 ID : 264330544107
Option 4 ID : 264330544109
Status : Answered
Chosen Option : 4

Q.10 बांग्लादेश निम्नलिखित में से किस भारतीय राज्य के साथ अपनी सीमा साझा नहीं करता है?

- Ans
- 1. सिक्किम
 - 2. पश्चिम बंगाल
 - 3. असम
 - 4. त्रिपुरा

Question Type : MCQ
Question ID : 264330137048
Option 1 ID : 264330536837
Option 2 ID : 264330536835
Option 3 ID : 264330536836
Option 4 ID : 264330536838
Status : Answered
Chosen Option : 1

Q.11 बौद्ध वास्तुकला के संदर्भ में, चैत्य का क्या अर्थ है?

- Ans
- 1. मंदिर का प्रवेश द्वार
 - 2. निवास/मठ
 - 3. बुद्ध से संबंधित अवशेष
 - 4. प्रार्थना कक्ष

Question Type : MCQ
Question ID : 264330137898
Option 1 ID : 264330540202
Option 2 ID : 264330540199
Option 3 ID : 264330540200
Option 4 ID : 264330540201
Status : Answered
Chosen Option : 3

Q.12 अक्टूबर 2022 की स्थिति के अनुसार, इंदिरा गांधी राष्ट्रीय वृद्धावस्था पेंशन योजना (IGNOAPS) के अंतर्गत, 60 वर्ष या उससे अधिक आयु के BPL (गरीबी रेखा से नीचे जीवनयापन करने वाले) व्यक्ति 79 वर्ष की आयु तक _____ की मासिक पेंशन के हकदार हैं।

- Ans
- 1. Rs 250
 - 2. Rs 400
 - 3. Rs 200
 - 4. Rs 350

Question Type : MCQ
Question ID : 264330137723
Option 1 ID : 264330539502
Option 2 ID : 264330539501
Option 3 ID : 264330539500
Option 4 ID : 264330539499
Status : Answered
Chosen Option : 2

Q.13 GST बिल में कितने टैक्स स्लैब वर्गीकृत हैं?

- Ans
- 1. तीन
 - 2. सात
 - 3. चार
 - 4. आठ

Question Type : MCQ
Question ID : 264330137895
Option 1 ID : 264330540190
Option 2 ID : 264330540188
Option 3 ID : 264330540187
Option 4 ID : 264330540189
Status : Answered
Chosen Option : 3

Q.14 झिझिया (Jhijhiya) बिहार का एक प्रसिद्ध लोक नृत्य है जिसे पौराणिक शहर मिथिला (Mithila) में किया जाता है। यह नृत्य केवल महिलाओं द्वारा किया जाता है। संपूर्ण नवरात्रि में 'नौ रातों' का यह त्योहार देवी _____ के तीन रूपों की पूजा करने के लिए मनाया जाता है।

- Ans
- 1. सीता, काली और पार्वती
 - 2. काली, लक्ष्मी, दुर्गा
 - 3. सीता, दुर्गा, लक्ष्मी
 - 4. लक्ष्मी, पार्वती और सरस्वती

Question Type : MCQ
Question ID : 264330133983
Option 1 ID : 264330524955
Option 2 ID : 264330524956
Option 3 ID : 264330524958
Option 4 ID : 264330524957
Status : Answered
Chosen Option : 2

Q.15 भारतीय राष्ट्रीय कांग्रेस ने सन् 1929 में _____ की अध्यक्षता में पूर्ण स्वराज प्रस्ताव पारित किया था।

- Ans
- 1. सरदार वल्लभभाई पटेल
 - 2. महात्मा गांधी
 - 3. जवाहर लाल नेहरू
 - 4. लाला लाजपत राय

Question Type : MCQ
Question ID : 264330138920
Option 1 ID : 264330544290
Option 2 ID : 264330544288
Option 3 ID : 264330544289
Option 4 ID : 264330544287
Status : Answered
Chosen Option : 3

Q.16 अक्टूबर 2022 की स्थिति के अनुसार, भारतीय संविधान में कितने मौलिक कर्तव्य हैं?

- Ans
- 1. 11
 - 2. 12
 - 3. 13
 - 4. 10

Question Type : MCQ
Question ID : 264330134001
Option 1 ID : 264330525028
Option 2 ID : 264330525029
Option 3 ID : 264330525030
Option 4 ID : 264330525027
Status : Answered
Chosen Option : 1

Q.17 "MUDRA योजना" में, 'M' का क्या अर्थ है?

- Ans
- 1. मैक्रो (Macro)
 - 2. मनी (Money)
 - 3. माइक्रो (Micro)
 - 4. मल्टी (Multi)

Question Type : MCQ
Question ID : 264330137710
Option 1 ID : 264330539447
Option 2 ID : 264330539449
Option 3 ID : 264330539448
Option 4 ID : 264330539450
Status : Answered
Chosen Option : 3

Q.18 किसी व्यक्ति को भारत के उपराष्ट्रपति बनने के योग्य होने के लिए, उसकी आयु न्यूनतम _____ वर्ष होनी चाहिए।

- Ans
- 1. 35
 - 2. 30
 - 3. 40
 - 4. 25

Question Type : MCQ
Question ID : 264330134002
Option 1 ID : 264330525033
Option 2 ID : 264330525031
Option 3 ID : 264330525032
Option 4 ID : 264330525034
Status : Answered
Chosen Option : 1

Q.19 निम्नलिखित में से कौन-सी परत पृथ्वी की वायुमंडलीय परतों में से एक नहीं है?

- Ans
- 1. मध्यमंडल
 - 2. समतापमंडल
 - 3. बाह्य वायुमंडल
 - 4. अन्तःमंडल

Question Type : MCQ
Question ID : 264330138886
Option 1 ID : 264330544153
Option 2 ID : 264330544151
Option 3 ID : 264330544154
Option 4 ID : 264330544152
Status : Answered
Chosen Option : 4

Q.20 पंडित बिरजू महाराज को निम्नलिखित में से किस पुरस्कार से सम्मानित किया गया था?

- Ans
- 1. पद्म श्री
 - 2. पद्म विभूषण
 - 3. पद्म भूषण
 - 4. शौर्यचक्र

Question Type : MCQ
Question ID : 264330137705
Option 1 ID : 264330539428
Option 2 ID : 264330539427
Option 3 ID : 264330539429
Option 4 ID : 264330539430
Status : Answered
Chosen Option : 3

Q.21 भ्रूण की वह अवस्था जिसमें सभी शारीरिक भागों की पहचान हो सके _____ कहलाता है।

- Ans
- 1. युग्मनज
 - 2. गर्भाशय
 - 3. गर्भ
 - 4. डिंबोत्सर्जन

Question Type : MCQ
Question ID : 264330138885
Option 1 ID : 264330544150
Option 2 ID : 264330544147
Option 3 ID : 264330544149
Option 4 ID : 264330544148
Status : Answered
Chosen Option : 4

Q.22 _____ ने जैव विकास की अवधारणा को अपनी पुस्तक "दि ओरिजिन ऑफ स्पीशीज़ (The origin of species)" में दिया।

- Ans
- 1. एडवर्ड जेनर (Edward Jenner)
 - 2. अरस्तू (Aristotle)
 - 3. चार्ल्स डार्विन (Charles Darwin)
 - 4. रॉबर्ट ब्राउन (Robert Brown)

Question Type : MCQ
Question ID : 264330133987
Option 1 ID : 264330524974
Option 2 ID : 264330524972
Option 3 ID : 264330524973
Option 4 ID : 264330524971
Status : Answered
Chosen Option : 3

Q.23 केंद्र सरकार ने हाल ही में युवा 2.0 योजना (YUVA 2.0 Scheme) शुरू की है। यह _____ वर्ष से कम आयु के युवा और नवोदित लेखकों के लिए एक प्रशिक्षण एवं परामर्श कार्यक्रम (mentoring programme) है।

- Ans
- 1. 40
 - 2. 35
 - 3. 45
 - 4. 30

Question Type : MCQ
Question ID : 264330133981
Option 1 ID : 264330524947
Option 2 ID : 264330524950
Option 3 ID : 264330524949
Option 4 ID : 264330524948
Status : Answered
Chosen Option : 1

Q.24 गुर्जर-प्रतिहार, राष्ट्रकूट और पाल बंशों के शासक _____ के ऊपर नियंत्रण को लेकर सदियों तक आपस में लड़ते रहे।

- Ans
- 1. कन्नौज
 - 2. पाटलिपुत्र
 - 3. जयपुर
 - 4. उज्जैन

Question Type : MCQ

Question ID : 264330138893

Option 1 ID : 264330544182

Option 2 ID : 264330544180

Option 3 ID : 264330544181

Option 4 ID : 264330544179

Status : Answered

Chosen Option : 1

Q.25 निम्नलिखित में से कौन-सी देवी/देवता उड़ीसा के पुरी रथ यात्रा उत्सव से संबंधित नहीं है?

- Ans
- 1. भगवान बलभद्र
 - 2. भगवान शिव
 - 3. भगवान जगन्नाथ
 - 4. देवी सुभद्रा

Question Type : MCQ

Question ID : 264330138897

Option 1 ID : 264330544198

Option 2 ID : 264330544196

Option 3 ID : 264330544195

Option 4 ID : 264330544197

Status : Answered

Chosen Option : 2

Section : English Language and Comprehension

Q.1 Select the most appropriate option to substitute the bracketed segment in the given sentence. If there is no need to substitute it, select 'no substitution required'.
(I wouldn't cross him if I was you, not) if you value your life.

- Ans
- 1. I wouldn't has crossed him if I were you, not
 - 2. I wouldn't cross him if I were you, not
 - 3. No substitution required
 - 4. I wouldn't had crossed him if I was you, not

Question Type : MCQ

Question ID : 264330136061

Option 1 ID : 264330533059

Option 2 ID : 264330533061

Option 3 ID : 264330533062

Option 4 ID : 264330533060

Status : Answered

Chosen Option : 2

Q.2 In the following question, out of the given four alternatives, select the alternative which best expresses the meaning of the Idiom/Phrase.
Loaves and fishes

- Ans 1. To bury the dead
 2. Material gain
 3. Accidentally kill someone
 4. To let bygones be bygones

Question Type : **MCQ**
Question ID : **264330134471**
Option 1 ID : **264330526851**
Option 2 ID : **264330526853**
Option 3 ID : **264330526852**
Option 4 ID : **264330526854**
Status : **Answered**
Chosen Option : **4**

Q.3 Find the part of the given sentence that has an error in it. If there is no error, choose 'No error'.
When I have arrived at the theatre, the show had already started.

- Ans 1. No error
 2. When I have arrived at
 3. had already started
 4. the theatre, the show

Question Type : **MCQ**
Question ID : **264330134452**
Option 1 ID : **264330526782**
Option 2 ID : **264330526779**
Option 3 ID : **264330526781**
Option 4 ID : **264330526780**
Status : **Answered**
Chosen Option : **2**

Q.4 A sentence has been given with a blank to be filled with an appropriate option. Choose the correct alternative.
John rushed to the spot and saw his wife and kid _____ on the road.

- Ans 1. lain
 2. laying
 3. lying
 4. lie

Question Type : **MCQ**
Question ID : **264330141163**
Option 1 ID : **264330552995**
Option 2 ID : **264330552998**
Option 3 ID : **264330552996**
Option 4 ID : **264330552997**
Status : **Answered**
Chosen Option : **1**

Q.5 Improve the underlined part of the sentence. Choose 'No improvement' as an answer if the sentence is grammatically correct.
The idea was to delivered governmental services at the citizen's doorstep.

- Ans**
- 1. deliver government services
 - 2. No improvement
 - 3. delivers governmental servicing
 - 4. delivering government serviced

Question Type : **MCQ**
Question ID : **264330134455**
Option 1 ID : **264330526791**
Option 2 ID : **264330526794**
Option 3 ID : **264330526793**
Option 4 ID : **264330526792**
Status : **Answered**
Chosen Option : **1**

Q.6 Select the appropriate synonym for the underlined word.
The child develops a deadly disease.

- Ans**
- 1. kind
 - 2. fatal
 - 3. huge
 - 4. corrective

Question Type : **MCQ**
Question ID : **264330134466**
Option 1 ID : **264330526833**
Option 2 ID : **264330526832**
Option 3 ID : **264330526834**
Option 4 ID : **264330526831**
Status : **Answered**
Chosen Option : **2**

Q.7 Choose the word that means the same as the given word.

Calamity

- Ans**
- 1. Debar
 - 2. Embark
 - 3. Debauchery
 - 4. Debacle

Question Type : **MCQ**
Question ID : **264330136890**
Option 1 ID : **264330536244**
Option 2 ID : **264330536243**
Option 3 ID : **264330536246**
Option 4 ID : **264330536245**
Status : **Answered**
Chosen Option : **4**

Q.8 Choose the word that can substitute the given group of words.
To enter unlawfully upon the land of another

- Ans
- 1. Culprit
 - 2. Transgression
 - 3. Trespass
 - 4. Delinquent

Question Type : MCQ
Question ID : 264330134465
Option 1 ID : 264330526828
Option 2 ID : 264330526830
Option 3 ID : 264330526827
Option 4 ID : 264330526829
Status : Answered
Chosen Option : 3

Q.9 Improve the underlined part of the sentence. Choose 'No improvement' as an answer if the sentence is grammatically correct.
She was bored because she didn't have any work to does.

- Ans
- 1. work to do
 - 2. No improvement
 - 3. works to do
 - 4. work to done

Question Type : MCQ
Question ID : 264330134375
Option 1 ID : 264330526484
Option 2 ID : 264330526486
Option 3 ID : 264330526483
Option 4 ID : 264330526485
Status : Answered
Chosen Option : 1

Q.10 Select the most appropriate option to fill in the blank.
Today I received a letter. Finally, I _____ back from him.

- Ans
- 1. hard
 - 2. horde
 - 3. herd
 - 4. heard

Question Type : MCQ
Question ID : 264330136871
Option 1 ID : 264330536173
Option 2 ID : 264330536172
Option 3 ID : 264330536174
Option 4 ID : 264330536171
Status : Answered
Chosen Option : 4

Q.11 Select the most appropriate option to fill in the blank.
Women _____ their male relatives to the battlefield for the purpose of tending the wounded and carrying away the dead.

- Ans
- 1. forsake
 - 2. signify
 - 3. accompany
 - 4. justify

Question Type : **MCQ**
Question ID : **264330134475**
Option 1 ID : **264330526867**
Option 2 ID : **264330526868**
Option 3 ID : **264330526869**
Option 4 ID : **264330526870**
Status : **Answered**
Chosen Option : **3**

Q.12 A sentence has been given with a blank to be filled with an appropriate option. Choose the correct alternative.
The water from the river was _____ cold for me to drink directly.

- Ans
- 1. many
 - 2. most
 - 3. too
 - 4. very

Question Type : **MCQ**
Question ID : **264330134456**
Option 1 ID : **264330526796**
Option 2 ID : **264330526798**
Option 3 ID : **264330526795**
Option 4 ID : **264330526797**
Status : **Answered**
Chosen Option : **3**

Q.13 Find the part of the given sentence that has an error in it. If there is no error, choose 'No error'.
David said that statistics are his favourite subject.

- Ans
- 1. No error
 - 2. David said that
 - 3. favourite subject
 - 4. statistics are his

Question Type : **MCQ**
Question ID : **264330134797**
Option 1 ID : **264330528134**
Option 2 ID : **264330528131**
Option 3 ID : **264330528133**
Option 4 ID : **264330528132**
Status : **Answered**
Chosen Option : **4**

Q.14 Choose the sentence with no spelling error.

- Ans
- 1. I can't stop the tissue from repaying.
 - 2. I can't stop the tissue from repairing.
 - 3. I can't stop the tissue from repairing.
 - 4. I can't stop the tissue from reparing.

Question Type : **MCQ**
Question ID : **264330136870**
Option 1 ID : **264330536170**
Option 2 ID : **264330536167**
Option 3 ID : **264330536169**
Option 4 ID : **264330536168**
Status : **Answered**
Chosen Option : **3**

Q.15 In the following question, out of the given four alternatives, select the alternative which best expresses the meaning of the Idiom/Phrase.
Bell the cat

- Ans
- 1. To do a dangerous task
 - 2. To train company's employees
 - 3. To estimate the risks involved
 - 4. To reveal confidential information

Question Type : **MCQ**
Question ID : **264330136841**
Option 1 ID : **264330536058**
Option 2 ID : **264330536056**
Option 3 ID : **264330536055**
Option 4 ID : **264330536057**
Status : **Answered**
Chosen Option : **1**

Q.16 Select the appropriate antonym for the underlined word.
Richard himself came up to persuade David to agree to their plan.

- Ans
- 1. coax
 - 2. lure
 - 3. prompt
 - 4. deter

Question Type : **MCQ**
Question ID : **264330134469**
Option 1 ID : **264330526845**
Option 2 ID : **264330526843**
Option 3 ID : **264330526844**
Option 4 ID : **264330526846**
Status : **Answered**
Chosen Option : **4**

Q.17 Select the most appropriate antonym of the given word.

Rare

- Ans
- 1. Extraordinary
 - 2. Latent
 - 3. Familiar
 - 4. Clarify

Question Type : MCQ
Question ID : 264330136257
Option 1 ID : 264330533811
Option 2 ID : 264330533812
Option 3 ID : 264330533813
Option 4 ID : 264330533814
Status : Answered
Chosen Option : 3

Q.18 Identify the segment that contains a grammatical error. If there is no error, select 'No error'.

Using a loofah with a hydrating / shower gel each day also ensures / you'll have the most smoothest skin.

- Ans
- 1. shower gel each day also ensures
 - 2. you'll have the most smoothest skin.
 - 3. Using a loofah with a hydrating
 - 4. No error

Question Type : MCQ
Question ID : 264330136058
Option 1 ID : 264330533048
Option 2 ID : 264330533049
Option 3 ID : 264330533047
Option 4 ID : 264330533050
Status : Answered
Chosen Option : 2

Q.19 Choose the word that can substitute the given group of words.

Experiences that are very unpleasant or difficult

- Ans
- 1. Knack
 - 2. Ordeal
 - 3. Strident
 - 4. Pitfall

Question Type : MCQ
Question ID : 264330136835
Option 1 ID : 264330536032
Option 2 ID : 264330536034
Option 3 ID : 264330536031
Option 4 ID : 264330536033
Status : Answered
Chosen Option : 4

Q.20 Choose the incorrectly spelt word.

- Ans 1. Critical
 2. Loudly
 3. Mastery
 4. Lattar

Question Type : MCQ

Question ID : 264330134472

Option 1 ID : 264330526855

Option 2 ID : 264330526856

Option 3 ID : 264330526858

Option 4 ID : 264330526857

Status : Answered

Chosen Option : 4

Comprehension:

In the following passage some words have been deleted. Fill in the blanks with the help of the alternatives given. Select the most appropriate option for each number.

Dinner in the Great Hall that night (1) _____ a pleasant experience for Sunny. The (2) _____ about his shouting match with Umbridge had (3) _____ exceptionally fast even (4) _____ standards. He heard whispers all (5) _____ as he sat eating between Rob and Ravi.

SubQuestion No : 21

Q.21 Select the most appropriate option to fill in blank number 1.

- Ans 1. was neither
 2. were not
 3. was not
 4. is not

Question Type : MCQ

Question ID : 264330136248

Option 1 ID : 264330533778

Option 2 ID : 264330533775

Option 3 ID : 264330533776

Option 4 ID : 264330533777

Status : Answered

Chosen Option : 3

Comprehension:

In the following passage some words have been deleted. Fill in the blanks with the help of the alternatives given. Select the most appropriate option for each number.

Dinner in the Great Hall that night (1) _____ a pleasant experience for Sunny. The (2) _____ about his shouting match with Umbridge had (3) _____ exceptionally fast even (4) _____ standards. He heard whispers all (5) _____ as he sat eating between Rob and Ravi.

SubQuestion No : 22

Q.22 Select the most appropriate option to fill in blank number 2.

- Ans**
- 1. account
 - 2. sequence
 - 3. news
 - 4. information

Question Type : **MCQ**
Question ID : **264330136249**
Option 1 ID : **264330533779**
Option 2 ID : **264330533781**
Option 3 ID : **264330533782**
Option 4 ID : **264330533780**
Status : **Answered**
Chosen Option : **3**

Comprehension:

In the following passage some words have been deleted. Fill in the blanks with the help of the alternatives given. Select the most appropriate option for each number.

Dinner in the Great Hall that night (1) _____ a pleasant experience for Sunny. The (2) _____ about his shouting match with Umbridge had (3) _____ exceptionally fast even (4) _____ standards. He heard whispers all (5) _____ as he sat eating between Rob and Ravi.

SubQuestion No : 23

Q.23 Select the most appropriate option to fill in blank number 3.

- Ans**
- 1. travelled
 - 2. drove
 - 3. moved
 - 4. migrated

Question Type : **MCQ**
Question ID : **264330136250**
Option 1 ID : **264330533783**
Option 2 ID : **264330533785**
Option 3 ID : **264330533784**
Option 4 ID : **264330533786**
Status : **Answered**
Chosen Option : **3**

Comprehension:

In the following passage some words have been deleted. Fill in the blanks with the help of the alternatives given. Select the most appropriate option for each number.

Dinner in the Great Hall that night (1) _____ a pleasant experience for Sunny. The (2) _____ about his shouting match with Umbridge had (3) _____ exceptionally fast even (4) _____ standards. He heard whispers all (5) _____ as he sat eating between Rob and Ravi.

SubQuestion No : 24

Q.24 Select the most appropriate option to fill in blank number 4.

- Ans**
- 1. of the institutes'
 - 2. by the institute's
 - 3. at the institute
 - 4. as the institute's

Question Type : **MCQ**
Question ID : **264330136251**
Option 1 ID : **264330533787**
Option 2 ID : **264330533789**
Option 3 ID : **264330533790**
Option 4 ID : **264330533788**
Status : **Answered**
Chosen Option : **2**

Comprehension:

In the following passage some words have been deleted. Fill in the blanks with the help of the alternatives given. Select the most appropriate option for each number.

Dinner in the Great Hall that night (1) _____ a pleasant experience for Sunny. The (2) _____ about his shouting match with Umbridge had (3) _____ exceptionally fast even (4) _____ standards. He heard whispers all (5) _____ as he sat eating between Rob and Ravi.

SubQuestion No : 25

Q.25 Select the most appropriate option to fill in blank number 5.

- Ans**
- 1. rotating him
 - 2. surrounding him
 - 3. revolving him
 - 4. around him

Question Type : **MCQ**
Question ID : **264330136252**
Option 1 ID : **264330533793**
Option 2 ID : **264330533791**
Option 3 ID : **264330533794**
Option 4 ID : **264330533792**
Status : **Answered**
Chosen Option : **2**