

Multi Tasking Non Technical Staff and Havaldar CBIC and CBN Examination 2022

Roll Number	
Candidate Name	
Venue Name	iON Digital Zone iDZ 1 GT Karnal Road
Exam Date	09/05/2023
Exam Time	3:30 PM - 5:00 PM
Subject	MTS Non Tech Havaldar CBIC and CBN Examination 2022

Section : Numerical and Mathematical Ability

Q.1 35 पुरुष एक कार्य को 15 दिनों में पूरा कर सकते हैं। 15 महिलाएँ उसी कार्य को 35 दिनों में पूरा कर सकती हैं। 9 पुरुष और 16 महिलाएँ कार्य को कितने दिनों में पूरा कर सकते हैं?

- Ans
- 1. 18 दिनों में
 - 2. 10 दिनों में
 - 3. 15 दिनों में
 - 4. 21 दिनों में

Question Type : MCQ
Question ID : 264330138449
Option 1 ID : 264330542406
Option 2 ID : 264330542404
Option 3 ID : 264330542405
Option 4 ID : 264330542403
Status : Answered
Chosen Option : 4

Q.2 मनीषा के बटुए में Rs. 8000 हैं। फिर उसने इसे 10% से बढ़ा दिया। फिर उसने इसमें से 5% खर्च कर दिया। उसके बटुए में मौजूद धनराशि का अंतिम मूल्य, प्रारंभिक धनराशि से कितने प्रतिशत अधिक होगा?

- Ans
- 1. 5%
 - 2. 5.5%
 - 3. 6%
 - 4. 4.5%

Question Type : MCQ
Question ID : 264330134085
Option 1 ID : 264330525363
Option 2 ID : 264330525365
Option 3 ID : 264330525366
Option 4 ID : 264330525364
Status : Answered
Chosen Option : 4

Q.3 तीन धनात्मक संख्याएँ 2:3:5 के अनुपात में हैं। यदि उनके वर्गों का योग 342 है, तो सबसे बड़ी संख्या ज्ञात कीजिए।

- Ans
- 1. 35
 - 2. 55
 - 3. 25
 - 4. 15

Question Type : MCQ

Question ID : 264330135401

Option 1 ID : 264330530512

Option 2 ID : 264330530514

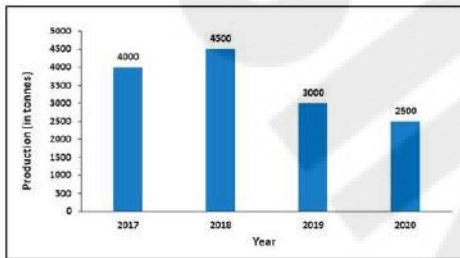
Option 3 ID : 264330530513

Option 4 ID : 264330530511

Status : Answered

Chosen Option : 3

Q.4 निम्नलिखित दंड आलेख में 4 क्रमागत वर्षों में रागी के उत्पादन को दर्शाया गया है। किस वर्ष रागी का उत्पादन न्यूनतम है?



Production (in tonnes): उत्पादन (टन में), Year: वर्ष

- Ans
- 1. 2020
 - 2. 2017
 - 3. 2018
 - 4. 2019

Question Type : MCQ

Question ID : 264330138763

Option 1 ID : 264330543662

Option 2 ID : 264330543659

Option 3 ID : 264330543660

Option 4 ID : 264330543661

Status : Answered

Chosen Option : 1

Q.5 एक व्यक्ति को उसके Rs. 400 के खाने के बिल पर 15% और फिर 35% का बट्टा मिलता है। उसे, रुपये में, कुल कितना बट्टा मिला?

- Ans
- 1. Rs. 255
 - 2. Rs. 179
 - 3. Rs. 250
 - 4. Rs. 300

Question Type : MCQ

Question ID : 264330135399

Option 1 ID : 264330530503

Option 2 ID : 264330530505

Option 3 ID : 264330530506

Option 4 ID : 264330530504

Status : Answered

Chosen Option : 2

Q.6 एक आदमी एक रुपए में 15 पेन खरीदता है। 50 प्रतिशत का लाभ अर्जित करने के लिए उसे एक रुपए में कितनी पेन बेचनी चाहिए?

- Ans
- 1. 6
 - 2. 12
 - 3. 8
 - 4. 10

Question Type : MCQ

Question ID : 264330137880

Option 1 ID : 264330540130

Option 2 ID : 264330540128

Option 3 ID : 264330540127

Option 4 ID : 264330540129

Status : Answered

Chosen Option : 4

Q.7 यदि व्याज वार्षिक रूप से संयोजित हो रहा है, तो चक्रवृद्धि व्याज पर 16 प्रतिशत वार्षिक दर से 2 वर्ष में कितनी राशि Rs. 4036.8 हो जाएगी?

- Ans
- 1. Rs. 4000
 - 2. Rs. 1500
 - 3. Rs. 3000
 - 4. Rs. 2500

Question Type : MCQ

Question ID : 264330138026

Option 1 ID : 264330540714

Option 2 ID : 264330540711

Option 3 ID : 264330540712

Option 4 ID : 264330540713

Status : Answered

Chosen Option : 3

Q.8 मोनिका ने अपने दादा-दादी से मिलने के लिए एक अविराम फ्लाइट (non-stop flight) ली। 650km की यात्रा में 1 घंटा 30 मिनट का समय लगा। खराब मौसम के कारण वापसी की यात्रा में 2 घंटे 30 मिनट का समय लगा। दोनों तरफ की यात्रा में उसकी औसत चाल क्या थी?

- Ans
- 1. 1300 kmph
 - 2. 325 kmph
 - 3. 550 kmph
 - 4. 690 kmph

Question Type : MCQ

Question ID : 264330141027

Option 1 ID : 264330552455

Option 2 ID : 264330552457

Option 3 ID : 264330552458

Option 4 ID : 264330552456

Status : Answered

Chosen Option : 2

Q.9 यदि एक घन का आयतन 5832 cm^3 है, तो इस घन का पार्श्व पृष्ठीय क्षेत्रफल कितना है?

Ans 1. 1296 cm^2

2. 384 cm^2

3. 1024 cm^2

4. 576 cm^2

Question Type : MCQ

Question ID : 264330135129

Option 1 ID : 264330529451

Option 2 ID : 264330529454

Option 3 ID : 264330529453

Option 4 ID : 264330529452

Status : Answered

Chosen Option : 1

Q.10 $0.5 + 0.55 + 0.555 + 0.5555$ का मान ज्ञात कीजिए:

Ans 1. 2.1605

2. 1.0555

3. 1.4405

4. 1.5555

Question Type : MCQ

Question ID : 264330135390

Option 1 ID : 264330530467

Option 2 ID : 264330530470

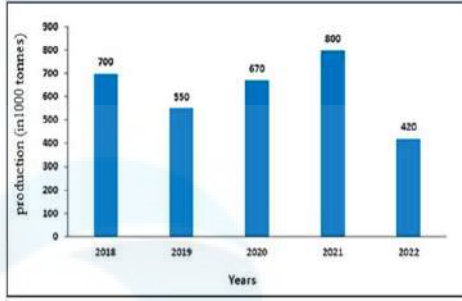
Option 3 ID : 264330530468

Option 4 ID : 264330530469

Status : Answered

Chosen Option : 1

Q.11 नीचे दिए गए बंड आलेख में वर्ष 2018 से 2022 तक एक देश द्वारा किए गए कॉफी के वार्षिक उत्पादन (1000 टन में) को दर्शाया गया है। वर्ष 2018, 2019 और 2020 में कॉफी का औसत उत्पादन (1000 टन में) कितना है?



Production (in 1000 tonnes) = उत्पादन (1000 टन में)

- Ans
- 1. 810
 - 2. 720
 - 3. 640
 - 4. 530

Question Type : MCQ

Question ID : 264330135408

Option 1 ID : 264330530542

Option 2 ID : 264330530541

Option 3 ID : 264330530540

Option 4 ID : 264330530539

Status : Answered

Chosen Option : 3

Q.12 यदि A, 24 और 6 का माध्य समानुपाती है, और B, 81 और 9 का माध्य समानुपाती है, तो $3A + B$ का मान ज्ञात कीजिए।

- Ans
- 1. 32
 - 2. 63
 - 3. 55
 - 4. 33

Question Type : MCQ

Question ID : 264330135400

Option 1 ID : 264330530509

Option 2 ID : 264330530508

Option 3 ID : 264330530507

Option 4 ID : 264330530510

Status : Answered

Chosen Option : 2

Q.13 एक व्यक्ति स्थिर जल में 14 km/hr की चाल से तैर सकता है। यदि उसे धारा के अनुकूल तैरने में लगने वाले समय से दोगुना समय धारा के प्रतिकूल तैरने में लगता है, तो धारा की चाल ज्ञात कीजिए।

- Ans
- 1. 14/5 km/hr
 - 2. 11/4 km/hr
 - 3. 11/5 km/hr
 - 4. 14/3 km/hr

Question Type : MCQ

Question ID : 264330135404

Option 1 ID : 264330530524

Option 2 ID : 264330530525

Option 3 ID : 264330530526

Option 4 ID : 264330530523

Status : Answered

Chosen Option : 4

Q.14 एक आयत की लंबाई 58 मीटर है, जबकि उसकी चौड़ाई 30 मीटर है। यदि घास की चादर बिछाने की दर Rs.20 per m^2 है, तो इस पर घास की चादर बिछाने की कुल लागत कितनी आएगी?

- Ans
- 1. Rs. 28500
 - 2. Rs. 32400
 - 3. Rs. 34800
 - 4. Rs. 17400

Question Type : MCQ

Question ID : 264330138453

Option 1 ID : 264330542420

Option 2 ID : 264330542422

Option 3 ID : 264330542419

Option 4 ID : 264330542421

Status : Answered

Chosen Option : 3

Q.15 एक वस्तु को Rs. 430 में बेचने पर, एक व्यक्ति को 14% की हानि हुई। 14% लाभ अर्जित करने के लिए उस वस्तु को किस मूल्य पर बेचा जाना चाहिए?

- Ans
- 1. Rs. 600
 - 2. Rs. 490
 - 3. Rs. 570
 - 4. Rs. 480

Question Type : MCQ

Question ID : 264330135398

Option 1 ID : 264330530502

Option 2 ID : 264330530500

Option 3 ID : 264330530501

Option 4 ID : 264330530499

Status : Answered

Chosen Option : 3

Q.16 दो वस्तुओं का औसत मूल्य Rs. 2440 है। यदि उनके मूल्यों का अनुपात 9:11 है, तो महंगी वस्तु का मूल्य ज्ञात कीजिए।

- Ans
- ✓ 1. Rs. 2684
 - ✗ 2. Rs. 2992
 - ✗ 3. Rs. 2442
 - ✗ 4. Rs. 2552

Question Type : MCQ

Question ID : 264330135393

Option 1 ID : 264330530479

Option 2 ID : 264330530481

Option 3 ID : 264330530480

Option 4 ID : 264330530482

Status : Answered

Chosen Option : 1

Q.17 उस घनाभ का कुल पृष्ठीय क्षेत्रफल ज्ञात कीजिए जिसकी लंबाई 23 cm, चौड़ाई 18 cm और ऊँचाई 35 cm है।

- Ans
- ✗ 1. 5436 cm²
 - ✗ 2. 2341 cm²
 - ✓ 3. 3698 cm²
 - ✗ 4. 6541 cm²

Question Type : MCQ

Question ID : 264330138764

Option 1 ID : 264330543665

Option 2 ID : 264330543663

Option 3 ID : 264330543664

Option 4 ID : 264330543666

Status : Answered

Chosen Option : 3

Q.18 दो संख्याओं का महत्तम समापवर्तक (HCF) 7 है और लघुत्तम समापवर्त्य (LCM) 280 है। उनका गुणनफल क्या होगा?

- Ans
- ✓ 1. 1960
 - ✗ 2. 1980
 - ✗ 3. 980
 - ✗ 4. 3920

Question Type : MCQ

Question ID : 264330141041

Option 1 ID : 264330552511

Option 2 ID : 264330552514

Option 3 ID : 264330552513

Option 4 ID : 264330552512

Status : Answered

Chosen Option : 1

Q.19 P अकेले किसी कार्य को 24 दिनों में कर सकता है। Q अकेले इसे 30 दिनों में कर सकता है और R अकेले इसे 20 दिनों में कर सकता है। वे साथ मिलकर इसे कितने दिनों में पूरा कर सकते हैं?

- Ans
- 1. 15 दिन
 - 2. 18 दिन
 - 3. 10 दिन
 - 4. 8 दिन

Question Type : MCQ
Question ID : 264330135124
Option 1 ID : 264330529434
Option 2 ID : 264330529433
Option 3 ID : 264330529431
Option 4 ID : 264330529432
Status : Answered
Chosen Option : 4

Q.20 Rs. 20000 पर 10% वार्षिक दर से 1 वर्ष 6 माह का अर्धवार्षिक रूप से संयोजित चक्रवृद्धि ब्याज कितना होगा?

- Ans
- 1. Rs. 3215.5
 - 2. Rs. 3152.5
 - 3. Rs. 3300
 - 4. Rs. 3200

Question Type : MCQ
Question ID : 264330134092
Option 1 ID : 264330525394
Option 2 ID : 264330525393
Option 3 ID : 264330525392
Option 4 ID : 264330525391
Status : Answered
Chosen Option : 2

Section : Reasoning Ability and Problem Solving

Q.1 एक निश्चित कूट भाषा में, 'BELOW' को 'ASPIF' लिखा जाता है। उस कूट भाषा में 'BLOOD' को कैसे लिखा जाएगा?

- Ans
- 1. HSSQF
 - 2. HSSQG
 - 3. HSSPG
 - 4. HSSPF

Question Type : MCQ
Question ID : 264330138856
Option 1 ID : 264330544032
Option 2 ID : 264330544034
Option 3 ID : 264330544033
Option 4 ID : 264330544031
Status : Answered
Chosen Option : 4

Q.2 एक निश्चित कूट भाषा में, 'MANAGER' को 'GANARME' लिखा जाता है। उस भाषा में 'OFFICER' को कैसे लिखा जाएगा?

- Ans
- ✓ 1. CIFFROE
 - ✗ 2. CFIFROE
 - ✗ 3. CIFFREO
 - ✗ 4. CFIRFOE

Question Type : MCQ

Question ID : 264330137585

Option 1 ID : 264330538948

Option 2 ID : 264330538947

Option 3 ID : 264330538950

Option 4 ID : 264330538949

Status : Answered

Chosen Option : 1

Q.3 In the following question below are given some statements followed by some conclusions based on those statements. Taking the given statements to be true even if they seem to be at variance from commonly known facts. Read all the conclusions and then decide which of the given conclusion logically follows the given statements.

Statements:

I. All S are R.

II. No Z is S.

Conclusions:

I. Some S are not Z.

II. Some R are not Z.

III. No R is S.

- Ans
- ✓ 1. Both conclusions I and II follows
 - ✗ 2. Both conclusions I and III follows
 - ✗ 3. Neither conclusion follows
 - ✗ 4. Only conclusion I follows

Question Type : MCQ

Question ID : 264330135605

Option 1 ID : 264330531321

Option 2 ID : 264330531319

Option 3 ID : 264330531322

Option 4 ID : 264330531320

Status : Answered

Chosen Option : 1

Q.4 Eight friends Mansi, Shweta, Monika, Payal, Aarti, Kajal, Laxmi and Rani are sitting around a circular table facing towards the centre (not necessarily in the same order). Mansi is third to the left of Monika. Aarti is second to the right of Monika. Shweta is fourth to the left of Payal. Payal is second to the left of Mansi. Rani is third to the right of Kajal. Kajal is not the immediate neighbour of Mansi. Who is second to the left of Monika?

- Ans**
- 1. Mansi
 - 2. Laxmi
 - 3. Rani
 - 4. Aarti

Question Type : **MCQ**
Question ID : **264330135602**
Option 1 ID : **264330531310**
Option 2 ID : **264330531307**
Option 3 ID : **264330531309**
Option 4 ID : **264330531308**
Status : **Answered**
Chosen Option : **2**

Q.5 एक निश्चित कूट भाषा में, 'DEEPAK' को '3' लिखा जाता है और 'MEME' को '2' लिखा जाता है। उस भाषा में 'PLAIN' को कैसे लिखा जाएगा?

- Ans**
- 1. 11
 - 2. 2
 - 3. 4
 - 4. 5

Question Type : **MCQ**
Question ID : **264330133564**
Option 1 ID : **264330523280**
Option 2 ID : **264330523279**
Option 3 ID : **264330523281**
Option 4 ID : **264330523282**
Status : **Answered**
Chosen Option : **2**

Q.6 उस विकल्प को चुनिए जो तीसरे पद से ठीक उसी प्रकार संबंधित है जिस प्रकार दूसरा पद पहले पद से संबंधित है और छठवाँ पद पाँचवें पद से संबंधित है।

AMC : YJA :: PFD : ? :: JCB : HZZ

- Ans**
- 1. MCB
 - 2. NDB
 - 3. MDB
 - 4. NCB

Question Type : **MCQ**
Question ID : **264330135595**
Option 1 ID : **264330531279**
Option 2 ID : **264330531281**
Option 3 ID : **264330531282**
Option 4 ID : **264330531280**
Status : **Answered**
Chosen Option : **4**

Q.7 उस विकल्प को चुनिए जो छठवें पद से ठीक उसी प्रकार संबंधित है जिस प्रकार पहला पद दूसरे पद से संबंधित है और तीसरा पद चौथे पद से संबंधित है।

KTM : GOG :: PAB : VVL :: ? : VJN

- Ans
- 1. ROC
 - 2. QOD
 - 3. ROB
 - 4. QOB

Question Type : MCQ

Question ID : 264330135596

Option 1 ID : 264330531284

Option 2 ID : 264330531286

Option 3 ID : 264330531283

Option 4 ID : 264330531285

Status : Answered

Chosen Option : 3

Q.8 निम्नलिखित प्रश्न में, दी गई श्रृंखला में लुप्त संख्या को चुनिए।

13, 14, 27, 41, 68, ?

- Ans
- 1. 109
 - 2. 110
 - 3. 113
 - 4. 118

Question Type : MCQ

Question ID : 264330135607

Option 1 ID : 264330531330

Option 2 ID : 264330531327

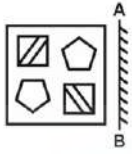
Option 3 ID : 264330531328

Option 4 ID : 264330531329

Status : Answered

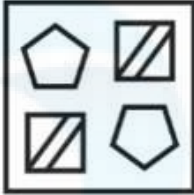
Chosen Option : 1

Q.9 यदि एक दर्पण को रेखा AB पर रखा जाए, तो दी गई विकल्प आकृतियों में से कौन-सी आकृति प्रश्न आकृति का सही प्रतिबिम्ब होगी?




Ans

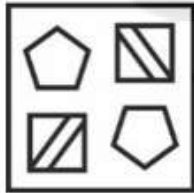
✗ 1.



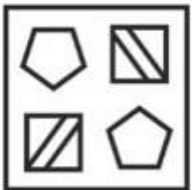
✗ 2.



✓ 3.



✗ 4.



Question Type : MCQ

Question ID : 264330138622

Option 1 ID : 264330543095

Option 2 ID : 264330543097

Option 3 ID : 264330543096

Option 4 ID : 264330543098

Status : Answered

Chosen Option : 3

Q.10 एक श्रृंखला दी गई है जिसमें एक पद लुप्त है। दिए गए विकल्पों में से उस सही विकल्प को चुनिए जो श्रृंखला को पूरा करेगा।

AGMR, FLRW, KQWB, PVBG, ?

Ans ✗ 1. UBGL

✗ 2. UBHL

✗ 3. UCHL

✓ 4. UAGL

Question Type : MCQ

Question ID : 264330135593

Option 1 ID : 264330531272

Option 2 ID : 264330531274

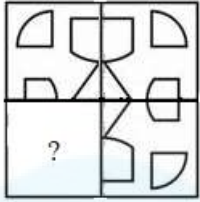
Option 3 ID : 264330531273

Option 4 ID : 264330531271

Status : Answered

Chosen Option : 4

Q.11 कौन-सी उत्तर आकृति प्रश्न आकृति में दिए गए पैटर्न को पूरा करेगी?



Ans

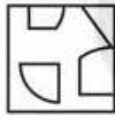
✗ 1.



✗ 2.



✓ 3.



✗ 4.



Question Type : MCQ

Question ID : 264330135614

Option 1 ID : 264330531358

Option 2 ID : 264330531357

Option 3 ID : 264330531355

Option 4 ID : 264330531356

Status : Answered

Chosen Option : 3

Q.12 उस विकल्प को चुनिए जो तीसरी संख्या से ठीक उसी तरह संबंधित है जिस तरह दूसरी संख्या पहली संख्या से संबंधित है।

104 : 13 :: 152 : ?

Ans

✗ 1. 21

✗ 2. 23

✓ 3. 19

✗ 4. 17

Question Type : MCQ

Question ID : 264330133709

Option 1 ID : 264330523861

Option 2 ID : 264330523860

Option 3 ID : 264330523862

Option 4 ID : 264330523859

Status : Answered

Chosen Option : 3

Q.13 दी गई श्रृंखला में निम्नलिखित में से कौन-सी संख्या प्रश्न चिन्ह (?) के स्थान पर आएगी?
12, 12, 14, 42, 46, 230, 236, 1652, ?

- Ans 1. 1660
 2. 1860
 3. 1720
 4. 1820

Question Type : MCQ
Question ID : 264330133707
Option 1 ID : 264330523852
Option 2 ID : 264330523854
Option 3 ID : 264330523851
Option 4 ID : 264330523853
Status : Answered
Chosen Option : 1

Q.14 यदि A का अर्थ 'जोड़', B का अर्थ 'गुणा', C का अर्थ 'घटाव' और D का अर्थ 'भाग' हो, तो निम्नलिखित समीकरण का मान क्या होगा?
 $4 B 12 A 18 C (72 D 6) = ?$

- Ans 1. 48
 2. 60
 3. 54
 4. 63

Question Type : MCQ
Question ID : 264330137826
Option 1 ID : 264330539913
Option 2 ID : 264330539914
Option 3 ID : 264330539912
Option 4 ID : 264330539911
Status : Answered
Chosen Option : 3

Q.15 Select the option in which the numbers shares the same relationship in set as that shared by the numbers in the given set.
(NOTE: Operations should be performed on the whole numbers, without breaking down the numbers into its constituent digits. E.g.13 – Operations on 13 such as adding /subtracting /multiplying etc. to 13 can be performed. Breaking down 13 into 1 and 3 and then performing mathematical operations on 1 and 3 is not allowed)

(2, 6, 8)

(117, 351, 468)

- Ans 1. (6, 19, 25)
 2. (4, 12, 16)
 3. (5, 12, 25)
 4. (7, 14, 23)

Question Type : MCQ
Question ID : 264330135609
Option 1 ID : 264330531337
Option 2 ID : 264330531335
Option 3 ID : 264330531336
Option 4 ID : 264330531338
Status : Answered
Chosen Option : 2

Q.16 In the following question below are given some statements followed by some conclusions based on those statements. Taking the given statements to be true even if they seem to be at variance from commonly known facts. Read all the conclusions and then decide which of the given conclusion logically follows the given statements.

Statements:

I. No watch is pen.

II. All pen are green.

Conclusion:

I. Some green are pen.

II. All green are watch.

- Ans**
- 1. Neither conclusion follows
 - 2. Only conclusion I follows
 - 3. Only conclusion II follows
 - 4. Both conclusions I and II follows

Question Type : **MCQ**

Question ID : **264330135604**

Option 1 ID : **264330531318**

Option 2 ID : **264330531315**

Option 3 ID : **264330531316**

Option 4 ID : **264330531317**

Status : **Answered**

Chosen Option : **2**

Q.17 उस विकल्प आकृति को चुनिए जिसमें दी गई आकृति निहित है।(घूर्णन की अनुमति नहीं है)



Ans

✓ 1.



✗ 2.



✗ 3.



✗ 4.



Question Type : MCQ

Question ID : 264330138621

Option 1 ID : 264330543091

Option 2 ID : 264330543093

Option 3 ID : 264330543092

Option 4 ID : 264330543094

Status : Answered

Chosen Option : 1

Q.18 किन दो संख्याओं को आपस में बदलने पर, दिए गए समीकरण का मान '20' होगा?

$$8 \times 2 + 6 \div 3 - 7$$

Ans

✗ 1. 8 और 7

✓ 2. 2 और 3

✗ 3. 2 और 6

✗ 4. 6 और 7

Question Type : MCQ

Question ID : 264330135610

Option 1 ID : 264330531339

Option 2 ID : 264330531342

Option 3 ID : 264330531340

Option 4 ID : 264330531341

Status : Answered

Chosen Option : 2

Q.19 Six boys Ram, Sumit, Sunil, Rahul, Raj and Aman are sitting around a circular table facing towards the centre (not necessarily in the same order). Sunil is not the immediate neighbour of Aman. Aman is second to right of Ram. Rahul is second to the right of Sumit. Raj is to immediate left of Ram. Who is the immediate neighbour of Raj and Rahul both?

- Ans**
- 1. Sunil
 - 2. Ram
 - 3. Aman
 - 4. Sumit

Question Type : **MCQ**
Question ID : **264330135601**
Option 1 ID : **264330531303**
Option 2 ID : **264330531304**
Option 3 ID : **264330531305**
Option 4 ID : **264330531306**
Status : **Answered**
Chosen Option : **1**

Q.20 Price of five cars B, M, J, N and U are compared. Price of J is less than U, M and N. Price of B is the least. No two cars have the same price. Price of U is less than M. Price of neither U nor M is the highest. Price of how many cars is less than the price of U?

- Ans**
- 1. 1
 - 2. 0
 - 3. 3
 - 4. 2

Question Type : **MCQ**
Question ID : **264330135603**
Option 1 ID : **264330531314**
Option 2 ID : **264330531311**
Option 3 ID : **264330531312**
Option 4 ID : **264330531313**
Status : **Answered**
Chosen Option : **4**

Section : **General Awareness**

Q.1 वर्ष 1918 में, महात्मा गांधी ने _____ की हड़ताल का सफलतापूर्वक नेतृत्व किया।

- Ans**
- 1. व्यापारियों
 - 2. सेना के जवानों
 - 3. दलितों
 - 4. मिल मज़दूरों

Question Type : **MCQ**
Question ID : **264330138698**
Option 1 ID : **264330543401**
Option 2 ID : **264330543399**
Option 3 ID : **264330543402**
Option 4 ID : **264330543400**
Status : **Answered**
Chosen Option : **4**

Q.2 टमाटर में मुख्यतः से कौन-सा अम्ल पाया जाता है?

- Ans
- 1. कार्बनिक अम्ल (Carbonic acid)
 - 2. ऑक्सैलिक अम्ल (Oxalic acid)
 - 3. टार्टरिक अम्ल (Tartaric acid)
 - 4. ऐसीटिक अम्ल (Acetic acid)

Question Type : MCQ
Question ID : 264330134063
Option 1 ID : 264330525275
Option 2 ID : 264330525277
Option 3 ID : 264330525276
Option 4 ID : 264330525278
Status : Answered
Chosen Option : 3

Q.3 निम्न में से किस प्रसिद्ध भारतीय नर्तक का संबंध पंडवानी (Pandavani) नृत्य शैली से है?

- Ans
- 1. तीजन बाई
 - 2. वैजयंतीमाला
 - 3. पंडित बिरजू महाराज
 - 4. वेंपती चिन्ना सत्यम (Vempati Chinna Satyam)

Question Type : MCQ
Question ID : 264330135461
Option 1 ID : 264330530752
Option 2 ID : 264330530754
Option 3 ID : 264330530753
Option 4 ID : 264330530751
Status : Answered
Chosen Option : 1

Q.4 In the situation of liquidity trap, the speculative money demand function becomes _____.

- Ans
- 1. Zero
 - 2. Inelastic
 - 3. infinitely elastic
 - 4. unitary elastic

Question Type : MCQ
Question ID : 264330138931
Option 1 ID : 264330544334
Option 2 ID : 264330544333
Option 3 ID : 264330544332
Option 4 ID : 264330544331
Status : Not Answered
Chosen Option : --

Q.5 आईसीसी क्रिकेट विश्व कप (महिला) 2022 किस देश में आयोजित किया गया था?

- Ans
- ✓ 1. न्यूजीलैंड
 - ✗ 2. भारत
 - ✗ 3. ऑस्ट्रेलिया
 - ✗ 4. इंग्लैंड

Question Type : MCQ
Question ID : 264330135481
Option 1 ID : 264330530833
Option 2 ID : 264330530834
Option 3 ID : 264330530832
Option 4 ID : 264330530831
Status : Marked For Review
Chosen Option : 1

Q.6 निम्नलिखित में से कौन-सा विटामिन आयरन के अवशोषण को प्रभावित करता है?

- Ans
- ✗ 1. विटामिन डी (Vitamin D)
 - ✗ 2. विटामिन के (Vitamin K)
 - ✗ 3. विटामिन बी (Vitamin B)
 - ✓ 4. विटामिन सी (Vitamin C)

Question Type : MCQ
Question ID : 264330135465
Option 1 ID : 264330530769
Option 2 ID : 264330530770
Option 3 ID : 264330530767
Option 4 ID : 264330530768
Status : Answered
Chosen Option : 2

Q.7 2023 में पुरुष क्रिकेट विश्व कप की मेज़बानी कौन-सा देश करेगा?

- Ans
- ✗ 1. ऑस्ट्रेलिया
 - ✗ 2. पाकिस्तान
 - ✗ 3. यूनाइटेड किंगडम
 - ✓ 4. भारत

Question Type : MCQ
Question ID : 264330134079
Option 1 ID : 264330525341
Option 2 ID : 264330525342
Option 3 ID : 264330525339
Option 4 ID : 264330525340
Status : Not Answered
Chosen Option : --

Q.8 रामपुरवा बैल (Rampurva bull) जो कि बिहार के रामपुरवा में पाए गए एक मौर्य स्तंभ का हिस्सा था, को अब _____ में रखा गया है।

- Ans
- 1. संसद
 - 2. प्रधानमंत्री भवन
 - 3. राजपथ
 - 4. राष्ट्रपति भवन

Question Type : MCQ
Question ID : 264330138695
Option 1 ID : 264330543390
Option 2 ID : 264330543388
Option 3 ID : 264330543389
Option 4 ID : 264330543387
Status : Not Answered
Chosen Option : --

Q.9 'ऐस अगेस्ट ऑड्स (Ace against Odds)' _____ की एक आत्मकथात्मक पुस्तक है।

- Ans
- 1. मैरी कॉम
 - 2. सानिया मिर्ज़ा
 - 3. वी.वी. गिरि
 - 4. सचिन तेंदुलकर

Question Type : MCQ
Question ID : 264330138926
Option 1 ID : 264330544311
Option 2 ID : 264330544312
Option 3 ID : 264330544314
Option 4 ID : 264330544313
Status : Answered
Chosen Option : 2

Q.10 The constitution of India was adopted by the Constituent Assembly in the year _____.

- Ans
- 1. 1949
 - 2. 1947
 - 3. 1950
 - 4. 1948

Question Type : MCQ
Question ID : 264330135479
Option 1 ID : 264330530825
Option 2 ID : 264330530823
Option 3 ID : 264330530826
Option 4 ID : 264330530824
Status : Answered
Chosen Option : 1

Q.11 वह प्रक्रिया जिसमें धातुओं को उसके अयस्कों द्वारा गलनांक बिंदु से अधिक तपाकर निष्कर्षित किया जाता है, _____ कहलाती है।

- Ans
- 1. उत्थान
 - 2. निष्कर्षण
 - 3. प्रगलन
 - 4. कताई

Question Type : MCQ
Question ID : 264330138938
Option 1 ID : 264330544360
Option 2 ID : 264330544361
Option 3 ID : 264330544362
Option 4 ID : 264330544359
Status : Not Answered
Chosen Option : --

Q.12 Rangarajan Committee is associated with _____.

- Ans
- 1. Election reforms
 - 2. Estimation of poverty
 - 3. Environmental protection
 - 4. Educational reform

Question Type : MCQ
Question ID : 264330137031
Option 1 ID : 264330536770
Option 2 ID : 264330536768
Option 3 ID : 264330536769
Option 4 ID : 264330536767
Status : Answered
Chosen Option : 2

Q.13 _____ आधुनिक आवर्त सारणी के जनक हैं।

- Ans
- 1. अर्नेस्ट रदरफोर्ड (Ernest Rutherford)
 - 2. दिमित्री मेंडेलीव (Dmitri Mendeleev)
 - 3. जॉन न्यूलैंड (John Newland)
 - 4. जे. जे. थॉमसन (J. J. Thomson)

Question Type : MCQ
Question ID : 264330134061
Option 1 ID : 264330525267
Option 2 ID : 264330525269
Option 3 ID : 264330525270
Option 4 ID : 264330525268
Status : Not Answered
Chosen Option : --

Q.14 निम्नलिखित में से ग्रैमी लाइफ टाइम अचीवमेंट अवार्ड प्राप्त करने वाले पहले भारतीय संगीतकार कौन थे?

- Ans
- 1. हरिप्रसाद चौरसिया
 - 2. उस्ताद ज़ाकिर हुसैन
 - 3. न्यूक्लिया
 - 4. पंडित रविशंकर

Question Type : MCQ
Question ID : 264330135477
Option 1 ID : 264330530816
Option 2 ID : 264330530817
Option 3 ID : 264330530818
Option 4 ID : 264330530815
Status : Answered
Chosen Option : 4

Q.15 छठ पूजा के त्यौहार के दौरान किस भगवान की पूजा की जाती है?

- Ans
- 1. अग्नि
 - 2. इंद्र
 - 3. विष्णु
 - 4. सूर्य

Question Type : MCQ
Question ID : 264330138675
Option 1 ID : 264330543308
Option 2 ID : 264330543307
Option 3 ID : 264330543310
Option 4 ID : 264330543309
Status : Answered
Chosen Option : 4

Q.16 भगत सिंह, सुखदेव और राजगुरु को _____ को फाँसी दी गई थी।

- Ans
- 1. मई 23, 1931
 - 2. मार्च 25, 1932
 - 3. मार्च 23, 1931
 - 4. अप्रैल 21, 1930

Question Type : MCQ
Question ID : 264330137934
Option 1 ID : 264330540343
Option 2 ID : 264330540346
Option 3 ID : 264330540344
Option 4 ID : 264330540345
Status : Not Answered
Chosen Option : --

Q.17 पृथ्वी का सबसे गहरा बिंदु, मारियाना गर्त (Mariana Trench), कहाँ स्थित है?

- Ans
- 1. अटलांटिक महासागर
 - 2. प्रशांत महासागर
 - 3. हिंद महासागर
 - 4. आर्कटिक महासागर

Question Type : MCQ

Question ID : 264330134064

Option 1 ID : 264330525280

Option 2 ID : 264330525279

Option 3 ID : 264330525281

Option 4 ID : 264330525282

Status : Not Answered

Chosen Option : --

Q.18 प्रसिद्ध धमेख स्तूप(Dhamek Stupa)निम्नलिखित में से किस राज्य में स्थित है?

- Ans
- 1. हिमाचल प्रदेश
 - 2. मध्यप्रदेश
 - 3. आंध्रप्रदेश
 - 4. उत्तरप्रदेश

Question Type : MCQ

Question ID : 264330137923

Option 1 ID : 264330540302

Option 2 ID : 264330540300

Option 3 ID : 264330540301

Option 4 ID : 264330540299

Status : Not Answered

Chosen Option : --

Q.19 किसी राज्य की विधान परिषद में, राज्य की विधान सभा में सदस्यों की कुल संख्या के _____ से अधिक नहीं होती है।

- Ans
- 1. दो तिहाई (two-third)
 - 2. एक तिहाई (one-third)
 - 3. तीन चौथाई (three-fourth)
 - 4. पाँचवें भाग (one-fifth)

Question Type : MCQ

Question ID : 264330135480

Option 1 ID : 264330530829

Option 2 ID : 264330530827

Option 3 ID : 264330530830

Option 4 ID : 264330530828

Status : Answered

Chosen Option : 2

Q.20 2022 तक, भारत के पड़ोसी देश मालदीव की राजधानी क्या है?

- Ans
- 1. कोलंबो (Colombo)
 - 2. कवरत्ती(Kavaratti)
 - 3. अबु धाबी (Abu Dhabi)
 - 4. माले (Male)

Question Type : MCQ
Question ID : 264330137956
Option 1 ID : 264330540433
Option 2 ID : 264330540432
Option 3 ID : 264330540434
Option 4 ID : 264330540431
Status : Answered
Chosen Option : 4

Q.21 भारत की मानक याम्योत्तर (82°30' E) भारत के _____ राज्य से होकर गुजरती है।

- Ans
- 1. कर्नाटक
 - 2. पंजाब
 - 3. मध्यप्रदेश
 - 4. पश्चिम बंगाल

Question Type : MCQ
Question ID : 264330135469
Option 1 ID : 264330530784
Option 2 ID : 264330530783
Option 3 ID : 264330530786
Option 4 ID : 264330530785
Status : Not Answered
Chosen Option : --

Q.22 तराइन का प्रथम युद्ध _____ के बीच लड़ा गया था।

- Ans
- 1. पृथ्वीराज चौहान और मुहम्मद बिन कासिम
 - 2. पृथ्वीराज चौहान और महमूद गजनवी
 - 3. पृथ्वीराज चौहान और कुतुबुद्दीन ऐबक
 - 4. पृथ्वीराज चौहान और मोहम्मद गौरी

Question Type : MCQ
Question ID : 264330134070
Option 1 ID : 264330525303
Option 2 ID : 264330525304
Option 3 ID : 264330525306
Option 4 ID : 264330525305
Status : Answered
Chosen Option : 4

Q.23 गर्भ के चिकित्सकीय समापन संशोधन विधेयक, 2021 (The Medical Termination of Pregnancy(MTP) (Amendment) Bill, 2021) द्वारा कुछ श्रेणियों की महिलाओं के लिए गर्भपात की ऊपरी सीमा को 20 सप्ताह से बढ़ाकर _____ सप्ताह कर दिया गया है।

- Ans
- 1. 26
 - 2. 22
 - 3. 24
 - 4. 28

Question Type : MCQ
Question ID : 264330137920
Option 1 ID : 264330540289
Option 2 ID : 264330540288
Option 3 ID : 264330540287
Option 4 ID : 264330540290
Status : Not Answered
Chosen Option : --

Q.24 Meri Policy Mere Hath scheme was launched by _____ Ministry of India in 2022.

- Ans
- 1. Social Justice & Empowerment
 - 2. Housing and Urban Affairs
 - 3. Agriculture and Farmers Welfare
 - 4. Human Resource Development

Question Type : MCQ
Question ID : 264330135459
Option 1 ID : 264330530744
Option 2 ID : 264330530745
Option 3 ID : 264330530746
Option 4 ID : 264330530743
Status : Not Answered
Chosen Option : --

Q.25 प्रसिद्ध राजस्थानी लोक नृत्यांगना गुलाबो सपेरा को _____ नृत्य के लिए जाना जाता है।

- Ans
- 1. गरबा
 - 2. बिहू
 - 3. झूमर
 - 4. कालबेलिया

Question Type : MCQ
Question ID : 264330138928
Option 1 ID : 264330544322
Option 2 ID : 264330544320
Option 3 ID : 264330544319
Option 4 ID : 264330544321
Status : Not Answered
Chosen Option : --

Q.1 Improve the underlined part of the sentence. Choose 'No improvement' as an answer if the sentence is grammatically correct.
Raccoons have being more active at night.

- Ans
- 1. are few
 - 2. are more
 - 3. are much
 - 4. No improvement

Question Type : MCQ
Question ID : 264330134505
Option 1 ID : 264330526985
Option 2 ID : 264330526983
Option 3 ID : 264330526984
Option 4 ID : 264330526986
Status : Answered
Chosen Option : 2

Q.2 Select the appropriate synonym for the underlined word.

You should never judge a person without knowing the truth.

- Ans
- 1. care
 - 2. wink
 - 3. pacify
 - 4. decide

Question Type : MCQ
Question ID : 264330135220
Option 1 ID : 264330529805
Option 2 ID : 264330529803
Option 3 ID : 264330529804
Option 4 ID : 264330529806
Status : Answered
Chosen Option : 4

Q.3 Choose the word that means the same as the given word.

Abide

- Ans
- 1. Dwell
 - 2. Decamp
 - 3. Repudiate
 - 4. Vamoose

Question Type : MCQ
Question ID : 264330136838
Option 1 ID : 264330536045
Option 2 ID : 264330536044
Option 3 ID : 264330536043
Option 4 ID : 264330536046
Status : Answered
Chosen Option : 1

Q.4 Choose the incorrectly spelt word.

- Ans
- 1. Flowing
 - 2. Ornage
 - 3. Famous
 - 4. Leader

Question Type : MCQ
Question ID : 264330135226
Option 1 ID : 264330529829
Option 2 ID : 264330529827
Option 3 ID : 264330529828
Option 4 ID : 264330529830
Status : Answered
Chosen Option : 2

Q.5 Select the word segment that substitutes (replaces) the bracketed word segment correctly and completes the sentence meaningfully. Select the option 'no correction required' if the sentence is correct as given.

With a (sudden push off understanding), Harry realised who the people in the end beds must be.

- Ans
- 1. suddenly rushed understanding
 - 2. sudden rush of understanding
 - 3. all of sudden understand
 - 4. No correction required

Question Type : MCQ
Question ID : 264330136388
Option 1 ID : 264330534319
Option 2 ID : 264330534320
Option 3 ID : 264330534321
Option 4 ID : 264330534322
Status : Answered
Chosen Option : 2

Q.6 Select the most appropriate antonym of the given word.

Reverence

- Ans
- 1. Deference
 - 2. Scorn
 - 3. Honour
 - 4. Venerate

Question Type : MCQ
Question ID : 264330136309
Option 1 ID : 264330534012
Option 2 ID : 264330534011
Option 3 ID : 264330534013
Option 4 ID : 264330534014
Status : Answered
Chosen Option : 2

Q.7 Select the most appropriate option to fill in the blank.

The most common sports injury is a _____.

- Ans
- 1. brush
 - 2. bruise
 - 3. breve
 - 4. brews

Question Type : MCQ
Question ID : 264330136819
Option 1 ID : 264330535974
Option 2 ID : 264330535972
Option 3 ID : 264330535971
Option 4 ID : 264330535973
Status : Answered
Chosen Option : 2

Q.8 Improve the underlined part of the sentence. Choose 'No improvement' as an answer if the sentence is grammatically correct.

All work and none play makes Jack a dull boy.

- Ans
- 1. none plays
 - 2. no played
 - 3. no play
 - 4. No improvement

Question Type : MCQ
Question ID : 264330135261
Option 1 ID : 264330529964
Option 2 ID : 264330529963
Option 3 ID : 264330529965
Option 4 ID : 264330529966
Status : Answered
Chosen Option : 3

Q.9 Choose the word that can substitute the given group of words.
One who has lost one's parents

- Ans
- 1. Orphan
 - 2. Snob
 - 3. Recluse
 - 4. Martyr

Question Type : MCQ
Question ID : 264330134542
Option 1 ID : 264330527126
Option 2 ID : 264330527124
Option 3 ID : 264330527125
Option 4 ID : 264330527123
Status : Answered
Chosen Option : 1

Q.10 Select the appropriate antonym for the underlined word.

It was a very generous and jolly voice.

- Ans 1. morose
 2. festive
 3. tabular
 4. witty

Question Type : MCQ
Question ID : 264330135223
Option 1 ID : 264330529818
Option 2 ID : 264330529815
Option 3 ID : 264330529816
Option 4 ID : 264330529817
Status : Answered
Chosen Option : 1

Q.11 In the following question, out of the given four alternatives, select the alternative which best expresses the meaning of the Idiom/Phrase.
On the job

- Ans 1. In the war
 2. On the contrary
 3. Avoiding the work
 4. Working at a particular job

Question Type : MCQ
Question ID : 264330134548
Option 1 ID : 264330527147
Option 2 ID : 264330527150
Option 3 ID : 264330527149
Option 4 ID : 264330527148
Status : Answered
Chosen Option : 1

Q.12 Find the part of the given sentence that has an error in it. If there is no error, choose 'No error'.

Without the greenhouse effect, Earths temperature would be below freezing.

- Ans 1. No error
 2. Earths temperature would
 3. be below freezing.
 4. Without the greenhouse effect,

Question Type : MCQ
Question ID : 264330135206
Option 1 ID : 264330529754
Option 2 ID : 264330529752
Option 3 ID : 264330529753
Option 4 ID : 264330529751
Status : Answered
Chosen Option : 2

Q.13 Choose the sentence with no spelling error.

- Ans
- 1. It is not even a concious process.
 - 2. It is not even a consciuos process.
 - 3. It is not even a conscious process.
 - 4. It is not even a conscious process.

Question Type : MCQ
Question ID : 264330136818
Option 1 ID : 264330535969
Option 2 ID : 264330535967
Option 3 ID : 264330535968
Option 4 ID : 264330535970
Status : Answered
Chosen Option : 4

Q.14 Find the part of the given sentence that has an error in it. If there is no error, choose 'No error'.

My research focus on marine mammal behaviour, ecology and conservation.

- Ans
- 1. My research focus on
 - 2. marine mammal behaviour,
 - 3. ecology and conservation.
 - 4. No error

Question Type : MCQ
Question ID : 264330134798
Option 1 ID : 264330528135
Option 2 ID : 264330528136
Option 3 ID : 264330528137
Option 4 ID : 264330528138
Status : Answered
Chosen Option : 2

Q.15 A sentence has been given with a blank to be filled with an appropriate option. Choose the correct alternative.

I am not sure _____ wearing this black dress.

- Ans
- 1. with
 - 2. about
 - 3. in
 - 4. off

Question Type : MCQ
Question ID : 264330135210
Option 1 ID : 264330529770
Option 2 ID : 264330529767
Option 3 ID : 264330529769
Option 4 ID : 264330529768
Status : Answered
Chosen Option : 2

Q.16 In the following question, out of the given four alternatives, select the alternative which best expresses the meaning of the Idiom/Phrase.

To pull the trigger

- Ans**
- 1. To do unnecessary things
 - 2. To commit a course of action
 - 3. To insult and disgrace the people
 - 4. To make an exaggerated statement

Question Type : **MCQ**
Question ID : **264330135225**
Option 1 ID : **264330529826**
Option 2 ID : **264330529824**
Option 3 ID : **264330529823**
Option 4 ID : **264330529825**
Status : **Answered**
Chosen Option : **4**

Q.17 Select the most appropriate option to fill in the blank.

Since the temperatures can soar in summer, choose clothing that is lightweight and _____.

- Ans**
- 1. hefty
 - 2. airtight
 - 3. bulky
 - 4. breathable

Question Type : **MCQ**
Question ID : **264330135229**
Option 1 ID : **264330529841**
Option 2 ID : **264330529842**
Option 3 ID : **264330529840**
Option 4 ID : **264330529839**
Status : **Answered**
Chosen Option : **4**

Q.18 Choose the word that can substitute the given group of words.

A residence for nuns

- Ans**
- 1. Monastery
 - 2. Convent
 - 3. Refugee
 - 4. Mint

Question Type : **MCQ**
Question ID : **264330135219**
Option 1 ID : **264330529802**
Option 2 ID : **264330529799**
Option 3 ID : **264330529800**
Option 4 ID : **264330529801**
Status : **Answered**
Chosen Option : **2**

Q.19 Identify the segment that contains a grammatical error. If there is no error, select 'No error'.

Professor Murli's eyebrows / rose a little higher and his / gaze became distinctly coldest.

- Ans**
- 1. rose a little higher and his
 - 2. gaze became distinctly coldest.
 - 3. No error
 - 4. Professor Murli's eyebrows

Question Type : **MCQ**

Question ID : **264330136385**

Option 1 ID : **264330534308**

Option 2 ID : **264330534309**

Option 3 ID : **264330534310**

Option 4 ID : **264330534307**

Status : **Answered**

Chosen Option : **2**

Q.20 A sentence has been given with a blank to be filled with an appropriate option. Choose the correct alternative.

_____ every nation in the world is now administering vaccines.

- Ans**
- 1. Nearest
 - 2. Near
 - 3. Nearly
 - 4. Nearer

Question Type : **MCQ**

Question ID : **264330136854**

Option 1 ID : **264330536107**

Option 2 ID : **264330536110**

Option 3 ID : **264330536108**

Option 4 ID : **264330536109**

Status : **Answered**

Chosen Option : **3**

Comprehension:

In the following passage some words have been deleted. Fill in the blanks with the help of the alternatives given. Select the most appropriate option for each number.

(1) _____ people think that we can learn a lot about the culture of a foreign country (2) _____ by living in that country. However, this is not necessarily true. Often, the longer we stay in a (3) _____ country, the more we realize how little we actually know about the culture of that country. Books and talks about other people's (4) _____ can even be dangerous because they concentrate on cultural differences and (5) _____ national character, and sometimes a lot of information they contain is untrue.

SubQuestion No : 21

Q.21 Select the most appropriate option to fill in blank number 1.

- Ans**
- 1. Many
 - 2. Each
 - 3. Few
 - 4. Every

Question Type : **MCQ**

Question ID : **264330136300**

Option 1 ID : **264330533975**

Option 2 ID : **264330533977**

Option 3 ID : **264330533976**

Option 4 ID : **264330533978**

Status : **Answered**

Chosen Option : **1**

Comprehension:

In the following passage some words have been deleted. Fill in the blanks with the help of the alternatives given. Select the most appropriate option for each number.

(1) _____ people think that we can learn a lot about the culture of a foreign country (2) _____ by living in that country. However, this is not necessarily true. Often, the longer we stay in a (3) _____ country, the more we realize how little we actually know about the culture of that country. Books and talks about other people's (4) _____ can even be dangerous because they concentrate on cultural differences and (5) _____ national character, and sometimes a lot of information they contain is untrue.

SubQuestion No : 22

Q.22 Select the most appropriate option to fill in blank number 2.

- Ans**
- 1. directly
 - 2. precisely
 - 3. simply
 - 4. formally

Question Type : **MCQ**

Question ID : **264330136301**

Option 1 ID : **264330533979**

Option 2 ID : **264330533980**

Option 3 ID : **264330533981**

Option 4 ID : **264330533982**

Status : **Answered**

Chosen Option : **3**

Comprehension:

In the following passage some words have been deleted. Fill in the blanks with the help of the alternatives given. Select the most appropriate option for each number.

(1) _____ people think that we can learn a lot about the culture of a foreign country (2) _____ by living in that country. However, this is not necessarily true. Often, the longer we stay in a (3) _____ country, the more we realize how little we actually know about the culture of that country. Books and talks about other people's (4) _____ can even be dangerous because they concentrate on cultural differences and (5) _____ national character, and sometimes a lot of information they contain is untrue.

SubQuestion No : 23

Q.23 Select the most appropriate option to fill in blank number 3.

- Ans**
- 1. foreign
 - 2. benign
 - 3. reign
 - 4. sovereign

Question Type : **MCQ**

Question ID : **264330136302**

Option 1 ID : **264330533984**

Option 2 ID : **264330533986**

Option 3 ID : **264330533985**

Option 4 ID : **264330533983**

Status : **Answered**

Chosen Option : **1**

Comprehension:

In the following passage some words have been deleted. Fill in the blanks with the help of the alternatives given. Select the most appropriate option for each number.

(1) _____ people think that we can learn a lot about the culture of a foreign country (2) _____ by living in that country. However, this is not necessarily true. Often, the longer we stay in a (3) _____ country, the more we realize how little we actually know about the culture of that country. Books and talks about other people's (4) _____ can even be dangerous because they concentrate on cultural differences and (5) _____ national character, and sometimes a lot of information they contain is untrue.

SubQuestion No : 24

Q.24 Select the most appropriate option to fill in blank number 4.

- Ans**
- 1. culture
 - 2. conjecture
 - 3. caricature
 - 4. stature

Question Type : **MCQ**

Question ID : **264330136303**

Option 1 ID : **264330533989**

Option 2 ID : **264330533987**

Option 3 ID : **264330533990**

Option 4 ID : **264330533988**

Status : **Answered**

Chosen Option : **1**

Comprehension:

In the following passage some words have been deleted. Fill in the blanks with the help of the alternatives given. Select the most appropriate option for each number.

(1) _____ people think that we can learn a lot about the culture of a foreign country (2) _____ by living in that country. However, this is not necessarily true. Often, the longer we stay in a (3) _____ country, the more we realize how little we actually know about the culture of that country. Books and talks about other people's (4) _____ can even be dangerous because they concentrate on cultural differences and (5) _____ national character, and sometimes a lot of information they contain is untrue.

SubQuestion No : 25

Q.25 Select the most appropriate option to fill in blank number 5.

- Ans**
- 1. proliferate
 - 2. concentrate
 - 3. considerate
 - 4. exaggerate

Question Type : **MCQ**

Question ID : **264330136304**

Option 1 ID : **264330533994**

Option 2 ID : **264330533993**

Option 3 ID : **264330533992**

Option 4 ID : **264330533991**

Status : **Answered**

Chosen Option : **3**