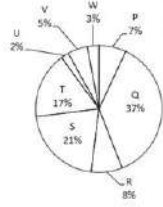


Multi Tasking Non Technical Staff and Havaldar CBIC and CBN Examination 2022

| | |
|----------------|---|
| Roll Number | |
| Candidate Name | |
| Venue Name | iON Digital Zone iDZ Chitoura Road |
| Exam Date | 10/05/2023 |
| Exam Time | 9:00 AM - 10:30 AM |
| Subject | MTS Non Tech Havaldar CBIC and CBN Examination 2022 |

Section : Numerical and Mathematical Ability

Q.1 नीचे दिए गए वृत्त आलेख में 8 विद्यालयों में लड़कों की संख्या को दर्शाया गया है। इन सभी 8 विद्यालयों में लड़कों की कुल संख्या 8000 है। इनमें से किसी एक विशिष्ट विद्यालय में लड़कों की संख्या को इन सभी 8 विद्यालयों में लड़कों की कुल संख्या के प्रतिशत के रूप में दर्शाया गया है।



P, R, T और W में लड़कों की औसत संख्या और Q और V में लड़कों की औसत संख्या का योग कितना है?

- Ans
- 1. 1980
 - 2. 2180
 - 3. 2580
 - 4. 2380

Question Type : MCQ

Question ID : 264330137195

Option 1 ID : 264330537424

Option 2 ID : 264330537426

Option 3 ID : 264330537423

Option 4 ID : 264330537425

Status : Answered

Chosen Option : 4

Q.2 Rs.14,400 की धनराशि पर 2 वर्ष के लिए चक्रवृद्धि ब्याज और साधारण ब्याज के बीच का अंतर Rs.3600 है। ब्याज दर ज्ञात कीजिए।

- Ans
- 1. 30%
 - 2. 50%
 - 3. 35%
 - 4. 10%

Question Type : MCQ

Question ID : 264330135077

Option 1 ID : 264330529244

Option 2 ID : 264330529246

Option 3 ID : 264330529245

Option 4 ID : 264330529243

Status : Answered

Chosen Option : 2

Q.3 A अकेले किसी कार्य को 30 दिनों में कर सकता है। A ने 5 दिनों तक कार्य किया और फिर B ने अकेले शेष कार्य को 10 दिनों में पूरा किया। B अकेले पूरे कार्य को कितने दिनों में समाप्त कर सकता है?

- Ans
- 1. 10 दिन
 - 2. 12 दिन
 - 3. 15 दिन
 - 4. 18 दिन

Question Type : MCQ

Question ID : 264330138051

Option 1 ID : 264330540811

Option 2 ID : 264330540812

Option 3 ID : 264330540813

Option 4 ID : 264330540814

Status : Answered

Chosen Option : 2

Q.4 स्थिर जल में एक नाव की चाल 9 km/hr है और धारा की चाल 6 km/hr है। यदि एक व्यक्ति धारा के विपरीत 45 km की दूरी तय करके प्रारंभिक बिंदु पर वापस आता है, तो उसके द्वारा लिया गया कुल समय कितना है?

- Ans
- 1. 18 घंटे
 - 2. 24 घंटे
 - 3. 20 घंटे
 - 4. 30 घंटे

Question Type : MCQ

Question ID : 264330137176

Option 1 ID : 264330537349

Option 2 ID : 264330537348

Option 3 ID : 264330537347

Option 4 ID : 264330537350

Status : Answered

Chosen Option : 1

Q.5 12.6 cm आधार की त्रिज्या और 4 m ऊँचाई वाले एक बेलनाकार लोहे के पात्र का भार ज्ञात कीजिए, जहाँ 1 cm^3 लोहे का भार 2 ग्राम है?

- Ans
- 1. 399.168 kg
 - 2. 299.284 kg
 - 3. 199.584 kg
 - 4. 499.482 kg

Question Type : MCQ

Question ID : 264330138056

Option 1 ID : 264330540831

Option 2 ID : 264330540834

Option 3 ID : 264330540832

Option 4 ID : 264330540833

Status : Answered

Chosen Option : 1

Q.6 $\frac{49 - 7 \times 5 + 3 \times 21}{98 + 49 \times 2 - 195}$ का मान क्या है?

- Ans
- 1. 7
 - 2. 77
 - 3. 22
 - 4. 11

Question Type : MCQ
Question ID : 264330137192
Option 1 ID : 264330537411
Option 2 ID : 264330537412
Option 3 ID : 264330537414
Option 4 ID : 264330537413
Status : Answered
Chosen Option : 2

Q.7 55 वर्षों के बाद, r प्रतिशत की दर से साधारण ब्याज पर निवेश की गई राशि स्वयं की दोगुनी हो जाती है। ' r ' का मान क्या है?

- Ans
- 1. 13/15%
 - 2. 17/20%
 - 3. 20/11%
 - 4. 11/30%

Question Type : MCQ
Question ID : 264330135402
Option 1 ID : 264330530516
Option 2 ID : 264330530517
Option 3 ID : 264330530515
Option 4 ID : 264330530518
Status : Answered
Chosen Option : 3

Q.8 एक गिलास Rs. 1378 में बेचकर एक आदमी 6 प्रतिशत का लाभ अर्जित करता है। यदि वह इसे Rs. 1079 में बेचता है, तो हानि प्रतिशत क्या होगा?

- Ans
- 1. 18 प्रतिशत
 - 2. 15 प्रतिशत
 - 3. 17 प्रतिशत
 - 4. 11 प्रतिशत

Question Type : MCQ
Question ID : 264330137182
Option 1 ID : 264330537371
Option 2 ID : 264330537373
Option 3 ID : 264330537374
Option 4 ID : 264330537372
Status : Answered
Chosen Option : 3

Q.9 एक समद्विबाहु त्रिभुज में, यदि समान भुजा और असमान भुजा का अनुपात 5:7 है और इसका परिमाण 34 cm है, तो समान भुजा की लंबाई कितनी है?

- Ans
- 1. 18 cm
 - 2. 34 cm
 - 3. 10 cm
 - 4. 14 cm

Question Type : MCQ

Question ID : 264330133854

Option 1 ID : 264330524441

Option 2 ID : 264330524442

Option 3 ID : 264330524440

Option 4 ID : 264330524439

Status : Answered

Chosen Option : 3

Q.10 A और B एक साझेदारी में इस प्रकार शामिल होते हैं कि A के निवेश का 5 गुना B के निवेश के 7 गुना के बराबर है। यदि कुल लाभ Rs. 12000 है, तो इसमें A का हिस्सा कितना है?

- Ans
- 1. Rs.6300
 - 2. Rs.7000
 - 3. Rs.8000
 - 4. Rs.7500

Question Type : MCQ

Question ID : 264330137183

Option 1 ID : 264330537375

Option 2 ID : 264330537377

Option 3 ID : 264330537378

Option 4 ID : 264330537376

Status : Answered

Chosen Option : 2

Q.11 20 कलमों का औसत मूल्य Rs.18 है। यदि 12 नई कलमों शामिल कर लिए जाएँ, तो औसत मूल्य में Rs.4 की वृद्धि हो जाती है। नई कलमों का कुल मूल्य क्या है?

- Ans
- 1. Rs.384
 - 2. Rs.368
 - 3. Rs.328
 - 4. Rs.344

Question Type : MCQ

Question ID : 264330139080

Option 1 ID : 264330544927

Option 2 ID : 264330544929

Option 3 ID : 264330544930

Option 4 ID : 264330544928

Status : Answered

Chosen Option : 4

Q.12 80 cm, 90 cm और 112 cm लम्बाइयों का लघुत्तम समापवर्त्य क्या है?

- Ans
- 1. 4840 cm
 - 2. 4250 cm
 - 3. 5040 cm
 - 4. 5680 cm

Question Type : MCQ

Question ID : 264330137191

Option 1 ID : 264330537408

Option 2 ID : 264330537407

Option 3 ID : 264330537409

Option 4 ID : 264330537410

Status : Answered

Chosen Option : 3

Q.13 निम्नलिखित तालिका में छः अलग-अलग विषयों में पाँच छात्रों द्वारा प्राप्त अंकों को दर्शाया गया है।
ईशा द्वारा कुल कितने प्रतिशत अंक प्राप्त किए गए हैं?

| Students/ Subject | Hindi (Out of 100) | English (Out of 100) | Maths (Out of 150) | S.St (Out of 150) | Science (Out 150) | Computer (Out of 50) |
|----------------------|-----------------------|-------------------------|-----------------------|----------------------|----------------------|-------------------------|
| Anchal | 84 | 62 | 100 | 140 | 112 | 40 |
| Bhavana | 92 | 80 | 132 | 148 | 145 | 42 |
| Isha | 80 | 60 | 104 | 132 | 105 | 45 |
| Anuradha | 81 | 71 | 110 | 140 | 125 | 48 |
| Manjari | 78 | 70 | 108 | 135 | 130 | 40 |

Subject - विषय,

Hindi (out of 100) - हिंदी (100 में से), English (out of 100) - अंग्रेजी (100 में से),

Maths (out of 150) - गणित (150 में से), S.st (out of 150) - सामाजिक अध्ययन (150 में से),

Science (out of 150) - विज्ञान (150 में से), Computer (out of 50) - कंप्यूटर (50 में से)

Students - छात्र,

Anchal - आंचल, Bhavana - भावना, Isha - ईशा,

Anuradha - अनुराधा, Manjari - मंजरी

- Ans
- 1. 75.14%
 - 2. 72.56%
 - 3. 80.42%
 - 4. 84.66%

Question Type : MCQ

Question ID : 264330138363

Option 1 ID : 264330542061

Option 2 ID : 264330542059

Option 3 ID : 264330542060

Option 4 ID : 264330542062

Status : Answered

Chosen Option : 1

Q.14

$6 + 6 \text{ of } 6 \div 6 - \frac{6}{5}$ का मान ज्ञात कीजिए।

- Ans
- 1. 6/5
 - 2. 44/5
 - 3. 12/5
 - 4. 54/5

Question Type : MCQ

Question ID : 264330138347

Option 1 ID : 264330541996

Option 2 ID : 264330541998

Option 3 ID : 264330541997

Option 4 ID : 264330541995

Status : Answered

Chosen Option : 4

Q.15 A किसी काम को 16 दिनों में कर सकता है। B उसी काम को 24 दिनों में कर सकता है। A अकेले काम शुरू करता है। कितने दिनों के बाद B को उसके साथ शामिल हो जाना चाहिए जिससे काम 10 दिनों में समाप्त हो जाए?

- Ans
- 1. 5 दिन
 - 2. 6 दिन
 - 3. 1 दिन
 - 4. 2 दिन

Question Type : MCQ

Question ID : 264330133849

Option 1 ID : 264330524419

Option 2 ID : 264330524420

Option 3 ID : 264330524422

Option 4 ID : 264330524421

Status : Answered

Chosen Option : 3

Q.16 एक व्यक्ति के व्यय और बचत का अनुपात 4 : 3 है। उसका व्यय उसकी प्रारंभिक बचत के 1/4 से बढ़ जाता है और उसकी आय में Rs. 300 की वृद्धि होती है। यदि उसकी बचत अपरिवर्तित रहती है, तो उसका प्रारंभिक व्यय कितना है?

- Ans
- 1. Rs.20000
 - 2. Rs.12000
 - 3. Rs.1600
 - 4. Rs.10000

Question Type : MCQ

Question ID : 264330137184

Option 1 ID : 264330537381

Option 2 ID : 264330537379

Option 3 ID : 264330537382

Option 4 ID : 264330537380

Status : Answered

Chosen Option : 3

Q.17 जब किसी संख्या में 112 की वृद्धि की जाती है, तो वह स्वयं की 170% हो जाती है। वह संख्या ज्ञात कीजिए।

- Ans
- 1. 180
 - 2. 200
 - 3. 150
 - 4. 160

Question Type : MCQ

Question ID : 264330135070

Option 1 ID : 264330529217

Option 2 ID : 264330529218

Option 3 ID : 264330529215

Option 4 ID : 264330529216

Status : Answered

Chosen Option : 4

Q.18 एक दुकानदार किसी वस्तु को 20 प्रतिशत की छूट देने के बाद 10 प्रतिशत हानि पर बेचता है। वस्तु के क्रय मूल्य और अंकित मूल्य का अनुपात कितना है?

- Ans
- 1. 5 : 8
 - 2. 4 : 9
 - 3. 8 : 9
 - 4. 7 : 9

Question Type : MCQ

Question ID : 264330137187

Option 1 ID : 264330537391

Option 2 ID : 264330537394

Option 3 ID : 264330537392

Option 4 ID : 264330537393

Status : Answered

Chosen Option : 3

Q.19 रमन का 5 दिनों का औसत खर्च Rs. 160 है। यदि पहले 4 दिनों का उसका खर्च क्रमशः Rs. 90, Rs. 135, Rs. 75 और Rs. 180 है, तो 5वें दिन का उसका खर्च कितना है?

- Ans
- 1. Rs.360
 - 2. Rs.250
 - 3. Rs.320
 - 4. Rs.280

Question Type : MCQ

Question ID : 264330137177

Option 1 ID : 264330537353

Option 2 ID : 264330537351

Option 3 ID : 264330537352

Option 4 ID : 264330537354

Status : Answered

Chosen Option : 3

Q.20 सोनम ने Rs. 4675 में एक पुरानी मोटर बाइक खरीदी और उसकी मरम्मत पर Rs. 225 खर्च किए। फिर उसने इसे Rs. 5390 में बेच दिया। उसका लाभ प्रतिशत क्या है?

- Ans
- 1. 8%
 - 2. 10%
 - 3. 15%
 - 4. 20%

Question Type : MCQ

Question ID : 264330138353

Option 1 ID : 264330542020

Option 2 ID : 264330542021

Option 3 ID : 264330542019

Option 4 ID : 264330542022

Status : Answered

Chosen Option : 2

Section : Reasoning Ability and Problem Solving

Q.1 उस समुच्चय को चुनिए जिसमें संख्याएँ ठीक उसी प्रकार संबंधित हैं जिस प्रकार निम्नलिखित समुच्चयों की संख्याएँ संबंधित हैं। (ध्यान दें: संख्याओं को उनके घटक अंकों में अलग-अलग किए बिना, पूर्ण संख्याओं पर संक्रियाएँ की जानी चाहिए। उदा. 13 - 13 पर संक्रियाएँ जैसे 13 को जोड़ना /घटाना /गुणा करना आदि किया जा सकता है। 13 को 1 और 3 में अलग-अलग करने की और फिर 1 और 3 पर गणितीय संक्रियाएँ करने की अनुमति नहीं है)
(6, 4, 48)
(8, 5, 80)

- Ans
- 1. (4, 6, 36)
 - 2. (3, 7, 42)
 - 3. (5, 7, 42)
 - 4. (2, 7, 14)

Question Type : MCQ

Question ID : 264330137359

Option 1 ID : 264330538065

Option 2 ID : 264330538063

Option 3 ID : 264330538066

Option 4 ID : 264330538064

Status : Answered

Chosen Option : 2

Q.2 दी गई श्रृंखला में निम्नलिखित में से कौन-सी संख्या प्रश्न चिन्ह (?) के स्थान पर आएगी?
14, 15, 30, 33, 132, 137, 822, ?

- Ans
- 1. 829
 - 2. 982
 - 3. 819
 - 4. 899

Question Type : MCQ

Question ID : 264330134967

Option 1 ID : 264330528805

Option 2 ID : 264330528803

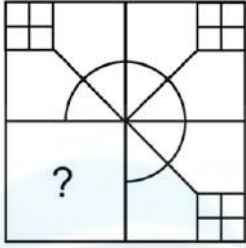
Option 3 ID : 264330528806

Option 4 ID : 264330528804

Status : Answered

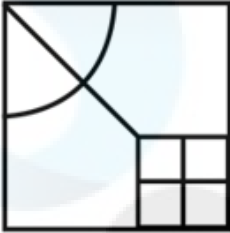
Chosen Option : 1

Q.3 उस विकल्प आकृति को चुनिए जो नीचे दी गई आकृति में पैटर्न को पूरा करने के लिए प्रश्न चिन्ह (?) के स्थान पर आएगी। (घूर्णन की अनुमति नहीं है)

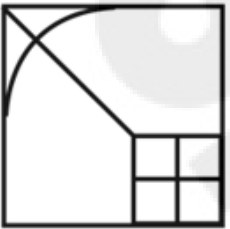


Ans

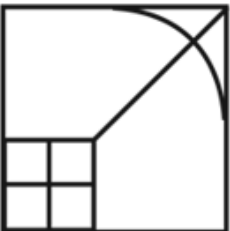
✗ 1.



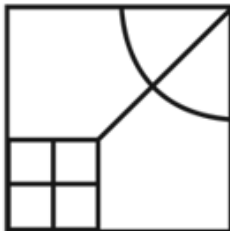
✗ 2.



✗ 3.



✓ 4.



Question Type : MCQ

Question ID : 264330137364

Option 1 ID : 264330538085

Option 2 ID : 264330538083

Option 3 ID : 264330538086

Option 4 ID : 264330538084

Status : Answered

Chosen Option : 4

Q.4 नीचे दिए गए समीकरण में कौन-से गणितीय चिन्हों को आपस में बदला जाना चाहिए जिससे यह समीकरण गणितीय रूप से सही हो जाए?

$$24 \div 15 \times 16 + 4 - 18 = 66$$

Ans 1. \div और $+$

2. $-$ और \times

3. $-$ और $+$

4. \div और \times

Question Type : MCQ

Question ID : 264330137360

Option 1 ID : 264330538068

Option 2 ID : 264330538070

Option 3 ID : 264330538069

Option 4 ID : 264330538067

Status : Answered

Chosen Option : 1

Q.5 उस विकल्प को चुनिए जो तीसरे शब्द से ठीक उसी तरह संबंधित है जिस तरह दूसरा शब्द पहले शब्द से संबंधित है।
न्यूटन : बल :: जूल : ?

Ans 1. दाब

2. समय

3. कार्य

4. संवेग

Question Type : MCQ

Question ID : 264330137345

Option 1 ID : 264330538009

Option 2 ID : 264330538007

Option 3 ID : 264330538008

Option 4 ID : 264330538010

Status : Answered

Chosen Option : 3

Q.6 दी गई श्रृंखला में निम्नलिखित में से कौन-सी संख्या प्रश्न चिन्ह (?) के स्थान पर आएगी?
19, 27, 54, 118, 243, ?

Ans 1. 457

2. 449

3. 469

4. 459

Question Type : MCQ

Question ID : 264330137357

Option 1 ID : 264330538055

Option 2 ID : 264330538057

Option 3 ID : 264330538058

Option 4 ID : 264330538056

Status : Answered

Chosen Option : 4

Q.7 P, Q, R, S और T एक बेंच पर उत्तर की ओर मुख करके बैठे हैं परंतु जरूरी नहीं कि इसी क्रम में बैठें हों। P, Q का निकटतम पड़ोसी है, S, T का निकटतम पड़ोसी है, P, R के साथ नहीं बैठा है, जो बेंच के दाएँ छोर पर बैठा है। P, S और T के दाईं ओर बैठा है। S, T के दाईं ओर बैठा है।
P किस स्थान पर बैठा है?

- Ans
- 1. दाएँ से दूसरे स्थान पर
 - 2. बाएँ से तीसरे स्थान पर
 - 3. बाएँ से दूसरे स्थान पर
 - 4. बाएँ से चौथे स्थान पर

Question Type : MCQ
Question ID : 264330137351
Option 1 ID : 264330538033
Option 2 ID : 264330538032
Option 3 ID : 264330538031
Option 4 ID : 264330538034
Status : Answered
Chosen Option : 2

Q.8 दिए गए दो चिन्हों को आपस में बदलने पर, निम्नलिखित में से कौनसा समीकरण सही नहीं होगा?
+ और -

I. $4 \times 6 + 7 - 3 \div 1 = 21$

II. $6 \times 9 + 7 - 8 \div 2 = 51$

- Ans
- 1. केवल I
 - 2. केवल II
 - 3. I और II दोनों
 - 4. न तो I और न ही II

Question Type : MCQ
Question ID : 264330135611
Option 1 ID : 264330531343
Option 2 ID : 264330531344
Option 3 ID : 264330531345
Option 4 ID : 264330531346
Status : Answered
Chosen Option : 1

Q.9 दो कथन दिए गए हैं और दो निष्कर्ष I और II दिए गए हैं। कथनों को सत्य मानते हुए, चाहे वे सामान्यतः ज्ञात तथ्यों से अलग प्रतीत होते हों, निश्चय कीजिए कि कौन-सा निष्कर्ष तार्किक रूप से कथनों के अनुसार है।

कथन:

सभी गाजर, सब्जियाँ हैं।

कुछ सब्जियाँ, नाश्ता हैं।

निष्कर्ष:

I. सभी सब्जियाँ, गाजर हैं।

II. सभी गाजर, नाश्ता हैं।

Ans

- ✗ 1. दोनों निष्कर्ष I और II कथनों के अनुसार हैं
- ✗ 2. सिर्फ निष्कर्ष II कथनों के अनुसार है
- ✗ 3. सिर्फ निष्कर्ष I कथनों के अनुसार है
- ✓ 4. निष्कर्ष I और II में से कोई भी कथनों के अनुसार नहीं है

Question Type : MCQ

Question ID : 264330137354

Option 1 ID : 264330538045

Option 2 ID : 264330538044

Option 3 ID : 264330538043

Option 4 ID : 264330538046

Status : Answered

Chosen Option : 4

Q.10 एक निश्चित कूट भाषा में, 'SHOE' को '47' लिखा जाता है। उस भाषा में 'HELMET' को कैसे लिखा जाएगा?

Ans

- ✗ 1. 68
- ✓ 2. 63
- ✗ 3. 83
- ✗ 4. 72

Question Type : MCQ

Question ID : 264330134938

Option 1 ID : 264330528688

Option 2 ID : 264330528689

Option 3 ID : 264330528690

Option 4 ID : 264330528687

Status : Answered

Chosen Option : 2

Q.11 दो कथन दिए गए हैं और दो निष्कर्ष I और II दिए गए हैं। कथनों को सत्य मानते हुए, चाहे वे सामान्यतः ज्ञात तथ्यों से अलग प्रतीत होते हों, निश्चय कीजिए कि कौन-सा निष्कर्ष तार्किक रूप से कथनों के अनुसार है।
कथन:

कोई प्लेट, मग नहीं है।

कुछ मग, मेज हैं।

निष्कर्ष:

I. सभी प्लेटों के मेज होने की संभावना है।

II. कुछ मेज, मग नहीं हैं।

Ans

- ✗ 1. केवल निष्कर्ष II कथनों के अनुसार है
- ✓ 2. केवल निष्कर्ष I कथनों के अनुसार है
- ✗ 3. दोनों निष्कर्ष I और II कथनों के अनुसार हैं
- ✗ 4. निष्कर्ष I और II में से कोई भी कथनों के अनुसार नहीं है

Question Type : MCQ

Question ID : 264330137355

Option 1 ID : 264330538048

Option 2 ID : 264330538047

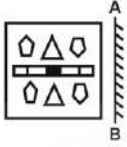
Option 3 ID : 264330538049

Option 4 ID : 264330538050

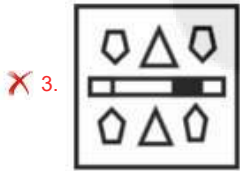
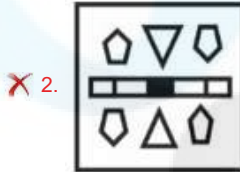
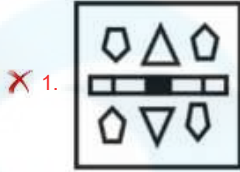
Status : Answered

Chosen Option : 4

Q.12 यदि एक दर्पण को रेखा AB पर रखा जाए, तो दी गई विकल्प आकृतियों में से कौन-सी आकृति प्रश्न आकृति का सही प्रतिबिम्ब होगी?



Ans



Question Type : MCQ

Question ID : 264330138475

Option 1 ID : 264330542507

Option 2 ID : 264330542508

Option 3 ID : 264330542510

Option 4 ID : 264330542509

Status : Answered

Chosen Option : 4

Q.13 एक निश्चित कूट भाषा में, 'TYPING' को 'VAPING' लिखा जाता है। उस भाषा में 'WIPING' को कैसे लिखा जाएगा?

- Ans
- ✓ 1. YKPING
 - ✗ 2. VKPGNG
 - ✗ 3. VIPING
 - ✗ 4. VKPJNG

Question Type : MCQ

Question ID : 264330134936

Option 1 ID : 264330528681

Option 2 ID : 264330528680

Option 3 ID : 264330528679

Option 4 ID : 264330528682

Status : Answered

Chosen Option : 1

Q.14 उस विकल्प को चुनिए जो तीसरे शब्द से ठीक उसी तरह संबंधित है जिस तरह दूसरा शब्द पहले शब्द से संबंधित है।
रतौंधी (Night blindness) : विटामिन ए :: स्कर्वी (Scurvy) : ?

- Ans
- 1. विटामिन डी (Vitamin D)
 - 2. विटामिन सी (Vitamin C)
 - 3. विटामिन के (Vitamin K)
 - 4. विटामिन ई (Vitamin E)

Question Type : MCQ

Question ID : 264330137346

Option 1 ID : 264330538012

Option 2 ID : 264330538014

Option 3 ID : 264330538013

Option 4 ID : 264330538011

Status : Answered

Chosen Option : 2

Q.15 एक निश्चित कूट भाषा में, 'DJ' को '410' लिखा जाता है। उस कूट भाषा में 'NS' को कैसे लिखा जाएगा?

- Ans
- 1. 1320
 - 2. 1420
 - 3. 1419
 - 4. 1319

Question Type : MCQ

Question ID : 264330137790

Option 1 ID : 264330539767

Option 2 ID : 264330539769

Option 3 ID : 264330539770

Option 4 ID : 264330539768

Status : Answered

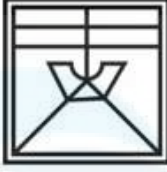
Chosen Option : 3

Q.16 उस विकल्प आकृति को चुनिए जिसमें दी गई आकृति निहित है। (घूर्णन की अनुमति नहीं है)



Ans

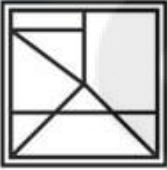
✓ 1.



✗ 2.



✗ 3.



✗ 4.



Question Type : MCQ

Question ID : 264330138474

Option 1 ID : 264330542504

Option 2 ID : 264330542505

Option 3 ID : 264330542503

Option 4 ID : 264330542506

Status : Answered

Chosen Option : 1

Q.17 दी गई श्रृंखला में निम्नलिखित में से कौन-सा अक्षर-समूह प्रश्न चिन्ह (?) के स्थान पर आएगा?
XF, UI, RL, OO, ?

Ans

✗ 1. LS

✓ 2. LR

✗ 3. KS

✗ 4. KR

Question Type : MCQ

Question ID : 264330137343

Option 1 ID : 264330537999

Option 2 ID : 264330538000

Option 3 ID : 264330538001

Option 4 ID : 264330538002

Status : Answered

Chosen Option : 2

Q.18 उस विकल्प को चुनिए जो तीसरी संख्या से ठीक उसी प्रकार संबंधित है जिस प्रकार दूसरी संख्या पहली संख्या से संबंधित है।

441 : 9261 :: 169 : ?

Ans 1. 2197

2. 2019

3. 2719

4. 2917

Question Type : MCQ

Question ID : 264330134969

Option 1 ID : 264330528813

Option 2 ID : 264330528814

Option 3 ID : 264330528812

Option 4 ID : 264330528811

Status : Answered

Chosen Option : 1

Q.19 A, B, C, D, E, F, G, और H एक वर्गाकार मेज के चारों ओर केंद्र की ओर मुख करके बैठे हैं। उनमें से चार मेज के प्रत्येक कोने पर बैठे हैं, जबकि अन्य चार प्रत्येक भुजा के ठीक मध्य में बैठे हैं।

E जो एक भुजा के मध्य में बैठा है, G के बाईं ओर चौथे स्थान पर बैठा है। G और F के मध्य केवल एक व्यक्ति बैठा है। B, E का निकटतम पड़ोसी है। B और A के बीच केवल तीन व्यक्ति बैठे हैं। A, D का पड़ोसी नहीं है। H, C के ठीक बाईं ओर बैठा है। C, E के दाईं ओर तीसरे स्थान पर बैठा है।

D के दाईं ओर तीसरे स्थान पर कौन बैठा है?

Ans 1. G

2. B

3. H

4. C

Question Type : MCQ

Question ID : 264330137352

Option 1 ID : 264330538038

Option 2 ID : 264330538036

Option 3 ID : 264330538037

Option 4 ID : 264330538035

Status : Answered

Chosen Option : 3

Q.20 पाँच लड़कों अमन, बमन, चमन, दमन और फरहान की आयु अलग-अलग हैं। फरहान केवल अमन और बमन से बड़ा है। दमन केवल चमन से छोटा है। अमन सबसे छोटा नहीं है। कितने लड़के अमन से बड़े हैं?

Ans 1. 4

2. 3

3. 1

4. 2

Question Type : MCQ

Question ID : 264330137353

Option 1 ID : 264330538042

Option 2 ID : 264330538041

Option 3 ID : 264330538039

Option 4 ID : 264330538040

Status : Answered

Chosen Option : 2

Q.1 सन् 1867 में, केशव चन्द्र सेन ने आत्माराम पांडुरंग को _____ में प्रार्थना समाज की स्थापना करने में सहायता की थी।

- Ans
- 1. पूना
 - 2. बाँम्बे
 - 3. कलकत्ता
 - 4. चेन्नई

Question Type : MCQ
Question ID : 264330138237
Option 1 ID : 264330541556
Option 2 ID : 264330541555
Option 3 ID : 264330541557
Option 4 ID : 264330541558
Status : Not Answered
Chosen Option : --

Q.2 स्टिरेप्सिन(Steapsin) एंजाइम जो बसा को बसा अम्ल और ग्लिसरॉल में बदल देता है, _____ से स्रावित होता है।

- Ans
- 1. छोटी आँत
 - 2. बड़ी आँत
 - 3. अग्न्याशय
 - 4. आमाशय

Question Type : MCQ
Question ID : 264330137067
Option 1 ID : 264330536913
Option 2 ID : 264330536914
Option 3 ID : 264330536912
Option 4 ID : 264330536911
Status : Answered
Chosen Option : 3

Q.3 5 अप्रैल, 2022 से संघ लोक सेवा आयोग (UPSC) के अध्यक्ष कौन हैं?

- Ans
- 1. श्री भारत भूषण व्यास
 - 2. सुश्री स्मिता नागराज
 - 3. डॉ. मनोज सोनी
 - 4. डॉ. टी.सी.ए. अनंत

Question Type : MCQ
Question ID : 264330134627
Option 1 ID : 264330527465
Option 2 ID : 264330527464
Option 3 ID : 264330527463
Option 4 ID : 264330527466
Status : Answered
Chosen Option : 3

Q.4 भारतीय संविधान का अनुच्छेद _____ "संवैधानिक उपचारों के अधिकार (Right to Constitutional Remedies)" से संबंधित है।

- Ans
- ✓ 1. 32 - 35
 - ✗ 2. 22 - 25
 - ✗ 3. 28 - 33
 - ✗ 4. 25 - 30

Question Type : MCQ
Question ID : 264330137081
Option 1 ID : 264330536970
Option 2 ID : 264330536968
Option 3 ID : 264330536967
Option 4 ID : 264330536969
Status : Answered
Chosen Option : 1

Q.5 भारत सरकार द्वारा प्रधानमंत्री उज्ज्वला योजना कब शुरू की गई थी?

- Ans
- ✗ 1. 2018
 - ✗ 2. 2012
 - ✗ 3. 2014
 - ✓ 4. 2016

Question Type : MCQ
Question ID : 264330138233
Option 1 ID : 264330541542
Option 2 ID : 264330541539
Option 3 ID : 264330541541
Option 4 ID : 264330541540
Status : Answered
Chosen Option : 4

Q.6 उड़ीसा का रज पर्व (Raja Parba) त्योहार जीवंत सांस्कृतिक परंपरा और कृषि जीवन से संबंधित है। यह _____ के महीने में तीन दिनों के लिए आयोजित किया जाता है।

- Ans
- ✗ 1. जुलाई
 - ✓ 2. जून
 - ✗ 3. अगस्त
 - ✗ 4. सितंबर

Question Type : MCQ
Question ID : 264330138224
Option 1 ID : 264330541503
Option 2 ID : 264330541504
Option 3 ID : 264330541505
Option 4 ID : 264330541506
Status : Not Answered
Chosen Option : --

Q.7 2022 में लोकसभा में पारित कौन-सा विधेयक राष्ट्रीय रेल एवं परिवहन संस्थान, वड़ोदरा (एक मानित विश्वविद्यालय) को गति शक्ति विश्वविद्यालय में बदलने की माँग करता है?

- Ans
- 1. विनियोग विधेयक
 - 2. प्रतिस्पर्धा (संशोधन) विधेयक
 - 3. केंद्रीय विश्वविद्यालय (संशोधन) विधेयक
 - 4. विश्वविद्यालय कानून (संशोधन) विधेयक

Question Type : MCQ
Question ID : 264330135460
Option 1 ID : 264330530747
Option 2 ID : 264330530749
Option 3 ID : 264330530748
Option 4 ID : 264330530750
Status : Not Answered
Chosen Option : --

Q.8 निम्नलिखित में से कौन-सा बौद्ध विश्वविद्यालय भारत के बिहार में स्थित है?

- Ans
- 1. नालंदा विश्वविद्यालय
 - 2. वल्लभी विश्वविद्यालय
 - 3. नवद्वीप विश्वविद्यालय
 - 4. सोमपुरी विश्वविद्यालय

Question Type : MCQ
Question ID : 264330135463
Option 1 ID : 264330530760
Option 2 ID : 264330530762
Option 3 ID : 264330530759
Option 4 ID : 264330530761
Status : Answered
Chosen Option : 1

Q.9 "स्वराज मेरा जन्मसिद्ध अधिकार है और मैं इसे लेकर रहूँगा (Freedom is my birth right and I shall have it!)" का नारा किसने दिया था?

- Ans
- 1. लाला लाजपत राय
 - 2. बदरुद्दीन तैयबजी
 - 3. बाल गंगाधर तिलक
 - 4. बिपिन चंद्र पाल

Question Type : MCQ
Question ID : 264330134618
Option 1 ID : 264330527427
Option 2 ID : 264330527430
Option 3 ID : 264330527428
Option 4 ID : 264330527429
Status : Answered
Chosen Option : 3

Q.10 _____ species are those species of plants and animals which are found exclusively in a particular area.

- Ans
- 1. Threatened
 - 2. Critically Endangered
 - 3. Endangered
 - 4. Endemic

Question Type : MCQ
Question ID : 264330134633
Option 1 ID : 264330527487
Option 2 ID : 264330527490
Option 3 ID : 264330527489
Option 4 ID : 264330527488
Status : Answered
Chosen Option : 1

Q.11 इस प्रसिद्ध भारतीय शास्त्रीय नृत्यांगना को पहचानिए।

वह भरतनाट्यम और ओडिसी नृत्य शैली दोनों की गुरु हैं। उन्हें वर्ष 1987 में संगीत नाटक अकादमी पुरस्कार मिला।

- Ans
- 1. शोवना नारायण
 - 2. पद्मा सुब्रह्मण्यम
 - 3. मृणालिनी साराभाई
 - 4. सोनल मानसिंह

Question Type : MCQ
Question ID : 264330134626
Option 1 ID : 264330527462
Option 2 ID : 264330527459
Option 3 ID : 264330527460
Option 4 ID : 264330527461
Status : Answered
Chosen Option : 4

Q.12 राष्ट्रपति द्रौपदी मुर्मू ने एक वर्चुअल इवेंट के माध्यम से _____ तक क्षय रोग को खत्म करने के लिए 'प्रधान मंत्री टीबी मुक्त भारत अभियान (Pradhan Mantri TB Mukh Bharat Abhiyan)' और निक्षय (Nikshay) 2.0 पोर्टल लॉन्च किया है।

- Ans
- 1. 2025
 - 2. 2035
 - 3. 2028
 - 4. 2030

Question Type : MCQ
Question ID : 264330137061
Option 1 ID : 264330536890
Option 2 ID : 264330536887
Option 3 ID : 264330536888
Option 4 ID : 264330536889
Status : Answered
Chosen Option : 1

Q.13 इनमें से आनंद नीलकांतन के पहले उपन्यास का शीर्षक क्या है?

Ans 1. द इममोर्टल्स ऑफ मेलुहा (The Immortals of Meluha)

2. कादंबरी (Kadambari)

3.

असुरा: टेल ऑफ द वेंक्विष्ड (Asura: Tale of the Vanquished)

4. सत्य के प्रयोग (Satya Ke Prayog)

Question Type : MCQ

Question ID : 264330134624

Option 1 ID : 264330527452

Option 2 ID : 264330527453

Option 3 ID : 264330527451

Option 4 ID : 264330527454

Status : Answered

Chosen Option : 3

Q.14 पीएम स्ट्रीट वैंडर्स आत्मनिर्भर निधि (PM SVANidhi) योजना किस मंत्रालय द्वारा शुरू की गई थी?

Ans 1. वाणिज्य मंत्रालय

2. आवासन एवं शहरी कार्य मंत्रालय

3. उपभोक्ता मामले विभाग

4. वित्त मंत्रालय

Question Type : MCQ

Question ID : 264330134603

Option 1 ID : 264330527368

Option 2 ID : 264330527370

Option 3 ID : 264330527369

Option 4 ID : 264330527367

Status : Answered

Chosen Option : 2

Q.15 'पुंग चोलोम (Pung Cholom)' आमतौर पर धार्मिक शुभ अवसरों पर गीतों और ढोल के ताल पर किया जाता है। यह प्रसिद्ध रूप से निम्नलिखित में से किस राज्य में किया जाता है?

Ans 1. मणिपुर

2. महाराष्ट्र

3. उत्तरप्रदेश

4. केरल

Question Type : MCQ

Question ID : 264330137063

Option 1 ID : 264330536896

Option 2 ID : 264330536895

Option 3 ID : 264330536897

Option 4 ID : 264330536898

Status : Answered

Chosen Option : 1

Q.16 निम्नलिखित में से कौन-सा विषय भारतीय संविधान की राज्य सूची के अंतर्गत आता है?

- Ans
- 1. बंदरगाह
 - 2. रेलवे
 - 3. कृषि
 - 4. बैंकिंग

Question Type : MCQ
Question ID : 264330137082
Option 1 ID : 264330536974
Option 2 ID : 264330536973
Option 3 ID : 264330536971
Option 4 ID : 264330536972
Status : Answered
Chosen Option : 1

Q.17 रोपण कृषि के मुख्य क्षेत्र विश्व के _____ प्रदेशों में पाए जाते हैं।

- Ans
- 1. उष्णकटिबंधीय
 - 2. घास वाले मैदानी
 - 3. रेगिस्तानी
 - 4. शीतोष्ण

Question Type : MCQ
Question ID : 264330134611
Option 1 ID : 264330527402
Option 2 ID : 264330527399
Option 3 ID : 264330527401
Option 4 ID : 264330527400
Status : Answered
Chosen Option : 4

Q.18 2011 की जनगणना के अनुसार, भारत में लिंगानुपात कितना है?

- Ans
- 1. प्रति हजार पुरुषों पर 843 महिलाएँ
 - 2. प्रति हजार पुरुषों पर 743 महिलाएँ
 - 3. प्रति हजार पुरुषों पर 643 महिलाएँ
 - 4. प्रति हजार पुरुषों पर 943 महिलाएँ

Question Type : MCQ
Question ID : 264330135445
Option 1 ID : 264330530690
Option 2 ID : 264330530688
Option 3 ID : 264330530687
Option 4 ID : 264330530689
Status : Answered
Chosen Option : 4

Q.19 According to census 2011, which state has highest decadal population growth rate between 2001 – 11?

- Ans
- 1. Bihar
 - 2. Arunachal Pradesh
 - 3. Mizoram
 - 4. Meghalaya

Question Type : MCQ
Question ID : 264330134613
Option 1 ID : 264330527408
Option 2 ID : 264330527409
Option 3 ID : 264330527410
Option 4 ID : 264330527407
Status : Answered
Chosen Option : 4

Q.20 निम्नलिखित में से कौन वाद्य यंत्र 'सरोद (Sarod)' बजाने के लिए प्रसिद्ध है?

- Ans
- 1. रवि शंकर
 - 2. बिस्मिल्लाह खान
 - 3. अमज़द अली खान
 - 4. जाकिर हुसैन

Question Type : MCQ
Question ID : 264330137079
Option 1 ID : 264330536960
Option 2 ID : 264330536961
Option 3 ID : 264330536959
Option 4 ID : 264330536962
Status : Answered
Chosen Option : 3

Q.21 _____ अंतर्राष्ट्रीय क्रिकेट परिषद (ICC) पुरुष क्रिकेट विश्व कप 2023 की मेज़बानी करेगा।

- Ans
- 1. भारत
 - 2. पाकिस्तान
 - 3. इंग्लैंड
 - 4. न्यूज़ीलैंड

Question Type : MCQ
Question ID : 264330137083
Option 1 ID : 264330536978
Option 2 ID : 264330536977
Option 3 ID : 264330536975
Option 4 ID : 264330536976
Status : Answered
Chosen Option : 1

Q.22 तराइन का प्रथम युद्ध कब लड़ा गया था?

- Ans
- 1. 1215
 - 2. 1208
 - 3. 1182
 - 4. 1191

Question Type : MCQ
Question ID : 264330138234
Option 1 ID : 264330541543
Option 2 ID : 264330541546
Option 3 ID : 264330541545
Option 4 ID : 264330541544
Status : Answered
Chosen Option : 4

Q.23 किस अधिनियम के परिणामस्वरूप, महारानी विक्टोरिया, जो ब्रिटेन की शासक थीं, 1858 में "भारत की मलिका (Empress of India)" की उपाधि के साथ भारत में ब्रिटिश क्षेत्रों की संप्रभु भी बन गईं?

- Ans
- 1. भारत सरकार अधिनियम
 - 2. नियामक अधिनियम
 - 3. भारतीय परिषद अधिनियम
 - 4. चार्टर एक्ट

Question Type : MCQ
Question ID : 264330135474
Option 1 ID : 264330530805
Option 2 ID : 264330530806
Option 3 ID : 264330530804
Option 4 ID : 264330530803
Status : Answered
Chosen Option : 1

Q.24 इंग्लिश ईस्ट इंडिया कंपनी ने वर्ष _____ में बंगाल की दीवानी प्राप्त की।

- Ans
- 1. 1770
 - 2. 1765
 - 3. 1760
 - 4. 1755

Question Type : MCQ
Question ID : 264330134642
Option 1 ID : 264330527526
Option 2 ID : 264330527525
Option 3 ID : 264330527524
Option 4 ID : 264330527523
Status : Not Answered
Chosen Option : --

Q.25 प्रसिद्ध हीराकुद (Hirakud) कैप्टिव थर्मल पावर प्लांट निम्नलिखित में से किस राज्य में स्थित है?

- Ans
- 1. गुजरात
 - 2. तमिलनाडु
 - 3. उड़ीसा
 - 4. आंध्रप्रदेश

Question Type : MCQ
Question ID : 264330137071
Option 1 ID : 264330536928
Option 2 ID : 264330536930
Option 3 ID : 264330536927
Option 4 ID : 264330536929
Status : Answered
Chosen Option : 3

Section : English Language and Comprehension

Q.1 Identify the segment that contains a grammatical error. If there is no error, select 'No error'.

Early, during December 2021, / Lal was appointed as / the Secretary to the Lokpal.

- Ans
- 1. Early, during December 2021,
 - 2. Lal was appointed as
 - 3. No error
 - 4. the Secretary to the Lokpal.

Question Type : MCQ
Question ID : 264330136588
Option 1 ID : 264330535083
Option 2 ID : 264330535084
Option 3 ID : 264330535086
Option 4 ID : 264330535085
Status : Answered
Chosen Option : 4

Q.2 Improve the underlined part of the sentence. Choose 'No improvement' as an answer if the sentence is grammatically correct.

Each passenger is allows one piece of carry-on luggage.

- Ans
- 1. No improvement
 - 2. is allowed
 - 3. is allow
 - 4. is allowing

Question Type : MCQ
Question ID : 264330134722
Option 1 ID : 264330527846
Option 2 ID : 264330527843
Option 3 ID : 264330527845
Option 4 ID : 264330527844
Status : Answered
Chosen Option : 4

Q.3 Fill in the blank with the most appropriate option.

For months, Drupad could not taste anything he ate as regret layered _____ mud.

- Ans
- 1. his mouth like
 - 2. his mouth comparable to
 - 3. his mouth as though
 - 4. his mouth allied to

Question Type : **MCQ**
Question ID : **264330136646**
Option 1 ID : **264330535308**
Option 2 ID : **264330535309**
Option 3 ID : **264330535307**
Option 4 ID : **264330535310**
Status : **Not Answered**
Chosen Option : --

Q.4 Fill in the blank with the most appropriate choice.

During treatment, patients lay _____ on the treatment couch for around 3 hrs.

- Ans
- 1. repine
 - 2. alpine
 - 3. supine
 - 4. arsine

Question Type : **MCQ**
Question ID : **264330135773**
Option 1 ID : **264330531971**
Option 2 ID : **264330531973**
Option 3 ID : **264330531972**
Option 4 ID : **264330531974**
Status : **Answered**
Chosen Option : **3**

Q.5 Choose the word that can substitute the given group of words.

The flowers of a particular region

- Ans
- 1. Bryophyte
 - 2. Flora
 - 3. Fauna
 - 4. Bovine

Question Type : **MCQ**
Question ID : **264330134759**
Option 1 ID : **264330527985**
Option 2 ID : **264330527984**
Option 3 ID : **264330527986**
Option 4 ID : **264330527983**
Status : **Answered**
Chosen Option : **2**

Q.6 Fill in the blank with the most appropriate choice

This _____ piece of mischief by his brother brought a quiet laugh from David.

- Ans**
- 1. vesical
 - 2. classical
 - 3. whimsical
 - 4. nonsensical

Question Type : **MCQ**
Question ID : **264330135792**
Option 1 ID : **264330532046**
Option 2 ID : **264330532045**
Option 3 ID : **264330532044**
Option 4 ID : **264330532043**
Status : **Answered**
Chosen Option : **4**

Q.7 Select the word segment that substitutes (replaces) the bracketed word segment correctly and completes the sentence meaningfully. Select the option 'no correction required' if the sentence is correct as given.

He (returned back) Cambridge shortly before three o'clock.

- Ans**
- 1. appeared
 - 2. showed
 - 3. No correction required
 - 4. reached

Question Type : **MCQ**
Question ID : **264330136591**
Option 1 ID : **264330535095**
Option 2 ID : **264330535096**
Option 3 ID : **264330535098**
Option 4 ID : **264330535097**
Status : **Answered**
Chosen Option : **4**

Q.8 Select the word from the options which is similar in meaning to the bracketed part given in the sentence below.

I suppose I was looking for (a work that would give me income) and that was going to be an adventure.

- Ans**
- 1. Calling
 - 2. Activity
 - 3. Occupation
 - 4. Pursuit

Question Type : **MCQ**
Question ID : **264330136630**
Option 1 ID : **264330535244**
Option 2 ID : **264330535243**
Option 3 ID : **264330535245**
Option 4 ID : **264330535246**
Status : **Answered**
Chosen Option : **3**

Q.9 Find the part of the given sentence that has an error in it. If there is no error, choose 'No error'.

Neither I nor my friends are going too walk down that street.

- Ans**
- 1. down that street.
 - 2. Neither I nor my
 - 3. friends are going too walk
 - 4. No error

Question Type : **MCQ**

Question ID : **264330134502**

Option 1 ID : **264330526973**

Option 2 ID : **264330526971**

Option 3 ID : **264330526972**

Option 4 ID : **264330526974**

Status : **Answered**

Chosen Option : **3**

Q.10 Select the correctly spelt word.

- Ans**
- 1. Concensus
 - 2. Concencus
 - 3. Consensus
 - 4. Consensus

Question Type : **MCQ**

Question ID : **264330135789**

Option 1 ID : **264330532034**

Option 2 ID : **264330532032**

Option 3 ID : **264330532033**

Option 4 ID : **264330532031**

Status : **Answered**

Chosen Option : **1**

Q.11 In the following question, out of the given four alternatives, select the alternative which best expresses the meaning of the Idiom/Phrase.

The life and soul of the party

- Ans**
- 1. Person who brings lots of energy to the party
 - 2. A person who brings lots of gifts
 - 3. The only person who dances in the party
 - 4. Chief guest of the party

Question Type : **MCQ**

Question ID : **264330134765**

Option 1 ID : **264330528007**

Option 2 ID : **264330528010**

Option 3 ID : **264330528009**

Option 4 ID : **264330528008**

Status : **Answered**

Chosen Option : **4**

Q.12 Identify the segment that contains a grammatical error. If there is no error, select 'No error'
In 79 A.D., the Mount Vesuvius blew / its top, burying the ancient / cities of Pompeii and Herculaneum.

- Ans**
- 1. cities of Pompeii and Herculaneum.
 - 2. its top, burying the ancient
 - 3. In 79 A.D., the Mount Vesuvius blew
 - 4. No Error

Question Type : **MCQ**
Question ID : **264330135769**
Option 1 ID : **264330531957**
Option 2 ID : **264330531956**
Option 3 ID : **264330531955**
Option 4 ID : **264330531958**
Status : **Not Answered**
Chosen Option : --

Q.13 Choose the word that is opposite in meaning to the given word.

Malign

- Ans**
- 1. Align
 - 2. Cheerful
 - 3. Harangue
 - 4. Praise

Question Type : **MCQ**
Question ID : **264330135222**
Option 1 ID : **264330529811**
Option 2 ID : **264330529812**
Option 3 ID : **264330529814**
Option 4 ID : **264330529813**
Status : **Answered**
Chosen Option : **2**

Q.14 Select the most appropriate word for the given group of words.
A local meeting of party members to select candidates, elect convention delegates, etc

- Ans**
- 1. Clique
 - 2. Caravan
 - 3. Clique
 - 4. Caucus

Question Type : **MCQ**
Question ID : **264330135782**
Option 1 ID : **264330532005**
Option 2 ID : **264330532004**
Option 3 ID : **264330532006**
Option 4 ID : **264330532003**
Status : **Not Answered**
Chosen Option : --

Q.15 Select the most appropriate synonym of the given word.

Console

- Ans 1. Solace
 2. Arteriole
 3. Fret
 4. Torment

Question Type : MCQ
Question ID : 264330135783
Option 1 ID : 264330532008
Option 2 ID : 264330532007
Option 3 ID : 264330532009
Option 4 ID : 264330532010
Status : Answered
Chosen Option : 1

Q.16 Four sentences are given, out of which three have spelling errors. Choose the sentence with all correct spelt words.

- Ans 1.
You could have seen in them a cemetery or a war memorial.
 2. The main problem, I beleive, lies elsewhere.
 3. Jerry is an amatuer who dances because he feels like it.
 4. He said the goverment remained committed to peace.

Question Type : MCQ
Question ID : 264330136610
Option 1 ID : 264330535169
Option 2 ID : 264330535168
Option 3 ID : 264330535167
Option 4 ID : 264330535170
Status : Answered
Chosen Option : 1

Q.17 Fill in the blank with the most appropriate option.

This change is responsible for a recent _____ the number of cases of cancer in this age group.

- Ans 1. rise at
 2. rise in
 3. rise of
 4. rise to

Question Type : MCQ
Question ID : 264330136611
Option 1 ID : 264330535173
Option 2 ID : 264330535172
Option 3 ID : 264330535171
Option 4 ID : 264330535174
Status : Answered
Chosen Option : 2

Q.18 Select the most appropriate meaning of the bracketed idiom in the given sentence.

Later, Brooks' brother alleged that racism helped put the (pedal to the metal).

- Ans**
- 1. Very excessive
 - 2. To go full speed, especially while driving a vehicle
 - 3. Avoid responsibility by giving it to someone else
 - 4. To enjoy yourself by going out

Question Type : **MCQ**
Question ID : **264330135788**
Option 1 ID : **264330532028**
Option 2 ID : **264330532030**
Option 3 ID : **264330532027**
Option 4 ID : **264330532029**
Status : **Answered**
Chosen Option : **3**

Q.19 Select the most appropriate option to substitute the bracketed segment in the given sentence. If there is no need to substitute it, select 'no substitution required'.

(In fact, climbing fern is spreading so rapidly that its) now the state's worst invasive weed.

- Ans**
- 1. No substitution required
 - 2. In fact, climbing fern is spreading so rapidly that it's
 - 3. In fact, climbing fern is spread so rapidly that its
 - 4. In fact, climbing fern is spreading so rapid that it's

Question Type : **MCQ**
Question ID : **264330135798**
Option 1 ID : **264330532070**
Option 2 ID : **264330532068**
Option 3 ID : **264330532069**
Option 4 ID : **264330532067**
Status : **Answered**
Chosen Option : **2**

Q.20 Select the most appropriate antonym to substitute the (bracketed) word in the given sentence.

It would effectively rouse people's ardour to invest, and help to (discourage) the transfer of capital abroad.

- Ans**
- 1. Intolerable
 - 2. Persuade
 - 3. Industrious
 - 4. Construe

Question Type : **MCQ**
Question ID : **264330135786**
Option 1 ID : **264330532020**
Option 2 ID : **264330532019**
Option 3 ID : **264330532022**
Option 4 ID : **264330532021**
Status : **Answered**
Chosen Option : **2**

Comprehension:

In the following passage some of the words have been deleted. Read the passage carefully and select the correct answer for the given blank out of the four alternatives.

Intriguingly, those who (1) _____ the psychobiotic diet reported they felt less stressed compared (2) _____ those who followed the control diet. There was also a direct correlation between how strictly (3) _____ followed the diet and their perceived stress levels, with those who (4) _____ more psychobiotic foods during the four-week period reporting the (5) _____ reduction in perceived stress levels.

SubQuestion No : 21

Q.21 Select the most appropriate option to fill in blank number 1.

- Ans**
- 1. believed
 - 2. casted
 - 3. followed
 - 4. bellowed

Question Type : **MCQ**
Question ID : **264330135213**
Option 1 ID : **264330529776**
Option 2 ID : **264330529778**
Option 3 ID : **264330529775**
Option 4 ID : **264330529777**
Status : **Answered**
Chosen Option : **3**

Comprehension:

In the following passage some of the words have been deleted. Read the passage carefully and select the correct answer for the given blank out of the four alternatives.

Intriguingly, those who (1) _____ the psychobiotic diet reported they felt less stressed compared (2) _____ those who followed the control diet. There was also a direct correlation between how strictly (3) _____ followed the diet and their perceived stress levels, with those who (4) _____ more psychobiotic foods during the four-week period reporting the (5) _____ reduction in perceived stress levels.

SubQuestion No : 22

Q.22 Select the most appropriate option to fill in blank number 2.

- Ans**
- 1. of
 - 2. with
 - 3. on
 - 4. by

Question Type : **MCQ**
Question ID : **264330135214**
Option 1 ID : **264330529781**
Option 2 ID : **264330529780**
Option 3 ID : **264330529779**
Option 4 ID : **264330529782**
Status : **Not Answered**
Chosen Option : **--**

Comprehension:

In the following passage some of the words have been deleted. Read the passage carefully and select the correct answer for the given blank out of the four alternatives.

Intriguingly, those who (1) _____ the probiotic diet reported they felt less stressed compared (2) _____ those who followed the control diet. There was also a direct correlation between how strictly (3) _____ followed the diet and their perceived stress levels, with those who (4) _____ more probiotic foods during the four-week period reporting the (5) _____ reduction in perceived stress levels.

SubQuestion No : 23

Q.23 Select the most appropriate option to fill in blank number 3.

- Ans
- 1. nomads
 - 2. spectators
 - 3. animals
 - 4. participants

Question Type : **MCQ**

Question ID : **264330135215**

Option 1 ID : **264330529783**

Option 2 ID : **264330529785**

Option 3 ID : **264330529784**

Option 4 ID : **264330529786**

Status : **Answered**

Chosen Option : **4**

Comprehension:

In the following passage some of the words have been deleted. Read the passage carefully and select the correct answer for the given blank out of the four alternatives.

Intriguingly, those who (1) _____ the probiotic diet reported they felt less stressed compared (2) _____ those who followed the control diet. There was also a direct correlation between how strictly (3) _____ followed the diet and their perceived stress levels, with those who (4) _____ more probiotic foods during the four-week period reporting the (5) _____ reduction in perceived stress levels.

SubQuestion No : 24

Q.24 Select the most appropriate option to fill in blank number 4.

- Ans
- 1. staked
 - 2. raked
 - 3. ate
 - 4. eroded

Question Type : **MCQ**

Question ID : **264330135216**

Option 1 ID : **264330529789**

Option 2 ID : **264330529788**

Option 3 ID : **264330529790**

Option 4 ID : **264330529787**

Status : **Answered**

Chosen Option : **3**

Comprehension:

In the following passage some of the words have been deleted. Read the passage carefully and select the correct answer for the given blank out of the four alternatives.

Intriguingly, those who (1) _____ the probiotic diet reported they felt less stressed compared (2) _____ those who followed the control diet. There was also a direct correlation between how strictly (3) _____ followed the diet and their perceived stress levels, with those who (4) _____ more probiotic foods during the four-week period reporting the (5) _____ reduction in perceived stress levels.

SubQuestion No : 25

Q.25 Select the most appropriate option to fill in blank number 5.

- Ans**
- 1. greater
 - 2. greatest
 - 3. greatly
 - 4. great

Question Type : **MCQ**

Question ID : **264330135217**

Option 1 ID : **264330529792**

Option 2 ID : **264330529793**

Option 3 ID : **264330529794**

Option 4 ID : **264330529791**

Status : **Answered**

Chosen Option : **2**