

## Multi Tasking Non Technical Staff and Havaladar CBIC and CBN Examination 2022

Roll Number	
Candidate Name	
Venue Name	iON Digital Zone iDZ Arrah
Exam Date	10/05/2023
Exam Time	12:00 PM - 2:00 PM
Subject	MTS Non Tech Havaladar CBIC and CBN Examination 2022

### Section : Numerical and Mathematical Ability

Q.1  $\frac{56}{7} \times \left( \frac{24}{81} \times \frac{729}{72} \right) + \frac{42}{6}$  का मान क्या है?

- Ans
- 1. 33
  - 2. 32
  - 3. 31
  - 4. 30

Question Type : MCQ

Question ID : 264330139072

Option 1 ID : 264330544895

Option 2 ID : 264330544898

Option 3 ID : 264330544897

Option 4 ID : 264330544896

Status : Answered

Chosen Option : 3

Q.2 12 श्रमिक 10 दिनों में Rs. 2400 कमा सकते हैं। 6 श्रमिकों की 6 दिनों की आय ज्ञात कीजिए।

- Ans
- 1. Rs. 720
  - 2. Rs. 840
  - 3. Rs. 510
  - 4. Rs. 630

Question Type : MCQ

Question ID : 264330133769

Option 1 ID : 264330524100

Option 2 ID : 264330524099

Option 3 ID : 264330524102

Option 4 ID : 264330524101

Status : Marked For Review

Chosen Option : 1

# Test Prime

ALL EXAMS,  
ONE SUBSCRIPTION



**70,000+**  
Mock Tests



Personalised  
Report Card



Unlimited  
Re-Attempt



**600+**  
Exam Covered



Previous Year  
Papers



**500%**  
Refund



**ATTEMPT FREE MOCK NOW**

Q.3 9 लड़के और 12 पुरुष एक काम को 24 दिनों में पूरा कर सकते हैं। प्रत्येक लड़का काम को पूरा करने में एक पुरुष द्वारा लिए गए समय से तीन गुना समय लेता है। 15 पुरुष उसी काम को कितने दिनों में पूरा करेंगे?

- Ans
- 1. 26 दिन
  - 2. 22 दिन
  - 3. 24 दिन
  - 4. 30 दिन

Question Type : MCQ

Question ID : 264330137646

Option 1 ID : 264330539192

Option 2 ID : 264330539191

Option 3 ID : 264330539193

Option 4 ID : 264330539194

Status : Answered

Chosen Option : 3

Q.4 निम्न तालिका में एक शॉपिंग ऐप द्वारा 3 वर्षों में बेचे गए उत्पादों को दर्शाया गया है। सभी तीन वर्षों में ऐप द्वारा बेचे गए कपड़ों की औसत संख्या ज्ञात कीजिए।

Products	2019	2020	2021
Cloth	824	476	500
Electronics	750	820	450
Makeup	660	810	510
Footwear	470	390	790

Products = उत्पाद, Cloth = कपड़े, Electronics = इलेक्ट्रॉनिक्स, Makeup = मेकअप, Footwear = फुटवेयर

- Ans
- 1. 450
  - 2. 740
  - 3. 600
  - 4. 530

Question Type : MCQ

Question ID : 264330135407

Option 1 ID : 264330530538

Option 2 ID : 264330530535

Option 3 ID : 264330530537

Option 4 ID : 264330530536

Status : Answered

Chosen Option : 3

Q.5 उस पतंग का क्षेत्रफल ज्ञात कीजिए जिसके विकर्ण 22 cm और 6 cm हैं।

- Ans
- 1. 50 cm<sup>2</sup>
  - 2. 66 cm<sup>2</sup>
  - 3. 100 cm<sup>2</sup>
  - 4. 88 cm<sup>2</sup>

Question Type : MCQ

Question ID : 264330133774

Option 1 ID : 264330524122

Option 2 ID : 264330524119

Option 3 ID : 264330524121

Option 4 ID : 264330524120

Status : Answered

Chosen Option : 2

Q.6 1000 मीटर लंबी एक रेलगाड़ी 72 km/hr की चाल से चल रही है। यदि यह एक पुल को 85 सेकंड में पार करती है, तो पुल की लंबाई कितनी है?

- Ans
- ✓ 1. 700 मीटर
  - ✗ 2. 800 मीटर
  - ✗ 3. 750 मीटर
  - ✗ 4. 950 मीटर

Question Type : MCQ

Question ID : 264330137667

Option 1 ID : 264330539275

Option 2 ID : 264330539276

Option 3 ID : 264330539277

Option 4 ID : 264330539278

Status : Answered

Chosen Option : 1

Q.7 एक वस्तु का अंकित मूल्य उसके क्रय मूल्य का 150 प्रतिशत है। यदि 30 प्रतिशत की छूट दी जाती है, तो लाभ प्रतिशत क्या होगा?

- Ans
- ✗ 1. 6 प्रतिशत
  - ✓ 2. 5 प्रतिशत
  - ✗ 3. 3 प्रतिशत
  - ✗ 4. 4 प्रतिशत

Question Type : MCQ

Question ID : 264330137677

Option 1 ID : 264330539317

Option 2 ID : 264330539315

Option 3 ID : 264330539318

Option 4 ID : 264330539316

Status : Answered

Chosen Option : 2

Q.8 4 संख्याओं का औसत 45 है। पहली दो संख्याओं का औसत अन्य दो संख्याओं के औसत का तीन गुना है। पहली दो संख्याओं का योग क्या है?

- Ans
- ✗ 1. 105
  - ✗ 2. 125
  - ✗ 3. 122
  - ✓ 4. 135

Question Type : MCQ

Question ID : 264330137668

Option 1 ID : 264330539280

Option 2 ID : 264330539279

Option 3 ID : 264330539281

Option 4 ID : 264330539282

Status : Marked For Review

Chosen Option : 4

Q.9 एक जार में दूध और पानी का मिश्रण है, जिसमें 50% पानी है। इस मिश्रण के एक अंश/भाग को एक दूसरे मिश्रण, जिसमें 29% पानी है, से बदल दिया जाता है। अब जार में पानी का प्रतिशत 36% हो जाता है। मूल मिश्रण का कितना अंश/भाग बदला गया था?

Ans

✓ 1.  $\frac{2}{3}$

✗ 2.  $\frac{4}{5}$

✗ 3.  $\frac{3}{2}$

✗ 4.  $\frac{1}{3}$

Question Type : MCQ

Question ID : 264330135090

Option 1 ID : 264330529295

Option 2 ID : 264330529298

Option 3 ID : 264330529296

Option 4 ID : 264330529297

Status : Answered

Chosen Option : 2

Q.10 तीन कपों में दूध और पानी का मिश्रण 4:5, 5:6, 9:7 के अनुपात में है। पहले कप से 36 लीटर और दूसरे कप से 44 लीटर मात्रा ली जाती है। तीसरे कप से कितनी मात्रा ली जाए कि तीनों कपों के अंतिम मिश्रण में दूध और पानी का अनुपात 1 : 1 हो?

Ans

✓ 1. 64 लीटर

✗ 2. 60 लीटर

✗ 3. 54 लीटर

✗ 4. 32 लीटर

Question Type : MCQ

Question ID : 264330137674

Option 1 ID : 264330539304

Option 2 ID : 264330539303

Option 3 ID : 264330539305

Option 4 ID : 264330539306

Status : Answered

Chosen Option : 1

Q.11 साधारण ब्याज पर एक धनराशि 2 वर्ष में Rs. 212 और 4 वर्ष में Rs. 224 हो जाती है। वह धनराशि है:

Ans

✗ 1. Rs. 100

✓ 2. Rs. 200

✗ 3. Rs. 400

✗ 4. Rs. 500

Question Type : MCQ

Question ID : 264330133846

Option 1 ID : 264330524409

Option 2 ID : 264330524408

Option 3 ID : 264330524407

Option 4 ID : 264330524410

Status : Answered

Chosen Option : 2

Q.12 वह सबसे छोटी पूर्ण वर्ग संख्या कौन-सी है जो 14, 84 और 28 में से प्रत्येक से पूर्णतः विभाज्य है?

- Ans  1. 7056  
 2. 1764  
 3. 441  
 4. 3528

Question Type : MCQ

Question ID : 264330137680

Option 1 ID : 264330539328

Option 2 ID : 264330539330

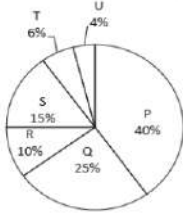
Option 3 ID : 264330539327

Option 4 ID : 264330539329

Status : Marked For Review

Chosen Option : 4

Q.13 नीचे दिए गए वृत्त आलेख में एक वर्ष में छः कंपनियों द्वारा बेचे गए मोबाइल फोन की संख्या को दर्शाया गया है।  
छः कंपनियों द्वारा बेचे गए कुल मोबाइल फोन की संख्या 300 है। इनमें से किसी एक विशिष्ट कंपनी द्वारा बेचे गए मोबाइल फोन की संख्या को इन सभी छः कंपनियों द्वारा बेचे गए मोबाइल फोन की कुल संख्या के प्रतिशत के रूप में दर्शाया गया है।



Q और S द्वारा बेचे गए मोबाइल फोन की औसत संख्या कितनी है?

- Ans  1. 45  
 2. 80  
 3. 60  
 4. 75

Question Type : MCQ

Question ID : 264330137684

Option 1 ID : 264330539346

Option 2 ID : 264330539343

Option 3 ID : 264330539344

Option 4 ID : 264330539345

Status : Answered

Chosen Option : 3

Q.14 यदि  $p : q = 4 : 7$  और  $q : r = 3 : 5$  है, तो  $2p : 3q : 5r$  का मान क्या है?

- Ans
- 1. 36 : 60 : 181
  - 2. 24 : 63 : 175
  - 3. 25 : 72 : 180
  - 4. 28 : 79 : 188

Question Type : MCQ  
Question ID : 264330137673  
Option 1 ID : 264330539301  
Option 2 ID : 264330539300  
Option 3 ID : 264330539302  
Option 4 ID : 264330539299  
Status : Answered  
Chosen Option : 2

Q.15 Rs. x पर 25% वार्षिक दर पर 2 वर्ष के लिए चक्रवृद्धि ब्याज और साधारण ब्याज के बीच का अंतर Rs. 325 है। x का मान ज्ञात कीजिए।

- Ans
- 1. Rs. 5300
  - 2. Rs. 2400
  - 3. Rs. 5200
  - 4. Rs. 4000

Question Type : MCQ  
Question ID : 264330138381  
Option 1 ID : 264330542131  
Option 2 ID : 264330542133  
Option 3 ID : 264330542132  
Option 4 ID : 264330542134  
Status : Answered  
Chosen Option : 3

Q.16  $(22)^2 - (14)^2 - 207$  का मान ज्ञात कीजिए:

- Ans
- 1. 81
  - 2. 77
  - 3. 97
  - 4. 99

Question Type : MCQ  
Question ID : 264330135391  
Option 1 ID : 264330530472  
Option 2 ID : 264330530471  
Option 3 ID : 264330530474  
Option 4 ID : 264330530473  
Status : Answered  
Chosen Option : 1

Q.17 40 छड़ियों की औसत ऊँचाई 156 cm है। 162 cm औसत ऊँचाई की कुछ छड़ियों को निकाल दिया जाता है। यदि छड़ियों की नई औसत ऊँचाई 150 cm है, तो कितनी छड़ियाँ शेष बची हैं?

- Ans
- 1. 16
  - 2. 20
  - 3. 25
  - 4. 32

Question Type : MCQ

Question ID : 264330137878

Option 1 ID : 264330540122

Option 2 ID : 264330540120

Option 3 ID : 264330540119

Option 4 ID : 264330540121

Status : Answered

Chosen Option : 2

Q.18 Rs. 10000 क्रय मूल्य वाले एक खराब डाइनिंग सेट को 10% हानि पर बेचा जा रहा है। यदि मूल्य में क्रमशः 5% की कमी और की जाती है, तो डाइनिंग सेट का विक्रय मूल्य है:

- Ans
- 1. Rs. 7850
  - 2. Rs. 8550
  - 3. Rs. 9000
  - 4. Rs. 9150

Question Type : MCQ

Question ID : 264330138706

Option 1 ID : 264330543433

Option 2 ID : 264330543431

Option 3 ID : 264330543432

Option 4 ID : 264330543434

Status : Answered

Chosen Option : 2

Q.19 रमेश एक वस्तु को 20 प्रतिशत की हानि पर बेचता है। यदि वह इसे 30 प्रतिशत कम मूल्य पर खरीदता है और इसे Rs. 36 कम मूल्य पर बेचता है, तो उसका लाभ 10 प्रतिशत होगा। वस्तु का क्रय मूल्य क्या है?

- Ans
- 1. 1500
  - 2. 1200
  - 3. 1000
  - 4. 900

Question Type : MCQ

Question ID : 264330137672

Option 1 ID : 264330539295

Option 2 ID : 264330539296

Option 3 ID : 264330539297

Option 4 ID : 264330539298

Status : Answered

Chosen Option : 2

Q.20 एक त्रिभुज की भुजाएँ 20 cm, 48 cm और 52 cm हैं। त्रिभुज का क्षेत्रफल क्या है?

- Ans
- 1. 560 cm<sup>2</sup>
  - 2. 245 cm<sup>2</sup>
  - 3. 320 cm<sup>2</sup>
  - 4. 480 cm<sup>2</sup>

Question Type : MCQ

Question ID : 264330137659

Option 1 ID : 264330539244

Option 2 ID : 264330539243

Option 3 ID : 264330539246

Option 4 ID : 264330539245

Status : Answered

Chosen Option : 4

Section : Reasoning Ability and Problem Solving

Q.1 A, B, C, D और E एक सीधी पंक्ति में उत्तर की ओर मुख करके बैठे हैं। C, B और D के ठीक बीच में बैठा है। E, B के ठीक बाएँ पर है। D बेंच के छोर पर नहीं बैठा है। D के ठीक दाईं ओर कौन बैठा है?

- Ans
- 1. B
  - 2. A
  - 3. E
  - 4. C

Question Type : MCQ

Question ID : 264330137590

Option 1 ID : 264330538968

Option 2 ID : 264330538967

Option 3 ID : 264330538970

Option 4 ID : 264330538969

Status : Answered

Chosen Option : 2

Q.2 दी गई श्रृंखला में निम्नलिखित में से कौन-सा अक्षर प्रश्न चिन्ह (?) के स्थान पर आएगा?  
L, K, I, F, B, W, ?

- Ans
- 1. U
  - 2. M
  - 3. R
  - 4. Q

Question Type : MCQ

Question ID : 264330137581

Option 1 ID : 264330538934

Option 2 ID : 264330538931

Option 3 ID : 264330538932

Option 4 ID : 264330538933

Status : Answered

Chosen Option : 4

Q.3 तीन कथन दिए गए हैं और दो निष्कर्ष I और II दिए गए हैं। कथनों को सत्य मानते हुए, चाहे वे सामान्यतः ज्ञात तथ्यों से अलग प्रतीत होते हों, निश्चय कीजिए कि कौन-सा निष्कर्ष तार्किक रूप से कथनों के अनुसार है।  
कथन:

कुछ नगर, शहर हैं।

कुछ शहर, गाँव हैं।

सभी गाँव, राज्य हैं।

निष्कर्ष:

I. कुछ नगर, गाँव नहीं हैं।

II. कुछ राज्य, शहर हैं।

Ans

- ✗ 1. दोनों निष्कर्ष I और II कथनों के अनुसार हैं।
- ✗ 2. केवल निष्कर्ष I कथनों के अनुसार है।
- ✗ 3. न तो निष्कर्ष I और न ही II कथनों के अनुसार है।
- ✓ 4. केवल निष्कर्ष II कथनों के अनुसार है।

Question Type : MCQ

Question ID : 264330137593

Option 1 ID : 264330538981

Option 2 ID : 264330538979

Option 3 ID : 264330538982

Option 4 ID : 264330538980

Status : Answered

Chosen Option : 4

Q.4 दिए गए समीकरण को सही करने के लिए किन दो संख्याओं को आपस में बदला जाना चाहिए?

$$9 + 30 \times 15 - 18 \div 6 = 274$$

Ans

- ✗ 1. 9 और 30
- ✗ 2. 15 और 18
- ✗ 3. 18 और 9
- ✓ 4. 30 और 18

Question Type : MCQ

Question ID : 264330133577

Option 1 ID : 264330523331

Option 2 ID : 264330523332

Option 3 ID : 264330523334

Option 4 ID : 264330523333

Status : Answered

Chosen Option : 4

**Q.5** Q, R, और S एक सीधी पंक्ति में दक्षिण की ओर मुख करके बैठे हैं। U, W, और X एक समानांतर पंक्ति में उत्तर की ओर मुख करके बैठे हैं। Q, S के ठीक बाएँ पर और W के सम्मुख बैठा है। R, जो U के सम्मुख है, S के ठीक दाईं ओर बैठा है। U के ठीक दाईं ओर कौन बैठा है?

- Ans**
- 1. S
  - 2. Q
  - 3. X
  - 4. W

Question Type : **MCQ**

Question ID : **264330137589**

Option 1 ID : **264330538963**

Option 2 ID : **264330538964**

Option 3 ID : **264330538965**

Option 4 ID : **264330538966**

Status : **Answered**

Chosen Option : **3**

**Q.6** यदि एक दर्पण को रेखा AB पर रखा जाए, तो दिए गए विकल्पों में से कौन-सी आकृति प्रश्न आकृति का सही प्रतिबिम्ब होगी?



- Ans**
- 1.
  - 2.
  - 3.
  - 4.

Question Type : **MCQ**

Question ID : **264330135613**

Option 1 ID : **264330531351**

Option 2 ID : **264330531353**

Option 3 ID : **264330531354**

Option 4 ID : **264330531352**

Status : **Answered**

Chosen Option : **1**

Q.7 सात व्यक्ति A, B, C, D, E, F और G अपने कद की तुलना कर रहे हैं। कोई भी दो व्यक्तियों का कद समान नहीं है। F, A से लंबा है, जो D और C से लंबा है। केवल दो व्यक्ति E से कद में छोटे हैं लेकिन उनमें से कोई भी C नहीं है। D सबसे छोटे कद वाला व्यक्ति नहीं है। G का कद केवल एक व्यक्ति, F से छोटा है। सबसे छोटे कद वाला व्यक्ति कौन है?

- Ans
- 1. A
  - 2. E
  - 3. C
  - 4. B

Question Type : MCQ

Question ID : 264330137591

Option 1 ID : 264330538974

Option 2 ID : 264330538971

Option 3 ID : 264330538972

Option 4 ID : 264330538973

Status : Answered

Chosen Option : 4

Q.8 दी गई श्रृंखला में निम्नलिखित में से कौन-सी संख्या प्रश्न चिन्ह (?) के स्थान पर आएगी?  
92, 99, 106, 113, 120, ?

- Ans
- 1. 217
  - 2. 127
  - 3. 117
  - 4. 213

Question Type : MCQ

Question ID : 264330137595

Option 1 ID : 264330538988

Option 2 ID : 264330538990

Option 3 ID : 264330538987

Option 4 ID : 264330538989

Status : Answered

Chosen Option : 2

Q.9 उस विकल्प आकृति को चुनिए जिसमें दी गई आकृति निहित है। (घूर्णन की अनुमति नहीं है)

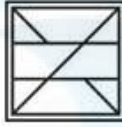


Ans

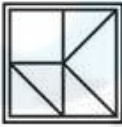
✗ 1.



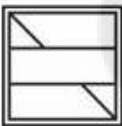
✓ 2.



✗ 3.



✗ 4.



Question Type : MCQ

Question ID : 264330135612

Option 1 ID : 264330531350

Option 2 ID : 264330531347

Option 3 ID : 264330531348

Option 4 ID : 264330531349

Status : Answered

Chosen Option : 2

Q.10 एक निश्चित कूट भाषा में, 'EMPIRE' को '5P16L18H' लिखा जाता है। उस कूट भाषा में 'EXPAND' को कैसे लिखा जाएगा?

Ans

✗ 1. 5G16D14G

✓ 2. 5A16D14G

✗ 3. 5A16D18G

✗ 4. 5A61D14G

Question Type : MCQ

Question ID : 264330134983

Option 1 ID : 264330528870

Option 2 ID : 264330528869

Option 3 ID : 264330528868

Option 4 ID : 264330528867

Status : Answered

Chosen Option : 2

Q.11 उस विकल्प को चुनिए जो तीसरे शब्द से ठीक उसी तरह संबंधित है जिस तरह दूसरा शब्द पहले शब्द से संबंधित है।  
न्यायाधीश (जज) : अदालत :: जुआरी : ?

- Ans
- 1. स्टेशन
  - 2. हैंगर
  - 3. समुद्र
  - 4. जुआघर

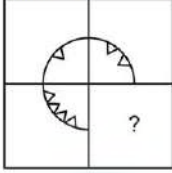
Question Type : MCQ  
Question ID : 264330134977  
Option 1 ID : 264330528844  
Option 2 ID : 264330528843  
Option 3 ID : 264330528846  
Option 4 ID : 264330528845  
Status : Answered  
Chosen Option : 4

Q.12 दिए गए पैटर्न का ध्यानपूर्वक अध्ययन कीजिए और उस संख्या को चुनिए जो इसमें प्रश्न चिन्ह (?) के स्थान पर आ सकती है।  
पहली पंक्ति- 25, 40, 10  
दूसरी पंक्ति- 55, 70, 40  
तीसरी पंक्ति- 33, 48, ?

- Ans
- 1. 17
  - 2. 18
  - 3. 19
  - 4. 15

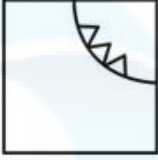
Question Type : MCQ  
Question ID : 264330137597  
Option 1 ID : 264330538995  
Option 2 ID : 264330538997  
Option 3 ID : 264330538998  
Option 4 ID : 264330538996  
Status : Answered  
Chosen Option : 2

Q.13 उस विकल्प आकृति को चुनिए जो पैटर्न को पूरा करने के लिए नीचे दी गई आकृति में प्रश्न चिन्ह (?) के स्थान पर आएगी। (घूर्णन की अनुमति नहीं है)



Ans

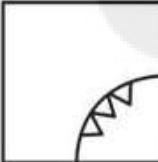
✗ 1.



✗ 2.



✗ 3.



✓ 4.



Question Type : MCQ

Question ID : 264330137602

Option 1 ID : 264330539015

Option 2 ID : 264330539016

Option 3 ID : 264330539017

Option 4 ID : 264330539018

Status : Answered

Chosen Option : 4

Q.14 एक निश्चित कूट भाषा में, 'IMAGE' को 'RN1TV' लिखा जाता है। उस कूट भाषा में 'KNIFE' को कैसे लिखा जाएगा?

Ans

✓ 1. PM9UV

✗ 2. PIMVU

✗ 3. P9MUUV

✗ 4. PM9VU

Question Type : MCQ

Question ID : 264330134981

Option 1 ID : 264330528859

Option 2 ID : 264330528860

Option 3 ID : 264330528861

Option 4 ID : 264330528862

Status : Answered

Chosen Option : 1

Q.15 उस विकल्प को चुनिए जो तीसरे अक्षर से ठीक उसी प्रकार संबंधित है जिस प्रकार दूसरा अक्षर पहले अक्षर से संबंधित है।

A : Z :: I : ?

- Ans
- 1. V
  - 2. R
  - 3. S
  - 4. T

Question Type : MCQ

Question ID : 264330137584

Option 1 ID : 264330538946

Option 2 ID : 264330538944

Option 3 ID : 264330538943

Option 4 ID : 264330538945

Status : Answered

Chosen Option : 2

Q.16 एक निश्चित कूट भाषा में, 'RATIO' को 'ITARO' लिखा जाता है। उस भाषा में 'UNTIL' को कैसे लिखा जाएगा?

- Ans
- 1. INTUL
  - 2. ITLUN
  - 3. ITUNL
  - 4. ITNUL

Question Type : MCQ

Question ID : 264330137858

Option 1 ID : 264330540039

Option 2 ID : 264330540041

Option 3 ID : 264330540042

Option 4 ID : 264330540040

Status : Answered

Chosen Option : 4

Q.17 उस विकल्प को चुनिए जो तीसरे शब्द से ठीक उसी प्रकार संबंधित है जिस प्रकार दूसरा शब्द पहले शब्द से संबंधित है।

मलेशिया : कुआलालंपुर (Kuala Lumpur) :: भूटान : ?

- Ans
- 1. थिम्फू
  - 2. काठमांडू
  - 3. ढाका
  - 4. इस्लामाबाद

Question Type : MCQ

Question ID : 264330137583

Option 1 ID : 264330538941

Option 2 ID : 264330538942

Option 3 ID : 264330538940

Option 4 ID : 264330538939

Status : Answered

Chosen Option : 1

Q.18 दो कथन दिए गए हैं और दो निष्कर्ष I और II दिए गए हैं। कथनों को सत्य मानते हुए, चाहे वे सामान्यतः ज्ञात तथ्यों से अलग प्रतीत होते हों, निश्चय कीजिए कि कौन-सा निष्कर्ष तार्किक रूप से कथनों के अनुसार है।  
कथन:

सभी विषय, कठिन हैं।

कोई कठिन, आसान नहीं है।

निष्कर्ष:

I. कुछ विषय, आसान हैं।

II. कुछ आसान, कठिन हैं।

Ans

- ✗ 1. केवल निष्कर्ष II कथनों के अनुसार है।  
✗ 2. केवल निष्कर्ष I कथनों के अनुसार है।  
✗ 3. दोनों निष्कर्ष I और II कथनों के अनुसार हैं।  
✓ 4. न तो निष्कर्ष I और न ही II कथनों के अनुसार है।

Question Type : MCQ

Question ID : 264330137592

Option 1 ID : 264330538976

Option 2 ID : 264330538975

Option 3 ID : 264330538977

Option 4 ID : 264330538978

Status : Answered

Chosen Option : 4

Q.19 निम्नलिखित प्रश्न में, दी गई श्रृंखला में लुप्त संख्या को चुनिए ।

1, 22, 43, 64, 85, ?

Ans

- ✗ 1. 110  
✓ 2. 106  
✗ 3. 108  
✗ 4. 114

Question Type : MCQ

Question ID : 264330138489

Option 1 ID : 264330542565

Option 2 ID : 264330542563

Option 3 ID : 264330542564

Option 4 ID : 264330542566

Status : Answered

Chosen Option : 2

Q.20 दिए गए समीकरण को सही करने के लिए किन दो संख्याओं को आपस में बदला जाना चाहिए?  
 $11 \times 2 + 15 \div 13 - 3 = 14$

- Ans
- 1. 14 और 15
  - 2. 11 और 15
  - 3. 13 और 3
  - 4. 3 और 2

Question Type : MCQ  
Question ID : 264330137598  
Option 1 ID : 264330539002  
Option 2 ID : 264330539000  
Option 3 ID : 264330538999  
Option 4 ID : 264330539001  
Status : Answered  
Chosen Option : 3

Section : General Awareness

Q.1 नीरज चोपड़ा ने \_\_\_\_\_ के थ्रो (throw) के साथ टोक्यो ओलंपिक 2020 में ऐतिहासिक स्वर्ण पदक जीता।

- Ans
- 1. 87.58 m
  - 2. 85.58 m
  - 3. 86.58 m
  - 4. 88.58 m

Question Type : MCQ  
Question ID : 264330138250  
Option 1 ID : 264330541609  
Option 2 ID : 264330541607  
Option 3 ID : 264330541608  
Option 4 ID : 264330541610  
Status : Answered  
Chosen Option : 4

Q.2 निम्नलिखित में से कौन-सी संरचना बौद्ध धर्म से संबंधित है?

- Ans
- 1. मंडप
  - 2. पल्लव
  - 3. शिखर
  - 4. स्तूप

Question Type : MCQ  
Question ID : 264330134035  
Option 1 ID : 264330525163  
Option 2 ID : 264330525166  
Option 3 ID : 264330525164  
Option 4 ID : 264330525165  
Status : Answered  
Chosen Option : 4

Q.3 सरकार ने \_\_\_\_\_ में उद्यमशीलता को बढ़ावा देने के लिए स्टैंड-अप इंडिया योजना शुरू की है।

Ans

- 1. बुजुर्ग व्यक्तियों
- 2. विकलांग व्यक्तियों
- 3. महिलाएँ और अनुसूचित जाति/जनजाति समुदाय
- 4. ट्रांसजेंडर समुदाय

Question Type : MCQ

Question ID : 264330137761

Option 1 ID : 264330539651

Option 2 ID : 264330539652

Option 3 ID : 264330539653

Option 4 ID : 264330539654

Status : Answered

Chosen Option : 2

Q.4 राष्ट्रीय कृषि और ग्रामीण विकास बैंक का मुख्य कार्यालय \_\_\_\_\_ में स्थित है।

Ans

- 1. चेन्नई
- 2. कोलकाता
- 3. पुणे
- 4. मुंबई

Question Type : MCQ

Question ID : 264330137993

Option 1 ID : 264330540582

Option 2 ID : 264330540579

Option 3 ID : 264330540580

Option 4 ID : 264330540581

Status : Answered

Chosen Option : 3

Q.5 मंत्रिपरिषद में प्रधानमंत्री सहित मंत्रियों की कुल संख्या लोकसभा के सदस्यों की कुल संख्या के \_\_\_\_\_ प्रतिशत से अधिक नहीं होनी चाहिए।

Ans

- 1. बीस
- 2. पंद्रह
- 3. दस
- 4. बारह

Question Type : MCQ

Question ID : 264330137782

Option 1 ID : 264330539735

Option 2 ID : 264330539736

Option 3 ID : 264330539737

Option 4 ID : 264330539738

Status : Answered

Chosen Option : 3

Q.6 चपचार कुट (Chapchar kut) महोत्सव, भारत के \_\_\_\_\_ राज्य का एक प्रसिद्ध त्योहार है।

- Ans
- 1. मिज़ोरम
  - 2. पंजाब
  - 3. उत्तरप्रदेश
  - 4. तमिलनाडु

Question Type : MCQ  
Question ID : 264330135462  
Option 1 ID : 264330530755  
Option 2 ID : 264330530756  
Option 3 ID : 264330530758  
Option 4 ID : 264330530757  
Status : Answered  
Chosen Option : 1

Q.7 निम्नलिखित में से किस क्षेत्र में वर्ष भर दिन और रात लगभग बराबर होते हैं?

- Ans
- 1. पर्वतीय वन क्षेत्र
  - 2. टुंड्रा क्षेत्र
  - 3. भूमध्यरेखीय क्षेत्र
  - 4. मरुस्थलीय क्षेत्र

Question Type : MCQ  
Question ID : 264330138261  
Option 1 ID : 264330541654  
Option 2 ID : 264330541651  
Option 3 ID : 264330541652  
Option 4 ID : 264330541653  
Status : Answered  
Chosen Option : 3

Q.8 स्थानांतरी कृषि को \_\_\_\_\_ में झूम के नाम से भी जाना जाता है।

- Ans
- 1. राजस्थान
  - 2. महाराष्ट्र
  - 3. असम
  - 4. कर्नाटक

Question Type : MCQ  
Question ID : 264330137978  
Option 1 ID : 264330540519  
Option 2 ID : 264330540522  
Option 3 ID : 264330540521  
Option 4 ID : 264330540520  
Status : Answered  
Chosen Option : 3

Q.9 In which sport did Mirabai Chamu win India's first Gold Medal at the Commonwealth Games 2022?

- Ans
- 1. Boxing
  - 2. Shooting
  - 3. Weightlifting
  - 4. Archery

Question Type : MCQ  
Question ID : 264330137783  
Option 1 ID : 264330539740  
Option 2 ID : 264330539741  
Option 3 ID : 264330539742  
Option 4 ID : 264330539739  
Status : Answered  
Chosen Option : 3

Q.10 कथकली किस राज्य का शास्त्रीय नृत्य है?

- Ans
- 1. कर्नाटक
  - 2. केरल
  - 3. आंध्रप्रदेश
  - 4. तमिलनाडु

Question Type : MCQ  
Question ID : 264330137763  
Option 1 ID : 264330539659  
Option 2 ID : 264330539660  
Option 3 ID : 264330539662  
Option 4 ID : 264330539661  
Status : Answered  
Chosen Option : 2

Q.11 भारतीय संविधान के कौन-से अनुच्छेद मौलिक अधिकारों की बात करते हैं?

- Ans
- 1. अनुच्छेद 12 से 35
  - 2. अनुच्छेद 5 से 11
  - 3. अनुच्छेद 5 से 35
  - 4. अनुच्छेद 12 से 40

Question Type : MCQ  
Question ID : 264330137781  
Option 1 ID : 264330539734  
Option 2 ID : 264330539731  
Option 3 ID : 264330539732  
Option 4 ID : 264330539733  
Status : Answered  
Chosen Option : 1

Q.12 संधाल समुदाय \_\_\_\_\_ भारत का एक नृजातीय समूह है।

- Ans
- 1. पश्चिमी
  - 2. उत्तरी
  - 3. पूर्वी
  - 4. दक्षिणी

Question Type : MCQ  
Question ID : 264330135472  
Option 1 ID : 264330530796  
Option 2 ID : 264330530797  
Option 3 ID : 264330530795  
Option 4 ID : 264330530798  
Status : Answered  
Chosen Option : 2

Q.13 श्रीमंत शंकरदेव को आम तौर पर नए संगीत, नाटकीय और भाषाई शैली का पथप्रदर्शक माना जाता है। वह निम्नलिखित में से किस नृत्य शैली से संबंधित हैं?

- Ans
- 1. सन्निया
  - 2. कथकली
  - 3. ओडिसी
  - 4. मणिपुरी

Question Type : MCQ  
Question ID : 264330137988  
Option 1 ID : 264330540562  
Option 2 ID : 264330540561  
Option 3 ID : 264330540560  
Option 4 ID : 264330540559  
Status : Answered  
Chosen Option : 2

Q.14 निम्न में से कौन-सी जानी-मानी शख्सियत आधुनिक इतिहास के चरमपंथी चरण से संबंधित थे?

- Ans
- 1. ए. ओ. ह्यूम (A.O. Hume)
  - 2. बाल गंगाधर तिलक
  - 3. गोपाल कृष्ण गोखले
  - 4. पी.एम. मेहता (P.M. Mehta)

Question Type : MCQ  
Question ID : 264330134046  
Option 1 ID : 264330525208  
Option 2 ID : 264330525210  
Option 3 ID : 264330525207  
Option 4 ID : 264330525209  
Status : Answered  
Chosen Option : 2

Q.15 दंत क्षय को कम करने के लिए टूथपेस्ट में क्या मिलाया जाता है?

- Ans
- 1. लौह (Iron)
  - 2. कोबाल्ट (Cobalt)
  - 3. फ्लूराइड (Fluoride)
  - 4. मालिब्डेनम (Molybdenum)

Question Type : MCQ  
Question ID : 264330137767  
Option 1 ID : 264330539677  
Option 2 ID : 264330539678  
Option 3 ID : 264330539675  
Option 4 ID : 264330539676  
Status : Answered  
Chosen Option : 2

Q.16 लेंस की क्षमता का SI मात्रक \_\_\_\_\_ है।

- Ans
- 1. वाट (watt)
  - 2. मोल (mole)
  - 3. कैंडेला (candela)
  - 4. डाइऑप्टर (diopetre)

Question Type : MCQ  
Question ID : 264330138262  
Option 1 ID : 264330541655  
Option 2 ID : 264330541657  
Option 3 ID : 264330541656  
Option 4 ID : 264330541658  
Status : Answered  
Chosen Option : 4

Q.17 "द इन्हेरिटेंस ऑफ लॉस (The Inheritance of Loss)" निम्नलिखित में से किस लेखक द्वारा लिखा गया है?

- Ans
- 1. अनीता देसाई
  - 2. अमिताव घोष
  - 3. किरण देसाई
  - 4. झुंपा लाहिड़ी

Question Type : MCQ  
Question ID : 264330137986  
Option 1 ID : 264330540553  
Option 2 ID : 264330540554  
Option 3 ID : 264330540552  
Option 4 ID : 264330540551  
Status : Answered  
Chosen Option : 3

Q.18 केंद्रीय गृह मंत्रालय के अनुसार, 2021 की जनगणना (जो COVID 19 के कारण स्थगित हो गई थी) में पहली बार \_\_\_\_\_ का डेटा एकत्र करना था।

- Ans
- 1. अनुसूचित जनजातियों
  - 2. अनुसूचित जातियों
  - 3. आर्थिक रूप से कमजोर वर्ग
  - 4. अन्य पिछड़ा वर्ग

Question Type : MCQ  
Question ID : 264330134042  
Option 1 ID : 264330525194  
Option 2 ID : 264330525193  
Option 3 ID : 264330525191  
Option 4 ID : 264330525192  
Status : Answered  
Chosen Option : 3

Q.19 राष्ट्रीय डोपिंग रोधी विधेयक 27 जुलाई, 2022 को लोकसभा में पारित हुआ था। निम्नलिखित में से कौन-सी संस्था भारत में डोपिंग नियंत्रण कार्यक्रमों का प्रबंधन और संचालन करती है?

- Ans
- 1. राष्ट्रीय प्रतिकूल डोपिंग एजेंसी (National Adverse Doping Agency (NADA))
  - 2. राष्ट्रीय डोपिंग रोधी एजेंसी (National Anti-Doping Agency (NADA))
  - 3. राष्ट्रीय डोप परीक्षण प्रयोगशाला (National Dope Testing Laboratory (NDTL))
  - 4. राष्ट्रीय डोपिंग नियंत्रण एजेंसी (National Doping Control Agency (NDCA))

Question Type : MCQ  
Question ID : 264330134032  
Option 1 ID : 264330525154  
Option 2 ID : 264330525151  
Option 3 ID : 264330525152  
Option 4 ID : 264330525153  
Status : Answered  
Chosen Option : 2

Q.20 प्रवास में, वे कारक जो लोगों को अपने निवास स्थान अथवा उद्गम को छोड़वाने का कारण बनते हैं, \_\_\_\_\_ कहलाते हैं।

- Ans
- 1. नियमित कारक (Regular factor)
  - 2. प्रतिकर्ष कारक (Push factor)
  - 3. अनियमित कारक (Irregular factor)
  - 4. अपकर्ष कारक (Pull factor)

Question Type : MCQ  
Question ID : 264330138315  
Option 1 ID : 264330541870  
Option 2 ID : 264330541868  
Option 3 ID : 264330541869  
Option 4 ID : 264330541867  
Status : Answered  
Chosen Option : 3

Q.21 विश्व में सर्वाधिक वर्षा वाला स्थान कौन-सा है?

Ans  1. मासिनराम (Mawsynram)

2. गुवाहाटी (Guwahati)

3. ईटानगर (Itanagar)

4. अगरतला (Agartala)

Question Type : MCQ

Question ID : 264330137771

Option 1 ID : 264330539692

Option 2 ID : 264330539691

Option 3 ID : 264330539694

Option 4 ID : 264330539693

Status : Answered

Chosen Option : 1

Q.22 "उर्वरक" के संदर्भ में निम्नलिखित में से कौन-सा कथन सही नहीं है?

Ans  1. ये प्राकृतिक पदार्थ हैं

2. ये मृदा को ह्यूमस प्रदान नहीं करते

3.

इनमें पादप पोषक तत्व तुलनात्मक रूप से कम मात्रा में होते हैं

4. इन्हें खेतों में तैयार किया जा सकता है

Question Type : MCQ

Question ID : 264330138260

Option 1 ID : 264330541647

Option 2 ID : 264330541648

Option 3 ID : 264330541650

Option 4 ID : 264330541649

Status : Answered

Chosen Option : 3

Q.23 चोल काल के दौरान \_\_\_\_\_ को "ब्रह्मदेय" प्रकार की भूमि के रूप में जाना जाता था।

Ans  1. राजकीय व्यक्ति की भूमि

2. मंदिर को उपहार में दी गई भूमि

3. गैर-ब्राह्मण किसान स्वामी की भूमि

4. ब्राह्मणों को उपहार में दी गई भूमि

Question Type : MCQ

Question ID : 264330138268

Option 1 ID : 264330541681

Option 2 ID : 264330541680

Option 3 ID : 264330541679

Option 4 ID : 264330541682

Status : Answered

Chosen Option : 4

Q.24 निम्नलिखित स्वतंत्रता सेनानियों में से कौन 1885 में पुणे में फर्ग्युसन (Fergusson) कॉलेज के संस्थापकों में से एक था?

- Ans
- 1. सरदार वल्लभ भाई पटेल
  - 2. बाल गंगाधर तिलक
  - 3. लाला लाजपत राय
  - 4. सुभाष चंद्र बोस

Question Type : MCQ  
Question ID : 264330135475  
Option 1 ID : 264330530808  
Option 2 ID : 264330530809  
Option 3 ID : 264330530810  
Option 4 ID : 264330530807  
Status : Answered  
Chosen Option : 1

Q.25 निम्नलिखित में से किस गायक को दादा साहब फाल्के पुरस्कार से सम्मानित किया गया है?

- Ans
- 1. सोनू निगम
  - 2. आशा भोसले
  - 3. अरिजीत सिंह
  - 4. नेहा कक्कड़

Question Type : MCQ  
Question ID : 264330137779  
Option 1 ID : 264330539726  
Option 2 ID : 264330539724  
Option 3 ID : 264330539723  
Option 4 ID : 264330539725  
Status : Answered  
Chosen Option : 2

Section : English Language and Comprehension

Q.1 Select the correctly spelt word.

- Ans
- 1. Dominiering
  - 2. Domineering
  - 3. Domoneering
  - 4. Dominering

Question Type : MCQ  
Question ID : 264330136235  
Option 1 ID : 264330533730  
Option 2 ID : 264330533727  
Option 3 ID : 264330533728  
Option 4 ID : 264330533729  
Status : Answered  
Chosen Option : 2

Q.2 Find the part of the given sentence that has an error in it. If there is no error, choose 'No error'.

He didn't went to the school as he was down with fever.

- Ans
- 1. was down with fever.
  - 2. No error
  - 3. to the school as he
  - 4. He didn't went

Question Type : MCQ  
Question ID : 264330134398  
Option 1 ID : 264330526573  
Option 2 ID : 264330526574  
Option 3 ID : 264330526572  
Option 4 ID : 264330526571  
Status : Answered  
Chosen Option : 2

Q.3 Select the most appropriate meaning of the given idiom.

High horse

- Ans
- 1. To be very lucky
  - 2. To have a low self-esteem
  - 3. An attitude of moral superiority
  - 4. To be the person in charge

Question Type : MCQ  
Question ID : 264330136633  
Option 1 ID : 264330535257  
Option 2 ID : 264330535256  
Option 3 ID : 264330535255  
Option 4 ID : 264330535258  
Status : Answered  
Chosen Option : 1

Q.4 Choose the word that is opposite in meaning to the given word.  
Apprentice

- Ans
- 1. Essential
  - 2. Crude
  - 3. Neophyte
  - 4. Veteran

Question Type : MCQ  
Question ID : 264330134520  
Option 1 ID : 264330527041  
Option 2 ID : 264330527042  
Option 3 ID : 264330527039  
Option 4 ID : 264330527040  
Status : Answered  
Chosen Option : 4

**Q.5** Identify the segment that contains a grammatical error. If there is no error, select 'No error'.

He behaves so aggressive in his new/ home that he is rehoused with an old/ couple who could give him everything he lacks.

- Ans**
- 1. He behaves so aggressive in his new
  - 2. home that he is rehoused with an old
  - 3. couple who could give him everything he lacks.
  - 4. No error

Question Type : **MCQ**  
Question ID : **264330136665**  
Option 1 ID : **264330535379**  
Option 2 ID : **264330535380**  
Option 3 ID : **264330535381**  
Option 4 ID : **264330535382**  
Status : **Answered**  
Chosen Option : **3**

**Q.6** Select the most appropriate antonym to substitute the bracketed word in the given sentence.

The lens in this collection is focused very care**fully** upon the (quotidian), with all of its utterly familiar vexations.

- Ans**
- 1. Mandatory
  - 2. Obligatory
  - 3. Normal
  - 4. Sporadic

Question Type : **MCQ**  
Question ID : **264330136232**  
Option 1 ID : **264330533715**  
Option 2 ID : **264330533718**  
Option 3 ID : **264330533716**  
Option 4 ID : **264330533717**  
Status : **Answered**  
Chosen Option : **1**

**Q.7** Select the most appropriate option to fill in the blank.

He wanted me to \_\_\_\_\_ your necklace.

- Ans**
- 1. stern
  - 2. steam
  - 3. steel
  - 4. steal

Question Type : **MCQ**  
Question ID : **264330135228**  
Option 1 ID : **264330529835**  
Option 2 ID : **264330529836**  
Option 3 ID : **264330529838**  
Option 4 ID : **264330529837**  
Status : **Answered**  
Chosen Option : **4**

Q.8 Choose the word that means the same as the given word.

Backfire

- Ans
- 1. Florid
  - 2. Flood
  - 3. Collapse
  - 4. Flourish

Question Type : MCQ  
Question ID : 264330135273  
Option 1 ID : 264330530007  
Option 2 ID : 264330530008  
Option 3 ID : 264330530010  
Option 4 ID : 264330530009  
Status : Answered  
Chosen Option : 4

Q.9 Identify the segment that contains a grammatical error. If there is no error, select 'No error'

In doing so, he have acquainted/ himself with the geological features/ and colours of the stone of the site.

- Ans
- 1. and colours of the stone of the site.
  - 2. himself with the geological features
  - 3. No error
  - 4. In doing so, he have acquainted

Question Type : MCQ  
Question ID : 264330136215  
Option 1 ID : 264330533653  
Option 2 ID : 264330533652  
Option 3 ID : 264330533654  
Option 4 ID : 264330533651  
Status : Answered  
Chosen Option : 4

Q.10 Select the most appropriate word for the given group of words.

Impossible to deny or disapprove

- Ans
- 1. Frangible
  - 2. Assailable
  - 3. Dubitable
  - 4. Incontrovertible

Question Type : MCQ  
Question ID : 264330136228  
Option 1 ID : 264330533702  
Option 2 ID : 264330533699  
Option 3 ID : 264330533701  
Option 4 ID : 264330533700  
Status : Answered  
Chosen Option : 4

**Q.11** Improve the underlined part of the sentence. Choose 'No improvement' as an answer if the sentence is grammatically correct.

The film's director decide to reshoot the scene.

- Ans**
- 1. No improvement
  - 2. decided to reshoot
  - 3. deciding to reshoot
  - 4. decide to reshot

Question Type : **MCQ**  
Question ID : **264330134775**  
Option 1 ID : **264330528050**  
Option 2 ID : **264330528047**  
Option 3 ID : **264330528049**  
Option 4 ID : **264330528048**  
Status : **Answered**  
Chosen Option : **2**

**Q.12** Choose the sentence with no spelling error.

- Ans**
- 1. We need to give priority to customer satisfaction.
  - 2. We need to give priority to customar satisfaction.
  - 3. We need to give priority to customer satisfraction.
  - 4. We need to give priority to customer satisfaction.

Question Type : **MCQ**  
Question ID : **264330135227**  
Option 1 ID : **264330529834**  
Option 2 ID : **264330529832**  
Option 3 ID : **264330529831**  
Option 4 ID : **264330529833**  
Status : **Answered**  
Chosen Option : **4**

**Q.13** Select the most appropriate option to fill in the blank.

If the anesthesia is not \_\_\_\_\_ properly, he might wake up in the \_\_\_\_\_ of the surgery.

- Ans**
- 1. perpetuated/ start
  - 2. administered/ middle
  - 3. perpetuated/ middle
  - 4. administer/during

Question Type : **MCQ**  
Question ID : **264330136238**  
Option 1 ID : **264330533741**  
Option 2 ID : **264330533740**  
Option 3 ID : **264330533742**  
Option 4 ID : **264330533739**  
Status : **Answered**  
Chosen Option : **2**

**Q.14** Select the most appropriate word for the given group of words.

Scientific tests or techniques used in connection with the detection of crime

- Ans**
- 1. Etymology
  - 2. Autopsy
  - 3. Post-mortem
  - 4. Forensics

Question Type : **MCQ**  
Question ID : **264330136627**  
Option 1 ID : **264330535231**  
Option 2 ID : **264330535233**  
Option 3 ID : **264330535232**  
Option 4 ID : **264330535234**  
Status : **Answered**  
Chosen Option : **3**

**Q.15** A sentence has been given with a blank to be filled with an appropriate option. Choose the correct alternative.

The need to take theatre online \_\_\_\_\_ in global collaborations.

- Ans**
- 1. result
  - 2. have resulted
  - 3. has resulted
  - 4. resulting

Question Type : **MCQ**  
Question ID : **264330135263**  
Option 1 ID : **264330529974**  
Option 2 ID : **264330529972**  
Option 3 ID : **264330529973**  
Option 4 ID : **264330529971**  
Status : **Answered**  
Chosen Option : **3**

**Q.16** Select the word segment that substitutes (replaces) the bracketed word segment correctly and completes the sentence meaningfully. Select the option 'no correction required' if the sentence is correct as given.

(Much times), I have felt that conversations like these must take place in person.

- Ans**
- 1. No correction required
  - 2. Many time
  - 3. Many a time
  - 4. Many a times

Question Type : **MCQ**  
Question ID : **264330136244**  
Option 1 ID : **264330533766**  
Option 2 ID : **264330533765**  
Option 3 ID : **264330533764**  
Option 4 ID : **264330533763**  
Status : **Answered**  
Chosen Option : **1**

**Q.17** Select the most appropriate option to substitute the bracketed segment in the given sentence. If there is no need to substitute it, select 'no substitution required'.

Jane was asked by her (aunt, "Where were you least night?")

- Ans**
- 1. No substitution required
  - 2. aunt that, "Where were you last night?"
  - 3. aunt, "Where were you last night?"
  - 4. aunt, "Where last night you was?"

Question Type : **MCQ**  
Question ID : **264330136668**  
Option 1 ID : **264330535394**  
Option 2 ID : **264330535391**  
Option 3 ID : **264330535393**  
Option 4 ID : **264330535392**  
Status : **Answered**  
Chosen Option : **3**

**Q.18** Select the most appropriate synonym of the given word.

Unfamiliar

- Ans**
- 1. Prodigal
  - 2. Unsparing
  - 3. Parallel
  - 4. Strange

Question Type : **MCQ**  
Question ID : **264330136229**  
Option 1 ID : **264330533705**  
Option 2 ID : **264330533706**  
Option 3 ID : **264330533704**  
Option 4 ID : **264330533703**  
Status : **Answered**  
Chosen Option : **4**

**Q.19** Select the most appropriate meaning of the bracketed idiom in the given sentence.

After repeated failures and disappointments he was tempted (to throw up the sponge), but continued perseverance finally brought success.

- Ans**
- 1. To catch somebody of guard
  - 2. To be afraid
  - 3. To surrender or give up the contest
  - 4. To reveal secret information

Question Type : **MCQ**  
Question ID : **264330136234**  
Option 1 ID : **264330533726**  
Option 2 ID : **264330533723**  
Option 3 ID : **264330533724**  
Option 4 ID : **264330533725**  
Status : **Answered**  
Chosen Option : **3**

**Q.20** Select the most appropriate option to fill in the blank.

As a preliminary to negotiation, the government was required to \_\_\_\_\_ all the obnoxious measures.

- Ans**
- 1. quaint
  - 2. requisite
  - 3. rescind
  - 4. repeat

Question Type : **MCQ**

Question ID : **264330136219**

Option 1 ID : **264330533667**

Option 2 ID : **264330533669**

Option 3 ID : **264330533670**

Option 4 ID : **264330533668**

Status : **Answered**

Chosen Option : **3**

**Comprehension:**

In the following passage some of the words have been deleted. Read the passage carefully and select the correct answer for the given blank out of the four alternatives.

Gaming in the banking sector seems virtually (1) \_\_\_\_\_ to eliminate. The only effective measure to end it would be to (2) \_\_\_\_\_ bankers personally liable for losses, to remove the sense that their actions – their games – have (3) \_\_\_\_\_ personal financial or legal consequences.

It is this, rather (4) \_\_\_\_\_ removing the cap on bankers' bonuses, that has the best chance of preventing the financial system blowing (5) \_\_\_\_\_ again.

**SubQuestion No : 21**

**Q.21** Select the most appropriate option to fill in blank number 1.

- Ans**
- 1. liable
  - 2. penetrable
  - 3. impossible
  - 4. feasible

Question Type : **MCQ**

Question ID : **264330134511**

Option 1 ID : **264330527004**

Option 2 ID : **264330527005**

Option 3 ID : **264330527003**

Option 4 ID : **264330527006**

Status : **Answered**

Chosen Option : **3**

**Comprehension:**

In the following passage some of the words have been deleted. Read the passage carefully and select the correct answer for the given blank out of the four alternatives.

Gaming in the banking sector seems virtually (1) \_\_\_\_\_ to eliminate. The only effective measure to end it would be to (2) \_\_\_\_\_ bankers personally liable for losses, to remove the sense that their actions – their games – have (3) \_\_\_\_\_ personal financial or legal consequences.

It is this, rather (4) \_\_\_\_\_ removing the cap on bankers' bonuses, that has the best chance of preventing the financial system blowing (5) \_\_\_\_\_ again.

**SubQuestion No : 22**

**Q.22** Select the most appropriate option to fill in blank number 2.

- Ans  1. make  
 2. gave  
 3. bake  
 4. take

Question Type : **MCQ**

Question ID : **264330134512**

Option 1 ID : **264330527008**

Option 2 ID : **264330527007**

Option 3 ID : **264330527009**

Option 4 ID : **264330527010**

Status : **Answered**

Chosen Option : **1**

**Comprehension:**

In the following passage some of the words have been deleted. Read the passage carefully and select the correct answer for the given blank out of the four alternatives.

Gaming in the banking sector seems virtually (1) \_\_\_\_\_ to eliminate. The only effective measure to end it would be to (2) \_\_\_\_\_ bankers personally liable for losses, to remove the sense that their actions – their games – have (3) \_\_\_\_\_ personal financial or legal consequences.

It is this, rather (4) \_\_\_\_\_ removing the cap on bankers' bonuses, that has the best chance of preventing the financial system blowing (5) \_\_\_\_\_ again.

**SubQuestion No : 23**

**Q.23** Select the most appropriate option to fill in blank number 3.

- Ans  1. not  
 2. none  
 3. never  
 4. no

Question Type : **MCQ**

Question ID : **264330134513**

Option 1 ID : **264330527012**

Option 2 ID : **264330527014**

Option 3 ID : **264330527011**

Option 4 ID : **264330527013**

Status : **Answered**

Chosen Option : **4**

**Comprehension:**

In the following passage some of the words have been deleted. Read the passage carefully and select the correct answer for the given blank out of the four alternatives.

Gaming in the banking sector seems virtually (1) \_\_\_\_\_ to eliminate. The only effective measure to end it would be to (2) \_\_\_\_\_ bankers personally liable for losses, to remove the sense that their actions – their games – have (3) \_\_\_\_\_ personal financial or legal consequences.

It is this, rather (4) \_\_\_\_\_ removing the cap on bankers' bonuses, that has the best chance of preventing the financial system blowing (5) \_\_\_\_\_ again.

**SubQuestion No : 24**

**Q.24** Select the most appropriate option to fill in blank number 4.

- Ans
- 1. so
  - 2. then
  - 3. than
  - 4. but

Question Type : **MCQ**

Question ID : **264330134514**

Option 1 ID : **264330527017**

Option 2 ID : **264330527015**

Option 3 ID : **264330527018**

Option 4 ID : **264330527016**

Status : **Answered**

Chosen Option : **3**

**Comprehension:**

In the following passage some of the words have been deleted. Read the passage carefully and select the correct answer for the given blank out of the four alternatives.

Gaming in the banking sector seems virtually (1) \_\_\_\_\_ to eliminate. The only effective measure to end it would be to (2) \_\_\_\_\_ bankers personally liable for losses, to remove the sense that their actions – their games – have (3) \_\_\_\_\_ personal financial or legal consequences.

It is this, rather (4) \_\_\_\_\_ removing the cap on bankers' bonuses, that has the best chance of preventing the financial system blowing (5) \_\_\_\_\_ again.

**SubQuestion No : 25**

**Q.25** Select the most appropriate option to fill in blank number 5.

- Ans
- 1. on
  - 2. off
  - 3. up
  - 4. into

Question Type : **MCQ**

Question ID : **264330134515**

Option 1 ID : **264330527020**

Option 2 ID : **264330527021**

Option 3 ID : **264330527022**

Option 4 ID : **264330527019**

Status : **Answered**

Chosen Option : **2**