

Multi Tasking Non Technical Staff and Havaldar CBIC and CBN Examination 2022

Roll Number	
Candidate Name	
Venue Name	iON Digital Zone iDZ Laxman Nagar
Exam Date	10/05/2023
Exam Time	3:30 PM - 5:00 PM
Subject	MTS Non Tech Havaldar CBIC and CBN Examination 2022

Section : Numerical and Mathematical Ability

Q.1 5 संख्याओं का औसत 48 है। उनमें से दो संख्याओं का औसत 40 है जबकि अन्य दो संख्याओं का औसत 58 है। शेष संख्या का मान ज्ञात कीजिए।

- Ans
- 1. 30
 - 2. 40
 - 3. 34
 - 4. 44

Question Type : MCQ

Question ID : 264330138371

Option 1 ID : 264330542091

Option 2 ID : 264330542093

Option 3 ID : 264330542092

Option 4 ID : 264330542094

Status : Answered

Chosen Option : 4

Q.2 एक विक्रेता ने Rs. 50 में 12 संतरे खरीदे और उसने Rs. 30 में 12 संतरे की दर से उन्हें बेच दिया। हानि प्रतिशत ज्ञात कीजिए।

- Ans
- 1. 30%
 - 2. 40%
 - 3. 45%
 - 4. 25%

Question Type : MCQ

Question ID : 264330138376

Option 1 ID : 264330542111

Option 2 ID : 264330542113

Option 3 ID : 264330542114

Option 4 ID : 264330542112

Status : Answered

Chosen Option : 2

Q.3 दो स्टेशन A और B एक सीधी रेखा पर एक-दूसरे से 230 km की दूरी पर हैं। A से एक रेलगाड़ी सुबह 4 बजे शुरू होकर B की ओर 40 km/hr की चाल से यात्रा करती है। एक दूसरी रेलगाड़ी B से सुबह 5 बजे शुरू होकर A की ओर 55 km/hr की चाल से यात्रा करती है। दोनों रेलगाड़ियाँ किस समय मिलेंगी?

- Ans
- ✓ 1. सुबह 7 बजे
 - ✗ 2. सुबह 10 बजे
 - ✗ 3. सुबह 8 बजे
 - ✗ 4. सुबह 6 बजे

Question Type : MCQ
Question ID : 264330138382
Option 1 ID : 264330542135
Option 2 ID : 264330542136
Option 3 ID : 264330542138
Option 4 ID : 264330542137
Status : Answered
Chosen Option : 1

Q.4 Rs. 500 की धनराशि 2 वर्ष में साधारण ब्याज पर Rs. 580 हो जाती है। समान साधारण ब्याज दर पर कितने वर्षों में Rs. 650 की धनराशि Rs. 858 हो जाएगी?

- Ans
- ✗ 1. 6 वर्ष
 - ✓ 2. 4 वर्ष
 - ✗ 3. 5 वर्ष
 - ✗ 4. 8 वर्ष

Question Type : MCQ
Question ID : 264330137163
Option 1 ID : 264330537298
Option 2 ID : 264330537295
Option 3 ID : 264330537296
Option 4 ID : 264330537297
Status : Answered
Chosen Option : 2

Q.5 $5(12 + 20 \div 10 \times 3 - 5)$ का मान ज्ञात कीजिए।

- Ans
- ✗ 1. 40
 - ✗ 2. 50
 - ✗ 3. 35
 - ✓ 4. 65

Question Type : MCQ
Question ID : 264330138368
Option 1 ID : 264330542082
Option 2 ID : 264330542079
Option 3 ID : 264330542080
Option 4 ID : 264330542081
Status : Answered
Chosen Option : 4

Q.6 रमेश, राहुल से 60 प्रतिशत कम कुशल है। यदि राहुल एक कंप्यूटर को 12 दिनों में बना सकता है, तो रमेश उसी कंप्यूटर को कितने दिनों में बना सकता है?

- Ans
- ✓ 1. 30 दिन
 - ✗ 2. 40 दिन
 - ✗ 3. 50 दिन
 - ✗ 4. 60 दिन

Question Type : MCQ

Question ID : 264330135043

Option 1 ID : 264330529110

Option 2 ID : 264330529109

Option 3 ID : 264330529108

Option 4 ID : 264330529107

Status : Answered

Chosen Option : 1

Q.7 यदि $(x + y)$ का 20 प्रतिशत = $(x - y)$ का 30 प्रतिशत है, तो x, y का कितना प्रतिशत है?

- Ans
- ✗ 1. 0.5 प्रतिशत
 - ✓ 2. 500 प्रतिशत
 - ✗ 3. 50 प्रतिशत
 - ✗ 4. 5 प्रतिशत

Question Type : MCQ

Question ID : 264330137158

Option 1 ID : 264330537278

Option 2 ID : 264330537275

Option 3 ID : 264330537276

Option 4 ID : 264330537277

Status : Answered

Chosen Option : 2

Q.8 $\frac{\left(\frac{28}{9} \times \frac{42}{35}\right) \div \left(\frac{3}{25} \times \frac{5}{7} \div \frac{1}{21}\right)}{\left(\frac{14}{15} \div \frac{2}{75} \text{ of } \frac{7}{5}\right) \times \frac{1}{75} \div \frac{4}{3}}$ का मान क्या है?

- Ans
- ✗ 1. 212/27
 - ✗ 2. 222/27
 - ✗ 3. 244/27
 - ✓ 4. 224/27

Question Type : MCQ

Question ID : 264330137620

Option 1 ID : 264330539090

Option 2 ID : 264330539087

Option 3 ID : 264330539088

Option 4 ID : 264330539089

Status : Answered

Chosen Option : 4

Q.9 एक मिश्रण में रेत और पत्थर का अनुपात 5:8 है जबकि पत्थर और सीमेंट का अनुपात 32:35 है। मिश्रण में रेत और सीमेंट का अनुपात क्या है?

- Ans
- 1. 4:3
 - 2. 1:7
 - 3. 4:7
 - 4. 2:3

Question Type : MCQ

Question ID : 264330138378

Option 1 ID : 264330542120

Option 2 ID : 264330542122

Option 3 ID : 264330542119

Option 4 ID : 264330542121

Status : Answered

Chosen Option : 3

Q.10 14 और 56 का तृतीय समानुपाती ज्ञात कीजिए।

- Ans
- 1. 212
 - 2. 220
 - 3. 224
 - 4. 218

Question Type : MCQ

Question ID : 264330138379

Option 1 ID : 264330542126

Option 2 ID : 264330542124

Option 3 ID : 264330542123

Option 4 ID : 264330542125

Status : Answered

Chosen Option : 3

Q.11 एक कार शुरुआती 140 km की दूरी 10 घंटों में और अगले 260 km की दूरी 15 घंटों में तय करती है। पूरी यात्रा में कार की औसत चाल कितनी है?

- Ans
- 1. 16 km/hr
 - 2. 14 km/hr
 - 3. 15 km/hr
 - 4. 10 km/hr

Question Type : MCQ

Question ID : 264330138395

Option 1 ID : 264330542189

Option 2 ID : 264330542188

Option 3 ID : 264330542187

Option 4 ID : 264330542190

Status : Answered

Chosen Option : 1

Q.12 $15 \div 5$ of $3 - 3 \times 4 + 13$ का मान क्या है?

- Ans
- 1. 0
 - 2. 2
 - 3. 3
 - 4. 10

Question Type : MCQ

Question ID : 264330137148

Option 1 ID : 264330537235

Option 2 ID : 264330537237

Option 3 ID : 264330537238

Option 4 ID : 264330537236

Status : Answered

Chosen Option : 2

Q.13 एक त्रिभुज की ऊँचाई 56 cm है और संगत आधार, ऊँचाई का $\frac{1}{4}$ है। त्रिभुज का क्षेत्रफल ज्ञात कीजिए।

- Ans
- 1. 480 cm²
 - 2. 440 cm²
 - 3. 392 cm²
 - 4. 544 cm²

Question Type : MCQ

Question ID : 264330138387

Option 1 ID : 264330542158

Option 2 ID : 264330542157

Option 3 ID : 264330542155

Option 4 ID : 264330542156

Status : Answered

Chosen Option : 3

Q.14 नीचे दी गई तालिका में विभिन्न राज्यों में पुरुषों और महिलाओं की संख्या को दर्शाया गया है।

राज्य	पुरुष	महिला
A	50	100
B	200	150
C	300	25
D	25	50
E	125	75
F	150	250

$J1 = A$ और B में पुरुषों की औसत संख्या का मान।

$J2 = E$ और F में महिलाओं की औसत संख्या का मान।

$(J2 - J1)$ का मान क्या है?

- Ans
- 1. 56.5
 - 2. 42.5
 - 3. 37.5
 - 4. 25.5

Question Type : MCQ

Question ID : 264330137621

Option 1 ID : 264330539093

Option 2 ID : 264330539092

Option 3 ID : 264330539094

Option 4 ID : 264330539091

Status : Answered

Chosen Option : 3

Q.15 A, B और C को एक कार्य पूरा करने के लिए दिया जाता है। यदि A, B और C द्वारा लिए गए समय का अनुपात 4:3:6 है, तो उनकी कार्यकुशलता का अनुपात ज्ञात कीजिए।

- Ans
- 1. 3:4:6
 - 2. 4:6:8
 - 3. 3:4:2
 - 4. 4:3:6

Question Type : MCQ

Question ID : 264330138383

Option 1 ID : 264330542141

Option 2 ID : 264330542142

Option 3 ID : 264330542140

Option 4 ID : 264330542139

Status : Answered

Chosen Option : 3

Q.16 एक दुकानदार अंकित मूल्य पर 20% का बट्टा देता है और फिर भी वह कुल मिलाकर 12% का लाभ अर्जित करता है।
जात कीजिए कि उसने अपनी वस्तु को क्रय मूल्य से कितने प्रतिशत अधिक पर अंकित किया था?

- Ans
- 1. 30%
 - 2. 20%
 - 3. 40%
 - 4. 10%

Question Type : MCQ

Question ID : 264330140998

Option 1 ID : 264330552341

Option 2 ID : 264330552339

Option 3 ID : 264330552342

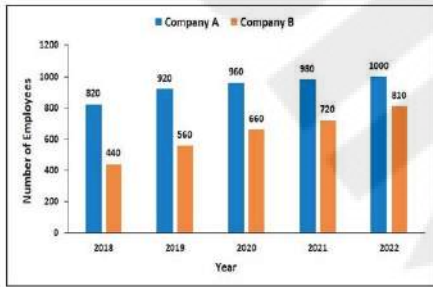
Option 4 ID : 264330552340

Status : Answered

Chosen Option : 3

Q.17 निम्नलिखित दंड आलेख में 5 वर्षों में कंपनी A और कंपनी B में कर्मचारियों की संख्या को दर्शाया गया है।

वर्ष 2018 और 2019 में कंपनी A और कंपनी B में कर्मचारियों की कुल संख्या जात कीजिए।



number of employees - कर्मचारियों की संख्या, Year - वर्ष, company A - कंपनी A , company B - कंपनी B

- Ans
- 1. 2820
 - 2. 3210
 - 3. 2860
 - 4. 2740

Question Type : MCQ

Question ID : 264330138386

Option 1 ID : 264330542154

Option 2 ID : 264330542152

Option 3 ID : 264330542151

Option 4 ID : 264330542153

Status : Answered

Chosen Option : 4

Q.18 150 मीटर × 25 मीटर का एक आयताकार बगीचा है। बगीचे के बाहर चारों ओर 10 मीटर चौड़ा एक पथ बनाया गया है। उस पथ का क्षेत्रफल कितना है?

- Ans**
- 1. 3900 metre²
 - 2. 3220 metre²
 - 3. 3700 metre²
 - 4. 3550 metre²

Question Type : **MCQ**
Question ID : **264330135058**
Option 1 ID : **264330529167**
Option 2 ID : **264330529170**
Option 3 ID : **264330529168**
Option 4 ID : **264330529169**
Status : **Answered**
Chosen Option : 1

Q.19 कोई धनराशि साधारण ब्याज पर 14 प्रतिशत वार्षिक दर से कम-से-कम कितने पूर्ण वर्षों में स्वयं की चार गुना से अधिक हो जाएगी?

- Ans**
- 1. 20 वर्ष
 - 2. 25 वर्ष
 - 3. 29 वर्ष
 - 4. 22 वर्ष

Question Type : **MCQ**
Question ID : **264330137333**
Option 1 ID : **264330537960**
Option 2 ID : **264330537961**
Option 3 ID : **264330537962**
Option 4 ID : **264330537959**
Status : **Answered**
Chosen Option : 4

Q.20 एक दुकानदार ने Rs. 1400 अंकित मूल्य वाली एक पुस्तक 28% के बड़े पर बेची। पुस्तक का विक्रय मूल्य ज्ञात कीजिए।

- Ans**
- 1. Rs. 2500
 - 2. Rs. 2000
 - 3. Rs. 1008
 - 4. Rs. 1500

Question Type : **MCQ**
Question ID : **264330138377**
Option 1 ID : **264330542116**
Option 2 ID : **264330542118**
Option 3 ID : **264330542115**
Option 4 ID : **264330542117**
Status : **Answered**
Chosen Option : 3

Q.1 किन दो चिन्हों को आपस में बदलने पर, समीकरण का मान सही होगा?

$$6 - 10 \times 8 \div 5 + 7 = 15$$

- Ans
- 1. + और \div
 - 2. \div और -
 - 3. \times और \div
 - 4. + और -

Question Type : MCQ
Question ID : 264330138493
Option 1 ID : 264330542581
Option 2 ID : 264330542582
Option 3 ID : 264330542580
Option 4 ID : 264330542579
Status : Answered
Chosen Option : 4

Q.2 (::) के बाईं ओर दिए गए शब्द आपस में किसी तर्क/नियम/संबंध द्वारा संबंधित हैं। समान तर्क/नियम/संबंध के आधार पर दिए गए विकल्पों में से (::) के दाईं ओर लुप्त शब्द/शब्द युग्म को चुनिए।

टैडपोल: मेंढक :: किटन: ?

- Ans
- 1. कीट
 - 2. हिरण
 - 3. कुत्ता
 - 4. बिल्ली

Question Type : MCQ
Question ID : 264330138479
Option 1 ID : 264330542523
Option 2 ID : 264330542525
Option 3 ID : 264330542526
Option 4 ID : 264330542524
Status : Answered
Chosen Option : 4

Q.3 एक निश्चित कूट भाषा में, 'EXPORT' को 'ORTEXP' लिखा जाता है। उस कूट भाषा में 'GENTLE' को कैसे लिखा जाएगा?

- Ans
- 1. TLENEG
 - 2. TLENGE
 - 3. TELNEG
 - 4. TLEGEN

Question Type : MCQ
Question ID : 264330138460
Option 1 ID : 264330542448
Option 2 ID : 264330542450
Option 3 ID : 264330542447
Option 4 ID : 264330542449
Status : Answered
Chosen Option : 4

Q.4 दी गई दो संख्याओं को आपस में बदलने पर क्रमशः समीकरण (I) और (II) का मान क्या होगा?

8 और 2

I. $3 + 6 - 8 \times 4 \div 2$

II. $4 \div 6 \times 9 + 2 - 8$

Ans 1. 12 और 8

2. 9 और 15

3. 9 और 81

4. 8 और 12

Question Type : MCQ

Question ID : 264330137383

Option 1 ID : 264330538161

Option 2 ID : 264330538159

Option 3 ID : 264330538162

Option 4 ID : 264330538160

Status : Answered

Chosen Option : 4

Q.5 पाँच बल्लेबाजों रोहित, राहुल, विराट, सूर्या और हादिक के औसत की तुलना की जाती है। सूर्या का औसत केवल एक बल्लेबाज से अधिक है। विराट का औसत रोहित से अधिक है और रोहित का औसत हादिक से अधिक है। यदि रोहित का औसत = 120 है, तो सूर्या का औसत कितना हो सकता है?

Ans 1. 130

2. 125

3. 118

4. 128

Question Type : MCQ

Question ID : 264330138486

Option 1 ID : 264330542554

Option 2 ID : 264330542552

Option 3 ID : 264330542551

Option 4 ID : 264330542553

Status : Answered

Chosen Option : 3

Q.6 निम्नलिखित प्रश्न में कुछ कथन दिए गए हैं और उन कथनों के आधार पर कुछ निष्कर्ष दिए गए हैं। आपको यह मानना है कि दिए गए कथन सत्य हैं चाहे वे समान्यतः ज्ञात तथ्यों से अलग प्रतीत होते हों। सभी निष्कर्षों को पढ़िए और फिर निश्चय कीजिए कि दिए गए निष्कर्षों में से कौन-सा निष्कर्ष तार्किक रूप से दिए गए कथनों के अनुसार है।

कथन:

I. कुछ V, P हैं।

II. कुछ F, V हैं।

निष्कर्ष:

I. कुछ F, P हैं।

II. कुछ V, F हैं।

Ans

- 1. दोनों निष्कर्ष I और II कथनों के अनुसार हैं
- 2. केवल निष्कर्ष I कथनों के अनुसार है
- 3. केवल निष्कर्ष II कथनों के अनुसार है
- 4. कोई भी निष्कर्ष कथनों के अनुसार नहीं है

Question Type : MCQ

Question ID : 264330138487

Option 1 ID : 264330542557

Option 2 ID : 264330542555

Option 3 ID : 264330542556

Option 4 ID : 264330542558

Status : Answered

Chosen Option : 3

Q.7 उस विकल्प आकृति को चुनिए जिसमें दी गई आकृति निहित है। (घूर्णन की अनुमति नहीं है)

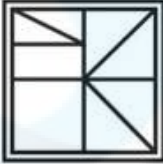


Ans

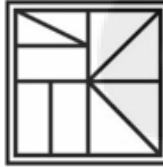
✗ 1.



✗ 2.



✓ 3.



✗ 4.



Question Type : MCQ

Question ID : 264330137534

Option 1 ID : 264330538746

Option 2 ID : 264330538745

Option 3 ID : 264330538743

Option 4 ID : 264330538744

Status : Answered

Chosen Option : 3

Q.8 निम्नलिखित प्रश्न में, दी गई श्रृंखला में लुप्त संख्या को चुनिए ।

2, 5, 14, 41, 122, ?

Ans

✗ 1. 380

✗ 2. 370

✗ 3. 368

✓ 4. 365

Question Type : MCQ

Question ID : 264330138490

Option 1 ID : 264330542570

Option 2 ID : 264330542568

Option 3 ID : 264330542569

Option 4 ID : 264330542567

Status : Answered

Chosen Option : 4

Q.9 (::) के बाईं ओर दिए गए शब्द आपस में किसी तर्क/नियम/संबंध द्वारा संबंधित हैं। समान तर्क/नियम/संबंध के आधार पर दिए गए विकल्पों में से (::) के दाईं ओर लुप्त शब्द/शब्द युग्म को चुनिए।

समय : सेकंड :: ?

Ans

- ✗ 1. जूल : कार्य
- ✗ 2. न्यूटन : बल
- ✗ 3. दाब : लीटर
- ✓ 4. शक्ति : वॉट

Question Type : MCQ

Question ID : 264330138480

Option 1 ID : 264330542529

Option 2 ID : 264330542528

Option 3 ID : 264330542527

Option 4 ID : 264330542530

Status : Answered

Chosen Option : 4

Q.10 यदि एक दर्पण को रेखा AB पर रखा जाए, तो दी गई विकल्प आकृतियों में से कौन-सी आकृति प्रश्न आकृति का सही प्रतिबिम्ब होगी?



Ans

- ✗ 1.
- ✗ 2.
- ✗ 3.
- ✓ 4.

Question Type : MCQ

Question ID : 264330137535

Option 1 ID : 264330538749

Option 2 ID : 264330538748

Option 3 ID : 264330538750

Option 4 ID : 264330538747

Status : Answered

Chosen Option : 4

Q.11 एक निश्चित कूट भाषा में, 'She is my niece' को 'Co Pv Zs Mn' लिखा जाता है, 'That is my bike' को 'Zs Pt Pv Ga' लिखा जाता है, 'She is your daughter' को 'Co Pv Ex Yz' लिखा जाता है। इस कूट भाषा में 'niece' को कैसे लिखा जाएगा?

- Ans
- 1. Co
 - 2. Zs
 - 3. Pv
 - 4. Mn

Question Type : MCQ

Question ID : 264330133566

Option 1 ID : 264330523288

Option 2 ID : 264330523287

Option 3 ID : 264330523289

Option 4 ID : 264330523290

Status : Answered

Chosen Option : 4

Q.12 उस विकल्प को चुनिए जिसमें समुच्चय की संख्याएँ वही संबंध साझा करती हैं जो दिए गए समुच्चय में संख्याओं द्वारा साझा किया जाता है। (ध्यान दें: संख्याओं को उनके घटक अंकों में अलग-अलग किए बिना, पूर्ण संख्याओं पर संक्रियाएँ की जानी चाहिए। उदा. 13 - 13 पर संक्रियाएँ जैसे 13 को जोड़ना /घटाना /गुणा करना आदि किया जा सकता है। 13 को 1 और 3 में अलग-अलग करने की और फिर 1 और 3 पर गणितीय संक्रियाएँ करने की अनुमति नहीं है)

(10, 20, 100)

(50, 5, 125)

- Ans
- 1. (14, 10, 35)
 - 2. (20, 5, 60)
 - 3. (40, 4, 150)
 - 4. (12, 10, 60)

Question Type : MCQ

Question ID : 264330138492

Option 1 ID : 264330542576

Option 2 ID : 264330542577

Option 3 ID : 264330542578

Option 4 ID : 264330542575

Status : Answered

Chosen Option : 4

Q.13 उस विकल्प को चुनिए जो पाँचवीं संख्या से ठीक उसी प्रकार संबंधित है जिस प्रकार दूसरी संख्या पहली संख्या से संबंधित है और चौथी संख्या तीसरी संख्या से संबंधित है।

9 : 730 :: 10 : 1001 :: 8 : ?

- Ans
- 1. 513
 - 2. 514
 - 3. 516
 - 4. 517

Question Type : MCQ

Question ID : 264330137123

Option 1 ID : 264330537135

Option 2 ID : 264330537136

Option 3 ID : 264330537137

Option 4 ID : 264330537138

Status : Answered

Chosen Option : 1

Q.14 एक निश्चित कूट भाषा में, 'JPMNO' को '73562' लिखा जाता है, 'AMNBD' को '28954' लिखा जाता है, 'JNACQ' को '12430' लिखा जाता है। उस कूट भाषा में 'B' को कैसे लिखा जाएगा?

- Ans
- 1. 2
 - 2. 8
 - 3. 4
 - 4. 5

Question Type : MCQ
Question ID : 264330135566
Option 1 ID : 264330531163
Option 2 ID : 264330531164
Option 3 ID : 264330531166
Option 4 ID : 264330531165
Status : Answered
Chosen Option : 4

Q.15 एक श्रृंखला दी गई है जिसमें एक पद लुप्त है। दिए गए विकल्पों में से उस सही विकल्प को चुनिए जो श्रृंखला को पूरा करेगा।

ASBQ, XOYM, UKVI, RGSE, ?

- Ans
- 1. NCPA
 - 2. OBQA
 - 3. OCPB
 - 4. OCPA

Question Type : MCQ
Question ID : 264330138477
Option 1 ID : 264330542518
Option 2 ID : 264330542516
Option 3 ID : 264330542517
Option 4 ID : 264330542515
Status : Answered
Chosen Option : 4

Q.16 सात लड़कियाँ मानसी, श्वेता, मोनिका, पायल, आरती, काजल और लक्ष्मी एक वृत्ताकार मेज के चारों ओर केंद्र के विपरीत दिशा की ओर मुख करके बैठी हैं (परंतु जरूरी नहीं कि वे इसी क्रम में बैठी हों)। आरती, काजल के बाईं ओर से दूसरे स्थान पर है। मोनिका, काजल के दाईं ओर से तीसरे स्थान पर है। मानसी, काजल की निकटतम पड़ोसी नहीं है। लक्ष्मी, मानसी के बाईं ओर से दूसरे स्थान पर है। पायल, लक्ष्मी की निकटतम पड़ोसी नहीं है। लक्ष्मी के बाईं ओर से दूसरे स्थान पर कौन है?

- Ans
- 1. मानसी
 - 2. आरती
 - 3. काजल
 - 4. पायल

Question Type : MCQ
Question ID : 264330138485
Option 1 ID : 264330542550
Option 2 ID : 264330542547
Option 3 ID : 264330542548
Option 4 ID : 264330542549
Status : Answered
Chosen Option : 3

Q.17 निम्नलिखित प्रश्न में, दी गई श्रृंखला में लुप्त संख्या को चुनिए।

111, 128, 145, 162, 179, ?

- Ans
- 1. 195
 - 2. 190
 - 3. 194
 - 4. 196

Question Type : MCQ

Question ID : 264330137121

Option 1 ID : 264330537129

Option 2 ID : 264330537127

Option 3 ID : 264330537128

Option 4 ID : 264330537130

Status : Answered

Chosen Option : 4

Q.18 निम्नलिखित प्रश्न में कुछ कथन दिए गए हैं और उन कथनों के आधार पर कुछ निष्कर्ष दिए गए हैं। आपको यह मानना है कि दिए गए कथन सत्य हैं चाहे वे समान्यतः ज्ञात तथ्यों से अलग प्रतीत होते हों। सभी निष्कर्षों को पढ़िए और फिर निश्चय कीजिए कि दिए गए निष्कर्षों में से कौन-सा निष्कर्ष तार्किक रूप से दिए गए कथनों के अनुसार है।

कथन:

- I. सभी K, M हैं।
- II. कुछ K, Z हैं।

निष्कर्ष:

- I. सभी M, Z हैं।
- II. सभी M, K हैं।
- III. कुछ M, K हैं।

- Ans
- 1. कोई भी निष्कर्ष कथनों के अनुसार नहीं है
 - 2. केवल निष्कर्ष III कथनों के अनुसार है
 - 3. सभी निष्कर्ष कथनों के अनुसार हैं
 - 4. दोनों निष्कर्ष I और III कथनों के अनुसार हैं

Question Type : MCQ

Question ID : 264330138488

Option 1 ID : 264330542562

Option 2 ID : 264330542561

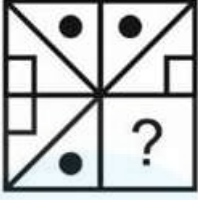
Option 3 ID : 264330542560

Option 4 ID : 264330542559

Status : Answered

Chosen Option : 2

Q.19 कौन-सी उत्तर आकृति प्रश्न आकृति में दिए गए पैटर्न को पूरा करेगी?




Ans

✗ 1.



✗ 2.



✗ 3.



✓ 4.



Question Type : MCQ

Question ID : 264330138497

Option 1 ID : 264330542598

Option 2 ID : 264330542596

Option 3 ID : 264330542597

Option 4 ID : 264330542595

Status : Answered

Chosen Option : 4

Q.20 सात लड़के लक्ष्मण, मोहन, बिट्टू, सोहिल, राहुल, राम और रमेश एक वृत्ताकार मेज के चारों ओर केंद्र की ओर मुख करके बैठे हैं (परंतु जरूरी नहीं कि वे इसी क्रम में बैठें हों)। सोहिल, बिट्टू के बाईं ओर से तीसरे स्थान पर है। मोहन, बिट्टू के दाईं ओर से दूसरे स्थान पर है। राम, रमेश के दाईं ओर से तीसरे स्थान पर है। रमेश, मोहन का निकटतम पड़ोसी नहीं है। लक्ष्मण, राहुल के बाईं ओर से तीसरे स्थान पर है। राम के ठीक बाईं ओर कौन बैठा है?

Ans

✓ 1. बिट्टू

✗ 2. रमेश

✗ 3. मोहन

✗ 4. लक्ष्मण

Question Type : MCQ

Question ID : 264330138484

Option 1 ID : 264330542543

Option 2 ID : 264330542546

Option 3 ID : 264330542544

Option 4 ID : 264330542545

Status : Answered

Chosen Option : 1

Q.1 भारतीय संविधान के अनुच्छेद 25 से 28 _____ का प्रावधान करते हैं।

- Ans
- 1. शोषण के विरुद्ध अधिकार
 - 2. संस्कृतिक और शैक्षिक अधिकार
 - 3. समानता के अधिकार
 - 4. धार्मिक स्वतंत्रता के अधिकार

Question Type : MCQ
Question ID : 264330138258
Option 1 ID : 264330541640
Option 2 ID : 264330541642
Option 3 ID : 264330541639
Option 4 ID : 264330541641
Status : Answered
Chosen Option : 4

Q.2 निम्नलिखित में से किस ग्रह को "भोर का तारा (morning star)" भी कहा जाता है?

- Ans
- 1. शुक्र
 - 2. पृथ्वी
 - 3. नेपच्यून
 - 4. बृहस्पति

Question Type : MCQ
Question ID : 264330137044
Option 1 ID : 264330536819
Option 2 ID : 264330536820
Option 3 ID : 264330536821
Option 4 ID : 264330536822
Status : Answered
Chosen Option : 4

Q.3 मानक जनगणना परिभाषा के अनुसार, मुख्य श्रमिक वह व्यक्ति है जो एक वर्ष में कम से कम _____ कार्य करता है।

- Ans
- 1. 190 दिन
 - 2. 223 दिन
 - 3. 150 दिन
 - 4. 183 दिन

Question Type : MCQ
Question ID : 264330138668
Option 1 ID : 264330543281
Option 2 ID : 264330543282
Option 3 ID : 264330543279
Option 4 ID : 264330543280
Status : Marked For Review
Chosen Option : 1

Q.4 भारत में वित्तीय वर्ष की अवधि कितनी है?

Ans 1.

प्रत्येक वर्ष 1 जनवरी से प्रारंभ होकर अगले वर्ष 31 दिसंबर तक

2.

प्रत्येक वर्ष 1 अप्रैल से प्रारंभ होकर अगले वर्ष 31 मार्च तक

3.

प्रत्येक वर्ष 1 जनवरी से से प्रारंभ होकर उसी वर्ष 31 दिसंबर तक

4.

प्रत्येक वर्ष 1 अप्रैल से प्रारंभ होकर उसी वर्ष 31 दिसंबर तक

Question Type : MCQ

Question ID : 264330134055

Option 1 ID : 264330525245

Option 2 ID : 264330525243

Option 3 ID : 264330525246

Option 4 ID : 264330525244

Status : Answered

Chosen Option : 2

Q.5 प्रधान मंत्री आवास योजना- शहरी किस केंद्रीय मंत्रालय द्वारा शुरू की गई थी?

Ans

1. आवास और शहरी मामलों के मंत्रालय

2. ग्रामीण विकास मंत्रालय

3. वित्त मंत्रालय

4. मानव संसाधन विकास मंत्रालय

Question Type : MCQ

Question ID : 264330138255

Option 1 ID : 264330541628

Option 2 ID : 264330541629

Option 3 ID : 264330541630

Option 4 ID : 264330541627

Status : Marked For Review

Chosen Option : 4

Q.6 इस जानी-मानी भारतीय संगीत क्षेत्र से जुड़ी शख्सियत को पहचानें।

वर्ष 2011 में, गिनीज बुक ऑफ वर्ल्ड रिकॉर्ड्स (Guinness Book of World Records) ने आधिकारिक तौर पर उन्हें संगीत इतिहास में सबसे अधिक गाने रिकॉर्ड करने वाली कलाकार के रूप में मानित किया था।

Ans

1. अलका याग्निंक

2. उषा उत्थुप

3. आशा भोसले

4. श्रेया घोषाल

Question Type : MCQ

Question ID : 264330138252

Option 1 ID : 264330541618

Option 2 ID : 264330541615

Option 3 ID : 264330541617

Option 4 ID : 264330541616

Status : Not Answered

Chosen Option : --

Q.7 सरोजा वैद्यनाथन (Saroja Vaidyanathan) को _____ में शास्त्रीय नृत्य के लिए कालिदास सम्मान मिला था।

- Ans
- 1. 2002-03
 - 2. 2020-21
 - 3. 2001-02
 - 4. 2009-10

Question Type : MCQ

Question ID : 264330134050

Option 1 ID : 264330525223

Option 2 ID : 264330525225

Option 3 ID : 264330525224

Option 4 ID : 264330525226

Status : Not Answered

Chosen Option : --

Q.8 श्रीजेश पी.आर. जिन्हें "मेजर ध्यानचंद खेल रत्न पुरस्कार 2021" से सम्मानित किया गया था, किस खेल से संबंधित हैं?

- Ans
- 1. हॉकी
 - 2. फुटबॉल
 - 3. कुश्ती
 - 4. मुक्केबाज़ी

Question Type : MCQ

Question ID : 264330138249

Option 1 ID : 264330541605

Option 2 ID : 264330541606

Option 3 ID : 264330541604

Option 4 ID : 264330541603

Status : Answered

Chosen Option : 3

Q.9 बेरीबेरी (Beriberi) निम्नलिखित में से किसकी कमी से होता है?

- Ans
- 1. विटामिन B1
 - 2. आयोडीन
 - 3. विटामिन D
 - 4. विटामिन C

Question Type : MCQ

Question ID : 264330138259

Option 1 ID : 264330541643

Option 2 ID : 264330541646

Option 3 ID : 264330541645

Option 4 ID : 264330541644

Status : Answered

Chosen Option : 1

Q.10 धोलावीरा का प्राचीन शहर, किस राज्य में स्थित है?

- Ans
- 1. राजस्थान
 - 2. कर्नाटक
 - 3. मध्यप्रदेश
 - 4. गुजरात

Question Type : MCQ

Question ID : 264330137389

Option 1 ID : 264330538184

Option 2 ID : 264330538186

Option 3 ID : 264330538183

Option 4 ID : 264330538185

Status : Answered

Chosen Option : 4

Q.11 निम्नलिखित में से किस मुगल शासक ने आलमगीर, विश्व विजेता की उपाधि धारण की थी?

- Ans
- 1. शाहजहाँ
 - 2. औरंगज़ेब
 - 3. बाबर
 - 4. अकबर

Question Type : MCQ

Question ID : 264330137050

Option 1 ID : 264330536844

Option 2 ID : 264330536843

Option 3 ID : 264330536846

Option 4 ID : 264330536845

Status : Answered

Chosen Option : 3

Q.12 निम्नलिखित में से कौन-सा राष्ट्रीय उद्यान महाराष्ट्र में स्थित नहीं है?

- Ans
- 1. नवेगाँव राष्ट्रीय उद्यान
 - 2. गुगामल राष्ट्रीय उद्यान
 - 3. बांधवगढ़ राष्ट्रीय उद्यान
 - 4. ताडोबा राष्ट्रीय उद्यान

Question Type : MCQ

Question ID : 264330137043

Option 1 ID : 264330536818

Option 2 ID : 264330536817

Option 3 ID : 264330536816

Option 4 ID : 264330536815

Status : Answered

Chosen Option : 3

Q.13 भारतीय मसाला बोर्ड (Spices Board of India) का मुख्यालय कहाँ स्थित है?

- Ans
- ✓ 1. कोच्चि (केरल)
 - ✗ 2. बेंगलुरु (कर्नाटक)
 - ✗ 3. गुंटूर (आंध्रप्रदेश)
 - ✗ 4. पुणे (महाराष्ट्र)

Question Type : MCQ
Question ID : 264330134040
Option 1 ID : 264330525185
Option 2 ID : 264330525183
Option 3 ID : 264330525184
Option 4 ID : 264330525186
Status : Answered
Chosen Option : 1

Q.14 1897 में रामकृष्ण मिशन की स्थापना किसने की थी?

- Ans
- ✗ 1. रामकृष्ण परमहंस
 - ✗ 2. केशव चंद्र सेन
 - ✓ 3. स्वामी विवेकानंद
 - ✗ 4. देवेन्द्रनाथ टैगोर

Question Type : MCQ
Question ID : 264330137702
Option 1 ID : 264330539418
Option 2 ID : 264330539417
Option 3 ID : 264330539416
Option 4 ID : 264330539415
Status : Answered
Chosen Option : 4

Q.15 भारत के किसी भी राज्य का प्रमुख एक _____ होता है।

- Ans
- ✗ 1. मुख्यमंत्री
 - ✗ 2. राज्य निर्वाचन आयुक्त
 - ✗ 3. उच्च न्यायालय का मुख्य न्यायाधीश
 - ✓ 4. राज्यपाल

Question Type : MCQ
Question ID : 264330137398
Option 1 ID : 264330538219
Option 2 ID : 264330538222
Option 3 ID : 264330538220
Option 4 ID : 264330538221
Status : Marked For Review
Chosen Option : 4

Q.16 भारत की पार्लियामेंट को _____ भी कहा जाता है।

- Ans
- 1. विधान सभा
 - 2. लोक सभा
 - 3. संसद
 - 4. सैनेट

Question Type : MCQ
Question ID : 264330134630
Option 1 ID : 264330527475
Option 2 ID : 264330527476
Option 3 ID : 264330527477
Option 4 ID : 264330527478
Status : Answered
Chosen Option : 3

Q.17 हिमालय के सबसे उत्तरी भाग में स्थित शृंखला को _____ कहते हैं।

- Ans
- 1. पूर्वांचल
 - 2. अरावली पर्वतमाला
 - 3. आंतरिक हिमालय
 - 4. शिवालिक पर्वतमाला

Question Type : MCQ
Question ID : 264330138264
Option 1 ID : 264330541666
Option 2 ID : 264330541665
Option 3 ID : 264330541663
Option 4 ID : 264330541664
Status : Answered
Chosen Option : 4

Q.18 जगोई और चोलोम _____ नृत्य की दो मुख्य शैलियाँ सौम्य हैं।

- Ans
- 1. कथकली
 - 2. मणिपुरी
 - 3. कथक
 - 4. भरतनाट्यम

Question Type : MCQ
Question ID : 264330138246
Option 1 ID : 264330541594
Option 2 ID : 264330541593
Option 3 ID : 264330541592
Option 4 ID : 264330541591
Status : Answered
Chosen Option : 3

Q.19 निम्नलिखित में से किसने फॉर्मूला 1 यूनाइटेड स्टेट्स ग्रां प्री 2022 जीता है?

- Ans
- 1. चार्ल्स लेक्लर्क (Charles Leclerc)
 - 2. कार्लोस सैंज जूनियर (Carlos Sainz Jr.)
 - 3. मैक्स वेस्ट्राप्पेन (Max Verstappen)
 - 4. लैंडो नॉरिस (Lando Norris)

Question Type : MCQ

Question ID : 264330137059

Option 1 ID : 264330536882

Option 2 ID : 264330536880

Option 3 ID : 264330536881

Option 4 ID : 264330536879

Status : Answered

Chosen Option : 1

Q.20 वर्ष 1817 में "द हिस्ट्री ऑफ ब्रिटिश इंडिया (The History of British India)" को किसने लिखा था?

- Ans
- 1. जेम्स मिल
 - 2. रमेश चंद्र दत्त
 - 3. दादाभाई नौरोजी
 - 4. विलियम बैंटिक

Question Type : MCQ

Question ID : 264330137410

Option 1 ID : 264330538267

Option 2 ID : 264330538268

Option 3 ID : 264330538270

Option 4 ID : 264330538269

Status : Marked For Review

Chosen Option : 3

Q.21 Which among the following alloys is a combination of gold and silver?

- Ans
- 1. Electrum
 - 2. Bronze
 - 3. Solder
 - 4. Constantan

Question Type : MCQ

Question ID : 264330137041

Option 1 ID : 264330536807

Option 2 ID : 264330536808

Option 3 ID : 264330536809

Option 4 ID : 264330536810

Status : Answered

Chosen Option : 4

Q.22 दशहरा उत्सव को _____ के नाम से भी जाना जाता है।

- Ans
- 1. वैकुंठ अष्टमी (Vaikunthashtami)
 - 2. विजयादशमी (Vijaydashami)
 - 3. जन्माष्टमी (Janmashami)
 - 4. संक्रांति (Sankranti)

Question Type : MCQ
Question ID : 264330137689
Option 1 ID : 264330539363
Option 2 ID : 264330539365
Option 3 ID : 264330539366
Option 4 ID : 264330539364
Status : Answered
Chosen Option : 2

Q.23 निम्नलिखित में से कौन "एन ऑटोबायोग्राफी: टुवर्ड फ्रीडम (An Autobiography: Toward Freedom)" पुस्तक के लेखक हैं?

- Ans
- 1. लाला लाजपत राय
 - 2. इंदिरा गांधी
 - 3. महात्मा गांधी
 - 4. जवाहरलाल नेहरू

Question Type : MCQ
Question ID : 264330134048
Option 1 ID : 264330525217
Option 2 ID : 264330525218
Option 3 ID : 264330525216
Option 4 ID : 264330525215
Status : Not Answered
Chosen Option : --

Q.24 निम्नलिखित में से कौन-सी बेरोजगारी किसी अर्थव्यवस्था में मंदी का परिणाम है?

- Ans
- 1. चक्रीय बेरोजगारी
 - 2. संरचनात्मक बेरोजगारी
 - 3. मौसमी बेरोजगारी
 - 4. प्रतिरोधात्मक बेरोजगारी

Question Type : MCQ
Question ID : 264330137699
Option 1 ID : 264330539403
Option 2 ID : 264330539404
Option 3 ID : 264330539406
Option 4 ID : 264330539405
Status : Not Answered
Chosen Option : --

Q.25 सितंबर 2022 में, किसे भारत के नए महान्यायवादी के रूप में नियुक्त किया गया है?

- Ans
- ✓ 1. आर. वैकटरमणी
 - ✗ 2. जगदीप धनखड़
 - ✗ 3. कैलाश वासदेव
 - ✗ 4. राम जेठमलानी

Question Type : MCQ
Question ID : 264330138254
Option 1 ID : 264330541624
Option 2 ID : 264330541625
Option 3 ID : 264330541626
Option 4 ID : 264330541623
Status : Answered
Chosen Option : 1

Section : English Language and Comprehension

Q.1 In the following question, out of the given four alternatives, select the alternative which best expresses the meaning of the Idiom/Phrase.

In the long run

- Ans
- ✓ 1. In the end
 - ✗ 2. Lack of energy
 - ✗ 3. Long walk
 - ✗ 4. In tough times

Question Type : MCQ
Question ID : 264330135328
Option 1 ID : 264330530219
Option 2 ID : 264330530220
Option 3 ID : 264330530222
Option 4 ID : 264330530221
Status : Marked For Review
Chosen Option : 3

Q.2 Four words are given, out of which three words are spelt correctly. Choose the incorrectly spelt word.

- Ans
- ✗ 1. LICENSE
 - ✓ 2. NECCESARY
 - ✗ 3. INDISPENSABLE
 - ✗ 4. OCCASION

Question Type : MCQ
Question ID : 264330136635
Option 1 ID : 264330535264
Option 2 ID : 264330535265
Option 3 ID : 264330535263
Option 4 ID : 264330535266
Status : Answered
Chosen Option : 2

Q.3 Select the most appropriate word for the given group of words.

A person who is both open and shy

- Ans
- 1. Introvert
 - 2. Extrovert
 - 3. Ambivert
 - 4. Controvert

Question Type : MCQ
Question ID : 264330136628
Option 1 ID : 264330535236
Option 2 ID : 264330535235
Option 3 ID : 264330535237
Option 4 ID : 264330535238
Status : Answered
Chosen Option : 3

Q.4 Select the most appropriate antonym of the given word.

Rigid

- Ans
- 1. Satiation
 - 2. Flexible
 - 3. Distaste
 - 4. Superior

Question Type : MCQ
Question ID : 264330135811
Option 1 ID : 264330532115
Option 2 ID : 264330532118
Option 3 ID : 264330532116
Option 4 ID : 264330532117
Status : Answered
Chosen Option : 2

Q.5 Select the most appropriate synonym to substitute the bracketed word in the given sentence.
No need to read (voluminous) campaign literature, or pore through printed recommendations.

- Ans
- 1. Micro
 - 2. Reverberate
 - 3. Sparkling
 - 4. Commodious

Question Type : MCQ
Question ID : 264330136074
Option 1 ID : 264330533108
Option 2 ID : 264330533107
Option 3 ID : 264330533109
Option 4 ID : 264330533110
Status : Not Answered
Chosen Option : --

Q.6 Improve the underlined part of the sentence. Choose 'No improvement' as an answer if the sentence is grammatically correct.

He held the railing as he walked down the stairs.

- Ans**
- 1. No improvement
 - 2. walked downs
 - 3. walk down
 - 4. walked down

Question Type : **MCQ**
Question ID : **264330136772**
Option 1 ID : **264330535794**
Option 2 ID : **264330535793**
Option 3 ID : **264330535792**
Option 4 ID : **264330535791**
Status : **Answered**
Chosen Option : **4**

Q.7 Select the wrongly spelt word.

- Ans**
- 1. Sully
 - 2. Depravity
 - 3. Morelity
 - 4. Arsenal

Question Type : **MCQ**
Question ID : **264330136054**
Option 1 ID : **264330533034**
Option 2 ID : **264330533032**
Option 3 ID : **264330533031**
Option 4 ID : **264330533033**
Status : **Answered**
Chosen Option : **3**

Q.8 Select the word segment that substitutes (replaces) the bracketed word segment correctly and completes the sentence meaningfully. Select the option 'no correction required' if the sentence is correct as given.

One of the main climbing routes, approaches the summit from the southeast (in the Nepal).

- Ans**
- 1. in Nepal
 - 2. at the Nepal
 - 3. from the Nepal
 - 4. No correction required

Question Type : **MCQ**
Question ID : **264330136644**
Option 1 ID : **264330535301**
Option 2 ID : **264330535299**
Option 3 ID : **264330535300**
Option 4 ID : **264330535302**
Status : **Answered**
Chosen Option : **1**

Q.9 Find the part of the given sentence that has an error in it. If there is no error, choose 'No error'.

I hope that we will arrive at the ideal trade-off soon.

- Ans**
- 1. the ideal trade-off soon.
 - 2. we will arrive at
 - 3. I hope that
 - 4. No error

Question Type : **MCQ**
Question ID : **264330136769**
Option 1 ID : **264330535781**
Option 2 ID : **264330535780**
Option 3 ID : **264330535779**
Option 4 ID : **264330535782**
Status : **Answered**
Chosen Option : **2**

Q.10 The statement below has been given with bracketed text. Select the option with correct Idiom for the bracketed text.

Susie (has such strong resemblance to) Kate Winslet that sometimes people would ask her for her autograph.

- Ans**
- 1. gone bananas
 - 2. jack of all trades
 - 3. dead ringer
 - 4. pound the pavement

Question Type : **MCQ**
Question ID : **264330136634**
Option 1 ID : **264330535259**
Option 2 ID : **264330535261**
Option 3 ID : **264330535262**
Option 4 ID : **264330535260**
Status : **Answered**
Chosen Option : **2**

Q.11 Select the most appropriate option to fill in the blank.

The man who is supposed to be protecting them is somehow their fiercest and most _____ enemy.

- Ans**
- 1. quotidian
 - 2. implacable
 - 3. pedestrian
 - 4. ostentatious

Question Type : **MCQ**
Question ID : **264330136055**
Option 1 ID : **264330533037**
Option 2 ID : **264330533038**
Option 3 ID : **264330533036**
Option 4 ID : **264330533035**
Status : **Answered**
Chosen Option : **3**

Q.12 Select the most appropriate option to fill in the blank.

Before about 1830, _____ sermons, tracts and addresses routinely broached female intemperance.

- Ans**
- 1. temperance
 - 2. congruence
 - 3. confluence
 - 4. affluence

Question Type : **MCQ**

Question ID : **264330136064**

Option 1 ID : **264330533072**

Option 2 ID : **264330533074**

Option 3 ID : **264330533071**

Option 4 ID : **264330533073**

Status : **Answered**

Chosen Option : **1**

Q.13 Find the part of the given sentence that has an error in it. If there is no error, choose 'No error'.

He had to rebel against his father to became a musician.

- Ans**
- 1. against his father to
 - 2. No error
 - 3. became a musician.
 - 4. He had to rebel

Question Type : **MCQ**

Question ID : **264330134720**

Option 1 ID : **264330527836**

Option 2 ID : **264330527838**

Option 3 ID : **264330527837**

Option 4 ID : **264330527835**

Status : **Marked For Review**

Chosen Option : **4**

Q.14 Improve the underlined part of the sentence. Choose 'No improvement' as an answer if the sentence is grammatically correct.

He enlisting in the army and went to war when he was only eighteen.

- Ans**
- 1. No improvement
 - 2. enlist in army
 - 3. enlisted in the army
 - 4. enlisted at the army

Question Type : **MCQ**

Question ID : **264330135182**

Option 1 ID : **264330529662**

Option 2 ID : **264330529660**

Option 3 ID : **264330529661**

Option 4 ID : **264330529659**

Status : **Answered**

Chosen Option : **3**

Q.15 Select the most appropriate synonym of the given word.

Fetish

- Ans
- 1. Desire
 - 2. Requirement
 - 3. Awkward
 - 4. Learning

Question Type : MCQ
Question ID : 264330136629
Option 1 ID : 264330535240
Option 2 ID : 264330535241
Option 3 ID : 264330535242
Option 4 ID : 264330535239
Status : Answered
Chosen Option : 3

Q.16 Identify the segment that contains a grammatical error. If there is no error, select 'No error'.

Before Jerry could stop him, Daniel / bounding off the bed, seized Jerry's / desk lamp, and started beating himself.

- Ans
- 1. No error
 - 2. bounding off the bed, seized Jerry's
 - 3. desk lamp, and started beating himself.
 - 4. Before Jerry could stop him, Daniel

Question Type : MCQ
Question ID : 264330136615
Option 1 ID : 264330535190
Option 2 ID : 264330535188
Option 3 ID : 264330535189
Option 4 ID : 264330535187
Status : Answered
Chosen Option : 2

Q.17 Choose the word that can substitute the given group of words.

A portable case for holding papers, drawing etc.

- Ans
- 1. Cache
 - 2. Archives
 - 3. Creche
 - 4. Portfolio

Question Type : MCQ
Question ID : 264330135322
Option 1 ID : 264330530195
Option 2 ID : 264330530197
Option 3 ID : 264330530196
Option 4 ID : 264330530198
Status : Answered
Chosen Option : 4

Q.18 Select the word from the options which is exactly opposite in meaning to the bracketed word given in the sentence below.

The company has responded (sluggishly) to these changes in technology.

- Ans**
- 1. Similarly
 - 2. Apathetically
 - 3. Promptly
 - 4. Lethargically

Question Type : **MCQ**
Question ID : **264330136632**
Option 1 ID : **264330535254**
Option 2 ID : **264330535252**
Option 3 ID : **264330535251**
Option 4 ID : **264330535253**
Status : **Marked For Review**
Chosen Option : **2**

Q.19 Fill in the blank with the most appropriate option.

Societies need to develop highly _____ behavioural rules for survival.

- Ans**
- 1. matched
 - 2. adopted
 - 3. readjusted
 - 4. adaptive

Question Type : **MCQ**
Question ID : **264330136638**
Option 1 ID : **264330535278**
Option 2 ID : **264330535277**
Option 3 ID : **264330535275**
Option 4 ID : **264330535276**
Status : **Answered**
Chosen Option : **4**

Q.20 Fill in the blank with the most appropriate option.

At first, it looked as _____ Uncle Vernon would manage to gloss the whole thing over.

- Ans**
- 1. thought
 - 2. through
 - 3. though
 - 4. throughout

Question Type : **MCQ**
Question ID : **264330136619**
Option 1 ID : **264330535206**
Option 2 ID : **264330535203**
Option 3 ID : **264330535205**
Option 4 ID : **264330535204**
Status : **Answered**
Chosen Option : **4**

Comprehension:

In the following passage some words have been deleted. Fill in the blanks with the help of the alternatives given. Select the most appropriate option for each number.

If you enjoy (1) _____ crime shows on TV, you know that fingerprints play a large role in (2) _____ people. But, you might be (3) _____ to find out that using fingerprints for identification is not a new science. In fact, it is very old (4) _____ back at least as far as 1885-1913 B.C.E. In Babylon, when people agreed to a business contract, they pressed their fingerprints into the clay in which the contract was written. (5) _____ have also been found on clay seals from ancient China.

SubQuestion No : 21

Q.21 Select the most appropriate option to fill in the blank No. 1.

- Ans**
- 1. watching
 - 2. calling out
 - 3. marking
 - 4. writing

Question Type : **MCQ**

Question ID : **264330135802**

Option 1 ID : **264330532081**

Option 2 ID : **264330532079**

Option 3 ID : **264330532082**

Option 4 ID : **264330532080**

Status : **Answered**

Chosen Option : **1**

Comprehension:

In the following passage some words have been deleted. Fill in the blanks with the help of the alternatives given. Select the most appropriate option for each number.

If you enjoy (1) _____ crime shows on TV, you know that fingerprints play a large role in (2) _____ people. But, you might be (3) _____ to find out that using fingerprints for identification is not a new science. In fact, it is very old (4) _____ back at least as far as 1885-1913 B.C.E. In Babylon, when people agreed to a business contract, they pressed their fingerprints into the clay in which the contract was written. (5) _____ have also been found on clay seals from ancient China.

SubQuestion No : 22

Q.22 Select the most appropriate option to fill in the blank No. 2.

- Ans**
- 1. masking
 - 2. pertaining
 - 3. chortling
 - 4. identifying

Question Type : **MCQ**

Question ID : **264330135803**

Option 1 ID : **264330532084**

Option 2 ID : **264330532086**

Option 3 ID : **264330532085**

Option 4 ID : **264330532083**

Status : **Answered**

Chosen Option : **4**

Comprehension:

In the following passage some words have been deleted. Fill in the blanks with the help of the alternatives given. Select the most appropriate option for each number.

If you enjoy (1) _____ crime shows on TV, you know that fingerprints play a large role in (2) _____ people. But, you might be (3) _____ to find out that using fingerprints for identification is not a new science. In fact, it is very old (4) _____ back at least as far as 1885-1913 B.C.E. In Babylon, when people agreed to a business contract, they pressed their fingerprints into the clay in which the contract was written. (5) _____ have also been found on clay seals from ancient China.

SubQuestion No : 23

Q.23 Select the most appropriate option to fill in the blank No. 3.

- Ans**
- 1. certain
 - 2. blocked
 - 3. calculable
 - 4. surprised

Question Type : **MCQ**

Question ID : **264330135804**

Option 1 ID : **264330532088**

Option 2 ID : **264330532089**

Option 3 ID : **264330532087**

Option 4 ID : **264330532090**

Status : **Answered**

Chosen Option : **4**

Comprehension:

In the following passage some words have been deleted. Fill in the blanks with the help of the alternatives given. Select the most appropriate option for each number.

If you enjoy (1) _____ crime shows on TV, you know that fingerprints play a large role in (2) _____ people. But, you might be (3) _____ to find out that using fingerprints for identification is not a new science. In fact, it is very old (4) _____ back at least as far as 1885-1913 B.C.E. In Babylon, when people agreed to a business contract, they pressed their fingerprints into the clay in which the contract was written. (5) _____ have also been found on clay seals from ancient China.

SubQuestion No : 24

Q.24 Select the most appropriate option to fill in the blank No. 4.

- Ans**
- 1. going
 - 2. dating
 - 3. portraying
 - 4. stating

Question Type : **MCQ**

Question ID : **264330135805**

Option 1 ID : **264330532091**

Option 2 ID : **264330532092**

Option 3 ID : **264330532094**

Option 4 ID : **264330532093**

Status : **Answered**

Chosen Option : **1**

Comprehension:

In the following passage some words have been deleted. Fill in the blanks with the help of the alternatives given. Select the most appropriate option for each number.

If you enjoy (1) _____ crime shows on TV, you know that fingerprints play a large role in (2) _____ people. But, you might be (3) _____ to find out that using fingerprints for identification is not a new science. In fact, it is very old (4) _____ back at least as far as 1885-1913 B.C.E. In Babylon, when people agreed to a business contract, they pressed their fingerprints into the clay in which the contract was written. (5) _____ have also been found on clay seals from ancient China.

SubQuestion No : 25

Q.25 Select the most appropriate option to fill in the blank No. 5.

- Ans**
- 1. Thumbprints
 - 2. Sculptures
 - 3. Footprints
 - 4. Paintings

Question Type : **MCQ**

Question ID : **264330135806**

Option 1 ID : **264330532095**

Option 2 ID : **264330532097**

Option 3 ID : **264330532096**

Option 4 ID : **264330532098**

Status : **Answered**

Chosen Option : **1**