

Multi Tasking Non Technical Staff and Havaldar CBIC and CBN Examination 2022

Roll Number	
Candidate Name	
Venue Name	iON Digital Zone iDZ Dholi Magri
Exam Date	11/05/2023
Exam Time	9:00 AM - 10:30 AM
Subject	MTS Non Tech Havaldar CBIC and CBN Examination 2022

Section : Numerical and Mathematical Ability

Q.1 यदि कीमत में 25 प्रतिशत की कमी की जाती है, तो खपत में कितने प्रतिशत की वृद्धि की जानी चाहिए, ताकि व्यय अपरिवर्तित रहे?

- Ans
- 1. 40 प्रतिशत
 - 2. 20 प्रतिशत
 - 3. 33.33 प्रतिशत
 - 4. 37.5 प्रतिशत

Question Type : MCQ
Question ID : 264330139061
Option 1 ID : 264330544851
Option 2 ID : 264330544852
Option 3 ID : 264330544854
Option 4 ID : 264330544853
Status : Answered
Chosen Option : 3

Q.2 यदि $2P = 3Q$ और $5Q = 4R$ है, तो $P : Q : R$ का मान क्या है?

- Ans
- 1. 6 : 4 : 5
 - 2. 8 : 5 : 4
 - 3. 2 : 3 : 5
 - 4. 7 : 5 : 6

Question Type : MCQ
Question ID : 264330139004
Option 1 ID : 264330544625
Option 2 ID : 264330544623
Option 3 ID : 264330544626
Option 4 ID : 264330544624
Status : Answered
Chosen Option : 1

Q.3 एक निश्चित धनराशि पर 5 वर्ष के लिए 6% वार्षिक और 4 वर्ष के लिए 5% वार्षिक दर पर साधारण ब्याज का अंतर Rs. 422 है। धनराशि ज्ञात कीजिए।

- Ans
- 1. Rs.1990
 - 2. Rs.6500
 - 3. Rs.4220
 - 4. Rs.2570

Question Type : MCQ
Question ID : 264330135380
Option 1 ID : 264330530428
Option 2 ID : 264330530430
Option 3 ID : 264330530429
Option 4 ID : 264330530427
Status : Answered
Chosen Option : 3

Q.4 एक आदमी अपनी बाइक को Rs. 132000 में बेचकर 10% का लाभ अर्जित करता है। यदि उसने इसे Rs. 126000 में बेचा होता, तो उसका लाभ या हानि प्रतिशत क्या होता?

- Ans
- 1. 10% लाभ
 - 2. 5% लाभ
 - 3. 5% हानि
 - 4. 10% हानि

Question Type : MCQ
Question ID : 264330141033
Option 1 ID : 264330552480
Option 2 ID : 264330552482
Option 3 ID : 264330552481
Option 4 ID : 264330552479
Status : Answered
Chosen Option : 2

Q.5 एक समूह के 25 सदस्यों का औसत भार 39 kg है। एक दूसरे समूह के 27 सदस्यों का औसत भार 21 kg है। दोनों समूहों के सदस्यों का कुल भार कितना होगा?

- Ans
- 1. 1426 kg
 - 2. 1542 kg
 - 3. 1714 kg
 - 4. 1507 kg

Question Type : MCQ
Question ID : 264330139060
Option 1 ID : 264330544850
Option 2 ID : 264330544849
Option 3 ID : 264330544848
Option 4 ID : 264330544847
Status : Answered
Chosen Option : 2

Q.6 A और B मिलकर किसी कार्य को 6 दिनों में पूरा करते हैं। यदि A अकेले उस कार्य को 10 दिनों में पूरा कर सकता है, तो B अकेले उस कार्य को कितने दिनों में पूरा कर सकता है?

- Ans
- 1. 14 दिन
 - 2. 15 दिन
 - 3. 12 दिन
 - 4. 10 दिन

Question Type : MCQ
Question ID : 264330133830
Option 1 ID : 264330524346
Option 2 ID : 264330524344
Option 3 ID : 264330524345
Option 4 ID : 264330524343
Status : Answered
Chosen Option : 2

Q.7 $42 \div [18 - \{6 + (3 \text{ of } 4 - 4 - 2 \text{ of } 5)\}]$ का मान क्या है?

- Ans
- 1. 5
 - 2. 6
 - 3. 2
 - 4. 3

Question Type : MCQ
Question ID : 264330138090
Option 1 ID : 264330540970
Option 2 ID : 264330540968
Option 3 ID : 264330540969
Option 4 ID : 264330540967
Status : Answered
Chosen Option : 4

Q.8 तीन धनात्मक संख्याओं में, पहली और दूसरी का अनुपात 3 : 4 है और दूसरी और तीसरी का अनुपात 3 : 5 है। पहली और तीसरी संख्या का गुणनफल 4500 है। इन तीन संख्याओं का योग क्या है?

- Ans
- 1. 235
 - 2. 282
 - 3. 205
 - 4. 198

Question Type : MCQ
Question ID : 264330139005
Option 1 ID : 264330544628
Option 2 ID : 264330544630
Option 3 ID : 264330544627
Option 4 ID : 264330544629
Status : Answered
Chosen Option : 3

Q.9 राम 12 km/hr की चाल से चलता है और अपने विद्यालय 12 मिनट देरी से पहुँचता है। यदि वह 16 km/hr की चाल से चलता है, तो वह निर्धारित समय से 8 मिनट पहले पहुँच जाता है। उसके घर से उसके विद्यालय की दूरी कितनी है?

- Ans
- 1. 30 km
 - 2. 24 km
 - 3. 16 km
 - 4. 20 km

Question Type : MCQ

Question ID : 264330138998

Option 1 ID : 264330544602

Option 2 ID : 264330544601

Option 3 ID : 264330544600

Option 4 ID : 264330544599

Status : Answered

Chosen Option : 3

Q.10 उस वर्ग का क्षेत्रफल कितना है जिसका विकर्ण $5\sqrt{2}$ cm है?

- Ans
- 1. 64 cm²
 - 2. 36 cm²
 - 3. 25 cm²
 - 4. 100 cm²

Question Type : MCQ

Question ID : 264330138054

Option 1 ID : 264330540826

Option 2 ID : 264330540825

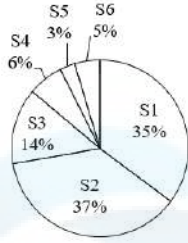
Option 3 ID : 264330540823

Option 4 ID : 264330540824

Status : Answered

Chosen Option : 3

Q.11 नीचे दिए गए वृत्त आलेख में छः विद्यालयों में पढ़ने वाले छात्रों की संख्या को दर्शाया गया है। इन सभी छः विद्यालयों में पढ़ने वाले छात्रों की कुल संख्या 8000 है। इनमें से किसी एक विशिष्ट विद्यालय में पढ़ने वाले छात्रों की संख्या को इन सभी छः विद्यालयों में पढ़ने वाले छात्रों की कुल संख्या के प्रतिशत के रूप में दर्शाया गया है।



विद्यालय S2 और S4 में पढ़ने वाले छात्रों की कुल संख्या, विद्यालय S3 और S6 में पढ़ने वाले छात्रों की कुल संख्या का कितना प्रतिशत है?

- Ans
- 1. 171.22 प्रतिशत
 - 2. 226.31 प्रतिशत
 - 3. 190.46 प्रतिशत
 - 4. 265.22 प्रतिशत

Question Type : MCQ

Question ID : 264330139015

Option 1 ID : 264330544669

Option 2 ID : 264330544670

Option 3 ID : 264330544668

Option 4 ID : 264330544667

Status : Answered

Chosen Option : 2

Q.12 निम्नलिखित तालिका में वर्ष 2019 से 2022 तक भारत के 5 राज्यों में बेरोज़गार व्यक्तियों की संख्या को दर्शाया गया है।

वर्ष 2021 में कर्नाटक, महाराष्ट्र और पंजाब में बेरोज़गार व्यक्तियों की औसत संख्या कितनी है?

State/Year	Number of unemployed people (in thousand)			
	2019	2020	2021	2022
Bihar	25	40	50	42
UP	84	70	60	58
Karnataka	12	10	9	10
Maharashtra	40	48	30	32
Punjab	20	25	18	15

State/Year = राज्य/वर्ष

Number of unemployed people (in thousand) = बेरोज़गार व्यक्तियों की संख्या (हजार में)

Bihar = बिहार, UP = यूपी, Karnataka = कर्नाटक, Maharashtra = महाराष्ट्र, Punjab = पंजाब

- Ans
- 1. 9 हजार
 - 2. 19 हजार
 - 3. 30 हजार
 - 4. 18 हजार

Question Type : MCQ

Question ID : 264330138105

Option 1 ID : 264330541029

Option 2 ID : 264330541027

Option 3 ID : 264330541030

Option 4 ID : 264330541028

Status : Answered

Chosen Option : 2

Q.13 सीमा अकेले किसी कार्य को 8 दिनों में कर सकती है और उसकी बहन रीमा अकेले उसी कार्य को 24 दिनों में कर सकती है। यदि वे साथ मिलकर कार्य करें, तो वे कितने दिनों में कार्य पूरा करेंगी?

- Ans
- 1. 10 दिन
 - 2. 4 दिन
 - 3. 6 दिन
 - 4. 8 दिन

Question Type : MCQ

Question ID : 264330138050

Option 1 ID : 264330540810

Option 2 ID : 264330540807

Option 3 ID : 264330540809

Option 4 ID : 264330540808

Status : Answered

Chosen Option : 3

Q.14 एक वस्तु का अंकित मूल्य उसके क्रय मूल्य से 20 प्रतिशत अधिक है। यदि अंकित मूल्य पर 10 प्रतिशत की छूट दी जाती है, तो लाभ प्रतिशत क्या होगा?

- Ans
- 1. 12 प्रतिशत
 - 2. 8 प्रतिशत
 - 3. 15 प्रतिशत
 - 4. 10 प्रतिशत

Question Type : MCQ

Question ID : 264330139008

Option 1 ID : 264330544641

Option 2 ID : 264330544639

Option 3 ID : 264330544642

Option 4 ID : 264330544640

Status : Answered

Chosen Option : 2

Q.15 एक राशि साधारण ब्याज पर 14 प्रतिशत वार्षिक दर पर 7 वर्ष में Rs.27720 हो जाती है। वह राशि क्या है?

- Ans
- 1. Rs. 14000
 - 2. Rs. 15000
 - 3. Rs. 13000
 - 4. Rs. 14700

Question Type : MCQ

Question ID : 264330139066

Option 1 ID : 264330544872

Option 2 ID : 264330544874

Option 3 ID : 264330544871

Option 4 ID : 264330544873

Status : Answered

Chosen Option : 1

Q.16 12, 25 और 45 से विभाज्य, चार अंकों की सबसे बड़ी संख्या कौन-सी है?

- Ans 1. 9800
 2. 9900
 3. 9999
 4. 9890

Question Type : MCQ

Question ID : 264330141006

Option 1 ID : 264330552372

Option 2 ID : 264330552374

Option 3 ID : 264330552371

Option 4 ID : 264330552373

Status : Answered

Chosen Option : 2

Q.17 तीन नापने वाले फीतों की लंबाई 56 cm, 64 cm और 80 cm है। वह न्यूनतम लंबाई ज्ञात कीजिए जिसे तीनों फीतों में से किसी भी एक का प्रयोग करके नापा जा सके। (एक समय में केवल एक प्रकार के फीते का ही उपयोग किया जाना चाहिए और नापने के लिए केवल एक पूरे फीते का उपयोग किया जाना चाहिए।)

- Ans 1. 1982 cm
 2. 2240 cm
 3. 1876 cm
 4. 1706 cm

Question Type : MCQ

Question ID : 264330139011

Option 1 ID : 264330544654

Option 2 ID : 264330544652

Option 3 ID : 264330544651

Option 4 ID : 264330544653

Status : Answered

Chosen Option : 2

Q.18 प्रथम 57 प्राकृत संख्याओं का औसत क्या है?

- Ans 1. 29
 2. 42
 3. 35
 4. 40.5

Question Type : MCQ

Question ID : 264330138999

Option 1 ID : 264330544605

Option 2 ID : 264330544604

Option 3 ID : 264330544606

Option 4 ID : 264330544603

Status : Answered

Chosen Option : 1

Q.19 एक वस्तु को Rs. 8442 में बेचते समय, एक व्यक्ति को 30 प्रतिशत की हानि हुई। उसे 20 प्रतिशत का लाभ अर्जित करने के लिए वस्तु को किस मूल्य पर बेचना चाहिए था?

- Ans
- 1. Rs. 15686
 - 2. Rs. 12806
 - 3. Rs. 13885
 - 4. Rs. 14472

Question Type : MCQ

Question ID : 264330139003

Option 1 ID : 264330544620

Option 2 ID : 264330544621

Option 3 ID : 264330544622

Option 4 ID : 264330544619

Status : Answered

Chosen Option : 4

Q.20 एक गोलीय कोश की बाहरी त्रिज्या 13 cm है और कोश की मोटाई 3 cm है। कोश के लिए प्रयुक्त धातु का आयतन कितना है? ($\pi = \frac{22}{7}$)

- Ans
- 1. 2197 cm³
 - 2. 3024 cm³
 - 3. 1197 cm³
 - 4. 5016 cm³

Question Type : MCQ

Question ID : 264330133835

Option 1 ID : 264330524363

Option 2 ID : 264330524365

Option 3 ID : 264330524366

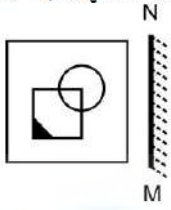
Option 4 ID : 264330524364

Status : Answered

Chosen Option : 4

Section : Reasoning Ability and Problem Solving

Q.1 दी गई आकृति के उस सही दर्पण प्रतिबिंब को चुनिए जो दर्पण MN को आकृति के दाईं ओर रखने पर बनेगा।

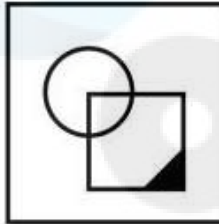


Ans

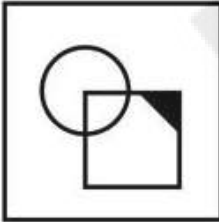
✗ 1.



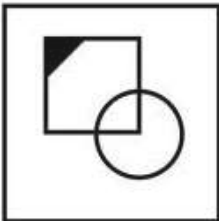
✓ 2.



✗ 3.



✗ 4.



Question Type : MCQ

Question ID : 264330137872

Option 1 ID : 264330540096

Option 2 ID : 264330540097

Option 3 ID : 264330540095

Option 4 ID : 264330540098

Status : Answered

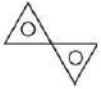
Chosen Option : 2

Q.2 रश्मि, मोनिका से कद में छोटी है जो प्रेरणा से कद में छोटी है। सना, रश्मि से कद में छोटी है। हर्षिता, प्रेरणा से लंबी है। उमा, निकिता से कद में छोटी है और हर्षिता से लंबी है। इनमें से किसका कद सबसे छोटा है?

- Ans 1. सना
 2. रश्मि
 3. उमा
 4. प्रेरणा

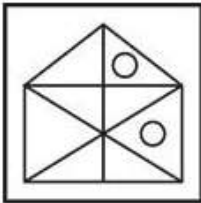
Question Type : MCQ
 Question ID : 264330138817
 Option 1 ID : 264330543877
 Option 2 ID : 264330543878
 Option 3 ID : 264330543876
 Option 4 ID : 264330543875
 Status : Answered
 Chosen Option : 1

Q.3 उस विकल्प आकृति को चुनिए जिसमें नीचे दी गई आकृति उसके भाग के रूप में निहित है (घूर्णन की अनुमति नहीं है)।

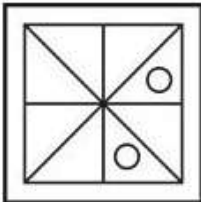


Ans

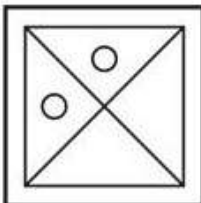
1.



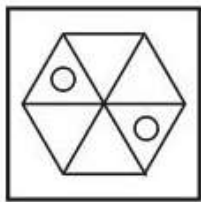
2.



3.



4.



Question Type : MCQ
 Question ID : 264330137871
 Option 1 ID : 264330540093
 Option 2 ID : 264330540092
 Option 3 ID : 264330540091
 Option 4 ID : 264330540094
 Status : Answered
 Chosen Option : 4

Q.4 एक निश्चित कूट भाषा में, 'PROVED' को 'VEDPRO' लिखा जाता है। उस कूट भाषा में 'ROBUST' को कैसे लिखा जाएगा?

- Ans
- 1. VSTRBO
 - 2. VSTROB
 - 3. USTROC
 - 4. USTROB

Question Type : MCQ

Question ID : 264330138854

Option 1 ID : 264330544023

Option 2 ID : 264330544025

Option 3 ID : 264330544026

Option 4 ID : 264330544024

Status : Answered

Chosen Option : 4

Q.5 छः छात्र सुभम, स्नेहा, सुरभि, मुस्कान, हर्ष और विशाल एक असेंबली लाइन में उत्तर की ओर मुख करके (एक के पीछे एक) खड़े हैं। लाइन में हर्ष के पीछे केवल एक छात्र खड़ा है। स्नेहा, विशाल और मुस्कान के ठीक बीच में खड़ी है। सुरभि, मुस्कान और हर्ष के बीच में खड़ी है। सुरभि के ठीक पीछे कौन खड़ा है?

- Ans
- 1. विशाल
 - 2. स्नेहा
 - 3. हर्ष
 - 4. सुभम

Question Type : MCQ

Question ID : 264330138815

Option 1 ID : 264330543868

Option 2 ID : 264330543869

Option 3 ID : 264330543870

Option 4 ID : 264330543867

Status : Answered

Chosen Option : 3

Q.6 एक निश्चित कूट भाषा में, 'PARK' को 'FMVK' लिखा जाता है। उस कूट भाषा में 'RICE' को कैसे लिखा जाएगा?

- Ans
- 1. ZXDM
 - 2. ZXDN
 - 3. ZXDL
 - 4. ZXEM

Question Type : MCQ

Question ID : 264330138525

Option 1 ID : 264330542710

Option 2 ID : 264330542708

Option 3 ID : 264330542707

Option 4 ID : 264330542709

Status : Answered

Chosen Option : 1

Q.7 उस विकल्प को चुनिए जो पाँचवी संख्या से ठीक उसी प्रकार संबंधित है जिस प्रकार दूसरी संख्या पहली संख्या से संबंधित है और चौथी संख्या तीसरी संख्या से संबंधित है।

10 : 512 :: 12 : 1000 :: 8 : ?

- Ans
- 1. 512
 - 2. 216
 - 3. 256
 - 4. 315

Question Type : MCQ

Question ID : 264330138843

Option 1 ID : 264330543981

Option 2 ID : 264330543982

Option 3 ID : 264330543979

Option 4 ID : 264330543980

Status : Answered

Chosen Option : 2

Q.8 दिए गए समीकरण को सही करने के लिए किन दो संख्याओं को आपस में बदला जाना चाहिए?

$$4 \times 2 - 3 + 5 = 7$$

- Ans
- 1. 7 और 5
 - 2. 4 और 5
 - 3. 3 और 4
 - 4. 2 और 7

Question Type : MCQ

Question ID : 264330138824

Option 1 ID : 264330543904

Option 2 ID : 264330543905

Option 3 ID : 264330543903

Option 4 ID : 264330543906

Status : Answered

Chosen Option : 3

Q.9 दी गई श्रृंखला में निम्नलिखित में से कौन-सी संख्या प्रश्न चिन्ह (?) के स्थान पर आएगी?

27, 30, 35, 38, 43, 46, 51, ?

- Ans
- 1. 56
 - 2. 48
 - 3. 30
 - 4. 54

Question Type : MCQ

Question ID : 264330138821

Option 1 ID : 264330543894

Option 2 ID : 264330543891

Option 3 ID : 264330543892

Option 4 ID : 264330543893

Status : Answered

Chosen Option : 4

Q.10 दो कथन दिए गए हैं और दो निष्कर्ष I और II दिए गए हैं। कथनों को सत्य मानते हुए, चाहे वे सामान्यतः ज्ञात तथ्यों से अलग प्रतीत होते हों, निश्चय कीजिए कि कौन-सा निष्कर्ष तार्किक रूप से कथनों के अनुसार है।

कथन:

सभी कुर्सियाँ, डेस्क हैं।

सभी डेस्क, मेज़ हैं।

निष्कर्ष:

I. कुछ मेज़, कुर्सियाँ हैं।

II. सभी मेज़, डेस्क हैं।

Ans

1. सिर्फ निष्कर्ष II कथनों के अनुसार है
2. सिर्फ निष्कर्ष I कथनों के अनुसार है
3. निष्कर्ष I और II में से कोई भी कथनों के अनुसार नहीं है
4. दोनों निष्कर्ष I और II कथनों के अनुसार हैं

Question Type : MCQ

Question ID : 264330138818

Option 1 ID : 264330543880

Option 2 ID : 264330543879

Option 3 ID : 264330543882

Option 4 ID : 264330543881

Status : Answered

Chosen Option : 2

Q.11 दी गई श्रृंखला में निम्नलिखित में से कौन-सा अक्षर प्रश्न चिन्ह (?) के स्थान पर आएगा?

Y, T, O, J, E, ?

Ans

1. B
2. C
3. D
4. Z

Question Type : MCQ

Question ID : 264330138808

Option 1 ID : 264330543840

Option 2 ID : 264330543839

Option 3 ID : 264330543841

Option 4 ID : 264330543842

Status : Answered

Chosen Option : 4

Q.12 उस विकल्प को चुनिए जो तीसरे शब्द से ठीक उसी तरह संबंधित है जिस तरह दूसरा शब्द पहले शब्द से संबंधित है।
सैनिक : बंदूक :: शल्य चिकित्सक : ?

- Ans
- ✓ 1. छुरी (Scalpel)
 - ✗ 2. तलवार (Sword)
 - ✗ 3. कुल्हाड़ी (Axe)
 - ✗ 4. कलम (Pen)

Question Type : MCQ

Question ID : 264330138810

Option 1 ID : 264330543849

Option 2 ID : 264330543848

Option 3 ID : 264330543850

Option 4 ID : 264330543847

Status : Answered

Chosen Option : 1

Q.13 निम्नलिखित प्रश्न में, दी गई श्रृंखला में लुप्त संख्या चुनिए ।

500, 477, 454, 431, 408, ?

- Ans
- ✗ 1. 391
 - ✗ 2. 390
 - ✓ 3. 385
 - ✗ 4. 384

Question Type : MCQ

Question ID : 264330138841

Option 1 ID : 264330543974

Option 2 ID : 264330543973

Option 3 ID : 264330543971

Option 4 ID : 264330543972

Status : Answered

Chosen Option : 3

Q.14 P, Q, R, और S एक बेंच पर दक्षिण की ओर मुख करके बैठे हैं और A, B, C और D एक समानांतर बेंच पर उत्तर की ओर मुख करके बैठे हैं। S और B एक दूसरे के सम्मुख बैठे हैं। A, D और C के ठीक बीच में बैठा है। P, C के सम्मुख बैठा है। Q, S के ठीक बाईं ओर बैठा है। R के स्थान के संदर्भ में निम्नलिखित में से कौन-सा कथन सही है?

- Ans
- 1. Q के ठीक दाईं ओर R बैठा है
 - 2. A के सम्मुख R बैठा है
 - 3. D के सम्मुख R बैठा है
 - 4. P के ठीक बाईं ओर R बैठा है

Question Type : MCQ
Question ID : 264330138816
Option 1 ID : 264330543873
Option 2 ID : 264330543874
Option 3 ID : 264330543871
Option 4 ID : 264330543872
Status : Answered
Chosen Option : 2

Q.15 एक निश्चित कूट भाषा में, 'KOVID' को 'DIVOK' लिखा जाता है। उस कूट भाषा में 'DAVID' को कैसे लिखा जाएगा?

- Ans
- 1. DIVBD
 - 2. DIVAD
 - 3. DIVDA
 - 4. DIWAD

Question Type : MCQ
Question ID : 264330137112
Option 1 ID : 264330537094
Option 2 ID : 264330537092
Option 3 ID : 264330537093
Option 4 ID : 264330537091
Status : Answered
Chosen Option : 2

Q.16 दिए गए दो चिन्हों को आपस में बदलने पर, निम्नलिखित में से कौन-सा समीकरण सही नहीं होगा?

× और -

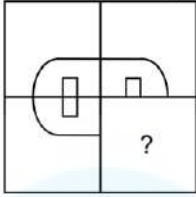
I. $4 \div 2 + 1 \times 6 - 3 = 13$

II. $5 + 7 - 8 \times 2 + 1 = 58$

- Ans
- 1. I और II दोनों
 - 2. केवल I
 - 3. न तो I और न ही II
 - 4. केवल II

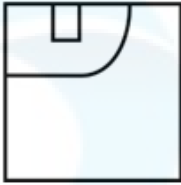
Question Type : MCQ
Question ID : 264330135579
Option 1 ID : 264330531217
Option 2 ID : 264330531215
Option 3 ID : 264330531218
Option 4 ID : 264330531216
Status : Answered
Chosen Option : 1

Q.17 उस विकल्प आकृति को चुनिए जो नीचे दी गई आकृति में पैटर्न को पूरा करने के लिए प्रश्न चिन्ह (?) के स्थान पर आएगी। (घूर्णन की अनुमति नहीं है)।



Ans

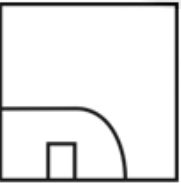
✓ 1.



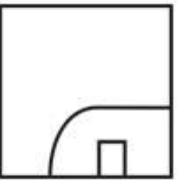
✗ 2.



✗ 3.



✗ 4.



Question Type : MCQ

Question ID : 264330138828

Option 1 ID : 264330543920

Option 2 ID : 264330543921

Option 3 ID : 264330543919

Option 4 ID : 264330543922

Status : Answered

Chosen Option : 1

Q.18 तीन कथन दिए गए हैं और दो निष्कर्ष I और II दिए गए हैं। कथनों को सत्य मानते हुए, चाहे वे सामान्यतः ज्ञात तथ्यों से अलग प्रतीत होते हों, निश्चय कीजिए कि कौन-सा निष्कर्ष तार्किक रूप से कथनों के अनुसार है।
कथन:

कुछ खरगोश, सफेद हैं।

कुछ खरगोश, भूरे हैं।

सभी सफेद, पीले हैं।

निष्कर्ष:

I. कुछ भूरे, पीले हैं।

II. कुछ खरगोश, पीले हैं।

Ans

- ✗ 1. सिर्फ निष्कर्ष I कथनों के अनुसार है
- ✗ 2. दोनों निष्कर्ष I और II कथनों के अनुसार हैं
- ✗ 3. निष्कर्ष I और II में से कोई भी कथनों के अनुसार नहीं है
- ✓ 4. सिर्फ निष्कर्ष II कथनों के अनुसार है

Question Type : MCQ

Question ID : 264330138819

Option 1 ID : 264330543883

Option 2 ID : 264330543885

Option 3 ID : 264330543886

Option 4 ID : 264330543884

Status : Answered

Chosen Option : 4

Q.19 दिए गए पैटर्न का ध्यानपूर्वक अध्ययन कीजिए और उस संख्या को चुनिए जो इसमें प्रश्न चिन्ह (?) के स्थान पर आ सकती है?
प्रथम पंक्ति- 18, 36, 6
द्वितीय पंक्ति- 24, 48, 8
तृतीय पंक्ति- 33, 66, ?

Ans

- ✗ 1. 14
- ✗ 2. 13
- ✓ 3. 11
- ✗ 4. 12

Question Type : MCQ

Question ID : 264330138823

Option 1 ID : 264330543901

Option 2 ID : 264330543902

Option 3 ID : 264330543899

Option 4 ID : 264330543900

Status : Answered

Chosen Option : 3

Q.20 उस विकल्प को चुनिए जो तीसरे अक्षर-समूह से ठीक उसी तरह संबंधित है जिस तरह दूसरा अक्षर-समूह पहले अक्षर-समूह से संबंधित है।
SOC : TND :: UDN : ?

- Ans
- 1. VCP
 - 2. OCV
 - 3. VCO
 - 4. UCO

Question Type : MCQ
Question ID : 264330138811
Option 1 ID : 264330543854
Option 2 ID : 264330543852
Option 3 ID : 264330543851
Option 4 ID : 264330543853
Status : Answered
Chosen Option : 3

Section : General Awareness

Q.1 "थॉमस कप (Thomas Cup)" निम्नलिखित में से किस खेल से संबंधित है?

- Ans
- 1. फुटबॉल
 - 2. टेनिस
 - 3. बैडमिंटन
 - 4. क्रिकेट

Question Type : MCQ
Question ID : 264330138900
Option 1 ID : 264330544207
Option 2 ID : 264330544209
Option 3 ID : 264330544208
Option 4 ID : 264330544210
Status : Answered
Chosen Option : 3

Q.2 निश्चित दिशा में महासागरीय सतह पर नियमित रूप से बहने वाली जल की धाराएँ _____ कहलाती हैं।

- Ans
- 1. ज्वार-भाटा
 - 2. महासागरीय धाराएँ
 - 3. चक्रवात
 - 4. लहरें

Question Type : MCQ
Question ID : 264330138911
Option 1 ID : 264330544253
Option 2 ID : 264330544254
Option 3 ID : 264330544252
Option 4 ID : 264330544251
Status : Answered
Chosen Option : 4

Q.3 जून 2022 में, Google डूडल ने सत्येंद्र नाथ बोस को सम्मानित किया, वह एक _____ थे।

- Ans
- ✓ 1. भारतीय भौतिक विज्ञानी
 - ✗ 2. भारतीय शास्त्रीय नर्तक
 - ✗ 3. भारतीय गायक
 - ✗ 4. सर्वोच्च न्यायालय के न्यायाधीश

Question Type : MCQ
Question ID : 264330138879
Option 1 ID : 264330544125
Option 2 ID : 264330544124
Option 3 ID : 264330544126
Option 4 ID : 264330544123
Status : Answered
Chosen Option : 1

Q.4 निम्नलिखित में से किस गुप्त शासक ने नालंदा विश्वविद्यालय की शुरुआत की थी?

- Ans
- ✓ 1. कुमारगुप्त
 - ✗ 2. विष्णुगुप्त
 - ✗ 3. चंद्रगुप्त द्वितीय
 - ✗ 4. स्कंदगुप्त

Question Type : MCQ
Question ID : 264330137982
Option 1 ID : 264330540537
Option 2 ID : 264330540535
Option 3 ID : 264330540538
Option 4 ID : 264330540536
Status : Answered
Chosen Option : 1

Q.5 जनन की वह प्रक्रिया जिसमें केवल एक ही जीव भाग लेता है, _____ कहलाता है।

- Ans
- ✓ 1. अलैंगिक जनन
 - ✗ 2. इन विट्रो निषेचन
 - ✗ 3. बाह्य निषेचन
 - ✗ 4. लैंगिक जनन

Question Type : MCQ
Question ID : 264330138910
Option 1 ID : 264330544248
Option 2 ID : 264330544249
Option 3 ID : 264330544250
Option 4 ID : 264330544247
Status : Answered
Chosen Option : 1

Q.6 भारतीय संविधान का निम्नलिखित में से कौन -सा अनुच्छेद "कार्यपालिका से न्यायपालिका के पृथक्करण" से संबंधित है?

- Ans
- 1. अनुच्छेद 44
 - 2. अनुच्छेद 46
 - 3. अनुच्छेद 40
 - 4. अनुच्छेद 50

Question Type : MCQ
Question ID : 264330138883
Option 1 ID : 264330544140
Option 2 ID : 264330544141
Option 3 ID : 264330544139
Option 4 ID : 264330544142
Status : Answered
Chosen Option : 4

Q.7 वह न्यूनतम ताप जिस पर कोई पदार्थ जलने लगता है, उस पदार्थ का _____ कहलाता है।

- Ans
- 1. गलनांक
 - 2. ज्वलन-ताप
 - 3. दहन ताप
 - 4. विस्फोटन बिंदु

Question Type : MCQ
Question ID : 264330138912
Option 1 ID : 264330544255
Option 2 ID : 264330544256
Option 3 ID : 264330544257
Option 4 ID : 264330544258
Status : Answered
Chosen Option : 2

Q.8 सितंबर 2020 में किस विधेयक के कारण लोगों ने दिल्ली, हरियाणा और पंजाब में व्यापक विरोध प्रदर्शन किया?

- Ans
- 1. ट्रांसजेंडर विधेयक
 - 2. केंद्रीय विश्वविद्यालय विधेयक
 - 3. ऊर्जा संरक्षण विधेयक
 - 4. कृषि विधेयक

Question Type : MCQ
Question ID : 264330135435
Option 1 ID : 264330530650
Option 2 ID : 264330530647
Option 3 ID : 264330530648
Option 4 ID : 264330530649
Status : Answered
Chosen Option : 4

Q.9 जापान जैसे देशों में, _____ जन्म दर, जनसंख्या पिरामिड को आधार पर _____ बनाती है।

- Ans
- 1. निम्न, विस्तृत
 - 2. निम्न, सँकरा
 - 3. उच्च, सँकरा
 - 4. उच्च, विस्तृत

Question Type : MCQ

Question ID : 264330138916

Option 1 ID : 264330544274

Option 2 ID : 264330544273

Option 3 ID : 264330544271

Option 4 ID : 264330544272

Status : Answered

Chosen Option : 2

Q.10 निम्नलिखित में से किस फसल को "सुनहरा रेशा(Golden fibre)" के रूप में भी जाना जाता है?

- Ans
- 1. गन्ना
 - 2. पटसन
 - 3. चावल
 - 4. गेहूँ

Question Type : MCQ

Question ID : 264330138313

Option 1 ID : 264330541862

Option 2 ID : 264330541860

Option 3 ID : 264330541859

Option 4 ID : 264330541861

Status : Answered

Chosen Option : 2

Q.11 अहमदिया, इस्लाम का एक संप्रदाय है जिसकी शुरुआत भारत में हुई थी। इसकी स्थापना 1889 में _____ द्वारा की गई थी।

- Ans
- 1. मीर निसार अली (Mir Nisar Ali)
 - 2. शाह वलीउल्लाह (Shah Waliullah)
 - 3. मिर्जा गुलाम अहमद (Mirza Ghulam Ahmad)
 - 4. हाजी शरीयतुल्लाह (Haji Shariatullah)

Question Type : MCQ

Question ID : 264330137985

Option 1 ID : 264330540549

Option 2 ID : 264330540550

Option 3 ID : 264330540547

Option 4 ID : 264330540548

Status : Answered

Chosen Option : 3

Q.12 झिझिया किस राज्य का प्रसिद्ध लोकनृत्य है?

- Ans
- 1. राजस्थान
 - 2. उत्तरप्रदेश
 - 3. बिहार
 - 4. हरियाणा

Question Type : MCQ
Question ID : 264330138871
Option 1 ID : 264330544091
Option 2 ID : 264330544093
Option 3 ID : 264330544094
Option 4 ID : 264330544092
Status : Not Answered
Chosen Option : --

Q.13 मुग़ल अपने पिता की ओर से _____ के वंशज थे।

- Ans
- 1. मुहम्मद गोरी
 - 2. चंगेज़ खां
 - 3. महमूद गजनवी
 - 4. तैमूर

Question Type : MCQ
Question ID : 264330138918
Option 1 ID : 264330544282
Option 2 ID : 264330544279
Option 3 ID : 264330544280
Option 4 ID : 264330544281
Status : Answered
Chosen Option : 2

Q.14 लंदन ओलम्पिक 2012 में भारत ने कितने रजत पदक जीते?

- Ans
- 1. दो
 - 2. तीन
 - 3. एक
 - 4. चार

Question Type : MCQ
Question ID : 264330138874
Option 1 ID : 264330544104
Option 2 ID : 264330544105
Option 3 ID : 264330544103
Option 4 ID : 264330544106
Status : Answered
Chosen Option : 3

Q.15 कलामंडलम कल्याणिकुट्टी अम्मा (Kalamandalam Kalyanikutty Amma) को वर्ष 1997-1998 में कलिदास सम्मान से सम्मानित किया गया था। वह किस भारतीय शास्त्रीय नृत्य शैली के लिए प्रसिद्ध थीं?

- Ans
- 1. कुचिपुडी
 - 2. मोहिनीअट्टम
 - 3. ओडिसी
 - 4. कथक

Question Type : MCQ
Question ID : 264330138303
Option 1 ID : 264330541821
Option 2 ID : 264330541822
Option 3 ID : 264330541820
Option 4 ID : 264330541819
Status : Answered
Chosen Option : 1

Q.16 GDP calculated at some constant set of prices is called _____.

- Ans
- 1. current GDP
 - 2. nominal GDP
 - 3. domestic GDP
 - 4. real GDP

Question Type : MCQ
Question ID : 264330138306
Option 1 ID : 264330541833
Option 2 ID : 264330541832
Option 3 ID : 264330541831
Option 4 ID : 264330541834
Status : Answered
Chosen Option : 1

Q.17 दिल्ली में जामा मस्जिद _____ द्वारा बनवाई गई थी।

- Ans
- 1. सिकंदर लोदी
 - 2. शाहजहाँ
 - 3. अकबर
 - 4. अलाउद्दीन खिलजी

Question Type : MCQ
Question ID : 264330135438
Option 1 ID : 264330530659
Option 2 ID : 264330530662
Option 3 ID : 264330530660
Option 4 ID : 264330530661
Status : Answered
Chosen Option : 2

Q.18 Which of the following is the ultimate source of energy for all living organisms?

- Ans
- 1. Sun
 - 2. Air
 - 3. Soil
 - 4. Water

Question Type : MCQ
Question ID : 264330138884
Option 1 ID : 264330544144
Option 2 ID : 264330544146
Option 3 ID : 264330544143
Option 4 ID : 264330544145
Status : Answered
Chosen Option : 4

Q.19 लता मंगेशकर ने एक _____ फिल्म के लिए अपना पहला पार्श्व गीत रिकॉर्ड किया।

- Ans
- 1. मराठी
 - 2. बंगाली
 - 3. तमिल
 - 4. पंजाबी

Question Type : MCQ
Question ID : 264330138877
Option 1 ID : 264330544118
Option 2 ID : 264330544115
Option 3 ID : 264330544116
Option 4 ID : 264330544117
Status : Answered
Chosen Option : 1

Q.20 सैय्यद (Sayyid) वंश का प्रथम शासक कौन था ?

- Ans
- 1. मुबारक खान
 - 2. अलाउद्दीन आलम शाह
 - 3. खिज़्र खाँ
 - 4. मुहम्मद शाह

Question Type : MCQ
Question ID : 264330134706
Option 1 ID : 264330527781
Option 2 ID : 264330527779
Option 3 ID : 264330527780
Option 4 ID : 264330527782
Status : Answered
Chosen Option : 3

Q.21 नवंबर 2022 में, भारतीय तटरक्षक के उन्नत और हल्के हेलीकॉप्टर (Indian Coast Guard Advanced Light Helicopter) Mk-III स्क्वाड्रन, 840 Sqn (CG) को _____ में नियुक्त किया गया।

- Ans
- ✓ 1. चेन्नई
 - ✗ 2. कानपुर
 - ✗ 3. पुरी
 - ✗ 4. मैसूर

Question Type : MCQ
Question ID : 264330138880
Option 1 ID : 264330544128
Option 2 ID : 264330544127
Option 3 ID : 264330544130
Option 4 ID : 264330544129
Status : Answered
Chosen Option : 1

Q.22 कंटीले वन तथा झाड़ियाँ भारत के किन भागों में पाए जाते हैं?

- Ans
- ✗ 1. उत्तरी-पूर्वी
 - ✗ 2. दक्षिणी
 - ✗ 3. पूर्वी
 - ✓ 4. उत्तरी-पश्चिमी

Question Type : MCQ
Question ID : 264330138889
Option 1 ID : 264330544166
Option 2 ID : 264330544165
Option 3 ID : 264330544164
Option 4 ID : 264330544163
Status : Answered
Chosen Option : 4

Q.23 ब्रिटिश भारत के अंतिम गवर्नर जनरल कौन थे?

- Ans
- ✗ 1. लॉर्ड हेस्टिंग्स
 - ✗ 2. लॉर्ड ऑकलैंड
 - ✓ 3. लॉर्ड माउंटबेटन
 - ✗ 4. लॉर्ड वैलेस्ली

Question Type : MCQ
Question ID : 264330135449
Option 1 ID : 264330530704
Option 2 ID : 264330530706
Option 3 ID : 264330530705
Option 4 ID : 264330530703
Status : Answered
Chosen Option : 1

Q.24 मणिपुर का याओशंग (Yaoshang) उत्सव _____ दिनों तक मनाया जाता है।

- Ans
- 1. सात
 - 2. दो
 - 3. पाँच
 - 4. नौ

Question Type : MCQ
Question ID : 264330137972
Option 1 ID : 264330540496
Option 2 ID : 264330540498
Option 3 ID : 264330540495
Option 4 ID : 264330540497
Status : Not Answered
Chosen Option : --

Q.25 'द इनहेरिटेन्स ऑफ लॉस (The Inheritance of Loss)' पुस्तक _____ द्वारा लिखी गई है।

- Ans
- 1. वी.एस. नायपॉल
 - 2. सलमान रुश्दी
 - 3. किरण देसाई
 - 4. रस्किन बॉन्ड

Question Type : MCQ
Question ID : 264330138301
Option 1 ID : 264330541814
Option 2 ID : 264330541811
Option 3 ID : 264330541812
Option 4 ID : 264330541813
Status : Answered
Chosen Option : 2

Section : English Language and Comprehension

Q.1 Select the wrongly spelt word.

- Ans
- 1. peripheral
 - 2. pariah
 - 3. pernicious
 - 4. prefunctory

Question Type : MCQ
Question ID : 264330136532
Option 1 ID : 264330534869
Option 2 ID : 264330534867
Option 3 ID : 264330534870
Option 4 ID : 264330534868
Status : Answered
Chosen Option : 4

Q.2 Improve the underlined part of the sentence. Choose 'No improvement' as an answer if the sentence is grammatically correct.

The teacher had reading the instructions aloud to the students.

- Ans**
- 1. No improvement
 - 2. had read the
 - 3. had been read the
 - 4. reading the

Question Type : **MCQ**
Question ID : **264330136851**
Option 1 ID : **264330536098**
Option 2 ID : **264330536096**
Option 3 ID : **264330536097**
Option 4 ID : **264330536095**
Status : **Answered**
Chosen Option : **2**

Q.3 Improve the underlined part of the sentence. Choose 'No improvement' as an answer if the sentence is grammatically correct.

In the logo, the blue contrast wells with its complementary colour, yellow.

- Ans**
- 1. contrast we'll
 - 2. contrast well
 - 3. No improvement
 - 4. contrasts well

Question Type : **MCQ**
Question ID : **264330135311**
Option 1 ID : **264330530157**
Option 2 ID : **264330530156**
Option 3 ID : **264330530158**
Option 4 ID : **264330530155**
Status : **Answered**
Chosen Option : **4**

Q.4 Find the part of the given sentence that has an error in it. If there is no error, choose 'No error'.
The radio data shows neither evidence for ongoing jet activity.

- Ans**
- 1. ongoing jet activity.
 - 2. The radio data shows
 - 3. No error
 - 4. neither evidence for

Question Type : **MCQ**
Question ID : **264330136848**
Option 1 ID : **264330536085**
Option 2 ID : **264330536083**
Option 3 ID : **264330536086**
Option 4 ID : **264330536084**
Status : **Answered**
Chosen Option : **4**

Q.5 Fill in the blank with the most appropriate option.

The pudding fell _____ floor with a heart-stopping crash.

- Ans
- 1. to the
 - 2. upon the
 - 3. up to the
 - 4. in to the

Question Type : MCQ
Question ID : 264330136620
Option 1 ID : 264330535210
Option 2 ID : 264330535207
Option 3 ID : 264330535209
Option 4 ID : 264330535208
Status : Answered
Chosen Option : 2

Q.6 In the following question, out of the given four alternatives, select the alternative which best expresses the meaning of the Idiom/Phrase.

Draw a blank

- Ans
- 1. Give lame excuses
 - 2. Ragging of a fresher
 - 3. A very complex question
 - 4. To fail to get an answer or result

Question Type : MCQ
Question ID : 264330136867
Option 1 ID : 264330536156
Option 2 ID : 264330536155
Option 3 ID : 264330536158
Option 4 ID : 264330536157
Status : Answered
Chosen Option : 4

Q.7 Improve the underlined part of the sentence. Choose 'No improvement' as an answer if the sentence is grammatically correct.

The comedian's jokes are so bad that audiences usually groaning instead of laugh.

- Ans
- 1. usually groan instead of
 - 2. usual groan instead off
 - 3. No improvement
 - 4. usual groaned despite of

Question Type : MCQ
Question ID : 264330136852
Option 1 ID : 264330536099
Option 2 ID : 264330536100
Option 3 ID : 264330536102
Option 4 ID : 264330536101
Status : Answered
Chosen Option : 1

Q.8 Choose the word that can substitute the given group of words.
Disease that spreads over a whole country or the whole world

- Ans
- 1. Panacea
 - 2. Epidermis
 - 3. Rustic
 - 4. Pandemic

Question Type : MCQ
Question ID : 264330136861
Option 1 ID : 264330536134
Option 2 ID : 264330536132
Option 3 ID : 264330536131
Option 4 ID : 264330536133
Status : Answered
Chosen Option : 4

Q.9 Find the part of the given sentence that has an error in it. If there is no error, choose 'No error'.
If I was a clown, I would have made everyone smile.

- Ans
- 1. If I was a clown,
 - 2. everyone smile.
 - 3. No error
 - 4. I would have made

Question Type : MCQ
Question ID : 264330136823
Option 1 ID : 264330535987
Option 2 ID : 264330535989
Option 3 ID : 264330535990
Option 4 ID : 264330535988
Status : Answered
Chosen Option : 1

Q.10 Select the appropriate antonym for the underlined word.
The new government's domestic policies could easily undermine the main foreign policy.

- Ans
- 1. Enhance
 - 2. Cripple
 - 3. Weaken
 - 4. Spoil

Question Type : MCQ
Question ID : 264330136840
Option 1 ID : 264330536054
Option 2 ID : 264330536052
Option 3 ID : 264330536051
Option 4 ID : 264330536053
Status : Answered
Chosen Option : 1

Q.11 Choose the word that is opposite in meaning to the given word.

Impossible

- Ans
- 1. Unlikely
 - 2. Unsure
 - 3. Shaky
 - 4. Applicable

Question Type : MCQ
Question ID : 264330135196
Option 1 ID : 264330529712
Option 2 ID : 264330529711
Option 3 ID : 264330529713
Option 4 ID : 264330529714
Status : Answered
Chosen Option : 4

Q.12 Select the most appropriate option to fill in the blank.

According to the politician, using vulgar language to _____ votes is not something he will endorse.

- Ans
- 1. garner
 - 2. divulge
 - 3. segregate
 - 4. lump

Question Type : MCQ
Question ID : 264330136846
Option 1 ID : 264330536076
Option 2 ID : 264330536075
Option 3 ID : 264330536078
Option 4 ID : 264330536077
Status : Answered
Chosen Option : 1

Q.13 Select the appropriate synonym for the underlined word.

Go back to your image description.

- Ans
- 1. Definition
 - 2. Plan
 - 3. Function
 - 4. Deception

Question Type : MCQ
Question ID : 264330136837
Option 1 ID : 264330536040
Option 2 ID : 264330536039
Option 3 ID : 264330536042
Option 4 ID : 264330536041
Status : Answered
Chosen Option : 1

Q.14 Choose the incorrectly spelt word.

- Ans** ✓ 1. Glovve
✗ 2. Hide
✗ 3. Fold
✗ 4. Wider

Question Type : **MCQ**
Question ID : **264330136843**
Option 1 ID : **264330536063**
Option 2 ID : **264330536064**
Option 3 ID : **264330536066**
Option 4 ID : **264330536065**
Status : **Answered**
Chosen Option : **1**

Q.15 In the following question, out of the given four alternatives, select the alternative which best expresses the meaning of the Idiom/Phrase.
The black sheep

- Ans** ✓ 1. The least reputable member of a group
✗ 2. A friend who betrays
✗ 3. A stupid or foolish person
✗ 4. A day of importance

Question Type : **MCQ**
Question ID : **264330136842**
Option 1 ID : **264330536060**
Option 2 ID : **264330536062**
Option 3 ID : **264330536059**
Option 4 ID : **264330536061**
Status : **Answered**
Chosen Option : **1**

Q.16 Select the most appropriate option to fill in the blank.

I was really hoping to _____ a decent movie this time, and I came up with an undisputed classic.

- Ans** ✗ 1. tirade
✗ 2. strut
✓ 3. unearth
✗ 4. subside

Question Type : **MCQ**
Question ID : **264330136533**
Option 1 ID : **264330534874**
Option 2 ID : **264330534871**
Option 3 ID : **264330534872**
Option 4 ID : **264330534873**
Status : **Answered**
Chosen Option : **2**

Q.17 Select the word from the options which is similar in meaning to the bracketed word given in the sentence below.

I had a (toddler) at home and two other children at school.

- Ans
- 1. newborn
 - 2. adult
 - 3. senior
 - 4. ancient

Question Type : **MCQ**
Question ID : **264330136604**
Option 1 ID : **264330535143**
Option 2 ID : **264330535144**
Option 3 ID : **264330535145**
Option 4 ID : **264330535146**
Status : **Answered**
Chosen Option : 1

Q.18 Find the part of the given sentence that has an error in it. If there is no error, choose 'No error'.

Peoples might confess just to get out of the interrogation room.

- Ans
- 1. just to get out of
 - 2. Peoples might confess
 - 3. No error
 - 4. the interrogation room.

Question Type : **MCQ**
Question ID : **264330134477**
Option 1 ID : **264330526876**
Option 2 ID : **264330526875**
Option 3 ID : **264330526878**
Option 4 ID : **264330526877**
Status : **Answered**
Chosen Option : 2

Q.19 A sentence has been given with a blank to be filled with an appropriate option. Choose the correct alternative.

Apple's success attracted the _____ of the computer giant IBM.

- Ans
- 1. attend
 - 2. attending
 - 3. attentive
 - 4. attention

Question Type : **MCQ**
Question ID : **264330136827**
Option 1 ID : **264330536004**
Option 2 ID : **264330536005**
Option 3 ID : **264330536006**
Option 4 ID : **264330536003**
Status : **Answered**
Chosen Option : 4

Q.20 Choose the word that can substitute the given group of words.

A place of refugee

- Ans**
- 1. Hospice
 - 2. Shelter
 - 3. Asylum
 - 4. Home

Question Type : **MCQ**

Question ID : **264330136836**

Option 1 ID : **264330536038**

Option 2 ID : **264330536035**

Option 3 ID : **264330536037**

Option 4 ID : **264330536036**

Status : **Answered**

Chosen Option : **2**

Comprehension:

In the following passage some of the words have been deleted. Read the passage carefully and select the correct answer for the given blank out of the four alternatives.

These people remind me of a harmony that exists with the natural world. They know their environment in a (1) _____ that can only be acquired (2) _____ living on equal footing with the natural world, not in (3) _____ through a recognition that humans are dependent (4) _____ our surroundings, something those of us who live in towns and cities too (5) _____ forget.

SubQuestion No : 21

Q.21 Select the most appropriate option to fill in blank number 1.

- Ans**
- 1. way
 - 2. line
 - 3. time
 - 4. style

Question Type : **MCQ**

Question ID : **264330135187**

Option 1 ID : **264330529675**

Option 2 ID : **264330529677**

Option 3 ID : **264330529676**

Option 4 ID : **264330529678**

Status : **Answered**

Chosen Option : **1**

Comprehension:

In the following passage some of the words have been deleted. Read the passage carefully and select the correct answer for the given blank out of the four alternatives.

These people remind me of a harmony that exists with the natural world. They know their environment in a (1) _____ that can only be acquired (2) _____ living on equal footing with the natural world, not in (3) _____ through a recognition that humans are dependent (4) _____ our surroundings, something those of us who live in towns and cities too (5) _____ forget.

SubQuestion No : 22

Q.22 Select the most appropriate option to fill in blank number 2.

- Ans**
- 1. to
 - 2. through
 - 3. for
 - 4. with

Question Type : **MCQ**

Question ID : **264330135188**

Option 1 ID : **264330529681**

Option 2 ID : **264330529682**

Option 3 ID : **264330529680**

Option 4 ID : **264330529679**

Status : **Answered**

Chosen Option : **2**

Comprehension:

In the following passage some of the words have been deleted. Read the passage carefully and select the correct answer for the given blank out of the four alternatives.

These people remind me of a harmony that exists with the natural world. They know their environment in a (1) _____ that can only be acquired (2) _____ living on equal footing with the natural world, not in (3) _____ through a recognition that humans are dependent (4) _____ our surroundings, something those of us who live in towns and cities too (5) _____ forget.

SubQuestion No : 23

Q.23 Select the most appropriate option to fill in blank number 3.

- Ans**
- 1. domination
 - 2. corporation
 - 3. opposition
 - 4. collection

Question Type : **MCQ**

Question ID : **264330135189**

Option 1 ID : **264330529684**

Option 2 ID : **264330529686**

Option 3 ID : **264330529685**

Option 4 ID : **264330529683**

Status : **Answered**

Chosen Option : **3**

Comprehension:

In the following passage some of the words have been deleted. Read the passage carefully and select the correct answer for the given blank out of the four alternatives.

These people remind me of a harmony that exists with the natural world. They know their environment in a (1) _____ that can only be acquired (2) _____ living on equal footing with the natural world, not in (3) _____ through a recognition that humans are dependent (4) _____ our surroundings, something those of us who live in towns and cities too (5) _____ forget.

SubQuestion No : 24

Q.24 Select the most appropriate option to fill in blank number 4.

- Ans
- 1. to
 - 2. of
 - 3. on
 - 4. in

Question Type : MCQ

Question ID : 264330135190

Option 1 ID : 264330529690

Option 2 ID : 264330529687

Option 3 ID : 264330529688

Option 4 ID : 264330529689

Status : Answered

Chosen Option : 3

Comprehension:

In the following passage some of the words have been deleted. Read the passage carefully and select the correct answer for the given blank out of the four alternatives.

These people remind me of a harmony that exists with the natural world. They know their environment in a (1) _____ that can only be acquired (2) _____ living on equal footing with the natural world, not in (3) _____ through a recognition that humans are dependent (4) _____ our surroundings, something those of us who live in towns and cities too (5) _____ forget.

SubQuestion No : 25

Q.25 Select the most appropriate option to fill in blank number 5.

- Ans
- 1. marginally
 - 2. highly
 - 3. easily
 - 4. equally

Question Type : MCQ

Question ID : 264330135191

Option 1 ID : 264330529693

Option 2 ID : 264330529692

Option 3 ID : 264330529694

Option 4 ID : 264330529691

Status : Answered

Chosen Option : 3