

## Multi Tasking Non Technical Staff and Havaldar CBIC and CBN Examination 2022

Roll Number	
Candidate Name	
Venue Name	Bihar Digital World
Exam Date	11/05/2023
Exam Time	12:00 PM - 2:00 PM
Subject	MTS Non Tech Havaldar CBIC and CBN Examination 2022

Section : Numerical and Mathematical Ability

Q.1 65 cm त्रिज्या वाले गोले का आयतन क्या होगा? (लगभग)

- Ans
- ✓ 1.  $1.15 \times 10^6 \text{ cm}^3$
  - ✗ 2.  $6 \times 10^6 \text{ cm}^3$
  - ✗ 3.  $4.5 \times 10^6 \text{ cm}^3$
  - ✗ 4.  $2 \times 10^6 \text{ cm}^3$

Question Type : MCQ

Question ID : 264330135106

Option 1 ID : 264330529359

Option 2 ID : 264330529362

Option 3 ID : 264330529360

Option 4 ID : 264330529361

Status : Answered

Chosen Option : 1

Q.2 निम्न तालिका में एक कंपनी के 5 साझेदारों (partners) की वर्तमान साझेदारी (present share) को दर्शाया गया है।  
यदि कंपनी ने अपने पाँच साझेदारों के बीच अपने 100000 शेयर वितरित किए हैं और राजू अपने 15200 शेयर रमेश को बेच देता है, तो रमेश के पास कितने शेयर होंगे?

Partners	Present Share (in %)
Bala	5
Shankar	15
Raju	45
Ramesh	25
Pradeep	10

Partners- साझेदार, Present share (in %)- वर्तमान साझेदारी (% में), Raju- राजू, Ramesh- रमेश  
Bala- बाला, Shankar- शंकर, Pradeep- प्रदीप

- Ans
- 1. 45000
  - 2. 25000
  - 3. 40200
  - 4. 29800

Question Type : MCQ  
Question ID : 264330133811  
Option 1 ID : 264330524269  
Option 2 ID : 264330524267  
Option 3 ID : 264330524270  
Option 4 ID : 264330524268  
Status : Answered  
Chosen Option : 3

Q.3 A और B ने क्रमशः Rs.15000 और Rs.30000 के साथ एक व्यवसाय शुरू किया। यदि A और B क्रमशः 1 : 5 के अनुपात में लाभ साझा करते हैं, तो A और B के लिए निवेश की समयावधि का क्रमशः अनुपात क्या है?

- Ans
- 1. 2 : 7
  - 2. 1 : 2
  - 3. 2 : 5
  - 4. 2 : 3

Question Type : MCQ  
Question ID : 264330135052  
Option 1 ID : 264330529146  
Option 2 ID : 264330529145  
Option 3 ID : 264330529144  
Option 4 ID : 264330529143  
Status : Answered  
Chosen Option : 3

Q.4 एक व्यक्ति ने साधारण ब्याज पर 6 प्रतिशत वार्षिक दर पर एक निश्चित धनराशि ऋण पर दी और 13 वर्षों में प्राप्त हुआ ब्याज, ऋण पर दी गई धनराशि से Rs. 220 कम है। ऋण पर दी गई धनराशि कितनी है?

- Ans  1. Rs. 1000  
 2. Rs. 800  
 3. Rs. 600  
 4. Rs. 1200

Question Type : MCQ

Question ID : 264330137141

Option 1 ID : 264330537208

Option 2 ID : 264330537210

Option 3 ID : 264330537207

Option 4 ID : 264330537209

Status : Answered

Chosen Option : 1

Q.5 एक कूलर का क्रय मूल्य Rs. 4800 है। यदि लाभ प्रतिशत 26 प्रतिशत है, तो कूलर का विक्रय मूल्य क्या है?

- Ans  1. Rs.6048  
 2. Rs.6248  
 3. Rs.5628  
 4. Rs.6640

Question Type : MCQ

Question ID : 264330137181

Option 1 ID : 264330537368

Option 2 ID : 264330537369

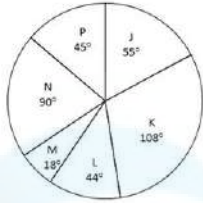
Option 3 ID : 264330537367

Option 4 ID : 264330537370

Status : Answered

Chosen Option : 1

**Q.6** नीचे दिए गए वृत्त आलेख में एक वर्ष में छः कंपनियों द्वारा बनाए गए ट्रकों की संख्या को दर्शाया गया है। इन सभी छः कंपनियों द्वारा बनाए गए कुल ट्रक 1440 हैं। इनमें से किसी एक विशिष्ट कंपनी द्वारा बनाए गए ट्रकों की संख्या को इन सभी छः कंपनियों द्वारा बनाए गए कुल ट्रकों की संख्या के संदर्भ में डिग्री के रूप में दर्शाया गया है।



K और P द्वारा बनाए गए ट्रकों की औसत संख्या और J और M द्वारा बनाए गए ट्रकों की औसत संख्या के बीच कितना अंतर है?

- Ans**
- ✓ 1. 160
  - ✗ 2. 176
  - ✗ 3. 162
  - ✗ 4. 190

Question Type : MCQ

Question ID : 264330135063

Option 1 ID : 264330529188

Option 2 ID : 264330529190

Option 3 ID : 264330529187

Option 4 ID : 264330529189

Status : Answered

Chosen Option : 1

**Q.7** एक आदमी अकेले किसी कार्य को 16 दिनों में कर सकता है, लेकिन अपने मित्र की मदद से वह इसे 8 दिनों में कर सकता है। उसका मित्र अकेले इस कार्य को कितने समय में कर सकता है?

- Ans**
- ✗ 1. 14 दिन
  - ✗ 2. 10 दिन
  - ✓ 3. 16 दिन
  - ✗ 4. 12 दिन

Question Type : MCQ

Question ID : 264330138361

Option 1 ID : 264330542053

Option 2 ID : 264330542051

Option 3 ID : 264330542054

Option 4 ID : 264330542052

Status : Answered

Chosen Option : 3

Q.8  $\frac{196}{7} \div \frac{35}{12}$  of  $\frac{132}{55} \times \frac{45}{20}$  का मान क्या है?

- Ans
- 1. 45
  - 2. 4
  - 3. 36
  - 4. 9

Question Type : MCQ  
Question ID : 264330137681  
Option 1 ID : 264330539334  
Option 2 ID : 264330539331  
Option 3 ID : 264330539333  
Option 4 ID : 264330539332  
Status : Answered  
Chosen Option : 4

Q.9 यदि A, B से 6 गुना अधिक है, तो B, A से कितने प्रतिशत कम है?

- Ans
- 1. 85.71 प्रतिशत
  - 2. 28.56 प्रतिशत
  - 3. 33.33 प्रतिशत
  - 4. 14.28 प्रतिशत

Question Type : MCQ  
Question ID : 264330137136  
Option 1 ID : 264330537188  
Option 2 ID : 264330537189  
Option 3 ID : 264330537187  
Option 4 ID : 264330537190  
Status : Answered  
Chosen Option : 1

Q.10  $0.005 \times [(0.08 \div 0.002) - (0.012 \div 0.04)] \div 0.01$  का मान है:

- Ans
- 1. 0.985
  - 2. 19.85
  - 3. 0.01985
  - 4. 0.1985

Question Type : MCQ  
Question ID : 264330133797  
Option 1 ID : 264330524214  
Option 2 ID : 264330524211  
Option 3 ID : 264330524212  
Option 4 ID : 264330524213  
Status : Answered  
Chosen Option : 2

Q.11 एक कार A से B तक 44 Km/hr की चाल से यात्रा करती है और B से A तक 66 Km/hr की चाल से वापस आती है। पूरी यात्रा के दौरान उसकी औसत चाल ज्ञात कीजिए।

- Ans
- 1. 68.2 Km/hr
  - 2. 63.3 Km/hr
  - 3. 52.8 Km/hr
  - 4. 55.4 Km/hr

Question Type : MCQ

Question ID : 264330135395

Option 1 ID : 264330530490

Option 2 ID : 264330530487

Option 3 ID : 264330530489

Option 4 ID : 264330530488

Status : Answered

Chosen Option : 3

Q.12 एक कुर्सी का अंकित मूल्य उसके क्रय मूल्य से 10 प्रतिशत अधिक है। यदि कुर्सी को Rs.140 के बड़े के पश्चात Rs.300 में बेचा जाता है, तो हानि प्रतिशत क्या होगा?

- Ans
- 1. 12.5 प्रतिशत
  - 2. 17 प्रतिशत
  - 3. 25 प्रतिशत
  - 4. 20 प्रतिशत

Question Type : MCQ

Question ID : 264330135055

Option 1 ID : 264330529157

Option 2 ID : 264330529158

Option 3 ID : 264330529156

Option 4 ID : 264330529155

Status : Answered

Chosen Option : 3

Q.13 यदि  $(3x + y) : (3x - y) = 4 : 3$ , तो  $x : y$  का मान क्या है?

- Ans
- 1. 7 : 3
  - 2. 7 : 4
  - 3. 5 : 2
  - 4. 5 : 3

Question Type : MCQ

Question ID : 264330135051

Option 1 ID : 264330529139

Option 2 ID : 264330529141

Option 3 ID : 264330529142

Option 4 ID : 264330529140

Status : Answered

Chosen Option : 1

Q.14 एक मिश्रण में दूध और पानी का अनुपात 9:5 है। जब इस मिश्रण में 6 लीटर पानी मिला दिया जाता है, तो दूध और पानी का अनुपात 9:7 हो जाता है। मिश्रण में दूध की मात्रा ज्ञात कीजिए।

- Ans
- 1. 15 लीटर
  - 2. 30 लीटर
  - 3. 27 लीटर
  - 4. 18 लीटर

Question Type : MCQ  
Question ID : 264330135394  
Option 1 ID : 264330530484  
Option 2 ID : 264330530483  
Option 3 ID : 264330530486  
Option 4 ID : 264330530485  
Status : Answered  
Chosen Option : 3

Q.15 एक आदमी एक निश्चित दूरी का आधा भाग 60 km/hr की चाल से तय करता है। वह शेष दूरी का 40 प्रतिशत भाग 12 km/hr की चाल से और शेष दूरी 18 km/hr की चाल से तय करता है। पूरी यात्रा के दौरान उसकी औसत चाल क्या है?

- Ans
- 1. 58/3 km/hr
  - 2. 24 km/hr
  - 3. 40 km/hr
  - 4. 36 km/hr

Question Type : MCQ  
Question ID : 264330135044  
Option 1 ID : 264330529114  
Option 2 ID : 264330529111  
Option 3 ID : 264330529113  
Option 4 ID : 264330529112  
Status : Answered  
Chosen Option : 2

Q.16 एक खेल के मैदान के चारों ओर एक वृत्ताकार पथ है। राहुल को मैदान का एक चक्कर लगाने में 15 मिनट लगते हैं, जबकि अनिल को इसमें 18 मिनट लगते हैं। मान लीजिए कि वे दोनों एक ही बिंदु से और एक ही समय पर शुरू करते हैं और एक ही दिशा में जाते हैं, तो कितने मिनट बाद वे फिर से प्रारंभिक बिंदु पर मिलेंगे?

- Ans
- 1. 120 मिनट
  - 2. 90 मिनट
  - 3. 100 मिनट
  - 4. 80 मिनट

Question Type : MCQ  
Question ID : 264330135059  
Option 1 ID : 264330529172  
Option 2 ID : 264330529174  
Option 3 ID : 264330529173  
Option 4 ID : 264330529171  
Status : Answered  
Chosen Option : 2

Q.17 एक शंकु का आधार व्यास 12 cm और ऊँचाई 21.7 cm है। उस शंकु का आयतन कितना है?

- Ans
- 1. 548.6 cm<sup>3</sup>
  - 2. 626.3 cm<sup>3</sup>
  - 3. 818.4 cm<sup>3</sup>
  - 4. 334.5 cm<sup>3</sup>

Question Type : MCQ  
Question ID : 264330134100  
Option 1 ID : 264330525424  
Option 2 ID : 264330525423  
Option 3 ID : 264330525426  
Option 4 ID : 264330525425  
Status : Answered  
Chosen Option : 3

Q.18 एक आयत में, विकर्ण उसकी चौड़ाई का 4 गुना है। लंबाई और चौड़ाई का अनुपात है:

- Ans
- 1. 1 : 5
  - 2. 1 :  $\sqrt{5}$
  - 3.  $\sqrt{5}$  : 1
  - 4.  $\sqrt{15}$  : 1

Question Type : MCQ  
Question ID : 264330138365  
Option 1 ID : 264330542068  
Option 2 ID : 264330542067  
Option 3 ID : 264330542070  
Option 4 ID : 264330542069  
Status : Answered  
Chosen Option : 4

Q.19 एक धनराशि पर 12 प्रतिशत वार्षिक दर से 6 वर्षों के लिए साधारण ब्याज Rs. 28800 है। समान धनराशि पर 20 प्रतिशत वार्षिक दर से (वार्षिक रूप से संयोजित) 2 वर्षों के लिए चक्रवृद्धि ब्याज कितना होगा?

- Ans
- 1. Rs. 19200
  - 2. Rs. 17600
  - 3. Rs. 12000
  - 4. Rs. 14400

Question Type : MCQ  
Question ID : 264330137164  
Option 1 ID : 264330537300  
Option 2 ID : 264330537299  
Option 3 ID : 264330537302  
Option 4 ID : 264330537301  
Status : Answered  
Chosen Option : 2

Q.20 रिम्मी और सिम्मी मिलकर एक कार्य को 40 दिनों में पूरा कर सकती हैं। उन्होंने 30 दिनों तक साथ कार्य किया और फिर सिम्मी ने कार्य छोड़ दिया। 30 और दिनों के बाद रिम्मी ने शेष कार्य अकेले ही पूरा कर दिया। रिम्मी अकेले उस कार्य को कितने दिनों में पूरा कर सकती है?

- Ans
- 1. 40 दिन
  - 2. 30 दिन
  - 3. 120 दिन
  - 4. 80 दिन

Question Type : MCQ

Question ID : 264330134095

Option 1 ID : 264330525404

Option 2 ID : 264330525403

Option 3 ID : 264330525406

Option 4 ID : 264330525405

Status : Answered

Chosen Option : 3

Section : Reasoning Ability and Problem Solving

Q.1 दी गई श्रृंखला में निम्नलिखित में से कौन-सा अक्षर प्रश्न चिन्ह (?) के स्थान पर आएगा?  
H, J, L, N, P, R, T, ?

- Ans
- 1. T
  - 2. M
  - 3. V
  - 4. R

Question Type : MCQ

Question ID : 264330134932

Option 1 ID : 264330528664

Option 2 ID : 264330528665

Option 3 ID : 264330528663

Option 4 ID : 264330528666

Status : Answered

Chosen Option : 3

Q.2 उस विकल्प को चुनिए जो छठी संख्या से ठीक उसी प्रकार संबंधित है जिस प्रकार पहली संख्या दूसरी संख्या से संबंधित है और तीसरी संख्या चौथी संख्या से संबंधित है।

12 : 132 :: 8 : 56 :: ? : 20

- Ans
- 1. 5
  - 2. 7
  - 3. 6
  - 4. 4

Question Type : MCQ

Question ID : 264330137101

Option 1 ID : 264330537047

Option 2 ID : 264330537050

Option 3 ID : 264330537049

Option 4 ID : 264330537048

Status : Answered

Chosen Option : 1

Q.3 एक निश्चित कूट भाषा में, 'HANDLE' को 'FLENBH' लिखा जाता है। उस कूट भाषा में 'LOVELY' को कैसे लिखा जाएगा?

- Ans
- 1. ZLVFPL
  - 2. XLFVPL
  - 3. ZLFVLP
  - 4. ZLFVPL

Question Type : MCQ

Question ID : 264330135567

Option 1 ID : 264330531170

Option 2 ID : 264330531169

Option 3 ID : 264330531167

Option 4 ID : 264330531168

Status : Answered

Chosen Option : 4

Q.4 दी गई दो संख्याओं को आपस में बदलने पर, समीकरण (I) और (II) के क्रमशः मान क्या होंगे?

7 और 8

I.  $5 \times 7 + 6 \div 2 - 8$

II.  $8 + 3 \times 7 - 5 \div 1$

- Ans
- 1. 36 और 26
  - 2. 20 और 18
  - 3. 20 और 19
  - 4. 36 और 16

Question Type : MCQ

Question ID : 264330137126

Option 1 ID : 264330537148

Option 2 ID : 264330537150

Option 3 ID : 264330537147

Option 4 ID : 264330537149

Status : Answered

Chosen Option : 1

Q.5 दो कथन दिए गए हैं और दो निष्कर्ष I और II दिए गए हैं। कथनों को सत्य मानते हुए, चाहे वे सामान्यतः ज्ञात तथ्यों से अलग प्रतीत होते हों, निश्चय कीजिए कि कौन-सा निष्कर्ष तार्किक रूप से कथनों के अनुसार है।

कथन:

सभी चूहे, सड़के हैं।

सभी सड़के, बैग हैं।

निष्कर्ष:

I. सभी बैग, चूहे हैं।

II. कुछ बैग, चूहे हैं।

Ans

- ✗ 1. दोनों निष्कर्ष I और II कथनों के अनुसार हैं।
- ✗ 2. न तो निष्कर्ष I और न ही II कथनों के अनुसार है।
- ✗ 3. केवल निष्कर्ष I कथनों के अनुसार है।
- ✓ 4. केवल निष्कर्ष II कथनों के अनुसार है।

Question Type : MCQ

Question ID : 264330134943

Option 1 ID : 264330528709

Option 2 ID : 264330528710

Option 3 ID : 264330528707

Option 4 ID : 264330528708

Status : Answered

Chosen Option : 4

Q.6 A, B, C, D और E एक पंक्ति में उत्तर की ओर मुख करके खड़े हैं। A किसी एक छोर पर खड़ा है। B और C एक दूसरे के आसन्न खड़े हैं। D बाएँ छोर से दूसरे स्थान पर खड़ा है। E, C के बाएँ से तीसरे स्थान पर खड़ा है। A के आसन्न कौन खड़ा है?

Ans

- ✓ 1. C
- ✗ 2. E
- ✗ 3. D
- ✗ 4. B

Question Type : MCQ

Question ID : 264330134940

Option 1 ID : 264330528698

Option 2 ID : 264330528695

Option 3 ID : 264330528696

Option 4 ID : 264330528697

Status : Answered

Chosen Option : 1

Q.7 एक निश्चित कूट भाषा में, 'BEAR' को '2519' और 'TURN' को '2395' लिखा जाता है। उस भाषा में 'SING' को कैसे लिखा जाएगा?

Ans

- ✓ 1. 1957
- ✗ 2. 1579
- ✗ 3. 1597
- ✗ 4. 1498

Question Type : MCQ

Question ID : 264330137857

Option 1 ID : 264330540037

Option 2 ID : 264330540035

Option 3 ID : 264330540036

Option 4 ID : 264330540038

Status : Answered

Chosen Option : 3

Q.8 दी गई श्रृंखला में निम्नलिखित में से कौन-सी संख्या प्रश्न चिन्ह (?) के स्थान पर आएगी?  
15, 23, 19, 20, 23, 17, 27, 14, 31, 11, ?

- Ans  1. 35  
 2. 15  
 3. 19  
 4. 32

Question Type : MCQ  
Question ID : 264330134946  
Option 1 ID : 264330528722  
Option 2 ID : 264330528719  
Option 3 ID : 264330528721  
Option 4 ID : 264330528720  
Status : Answered  
Chosen Option : 1

Q.9 उस विकल्प को चुनिए जो तीसरे अक्षर समूह से ठीक उसी प्रकार संबंधित है जिस प्रकार दूसरा अक्षर समूह पहले अक्षर समूह से संबंधित है।  
DG : KN :: JM : ?

- Ans  1. QS  
 2. RM  
 3. QT  
 4. ST

Question Type : MCQ  
Question ID : 264330134934  
Option 1 ID : 264330528671  
Option 2 ID : 264330528672  
Option 3 ID : 264330528673  
Option 4 ID : 264330528674  
Status : Answered  
Chosen Option : 3

Q.10 उस विकल्प को चुनिए जो पाँचवें पद से ठीक उसी प्रकार संबंधित है जिस प्रकार दूसरा पद पहले पद से संबंधित है और चौथा पद तीसरे पद से संबंधित है।

RK46 : TJ51 :: PJ129 : RI134 :: SR53 : ?

- Ans  1. VR58  
 2. UQ58  
 3. VS58  
 4. VQ58

Question Type : MCQ  
Question ID : 264330138830  
Option 1 ID : 264330543930  
Option 2 ID : 264330543929  
Option 3 ID : 264330543928  
Option 4 ID : 264330543927  
Status : Answered  
Chosen Option : 2

Q.11 निम्नलिखित प्रश्न में, दी गई श्रृंखला में लुप्त संख्या को चुनिए।

208, 104, 52, 26, ?, 6.5

Ans  1. 18

2. 24

3. 13

4. 20

Question Type : MCQ

Question ID : 264330137099

Option 1 ID : 264330537039

Option 2 ID : 264330537042

Option 3 ID : 264330537040

Option 4 ID : 264330537041

Status : Answered

Chosen Option : 3

Q.12 पाँच मित्र M, N, O, P और Q एक वृत्ताकार मेज पर केंद्र से बाहर की ओर मुख करके बैठे हैं। O, P के ठीक बाएँ पर बैठा है जो Q के दाएँ से तीसरे स्थान पर बैठा है। M, P के आसन्न नहीं बैठा है। P के ठीक दाएँ पर कौन बैठा है?

Ans  1. M

2. O

3. N

4. Q

Question Type : MCQ

Question ID : 264330134941

Option 1 ID : 264330528700

Option 2 ID : 264330528702

Option 3 ID : 264330528699

Option 4 ID : 264330528701

Status : Answered

Chosen Option : 4

**Q.13** तीन कथन दिए गए हैं और दो निष्कर्ष I और II दिए गए हैं। कथनों को सत्य मानते हुए, चाहे वे सामान्यतः जात तथ्यों से अलग प्रतीत होते हों, निश्चय कीजिए कि कौन-सा निष्कर्ष तार्किक रूप से कथनों के अनुसार है।  
कथन:

कुछ फल, खरगोश हैं।

कोई खरगोश, लोमड़ी नहीं है।

सभी लोमड़ियाँ, गाय हैं।

निष्कर्ष:

I. कुछ गाय, फल हैं।

II. कुछ फल, लोमड़ियाँ हैं।

**Ans**

- 1. केवल निष्कर्ष I कथनों के अनुसार है।
- 2. दोनों निष्कर्ष I और II कथनों के अनुसार हैं।
- 3. केवल निष्कर्ष II कथनों के अनुसार है।
- 4. न तो निष्कर्ष I और न ही II कथनों के अनुसार है।

Question Type : **MCQ**

Question ID : **264330134944**

Option 1 ID : **264330528711**

Option 2 ID : **264330528713**

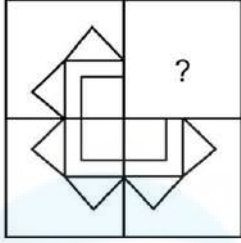
Option 3 ID : **264330528712**

Option 4 ID : **264330528714**

Status : **Answered**

Chosen Option : **4**

Q.14 उस विकल्प आकृति को चुनिए जो नीचे दी गई आकृति में पैटर्न को पूरा करने के लिए प्रश्न चिन्ह (?) के स्थान पर आएगी। (घूर्णन की अनुमति नहीं है)

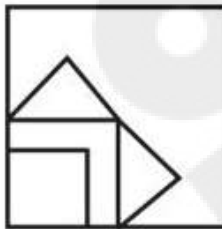


Ans

✗ 1.



✓ 2.



✗ 3.



✗ 4.



Question Type : MCQ

Question ID : 264330134953

Option 1 ID : 264330528748

Option 2 ID : 264330528750

Option 3 ID : 264330528749

Option 4 ID : 264330528747

Status : Answered

Chosen Option : 2

Q.15 दिए गए समीकरण को सही करने के लिए किन दो संख्याओं को आपस में बदला जाना चाहिए?

$$8 \times 4 - 3 + 57 \div 9 = 42$$

- Ans
- 1. 8 और 4
  - 2. 57 और 9
  - 3. 3 और 9
  - 4. 42 और 57

Question Type : MCQ

Question ID : 264330134949

Option 1 ID : 264330528731

Option 2 ID : 264330528733

Option 3 ID : 264330528732

Option 4 ID : 264330528734

Status : Answered

Chosen Option : 3

Q.16 एक निश्चित कूट भाषा में, 'SHORT' को '1' लिखा जाता है और 'THEME' को '2' लिखा जाता है। उस कूट भाषा में 'TRAIN' को कैसे लिखा जाएगा?

- Ans
- 1. 4
  - 2. 1
  - 3. 2
  - 4. 3

Question Type : MCQ

Question ID : 264330133489

Option 1 ID : 264330522990

Option 2 ID : 264330522989

Option 3 ID : 264330522987

Option 4 ID : 264330522988

Status : Answered

Chosen Option : 3

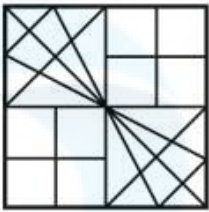
Q.17 उस विकल्प आकृति को चुनिए जिसमें दी गई आकृति (X) उसके भाग के रूप में निहित है (घूर्णन की अनुमति नहीं है)।




(X)

Ans

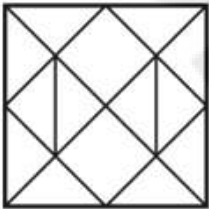
✗ 1.



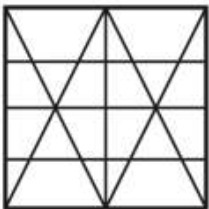
✓ 2.



✗ 3.



✗ 4.



Question Type : MCQ

Question ID : 264330133523

Option 1 ID : 264330523125

Option 2 ID : 264330523126

Option 3 ID : 264330523123

Option 4 ID : 264330523124

Status : Answered

Chosen Option : 2

Q.18 दी गई आकृति के उस सही दर्पण प्रतिबिंब को चुनिए, जो नीचे दर्शाए गए अनुसार दर्पण को MN पर रखने पर बनेगा।

TECHNICAL

M  
N

Ans

- ✓ 1. J A C I N H C E T  
✗ 2. J I C A N H C E T  
✗ 3. T E C H N I C A G  
✗ 4. T E C H N I C A G

Question Type : MCQ

Question ID : 264330133524

Option 1 ID : 264330523127

Option 2 ID : 264330523128

Option 3 ID : 264330523129

Option 4 ID : 264330523130

Status : Answered

Chosen Option : 1

Q.19 दिए गए पैटर्न का ध्यानपूर्वक अध्ययन कीजिए और उस संख्या को चुनिए जो इसमें प्रश्न चिन्ह (?) के स्थान पर आएगी।

पहली पंक्ति- 80, 40, 20

दूसरी पंक्ति- 112, 56, 28

तीसरी पंक्ति- 244, 122, ?

Ans

- ✓ 1. 61  
✗ 2. 64  
✗ 3. 78  
✗ 4. 51

Question Type : MCQ

Question ID : 264330134948

Option 1 ID : 264330528730

Option 2 ID : 264330528728

Option 3 ID : 264330528729

Option 4 ID : 264330528727

Status : Answered

Chosen Option : 1

Q.20 सात लोगों A, B, C, D, E, F और G का कद अलग-अलग है। A चार व्यक्तियों से लंबा है। E का कद केवल एक व्यक्ति से कम है। कितने लोगों के कद, A और E के कद के बीच में हैं?

Ans

- ✗ 1. 2  
✓ 2. 0  
✗ 3. 1  
✗ 4. 3

Question Type : MCQ

Question ID : 264330134942

Option 1 ID : 264330528704

Option 2 ID : 264330528706

Option 3 ID : 264330528703

Option 4 ID : 264330528705

Status : Answered

Chosen Option : 2

Section : General Awareness

Q.1 2011 की जनगणना के अनुसार, भारत के निम्नलिखित केंद्र शासित प्रदेशों में से किस में प्रति वर्ग किलोमीटर जनसंख्या घनत्व सबसे कम है?

- Ans
- 1. चंडीगढ़
  - 2. दिल्ली
  - 3. जम्मू और कश्मीर
  - 4. अंडमान और निकोबार द्वीप समूह

Question Type : MCQ  
Question ID : 264330133917  
Option 1 ID : 264330524692  
Option 2 ID : 264330524691  
Option 3 ID : 264330524694  
Option 4 ID : 264330524693  
Status : Answered  
Chosen Option : 4

Q.2 भारतीय उपमहाद्वीप का प्रथम उद्यान-मकबरा कौन-सा है?

- Ans
- 1. औरंगजेब का मकबरा
  - 2. ताजमहल
  - 3. हुमायूँ का मकबरा
  - 4. कुतुब शाही मकबरा

Question Type : MCQ  
Question ID : 264330134596  
Option 1 ID : 264330527342  
Option 2 ID : 264330527341  
Option 3 ID : 264330527339  
Option 4 ID : 264330527340  
Status : Answered  
Chosen Option : 4

Q.3 हिमालय की अधिकांश नदियाँ किस प्रकार की हैं?

- Ans
- 1. बारहमासी
  - 2. मौसमी
  - 3. विदेशज
  - 4. घटनापरक

Question Type : MCQ  
Question ID : 264330134612  
Option 1 ID : 264330527404  
Option 2 ID : 264330527403  
Option 3 ID : 264330527406  
Option 4 ID : 264330527405  
Status : Answered  
Chosen Option : 1

Q.4 प्रथम फील्ड हॉकी विश्व चैंपियनशिप जर्मनी में सन् \_\_\_\_\_ में खेले गई थी।

- Ans
- 1. 1948
  - 2. 1958
  - 3. 1928
  - 4. 1938

Question Type : MCQ  
Question ID : 264330137015  
Option 1 ID : 264330536705  
Option 2 ID : 264330536706  
Option 3 ID : 264330536703  
Option 4 ID : 264330536704  
Status : Not Answered  
Chosen Option : --

Q.5 बाजीराव प्रथम या बाजीराव बल्लाल \_\_\_\_\_ के पुत्र थे।

- Ans
- 1. रघुनाथ राव
  - 2. पेशवा बालाजी विश्वनाथ
  - 3. माधवराव
  - 4. शिवाजी

Question Type : MCQ  
Question ID : 264330137033  
Option 1 ID : 264330536778  
Option 2 ID : 264330536777  
Option 3 ID : 264330536776  
Option 4 ID : 264330536775  
Status : Answered  
Chosen Option : 2

Q.6 निम्नलिखित में से कौन-सा कार्यक्रम सन् 1999 में शुरू किया गया था?

- Ans
- 1. महात्मा गांधी राष्ट्रीय ग्रामीण रोजगार गारंटी योजना
  - 2. ग्रामीण रोजगार सृजन कार्यक्रम
  - 3. स्वर्णजयंती ग्राम स्वरोजगार योजना
  - 4. प्रधानमंत्री ग्रामोदय योजना

Question Type : MCQ  
Question ID : 264330134614  
Option 1 ID : 264330527411  
Option 2 ID : 264330527412  
Option 3 ID : 264330527413  
Option 4 ID : 264330527414  
Status : Answered  
Chosen Option : 3

Q.7 ताप मापने के लिए किस युक्ति (device) का प्रयोग किया जाता है?

- Ans
- 1. ऐमीटर
  - 2. बैरोमीटर
  - 3. मैनोमीटर
  - 4. थर्मामीटर

Question Type : MCQ  
Question ID : 264330137027  
Option 1 ID : 264330536753  
Option 2 ID : 264330536752  
Option 3 ID : 264330536754  
Option 4 ID : 264330536751  
Status : Answered  
Chosen Option : 4

Q.8 निम्नलिखित में से कौन-सी पुस्तक मिलखा सिंह की आत्मकथा है?

- Ans
- 1. रोमांसिंग माई लाइफ (Romancing My Life)
  - 2. टू लाइव्स (Two Lives)
  - 3. द रेस ऑफ माई लाइफ (The Race of My Life)
  - 4. टच प्ले (Touch Play)

Question Type : MCQ  
Question ID : 264330135451  
Option 1 ID : 264330530711  
Option 2 ID : 264330530714  
Option 3 ID : 264330530712  
Option 4 ID : 264330530713  
Status : Answered  
Chosen Option : 3

Q.9 उलट रेपो दर (Reverse Repo Rate) का अर्थ क्या है?

- Ans
- 1. वह दर जिस पर आरबीआई (RBI) विदेशी बैंकों से ऋण लेती है
  - 2. वह दर जिस पर व्यावसायिक बैंक आरबीआई (RBI) से ऋण लेते हैं
  - 3. वह दर जिस पर व्यावसायिक बैंक विदेशी बैंकों से ऋण लेते हैं
  - 4. वह दर जिस पर आरबीआई (RBI) व्यावसायिक बैंकों से ऋण लेती है

Question Type : MCQ  
Question ID : 264330135458  
Option 1 ID : 264330530742  
Option 2 ID : 264330530739  
Option 3 ID : 264330530741  
Option 4 ID : 264330530740  
Status : Answered  
Chosen Option : 4

Q.10 निम्नलिखित में से किस गुप्त राजा ने नालंदा विश्वविद्यालय की स्थापना की थी?

- Ans
- 1. स्कन्दगुप्त
  - 2. चंद्रगुप्त द्वितीय
  - 3. चंद्रगुप्त प्रथम
  - 4. कुमारगुप्त प्रथम

Question Type : MCQ

Question ID : 264330133994

Option 1 ID : 264330525000

Option 2 ID : 264330525001

Option 3 ID : 264330524999

Option 4 ID : 264330525002

Status : Answered

Chosen Option : 4

Q.11 ऐसी कोशिकाएँ जिनमें केन्द्रक पदार्थ केन्द्रक झिल्ली के बिना होता है \_\_\_\_\_ कहलाती हैं।

- Ans
- 1. गाल की कोशिकाएँ
  - 2. प्रोकैरियोटिक कोशिकाएँ
  - 3. प्याज की कोशिकाएँ
  - 4. यूकैरियोटिक कोशिकाएँ

Question Type : MCQ

Question ID : 264330137025

Option 1 ID : 264330536746

Option 2 ID : 264330536743

Option 3 ID : 264330536745

Option 4 ID : 264330536744

Status : Answered

Chosen Option : 2

Q.12 महासागर की पर्पटी मुख्यतः \_\_\_\_\_ एवं \_\_\_\_\_ की बनी है।

- Ans
- 1. आयरन, एलुमिना
  - 2. सिलिका, मैग्नीशियम
  - 3. मैग्नीशियम, एलुमिना
  - 4. सिलिका, एलुमिना

Question Type : MCQ

Question ID : 264330137026

Option 1 ID : 264330536750

Option 2 ID : 264330536749

Option 3 ID : 264330536748

Option 4 ID : 264330536747

Status : Answered

Chosen Option : 4

Q.13 टुसू (Tusu) झारखंड में सर्दियों में फसल कटाई के अवसर पर \_\_\_\_\_ माह के अंतिम दिन पर मनाया जाने वाला एक उत्सव है।

Ans  1. फाल्गुन

2. पौष

3. माघ

4. चैत्र

Question Type : MCQ

Question ID : 264330133984

Option 1 ID : 264330524961

Option 2 ID : 264330524959

Option 3 ID : 264330524960

Option 4 ID : 264330524962

Status : Answered

Chosen Option : 2

Q.14 ज्योतिबा फुले ने \_\_\_\_\_ में सत्यशोधक समाज (सत्य साधक समाज (Truth Seekers' Society)) की स्थापना की।

Ans  1. 1898

2. 1873

3. 1865

4. 1852

Question Type : MCQ

Question ID : 264330133997

Option 1 ID : 264330525012

Option 2 ID : 264330525014

Option 3 ID : 264330525011

Option 4 ID : 264330525013

Status : Answered

Chosen Option : 3

Q.15 1813 के चार्टर अधिनियम ने भारत में ईस्ट इंडिया कंपनी के शासन को अगले \_\_\_\_\_ वर्षों तक के लिए बढ़ा दिया था।

Ans  1. 20

2. 5

3. 15

4. 10

Question Type : MCQ

Question ID : 264330137051

Option 1 ID : 264330536850

Option 2 ID : 264330536848

Option 3 ID : 264330536849

Option 4 ID : 264330536847

Status : Answered

Chosen Option : 1

Q.16 \_\_\_\_\_ में बाघ नदी के तट पर स्थित बाघ गुफाएँ (Bagh Caves), जिसमें 9 बौद्ध गुफाएँ हैं, 6वीं शताब्दी में विकसित की गई थीं।

- Ans
- 1. महाराष्ट्र
  - 2. मध्यप्रदेश
  - 3. उत्तरप्रदेश
  - 4. गुजरात

Question Type : MCQ  
Question ID : 264330137040  
Option 1 ID : 264330536805  
Option 2 ID : 264330536803  
Option 3 ID : 264330536804  
Option 4 ID : 264330536806  
Status : Answered  
Chosen Option : 2

Q.17 भारत में 'द मोजार्ट ऑफ मद्रास (the Mozart of the Madras)' के नाम से किसे जाना जाता है?

- Ans
- 1. उदित नारायण
  - 2. अरिजीत सिंह
  - 3. एस. पी. बालासुब्रमण्यम
  - 4. ए.आर. रहमान

Question Type : MCQ  
Question ID : 264330134600  
Option 1 ID : 264330527357  
Option 2 ID : 264330527356  
Option 3 ID : 264330527358  
Option 4 ID : 264330527355  
Status : Answered  
Chosen Option : 3

Q.18 पानीपत का तीसरा युद्ध सन् \_\_\_\_\_ में लड़ा गया था।

- Ans
- 1. 1556
  - 2. 1526
  - 3. 1651
  - 4. 1761

Question Type : MCQ  
Question ID : 264330134616  
Option 1 ID : 264330527419  
Option 2 ID : 264330527421  
Option 3 ID : 264330527422  
Option 4 ID : 264330527420  
Status : Answered  
Chosen Option : 4

Q.19 If we sum the gross value added of all the firms of the economy in a year, we get a measure of the value of aggregate amount of goods and services produced by the economy in a year. Such an estimate is called \_\_\_\_\_.

- Ans
- 1. Net national product
  - 2. Gross domestic product
  - 3. Net value added
  - 4. National income at factor price

Question Type : MCQ  
Question ID : 264330134604  
Option 1 ID : 264330527373  
Option 2 ID : 264330527372  
Option 3 ID : 264330527374  
Option 4 ID : 264330527371  
Status : Answered  
Chosen Option : 2

Q.20 राजगृह किस महाजनपद की प्रथम राजधानी थी?

- Ans
- 1. अवंती
  - 2. कोसल
  - 3. कुरु
  - 4. मगध

Question Type : MCQ  
Question ID : 264330134615  
Option 1 ID : 264330527417  
Option 2 ID : 264330527415  
Option 3 ID : 264330527416  
Option 4 ID : 264330527418  
Status : Answered  
Chosen Option : 4

Q.21 बीमा (संशोधन) अधिनियम, 2021 उस प्रावधान को समाप्त कर देता है जिसके तहत केंद्र सरकार को जनरल इंशोरेंस कंपनी की चार सहायक कंपनियों, अर्थात् नेशनल इंशोरेंस, न्यू इंडिया एश्योरेंस, ओरिएंटल इंशोरेंस, यूनाइटेड इंडिया इंशोरेंस में कम से कम \_\_\_\_\_ स्वामित्व की आवश्यकता होती थी।

- Ans
- 1. 49%
  - 2. 75%
  - 3. 51%
  - 4. 80%

Question Type : MCQ  
Question ID : 264330137037  
Option 1 ID : 264330536792  
Option 2 ID : 264330536794  
Option 3 ID : 264330536793  
Option 4 ID : 264330536791  
Status : Answered  
Chosen Option : 1

Q.22 किस प्रकार की बेरोज़गारी में व्यक्ति अपनी क्षमता से कम योगदान देता है?

- Ans
- 1. प्रतिरोधात्मक बेरोज़गारी
  - 2. चक्रीय बेरोज़गारी
  - 3. अनिवार्य बेरोज़गारी
  - 4. प्रच्छन्न बेरोज़गारी

Question Type : MCQ  
Question ID : 264330137773  
Option 1 ID : 264330539701  
Option 2 ID : 264330539699  
Option 3 ID : 264330539702  
Option 4 ID : 264330539700  
Status : Answered  
Chosen Option : 4

Q.23 पंडित बिरजू महाराज को शास्त्रीय नृत्य की किस शैली के लिए पद्म विभूषण पुरस्कार से सम्मानित किया गया था?

- Ans
- 1. मणिपुरी
  - 2. मोहिनीअट्टम
  - 3. कथक
  - 4. झूमर

Question Type : MCQ  
Question ID : 264330135453  
Option 1 ID : 264330530720  
Option 2 ID : 264330530719  
Option 3 ID : 264330530722  
Option 4 ID : 264330530721  
Status : Answered  
Chosen Option : 3

Q.24 कथकली ने \_\_\_\_\_ के संरक्षण में सत्रहवीं शताब्दी में दक्षिण भारत में आकार लिया था।

- Ans
- 1. कर्नाटक के राजकुमार
  - 2. तमिलनाडु के राजकुमार
  - 3. पंजाब के राजकुमार
  - 4. बंगाल के राजकुमार

Question Type : MCQ  
Question ID : 264330134594  
Option 1 ID : 264330527331  
Option 2 ID : 264330527332  
Option 3 ID : 264330527333  
Option 4 ID : 264330527334  
Status : Answered  
Chosen Option : 1

Q.25 कौन-सा देश चावल का सबसे बड़ा उत्पादक है?

- Ans
- 1. ब्राज़ील
  - 2. चीन
  - 3. रूस
  - 4. बांग्लादेश

Question Type : MCQ  
Question ID : 264330135443  
Option 1 ID : 264330530680  
Option 2 ID : 264330530679  
Option 3 ID : 264330530681  
Option 4 ID : 264330530682  
Status : Answered  
Chosen Option : 2

Section : English Language and Comprehension

Q.1 Identify the segment that contains a grammatical error. If there is no error, select 'No error'

She's considered one/ of a best young/ directors in Hollywood.

- Ans
- 1. directors in Hollywood.
  - 2. No error
  - 3. She's considered one
  - 4. of a best young

Question Type : MCQ  
Question ID : 264330136214  
Option 1 ID : 264330533649  
Option 2 ID : 264330533650  
Option 3 ID : 264330533647  
Option 4 ID : 264330533648  
Status : Answered  
Chosen Option : 4

Q.2 Choose the incorrectly spelt word.

- Ans
- 1. Plus
  - 2. Moking
  - 3. Worry
  - 4. Dearest

Question Type : MCQ  
Question ID : 264330134741  
Option 1 ID : 264330527915  
Option 2 ID : 264330527916  
Option 3 ID : 264330527917  
Option 4 ID : 264330527918  
Status : Answered  
Chosen Option : 2

Q.3 Select the appropriate synonym for the underlined word.

Paul Bunyan is considered a legend.

- Ans
- 1. spinster
  - 2. volunteer
  - 3. stoic
  - 4. tradition

Question Type : MCQ  
Question ID : 264330134735  
Option 1 ID : 264330527892  
Option 2 ID : 264330527893  
Option 3 ID : 264330527891  
Option 4 ID : 264330527894  
Status : Answered  
Chosen Option : 4

Q.4 A sentence has been given with a blank to be filled with an appropriate option. Choose the correct alternative.

\_\_\_\_\_ months later, Steve returned to New York to look for a job.

- Ans
- 1. The few
  - 2. Few
  - 3. A little
  - 4. A few

Question Type : MCQ  
Question ID : 264330134483  
Option 1 ID : 264330526901  
Option 2 ID : 264330526899  
Option 3 ID : 264330526902  
Option 4 ID : 264330526900  
Status : Answered  
Chosen Option : 4

Q.5 Choose the sentence with no spelling error.

- Ans
- 1. Your emergency contacts coldn't be reaced.
  - 2. Your emergency contacts couldn't be reached.
  - 3. Your emergency contacts couldn't be reached.
  - 4. Your emergency contatcs couldn't be reached.

Question Type : MCQ  
Question ID : 264330134473  
Option 1 ID : 264330526861  
Option 2 ID : 264330526860  
Option 3 ID : 264330526859  
Option 4 ID : 264330526862  
Status : Answered  
Chosen Option : 2

**Q.6** In the following question, out of the given four alternatives, select the alternative which best expresses the meaning of the Idiom/Phrase.

To see the light.

- Ans**
- 1. To misunderstand the situation
  - 2. To gain conscious
  - 3. Suddenly realize or understand something
  - 4. To be optimistic

Question Type : **MCQ**  
Question ID : **264330134740**  
Option 1 ID : **264330527912**  
Option 2 ID : **264330527914**  
Option 3 ID : **264330527913**  
Option 4 ID : **264330527911**  
Status : **Answered**  
Chosen Option : **4**

**Q.7** Select the most appropriate option to substitute the bracketed segment in the given sentence. If there is no need to substitute it, select 'no substitution required'.

(Hardly did the ink dried on my weekly column, when) one of my readers called me.

- Ans**
- 1. No substitution required
  - 2. Hardly had the ink dried on last week's column, when
  - 3. Hardly had the ink dry on last week's column, when
  - 4. Hardly did the ink dried on last week's column, when

Question Type : **MCQ**  
Question ID : **264330136217**  
Option 1 ID : **264330533662**  
Option 2 ID : **264330533661**  
Option 3 ID : **264330533660**  
Option 4 ID : **264330533659**  
Status : **Answered**  
Chosen Option : **2**

**Q.8** Select the most appropriate option to fill in the blank.

The sedative effect of the drugs impairs people's ability to pay attention and \_\_\_\_\_.

- Ans**
- 1. dilate
  - 2. segregate
  - 3. reverberate
  - 4. concentrate

Question Type : **MCQ**  
Question ID : **264330134744**  
Option 1 ID : **264330527928**  
Option 2 ID : **264330527927**  
Option 3 ID : **264330527930**  
Option 4 ID : **264330527929**  
Status : **Answered**  
Chosen Option : **4**

**Q.9** Find the part of the given sentence that has an error in it. If there is no error, choose 'No error'.

One-to-one interaction with parents is know to be important.

- Ans**
- 1. One-to-one interaction
  - 2. to be important.
  - 3. No error
  - 4. with parents is know

Question Type : **MCQ**

Question ID : **264330134529**

Option 1 ID : **264330527075**

Option 2 ID : **264330527077**

Option 3 ID : **264330527078**

Option 4 ID : **264330527076**

Status : **Answered**

Chosen Option : **4**

**Q.10** A sentence has been given with a blank to be filled with an appropriate option. Choose the correct alternative.

She kept pictures of her parents all \_\_\_\_\_ the house.

- Ans**
- 1. out
  - 2. through
  - 3. over
  - 4. about

Question Type : **MCQ**

Question ID : **264330134725**

Option 1 ID : **264330527856**

Option 2 ID : **264330527857**

Option 3 ID : **264330527858**

Option 4 ID : **264330527855**

Status : **Answered**

Chosen Option : **3**

**Q.11** Select the most appropriate option to fill in the blank.

I am going to take you for a \_\_\_\_\_ up there.

- Ans**
- 1. rite
  - 2. right
  - 3. ride
  - 4. write

Question Type : **MCQ**

Question ID : **264330134474**

Option 1 ID : **264330526865**

Option 2 ID : **264330526866**

Option 3 ID : **264330526864**

Option 4 ID : **264330526863**

Status : **Answered**

Chosen Option : **3**

**Q.12** Improve the underlined part of the sentence. Choose 'No improvement' as an answer if the sentence is grammatically correct.

The accountant of the sugar mill have been deprived of his briefcase.

- Ans**
- 1. is deprive
  - 2. has been deprived
  - 3. was being deprived
  - 4. No improvement

Question Type : **MCQ**  
Question ID : **264330134750**  
Option 1 ID : **264330527952**  
Option 2 ID : **264330527951**  
Option 3 ID : **264330527953**  
Option 4 ID : **264330527954**  
Status : **Answered**  
Chosen Option : **2**

**Q.13** Choose the word that is opposite in meaning to the given word.

Awful

- Ans**
- 1. Wonderful
  - 2. Dreadful
  - 3. Pitiful
  - 4. Grim

Question Type : **MCQ**  
Question ID : **264330135326**  
Option 1 ID : **264330530212**  
Option 2 ID : **264330530211**  
Option 3 ID : **264330530214**  
Option 4 ID : **264330530213**  
Status : **Answered**  
Chosen Option : **1**

**Q.14** Improve the underlined part of the sentence. Choose 'No improvement' as an answer if the sentence is grammatically correct.

My history assignment is due on Wednesday.

- Ans**
- 1. were due on
  - 2. No improvement
  - 3. is dues in
  - 4. are due at

Question Type : **MCQ**  
Question ID : **264330134427**  
Option 1 ID : **264330526684**  
Option 2 ID : **264330526686**  
Option 3 ID : **264330526685**  
Option 4 ID : **264330526683**  
Status : **Answered**  
Chosen Option : **2**

**Q.15** Choose the word that means the same as the given word.  
**Inquisitive**

- Ans**
- 1. Callous
  - 2. Agile
  - 3. Aloof
  - 4. Curious

Question Type : **MCQ**  
Question ID : **264330134493**  
Option 1 ID : **264330526938**  
Option 2 ID : **264330526935**  
Option 3 ID : **264330526936**  
Option 4 ID : **264330526937**  
Status : **Answered**  
Chosen Option : **4**

**Q.16** In the following question, out of the given four alternatives, select the alternative which best expresses the meaning of the Idiom/Phrase.

From rags to riches

- Ans**
- 1. Reasonable pricing
  - 2. From everywhere
  - 3. To toil very hard to gain something
  - 4. From extreme poverty to wealth

Question Type : **MCQ**  
Question ID : **264330135302**  
Option 1 ID : **264330530121**  
Option 2 ID : **264330530119**  
Option 3 ID : **264330530122**  
Option 4 ID : **264330530120**  
Status : **Answered**  
Chosen Option : **4**

**Q.17** Choose the word that can substitute the given group of words.

One hard to please (very selective in his habits)

- Ans**
- 1. Incurable
  - 2. Dexterous
  - 3. Sadist
  - 4. Fastidious

Question Type : **MCQ**  
Question ID : **264330134734**  
Option 1 ID : **264330527887**  
Option 2 ID : **264330527888**  
Option 3 ID : **264330527889**  
Option 4 ID : **264330527890**  
Status : **Answered**  
Chosen Option : **4**

Q.18 Choose the word that can substitute the given group of words.

A residence for monks or priests

- Ans
- 1. Nursery
  - 2. Monastery
  - 3. Convent
  - 4. Tomb

Question Type : **MCQ**  
Question ID : **264330135296**  
Option 1 ID : **264330530095**  
Option 2 ID : **264330530096**  
Option 3 ID : **264330530097**  
Option 4 ID : **264330530098**  
Status : **Answered**  
Chosen Option : **2**

Q.19 Find the part of the given sentence that has an error in it. If there is no error, choose 'No error'.

Many female mammals, including rabbits and cats, ovulate only when they mate.

- Ans
- 1. Many female mammals,
  - 2. No error
  - 3. including rabbits and cats, ovulate
  - 4. only when they mate.

Question Type : **MCQ**  
Question ID : **264330134721**  
Option 1 ID : **264330527839**  
Option 2 ID : **264330527842**  
Option 3 ID : **264330527840**  
Option 4 ID : **264330527841**  
Status : **Not Answered**  
Chosen Option : **--**

Q.20 Select the appropriate antonym for the underlined word.

The tension is going to be crucial in determining the fate of your company.

- Ans
- 1. decisive
  - 2. surgical
  - 3. trivial
  - 4. pivotal

Question Type : **MCQ**  
Question ID : **264330134738**  
Option 1 ID : **264330527904**  
Option 2 ID : **264330527906**  
Option 3 ID : **264330527905**  
Option 4 ID : **264330527903**  
Status : **Answered**  
Chosen Option : **3**

**Comprehension:**

In the following passage some of the words have been deleted. Read the passage carefully and select the correct answer for the given blank out of the four alternatives.

Red kites were considered vermin across Britain and Ireland (1) \_\_\_\_\_ the 16th century and their numbers were rigorously (2) \_\_\_\_\_. While public perceptions have changed, gamekeepers and farmers still (3) \_\_\_\_\_ shoot, poison and trap red kites for the (4) \_\_\_\_\_ harm they cause to livestock and game. In 2020 alone, 20 red kites were confirmed to have been (5) \_\_\_\_\_ this way in the UK.

**SubQuestion No : 21**

**Q.21** Select the most appropriate option to fill in blank number 1.

- Ans**
- 1. while
  - 2. along
  - 3. during
  - 4. across

Question Type : **MCQ**  
Question ID : **264330135317**  
Option 1 ID : **264330530178**  
Option 2 ID : **264330530175**  
Option 3 ID : **264330530176**  
Option 4 ID : **264330530177**  
Status : **Answered**  
Chosen Option : **3**

**Comprehension:**

In the following passage some of the words have been deleted. Read the passage carefully and select the correct answer for the given blank out of the four alternatives.

Red kites were considered vermin across Britain and Ireland (1) \_\_\_\_\_ the 16th century and their numbers were rigorously (2) \_\_\_\_\_. While public perceptions have changed, gamekeepers and farmers still (3) \_\_\_\_\_ shoot, poison and trap red kites for the (4) \_\_\_\_\_ harm they cause to livestock and game. In 2020 alone, 20 red kites were confirmed to have been (5) \_\_\_\_\_ this way in the UK.

**SubQuestion No : 22**

**Q.22** Select the most appropriate option to fill in blank number 2.

- Ans**
- 1. loosened
  - 2. controlled
  - 3. changed
  - 4. choked

Question Type : **MCQ**  
Question ID : **264330135318**  
Option 1 ID : **264330530182**  
Option 2 ID : **264330530179**  
Option 3 ID : **264330530180**  
Option 4 ID : **264330530181**  
Status : **Answered**  
Chosen Option : **2**

**Comprehension:**

In the following passage some of the words have been deleted. Read the passage carefully and select the correct answer for the given blank out of the four alternatives.

Red kites were considered vermin across Britain and Ireland (1) \_\_\_\_\_ the 16th century and their numbers were rigorously (2) \_\_\_\_\_. While public perceptions have changed, gamekeepers and farmers still (3) \_\_\_\_\_ shoot, poison and trap red kites for the (4) \_\_\_\_\_ harm they cause to livestock and game. In 2020 alone, 20 red kites were confirmed to have been (5) \_\_\_\_\_ this way in the UK.

**SubQuestion No : 23**

**Q.23** Select the most appropriate option to fill in blank number 3.

- Ans**
- 1. randomly
  - 2. illegally
  - 3. fairly
  - 4. unknowingly

Question Type : **MCQ**

Question ID : **264330135319**

Option 1 ID : **264330530186**

Option 2 ID : **264330530185**

Option 3 ID : **264330530183**

Option 4 ID : **264330530184**

Status : **Answered**

Chosen Option : **2**

**Comprehension:**

In the following passage some of the words have been deleted. Read the passage carefully and select the correct answer for the given blank out of the four alternatives.

Red kites were considered vermin across Britain and Ireland (1) \_\_\_\_\_ the 16th century and their numbers were rigorously (2) \_\_\_\_\_. While public perceptions have changed, gamekeepers and farmers still (3) \_\_\_\_\_ shoot, poison and trap red kites for the (4) \_\_\_\_\_ harm they cause to livestock and game. In 2020 alone, 20 red kites were confirmed to have been (5) \_\_\_\_\_ this way in the UK.

**SubQuestion No : 24**

**Q.24** Select the most appropriate option to fill in blank number 4.

- Ans**
- 1. shipped
  - 2. perceived
  - 3. kicked
  - 4. dirty

Question Type : **MCQ**

Question ID : **264330135320**

Option 1 ID : **264330530190**

Option 2 ID : **264330530188**

Option 3 ID : **264330530189**

Option 4 ID : **264330530187**

Status : **Answered**

Chosen Option : **3**

**Comprehension:**

In the following passage some of the words have been deleted. Read the passage carefully and select the correct answer for the given blank out of the four alternatives.

Red kites were considered vermin across Britain and Ireland (1) \_\_\_\_\_ the 16th century and their numbers were rigorously (2) \_\_\_\_\_. While public perceptions have changed, gamekeepers and farmers still (3) \_\_\_\_\_ shoot, poison and trap red kites for the (4) \_\_\_\_\_ harm they cause to livestock and game. In 2020 alone, 20 red kites were confirmed to have been (5) \_\_\_\_\_ this way in the UK.

**SubQuestion No : 25**

**Q.25** Select the most appropriate option to fill in blank number 5.

- Ans**
- 1. awakened
  - 2. killed
  - 3. rooted
  - 4. subjected

Question Type : **MCQ**

Question ID : **264330135321**

Option 1 ID : **264330530193**

Option 2 ID : **264330530194**

Option 3 ID : **264330530191**

Option 4 ID : **264330530192**

Status : **Answered**

Chosen Option : **2**