

## Multi Tasking Non Technical Staff and Havaldar CBIC and CBN Examination 2022

|                |   |
|----------------|---|
| Roll Number    |   |
| Candidate Name |   |
| Venue Name     | New Age Technologies                                |
| Exam Date      | 12/05/2023  |
| Exam Time      | 9:00 AM - 10:30 AM                                  |
| Subject        | MTS Non Tech Havaldar CBIC and CBN Examination 2022 |

### Section : Numerical and Mathematical Ability

Q.1 नीचे दी गई तालिका में 5 बल्लेबाजों द्वारा बनाए गए रनों की संख्या और खेले गई गेंदों की संख्या को दर्शाया गया है।

| बल्लेबाज | बनाए गए रनों की संख्या | खेले गई गेंदों की संख्या |
|----------|------------------------|--------------------------|
| J        | 80                     | 35                       |
| K        | 90                     | 70                       |
| L        | 100                    | 60                       |
| M        | 120                    | 170                      |
| N        | 50                     | 50                       |

$$\text{Strike rate} = \frac{\text{Number of runs scored}}{\text{Number of balls played}} \times 100$$

स्ट्राइक रेट (Strike rate) = बनाए गए रनों की संख्या (Number of runs scored) / खेले गई गेंदों की संख्या (Number of balls played) x 100

J का स्ट्राइक रेट, N के स्ट्राइक रेट का कितना प्रतिशत है?

- Ans
- 1. 196.44 प्रतिशत
  - 2. 182.36 प्रतिशत
  - 3. 228.57 प्रतिशत
  - 4. 242.24 प्रतिशत

Question Type : MCQ

Question ID : 264330137194

Option 1 ID : 264330537422

Option 2 ID : 264330537421

Option 3 ID : 264330537420

Option 4 ID : 264330537419

Status : Answered

Chosen Option : 3

Q.2 Rs.450 की राशि पर 3.5% वार्षिक साधारण ब्याज दर पर Rs.47.25 का ब्याज प्राप्त करने में कितना समय लगेगा?

- Ans
- 1. 4 वर्ष
  - 2. 1 वर्ष
  - 3. 3 वर्ष
  - 4. 2 वर्ष

Question Type : MCQ

Question ID : 264330133637

Option 1 ID : 264330523571

Option 2 ID : 264330523574

Option 3 ID : 264330523572

Option 4 ID : 264330523573

Status : Answered

Chosen Option : 3

Q.3  $25 \times 7 \div 175 - 196 \div 14 \times 2 + 625 \div 25 \times 3$  का मान क्या है?

- Ans
- 1. 58
  - 2. 28
  - 3. 38
  - 4. 48

Question Type : MCQ

Question ID : 264330137170

Option 1 ID : 264330537323

Option 2 ID : 264330537326

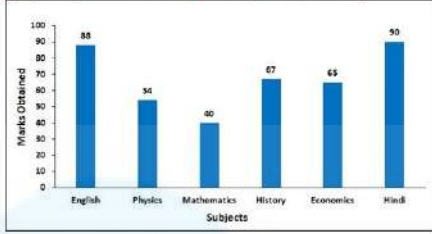
Option 3 ID : 264330537324

Option 4 ID : 264330537325

Status : Answered

Chosen Option : 4

Q.4 निम्न दंड आलेख में विभिन्न विषयों में एक छात्र द्वारा कुल 100 अंकों में से प्राप्त अंकों को दर्शाया गया है। भौतिकी (physics) में प्राप्त अंक, गणित (mathematics) में प्राप्त अंकों से कितने प्रतिशत अधिक हैं?



Subject - विषय, Marks Obtained - प्राप्त अंक, English - अंग्रेजी, Physics - भौतिकी, Mathematics - गणित, History - इतिहास, Economics - अर्थशास्त्र, Hindi - हिंदी

- Ans
- ✓ 1. 35%
  - ✗ 2. 33%
  - ✗ 3. 28%
  - ✗ 4. 44%

Question Type : MCQ

Question ID : 264330138430

Option 1 ID : 264330542328

Option 2 ID : 264330542329

Option 3 ID : 264330542330

Option 4 ID : 264330542327

Status : Answered

Chosen Option : 1

Q.5 टीना किसी काम को 15 दिनों में कर सकती है और मान्या उसी काम को 18 दिनों में कर सकती है। यदि वे दोनों साथ मिलकर 6 दिनों तक काम करती हैं, तो काम का कितना भाग शेष रह जाएगा?

- Ans
- ✓ 1. 4/15
  - ✗ 2. 11/30
  - ✗ 3. 11/15
  - ✗ 4. 8/15

Question Type : MCQ

Question ID : 264330133595

Option 1 ID : 264330523405

Option 2 ID : 264330523404

Option 3 ID : 264330523403

Option 4 ID : 264330523406

Status : Answered

Chosen Option : 1

Q.6 एक दुकानदार एक थोक व्यापारी से Rs. 20 में 40 पेंसिल खरीदता है। वह उन पेंसिलों को 20 Rs. में 20 पेंसिल की दर से बेच देता है। उसका लाभ या हानि प्रतिशत क्या था?

- Ans
- 1. 20% हानि
  - 2. 50% लाभ
  - 3. 80% हानि
  - 4. 100% लाभ

Question Type : MCQ

Question ID : 264330141008

Option 1 ID : 264330552379

Option 2 ID : 264330552380

Option 3 ID : 264330552381

Option 4 ID : 264330552382

Status : Answered

Chosen Option : 2

Q.7 एक राशि पर 15 प्रतिशत वार्षिक दर से तीन माह का साधारण ब्याज Rs. 600 है। वह राशि क्या है?

- Ans
- 1. Rs. 16000
  - 2. Rs. 4000
  - 3. Rs. 32000
  - 4. Rs. 1600

Question Type : MCQ

Question ID : 264330138025

Option 1 ID : 264330540709

Option 2 ID : 264330540708

Option 3 ID : 264330540710

Option 4 ID : 264330540707

Status : Answered

Chosen Option : 1

Q.8 एक लड़की A से B तक 60 km/hr की चाल से जाती है और B से A तक 30 km/hr की चाल से वापस आती है। यदि पूरी यात्रा में 5 घंटे लगते हैं, तो A और B के बीच की दूरी कितनी है?

- Ans
- 1. 90 km
  - 2. 50 km
  - 3. 200 km
  - 4. 100 km

Question Type : MCQ

Question ID : 264330138351

Option 1 ID : 264330542014

Option 2 ID : 264330542013

Option 3 ID : 264330542011

Option 4 ID : 264330542012

Status : Answered

Chosen Option : 3

Q.9 एक व्यक्ति ने 28 वस्तुएँ Rs. 2800 में बेचीं और उसे 20% की हानि हुई। 10% लाभ अर्जित करने के लिए उसे Rs. 4400 में कितनी वस्तुएँ बेचनी चाहिए?

- Ans  1. 32  
 2. 40  
 3. 16  
 4. 24

Question Type : MCQ  
Question ID : 264330138421  
Option 1 ID : 264330542292  
Option 2 ID : 264330542293  
Option 3 ID : 264330542291  
Option 4 ID : 264330542294  
Status : Answered  
Chosen Option : 1

Q.10 15 पुस्तकों को Rs. 2200 में बेचा गया जिससे 5 पुस्तकों का क्रय मूल्य प्राप्त हुआ। एक पुस्तक का क्रय मूल्य ज्ञात कीजिए।

- Ans  1. Rs. 200  
 2. Rs. 210  
 3. Rs. 230  
 4. Rs. 110

Question Type : MCQ  
Question ID : 264330138420  
Option 1 ID : 264330542289  
Option 2 ID : 264330542288  
Option 3 ID : 264330542290  
Option 4 ID : 264330542287  
Status : Answered  
Chosen Option : 3

Q.11 यदि एक गोले की त्रिज्या एक अर्धगोले की त्रिज्या का  $\frac{3}{4}$  है, तो गोले और अर्धगोले के आयतनों का अनुपात क्या होगा?

- Ans  1. 9 : 16  
 2. 27 : 32  
 3. 51 : 64  
 4. 18 : 64

Question Type : MCQ  
Question ID : 264330137336  
Option 1 ID : 264330537973  
Option 2 ID : 264330537971  
Option 3 ID : 264330537974  
Option 4 ID : 264330537972  
Status : Answered  
Chosen Option : 2

Q.12  $24 + [33 + 40 \text{ of } \{3 \times (5 - 44 + 50)\}]$  का मान ज्ञात कीजिए।

Ans  1. 1250

2. 1442

3. 1331

4. 1377

Question Type : MCQ

Question ID : 264330138412

Option 1 ID : 264330542255

Option 2 ID : 264330542257

Option 3 ID : 264330542258

Option 4 ID : 264330542256

Status : Answered

Chosen Option : 4

Q.13 एक आयताकार टंकी के आधार का क्षेत्रफल  $720 \text{ m}^2$  है और इसमें भरे पानी का आयतन  $28800 \text{ m}^3$  है। टंकी में पानी की गहराई कितनी है?

Ans  1. 50 m

2. 30 m

3. 60 m

4. 40 m

Question Type : MCQ

Question ID : 264330133600

Option 1 ID : 264330523425

Option 2 ID : 264330523423

Option 3 ID : 264330523426

Option 4 ID : 264330523424

Status : Answered

Chosen Option : 4

Q.14 एक संख्या को 5:7 के अनुपात में विभाजित किया गया है। प्रत्येक संख्या में 6 जोड़ने पर अनुपात 7:9 हो जाता है। बड़ी संख्या ज्ञात कीजिए।

Ans  1. 21

2. 18

3. 12

4. 15

Question Type : MCQ

Question ID : 264330138422

Option 1 ID : 264330542296

Option 2 ID : 264330542297

Option 3 ID : 264330542298

Option 4 ID : 264330542295

Status : Answered

Chosen Option : 1

Q.15 एक लड़का स्थिर जल में 40 km/hr की चाल से तैर सकता है। यदि धारा की चाल 15 km/hr होती, तो उस लड़के को धारा के प्रतिकूल 25 km तैरने में कितना समय लगेगा।

- Ans
- 1. 2.5 घंटे
  - 2. 2 घंटे
  - 3. 3 घंटे
  - 4. 1 घंटा

Question Type : MCQ

Question ID : 264330138426

Option 1 ID : 264330542313

Option 2 ID : 264330542312

Option 3 ID : 264330542314

Option 4 ID : 264330542311

Status : Answered

Chosen Option : 4

Q.16  $\frac{(45 \times 3 \div 27 \times 4)(81 \div 5 \times 85 \div 51)}{(108 \div 18 \times 7 \div 21)(133 \times 3 \div 38 \times 4)}$  का मान क्या है?

- Ans
- 1. 39/7
  - 2. 45/7
  - 3. 54/7
  - 4. 46/7

Question Type : MCQ

Question ID : 264330137193

Option 1 ID : 264330537417

Option 2 ID : 264330537416

Option 3 ID : 264330537415

Option 4 ID : 264330537418

Status : Answered

Chosen Option : 2

Q.17 यदि x का 40 प्रतिशत = 20 का 25 प्रतिशत है, तो x का मान क्या है?

- Ans
- 1. 12.5
  - 2. 22.5
  - 3. 20
  - 4. 17.5

Question Type : MCQ

Question ID : 264330138020

Option 1 ID : 264330540687

Option 2 ID : 264330540689

Option 3 ID : 264330540690

Option 4 ID : 264330540688

Status : Answered

Chosen Option : 1

Q.18 कुछ बढ़इयों (carpenters) ने एक कार्य को 20 दिनों में पूरा करने का वादा किया। जब कार्य शुरू हुआ, तो उनमें से 8 बढ़ई अनुपस्थित थे और शेष बढ़इयों ने 40 दिनों में कार्य को पूरा किया। बढ़इयों की मूल संख्या कितनी थी?

- Ans
- 1. 10
  - 2. 12
  - 3. 16
  - 4. 18

Question Type : MCQ

Question ID : 264330137321

Option 1 ID : 264330537912

Option 2 ID : 264330537913

Option 3 ID : 264330537911

Option 4 ID : 264330537914

Status : Answered

Chosen Option : 3

Q.19 यदि 10 और  $x$  का तृतीय समानुपाती 90 है और 12 और  $y$  का तृतीय समानुपाती 27 है, तो  $(x + y)$  का मान ज्ञात कीजिए।

- Ans
- 1. 50
  - 2. 44
  - 3. 48
  - 4. 56

Question Type : MCQ

Question ID : 264330138423

Option 1 ID : 264330542302

Option 2 ID : 264330542300

Option 3 ID : 264330542299

Option 4 ID : 264330542301

Status : Answered

Chosen Option : 3

Q.20 70 छात्रों की एक कक्षा में, 70% लड़कियाँ हैं और शेष लड़के हैं। यदि लड़कियों के अंकों का औसत 30 और लड़कों के अंकों का औसत 40 है, तो पूरी कक्षा के औसत अंक कितने हैं?

- Ans
- 1. 38
  - 2. 35
  - 3. 30
  - 4. 33

Question Type : MCQ

Question ID : 264330138415

Option 1 ID : 264330542270

Option 2 ID : 264330542269

Option 3 ID : 264330542267

Option 4 ID : 264330542268

Status : Answered

Chosen Option : 4

Q.1 एक निश्चित कूट भाषा में, 'EDITOR' को 'CBGQLO' लिखा जाता है। उस कूट भाषा में 'FOLDER' को कैसे लिखा जाएगा?

- Ans
- 1. DMJABR
  - 2. BMJBCR
  - 3. DMJACO
  - 4. DMJABO

Question Type : MCQ

Question ID : 264330138544

Option 1 ID : 264330542784

Option 2 ID : 264330542786

Option 3 ID : 264330542783

Option 4 ID : 264330542785

Status : Answered

Chosen Option : 3

Q.2 आठ सहेलियाँ मानसी, श्वेता, मोनिका, पायल, आरती, काजल, लक्ष्मी और रानी एक वृत्ताकार मेज के चारों ओर केंद्र की ओर मुख करके बैठी हैं (परंतु जरूरी नहीं कि वे इसी क्रम में बैठी हों)। मानसी, मोनिका के बाईं ओर से तीसरे स्थान पर है। आरती, मोनिका के दाईं ओर से दूसरे स्थान पर है। श्वेता, पायल के बाईं ओर से चौथे स्थान पर है। पायल, मानसी के बाईं ओर से दूसरे स्थान पर है। रानी, काजल के दाईं ओर से तीसरे स्थान पर है। काजल, मानसी की निकटतम पड़ोसी नहीं है। काजल के दाईं ओर से दूसरे स्थान पर कौन है?

- Ans
- 1. रानी
  - 2. लक्ष्मी
  - 3. पायल
  - 4. आरती

Question Type : MCQ

Question ID : 264330138527

Option 1 ID : 264330542717

Option 2 ID : 264330542715

Option 3 ID : 264330542718

Option 4 ID : 264330542716

Status : Answered

Chosen Option : 3

Q.3 छः लड़कियाँ मानसी, श्वेता, मोनिका, पायल, आरती और काजल एक वृत्ताकार मेज के चारों ओर केंद्र की ओर मुख करके बैठी हैं (परंतु जरूरी नहीं कि वे इसी क्रम में बैठी हों)। काजल, मानसी के ठीक बाईं ओर है। श्वेता, मानसी के बाईं ओर से तीसरे स्थान पर है। पायल, काजल के दाईं ओर से दूसरे स्थान पर है। मोनिका, मानसी के बाईं ओर से दूसरे स्थान पर नहीं है। मानसी के दाईं ओर से दूसरे स्थान पर कौन है?

- Ans
- 1. काजल
  - 2. पायल
  - 3. श्वेता
  - 4. मोनिका

Question Type : MCQ

Question ID : 264330138526

Option 1 ID : 264330542714

Option 2 ID : 264330542713

Option 3 ID : 264330542711

Option 4 ID : 264330542712

Status : Answered

Chosen Option : 4

Q.4 निम्नलिखित प्रश्न में कुछ कथन दिए गए हैं और उन कथनों के आधार पर कुछ निष्कर्ष दिए गए हैं। आपको यह मानना है कि दिए गए कथन सत्य हैं चाहे वे सामान्यतः ज्ञात तथ्यों से अलग प्रतीत होते हों। सभी निष्कर्षों को पढ़िए और फिर निश्चय कीजिए कि दिए गए निष्कर्षों में से कौन-सा निष्कर्ष तार्किक रूप से दिए गए कथनों के अनुसार है।

कथन:

I. कुछ खिलौने, छोटे हैं।

II कुछ लंबे, खिलौने हैं।

निष्कर्ष:

I. कुछ छोटे, खिलौने हैं।

II सभी छोटे, लंबे हैं।

Ans

- ✓ 1. केवल निष्कर्ष I कथनों के अनुसार है
- ✗ 2. केवल निष्कर्ष II कथनों के अनुसार है
- ✗ 3. कोई भी निष्कर्ष कथनों के अनुसार नहीं है
- ✗ 4. दोनों निष्कर्ष I और II कथनों के अनुसार हैं

Question Type : MCQ

Question ID : 264330138529

Option 1 ID : 264330542723

Option 2 ID : 264330542724

Option 3 ID : 264330542726

Option 4 ID : 264330542725

Status : Answered

Chosen Option : 1

Q.5 उस विकल्प को चुनिए जो तीसरी संख्या से ठीक उसी तरह संबंधित है जिस तरह दूसरी संख्या पहली संख्या से संबंधित है।

20 : 30 :: 100 : ?

Ans

- ✓ 1. 150
- ✗ 2. 1480
- ✗ 3. 210
- ✗ 4. 140

Question Type : MCQ

Question ID : 264330137823

Option 1 ID : 264330539902

Option 2 ID : 264330539901

Option 3 ID : 264330539900

Option 4 ID : 264330539899

Status : Answered

Chosen Option : 1

Q.6 उस विकल्प को चुनिए जो पाँचवे पद से ठीक उसी प्रकार संबंधित है जिस प्रकार दूसरा पद पहले पद से संबंधित है और चौथा पद तीसरे पद से संबंधित है।

AR9 : DN81 :: PS4 : SO16 :: MT9 : ?

- Ans
- 1. PP81
  - 2. PQ81
  - 3. PP729
  - 4. PR729

Question Type : MCQ

Question ID : 264330138521

Option 1 ID : 264330542691

Option 2 ID : 264330542692

Option 3 ID : 264330542694

Option 4 ID : 264330542693

Status : Answered

Chosen Option : 1

Q.7 उस विकल्प को चुनिए जिसमें समुच्चय की संख्याएँ वही संबंध साझा करती हैं जो दिए गए समुच्चय में संख्याओं द्वारा साझा किया जाता है। (ध्यान दें: संख्याओं को उनके घटक अंकों में अलग-अलग किए बिना, पूर्ण संख्याओं पर सक्रियता की जानी चाहिए। उदा. 13 - 13 पर सक्रियताएँ जैसे 13 को जोड़ना /घटाना /गुणा करना आदि किया जा सकता है। 13 को 1 और 3 में अलग-अलग करने की और फिर 1 और 3 पर गणितीय सक्रियताएँ करने की अनुमति नहीं है)

(10, 50, 250)

(20, 100, 500)

- Ans
- 1. (10, 50, 200)
  - 2. (8, 40, 200)
  - 3. (20, 80, 500)
  - 4. (14, 70, 300)

Question Type : MCQ

Question ID : 264330138534

Option 1 ID : 264330542744

Option 2 ID : 264330542743

Option 3 ID : 264330542746

Option 4 ID : 264330542745

Status : Answered

Chosen Option : 2

Q.8 किन दो चिन्हों को आपस में बदलने पर, निम्न समीकरण सही होगा?

$$21 - 7 \times 4 \div 10 + 2 = 4$$

- Ans
- 1. + और -
  - 2. - और ÷
  - 3. - और ×
  - 4. × और ÷

Question Type : MCQ

Question ID : 264330138535

Option 1 ID : 264330542747

Option 2 ID : 264330542749

Option 3 ID : 264330542748

Option 4 ID : 264330542750

Status : Answered

Chosen Option : 2

Q.9 निम्नलिखित प्रश्न में, दी गई श्रृंखला में लुप्त संख्या चुनिए।

17, 19, 23, 29, 31,?

Ans  1. 30

2. 40

3. 47

4. 37

Question Type : MCQ

Question ID : 264330138532

Option 1 ID : 264330542735

Option 2 ID : 264330542737

Option 3 ID : 264330542738

Option 4 ID : 264330542736

Status : Answered

Chosen Option : 4

Q.10 (::) के बाईं ओर दिए गए शब्द आपस में किसी तर्क/नियम/संबंध द्वारा संबंधित हैं। समान तर्क/नियम/संबंध के आधार पर दिए गए विकल्पों में से (::) के दाईं ओर लुप्त शब्द/शब्द युग्म को चुनिए।

ठेला (Cart) : पहिया ::?

Ans  1. घर : कमरा

2. विद्यार्थी : कक्षा

3. पेडल : साइकिल

4. अध्याय : पुस्तक

Question Type : MCQ

Question ID : 264330138522

Option 1 ID : 264330542695

Option 2 ID : 264330542698

Option 3 ID : 264330542696

Option 4 ID : 264330542697

Status : Answered

Chosen Option : 1

Q.11 दी गई आकृति के उस सही दर्पण प्रतिबिंब को चुनिए, जो नीचे दर्शाए गए अनुसार दर्पण को MN पर रखने पर बनेगा।

X8SeVM5HJ

M  N

Ans

- ✗ 1. X 8 S 6 V W 5 H 7
- ✓ 2. X 8 2 6 Λ W 2 H 7
- ✗ 3. X 8 2 6 Λ M 2 H 7
- ✗ 4. X 8 2 6 V W 5 H 7

Question Type : MCQ

Question ID : 264330137363

Option 1 ID : 264330538081

Option 2 ID : 264330538079

Option 3 ID : 264330538082

Option 4 ID : 264330538080

Status : Answered

Chosen Option : 2

Q.12 एक लिखित कूट भाषा में, 'DEAL' को '22' लिखा जाता है, 'EACH' को '17' लिखा जाता है। उस कूट भाषा में 'HALF' को कैसे लिखा जाएगा?

Ans

- ✗ 1. 25
- ✓ 2. 27
- ✗ 3. 24
- ✗ 4. 26

Question Type : MCQ

Question ID : 264330135598

Option 1 ID : 264330531294

Option 2 ID : 264330531293

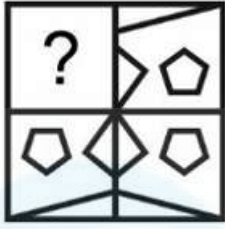
Option 3 ID : 264330531291

Option 4 ID : 264330531292

Status : Answered

Chosen Option : 2

Q.13 कौन-सी उत्तर आकृति प्रश्न आकृति में दिए गए पैटर्न को पूरा करेगी?



Ans

✗ 1.



✓ 2.



✗ 3.



✗ 4.



Question Type : MCQ

Question ID : 264330138539

Option 1 ID : 264330542766

Option 2 ID : 264330542763

Option 3 ID : 264330542765

Option 4 ID : 264330542764

Status : Answered

Chosen Option : 2

Q.14 पाँच कारों A, L, J, M और T के मूल्यों की तुलना की जाती है। A का मूल्य सबसे कम है। कोई भी दो कारों का मूल्य समान नहीं है। J का मूल्य T, L और M से कम है। न तो T और न ही L का मूल्य सबसे अधिक है। T का मूल्य L से कम है। कितनी कारों का मूल्य T के मूल्य से अधिक है?

Ans

✗ 1. 0

✗ 2. 1

✓ 3. 2

✗ 4. 3

Question Type : MCQ

Question ID : 264330138528

Option 1 ID : 264330542719

Option 2 ID : 264330542721

Option 3 ID : 264330542722

Option 4 ID : 264330542720

Status : Answered

Chosen Option : 3

Q.15 निम्नलिखित प्रश्न में कुछ कथन दिए गए हैं और उन कथनों के आधार पर कुछ निष्कर्ष दिए गए हैं। आपको यह मानना है कि दिए गए कथन सत्य हैं चाहे वे सामान्यतः ज्ञात तथ्यों से अलग प्रतीत होते हों। सभी निष्कर्षों को पढ़िए और फिर निश्चय कीजिए कि दिए गए निष्कर्षों में से कौन-सा निष्कर्ष तार्किक रूप से दिए गए कथनों के अनुसार है।

कथन:

I. सभी G, K हैं।

II कुछ K, T हैं।

निष्कर्ष:

I. कोई T, G नहीं है।

II कोई K, T नहीं है।

III सभी K, G हैं।

Ans

✗ 1. दोनों निष्कर्ष I और III कथनों के अनुसार हैं

✓ 2. कोई भी निष्कर्ष कथनों के अनुसार नहीं है

✗ 3. दोनों निष्कर्ष II और III कथनों के अनुसार हैं

✗ 4. दोनों निष्कर्ष I और II कथनों के अनुसार हैं

Question Type : MCQ

Question ID : 264330138530

Option 1 ID : 264330542728

Option 2 ID : 264330542727

Option 3 ID : 264330542729

Option 4 ID : 264330542730

Status : Answered

Chosen Option : 2

Q.16 एक श्रृंखला दी गई है जिसमें एक पद लुप्त है। दिए गए विकल्पों में से उस सही विकल्प को चुनिए जो श्रृंखला को पूरा करेगा।

ANS, CJU, EFW, GBY, ?

Ans

✗ 1. JXB

✗ 2. JWA

✗ 3. IWA

✓ 4. IXA

Question Type : MCQ

Question ID : 264330138519

Option 1 ID : 264330542683

Option 2 ID : 264330542686

Option 3 ID : 264330542684

Option 4 ID : 264330542685

Status : Answered

Chosen Option : 4

Q.17 दिए गए समीकरण को सही करने के लिए किन दो चिन्हों को आपस में बदला जाना चाहिए?

$$8 - 9 + 24 \times 63 = 33$$

Ans  1. - और +

2. = और +

3.  $\times$  और -

4. - और =

Question Type : MCQ

Question ID : 264330133382

Option 1 ID : 264330522562

Option 2 ID : 264330522561

Option 3 ID : 264330522559

Option 4 ID : 264330522560

Status : Answered

Chosen Option : 3

Q.18 दी गई श्रृंखला में निम्नलिखित में से कौन-सी संख्या प्रश्न चिन्ह (?) के स्थान पर आएगी?

-7, -6, -4, -1, 3, 8, 14, ?

Ans  1. 21

2. 26

3. 18

4. 24

Question Type : MCQ

Question ID : 264330137821

Option 1 ID : 264330539892

Option 2 ID : 264330539891

Option 3 ID : 264330539893

Option 4 ID : 264330539894

Status : Answered

Chosen Option : 1

Q.19 एक लिखित कूट भाषा में, 'DUGPS' को '4377T' लिखा जाता है। उस कूट भाषा में 'AEMJQ' को कैसे लिखा जाएगा?

Ans  1. 1541R

2. 1641R

3. 1R54R

4. 1249R

Question Type : MCQ

Question ID : 264330133701

Option 1 ID : 264330523828

Option 2 ID : 264330523827

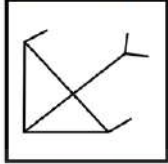
Option 3 ID : 264330523830

Option 4 ID : 264330523829

Status : Answered

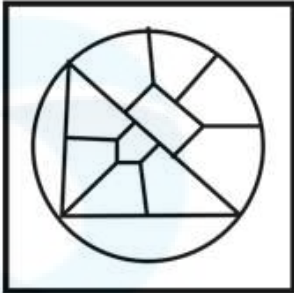
Chosen Option : 1

Q.20 उस विकल्प आकृति को चुनिए जिसमें दी गई आकृति उसके भाग के रूप में निहित है (घूर्णन की अनुमति नहीं है)।

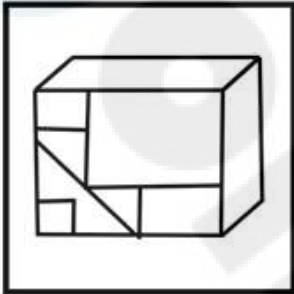


Ans

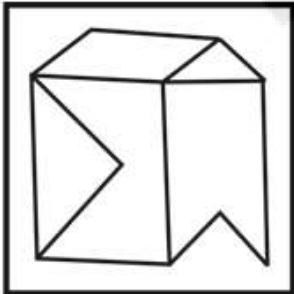
✗ 1.



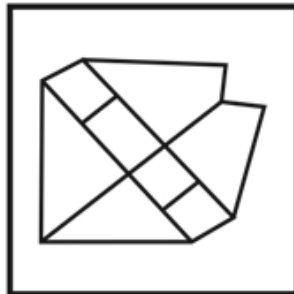
✗ 2.



✗ 3.



✓ 4.



Question Type : MCQ

Question ID : 264330137362

Option 1 ID : 264330538077

Option 2 ID : 264330538075

Option 3 ID : 264330538078

Option 4 ID : 264330538076

Status : Answered

Chosen Option : 4

Q.1 किस नृत्यांगना को कला में उनके योगदान के लिए वर्ष 2021 में पद्म श्री (Padma Shri) पुरस्कार से सम्मानित किया गया था?

- Ans
- 1. अलारमेल वल्ली (Alarmel Valli)
  - 2. मंजम्मा जोगती (Manjamma Jogati)
  - 3. अपर्णा सतीसन (Aparna Satheesan)
  - 4. पिउली पति (Piuli Pati)

Question Type : MCQ  
Question ID : 264330134075  
Option 1 ID : 264330525326  
Option 2 ID : 264330525325  
Option 3 ID : 264330525324  
Option 4 ID : 264330525323  
Status : Answered  
Chosen Option : 2

Q.2 ओजोन परत वायुमंडल की निम्नलिखित में से किस परत में पाई जाती है?

- Ans
- 1. मध्यमंडल
  - 2. बाह्यमंडल
  - 3. क्षोभमंडल
  - 4. समताप मंडल

Question Type : MCQ  
Question ID : 264330137927  
Option 1 ID : 264330540316  
Option 2 ID : 264330540318  
Option 3 ID : 264330540317  
Option 4 ID : 264330540315  
Status : Answered  
Chosen Option : 4

Q.3 बांदीपुर राष्ट्रीय उद्यान निम्नलिखित में से किस राज्य में स्थित है?

- Ans
- 1. कर्नाटक
  - 2. आंध्रप्रदेश
  - 3. तमिलनाडु
  - 4. केरल

Question Type : MCQ  
Question ID : 264330137926  
Option 1 ID : 264330540312  
Option 2 ID : 264330540314  
Option 3 ID : 264330540313  
Option 4 ID : 264330540311  
Status : Answered  
Chosen Option : 1

Q.4 निम्नलिखित में से किसे भारतीय क्रिकेट कंट्रोल बोर्ड द्वारा नवंबर 2022 में न्यूजीलैंड में तीन मैचों की T20 श्रृंखला के लिए कप्तान के रूप में नामित किया गया था?

- Ans
- 1. विराट कोहली
  - 2. हार्दिक पण्ड्या
  - 3. शिखर धवन
  - 4. ऋषभ पंत

Question Type : MCQ  
Question ID : 264330137942  
Option 1 ID : 264330540375  
Option 2 ID : 264330540378  
Option 3 ID : 264330540376  
Option 4 ID : 264330540377  
Status : Answered  
Chosen Option : 4

Q.5 भारत में पश्चिमी चक्रवाती विकसोभ का प्रवेश पश्चिमी प्रवाह द्वारा किस क्षेत्र से होता है?

- Ans
- 1. दक्षिण-अफ्रीकी क्षेत्र (South-African region)
  - 2. भूमध्यसागरीय क्षेत्र (Mediterranean region)
  - 3. दक्षिण-अमेरिकी क्षेत्र (South-American region)
  - 4. पूर्वी यूरोपीय क्षेत्र (Eastern European region)

Question Type : MCQ  
Question ID : 264330138314  
Option 1 ID : 264330541864  
Option 2 ID : 264330541865  
Option 3 ID : 264330541863  
Option 4 ID : 264330541866  
Status : Answered  
Chosen Option : 1

Q.6 देश में उत्पादित वस्तुओं पर लगाए गए कर \_\_\_\_\_ कहलाते हैं।

- Ans
- 1. उत्पादन कर
  - 2. संपत्ति कर
  - 3. एंटी-डंपिंग कर
  - 4. सीमा शुल्क

Question Type : MCQ  
Question ID : 264330134080  
Option 1 ID : 264330525345  
Option 2 ID : 264330525343  
Option 3 ID : 264330525344  
Option 4 ID : 264330525346  
Status : Answered  
Chosen Option : 1

Q.7 \_\_\_\_\_ एक पंचायत के क्षेत्र में रहने वाले सभी वयस्कों की सभा होती है।

- Ans
- 1. ग्राम सभा
  - 2. विधान सभा
  - 3. लोक सभा
  - 4. राज्य सभा

Question Type : MCQ  
Question ID : 264330133867  
Option 1 ID : 264330524491  
Option 2 ID : 264330524492  
Option 3 ID : 264330524493  
Option 4 ID : 264330524494  
Status : Answered  
Chosen Option : 1

Q.8 \_\_\_\_\_ को केरल के नववर्ष के रूप में मनाया जाता है।

- Ans
- 1. ओणम
  - 2. विशु
  - 3. बोनालु
  - 4. पोंगल

Question Type : MCQ  
Question ID : 264330137064  
Option 1 ID : 264330536901  
Option 2 ID : 264330536902  
Option 3 ID : 264330536899  
Option 4 ID : 264330536900  
Status : Answered  
Chosen Option : 1

Q.9 निम्नलिखित में से कौन वर्ष 1773 से 1785 तक भारत के गवर्नर-जनरल थे?

- Ans
- 1. विलियम बेंटिंक
  - 2. वारेन हेस्टिंग्स
  - 3. लॉर्ड माउंटबेटन
  - 4. लॉर्ड डलहौजी

Question Type : MCQ  
Question ID : 264330133879  
Option 1 ID : 264330524539  
Option 2 ID : 264330524540  
Option 3 ID : 264330524542  
Option 4 ID : 264330524541  
Status : Answered  
Chosen Option : 2

Q.10 महाकाव्य 'पद्मावत(Padmavat )' के लेखक कौन हैं?

- Ans
- 1. अल बिरूनी (Al-Biruni)
  - 2. मलिक मोहम्मद जायसी (Malik Muhammad Jayasi)
  - 3. कुलदीप नैयर (Kuldeep Nayyar)
  - 4. कालिदास(Kalidasa)

Question Type : MCQ  
Question ID : 264330134073  
Option 1 ID : 264330525318  
Option 2 ID : 264330525317  
Option 3 ID : 264330525316  
Option 4 ID : 264330525315  
Status : Answered  
Chosen Option : 2

Q.11 फातिमा शेख को \_\_\_\_\_ के रूप में व्यापक रूप से जाना जाता था।

- Ans
- 1. भारत की पहली महिला मुस्लिम उद्यमी
  - 2. भारत की पहली महिला चिकित्सक
  - 3. भारत की पहली महिला मुस्लिम शिक्षिका
  - 4. भारत की पहली महिला अभियंता

Question Type : MCQ  
Question ID : 264330138304  
Option 1 ID : 264330541824  
Option 2 ID : 264330541826  
Option 3 ID : 264330541823  
Option 4 ID : 264330541825  
Status : Not Answered  
Chosen Option : --

Q.12 वर्ष 2022 के शीतकालीन ओलंपिक के लिए क्वालीफाई होने वाले एकमात्र भारतीय कौन थे?

- Ans
- 1. शिव केशवन
  - 2. आरिफ मोहम्मद खान
  - 3. नदीम इकबाल
  - 4. हिमांशु ठाकुर

Question Type : MCQ  
Question ID : 264330138299  
Option 1 ID : 264330541805  
Option 2 ID : 264330541803  
Option 3 ID : 264330541806  
Option 4 ID : 264330541804  
Status : Not Answered  
Chosen Option : --

Q.13 1867 में, केशव चंद्र सेन ने \_\_\_\_\_ में प्रार्थना समाज की स्थापना करने में सहायता की।

- Ans
- 1. कलकत्ता
  - 2. मद्रास
  - 3. बॉम्बे
  - 4. पुणे

Question Type : MCQ

Question ID : 264330137077

Option 1 ID : 264330536953

Option 2 ID : 264330536951

Option 3 ID : 264330536952

Option 4 ID : 264330536954

Status : Answered

Chosen Option : 3

Q.14 निम्नलिखित में से चंद्रगुप्त द्वितीय के दरबार के नवरत्नों में से किसने 'मंत्रशास्त्र (Mantrashastra)' लिखा था?

- Ans
- 1. घटकर्पर (Ghatakarapara)
  - 2. अमरसिम्हा (Amarasimha)
  - 3. कालिदास (Kalidasa)
  - 4. वेताल भट्ट (Vetala Bhatta)

Question Type : MCQ

Question ID : 264330137074

Option 1 ID : 264330536942

Option 2 ID : 264330536941

Option 3 ID : 264330536939

Option 4 ID : 264330536940

Status : Answered

Chosen Option : 3

Q.15 पहल (PAHAL) योजना के तहत घरेलू उपभोक्ता को एलपीजी(LPG) सिलिंडर \_\_\_\_\_ द्वारा दी जाती है।

- Ans
- 1. आवास और शहरी मामलों के मंत्रालय
  - 2. उपभोक्ता मामले मंत्रालय
  - 3. पेट्रोलियम एवं प्राकृतिक गैस मंत्रालय
  - 4. वित्त मंत्रालय

Question Type : MCQ

Question ID : 264330138305

Option 1 ID : 264330541827

Option 2 ID : 264330541828

Option 3 ID : 264330541830

Option 4 ID : 264330541829

Status : Answered

Chosen Option : 1

Q.16 जनसंख्या के घनत्व को \_\_\_\_\_ द्वारा अभिव्यक्त किया जाता है।

- Ans
- 1. प्रति इकाई क्षेत्र में साक्षर व्यक्तियों की संख्या
  - 2. प्रति इकाई क्षेत्र में व्यक्तियों की संख्या
  - 3. प्रति इकाई क्षेत्र में पशुओं और व्यक्तियों की संख्या
  - 4. प्रति इकाई क्षेत्र में ग्रामीण व्यक्तियों की संख्या

Question Type : MCQ  
Question ID : 264330138693  
Option 1 ID : 264330543381  
Option 2 ID : 264330543379  
Option 3 ID : 264330543382  
Option 4 ID : 264330543380  
Status : Answered  
Chosen Option : 2

Q.17 मुगल साम्राज्य के सेनापति जय सिंह प्रथम और शिवाजी के बीच पुरंदर की संधि कब हुई थी?

- Ans
- 1. 1665
  - 2. 1702
  - 3. 1639
  - 4. 1681

Question Type : MCQ  
Question ID : 264330137933  
Option 1 ID : 264330540341  
Option 2 ID : 264330540340  
Option 3 ID : 264330540342  
Option 4 ID : 264330540339  
Status : Answered  
Chosen Option : 1

Q.18 निम्नलिखित में से किस अनुच्छेद में "शोषण के विरुद्ध अधिकार" का उल्लेख है?

- Ans
- 1. अनुच्छेद 29 - 30
  - 2. अनुच्छेद 25 - 28
  - 3. अनुच्छेद 23 - 24
  - 4. अनुच्छेद 32 - 35

Question Type : MCQ  
Question ID : 264330138308  
Option 1 ID : 264330541840  
Option 2 ID : 264330541841  
Option 3 ID : 264330541839  
Option 4 ID : 264330541842  
Status : Answered  
Chosen Option : 3

Q.19 लौह स्तंभ निम्नलिखित में से किस जगह स्थित है?

- Ans
- 1. कोलकाता
  - 2. दिल्ली
  - 3. चेन्नई
  - 4. जयपुर

Question Type : MCQ  
Question ID : 264330133858  
Option 1 ID : 264330524455  
Option 2 ID : 264330524456  
Option 3 ID : 264330524457  
Option 4 ID : 264330524458  
Status : Answered  
Chosen Option : 4

Q.20 अरुणाचल प्रदेश का तापू नृत्य (Tapu dance) \_\_\_\_\_ के सदस्यों द्वारा किया जाता है।

- Ans
- 1. गरसिया जनजाति (Garasia Tribe)
  - 2. आदि जनजाति (Adi Tribe)
  - 3. मुंडा जनजाति (Munda tribe)
  - 4. डामोर जनजाति (Damor Tribe)

Question Type : MCQ  
Question ID : 264330138296  
Option 1 ID : 264330541794  
Option 2 ID : 264330541792  
Option 3 ID : 264330541791  
Option 4 ID : 264330541793  
Status : Not Answered  
Chosen Option : --

Q.21 निम्नलिखित में से कौन-सी एक अधातु है जो विभिन्न रूपों में पाई जाती है?

- Ans
- 1. कार्बन
  - 2. पोटैशियम
  - 3. पारा
  - 4. लीथियम

Question Type : MCQ  
Question ID : 264330137924  
Option 1 ID : 264330540303  
Option 2 ID : 264330540305  
Option 3 ID : 264330540306  
Option 4 ID : 264330540304  
Status : Answered  
Chosen Option : 1

Q.22 फूल के अंतरतम भाग को \_\_\_\_\_ कहा जाता है।

- Ans
- 1. बाह्यदल
  - 2. पुंकेसर
  - 3. पंखुड़ियाँ
  - 4. स्त्रीकेसर

Question Type : MCQ

Question ID : 264330138309

Option 1 ID : 264330541844

Option 2 ID : 264330541846

Option 3 ID : 264330541845

Option 4 ID : 264330541843

Status : Answered

Chosen Option : 4

Q.23 "भारत के सर्वोच्च न्यायालय" के स्थान से संबंधित प्रावधानों का उल्लेख किस अनुच्छेद में किया गया है?

- Ans
- 1. अनुच्छेद 129
  - 2. अनुच्छेद 131
  - 3. अनुच्छेद 132
  - 4. अनुच्छेद 130

Question Type : MCQ

Question ID : 264330134605

Option 1 ID : 264330527375

Option 2 ID : 264330527377

Option 3 ID : 264330527378

Option 4 ID : 264330527376

Status : Not Answered

Chosen Option : --

Q.24 अल्ला रक्खा ने 12 साल की उम्र में महान गुरु (उस्ताद) मियां कादिर बख्श की शागिर्दी में एक संगीत वाद्ययंत्र सीखने के लिए घर छोड़ दिया था। वह \_\_\_\_\_ के एक प्रसिद्ध वादक बने।

- Ans
- 1. सरोद
  - 2. तबला
  - 3. सारंगी
  - 4. सितार

Question Type : MCQ

Question ID : 264330138302

Option 1 ID : 264330541815

Option 2 ID : 264330541817

Option 3 ID : 264330541818

Option 4 ID : 264330541816

Status : Answered

Chosen Option : 2

Q.25 भारतीय सीमाओं पर सड़कों के विकास और अनुरक्षण के लिए कौन-सा संगठन जिम्मेदार है?

- Ans
- 1. पूर्वी सड़क मार्ग संगठन
  - 2. राष्ट्रीय हरित राजमार्ग परियोजना
  - 3. सीमा सड़क संगठन
  - 4. पश्चिमी सड़क मार्ग संगठन

Question Type : MCQ  
Question ID : 264330134065  
Option 1 ID : 264330525285  
Option 2 ID : 264330525284  
Option 3 ID : 264330525283  
Option 4 ID : 264330525286  
Status : Answered  
Chosen Option : 3

Section : English Language and Comprehension

Q.1 Identify the segment that contains a grammatical error. If there is no error, select 'No error'.

Even if a evidence was / relevant to the case, it couldn't / be used to determine the reprobate.

- Ans
- 1. be used to determine the reprobate.
  - 2. relevant to the case, it couldn't
  - 3. No error
  - 4. Even if a evidence was,

Question Type : MCQ  
Question ID : 264330136667  
Option 1 ID : 264330535389  
Option 2 ID : 264330535388  
Option 3 ID : 264330535390  
Option 4 ID : 264330535387  
Status : Answered  
Chosen Option : 4

Q.2 Select the most appropriate antonym to substitute the bracketed word in the given sentence.

For years he pursued a (vendetta) against the Morris family.

- Ans
- 1. traduce
  - 2. conflict
  - 3. tirade
  - 4. harmony

Question Type : MCQ  
Question ID : 264330136684  
Option 1 ID : 264330535454  
Option 2 ID : 264330535452  
Option 3 ID : 264330535453  
Option 4 ID : 264330535451  
Status : Answered  
Chosen Option : 4

**Q.3** Select the most appropriate meaning of the bracketed idiom in the given sentence.

With one goal remaining, they weren't (out of the woods) just yet.

- Ans**
- 1. Between two dangers
  - 2. Without hope
  - 3. Free from difficulties and dangers
  - 4. Under his control

Question Type : **MCQ**  
Question ID : **264330136686**  
Option 1 ID : **264330535460**  
Option 2 ID : **264330535459**  
Option 3 ID : **264330535461**  
Option 4 ID : **264330535462**  
Status : **Answered**  
Chosen Option : **3**

**Q.4** Improve the underlined part of the sentence. Choose 'No improvement' as an answer if the sentence is grammatically correct.

In the summer, the weathering can be very hot around here.

- Ans**
- 1. weathers could being
  - 2. weather is be
  - 3. weather can be
  - 4. No improvement

Question Type : **MCQ**  
Question ID : **264330135208**  
Option 1 ID : **264330529761**  
Option 2 ID : **264330529759**  
Option 3 ID : **264330529760**  
Option 4 ID : **264330529762**  
Status : **Answered**  
Chosen Option : **3**

**Q.5** Select the wrongly spelt word.

- Ans**
- 1. Discripancy
  - 2. Indispensable
  - 3. Tyranny
  - 4. Pastime

Question Type : **MCQ**  
Question ID : **264330135790**  
Option 1 ID : **264330532038**  
Option 2 ID : **264330532037**  
Option 3 ID : **264330532035**  
Option 4 ID : **264330532036**  
Status : **Answered**  
Chosen Option : **2**

Q.6 Select the most appropriate word for the given group of words.

The sound of owls

- Ans  1. Hoot  
 2. Croak  
 3. Honk  
 4. Neigh

Question Type : MCQ  
Question ID : 264330136305  
Option 1 ID : 264330533998  
Option 2 ID : 264330533995  
Option 3 ID : 264330533996  
Option 4 ID : 264330533997  
Status : Answered  
Chosen Option : 1

Q.7 Select the most appropriate synonym of the given word.

Virtuoso

- Ans  1. Waive  
 2. Maestro  
 3. Novice  
 4. Voluble

Question Type : MCQ  
Question ID : 264330136681  
Option 1 ID : 264330535439  
Option 2 ID : 264330535441  
Option 3 ID : 264330535442  
Option 4 ID : 264330535440  
Status : Answered  
Chosen Option : 2

Q.8 Find the part of the given sentence that has an error in it. If there is no error, choose 'No error'.

She never did apologized for her misconduct with the boss.

- Ans  1. for her misconduct  
 2. No error  
 3. with the boss.  
 4. She never did apologized

Question Type : MCQ  
Question ID : 264330134295  
Option 1 ID : 264330526176  
Option 2 ID : 264330526178  
Option 3 ID : 264330526177  
Option 4 ID : 264330526175  
Status : Answered  
Chosen Option : 4

Q.9 Select the most appropriate word for the given group of words.

Rights to vote in an election

- Ans
- 1. Orchard
  - 2. Suffrage
  - 3. Propaganda
  - 4. Potable

Question Type : **MCQ**  
Question ID : **264330136680**  
Option 1 ID : **264330535438**  
Option 2 ID : **264330535436**  
Option 3 ID : **264330535435**  
Option 4 ID : **264330535437**  
Status : **Answered**  
Chosen Option : **2**

Q.10 Select the most appropriate option to fill in the blank.

Obesity is also a progressive condition, unlike anorexia nervosa, which tends to \_\_\_\_\_ with age.

- Ans
- 1. struggle
  - 2. negate
  - 3. ameliorate
  - 4. inebriate

Question Type : **MCQ**  
Question ID : **264330136671**  
Option 1 ID : **264330535405**  
Option 2 ID : **264330535406**  
Option 3 ID : **264330535403**  
Option 4 ID : **264330535404**  
Status : **Not Answered**  
Chosen Option : **--**

Q.11 Select the most appropriate option to fill in the blank.

In my view, this falls within the exception permitting warrantless seizure in \_\_\_\_\_ circumstances.

- Ans
- 1. exigent
  - 2. reverent
  - 3. sparse
  - 4. recondite

Question Type : **MCQ**  
Question ID : **264330136690**  
Option 1 ID : **264330535476**  
Option 2 ID : **264330535477**  
Option 3 ID : **264330535478**  
Option 4 ID : **264330535475**  
Status : **Not Answered**  
Chosen Option : **--**

**Q.12** Select the word segment that substitutes (replaces) the bracketed word segment correctly and completes the sentence meaningfully. Select the option 'no correction required' if the sentence is correct as given.  
(Their heads were) dragonish, and their pupil-less eyes white and staring.

- Ans**
- 1. Their heads was
  - 2. There heads were
  - 3. No correction required
  - 4. Their head were

Question Type : **MCQ**  
Question ID : **264330136696**  
Option 1 ID : **264330535500**  
Option 2 ID : **264330535499**  
Option 3 ID : **264330535502**  
Option 4 ID : **264330535501**  
Status : **Answered**  
Chosen Option : **4**

**Q.13** Improve the underlined part of the sentence. Choose 'No improvement' as an answer if the sentence is grammatically correct.

Fishermen make their lives from the sea.

- Ans**
- 1. their live
  - 2. No improvement
  - 3. his living
  - 4. there livings

Question Type : **MCQ**  
Question ID : **264330136798**  
Option 1 ID : **264330535893**  
Option 2 ID : **264330535894**  
Option 3 ID : **264330535891**  
Option 4 ID : **264330535892**  
Status : **Answered**  
Chosen Option : **1**

**Q.14** Find the part of the given sentence that has an error in it. If there is no error, choose 'No error'.  
Some realistic estimate will be knew after advance tax collection figures are out.

- Ans**
- 1. No error
  - 2. tax collection figures are out.
  - 3. be knew after advance
  - 4. Some realistic estimate will

Question Type : **MCQ**  
Question ID : **264330136795**  
Option 1 ID : **264330535882**  
Option 2 ID : **264330535881**  
Option 3 ID : **264330535880**  
Option 4 ID : **264330535879**  
Status : **Answered**  
Chosen Option : **3**

Q.15 Select the most appropriate meaning of the given idiom.

Far and wide

- Ans
- 1. Equal opportunity to all
  - 2. Divided into two equal parts
  - 3. Not frequent, unusual, rare
  - 4. Present everywhere

Question Type : MCQ  
Question ID : 264330136311  
Option 1 ID : 264330534019  
Option 2 ID : 264330534021  
Option 3 ID : 264330534020  
Option 4 ID : 264330534022  
Status : Answered  
Chosen Option : 4

Q.16 Choose the word that is opposite in meaning to the given word.  
Adhere

- Ans
- 1. Approve
  - 2. Establish
  - 3. Compel
  - 4. Condemn

Question Type : MCQ  
Question ID : 264330134338  
Option 1 ID : 264330526339  
Option 2 ID : 264330526340  
Option 3 ID : 264330526342  
Option 4 ID : 264330526341  
Status : Answered  
Chosen Option : 4

Q.17 Select the most appropriate option to fill in the blank.  
Sitting at the computer I saw something large and dark fall past my \_\_\_\_\_ vision followed by a dull thwack.

- Ans
- 1. peripheral
  - 2. central
  - 3. external
  - 4. incidental

Question Type : MCQ  
Question ID : 264330135800  
Option 1 ID : 264330532076  
Option 2 ID : 264330532078  
Option 3 ID : 264330532077  
Option 4 ID : 264330532075  
Status : Answered  
Chosen Option : 1

**Q.18** Select the most appropriate synonym to substitute the bracketed word in the given sentence.  
If you think atheists are all miserable, (nihilistic) amoralists, this book should put you straight.

- Ans**
- ✓ 1. cynical
  - ✗ 2. tyrannical
  - ✗ 3. conical
  - ✗ 4. canonical

Question Type : **MCQ**  
Question ID : **264330135810**  
Option 1 ID : **264330532114**  
Option 2 ID : **264330532113**  
Option 3 ID : **264330532111**  
Option 4 ID : **264330532112**  
Status : **Answered**  
Chosen Option : **1**

**Q.19** Fill in the blank with the most appropriate choice  
At the \_\_\_\_\_ of the century the early evangelistic zeal of the chief Protestant denominations had notably lessened.

- Ans**
- ✗ 1. final
  - ✗ 2. ante
  - ✗ 3. angst
  - ✓ 4. end

Question Type : **MCQ**  
Question ID : **264330135791**  
Option 1 ID : **264330532041**  
Option 2 ID : **264330532040**  
Option 3 ID : **264330532039**  
Option 4 ID : **264330532042**  
Status : **Answered**  
Chosen Option : **4**

**Q.20** Select the correctly spelt word.

- Ans**
- ✓ 1. Intensity
  - ✗ 2. Intansity
  - ✗ 3. Intencity
  - ✗ 4. Inteansity

Question Type : **MCQ**  
Question ID : **264330136687**  
Option 1 ID : **264330535463**  
Option 2 ID : **264330535466**  
Option 3 ID : **264330535464**  
Option 4 ID : **264330535465**  
Status : **Answered**  
Chosen Option : **1**

**Comprehension:**

In the following passage some of the words have been deleted. Read the passage carefully and select the correct answer for the given blank out of the four alternatives.

As an industrial solvent, pyridine is used in a (1) \_\_\_\_\_ range of manufacturing processes. It is also a by-product of coking coal, a crucial (2) \_\_\_\_\_ for steel production. The Tees area was home to both steel and chemical (3) \_\_\_\_\_ and the discharge of contaminated effluent (4) \_\_\_\_\_ the river and surrounding wetlands has been (5) \_\_\_\_\_ practice, often with minimal or no treatment.

**SubQuestion No : 21**

**Q.21** Select the most appropriate option to fill in blank number 1.

- Ans  1. wide  
 2. widely  
 3. wider  
 4. widest

Question Type : **MCQ**

Question ID : **264330134329**

Option 1 ID : **264330526305**

Option 2 ID : **264330526304**

Option 3 ID : **264330526306**

Option 4 ID : **264330526303**

Status : **Answered**

Chosen Option : **2**

**Comprehension:**

In the following passage some of the words have been deleted. Read the passage carefully and select the correct answer for the given blank out of the four alternatives.

As an industrial solvent, pyridine is used in a (1) \_\_\_\_\_ range of manufacturing processes. It is also a by-product of coking coal, a crucial (2) \_\_\_\_\_ for steel production. The Tees area was home to both steel and chemical (3) \_\_\_\_\_ and the discharge of contaminated effluent (4) \_\_\_\_\_ the river and surrounding wetlands has been (5) \_\_\_\_\_ practice, often with minimal or no treatment.

**SubQuestion No : 22**

**Q.22** Select the most appropriate option to fill in blank number 2.

- Ans  1. desire  
 2. load  
 3. code  
 4. input

Question Type : **MCQ**

Question ID : **264330134330**

Option 1 ID : **264330526308**

Option 2 ID : **264330526310**

Option 3 ID : **264330526307**

Option 4 ID : **264330526309**

Status : **Answered**

Chosen Option : **4**

**Comprehension:**

In the following passage some of the words have been deleted. Read the passage carefully and select the correct answer for the given blank out of the four alternatives.

As an industrial solvent, pyridine is used in a (1) \_\_\_\_\_ range of manufacturing processes. It is also a by-product of coking coal, a crucial (2) \_\_\_\_\_ for steel production. The Tees area was home to both steel and chemical (3) \_\_\_\_\_ and the discharge of contaminated effluent (4) \_\_\_\_\_ the river and surrounding wetlands has been (5) \_\_\_\_\_ practice, often with minimal or no treatment.

**SubQuestion No : 23**

**Q.23** Select the most appropriate option to fill in blank number 3.

- Ans
- 1. monopoly
  - 2. salutation
  - 3. industries
  - 4. fabrication

Question Type : **MCQ**

Question ID : **264330134331**

Option 1 ID : **264330526311**

Option 2 ID : **264330526314**

Option 3 ID : **264330526312**

Option 4 ID : **264330526313**

Status : **Answered**

Chosen Option : **3**

**Comprehension:**

In the following passage some of the words have been deleted. Read the passage carefully and select the correct answer for the given blank out of the four alternatives.

As an industrial solvent, pyridine is used in a (1) \_\_\_\_\_ range of manufacturing processes. It is also a by-product of coking coal, a crucial (2) \_\_\_\_\_ for steel production. The Tees area was home to both steel and chemical (3) \_\_\_\_\_ and the discharge of contaminated effluent (4) \_\_\_\_\_ the river and surrounding wetlands has been (5) \_\_\_\_\_ practice, often with minimal or no treatment.

**SubQuestion No : 24**

**Q.24** Select the most appropriate option to fill in blank number 4.

- Ans
- 1. into
  - 2. in
  - 3. on
  - 4. to

Question Type : **MCQ**

Question ID : **264330134332**

Option 1 ID : **264330526318**

Option 2 ID : **264330526316**

Option 3 ID : **264330526317**

Option 4 ID : **264330526315**

Status : **Answered**

Chosen Option : **2**

**Comprehension:**

In the following passage some of the words have been deleted. Read the passage carefully and select the correct answer for the given blank out of the four alternatives.

As an industrial solvent, pyridine is used in a (1) \_\_\_\_\_ range of manufacturing processes. It is also a by-product of coking coal, a crucial (2) \_\_\_\_\_ for steel production. The Tees area was home to both steel and chemical (3) \_\_\_\_\_ and the discharge of contaminated effluent (4) \_\_\_\_\_ the river and surrounding wetlands has been (5) \_\_\_\_\_ practice, often with minimal or no treatment.

**SubQuestion No : 25**

**Q.25** Select the most appropriate option to fill in blank number 5.

- Ans
- 1. maniac
  - 2. ruckus
  - 3. common
  - 4. bogus

Question Type : **MCQ**

Question ID : **264330134333**

Option 1 ID : **264330526319**

Option 2 ID : **264330526320**

Option 3 ID : **264330526322**

Option 4 ID : **264330526321**

Status : **Answered**

Chosen Option : **4**