

Multi Tasking Non Technical Staff and Havaldar CBIC and CBN Examination 2022

Roll Number	
Candidate Name	
Venue Name	ANAND INTERNATIONAL COLLEGE OF ENGINEERING JAIPUR
Exam Date	12/05/2023
Exam Time	12:00 PM - 2:00 PM
Subject	MTS Non Tech Havaldar CBIC and CBN Examination 2022

Section : Numerical and Mathematical Ability

Q.1 10 cm लंबाई के एक रेखाखंड को मापते समय गलती से उसे 10.2 cm नाप लिया गया, माप में प्रतिशत त्रुटि कितनी है?

- Ans
- 1. 1%
 - 2. 0.2%
 - 3. 0.5%
 - 4. 2%

Question Type : MCQ

Question ID : 264330138352

Option 1 ID : 264330542015

Option 2 ID : 264330542017

Option 3 ID : 264330542018

Option 4 ID : 264330542016

Status : Answered

Chosen Option : 4

Q.2 44, 10 और 5 के लघुत्तम समापवर्त्य (LCM) तथा 50 और 75 के महत्तम समापवर्तक (HCF) का अनुपात ज्ञात कीजिए।

- Ans
- 1. 45 : 7
 - 2. 50 : 3
 - 3. 15 : 2
 - 4. 44 : 5

Question Type : MCQ

Question ID : 264330135066

Option 1 ID : 264330529200

Option 2 ID : 264330529201

Option 3 ID : 264330529202

Option 4 ID : 264330529199

Status : Answered

Chosen Option : 4

Q.3 $2[2.75 \times 2.75 + 1.25 \times 1.25]$ का मान क्या है?

- Ans
- 1. 15.75
 - 2. 18.25
 - 3. 17.50
 - 4. 19.75

Question Type : MCQ

Question ID : 264330137682

Option 1 ID : 264330539335

Option 2 ID : 264330539337

Option 3 ID : 264330539336

Option 4 ID : 264330539338

Status : Answered

Chosen Option : 2

Q.4 एक समूह में 1200 पुरुष हैं। उनके पास 80 दिन का खाना है। 5 दिनों के बाद, 400 पुरुषों ने समूह छोड़ दिया। बचा हुआ खाना कितने दिनों तक चलेगा?

- Ans
- 1. 110.5 दिन
 - 2. 140.8 दिन
 - 3. 125 दिन
 - 4. 112.5 दिन

Question Type : MCQ

Question ID : 264330137666

Option 1 ID : 264330539273

Option 2 ID : 264330539274

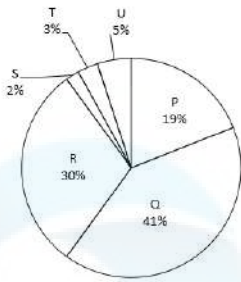
Option 3 ID : 264330539271

Option 4 ID : 264330539272

Status : Answered

Chosen Option : 4

Q.5 नीचे दिए गए वृत्त आलेख में 6 अलग-अलग कारखानों के उत्पादन को दर्शाया गया है। इन सभी 6 कारखानों का कुल उत्पादन 17000 है। इनमें से किसी एक विशिष्ट कारखाने के उत्पादन को इन सभी 6 कारखानों के कुल उत्पादन के प्रतिशत के रूप में दर्शाया गया है।



निम्नलिखित में से कौन-सा कथन सही नहीं है?

- I. P और R के कुल उत्पादन तथा Q और U के कुल उत्पादन का अनुपात 49 : 46 है।
- II. S और T का कुल उत्पादन, P और Q के कुल उत्पादन से 91.66 प्रतिशत अधिक है।

Ans

- ✓ 1. केवल II
 ✗ 2. न तो I और न ही II
 ✗ 3. केवल I
 ✗ 4. I और II दोनों

Question Type : MCQ

Question ID : 264330137622

Option 1 ID : 264330539096

Option 2 ID : 264330539098

Option 3 ID : 264330539095

Option 4 ID : 264330539097

Status : Answered

Chosen Option : 1

Q.6 नाव द्वारा धारा के प्रतिकूल x किमी की दूरी तय करने में लिया गया समय, नाव द्वारा धारा के अनुकूल समान दूरी तय करने में लिए गए समय से 3 घंटे अधिक है। धारा के प्रतिकूल नाव की चाल 8 km/hr है।

निम्नलिखित में से कौन-सा/से कथन सही है/हैं?

- I. यदि x का मान 48 km है, तो धारा के अनुकूल नाव की चाल 16 km/hr है।
- II. यदि धारा के अनुकूल नाव की चाल 12 km/hr है, तो x का मान 48 km है।

Ans

- ✓ 1. केवल I
 ✗ 2. केवल II
 ✗ 3. I और II दोनों
 ✗ 4. न तो I और न ही II

Question Type : MCQ

Question ID : 264330137605

Option 1 ID : 264330539027

Option 2 ID : 264330539028

Option 3 ID : 264330539030

Option 4 ID : 264330539029

Status : Answered

Chosen Option : 4

Q.7 नीचे दी गई तालिका में विभिन्न कंपनियों द्वारा किए गए टेलीविज़न और फ्रिज के उत्पादन को दर्शाया गया है।

कंपनी	टेलीविज़न	फ्रिज
A	60	80
B	50	30
C	40	20
D	30	50
E	70	35

J1 = D और E द्वारा फ्रिज के औसत उत्पादन का मान।

J2 = सभी कंपनियों द्वारा टेलीविज़न और फ्रिज का कुल उत्पादन।

(J2 - J1) का मान क्या है?

- Ans
- 1. 456.2
 - 2. 422.5
 - 3. 314.5
 - 4. 465

Question Type : MCQ

Question ID : 264330137683

Option 1 ID : 264330539341

Option 2 ID : 264330539340

Option 3 ID : 264330539342

Option 4 ID : 264330539339

Status : Answered

Chosen Option : 2

Q.8 यदि $p : q = 7 : 5$, तो $\frac{(p^2+q^2)}{(p^2-q^2)}$ का मान क्या है?

- Ans
- 1. 48/7
 - 2. 37/12
 - 3. 38/5
 - 4. 36/11

Question Type : MCQ

Question ID : 264330137611

Option 1 ID : 264330539053

Option 2 ID : 264330539054

Option 3 ID : 264330539052

Option 4 ID : 264330539051

Status : Answered

Chosen Option : 2

Q.9 एक शंकु की ऊँचाई 12 cm है और इसके आधार की त्रिज्या 14 cm है। शंकु का आयतन क्या है?

- Ans
- 1. 2872 cm³
 - 2. 2248 cm³
 - 3. 2464 cm³
 - 4. 2692 cm³

Question Type : MCQ

Question ID : 264330137335

Option 1 ID : 264330537968

Option 2 ID : 264330537969

Option 3 ID : 264330537967

Option 4 ID : 264330537970

Status : Answered

Chosen Option : 3

Q.10 दिनेश समान दूरी की चार यात्राएँ करता है। पहली यात्रा में उसकी चाल 140 km/hr थी और बाद की प्रत्येक यात्रा में उसकी चाल पिछली यात्रा की चाल से आधी थी। इन चारों यात्राओं में दिनेश की औसत चाल क्या है?

- Ans
- 1. $(124/3)$ km/hr
 - 2. 44 km/hr
 - 3. 40 km/hr
 - 4. $(112/3)$ km/hr

Question Type : MCQ
Question ID : 264330137156
Option 1 ID : 264330537270
Option 2 ID : 264330537269
Option 3 ID : 264330537267
Option 4 ID : 264330537268
Status : Answered
Chosen Option : 4

Q.11 कृष्णा 6 घंटे में बिंदु A से बिंदु B तक यात्रा करता है और 5 घंटे में बिंदु B से बिंदु A पर वापस आता है। बिंदु A और बिंदु B एक सीधे राजमार्ग पर एक-दूसरे से 220 मील दूर हैं। पूरी यात्रा में कृष्णा की औसत चाल क्या है?

- Ans
- 1. 22 मील/घंटा
 - 2. 50 मील/घंटा
 - 3. 40 मील/घंटा
 - 4. 44 मील/घंटा

Question Type : MCQ
Question ID : 264330138704
Option 1 ID : 264330543425
Option 2 ID : 264330543426
Option 3 ID : 264330543424
Option 4 ID : 264330543423
Status : Answered
Chosen Option : 3

Q.12 Rs. 16400 पर 1 वर्ष के लिए अर्धवार्षिक रूप से संयोजित 9% वार्षिक चक्रवृद्धि ब्याज कितना है?

- Ans
- 1. Rs.1608.20
 - 2. Rs.1640.40
 - 3. Rs.1680.90
 - 4. Rs.1509.21

Question Type : MCQ
Question ID : 264330138359
Option 1 ID : 264330542043
Option 2 ID : 264330542046
Option 3 ID : 264330542045
Option 4 ID : 264330542044
Status : Answered
Chosen Option : 2

Q.13 यदि 10 प्रतिशत और 20 प्रतिशत की दो क्रमागत छूट दी जाती है, तो निवल छूट कितनी है?

- Ans
- ✓ 1. 28 प्रतिशत
 - ✗ 2. 20 प्रतिशत
 - ✗ 3. 22 प्रतिशत
 - ✗ 4. 25 प्रतिशत

Question Type : MCQ
Question ID : 264330137615
Option 1 ID : 264330539068
Option 2 ID : 264330539069
Option 3 ID : 264330539067
Option 4 ID : 264330539070
Status : Answered
Chosen Option : 1

Q.14 15 संख्याओं का औसत 45 है। एक और संख्या जोड़ने पर नया औसत 50 हो जाता है। वह नई संख्या क्या है?

- Ans
- ✓ 1. 125
 - ✗ 2. 105
 - ✗ 3. 115
 - ✗ 4. 118

Question Type : MCQ
Question ID : 264330137606
Option 1 ID : 264330539032
Option 2 ID : 264330539033
Option 3 ID : 264330539031
Option 4 ID : 264330539034
Status : Answered
Chosen Option : 1

Q.15 एक व्यापारी अपने माल को क्रय मूल्य से 44% अधिक मूल्य पर अंकित करता है। फिर वह उस पर 50% का बट्टा देता है, तो उसका हानि प्रतिशत कितना होगा?

- Ans
- ✓ 1. 28%
 - ✗ 2. 26%
 - ✗ 3. 25%
 - ✗ 4. 32%

Question Type : MCQ
Question ID : 264330138397
Option 1 ID : 264330542195
Option 2 ID : 264330542198
Option 3 ID : 264330542197
Option 4 ID : 264330542196
Status : Answered
Chosen Option : 1

Q.16 एक पहिए की त्रिज्या 21 cm है। 20 चक्करों में पहिए द्वारा तय की गई दूरी (cm में) कितनी होगी?

- Ans
- ✓ 1. 2640 cm
 - ✗ 2. 1500 cm
 - ✗ 3. 1440 cm
 - ✗ 4. 2100 cm

Question Type : MCQ

Question ID : 264330133794

Option 1 ID : 264330524199

Option 2 ID : 264330524201

Option 3 ID : 264330524200

Option 4 ID : 264330524202

Status : Answered

Chosen Option : 1

Q.17 विजय Rs. 13 प्रति दर्जन की दर से केले बेचता है और 30 प्रतिशत का लाभ अर्जित करता है। केले के क्रय मूल्य में 10 प्रतिशत की वृद्धि हो जाती है। यदि विक्रय मूल्य वही रहता है, तो उसका नया लाभ प्रतिशत क्या है?

- Ans
- ✗ 1. 12.5 प्रतिशत
 - ✗ 2. 16.66 प्रतिशत
 - ✗ 3. 14.28 प्रतिशत
 - ✓ 4. 18.18 प्रतिशत

Question Type : MCQ

Question ID : 264330137610

Option 1 ID : 264330539047

Option 2 ID : 264330539049

Option 3 ID : 264330539048

Option 4 ID : 264330539050

Status : Answered

Chosen Option : 1

Q.18 एक त्रिभुज की भुजाएँ 6 cm, 8 cm और 10 cm हैं। त्रिभुज का क्षेत्रफल कितना है?

- Ans
- ✗ 1. 28 cm^2
 - ✓ 2. 24 cm^2
 - ✗ 3. 20 cm^2
 - ✗ 4. 16 cm^2

Question Type : MCQ

Question ID : 264330137679

Option 1 ID : 264330539324

Option 2 ID : 264330539326

Option 3 ID : 264330539325

Option 4 ID : 264330539323

Status : Answered

Chosen Option : 2

Q.19 Rs. 6000 को P, Q और R के बीच 5 : 7 : 8 के अनुपात में बाँटा जाना था। वृत्तिवश इसे P, Q और R के बीच 9 : 7 : 4 के अनुपात में बाँट दिया गया। इस बाँटवारे में R को कितनी राशि की हानि हुई?

- Ans
- 1. Rs. 600
 - 2. Rs. 1200
 - 3. Rs. 900
 - 4. Rs. 300

Question Type : MCQ
Question ID : 264330137612
Option 1 ID : 264330539055
Option 2 ID : 264330539057
Option 3 ID : 264330539056
Option 4 ID : 264330539058
Status : Answered
Chosen Option : 2

Q.20 10, 12 और 15 का लघुत्तम समापवर्त्य क्या है?

- Ans
- 1. 120
 - 2. 30
 - 3. 180
 - 4. 60

Question Type : MCQ
Question ID : 264330137618
Option 1 ID : 264330539080
Option 2 ID : 264330539081
Option 3 ID : 264330539079
Option 4 ID : 264330539082
Status : Answered
Chosen Option : 4

Section : Reasoning Ability and Problem Solving

Q.1 दी गई दो संख्याओं को आपस में बदलने पर दिए गए समीकरण का मान क्या होगा?

3 और 4 ; $3 \times 7 - 8 \div 2 + 4$

- Ans
- 1. 30
 - 2. 31
 - 3. 27
 - 4. 35

Question Type : MCQ
Question ID : 264330137532
Option 1 ID : 264330538736
Option 2 ID : 264330538737
Option 3 ID : 264330538735
Option 4 ID : 264330538738
Status : Answered
Chosen Option : 3

Q.2 एक निश्चित कूट भाषा में, 'NIGHT' को '96270' लिखा जाता है, 'OFTEN' को '87561' लिखा जाता है, 'PILOT' को '23745' लिखा जाता है। उस कूट भाषा में 'INF' को कैसे लिखा जाएगा?

- Ans
- 1. 269
 - 2. 264
 - 3. 268
 - 4. 257

Question Type : MCQ

Question ID : 264330137115

Option 1 ID : 264330537103

Option 2 ID : 264330537106

Option 3 ID : 264330537104

Option 4 ID : 264330537105

Status : Answered

Chosen Option : 1

Q.3 उस विकल्प को चुनिए जो पाँचवें पद से ठीक उसी प्रकार संबंधित है जिस प्रकार दूसरा पद पहले पद से संबंधित है और चौथा पद तीसरे पद से संबंधित है।

FOM : IJT :: HIT : KDA :: FBQ : ?

- Ans
- 1. JWX
 - 2. KXX
 - 3. IXX
 - 4. IWX

Question Type : MCQ

Question ID : 264330137518

Option 1 ID : 264330538680

Option 2 ID : 264330538681

Option 3 ID : 264330538682

Option 4 ID : 264330538679

Status : Answered

Chosen Option : 4

Q.4 उस विकल्प को चुनिए जो चौथे पद से ठीक उसी प्रकार संबंधित है जिस प्रकार पहला पद दूसरे पद से संबंधित है और पाँचवा पद छठे पद से संबंधित है।

AKV : ZIS :: ? : ENI :: PQR : OOO

- Ans
- 1. FOL
 - 2. EQL
 - 3. FPL
 - 4. EPL

Question Type : MCQ

Question ID : 264330137517

Option 1 ID : 264330538675

Option 2 ID : 264330538678

Option 3 ID : 264330538677

Option 4 ID : 264330538676

Status : Answered

Chosen Option : 3

Q.5 दी गई आकृति के उस सही दर्पण प्रतिबिंब को चुनिए, जो दर्पण MN को नीचे दर्शाए गए अनुसार रखने पर बनेगा।



M N

Ans

✗ 1.



✗ 2.



✗ 3.



✓ 4.



Question Type : MCQ

Question ID : 264330137601

Option 1 ID : 264330539012

Option 2 ID : 264330539013

Option 3 ID : 264330539011

Option 4 ID : 264330539014

Status : Answered

Chosen Option : 4

Q.6 सात लड़के राहुल, राम, रमेश, सोहन, साहिल, सोनू और मोनू एक वृत्ताकार मेज के चारों ओर केंद्र की ओर मुख करके बैठे हैं (परंतु जरूरी नहीं कि वे इसी क्रम में बैठें हों)। मोनू, सोनू के बाईं ओर से दूसरे स्थान पर है। सोनू, राहुल के बाईं ओर से दूसरे स्थान पर है। साहिल, सोनू का निकटतम पड़ोसी नहीं है। साहिल, राम के दाईं ओर से तीसरे स्थान पर है। सोहन, रमेश के दाईं ओर से तीसरे स्थान पर है। राहुल के बाईं ओर से तीसरे स्थान पर कौन है?

Ans ✗ 1. राम

✓ 2. सोहन

✗ 3. रमेश

✗ 4. साहिल

Question Type : MCQ

Question ID : 264330137523

Option 1 ID : 264330538701

Option 2 ID : 264330538702

Option 3 ID : 264330538699

Option 4 ID : 264330538700

Status : Answered

Chosen Option : 1

Q.7 उस विकल्प को चुनिए जिसमें समुच्चय की संख्याएँ वही संबंध साझा करती हैं जो दिए गए समुच्चय में संख्याओं द्वारा साझा किया जाता है। (ध्यान दें: संख्याओं को उनके घटक अंकों में अलग-अलग किए बिना, पूर्ण संख्याओं पर संक्रियाएँ की जानी चाहिए। उदा. 13 - 13 पर संक्रियाएँ जैसे 13 को जोड़ना /घटाना /गुणा करना आदि किया जा सकता है। 13 को 1 और 3 में अलग-अलग करने की और फिर 1 और 3 पर गणितीय संक्रियाएँ करने की अनुमति नहीं है)

(243, 81, 27)

(99, 33, 11)

- Ans
- 1. (27, 25, 23)
 - 2. (27, 20, 19)
 - 3. (27, 18, 9)
 - 4. (27, 9, 3)

Question Type : MCQ

Question ID : 264330137531

Option 1 ID : 264330538733

Option 2 ID : 264330538734

Option 3 ID : 264330538731

Option 4 ID : 264330538732

Status : Answered

Chosen Option : 4

Q.8 आठ सहेलियाँ मानसी, श्वेता, मोनिका, पायल, आरती, काजल, लक्ष्मी और रानी एक वृत्ताकार मेज के चारों ओर केंद्र की ओर मुख करके बैठी हैं (परंतु जरूरी नहीं कि वे इसी क्रम में बैठी हों)। मोनिका, काजल के दाईं ओर से दूसरे स्थान पर है। काजल, श्वेता के दाईं ओर से तीसरे स्थान पर है। पायल, श्वेता के ठीक बाईं ओर है। श्वेता, आरती के बाईं ओर से दूसरे स्थान पर है। लक्ष्मी, श्वेता के दाईं ओर से चौथे स्थान पर है। मानसी, श्वेता और आरती दोनों की निकटतम पड़ोसी हैं। मानसी के दाईं ओर से दूसरे स्थान पर कौन है?

- Ans
- 1. लक्ष्मी
 - 2. काजल
 - 3. आरती
 - 4. रानी

Question Type : MCQ

Question ID : 264330137524

Option 1 ID : 264330538703

Option 2 ID : 264330538706

Option 3 ID : 264330538704

Option 4 ID : 264330538705

Status : Answered

Chosen Option : 2

Q.9 किसी एक खास कूट भाषा में, 'MOTION' को '136435' लिखा जाता है और 'ONION' को '35435' लिखा जाता है। उस कूट भाषा में 'NOTION' को कैसे लिखा जाएगा?

- Ans
- 1. 352637
 - 2. 536435
 - 3. 534354
 - 4. 362434

Question Type : MCQ

Question ID : 264330133371

Option 1 ID : 264330522517

Option 2 ID : 264330522515

Option 3 ID : 264330522516

Option 4 ID : 264330522518

Status : Answered

Chosen Option : 2

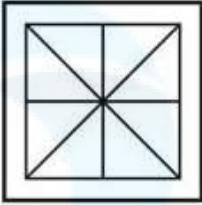
Q.10 उस विकल्प आकृति को चुनिए जिसमें दी गई आकृति (X) उसके भाग के रूप में निहित है (घूर्णन की अनुमति नहीं है)।



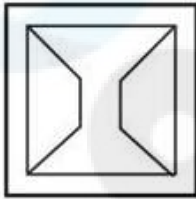
X

Ans

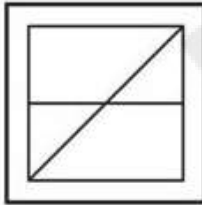
✓ 1.




✗ 2.



✗ 3.



✗ 4.



Question Type : MCQ

Question ID : 264330137600

Option 1 ID : 264330539010

Option 2 ID : 264330539007

Option 3 ID : 264330539009

Option 4 ID : 264330539008

Status : Answered

Chosen Option : 1

Q.11 कौन-सी उत्तर आकृति प्रश्न आकृति में दिए गए पैटर्न को पूरा करेगी?



Ans

✗ 1.



✗ 2.



✓ 3.



✗ 4.



Question Type : MCQ

Question ID : 264330137536

Option 1 ID : 264330538751

Option 2 ID : 264330538752

Option 3 ID : 264330538753

Option 4 ID : 264330538754

Status : Answered

Chosen Option : 3

Q.12 निम्नलिखित प्रश्न में कुछ कथन दिए गए हैं और उन कथनों के आधार पर कुछ निष्कर्ष दिए गए हैं। आपको यह मानना है कि दिए गए कथन सत्य हैं चाहे वे समान्यतः ज्ञात तथ्यों से अलग प्रतीत होते हों। सभी निष्कर्षों को पढ़िए और फिर निश्चय कीजिए कि दिए गए निष्कर्षों में से कौन-सा निष्कर्ष तार्किक रूप से दिए गए कथनों के अनुसार है।

कथन:

- I. कुछ लड़के, ताकतवर हैं।
- II कोई ताकतवर, कमजोर नहीं है।

निष्कर्ष:

- I. सभी ताकतवर, लड़के हैं।
- II सभी कमजोर, लड़के हैं।
- III सभी कमजोर, ताकतवर हैं।

- Ans
1. सभी निष्कर्ष कथनों के अनुसार हैं
 2. कोई भी निष्कर्ष कथनों के अनुसार नहीं है
 3. दोनों निष्कर्ष I और III कथनों के अनुसार हैं
 4. दोनों निष्कर्ष II और III कथनों के अनुसार हैं

Question Type : MCQ

Question ID : 264330137527

Option 1 ID : 264330538717

Option 2 ID : 264330538718

Option 3 ID : 264330538715

Option 4 ID : 264330538716

Status : Answered

Chosen Option : 2

Q.13 निम्नलिखित प्रश्न में, दी गई श्रृंखला में लुप्त संख्या को चुनिए।

0, 20, 40, 60, 80, ?

- Ans
1. 110
 2. 120
 3. 100
 4. 90

Question Type : MCQ

Question ID : 264330138468

Option 1 ID : 264330542480

Option 2 ID : 264330542482

Option 3 ID : 264330542479

Option 4 ID : 264330542481

Status : Answered

Chosen Option : 3

Q.14 उस विकल्प को चुनिए जो छठी संख्या से ठीक उसी प्रकार संबंधित है जिस प्रकार पहली संख्या दूसरी संख्या से संबंधित है और तीसरी संख्या चौथी संख्या से संबंधित है।

4 : 66 :: 8 : 514 :: ? : 345

Ans 1. 8

2. 11

3. 9

4. 7

Question Type : MCQ

Question ID : 264330138470

Option 1 ID : 264330542489

Option 2 ID : 264330542487

Option 3 ID : 264330542488

Option 4 ID : 264330542490

Status : Answered

Chosen Option : 4

Q.15 निम्नलिखित प्रश्न में कुछ कथन दिए गए हैं और उन कथनों के आधार पर कुछ निष्कर्ष दिए गए हैं। आपको यह मानना है कि दिए गए कथन सत्य हैं चाहे वे समान्यतः ज्ञात तथ्यों से अलग प्रतीत होते हों। सभी निष्कर्षों को पढ़िए और फिर निश्चय कीजिए कि दिए गए निष्कर्षों में से कौन-सा निष्कर्ष तार्किक रूप से दिए गए कथनों के अनुसार है।

कथन:

I. सभी B, M हैं।

II कुछ J, B हैं।

निष्कर्ष:

I. कुछ M, B नहीं हैं।

II कोई J, M नहीं है।

Ans 1. केवल निष्कर्ष I कथनों के अनुसार है

2. केवल निष्कर्ष II कथनों के अनुसार है

3. कोई भी निष्कर्ष कथनों के अनुसार नहीं है

4. दोनों निष्कर्ष I और II कथनों के अनुसार हैं

Question Type : MCQ

Question ID : 264330137526

Option 1 ID : 264330538711

Option 2 ID : 264330538712

Option 3 ID : 264330538714

Option 4 ID : 264330538713

Status : Answered

Chosen Option : 3

Q.16 एक श्रृंखला दी गई है जिसमें एक पद लुप्त है। दिए गए विकल्पों में से उस सही विकल्प को चुनिए जो श्रृंखला को पूरा करेगा।

FANY, JERC, NIVG, ?, VQDO

- Ans
- 1. RMYK
 - 2. RNYK
 - 3. RMMK
 - 4. RMZK

Question Type : MCQ
Question ID : 264330137515
Option 1 ID : 264330538667
Option 2 ID : 264330538669
Option 3 ID : 264330538668
Option 4 ID : 264330538670
Status : Answered
Chosen Option : 4

Q.17 एक निश्चित कूट भाषा में, 'PADM' को '5372' लिखा जाता है, 'AZDB' को '7209' लिखा जाता है, 'BALL' को '9766' लिखा जाता है। उस कूट भाषा में 'M' को कैसे लिखा जाएगा?

- Ans
- 1. 7
 - 2. 9
 - 3. 2
 - 4. 5

Question Type : MCQ
Question ID : 264330138566
Option 1 ID : 264330542874
Option 2 ID : 264330542873
Option 3 ID : 264330542872
Option 4 ID : 264330542871
Status : Answered
Chosen Option : 3

Q.18 निम्नलिखित प्रश्न में, दी गई श्रृंखला में लुप्त संख्या चुनिए।

30, 91, 274, 823, 2470, ?

- Ans
- 1. 7420
 - 2. 4580
 - 3. 7400
 - 4. 7411

Question Type : MCQ
Question ID : 264330137529
Option 1 ID : 264330538726
Option 2 ID : 264330538725
Option 3 ID : 264330538723
Option 4 ID : 264330538724
Status : Answered
Chosen Option : 4

Q.19 विवेक, लक्ष्मण, कमल, मोहन और रमेश नाम की पाँच कारों की चाल की तुलना की जाती है। विवेक की चाल केवल एक कार से अधिक है। रमेश की चाल, चार कारों से अधिक है। मोहन की चाल विवेक से अधिक लेकिन कमल और रमेश से कम है। कितनी कारों की चाल मोहन की चाल से कम है?

- Ans
- 1. 0
 - 2. 2
 - 3. 3
 - 4. 1

Question Type : MCQ

Question ID : 264330137525

Option 1 ID : 264330538710

Option 2 ID : 264330538707

Option 3 ID : 264330538708

Option 4 ID : 264330538709

Status : Answered

Chosen Option : 2

Q.20 एक निश्चित कूट भाषा में, 'SQUARE' को 'UQSERA' लिखा जाता है। उस भाषा में 'CAREER' को कैसे लिखा जाएगा?

- Ans
- 1. RCAREE
 - 2. RACREE
 - 3. EERACR
 - 4. RACERE

Question Type : MCQ

Question ID : 264330134958

Option 1 ID : 264330528769

Option 2 ID : 264330528767

Option 3 ID : 264330528768

Option 4 ID : 264330528770

Status : Answered

Chosen Option : 2

Section : General Awareness

Q.1 विशेष रूप से निर्मित पोखरों और तालाबों में मत्स्यपालन को _____ कहते हैं।

- Ans
- 1. विटिकल्चर (द्राक्षा कृषि)
 - 2. पिंसीकल्चर (मत्स्यपालन)
 - 3. सेरीकल्चर (रेशम उत्पादन)
 - 4. हॉर्टीकल्चर (उद्यान कृषि)

Question Type : MCQ

Question ID : 264330133873

Option 1 ID : 264330524516

Option 2 ID : 264330524517

Option 3 ID : 264330524515

Option 4 ID : 264330524518

Status : Answered

Chosen Option : 2

Q.2 शीतकालीन ओलंपिक खेल कितने वर्षों में आयोजित किए जाते हैं?

- Ans
- 1. हर पाँच वर्ष में
 - 2. हर तीन वर्ष में
 - 3. हर दो वर्ष में
 - 4. हर चार वर्ष में

Question Type : MCQ
Question ID : 264330137708
Option 1 ID : 264330539441
Option 2 ID : 264330539439
Option 3 ID : 264330539440
Option 4 ID : 264330539442
Status : Answered
Chosen Option : 3

Q.3 अटल पेंशन योजना (Atal Pension Yojana) के तहत, पेंशन रिटर्न, ग्राहक के (subscriber) _____ वर्ष का हो जाने के बाद दिया जाता है।

- Ans
- 1. 55
 - 2. 60
 - 3. 65
 - 4. 50

Question Type : MCQ
Question ID : 264330137686
Option 1 ID : 264330539352
Option 2 ID : 264330539354
Option 3 ID : 264330539351
Option 4 ID : 264330539353
Status : Not Answered
Chosen Option : --

Q.4 निम्नलिखित में से कौन-सी पादप कोशिका की एक विशेषता है?

- Ans
- 1. लवक अनुपस्थित होता है
 - 2. हरितलवक अनुपस्थित होता है
 - 3. छोटी केंद्रीय रसधानी
 - 4. इनमें कोशिका भित्ति पाई जाती है

Question Type : MCQ
Question ID : 264330137692
Option 1 ID : 264330539376
Option 2 ID : 264330539378
Option 3 ID : 264330539377
Option 4 ID : 264330539375
Status : Answered
Chosen Option : 4

Q.5 _____ वह प्रक्रिया है जिसमें प्राकृतिक रबर को अधिक मजबूत (durable) और लोचदार (elastic) बनाने के लिए सल्फर के साथ संसाधित किया जाता है।

- Ans
- 1. किण्वन (Fermentation)
 - 2. कार्बनीकरण (Carbonation)
 - 3. साबुनीकरण (Saponification)
 - 4. वल्कनीकरण (Vulcanisation)

Question Type : MCQ
Question ID : 264330138226
Option 1 ID : 264330541513
Option 2 ID : 264330541514
Option 3 ID : 264330541511
Option 4 ID : 264330541512
Status : Answered
Chosen Option : 4

Q.6 गारो जनजाति का संबंध भारत के किस क्षेत्र से है?

- Ans
- 1. दक्षिण पश्चिमी
 - 2. दक्षिणी
 - 3. पश्चिमी
 - 4. उत्तर पूर्वी

Question Type : MCQ
Question ID : 264330138266
Option 1 ID : 264330541673
Option 2 ID : 264330541672
Option 3 ID : 264330541671
Option 4 ID : 264330541674
Status : Answered
Chosen Option : 4

Q.7 ऐसी वस्तुएँ जो टिकाऊ प्रकृति की होती हैं और जिनका उत्पादन प्रक्रिया में उपयोग होता है, _____ कहलाती हैं।

- Ans
- 1. उपभोग वस्तुएँ (consumption goods)
 - 2. पूरक वस्तुएँ (complementary goods)
 - 3. वेब्लेन वस्तुएँ (veblen goods)
 - 4. पूँजीगत वस्तुएँ (capital goods)

Question Type : MCQ
Question ID : 264330133866
Option 1 ID : 264330524488
Option 2 ID : 264330524487
Option 3 ID : 264330524489
Option 4 ID : 264330524490
Status : Answered
Chosen Option : 2

Q.8 भारत के मुख्य न्यायाधीश की नियुक्ति कौन करता है?

- Ans
- 1. सर्वोच्च न्यायालय के न्यायाधीश
 - 2. राष्ट्रपति
 - 3. प्रधानमंत्री
 - 4. उप-राष्ट्रपति

Question Type : MCQ
Question ID : 264330137707
Option 1 ID : 264330539437
Option 2 ID : 264330539436
Option 3 ID : 264330539435
Option 4 ID : 264330539438
Status : Answered
Chosen Option : 2

Q.9 "गुरुपुरब" किस सिख गुरु की जयंती के रूप में मनाया जाता है?

- Ans
- 1. गुरु गोबिंद सिंह
 - 2. गुरु नानक देव
 - 3. गुरु अंगद
 - 4. गुरु अर्जन देव

Question Type : MCQ
Question ID : 264330134595
Option 1 ID : 264330527335
Option 2 ID : 264330527338
Option 3 ID : 264330527337
Option 4 ID : 264330527336
Status : Answered
Chosen Option : 1

Q.10 स्वर्गीय सरोजिनी नायडू को कौनसी उपाधि दी गई थी?

- Ans
- 1. भारत की कोकिला
 - 2. भारत की चील
 - 3. भारत की गौरैया
 - 4. भारत की हॉर्नबिल

Question Type : MCQ
Question ID : 264330137704
Option 1 ID : 264330539424
Option 2 ID : 264330539425
Option 3 ID : 264330539423
Option 4 ID : 264330539426
Status : Answered
Chosen Option : 1

Q.11 ऋतुसंहार (Ritusamhara) या छः ऋतुएँ संस्कृत साहित्य की एक उत्कृष्ट कृति है, जिसे _____ ने लिखा है।

- Ans
- ✓ 1. कालिदास
 - ✗ 2. हरिषेण
 - ✗ 3. तुलसीदास
 - ✗ 4. रवि कीर्ति

Question Type : MCQ
Question ID : 264330133861
Option 1 ID : 264330524470
Option 2 ID : 264330524469
Option 3 ID : 264330524467
Option 4 ID : 264330524468
Status : Not Answered
Chosen Option : --

Q.12 निम्नलिखित में से कौन एक कैलेंडर वर्ष में 1,000 टी20 अंतर्राष्ट्रीय रन बनाने वाले पहले भारतीय खिलाड़ी बने?

- Ans
- ✗ 1. विराट कोहली
 - ✗ 2. रोहित शर्मा
 - ✓ 3. सूर्यकुमार यादव
 - ✗ 4. ऋषभ पंत

Question Type : MCQ
Question ID : 264330138244
Option 1 ID : 264330541584
Option 2 ID : 264330541583
Option 3 ID : 264330541586
Option 4 ID : 264330541585
Status : Not Answered
Chosen Option : --

Q.13 रुक्मिणी देवी अरुंडेल को वर्ष _____ में 'पद्म भूषण' से सम्मानित किया गया था।

- Ans
- ✗ 1. 1964
 - ✗ 2. 1978
 - ✓ 3. 1956
 - ✗ 4. 1987

Question Type : MCQ
Question ID : 264330133863
Option 1 ID : 264330524478
Option 2 ID : 264330524475
Option 3 ID : 264330524476
Option 4 ID : 264330524477
Status : Not Answered
Chosen Option : --

Q.14 वायु गर्म करने पर _____ होती है और ठंडा करने पर _____ होती है।

- Ans
- 1. संकुचित, प्रसारित
 - 2. संकुचित, स्थिर
 - 3. प्रसारित, प्रसारित
 - 4. प्रसारित, संकुचित

Question Type : MCQ
Question ID : 264330134609
Option 1 ID : 264330527392
Option 2 ID : 264330527391
Option 3 ID : 264330527393
Option 4 ID : 264330527394
Status : Answered
Chosen Option : 4

Q.15 _____ बेरोज़गारी उस न्यूनतम बेरोज़गारी स्तर को कहते हैं, जिसे एक स्वस्थ अर्थव्यवस्था, मुद्रास्फीति पैदा किए बिना बनाए रख सकती है।

- Ans
- 1. प्रतिरोधात्मक
 - 2. प्रच्छन्न
 - 3. संरचनात्मक
 - 4. प्राकृतिक

Question Type : MCQ
Question ID : 264330134656
Option 1 ID : 264330527580
Option 2 ID : 264330527582
Option 3 ID : 264330527581
Option 4 ID : 264330527579
Status : Not Answered
Chosen Option : --

Q.16 निम्नलिखित मुगल सम्राटों में से किसने पादशाह की उपाधि धारण की थी?

- Ans
- 1. जहाँगीर
 - 2. हुमायूँ
 - 3. अकबर
 - 4. बाबर

Question Type : MCQ
Question ID : 264330138235
Option 1 ID : 264330541550
Option 2 ID : 264330541548
Option 3 ID : 264330541549
Option 4 ID : 264330541547
Status : Not Answered
Chosen Option : --

Q.17 एनी बेसेंट निम्नलिखित में से किस सामाजिक-धार्मिक आंदोलन से जुड़ी थीं?

- Ans
- ✓ 1. थियोसोफिकल सोसाइटी (Theosophical Society)
 - ✗ 2. आदि ब्रह्म समाज (Adi Brahma Samaj)
 - ✗ 3. तत्वबोधिनी सभा (Tattvabodhini Sabha)
 - ✗ 4. भारतीय सुधार संघ (Indian Reform Association)

Question Type : MCQ

Question ID : 264330137777

Option 1 ID : 264330539717

Option 2 ID : 264330539716

Option 3 ID : 264330539715

Option 4 ID : 264330539718

Status : Answered

Chosen Option : 1

Q.18 एंसो (ENSO) दाब की अवस्था में परिवर्तन से संबंधित परिघटना है। ENSO का पूर्ण रूप क्या है?

- Ans
- ✗ 1. एल नीनो साउथ ओकेजन (El Nino South Occasion)
 - ✗ 2. एल नीना साउथ ऑसिलेशन्स (El Nina South Oscillations)
 - ✗ 3. एल नीना सर्द ओकेजन्स (El Nina Southern Occasions)
 - ✓ 4. एल नीनो सर्द ऑसिलेशन (El Nino Southern Oscillation)

Question Type : MCQ

Question ID : 264330138229

Option 1 ID : 264330541525

Option 2 ID : 264330541526

Option 3 ID : 264330541524

Option 4 ID : 264330541523

Status : Not Answered

Chosen Option : --

Q.19 निम्नलिखित में से कौन-सा अम्ल नारियल के तेल में पाया जाता है?

- Ans
- ✗ 1. ऑक्सैलिक अम्ल (Oxalic Acid)
 - ✗ 2. इरुसिक अम्ल (Erucic Acid)
 - ✓ 3. लॉरिक अम्ल (Lauric Acid)
 - ✗ 4. लैक्टिक अम्ल (Lactic Acid)

Question Type : MCQ

Question ID : 264330138228

Option 1 ID : 264330541520

Option 2 ID : 264330541521

Option 3 ID : 264330541519

Option 4 ID : 264330541522

Status : Not Answered

Chosen Option : --

Q.20 सिंधु घाटी सभ्यता में, लोथल शहर _____ की एक उपनदी के किनारे पर बसा था।

- Ans
- ✓ 1. साबरमती
 - ✗ 2. कृष्णा
 - ✗ 3. पेरियार
 - ✗ 4. नर्मदा

Question Type : MCQ

Question ID : 264330137774

Option 1 ID : 264330539704

Option 2 ID : 264330539703

Option 3 ID : 264330539705

Option 4 ID : 264330539706

Status : Not Answered

Chosen Option : --

Q.21 मोहिनीअट्टम किस राज्य का शास्त्रीय नृत्य है?

- Ans
- ✓ 1. केरल
 - ✗ 2. उड़ीसा
 - ✗ 3. तमिलनाडु
 - ✗ 4. कर्नाटक

Question Type : MCQ

Question ID : 264330137688

Option 1 ID : 264330539360

Option 2 ID : 264330539362

Option 3 ID : 264330539361

Option 4 ID : 264330539359

Status : Answered

Chosen Option : 1

Q.22 निम्नलिखित में से भारत के किस राज्य में छठ पूजा का त्योहार मुख्य रूप से मनाया जाता है?

- Ans
- ✗ 1. गुजरात
 - ✗ 2. राजस्थान
 - ✓ 3. बिहार
 - ✗ 4. आंध्रप्रदेश

Question Type : MCQ

Question ID : 264330137764

Option 1 ID : 264330539665

Option 2 ID : 264330539664

Option 3 ID : 264330539666

Option 4 ID : 264330539663

Status : Answered

Chosen Option : 3

Q.23 सर्वाधिक व्यक्तिगत ओलंपिक स्वर्ण पदक किसने जीते हैं?

Ans ✓ 1. माइकल फेलप्स (Michael Phelps)

✗ 2. सिमोन बाइल्स (Simone Biles)

✗ 3. केटी लेडेकी (Katie Ledecky)

✗ 4. उसैन बोल्ट (Usain Bolt)

Question Type : MCQ

Question ID : 264330134598

Option 1 ID : 264330527347

Option 2 ID : 264330527350

Option 3 ID : 264330527349

Option 4 ID : 264330527348

Status : Not Answered

Chosen Option : --

Q.24 निम्नलिखित में से कौन-सा भारतीय संविधान के अंतर्गत वर्णित एक मौलिक कर्तव्य है?

Ans ✓ 1. देश की रक्षा करना

✗ 2. निजी संपत्ति की सुरक्षा करना

✗ 3. प्रतिष्ठा की रक्षा करना

✗ 4. धार्मिक मामलों का प्रबंधन करना

Question Type : MCQ

Question ID : 264330137706

Option 1 ID : 264330539433

Option 2 ID : 264330539432

Option 3 ID : 264330539431

Option 4 ID : 264330539434

Status : Answered

Chosen Option : 1

Q.25 भाखड़ा नांगल बाँध निम्नलिखित में से किस नदी पर बना है?

Ans ✗ 1. ब्यास

✗ 2. चिनाब

✗ 3. रावी

✓ 4. सतलुज

Question Type : MCQ

Question ID : 264330137696

Option 1 ID : 264330539394

Option 2 ID : 264330539391

Option 3 ID : 264330539392

Option 4 ID : 264330539393

Status : Answered

Chosen Option : 4

Q.1 Choose the word that is opposite in meaning to the given word.

Humble

- Ans
- 1. Diffident
 - 2. Passive
 - 3. Assertive
 - 4. Voluntary

Question Type : MCQ
Question ID : 264330134737
Option 1 ID : 264330527902
Option 2 ID : 264330527900
Option 3 ID : 264330527899
Option 4 ID : 264330527901
Status : Answered
Chosen Option : 3

Q.2 Find the part of the given sentence that has an error in it. If there is no error, choose 'No error'.

Your success were short-lived and had disastrous outcomes.

- Ans
- 1. short-lived and
 - 2. had disastrous outcomes.
 - 3. Your success were
 - 4. No error

Question Type : MCQ
Question ID : 264330134424
Option 1 ID : 264330526672
Option 2 ID : 264330526673
Option 3 ID : 264330526671
Option 4 ID : 264330526674
Status : Answered
Chosen Option : 3

Q.3 Select the most appropriate word for the given group of words.

An adventurous or bold person

- Ans
- 1. Debonair
 - 2. Judgemental
 - 3. Foolhardy
 - 4. Assaultive

Question Type : MCQ
Question ID : 264330136601
Option 1 ID : 264330535134
Option 2 ID : 264330535133
Option 3 ID : 264330535131
Option 4 ID : 264330535132
Status : Answered
Chosen Option : 2

Q.4 Select the most appropriate option to fill in the blank.

Fetal _____ screening uses ultrasound scanning to find certain abnormalities in the baby.

- Ans**
- 1. enfevering
 - 2. abeyance
 - 3. snuggle
 - 4. anomaly

Question Type : **MCQ**

Question ID : **264330136037**

Option 1 ID : **264330532970**

Option 2 ID : **264330532968**

Option 3 ID : **264330532967**

Option 4 ID : **264330532969**

Status : **Not Answered**

Chosen Option : --

Q.5 Select the most appropriate option to fill in the blank.

For years, people afflicted with the itchy skin condition used stinky coal tar derivatives to _____ their symptoms.

- Ans**
- 1. refer
 - 2. deviate
 - 3. obviate
 - 4. alleviate

Question Type : **MCQ**

Question ID : **264330136298**

Option 1 ID : **264330533971**

Option 2 ID : **264330533974**

Option 3 ID : **264330533973**

Option 4 ID : **264330533972**

Status : **Answered**

Chosen Option : **3**

Q.6 Select the most appropriate option to substitute the bracketed segment in the given sentence. If there is no need to substitute it, select 'no substitution required'.

(No sooner had the ink dried on last week's column, that) one of my long-suffering 17 readers was into action.

- Ans**
- 1. No substitution required
 - 2. No sooner did the ink dried on last week's column, than
 - 3. No sooner had the ink dry on last week's column, than
 - 4. No sooner had the ink dried on last week's column, than

Question Type : **MCQ**

Question ID : **264330136062**

Option 1 ID : **264330533066**

Option 2 ID : **264330533063**

Option 3 ID : **264330533064**

Option 4 ID : **264330533065**

Status : **Answered**

Chosen Option : **4**

Q.7 Select the most appropriate meaning of the given idiom.

It takes two to tango

- Ans
- 1. To fight fiercely
 - 2. An interesting idea
 - 3. For an argument both parties are equally responsible
 - 4. Two people are required for a couple dance

Question Type : MCQ
Question ID : 264330136607
Option 1 ID : 264330535158
Option 2 ID : 264330535156
Option 3 ID : 264330535157
Option 4 ID : 264330535155
Status : Answered
Chosen Option : 4

Q.8 Improve the underlined part of the sentence. Choose 'No improvement' as an answer if the sentence is grammatically correct.

Training your dog have required a lot of patience.

- Ans
- 1. No improvement
 - 2. required lot
 - 3. requires a lot
 - 4. require the lot

Question Type : MCQ
Question ID : 264330134748
Option 1 ID : 264330527946
Option 2 ID : 264330527944
Option 3 ID : 264330527943
Option 4 ID : 264330527945
Status : Answered
Chosen Option : 1

Q.9 Select the most appropriate option to fill in the blank.

The respondents were very agile and _____ in subduing the situation.

- Ans
- 1. hassled
 - 2. quick
 - 3. tedious
 - 4. tasty

Question Type : MCQ
Question ID : 264330136237
Option 1 ID : 264330533735
Option 2 ID : 264330533737
Option 3 ID : 264330533738
Option 4 ID : 264330533736
Status : Answered
Chosen Option : 2

Q.10 Select the most appropriate meaning of the bracketed idiom in the given sentence.

The last observation of yours has (hit the nail on the head).

- Ans**
- 1. A personal interest in the matter
 - 2. To have no idea about anything
 - 3. To hear rumours
 - 4. Find exactly the right answer

Question Type : **MCQ**

Question ID : **264330136052**

Option 1 ID : **264330533026**

Option 2 ID : **264330533023**

Option 3 ID : **264330533024**

Option 4 ID : **264330533025**

Status : **Answered**

Chosen Option : **4**

Q.11 Identify the segment that contains a grammatical error. If there is no error, select 'No error'.

Unadulterated and unabashed were/ the two words that the judge use/ to define his performance.

- Ans**
- 1. the two words that the judge use
 - 2. Unadulterated and unabashed were
 - 3. No error
 - 4. to define his performance.

Question Type : **MCQ**

Question ID : **264330136033**

Option 1 ID : **264330532952**

Option 2 ID : **264330532951**

Option 3 ID : **264330532954**

Option 4 ID : **264330532953**

Status : **Answered**

Chosen Option : **1**

Q.12 Select the word from the options which is similar in meaning to the bracketed part given in the sentence below.

He has been used as the (fall guy) for issues with housing and unemployment.

- Ans**
- 1. weakling
 - 2. reticent
 - 3. scapegoat
 - 4. confiscate

Question Type : **MCQ**

Question ID : **264330136256**

Option 1 ID : **264330533808**

Option 2 ID : **264330533807**

Option 3 ID : **264330533809**

Option 4 ID : **264330533810**

Status : **Answered**

Chosen Option : **3**

Q.13 Select the word segment that substitutes (replaces) the bracketed word segment correctly and completes the sentence meaningfully. Select the option 'no correction required' if the sentence is correct as given.

The (captain with the members of his team) failed to qualify for the African Nations Cup finals.

- Ans**
- 1. captain along with the members of his team
 - 2. captain along side the members of his team
 - 3. No correction required
 - 4. captain and his team

Question Type : **MCQ**
Question ID : **264330136617**
Option 1 ID : **264330535195**
Option 2 ID : **264330535197**
Option 3 ID : **264330535198**
Option 4 ID : **264330535196**
Status : **Answered**
Chosen Option : **1**

Q.14 Select the most appropriate synonym of the given word.

Decapitate

- Ans**
- 1. Desolation
 - 2. Affection
 - 3. Behead
 - 4. Sincerity

Question Type : **MCQ**
Question ID : **264330136047**
Option 1 ID : **264330533004**
Option 2 ID : **264330533005**
Option 3 ID : **264330533003**
Option 4 ID : **264330533006**
Status : **Not Answered**
Chosen Option : **--**

Q.15 Select the wrongly spelt word.

- Ans**
- 1. equivocate
 - 2. enigma
 - 3. effigy
 - 4. expereince

Question Type : **MCQ**
Question ID : **264330136236**
Option 1 ID : **264330533733**
Option 2 ID : **264330533732**
Option 3 ID : **264330533734**
Option 4 ID : **264330533731**
Status : **Answered**
Chosen Option : **4**

Q.16 Select the most appropriate option to fill in the blank.

The question is why an _____ Hollywood film should provoke such a hostile reaction.

- Ans**
- 1. innocuous
 - 2. obstinate
 - 3. erroneous
 - 4. elicit

Question Type : **MCQ**

Question ID : **264330136056**

Option 1 ID : **264330533039**

Option 2 ID : **264330533042**

Option 3 ID : **264330533041**

Option 4 ID : **264330533040**

Status : **Answered**

Chosen Option : **1**

Q.17 Select the most appropriate antonym to substitute the bracketed word in the given sentence.

An (unsullied) safety record swelled pride in Concorde's technical achievement as the years passed.

- Ans**
- 1. Perfect
 - 2. Tarnished
 - 3. Undefined
 - 4. Impeccable

Question Type : **MCQ**

Question ID : **264330136050**

Option 1 ID : **264330533015**

Option 2 ID : **264330533018**

Option 3 ID : **264330533016**

Option 4 ID : **264330533017**

Status : **Not Answered**

Chosen Option : **--**

Q.18 Identify the segment that contains a grammatical error. If there is no error, select 'No error'.

The kids there were so notorious, the / more I asked them to quiet down, / the more loud they would scream.

- Ans**
- 1. The kids there were so notorious, the
 - 2. No error
 - 3. more I asked them to quiet down,
 - 4. the more loud they would scream.

Question Type : **MCQ**

Question ID : **264330136614**

Option 1 ID : **264330535183**

Option 2 ID : **264330535186**

Option 3 ID : **264330535184**

Option 4 ID : **264330535185**

Status : **Answered**

Chosen Option : **4**

Q.19 Select the correctly spelt word.

- Ans 1. Definition
 2. Deifinatn
 3. Defination
 4. Definasion

Question Type : MCQ
Question ID : 264330136053
Option 1 ID : 264330533029
Option 2 ID : 264330533027
Option 3 ID : 264330533028
Option 4 ID : 264330533030
Status : Answered
Chosen Option : 3

Q.20 Select the most appropriate word for the given group of words.

In exactly the same words as were used originally

- Ans 1. Lunatic
 2. Kennel
 3. Misanthrope
 4. Verbatim

Question Type : MCQ
Question ID : 264330136046
Option 1 ID : 264330533001
Option 2 ID : 264330533002
Option 3 ID : 264330533000
Option 4 ID : 264330532999
Status : Answered
Chosen Option : 4

Comprehension:

In the following passage some of the words have been deleted. Read the passage carefully and select the correct answer for the given blank out of the four alternatives.

Snail slime is made (1) _____ a mixture of substances. It is mostly water (2) _____ with proteins and some carbohydrates and minerals, (3) _____ into a sort of jelly. This jelly is (4) _____ "mucus". It's not that different to the snot that comes out of your nose when you have a (5) _____.

SubQuestion No : 21

Q.21 Select the most appropriate option to fill in blank number 1.

- Ans 1. of
 2. for
 3. upon
 4. up

Question Type : MCQ
Question ID : 264330134728
Option 1 ID : 264330527863
Option 2 ID : 264330527865
Option 3 ID : 264330527866
Option 4 ID : 264330527864
Status : Answered
Chosen Option : 1

Comprehension:

In the following passage some of the words have been deleted. Read the passage carefully and select the correct answer for the given blank out of the four alternatives.

Snail slime is made (1)_____ a mixture of substances. It is mostly water (2)_____ with proteins and some carbohydrates and minerals, (3)_____ into a sort of jelly. This jelly is (4)_____ "mucus". It's not that different to the snot that comes out of your nose when you have a (5)_____.

SubQuestion No : 22

Q.22 Select the most appropriate option to fill in blank number 2.

- Ans**
- 1. sliced
 - 2. rotated
 - 3. diced
 - 4. mixed

Question Type : **MCQ**

Question ID : **264330134729**

Option 1 ID : **264330527868**

Option 2 ID : **264330527870**

Option 3 ID : **264330527869**

Option 4 ID : **264330527867**

Status : **Answered**

Chosen Option : **4**

Comprehension:

In the following passage some of the words have been deleted. Read the passage carefully and select the correct answer for the given blank out of the four alternatives.

Snail slime is made (1)_____ a mixture of substances. It is mostly water (2)_____ with proteins and some carbohydrates and minerals, (3)_____ into a sort of jelly. This jelly is (4)_____ "mucus". It's not that different to the snot that comes out of your nose when you have a (5)_____.

SubQuestion No : 23

Q.23 Select the most appropriate option to fill in blank number 3.

- Ans**
- 1. tamed
 - 2. formed
 - 3. framed
 - 4. moved

Question Type : **MCQ**

Question ID : **264330134730**

Option 1 ID : **264330527874**

Option 2 ID : **264330527872**

Option 3 ID : **264330527873**

Option 4 ID : **264330527871**

Status : **Answered**

Chosen Option : **2**

Comprehension:

In the following passage some of the words have been deleted. Read the passage carefully and select the correct answer for the given blank out of the four alternatives.

Snail slime is made (1)_____ a mixture of substances. It is mostly water (2)_____ with proteins and some carbohydrates and minerals, (3)_____ into a sort of jelly. This jelly is (4)_____ "mucus". It's not that different to the snot that comes out of your nose when you have a (5)_____.

SubQuestion No : 24

Q.24 Select the most appropriate option to fill in blank number 4.

- Ans**
- 1. hailed
 - 2. stepped
 - 3. called
 - 4. deemed

Question Type : **MCQ**

Question ID : **264330134731**

Option 1 ID : **264330527877**

Option 2 ID : **264330527878**

Option 3 ID : **264330527876**

Option 4 ID : **264330527875**

Status : **Answered**

Chosen Option : **3**

Comprehension:

In the following passage some of the words have been deleted. Read the passage carefully and select the correct answer for the given blank out of the four alternatives.

Snail slime is made (1)_____ a mixture of substances. It is mostly water (2)_____ with proteins and some carbohydrates and minerals, (3)_____ into a sort of jelly. This jelly is (4)_____ "mucus". It's not that different to the snot that comes out of your nose when you have a (5)_____.

SubQuestion No : 25

Q.25 Select the most appropriate option to fill in blank number 5.

- Ans**
- 1. bug
 - 2. plague
 - 3. cold
 - 4. complaint

Question Type : **MCQ**

Question ID : **264330134732**

Option 1 ID : **264330527882**

Option 2 ID : **264330527879**

Option 3 ID : **264330527881**

Option 4 ID : **264330527880**

Status : **Answered**

Chosen Option : **3**