

Multi Tasking Non Technical Staff and Havaldar CBIC and CBN Examination 2022

| | |
|----------------|---|
| Roll Number | |
| Candidate Name | |
| Venue Name | Aurobindo International School Jaipur |
| Exam Date | 12/05/2023 |
| Exam Time | 3:30 PM - 5:00 PM |
| Subject | MTS Non Tech Havaldar CBIC and CBN Examination 2022 |

Section : Numerical and Mathematical Ability

Q.1 $5 \times 4 + (3 + 4)^2 \div 7 \times 4$ का मान ज्ञात कीजिए।

- Ans
- 1. 49
 - 2. 47
 - 3. 48
 - 4. 46

Question Type : MCQ

Question ID : 264330138089

Option 1 ID : 264330540964

Option 2 ID : 264330540965

Option 3 ID : 264330540963

Option 4 ID : 264330540966

Status : Answered

Chosen Option : 3

Q.2 5 क्रमागत प्राकृत संख्याओं का औसत 43 है। इनमें से सबसे बड़ी संख्या है:

- Ans
- 1. 46
 - 2. 43
 - 3. 41
 - 4. 45

Question Type : MCQ

Question ID : 264330138092

Option 1 ID : 264330540978

Option 2 ID : 264330540976

Option 3 ID : 264330540975

Option 4 ID : 264330540977

Status : Answered

Chosen Option : 4

Q.3 एक बस पहले 100 km की दूरी 100 km/hr की चाल से तय करती है। वह अगले 150 km की दूरी 90 km/hr की चाल से तय करती है। बस की औसत चाल क्या है?

- Ans
- ✗ 1. 100.25 km/hr
 - ✗ 2. 156.25 km/hr
 - ✓ 3. 93.75 km/hr
 - ✗ 4. 120.50 km/hr

Question Type : MCQ

Question ID : 264330141007

Option 1 ID : 264330552375

Option 2 ID : 264330552376

Option 3 ID : 264330552377

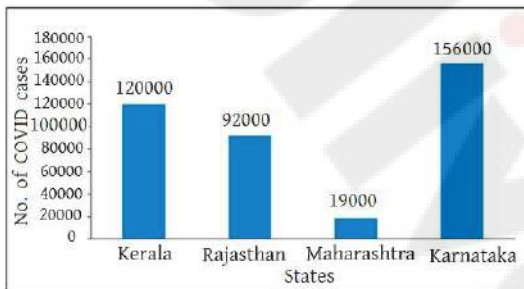
Option 4 ID : 264330552378

Status : Answered

Chosen Option : 3

Q.4 निम्नलिखित दंड आलेख में वर्ष 2022 में भारत के चार राज्यों में कोविड (COVID) के मामलों की संख्या को दर्शाया गया है।

केरल की तुलना में कर्नाटक में कितने प्रतिशत अधिक मामले हैं?



No. of COVID cases = कोविड (COVID) के मामलों की संख्या

Kerala = केरल, Rajasthan = राजस्थान, Maharashtra = महाराष्ट्र, Karnataka = कर्नाटक

States = राज्य

- Ans
- ✓ 1. 30%
 - ✗ 2. 20%
 - ✗ 3. 40%
 - ✗ 4. 50%

Question Type : MCQ

Question ID : 264330138106

Option 1 ID : 264330541033

Option 2 ID : 264330541031

Option 3 ID : 264330541032

Option 4 ID : 264330541034

Status : Answered

Chosen Option : 1

Q.5 यदि दो बेलनों के आयतनों का अनुपात 6 : 5 है और उनकी ऊँचाई का अनुपात 5 : 24 है, तो उनकी त्रिज्याओं का अनुपात क्या है?

- Ans
- ✓ 1. 12 : 5
 - ✗ 2. 12 : 7
 - ✗ 3. 5 : 6
 - ✗ 4. 1 : 2

Question Type : MCQ

Question ID : 264330137638

Option 1 ID : 264330539160

Option 2 ID : 264330539159

Option 3 ID : 264330539161

Option 4 ID : 264330539162

Status : Answered

Chosen Option : 1

Q.6 Rs.1200 को X, Y और Z में इस प्रकार बाँटा जाता है कि Y का हिस्सा X के हिस्से से Rs.200 अधिक है। Y का हिस्सा Z के हिस्से से Rs.200 कम है। Y का हिस्सा है:

- Ans
- ✗ 1. Rs.600
 - ✗ 2. Rs.800
 - ✓ 3. Rs.400
 - ✗ 4. Rs.200

Question Type : MCQ

Question ID : 264330138099

Option 1 ID : 264330541003

Option 2 ID : 264330541006

Option 3 ID : 264330541004

Option 4 ID : 264330541005

Status : Answered

Chosen Option : 1

Q.7 हर्षिता एक कपड़े की दुकान पर गई। दुकान पर Rs.2999 अंकित मूल्य वाली एक ड्रेस 20% बट्टे पर बेची जा रही है। यदि हर्षिता ड्रेस खरीदती है, तो वह उसके लिए कितना भुगतान करेगी?

- Ans
- ✗ 1. Rs.2199.80
 - ✗ 2. Rs.2699.50
 - ✓ 3. Rs.2399.20
 - ✗ 4. Rs.2899.40

Question Type : MCQ

Question ID : 264330138097

Option 1 ID : 264330540998

Option 2 ID : 264330540995

Option 3 ID : 264330540997

Option 4 ID : 264330540996

Status : Answered

Chosen Option : 3

Q.8 उस लम्ब वृत्तीय बेलन का पार्श्व पृष्ठीय क्षेत्रफल क्या होगा जिसके आधार की परिधि 22 cm है और जिसकी ऊँचाई इसकी त्रिज्या की चार गुनी है?

- Ans
- 1. 408 cm²
 - 2. 288 cm²
 - 3. 388 cm²
 - 4. 308 cm²

Question Type : MCQ

Question ID : 264330133692

Option 1 ID : 264330523792

Option 2 ID : 264330523793

Option 3 ID : 264330523794

Option 4 ID : 264330523791

Status : Answered

Chosen Option : 4

Q.9 Rs. 60000 की राशि पर 5 वर्षों के लिए 10% वार्षिक दर पर वार्षिक रूप से संयोजित चक्रवृद्धि ब्याज ज्ञात कीजिए।

- Ans
- 1. Rs.34563.12
 - 2. Rs.3456.87
 - 3. Rs.36630.60
 - 4. Rs.3254.98

Question Type : MCQ

Question ID : 264330133747

Option 1 ID : 264330524012

Option 2 ID : 264330524014

Option 3 ID : 264330524011

Option 4 ID : 264330524013

Status : Answered

Chosen Option : 3

Q.10 निम्न तालिका में अलग-अलग दुकानों में हास्य और काल्पनिक कथा साहित्य की पुस्तकों की बिक्री को दर्शाया गया है।

दुकान C द्वारा बेची गई कुल पुस्तकों और दुकान A द्वारा बेची गई कुल पुस्तकों का अनुपात ज्ञात कीजिए।

| Shops | Comic Books | Fiction Books |
|-------|-------------|---------------|
| A | 200 | 150 |
| B | 250 | 200 |
| C | 350 | 300 |
| D | 400 | 200 |
| E | 450 | 500 |

shops - दुकानें, Comic Books - हास्य पुस्तकें, Fiction Books - काल्पनिक कथा साहित्य की पुस्तकें

- Ans
- 1. 11:7
 - 2. 13:7
 - 3. 11:13
 - 4. 13:5

Question Type : MCQ

Question ID : 264330138429

Option 1 ID : 264330542326

Option 2 ID : 264330542325

Option 3 ID : 264330542323

Option 4 ID : 264330542324

Status : Answered

Chosen Option : 2

Q.11 X लड़के किसी कार्य को 80 दिनों में कर सकते हैं। 2X लड़के उसी कार्य का आधा भाग कितने दिनों में करेंगे?

- Ans
- 1. 30 दिन
 - 2. 12 दिन
 - 3. 16 दिन
 - 4. 20 दिन

Question Type : MCQ
Question ID : 264330137623
Option 1 ID : 264330539100
Option 2 ID : 264330539101
Option 3 ID : 264330539102
Option 4 ID : 264330539099
Status : Answered
Chosen Option : 4

Q.12 एक कमरे में 36 महिलाएँ और 20 पुरुष हैं। उस कमरे में पुरुषों की कुल संख्या और व्यक्तियों की कुल संख्या का अनुपात कितना है?

- Ans
- 1. 14:11
 - 2. 5:11
 - 3. 5:13
 - 4. 5:14

Question Type : MCQ
Question ID : 264330138098
Option 1 ID : 264330541000
Option 2 ID : 264330540999
Option 3 ID : 264330541001
Option 4 ID : 264330541002
Status : Answered
Chosen Option : 4

Q.13 वह सबसे बड़ी संख्या कौन-सी है, जिससे 456 और 553 को भाग देने पर क्रमशः 6 और 3 शेषफल प्राप्त होता है?

- Ans
- 1. 10
 - 2. 30
 - 3. 50
 - 4. 5

Question Type : MCQ
Question ID : 264330141031
Option 1 ID : 264330552471
Option 2 ID : 264330552474
Option 3 ID : 264330552473
Option 4 ID : 264330552472
Status : Answered
Chosen Option : 3

Q.14 एक लड़का धारा के प्रतिकूल 12 km/hr और धारा के अनुकूल 23 km/hr की चाल से नाव चला सकता है। धारा की चाल क्या है?

- Ans
- 1. 3.5 km/hr
 - 2. 6.5 km/hr
 - 3. 4.5 km/hr
 - 4. 5.5 km/hr

Question Type : MCQ
Question ID : 264330138102
Option 1 ID : 264330541018
Option 2 ID : 264330541017
Option 3 ID : 264330541015
Option 4 ID : 264330541016
Status : Answered
Chosen Option : 4

Q.15 एक दुकानदार एक बक्सा बेचकर 5% का लाभ अर्जित करता है। अगले बक्से के लिए वह विक्रय मूल्य का दोगुना शुल्क लेता है। दूसरे बक्से पर लाभ प्रतिशत कितना है?

- Ans
- 1. 100%
 - 2. 200%
 - 3. 80%
 - 4. 110%

Question Type : MCQ
Question ID : 264330138096
Option 1 ID : 264330540993
Option 2 ID : 264330540992
Option 3 ID : 264330540994
Option 4 ID : 264330540991
Status : Answered
Chosen Option : 4

Q.16 एक गाँव की जनसंख्या 40% वार्षिक दर से घटती है। यदि 2 वर्ष पूर्व गाँव की जनसंख्या 15,000 थी, तो गाँव की वर्तमान जनसंख्या ज्ञात कीजिए?

- Ans
- 1. 4400
 - 2. 5400
 - 3. 3500
 - 4. 4450

Question Type : MCQ
Question ID : 264330133786
Option 1 ID : 264330524170
Option 2 ID : 264330524168
Option 3 ID : 264330524169
Option 4 ID : 264330524167
Status : Answered
Chosen Option : 2

Q.17 एक बाइक का मूल्य पिछले वर्ष Rs.7000 था। इस वर्ष उसके मूल्य में 10% की वृद्धि हुई। इस वर्ष बाइक का मूल्य क्या है?

- Ans
- 1. Rs. 7500
 - 2. Rs. 7600
 - 3. Rs. 7700
 - 4. Rs. 7400

Question Type : MCQ
Question ID : 264330133740
Option 1 ID : 264330523984
Option 2 ID : 264330523986
Option 3 ID : 264330523985
Option 4 ID : 264330523983
Status : Answered
Chosen Option : 3

Q.18 $144 \div 12 + 4^2 - 44 + 54 \div 3 \times 2$ का मान ज्ञात कीजिए।

- Ans
- 1. 30
 - 2. 20
 - 3. 15
 - 4. 5

Question Type : MCQ
Question ID : 264330138413
Option 1 ID : 264330542259
Option 2 ID : 264330542261
Option 3 ID : 264330542260
Option 4 ID : 264330542262
Status : Answered
Chosen Option : 2

Q.19 एक वस्तु का विक्रय मूल्य Rs.616 है। यदि हानि प्रतिशत 30 प्रतिशत है, तो वस्तु का क्रय मूल्य क्या है?

- Ans
- 1. Rs. 800
 - 2. Rs. 880
 - 3. Rs. 850
 - 4. Rs. 900

Question Type : MCQ
Question ID : 264330139062
Option 1 ID : 264330544855
Option 2 ID : 264330544857
Option 3 ID : 264330544856
Option 4 ID : 264330544858
Status : Answered
Chosen Option : 2

Q.20 X अकेले किसी काम को 15 दिनों में कर सकता है जबकि Y अकेले उसी काम को 10 दिनों में कर सकता है। उन्होंने 3 दिनों तक साथ मिलकर काम किया और शेष काम Z ने 1 दिन में पूरा किया। यदि उन्हें पूरे काम के लिए Rs.4000 का भुगतान किया जाता है, तो इसमें Z का हिस्सा कितना है?

- Ans**
- 1. Rs.1200
 - 2. Rs.1000
 - 3. Rs.800
 - 4. Rs.2000

Question Type : **MCQ**

Question ID : **264330133687**

Option 1 ID : **264330523773**

Option 2 ID : **264330523771**

Option 3 ID : **264330523774**

Option 4 ID : **264330523772**

Status : **Answered**

Chosen Option : **4**

Section : Reasoning Ability and Problem Solving

Q.1 एक निश्चित कूट भाषा में, 'DISPUTE' को 'SID16ETU' लिखा जाता है। उस कूट भाषा में 'FEATURE' को कैसे लिखा जाएगा?

- Ans**
- 1. AEF02ERU
 - 2. AEF20UER
 - 3. AEF20ERU
 - 4. AEF20REU

Question Type : **MCQ**

Question ID : **264330135025**

Option 1 ID : **264330529037**

Option 2 ID : **264330529038**

Option 3 ID : **264330529035**

Option 4 ID : **264330529036**

Status : **Answered**

Chosen Option : **3**

Q.2 दो कथन दिए गए हैं और दो निष्कर्ष I और II दिए गए हैं। कथनों को सत्य मानते हुए, चाहे वे सामान्यतः ज्ञात तथ्यों से अलग प्रतीत होते हों, निश्चय कीजिए कि कौन-सा निष्कर्ष तार्किक रूप से कथनों के अनुसार है।
कथन:

कुछ सेब, फल हैं।

सभी फल, आम हैं।

निष्कर्ष:

I. कुछ सेब, आम हैं।

II. सभी आम, फल हैं।

Ans

- ✗ 1. दोनों निष्कर्ष I और II कथनों के अनुसार हैं
- ✗ 2. केवल निष्कर्ष II कथनों के अनुसार है
- ✓ 3. केवल निष्कर्ष I कथनों के अनुसार है
- ✗ 4. न तो निष्कर्ष I और न ही II कथनों के अनुसार है

Question Type : MCQ

Question ID : 264330137863

Option 1 ID : 264330540061

Option 2 ID : 264330540060

Option 3 ID : 264330540059

Option 4 ID : 264330540062

Status : Answered

Chosen Option : 3

Q.3 दी गई श्रृंखला में निम्नलिखित में से कौन-सी संख्या प्रश्न चिन्ह (?) के स्थान पर आएगी?
55, 61, 67, 73, 79, ?

Ans

- ✗ 1. 93
- ✗ 2. 82
- ✗ 3. 94
- ✓ 4. 85

Question Type : MCQ

Question ID : 264330137866

Option 1 ID : 264330540072

Option 2 ID : 264330540073

Option 3 ID : 264330540074

Option 4 ID : 264330540071

Status : Answered

Chosen Option : 4

Q.4 उस विकल्प आकृति को चुनिए जिसमें दी गई आकृति निहित है।(घूर्णन की अनुमति नहीं है)

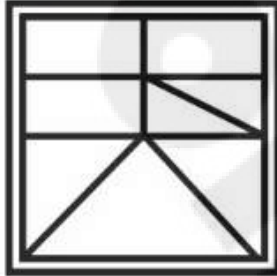


Ans

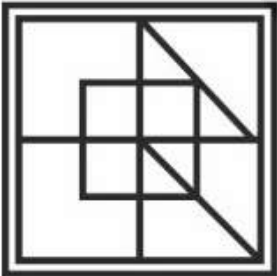
✗ 1.



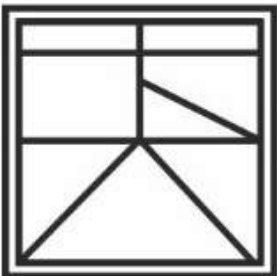
✓ 2.



✗ 3.



✗ 4.



Question Type : MCQ

Question ID : 264330138537

Option 1 ID : 264330542757

Option 2 ID : 264330542756

Option 3 ID : 264330542755

Option 4 ID : 264330542758

Status : Answered

Chosen Option : 2

Q.5 दी गई श्रृंखला में निम्नलिखित में से कौन-सी संख्या प्रश्न चिन्ह (?) के स्थान पर आएगी?
43, 45, 48, 53, 60, 71, ?

- Ans
- 1. 81
 - 2. 82
 - 3. 84
 - 4. 83

Question Type : MCQ
Question ID : 264330133457
Option 1 ID : 264330522859
Option 2 ID : 264330522860
Option 3 ID : 264330522861
Option 4 ID : 264330522862
Status : Answered
Chosen Option : 3

Q.6 एक निश्चित कूट भाषा में, 'COAT' को 'XLZG' लिखा जाता है। उस कूट भाषा में 'PLAY' को कैसे लिखा जाएगा?

- Ans
- 1. KPZB
 - 2. KZOB
 - 3. JOZB
 - 4. KOZB

Question Type : MCQ
Question ID : 264330138814
Option 1 ID : 264330543864
Option 2 ID : 264330543863
Option 3 ID : 264330543865
Option 4 ID : 264330543866
Status : Answered
Chosen Option : 4

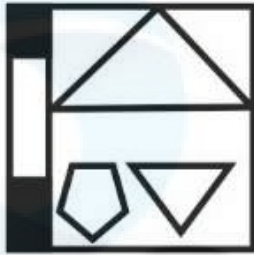
Q.7 यदि एक दर्पण को रेखा AB पर रखा जाए, तो दी गई विकल्प आकृतियों में से कौन-सी आकृति प्रश्न आकृति का सही प्रतिबिम्ब होगी?




A  B

Ans

✓ 1.



✗ 2.



✗ 3.



✗ 4.



Question Type : MCQ

Question ID : 264330138538

Option 1 ID : 264330542759

Option 2 ID : 264330542761

Option 3 ID : 264330542760

Option 4 ID : 264330542762

Status : Answered

Chosen Option : 1

Q.8 छः मित्र S, T, U, V, W और X एक पंक्ति में दक्षिण की ओर मुख करके बैठे हैं। U, S और V के ठीक बीच में बैठा है। X, W और T के ठीक बीच में बैठा है। पाँच मित्र S के बाईं ओर बैठे हैं। V के बाईं ओर से दूसरे स्थान पर कौन बैठा है?

- Ans
- ✓ 1. X
 - ✗ 2. W
 - ✗ 3. T
 - ✗ 4. U

Question Type : MCQ

Question ID : 264330137860

Option 1 ID : 264330540049

Option 2 ID : 264330540047

Option 3 ID : 264330540048

Option 4 ID : 264330540050

Status : Answered

Chosen Option : 1

Q.9 उस विकल्प को चुनिए जो तीसरे शब्द से ठीक उसी प्रकार संबंधित है जिस प्रकार दूसरा शब्द पहले शब्द से संबंधित है।

खरगोश : छलांग :: तोता : ?

- Ans
- ✗ 1. रेंगना
 - ✗ 2. पक्षी
 - ✓ 3. उड़ना
 - ✗ 4. दबे पाँव चलना

Question Type : MCQ

Question ID : 264330137854

Option 1 ID : 264330540026

Option 2 ID : 264330540024

Option 3 ID : 264330540023

Option 4 ID : 264330540025

Status : Answered

Chosen Option : 3

Q.10 दिए गए पैटर्न का ध्यानपूर्वक अध्ययन कीजिए और उस संख्या को चुनिए जो इसमें प्रश्न चिन्ह (?) के स्थान पर आ सकती है।

पहली पंक्ति- 80, 64, 48

दूसरी पंक्ति- 112, 96, 80

तीसरी पंक्ति- 232, 216, ?

- Ans
- ✓ 1. 200
 - ✗ 2. 230
 - ✗ 3. 225
 - ✗ 4. 219

Question Type : MCQ

Question ID : 264330137868

Option 1 ID : 264330540079

Option 2 ID : 264330540081

Option 3 ID : 264330540080

Option 4 ID : 264330540082

Status : Answered

Chosen Option : 1

Q.11 सात भाईयों सुभम, सौरव, सहवाग, सचिन, सैम, शोएब और सूर्या की उम्र अलग-अलग है। सुभम सबसे बड़ा भाई है। सूर्या केवल दो भाईयों से बड़ा है। सौरव, सैम से बड़ा है लेकिन शोएब से छोटा है। सहवाग केवल सचिन से बड़ा है। कितने भाई सौरव से छोटे हैं?

- Ans
- 1. 5
 - 2. 3
 - 3. 4
 - 4. 2

Question Type : MCQ
Question ID : 264330137862
Option 1 ID : 264330540057
Option 2 ID : 264330540055
Option 3 ID : 264330540056
Option 4 ID : 264330540058
Status : Answered
Chosen Option : 3

Q.12 दिए गए समीकरण को सही करने के लिए किन दो चिन्हों को आपस में बदला जाना चाहिए?
 $8 \div 2 \times 7 - 5 + 2 = 1$

- Ans
- 1. \times और $-$
 - 2. \times और $+$
 - 3. $+$ और $=$
 - 4. $+$ और $-$

Question Type : MCQ
Question ID : 264330137869
Option 1 ID : 264330540083
Option 2 ID : 264330540085
Option 3 ID : 264330540086
Option 4 ID : 264330540084
Status : Answered
Chosen Option : 2

Q.13 दिए गए समीकरण को सही करने के लिए किन दो संख्याओं को आपस में बदला जाना चाहिए?
 $16 + 24 \times 12 - 25 \div 6 = 312$

- Ans
- 1. 25 और 24
 - 2. 24 और 16
 - 3. 25 और 16
 - 4. 25 और 12

Question Type : MCQ
Question ID : 264330133502
Option 1 ID : 264330523041
Option 2 ID : 264330523039
Option 3 ID : 264330523042
Option 4 ID : 264330523040
Status : Answered
Chosen Option : 1

Q.14 छः सहकर्मी X, Y, Z, A, B और C एक वृत्ताकार मेज के चारों ओर केंद्र से बाहर की ओर मुख करके बैठे हैं। B, Y के ठीक बाईं ओर बैठा है। A, Z के ठीक दाईं ओर बैठा है। X, B के आसन्न बैठा है। C, Y के आसन्न नहीं बैठा है। A के ठीक दाईं ओर कौन बैठा है?

- Ans**
- 1. Y
 - 2. X
 - 3. C
 - 4. B

Question Type : **MCQ**

Question ID : **264330137861**

Option 1 ID : **264330540053**

Option 2 ID : **264330540051**

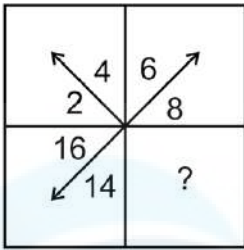
Option 3 ID : **264330540054**

Option 4 ID : **264330540052**

Status : **Answered**

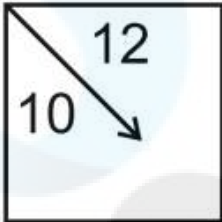
Chosen Option : **4**

Q.15 उस विकल्प आकृति को चुनिए जो पैटर्न को पूरा करने के लिए नीचे दी गई आकृति में प्रश्न चिन्ह (?) के स्थान पर आएगी। (घूर्णन की अनुमति नहीं है)

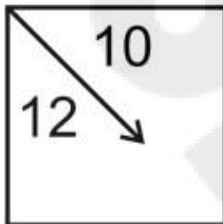


Ans

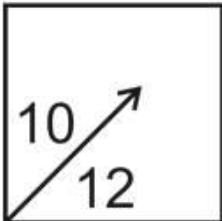
✗ 1.



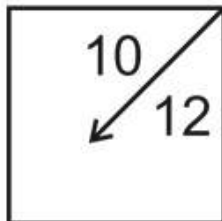
✓ 2.



✗ 3.



✗ 4.



Question Type : MCQ

Question ID : 264330137873

Option 1 ID : 264330540101

Option 2 ID : 264330540099

Option 3 ID : 264330540100

Option 4 ID : 264330540102

Status : Answered

Chosen Option : 2

Q.16 उस विकल्प को चुनिए जो तीसरी संख्या से ठीक उसी प्रकार संबंधित है जिस प्रकार दूसरी संख्या पहली संख्या से संबंधित है।
7 : 343 :: 4 : ?

- Ans
- ✓ 1. 64
 - ✗ 2. 84
 - ✗ 3. 72
 - ✗ 4. 58

Question Type : MCQ

Question ID : 264330133459

Option 1 ID : 264330522868

Option 2 ID : 264330522869

Option 3 ID : 264330522870

Option 4 ID : 264330522867

Status : Answered

Chosen Option : 1

Q.17 तीन कथन दिए गए हैं और दो निष्कर्ष I और II दिए गए हैं। कथनों को सत्य मानते हुए, चाहे वे सामान्यतः ज्ञात तथ्यों से अलग प्रतीत होते हों, निश्चय कीजिए कि कौन-सा निष्कर्ष तार्किक रूप से कथनों के अनुसार है।
कथन:

सभी बिल्लियाँ, बाघ हैं।

सभी बाघ, शेर हैं।

कुछ बाघ, कुत्ते हैं।

निष्कर्ष:

I. सभी बिल्लियाँ, शेर हैं।

II. कुछ कुत्ते, शेर हैं।

- Ans
- ✗ 1. केवल निष्कर्ष II कथनों के अनुसार है
 - ✓ 2. दोनों निष्कर्ष I और II कथनों के अनुसार हैं
 - ✗ 3. न तो निष्कर्ष I और न ही II कथनों के अनुसार है
 - ✗ 4. केवल निष्कर्ष I कथनों के अनुसार है

Question Type : MCQ

Question ID : 264330137864

Option 1 ID : 264330540064

Option 2 ID : 264330540065

Option 3 ID : 264330540066

Option 4 ID : 264330540063

Status : Answered

Chosen Option : 2

Q.18 निम्नलिखित में से कौन-सा अक्षर-समूह दी गई श्रृंखला में प्रश्न चिन्ह (?) के स्थान पर आएगा?
KS, MU, OW, QY, SA, UC,?

- Ans
- 1. EW
 - 2. WD
 - 3. WS
 - 4. WE

Question Type : MCQ
Question ID : 264330137852
Option 1 ID : 264330540015
Option 2 ID : 264330540018
Option 3 ID : 264330540016
Option 4 ID : 264330540017
Status : Answered
Chosen Option : 4

Q.19 उस विकल्प को चुनिए जो तीसरे अक्षर-समूह से ठीक उसी प्रकार संबंधित है जिस प्रकार दूसरा अक्षर-समूह पहले अक्षर-समूह से संबंधित है।
RS : TU :: TM : ?

- Ans
- 1. OV
 - 2. UP
 - 3. VO
 - 4. VP

Question Type : MCQ
Question ID : 264330137855
Option 1 ID : 264330540027
Option 2 ID : 264330540030
Option 3 ID : 264330540029
Option 4 ID : 264330540028
Status : Answered
Chosen Option : 3

Q.20 एक निश्चित कूट भाषा में, 'NOTIFY' को 'TONYFI' लिखा जाता है। उस कूट भाषा में 'PATENT' को कैसे लिखा जाएगा?

- Ans
- 1. TAPTNE
 - 2. TAPENT
 - 3. PATTNE
 - 4. TAPTEN

Question Type : MCQ
Question ID : 264330137519
Option 1 ID : 264330538685
Option 2 ID : 264330538683
Option 3 ID : 264330538684
Option 4 ID : 264330538686
Status : Answered
Chosen Option : 1

Q.1 ठोस कार्बन डाइऑक्साइड का दूसरा नाम क्या है?

Ans ✓ 1. शुष्क बर्फ (Dry Ice)

✗ 2. कोयला (Coal)

✗ 3. प्रशीतक (Refrigerant)

✗ 4. कोक (Coke)

Question Type : MCQ

Question ID : 264330133913

Option 1 ID : 264330524675

Option 2 ID : 264330524677

Option 3 ID : 264330524678

Option 4 ID : 264330524676

Status : Answered

Chosen Option : 1

Q.2 लच्छू महाराज _____ के एक प्रसिद्ध भारतीय शास्त्रीय नर्तक और नृत्य-निर्देशक (choreographer) थे।

Ans ✗ 1. छऊ

✗ 2. ओडिसी

✗ 3. कुचिपुड़ी

✓ 4. कथक

Question Type : MCQ

Question ID : 264330138878

Option 1 ID : 264330544119

Option 2 ID : 264330544122

Option 3 ID : 264330544121

Option 4 ID : 264330544120

Status : Answered

Chosen Option : 4

Q.3 निम्नलिखित में से किसने पेरिस में फेंच ओपन 2022 बैडमिंटन टूर्नामेंट पुरुष युगल (Men's Doubles) का खिताब जीता?

Ans ✓ 1.

चिराग शेट्टी (Chirag Shetty) और सात्विकसाईराज रंकी रेड्डी (Satwiksairaj Ranki Reddy)

✗ 2.

ताकुरो होकी (Takuro Hoki) और युगो कोबायाशी (Yugo Kobayashi)

✗ 3.

लू चिंग याओ (Lu Ching Yao) और यांग पो हान (Yang Po Han)

✗ 4.

को सुंग ह्यून (Ko Sung Hyun) और शिन बेक चेओल (Shin Baek Cheol)

Question Type : MCQ

Question ID : 264330137991

Option 1 ID : 264330540571

Option 2 ID : 264330540572

Option 3 ID : 264330540573

Option 4 ID : 264330540574

Status : Answered

Chosen Option : 3

Q.4 आधुनिक भारतीय भाषाओं का दूसरा सबसे बड़ा परिवार कौन-सा है?

- Ans
- ✗ 1. ऑस्ट्रिक (निषाद)
 - ✗ 2. चीन-तिब्बती (किराता)
 - ✓ 3. द्रविड़ियन (द्रविड़)
 - ✗ 4. भारतीय - यूरोपीय (आर्यन)

Question Type : MCQ
Question ID : 264330138643
Option 1 ID : 264330543182
Option 2 ID : 264330543180
Option 3 ID : 264330543179
Option 4 ID : 264330543181
Status : Answered
Chosen Option : 3

Q.5 Bhopal gas disaster occurred in which of the following factory?

- Ans
- ✓ 1. Union Carbide Pesticide plant
 - ✗ 2. Meghnagar Pharmachem Pvt Ltd
 - ✗ 3. Bhopal Incinerator Ltd.
 - ✗ 4. Standard Surfactants Limited

Question Type : MCQ
Question ID : 264330138888
Option 1 ID : 264330544160
Option 2 ID : 264330544159
Option 3 ID : 264330544162
Option 4 ID : 264330544161
Status : Answered
Chosen Option : 2

Q.6 ड्रिब्लिंग (Dribbling) _____ खेल से संबंधित है।

- Ans
- ✗ 1. बैडमिंटन
 - ✗ 2. तैराकी
 - ✗ 3. क्रिकेट
 - ✓ 4. बास्केटबॉल

Question Type : MCQ
Question ID : 264330133929
Option 1 ID : 264330524741
Option 2 ID : 264330524742
Option 3 ID : 264330524740
Option 4 ID : 264330524739
Status : Answered
Chosen Option : 2

Q.7 यक्षगान निम्नलिखित में से किस राज्य से संबंधित एक प्रसिद्ध लोकनृत्य है?

- Ans
- 1. केरल
 - 2. कर्नाटक
 - 3. तमिलनाडु
 - 4. उड़ीसा

Question Type : MCQ
Question ID : 264330137971
Option 1 ID : 264330540491
Option 2 ID : 264330540492
Option 3 ID : 264330540493
Option 4 ID : 264330540494
Status : Answered
Chosen Option : 2

Q.8 भारतीय अर्थव्यवस्था में बैंक दर _____ द्वारा निर्धारित की जाती है।

- Ans
- 1. भारत के वित्त मंत्रालय
 - 2. भारतीय रिज़र्व बैंक
 - 3. भारतीय प्रतिभूति और विनिमय बोर्ड
 - 4. भारतीय स्टेट बैंक

Question Type : MCQ
Question ID : 264330138881
Option 1 ID : 264330544134
Option 2 ID : 264330544132
Option 3 ID : 264330544131
Option 4 ID : 264330544133
Status : Answered
Chosen Option : 2

Q.9 निम्नलिखित में से किस सुधार के कारण 1919 का भारत सरकार अधिनियम लागू हुआ?

- Ans
- 1. मांटेग्यू-चेम्सफोर्ड सुधार (Montagu- Chelmsford reforms)
 - 2. मार्ले-मिंटो सुधार (Morley-Minto reforms)
 - 3. गुलामी विरोधी सुधार (Antislavery reforms)
 - 4. यंग बंगाल आंदोलन (Young Bengal movement)

Question Type : MCQ
Question ID : 264330133971
Option 1 ID : 264330524910
Option 2 ID : 264330524909
Option 3 ID : 264330524907
Option 4 ID : 264330524908
Status : Answered
Chosen Option : 1

Q.10 'आई टू हैड ए लव स्टोरी (I Too Had a Love Story)' उपन्यास _____ द्वारा लिखा गया है।

- Ans
- 1. अरविंद अडिगा
 - 2. रस्किन बॉन्ड
 - 3. रविंदर सिंह
 - 4. दुर्जोय दत्ता

Question Type : MCQ
Question ID : 264330138876
Option 1 ID : 264330544112
Option 2 ID : 264330544111
Option 3 ID : 264330544113
Option 4 ID : 264330544114
Status : Answered
Chosen Option : 1

Q.11 निम्नलिखित में से कौनसी पश्चिम बंगाल की सबसे ऊँची चोटी है?

- Ans
- 1. संदक्फू (Sandakphu)
 - 2. सारामती (Saramati)
 - 3. देवमाली (Deomali)
 - 4. डोड्डाबेट्टा (Doddabetta)

Question Type : MCQ
Question ID : 264330137979
Option 1 ID : 264330540526
Option 2 ID : 264330540523
Option 3 ID : 264330540524
Option 4 ID : 264330540525
Status : Answered
Chosen Option : 4

Q.12 विज्ञान की आवर्त सारणी में "H" किस रासायनिक तत्व का प्रतीक है?

- Ans
- 1. होल्मियम (Holmium)
 - 2. हीलियम (Helium)
 - 3. पारा (Mercury)
 - 4. हाइड्रोजन (Hydrogen)

Question Type : MCQ
Question ID : 264330133911
Option 1 ID : 264330524670
Option 2 ID : 264330524667
Option 3 ID : 264330524669
Option 4 ID : 264330524668
Status : Answered
Chosen Option : 4

Q.13 प्रतिस्पर्धा (संशोधन) विधेयक, 2022 भारत के _____ मंत्रालय से संबंधित है।

- Ans
- ✓ 1. कॉर्पोरेट कार्य
 - ✗ 2. वित्त
 - ✗ 3. जनजातीय कार्य
 - ✗ 4. विधि एवं न्याय

Question Type : MCQ
Question ID : 264330133957
Option 1 ID : 264330524852
Option 2 ID : 264330524851
Option 3 ID : 264330524854
Option 4 ID : 264330524853
Status : Answered
Chosen Option : 1

Q.14 निम्नलिखित में से कौन-सा एक जीवाणु रोग नहीं है?

- Ans
- ✗ 1. महामारी (Plague)
 - ✓ 2. जलांतक (Rabies)
 - ✗ 3. हैज़ा (Cholera)
 - ✗ 4. मोतीझरा (Typhoid)

Question Type : MCQ
Question ID : 264330137975
Option 1 ID : 264330540509
Option 2 ID : 264330540508
Option 3 ID : 264330540507
Option 4 ID : 264330540510
Status : Answered
Chosen Option : 2

Q.15 "संघ" में रहने वाले बौद्ध भिक्षुओं के लिए बनाए गए नियम _____ नामक ग्रंथ में मिलते हैं।

- Ans
- ✗ 1. सुत्तपिटक
 - ✗ 2. अभिधम्मपिटक
 - ✗ 3. मिलिंदपन्ह
 - ✓ 4. विनयपिटक

Question Type : MCQ
Question ID : 264330138317
Option 1 ID : 264330541875
Option 2 ID : 264330541878
Option 3 ID : 264330541876
Option 4 ID : 264330541877
Status : Answered
Chosen Option : 2

Q.16 भारतीय संविधान का निम्नलिखित में से कौन-सा अनुच्छेद "मौलिक कर्तव्यों (Fundamental Duties)" से संबंधित है?

- Ans
- 1. 54-A
 - 2. 51-A
 - 3. 55-A
 - 4. 61-A

Question Type : MCQ

Question ID : 264330137989

Option 1 ID : 264330540565

Option 2 ID : 264330540566

Option 3 ID : 264330540563

Option 4 ID : 264330540564

Status : Answered

Chosen Option : 2

Q.17 2022 में, केंद्रीय इलेक्ट्रॉनिक्स और सूचना प्रौद्योगिकी मंत्रालय ने _____ में ग्रीनफील्ड इलेक्ट्रॉनिक्स मैनुफैक्चरिंग क्लस्टर (EMC - Electronics Manufacturing Cluster) को मंजूरी दी।

- Ans
- 1. पश्चिम बंगाल
 - 2. केरल
 - 3. महाराष्ट्र
 - 4. राजस्थान

Question Type : MCQ

Question ID : 264330137969

Option 1 ID : 264330540485

Option 2 ID : 264330540483

Option 3 ID : 264330540486

Option 4 ID : 264330540484

Status : Answered

Chosen Option : 1

Q.18 भारत के पड़ोसी देश बांग्लादेश की आधिकारिक भाषा कौन-सी है?

- Ans
- 1. जॉंगखा (Dzongkha)
 - 2. उर्दू
 - 3. बंगाली
 - 4. हिन्दी

Question Type : MCQ

Question ID : 264330135471

Option 1 ID : 264330530794

Option 2 ID : 264330530792

Option 3 ID : 264330530793

Option 4 ID : 264330530791

Status : Answered

Chosen Option : 1

Q.19 सिक्किम में "लोसर (Losar)" का त्योहार नव वर्ष के रूप में मनाया जाता है। यह _____ चंद्र कैलेंडर के पहले महीने के पहले दिन मनाया जाता है।

- Ans
- ✓ 1. तिब्बती
 - ✗ 2. फ़ारसी
 - ✗ 3. ग्रेगोरियन
 - ✗ 4. इस्लामी

Question Type : MCQ
Question ID : 264330138297
Option 1 ID : 264330541795
Option 2 ID : 264330541798
Option 3 ID : 264330541796
Option 4 ID : 264330541797
Status : Answered
Chosen Option : 3

Q.20 किसने बदायूं (1197-98 ई.) पर कब्जा करके इल्तुतमिश को वहाँ के पहले मुस्लिम गवर्नर के रूप में नियुक्त किया?

- Ans
- ✗ 1. मुहम्मद गोरी
 - ✓ 2. कुतुबुद्दीन ऐबक
 - ✗ 3. महाराणा प्रताप
 - ✗ 4. पृथ्वीराज चौहान

Question Type : MCQ
Question ID : 264330133920
Option 1 ID : 264330524706
Option 2 ID : 264330524705
Option 3 ID : 264330524704
Option 4 ID : 264330524703
Status : Answered
Chosen Option : 1

Q.21 अखिल भारतीय मुस्लिम लीग का गठन ढाका में वर्ष _____ में हुआ था।

- Ans
- ✗ 1. 1904
 - ✓ 2. 1906
 - ✗ 3. 1908
 - ✗ 4. 1902

Question Type : MCQ
Question ID : 264330138320
Option 1 ID : 264330541888
Option 2 ID : 264330541889
Option 3 ID : 264330541890
Option 4 ID : 264330541887
Status : Answered
Chosen Option : 2

Q.22 निम्नलिखित में से किसका संबंध तबला से नहीं है?

- Ans
- ✗ 1. संदीप दास (Sandeep Das)
 - ✗ 2. जान प्रकाश घोष (Jnan Prakash Ghosh)
 - ✗ 3. साबिर खान (Sabir Khan)
 - ✓ 4. शकूर खान (Shakoor Khan)

Question Type : MCQ
Question ID : 264330137987
Option 1 ID : 264330540555
Option 2 ID : 264330540556
Option 3 ID : 264330540557
Option 4 ID : 264330540558
Status : Answered
Chosen Option : 4

Q.23 भारतीय संविधान के निम्नलिखित में से किस अनुच्छेद में भारत के महान्यायवादी का प्रावधान है?

- Ans
- ✗ 1. 72
 - ✓ 2. 76
 - ✗ 3. 79
 - ✗ 4. 81

Question Type : MCQ
Question ID : 264330137990
Option 1 ID : 264330540567
Option 2 ID : 264330540568
Option 3 ID : 264330540569
Option 4 ID : 264330540570
Status : Answered
Chosen Option : 2

Q.24 प्रीत एक ऐसे महासागर के बारे में लिखती हैं जो उत्तरी अमेरिका को यूरोप से अलग करता है। यह कौन सा महासागर है?

- Ans
- ✓ 1. अटलांटिक महासागर
 - ✗ 2. प्रशांत महासागर
 - ✗ 3. आर्कटिक महासागर
 - ✗ 4. हिंद महासागर

Question Type : MCQ
Question ID : 264330133914
Option 1 ID : 264330524682
Option 2 ID : 264330524681
Option 3 ID : 264330524679
Option 4 ID : 264330524680
Status : Answered
Chosen Option : 4

Q.25 राजस्थान के माउंट आबू में दिलवाड़ा मंदिर (Dilwara Temple) _____ मंदिर शैली (temple architecture) का एक जीता-जागता उदाहरण है।

- Ans
- 1. बौद्ध
 - 2. द्रविड़
 - 3. जैन
 - 4. मुगल

Question Type : MCQ
Question ID : 264330133960
Option 1 ID : 264330524866
Option 2 ID : 264330524863
Option 3 ID : 264330524865
Option 4 ID : 264330524864
Status : Answered
Chosen Option : 3

Section : English Language and Comprehension

Q.1 Select the most appropriate option to fill in the blank.

We cannot _____ a religion or a political party that ignores the rights of half the human race.

- Ans
- 1. condemn
 - 2. disseminate
 - 3. forgive
 - 4. desiccate

Question Type : MCQ
Question ID : 264330136689
Option 1 ID : 264330535471
Option 2 ID : 264330535473
Option 3 ID : 264330535472
Option 4 ID : 264330535474
Status : Answered
Chosen Option : 1

Q.2 Select the most appropriate option to fill in the blank.

This initiative has been sharply criticised as grossly inefficient and _____.

- Ans
- 1. Capricious
 - 2. Counterproductive
 - 3. Canonical
 - 4. Calummy

Question Type : MCQ
Question ID : 264330136515
Option 1 ID : 264330534803
Option 2 ID : 264330534806
Option 3 ID : 264330534804
Option 4 ID : 264330534805
Status : Not Answered
Chosen Option : --

Q.3 Improve the underlined part of the sentence. Choose 'No improvement' as an answer if the sentence is grammatically correct.

The dessert was many sweet for my tastes.

- Ans**
- 1. No improvement
 - 2. too sweetly
 - 3. too sweet
 - 4. more sweeter

Question Type : **MCQ**
Question ID : **264330134827**
Option 1 ID : **264330528250**
Option 2 ID : **264330528249**
Option 3 ID : **264330528248**
Option 4 ID : **264330528247**
Status : **Answered**
Chosen Option : **3**

Q.4 Select the most appropriate word for the given group of words.

Open to more than one interpretation, not having one obvious meaning

- Ans**
- 1. Altercation
 - 2. Ambiguous
 - 3. Alchemy
 - 4. Amateur

Question Type : **MCQ**
Question ID : **264330136524**
Option 1 ID : **264330534836**
Option 2 ID : **264330534835**
Option 3 ID : **264330534838**
Option 4 ID : **264330534837**
Status : **Answered**
Chosen Option : **2**

Q.5 Select the correctly spelt word.

- Ans**
- 1. resind
 - 2. rescind
 - 3. recsind
 - 4. recind

Question Type : **MCQ**
Question ID : **264330136531**
Option 1 ID : **264330534864**
Option 2 ID : **264330534863**
Option 3 ID : **264330534866**
Option 4 ID : **264330534865**
Status : **Answered**
Chosen Option : **2**

Q.6 Choose the word that is opposite in meaning to the given word.

Doze

- Ans 1. Wake
 2. Cold
 3. Snooze
 4. Neglect

Question Type : MCQ
Question ID : 264330134442
Option 1 ID : 264330526740
Option 2 ID : 264330526741
Option 3 ID : 264330526739
Option 4 ID : 264330526742
Status : Answered
Chosen Option : 1

Q.7 Identify the segment that contains a grammatical error. If there is no error, select 'No error'.

The Federalists wished to/ make the central government/ as strong possible.

- Ans 1. The Federalists wished to
 2. as strong possible.
 3. No error
 4. make the central government

Question Type : MCQ
Question ID : 264330136511
Option 1 ID : 264330534787
Option 2 ID : 264330534789
Option 3 ID : 264330534790
Option 4 ID : 264330534788
Status : Answered
Chosen Option : 2

Q.8 Select the most appropriate meaning of the bracketed idiom in the given sentence.

Sure, fixing a flubbed decision isn't always (a piece of cake), but it's rarely impossible.

- Ans 1. A task that can be accomplished very easily
 2.
Having no stand, shows favour at one time and unfavour at another
 3. A rare event or occurrence
 4. The family bond is closer than anything else

Question Type : MCQ
Question ID : 264330136530
Option 1 ID : 264330534860
Option 2 ID : 264330534862
Option 3 ID : 264330534859
Option 4 ID : 264330534861
Status : Answered
Chosen Option : 3

Q.9 Select the most appropriate option to substitute the bracketed segment in the given sentence. If there is no need to substitute it, select 'no substitution required'.
The query isn't (whether he will admit it, but when).

- Ans**
- 1. whether he will admit it or not, but when?
 - 2. whether he will be admitting it or not, but when?
 - 3. No substitution required
 - 4. whether or nor he will admit it, but when?

Question Type : **MCQ**
Question ID : **264330136720**
Option 1 ID : **264330535592**
Option 2 ID : **264330535591**
Option 3 ID : **264330535594**
Option 4 ID : **264330535593**
Status : **Answered**
Chosen Option : **1**

Q.10 Select the most appropriate antonym to substitute the bracketed word in the given sentence.
They are virtually unimpeachable in the (unbiased), invariably correct reading of a race.

- Ans**
- 1. prejudiced
 - 2. ceasing
 - 3. captivity
 - 4. stranger

Question Type : **MCQ**
Question ID : **264330136528**
Option 1 ID : **264330534853**
Option 2 ID : **264330534852**
Option 3 ID : **264330534851**
Option 4 ID : **264330534854**
Status : **Not Answered**
Chosen Option : **--**

Q.11 Find the part of the given sentence that has an error in it. If there is no error, choose 'No error'.
Can you please help me to this project?

- Ans**
- 1. Can you please
 - 2. help me to
 - 3. No error
 - 4. this project?

Question Type : **MCQ**
Question ID : **264330134347**
Option 1 ID : **264330526375**
Option 2 ID : **264330526376**
Option 3 ID : **264330526378**
Option 4 ID : **264330526377**
Status : **Answered**
Chosen Option : **1**

Q.12 In the following question, out of the given four alternatives, select the alternative which best expresses the meaning of the Idiom/Phrase.
To kill two birds with one stone

- Ans
- 1. The weak point in a person
 - 2. To accidentally hurt someone's feelings
 - 3. To achieve two things with a single effort
 - 4. A work which needs tremendous efforts

Question Type : **MCQ**
Question ID : **264330134392**
Option 1 ID : **264330526548**
Option 2 ID : **264330526550**
Option 3 ID : **264330526547**
Option 4 ID : **264330526549**
Status : **Answered**
Chosen Option : **3**

Q.13 Select the most appropriate option to fill in the blank.

They probably subsisted on insects and other small _____ invertebrates and perhaps even on aquatic vertebrates.

- Ans
- 1. reverent
 - 2. skittish
 - 3. terrestrial
 - 4. recluse

Question Type : **MCQ**
Question ID : **264330136534**
Option 1 ID : **264330534876**
Option 2 ID : **264330534877**
Option 3 ID : **264330534878**
Option 4 ID : **264330534875**
Status : **Not Answered**
Chosen Option : **--**

Q.14 Select the most appropriate option to fill in the blank.

The duke had capacity, but his life was so _____ that what influence he had upon the king was for evil.

- Ans
- 1. lewd
 - 2. scrumptious
 - 3. seditious
 - 4. ambitious

Question Type : **MCQ**
Question ID : **264330136724**
Option 1 ID : **264330535609**
Option 2 ID : **264330535607**
Option 3 ID : **264330535608**
Option 4 ID : **264330535610**
Status : **Not Answered**
Chosen Option : **--**

Q.15 Select the word segment that substitutes (replaces) the bracketed word segment correctly and completes the sentence meaningfully. Select the option 'no correction required' if the sentence is correct as given.

The (roof collapsing) in a roar of rock and rubble.

- Ans**
- 1. roof collapsed
 - 2. roof was collapse
 - 3. No correction required
 - 4. roof have collapsed

Question Type : **MCQ**
Question ID : **264330136592**
Option 1 ID : **264330535101**
Option 2 ID : **264330535099**
Option 3 ID : **264330535102**
Option 4 ID : **264330535100**
Status : **Answered**
Chosen Option : **4**

Q.16 Select the most appropriate synonym of the given word.

Debased

- Ans**
- 1. Corrupted
 - 2. Unamenable
 - 3. Aggrandize
 - 4. Amenable

Question Type : **MCQ**
Question ID : **264330136525**
Option 1 ID : **264330534840**
Option 2 ID : **264330534841**
Option 3 ID : **264330534839**
Option 4 ID : **264330534842**
Status : **Not Answered**
Chosen Option : **--**

Q.17 Select the wrongly spelt word.

- Ans**
- 1. Unconventional
 - 2. Alturistc
 - 3. Ethical
 - 4. Unsavoury

Question Type : **MCQ**
Question ID : **264330136688**
Option 1 ID : **264330535469**
Option 2 ID : **264330535470**
Option 3 ID : **264330535467**
Option 4 ID : **264330535468**
Status : **Answered**
Chosen Option : **4**

Q.18 Select the word from the options which is similar in meaning to the bracketed word given in the sentence below.

Well, you want an (argument)," he added, "come on then."

- Ans
- 1. enhancement
 - 2. capability
 - 3. explanation
 - 4. agreement

Question Type : **MCQ**

Question ID : **264330136708**

Option 1 ID : **264330535546**

Option 2 ID : **264330535545**

Option 3 ID : **264330535544**

Option 4 ID : **264330535543**

Status : **Answered**

Chosen Option : **4**

Q.19 Identify the segment that contains a grammatical error. If there is no error, select 'No error'.

He belted two huge sixers, but / eleven to get of the last two / deliveries was a big ask.

- Ans
- 1. He belted two huge sixers, but
 - 2. eleven to get of the last two
 - 3. No error
 - 4. deliveries was a big ask.

Question Type : **MCQ**

Question ID : **264330136717**

Option 1 ID : **264330535579**

Option 2 ID : **264330535580**

Option 3 ID : **264330535582**

Option 4 ID : **264330535581**

Status : **Answered**

Chosen Option : **1**

Q.20 Choose the word that can substitute the given group of words.

A person who believes in the equality of all people

- Ans
- 1. Philodendron
 - 2. Philologist
 - 3. Philander
 - 4. Egalitarian

Question Type : **MCQ**

Question ID : **264330134386**

Option 1 ID : **264330526524**

Option 2 ID : **264330526523**

Option 3 ID : **264330526526**

Option 4 ID : **264330526525**

Status : **Answered**

Chosen Option : **2**

Comprehension:

In the following passage some of the words have been deleted. Read the passage carefully and select the correct answer for the given blank out of the four alternatives.

Network security (1) _____ securing a network and protecting the user's information about (2) _____ is connected through that network. Over the network (3) _____ steal, the packets of data through sniffing and spoofing (4) _____, man in the middle attack, war driving, etc, and misuse the data for their (5) _____.

SubQuestion No : 21

Q.21 Select the most appropriate option to fill in blank number 1.

- Ans 1. declares
 2. calls
 3. means
 4. names

Question Type : **MCQ**

Question ID : **264330134433**

Option 1 ID : **264330526703**

Option 2 ID : **264330526706**

Option 3 ID : **264330526705**

Option 4 ID : **264330526704**

Status : **Answered**

Chosen Option : **3**

Comprehension:

In the following passage some of the words have been deleted. Read the passage carefully and select the correct answer for the given blank out of the four alternatives.

Network security (1) _____ securing a network and protecting the user's information about (2) _____ is connected through that network. Over the network (3) _____ steal, the packets of data through sniffing and spoofing (4) _____, man in the middle attack, war driving, etc, and misuse the data for their (5) _____.

SubQuestion No : 22

Q.22 Select the most appropriate option to fill in blank number 2.

- Ans 1. whose
 2. which
 3. who
 4. that

Question Type : **MCQ**

Question ID : **264330134434**

Option 1 ID : **264330526708**

Option 2 ID : **264330526709**

Option 3 ID : **264330526710**

Option 4 ID : **264330526707**

Status : **Answered**

Chosen Option : **2**

Comprehension:

In the following passage some of the words have been deleted. Read the passage carefully and select the correct answer for the given blank out of the four alternatives.

Network security (1) _____ securing a network and protecting the user's information about (2) _____ is connected through that network. Over the network (3) _____ steal, the packets of data through sniffing and spoofing (4) _____, man in the middle attack, war driving, etc, and misuse the data for their (5) _____.

SubQuestion No : 23

Q.23 Select the most appropriate option to fill in blank number 3.

- Ans
- 1. engineers
 - 2. labourers
 - 3. hackers
 - 4. smugglers

Question Type : **MCQ**

Question ID : **264330134435**

Option 1 ID : **264330526711**

Option 2 ID : **264330526714**

Option 3 ID : **264330526713**

Option 4 ID : **264330526712**

Status : **Answered**

Chosen Option : **3**

Comprehension:

In the following passage some of the words have been deleted. Read the passage carefully and select the correct answer for the given blank out of the four alternatives.

Network security (1) _____ securing a network and protecting the user's information about (2) _____ is connected through that network. Over the network (3) _____ steal, the packets of data through sniffing and spoofing (4) _____, man in the middle attack, war driving, etc, and misuse the data for their (5) _____.

SubQuestion No : 24

Q.24 Select the most appropriate option to fill in blank number 4.

- Ans
- 1. attacks
 - 2. guards
 - 3. charges
 - 4. raids

Question Type : **MCQ**

Question ID : **264330134436**

Option 1 ID : **264330526718**

Option 2 ID : **264330526715**

Option 3 ID : **264330526716**

Option 4 ID : **264330526717**

Status : **Answered**

Chosen Option : **1**

Comprehension:

In the following passage some of the words have been deleted. Read the passage carefully and select the correct answer for the given blank out of the four alternatives.

Network security (1) _____ securing a network and protecting the user's information about (2) _____ is connected through that network. Over the network (3) _____ steal, the packets of data through sniffing and spoofing (4) _____, man in the middle attack, war driving, etc, and misuse the data for their (5) _____.

SubQuestion No : 25

Q.25 Select the most appropriate option to fill in blank number 5.

Ans 1. benefits

2. pleasure

3. hindrances

4. banes

Question Type : **MCQ**

Question ID : **264330134437**

Option 1 ID : **264330526721**

Option 2 ID : **264330526722**

Option 3 ID : **264330526720**

Option 4 ID : **264330526719**

Status : **Answered**

Chosen Option : **3**