

Multi Tasking Non Technical Staff and Havaldar CBIC and CBN Examination 2022

Roll Number	
Candidate Name	
Venue Name	Khwaja Gharib Nawaz College of Nursing
Exam Date	13/06/2023
Exam Time	9:00 AM - 10:30 AM
Subject	MTS Non Tech Havaldar CBIC and CBN Examination 2022

Section : Numerical and Mathematical Ability

Q.1 एक नाव स्थिर जल में 15 km/hr की चाल से चल सकती है। यदि धारा की चाल 5 km/hr है, तो नाव द्वारा धारा के अनुकूल 80 km जाने में लिया गया समय ज्ञात कीजिए।

- Ans
- 1. 3 hr
 - 2. 4 hr
 - 3. 6 hr
 - 4. 5 hr

Question Type : MCQ

Question ID : 264330140812

Option 1 ID : 264330551595

Option 2 ID : 264330551596

Option 3 ID : 264330551598

Option 4 ID : 264330551597

Status : Answered

Chosen Option : 2

Q.2 एक किसान की भूमि एक समलंब के आकार की है जिसकी समानांतर भुजाएँ 7.58 गज और 6.42 गज हैं और समानांतर भुजाओं के बीच की दूरी 6.50 गज है। भूमि की जुताई की लागत Rs. 2000 प्रति वर्ग गज है। पूरी भूमि को जोतने के लिए कितनी राशि खर्च करनी होगी?

- Ans
- 1. Rs. 72000
 - 2. Rs. 102000
 - 3. Rs. 85000
 - 4. Rs. 91000

Question Type : MCQ

Question ID : 264330140227

Option 1 ID : 264330549288

Option 2 ID : 264330549287

Option 3 ID : 264330549290

Option 4 ID : 264330549289

Status : Answered

Chosen Option : 4

Q.3 एक घड़ी का क्रय मूल्य Rs.750 है। यदि हानि प्रतिशत 40 प्रतिशत है, तो हानि का मान क्या है?

- Ans
- ✓ 1. Rs. 300
 - ✗ 2. Rs. 420
 - ✗ 3. Rs. 280
 - ✗ 4. Rs. 220

Question Type : MCQ

Question ID : 264330139897

Option 1 ID : 264330547969

Option 2 ID : 264330547968

Option 3 ID : 264330547970

Option 4 ID : 264330547967

Status : Answered

Chosen Option : 1

Q.4 एक कलम का अंकित मूल्य Rs.5000 है। दुकानदार ग्राहक को 15 प्रतिशत और b प्रतिशत के दो क्रमागत बड़े देता है। यदि ग्राहक कलम के लिए Rs.4080 का भुगतान करता है, तो b का मान क्या है?

- Ans
- ✗ 1. 3 प्रतिशत
 - ✗ 2. 7.5 प्रतिशत
 - ✓ 3. 4 प्रतिशत
 - ✗ 4. 5 प्रतिशत

Question Type : MCQ

Question ID : 264330140251

Option 1 ID : 264330549383

Option 2 ID : 264330549386

Option 3 ID : 264330549384

Option 4 ID : 264330549385

Status : Answered

Chosen Option : 3

Q.5 135 kg मिश्रधातु A को 72 kg मिश्रधातु B के साथ मिलाने पर एक नई मिश्रधातु प्राप्त होती है। यदि मिश्रधातु A में जिंक और कॉपर का अनुपात 4 : 5 है और मिश्रधातु B में जिंक और कॉपर का अनुपात 7 : 5 है, तो नई मिश्रधातु में जिंक का भार कितना है?

- Ans
- ✓ 1. 102 kg
 - ✗ 2. 85 kg
 - ✗ 3. 115 kg
 - ✗ 4. 92 kg

Question Type : MCQ

Question ID : 264330140640

Option 1 ID : 264330550910

Option 2 ID : 264330550908

Option 3 ID : 264330550909

Option 4 ID : 264330550907

Status : Answered

Chosen Option : 1

Q.6 एक संख्या में 30% की वृद्धि की जाती है और फिर बड़ी हुई संख्या में 30% की कमी की जाती है। संख्या में निवल वृद्धि या कमी है:

Ans 1. 12% की वृद्धि

2. 30% की वृद्धि

3. 9% की कमी

4. 15% की कमी

Question Type : MCQ

Question ID : 264330140826

Option 1 ID : 264330551654

Option 2 ID : 264330551651

Option 3 ID : 264330551653

Option 4 ID : 264330551652

Status : Answered

Chosen Option : 3

Q.7 L, P और Q ने एक साथ मिलकर एक कार्य को पूरा किया। L और P ने मिलकर कार्य का 50 प्रतिशत भाग पूरा किया और P और Q ने मिलकर कार्य का 60 प्रतिशत भाग पूरा किया। तीनों में से कौन सबसे कुशल है?

Ans 1. L

2. Q

3. सभी समान रूप से कुशल हैं

4. P

Question Type : MCQ

Question ID : 264330139017

Option 1 ID : 264330544675

Option 2 ID : 264330544677

Option 3 ID : 264330544678

Option 4 ID : 264330544676

Status : Answered

Chosen Option : 4

Q.8 रोहित और मोहित एक कार्य को 4 दिनों में कर सकते हैं, जबकि राम और श्याम उसी कार्य को 12 दिनों में कर सकते हैं। रोहित, मोहित, राम और श्याम मिलकर इसे कितने दिनों में करेंगे?

Ans 1. 5 दिन

2. 2 दिन

3. 4 दिन

4. 3 दिन

Question Type : MCQ

Question ID : 264330140814

Option 1 ID : 264330551606

Option 2 ID : 264330551603

Option 3 ID : 264330551605

Option 4 ID : 264330551604

Status : Answered

Chosen Option : 4

Q.9 $\frac{12 \times 4 \div 3 \text{ of } 16 + 24 - 5}{46 \div 23 \times 2}$ का मान क्या है?

- Ans
- 1. 3
 - 2. 4
 - 3. 5
 - 4. 6

Question Type : MCQ

Question ID : 264330139947

Option 1 ID : 264330548168

Option 2 ID : 264330548167

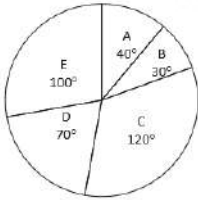
Option 3 ID : 264330548170

Option 4 ID : 264330548169

Status : Answered

Chosen Option : 3

Q.10 नीचे दिए गए वृत्त आलेख में पाँच विश्वविद्यालयों में शिक्षकों की संख्या को दर्शाया गया है। इन सभी पाँच विश्वविद्यालयों में कुल शिक्षक 720 हैं। इनमें से किसी एक विशिष्ट विश्वविद्यालय में शिक्षकों की संख्या को इन सभी पाँच विश्वविद्यालयों में शिक्षकों की कुल संख्या के सापेक्ष डिग्री में दर्शाया गया है।



J1 = B और C में शिक्षकों की औसत संख्या का मान।

J2 = A और E में शिक्षकों की औसत संख्या का मान।

(J2 + J1) का मान क्या है?

- Ans
- 1. 290
 - 2. 250
 - 3. 210
 - 4. 240

Question Type : MCQ

Question ID : 264330139930

Option 1 ID : 264330548100

Option 2 ID : 264330548099

Option 3 ID : 264330548102

Option 4 ID : 264330548101

Status : Answered

Chosen Option : 1

Q.11 नीचे दी गई तालिका में 6 वर्षों में एक विद्यालय में लड़के और लड़कियों की संख्या को दर्शाया गया है।

वर्ष	लड़के	लड़कियाँ
Y1	90	80
Y2	70	60
Y3	130	110
Y4	110	150
Y5	170	50
Y6	100	90

निम्नलिखित में से कौन-सा कथन सही नहीं है?

I. वर्ष Y6 में लड़कियों की संख्या, वर्ष Y6 में लड़कों की संख्या का 9 प्रतिशत है।

II. वर्ष Y1 और Y2 में लड़कों की औसत संख्या 80 है।

Ans

- ✓ 1. केवल I
✗ 2. न तो I और ना ही II
✗ 3. I और II दोनों
✗ 4. केवल II

Question Type : MCQ

Question ID : 264330139646

Option 1 ID : 264330546999

Option 2 ID : 264330547002

Option 3 ID : 264330547001

Option 4 ID : 264330547000

Status : Answered

Chosen Option : 4

Q.12 एक व्यक्ति द्वारा 15 वर्षों में Rs.6000 के मूलधन पर प्राप्त साधारण ब्याज मूलधन का 150 प्रतिशत है। वार्षिक ब्याज दर क्या है?

Ans

- ✗ 1. 25 प्रतिशत
✗ 2. 30 प्रतिशत
✓ 3. 10 प्रतिशत
✗ 4. 20 प्रतिशत

Question Type : MCQ

Question ID : 264330140621

Option 1 ID : 264330550831

Option 2 ID : 264330550832

Option 3 ID : 264330550834

Option 4 ID : 264330550833

Status : Answered

Chosen Option : 3

Q.13 24 प्रेक्षकों का औसत 41 है। पहले 9 प्रेक्षकों का औसत 42 है। अंतिम 16 प्रेक्षकों का औसत 39 है। 9वें प्रेक्षण का मान क्या है?

- Ans 1. 18
 2. 24
 3. 14
 4. 20

Question Type : MCQ
Question ID : 264330140587
Option 1 ID : 264330550702
Option 2 ID : 264330550701
Option 3 ID : 264330550700
Option 4 ID : 264330550699
Status : Answered
Chosen Option : 1

Q.14 $\sqrt{0.52 \times 0.52 + 0.31 \times 0.31 + 0.62 \times 0.52}$ का मान क्या है?

- Ans 1. 0.63
 2. 0.93
 3. 0.83
 4. 0.73

Question Type : MCQ
Question ID : 264330140550
Option 1 ID : 264330550558
Option 2 ID : 264330550556
Option 3 ID : 264330550557
Option 4 ID : 264330550555
Status : Answered
Chosen Option : 3

Q.15 एक दुकानदार एक पुस्तक को 60 प्रतिशत की हानि पर बेचता है। यदि उसने पुस्तक को Rs. 150 अधिक में बेचा होता, तो उसे 30 प्रतिशत की हानि होती। 20 प्रतिशत का लाभ कमाने के लिए पुस्तक का विक्रय मूल्य कितना होना चाहिए?

- Ans 1. Rs. 600
 2. Rs. 700
 3. Rs. 550
 4. Rs. 650

Question Type : MCQ
Question ID : 264330140638
Option 1 ID : 264330550900
Option 2 ID : 264330550901
Option 3 ID : 264330550902
Option 4 ID : 264330550899
Status : Answered
Chosen Option : 1

Q.16 एक गोले का व्यास 14.7 मीटर है। गोले का आयतन क्या है?

- Ans
- 1. $1693.563 m^3$
 - 2. $1783.723 m^3$
 - 3. $1873.487 m^3$
 - 4. $1663.893 m^3$

Question Type : MCQ

Question ID : 264330138454

Option 1 ID : 264330542424

Option 2 ID : 264330542423

Option 3 ID : 264330542425

Option 4 ID : 264330542426

Status : Answered

Chosen Option : 4

Q.17 Rs.50 प्रति लीटर (per litre) मूल्य वाले दूध में पानी को किस अनुपात में मिलाया जाए कि Rs.35 प्रति लीटर मूल्य का मिश्रण प्राप्त हो? (पानी मुफ्त में उपलब्ध है)

- Ans
- 1. 3:7
 - 2. 2:7
 - 3. 3:5
 - 4. 7:5

Question Type : MCQ

Question ID : 264330133839

Option 1 ID : 264330524381

Option 2 ID : 264330524382

Option 3 ID : 264330524379

Option 4 ID : 264330524380

Status : Answered

Chosen Option : 1

Q.18 यदि $X : Y = 2 : 3$ और $Y : Z = 6 : 7$ है, तो $(X + Z) : Y$ का मान क्या है?

- Ans
- 1. 11 : 8
 - 2. 17 : 15
 - 3. 17 : 14
 - 4. 11 : 6

Question Type : MCQ

Question ID : 264330139596

Option 1 ID : 264330546800

Option 2 ID : 264330546802

Option 3 ID : 264330546799

Option 4 ID : 264330546801

Status : Answered

Chosen Option : 4

Q.19 तीन अंकों की वह सबसे छोटी संख्या कौन-सी है जिसमें 5 की वृद्धि करने पर, वह 2 और 3 दोनों से भाज्य होती है?

- Ans
- 1. 105
 - 2. 103
 - 3. 108
 - 4. 102

Question Type : MCQ
Question ID : 264330140598
Option 1 ID : 264330550744
Option 2 ID : 264330550743
Option 3 ID : 264330550745
Option 4 ID : 264330550746
Status : Answered
Chosen Option : 1

Q.20 एक राशि का (वार्षिक रूप से संयोजित) चक्रवृद्धि ब्याज की एक योजना में निवेश करने पर, वह 2 वर्षों में Rs.33800 और 3 वर्षों में Rs.43,940 हो जाती है। यदि उसी योजना में 2 वर्षों के लिए दोगुनी राशि का निवेश किया जाए, तो 2 वर्ष के अंत में प्राप्त होने वाली राशि कितनी होगी?

- Ans
- 1. Rs. 67,600
 - 2. Rs. 71,240
 - 3. Rs. 60,420
 - 4. Rs. 62,480

Question Type : MCQ
Question ID : 264330140574
Option 1 ID : 264330550650
Option 2 ID : 264330550649
Option 3 ID : 264330550647
Option 4 ID : 264330550648
Status : Not Answered
Chosen Option : --

Section : Reasoning Ability and Problem Solving

Q.1 एक निश्चित कूट भाषा में, 'BECOME' को 'HPRFHE' लिखा जाता है। उस कूट भाषा में 'ACTIVE' को कैसे लिखा जाएगा?

- Ans
- 1. HYLWFC
 - 2. HYLWDD
 - 3. HYLVFD
 - 4. HYLWFD

Question Type : MCQ
Question ID : 264330139553
Option 1 ID : 264330546630
Option 2 ID : 264330546628
Option 3 ID : 264330546629
Option 4 ID : 264330546627
Status : Answered
Chosen Option : 4

Q.2 आठ लड़के राम, सुमित, सुनील, राहुल, राज, अमन, अमित और अनिल एक वृत्ताकार मेज के चारों ओर केंद्र के विपरीत दिशा की ओर मुख करके बैठे हैं (परंतु जरूरी नहीं कि वे इसी क्रम में बैठें हों)। सुनील, राम के ठीक बाईं ओर बैठा है। राम, राहुल के बाईं ओर से चौथे स्थान पर है। अमित, राज के दाईं ओर से चौथे स्थान पर है। राज, राम के दाईं ओर से दूसरे स्थान पर है। अनिल, सुमित के बाईं ओर से दूसरे स्थान पर है। अमन, सुमित के दाईं ओर से दूसरे स्थान पर है। सुनील के दाईं ओर से दूसरे स्थान पर कौन है?

- Ans**
- 1. अमन
 - 2. अनिल
 - 3. राहुल
 - 4. राज

Question Type : **MCQ**

Question ID : **264330140060**

Option 1 ID : **264330548620**

Option 2 ID : **264330548619**

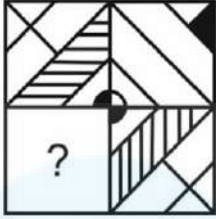
Option 3 ID : **264330548621**

Option 4 ID : **264330548622**

Status : **Answered**

Chosen Option : **2**

Q.3 उस विकल्प आकृति को चुनिए जो नीचे दी गई आकृति में पैटर्न को पूरा करने के लिए प्रश्न चिन्ह (?) के स्थान पर आएगी। (घूर्णन की अनुमति नहीं है)।



Ans

✗ 1.



✗ 2.



✗ 3.



✓ 4.



Question Type : MCQ

Question ID : 264330140471

Option 1 ID : 264330550266

Option 2 ID : 264330550265

Option 3 ID : 264330550263

Option 4 ID : 264330550264

Status : Answered

Chosen Option : 3

Q.4 दी गई श्रृंखला में निम्नलिखित में से कौन-सी संख्या प्रश्न चिन्ह (?) के स्थान पर आएगी?
48, 50, 53, 58, 65, 76, 89, ?

- Ans 1. 106
 2. 203
 3. 195
 4. 150

Question Type : MCQ
Question ID : 264330140145
Option 1 ID : 264330548959
Option 2 ID : 264330548960
Option 3 ID : 264330548962
Option 4 ID : 264330548961
Status : Answered
Chosen Option : 1

Q.5 एक निश्चित कूट भाषा में, 'XIWG' को 'HXJY' लिखा जाता है। उस कूट भाषा में 'MSOE' को कैसे लिखा जाएगा?

- Ans 1. FPTN
 2. FNTP
 3. FPTT
 4. FTPN

Question Type : MCQ
Question ID : 264330140136
Option 1 ID : 264330548925
Option 2 ID : 264330548924
Option 3 ID : 264330548926
Option 4 ID : 264330548923
Status : Answered
Chosen Option : 1

Q.6 यदि A का अर्थ 'जोड़', B का अर्थ 'गुणा', C का अर्थ 'घटाव' और D का अर्थ 'भाग' हो, तो निम्नलिखित समीकरण का मान क्या होगा?
 $7 B 5 A 31 C (48 D 6) = ?$

- Ans 1. 58
 2. 62
 3. 38
 4. 46

Question Type : MCQ
Question ID : 264330140006
Option 1 ID : 264330548404
Option 2 ID : 264330548406
Option 3 ID : 264330548405
Option 4 ID : 264330548403
Status : Answered
Chosen Option : 1

Q.7 एक निश्चित कूट भाषा में, 'MANAGE' को '629023', 'NARAT' को '52342', 'TENM' को '3695' लिखा जाता है।
उस कूट भाषा में 'R' को कैसे लिखा जाएगा?

- Ans
- 1. 2
 - 2. 5
 - 3. 4
 - 4. 3

Question Type : MCQ

Question ID : 264330140980

Option 1 ID : 264330552268

Option 2 ID : 264330552267

Option 3 ID : 264330552269

Option 4 ID : 264330552270

Status : Answered

Chosen Option : 3

Q.8 निम्नलिखित प्रश्न में, दी गई श्रृंखला में लुप्त संख्या को चुनिए।

10, -18, -46, -74, -102, ?

- Ans
- 1. -140
 - 2. -130
 - 3. -133
 - 4. -150

Question Type : MCQ

Question ID : 264330140967

Option 1 ID : 264330552216

Option 2 ID : 264330552215

Option 3 ID : 264330552217

Option 4 ID : 264330552218

Status : Answered

Chosen Option : 2

Q.9 दो कथन दिए गए हैं और दो निष्कर्ष I और II दिए गए हैं। कथनों को सत्य मानते हुए, चाहे वे सामान्यतः ज्ञात तथ्यों से अलग प्रतीत होते हों, निश्चय कीजिए कि कौन-सा निष्कर्ष तार्किक रूप से कथनों के अनुसार है।
कथन:

कुछ चींटियाँ, चमगादड़ हैं।

कुछ चमगादड़, बिल्लियाँ हैं।

निष्कर्ष:

I. कुछ चींटियाँ, बिल्लियाँ हैं।

II. सभी चमगादड़ कभी भी बिल्लियाँ नहीं हो सकते।

Ans

1. केवल निष्कर्ष I कथनों के अनुसार है।
2. केवल निष्कर्ष II कथनों के अनुसार है।
3. दोनों निष्कर्ष I और II कथनों के अनुसार हैं।
4. न तो निष्कर्ष I और न ही II कथनों के अनुसार है।

Question Type : MCQ

Question ID : 264330140103

Option 1 ID : 264330548791

Option 2 ID : 264330548792

Option 3 ID : 264330548793

Option 4 ID : 264330548794

Status : Answered

Chosen Option : 4

Q.10 उस विकल्प को चुनिए जो पाँचवें पद से ठीक उसी प्रकार संबंधित है जिस प्रकार दूसरा पद पहले पद से संबंधित है और चौथा पद तीसरे पद से संबंधित है।

TRA : FNW :: MNG : LJP :: FOK : ?

Ans

1. PKJ
2. PLJ
3. PLI
4. PKI

Question Type : MCQ

Question ID : 264330140978

Option 1 ID : 264330552260

Option 2 ID : 264330552259

Option 3 ID : 264330552262

Option 4 ID : 264330552261

Status : Answered

Chosen Option : 4

Q.11 पाँच लड़कियाँ बबीता, लिता, मीता, रीता और टीना एक खेल खेल रही हैं। वे एक पंक्ति में उत्तर की ओर मुख करके बैठी हैं। मीता पश्चिम छोर पर बैठी है और टीना पूर्वी छोर पर बैठी है। लिता और रीता एक-दूसरे के बगल में बैठी हैं। बबीता, लिता के ठीक बाईं ओर तथा मीता के दाईं ओर बैठी है। पूर्वी छोर से दूसरे स्थान पर कौन बैठा है?

- Ans
- 1. टीना
 - 2. बबीता
 - 3. लिता
 - 4. रीता

Question Type : MCQ

Question ID : 264330140099

Option 1 ID : 264330548777

Option 2 ID : 264330548778

Option 3 ID : 264330548775

Option 4 ID : 264330548776

Status : Answered

Chosen Option : 4

Q.12 दी गई आकृति के उस सही दर्पण प्रतिबिंब को चुनिए, जो नीचे दर्शाए गए अनुसार दर्पण को MN पर रखने पर बनेगा।

REPLACE

M
N

- Ans
- 1.
 - 2.
 - 3.
 - 4.

Question Type : MCQ

Question ID : 264330140470

Option 1 ID : 264330550262

Option 2 ID : 264330550261

Option 3 ID : 264330550260

Option 4 ID : 264330550259

Status : Answered

Chosen Option : 2

Q.13 उस समुच्चय को चुनिए जिसमें दी गई संख्याएँ ठीक उसी प्रकार संबंधित हैं जिस प्रकार निम्नलिखित समुच्चयों की संख्याएँ संबंधित हैं। (ध्यान दें: संख्याओं को उनके घटक अंकों में अलग-अलग किए बिना, पूर्ण संख्याओं पर संक्रियाएँ की जानी चाहिए। उदा. 13 - 13 पर संक्रियाएँ जैसे 13 को जोड़ना /घटाना /गुणा करना आदि किया जा सकता है। 13 को 1 और 3 में अलग-अलग करने की और फिर 1 और 3 पर गणितीय संक्रियाएँ करने की अनुमति नहीं है)
(4, 6, 72)
(5, 7, 105)

- Ans
- 1. (3, 6, 36)
 - 2. (2, 5, 40)
 - 3. (6, 8, 144)
 - 4. (6, 9, 108)

Question Type : MCQ
Question ID : 264330140486
Option 1 ID : 264330550323
Option 2 ID : 264330550324
Option 3 ID : 264330550325
Option 4 ID : 264330550326
Status : Answered
Chosen Option : 3

Q.14 उस विकल्प को चुनिए जो तीसरे अक्षर-समूह से ठीक उसी प्रकार संबंधित है जिस प्रकार दूसरा अक्षर-समूह पहले अक्षर-समूह से संबंधित है।
BAG : ACZBFH :: DOG : ?

- Ans
- 1. CNEFHH
 - 2. CNEPFH
 - 3. CENPHF
 - 4. CENPFH

Question Type : MCQ
Question ID : 264330140074
Option 1 ID : 264330548675
Option 2 ID : 264330548678
Option 3 ID : 264330548676
Option 4 ID : 264330548677
Status : Answered
Chosen Option : 4

Q.15 उस विकल्प को चुनिए जो तीसरी संख्या से ठीक उसी तरह संबंधित है जिस तरह दूसरी संख्या पहली संख्या से संबंधित है।
529 : 577 :: 841 : ?

- Ans
- 1. 902
 - 2. 899
 - 3. 911
 - 4. 901

Question Type : MCQ
Question ID : 264330140465
Option 1 ID : 264330550242
Option 2 ID : 264330550239
Option 3 ID : 264330550241
Option 4 ID : 264330550240
Status : Answered
Chosen Option : 2

Q.16 दो कथन दिए गए हैं और दो निष्कर्ष I और II दिए गए हैं। कथनों को सत्य मानते हुए, चाहे वे सामान्यतः ज्ञात तथ्यों से अलग प्रतीत होते हों, निश्चय कीजिए कि कौन-सा निष्कर्ष तार्किक रूप से कथनों के अनुसार है।

कथन:

कुछ चाय, कॉफी हैं।

सभी कॉफी, मीठी हैं।

निष्कर्ष:

I. सभी मीठी, कॉफी हैं।

II. कुछ मीठी, चाय हैं।

Ans

- ✗ 1. दोनों निष्कर्ष I और II कथनों के अनुसार हैं
- ✓ 2. सिर्फ निष्कर्ष II कथनों के अनुसार है
- ✗ 3. निष्कर्ष I और II में से कोई भी कथनों के अनुसार नहीं है
- ✗ 4. सिर्फ निष्कर्ष I कथनों के अनुसार है

Question Type : MCQ

Question ID : 264330140461

Option 1 ID : 264330550225

Option 2 ID : 264330550224

Option 3 ID : 264330550226

Option 4 ID : 264330550223

Status : Answered

Chosen Option : 2

Q.17 उस विकल्प आकृति को चुनिए जिसमें दी गई आकृति (X) उसके भाग के रूप में निहित है (घूर्णन की अनुमति नहीं है)।



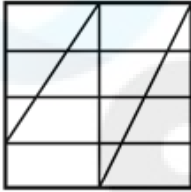
(X)

Ans

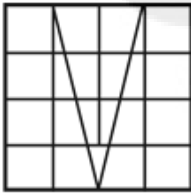
✗ 1.



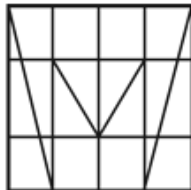
✗ 2.



✗ 3.



✓ 4.



Question Type : MCQ

Question ID : 264330140110

Option 1 ID : 264330548819

Option 2 ID : 264330548821

Option 3 ID : 264330548822

Option 4 ID : 264330548820

Status : Answered

Chosen Option : 4

Q.18 दिए गए समीकरण को सही करने के लिए किन दो संख्याओं को आपस में बदला जाना चाहिए?

$$192 \div 12 \times 6 + 16 - 18 = 66$$

Ans

✗ 1. 16 और 18

✗ 2. 6 और 18

✗ 3. 16 और 6

✓ 4. 16 और 12

Question Type : MCQ

Question ID : 264330140448

Option 1 ID : 264330550172

Option 2 ID : 264330550174

Option 3 ID : 264330550171

Option 4 ID : 264330550173

Status : Answered

Chosen Option : 4

Q.19 एक श्रृंखला दी गई है जिसमें एक पद लुप्त है। दिए गए विकल्पों में से उस सही विकल्प को चुनिए जो श्रृंखला को पूरा करेगा।

GRAM, JUDP, MXGS, ?, SDMY

- Ans
- 1. PAKV
 - 2. PAJV
 - 3. PBKV
 - 4. PAJU

Question Type : MCQ

Question ID : 264330139548

Option 1 ID : 264330546610

Option 2 ID : 264330546609

Option 3 ID : 264330546607

Option 4 ID : 264330546608

Status : Answered

Chosen Option : 2

Q.20 राहुल, हार्दिक, सूर्या, मोहन और कमल के कद की तुलना की जाती है। राहुल की लंबाई केवल तीन व्यक्तियों से कम है। सूर्या की लंबाई राहुल की लंबाई से न तो अधिक है और न ही कम है। कमल की लंबाई मोहन से अधिक लेकिन हार्दिक से कम है। कितने व्यक्तियों की लंबाई सूर्या से अधिक लेकिन हार्दिक से कम है?

- Ans
- 1. 0
 - 2. 3
 - 3. 1
 - 4. 2

Question Type : MCQ

Question ID : 264330139556

Option 1 ID : 264330546641

Option 2 ID : 264330546639

Option 3 ID : 264330546640

Option 4 ID : 264330546642

Status : Answered

Chosen Option : 2

Section : General Awareness

Q.1 पंजाब के प्रसिद्ध शीश महल का निर्माण निम्नलिखित में से किस शासक ने करवाया था?

- Ans
- 1. राणा कुंभ
 - 2. राजा मानसिंह प्रथम
 - 3. महाराजा सवाई प्रताप सिंह
 - 4. महाराजा नरिंदर सिंह

Question Type : MCQ

Question ID : 264330140935

Option 1 ID : 264330552090

Option 2 ID : 264330552089

Option 3 ID : 264330552087

Option 4 ID : 264330552088

Status : Answered

Chosen Option : 4

Q.2 पंथी नृत्य शैली भारत के _____ राज्य से संबंधित है।

- Ans
- 1. पंजाब
 - 2. महाराष्ट्र
 - 3. केरल
 - 4. छत्तीसगढ़

Question Type : MCQ
Question ID : 264330140728
Option 1 ID : 264330551259
Option 2 ID : 264330551262
Option 3 ID : 264330551260
Option 4 ID : 264330551261
Status : Answered
Chosen Option : 4

Q.3 सौर मंडल का सबसे बड़ा ग्रह कौनसा है?

- Ans
- 1. वरुण (Neptune)
 - 2. बृहस्पति
 - 3. अरुण (Uranus)
 - 4. पृथ्वी

Question Type : MCQ
Question ID : 264330139738
Option 1 ID : 264330547370
Option 2 ID : 264330547368
Option 3 ID : 264330547369
Option 4 ID : 264330547367
Status : Answered
Chosen Option : 2

Q.4 निम्नलिखित में से किस खेल में 'शटलकॉक (Shuttlecock)' का इस्तेमाल किया जाता है?

- Ans
- 1. बिलियर्ड्स (Billiards)
 - 2. बेसबॉल
 - 3. बैडमिंटन
 - 4. बास्केटबॉल

Question Type : MCQ
Question ID : 264330140364
Option 1 ID : 264330549838
Option 2 ID : 264330549837
Option 3 ID : 264330549835
Option 4 ID : 264330549836
Status : Answered
Chosen Option : 3

Q.5 शिव नारायण अग्निहोत्री ने लाहौर में देव समाज की स्थापना कब की थी?

- Ans
- 1. 1863
 - 2. 1892
 - 3. 1887
 - 4. 1876

Question Type : MCQ

Question ID : 264330140358

Option 1 ID : 264330549811

Option 2 ID : 264330549814

Option 3 ID : 264330549813

Option 4 ID : 264330549812

Status : Not Answered

Chosen Option : --

Q.6 "लाइफ ऑफ पाई (Life of Pi)" उपन्यास किसने लिखा था?

- Ans
- 1. यान मार्तेल (Yann Martel)
 - 2. जोनाथन सफ़रन फ़ॉयर (Jonathan Safran Foer)
 - 3. कैरल बर्च (Carol Birch)
 - 4. खालिद हुसैनी (Khaled Hosseini)

Question Type : MCQ

Question ID : 264330140668

Option 1 ID : 264330551019

Option 2 ID : 264330551021

Option 3 ID : 264330551020

Option 4 ID : 264330551022

Status : Not Answered

Chosen Option : --

Q.7 संगम कविताओं में एक तमिल शब्द 'मुवेन्दार (Muvendar)' की चर्चा मिलती है जिसका अर्थ _____ है।

- Ans
- 1. तीन घोड़े
 - 2. तीन बंदरगाह
 - 3. तीन मुखिया
 - 4. तीन कर

Question Type : MCQ

Question ID : 264330140288

Option 1 ID : 264330549533

Option 2 ID : 264330549531

Option 3 ID : 264330549532

Option 4 ID : 264330549534

Status : Not Answered

Chosen Option : --

Q.8 "स्वामी दयानंद सरस्वती" द्वारा स्थापित "आर्य समाज" का उद्देश्य क्या था?

- Ans
- 1. निरंकुश शासन स्थापित करना
 - 2. वस्तु विनिमय व्यापार की प्रथा को प्रोत्साहित करना
 - 3. अंग्रेजों के खिलाफ उठ खड़े होना
 - 4. हिंदू धर्म में सुधार करना

Question Type : MCQ

Question ID : 264330138969

Option 1 ID : 264330544484

Option 2 ID : 264330544483

Option 3 ID : 264330544486

Option 4 ID : 264330544485

Status : Answered

Chosen Option : 4

Q.9 जिन प्रदेशों में कृषक केवल सब्जियाँ पैदा करता है, वहाँ इसको _____ का नाम दिया जाता है।

- Ans
- 1. दुग्ध कृषि
 - 2. पशुपालन कृषि
 - 3. मिश्रित कृषि
 - 4. द्रुक कृषि

Question Type : MCQ

Question ID : 264330139743

Option 1 ID : 264330547390

Option 2 ID : 264330547387

Option 3 ID : 264330547388

Option 4 ID : 264330547389

Status : Answered

Chosen Option : 4

Q.10 वह प्रक्रिया जिसमें दो अमिश्रणीय द्रव, इस प्रकार मिश्रित होते हैं कि एक द्रव पदार्थ दूसरे द्रव पदार्थ में छोटी-छोटी बूंदों के रूप में परिक्षेपित होता है, _____ कहलाती है।

- Ans
- 1. पृथक्करण
 - 2. पायसीकरण (Emulsification)
 - 3. फिल्टरीकरण
 - 4. कैरामेलीकरण (Caramelisation)

Question Type : MCQ

Question ID : 264330140733

Option 1 ID : 264330551282

Option 2 ID : 264330551279

Option 3 ID : 264330551280

Option 4 ID : 264330551281

Status : Answered

Chosen Option : 2

Q.11 जनवरी 2022 में, एस. सोमनाथ को _____ के दसवें अध्यक्ष के रूप में नियुक्त किया गया है।

- Ans
- 1. आरबीआई (RBI)
 - 2. डीआरडीओ (DRDO)
 - 3. सेबी (SEBI)
 - 4. इसरो (ISRO)

Question Type : MCQ
Question ID : 264330139681
Option 1 ID : 264330547139
Option 2 ID : 264330547140
Option 3 ID : 264330547142
Option 4 ID : 264330547141
Status : Answered
Chosen Option : 4

Q.12 बुद्ध _____ नामक एक छोटे से गण से संबंधित थे।

- Ans
- 1. पांचाल गण
 - 2. शाक्य गण
 - 3. कुरु गण
 - 4. अवंती गण

Question Type : MCQ
Question ID : 264330140902
Option 1 ID : 264330551958
Option 2 ID : 264330551956
Option 3 ID : 264330551955
Option 4 ID : 264330551957
Status : Answered
Chosen Option : 2

Q.13 तनन या संपीडन प्रतिबल को _____ भी कहा जा सकता है।

- Ans
- 1. जलीय प्रतिबल
 - 2. अपरूपण प्रतिबल
 - 3. अनुदैर्घ्य प्रतिबल
 - 4. स्पर्शी प्रतिबल

Question Type : MCQ
Question ID : 264330140322
Option 1 ID : 264330549670
Option 2 ID : 264330549667
Option 3 ID : 264330549668
Option 4 ID : 264330549669
Status : Not Answered
Chosen Option : --

Q.14 'फीयरलेस गवर्नेंस (Fearless Governance)' नामक पुस्तक के लेखक कौन हैं?

- Ans
- 1. अनुज धर
 - 2. अमिताव घोष
 - 3. अनिरुद्ध सूरी
 - 4. किरण बेदी

Question Type : MCQ
Question ID : 264330138976
Option 1 ID : 264330544512
Option 2 ID : 264330544511
Option 3 ID : 264330544514
Option 4 ID : 264330544513
Status : Answered
Chosen Option : 4

Q.15 निम्नलिखित में से किस भारतीय ओलंपियन का संबंध कुश्ती के खेल से है?

- Ans
- 1. अदिति अशोक
 - 2. नीरज चोपड़ा
 - 3. साक्षी मलिक
 - 4. अभिनव बिंद्रा

Question Type : MCQ
Question ID : 264330140929
Option 1 ID : 264330552065
Option 2 ID : 264330552064
Option 3 ID : 264330552066
Option 4 ID : 264330552063
Status : Answered
Chosen Option : 3

Q.16 Which of the following referred to as 'paper taxes'?

- I. Wealth tax
- II. Gift tax

- Ans
- 1. Neither I nor II
 - 2. Only I
 - 3. Both I and II
 - 4. Only II

Question Type : MCQ
Question ID : 264330139876
Option 1 ID : 264330547886
Option 2 ID : 264330547883
Option 3 ID : 264330547885
Option 4 ID : 264330547884
Status : Answered
Chosen Option : 4

Q.17 संविधान (अनुसूचित जाति और अनुसूचित जनजाति)आदेश विधेयक 2022 को भारत के _____ राज्य में पेश किया गया था।

- Ans
- 1. राजस्थान
 - 2. पंजाब
 - 3. झारखंड
 - 4. केरल

Question Type : MCQ
Question ID : 264330140726
Option 1 ID : 264330551253
Option 2 ID : 264330551251
Option 3 ID : 264330551254
Option 4 ID : 264330551252
Status : Answered
Chosen Option : 4

Q.18 जयंती कुमारेण _____ की सर्वश्रेष्ठ वादकों में से एक हैं।

- Ans
- 1. संतूर
 - 2. वीणा
 - 3. सितार
 - 4. तबला

Question Type : MCQ
Question ID : 264330140273
Option 1 ID : 264330549474
Option 2 ID : 264330549473
Option 3 ID : 264330549472
Option 4 ID : 264330549471
Status : Not Answered
Chosen Option : --

Q.19 अकबर के शासनकाल का इतिहास, जिसका शीर्षक "अकबर नामा (Akbar Nama)" है, _____ द्वारा लिखा गया है।

- Ans
- 1. मोहम्मद खान
 - 2. अब्बास खान शेरवानी
 - 3. अब्द अल-कादिर बदायुनी
 - 4. अबुल फजल

Question Type : MCQ
Question ID : 264330139745
Option 1 ID : 264330547398
Option 2 ID : 264330547397
Option 3 ID : 264330547396
Option 4 ID : 264330547395
Status : Answered
Chosen Option : 4

Q.20 शैवाल के किस वर्ग को प्रायः भूरा शैवाल कहा जाता है?

- Ans
- 1. क्लोरोफाइसी (Chlorophyceae)
 - 2. क्राइसोफाइसी (Chrysophyceae)
 - 3. फीयोफाइसी (Phaeophyceae)
 - 4. रोडोफाइसी (Rhodophyceae)

Question Type : MCQ
Question ID : 264330140732
Option 1 ID : 264330551275
Option 2 ID : 264330551277
Option 3 ID : 264330551276
Option 4 ID : 264330551278
Status : Not Answered
Chosen Option : --

Q.21 बराकर (Barakar) निम्नलिखित में से किस नदी की सहायक नदी है?

- Ans
- 1. दामोदर
 - 2. कृष्णा
 - 3. रावी
 - 4. कावेरी

Question Type : MCQ
Question ID : 264330140352
Option 1 ID : 264330549787
Option 2 ID : 264330549789
Option 3 ID : 264330549788
Option 4 ID : 264330549790
Status : Answered
Chosen Option : 1

Q.22 छठ पूजा उत्सव _____ भगवान को समर्पित होता है।

- Ans
- 1. सूर्य
 - 2. ब्रह्मा
 - 3. इंद्र
 - 4. विष्णु

Question Type : MCQ
Question ID : 264330140345
Option 1 ID : 264330549762
Option 2 ID : 264330549759
Option 3 ID : 264330549761
Option 4 ID : 264330549760
Status : Answered
Chosen Option : 1

Q.23 2011 की जनगणना के अनुसार, पुरुष साक्षरता दर कितनी है?

- Ans
- ✓ 1. 82.14%
 - ✗ 2. 65.14%
 - ✗ 3. 71.14%
 - ✗ 4. 75.14%

Question Type : MCQ

Question ID : 264330140303

Option 1 ID : 264330549591

Option 2 ID : 264330549594

Option 3 ID : 264330549593

Option 4 ID : 264330549592

Status : Answered

Chosen Option : 4

Q.24 भारतीय संविधान का अनुच्छेद _____ चुनाव आयोग में निहित निर्वाचनों के अधीक्षण, निर्देशन और नियंत्रण का प्रावधान करता है।

- Ans
- ✓ 1. 324
 - ✗ 2. 338
 - ✗ 3. 336
 - ✗ 4. 330

Question Type : MCQ

Question ID : 264330140278

Option 1 ID : 264330549491

Option 2 ID : 264330549494

Option 3 ID : 264330549493

Option 4 ID : 264330549492

Status : Answered

Chosen Option : 1

Q.25 जलोढ़ मृदाओं का रंग _____ जैसा होता है।

- Ans
- ✗ 1. नारंगी से लाल
 - ✗ 2. हल्के नारंगी से गहरा नारंगी
 - ✓ 3. हल्के धूसर से राख धूसर
 - ✗ 4. हल्के सफेद से चमकीला सफेद

Question Type : MCQ

Question ID : 264330140351

Option 1 ID : 264330549783

Option 2 ID : 264330549785

Option 3 ID : 264330549784

Option 4 ID : 264330549786

Status : Answered

Chosen Option : 3

Q.1 The statement below has been given with bracketed text. Select the option with correct Idiom for the bracketed text.

He (made an irreversible change, that will greatly impact his life) when he got that huge tattoo on his back!

- Ans**
- 1. became the devil's advocate
 - 2. put a rose on his nose
 - 3. beat the dead horse
 - 4. crossed the Rubicon

Question Type : **MCQ**
Question ID : **264330135762**
Option 1 ID : **264330531929**
Option 2 ID : **264330531930**
Option 3 ID : **264330531927**
Option 4 ID : **264330531928**
Status : **Answered**
Chosen Option : **4**

Q.2 Four sentences are given, out of which three have spelling errors. Choose the sentence with all correctly spelt words.

- Ans**
- 1. I got selected in D category.
 - 2. What was the begining of the dispute?
 - 3. There is no comparison between the two books.
 - 4. She handlld the situation cooly.

Question Type : **MCQ**
Question ID : **264330136433**
Option 1 ID : **264330534492**
Option 2 ID : **264330534494**
Option 3 ID : **264330534493**
Option 4 ID : **264330534491**
Status : **Answered**
Chosen Option : **1**

Q.3 Select the most appropriate antonym to substitute the bracketed word in the given sentence.

Similarly Sirius, the most (luminous) star in all the heavens, actually has a faint companion.

- Ans**
- 1. excited
 - 2. gloomy
 - 3. serious
 - 4. miserable

Question Type : **MCQ**
Question ID : **264330136554**
Option 1 ID : **264330534951**
Option 2 ID : **264330534954**
Option 3 ID : **264330534953**
Option 4 ID : **264330534952**
Status : **Answered**
Chosen Option : **2**

Q.4 Select the word segment that substitutes (replaces) the bracketed word segment correctly and completes the sentence meaningfully. Select the option 'no correction required' if the sentence is correct as given.

He lost his temper (by a driver) flashed her headlights as he overtook.

- Ans**
- 1. afterwards a driver
 - 2. considering a driver
 - 3. after a driver
 - 4. No correction required

Question Type : **MCQ**
Question ID : **264330136564**
Option 1 ID : **264330534991**
Option 2 ID : **264330534993**
Option 3 ID : **264330534992**
Option 4 ID : **264330534994**
Status : **Answered**
Chosen Option : **1**

Q.5 Fill in the blank with the most appropriate option.

'Well, that was _____ good,' said Harper.

- Ans**
- 1. pretty
 - 2. gorgeous
 - 3. beautiful
 - 4. pleasing

Question Type : **MCQ**
Question ID : **264330136133**
Option 1 ID : **264330533336**
Option 2 ID : **264330533338**
Option 3 ID : **264330533335**
Option 4 ID : **264330533337**
Status : **Answered**
Chosen Option : **1**

Q.6 Choose the incorrectly spelt word.

- Ans**
- 1. Blame
 - 2. Leaf
 - 3. Staringg
 - 4. Grave

Question Type : **MCQ**
Question ID : **264330141188**
Option 1 ID : **264330553092**
Option 2 ID : **264330553091**
Option 3 ID : **264330553093**
Option 4 ID : **264330553094**
Status : **Answered**
Chosen Option : **3**

Q.7 Identify the segment that contains a grammatical error. If there is no error, select 'No error'.
Although people had been on watch and / the watchkeepers were very, very tired, / everyone were up and buzzing.

- Ans**
- 1. the watchkeepers were very, very tired,
 - 2. everyone were up and buzzing.
 - 3. No Error
 - 4. Although people had been on watch and

Question Type : **MCQ**
Question ID : **264330135821**
Option 1 ID : **264330532156**
Option 2 ID : **264330532157**
Option 3 ID : **264330532158**
Option 4 ID : **264330532155**
Status : **Answered**
Chosen Option : **4**

Q.8 Identify the segment that contains a grammatical error. If there is no error, select 'No error'

Your body will respond by/ getting more muscular and/ strong before you know it.

- Ans**
- 1. No error
 - 2. Your body will respond by
 - 3. getting more muscular and
 - 4. strong before you know it.

Question Type : **MCQ**
Question ID : **264330135664**
Option 1 ID : **264330531554**
Option 2 ID : **264330531551**
Option 3 ID : **264330531552**
Option 4 ID : **264330531553**
Status : **Answered**
Chosen Option : **2**

Q.9 Select the most appropriate word for the given group of words.
Information, especially of a biased or misleading nature, used to promote a political cause or point of view

- Ans**
- 1. Orchard
 - 2. Propaganda
 - 3. Welter
 - 4. Potable

Question Type : **MCQ**
Question ID : **264330136758**
Option 1 ID : **264330535738**
Option 2 ID : **264330535735**
Option 3 ID : **264330535736**
Option 4 ID : **264330535737**
Status : **Answered**
Chosen Option : **2**

Q.10 Fill in the blank with the most appropriate option.

Sulochana, whose _____ I had so admired during the festival, seemed a different person.

- Ans**
- 1. crudeness
 - 2. shadow
 - 3. polish
 - 4. grace

Question Type : **MCQ**
Question ID : **264330136568**
Option 1 ID : **264330535008**
Option 2 ID : **264330535010**
Option 3 ID : **264330535007**
Option 4 ID : **264330535009**
Status : **Answered**
Chosen Option : **4**

Q.11 Select the appropriate synonym for the underlined word.

You look around and you see green, happy plants.

- Ans**
- 1. nascent
 - 2. gloomy
 - 3. mourning
 - 4. blissful

Question Type : **MCQ**
Question ID : **264330141196**
Option 1 ID : **264330553119**
Option 2 ID : **264330553120**
Option 3 ID : **264330553121**
Option 4 ID : **264330553122**
Status : **Answered**
Chosen Option : **1**

Q.12 In the following question, out of the given four alternatives, select the alternative which best expresses the meaning of the Idiom/Phrase.

Fairly and squarely

- Ans**
- 1. Rigorously
 - 2. Wholly
 - 3. Suddenly
 - 4. Honestly

Question Type : **MCQ**
Question ID : **264330135555**
Option 1 ID : **264330531122**
Option 2 ID : **264330531120**
Option 3 ID : **264330531121**
Option 4 ID : **264330531119**
Status : **Answered**
Chosen Option : **4**

Q.13 Select the most appropriate option to substitute the bracketed segment in the given sentence. If there is no need to substitute it, select 'no substitution required'.
(There's many a good tunes) played on an old violin.

- Ans**
- 1. There are many a good tunes
 - 2. There are many good tunes
 - 3. There's many good tune
 - 4. No substitution required

Question Type : **MCQ**
Question ID : **264330135824**
Option 1 ID : **264330532169**
Option 2 ID : **264330532168**
Option 3 ID : **264330532167**
Option 4 ID : **264330532170**
Status : **Answered**
Chosen Option : **2**

Q.14 Select the most appropriate antonym of the given word.

Crude

- Ans**
- 1. Stubble
 - 2. Intense
 - 3. Ripe
 - 4. Beastly

Question Type : **MCQ**
Question ID : **264330136205**
Option 1 ID : **264330533612**
Option 2 ID : **264330533611**
Option 3 ID : **264330533613**
Option 4 ID : **264330533614**
Status : **Answered**
Chosen Option : **3**

Q.15 Select the appropriate synonym for the underlined word.

Don't sound so excited

- Ans**
- 1. composed
 - 2. casual
 - 3. eager
 - 4. tired

Question Type : **MCQ**
Question ID : **264330135525**
Option 1 ID : **264330531006**
Option 2 ID : **264330531005**
Option 3 ID : **264330531004**
Option 4 ID : **264330531003**
Status : **Answered**
Chosen Option : **3**

Q.16 Choose the word that can substitute the given group of words.

A container for housing honeybees

- Ans
- 1. Colonies
 - 2. Hive
 - 3. Pack
 - 4. Shoal

Question Type : MCQ
Question ID : 264330141186
Option 1 ID : 264330553085
Option 2 ID : 264330553086
Option 3 ID : 264330553083
Option 4 ID : 264330553084
Status : Answered
Chosen Option : 2

Q.17 Select the most appropriate option to fill in the blank.

She has a large, _____ sympathy and absolute fairness of temper.

- Ans
- 1. thrifty
 - 2. generous
 - 3. mean
 - 4. sparing

Question Type : MCQ
Question ID : 264330135560
Option 1 ID : 264330531141
Option 2 ID : 264330531140
Option 3 ID : 264330531139
Option 4 ID : 264330531142
Status : Answered
Chosen Option : 1

Q.18 Improve the underlined part of the sentence. Choose 'No improvement' as an answer if the sentence is grammatically correct.

Even in time of natural disasters, the farmers had to pay their share of taxes.

- Ans
- 1. times of natural
 - 2. timer of natural
 - 3. No improvement
 - 4. times of naturally

Question Type : MCQ
Question ID : 264330141182
Option 1 ID : 264330553067
Option 2 ID : 264330553068
Option 3 ID : 264330553070
Option 4 ID : 264330553069
Status : Answered
Chosen Option : 1

Q.19 Identify the segment that contains a grammatical error. If there is no error, select 'No error'.

Fred and George had / bewitched there trunks to fly downstairs to / save the bother of carrying them.

- Ans**
- 1. save the bother of carrying them.
 - 2. bewitched there trunks to fly downstairs to
 - 3. No error
 - 4. Fred and George had

Question Type : **MCQ**
Question ID : **264330136135**
Option 1 ID : **264330533345**
Option 2 ID : **264330533344**
Option 3 ID : **264330533346**
Option 4 ID : **264330533343**
Status : **Answered**
Chosen Option : **1**

Q.20 A sentence has been given with a blank to be filled with an appropriate option. Choose the correct alternative.

Your presence _____ both my brother and sister.

- Ans**
- 1. effects
 - 2. effect
 - 3. affects
 - 4. affecting

Question Type : **MCQ**
Question ID : **264330135158**
Option 1 ID : **264330529567**
Option 2 ID : **264330529570**
Option 3 ID : **264330529568**
Option 4 ID : **264330529569**
Status : **Answered**
Chosen Option : **3**

Comprehension:

In the following passage some words have been deleted. Fill in the blanks with the help of the alternatives given. Select the most appropriate option for each number.

He (1) _____ his eyes. Moonlight was shining (2) _____ the bars on the window. And (3) _____ was goggling through the (4) _____ at him: a freckle-faced, red-haired, long-nosed someone. Ron Weasley was outside Harry's (5) _____.

SubQuestion No : 21

Q.21 Select the most appropriate option to fill in the blank No. 1.

- Ans**
- 1. close
 - 2. opened
 - 3. open
 - 4. expanded

Question Type : **MCQ**
Question ID : **264330135698**
Option 1 ID : **264330531681**
Option 2 ID : **264330531679**
Option 3 ID : **264330531680**
Option 4 ID : **264330531682**
Status : **Answered**
Chosen Option : **2**

Comprehension:

In the following passage some words have been deleted. Fill in the blanks with the help of the alternatives given. Select the most appropriate option for each number.

He (1) _____ his eyes. Moonlight was shining (2) _____ the bars on the window. And (3) _____ was goggling through the (4) _____ at him: a freckle-faced, red-haired, long-nosed someone. Ron Weasley was outside Harry's (5) _____.

SubQuestion No : 22

Q.22 Select the most appropriate option to fill in the blank No. 2.

- Ans**
- 1. complete
 - 2. through
 - 3. in
 - 4. though

Question Type : **MCQ**

Question ID : **264330135699**

Option 1 ID : **264330531685**

Option 2 ID : **264330531684**

Option 3 ID : **264330531686**

Option 4 ID : **264330531683**

Status : **Answered**

Chosen Option : **2**

Comprehension:

In the following passage some words have been deleted. Fill in the blanks with the help of the alternatives given. Select the most appropriate option for each number.

He (1) _____ his eyes. Moonlight was shining (2) _____ the bars on the window. And (3) _____ was goggling through the (4) _____ at him: a freckle-faced, red-haired, long-nosed someone. Ron Weasley was outside Harry's (5) _____.

SubQuestion No : 23

Q.23 Select the most appropriate option to fill in the blank No. 3.

- Ans**
- 1. sometimes
 - 2. somewhat
 - 3. someone
 - 4. somewhere

Question Type : **MCQ**

Question ID : **264330135700**

Option 1 ID : **264330531690**

Option 2 ID : **264330531688**

Option 3 ID : **264330531687**

Option 4 ID : **264330531689**

Status : **Answered**

Chosen Option : **3**

Comprehension:

In the following passage some words have been deleted. Fill in the blanks with the help of the alternatives given. Select the most appropriate option for each number.

He (1) _____ his eyes. Moonlight was shining (2) _____ the bars on the window. And (3) _____ was goggling through the (4) _____ at him: a freckle-faced, red-haired, long-nosed someone. Ron Weasley was outside Harry's (5) _____.

SubQuestion No : 24

Q.24 Select the most appropriate option to fill in the blank No. 4.

- Ans**
- 1. bars
 - 2. horizontals
 - 3. grills
 - 4. verticals

Question Type : **MCQ**

Question ID : **264330135701**

Option 1 ID : **264330531692**

Option 2 ID : **264330531694**

Option 3 ID : **264330531691**

Option 4 ID : **264330531693**

Status : **Answered**

Chosen Option : **1**

Comprehension:

In the following passage some words have been deleted. Fill in the blanks with the help of the alternatives given. Select the most appropriate option for each number.

He (1) _____ his eyes. Moonlight was shining (2) _____ the bars on the window. And (3) _____ was goggling through the (4) _____ at him: a freckle-faced, red-haired, long-nosed someone. Ron Weasley was outside Harry's (5) _____.

SubQuestion No : 25

Q.25 Select the most appropriate option to fill in the blank No. 5.

- Ans**
- 1. cupboard
 - 2. window
 - 3. toilet
 - 4. suitcase

Question Type : **MCQ**

Question ID : **264330135702**

Option 1 ID : **264330531697**

Option 2 ID : **264330531695**

Option 3 ID : **264330531698**

Option 4 ID : **264330531696**

Status : **Answered**

Chosen Option : **2**