

Multi Tasking Non Technical Staff and Havaldar CBIC and CBN Examination 2022

Roll Number	
Candidate Name	
Venue Name	iON Digital Zone iDZ Green Park
Exam Date	13/06/2023
Exam Time	12:00 PM - 2:00 PM
Subject	MTS Non Tech Havaldar CBIC and CBN Examination 2022

Section : Numerical and Mathematical Ability

Q.1 U, V और W साथ मिलकर एक कार्य को 10 दिनों में पूरा कर सकते हैं। यदि U, V से तीन गुना अधिक तेजी से कार्य कर सकता है और V, W से दोगुना अधिक तेजी से कार्य कर सकता है, तो W अकेले उसी कार्य को कितने दिनों में पूरा कर सकता है?

- Ans
- 1. 45 दिनों में
 - 2. 100 दिनों में
 - 3. 90 दिनों में
 - 4. 63 दिनों में

Question Type : MCQ

Question ID : 264330139892

Option 1 ID : 264330547950

Option 2 ID : 264330547947

Option 3 ID : 264330547948

Option 4 ID : 264330547949

Status : Answered

Chosen Option : 3

Q.2 Rs.1080 पर 48 प्रतिशत का एकल बड़ा दिया गया। यदि 25 प्रतिशत और 20 प्रतिशत के दो क्रमागत बट्टे दिए जाते हैं, तो दोनों विक्रय मूल्यों के बीच कितना अंतर होगा?

- Ans
- 1. Rs. 72.5
 - 2. Rs. 86.4
 - 3. Rs. 65.8
 - 4. Rs. 80.8

Question Type : MCQ

Question ID : 264330140575

Option 1 ID : 264330550653

Option 2 ID : 264330550652

Option 3 ID : 264330550654

Option 4 ID : 264330550651

Status : Answered

Chosen Option : 2

Q.3 $\frac{96 \text{ of } 2 \div 24 + 92}{10 \times 10 \div 10}$ का मान क्या है?

- Ans 1. 10
 2. 50
 3. 1
 4. 100

Question Type : MCQ
Question ID : 264330140209
Option 1 ID : 264330549216
Option 2 ID : 264330549218
Option 3 ID : 264330549215
Option 4 ID : 264330549217
Status : Answered
Chosen Option : 1

Q.4 एक गिलास का विक्रय मूल्य Rs.1287 है और हानि प्रतिशत 22 प्रतिशत है। यदि विक्रय मूल्य Rs.1848 है, तो लाभ प्रतिशत क्या होगा?

- Ans 1. 12 प्रतिशत
 2. 15 प्रतिशत
 3. 10 प्रतिशत
 4. 8 प्रतिशत

Question Type : MCQ
Question ID : 264330139615
Option 1 ID : 264330546876
Option 2 ID : 264330546875
Option 3 ID : 264330546877
Option 4 ID : 264330546878
Status : Answered
Chosen Option : 1

Q.5 छात्रों के एक समूह का औसत भार 42 kg है। 48 kg भार वाला एक छात्र समूह छोड़ देता है और 44 kg भार वाला एक अन्य छात्र समूह में शामिल हो जाता है। यदि नया औसत भार 41.6 kg हो जाता है, तो समूह में कितने छात्र हैं?

- Ans 1. 15
 2. 8
 3. 10
 4. 12

Question Type : MCQ
Question ID : 264330140615
Option 1 ID : 264330550810
Option 2 ID : 264330550807
Option 3 ID : 264330550808
Option 4 ID : 264330550809
Status : Answered
Chosen Option : 3

Q.6 विकास ने 3 परीक्षाएँ दीं। उसके द्वारा तीन परीक्षाओं में प्राप्त अंकों का क्रमशः अनुपात 3 : 5 : 6 है। तीन परीक्षाओं के अधिकतम अंकों का क्रमशः अनुपात 7 : 11 : 10 है। यदि उसने कुल मिलाकर 50 प्रतिशत अंक प्राप्त किए हैं, तो कितनी परीक्षाओं में उसने 50 प्रतिशत से अधिक अंक प्राप्त किए हैं?

- Ans
- 1. 2
 - 2. 1
 - 3. किसी में नहीं
 - 4. 3

Question Type : MCQ
Question ID : 264330140248
Option 1 ID : 264330549373
Option 2 ID : 264330549372
Option 3 ID : 264330549371
Option 4 ID : 264330549374
Status : Answered
Chosen Option : 1

Q.7 किसी राशि पर 8 प्रतिशत वार्षिक दर से प्राप्त साधारण ब्याज, उस राशि का $\frac{2}{5}$ है। समय अवधि क्या है?

- Ans
- 1. 5 वर्ष
 - 2. 7.5 वर्ष
 - 3. 6 वर्ष
 - 4. 4 वर्ष

Question Type : MCQ
Question ID : 264330140543
Option 1 ID : 264330550527
Option 2 ID : 264330550530
Option 3 ID : 264330550528
Option 4 ID : 264330550529
Status : Answered
Chosen Option : 1

Q.8 5 cm त्रिज्या और 30 cm तिर्यक ऊँचाई वाले शंकु का वक्र पृष्ठीय क्षेत्रफल क्या होगा? ($\pi = 3.14$ का प्रयोग करें)

- Ans
- 1. 715 m²
 - 2. 543 m²
 - 3. 471 cm²
 - 4. 234 m²

Question Type : MCQ
Question ID : 264330140795
Option 1 ID : 264330551529
Option 2 ID : 264330551528
Option 3 ID : 264330551527
Option 4 ID : 264330551530
Status : Answered
Chosen Option : 3

Q.9 Rs.10 प्रति किलोग्राम मूल्य वाली चाय को Rs.15 प्रति किलोग्राम मूल्य वाली चाय के साथ किस अनुपात में मिलाया जाए कि परिणामी मिश्रण का मूल्य Rs.12 प्रति किलोग्राम हो?

- Ans
- 1. 3 : 5
 - 2. 3 : 2
 - 3. 2 : 5
 - 4. 2 : 3

Question Type : MCQ

Question ID : 264330133584

Option 1 ID : 264330523360

Option 2 ID : 264330523359

Option 3 ID : 264330523361

Option 4 ID : 264330523362

Status : Answered

Chosen Option : 2

Q.10 एक पुरुष ने एक संख्या का $\frac{5}{8}$ के स्थान पर $\frac{8}{5}$ से गुणा किया। गणना में प्रतिशत त्रुटि कितनी है?

- Ans
- 1. 162%
 - 2. 124%
 - 3. 156%
 - 4. 100%

Question Type : MCQ

Question ID : 264330139041

Option 1 ID : 264330544774

Option 2 ID : 264330544772

Option 3 ID : 264330544773

Option 4 ID : 264330544771

Status : Answered

Chosen Option : 3

Q.11 दो बेलनों के आयतन का अनुपात 13 : 1 है और उनकी ऊँचाइयों का अनुपात 13 : 9 है। यदि दूसरे बेलन के आधार का क्षेत्रफल 154 cm^2 है, तो पहले बेलन की त्रिज्या क्या होगी?

- Ans
- 1. 42 cm
 - 2. 28 cm
 - 3. 14 cm
 - 4. 21 cm

Question Type : MCQ

Question ID : 264330140644

Option 1 ID : 264330550926

Option 2 ID : 264330550925

Option 3 ID : 264330550924

Option 4 ID : 264330550923

Status : Answered

Chosen Option : 4

Q.12 निम्नलिखित तालिका में वर्ष 2018 से 2022 तक एक कंपनी द्वारा किए गए व्यय को दर्शाया गया है। इस अवधि के दौरान कंपनी द्वारा प्रति वर्ष भुगतान किए गए कर की औसत धनराशि कितनी है?

Year	Expenditure(in lakh)				
	Fuel and Transport	Taxes	Bonus	Interest on loans	Salary
2018	98	100	1.5	25.5	325
2019	120	105	2.4	36.6	400
2020	114	102	3.8	42.8	422
2021	128	98	3.9	38.4	425
2022	140	92	4.2	48.5	440

Expenditure (in lakh) - खर्च (लाख में), Year - वर्ष, Fuel and Transport - ईंधन और परिवहन, taxes - कर, Bonus - बोनस, Interest on loans - ऋण पर व्याज, Salary - वेतन

- Ans
- 1. 90.2 लाख
 - 2. 99.4 लाख
 - 3. 92.5 लाख
 - 4. 91.4 लाख

Question Type : MCQ

Question ID : 264330140837

Option 1 ID : 264330551698

Option 2 ID : 264330551697

Option 3 ID : 264330551695

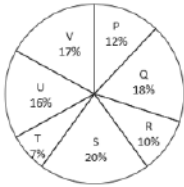
Option 4 ID : 264330551696

Status : Answered

Chosen Option : 1

Q.13 नीचे दिए गए वृत्त आलेख में एक वर्ष में सात कंपनियों द्वारा की गई बचत को दर्शाया गया है। इन सभी

कंपनियों की कुल बचत 12000 है। इनमें से किसी एक विशिष्ट कंपनी की बचत को इन सभी सात कंपनियों की कुल बचत के प्रतिशत के रूप में दर्शाया गया है।



निम्नलिखित में से कौन-सा कथन सही है?

- I. Q की बचत और U की बचत का अनुपात 8 : 9 है।
- II. त्रिज्यखंड R द्वारा बने वाला केंद्रीय कोण 36° है।
- III. P की बचत, S की बचत का 60 प्रतिशत है।

- Ans
- 1. I और II
 - 2. I और III
 - 3. II और III
 - 4. I, II और III

Question Type : MCQ

Question ID : 264330139910

Option 1 ID : 264330548019

Option 2 ID : 264330548021

Option 3 ID : 264330548020

Option 4 ID : 264330548022

Status : Answered

Chosen Option : 3

Q.14 2 वर्ष पहले, X और Y की आयु का अनुपात 7:5 था और 2 वर्ष बाद उनकी आयु का अनुपात 9:7 हो जाएगा। Y की वर्तमान आयु कितनी है?

- Ans
- 1. 18 वर्ष
 - 2. 12 वर्ष
 - 3. 14 वर्ष
 - 4. 16 वर्ष

Question Type : MCQ
Question ID : 264330140181
Option 1 ID : 264330549106
Option 2 ID : 264330549103
Option 3 ID : 264330549105
Option 4 ID : 264330549104
Status : Answered
Chosen Option : 2

Q.15 यदि विक्रय मूल्य का 2 गुना, क्रय मूल्य के 3 गुना के बराबर है, तो लाभ प्रतिशत क्या है??

- Ans
- 1. 40 प्रतिशत
 - 2. 50 प्रतिशत
 - 3. 4 प्रतिशत
 - 4. 25 प्रतिशत

Question Type : MCQ
Question ID : 264330140569
Option 1 ID : 264330550630
Option 2 ID : 264330550629
Option 3 ID : 264330550627
Option 4 ID : 264330550628
Status : Answered
Chosen Option : 2

Q.16 एक रेलगाड़ी मुंबई से 3:00 pm पर निकलती है और 20 km/hr की चाल से अहमदाबाद की ओर चलती है। एक दूसरी रेलगाड़ी अहमदाबाद से 8 pm पर निकलती है और 60 km/hr की चाल से मुंबई की ओर चलती है। यदि मुंबई और अहमदाबाद के बीच की दूरी 600 km है, तो दोनों रेलगाड़ियाँ किस समय मिलेंगी?

- Ans
- 1. 2:15 am
 - 2. 1:30 am
 - 3. 12:30 am
 - 4. 2:00 am

Question Type : MCQ
Question ID : 264330140613
Option 1 ID : 264330550799
Option 2 ID : 264330550800
Option 3 ID : 264330550801
Option 4 ID : 264330550802
Status : Answered
Chosen Option : 1

Q.17 यदि समयावधि को 5 वर्ष बढ़ा दिया जाए, तो Rs. 6000 की धनराशि पर साधारण ब्याज Rs. 3600 बढ़ जाता है।
वार्षिक ब्याज दर क्या है?

- Ans
- ✓ 1. 12 प्रतिशत
 - ✗ 2. 15 प्रतिशत
 - ✗ 3. 10 प्रतिशत
 - ✗ 4. 12.5 प्रतिशत

Question Type : MCQ
Question ID : 264330139027
Option 1 ID : 264330544716
Option 2 ID : 264330544717
Option 3 ID : 264330544715
Option 4 ID : 264330544718
Status : Answered
Chosen Option : 1

Q.18 12, 24 और 36 के लघुत्तम समपवर्त्य और महत्तम समापवर्तक का अनुपात क्या होगा?

- Ans
- ✗ 1. 4 : 1
 - ✗ 2. 2 : 1
 - ✗ 3. 3 : 1
 - ✓ 4. 6 : 1

Question Type : MCQ
Question ID : 264330140578
Option 1 ID : 264330550664
Option 2 ID : 264330550665
Option 3 ID : 264330550663
Option 4 ID : 264330550666
Status : Answered
Chosen Option : 4

Q.19 $49 \div 7 - 343 \div 7 - 243 \div 27 + 729 \div 27 + 152 \div 19$ का मान क्या है?

- Ans
- ✗ 1. 16
 - ✗ 2. -32
 - ✗ 3. 32
 - ✓ 4. -16

Question Type : MCQ
Question ID : 264330139033
Option 1 ID : 264330544739
Option 2 ID : 264330544740
Option 3 ID : 264330544741
Option 4 ID : 264330544742
Status : Answered
Chosen Option : 4

Q.20 मोहित और रोहित ने Rs.2200 में एक कार्य हाथ में लिया। मोहित अकेले उस कार्य को 10 दिनों में कर सकता है और रोहित उसी कार्य को अकेले 12 दिनों में कर सकता है। यदि वे साथ मिलकर कार्य करते हैं, तो उन्हें प्राप्त होने वाली राशि में कितना अंतर होगा?

- Ans**
- 1. Rs. 400
 - 2. Rs. 600
 - 3. Rs. 200
 - 4. Rs. 500

Question Type : **MCQ**

Question ID : **264330140153**

Option 1 ID : **264330548991**

Option 2 ID : **264330548994**

Option 3 ID : **264330548992**

Option 4 ID : **264330548993**

Status : **Answered**

Chosen Option : **3**

Section : Reasoning Ability and Problem Solving

Q.1 नीचे दिए गए समीकरण में कौन-से गणितीय चिन्हों को आपस में बदला जाना चाहिए जिससे यह समीकरण गणितीय रूप से सही हो जाएगा?

$$72 \div 4 \times 64 + 8 - 24 = 80$$

- Ans**
- 1. - और \times
 - 2. \div और \times
 - 3. \div और $+$
 - 4. - और $+$

Question Type : **MCQ**

Question ID : **264330140487**

Option 1 ID : **264330550330**

Option 2 ID : **264330550327**

Option 3 ID : **264330550328**

Option 4 ID : **264330550329**

Status : **Answered**

Chosen Option : **3**

Q.2 दी गई आकृति के उस सही दर्पण प्रतिबिंब को चुनिए जो दर्पण को नीचे दर्शाए गए अनुसार MN पर रखने पर बनेगा।

F D 8 P C Q

M
N

Ans

- ✗ 1. Q C P 8 D E
- ✗ 2. Q C P 8 D F
- ✓ 3. Q C P 8 D F
- ✗ 4. Q C P 8 D F

Question Type : MCQ

Question ID : 264330140111

Option 1 ID : 264330548824

Option 2 ID : 264330548823

Option 3 ID : 264330548826

Option 4 ID : 264330548825

Status : Answered

Chosen Option : 3

Q.3 एक स्कूल के सात छात्रों, E, F, G, H, I, J, और K सभी ने अलग-अलग अंक प्राप्त किए हैं। E के अंक केवल एक छात्र से कम थे। K ने केवल एक छात्र से अधिक अंक प्राप्त किए। H के अंक I से अधिक लेकिन E से कम थे। न तो F और न ही G को सबसे कम अंक प्राप्त हुए। I के अंक K से अधिक थे। सबसे कम अंक किसने प्राप्त किए?

Ans

- ✗ 1. I
- ✗ 2. F
- ✓ 3. J
- ✗ 4. E

Question Type : MCQ

Question ID : 264330139999

Option 1 ID : 264330548377

Option 2 ID : 264330548378

Option 3 ID : 264330548375

Option 4 ID : 264330548376

Status : Answered

Chosen Option : 1

Q.4 उस समुच्चय को चुनिए जिसमें संख्याएँ ठीक उसी प्रकार संबंधित हैं जिस प्रकार निम्नलिखित समुच्चयों की संख्याएँ संबंधित हैं। (ध्यान दें: संख्याओं को उनके घटक अंकों में अलग-अलग किए बिना, पूर्ण संख्याओं पर संक्रियाएँ की जानी चाहिए। उदा. 13 - 13 पर संक्रियाएँ जैसे 13 को जोड़ना/घटाना/गुणा करना आदि किया जा सकता है। 13 को 1 और 3 में अलग-अलग करने की और फिर 1 और 3 पर गणितीय संक्रियाएँ करने की अनुमति नहीं है)
(27, 9, 3)
(125, 25, 5)

- Ans
- 1. (739, 81, 9)
 - 2. (243, 49, 7)
 - 3. (512, 64, 8)
 - 4. (206, 36, 6)

Question Type : MCQ
Question ID : 264330140446
Option 1 ID : 264330550165
Option 2 ID : 264330550164
Option 3 ID : 264330550166
Option 4 ID : 264330550163
Status : Answered
Chosen Option : 3

Q.5 छः व्यक्ति आकाश, नमन, दिव्या, राकेश, पंकज और रमेश दो समानांतर पंक्तियों में इस प्रकार बैठे हैं कि प्रत्येक पंक्ति में तीन व्यक्ति एक-दूसरे की ओर मुख करके बैठे हैं। आकाश का मुख नमन की ओर है जो दिव्या के ठीक बाईं ओर बैठा है। दिव्या, रमेश के सम्मुख बैठी है जिसका मुख दक्षिण दिशा की ओर है। पंकज, रमेश के ठीक बाईं ओर बैठा है। उनमें से कौन उत्तर की ओर मुख करके बैठा है और किसी भी कोने पर नहीं बैठा है?

- Ans
- 1. नमन
 - 2. आकाश
 - 3. दिव्या
 - 4. राकेश

Question Type : MCQ
Question ID : 264330140080
Option 1 ID : 264330548702
Option 2 ID : 264330548701
Option 3 ID : 264330548699
Option 4 ID : 264330548700
Status : Answered
Chosen Option : 2

Q.6 एक लिखित कूट भाषा में, 'MYNB' को '2468' लिखा जाता है, 'ZNBA' को '5687' लिखा जाता है, 'QRMA' को '1253' लिखा जाता है। उस कूट भाषा में 'Z' को कैसे लिखा जाएगा?

- Ans
- 1. 8
 - 2. 6
 - 3. 7
 - 4. 5

Question Type : MCQ
Question ID : 264330140057
Option 1 ID : 264330548607
Option 2 ID : 264330548609
Option 3 ID : 264330548610
Option 4 ID : 264330548608
Status : Answered
Chosen Option : 3

Q.7 सात लड़कियाँ मानसी, श्वेता, मोनिका, पायल, आरती, काजल और लक्ष्मी एक वृत्ताकार मेज के चारों ओर केंद्र की ओर मुख करके बैठी हैं (परंतु जरूरी नहीं कि वे इसी क्रम में बैठीं हों)। पायल, मानसी के ठीक बाईं ओर है। मानसी, लक्ष्मी के बाईं ओर से तीसरे स्थान पर है। काजल, आरती की निकटतम पड़ोसी नहीं है। श्वेता, काजल के बाईं ओर से दूसरे स्थान पर है। मोनिका के बाईं ओर से तीसरे स्थान पर कौन बैठा है?

- Ans
- 1. पायल
 - 2. काजल
 - 3. श्वेता
 - 4. आरती

Question Type : MCQ

Question ID : 264330139554

Option 1 ID : 264330546633

Option 2 ID : 264330546631

Option 3 ID : 264330546634

Option 4 ID : 264330546632

Status : Not Answered

Chosen Option : --

Q.8 दी गई श्रृंखला में निम्नलिखित में से कौन-सा अक्षर-समूह प्रश्न चिन्ह (?) के स्थान पर आएगा?
DH, EJ, FL, GN, ?

- Ans
- 1. HN
 - 2. PH
 - 3. GM
 - 4. HP

Question Type : MCQ

Question ID : 264330140412

Option 1 ID : 264330550028

Option 2 ID : 264330550029

Option 3 ID : 264330550030

Option 4 ID : 264330550027

Status : Answered

Chosen Option : 4

Q.9 कौन-सी उत्तर आकृति प्रश्न आकृति में पैटर्न को पूरा करेगी?



Ans

✗ 1.



✓ 2.



✗ 3.



✗ 4.



Question Type : MCQ

Question ID : 264330140995

Option 1 ID : 264330552329

Option 2 ID : 264330552328

Option 3 ID : 264330552330

Option 4 ID : 264330552327

Status : Answered

Chosen Option : 2

Q.10 एक निश्चित कूट भाषा में, 'DMCGH' को 'CKZCC' लिखा जाता है। उस भाषा में 'TLFUP' को कैसे लिखा जाएगा?

Ans ✗ 1. SCJQK

✗ 2. SJCQQ

✗ 3. SJCKQ

✓ 4. SJCQK

Question Type : MCQ

Question ID : 264330140078

Option 1 ID : 264330548691

Option 2 ID : 264330548693

Option 3 ID : 264330548692

Option 4 ID : 264330548694

Status : Answered

Chosen Option : 4

Q.11 निम्नलिखित प्रश्न में, दी गई श्रृंखला में लुप्त संख्या को चुनिए ।

300, 271, 242, 213, 184, ?

- Ans 1. 155
 2. 150
 3. 160
 4. 153

Question Type : MCQ

Question ID : 264330140987

Option 1 ID : 264330552295

Option 2 ID : 264330552296

Option 3 ID : 264330552298

Option 4 ID : 264330552297

Status : Answered

Chosen Option : 1

Q.12 उस विकल्प को चुनिए जो तीसरे अक्षर-समूह से ठीक उसी तरह संबंधित है जिस तरह दूसरा अक्षर-समूह पहले अक्षर-समूह से संबंधित है।
AP : CN :: RT : ?

- Ans 1. RT
 2. TS
 3. SR
 4. TR

Question Type : MCQ

Question ID : 264330138768

Option 1 ID : 264330543679

Option 2 ID : 264330543682

Option 3 ID : 264330543681

Option 4 ID : 264330543680

Status : Answered

Chosen Option : 4

Q.13 In the following question below are given some statements followed by some conclusions based on those statements. Taking the given statements to be true even if they seem to be at variance from commonly known facts. Read all the conclusions and then decide which of the given conclusion logically follows the given statements.

Statements:

I. Some pencil are paper.

II. No book is paper.

Conclusion:

I. Some pencil are not book.

II. All book are pencil.

III. Some paper are pencil.

- Ans**
- 1. Both conclusions I and III follows
 - 2. Both conclusions II and III follows
 - 3. All conclusion follows
 - 4. Only conclusion II follows

Question Type : **MCQ**

Question ID : **264330139558**

Option 1 ID : **264330546648**

Option 2 ID : **264330546650**

Option 3 ID : **264330546649**

Option 4 ID : **264330546647**

Status : **Answered**

Chosen Option : **1**

Q.14 दिए गए समीकरण को सही करने के लिए किन दो चिन्हों को आपस में बदला जाना चाहिए?
 $68 \div 2 - 42 + 108 \times 12 = 103$

- Ans**
- 1. = और -
 - 2. \div और \times
 - 3. \div और +
 - 4. + और -

Question Type : **MCQ**

Question ID : **264330140007**

Option 1 ID : **264330548408**

Option 2 ID : **264330548407**

Option 3 ID : **264330548409**

Option 4 ID : **264330548410**

Status : **Not Answered**

Chosen Option : **--**

Q.15 उस विकल्प को चुनिए जो छठी संख्या से ठीक उसी प्रकार संबंधित है जिस प्रकार पहली संख्या दूसरी संख्या से संबंधित है और तीसरी संख्या चौथी संख्या से संबंधित है।

22 : 484 :: 23 : 529 :: ? : 729

Ans 1. 29

2. 26

3. 31

4. 27

Question Type : MCQ

Question ID : 264330139984

Option 1 ID : 264330548316

Option 2 ID : 264330548317

Option 3 ID : 264330548315

Option 4 ID : 264330548318

Status : Answered

Chosen Option : 4

Q.16 उस विकल्प आकृति को चुनिए जिसमें दी गई आकृति निहित है।(घूर्णन की अनुमति नहीं है)



Ans

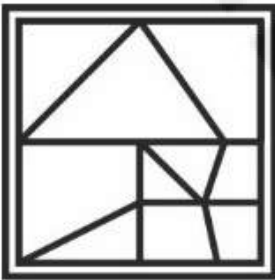
✗ 1.



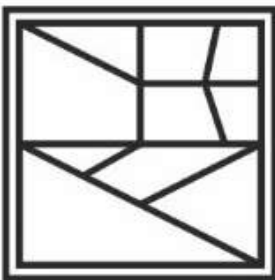
✓ 2.



✗ 3.



✗ 4.



Question Type : MCQ

Question ID : 264330139545

Option 1 ID : 264330546598

Option 2 ID : 264330546597

Option 3 ID : 264330546596

Option 4 ID : 264330546595

Status : Answered

Chosen Option : 2

Q.17 एक निश्चित कूट भाषा में, 'FOUR' को 'ENTQ' लिखा जाता है और 'LIKE' को 'KHJD' लिखा जाता है। उस कूट भाषा में 'DOWN' को कैसे लिखा जाएगा?

- Ans
- 1. CNUM
 - 2. CMVM
 - 3. CNVO
 - 4. CNVM

Question Type : MCQ

Question ID : 264330140037

Option 1 ID : 264330548530

Option 2 ID : 264330548529

Option 3 ID : 264330548528

Option 4 ID : 264330548527

Status : Answered

Chosen Option : 4

Q.18 Two statements are given followed by two conclusions numbered I and II. Assuming the statements to be true, even if they seem to be at variance with commonly known facts, decide which of the conclusions logically follow(s) from the statements.

Statements:

All beds are pillows.

No pillow is a blanket.

Conclusions:

I. Some pillows are beds.

II. No bed is a blanket.

- Ans
- 1. Only conclusion I follows
 - 2. Neither conclusion I nor II follows
 - 3. Only conclusion II follows
 - 4. Both conclusions I and II follow

Question Type : MCQ

Question ID : 264330140021

Option 1 ID : 264330548463

Option 2 ID : 264330548466

Option 3 ID : 264330548464

Option 4 ID : 264330548465

Status : Answered

Chosen Option : 4

Q.19 निम्नलिखित प्रश्न में, दी गई श्रृंखला में लुप्त संख्या को चुनिए।

500, 497, 488, 461, 380, ?

Ans ✓ 1. 137

✗ 2. 130

✗ 3. 141

✗ 4. 140

Question Type : MCQ

Question ID : 264330140968

Option 1 ID : 264330552220

Option 2 ID : 264330552219

Option 3 ID : 264330552222

Option 4 ID : 264330552221

Status : Answered

Chosen Option : 1

Q.20 (::) के बाईं ओर दिए गए शब्द आपस में किसी तर्क/नियम/संबंध द्वारा संबंधित हैं। समान तर्क/नियम/संबंध के आधार पर दिए गए विकल्पों में से (::) के दाईं ओर लुप्त शब्द/शब्द युग्म को चुनिए।

क्लर्क(Clerk) : कार्यालय :: ?

Ans ✓ 1. योद्धा : युद्ध का मैदान

✗ 2. दुकान : किराना व्यापारी

✗ 3. गैराज : मैकेनिक

✗ 4. अस्पताल: किसान

Question Type : MCQ

Question ID : 264330140958

Option 1 ID : 264330552179

Option 2 ID : 264330552180

Option 3 ID : 264330552181

Option 4 ID : 264330552182

Status : Answered

Chosen Option : 1

Section : General Awareness

Q.1 निम्न में से कौन-सी स्वतंत्रता संग्राम सेनानी उत्तरप्रदेश राज्य की राज्यपाल बनने वाली पहली महिला भी थी?

- Ans
- 1. रानी लक्ष्मीबाई
 - 2. राजकुमारी अमृत कौर
 - 3. कस्तूरबा गांधी
 - 4. सरोजिनी नायडू

Question Type : MCQ
Question ID : 264330140766
Option 1 ID : 264330551412
Option 2 ID : 264330551411
Option 3 ID : 264330551414
Option 4 ID : 264330551413
Status : Answered
Chosen Option : 4

Q.2 भारत में बैडमिंटन के लिए शासी निकाय कौन-सा है?

- Ans
- 1. इंडियन बैडमिंटन एसोसिएशन (Indian Badminton Association)
 - 2. बैडमिंटन एजेंसी ऑफ इंडिया (Badminton Agency of India)
 - 3. बैडमिंटन एसोसिएशन ऑफ इंडिया (Badminton Association of India)
 - 4. इंडियन बैडमिंटन एजेंसी (Indian Badminton Agency)

Question Type : MCQ
Question ID : 264330138975
Option 1 ID : 264330544509
Option 2 ID : 264330544508
Option 3 ID : 264330544507
Option 4 ID : 264330544510
Status : Answered
Chosen Option : 1

Q.3 फरवरी 2022 में कर्मचारी चयन आयोग (SSC) का अध्यक्ष किसे नियुक्त किया गया है?

- Ans
- 1. एस. किशोर
 - 2. राकेश शर्मा
 - 3. के.एस. मणि
 - 4. विनीत जोशी

Question Type : MCQ
Question ID : 264330139731
Option 1 ID : 264330547339
Option 2 ID : 264330547341
Option 3 ID : 264330547340
Option 4 ID : 264330547342
Status : Answered
Chosen Option : 1

Q.4 निम्नलिखित में से कौन-सा संयुक्त क्षेत्र के उद्योग का एक उदाहरण है?

- Ans
- 1. आनंद मिल्क यूनियन लिमिटेड
 - 2. मारुति उद्योग लिमिटेड
 - 3. हिंदुस्तान एरोनॉटिक्स लिमिटेड
 - 4. स्टील ऑथॉरिटी ऑफ इंडिया लिमिटेड

Question Type : MCQ
Question ID : 264330140326
Option 1 ID : 264330549686
Option 2 ID : 264330549685
Option 3 ID : 264330549684
Option 4 ID : 264330549683
Status : Answered
Chosen Option : 1

Q.5 निम्नलिखित में से किस क्षेत्र में चक्रवात को "टाइफून (Typhoon)" के नाम से जाना जाता है?

- Ans
- 1. कनाडा
 - 2. जापान
 - 3. भारत
 - 4. ब्राज़ील

Question Type : MCQ
Question ID : 264330139688
Option 1 ID : 264330547167
Option 2 ID : 264330547170
Option 3 ID : 264330547169
Option 4 ID : 264330547168
Status : Answered
Chosen Option : 2

Q.6 दर्पण एकेडमी ऑफ परफॉर्मिंग आर्ट्स (Darpana Academy of Performing Arts)के संस्थापक और संचालक रह चुके किस प्रसिद्ध भारतीय नर्तक/नर्तकी को 1965 में पद्म श्री पुरस्कार मिला था?

- Ans
- 1. रुक्मिणी देवी अरुंडेल
 - 2. प्रभु देवा
 - 3. मृणालिनी साराभाई
 - 4. पंडित बिरजू महाराज

Question Type : MCQ
Question ID : 264330140770
Option 1 ID : 264330551429
Option 2 ID : 264330551428
Option 3 ID : 264330551427
Option 4 ID : 264330551430
Status : Answered
Chosen Option : 1

Q.7 _____ के पुत्र और उत्तराधिकारी, कुमारगुप्त प्रथम का शासनकाल शांति व्यवस्था और सापेक्षिक निष्क्रियता (relative inactivity) का काल था।

- Ans
- 1. चंद्रगुप्त प्रथम
 - 2. स्कन्दगुप्त
 - 3. समुद्रगुप्त
 - 4. चंद्रगुप्त द्वितीय

Question Type : MCQ
Question ID : 264330140330
Option 1 ID : 264330549699
Option 2 ID : 264330549702
Option 3 ID : 264330549700
Option 4 ID : 264330549701
Status : Not Answered
Chosen Option : --

Q.8 भारत का संविधान अपने _____ को वोट डालने का अधिकार देता है।

- Ans
- 1. सभी पुरुष नागरिकों
 - 2. सभी नागरिक और गैर-नागरिकों
 - 3. सभी करदाताओं
 - 4. सभी वयस्क नागरिकों

Question Type : MCQ
Question ID : 264330140279
Option 1 ID : 264330549496
Option 2 ID : 264330549498
Option 3 ID : 264330549495
Option 4 ID : 264330549497
Status : Answered
Chosen Option : 4

Q.9 दुखद कहानी "ओथेलो (Othello)" के लेखक कौन हैं?

- Ans
- 1. विलियम वर्ड्सवर्थ (William Wordsworth)
 - 2. जोहान्स गुटेनबर्ग (Johannes Gutenberg)
 - 3. विलियम शेक्सपियर (William Shakespeare)
 - 4. चार्ल्स डिकेन्स (Charles Dickens)

Question Type : MCQ
Question ID : 264330140693
Option 1 ID : 264330551119
Option 2 ID : 264330551121
Option 3 ID : 264330551120
Option 4 ID : 264330551122
Status : Not Answered
Chosen Option : --

Q.10 निम्नलिखित में से कौन-सा मिट्टी द्वारा प्रदत्त किए जाने वाले सूक्ष्म पोषक तत्व का एक उदाहरण है?

- Ans
- 1. सल्फर
 - 2. कैल्शियम
 - 3. पोटैशियम
 - 4. आयरन

Question Type : MCQ
Question ID : 264330139686
Option 1 ID : 264330547162
Option 2 ID : 264330547159
Option 3 ID : 264330547160
Option 4 ID : 264330547161
Status : Answered
Chosen Option : 3

Q.11 खेलों के संबंध में, NADA का पूर्णरूप _____ है।

- Ans
- 1. नेशनल ऑटोनोमस डोपिंग असोशिएशन (National Autonomous Doping Association)
 - 2. नेशनल ऑटोनोमस डोपिंग एजेंसी (National Autonomous Doping Agency)
 - 3. नेशनल एंटी-डोपिंग एजेंसी (National Anti-Doping Agency)
 - 4. नेशनल एंटी-डोपिंग असोशिएशन (National Anti-Doping Association)

Question Type : MCQ
Question ID : 264330139726
Option 1 ID : 264330547319
Option 2 ID : 264330547321
Option 3 ID : 264330547320
Option 4 ID : 264330547322
Status : Answered
Chosen Option : 3

Q.12 निम्नलिखित में से कौन-सा RBI द्वारा उपयोग किया जाने वाला एक मौद्रिक नीति-साधन है?

- Ans
- 1. आधार दर
 - 2. बैंक दर
 - 3. बड़ा दर
 - 4. कॉल दर

Question Type : MCQ
Question ID : 264330141070
Option 1 ID : 264330552628
Option 2 ID : 264330552627
Option 3 ID : 264330552630
Option 4 ID : 264330552629
Status : Answered
Chosen Option : 2

Q.13 पश्चिमी घाट और पूर्वी घाट का मिलन स्थल क्या है?

- Ans
- 1. नल्लामाला (Nallamala) पहाड़ियाँ
 - 2. नीलगिरी पहाड़ियाँ
 - 3. पालकोंडा पहाड़ियाँ
 - 4. इलायची पहाड़ियाँ

Question Type : MCQ

Question ID : 264330140761

Option 1 ID : 264330551391

Option 2 ID : 264330551394

Option 3 ID : 264330551392

Option 4 ID : 264330551393

Status : Answered

Chosen Option : 1

Q.14 भारत की सीमा पश्चिम बंगाल के पूर्व में निम्नलिखित में से किस देश से लगती है?

- Ans
- 1. चीन
 - 2. बांग्लादेश
 - 3. पाकिस्तान
 - 4. अफ़ग़ानिस्तान

Question Type : MCQ

Question ID : 264330141058

Option 1 ID : 264330552581

Option 2 ID : 264330552582

Option 3 ID : 264330552579

Option 4 ID : 264330552580

Status : Answered

Chosen Option : 2

Q.15 वर्ष 1526 में पानीपत के प्रथम युद्ध में बाबर ने किस सुल्तान को पराजित किया था?

- Ans
- 1. इब्राहिम लोदी
 - 2. सिकंदर लोदी
 - 3. बहलोल लोदी
 - 4. महमूद लोदी

Question Type : MCQ

Question ID : 264330138968

Option 1 ID : 264330544481

Option 2 ID : 264330544480

Option 3 ID : 264330544479

Option 4 ID : 264330544482

Status : Answered

Chosen Option : 1

Q.16 _____ में स्थित गणेश रथ मंदिर सबसे बेहतरीन एकात्मक मंदिरों में से एक है।

- Ans
- 1. नागपुर
 - 2. सोमनाथ
 - 3. महाबलीपुरम
 - 4. वाराणसी

Question Type : MCQ
Question ID : 264330140705
Option 1 ID : 264330551168
Option 2 ID : 264330551169
Option 3 ID : 264330551167
Option 4 ID : 264330551170
Status : Answered
Chosen Option : 3

Q.17 बदरुद्दीन तैयबजी ने सन् _____ में अध्यक्ष के रूप में कांग्रेस को संबोधित किया था।

- Ans
- 1. 1886
 - 2. 1888
 - 3. 1887
 - 4. 1885

Question Type : MCQ
Question ID : 264330139697
Option 1 ID : 264330547204
Option 2 ID : 264330547206
Option 3 ID : 264330547205
Option 4 ID : 264330547203
Status : Answered
Chosen Option : 2

Q.18 अली अकबर खाँ का संबंध इनमें से किस वाद्ययंत्र से है?

- Ans
- 1. तबला
 - 2. सितार
 - 3. शहनाई
 - 4. सरोद

Question Type : MCQ
Question ID : 264330139679
Option 1 ID : 264330547132
Option 2 ID : 264330547131
Option 3 ID : 264330547133
Option 4 ID : 264330547134
Status : Answered
Chosen Option : 1

Q.19 कौन-सा मंत्रालय "डीप ओशन मिशन" से संबंधित है?

Ans 1. पर्यावरण, वन और जलवायु परिवर्तन मंत्रालय

2. खान मंत्रालय

3. रक्षा मंत्रालय

4. पृथ्वी विज्ञान मंत्रालय

Question Type : MCQ

Question ID : 264330138980

Option 1 ID : 264330544529

Option 2 ID : 264330544528

Option 3 ID : 264330544527

Option 4 ID : 264330544530

Status : Answered

Chosen Option : 1

Q.20 होलिका दहन का त्योहार _____ का प्रतीक है।

Ans 1. बुआई के मौसम (sowing season) की शुरुआत

2. महिषासुर पर देवी दुर्गा की विजय

3. बुराई पर अच्छाई की जीत

4. नववर्ष की शुरुआत

Question Type : MCQ

Question ID : 264330140679

Option 1 ID : 264330551065

Option 2 ID : 264330551064

Option 3 ID : 264330551066

Option 4 ID : 264330551063

Status : Answered

Chosen Option : 1

Q.21 राष्ट्रीय साक्षरता मिशन (National Literacy Mission (एनएलएम NLM)) का गठन सन् _____ में किया गया था।

Ans 1. 1971

2. 1998

3. 1988

4. 1982

Question Type : MCQ

Question ID : 264330140917

Option 1 ID : 264330552016

Option 2 ID : 264330552018

Option 3 ID : 264330552017

Option 4 ID : 264330552015

Status : Not Answered

Chosen Option : --

Q.22 किस भारतीय मंत्रालय ने कृषि कानून निरसन विधेयक (Farm Laws Repeal Bill), 2021 पेश किया?

- Ans
- 1. वित्त मंत्रालय
 - 2. कृषि और किसान कल्याण मंत्रालय
 - 3. पंचायती राज मंत्रालय
 - 4. ग्रामीण विकास मंत्रालय

Question Type : MCQ
Question ID : 264330140677
Option 1 ID : 264330551056
Option 2 ID : 264330551055
Option 3 ID : 264330551058
Option 4 ID : 264330551057
Status : Answered
Chosen Option : 2

Q.23 निम्नलिखित में से कौन-सा खनिज थायरॉइड हार्मोन (थायरॉक्सिन) के संश्लेषण के लिए अनिवार्य है?

- Ans
- 1. आयोडीन
 - 2. सिलीनियम
 - 3. क्रोमियम
 - 4. आयरन

Question Type : MCQ
Question ID : 264330140324
Option 1 ID : 264330549675
Option 2 ID : 264330549677
Option 3 ID : 264330549678
Option 4 ID : 264330549676
Status : Answered
Chosen Option : 1

Q.24 लिटमस विलयन जब न तो अम्लीय होता है और न ही क्षारकीय होता है, तब यह _____ रंग का होता है।

- Ans
- 1. नीला
 - 2. लाल
 - 3. हरा
 - 4. बैंगनी

Question Type : MCQ
Question ID : 264330138962
Option 1 ID : 264330544455
Option 2 ID : 264330544458
Option 3 ID : 264330544456
Option 4 ID : 264330544457
Status : Not Answered
Chosen Option : --

Q.25 _____ की मुद्राओं को चिदंबरम मंदिर (तमिलनाडु) के गोपुरम (gopurams) पर चित्रित किया गया है।

- Ans
- 1. मोहिनीअट्टम
 - 2. भरतनाट्यम
 - 3. कथक
 - 4. कथकली

Question Type : MCQ
Question ID : 264330140933
Option 1 ID : 264330552082
Option 2 ID : 264330552079
Option 3 ID : 264330552080
Option 4 ID : 264330552081
Status : Answered
Chosen Option : 2

Section : English Language and Comprehension

Q.1 Select the most appropriate synonym to substitute the bracketed word in the given sentence.

Unfortunately he is merely the head of a rabble of warlords who are (firmly) rooted in the past.

- Ans
- 1. Feebly
 - 2. Impotently
 - 3. Stiffly
 - 4. Languidly

Question Type : MCQ
Question ID : 264330136204
Option 1 ID : 264330533608
Option 2 ID : 264330533610
Option 3 ID : 264330533607
Option 4 ID : 264330533609
Status : Answered
Chosen Option : 3

Q.2 Select the word segment that substitutes (replaces) the bracketed word segment correctly and completes the sentence meaningfully. Select the option 'no correction required' if the sentence is correct as given.

They (are waiting) for the bus when the accident happened.

- Ans
- 1. were waiting
 - 2. No correction required
 - 3. have waited
 - 4. have been waiting

Question Type : MCQ
Question ID : 264330136566
Option 1 ID : 264330535000
Option 2 ID : 264330535002
Option 3 ID : 264330535001
Option 4 ID : 264330534999
Status : Answered
Chosen Option : 1

Q.3 Select the word from the options which is exactly opposite in meaning to the bracketed word given in the sentence below.

Ruffin is seeking that (harmony) of humour in truth-telling amid despair.

- Ans**
- ✓ 1. Discord
 - ✗ 2. Determination
 - ✗ 3. Sectional
 - ✗ 4. Conformity

Question Type : **MCQ**
Question ID : **264330136284**
Option 1 ID : **264330533918**
Option 2 ID : **264330533916**
Option 3 ID : **264330533917**
Option 4 ID : **264330533915**
Status : **Answered**
Chosen Option : 1

Q.4 Improve the underlined part of the sentence. Choose 'No improvement' as an answer if the sentence is grammatically correct.

You have exactly one hour to completes the exam.

- Ans**
- ✓ 1. hour to complete
 - ✗ 2. hour to completed
 - ✗ 3. hourly to complete
 - ✗ 4. No improvement

Question Type : **MCQ**
Question ID : **264330141168**
Option 1 ID : **264330553015**
Option 2 ID : **264330553016**
Option 3 ID : **264330553017**
Option 4 ID : **264330553018**
Status : **Answered**
Chosen Option : 1

Q.5 Select the word segment that substitutes (replaces) the bracketed word segment correctly and completes the sentence meaningfully. Select the option 'no correction required' if the sentence is correct as given.

Christian turned round and (strided off into) the blackness and I got into my car.

- Ans**
- ✗ 1. strided of
 - ✓ 2. strode off
 - ✗ 3. No correction required
 - ✗ 4. strode of

Question Type : **MCQ**
Question ID : **264330135745**
Option 1 ID : **264330531863**
Option 2 ID : **264330531865**
Option 3 ID : **264330531866**
Option 4 ID : **264330531864**
Status : **Answered**
Chosen Option : 3

Q.6 Select the most appropriate word for the given group of words.

Ethically good behaviour one has

- Ans
- 1. Belief
 - 2. Virtue
 - 3. Values
 - 4. Virtual

Question Type : MCQ
Question ID : 264330136424
Option 1 ID : 264330534458
Option 2 ID : 264330534457
Option 3 ID : 264330534456
Option 4 ID : 264330534455
Status : Answered
Chosen Option : 2

Q.7 Select the most appropriate option to fill in the blank.
_____ in biotechnology and medicine have resulted in higher expectancy rate and lower mortality rate.

- Ans
- 1. Advancements
 - 2. Saturation
 - 3. Aversions
 - 4. Arrogate

Question Type : MCQ
Question ID : 264330136767
Option 1 ID : 264330535773
Option 2 ID : 264330535772
Option 3 ID : 264330535774
Option 4 ID : 264330535771
Status : Answered
Chosen Option : 1

Q.8 Select the most appropriate option to fill in the blank.

After the first defeats he had to _____ from France with the empress.

- Ans
- 1. Fleet
 - 2. Flea
 - 3. Fling
 - 4. Flee

Question Type : MCQ
Question ID : 264330141215
Option 1 ID : 264330553196
Option 2 ID : 264330553197
Option 3 ID : 264330553198
Option 4 ID : 264330553195
Status : Answered
Chosen Option : 1

Q.9 In the following question, out of the given four alternatives, select the alternative which best expresses the meaning of the Idiom/Phrase.

Bite the bullet

- Ans**
- 1. To ruin oneself
 - 2. Decide to do something that is difficult
 - 3. Peace talking
 - 4. To bring harm to someone

Question Type : **MCQ**
Question ID : **264330135658**
Option 1 ID : **264330531528**
Option 2 ID : **264330531530**
Option 3 ID : **264330531527**
Option 4 ID : **264330531529**
Status : **Answered**
Chosen Option : **2**

Q.10 Find the part of the given sentence that has an error in it. If there is no error, choose 'No error'.
Humans are drawn to foods that is fatty, sweet, rich and complex.

- Ans**
- 1. Humans are drawn to
 - 2. sweet, rich and complex.
 - 3. foods that is fatty,
 - 4. No error

Question Type : **MCQ**
Question ID : **264330141211**
Option 1 ID : **264330553179**
Option 2 ID : **264330553181**
Option 3 ID : **264330553180**
Option 4 ID : **264330553182**
Status : **Answered**
Chosen Option : **3**

Q.11 Select the most appropriate option to fill in the blank.

Someone thinks Charles should _____ the British throne and come out here instead.

- Ans**
- 1. reciprocate
 - 2. decorticate
 - 3. authenticate
 - 4. abdicate

Question Type : **MCQ**
Question ID : **264330135669**
Option 1 ID : **264330531573**
Option 2 ID : **264330531574**
Option 3 ID : **264330531571**
Option 4 ID : **264330531572**
Status : **Answered**
Chosen Option : **4**

Q.12 Select the most appropriate option to fill in the blank.

Inclusive of private packs it is difficult to _____ more than an overall total of 60 drag and/or bloodhound packs.

- Ans**
- 1. package
 - 2. haemorrhage
 - 3. envisage
 - 4. discourage

Question Type : **MCQ**
Question ID : **264330136369**
Option 1 ID : **264330534243**
Option 2 ID : **264330534245**
Option 3 ID : **264330534246**
Option 4 ID : **264330534244**
Status : **Answered**
Chosen Option : **3**

Q.13 Identify the segment that contains a grammatical error. If there is no error, select 'No error'.

Far, far at the top of them, / a shower of bright red sparks / had flared among the stars.

- Ans**
- 1. a shower of bright red sparks
 - 2. had flared among the stars.
 - 3. No error
 - 4. Far, far at the top of them,

Question Type : **MCQ**
Question ID : **264330136109**
Option 1 ID : **264330533244**
Option 2 ID : **264330533245**
Option 3 ID : **264330533246**
Option 4 ID : **264330533243**
Status : **Answered**
Chosen Option : **4**

Q.14 Select the most appropriate meaning of the given idiom.

Ethnic Cleansing

- Ans**
- 1. One who was previously unknown and is now prominent
 - 2. Killing of a certain ethnic or religious group on a massive scale
 - 3. Worshiping of a certain ethnic or religious group on a massive scale
 - 4. A large number of people either falling ill or dying

Question Type : **MCQ**
Question ID : **264330135839**
Option 1 ID : **264330532223**
Option 2 ID : **264330532226**
Option 3 ID : **264330532225**
Option 4 ID : **264330532224**
Status : **Answered**
Chosen Option : **1**

Q.15 Select the most appropriate synonym of the given word.

Contradict

Ans 1. Verify

2. Contravene

3. Permit

4. Vouch

Question Type : MCQ

Question ID : 264330135757

Option 1 ID : 264330531908

Option 2 ID : 264330531909

Option 3 ID : 264330531907

Option 4 ID : 264330531910

Status : Answered

Chosen Option : 2

Q.16 Choose the incorrectly spelt word.

Ans 1. Graviety

2. Pattern

3. Sober

4. Major

Question Type : MCQ

Question ID : 264330135174

Option 1 ID : 264330529630

Option 2 ID : 264330529629

Option 3 ID : 264330529628

Option 4 ID : 264330529627

Status : Answered

Chosen Option : 1

Q.17 Select the wrongly spelt word.

Ans 1. paneche

2. palatial

3. scurvy

4. oblique

Question Type : MCQ

Question ID : 264330135686

Option 1 ID : 264330531637

Option 2 ID : 264330531636

Option 3 ID : 264330531635

Option 4 ID : 264330531638

Status : Answered

Chosen Option : 1

Q.18 Select the most appropriate antonym of the given word.

Abundant

- Ans
- 1. Meagre
 - 2. Unreliable
 - 3. Indefinite
 - 4. Unconscious

Question Type : MCQ
Question ID : 264330136501
Option 1 ID : 264330534747
Option 2 ID : 264330534749
Option 3 ID : 264330534750
Option 4 ID : 264330534748
Status : Answered
Chosen Option : 1

Q.19 Select the most appropriate word for the given group of words.

A person who has money especially invested in business

- Ans
- 1. Capitalist
 - 2. Leftist
 - 3. Minimalist
 - 4. Industrialist

Question Type : MCQ
Question ID : 264330136150
Option 1 ID : 264330533399
Option 2 ID : 264330533401
Option 3 ID : 264330533400
Option 4 ID : 264330533402
Status : Answered
Chosen Option : 1

Q.20 Identify the segment that contains a grammatical error. If there is no error, select 'No error'.

I could not make out what / it is, for the wind was / rustling the corn-shocks.

- Ans
- 1. I could not make out what
 - 2. it is, for the wind was
 - 3. No error
 - 4. rustling the corn-shocks.

Question Type : MCQ
Question ID : 264330135691
Option 1 ID : 264330531655
Option 2 ID : 264330531656
Option 3 ID : 264330531658
Option 4 ID : 264330531657
Status : Answered
Chosen Option : 2

Comprehension:

In the following passage some words have been deleted. Fill in the blanks with the help of the alternatives given. Select the most appropriate option for each number.

I wished I (1) _____ teach this to Dhri as well, but I feared it was too (2) _____. Already he had started thinking like the men (3) _____ him, embracing the world of the court with open arms. And I? Each day I thought less and (4) _____ like the women around me. Each day I moved further from them (5) _____ a dusky solitude.

SubQuestion No : 21

Q.21 Select the most appropriate option to fill in blank number 1.

- Ans**
- 1. can
 - 2. may
 - 3. would
 - 4. could

Question Type : **MCQ**

Question ID : **264330136170**

Option 1 ID : **264330533477**

Option 2 ID : **264330533478**

Option 3 ID : **264330533475**

Option 4 ID : **264330533476**

Status : **Answered**

Chosen Option : **4**

Comprehension:

In the following passage some words have been deleted. Fill in the blanks with the help of the alternatives given. Select the most appropriate option for each number.

I wished I (1) _____ teach this to Dhri as well, but I feared it was too (2) _____. Already he had started thinking like the men (3) _____ him, embracing the world of the court with open arms. And I? Each day I thought less and (4) _____ like the women around me. Each day I moved further from them (5) _____ a dusky solitude.

SubQuestion No : 22

Q.22 Select the most appropriate option to fill in blank number 2.

- Ans**
- 1. late
 - 2. last minute
 - 3. early
 - 4. later

Question Type : **MCQ**

Question ID : **264330136171**

Option 1 ID : **264330533482**

Option 2 ID : **264330533481**

Option 3 ID : **264330533479**

Option 4 ID : **264330533480**

Status : **Answered**

Chosen Option : **1**

Comprehension:

In the following passage some words have been deleted. Fill in the blanks with the help of the alternatives given. Select the most appropriate option for each number.

I wished I (1) _____ teach this to Dhri as well, but I feared it was too (2) _____. Already he had started thinking like the men (3) _____ him, embracing the world of the court with open arms. And I? Each day I thought less and (4) _____ like the women around me. Each day I moved further from them (5) _____ a dusky solitude.

SubQuestion No : 23

Q.23 Select the most appropriate option to fill in blank number 3.

- Ans**
- 1. around
 - 2. surmounting
 - 3. rotating
 - 4. revolving

Question Type : **MCQ**
Question ID : **264330136172**
Option 1 ID : **264330533483**
Option 2 ID : **264330533486**
Option 3 ID : **264330533485**
Option 4 ID : **264330533484**
Status : **Answered**
Chosen Option : **1**

Comprehension:

In the following passage some words have been deleted. Fill in the blanks with the help of the alternatives given. Select the most appropriate option for each number.

I wished I (1) _____ teach this to Dhri as well, but I feared it was too (2) _____. Already he had started thinking like the men (3) _____ him, embracing the world of the court with open arms. And I? Each day I thought less and (4) _____ like the women around me. Each day I moved further from them (5) _____ a dusky solitude.

SubQuestion No : 24

Q.24 Select the most appropriate option to fill in blank number 4.

- Ans**
- 1. little
 - 2. less
 - 3. more
 - 4. limited

Question Type : **MCQ**
Question ID : **264330136173**
Option 1 ID : **264330533488**
Option 2 ID : **264330533489**
Option 3 ID : **264330533487**
Option 4 ID : **264330533490**
Status : **Answered**
Chosen Option : **4**

Comprehension:

In the following passage some words have been deleted. Fill in the blanks with the help of the alternatives given. Select the most appropriate option for each number.

I wished I (1) _____ teach this to Dhri as well, but I feared it was too (2) _____. Already he had started thinking like the men (3) _____ him, embracing the world of the court with open arms. And I? Each day I thought less and (4) _____ like the women around me. Each day I moved further from them (5) _____ a dusky solitude.

SubQuestion No : 25

Q.25 Select the most appropriate option to fill in blank number 5.

- Ans**
- 1. inner
 - 2. on to
 - 3. up to
 - 4. into

Question Type : **MCQ**

Question ID : **264330136174**

Option 1 ID : **264330533492**

Option 2 ID : **264330533491**

Option 3 ID : **264330533494**

Option 4 ID : **264330533493**

Status : **Answered**

Chosen Option : **4**