

Multi Tasking Non Technical Staff and Havaldar CBIC and CBN Examination 2022

Roll Number	
Candidate Name	
Venue Name	New Age Technologies
Exam Date	13/06/2023
Exam Time	3:30 PM - 5:00 PM
Subject	MTS Non Tech Havaldar CBIC and CBN Examination 2022

Section : Numerical and Mathematical Ability

Q.1 एक व्यक्ति साधारण ब्याज पर 5 प्रतिशत वार्षिक दर पर एक निश्चित धनराशि ऋण पर देता है। 4 वर्षों में, ब्याज की राशि Rs. 800 हो जाती है। ऋण पर दी गई राशि क्या है?

- Ans
- 1. Rs. 3200
 - 2. Rs. 2000
 - 3. Rs. 4000
 - 4. Rs. 1600

Question Type : MCQ

Question ID : 264330140249

Option 1 ID : 264330549378

Option 2 ID : 264330549375

Option 3 ID : 264330549377

Option 4 ID : 264330549376

Status : Answered

Chosen Option : 3

Q.2 दो प्रकार के चावलों का मूल्य Rs. 60 प्रति किलोग्राम (per kg) और Rs. 84 प्रति किलोग्राम है। यदि दोनों चावलों को एक साथ 1:1 के अनुपात में मिला दिया जाए, तो मिश्रित किस्म के चावल का प्रति किलोग्राम मूल्य क्या होना चाहिए?

- Ans
- 1. Rs. 76 प्रति किलोग्राम
 - 2. Rs. 72 प्रति किलोग्राम
 - 3. Rs. 68 प्रति किलोग्राम
 - 4. Rs. 80 प्रति किलोग्राम

Question Type : MCQ

Question ID : 264330134084

Option 1 ID : 264330525361

Option 2 ID : 264330525360

Option 3 ID : 264330525359

Option 4 ID : 264330525362

Status : Answered

Chosen Option : 2

Q.3 यदि ब्याज अर्धवार्षिक रूप से संयोजित हो रहा है और ब्याज की दर 20 प्रतिशत वार्षिक है, तो कितने समय में Rs.15000 की राशि चक्रवृद्धि ब्याज पर Rs.19965 हो जाएगी?

- Ans
- 1. 30 माह में
 - 2. 12 माह में
 - 3. 18 माह में
 - 4. 24 माह में

Question Type : MCQ

Question ID : 264330140250

Option 1 ID : 264330549382

Option 2 ID : 264330549380

Option 3 ID : 264330549379

Option 4 ID : 264330549381

Status : Answered

Chosen Option : 3

Q.4 24 cm त्रिज्या वाले एक अर्धगोले को पिघलाकर 6 cm त्रिज्या वाली कितनी गोलाकार गेंदें बनाई जा सकती हैं?

- Ans
- 1. 32
 - 2. 64
 - 3. 96
 - 4. 24

Question Type : MCQ

Question ID : 264330140166

Option 1 ID : 264330549045

Option 2 ID : 264330549046

Option 3 ID : 264330549043

Option 4 ID : 264330549044

Status : Answered

Chosen Option : 2

Q.5 एक आदमी एक निश्चित दूरी का आधा भाग 15 km/hr की चाल से तय करता है। वह शेष दूरी का 40 प्रतिशत भाग 12 km/hr की चाल से तय करता है और शेष दूरी 21 km/hr की चाल से तय करता है। पूरी यात्रा में उसकी औसत चाल क्या है?

- Ans
- 1. 164/9 km/hr
 - 2. 139/9 km/hr
 - 3. 140/9 km/hr
 - 4. 15 km/hr

Question Type : MCQ

Question ID : 264330140217

Option 1 ID : 264330549249

Option 2 ID : 264330549247

Option 3 ID : 264330549248

Option 4 ID : 264330549250

Status : Answered

Chosen Option : 3

Q.6 नीचे दी गई तालिका में पाँच कंपनियों की आय और व्यय को दर्शाया गया है।

कंपनियाँ	आय	व्यय
A	55	50
B	50	40
C	35	32
D	40	35
E	60	50

सभी कंपनियों की औसत आय और औसत व्यय के बीच कितना अंतर है?

- Ans
- ✓ 1. 6.6
 - ✗ 2. 2.6
 - ✗ 3. 4.2
 - ✗ 4. 8.4

Question Type : MCQ

Question ID : 264330139949

Option 1 ID : 264330548176

Option 2 ID : 264330548178

Option 3 ID : 264330548175

Option 4 ID : 264330548177

Status : Answered

Chosen Option : 1

Q.7 कुछ लड़कियाँ किसी कार्य को 10 दिनों में कर सकती हैं। इन लड़कियों से दोगुनी लड़कियाँ समान कार्य का चार गुना कार्य कितने समय में पूरा करेंगी?

- Ans
- ✗ 1. 25 दिनों में
 - ✗ 2. 30 दिनों में
 - ✗ 3. 10 दिनों में
 - ✓ 4. 20 दिनों में

Question Type : MCQ

Question ID : 264330140611

Option 1 ID : 264330550792

Option 2 ID : 264330550794

Option 3 ID : 264330550791

Option 4 ID : 264330550793

Status : Answered

Chosen Option : 4

Q.8 नीलम और रजनी की वर्तमान आयु का अनुपात 6 : 5 है। छः वर्ष बाद, उनकी आयु का अनुपात 13 : 11 होगा। रजनी की वर्तमान आयु कितनी है?

- Ans
- 1. 30 वर्ष
 - 2. 75 वर्ष
 - 3. 45 वर्ष
 - 4. 60 वर्ष

Question Type : MCQ
Question ID : 264330140201
Option 1 ID : 264330549183
Option 2 ID : 264330549186
Option 3 ID : 264330549185
Option 4 ID : 264330549184
Status : Answered
Chosen Option : 4

Q.9 $\sqrt{0.33 \times 0.33 + 0.6 \times 0.6 + 1.2 \times 0.33}$ का मान क्या है?

- Ans
- 1. 0.69
 - 2. 0.93
 - 3. 0.39
 - 4. 0.73

Question Type : MCQ
Question ID : 264330140230
Option 1 ID : 264330549301
Option 2 ID : 264330549302
Option 3 ID : 264330549299
Option 4 ID : 264330549300
Status : Answered
Chosen Option : 2

Q.10 यदि कुल वस्तुओं का 80 प्रतिशत, 25 प्रतिशत की हानि पर बेचा जाता है और शेष वस्तुओं को 20 प्रतिशत के लाभ पर बेचा जाता है, तो कुल हानि प्रतिशत क्या होगा?

- Ans
- 1. 18 प्रतिशत
 - 2. 22 प्रतिशत
 - 3. 20 प्रतिशत
 - 4. 16 प्रतिशत

Question Type : MCQ
Question ID : 264330139918
Option 1 ID : 264330548053
Option 2 ID : 264330548051
Option 3 ID : 264330548052
Option 4 ID : 264330548054
Status : Answered
Chosen Option : 4

Q.11 धारा के प्रतिकूल एक नाव की चाल 8 km/hr है और धारा की चाल 4 km/hr है। नाव धारा के प्रतिकूल x किमी और धारा के अनुकूल x किमी की दूरी तय करती है। यदि नाव द्वारा लिया गया कुल समय 9 घंटे है, तो x का मान क्या है?

- Ans
- 1. 60 km
 - 2. 48 km
 - 3. 72 km
 - 4. 36 km

Question Type : MCQ

Question ID : 264330139933

Option 1 ID : 264330548114

Option 2 ID : 264330548113

Option 3 ID : 264330548111

Option 4 ID : 264330548112

Status : Answered

Chosen Option : 2

Q.12 शिवम, विवेक से 20 प्रतिशत कम कुशल है। यदि विवेक 12 दिनों में एक हेलमेट बना सकता है, तो शिवम उसी हेलमेट को कितने दिनों में बना सकता है?

- Ans
- 1. 18 दिनों में
 - 2. 12 दिनों में
 - 3. 15 दिनों में
 - 4. 14 दिनों में

Question Type : MCQ

Question ID : 264330139891

Option 1 ID : 264330547943

Option 2 ID : 264330547945

Option 3 ID : 264330547944

Option 4 ID : 264330547946

Status : Answered

Chosen Option : 3

Q.13 एक पेन का अंकित मूल्य Rs. 20 है। 5% के बढ़ते के बाद ऐसे 5 पेन का कुल विक्रय मूल्य क्या होगा?

- Ans
- 1. Rs. 90
 - 2. Rs. 95
 - 3. Rs. 105
 - 4. Rs. 100

Question Type : MCQ

Question ID : 264330140806

Option 1 ID : 264330551572

Option 2 ID : 264330551571

Option 3 ID : 264330551574

Option 4 ID : 264330551573

Status : Answered

Chosen Option : 2

Q.14 एक व्यापारी ने एक वस्तु को 20% की हानि पर बेचा। यदि उसने इसे Rs. 390 अधिक में बेचा होता, तो क्रय मूल्य पर 6% का लाभ होता। वस्तु का क्रय मूल्य क्या है?

- Ans
- 1. Rs. 1200
 - 2. Rs. 1500
 - 3. Rs. 2600
 - 4. Rs. 1800

Question Type : MCQ

Question ID : 264330139042

Option 1 ID : 264330544778

Option 2 ID : 264330544777

Option 3 ID : 264330544775

Option 4 ID : 264330544776

Status : Answered

Chosen Option : 2

Q.15 यदि किसी संख्या के 30 प्रतिशत में से 60 घटाया जाए, तो परिणाम 120 आता है। संख्या का मान क्या है?

- Ans
- 1. 600
 - 2. 700
 - 3. 630
 - 4. 550

Question Type : MCQ

Question ID : 264330140588

Option 1 ID : 264330550703

Option 2 ID : 264330550706

Option 3 ID : 264330550705

Option 4 ID : 264330550704

Status : Answered

Chosen Option : 1

Q.16 तीन साझेदारों P, Q और R ने एक व्यवसाय में कुल Rs.52,000 का निवेश किया। वर्ष के अंत में लाभ के हिस्से के रूप में, P को Rs.1430, Q को Rs.1870 और R को Rs.2420 मिले। Q ने व्यवसाय में कितनी राशि का निवेश किया?

- Ans
- 1. Rs. 15300
 - 2. Rs. 18700
 - 3. Rs. 17000
 - 4. Rs. 20400

Question Type : MCQ

Question ID : 264330139900

Option 1 ID : 264330547979

Option 2 ID : 264330547982

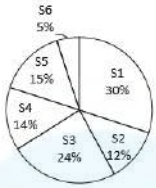
Option 3 ID : 264330547980

Option 4 ID : 264330547981

Status : Answered

Chosen Option : 3

Q.17 नीचे दिए गए वृत्त आलेख में एक छात्र द्वारा 6 अलग-अलग विषयों में प्राप्त किए गए अंकों को दर्शाया गया है। छात्र द्वारा प्राप्त कुल अंक 500 हैं। इनमें से किसी एक विशिष्ट विषय में प्राप्त अंकों को इन सभी 6 विषयों में प्राप्त कुल अंकों के प्रतिशत के रूप में दर्शाया गया है।



S3 में प्राप्त अंकों और S4 में प्राप्त अंकों का अनुपात क्या है?

- Ans
- 1. 12 : 5
 - 2. 2 : 1
 - 3. 5 : 6
 - 4. 12 : 7

Question Type : MCQ

Question ID : 264330140602

Option 1 ID : 264330550761

Option 2 ID : 264330550759

Option 3 ID : 264330550760

Option 4 ID : 264330550762

Status : Answered

Chosen Option : 4

Q.18 एक समलंब की दो समांतर भुजाओं की लंबाई 25 मीटर और 30 मीटर है। यदि इसकी ऊँचाई 20 मीटर है, तो समलंब का क्षेत्रफल कितना है?

- Ans
- 1. 550 metre²
 - 2. 420 metre²
 - 3. 350 metre²
 - 4. 590 metre²

Question Type : MCQ

Question ID : 264330140207

Option 1 ID : 264330549210

Option 2 ID : 264330549208

Option 3 ID : 264330549207

Option 4 ID : 264330549209

Status : Answered

Chosen Option : 1

Q.19 $\frac{99 \div 33 + 44 \div 11 \text{ of } 4}{24 \div 12 - 4 + 3}$ का मान क्या है?

- Ans
- 1. 6
 - 2. 1
 - 3. 8
 - 4. 4

Question Type : MCQ

Question ID : 264330139907

Option 1 ID : 264330548009

Option 2 ID : 264330548007

Option 3 ID : 264330548010

Option 4 ID : 264330548008

Status : Answered

Chosen Option : 4

Q.20 $\frac{3}{8}$ और $\frac{4}{9}$ का महत्तम समापवर्तक क्या है?

- Ans
- 1. $\frac{1}{18}$
 - 2. $\frac{1}{108}$
 - 3. $\frac{1}{36}$
 - 4. $\frac{1}{72}$

Question Type : MCQ

Question ID : 264330140188

Option 1 ID : 264330549133

Option 2 ID : 264330549134

Option 3 ID : 264330549132

Option 4 ID : 264330549131

Status : Answered

Chosen Option : 4

Section : Reasoning Ability and Problem Solving

Q.1 दिए गए समीकरण को सही करने के लिए किन दो संख्याओं को आपस में बदला जाना चाहिए?

$$4 + 40 \times 5 - 16 \div 8 = 79$$

- Ans
- 1. 40 और 16
 - 2. 4 और 40
 - 3. 16 और 4
 - 4. 5 और 16

Question Type : MCQ

Question ID : 264330140049

Option 1 ID : 264330548577

Option 2 ID : 264330548575

Option 3 ID : 264330548578

Option 4 ID : 264330548576

Status : Answered

Chosen Option : 1

Q.2 निम्नलिखित प्रश्न में कुछ कथन दिए गए हैं और उन कथनों के आधार पर कुछ निष्कर्ष दिए गए हैं। आपको मानना है कि दिए गए कथन सत्य हैं चाहे वे समान्यतः ज्ञात तथ्यों से अलग प्रतीत होते हों। सभी निष्कर्षों को पढ़िए और फिर निश्चय कीजिए कि दिए गए निष्कर्षों में से कौन-सा निष्कर्ष तार्किक रूप से दिए गए कथनों के अनुसार है।

कथन:

I. सभी J, Y हैं।

II. कोई X, Y नहीं है।

निष्कर्ष:

I. कुछ X, Y नहीं हैं।

II. कुछ J, X नहीं हैं।

Ans

1. केवल निष्कर्ष II कथनों के अनुसार है
2. केवल निष्कर्ष I कथनों के अनुसार है
3. दोनों निष्कर्ष I और II कथनों के अनुसार हैं
4. कोई भी निष्कर्ष कथनों के अनुसार नहीं है

Question Type : MCQ

Question ID : 264330140062

Option 1 ID : 264330548628

Option 2 ID : 264330548627

Option 3 ID : 264330548629

Option 4 ID : 264330548630

Status : Answered

Chosen Option : 3

Q.3 एक निश्चित कूट भाषा में, 'RAUGHT' को 'TYWEJR' लिखा जाता है और 'DOMINE' को 'FMOGPC' लिखा जाता है। उस कूट भाषा में 'BACKER' को कैसे लिखा जाएगा?

Ans

1. DYKGP
2. DYEIHP
3. DYEIGP
4. DYEJIP

Question Type : MCQ

Question ID : 264330140476

Option 1 ID : 264330550283

Option 2 ID : 264330550285

Option 3 ID : 264330550284

Option 4 ID : 264330550286

Status : Answered

Chosen Option : 3

Q.4 एक निश्चित कूट भाषा में, 'BURN' को 'CVS14' लिखा जाता है। उस कूट भाषा में 'GOLD' को कैसे लिखा जाएगा?

Ans

1. HP4M
2. PHM4
3. HMP4
4. HPM4

Question Type : MCQ

Question ID : 264330138770

Option 1 ID : 264330543688

Option 2 ID : 264330543690

Option 3 ID : 264330543687

Option 4 ID : 264330543689

Status : Answered

Chosen Option : 4

Q.5 उस विकल्प को चुनिए जो तीसरी संख्या से ठीक उसी प्रकार संबंधित है जिस प्रकार दूसरी संख्या पहली संख्या से संबंधित है।
236 : 33 :: 325 : ?

- Ans
- ✓ 1. 30
 - ✗ 2. 27
 - ✗ 3. 63
 - ✗ 4. 33

Question Type : MCQ
Question ID : 264330140106
Option 1 ID : 264330548804
Option 2 ID : 264330548805
Option 3 ID : 264330548803
Option 4 ID : 264330548806
Status : Answered
Chosen Option : 1

Q.6 उस विकल्प को चुनिए जो तीसरे शब्द से ठीक उसी प्रकार संबंधित है जिस प्रकार दूसरा शब्द पहले शब्द से संबंधित है।
गठिया : जोड़ :: दमा : ?

- Ans
- ✗ 1. यकृत
 - ✗ 2. हृदय
 - ✗ 3. मस्तिष्क
 - ✓ 4. फेफड़े

Question Type : MCQ
Question ID : 264330140094
Option 1 ID : 264330548758
Option 2 ID : 264330548755
Option 3 ID : 264330548756
Option 4 ID : 264330548757
Status : Answered
Chosen Option : 4

Q.7 दी गई श्रृंखला में निम्नलिखित में से कौन-सी संख्या प्रश्न चिन्ह (?) के स्थान पर आएगी?
89, 170, 219, 244, 253, ?

- Ans
- ✓ 1. 254
 - ✗ 2. 255
 - ✗ 3. 256
 - ✗ 4. 257

Question Type : MCQ
Question ID : 264330140125
Option 1 ID : 264330548879
Option 2 ID : 264330548880
Option 3 ID : 264330548881
Option 4 ID : 264330548882
Status : Answered
Chosen Option : 1

Q.8 दो कथन दिए गए हैं और दो निष्कर्ष I और II दिए गए हैं। कथनों को सत्य मानते हुए, चाहे वे सामान्यतः ज्ञात तथ्यों से अलग प्रतीत होते हों, निश्चय कीजिए कि कौन-सा निष्कर्ष तार्किक रूप से कथनों के अनुसार है।
कथन:

कुछ पॉपकॉर्न, चाइनीज़ हैं।

सभी पास्ता, चाइनीज़ हैं।

निष्कर्ष:

I. सभी चाइनीज़, पास्ता हैं।

II. कुछ पॉपकॉर्न, पास्ता हैं।

Ans

✗ 1. सिर्फ निष्कर्ष I कथनों के अनुसार है

✓ 2. निष्कर्ष I और II में से कोई भी कथनों के अनुसार नहीं है

✗ 3. दोनों निष्कर्ष I और II कथनों के अनुसार हैं

✗ 4. सिर्फ निष्कर्ष II कथनों के अनुसार है

Question Type : MCQ

Question ID : 264330140462

Option 1 ID : 264330550227

Option 2 ID : 264330550230

Option 3 ID : 264330550229

Option 4 ID : 264330550228

Status : Answered

Chosen Option : 2

Q.9 उस विकल्प को चुनिए जिसमें समुच्चय की संख्याएँ वही संबंध साझा करती हैं जो दिए गए समुच्चय में संख्याओं द्वारा साझा किया जाता है। (ध्यान दें: संख्याओं को उनके घटक अंकों में अलग-अलग किए बिना, पूर्ण संख्याओं पर संक्रियाएँ की जानी चाहिए। उदा. 13 - 13 पर संक्रियाएँ जैसे 13 को जोड़ना /घटाना /गुणा करना आदि किया जा सकता है। 13 को 1 और 3 में अलग-अलग करने और फिर 1 और 3 पर गणितीय संक्रियाएँ करने की अनुमति नहीं है)

(12, 22, 34)

(14, 15, 29)

Ans

✗ 1. (10, 20, 24)

✗ 2. (14, 15, 19)

✗ 3. (8, 9, 15)

✓ 4. (16, 17, 33)

Question Type : MCQ

Question ID : 264330139562

Option 1 ID : 264330546666

Option 2 ID : 264330546663

Option 3 ID : 264330546665

Option 4 ID : 264330546664

Status : Answered

Chosen Option : 4

Q.10 दी गई श्रृंखला में निम्नलिखित में से कौन-सा अक्षर-समूह प्रश्न चिन्ह (?) के स्थान पर आएगा?
DMF, FKG, HIH, JGI, LEJ, ?

- Ans 1. NCK
 2. NDJ
 3. KDN
 4. MDK

Question Type : MCQ

Question ID : 264330135346

Option 1 ID : 264330530292

Option 2 ID : 264330530294

Option 3 ID : 264330530291

Option 4 ID : 264330530293

Status : Answered

Chosen Option : 1

Q.11 U, V, W, X और Y एक वृत्ताकार मेज के चारों ओर केंद्र से बाहर की ओर मुख करके बैठे हैं। U, W के ठीक बाईं ओर बैठा है। X, V और Y के ठीक बीच में बैठा है। W और V एक-दूसरे के बगल में बैठे हैं। U के ठीक बाईं ओर कौन बैठा है?

- Ans 1. W
 2. Y
 3. X
 4. V

Question Type : MCQ

Question ID : 264330135354

Option 1 ID : 264330530324

Option 2 ID : 264330530326

Option 3 ID : 264330530325

Option 4 ID : 264330530323

Status : Answered

Chosen Option : 2

Q.12 उस विकल्प को चुनिए जो तीसरे शब्द से ठीक उसी तरह संबंधित है जिस तरह दूसरा शब्द पहले शब्द से संबंधित है।
अफ़ग़ानिस्तान : काबुल :: ऑस्ट्रेलिया : ?

- Ans 1. सिडनी
 2. मेलबर्न
 3. वेलिंगटन
 4. कैनबरा

Question Type : MCQ

Question ID : 264330140115

Option 1 ID : 264330548840

Option 2 ID : 264330548841

Option 3 ID : 264330548839

Option 4 ID : 264330548842

Status : Answered

Chosen Option : 4

Q.13 दिए गए समीकरण को सही करने के लिए किन दो चिन्हों को आपस में बदला जाना चाहिए?

$$2 \div 9 \times 18 + 7 - 4 = 1$$

Ans 1. \times और $+$

2. $-$ और $+$

3. $=$ और $-$

4. $=$ और \times

Question Type : MCQ

Question ID : 264330140427

Option 1 ID : 264330550090

Option 2 ID : 264330550087

Option 3 ID : 264330550088

Option 4 ID : 264330550089

Status : Answered

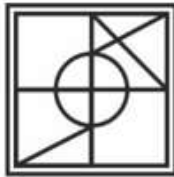
Chosen Option : 2

Q.14 उस विकल्प आकृति को चुनिए जिसमें दी गई आकृति निहित है।(घूर्णन की अनुमति नहीं है)



Ans

1.



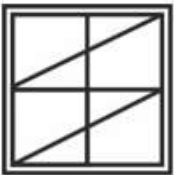
2.



3.



4.



Question Type : MCQ

Question ID : 264330140993

Option 1 ID : 264330552319

Option 2 ID : 264330552321

Option 3 ID : 264330552322

Option 4 ID : 264330552320

Status : Answered

Chosen Option : 1

Q.15 पाँच बैग C1, C2, C3, C4 और C5 के भारों की तुलना की गई है। C4 का भार C1 से अधिक और C2 से कम है। C5 का भार C3 से अधिक है। C2 का भार C3 से कम है। कितने बैगों (bags) का भार C2 से कम है?

- Ans
- 1. 1
 - 2. 4
 - 3. 2
 - 4. 3

Question Type : MCQ
Question ID : 264330140984
Option 1 ID : 264330552284
Option 2 ID : 264330552286
Option 3 ID : 264330552283
Option 4 ID : 264330552285
Status : Answered
Chosen Option : 3

Q.16 एक निश्चित कूट भाषा में, '231' का अर्थ 'Flower is Green' है, '307' का अर्थ 'A Green Tree' है और '781' का अर्थ 'Tree and flower' है। 'is' के लिए कूट जात कीजिए।

- Ans
- 1. 0
 - 2. 1
 - 3. 8
 - 4. 2

Question Type : MCQ
Question ID : 264330140098
Option 1 ID : 264330548772
Option 2 ID : 264330548773
Option 3 ID : 264330548774
Option 4 ID : 264330548771
Status : Answered
Chosen Option : 4

Q.17 दी गई श्रृंखला में निम्नलिखित में से कौन-सी संख्या प्रश्न चिन्ह (?) के स्थान पर आएगी?
81, 92, 101, 108, 113, ?

- Ans
- 1. 116
 - 2. 117
 - 3. 118
 - 4. 114

Question Type : MCQ
Question ID : 264330140463
Option 1 ID : 264330550231
Option 2 ID : 264330550232
Option 3 ID : 264330550234
Option 4 ID : 264330550233
Status : Answered
Chosen Option : 1

Q.18 आठ लड़के अनिल, कमल, राम, संजय, आकाश, विवेक, राहुल और रामू एक वृत्ताकार मेज के चारों ओर केंद्र की ओर मुख करके बैठे हैं (परंतु जरूरी नहीं कि वे इसी क्रम में बैठे हों)। विवेक, कमल के दाईं ओर से तीसरे स्थान पर है। कमल, संजय के दाईं ओर से दूसरे स्थान पर है। राम, अनिल के दाईं ओर से दूसरे स्थान पर है। अनिल, विवेक के दाईं ओर से दूसरे स्थान पर है। राहुल, आकाश के दाईं ओर से तीसरे स्थान पर है। अनिल के बाईं ओर से तीसरे स्थान पर कौन है?

- Ans
- 1. विवेक
 - 2. आकाश
 - 3. कमल
 - 4. रामू

Question Type : MCQ
 Question ID : 264330139978
 Option 1 ID : 264330548294
 Option 2 ID : 264330548293
 Option 3 ID : 264330548291
 Option 4 ID : 264330548292
 Status : Answered
 Chosen Option : 4

Q.19 यदि एक दर्पण को रेखा AB पर रखा जाए, तो दी गई विकल्प आकृतियों में से कौन-सी आकृति प्रश्न आकृति का सही प्रतिबिम्ब होगी?



- Ans
- 1.
 - 2.
 - 3.
 - 4.

Question Type : MCQ
 Question ID : 264330140071
 Option 1 ID : 264330548666
 Option 2 ID : 264330548664
 Option 3 ID : 264330548663
 Option 4 ID : 264330548665
 Status : Answered
 Chosen Option : 3

Q.20 कौन-सी उत्तर आकृति प्रश्न आकृति में पैटर्न को पूरा करेगी?



Ans

✓ 1.



✗ 2.



✗ 3.



✗ 4.



Question Type : MCQ

Question ID : 264330140975

Option 1 ID : 264330552249

Option 2 ID : 264330552248

Option 3 ID : 264330552247

Option 4 ID : 264330552250

Status : Answered

Chosen Option : 1

Section : General Awareness

Q.1 कृषि कानून निरसन विधेयक, 2021 के तहत कितने कानूनों को निरस्त किया गया?

Ans ✗ 1. चार

✗ 2. दो

✗ 3. एक

✓ 4. तीन

Question Type : MCQ

Question ID : 264330140727

Option 1 ID : 264330551258

Option 2 ID : 264330551256

Option 3 ID : 264330551255

Option 4 ID : 264330551257

Status : Answered

Chosen Option : 4

Q.2 प्रसिद्ध फिल्म "थ्री इडियट्स (3 Idiots)" उपन्यास "फाइव पॉइंट समवन (Five Point Someone)" पर आधारित है जो भारतीय लेखक _____ द्वारा लिखा गया है।

- Ans
- 1. नोवोनील चक्रवर्ती
 - 2. चेतन भगत
 - 3. दुर्जय दत्ता
 - 4. खुशवंत सिंह

Question Type : MCQ
Question ID : 264330140334
Option 1 ID : 264330549716
Option 2 ID : 264330549717
Option 3 ID : 264330549715
Option 4 ID : 264330549718
Status : Answered
Chosen Option : 2

Q.3 निम्नलिखित में से कौन-सा त्योहार तेलुगू नववर्ष की शुरुआत का प्रतीक है?

- Ans
- 1. ओणम
 - 2. उगादि
 - 3. गुड़ी पड़वा
 - 4. पोंगल

Question Type : MCQ
Question ID : 264330140704
Option 1 ID : 264330551164
Option 2 ID : 264330551163
Option 3 ID : 264330551166
Option 4 ID : 264330551165
Status : Answered
Chosen Option : 4

Q.4 निम्नलिखित में से कौन-सा शासकीय अधिकारी राज्य सभा का पदेन सभापति (ex officio chairman) होता है?

- Ans
- 1. भारत के उपराष्ट्रपति
 - 2. भारत के मुख्य न्यायाधीश
 - 3. भारत के राष्ट्रपति
 - 4. भारत के प्रधानमंत्री

Question Type : MCQ
Question ID : 264330140388
Option 1 ID : 264330549932
Option 2 ID : 264330549934
Option 3 ID : 264330549931
Option 4 ID : 264330549933
Status : Answered
Chosen Option : 1

Q.5 "हम राष्ट्र को जगाने के लिए मर भी जाएंगे (We shall die to awaken the nation)" का नारा _____ द्वारा दिया गया था।

- Ans
- 1. बीर टिकेंद्रजीत सिंह (Bir Tikendrajit Singh)
 - 2. सूर्य सेन (Surya Sen)
 - 3. पिंगली वेंकैया (Pingali Venkayya)
 - 4. बाघा जतीन (Bagha Jatin)

Question Type : MCQ
Question ID : 264330140947
Option 1 ID : 264330552136
Option 2 ID : 264330552135
Option 3 ID : 264330552138
Option 4 ID : 264330552137
Status : Not Answered
Chosen Option : --

Q.6 सुपर बाउल, फुटबॉल का एक वार्षिक चैम्पियनशिप खेल _____ में आयोजित किया जाता है।

- Ans
- 1. कनाडा
 - 2. संयुक्त राज्य अमेरिका
 - 3. मेक्सिको
 - 4. पेरू

Question Type : MCQ
Question ID : 264330140724
Option 1 ID : 264330551244
Option 2 ID : 264330551243
Option 3 ID : 264330551245
Option 4 ID : 264330551246
Status : Answered
Chosen Option : 2

Q.7 यकृत ग्रंथि _____ सावित करती है, जो पित्ताशय नामक एक थैली में संग्रहित होता है।

- Ans
- 1. श्लेष्मल
 - 2. हाइड्रोक्लोरिक अम्ल
 - 3. एस्ट्रोजन
 - 4. पित्त रस

Question Type : MCQ
Question ID : 264330138984
Option 1 ID : 264330544546
Option 2 ID : 264330544545
Option 3 ID : 264330544543
Option 4 ID : 264330544544
Status : Answered
Chosen Option : 4

Q.8 निम्नलिखित में से कौन-सा ग्रह अन्य ग्रहों की तुलना में विपरीत दिशा में घूर्णन (rotate) करता है?

- Ans
- ✓ 1. शुक्र
 - ✗ 2. बुध
 - ✗ 3. शनि
 - ✗ 4. बृहस्पति

Question Type : MCQ
Question ID : 264330140939
Option 1 ID : 264330552105
Option 2 ID : 264330552104
Option 3 ID : 264330552106
Option 4 ID : 264330552103
Status : Answered
Chosen Option : 1

Q.9 किस प्रक्रिया के अंतर्गत जल-विलेय अकार्बनिक पोषक भूमि मृदासंस्तर में प्रविष्ट कर जाते हैं और अनुपलब्ध लवण के रूप में अवक्षेपित हो जाते हैं?

- Ans
- ✗ 1. खंडन (Fragmentation)
 - ✗ 2. अपघटन (Decomposition)
 - ✓ 3. निक्षालन (Leaching)
 - ✗ 4. ह्यूमस भवन (Humification)

Question Type : MCQ
Question ID : 264330140913
Option 1 ID : 264330552001
Option 2 ID : 264330552002
Option 3 ID : 264330551999
Option 4 ID : 264330552000
Status : Answered
Chosen Option : 3

Q.10 नवंबर 2022 तक, भारत के पड़ोसी देश चीन की राजभाषा क्या है ?

- Ans
- ✗ 1. सिंहली
 - ✗ 2. बर्मी
 - ✓ 3. मेंडरिन
 - ✗ 4. बंगाली

Question Type : MCQ
Question ID : 264330140763
Option 1 ID : 264330551399
Option 2 ID : 264330551400
Option 3 ID : 264330551401
Option 4 ID : 264330551402
Status : Answered
Chosen Option : 3

Q.11 उस्ताद अमजद अली खान निम्नलिखित में से किस वाद्ययंत्र के लिए जाने जाते हैं?

Ans 1. शहनाई

2. सरोद

3. गिटार

4. संतूर

Question Type : MCQ

Question ID : 264330140310

Option 1 ID : 264330549622

Option 2 ID : 264330549621

Option 3 ID : 264330549619

Option 4 ID : 264330549620

Status : Answered

Chosen Option : 2

Q.12 निम्नलिखित में से कौन-सा राज्य भारत में कोयले का उत्पादन नहीं करता है?

Ans 1. छत्तीसगढ़

2. उड़ीसा

3. झारखंड

4. गुजरात

Question Type : MCQ

Question ID : 264330140735

Option 1 ID : 264330551290

Option 2 ID : 264330551288

Option 3 ID : 264330551287

Option 4 ID : 264330551289

Status : Answered

Chosen Option : 4

Q.13 वर्ष 2019 में, भारत सरकार ने इटली में जन्मी कथकली नर्तकी, मिलिना साल्विनी (Milena Salvini) को निम्नलिखित में से किस पुरस्कार से सम्मानित किया था?

Ans 1. पद्म श्री

2. पद्म भूषण

3. पद्म विभूषण

4. भारत रत्न

Question Type : MCQ

Question ID : 264330140386

Option 1 ID : 264330549924

Option 2 ID : 264330549925

Option 3 ID : 264330549926

Option 4 ID : 264330549923

Status : Answered

Chosen Option : 1

Q.14 कच्छ का रण भारत के _____ क्षेत्र में पड़ता है।

- Ans
- 1. तटीय मैदानी
 - 2. पूर्वी घाट
 - 3. थार के रेगिस्तानी
 - 4. उत्तर मैदानी

Question Type : MCQ
Question ID : 264330140916
Option 1 ID : 264330552014
Option 2 ID : 264330552012
Option 3 ID : 264330552013
Option 4 ID : 264330552011
Status : Answered
Chosen Option : 1

Q.15 _____ ग्रामीण आजीविका मिशन की UMEED योजना केंद्र शासित प्रदेश में आर्थिक रूप से सक्षम होने की इच्छा रखने वाली ग्रामीण महिलाओं की महत्वाकांक्षाओं को सहायता प्रदान कर रही है।

- Ans
- 1. दमन और दीव
 - 2. अंडमान एवं निकोबार द्वीपसमूह
 - 3. लक्षद्वीप
 - 4. जम्मू और कश्मीर

Question Type : MCQ
Question ID : 264330140931
Option 1 ID : 264330552073
Option 2 ID : 264330552074
Option 3 ID : 264330552072
Option 4 ID : 264330552071
Status : Answered
Chosen Option : 4

Q.16 जनवरी 2022 में, RBI के पूर्व गवर्नर, उजित पटेल को निवेश कार्य के लिए _____ का उपाध्यक्ष नियुक्त किया गया है।

- Ans
- 1. एशियन इन्फ्रास्ट्रक्चर इन्वेस्टमेंट बैंक
 - 2. न्यू डेवलपमेंट बैंक
 - 3. अंतर्राष्ट्रीय मुद्रा कोष
 - 4. विश्व बैंक

Question Type : MCQ
Question ID : 264330139756
Option 1 ID : 264330547442
Option 2 ID : 264330547440
Option 3 ID : 264330547441
Option 4 ID : 264330547439
Status : Answered
Chosen Option : 1

Q.17 वह न्यूनतम दर जिसके नीचे बैंकों को धन ऋण पर देने की अनुमति नहीं है, (भारतीय रिजर्व बैंक द्वारा निर्दिष्ट कुछ मामलों को छोड़कर) _____ कहलाती है।

Ans 1. उलट रेपो दर (reverse repo rate)

2. आधार दर (base rate)

3. रेपो दर (repo rate)

4. कैश रेट (cash rate)

Question Type : MCQ

Question ID : 264330140366

Option 1 ID : 264330549845

Option 2 ID : 264330549843

Option 3 ID : 264330549844

Option 4 ID : 264330549846

Status : Answered

Chosen Option : 2

Q.18 एक आवेशित वस्तु द्वारा किसी दूसरी आवेशित अथवा अनावेशित वस्तु पर लगाया गया बल _____ कहलाता है।

Ans 1. दाब बल

2. घर्षण बल

3. गुरुत्वाकर्षण बल

4. स्थिरविद्युत बल

Question Type : MCQ

Question ID : 264330139882

Option 1 ID : 264330547910

Option 2 ID : 264330547909

Option 3 ID : 264330547908

Option 4 ID : 264330547907

Status : Answered

Chosen Option : 4

Q.19 1873 में "गुलामगिरी (Gulamgiri)" नामक किताब किसने लिखी थी?

Ans 1. देबेन्द्रनाथ टैगोर

2. ज्योतिबा फुले

3. ईश्वरचंद्र विद्यासागर

4. दयानंद सरस्वती

Question Type : MCQ

Question ID : 264330139746

Option 1 ID : 264330547402

Option 2 ID : 264330547399

Option 3 ID : 264330547401

Option 4 ID : 264330547400

Status : Answered

Chosen Option : 2

Q.20 अनंग पाल किस राजवंश के शासक थे?

- Ans
- 1. गुर्जर-प्रतिहार राजवंश
 - 2. राजपूत राजवंश
 - 3. पल्लव राजवंश
 - 4. खिलजी राजवंश

Question Type : MCQ
Question ID : 264330139720
Option 1 ID : 264330547296
Option 2 ID : 264330547297
Option 3 ID : 264330547298
Option 4 ID : 264330547295
Status : Answered
Chosen Option : 2

Q.21 बेरोजगारी दर ज्ञात करने का सूत्र _____ है।

- Ans
- 1. $(\text{बेरोजगार पुरुष श्रमिक} / \text{कुल श्रम बल}) \times 1000$
 - 2. $(\text{रोजगार प्राप्त श्रमिक} / \text{कुल श्रम बल}) \times 100$
 - 3. $(\text{रोजगार प्राप्त श्रमिक} / \text{पुरुष श्रम बल}) \times 100$
 - 4. $(\text{बेरोजगार श्रमिक} / \text{कुल श्रम बल}) \times 100$

Question Type : MCQ
Question ID : 264330140287
Option 1 ID : 264330549529
Option 2 ID : 264330549528
Option 3 ID : 264330549530
Option 4 ID : 264330549527
Status : Answered
Chosen Option : 4

Q.22 स्थापत्यकला की प्रोविडा (Provida) शैली किस साम्राज्य से संबंधित है?

- Ans
- 1. मौर्य साम्राज्य
 - 2. विजयनगर साम्राज्य
 - 3. बहमनी साम्राज्य
 - 4. गुप्त साम्राज्य

Question Type : MCQ
Question ID : 264330140296
Option 1 ID : 264330549564
Option 2 ID : 264330549563
Option 3 ID : 264330549566
Option 4 ID : 264330549565
Status : Answered
Chosen Option : 4

Q.23 वर्ल्ड गेम्स 2022, संयुक्त राज्य अमेरिका के _____ शहर में आयोजित किए गए थे।

- Ans
- 1. ऑस्टिन (Austin)
 - 2. बर्मिंघम (Birmingham)
 - 3. वाशिंगटन (Washington)
 - 4. न्यू ऑर्लेअंस (New Orleans)

Question Type : MCQ
Question ID : 264330140773
Option 1 ID : 264330551440
Option 2 ID : 264330551439
Option 3 ID : 264330551441
Option 4 ID : 264330551442
Status : Answered
Chosen Option : 1

Q.24 निम्नलिखित में से किस भारतीय नृत्य शैली का संबंध राजस्थान से है?

- Ans
- 1. भरतनाट्यम
 - 2. ओडिसी
 - 3. घूमर
 - 4. चरकुला

Question Type : MCQ
Question ID : 264330140753
Option 1 ID : 264330551361
Option 2 ID : 264330551359
Option 3 ID : 264330551362
Option 4 ID : 264330551360
Status : Answered
Chosen Option : 3

Q.25 मोहनजोदड़ो निम्नलिखित में से किस सभ्यता से संबंधित है?

- Ans
- 1. सिंधु घाटी सभ्यता
 - 2. माया (Maya) सभ्यता
 - 3. मेसोपोटामिया (Mesopotamian) की सभ्यता
 - 4. मिस्र की सभ्यता

Question Type : MCQ
Question ID : 264330140305
Option 1 ID : 264330549599
Option 2 ID : 264330549602
Option 3 ID : 264330549600
Option 4 ID : 264330549601
Status : Answered
Chosen Option : 1

Q.1 Identify the segment that contains a grammatical error. If there is no error, select 'No error'.

It's good to travel and / work, most beautiful than going / to the same office each day.

- Ans
- 1. It's good to travel and
 - 2. to the same office each day.
 - 3. No error
 - 4. work, most beautiful than going

Question Type : MCQ
Question ID : 264330135742
Option 1 ID : 264330531851
Option 2 ID : 264330531853
Option 3 ID : 264330531854
Option 4 ID : 264330531852
Status : Answered
Chosen Option : 4

Q.2 Select the most appropriate synonym of the given word.

Wealthy

- Ans
- 1. Affluent
 - 2. Lacking
 - 3. Poor
 - 4. Depressed

Question Type : MCQ
Question ID : 264330136151
Option 1 ID : 264330533404
Option 2 ID : 264330533405
Option 3 ID : 264330533403
Option 4 ID : 264330533406
Status : Answered
Chosen Option : 1

Q.3 Select the most appropriate meaning of the given idiom.

In fits and starts

- Ans
- 1. Summary
 - 2. Be in difficulty
 - 3. Irregularly
 - 4. Everywhere

Question Type : MCQ
Question ID : 264330136763
Option 1 ID : 264330535755
Option 2 ID : 264330535756
Option 3 ID : 264330535757
Option 4 ID : 264330535758
Status : Answered
Chosen Option : 3

Q.4 Select the most appropriate option to substitute the bracketed segment in the given sentence. If there is no need to substitute it, select 'no substitution required'.

If the dog (is allow complete freedom), it can assume that any toy is acceptable for play.

- Ans**
- 1. allowed completely freedom
 - 2. No substitution required
 - 3. is allowed complete freedom
 - 4. are allowed complete free

Question Type : **MCQ**
Question ID : **264330136748**
Option 1 ID : **264330535700**
Option 2 ID : **264330535702**
Option 3 ID : **264330535699**
Option 4 ID : **264330535701**
Status : **Answered**
Chosen Option : **3**

Q.5 A sentence has been given with a blank to be filled with an appropriate option. Choose the correct alternative.

Social media is _____ to market products.

- Ans**
- 1. using
 - 2. uses
 - 3. use
 - 4. used

Question Type : **MCQ**
Question ID : **264330135236**
Option 1 ID : **264330529868**
Option 2 ID : **264330529867**
Option 3 ID : **264330529870**
Option 4 ID : **264330529869**
Status : **Answered**
Chosen Option : **4**

Q.6 Select the wrongly spelt word.

- Ans**
- 1. Pausity
 - 2. Philistine
 - 3. Phlegmatic
 - 4. Philanthropy

Question Type : **MCQ**
Question ID : **264330136558**
Option 1 ID : **264330534970**
Option 2 ID : **264330534968**
Option 3 ID : **264330534969**
Option 4 ID : **264330534967**
Status : **Answered**
Chosen Option : **2**

Q.7 Select the word segment that substitutes (replaces) the bracketed word segment correctly and completes the sentence meaningfully. Select the option 'no correction required' if the sentence is correct as given.

How (can a book such as) be written before I'd lived the incidents it described?

- Ans**
- 1. may such a book
 - 2. No correction required
 - 3. must so a book
 - 4. could such a book

Question Type : **MCQ**
Question ID : **264330136414**
Option 1 ID : **264330534420**
Option 2 ID : **264330534422**
Option 3 ID : **264330534421**
Option 4 ID : **264330534419**
Status : **Answered**
Chosen Option : **4**

Q.8 Select the most appropriate word for the given group of words.

A calculated move to gain an advantage

- Ans**
- 1. Gambit
 - 2. Grunt
 - 3. Bonsai
 - 4. Profit

Question Type : **MCQ**
Question ID : **264330136280**
Option 1 ID : **264330533902**
Option 2 ID : **264330533899**
Option 3 ID : **264330533901**
Option 4 ID : **264330533900**
Status : **Answered**
Chosen Option : **1**

Q.9 Select the most appropriate option to fill in the blank.

Slightly _____ bitter oranges to remove the red color which covers their skins.

- Ans**
- 1. grade
 - 2. great
 - 3. grate
 - 4. grace

Question Type : **MCQ**
Question ID : **264330141216**
Option 1 ID : **264330553199**
Option 2 ID : **264330553201**
Option 3 ID : **264330553200**
Option 4 ID : **264330553202**
Status : **Answered**
Chosen Option : **2**

Q.10 Select the most appropriate word for the given group of words.

Urging or requesting (someone) solemnly or earnestly to do something

- Ans
- ✓ 1. Adjure
 - ✗ 2. Armada
 - ✗ 3. Arrears
 - ✗ 4. Arena

Question Type : MCQ
Question ID : 264330136497
Option 1 ID : 264330534732
Option 2 ID : 264330534733
Option 3 ID : 264330534731
Option 4 ID : 264330534734
Status : Answered
Chosen Option : 4

Q.11 Choose the incorrectly spelt word.

- Ans
- ✗ 1. Shopping
 - ✗ 2. Wave
 - ✓ 3. Forciing
 - ✗ 4. Trust

Question Type : MCQ
Question ID : 264330135557
Option 1 ID : 264330531129
Option 2 ID : 264330531128
Option 3 ID : 264330531127
Option 4 ID : 264330531130
Status : Answered
Chosen Option : 3

Q.12 Choose the word that is opposite in meaning to the given word.

Plain

- Ans
- ✗ 1. Stupid
 - ✗ 2. Mean
 - ✓ 3. Fancy
 - ✗ 4. Crazy

Question Type : MCQ
Question ID : 264330135527
Option 1 ID : 264330531014
Option 2 ID : 264330531013
Option 3 ID : 264330531012
Option 4 ID : 264330531011
Status : Answered
Chosen Option : 4

Q.13 Identify the segment that contains a grammatical error. If there is no error, select 'No error'.

It would be neat and / cleanest, a home worthy of / spending our lives together.

- Ans**
- 1. cleanest, a home worthy of
 - 2. spending our lives together.
 - 3. It would be neat and
 - 4. No error

Question Type : **MCQ**
Question ID : **264330136266**
Option 1 ID : **264330533848**
Option 2 ID : **264330533849**
Option 3 ID : **264330533847**
Option 4 ID : **264330533850**
Status : **Answered**
Chosen Option : **1**

Q.14 Fill in the blank with the most appropriate option.

Can we reschedule the meeting? I _____.

- Ans**
- 1. give a headache
 - 2. get a headache
 - 3. take a headache
 - 4. have a headache

Question Type : **MCQ**
Question ID : **264330135739**
Option 1 ID : **264330531839**
Option 2 ID : **264330531840**
Option 3 ID : **264330531841**
Option 4 ID : **264330531842**
Status : **Answered**
Chosen Option : **4**

Q.15 Improve the underlined part of the sentence. Choose 'No improvement' as an answer if the sentence is grammatically correct.

We was installing wood flooring throughout our house.

- Ans**
- 1. No improvement
 - 2. installs wooden
 - 3. installed wood
 - 4. installs wood

Question Type : **MCQ**
Question ID : **264330135233**
Option 1 ID : **264330529858**
Option 2 ID : **264330529856**
Option 3 ID : **264330529855**
Option 4 ID : **264330529857**
Status : **Answered**
Chosen Option : **3**

Q.16 Identify the segment that contains a grammatical error. If there is no error, select 'No error'.

I had been angry the whole / evening, so she rubs brahmi / oil into my scalp to cool my brain.

- Ans**
- 1. oil into my scalp to cool my brain.
 - 2. No error
 - 3. I had been angry the whole
 - 4. evening, so she rubs brahmi

Question Type : **MCQ**
Question ID : **264330135743**
Option 1 ID : **264330531857**
Option 2 ID : **264330531858**
Option 3 ID : **264330531855**
Option 4 ID : **264330531856**
Status : **Answered**
Chosen Option : **4**

Q.17 Select the most appropriate option to fill in the blank.

What customs officials are asking for are not things that _____ their own personal titles.

- Ans**
- 1. advocate
 - 2. accede
 - 3. acerbic
 - 4. aggrandize

Question Type : **MCQ**
Question ID : **264330135670**
Option 1 ID : **264330531575**
Option 2 ID : **264330531577**
Option 3 ID : **264330531578**
Option 4 ID : **264330531576**
Status : **Answered**
Chosen Option : **4**

Q.18 Select the word from the options which is exactly opposite in meaning to the bracketed word given in the sentence below.

She relished our (arguments), most of which she won.

- Ans**
- 1. negotiations
 - 2. altercation
 - 3. agreements
 - 4. feud

Question Type : **MCQ**
Question ID : **264330135734**
Option 1 ID : **264330531822**
Option 2 ID : **264330531820**
Option 3 ID : **264330531821**
Option 4 ID : **264330531819**
Status : **Answered**
Chosen Option : **1**

Q.19 Select the most appropriate meaning of the bracketed idiom in the given sentence.

He is (a wolf in sheep's clothing), outwardly kind but inwardly vicious!

- Ans**
- 1. Verbally scold someone
 - 2. A dangerous person pretending harmless
 - 3. Angry today about something that occurred in the past
 - 4. A situation involving a narrow escape from danger

Question Type : **MCQ**
Question ID : **264330136556**
Option 1 ID : **264330534960**
Option 2 ID : **264330534959**
Option 3 ID : **264330534961**
Option 4 ID : **264330534962**
Status : **Answered**
Chosen Option : **2**

Q.20 Select the word from the options which is similar in meaning to the bracketed word given in the sentence below.

There is widespread (prejudice) against workers over 45.

- Ans**
- 1. Misfortune
 - 2. Concern
 - 3. Temperament
 - 4. Intolerance

Question Type : **MCQ**
Question ID : **264330135758**
Option 1 ID : **264330531913**
Option 2 ID : **264330531911**
Option 3 ID : **264330531914**
Option 4 ID : **264330531912**
Status : **Answered**
Chosen Option : **2**

Comprehension:

In the following passage some words have been deleted. Fill in the blanks with the help of the alternatives given. Select the most appropriate option for each number.

At the core of the (1) _____ lies the fierce (2) _____ between two branches of the Kuru dynasty, the Pandavas and the Kauravas. The lifelong struggle (3) _____ the cousins for the throne of Hastinapur culminates (4) _____ bloody battle of Kurukshetra, in which (5) _____ kings of that period participated and perished.

SubQuestion No : 21

Q.21 Select the most appropriate option to fill in the blank No. 1.

- Ans**
- 1. epic
 - 2. bright
 - 3. dull
 - 4. exercise

Question Type : **MCQ**
Question ID : **264330135724**
Option 1 ID : **264330531782**
Option 2 ID : **264330531779**
Option 3 ID : **264330531781**
Option 4 ID : **264330531780**
Status : **Answered**
Chosen Option : **1**

Comprehension:

In the following passage some words have been deleted. Fill in the blanks with the help of the alternatives given. Select the most appropriate option for each number.

At the core of the (1) _____ lies the fierce (2) _____ between two branches of the Kuru dynasty, the Pandavas and the Kauravas. The lifelong struggle (3) _____ the cousins for the throne of Hastinapur culminates (4) _____ bloody battle of Kurukshetra, in which (5) _____ kings of that period participated and perished.

SubQuestion No : 22**Q.22** Select the most appropriate option to fill in the blank No. 2.

- Ans
- 1. hostile
 - 2. friendship
 - 3. rivalry
 - 4. commute

Question Type : **MCQ**Question ID : **264330135725**Option 1 ID : **264330531786**Option 2 ID : **264330531783**Option 3 ID : **264330531785**Option 4 ID : **264330531784**Status : **Answered**Chosen Option : **1****Comprehension:**

In the following passage some words have been deleted. Fill in the blanks with the help of the alternatives given. Select the most appropriate option for each number.

At the core of the (1) _____ lies the fierce (2) _____ between two branches of the Kuru dynasty, the Pandavas and the Kauravas. The lifelong struggle (3) _____ the cousins for the throne of Hastinapur culminates (4) _____ bloody battle of Kurukshetra, in which (5) _____ kings of that period participated and perished.

SubQuestion No : 23**Q.23** Select the most appropriate option to fill in the blank No. 3.

- Ans
- 1. inside
 - 2. along
 - 3. amongst
 - 4. between

Question Type : **MCQ**Question ID : **264330135726**Option 1 ID : **264330531789**Option 2 ID : **264330531790**Option 3 ID : **264330531787**Option 4 ID : **264330531788**Status : **Answered**Chosen Option : **4**

Comprehension:

In the following passage some words have been deleted. Fill in the blanks with the help of the alternatives given. Select the most appropriate option for each number.

At the core of the (1) _____ lies the fierce (2) _____ between two branches of the Kuru dynasty, the Pandavas and the Kauravas. The lifelong struggle (3) _____ the cousins for the throne of Hastinapur culminates (4) _____ bloody battle of Kurukshetra, in which (5) _____ kings of that period participated and perished.

SubQuestion No : 24

Q.24 Select the most appropriate option to fill in the blank No. 4.

- Ans**
- 1. inside
 - 2. in the
 - 3. in to
 - 4. in that

Question Type : **MCQ**

Question ID : **264330135727**

Option 1 ID : **264330531794**

Option 2 ID : **264330531791**

Option 3 ID : **264330531793**

Option 4 ID : **264330531792**

Status : **Answered**

Chosen Option : **2**

Comprehension:

In the following passage some words have been deleted. Fill in the blanks with the help of the alternatives given. Select the most appropriate option for each number.

At the core of the (1) _____ lies the fierce (2) _____ between two branches of the Kuru dynasty, the Pandavas and the Kauravas. The lifelong struggle (3) _____ the cousins for the throne of Hastinapur culminates (4) _____ bloody battle of Kurukshetra, in which (5) _____ kings of that period participated and perished.

SubQuestion No : 25

Q.25 Select the most appropriate option to fill in the blank No. 5.

- Ans**
- 1. almost
 - 2. each
 - 3. total
 - 4. most

Question Type : **MCQ**

Question ID : **264330135728**

Option 1 ID : **264330531795**

Option 2 ID : **264330531797**

Option 3 ID : **264330531798**

Option 4 ID : **264330531796**

Status : **Answered**

Chosen Option : **1**