

Multi Tasking Non Technical Staff and Havaldar CBIC and CBN Examination 2022

Roll Number	
Candidate Name	
Venue Name	iON Digital Zone iDZ Purnea
Exam Date	14/06/2023
Exam Time	9:00 AM - 10:30 AM
Subject	MTS Non Tech Havaldar CBIC and CBN Examination 2022

Section : Numerical and Mathematical Ability

Q.1 A, 10 km/hr की चाल से चलता है और उसके 20 घंटे बाद, B, 15 km/hr की चाल से उसके पीछे अपनी

साइकिल पर चलना शुरू करता है। प्रारंभिक बिंदु से कितनी दूरी पर B, A से मिलेगा?

- Ans
- ✓ 1. 600 km
 - ✗ 2. 1000 km
 - ✗ 3. 800 km
 - ✗ 4. 700 km

Question Type : MCQ
Question ID : 264330139893
Option 1 ID : 264330547952
Option 2 ID : 264330547951
Option 3 ID : 264330547954
Option 4 ID : 264330547953
Status : Answered
Chosen Option : 3

Q.2 यदि 10 आदमी किसी कार्य को 10 दिन में कर सकते हैं, तो 2 आदमी उसी कार्य को कितने दिन में करेंगे?

- Ans
- ✗ 1. 75 दिन
 - ✗ 2. 25 दिन
 - ✓ 3. 50 दिन
 - ✗ 4. 60 दिन

Question Type : MCQ
Question ID : 264330140583
Option 1 ID : 264330550685
Option 2 ID : 264330550684
Option 3 ID : 264330550686
Option 4 ID : 264330550683
Status : Answered
Chosen Option : 3

Q.3 23 मेजों का मूल्य Rs. 52840 है। Rs. 1690880 में ऐसी कितनी मेजें खरीदी जा सकती हैं?

- Ans 1. 736
 2. 690
 3. 590
 4. 528

Question Type : MCQ

Question ID : 264330140831

Option 1 ID : 264330551673

Option 2 ID : 264330551671

Option 3 ID : 264330551674

Option 4 ID : 264330551672

Status : Answered

Chosen Option : 2

Q.4 जब किसी संख्या का 20 प्रतिशत 160 में जोड़ा जाता है, तो परिणाम वही संख्या होती है। उस संख्या का मान क्या है?

- Ans 1. 240
 2. 160
 3. 150
 4. 200

Question Type : MCQ

Question ID : 264330139021

Option 1 ID : 264330544694

Option 2 ID : 264330544692

Option 3 ID : 264330544691

Option 4 ID : 264330544693

Status : Answered

Chosen Option : 4

Q.5 25, 40 और 60 का महत्तम समापवर्तक क्या है?

- Ans 1. 12
 2. 8
 3. 10
 4. 5

Question Type : MCQ

Question ID : 264330140168

Option 1 ID : 264330549054

Option 2 ID : 264330549053

Option 3 ID : 264330549051

Option 4 ID : 264330549052

Status : Answered

Chosen Option : 4

Q.6 यदि क्रय मूल्य, विक्रय मूल्य का 40% है, तो लाभ प्रतिशत क्या है?

- Ans
- 1. 50%
 - 2. 200%
 - 3. 100%
 - 4. 150%

Question Type : MCQ

Question ID : 264330139043

Option 1 ID : 264330544780

Option 2 ID : 264330544781

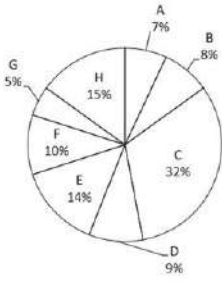
Option 3 ID : 264330544779

Option 4 ID : 264330544782

Status : Answered

Chosen Option : 4

Q.7 नीचे दिए गए वृत्त आलेख में 8 अलग-अलग कंपनियों द्वारा बेची गई बाइक की संख्या को दर्शाया गया है। इन सभी 8 अलग-अलग कंपनियों द्वारा बेची गई बाइक की कुल संख्या 15000 है। इनमें से किसी एक विशिष्ट कंपनी द्वारा बेची गई बाइक की संख्या को इन सभी 8 अलग-अलग कंपनियों द्वारा बेची गई बाइक की कुल संख्या के प्रतिशत के रूप में दर्शाया गया है।



निम्नलिखित में से कौन-सा कथन सही नहीं है?

- I. वृत्तखंड A, C और D द्वारा मिलकर बनाए गए केंद्रीय कोण का मान 170.8° है।
- II. वृत्तखंड B, E, F और H द्वारा मिलकर बनाए गए केंद्रीय कोण का मान 169.2° है।

- Ans
- 1. केवल II
 - 2. न तो I और न ही II
 - 3. I और II दोनों
 - 4. केवल I

Question Type : MCQ

Question ID : 264330140232

Option 1 ID : 264330549308

Option 2 ID : 264330549310

Option 3 ID : 264330549309

Option 4 ID : 264330549307

Status : Answered

Chosen Option : 2

Q.8 यदि किसी बेलन की विज्या में 12 प्रतिशत की कमी कर दी जाए, तो उसकी ऊँचाई में कितने प्रतिशत की वृद्धि करनी होगी, ताकि बेलन का आयतन वही रहे?

- Ans
- 1. 34.27 प्रतिशत
 - 2. 21.78 प्रतिशत
 - 3. 42.56 प्रतिशत
 - 4. 29.13 प्रतिशत

Question Type : MCQ

Question ID : 264330140252

Option 1 ID : 264330549388

Option 2 ID : 264330549390

Option 3 ID : 264330549389

Option 4 ID : 264330549387

Status : Not Answered

Chosen Option : --

Q.9 एक आदमी एक निश्चित दूरी का आधा भाग 35 km/hr की चाल से तय करता है। वह शेष दूरी का 40 प्रतिशत 8 km/hr की चाल से तय करता है और शेष दूरी को 18 km/hr की चाल से तय करता है। पूरी यात्रा में उसकी औसत चाल क्या है?

- Ans
- 1. 840/47 km/hr
 - 2. 760/47 km/hr
 - 3. 920/47 km/hr
 - 4. 680/47 km/hr

Question Type : MCQ

Question ID : 264330139935

Option 1 ID : 264330548121

Option 2 ID : 264330548120

Option 3 ID : 264330548122

Option 4 ID : 264330548119

Status : Answered

Chosen Option : 2

Q.10 Rs.6000 की धनराशि को दो भागों में बाँटा जाता है। पहले भाग पर 10 प्रतिशत वार्षिक दर पर प्राप्त वार्षिक साधारण ब्याज, दूसरे भाग पर 15 प्रतिशत वार्षिक दर पर प्राप्त वार्षिक साधारण ब्याज के बराबर है। एक वर्ष के लिए प्रत्येक भाग पर कितना ब्याज है?

- Ans
- 1. Rs.420
 - 2. Rs.360
 - 3. Rs.330
 - 4. Rs.300

Question Type : MCQ

Question ID : 264330139962

Option 1 ID : 264330548230

Option 2 ID : 264330548227

Option 3 ID : 264330548228

Option 4 ID : 264330548229

Status : Answered

Chosen Option : 4

Q.11 55 लीटर के एक मिश्रण में, अम्ल का क्षार से अनुपात 7:4 है, मिश्रण का अनुपात 4:3 करने के लिए क्षार की कितनी मात्रा मिलानी होगी?

- Ans
- 1. 5.85 लीटर
 - 2. 6.25 लीटर
 - 3. 5.50 लीटर
 - 4. 4.45 लीटर

Question Type : MCQ

Question ID : 264330138728

Option 1 ID : 264330543521

Option 2 ID : 264330543522

Option 3 ID : 264330543520

Option 4 ID : 264330543519

Status : Answered

Chosen Option : 1

Q.12 नीचे दी गई तालिका में एक परीक्षा में पाँच छात्रों द्वारा प्राप्त किए गए अंकों को दर्शाया गया है।

छात्र	अंक
A	400
B	300
C	150
D	350
E	200

D द्वारा प्राप्त किए गए अंकों और E द्वारा प्राप्त किए गए अंकों का अनुपात क्या है?

- Ans
- 1. 5 : 3
 - 2. 7 : 4
 - 3. 7 : 3
 - 4. 5 : 4

Question Type : MCQ

Question ID : 264330140581

Option 1 ID : 264330550675

Option 2 ID : 264330550677

Option 3 ID : 264330550678

Option 4 ID : 264330550676

Status : Answered

Chosen Option : 2

Q.13 $13 \times 12 \div 26 - 5 \times 24 \div 10 + 4 \times 4 - 8$ का मान क्या है?

- Ans
- 1. 2
 - 2. -2
 - 3. 0
 - 4. -4

Question Type : MCQ

Question ID : 264330139604

Option 1 ID : 264330546831

Option 2 ID : 264330546833

Option 3 ID : 264330546832

Option 4 ID : 264330546834

Status : Answered

Chosen Option : 1

Q.14 $\frac{28}{21} \times \frac{96}{4} \div \frac{125}{5} \times \frac{42}{192} + \frac{297}{125} \times \frac{875}{3} \div \frac{99}{4} \times \frac{6}{25}$ का मान क्या है?

- Ans
- 1. $7/25$
 - 2. 11
 - 3. 7
 - 4. $9/25$

Question Type : MCQ
Question ID : 264330139645
Option 1 ID : 264330546996
Option 2 ID : 264330546995
Option 3 ID : 264330546997
Option 4 ID : 264330546998
Status : Answered
Chosen Option : 3

Q.15 एक वस्तु को Rs. 600 में खरीदा जाता है और Rs. 900 में बेचा जाता है। लाभ प्रतिशत ज्ञात कीजिए।

- Ans
- 1. 45%
 - 2. 40%
 - 3. 55%
 - 4. 50%

Question Type : MCQ
Question ID : 264330140782
Option 1 ID : 264330551477
Option 2 ID : 264330551476
Option 3 ID : 264330551478
Option 4 ID : 264330551475
Status : Answered
Chosen Option : 4

Q.16 राशि अकेले किसी कार्य को 10 घंटों में, गोपी अकेले 8 घंटों में और मंजू अकेले 12 घंटों में पूरा कर सकती है। यदि वे एक साथ मिलकर काम करें, तो इस कार्य को पूरा करने में उन्हें कितना समय लगेगा?

- Ans
- 1. $3\frac{9}{37}$ घंटे
 - 2. $3\frac{11}{37}$ घंटे
 - 3. $4\frac{3}{37}$ घंटे
 - 4. $4\frac{7}{37}$ घंटे

Question Type : MCQ
Question ID : 264330139051
Option 1 ID : 264330544811
Option 2 ID : 264330544813
Option 3 ID : 264330544814
Option 4 ID : 264330544812
Status : Answered
Chosen Option : 1

Q.17 यदि दो बेलनों के आयतनों का अनुपात 7 : 5 है और उनकी ऊँचाइयों का अनुपात 5 : 7 है, तो उनकी त्रिज्याओं का अनुपात क्या है?

- Ans
- 1. 4 : 5
 - 2. 5 : 9
 - 3. 7 : 5
 - 4. 3 : 4

Question Type : MCQ

Question ID : 264330140624

Option 1 ID : 264330550846

Option 2 ID : 264330550844

Option 3 ID : 264330550845

Option 4 ID : 264330550843

Status : Answered

Chosen Option : 3

Q.18 साधारण ब्याज की वह दर क्या है जिस पर कोई धनराशि 36 वर्षों में स्वयं की तीन गुनी हो जाती है?

- Ans
- 1. 5.55 प्रतिशत
 - 2. 7.28 प्रतिशत
 - 3. 6.28 प्रतिशत
 - 4. 6.86 प्रतिशत

Question Type : MCQ

Question ID : 264330140183

Option 1 ID : 264330549114

Option 2 ID : 264330549112

Option 3 ID : 264330549113

Option 4 ID : 264330549111

Status : Answered

Chosen Option : 3

Q.19 मनीष और पंकज की आय का अनुपात 13 : 7 है। यदि पंकज को मनीष से Rs. 6000 कम मिलते हैं, तो मनीष और पंकज की कुल आय कितनी है?

- Ans
- 1. Rs. 20000
 - 2. Rs. 22500
 - 3. Rs. 24000
 - 4. Rs. 25000

Question Type : MCQ

Question ID : 264330139939

Option 1 ID : 264330548136

Option 2 ID : 264330548137

Option 3 ID : 264330548135

Option 4 ID : 264330548138

Status : Answered

Chosen Option : 1

Q.20 एक घड़ी को अंकित मूल्य के 5/6 भाग पर बेचने पर 10 प्रतिशत की हानि होती है। घड़ी के अंकित मूल्य और क्रय मूल्य का अनुपात क्या होगा?

- Ans**
- 1. 25 : 22
 - 2. 29 : 25
 - 3. 27 : 25
 - 4. 28 : 27

Question Type : **MCQ**

Question ID : **264330139943**

Option 1 ID : **264330548153**

Option 2 ID : **264330548154**

Option 3 ID : **264330548152**

Option 4 ID : **264330548151**

Status : **Answered**

Chosen Option : **3**

Section : Reasoning Ability and Problem Solving

Q.1 राजेश, रमेश, सुरेश, मुकेश और प्रीतेश पाँच मित्र हैं, जिन्होंने एक परीक्षा में अलग-अलग अंक प्राप्त किए हैं। राजेश और मुकेश के बीच दो मित्रों ने अंक प्राप्त किए हैं। रमेश ने सर्वाधिक अंक प्राप्त किए हैं। प्रीतेश ने सुरेश से अधिक अंक प्राप्त किए हैं। चौथे स्थान पर सर्वाधिक अंक किसने प्राप्त किए हैं?

- Ans**
- 1. मुकेश
 - 2. रमेश
 - 3. सुरेश
 - 4. राजेश

Question Type : **MCQ**

Question ID : **264330140460**

Option 1 ID : **264330550222**

Option 2 ID : **264330550220**

Option 3 ID : **264330550221**

Option 4 ID : **264330550219**

Status : **Answered**

Chosen Option : **3**

Q.2 उस विकल्प को चुनिए जो तीसरे शब्द से ठीक उसी प्रकार संबंधित है जिस प्रकार दूसरा शब्द पहले शब्द से संबंधित है।

मुंबई : महाराष्ट्र :: चेन्नई : ?

- Ans**
- 1. राजस्थान
 - 2. महाराष्ट्र
 - 3. हरियाणा
 - 4. तमिलनाडु

Question Type : **MCQ**

Question ID : **264330140014**

Option 1 ID : **264330548435**

Option 2 ID : **264330548436**

Option 3 ID : **264330548437**

Option 4 ID : **264330548438**

Status : **Answered**

Chosen Option : **4**

Q.3 निम्नलिखित प्रश्न में कुछ कथन दिए गए हैं और उन कथनों के आधार पर कुछ निष्कर्ष दिए गए हैं। आपको मानना है कि दिए गए कथन सत्य हैं चाहे वे समान्यतः जात तथ्यों से अलग प्रतीत होते हों। सभी निष्कर्षों को पढ़िए और फिर निश्चय कीजिए कि दिए गए निष्कर्षों में से कौनसा निष्कर्ष तार्किक रूप से दिए गए कथनों के अनुसार है।

कथन:

I. सभी लाल, पक्षी हैं।

II. सभी पक्षी, कुत्ते हैं।

निष्कर्ष:

I. कुछ पक्षी, कुत्ते हैं।

II. कुछ कुत्ते, लाल नहीं हैं।

Ans

- ✗ 1. कोई निष्कर्ष कथनों के अनुसार नहीं है
- ✗ 2. केवल निष्कर्ष II कथनों के अनुसार है
- ✓ 3. केवल निष्कर्ष I कथनों के अनुसार है
- ✗ 4. दोनों निष्कर्ष I और II कथनों के अनुसार हैं

Question Type : MCQ

Question ID : 264330139577

Option 1 ID : 264330546726

Option 2 ID : 264330546724

Option 3 ID : 264330546723

Option 4 ID : 264330546725

Status : Answered

Chosen Option : 3

Q.4 एक निश्चित कूट भाषा में, 'BEARD' को '30597' लिखा जाता है, 'BOWEL' को '17832' लिखा जाता है, 'AWARD' को '05209' लिखा जाता है। उस कूट भाषा में 'O' को कैसे लिखा जाएगा?

Ans

- ✗ 1. 2
- ✓ 2. 8
- ✗ 3. 3
- ✗ 4. 7

Question Type : MCQ

Question ID : 264330140960

Option 1 ID : 264330552190

Option 2 ID : 264330552188

Option 3 ID : 264330552189

Option 4 ID : 264330552187

Status : Answered

Chosen Option : 3

Q.5 दिए गए समीकरण को सही करने के लिए किन दो चिन्हों को आपस में बदला जाना चाहिए?

$$5 \div 4 \times 8 = 7 - 3$$

- Ans
- 1. \div और $=$
 - 2. \div और $-$
 - 3. $=$ और $-$
 - 4. \times और $-$

Question Type : MCQ

Question ID : 264330140407

Option 1 ID : 264330550010

Option 2 ID : 264330550008

Option 3 ID : 264330550009

Option 4 ID : 264330550007

Status : Answered

Chosen Option : 3

Q.6 उस समुच्चय को चुनिए जिसमें संख्याएँ ठीक उसी प्रकार संबंधित हैं जिस प्रकार निम्नलिखित समुच्चयों की संख्याएँ संबंधित हैं। (ध्यान दें: संख्याओं को उनके घटक अंकों में अलग-अलग किए बिना, पूर्ण संख्याओं पर संक्रियाएँ की जानी चाहिए। उदा. 13 - 13 पर संक्रियाएँ जैसे 13 को जोड़ना/घटाना/गुणा करना आदि किया जा सकता है। 13 को 1 और 3 में अलग-अलग करने की और फिर 1 और 3 पर गणितीय संक्रियाएँ करने की अनुमति नहीं है)
(19, 37, 72)
(15, 29, 56)

- Ans
- 1. (18, 35, 69)
 - 2. (16, 30, 62)
 - 3. (12, 25, 50)
 - 4. (11, 21, 40)

Question Type : MCQ

Question ID : 264330140047

Option 1 ID : 264330548568

Option 2 ID : 264330548567

Option 3 ID : 264330548570

Option 4 ID : 264330548569

Status : Answered

Chosen Option : 4

Q.7 A, N, E, H और S एक बेंच पर उत्तर की ओर मुख करके बैठे हैं। A, S के ठीक दाईं ओर बैठा है और S किसी एक कोने पर बैठा है। E, H के दाईं ओर बैठा है, और N के बाईं ओर बैठा है। H के ठीक बाईं ओर कौन बैठा है?

- Ans
- 1. A
 - 2. E
 - 3. S
 - 4. N

Question Type : MCQ

Question ID : 264330140140

Option 1 ID : 264330548939

Option 2 ID : 264330548940

Option 3 ID : 264330548942

Option 4 ID : 264330548941

Status : Answered

Chosen Option : 1

Q.8 दी गई श्रृंखला में निम्नलिखित में से कौन-सी संख्या प्रश्न चिन्ह (?) के स्थान पर आएगी?
27, 31, 35, 39, 43, 47, ?

- Ans
- 1. 59
 - 2. 50
 - 3. 51
 - 4. 46

Question Type : MCQ
Question ID : 264330138779
Option 1 ID : 264330543725
Option 2 ID : 264330543726
Option 3 ID : 264330543724
Option 4 ID : 264330543723
Status : Answered
Chosen Option : 3

Q.9 यदि A का अर्थ 'जोड़', B का अर्थ 'गुणा', C का अर्थ 'घटाव' और D का अर्थ 'भाग' हो, तो निम्नलिखित समीकरण का मान क्या होगा?
11 C 5 A (9 D 3) B 2 = ?

- Ans
- 1. 12
 - 2. 10
 - 3. 7
 - 4. 9

Question Type : MCQ
Question ID : 264330138783
Option 1 ID : 264330543741
Option 2 ID : 264330543739
Option 3 ID : 264330543740
Option 4 ID : 264330543742
Status : Answered
Chosen Option : 1

Q.10 उस विकल्प को चुनिए जो तीसरे शब्द से ठीक उसी प्रकार संबंधित है जिस प्रकार दूसरा शब्द पहले शब्द से संबंधित है।
तर्कसंगत : अतार्किक :: अल्प : ?

- Ans
- 1. कम
 - 2. सिर हिलाना
 - 3. गतिमान
 - 4. प्रचुर

Question Type : MCQ
Question ID : 264330141201
Option 1 ID : 264330553139
Option 2 ID : 264330553140
Option 3 ID : 264330553142
Option 4 ID : 264330553141
Status : Answered
Chosen Option : 4

Q.11 दी गई आकृति के उस सही दर्पण प्रतिबिंब को चुनिए, जो नीचे दर्शाए गए अनुसार दर्पण को MN पर रखने पर बनेगा।

2 4 6 9 8 7

M
N

Ans

- ✗ 1. 5 4 9 8 8 1
- ✗ 2. 7 8 6 9 4 2
- ✗ 3. 7 8 6 8 4 2
- ✓ 4. 7 8 9 8 4 2

Question Type : MCQ

Question ID : 264330140131

Option 1 ID : 264330548906

Option 2 ID : 264330548903

Option 3 ID : 264330548904

Option 4 ID : 264330548905

Status : Answered

Chosen Option : 4

Q.12 निम्नलिखित प्रश्न में, दी गई श्रृंखला में लुप्त संख्या को चुनिए।

1, 3, 9, 27, 81, ?

Ans

- ✗ 1. 313
- ✗ 2. 283
- ✓ 3. 243
- ✗ 4. 343

Question Type : MCQ

Question ID : 264330139982

Option 1 ID : 264330548307

Option 2 ID : 264330548309

Option 3 ID : 264330548308

Option 4 ID : 264330548310

Status : Answered

Chosen Option : 3

Q.13 एक निश्चित कूट भाषा में, 'DRINK' को 'ETLRP' लिखा जाता है। उस कूट भाषा में 'ABOVE' को कैसे लिखा जाएगा?

Ans

- ✗ 1. BDRYJ
- ✓ 2. BDRZJ
- ✗ 3. BRDXJ
- ✗ 4. BDRJX

Question Type : MCQ

Question ID : 264330135352

Option 1 ID : 264330530318

Option 2 ID : 264330530317

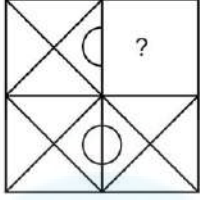
Option 3 ID : 264330530315

Option 4 ID : 264330530316

Status : Answered

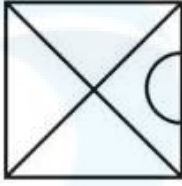
Chosen Option : 2

Q.14 उस विकल्प आकृति को चुनिए जो नीचे दी गई आकृति में पैटर्न को पूरा करने के लिए प्रश्न चिन्ह (?) के स्थान पर आएगी। (घूर्णन की अनुमति नहीं है)।

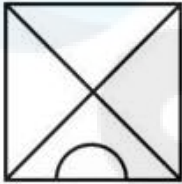


Ans

✗ 1.



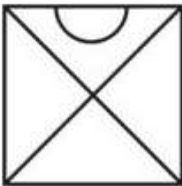
✗ 2.



✓ 3.



✗ 4.



Question Type : MCQ

Question ID : 264330140411

Option 1 ID : 264330550023

Option 2 ID : 264330550024

Option 3 ID : 264330550025

Option 4 ID : 264330550026

Status : Answered

Chosen Option : 3

Q.15 निम्नलिखित प्रश्न में कुछ कथन दिए गए हैं और उन कथनों के आधार पर कुछ निष्कर्ष दिए गए हैं। आपको मानना है कि दिए गए कथन सत्य हैं चाहे वे समान्यतः जात तथ्यों से अलग प्रतीत होते हों। सभी निष्कर्षों को पढ़िए और फिर निश्चय कीजिए कि दिए गए निष्कर्षों में से कौन-सा निष्कर्ष तार्किक रूप से दिए गए कथनों के अनुसार है।

कथन:

- I. कुछ T, M हैं।
- II. कोई T, Y नहीं है।

निष्कर्ष:

- I. कुछ M, Y नहीं हैं।
- II. कुछ M, T हैं।
- III. सभी M, Y हैं।

Ans

1. दोनों निष्कर्ष I और III कथनों के अनुसार हैं
2. कोई भी निष्कर्ष कथनों के अनुसार नहीं है
3. दोनों निष्कर्ष II और III कथनों के अनुसार हैं
4. दोनों निष्कर्ष I और II कथनों के अनुसार हैं

Question Type : **MCQ**

Question ID : **264330139538**

Option 1 ID : **264330546567**

Option 2 ID : **264330546570**

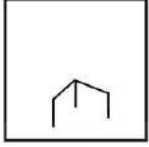
Option 3 ID : **264330546568**

Option 4 ID : **264330546569**

Status : **Answered**

Chosen Option : **4**

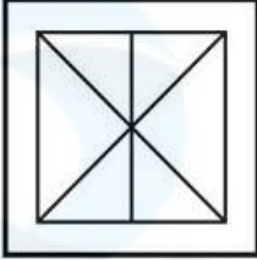
Q.16 उस विकल्प आकृति को चुनिए जिसमें दी गई आकृति (X) उसके भाग के रूप में निहित है (घूर्णन की अनुमति नहीं है)।



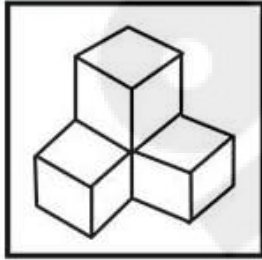
X

Ans

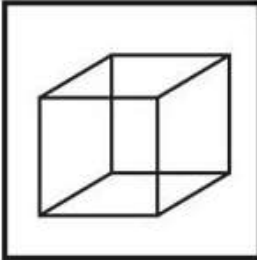
✗ 1.



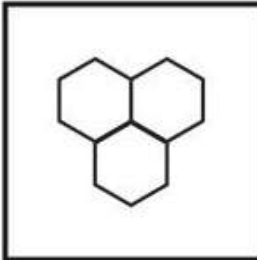
✓ 2.



✗ 3.



✗ 4.



Question Type : MCQ

Question ID : 264330140150

Option 1 ID : 264330548982

Option 2 ID : 264330548980

Option 3 ID : 264330548981

Option 4 ID : 264330548979

Status : Answered

Chosen Option : 2

Q.17 उस विकल्प को चुनिए जो तीसरी संख्या से ठीक उसी प्रकार संबंधित है जिस प्रकार दूसरी संख्या पहली संख्या से संबंधित है।

42 : 56 :: 24 : ?

- Ans
- 1. 16
 - 2. 32
 - 3. 48
 - 4. 40

Question Type : MCQ

Question ID : 264330140086

Option 1 ID : 264330548726

Option 2 ID : 264330548724

Option 3 ID : 264330548725

Option 4 ID : 264330548723

Status : Answered

Chosen Option : 2

Q.18 आठ मित्र राहुल, राम, रमेश, सोहन, साहिल, अनिल, सोनू और मोनू एक वृत्ताकार मेज के चारों ओर केंद्र की ओर मुख करके बैठे हैं (परंतु जरूरी नहीं कि वे इसी क्रम में बैठें हों)। मोनू, साहिल के ठीक दाईं ओर है। सोनू, साहिल के बाईं ओर से तीसरे स्थान पर है। राम, अनिल के दाईं ओर से तीसरे स्थान पर है। सोहन, मोनू के दाईं ओर से दूसरे स्थान पर है। मोनू के दाईं ओर से चौथे स्थान पर कौन है?

- Ans
- 1. साहिल
 - 2. राम
 - 3. राहुल
 - 4. सोनू

Question Type : MCQ

Question ID : 264330140059

Option 1 ID : 264330548618

Option 2 ID : 264330548616

Option 3 ID : 264330548617

Option 4 ID : 264330548615

Status : Answered

Chosen Option : 4

Q.19 दी गई श्रृंखला में निम्नलिखित में से कौन-सा अक्षर-समूह प्रश्न चिन्ह (?) के स्थान पर आएगा?
VC, WD, XE, YF, ZG, AH, ?

- Ans
- 1. BI
 - 2. IB
 - 3. ID
 - 4. BJ

Question Type : MCQ

Question ID : 264330140392

Option 1 ID : 264330549947

Option 2 ID : 264330549948

Option 3 ID : 264330549950

Option 4 ID : 264330549949

Status : Answered

Chosen Option : 1

Q.20 एक निश्चित कूट भाषा में, 'BROWN' को 'CSPXO' लिखा जाता है और 'CHAIR' को 'DIBJS' लिखा जाता है। उस कूट भाषा में 'COACH' को कैसे लिखा जाएगा?

- Ans
- 1. DPBDJ
 - 2. DPBDI
 - 3. DPBDK
 - 4. DPCDJ

Question Type : MCQ
Question ID : 264330140436
Option 1 ID : 264330550124
Option 2 ID : 264330550123
Option 3 ID : 264330550126
Option 4 ID : 264330550125
Status : Answered
Chosen Option : 1

Section : General Awareness

Q.1 किसी पूँजीगत वस्तु की टूट-फूट के लिए वार्षिक भत्ता _____ कहलाता है।

- Ans
- 1. मूल्यहास
 - 2. अवमूल्यन
 - 3. सकल निवेश
 - 4. विनिवेश

Question Type : MCQ
Question ID : 264330139658
Option 1 ID : 264330547048
Option 2 ID : 264330547047
Option 3 ID : 264330547049
Option 4 ID : 264330547050
Status : Answered
Chosen Option : 2

Q.2 भारत में अहोम साम्राज्य _____ में स्थित था।

- Ans
- 1. विंध्य
 - 2. तटीय उड़ीसा
 - 3. छोटा नागपुर के पठार
 - 4. ब्रह्मपुत्र घाटी

Question Type : MCQ
Question ID : 264330139695
Option 1 ID : 264330547196
Option 2 ID : 264330547198
Option 3 ID : 264330547195
Option 4 ID : 264330547197
Status : Answered
Chosen Option : 4

Q.3 दिवाली उस दिन का प्रतीक है जब भगवान राम, राजा रावण को पराजित कर _____ वर्षों के वनवास के बाद अयोध्या लौटे थे।

- Ans
- ✓ 1. 14
 - ✗ 2. 12
 - ✗ 3. 11
 - ✗ 4. 7

Question Type : MCQ
Question ID : 264330139724
Option 1 ID : 264330547314
Option 2 ID : 264330547313
Option 3 ID : 264330547312
Option 4 ID : 264330547311
Status : Answered
Chosen Option : 1

Q.4 चंद्रमा लगभग _____ दिनों में पृथ्वी का चक्कर लगाता है।

- Ans
- ✗ 1. 25
 - ✗ 2. 21
 - ✗ 3. 23
 - ✓ 4. 27

Question Type : MCQ
Question ID : 264330138989
Option 1 ID : 264330544565
Option 2 ID : 264330544563
Option 3 ID : 264330544564
Option 4 ID : 264330544566
Status : Answered
Chosen Option : 4

Q.5 मणिपुरी शास्त्रीय नृत्य के लिए किस प्रसिद्ध महिला को पद्म श्री पुरस्कार से सम्मानित किया गया?

- Ans
- ✗ 1. कलाबती देवी (Kalabati Devi)
 - ✗ 2. देवयानी चालिया (Devyani Chalia)
 - ✓ 3. एलम इंदिरा देवी (Elam Endira Devi)
 - ✗ 4. चारु माथुर (Charu Mathur)

Question Type : MCQ
Question ID : 264330140695
Option 1 ID : 264330551128
Option 2 ID : 264330551129
Option 3 ID : 264330551127
Option 4 ID : 264330551130
Status : Answered
Chosen Option : 4

Q.6 विज्ञान की आवर्त सारणी में "Mn" किस रासायनिक तत्व का प्रतीक है?

- Ans
- ✓ 1. मैंगनीज़ (Manganese)
 - ✗ 2. मैग्नीशियम (Magnesium)
 - ✗ 3. मेण्डेलेवियम (Mendelevium)
 - ✗ 4. मोलिब्डेनम (Molybdenum)

Question Type : MCQ
Question ID : 264330140706
Option 1 ID : 264330551174
Option 2 ID : 264330551173
Option 3 ID : 264330551172
Option 4 ID : 264330551171
Status : Answered
Chosen Option : 1

Q.7 अर्चना भारत में लोकसभा चुनाव लड़ना चाहती हैं। वह अधिकतम कितने निर्वाचन क्षेत्रों से चुनाव लड़ सकती है?

- Ans
- ✗ 1. एक
 - ✗ 2. तीन
 - ✗ 3. चार
 - ✓ 4. दो

Question Type : MCQ
Question ID : 264330140722
Option 1 ID : 264330551235
Option 2 ID : 264330551237
Option 3 ID : 264330551238
Option 4 ID : 264330551236
Status : Answered
Chosen Option : 4

Q.8 राज्य के नीति निर्देशक सिद्धांत भारतीय संविधान के किस भाग के अंतर्गत आते हैं?

- Ans
- ✓ 1. भाग IV
 - ✗ 2. भाग III
 - ✗ 3. भाग II
 - ✗ 4. भाग I

Question Type : MCQ
Question ID : 264330140312
Option 1 ID : 264330549628
Option 2 ID : 264330549630
Option 3 ID : 264330549627
Option 4 ID : 264330549629
Status : Answered
Chosen Option : 1

Q.9 आगरा के एक बैंकर शिव दयाल साहब ने _____ में राधा स्वामी सत्संग (Radha Soami Satsang) की स्थापना की थी।

- Ans
- 1. 1875
 - 2. 1842
 - 3. 1861
 - 4. 1880

Question Type : MCQ
Question ID : 264330141062
Option 1 ID : 264330552597
Option 2 ID : 264330552595
Option 3 ID : 264330552596
Option 4 ID : 264330552598
Status : Not Answered
Chosen Option : --

Q.10 निम्नलिखित में से कौन-सा पेशा मौसमी बेरोज़गारी का एक प्रकार है?

- Ans
- 1. किसान
 - 2. सूचना प्रौद्योगिकी पेशेवर (Information Technology professional)
 - 3. चिकित्सक
 - 4. लेखाकार (Accountants)

Question Type : MCQ
Question ID : 264330140663
Option 1 ID : 264330551001
Option 2 ID : 264330551000
Option 3 ID : 264330550999
Option 4 ID : 264330551002
Status : Answered
Chosen Option : 1

Q.11 किस देश ने क्रिकेट महिला एशिया कप 2022 जीता?

- Ans
- 1. श्रीलंका
 - 2. बांग्लादेश
 - 3. भारत
 - 4. पाकिस्तान

Question Type : MCQ
Question ID : 264330140698
Option 1 ID : 264330551139
Option 2 ID : 264330551140
Option 3 ID : 264330551141
Option 4 ID : 264330551142
Status : Answered
Chosen Option : 3

Q.12 भारत की 2011 की जनगणना के अनुसार, भारत के किस राज्य का लिंगानुपात सबसे कम है?

- Ans
- ✓ 1. हरियाणा
 - ✗ 2. बिहार
 - ✗ 3. झारखंड
 - ✗ 4. पंजाब

Question Type : MCQ
Question ID : 264330140687
Option 1 ID : 264330551097
Option 2 ID : 264330551096
Option 3 ID : 264330551095
Option 4 ID : 264330551098
Status : Answered
Chosen Option : 1

Q.13 नाहिद सिद्दीकी को अक्टूबर 2017 में मिलापफेस्ट के लाइफटाइम अचीवमेंट अवार्ड (Milapfest's Lifetime Achievement Award) से सम्मानित किया गया। वह किस नृत्य शैली के लिए जानी जाती हैं?

- Ans
- ✓ 1. कथक
 - ✗ 2. ओडिसी
 - ✗ 3. कुचिपुड़ी
 - ✗ 4. सत्त्रिया नृत्य

Question Type : MCQ
Question ID : 264330139705
Option 1 ID : 264330547237
Option 2 ID : 264330547235
Option 3 ID : 264330547236
Option 4 ID : 264330547238
Status : Answered
Chosen Option : 1

Q.14 भारतीय संविधान का निम्नलिखित में से कौन-सा अनुच्छेद "राष्ट्रीय अनुसूचित जाति आयोग" का प्रावधान करता है?

- Ans
- ✗ 1. अनुच्छेद 344
 - ✓ 2. अनुच्छेद 338
 - ✗ 3. अनुच्छेद 337
 - ✗ 4. अनुच्छेद 343

Question Type : MCQ
Question ID : 264330139877
Option 1 ID : 264330547890
Option 2 ID : 264330547888
Option 3 ID : 264330547887
Option 4 ID : 264330547889
Status : Answered
Chosen Option : 2

Q.15 गुरु बिपिन सिंह का संबंध भारत की _____ नृत्य शैली से है।

- Ans
- 1. कथक
 - 2. कालबेलिया
 - 3. मणिपुरी
 - 4. बचाता

Question Type : MCQ
Question ID : 264330140703
Option 1 ID : 264330551160
Option 2 ID : 264330551161
Option 3 ID : 264330551159
Option 4 ID : 264330551162
Status : Answered
Chosen Option : 3

Q.16 टोक्यो ओलंपिक 2020 (2021 में खेले गए) में भारत ने कितने रजत पदक जीते हैं?

- Ans
- 1. 1
 - 2. 4
 - 3. 2
 - 4. 3

Question Type : MCQ
Question ID : 264330139652
Option 1 ID : 264330547023
Option 2 ID : 264330547026
Option 3 ID : 264330547024
Option 4 ID : 264330547025
Status : Answered
Chosen Option : 4

Q.17 लोमस ऋषि (Lomas Rishi) गुफाएँ निम्नलिखित में से किस पहाड़ी पर स्थित हैं?

- Ans
- 1. सतपुड़ा पर्वतमाला
 - 2. अरावली पर्वतमाला
 - 3. बराबर पहाड़ियाँ
 - 4. विंध्याचल पर्वतमाला

Question Type : MCQ
Question ID : 264330139750
Option 1 ID : 264330547417
Option 2 ID : 264330547416
Option 3 ID : 264330547415
Option 4 ID : 264330547418
Status : Answered
Chosen Option : 3

Q.18 रवींद्रनाथ टैगोर ने _____ में शांतिनिकेतन संस्थान शुरू किया।

- Ans
- 1. 1899
 - 2. 1901
 - 3. 1903
 - 4. 1905

Question Type : MCQ

Question ID : 264330139721

Option 1 ID : 264330547299

Option 2 ID : 264330547300

Option 3 ID : 264330547301

Option 4 ID : 264330547302

Status : Answered

Chosen Option : 2

Q.19 चूना पत्थर _____ का एक प्रकार है।

- Ans
- 1. कायांतरित शैल
 - 2. ज्वालामुखीय शैल
 - 3. अवसादी शैल
 - 4. आग्नेय शैल

Question Type : MCQ

Question ID : 264330140300

Option 1 ID : 264330549581

Option 2 ID : 264330549582

Option 3 ID : 264330549580

Option 4 ID : 264330549579

Status : Answered

Chosen Option : 3

Q.20 भारतीय संविधान का अनुच्छेद 51A _____ का प्रावधान करता है।

- Ans
- 1. मौलिक कर्तव्यों
 - 2. संघीय कार्यपालिका
 - 3. मौलिक अधिकारों
 - 4. राज्य के नीति निर्देशक तत्वों

Question Type : MCQ

Question ID : 264330138958

Option 1 ID : 264330544440

Option 2 ID : 264330544442

Option 3 ID : 264330544439

Option 4 ID : 264330544441

Status : Answered

Chosen Option : 4

Q.21 किस राजा को उसके सिक्कों पर वीणा बजाते हुए दिखाया गया है?

- Ans
- 1. चंद्रगुप्त मौर्य
 - 2. समुद्रगुप्त
 - 3. चंद्रगुप्त प्रथम
 - 4. अशोक

Question Type : MCQ

Question ID : 264330139887

Option 1 ID : 264330547930

Option 2 ID : 264330547928

Option 3 ID : 264330547929

Option 4 ID : 264330547927

Status : Answered

Chosen Option : 2

Q.22 इंदौर घराना भारतीय शास्त्रीय संगीत के प्रमुख मुखर घरानों में से एक है। इसकी स्थापना _____ ने की थी।

- Ans
- 1. दोराइस्वामी वी. आयंगर
 - 2. डॉ लक्ष्मीनारायण सुब्रमण्यम
 - 3. उस्ताद अमीर खान
 - 4. उस्ताद बुंदू खान

Question Type : MCQ

Question ID : 264330139729

Option 1 ID : 264330547332

Option 2 ID : 264330547334

Option 3 ID : 264330547333

Option 4 ID : 264330547331

Status : Not Answered

Chosen Option : --

Q.23 निम्नलिखित में से कौन-सा "जरायुज" जंतु का एक उदाहरण नहीं है?

- Ans
- 1. बिल्ली
 - 2. पक्षी
 - 3. गाय
 - 4. कुत्ता

Question Type : MCQ

Question ID : 264330139712

Option 1 ID : 264330547263

Option 2 ID : 264330547266

Option 3 ID : 264330547265

Option 4 ID : 264330547264

Status : Answered

Chosen Option : 2

Q.24 ऐतिहासिक शेर-शाह सूरी मार्ग _____ के बीच से होकर गुजरता है।

- Ans
- ✓ 1. दिल्ली और अमृतसर
 - ✗ 2. लखनऊ और कोलकाता
 - ✗ 3. कानपुर और कन्याकुमारी
 - ✗ 4. दिल्ली और मनाली

Question Type : MCQ
Question ID : 264330140915
Option 1 ID : 264330552007
Option 2 ID : 264330552008
Option 3 ID : 264330552010
Option 4 ID : 264330552009
Status : Answered
Chosen Option : 1

Q.25 कुछ विशेष परिवर्तनों के साथ टैडपोल का वयस्क में रूपांतरण _____ कहलाता है।

- Ans
- ✗ 1. स्थानांतरण (shifting)
 - ✗ 2. उभार (bulging)
 - ✓ 3. कायांतरण (metamorphosis)
 - ✗ 4. मुकुलन (budding)

Question Type : MCQ
Question ID : 264330139761
Option 1 ID : 264330547461
Option 2 ID : 264330547462
Option 3 ID : 264330547460
Option 4 ID : 264330547459
Status : Answered
Chosen Option : 3

Section : English Language and Comprehension

Q.1 Fill in the blank with the most appropriate option.

Pay attention to what's happening and make _____ adjustments based on your personal experience.

- Ans
- ✗ 1. impartial
 - ✗ 2. honest
 - ✗ 3. placid
 - ✓ 4. reasonable

Question Type : MCQ
Question ID : 264330136586
Option 1 ID : 264330535076
Option 2 ID : 264330535075
Option 3 ID : 264330535078
Option 4 ID : 264330535077
Status : Answered
Chosen Option : 4

Q.2 Identify the segment that contains a grammatical error. If there is no error, select 'No error'.

Eddie just panics/ when it gets close/ nearer the end.

- Ans
- 1. when it gets close
 - 2. Eddie just panics
 - 3. nearer the end.
 - 4. No error

Question Type : **MCQ**
Question ID : **264330136536**
Option 1 ID : **264330534884**
Option 2 ID : **264330534883**
Option 3 ID : **264330534885**
Option 4 ID : **264330534886**
Status : **Answered**
Chosen Option : **3**

Q.3 Fill in the blank with the most appropriate option.

The only one _____ shattered their monotony by his visits was Krishna.

- Ans
- 1. which ever
 - 2. whom ever
 - 3. who ever
 - 4. whatever

Question Type : **MCQ**
Question ID : **264330136416**
Option 1 ID : **264330534428**
Option 2 ID : **264330534427**
Option 3 ID : **264330534430**
Option 4 ID : **264330534429**
Status : **Answered**
Chosen Option : **3**

Q.4 Select the most appropriate word for the given group of words.

A violent wind that has a circular movement

- Ans
- 1. Tsunami
 - 2. Drought
 - 3. Deluge
 - 4. Hurricane

Question Type : **MCQ**
Question ID : **264330136576**
Option 1 ID : **264330535035**
Option 2 ID : **264330535037**
Option 3 ID : **264330535038**
Option 4 ID : **264330535036**
Status : **Answered**
Chosen Option : **4**

Q.5 Select the correctly spelt word.

- Ans** 1. Contribute
 2. Contribute
 3. Contribuet
 4. Contribbute

Question Type : **MCQ**
Question ID : **264330136209**
Option 1 ID : **264330533630**
Option 2 ID : **264330533629**
Option 3 ID : **264330533627**
Option 4 ID : **264330533628**
Status : **Answered**
Chosen Option : **1**

Q.6 Select the most appropriate option to substitute the bracketed segment in the given sentence. If there is no need to substitute it, select 'no substitution required'.

(Neither of the political factions have had much) interest in environmental intent.

- Ans** 1. No substitution required
 2. Neither of the political faction has have much
 3. Neither of the political factions have had any
 4. Neither of the political factions has had much

Question Type : **MCQ**
Question ID : **264330136539**
Option 1 ID : **264330534898**
Option 2 ID : **264330534895**
Option 3 ID : **264330534896**
Option 4 ID : **264330534897**
Status : **Answered**
Chosen Option : **3**

Q.7 Improve the underlined part of the sentence. Choose 'No improvement' as an answer if the sentence is grammatically correct.

I try to eat less meat and more vegetables.

- Ans** 1. to eat lesser
 2. No improvement
 3. to ate less
 4. to eats less

Question Type : **MCQ**
Question ID : **264330141212**
Option 1 ID : **264330553183**
Option 2 ID : **264330553186**
Option 3 ID : **264330553185**
Option 4 ID : **264330553184**
Status : **Answered**
Chosen Option : **2**

Q.8 Select the most appropriate option to substitute the bracketed segment in the given sentence. If there is no need to substitute it, select 'no substitution required'.
(Many a opportunities came and went while) he laid wasted.

- Ans**
- 1. Many an opportunity came and went while
 - 2. Many opportunities come and went as
 - 3. No substitution required
 - 4. Many an opportunities came and gone while

Question Type : **MCQ**
Question ID : **264330136746**
Option 1 ID : **264330535691**
Option 2 ID : **264330535693**
Option 3 ID : **264330535694**
Option 4 ID : **264330535692**
Status : **Answered**
Chosen Option : **1**

Q.9 Select the most appropriate antonym of the given word.

Irreverent

- Ans**
- 1. Restoration
 - 2. Relevant
 - 3. Respectful
 - 4. Dormant

Question Type : **MCQ**
Question ID : **264330135863**
Option 1 ID : **264330532316**
Option 2 ID : **264330532318**
Option 3 ID : **264330532315**
Option 4 ID : **264330532317**
Status : **Answered**
Chosen Option : **3**

Q.10 Four sentences are given, out of which three have spelling errors. Choose the sentence with all correctly spelt words.

- Ans**
- 1. The job of the artist is to make the revolution perceptible.
 - 2. Except that it'll be rooted in awkward, funny and compelling reality.
 - 3. Microsoft announced plans to make bids to acquire Byte Dance.
 - 4. She used the 14th Amendment to acheive equality.

Question Type : **MCQ**
Question ID : **264330136158**
Option 1 ID : **264330533433**
Option 2 ID : **264330533431**
Option 3 ID : **264330533432**
Option 4 ID : **264330533434**
Status : **Answered**
Chosen Option : **1**

Q.11 In the following question, out of the given four alternatives, select the alternative which best expresses the meaning of the Idiom/Phrase.
In the nick of time

- Ans**
- 1. Only just in time
 - 2. Every time
 - 3. Frequently
 - 4. Meantime

Question Type : **MCQ**
Question ID : **264330141166**
Option 1 ID : **264330553008**
Option 2 ID : **264330553009**
Option 3 ID : **264330553010**
Option 4 ID : **264330553007**
Status : **Answered**
Chosen Option : **4**

Q.12 Identify the segment that contains a grammatical error. If there is no error, select 'No error'.

The NCGG has been/ set up to assist in / bring about governance reforms through studies.

- Ans**
- 1. bring about governance reforms through studies.
 - 2. set up to assist in
 - 3. The NCGG has been
 - 4. No error

Question Type : **MCQ**
Question ID : **264330136563**
Option 1 ID : **264330534989**
Option 2 ID : **264330534988**
Option 3 ID : **264330534987**
Option 4 ID : **264330534990**
Status : **Answered**
Chosen Option : **1**

Q.13 Select the most appropriate option to fill in the blank.

Lumber has many _____ beyond home building.

- Ans**
- 1. uses
 - 2. pluses
 - 3. loses
 - 4. trunks

Question Type : **MCQ**
Question ID : **264330136368**
Option 1 ID : **264330534242**
Option 2 ID : **264330534240**
Option 3 ID : **264330534239**
Option 4 ID : **264330534241**
Status : **Answered**
Chosen Option : **1**

Q.14 Select the most appropriate antonym to substitute the bracketed word in the given sentence.

He is (frank) about what he sees as the shortcomings of his great predecessors.

- Ans**
- 1. evasive
 - 2. assisting
 - 3. fortunate
 - 4. cheerful

Question Type : **MCQ**
Question ID : **264330136502**
Option 1 ID : **264330534752**
Option 2 ID : **264330534754**
Option 3 ID : **264330534753**
Option 4 ID : **264330534751**
Status : **Answered**
Chosen Option : **1**

Q.15 Select the most appropriate word for the given group of words.

One who hates or discriminates against women.

- Ans**
- 1. Misogynist
 - 2. Atheist
 - 3. Feminist
 - 4. Pessimist

Question Type : **MCQ**
Question ID : **264330135859**
Option 1 ID : **264330532300**
Option 2 ID : **264330532302**
Option 3 ID : **264330532299**
Option 4 ID : **264330532301**
Status : **Answered**
Chosen Option : **1**

Q.16 Find the part of the given sentence that has an error in it. If there is no error, choose 'No error'.

The participants responds to a series of statements at the dance competition.

- Ans**
- 1. at the dance competition.
 - 2. The participants responds
 - 3. to a series of statements
 - 4. No error

Question Type : **MCQ**
Question ID : **264330135536**
Option 1 ID : **264330531049**
Option 2 ID : **264330531047**
Option 3 ID : **264330531048**
Option 4 ID : **264330531050**
Status : **Answered**
Chosen Option : **2**

Q.17 Select the appropriate synonym for the underlined word.

I am parched, dehydrated to the point of pain.

- Ans
- 1. Washed
 - 2. Braced
 - 3. Moistened
 - 4. Drained

Question Type : MCQ
Question ID : 264330141213
Option 1 ID : 264330553187
Option 2 ID : 264330553189
Option 3 ID : 264330553188
Option 4 ID : 264330553190
Status : Answered
Chosen Option : 4

Q.18 Select the most appropriate synonym of the given word.

Golden

- Ans
- 1. Dull
 - 2. Dark
 - 3. Gloomy
 - 4. Shining

Question Type : MCQ
Question ID : 264330136177
Option 1 ID : 264330533503
Option 2 ID : 264330533504
Option 3 ID : 264330533505
Option 4 ID : 264330533506
Status : Answered
Chosen Option : 4

Q.19 The statement below has been given with bracketed text. Select the option with correct idiom for the bracketed text.

Don't start to think we've (won this game certainly), gentlemen.

- Ans
- 1. got this game in the bag
 - 2. have skin in the game
 - 3. swallowed the bitter truth
 - 4. held our horses

Question Type : MCQ
Question ID : 264330135866
Option 1 ID : 264330532327
Option 2 ID : 264330532329
Option 3 ID : 264330532328
Option 4 ID : 264330532330
Status : Answered
Chosen Option : 4

Q.20 Select the most appropriate option to fill in the blank.

Many people may not find the rewards _____ with the time and effort required.

- Ans**
- 1. coffer
 - 2. collude
 - 3. commensurate
 - 4. capable

Question Type : **MCQ**

Question ID : **264330136490**

Option 1 ID : **264330534710**

Option 2 ID : **264330534708**

Option 3 ID : **264330534707**

Option 4 ID : **264330534709**

Status : **Answered**

Chosen Option : **3**

Comprehension:

In the following passage some of the words have been deleted. Read the passage carefully and select the correct answer for the given blank out of the four alternatives.

The figure of Arthur first appeared in Welsh poetry in the (1) _____ sixth and early seventh centuries, a hero who was (2) _____ lead the Britons in battle against Saxon invaders. But it wasn't (3) _____ the 12th century that he was first tied to this dramatic headland, known as Tintagel.

The timeless popularity of the Arthur legend has overshadowed a central, unresolved (4) _____ : Was there really a King Arthur, or at least a historical prototype upon whom Geoffrey's hero is (5) _____?

SubQuestion No : 21

Q.21 Select the most appropriate option to fill in blank number 1.

- Ans**
- 1. latest
 - 2. least
 - 3. latter
 - 4. late

Question Type : **MCQ**

Question ID : **264330135239**

Option 1 ID : **264330529878**

Option 2 ID : **264330529875**

Option 3 ID : **264330529877**

Option 4 ID : **264330529876**

Status : **Answered**

Chosen Option : **4**

Comprehension:

In the following passage some of the words have been deleted. Read the passage carefully and select the correct answer for the given blank out of the four alternatives.

The figure of Arthur first appeared in Welsh poetry in the (1) _____ sixth and early seventh centuries, a hero who was (2) _____ lead the Britons in battle against Saxon invaders. But it wasn't (3) _____ the 12th century that he was first tied to this dramatic headland, known as Tintagel.

The timeless popularity of the Arthur legend has overshadowed a central, unresolved (4) _____ : Was there really a King Arthur, or at least a historical prototype upon whom Geoffrey's hero is (5) _____ ?

SubQuestion No : 22

Q.22 Select the most appropriate option to fill in blank number 2.

- Ans**
- 1. said to
 - 2. told
 - 3. brought to
 - 4. tamed to

Question Type : **MCQ**

Question ID : **264330135240**

Option 1 ID : **264330529881**

Option 2 ID : **264330529880**

Option 3 ID : **264330529879**

Option 4 ID : **264330529882**

Status : **Answered**

Chosen Option : **3**

Comprehension:

In the following passage some of the words have been deleted. Read the passage carefully and select the correct answer for the given blank out of the four alternatives.

The figure of Arthur first appeared in Welsh poetry in the (1) _____ sixth and early seventh centuries, a hero who was (2) _____ lead the Britons in battle against Saxon invaders. But it wasn't (3) _____ the 12th century that he was first tied to this dramatic headland, known as Tintagel.

The timeless popularity of the Arthur legend has overshadowed a central, unresolved (4) _____ : Was there really a King Arthur, or at least a historical prototype upon whom Geoffrey's hero is (5) _____ ?

SubQuestion No : 23

Q.23 Select the most appropriate option to fill in blank number 3.

- Ans**
- 1. none
 - 2. until
 - 3. beyond
 - 4. unless

Question Type : **MCQ**

Question ID : **264330135241**

Option 1 ID : **264330529883**

Option 2 ID : **264330529886**

Option 3 ID : **264330529885**

Option 4 ID : **264330529884**

Status : **Answered**

Chosen Option : **3**

Comprehension:

In the following passage some of the words have been deleted. Read the passage carefully and select the correct answer for the given blank out of the four alternatives.

The figure of Arthur first appeared in Welsh poetry in the (1) _____ sixth and early seventh centuries, a hero who was (2) _____ lead the Britons in battle against Saxon invaders. But it wasn't (3) _____ the 12th century that he was first tied to this dramatic headland, known as Tintagel.

The timeless popularity of the Arthur legend has overshadowed a central, unresolved (4) _____ : Was there really a King Arthur, or at least a historical prototype upon whom Geoffrey's hero is (5) _____ ?

SubQuestion No : 24

Q.24 Select the most appropriate option to fill in blank number 4.

- Ans**
- 1. mess
 - 2. commotion
 - 3. question
 - 4. establishment

Question Type : **MCQ**

Question ID : **264330135242**

Option 1 ID : **264330529890**

Option 2 ID : **264330529889**

Option 3 ID : **264330529888**

Option 4 ID : **264330529887**

Status : **Answered**

Chosen Option : **4**

Comprehension:

In the following passage some of the words have been deleted. Read the passage carefully and select the correct answer for the given blank out of the four alternatives.

The figure of Arthur first appeared in Welsh poetry in the (1) _____ sixth and early seventh centuries, a hero who was (2) _____ lead the Britons in battle against Saxon invaders. But it wasn't (3) _____ the 12th century that he was first tied to this dramatic headland, known as Tintagel.

The timeless popularity of the Arthur legend has overshadowed a central, unresolved (4) _____ : Was there really a King Arthur, or at least a historical prototype upon whom Geoffrey's hero is (5) _____ ?

SubQuestion No : 25

Q.25 Select the most appropriate option to fill in blank number 5.

- Ans**
- 1. caged
 - 2. based
 - 3. hanged
 - 4. found

Question Type : **MCQ**

Question ID : **264330135243**

Option 1 ID : **264330529892**

Option 2 ID : **264330529893**

Option 3 ID : **264330529894**

Option 4 ID : **264330529891**

Status : **Not Answered**

Chosen Option : **--**