

Multi Tasking Non Technical Staff and Havaldar CBIC and CBN Examination 2022

Roll Number	
Candidate Name	
Venue Name	iON Digital Zone iDZ Trinity 2 Headway 2 Kokta Bypass Road
Exam Date	14/06/2023
Exam Time	3:30 PM - 5:00 PM
Subject	MTS Non Tech Havaldar CBIC and CBN Examination 2022

Section : Numerical and Mathematical Ability

Q.1 एक त्रिभुज की भुजाओं का अनुपात 3 : 3 : 4 है। यदि त्रिभुज का क्षेत्रफल $32\sqrt{5}$ cm² है, तो समान भुजाओं की लंबाई कितनी है?

- Ans
- 1. 10 cm
 - 2. 12 cm
 - 3. 16 cm
 - 4. 15 cm

Question Type : MCQ

Question ID : 264330140625

Option 1 ID : 264330550850

Option 2 ID : 264330550848

Option 3 ID : 264330550849

Option 4 ID : 264330550847

Status : Answered

Chosen Option : 2

Q.2 P, Q से 20 प्रतिशत अधिक है। Q, P से कितने प्रतिशत कम है?

- Ans
- 1. 14.28 प्रतिशत
 - 2. 33.33 प्रतिशत
 - 3. 8.33 प्रतिशत
 - 4. 16.66 प्रतिशत

Question Type : MCQ

Question ID : 264330140568

Option 1 ID : 264330550623

Option 2 ID : 264330550625

Option 3 ID : 264330550626

Option 4 ID : 264330550624

Status : Answered

Chosen Option : 4

Q.3 एक व्यक्ति पहले 35 km की दूरी 60 मिनट में और अगले 40 km की दूरी 30 मिनट में तय करता है। पूरी यात्रा में उसकी औसत चाल क्या है?

- Ans
- 1. 42 km/hr
 - 2. 50 km/hr
 - 3. 49 km/hr
 - 4. 63 km/hr

Question Type : MCQ
Question ID : 264330140177
Option 1 ID : 264330549088
Option 2 ID : 264330549090
Option 3 ID : 264330549089
Option 4 ID : 264330549087
Status : Answered
Chosen Option : 2

Q.4 X, Y और Z के वेतन का अनुपात 8 : 5 : 12 है। यदि उनके वेतन में क्रमशः 10 प्रतिशत, 20 प्रतिशत और 30 प्रतिशत की वृद्धि की जाती है, तो उनके बड़े हुए वेतन का अनुपात क्या होगा?

- Ans
- 1. 24 : 47 : 58
 - 2. 22 : 15 : 39
 - 3. 25 : 48 : 59
 - 4. 11 : 25 : 36

Question Type : MCQ
Question ID : 264330139960
Option 1 ID : 264330548220
Option 2 ID : 264330548221
Option 3 ID : 264330548222
Option 4 ID : 264330548219
Status : Answered
Chosen Option : 2

Q.5 P, Q और R की औसत ऊंचाई 160 cm है। यदि P और Q की औसत ऊंचाई 140 cm है और Q और R की औसत ऊंचाई 129 cm है, तो Q की ऊंचाई कितनी है?

- Ans
- 1. 62 cm
 - 2. 58 cm
 - 3. 72 cm
 - 4. 78 cm

Question Type : MCQ
Question ID : 264330140196
Option 1 ID : 264330549163
Option 2 ID : 264330549164
Option 3 ID : 264330549165
Option 4 ID : 264330549166
Status : Answered
Chosen Option : 2

Q.6 एक नाव स्थिर जल में 6 घंटे में 24 km की दूरी तय कर सकती है। यह 38 घंटे में धारा के अनुकूल 56 km और धारा के प्रतिकूल 30 km की दूरी तय कर सकती है। धारा की चाल क्या है?

- Ans
- 1. 4 km/hr
 - 2. 3 km/hr
 - 3. 5 km/hr
 - 4. 3.5 km/hr

Question Type : MCQ
Question ID : 264330140585
Option 1 ID : 264330550692
Option 2 ID : 264330550691
Option 3 ID : 264330550694
Option 4 ID : 264330550693
Status : Answered
Chosen Option : 2

Q.7 $\frac{72}{22} \times \frac{11}{3} \div \frac{21}{9}$ of $\frac{18}{7}$ का मान क्या है?

- Ans
- 1. 2
 - 2. 8
 - 3. 6
 - 4. 36

Question Type : MCQ
Question ID : 264330140599
Option 1 ID : 264330550749
Option 2 ID : 264330550750
Option 3 ID : 264330550747
Option 4 ID : 264330550748
Status : Answered
Chosen Option : 1

Q.8 यदि $A : B : C = 2 : 3 : 4$ है, तो $(A/B) : (B/C) : (C/A)$ का मान क्या होगा?

- Ans
- 1. 12 : 10 : 13
 - 2. 8 : 7 : 25
 - 3. 9 : 5 : 36
 - 4. 8 : 9 : 24

Question Type : MCQ
Question ID : 264330140639
Option 1 ID : 264330550904
Option 2 ID : 264330550903
Option 3 ID : 264330550906
Option 4 ID : 264330550905
Status : Answered
Chosen Option : 4

Q.9 नीचे दी गई तालिका में दो वर्षों (Years) में पाँच कंपनियों (Company) द्वारा किए गए उत्पादन को दर्शाया गया है।

Company	Years	
	L	M
P	150	200
Q	190	220
R	130	180
S	180	150
T	120	140

निम्नलिखित में से कौन-सा कथन सही नहीं है?

I. वर्ष L में P, Q, R और S का औसत उत्पादन 172.5 है।

II. वर्ष L में T के उत्पादन और वर्ष M में T के उत्पादन का अनुपात 6 : 7 है।

Ans

- ✓ 1. केवल I
✗ 2. न तो I और न ही II
✗ 3. I और II दोनों
✗ 4. केवल II

Question Type : MCQ

Question ID : 264330139626

Option 1 ID : 264330546919

Option 2 ID : 264330546922

Option 3 ID : 264330546921

Option 4 ID : 264330546920

Status : Answered

Chosen Option : 1

Q.10 एक वस्तु का अंकित मूल्य Rs. 1200 है। वस्तु पर 40 प्रतिशत की छूट दी जाती है। यदि 20 प्रतिशत की हानि होती है, तो वस्तु का क्रय मूल्य क्या है?

Ans

- ✗ 1. Rs. 1020
✗ 2. Rs. 780
✗ 3. Rs. 850
✓ 4. Rs. 900

Question Type : MCQ

Question ID : 264330140205

Option 1 ID : 264330549199

Option 2 ID : 264330549202

Option 3 ID : 264330549201

Option 4 ID : 264330549200

Status : Answered

Chosen Option : 4

Q.11 यदि कुल वस्तुओं का 80 प्रतिशत, 25 प्रतिशत के लाभ पर बेचा जाता है और शेष वस्तुओं को 20 प्रतिशत की हानि पर बेचा जाता है, तो कुल लाभ प्रतिशत क्या होगा?

- Ans
- ✓ 1. 16 प्रतिशत
 - ✗ 2. 20 प्रतिशत
 - ✗ 3. 12.5 प्रतिशत
 - ✗ 4. 15 प्रतिशत

Question Type : MCQ
Question ID : 264330139898
Option 1 ID : 264330547974
Option 2 ID : 264330547971
Option 3 ID : 264330547972
Option 4 ID : 264330547973
Status : Answered
Chosen Option : 1

Q.12 $44 + 67 - 32 \div 4 + (9 + 5 + 5 + 4) - 4 \times 12 \div 6 - 30 \div 5$ का मान है :

- Ans
- ✓ 1. 112
 - ✗ 2. 121
 - ✗ 3. 123
 - ✗ 4. 120

Question Type : MCQ
Question ID : 264330140797
Option 1 ID : 264330551536
Option 2 ID : 264330551537
Option 3 ID : 264330551535
Option 4 ID : 264330551538
Status : Answered
Chosen Option : 1

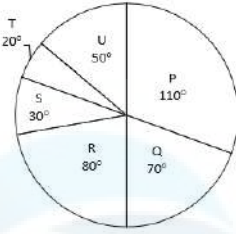
Q.13 X का मान क्या है?

$$X = \frac{7}{5} + \left\{ \frac{1}{5} - \frac{1}{3} \right\} \times \frac{5}{2}$$

- Ans
- ✓ 1. 16/15
 - ✗ 2. 15/16
 - ✗ 3. 19/15
 - ✗ 4. 17/15

Question Type : MCQ
Question ID : 264330139036
Option 1 ID : 264330544752
Option 2 ID : 264330544753
Option 3 ID : 264330544754
Option 4 ID : 264330544751
Status : Answered
Chosen Option : 1

Q.14 नीचे दिए गए वृत्त आलेख में छः राज्यों द्वारा किए गए गेहूँ के उत्पादन को दर्शाया गया है। इन सभी छः राज्यों द्वारा किया गया गेहूँ का कुल उत्पादन 3600 है। इनमें से किसी एक विशिष्ट राज्य द्वारा किए गए गेहूँ के उत्पादन को इन सभी छः राज्यों द्वारा किए गए गेहूँ के कुल उत्पादन के सापेक्ष डिग्री के रूप में दर्शाया गया है।



P और Q द्वारा किए गए गेहूँ के औसत उत्पादन और R और T द्वारा किए गए गेहूँ के औसत उत्पादन के बीच कितना अंतर है?

- Ans**
- 1. 400
 - 2. 500
 - 3. 200
 - 4. 300

Question Type : **MCQ**

Question ID : **264330139647**

Option 1 ID : **264330547003**

Option 2 ID : **264330547006**

Option 3 ID : **264330547005**

Option 4 ID : **264330547004**

Status : **Answered**

Chosen Option : **1**

Q.15 साधारण ब्याज की एक योजना में Rs.2600 की राशि का निवेश किया जाता है। 3 वर्ष में यह राशि Rs.3320 हो जाती है। 5 वर्ष में यह राशि कितनी हो जाएगी?

- Ans**
- 1. Rs.4500
 - 2. Rs.3800
 - 3. Rs.4200
 - 4. Rs.3600

Question Type : **MCQ**

Question ID : **264330139921**

Option 1 ID : **264330548063**

Option 2 ID : **264330548065**

Option 3 ID : **264330548064**

Option 4 ID : **264330548066**

Status : **Answered**

Chosen Option : **2**

Q.16 चक्रवृद्धि ब्याज (वार्षिक रूप से संयोजित) पर 3 वर्ष और 5 वर्ष के बाद एक निश्चित राशि पर प्राप्त राशि क्रमशः Rs. 20,736 और Rs. 29,859.84 है। वह राशि क्या है?

- Ans
- ✗ 1. Rs. 9000
 - ✗ 2. Rs. 14000
 - ✓ 3. Rs. 12000
 - ✗ 4. Rs. 15000

Question Type : MCQ

Question ID : 264330140544

Option 1 ID : 264330550532

Option 2 ID : 264330550534

Option 3 ID : 264330550533

Option 4 ID : 264330550531

Status : Answered

Chosen Option : 3

Q.17 P, Q से तीन गुना अधिक कुशल कारीगर है और इसलिए वह Q से 40 दिन कम में एक कार्य को पूरा कर लेता है। वे साथ मिलकर उसी कार्य को कितने दिनों में पूरा कर सकते हैं?

- Ans
- ✗ 1. 22.5 दिन
 - ✓ 2. 15 दिन
 - ✗ 3. 18 दिन
 - ✗ 4. 20 दिन

Question Type : MCQ

Question ID : 264330139629

Option 1 ID : 264330546934

Option 2 ID : 264330546933

Option 3 ID : 264330546932

Option 4 ID : 264330546931

Status : Answered

Chosen Option : 4

Q.18 यदि एक शर्ट का विक्रय मूल्य और क्रय मूल्य क्रमशः Rs.945 और Rs.750 है, तो लाभ प्रतिशत क्या है?

- Ans
- ✗ 1. 25 प्रतिशत
 - ✗ 2. 28 प्रतिशत
 - ✗ 3. 22 प्रतिशत
 - ✓ 4. 26 प्रतिशत

Question Type : MCQ

Question ID : 264330140179

Option 1 ID : 264330549095

Option 2 ID : 264330549097

Option 3 ID : 264330549096

Option 4 ID : 264330549098

Status : Answered

Chosen Option : 4

Q.19 अवि अकेले किसी कार्य को 60 दिनों में कर सकता है जबकि प्रकाश अकेले उस कार्य को 80 दिनों में कर सकता है। वे साथ मिलकर इस कार्य को कितने दिनों में पूरा करेंगे?

- Ans
- ✓ 1. 240/7 दिन
 - ✗ 2. 140/6 दिन
 - ✗ 3. 270/6 दिन
 - ✗ 4. 250/6 दिन

Question Type : MCQ
Question ID : 264330140791
Option 1 ID : 264330551511
Option 2 ID : 264330551512
Option 3 ID : 264330551514
Option 4 ID : 264330551513
Status : Answered
Chosen Option : 1

Q.20 एक वर्गाकार पार्क की भुजाओं की लंबाई 18 cm है। पार्क के अंदर इसके किनारों पर एक 1 cm चौड़ा पथ है। पथ का क्षेत्रफल क्या है?

- Ans
- ✗ 1. 76 cm²
 - ✓ 2. 68 cm²
 - ✗ 3. 92 cm²
 - ✗ 4. 180 cm²

Question Type : MCQ
Question ID : 264330140597
Option 1 ID : 264330550739
Option 2 ID : 264330550740
Option 3 ID : 264330550742
Option 4 ID : 264330550741
Status : Answered
Chosen Option : 2

Section : Reasoning Ability and Problem Solving

Q.1 उस विकल्प को चुनिए जो तीसरे अक्षर-समूह से ठीक उसी तरह संबंधित है जिस तरह दूसरा अक्षर-समूह पहले अक्षर-समूह से संबंधित है।
SUN : QSL :: ROP : ?

- Ans
- ✗ 1. PMM
 - ✗ 2. PMO
 - ✓ 3. PMN
 - ✗ 4. PNN

Question Type : MCQ
Question ID : 264330141203
Option 1 ID : 264330553149
Option 2 ID : 264330553150
Option 3 ID : 264330553147
Option 4 ID : 264330553148
Status : Answered
Chosen Option : 3

Q.2 पाँच दुकानों M1, M2, M3, M4 और M5 में कलमों की संख्या की तुलना की जाती है। M3 में कलमों की संख्या केवल M1 से अधिक है। कोई भी दो दुकानों में कलमों की संख्या समान नहीं है। M5 में कलमों की संख्या M2 से कम लेकिन M4 से अधिक है। M5 में कलमों की संख्या कितनी दुकानों से अधिक है?

- Ans
- 1. 1
 - 2. 3
 - 3. 2
 - 4. 4

Question Type : MCQ

Question ID : 264330139576

Option 1 ID : 264330546720

Option 2 ID : 264330546722

Option 3 ID : 264330546719

Option 4 ID : 264330546721

Status : Answered

Chosen Option : 2

Q.3 आठ लड़के राम, सुमित, सुनील, राहुल, राज, अमन, अमित और अनिल एक वृत्ताकार मेज के चारों ओर केंद्र की ओर मुख करके बैठे हैं (परंतु जरूरी नहीं कि वे इसी क्रम में बैठें हों)। अनिल, राज या राहुल का निकटतम पड़ोसी नहीं है। अनिल, राम के ठीक बाईं ओर है। अमित, राज का निकटतम पड़ोसी है। अमन, सुमित के ठीक दाईं ओर है। सुनील, राज और अमन के बीच में बैठा है। राज और अनिल दोनों का निकटतम पड़ोसी कौन है?

- Ans
- 1. राहुल
 - 2. अमित
 - 3. सुनील
 - 4. अमन

Question Type : MCQ

Question ID : 264330140962

Option 1 ID : 264330552197

Option 2 ID : 264330552195

Option 3 ID : 264330552198

Option 4 ID : 264330552196

Status : Answered

Chosen Option : 2

Q.4 उस विकल्प को चुनिए जो पाँचवें पद से ठीक उसी प्रकार संबंधित है जिस प्रकार दूसरा पद पहले पद से संबंधित है और चौथा पद तीसरे पद से संबंधित है।

PAN : IFK :: TEA : VJO :: FOR : ?

- Ans
- 1. MTA
 - 2. MTB
 - 3. NTA
 - 4. MUB

Question Type : MCQ

Question ID : 264330140055

Option 1 ID : 264330548602

Option 2 ID : 264330548600

Option 3 ID : 264330548601

Option 4 ID : 264330548599

Status : Answered

Chosen Option : 1

Q.5 उस विकल्प को चुनिए जो पाँचवी संख्या से ठीक उसी प्रकार संबंधित है जिस प्रकार दूसरी संख्या पहली संख्या से संबंधित है और चौथी संख्या तीसरी संख्या से संबंधित है।

15 : 256 :: 16 : 289 :: 18 : ?

- Ans
- 1. 336
 - 2. 361
 - 3. 342
 - 4. 441

Question Type : MCQ

Question ID : 264330140969

Option 1 ID : 264330552224

Option 2 ID : 264330552223

Option 3 ID : 264330552225

Option 4 ID : 264330552226

Status : Answered

Chosen Option : 2

Q.6 पाँच लड़कियाँ A, B, C, D और E एक सीधी रेखा में दक्षिण की ओर मुख करके खड़ी हैं। A, C के ठीक दाईं ओर खड़ी है। D, C और E के बीच में खड़ी है। E किसी भी छोर के आखिर में नहीं खड़ी है। E के बाईं ओर कौन खड़ा है?

- Ans
- 1. A
 - 2. B
 - 3. C
 - 4. D

Question Type : MCQ

Question ID : 264330140019

Option 1 ID : 264330548456

Option 2 ID : 264330548455

Option 3 ID : 264330548457

Option 4 ID : 264330548458

Status : Answered

Chosen Option : 2

Q.7 एक निश्चित कूट भाषा में, 'COUNTY' को 'UOCYTN' लिखा जाता है। उस कूट भाषा में 'HOLDER' को कैसे लिखा जाएगा?

- Ans
- 1. LOHRED
 - 2. LOHDER
 - 3. LHORED
 - 4. LOHERD

Question Type : MCQ

Question ID : 264330138793

Option 1 ID : 264330543780

Option 2 ID : 264330543782

Option 3 ID : 264330543779

Option 4 ID : 264330543781

Status : Answered

Chosen Option : 1

Q.8 किन दो चिह्नों और दो संख्याओं को आपस में बदलने पर, दिए गए समीकरण का मान '6' होगा?

$$7 - 2 \times 1 \div 3 + 5$$

Ans 1. \times और $-$, 5 और 3

2. \times और \div , 7 और 5

3. \times और \div , 2 और 7

4. $+$ और $-$, 7 और 5

Question Type : MCQ

Question ID : 264330139544

Option 1 ID : 264330546594

Option 2 ID : 264330546592

Option 3 ID : 264330546593

Option 4 ID : 264330546591

Status : Answered

Chosen Option : 2

Q.9 तीन कथन दिए गए हैं और दो निष्कर्ष I और II दिए गए हैं। कथनों को सत्य मानते हुए, चाहे वे सामान्यतः ज्ञात तथ्यों से अलग प्रतीत होते हों, निश्चय कीजिए कि कौन-सा निष्कर्ष तार्किक रूप से कथनों के अनुसार है।
कथन:

सभी कीलें, सुईयाँ हैं।

कुछ सुईयाँ, मेज़ हैं।

कोई सुई, डिब्बा नहीं है।

निष्कर्ष:

I. कोई मेज़, डिब्बा नहीं है।

II. कुछ कीलें, मेज़ हैं।

Ans 1. सिर्फ निष्कर्ष II कथनों के अनुसार है

2. सिर्फ निष्कर्ष I कथनों के अनुसार है

3. दोनों निष्कर्ष I और II कथनों के अनुसार हैं

4. निष्कर्ष I और II में से कोई भी कथनों के अनुसार नहीं है

Question Type : MCQ

Question ID : 264330138798

Option 1 ID : 264330543800

Option 2 ID : 264330543799

Option 3 ID : 264330543801

Option 4 ID : 264330543802

Status : Answered

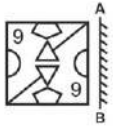
Chosen Option : 4

Q.10 दी गई श्रृंखला में निम्नलिखित में से कौन-सा अक्षर प्रश्न चिह्न (?) के स्थान पर आएगा?
K, H, E, B, Y, V, S, P, ?

- Ans
- 1. Q
 - 2. F
 - 3. I
 - 4. M

Question Type : MCQ
 Question ID : 264330140073
 Option 1 ID : 264330548674
 Option 2 ID : 264330548672
 Option 3 ID : 264330548673
 Option 4 ID : 264330548671
 Status : Answered
 Chosen Option : 4

Q.11 यदि एक दर्पण को रेखा AB पर रखा जाए, तो दी गई विकल्प आकृतियों में से कौन-सी आकृति प्रश्न आकृति का सही प्रतिबिम्ब होगी?



Ans

- 1.
- 2.
- 3.
- 4.

Question Type : MCQ
 Question ID : 264330139586
 Option 1 ID : 264330546759
 Option 2 ID : 264330546760
 Option 3 ID : 264330546762
 Option 4 ID : 264330546761
 Status : Answered
 Chosen Option : 4

Q.12 एक निश्चित कूट भाषा में, 'PESO' को '55' लिखा जाता है और 'THEN' को '47' लिखा जाता है। उस कूट भाषा में 'NIKE' को कैसे लिखा जाएगा?

Ans 1. 40

2. 39

3. 38

4. 37

Question Type : MCQ

Question ID : 264330140435

Option 1 ID : 264330550122

Option 2 ID : 264330550119

Option 3 ID : 264330550120

Option 4 ID : 264330550121

Status : Answered

Chosen Option : 2

Q.13 दिए गए समीकरण को सही करने के लिए किन दो चिन्हों को आपस में बदला जाना चाहिए?

$$6 = 9 \div 3 - 2 + 7$$

Ans 1. + और =

2. = और -

3. - और +

4. + और ÷

Question Type : MCQ

Question ID : 264330140027

Option 1 ID : 264330548488

Option 2 ID : 264330548487

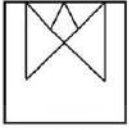
Option 3 ID : 264330548489

Option 4 ID : 264330548490

Status : Answered

Chosen Option : 1


Q.14 उस विकल्प आकृति को चुनिए जिसमें दी गई आकृति (X) इसके भाग के रूप में निहित है। (घूर्णन की अनुमति नहीं है)।



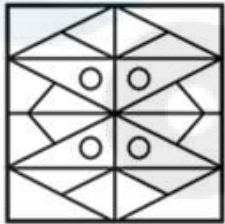
(X)

Ans

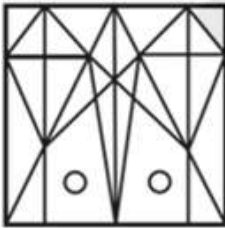
✗ 1.



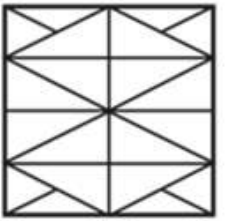
✗ 2.



✓ 3.



✗ 4.



Question Type : MCQ

Question ID : 264330140469

Option 1 ID : 264330550258

Option 2 ID : 264330550255

Option 3 ID : 264330550257

Option 4 ID : 264330550256

Status : Answered

Chosen Option : 3

Q.15 दी गई श्रृंखला में निम्नलिखित में से कौन-सी संख्या प्रश्न चिन्ह (?) के स्थान पर आएगी?
36, 33, 39, 36, 42, 39, 45, ?

Ans 1. 38

2. 29

3. 42

4. 48

Question Type : MCQ

Question ID : 264330140403

Option 1 ID : 264330549991

Option 2 ID : 264330549993

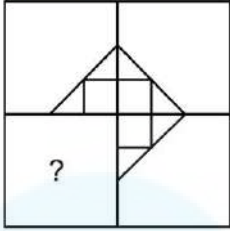
Option 3 ID : 264330549992

Option 4 ID : 264330549994

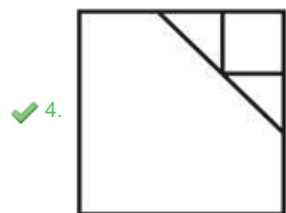
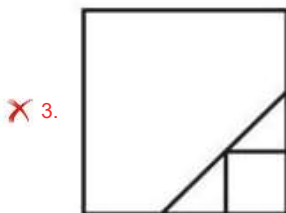
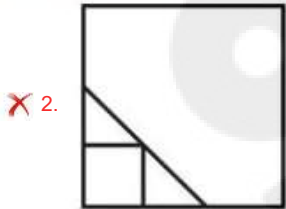
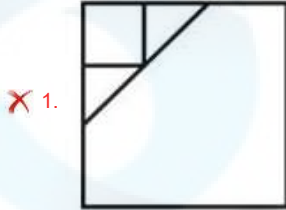
Status : Answered

Chosen Option : 3

Q.16 उस विकल्प आकृति को चुनिए जो नीचे दी गई आकृति में पैटर्न को पूरा करने के लिए प्रश्न चिन्ह (?) के स्थान पर आएगी। (घूर्णन की अनुमति नहीं है)।



Ans



Question Type : MCQ

Question ID : 264330138807

Option 1 ID : 264330543836

Option 2 ID : 264330543838

Option 3 ID : 264330543837

Option 4 ID : 264330543835

Status : Answered

Chosen Option : 4

Q.17 दो कथन दिए गए हैं और दो निष्कर्ष I और II दिए गए हैं। कथनों को सत्य मानते हुए, चाहे वे सामान्यतः ज्ञात तथ्यों से अलग प्रतीत होते हों, निश्चय कीजिए कि कौन-सा निष्कर्ष तार्किक रूप से कथनों के अनुसार है।
कथन:

सभी डायरियाँ, पुस्तकें हैं।

कुछ बैग, डायरियाँ हैं।

निष्कर्ष:

I. सभी बैग, पुस्तकें हैं।

II. कुछ पुस्तकें, बैग हैं।

- Ans
- 1. न तो निष्कर्ष I और न ही II कथनों के अनुसार है।
 - 2. केवल निष्कर्ष I कथनों के अनुसार है।
 - 3. केवल निष्कर्ष II कथनों के अनुसार है।
 - 4. दोनों निष्कर्ष I और II कथनों के अनुसार हैं।

Question Type : MCQ

Question ID : 264330140102

Option 1 ID : 264330548790

Option 2 ID : 264330548787

Option 3 ID : 264330548788

Option 4 ID : 264330548789

Status : Answered

Chosen Option : 3

Q.18 दिए गए पैटर्न का ध्यानपूर्वक अध्ययन कीजिए और उस संख्या को चुनिए जो इसमें प्रश्न चिन्ह (?) के स्थान पर आ सकती है?

प्रथम पंक्ति- 30, 120, 124

द्वितीय पंक्ति- 40, 160, 164

तृतीय पंक्ति- 22, 88, ?

- Ans
- 1. 90
 - 2. 92
 - 3. 98
 - 4. 89

Question Type : MCQ

Question ID : 264330135362

Option 1 ID : 264330530356

Option 2 ID : 264330530358

Option 3 ID : 264330530355

Option 4 ID : 264330530357

Status : Answered

Chosen Option : 2

Q.19 एक निश्चित कूट भाषा में, 'CODE' को '5SH3' लिखा जाता है। उस भाषा में 'WIRE' को कैसे लिखा जाएगा?

- Ans
- 1. 20MV3
 - 2. 25MV6
 - 3. 25MV3
 - 4. 25NV3

Question Type : MCQ
Question ID : 264330139994
Option 1 ID : 264330548357
Option 2 ID : 264330548356
Option 3 ID : 264330548358
Option 4 ID : 264330548355
Status : Answered
Chosen Option : 3

Q.20 निम्नलिखित प्रश्न में, दी गई श्रृंखला में लुप्त संख्या को चुनिए ।

1, 5, 21, 85, 341, ?

- Ans
- 1. 1365
 - 2. 1370
 - 3. 1380
 - 4. 1360

Question Type : MCQ
Question ID : 264330140988
Option 1 ID : 264330552300
Option 2 ID : 264330552301
Option 3 ID : 264330552302
Option 4 ID : 264330552299
Status : Answered
Chosen Option : 1

Section : General Awareness

Q.1 निम्नलिखित में से कौन-सा उपन्यास प्रसिद्ध भारतीय लेखक मुल्क राज आनंद द्वारा लिखा गया था?

- Ans
- 1. अनटचेबल (Untouchable)
 - 2. द रूम ऑन द रूफ (The Room on the Roof)
 - 3. ट्रेन टू पाकिस्तान (Train to Pakistan)
 - 4. गोदान (Godan)

Question Type : MCQ
Question ID : 264330140743
Option 1 ID : 264330551322
Option 2 ID : 264330551320
Option 3 ID : 264330551321
Option 4 ID : 264330551319
Status : Answered
Chosen Option : 1

Q.2 कौन-सी दो प्रमुख नदियाँ मिलकर गंगा नदी का निर्माण करती हैं?

- Ans
- 1. भागीरथी और मंदाकिनी
 - 2. अलकनंदा और मंदाकिनी
 - 3. मंदाकिनी और धौलीगंगा
 - 4. अलकनंदा और भागीरथी

Question Type : MCQ
Question ID : 264330140661
Option 1 ID : 264330550994
Option 2 ID : 264330550993
Option 3 ID : 264330550992
Option 4 ID : 264330550991
Status : Answered
Chosen Option : 4

Q.3 वर्ष 1896 में प्रथम ओलम्पिक खेलों का आयोजन किस देश में हुआ था?

- Ans
- 1. इटली
 - 2. मिस्र
 - 3. जापान
 - 4. ग्रीस

Question Type : MCQ
Question ID : 264330140339
Option 1 ID : 264330549738
Option 2 ID : 264330549737
Option 3 ID : 264330549736
Option 4 ID : 264330549735
Status : Answered
Chosen Option : 4

Q.4 विज्ञान की आवर्त सारणी में नाइट्रोजन की परमाणु संख्या क्या है?

- Ans
- 1. 11
 - 2. 7
 - 3. 21
 - 4. 18

Question Type : MCQ
Question ID : 264330140756
Option 1 ID : 264330551372
Option 2 ID : 264330551371
Option 3 ID : 264330551374
Option 4 ID : 264330551373
Status : Not Answered
Chosen Option : --

Q.5 भारत में मौद्रिक नीति समिति की अध्यक्षता कौन करता है?

- Ans
- 1. केंद्रीय वित्त मंत्री
 - 2. भारत के नियंत्रक एवं महालेखा परीक्षक
 - 3. गवर्नर, भारतीय रिजर्व बैंक
 - 4. डिप्टी गवर्नर, भारतीय रिजर्व बैंक

Question Type : MCQ
Question ID : 264330140700
Option 1 ID : 264330551147
Option 2 ID : 264330551148
Option 3 ID : 264330551150
Option 4 ID : 264330551149
Status : Answered
Chosen Option : 3

Q.6 इंग्लैंड ने _____ को हराकर आईसीसी पुरुष टी20 विश्व कप 2022 की ट्रॉफी जीती।

- Ans
- 1. न्यूज़ीलैंड
 - 2. ऑस्ट्रेलिया
 - 3. पाकिस्तान
 - 4. भारत

Question Type : MCQ
Question ID : 264330140954
Option 1 ID : 264330552163
Option 2 ID : 264330552165
Option 3 ID : 264330552164
Option 4 ID : 264330552166
Status : Not Answered
Chosen Option : --

Q.7 निम्नलिखित में से किस शब्द का अर्थ "फलों को उगाना" है?

- Ans
- 1. आर्बोरिकल्चर(Arboriculture)
 - 2. पोमिकल्चर(Pomiculture)
 - 3. सेरीकल्चर(Sericulture)
 - 4. एपीकल्चर(Apiculture)

Question Type : MCQ
Question ID : 264330140940
Option 1 ID : 264330552107
Option 2 ID : 264330552109
Option 3 ID : 264330552110
Option 4 ID : 264330552108
Status : Not Answered
Chosen Option : --

Q.8 गुरु वेम्पति चिन्ना सत्यम का संबंध निम्नलिखित में से किस नृत्य शैली से है?

- Ans
- 1. कथक
 - 2. कुचिपुड़ी
 - 3. मणिपुरी
 - 4. भरतनाट्यम

Question Type : MCQ
Question ID : 264330140361
Option 1 ID : 264330549824
Option 2 ID : 264330549825
Option 3 ID : 264330549823
Option 4 ID : 264330549826
Status : Answered
Chosen Option : 4

Q.9 लोक सभा (जनता का सदन) का पहली बार विधिवत गठन _____ को किया गया था।

- Ans
- 1. 17 अप्रैल 1952
 - 2. 26 अप्रैल 1950
 - 3. 20 अप्रैल 1951
 - 4. 18 जनवरी 1950

Question Type : MCQ
Question ID : 264330140338
Option 1 ID : 264330549732
Option 2 ID : 264330549734
Option 3 ID : 264330549731
Option 4 ID : 264330549733
Status : Answered
Chosen Option : 2

Q.10 ग्रामीण रोजगार सृजन कार्यक्रम (REGP) सन् _____ में शुरू किया गया था।

- Ans
- 1. 1991
 - 2. 1997
 - 3. 1993
 - 4. 1995

Question Type : MCQ
Question ID : 264330139693
Option 1 ID : 264330547187
Option 2 ID : 264330547190
Option 3 ID : 264330547188
Option 4 ID : 264330547189
Status : Not Answered
Chosen Option : --

Q.11 संभवतः _____ मेहरगढ़ में कपास की खेती होती थी।

- Ans
- 1. 8000 साल पहले
 - 2. 6000 साल पहले
 - 3. 7000 साल पहले
 - 4. 5000 साल पहले

Question Type : MCQ
Question ID : 264330139769
Option 1 ID : 264330547494
Option 2 ID : 264330547492
Option 3 ID : 264330547493
Option 4 ID : 264330547491
Status : Not Answered
Chosen Option : --

Q.12 ज्योतिबा फुले ने निम्नलिखित में से किस संगठन की स्थापना की?

- Ans
- 1. आर्य समाज
 - 2. ब्रह्म समाज
 - 3. सत्यशोधक समाज
 - 4. सतनामी समाज

Question Type : MCQ
Question ID : 264330138994
Option 1 ID : 264330544586
Option 2 ID : 264330544583
Option 3 ID : 264330544585
Option 4 ID : 264330544584
Status : Answered
Chosen Option : 3

Q.13 आदिवासी नेता बिरसा किस जनजाति से संबंधित थे?

- Ans
- 1. भूटिया
 - 2. गोंड
 - 3. भील
 - 4. मुंडा

Question Type : MCQ
Question ID : 264330138995
Option 1 ID : 264330544590
Option 2 ID : 264330544587
Option 3 ID : 264330544588
Option 4 ID : 264330544589
Status : Answered
Chosen Option : 4

Q.14 2020 में 'लूडो' फिल्म में प्रदर्शित प्रसिद्ध गीत "किस्मत की हवा (Qismat Ki Hawa)" के पार्श्व गायक और संगीतकार कौन हैं?

- Ans
- 1. ए. आर. रहमान
 - 2. आर. डी. बर्मन
 - 3. अरिजीत सिंह
 - 4. सी. रामचंद्र

Question Type : MCQ
Question ID : 264330140335
Option 1 ID : 264330549721
Option 2 ID : 264330549719
Option 3 ID : 264330549720
Option 4 ID : 264330549722
Status : Answered
Chosen Option : 2

Q.15 चोल साम्राज्य में "वेट्टी (Vetti)" शब्द _____ से संबंधित है।

- Ans
- 1. जबरन श्रम
 - 2. सेना
 - 3. सोने के सिक्के
 - 4. आंशिक भुगतान

Question Type : MCQ
Question ID : 264330139670
Option 1 ID : 264330547097
Option 2 ID : 264330547098
Option 3 ID : 264330547095
Option 4 ID : 264330547096
Status : Answered
Chosen Option : 3

Q.16 श्री भगवंत मान मार्च 2022 में किस राज्य के मुख्यमंत्री बने थे?

- Ans
- 1. हरियाणा
 - 2. हिमाचल प्रदेश
 - 3. पंजाब
 - 4. दिल्ली

Question Type : MCQ
Question ID : 264330140907
Option 1 ID : 264330551976
Option 2 ID : 264330551978
Option 3 ID : 264330551975
Option 4 ID : 264330551977
Status : Answered
Chosen Option : 3

Q.17 जीव मिल्खा सिंह का संबंध किस खेल से है?

- Ans
- 1. एथलेटिक्स
 - 2. क्रिकेट
 - 3. हॉकी
 - 4. गोल्फ

Question Type : MCQ
Question ID : 264330140885
Option 1 ID : 264330551890
Option 2 ID : 264330551887
Option 3 ID : 264330551889
Option 4 ID : 264330551888
Status : Answered
Chosen Option : 1

Q.18 कौन-सा सागर अफ्रीका को अरब प्रायद्वीप से अलग करता है?

- Ans
- 1. लाल सागर
 - 2. सफ़ेद सागर
 - 3. कैस्पियन सागर
 - 4. काला सागर

Question Type : MCQ
Question ID : 264330140659
Option 1 ID : 264330550984
Option 2 ID : 264330550985
Option 3 ID : 264330550986
Option 4 ID : 264330550983
Status : Answered
Chosen Option : 1

Q.19 निम्नलिखित में से किसे पादप जगत के जलस्थलचर कहा जाता है?

- Ans
- 1. ब्रायोफाइट (Bryophyte)
 - 2. अनावृतबीजी (Gymnosperm)
 - 3. थैलोफाइट (Thallophyte)
 - 4. आवृतबीजी (Angiosperm)

Question Type : MCQ
Question ID : 264330141052
Option 1 ID : 264330552557
Option 2 ID : 264330552558
Option 3 ID : 264330552556
Option 4 ID : 264330552555
Status : Answered
Chosen Option : 1

Q.20 'रूरल बैकयार्ड पिगरी (Rural Backyard Piggery)' योजना किस राज्य सरकार द्वारा शुरू की गई थी?

- Ans
- ✓ 1. मेघालय
 - ✗ 2. पंजाब
 - ✗ 3. झारखंड
 - ✗ 4. असम

Question Type : MCQ

Question ID : 264330140367

Option 1 ID : 264330549849

Option 2 ID : 264330549848

Option 3 ID : 264330549850

Option 4 ID : 264330549847

Status : Answered

Chosen Option : 4

Q.21 यदि किसी देश की जन्म दर मृत्यु दर से अधिक है तो जनसंख्या में _____।

- Ans
- ✓ 1. वृद्धि होगी
 - ✗ 2. 50% की गिरावट होगी
 - ✗ 3. धीरे-धीरे गिरावट आएगी
 - ✗ 4. स्थिरता रहेगी

Question Type : MCQ

Question ID : 264330139718

Option 1 ID : 264330547289

Option 2 ID : 264330547288

Option 3 ID : 264330547287

Option 4 ID : 264330547290

Status : Answered

Chosen Option : 1

Q.22 कुचिपुड़ी नृत्य किस प्रकार के संगीत के साथ किया जाता है?

- Ans
- ✗ 1. सम्मिश्रित (Fusion)
 - ✗ 2. हिंदुस्तानी (Hindustani)
 - ✗ 3. जाज़ (Jazz)
 - ✓ 4. कर्नाटक (Carnatic)

Question Type : MCQ

Question ID : 264330139673

Option 1 ID : 264330547107

Option 2 ID : 264330547108

Option 3 ID : 264330547110

Option 4 ID : 264330547109

Status : Answered

Chosen Option : 4

Q.23 निम्नलिखित में से कौन-सा अम्ल सरसों के तेल में पाया जाता है?

- Ans
- 1. टार्टरिक अम्ल (Tartaric Acid)
 - 2. मैलिक अम्ल (Malic Acid)
 - 3. इरुसिक अम्ल (Erucic Acid)
 - 4. लॉरिक अम्ल (Lauric Acid)

Question Type : MCQ

Question ID : 264330140938

Option 1 ID : 264330552100

Option 2 ID : 264330552102

Option 3 ID : 264330552099

Option 4 ID : 264330552101

Status : Not Answered

Chosen Option : --

Q.24 भारतीय संविधान का कौन-सा अनुच्छेद सभी धर्मों के लोगों को अपने धर्म के मामलों का प्रबंधन करने की स्वतंत्रता देता है?

- Ans
- 1. अनुच्छेद 21
 - 2. अनुच्छेद 26
 - 3. अनुच्छेद 15
 - 4. अनुच्छेद 37

Question Type : MCQ

Question ID : 264330140771

Option 1 ID : 264330551434

Option 2 ID : 264330551432

Option 3 ID : 264330551431

Option 4 ID : 264330551433

Status : Answered

Chosen Option : 2

Q.25 "छठ पूजा" पूरे विश्व में मुख्य रूप से किस समुदाय द्वारा बड़ी भव्यता के साथ मनाई जाती है?

- Ans
- 1. पंजाबी समुदाय
 - 2. बिहारी समुदाय
 - 3. मराठी समुदाय
 - 4. गुजराती समुदाय

Question Type : MCQ

Question ID : 264330139749

Option 1 ID : 264330547412

Option 2 ID : 264330547413

Option 3 ID : 264330547414

Option 4 ID : 264330547411

Status : Answered

Chosen Option : 2

Q.1 Fill in the blank with the most appropriate option.

Ancient Indians were never this _____ minded.

- Ans
- 1. cramp
 - 2. narrow
 - 3. tiny
 - 4. slim

Question Type : MCQ
Question ID : 264330136585
Option 1 ID : 264330535074
Option 2 ID : 264330535072
Option 3 ID : 264330535073
Option 4 ID : 264330535071
Status : Answered
Chosen Option : 2

Q.2 Select the most appropriate option to fill in the blank.

The show played to full houses for a five-night run and ended to _____ applause on Saturday night.

- Ans
- 1. tumultuous
 - 2. barren
 - 3. redress
 - 4. semantic

Question Type : MCQ
Question ID : 264330136560
Option 1 ID : 264330534975
Option 2 ID : 264330534977
Option 3 ID : 264330534976
Option 4 ID : 264330534978
Status : Answered
Chosen Option : 4

Q.3 Select the most appropriate option to substitute the bracketed segment in the given sentence. If there is no need to substitute it, select 'no substitution required'.

He lights his pipe, (and on many an evenings he helps me with) dishes.

- Ans
- 1. and on many evenings he helps me with the
 - 2. No substitution required
 - 3. and many an evenings he helps me with the
 - 4. and on many evenings he helped me with the

Question Type : MCQ
Question ID : 264330136538
Option 1 ID : 264330534891
Option 2 ID : 264330534894
Option 3 ID : 264330534892
Option 4 ID : 264330534893
Status : Answered
Chosen Option : 1

Q.4 Select the word from the options which is similar in meaning to the bracketed word given in the sentence below.
He hesitated, studying her face with a (confused) expression.

- Ans**
- 1. calm
 - 2. assisted
 - 3. puzzled
 - 4. explicated

Question Type : **MCQ**
Question ID : **264330136152**
Option 1 ID : **264330533410**
Option 2 ID : **264330533408**
Option 3 ID : **264330533409**
Option 4 ID : **264330533407**
Status : **Answered**
Chosen Option : **3**

Q.5 Find the part of the given sentence that has an error in it. If there is no error, choose 'No error'.
There are already many examples of great technology that had born in the United States.

- Ans**
- 1. No error
 - 2. born in the United States.
 - 3. of great technology that had
 - 4. There are already many examples

Question Type : **MCQ**
Question ID : **264330135537**
Option 1 ID : **264330531054**
Option 2 ID : **264330531053**
Option 3 ID : **264330531052**
Option 4 ID : **264330531051**
Status : **Answered**
Chosen Option : **2**

Q.6 Select the most appropriate meaning of the given idiom.

Go bananas

- Ans**
- 1. To become excited or angry
 - 2. To finish household chores
 - 3. To win a match
 - 4. To feel low

Question Type : **MCQ**
Question ID : **264330136285**
Option 1 ID : **264330533920**
Option 2 ID : **264330533921**
Option 3 ID : **264330533919**
Option 4 ID : **264330533922**
Status : **Answered**
Chosen Option : **1**

Q.7 Four words are given, out of which three words are spelt correctly. Choose the incorrectly spelt word.

- Ans**
- 1. PERSISTENT
 - 2. RESISTANCE
 - 3. ACQUIANT
 - 4. PRIVILEGE

Question Type : **MCQ**
Question ID : **264330136183**
Option 1 ID : **264330533527**
Option 2 ID : **264330533530**
Option 3 ID : **264330533529**
Option 4 ID : **264330533528**
Status : **Answered**
Chosen Option : **1**

Q.8 Select the most appropriate option to substitute the bracketed segment in the given sentence. If there is no need to substitute it, select 'no substitution required'.

That is not a solution available (to most people for who email has become necessity.)

- Ans**
- 1. to most people for whom email has become a necessity.
 - 2. for most people to whom email has became necessity.
 - 3. No substitution required
 - 4. to most people for who email has become a necessity.

Question Type : **MCQ**
Question ID : **264330136540**
Option 1 ID : **264330534899**
Option 2 ID : **264330534901**
Option 3 ID : **264330534902**
Option 4 ID : **264330534900**
Status : **Answered**
Chosen Option : **1**

Q.9 Select the most appropriate synonym of the given word.

Glorify

- Ans**
- 1. Lower
 - 2. Mock
 - 3. Celebrate
 - 4. Wonder

Question Type : **MCQ**
Question ID : **264330136281**
Option 1 ID : **264330533906**
Option 2 ID : **264330533905**
Option 3 ID : **264330533903**
Option 4 ID : **264330533904**
Status : **Answered**
Chosen Option : **3**

Q.10 Select the most appropriate word for the given group of words.

A person who likes humankind and human society

- Ans
- 1. Lunatic
 - 2. Mercenary
 - 3. Narcissist
 - 4. Philanthropist

Question Type : MCQ
Question ID : 264330135833
Option 1 ID : 264330532202
Option 2 ID : 264330532200
Option 3 ID : 264330532201
Option 4 ID : 264330532199
Status : Answered
Chosen Option : 4

Q.11 Select the most appropriate antonym to substitute the (bracketed) word in the given sentence.

Given (sufficient) effort, all known infectious agents can be specifically identified.

- Ans
- 1. optimal
 - 2. trivial
 - 3. unrefined
 - 4. captivity

Question Type : MCQ
Question ID : 264330135838
Option 1 ID : 264330532222
Option 2 ID : 264330532219
Option 3 ID : 264330532220
Option 4 ID : 264330532221
Status : Answered
Chosen Option : 2

Q.12 Select the most appropriate word for the given group of words.

Opposing or taking arms against a government or ruler.

- Ans
- 1. Volunteer
 - 2. Participant
 - 3. Rebel
 - 4. Rubel

Question Type : MCQ
Question ID : 264330136124
Option 1 ID : 264330533300
Option 2 ID : 264330533301
Option 3 ID : 264330533302
Option 4 ID : 264330533299
Status : Answered
Chosen Option : 3

Q.13 Select the most appropriate antonym of the given word.

Evidence

- Ans
- 1. Duplicity
 - 2. Signature
 - 3. Information
 - 4. Concealment

Question Type : MCQ
Question ID : 264330136428
Option 1 ID : 264330534474
Option 2 ID : 264330534471
Option 3 ID : 264330534473
Option 4 ID : 264330534472
Status : Answered
Chosen Option : 4

Q.14 A sentence has been given with a blank to be filled with an appropriate option. Choose the correct alternative.

Most of the oil and gas that the UK _____ does not come from Russia.

- Ans
- 1. importing
 - 2. imported
 - 3. imports
 - 4. import

Question Type : MCQ
Question ID : 264330135237
Option 1 ID : 264330529872
Option 2 ID : 264330529873
Option 3 ID : 264330529871
Option 4 ID : 264330529874
Status : Answered
Chosen Option : 3

Q.15 Four sentences are given, out of which three have spelling errors. Choose the sentence with all correctly spelled words.

Ans 1. They fly around like nobody 's buisness.

2.

They also show problem behaviours, like physical aggression and cheating.

3. This guide offers sugestions of capital interest to travelers.

4.

They were meant, she says, to be “a public display of your allegaince.”

Question Type : MCQ
Question ID : 264330135738
Option 1 ID : 264330531838
Option 2 ID : 264330531836
Option 3 ID : 264330531835
Option 4 ID : 264330531837
Status : Answered
Chosen Option : 2

Q.16 In the following question, out of the given four alternatives, select the alternative which best expresses the meaning of the Idiom/Phrase.
A storm in a tea cup

- Ans**
- 1. Back to original position
 - 2. Great outrage or excitement about a trivial matter
 - 3. To deal with a person who is more than one's match
 - 4. Constant source of annoyance to someone

Question Type : **MCQ**
Question ID : **264330135556**
Option 1 ID : **264330531123**
Option 2 ID : **264330531126**
Option 3 ID : **264330531125**
Option 4 ID : **264330531124**
Status : **Answered**
Chosen Option : **2**

Q.17 Identify the segment that contains a grammatical error. If there is no error, select 'No error'

Nothing great in the world/ have been accomplished/ without passion.

- Ans**
- 1. No error
 - 2. have been accomplished
 - 3. Nothing great in the world
 - 4. without passion.

Question Type : **MCQ**
Question ID : **264330136187**
Option 1 ID : **264330533546**
Option 2 ID : **264330533544**
Option 3 ID : **264330533543**
Option 4 ID : **264330533545**
Status : **Answered**
Chosen Option : **2**

Q.18 Identify the segment that contains a grammatical error. If there is no error, select 'No error'.
Susan had recently run on to / Catherine at the supermarket, they / were seeing each other after many years.

- Ans**
- 1. were seeing each other after many years.
 - 2. Susan had recently run on to
 - 3. Catherine at the supermarket, they
 - 4. No error

Question Type : **MCQ**
Question ID : **264330136743**
Option 1 ID : **264330535681**
Option 2 ID : **264330535679**
Option 3 ID : **264330535680**
Option 4 ID : **264330535682**
Status : **Answered**
Chosen Option : **2**

Q.19 Select the word segment that substitutes (replaces) the bracketed word segment correctly and completes the sentence meaningfully. Select the option 'no correction required' if the sentence is correct as given.

(They have been) dejected when he arrived, but now they sparkle with enthusiasm.

- Ans**
- 1. They was
 - 2. They had been
 - 3. No correction required
 - 4. They were been

Question Type : **MCQ**
Question ID : **264330136565**
Option 1 ID : **264330534997**
Option 2 ID : **264330534995**
Option 3 ID : **264330534998**
Option 4 ID : **264330534996**
Status : **Answered**
Chosen Option : **2**

Q.20 Select the most appropriate option to fill in the blank.

And to think after all these years you still have the _____ to say such things to me!

- Ans**
- 1. arrogance
 - 2. tangential
 - 3. fitness
 - 4. brightness

Question Type : **MCQ**
Question ID : **264330135825**
Option 1 ID : **264330532172**
Option 2 ID : **264330532171**
Option 3 ID : **264330532173**
Option 4 ID : **264330532174**
Status : **Answered**
Chosen Option : **1**

Comprehension:

In the following passage some words have been deleted. Fill in the blanks with the help of the alternatives given. Select the most appropriate option for each number.

Equality and freedom have both been identified as important (1) _____ of democracy since ancient times. These principles are reflected in all citizens being (2) _____ before the law and having equal access to (3) _____ processes. For example, in a representative democracy, (4) _____ vote has equal weight, no unreasonable restrictions can apply to anyone seeking to become a (5) _____, and the freedom of its citizens is secured by legitimized rights and liberties which are generally protected by a constitution.

SubQuestion No : 21

Q.21 Select the most appropriate option to fill in blank number 1.

- Ans**
- 1. characteristics
 - 2. analytics
 - 3. linguistics
 - 4. statistics

Question Type : **MCQ**
Question ID : **264330136492**
Option 1 ID : **264330534712**
Option 2 ID : **264330534711**
Option 3 ID : **264330534714**
Option 4 ID : **264330534713**
Status : **Answered**
Chosen Option : **1**

Comprehension:

In the following passage some words have been deleted. Fill in the blanks with the help of the alternatives given. Select the most appropriate option for each number.

Equality and freedom have both been identified as important (1) _____ of democracy since ancient times. These principles are reflected in all citizens being (2) _____ before the law and having equal access to (3) _____ processes. For example, in a representative democracy, (4) _____ vote has equal weight, no unreasonable restrictions can apply to anyone seeking to become a (5) _____, and the freedom of its citizens is secured by legitimized rights and liberties which are generally protected by a constitution.

SubQuestion No : 22

Q.22 Select the most appropriate option to fill in blank number 2.

- Ans**
- 1. unfair
 - 2. equal
 - 3. irregular
 - 4. unequal

Question Type : **MCQ**
Question ID : **264330136493**
Option 1 ID : **264330534715**
Option 2 ID : **264330534718**
Option 3 ID : **264330534717**
Option 4 ID : **264330534716**
Status : **Answered**
Chosen Option : **2**

Comprehension:

In the following passage some words have been deleted. Fill in the blanks with the help of the alternatives given. Select the most appropriate option for each number.

Equality and freedom have both been identified as important (1) _____ of democracy since ancient times. These principles are reflected in all citizens being (2) _____ before the law and having equal access to (3) _____ processes. For example, in a representative democracy, (4) _____ vote has equal weight, no unreasonable restrictions can apply to anyone seeking to become a (5) _____, and the freedom of its citizens is secured by legitimized rights and liberties which are generally protected by a constitution.

SubQuestion No : 23

Q.23 Select the most appropriate option to fill in blank number 3.

- Ans**
- 1. relative
 - 2. copulative
 - 3. legislative
 - 4. perennial

Question Type : **MCQ**
Question ID : **264330136494**
Option 1 ID : **264330534720**
Option 2 ID : **264330534721**
Option 3 ID : **264330534719**
Option 4 ID : **264330534722**
Status : **Answered**
Chosen Option : **3**

Comprehension:

In the following passage some words have been deleted. Fill in the blanks with the help of the alternatives given. Select the most appropriate option for each number.

Equality and freedom have both been identified as important (1) _____ of democracy since ancient times. These principles are reflected in all citizens being (2) _____ before the law and having equal access to (3) _____ processes. For example, in a representative democracy, (4) _____ vote has equal weight, no unreasonable restrictions can apply to anyone seeking to become a (5) _____, and the freedom of its citizens is secured by legitimized rights and liberties which are generally protected by a constitution.

SubQuestion No : 24

Q.24 Select the most appropriate option to fill in blank number 4.

- Ans**
- 1. much
 - 2. every
 - 3. all
 - 4. few

Question Type : **MCQ**
Question ID : **264330136495**
Option 1 ID : **264330534723**
Option 2 ID : **264330534726**
Option 3 ID : **264330534725**
Option 4 ID : **264330534724**
Status : **Answered**
Chosen Option : **2**

Comprehension:

In the following passage some words have been deleted. Fill in the blanks with the help of the alternatives given. Select the most appropriate option for each number.

Equality and freedom have both been identified as important (1) _____ of democracy since ancient times. These principles are reflected in all citizens being (2) _____ before the law and having equal access to (3) _____ processes. For example, in a representative democracy, (4) _____ vote has equal weight, no unreasonable restrictions can apply to anyone seeking to become a (5) _____, and the freedom of its citizens is secured by legitimized rights and liberties which are generally protected by a constitution.

SubQuestion No : 25

Q.25 Select the most appropriate option to fill in blank number 5.

- Ans**
- 1. dictators
 - 2. representative
 - 3. rulers
 - 4. peasants

Question Type : **MCQ**

Question ID : **264330136496**

Option 1 ID : **264330534727**

Option 2 ID : **264330534728**

Option 3 ID : **264330534729**

Option 4 ID : **264330534730**

Status : **Answered**

Chosen Option : **2**