

Multi Tasking Non Technical Staff and Havaldar CBIC and CBN Examination 2022

| | |
|----------------|---|
| Roll Number | |
| Candidate Name | |
| Venue Name | R K Digital Computer Centre 2 |
| Exam Date | 15/05/2023 |
| Exam Time | 9:00 AM - 10:30 AM |
| Subject | MTS Non Tech Havaldar CBIC and CBN Examination 2022 |

Section : Numerical and Mathematical Ability

Q.1 क्रय मूल्य और विक्रय मूल्य के बीच Rs. 143 का अंतर है। यदि लाभ प्रतिशत 26 प्रतिशत है, तो विक्रय मूल्य क्या है?

- Ans
- 1. Rs. 713
 - 2. Rs. 676
 - 3. Rs. 693
 - 4. Rs. 603

Question Type : MCQ

Question ID : 264330133842

Option 1 ID : 264330524391

Option 2 ID : 264330524394

Option 3 ID : 264330524393

Option 4 ID : 264330524392

Status : Answered

Chosen Option : 3

Q.2 रंगीन ब्लॉक की कुल संख्या 1260 है। यदि लाल ब्लॉक और नीले ब्लॉक का अनुपात 2:5 है और नीले ब्लॉक और पीले ब्लॉक का अनुपात 15:7 है, तो पीले ब्लॉक की संख्या कितनी है?

- Ans
- 1. 270
 - 2. 745
 - 3. 675
 - 4. 315

Question Type : MCQ

Question ID : 264330133844

Option 1 ID : 264330524400

Option 2 ID : 264330524402

Option 3 ID : 264330524401

Option 4 ID : 264330524399

Status : Answered

Chosen Option : 4

Q.3 {20 of 4 + (40 - 14 + 30) - 84} का मान ज्ञात कीजिए।

Ans 1. 50

2. 52

3. 55

4. 44

Question Type : MCQ

Question ID : 264330133757

Option 1 ID : 264330524052

Option 2 ID : 264330524054

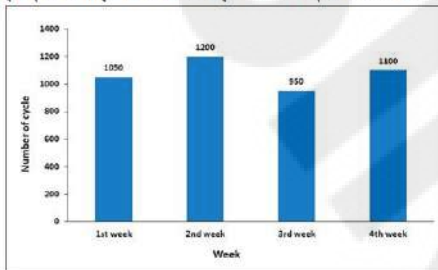
Option 3 ID : 264330524051

Option 4 ID : 264330524053

Status : Answered

Chosen Option : 2

Q.4 निम्नलिखित दंड आलेख में एक कारखाने में 4 क्रमागत सप्ताहों के दौरान निर्मित साइकलों की संख्या को दर्शाया गया है। इन सप्ताहों में प्रति सप्ताह निर्मित साइकलों की औसत संख्या कितनी है?



Number of cycle = साइकलों की संख्या

1st week = पहला सप्ताह, 2nd week = दूसरा सप्ताह, 3rd week = तीसरा सप्ताह, 4th week = चौथा सप्ताह

Week = सप्ताह

Ans 1. 1085

2. 1075

3. 1120

4. 1015

Question Type : MCQ

Question ID : 264330133852

Option 1 ID : 264330524432

Option 2 ID : 264330524431

Option 3 ID : 264330524433

Option 4 ID : 264330524434

Status : Answered

Chosen Option : 2

Q.5 पिकी और रिंकी मिलकर किसी काम को 20 दिनों में पूरा कर सकती हैं। रिंकी और मिंकी मिलकर इसे 12 दिनों में पूरा कर सकती हैं जबकि पिकी और मिंकी मिलकर इसे 15 दिनों में पूरा कर सकती हैं। रिंकी अकेले इसे कितने दिनों में पूरा कर सकती है?

- Ans
- ✓ 1. 30 दिन
 - ✗ 2. 10 दिन
 - ✗ 3. 25 दिन
 - ✗ 4. 20 दिन

Question Type : MCQ
Question ID : 264330133641
Option 1 ID : 264330523589
Option 2 ID : 264330523587
Option 3 ID : 264330523590
Option 4 ID : 264330523588
Status : Answered
Chosen Option : 1

Q.6 कृष को 24 मीटर दौड़ने में उतना ही समय लगता है जितना एक बस को 72 मीटर की दूरी तय करने में लगता है। बस द्वारा 4.8 km की दूरी तय करने पर कृष द्वारा तय की गई दूरी कितनी होगी?

- Ans
- ✗ 1. 2.4 km
 - ✗ 2. 2.1 km
 - ✓ 3. 1.6 km
 - ✗ 4. 3.6 km

Question Type : MCQ
Question ID : 264330133848
Option 1 ID : 264330524416
Option 2 ID : 264330524418
Option 3 ID : 264330524415
Option 4 ID : 264330524417
Status : Answered
Chosen Option : 3

Q.7 $[-11 + 2 - 12 \div 4] \times 5$ का मान है:

- Ans
- ✓ 1. -60
 - ✗ 2. -12
 - ✗ 3. 17
 - ✗ 4. 84

Question Type : MCQ
Question ID : 264330133836
Option 1 ID : 264330524369
Option 2 ID : 264330524367
Option 3 ID : 264330524368
Option 4 ID : 264330524370
Status : Answered
Chosen Option : 1

Q.8 साधारण ब्याज पर एक धनराशि 3 वर्ष में Rs. 800 और 4 वर्ष में Rs. 900 हो जाती है। वह धनराशि है:

- Ans
- 1. Rs.600
 - 2. Rs.800
 - 3. Rs.500
 - 4. Rs.700

Question Type : MCQ

Question ID : 264330133746

Option 1 ID : 264330524008

Option 2 ID : 264330524010

Option 3 ID : 264330524007

Option 4 ID : 264330524009

Status : Answered

Chosen Option : 3

Q.9 Rs. 60000 पर 4% वार्षिक चक्रवृद्धि ब्याज Rs. 4896 होता है। वर्षों में समय अवधि कितनी है?

- Ans
- 1. 2 वर्ष
 - 2. 4 वर्ष
 - 3. 1 वर्ष
 - 4. 3 वर्ष

Question Type : MCQ

Question ID : 264330133847

Option 1 ID : 264330524412

Option 2 ID : 264330524414

Option 3 ID : 264330524411

Option 4 ID : 264330524413

Status : Answered

Chosen Option : 1

Q.10 $\frac{5}{33}$, $\frac{25}{11}$, $\frac{20}{55}$ और $\frac{15}{77}$ का लघुत्तम समापवर्त्य (LCM) है:

- Ans
- 1. 300/11
 - 2. 25/33
 - 3. 500/11
 - 4. 300/77

Question Type : MCQ

Question ID : 264330135110

Option 1 ID : 264330529375

Option 2 ID : 264330529376

Option 3 ID : 264330529377

Option 4 ID : 264330529378

Status : Answered

Chosen Option : 1

Q.11 10 संख्याओं का योग 686 है। उनका औसत क्या है?

Ans ✓ 1. 68.6

✗ 2. 66.6

✗ 3. 65.5

✗ 4. 67.5

Question Type : MCQ

Question ID : 264330133838

Option 1 ID : 264330524377

Option 2 ID : 264330524378

Option 3 ID : 264330524376

Option 4 ID : 264330524375

Status : Answered

Chosen Option : 1

Q.12 एक ठोस धात्विक गोले की त्रिज्या 28 cm है। यदि इसे पिघलाकर 3.5 cm त्रिज्या के छोटे-छोटे गोले बनाए जाएँ, तो कितने छोटे गोले बनेंगे?

Ans ✓ 1. 512

✗ 2. 424

✗ 3. 496

✗ 4. 624

Question Type : MCQ

Question ID : 264330137616

Option 1 ID : 264330539071

Option 2 ID : 264330539074

Option 3 ID : 264330539073

Option 4 ID : 264330539072

Status : Answered

Chosen Option : 1

Q.13 निम्न तालिका में एक कंपनी द्वारा दो वर्षों में विभिन्न देशों में किए गए उत्पादों के निर्यात (सौ में) को दर्शाया गया है। दोनों वर्षों में मिलाकर रूस और भारत के उत्पादों का कुल निर्यात ज्ञात कीजिए।

| Countries | Export in 2018 | Export in 2019 |
|-----------|----------------|----------------|
| China | 440 | 400 |
| India | 320 | 280 |
| Japan | 340 | 330 |
| Australia | 480 | 460 |
| Korea | 210 | 260 |
| Russia | 180 | 190 |

Countries = देश, Export in 2018 = 2018 में निर्यात, Export in 2019 = 2019 में निर्यात

China = चीन, India = भारत, Japan = जापान, Australia = ऑस्ट्रेलिया, Korea = कोरिया, Russia = रूस

- Ans
- 1. 96,000
 - 2. 99,000
 - 3. 88,000
 - 4. 97,000

Question Type : MCQ

Question ID : 264330133771

Option 1 ID : 264330524110

Option 2 ID : 264330524108

Option 3 ID : 264330524107

Option 4 ID : 264330524109

Status : Answered

Chosen Option : 4

Q.14 महामारी फैलने के कारण एक शहर की आबादी 156940 से घटकर 141246 हो गई। आबादी में कितने प्रतिशत की कमी हुई है?

- Ans
- 1. 8%
 - 2. 10%
 - 3. 15%
 - 4. 12%

Question Type : MCQ

Question ID : 264330133840

Option 1 ID : 264330524383

Option 2 ID : 264330524384

Option 3 ID : 264330524386

Option 4 ID : 264330524385

Status : Answered

Chosen Option : 2

Q.15 राम, तीन समान दूरियों के लिए 15 km/hr, 10 km/hr और 12 km/hr की चाल से यात्रा करता है। यदि उसके द्वारा तय की गई कुल दूरी 180 km है, तो उसकी औसत चाल क्या है?

- Ans
- 1. 18 km/hr
 - 2. 12 km/hr
 - 3. 15 km/hr
 - 4. 20 km/hr

Question Type : MCQ

Question ID : 264330135135

Option 1 ID : 264330529477

Option 2 ID : 264330529476

Option 3 ID : 264330529475

Option 4 ID : 264330529478

Status : Answered

Chosen Option : 2

Q.16 महेश और सुरेश अकेले किसी कार्य को क्रमशः 20 दिन और 30 दिन में पूरा कर सकते हैं। साथ मिलकर कार्य पूरा करने के लिए उन्हें Rs. 3300 मिले। इसमें महेश का हिस्सा कितना है?

- Ans
- 1. Rs. 1720
 - 2. Rs. 2080
 - 3. Rs. 1800
 - 4. Rs. 1980

Question Type : MCQ

Question ID : 264330137603

Option 1 ID : 264330539019

Option 2 ID : 264330539022

Option 3 ID : 264330539020

Option 4 ID : 264330539021

Status : Answered

Chosen Option : 4

Q.17 जब कोई धनराशि 50 बच्चों में समान रूप से वितरित की गई, तो प्रत्येक बच्चे को Rs. 80 प्राप्त हुए। यदि समान राशि को बच्चों के दूसरे समूह में समान रूप से इस प्रकार वितरित किया जाए कि प्रत्येक बच्चे को Rs. 50 प्राप्त हों, तो दूसरे समूह में बच्चों की संख्या कितनी है?

- Ans
- 1. 60
 - 2. 50
 - 3. 80
 - 4. 40

Question Type : MCQ

Question ID : 264330133845

Option 1 ID : 264330524405

Option 2 ID : 264330524404

Option 3 ID : 264330524406

Option 4 ID : 264330524403

Status : Answered

Chosen Option : 3

Q.18 एक दुकानदार Rs. 5000 में सूचीबद्ध एक डाइनिंग-सेट को 20% और 10% के क्रमागत बट्टों पर एक आदमी को बेचता है। डाइनिंग सेट का विक्रय मूल्य क्या है?

- Ans 1. Rs. 3600
 2. Rs. 1000
 3. Rs. 4000
 4. Rs. 4800

Question Type : MCQ

Question ID : 264330133843

Option 1 ID : 264330524396

Option 2 ID : 264330524397

Option 3 ID : 264330524395

Option 4 ID : 264330524398

Status : Answered

Chosen Option : 1

Q.19 18 cm त्रिज्या वाले एक गोले को पिघलाया जाता है और फिर इससे 4 cm आधार त्रिज्या का एक ठोस बेलन बनाया जाता है। ठोस बेलन की ऊँचाई कितनी है?

- Ans 1. 384 cm
 2. 486 cm
 3. 196 cm
 4. 224 cm

Question Type : MCQ

Question ID : 264330133646

Option 1 ID : 264330523607

Option 2 ID : 264330523609

Option 3 ID : 264330523608

Option 4 ID : 264330523610

Status : Answered

Chosen Option : 2

Q.20 एक वस्तु के क्रय मूल्य का 40 प्रतिशत उसके विक्रय मूल्य के 25 प्रतिशत के बराबर है। वस्तु पर लाभ प्रतिशत क्या है?

- Ans 1. 120 प्रतिशत
 2. 60 प्रतिशत
 3. 150 प्रतिशत
 4. 50 प्रतिशत

Question Type : MCQ

Question ID : 264330137137

Option 1 ID : 264330537192

Option 2 ID : 264330537193

Option 3 ID : 264330537194

Option 4 ID : 264330537191

Status : Answered

Chosen Option : 2

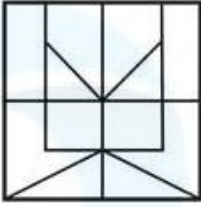
Q.1 उस विकल्प आकृति को चुनिए जिसमें दी गई आकृति (X) इसके भाग के रूप में निहित है। (घूर्णन की अनुमति नहीं है)।



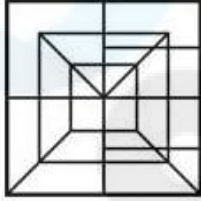
(X)

Ans

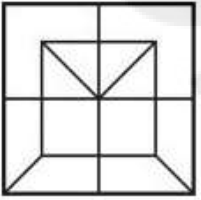
✗ 1.



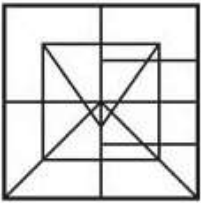
✓ 2.



✗ 3.



✗ 4.



Question Type : MCQ

Question ID : 264330133483

Option 1 ID : 264330522964

Option 2 ID : 264330522966

Option 3 ID : 264330522963

Option 4 ID : 264330522965

Status : Answered

Chosen Option : 2

Q.2 पाँच मित्र A, B, G, R और T को एक पंक्ति में उत्तर की ओर मुख करके बैठाया गया है, परंतु जरूरी नहीं है कि वे इसी क्रम में बैठें हों। B पंक्ति के बाएँ छोर पर बैठा है। A और G के बीच केवल दो व्यक्ति बैठे हैं। A, B के ठीक बगल में बैठा है और R, B के दाएँ से दूसरे स्थान पर बैठा है। R और G के बीच कौन बैठा है?

Ans ✓ 1. T

✗ 2. B

✗ 3. A

✗ 4. कोई भी नहीं

Question Type : MCQ

Question ID : 264330133567

Option 1 ID : 264330523293

Option 2 ID : 264330523291

Option 3 ID : 264330523294

Option 4 ID : 264330523292

Status : Answered

Chosen Option : 4

Q.3 उस समुच्चय को चुनिए जिसमें संख्याएँ उसी प्रकार संबंधित हैं जिस प्रकार निम्नलिखित समुच्चयों की संख्याएँ संबंधित हैं। (ध्यान दें: संख्याओं को उनके घटक अंकों में अलग-अलग किए बिना, पूर्ण संख्याओं पर संक्रियाएँ की जानी चाहिए। उदाहरण 13 - 13 पर संक्रियाएँ जैसे 13 को जोड़ना / घटाना / गुणा करना आदि किया जा सकता है। 13 को 1 एवं 3 में अलग करने की और फिर 1 एवं 3 पर गणितीय संक्रियाएँ करने की अनुमति नहीं है)
(17, 35, 72)
(13, 27, 56)

- Ans
- 1. (11, 24, 50)
 - 2. (12, 25, 50)
 - 3. (18, 36, 110)
 - 4. (15, 31, 64)

Question Type : MCQ
Question ID : 264330133575
Option 1 ID : 264330523325
Option 2 ID : 264330523326
Option 3 ID : 264330523324
Option 4 ID : 264330523323
Status : Answered
Chosen Option : 4

Q.4 उस विकल्प को चुनिए जो तीसरी संख्या से ठीक उसी प्रकार संबंधित है जिस प्रकार दूसरी संख्या पहली संख्या से संबंधित है।
12 : 1730 :: 9 : ?

- Ans
- 1. 731
 - 2. 730
 - 3. 741
 - 4. 733

Question Type : MCQ
Question ID : 264330133574
Option 1 ID : 264330523320
Option 2 ID : 264330523319
Option 3 ID : 264330523322
Option 4 ID : 264330523321
Status : Answered
Chosen Option : 1

Q.5 दी गई श्रृंखला में निम्नलिखित में से कौन-सी संख्या प्रश्न चिन्ह (?) के स्थान पर आएगी?
47, 37, 29, 23, 19, ?

- Ans
- 1. 14
 - 2. 15
 - 3. 16
 - 4. 17

Question Type : MCQ
Question ID : 264330133572
Option 1 ID : 264330523313
Option 2 ID : 264330523314
Option 3 ID : 264330523312
Option 4 ID : 264330523311
Status : Answered
Chosen Option : 4

Q.6 दी गई श्रृंखला में निम्नलिखित में से कौन-सी संख्या प्रश्न चिन्ह (?) के स्थान पर आएगी?
53, 54, 50, 59, 43, ?

- Ans
- 1. 18
 - 2. 61
 - 3. 58
 - 4. 68

Question Type : MCQ
Question ID : 264330133573
Option 1 ID : 264330523318
Option 2 ID : 264330523317
Option 3 ID : 264330523315
Option 4 ID : 264330523316
Status : Answered
Chosen Option : 4

Q.7 उस विकल्प को चुनिए जो तीसरे शब्द से ठीक उसी प्रकार संबंधित है जिस प्रकार दूसरा शब्द पहले शब्द से संबंधित है।
लैटिन : भाषा :: तलवारबाजी : ?

- Ans
- 1. स्थान
 - 2. खेल
 - 3. बीमारी
 - 4. वाहन

Question Type : MCQ
Question ID : 264330133563
Option 1 ID : 264330523278
Option 2 ID : 264330523275
Option 3 ID : 264330523277
Option 4 ID : 264330523276
Status : Answered
Chosen Option : 2

Q.8 उस विकल्प को चुनिए जो तीसरे शब्द से ठीक उसी प्रकार संबंधित है जिस प्रकार दूसरा शब्द पहले शब्द से संबंधित है।
बिल्ली : म्याऊँ :: पक्षी : ?

- Ans
- 1. कलरव (Chirp)
 - 2. फुफकार (Hiss)
 - 3. गुरीना (Growl)
 - 4. हिनहिनाना (Neigh)

Question Type : MCQ
Question ID : 264330133562
Option 1 ID : 264330523272
Option 2 ID : 264330523271
Option 3 ID : 264330523273
Option 4 ID : 264330523274
Status : Answered
Chosen Option : 1

Q.9 किसी एक खास कूट भाषा में, 'SLEEP' को 'TLEEQ' लिखा जाता है। उस भाषा में 'DROWSY' को कैसे लिखा जाएगा?

- Ans
- ✓ 1. EROWSZ
 - ✗ 2. ERWOSZ
 - ✗ 3. ERWOZS
 - ✗ 4. ROWSZQ

Question Type : MCQ

Question ID : 264330133451

Option 1 ID : 264330522837

Option 2 ID : 264330522836

Option 3 ID : 264330522838

Option 4 ID : 264330522835

Status : Answered

Chosen Option : 1

Q.10 दी गई आकृति के उस सही दर्पण प्रतिबिंब को चुनिए, जो नीचे दर्शाए गए अनुसार दर्पण को MN पर रखने पर बनेगा।

9 2 3 t K U

M
|
N

- Ans
- ✗ 1.
 - ✗ 2.
 - ✓ 3.
 - ✗ 4.

Question Type : MCQ

Question ID : 264330133484

Option 1 ID : 264330522969

Option 2 ID : 264330522967

Option 3 ID : 264330522970

Option 4 ID : 264330522968

Status : Answered

Chosen Option : 3

Q.11 किसी एक खास कूट भाषा में, 'MARS' को '51' लिखा जाता है और 'COLD' को '34' लिखा जाता है। उस कूट भाषा में 'ACID' को कैसे लिखा जाएगा?

- Ans
- ✗ 1. 16
 - ✗ 2. 19
 - ✓ 3. 17
 - ✗ 4. 18

Question Type : MCQ

Question ID : 264330133469

Option 1 ID : 264330522908

Option 2 ID : 264330522910

Option 3 ID : 264330522909

Option 4 ID : 264330522907

Status : Answered

Chosen Option : 3

Q.12 दी गई श्रृंखला में निम्नलिखित में से कौन-सा अक्षर समूह प्रश्न चिन्ह (?) के स्थान पर आएगा?
OD, LA, IX, FU, ?

- Ans 1. CR
 2. CS
 3. CT
 4. BR

Question Type : MCQ

Question ID : 264330133561

Option 1 ID : 264330523268

Option 2 ID : 264330523267


Option 3 ID : 264330523270

Option 4 ID : 264330523269

Status : Answered

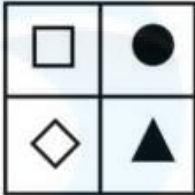
Chosen Option : 1

Q.13 उस विकल्प आकृति को चुनिए जो नीचे दी गई आकृति में पैटर्न को पूरा करने के लिए प्रश्न चिन्ह (?) के स्थान पर आएगी।

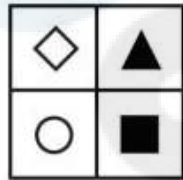


Ans

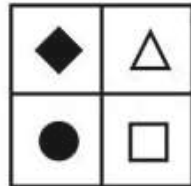
✗ 1.



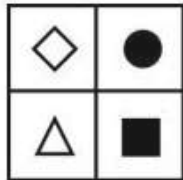
✓ 2.



✗ 3.



✗ 4.



Question Type : MCQ

Question ID : 264330133580

Option 1 ID : 264330523346

Option 2 ID : 264330523343

Option 3 ID : 264330523345

Option 4 ID : 264330523344

Status : Answered

Chosen Option : 2

Q.14 दिए गए समीकरण को सही करने के लिए किन दो चिन्हों को आपस में बदला जाना चाहिए?

$$7 \times 2 + 4 - 6 \div 3 = 12$$

Ans 1. - और =

2. = और ×

3. × और -

4. - और +

Question Type : MCQ

Question ID : 264330133462

Option 1 ID : 264330522881

Option 2 ID : 264330522879

Option 3 ID : 264330522880

Option 4 ID : 264330522882

Status : Answered

Chosen Option : 4

Q.15 एक निश्चित कूट भाषा में, 'CROWNED' को 'OWRCEND' लिखा जाता है। उस भाषा में 'SERGENT' को कैसे लिखा जाएगा?

Ans 1. REGSNET

2. RGESNET

3. REGSENT

4. RGESENT

Question Type : MCQ

Question ID : 264330137564

Option 1 ID : 264330538865

Option 2 ID : 264330538863

Option 3 ID : 264330538864

Option 4 ID : 264330538866

Status : Answered

Chosen Option : 2

Q.16 दो कथन दिए गए हैं और दो निष्कर्ष I और II दिए गए हैं। कथनों को सत्य मानते हुए, चाहे वे सामान्यतः ज्ञात तथ्यों से अलग प्रतीत होते हों, निश्चय कीजिए कि कौन-सा निष्कर्ष तार्किक रूप से कथनों के अनुसार है।

कथन:

कोई खगोलशास्त्री, लंबा नहीं है।

कुछ लंबे, सुंदर हैं।

निष्कर्ष:

I. कुछ खगोलशास्त्री, सुंदर हैं।

II. कोई लंबा, खगोलशास्त्री नहीं है।

Ans 1. न तो निष्कर्ष I और न ही II कथनों के अनुसार है।

2. दोनों निष्कर्ष I और II कथनों के अनुसार हैं।

3. केवल निष्कर्ष II कथनों के अनुसार है।

4. केवल निष्कर्ष I कथनों के अनुसार है।

Question Type : MCQ

Question ID : 264330133570

Option 1 ID : 264330523306

Option 2 ID : 264330523305

Option 3 ID : 264330523304

Option 4 ID : 264330523303

Status : Answered

Chosen Option : 3

Q.17 नीचे दिए गए समीकरण में कौन-से गणितीय चिन्हों को आपस में बदला जाना चाहिए जिससे यह समीकरण गणितीय रूप से सही हो जाएगा?

$$6 \div 48 + 12 \times 9 - 7 = 35$$

Ans 1. \div और $+$

2. \times और $-$

3. \times और $+$

4. \div और \times

Question Type : MCQ

Question ID : 264330133576

Option 1 ID : 264330523328

Option 2 ID : 264330523330

Option 3 ID : 264330523329

Option 4 ID : 264330523327

Status : Answered

Chosen Option : 1

Q.18 Two Statements are given followed by two conclusions numbered I and II. Assuming the statements to be true, even if they seem to be at variance with commonly known facts, decide which of the conclusions logically follow(s) from the statements.

Statements:

All crows are birds.

Some parrots are birds.

Conclusions:

I. No crow is a parrot.

II. Some crows are parrots.

Ans 1. Only conclusion II follows.

2. Only conclusion I follows.

3. Either conclusion I or II follows.

4. Both conclusions I and II follow.

Question Type : MCQ

Question ID : 264330133571

Option 1 ID : 264330523308

Option 2 ID : 264330523307

Option 3 ID : 264330523310

Option 4 ID : 264330523309

Status : Answered

Chosen Option : 3

Q.19 एक परीक्षा भवन में सात छात्र अयान, चंदन, जतिन, कनिका, नैना, पिकी और स्वीटी एक पंक्ति में उत्तर की ओर मुख करके बैठे हैं, परंतु जरूरी नहीं है कि वे इसी क्रम में बैठे हों। चंदन, स्वीटी के दाएँ से तीसरे स्थान पर बैठा है। अयान और पिकी चंदन के निकटतम पड़ोसी हैं। पिकी और स्वीटी के बीच दो से अधिक छात्र बैठे हैं। जतिन नैना का एकमात्र पड़ोसी है। जतिन अयान के दाईं ओर बैठा है। कनिका के सापेक्ष नैना का स्थान कौन-सा है?

- Ans
- 1. दाएँ से तीसरा
 - 2. दाएँ से पाँचवाँ
 - 3. बाएँ से पाँचवाँ
 - 4. बाएँ से तीसरा

Question Type : MCQ
Question ID : 264330133568
Option 1 ID : 264330523295
Option 2 ID : 264330523296
Option 3 ID : 264330523298
Option 4 ID : 264330523297
Status : Answered
Chosen Option : 2

Q.20 पाँच लड़कियाँ अंजली, बीना, चिट्टू, दीक्षा और श्रुति की आयु अलग-अलग हैं। अंजली केवल दीक्षा और श्रुति से छोटी है। श्रुति दीक्षा से छोटी है। चिट्टू सबसे छोटी है। समूह में चौथी सबसे बड़ी कौन है?

- Ans
- 1. दीक्षा
 - 2. बीना
 - 3. चिट्टू
 - 4. श्रुति

Question Type : MCQ
Question ID : 264330133569
Option 1 ID : 264330523302
Option 2 ID : 264330523299
Option 3 ID : 264330523301
Option 4 ID : 264330523300
Status : Answered
Chosen Option : 2

Section : General Awareness

Q.1 National Family Benefit Scheme was started in August _____ by Government of India.

- Ans
- 1. 1995
 - 2. 2000
 - 3. 2005
 - 4. 2002

Question Type : MCQ
Question ID : 264330137748
Option 1 ID : 264330539601
Option 2 ID : 264330539602
Option 3 ID : 264330539600
Option 4 ID : 264330539599
Status : Not Answered
Chosen Option : --

Q.2 सैम की वार्षिक आय 9 लाख रुपए है। वित्त वर्ष 2021-22 की आयकर स्लैब दरों (Income Tax Slab Rates) की नई व्यवस्था के अनुसार उसकी आय पर भारत का कौन-सा टैक्स स्लैब (नई व्यवस्था) लागू होगा?

- Ans
- 1. 15%
 - 2. 10%
 - 3. 20%
 - 4. 5%

Question Type : MCQ

Question ID : 264330133930

Option 1 ID : 264330524745

Option 2 ID : 264330524743

Option 3 ID : 264330524744

Option 4 ID : 264330524746

Status : Answered

Chosen Option : 1

Q.3 भारत के उपराष्ट्रपति का पद कितने वर्षों का होता है?

- Ans
- 1. तीन
 - 2. पाँच
 - 3. चार
 - 4. छः

Question Type : MCQ

Question ID : 264330134052

Option 1 ID : 264330525231

Option 2 ID : 264330525234

Option 3 ID : 264330525232

Option 4 ID : 264330525233

Status : Answered

Chosen Option : 2

Q.4 किस प्रकार के घर्षण को स्वयं-समायोजन बल (self-adjusting force) माना जाता है?

- Ans
- 1. अभिकेंद्र घर्षण
 - 2. लोटनिक घर्षण
 - 3. गतिज घर्षण
 - 4. स्थैतिक घर्षण

Question Type : MCQ

Question ID : 264330134036

Option 1 ID : 264330525169

Option 2 ID : 264330525167

Option 3 ID : 264330525168

Option 4 ID : 264330525170

Status : Answered

Chosen Option : 1

Q.5 पंडित लच्छू महाराज (Pandit Lachhu Maharaj) का संबंध मुख्य रूप से निम्नलिखित में से किस नृत्य से था?

Ans 1. भरतनाट्यम

2. ओडिसी

3. कथक

4. मणिपुरी

Question Type : MCQ

Question ID : 264330134033

Option 1 ID : 264330525157

Option 2 ID : 264330525156

Option 3 ID : 264330525155

Option 4 ID : 264330525158

Status : Answered

Chosen Option : 3

Q.6 मई 2022 तक, भारत में चीनी का सबसे बड़ा उत्पादक राज्य कौन-सा है?

Ans 1. महाराष्ट्र

2. तमिलनाडु

3. उत्तरप्रदेश

4. तेलंगाना

Question Type : MCQ

Question ID : 264330133915

Option 1 ID : 264330524684

Option 2 ID : 264330524685

Option 3 ID : 264330524683

Option 4 ID : 264330524686

Status : Answered

Chosen Option : 1

Q.7 SAI भारत की सर्वोच्च राष्ट्रीय खेल संस्था है। SAI का पूर्ण रूप क्या है?

Ans 1.

स्पोर्ट्स एकेडमी ऑफ इंडिया (Sports Academy of India)

2.

स्पोर्ट्स अथॉरिटी ऑफ इंडिया (Sports Authority of India)

3.

स्पोर्ट्स एसोसिएशन ऑफ इंडिया (Sports Association of India)

4. स्पोर्ट्स एजेंसी ऑफ इंडिया (Sports Agency of India)

Question Type : MCQ

Question ID : 264330134053

Option 1 ID : 264330525236

Option 2 ID : 264330525237

Option 3 ID : 264330525238

Option 4 ID : 264330525235

Status : Answered

Chosen Option : 2

Q.8 2022 शीतकालीन ओलंपिक की मेजबानी किस शहर ने की है?

- Ans
- 1. मेलबर्न
 - 2. बीजिंग
 - 3. टोक्यो
 - 4. मिलान

Question Type : MCQ

Question ID : 264330134054

Option 1 ID : 264330525240

Option 2 ID : 264330525241

Option 3 ID : 264330525242

Option 4 ID : 264330525239

Status : Answered

Chosen Option : 2

Q.9 भारत के किस स्वतंत्रता सेनानी ने लखनऊ में 1857 के प्रसिद्ध विद्रोह (सिपाही विद्रोह) का नेतृत्व किया था?

- Ans
- 1. बेगम हजरत महल
 - 2. अल्लूरी सीताराम राजू
 - 3. रानी लक्ष्मी बाई
 - 4. कस्तूरबा गांधी

Question Type : MCQ

Question ID : 264330133921

Option 1 ID : 264330524709

Option 2 ID : 264330524708

Option 3 ID : 264330524707

Option 4 ID : 264330524710

Status : Answered

Chosen Option : 1

Q.10 गणगौर एक भारतीय त्योहार है जो प्रमुख रूप से _____ में मनाया जाता है।

- Ans
- 1. राजस्थान
 - 2. हिमाचल प्रदेश
 - 3. त्रिपुरा
 - 4. अरुणाचल प्रदेश

Question Type : MCQ

Question ID : 264330133934

Option 1 ID : 264330524760

Option 2 ID : 264330524761

Option 3 ID : 264330524759

Option 4 ID : 264330524762

Status : Answered

Chosen Option : 1

Q.11 भागीरथी नदी का उद्गम गौमुख हिमनद से होता है। यह देवप्रयाग में अलकनंदा से मिलकर _____ नदी बनाती है।

- Ans
- 1. रावी
 - 2. सरस्वती
 - 3. गंगा
 - 4. यमुना

Question Type : MCQ

Question ID : 264330134041

Option 1 ID : 264330525188

Option 2 ID : 264330525189

Option 3 ID : 264330525190

Option 4 ID : 264330525187

Status : Answered

Chosen Option : 3

Q.12 अक्टूबर 2022 में प्रधानमंत्री नरेंद्र मोदी द्वारा शुरू की गई "वन नेशन वन फर्टिलाइजर (One Nation One Fertilizer)" योजना के तहत उस ब्रांड का नाम बताइए जिसके तहत ये सभी उर्वरक बेचे जाएंगे?

- Ans
- 1. भारती (Bharti)
 - 2. भारतीय (Bhartiya)
 - 3. भारत (Bharat)
 - 4. भारतवासी (Bharatwasi)

Question Type : MCQ

Question ID : 264330134031

Option 1 ID : 264330525150

Option 2 ID : 264330525148

Option 3 ID : 264330525147

Option 4 ID : 264330525149

Status : Answered

Chosen Option : 2

Q.13 21वीं सदी के किस प्रसिद्ध भारतीय लेखक ने 'मेलूहा के मृत्युंजय (शिव रचना त्रय) (The Immortals of Meluha (Shiva Trilogy))' उपन्यास लिखा था?

- Ans
- 1. शशि थरूर
 - 2. दुर्जोय दत्ता
 - 3. रविंदर सिंह
 - 4. अमीश त्रिपाठी

Question Type : MCQ

Question ID : 264330133923

Option 1 ID : 264330524716

Option 2 ID : 264330524717

Option 3 ID : 264330524715

Option 4 ID : 264330524718

Status : Answered

Chosen Option : 4

Q.14 अल्लूरी सीताराम राजू भारत के _____ राज्य के एक आदिवासी स्वतंत्रता सेनानी थे।

- Ans
- ✓ 1. आंध्रप्रदेश
 - ✗ 2. महाराष्ट्र
 - ✗ 3. गुजरात
 - ✗ 4. बिहार

Question Type : MCQ
Question ID : 264330133947
Option 1 ID : 264330524811
Option 2 ID : 264330524812
Option 3 ID : 264330524814
Option 4 ID : 264330524813
Status : Answered
Chosen Option : 1

Q.15 किसने भरतनाट्यम में 'पंडानल्लूर (Pandanallur) शैली' को लोकप्रिय बनाया और 2004 में पद्म भूषण प्राप्त किया?

- Ans
- ✗ 1. माधुरी दीक्षित
 - ✗ 2. कुमारी कमला (Kumari Kamala)
 - ✗ 3. मल्लिका साराभाई (Mallika Sarabhai)
 - ✓ 4. अलारमेल वल्ली (Alarmel Valli)

Question Type : MCQ
Question ID : 264330133925
Option 1 ID : 264330524724
Option 2 ID : 264330524723
Option 3 ID : 264330524725
Option 4 ID : 264330524726
Status : Answered
Chosen Option : 2

Q.16 _____ is the division of the cytoplasm of one eukaryotic cell into two daughter cells.

- Ans
- ✗ 1. Genesis
 - ✗ 2. Karyokinesis
 - ✗ 3. Sepsis
 - ✓ 4. Cytokinesis

Question Type : MCQ
Question ID : 264330134037
Option 1 ID : 264330525173
Option 2 ID : 264330525171
Option 3 ID : 264330525174
Option 4 ID : 264330525172
Status : Answered
Chosen Option : 4

Q.17 विंड वेन (Wind vane) यंत्र _____ निर्धारित करता है।

- Ans
- 1. सापेक्षिक आर्द्रता
 - 2. पवन का वेग
 - 3. ताप
 - 4. पवन की दिशा

Question Type : MCQ
Question ID : 264330134039
Option 1 ID : 264330525181
Option 2 ID : 264330525180
Option 3 ID : 264330525182
Option 4 ID : 264330525179
Status : Answered
Chosen Option : 4

Q.18 उस्ताद बिस्मिल्लाह खां _____ के सबसे महान प्रतिपादकों में से एक थे।

- Ans
- 1. सितार
 - 2. शहनाई
 - 3. तबला
 - 4. बांसुरी

Question Type : MCQ
Question ID : 264330134049
Option 1 ID : 264330525222
Option 2 ID : 264330525221
Option 3 ID : 264330525220
Option 4 ID : 264330525219
Status : Answered
Chosen Option : 2

Q.19 भारतीय अंटार्कटिक विधेयक, 2022 भारत के _____ मंत्रालय से संबंधित है।

- Ans
- 1. विदेशी मामले
 - 2. पृथ्वी विज्ञान
 - 3. कानून और न्याय
 - 4. जनजातीय मामले

Question Type : MCQ
Question ID : 264330133907
Option 1 ID : 264330524651
Option 2 ID : 264330524653
Option 3 ID : 264330524654
Option 4 ID : 264330524652
Status : Answered
Chosen Option : 2

Q.20 भारतीय संविधान का कौन-सा अनुच्छेद समान नागरिक संहिता (uniform civil code) की बात करता है?

Ans

- ✓ 1. अनुच्छेद 44
- ✗ 2. अनुच्छेद 352
- ✗ 3. अनुच्छेद 370
- ✗ 4. अनुच्छेद 14

Question Type : MCQ

Question ID : 264330134051

Option 1 ID : 264330525228

Option 2 ID : 264330525230

Option 3 ID : 264330525229

Option 4 ID : 264330525227

Status : Answered

Chosen Option : 1

Q.21 कौन-सा भारतीय राज्य बौद्ध गुफा मंदिरों का घर है, जिन्हें बराबर गुफाओं (Barabar Caves) के नाम से जाना जाता है?

Ans

- ✗ 1. पश्चिम बंगाल
- ✓ 2. बिहार
- ✗ 3. उत्तरप्रदेश
- ✗ 4. सिक्किम

Question Type : MCQ

Question ID : 264330133910

Option 1 ID : 264330524665

Option 2 ID : 264330524663

Option 3 ID : 264330524664

Option 4 ID : 264330524666

Status : Answered

Chosen Option : 2

Q.22 निम्नलिखित में से कौन(130-150 ई.) भारत में एक शक शासक था?

Ans

- ✗ 1. पांडुका
- ✗ 2. बिन्दुसार
- ✓ 3. रुद्रदामन
- ✗ 4. चशताना

Question Type : MCQ

Question ID : 264330133944

Option 1 ID : 264330524800

Option 2 ID : 264330524799

Option 3 ID : 264330524801

Option 4 ID : 264330524802

Status : Not Answered

Chosen Option : --

Q.23 विभिन्न स्तरों पर विभिन्न प्रजातियों के ऊर्ध्वाधर वितरण (Vertical distribution) को _____ कहते हैं।

- Ans
- 1. अपघटन (decomposition)
 - 2. जैव आवर्धन (biomagnification)
 - 3. सहविकास (coevolution)
 - 4. स्तर विन्या (stratification)

Question Type : MCQ
Question ID : 264330134038
Option 1 ID : 264330525177
Option 2 ID : 264330525176
Option 3 ID : 264330525178
Option 4 ID : 264330525175
Status : Answered
Chosen Option : 4

Q.24 वर्ष 2011 की जनगणना के अनुसार, भारत में शहरी जनसंख्या का प्रतिशत _____ है।

- Ans
- 1. 31.16
 - 2. 35.6
 - 3. 21.6
 - 4. 25.6

Question Type : MCQ
Question ID : 264330133900
Option 1 ID : 264330524625
Option 2 ID : 264330524626
Option 3 ID : 264330524623
Option 4 ID : 264330524624
Status : Answered
Chosen Option : 3

Q.25 निम्नलिखित में से कौन मुगल बादशाह शाहजहाँ का पुत्र था?

- Ans
- 1. सिकंदर लोधी
 - 2. जहाँगीर
 - 3. हुमायूँ
 - 4. औरंगज़ेब

Question Type : MCQ
Question ID : 264330134045
Option 1 ID : 264330525205
Option 2 ID : 264330525206
Option 3 ID : 264330525203
Option 4 ID : 264330525204
Status : Answered
Chosen Option : 4

Q.1 Select the most appropriate option to fill in the blank.
Disturbing emotions begin to build into fear, and then _____.

- Ans**
- 1. boldness
 - 2. server
 - 3. assurance
 - 4. terror

Question Type : **MCQ**
Question ID : **264330134422**
Option 1 ID : **264330526665**
Option 2 ID : **264330526666**
Option 3 ID : **264330526663**
Option 4 ID : **264330526664**
Status : **Answered**
Chosen Option : **4**

Q.2 Select the most appropriate option to substitute the bracketed segment in the given sentence. If there is no need to substitute it, select 'no substitution required'.
The Yoruba was (one of the west African city-state culture).

- Ans**
- 1. No substitution required
 - 2. one of a west African city-state cultures
 - 3. one of the west's African city-state culture
 - 4. one of the west African city-state cultures

Question Type : **MCQ**
Question ID : **264330136087**
Option 1 ID : **264330533162**
Option 2 ID : **264330533160**
Option 3 ID : **264330533161**
Option 4 ID : **264330533159**
Status : **Answered**
Chosen Option : **4**

Q.3 Choose the word that means the same as the given word.
Consecutive

- Ans**
- 1. Executive
 - 2. Important
 - 3. Organized
 - 4. Successive

Question Type : **MCQ**
Question ID : **264330134441**
Option 1 ID : **264330526735**
Option 2 ID : **264330526736**
Option 3 ID : **264330526738**
Option 4 ID : **264330526737**
Status : **Answered**
Chosen Option : **4**

Q.4 In the following question, out of the given four alternatives, select the alternative which best expresses the meaning of the Idiom/Phrase.
To scratch one's head

- Ans
- 1. To come up with an idea
 - 2. To think hard in a puzzled way
 - 3. To lose all the wealth
 - 4. To think about good days

Question Type : **MCQ**
Question ID : **264330134522**
Option 1 ID : **264330527050**
Option 2 ID : **264330527047**
Option 3 ID : **264330527048**
Option 4 ID : **264330527049**
Status : **Answered**
Chosen Option : **1**

Q.5 Choose the sentence with no spelling error.

- Ans
- 1. You are going to figure out everything.
 - 2. You are going to figrue out everything.
 - 3. You are going to figure out everything.
 - 4. You are going to figre out everything.

Question Type : **MCQ**
Question ID : **264330134421**
Option 1 ID : **264330526661**
Option 2 ID : **264330526662**
Option 3 ID : **264330526660**
Option 4 ID : **264330526659**
Status : **Answered**
Chosen Option : **3**

Q.6 Select the appropriate synonym for the underlined word.
The story shows the importance of self-esteem.

- Ans
- 1. pride
 - 2. humility
 - 3. disgrace
 - 4. shyness

Question Type : **MCQ**
Question ID : **264330134518**
Option 1 ID : **264330527031**
Option 2 ID : **264330527034**
Option 3 ID : **264330527033**
Option 4 ID : **264330527032**
Status : **Answered**
Chosen Option : **1**

Q.7 Choose the incorrectly spelt word.

- Ans
- 1. Molest
 - 2. Called
 - 3. Reflect
 - 4. Temparory

Question Type : MCQ
Question ID : 264330134524
Option 1 ID : 264330527058
Option 2 ID : 264330527057
Option 3 ID : 264330527056
Option 4 ID : 264330527055
Status : Answered
Chosen Option : 4

Q.8 A sentence has been given with a blank to be filled with an appropriate option. Choose the correct alternative.

I bowed to him, but he _____ not to see me.

- Ans
- 1. seems
 - 2. seeming
 - 3. seemed
 - 4. seemingly

Question Type : MCQ
Question ID : 264330134508
Option 1 ID : 264330526996
Option 2 ID : 264330526998
Option 3 ID : 264330526995
Option 4 ID : 264330526997
Status : Answered
Chosen Option : 3

Q.9 Improve the underlined part of the sentence. Choose 'No improvement' as an answer if the sentence is grammatically correct.

The Tagore House is rehearsing a skit for the school's Annual Day Function.

- Ans
- 1. was rehearse a skit
 - 2. No improvement
 - 3. is rehearsed an skit
 - 4. has been rehearsing a skits

Question Type : MCQ
Question ID : 264330134507
Option 1 ID : 264330526992
Option 2 ID : 264330526994
Option 3 ID : 264330526991
Option 4 ID : 264330526993
Status : Answered
Chosen Option : 4

Q.10 Select the most appropriate option to fill in the blank.
The researcher team took air _____ from the room every five minutes to rule out the possibility of a virus.

- Ans 1. samples
 2. droops
 3. slices
 4. instances

Question Type : MCQ
Question ID : 264330134527
Option 1 ID : 264330527067
Option 2 ID : 264330527070
Option 3 ID : 264330527069
Option 4 ID : 264330527068
Status : Answered
Chosen Option : 1

Q.11 Choose the word that can substitute the given group of words.
A person who does not believe in God

- Ans 1. Iconoclast
 2. Highbrow
 3. Atheist
 4. Lecher

Question Type : MCQ
Question ID : 264330134516
Option 1 ID : 264330527024
Option 2 ID : 264330527026
Option 3 ID : 264330527023
Option 4 ID : 264330527025
Status : Answered
Chosen Option : 3

Q.12 Select the appropriate antonym for the underlined word.
I stare out into the really amazingly dark night.

- Ans 1. unusually
 2. obviously
 3. shockingly
 4. astonishingly

Question Type : MCQ
Question ID : 264330134521
Option 1 ID : 264330527046
Option 2 ID : 264330527044
Option 3 ID : 264330527045
Option 4 ID : 264330527043
Status : Answered
Chosen Option : 2

Q.13 A sentence has been given with a blank to be filled with an appropriate option. Choose the correct alternative.
Meteorologists are still _____ to understand sting jets.

- Ans
- 1. works
 - 2. on work
 - 3. worked
 - 4. working

Question Type : **MCQ**
Question ID : **264330134431**
Option 1 ID : **264330526699**
Option 2 ID : **264330526701**
Option 3 ID : **264330526702**
Option 4 ID : **264330526700**
Status : **Answered**
Chosen Option : **4**

Q.14 In the following question, out of the given four alternatives, select the alternative which best expresses the meaning of the Idiom/Phrase.
Know the ropes

- Ans
- 1. To reveal a secret
 - 2. To fight without any reason
 - 3. To understand the details
 - 4. To break the rules

Question Type : **MCQ**
Question ID : **264330134523**
Option 1 ID : **264330527054**
Option 2 ID : **264330527053**
Option 3 ID : **264330527051**
Option 4 ID : **264330527052**
Status : **Answered**
Chosen Option : **3**

Q.15 Choose the word that is opposite in meaning to the given word.
Surrender

- Ans
- 1. Waive
 - 2. Stay
 - 3. Withstand
 - 4. Calm

Question Type : **MCQ**
Question ID : **264330134390**
Option 1 ID : **264330526542**
Option 2 ID : **264330526539**
Option 3 ID : **264330526541**
Option 4 ID : **264330526540**
Status : **Answered**
Chosen Option : **1**

Q.16 Identify the segment that contains a grammatical error. If there is no error, select 'No error'.

Her evaluation will give / me a best indication of / where I stand in the class.

- Ans
- 1. Her evaluation will give
 - 2. me a best indication of
 - 3. where I stand in the class.
 - 4. No error

Question Type : MCQ

Question ID : 264330136084

Option 1 ID : 264330533147

Option 2 ID : 264330533148

Option 3 ID : 264330533149

Option 4 ID : 264330533150

Status : Answered

Chosen Option : 2

Q.17 Find the part of the given sentence that has an error in it. If there is no error, choose 'No error'.

Their should be Lokpal to check corruption by the bureaucrats and politicians.

- Ans
- 1. No error
 - 2. the bureaucrats and politicians.
 - 3. check corruption by
 - 4. Their should be Lokpal to

Question Type : MCQ

Question ID : 264330134504

Option 1 ID : 264330526982

Option 2 ID : 264330526981

Option 3 ID : 264330526980

Option 4 ID : 264330526979

Status : Answered

Chosen Option : 2

Q.18 Find the part of the given sentence that has an error in it. If there is no error, choose 'No error'.

Can you please pass me that glittery pen black?

- Ans
- 1. pass me that
 - 2. glittery pen black?
 - 3. No error
 - 4. Can you please

Question Type : MCQ

Question ID : 264330134321

Option 1 ID : 264330526276

Option 2 ID : 264330526277

Option 3 ID : 264330526278

Option 4 ID : 264330526275

Status : Answered

Chosen Option : 2

Q.19 Improve the underlined part of the sentence. Choose 'No improvement' as an answer if the sentence is grammatically correct.
The teacher let the students choose there essay topics.

- Ans
- 1. has choose their
 - 2. No improvement
 - 3. choose their
 - 4. chosen there

Question Type : **MCQ**
Question ID : **264330134401**
Option 1 ID : **264330526584**
Option 2 ID : **264330526586**
Option 3 ID : **264330526583**
Option 4 ID : **264330526585**
Status : **Answered**
Chosen Option : **3**

Q.20 Choose the word that can substitute the given group of words.
Someone who knows a lot about the arts, food, drink, or some other subject

- Ans
- 1. Connoisseur
 - 2. Gourmand
 - 3. Cynic
 - 4. Pacifist

Question Type : **MCQ**
Question ID : **264330134517**
Option 1 ID : **264330527027**
Option 2 ID : **264330527029**
Option 3 ID : **264330527028**
Option 4 ID : **264330527030**
Status : **Answered**
Chosen Option : **2**

Comprehension:

In the following passage some of the words have been deleted. Read the passage carefully and select the correct answer for the given blank out of the four alternatives.

With Halloween only (1) _____ days away, I thought this was a perfect time to talk (2) _____ Zombies. For years, zombies have dominated science (3) _____. These creatures, the walking dead, don't (4) _____ exist, right? Wrong! There are in fact several very real life diseases that could and can make you (5) _____ like a zombie.

SubQuestion No : 21

Q.21 Select the most appropriate option to fill in blank number 1.

- Ans
- 1. a little
 - 2. a few
 - 3. much
 - 4. little

Question Type : **MCQ**
Question ID : **264330134381**
Option 1 ID : **264330526506**
Option 2 ID : **264330526503**
Option 3 ID : **264330526505**
Option 4 ID : **264330526504**
Status : **Answered**
Chosen Option : **2**

Comprehension:

In the following passage some of the words have been deleted. Read the passage carefully and select the correct answer for the given blank out of the four alternatives.

With Halloween only (1) _____ days away, I thought this was a perfect time to talk (2) _____ Zombies. For years, zombies have dominated science (3) _____. These creatures, the walking dead, don't (4) _____ exist, right? Wrong! There are in fact several very real life diseases that could and can make you (5) _____ like a zombie.

SubQuestion No : 22

Q.22 Select the most appropriate option to fill in blank number 2.

Ans 1. about

2. for

3. by

4. of

Question Type : **MCQ**

Question ID : **264330134382**

Option 1 ID : **264330526509**

Option 2 ID : **264330526508**

Option 3 ID : **264330526507**

Option 4 ID : **264330526510**

Status : **Answered**

Chosen Option : **1**

Comprehension:

In the following passage some of the words have been deleted. Read the passage carefully and select the correct answer for the given blank out of the four alternatives.

With Halloween only (1) _____ days away, I thought this was a perfect time to talk (2) _____ Zombies. For years, zombies have dominated science (3) _____. These creatures, the walking dead, don't (4) _____ exist, right? Wrong! There are in fact several very real life diseases that could and can make you (5) _____ like a zombie.

SubQuestion No : 23

Q.23 Select the most appropriate option to fill in blank number 3.

Ans 1. freelance

2. friction

3. fickle

4. fictions

Question Type : **MCQ**

Question ID : **264330134383**

Option 1 ID : **264330526511**

Option 2 ID : **264330526514**

Option 3 ID : **264330526512**

Option 4 ID : **264330526513**

Status : **Answered**

Chosen Option : **1**

Comprehension:

In the following passage some of the words have been deleted. Read the passage carefully and select the correct answer for the given blank out of the four alternatives.

With Halloween only (1) _____ days away, I thought this was a perfect time to talk (2) _____ Zombies. For years, zombies have dominated science (3) _____. These creatures, the walking dead, don't (4) _____ exist, right? Wrong! There are in fact several very real life diseases that could and can make you (5) _____ like a zombie.

SubQuestion No : 24

Q.24 Select the most appropriate option to fill in blank number 4.

- Ans
- 1. manually
 - 2. suddenly
 - 3. gladly
 - 4. actually

Question Type : **MCQ**

Question ID : **264330134384**

Option 1 ID : **264330526517**

Option 2 ID : **264330526515**

Option 3 ID : **264330526518**

Option 4 ID : **264330526516**

Status : **Answered**

Chosen Option : **4**

Comprehension:

In the following passage some of the words have been deleted. Read the passage carefully and select the correct answer for the given blank out of the four alternatives.

With Halloween only (1) _____ days away, I thought this was a perfect time to talk (2) _____ Zombies. For years, zombies have dominated science (3) _____. These creatures, the walking dead, don't (4) _____ exist, right? Wrong! There are in fact several very real life diseases that could and can make you (5) _____ like a zombie.

SubQuestion No : 25

Q.25 Select the most appropriate option to fill in blank number 5.

- Ans
- 1. act
 - 2. slake
 - 3. run
 - 4. state

Question Type : **MCQ**

Question ID : **264330134385**

Option 1 ID : **264330526520**

Option 2 ID : **264330526519**

Option 3 ID : **264330526521**

Option 4 ID : **264330526522**

Status : **Answered**

Chosen Option : **1**