

## Multi Tasking Non Technical Staff and Havaldar CBIC and CBN Examination 2022

Roll Number	
Candidate Name	
Venue Name	iON Digital Zone iDZ 2 Patliputra
Exam Date	15/05/2023
Exam Time	3:30 PM - 5:00 PM
Subject	MTS Non Tech Havaldar CBIC and CBN Examination 2022

Section : Numerical and Mathematical Ability

Q.1  $\frac{126}{39} \times \left( \frac{78}{14} \div \frac{13}{91} \right) - \frac{45}{9}$  का मान क्या है?

- Ans
- 1. 141
  - 2. 123
  - 3. 143
  - 4. 121

Question Type : MCQ

Question ID : 264330139092

Option 1 ID : 264330544977

Option 2 ID : 264330544976

Option 3 ID : 264330544978

Option 4 ID : 264330544975

Status : Answered

Chosen Option : 4

Q.2 A अकेले एक घर को 35 दिनों में पेंट कर सकता है और B अकेले इसे 70 दिनों में कर सकता है। C के साथ, उन्होंने यह कार्य केवल 10 दिनों में कर दिया। C अकेले इस कार्य को कितने दिनों में कर सकता है?

- Ans
- 1. 40 दिन
  - 2. 70/3 दिन
  - 3. 70/4 दिन
  - 4. 20 दिन

Question Type : MCQ

Question ID : 264330138384

Option 1 ID : 264330542146

Option 2 ID : 264330542143

Option 3 ID : 264330542145

Option 4 ID : 264330542144

Status : Answered

Chosen Option : 3

Q.3 A मार्च में अन्य प्रत्येक महीनों की तुलना में दोगुना कमाता है। मार्च में उसकी आय और वार्षिक आय का अनुपात कितना है?

- Ans
- 1. 2 : 7
  - 2. 3 : 8
  - 3. 4 : 9
  - 4. 2 : 13

Question Type : MCQ

Question ID : 264330135074

Option 1 ID : 264330529232

Option 2 ID : 264330529233

Option 3 ID : 264330529234

Option 4 ID : 264330529231

Status : Answered

Chosen Option : 4

Q.4 दो नाव एक नदी में धारा के अनुकूल 35 km/hr और 25 km/hr की चाल से चलती हैं। धारा की चाल 4 km/hr है। प्रारंभ में दोनों नावों के बीच की दूरी 60 km है। यदि दोनों नाव धारा के अनुकूल गति कर रही हैं, तो वे एक-दूसरे से कितने समय में मिलेंगी?

- Ans
- 1. 8 घंटे
  - 2. 13 घंटे
  - 3. 10 घंटे
  - 4. 6 घंटे

Question Type : MCQ

Question ID : 264330135078

Option 1 ID : 264330529249

Option 2 ID : 264330529250

Option 3 ID : 264330529247

Option 4 ID : 264330529248

Status : Answered

Chosen Option : 4

Q.5 4 क्रमागत संख्याओं का औसत 35.5 है। इन संख्याओं में से सबसे बड़ी संख्या ज्ञात कीजिए।

- Ans
- 1. 37
  - 2. 36
  - 3. 39
  - 4. 40

Question Type : MCQ

Question ID : 264330135067

Option 1 ID : 264330529203

Option 2 ID : 264330529205

Option 3 ID : 264330529204

Option 4 ID : 264330529206

Status : Answered

Chosen Option : 1

Q.6 यदि किसी वस्तु का क्रय मूल्य उसके विक्रय मूल्य का 80 प्रतिशत है, तो लाभ प्रतिशत क्या है?

- Ans
- 1. 50 प्रतिशत
  - 2. 33.33 प्रतिशत
  - 3. 25 प्रतिशत
  - 4. 30 प्रतिशत

Question Type : MCQ

Question ID : 264330137328

Option 1 ID : 264330537940

Option 2 ID : 264330537939

Option 3 ID : 264330537942

Option 4 ID : 264330537941

Status : Answered

Chosen Option : 3

Q.7 25 कर्मचारी कार्य को 20 दिनों में पूरा कर सकते हैं। 10 कर्मचारियों को कितने दिनों के बाद कार्य छोड़ देना चाहिए ताकि कार्य 30 दिनों में समाप्त हो?

- Ans
- 1. 3 दिन
  - 2. 5 दिन
  - 3. 6 दिन
  - 4. 7 दिन

Question Type : MCQ

Question ID : 264330135079

Option 1 ID : 264330529251

Option 2 ID : 264330529254

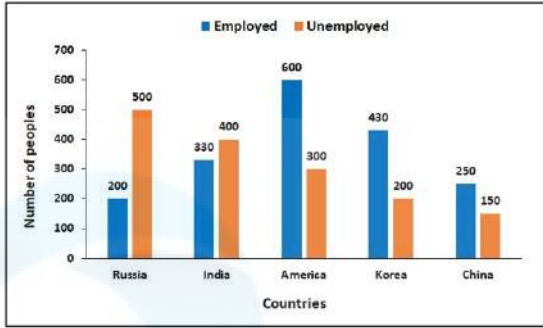
Option 3 ID : 264330529252

Option 4 ID : 264330529253

Status : Answered

Chosen Option : 2

Q.8 निम्न दृढ़ आलेख में 5 अलग-अलग देशों में रोजगार प्राप्त (employed) और बेरोजगार (unemployed) व्यक्तियों की संख्या को दर्शाया गया है। भारत में बेरोजगार व्यक्तियों और रूस में रोजगार प्राप्त व्यक्तियों का अनुपात ज्ञात कीजिए।



Number of People - व्यक्तियों की संख्या, Countries - देश, employed - रोजगार प्राप्त, unemployed - बेरोजगार

Russia - रूस, India - भारत, America - अमेरिका, Korea - कोरिया, China - चीन

- Ans
- 1. 3 : 4
  - 2. 2 : 3
  - 3. 2 : 1
  - 4. 1 : 4

Question Type : MCQ

Question ID : 264330135082

Option 1 ID : 264330529265

Option 2 ID : 264330529264

Option 3 ID : 264330529263

Option 4 ID : 264330529266

Status : Answered

Chosen Option : 3

Q.9 एक रेलगाड़ी 360 km/h की एकसमान चाल से गति कर रही है। 18 मिनट में वह कितनी दूरी तय करेगी?

- Ans
- 1. 108 km
  - 2. 180 km
  - 3. 160 km
  - 4. 200 km

Question Type : MCQ

Question ID : 264330135075

Option 1 ID : 264330529238

Option 2 ID : 264330529236

Option 3 ID : 264330529235

Option 4 ID : 264330529237

Status : Answered

Chosen Option : 1

Q.10 चक्रवृद्धि ब्याज (वार्षिक रूप से संयोजित) पर 16 प्रतिशत की वार्षिक दर से एक वर्ष के लिए एक राशि ऋण पर दी गई थी। यदि चक्रवृद्धि अर्धवार्षिक रूप से की जाती, तो ब्याज में Rs. 64 की वृद्धि होती। ऋण पर दी गई राशि कितनी थी?

- Ans
- 1. Rs. 10000
  - 2. Rs. 6000
  - 3. Rs. 20000
  - 4. Rs. 14000

Question Type : MCQ  
Question ID : 264330137614  
Option 1 ID : 264330539065  
Option 2 ID : 264330539064  
Option 3 ID : 264330539063  
Option 4 ID : 264330539066  
Status : Answered  
Chosen Option : 1

Q.11 Successive discounts of 15% and 30% are equivalent to how much percent of a single discount?

- Ans
- 1. 20.5%
  - 2. 33.33%
  - 3. 52.8%
  - 4. 40.5%

Question Type : MCQ  
Question ID : 264330135073  
Option 1 ID : 264330529227  
Option 2 ID : 264330529229  
Option 3 ID : 264330529228  
Option 4 ID : 264330529230  
Status : Answered  
Chosen Option : 4

Q.12  $\frac{1}{8} \times \left[ \frac{1}{5} \text{ of } \frac{11}{2} \div \left\{ \left( \frac{15}{3} - \frac{18}{6} \right) \right\} \right]$  का मान है:

- Ans
- 1.  $\frac{11}{20}$
  - 2.  $\frac{11}{8}$
  - 3.  $\frac{11}{160}$
  - 4.  $\frac{8}{11}$

Question Type : MCQ  
Question ID : 264330134082  
Option 1 ID : 264330525351  
Option 2 ID : 264330525353  
Option 3 ID : 264330525354  
Option 4 ID : 264330525352  
Status : Answered  
Chosen Option : 3

Q.13 यदि एक ठोस बेलन का वक्र पृष्ठीय क्षेत्रफल इसके कुल पृष्ठीय क्षेत्रफल का  $\frac{2}{5}$  भाग है, तो इसके व्यास और इसकी ऊँचाई का अनुपात कितना है?

- Ans
- 1. 2:3
  - 2. 1:2
  - 3. 3:1
  - 4. 2:5

Question Type : MCQ

Question ID : 264330138389

Option 1 ID : 264330542165

Option 2 ID : 264330542166

Option 3 ID : 264330542163

Option 4 ID : 264330542164

Status : Answered

Chosen Option : 3

Q.14 यदि किसी वृत्त की परिधि 13.2 cm है, तो उसकी त्रिज्या कितनी है?

- Ans
- 1. 21 cm
  - 2. 6 cm
  - 3. 1.7 cm
  - 4. 2.1 cm

Question Type : MCQ

Question ID : 264330135083

Option 1 ID : 264330529269

Option 2 ID : 264330529267

Option 3 ID : 264330529268

Option 4 ID : 264330529270

Status : Answered

Chosen Option : 4

Q.15 निम्न तालिका में 4 अलग-अलग स्कूलों से अलग-अलग खेल खेलने वाले छात्रों की संख्या को दर्शाया गया है। स्कूल A और C में मिलाकर बास्केटबॉल खेलने वाले कुल छात्रों और स्कूल B और D में मिलाकर फुटबॉल खेलने वाले कुल छात्रों का अनुपात कितना है?

Schools	Games				
	Basketball	Football	Tennis	Cricket	Hockey
A	125	75	28	100	22
B	90	50	12	50	13
C	145	80	45	70	40
D	100	40	20	45	55

Schools- स्कूल, Games- खेल, Basketball- बास्केटबॉल, Football- फुटबॉल, Tennis- टेनिस, Cricket- क्रिकेट

- Ans
- 1. 3:1
  - 2. 2:3
  - 3. 2:5
  - 4. 4:5

Question Type : MCQ

Question ID : 264330134096

Option 1 ID : 264330525409

Option 2 ID : 264330525410

Option 3 ID : 264330525407

Option 4 ID : 264330525408

Status : Answered

Chosen Option : 1

Q.16  $12 \div (1/2) + \{(35 \div 7) \text{ of } 40\} + 20 - 15 \text{ of } 10$  का मान है:

Ans  1. 99

2. 88

3. 94

4. 80

Question Type : MCQ

Question ID : 264330135064

Option 1 ID : 264330529191

Option 2 ID : 264330529193

Option 3 ID : 264330529192

Option 4 ID : 264330529194

Status : Answered

Chosen Option : 3

Q.17 एक मैच में 7 खिलाड़ियों द्वारा बनाए गए रनों का औसत 63 है। यदि 6 खिलाड़ियों द्वारा बनाए गए रन 130, 42, 24, 53, 45 और 54 हैं, तो सातवें खिलाड़ी ने कितने रन बनाए?

Ans  1. 93

2. 90

3. 87

4. 85

Question Type : MCQ

Question ID : 264330137157

Option 1 ID : 264330537274

Option 2 ID : 264330537272

Option 3 ID : 264330537273

Option 4 ID : 264330537271

Status : Answered

Chosen Option : 1

Q.18 साधारण ब्याज पर Rs. 600 की राशि 4 वर्ष में Rs. 840 हो जाती है। साधारण ब्याज की समान दर पर Rs. 1500 की राशि कितने वर्षों में Rs. 2100 हो जाएगी?

Ans  1. 4 वर्ष

2. 3 वर्ष

3. 5 वर्ष

4. 2 वर्ष

Question Type : MCQ

Question ID : 264330137634

Option 1 ID : 264330539146

Option 2 ID : 264330539144

Option 3 ID : 264330539145

Option 4 ID : 264330539143

Status : Answered

Chosen Option : 1

Q.19 एक विक्रेता ने Rs. 6400 में एक वॉशिंग मशीन खरीदी। इसके अंकित मूल्य पर 20% का बढ़ा देने के पश्चात भी उसे 30% का लाभ होता है। वॉशिंग मशीन का अंकित मूल्य ज्ञात कीजिए।

- Ans
- 1. Rs. 11,000
  - 2. Rs. 12,000
  - 3. Rs. 10,400
  - 4. Rs. 13,000

Question Type : MCQ  
Question ID : 264330135072  
Option 1 ID : 264330529223  
Option 2 ID : 264330529224  
Option 3 ID : 264330529225  
Option 4 ID : 264330529226  
Status : Answered  
Chosen Option : 3

Q.20 2100 के  $(\frac{2}{7})$  भाग के 40 प्रतिशत के 25 प्रतिशत का मान क्या है?

- Ans
- 1. 60
  - 2. 40
  - 3. 50
  - 4. 45

Question Type : MCQ  
Question ID : 264330137629  
Option 1 ID : 264330539126  
Option 2 ID : 264330539124  
Option 3 ID : 264330539125  
Option 4 ID : 264330539123  
Status : Answered  
Chosen Option : 1

Section : Reasoning Ability and Problem Solving

Q.1 उस विकल्प को चुनिए जो तीसरे शब्द से ठीक उसी प्रकार संबंधित है जिस प्रकार दूसरा शब्द पहले शब्द से संबंधित है।  
खंडन करना : स्वीकृति देना :: प्रशंसा करना : ?

- Ans
- 1. गुणगान करना
  - 2. गर्व करना
  - 3. आलोचना करना
  - 4. सराहना करना

Question Type : MCQ  
Question ID : 264330134957  
Option 1 ID : 264330528764  
Option 2 ID : 264330528766  
Option 3 ID : 264330528765  
Option 4 ID : 264330528763  
Status : Answered  
Chosen Option : 3

Q.2 पाँच लड़कियाँ अर्थात् B, H, O, M और S एक परिधि में केंद्र की ओर मुख करके बैठी हैं। S, O के ठीक बाईं ओर, और B के ठीक दाईं ओर बैठी है। M, S के बाएँ से दूसरे स्थान पर बैठी है। H के ठीक दाईं ओर कौन बैठा है?

- Ans
- 1. S
  - 2. O
  - 3. B
  - 4. M

Question Type : MCQ

Question ID : 264330134962

Option 1 ID : 264330528786

Option 2 ID : 264330528785

Option 3 ID : 264330528784

Option 4 ID : 264330528783

Status : Answered

Chosen Option : 4

Q.3 सात छात्र H, I, J, K, L, M और N, सभी ने अलग-अलग अंक प्राप्त किए हैं। H ने केवल N से अधिक अंक प्राप्त किए। तीन छात्रों के अंक J और I के अंकों के बीच थे। I ने सर्वाधिक अंक प्राप्त नहीं किए हैं। कितने छात्रों ने J से कम अंक प्राप्त किए?

- Ans
- 1. 4
  - 2. 5
  - 3. 6
  - 4. 3

Question Type : MCQ

Question ID : 264330134964

Option 1 ID : 264330528791

Option 2 ID : 264330528792

Option 3 ID : 264330528793

Option 4 ID : 264330528794

Status : Answered

Chosen Option : 3

Q.4 दी गई दो संख्याओं को आपस में बदलने पर क्रमशः समीकरण (I) और (II) का मान क्या होगा?

8 और 4

I.  $8 - 4 \times 6 \div 3 + 7$

II.  $8 \times 3 - 6 \div 2 + 4$

- Ans
- 1. 20 और 18
  - 2. -5 और 20
  - 3. -5 और 17
  - 4. -4 और 18

Question Type : MCQ

Question ID : 264330137533

Option 1 ID : 264330538739

Option 2 ID : 264330538742

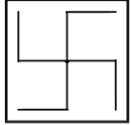
Option 3 ID : 264330538741

Option 4 ID : 264330538740

Status : Answered

Chosen Option : 4

Q.5 उस विकल्प आकृति को चुनिए जिसमें दी गई आकृति (X) उसके भाग के रूप में निहित है (घूर्णन की अनुमति नहीं है)।



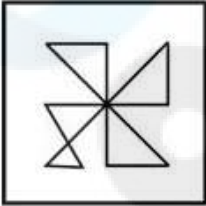
(X)

Ans

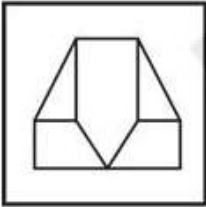
✗ 1.



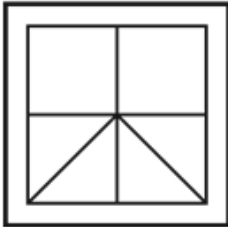
✗ 2.



✗ 3.



✓ 4.



Question Type : MCQ

Question ID : 264330133713

Option 1 ID : 264330523878

Option 2 ID : 264330523877

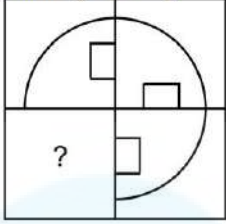
Option 3 ID : 264330523876

Option 4 ID : 264330523875

Status : Answered

Chosen Option : 4

Q.6 उस विकल्प आकृति को चुनिए जो पैटर्न को पूरा करने के लिए नीचे दी गई आकृति में प्रश्न चिन्ह (?) के स्थान पर आएगी। (घूर्णन की अनुमति नहीं है)

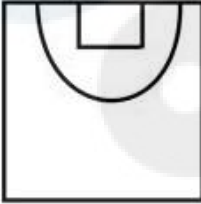


Ans

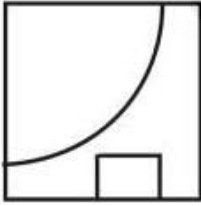
✗ 1.



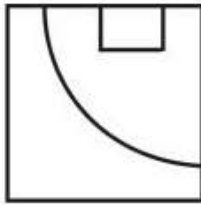
✗ 2.



✗ 3.



✓ 4.



Question Type : MCQ

Question ID : 264330134975

Option 1 ID : 264330528838

Option 2 ID : 264330528835

Option 3 ID : 264330528837

Option 4 ID : 264330528836

Status : Answered

Chosen Option : 4

Q.7 उस विकल्प को चुनिए जो तीसरी संख्या से ठीक उसी तरह संबंधित है जिस तरह दूसरी संख्या पहली संख्या से संबंधित है।

483 : 331 :: 715 : ?

- Ans
- 1. 356
  - 2. 653
  - 3. 563
  - 4. 570

Question Type : MCQ

Question ID : 264330137552

Option 1 ID : 264330538816

Option 2 ID : 264330538815

Option 3 ID : 264330538818

Option 4 ID : 264330538817

Status : Answered

Chosen Option : 3

Q.8 दी गई श्रृंखला में निम्नलिखित में से कौन-सी संख्या प्रश्न चिन्ह(?) के स्थान पर आएगी?

47, 49, 53, 55, 59, 61, 65, ?

- Ans
- 1. 76
  - 2. 67
  - 3. 69
  - 4. 56

Question Type : MCQ

Question ID : 264330134968

Option 1 ID : 264330528809

Option 2 ID : 264330528808

Option 3 ID : 264330528807

Option 4 ID : 264330528810

Status : Answered

Chosen Option : 2

Q.9 दी गई श्रृंखला में निम्नलिखित में से कौन-सी संख्या प्रश्न चिन्ह (?) के स्थान पर आएगी?

81, 243, 40.5, 121.5, 20.25, 60.75, ?

- Ans
- 1. 10.120
  - 2. 10.215
  - 3. 10.125
  - 4. 10.115

Question Type : MCQ

Question ID : 264330137550

Option 1 ID : 264330538809

Option 2 ID : 264330538807

Option 3 ID : 264330538810

Option 4 ID : 264330538808

Status : Answered

Chosen Option : 3

Q.10 एक निश्चित कूट भाषा में, 'FULLY' को 'PPYJ' लिखा जाता है। उस कूट भाषा में 'GIVEN' को कैसे लिखा जाएगा?

- Ans  1. RIZMK  
 2. RIYMK  
 3. RIZML  
 4. RIZOK

Question Type : MCQ

Question ID : 264330138462

Option 1 ID : 264330542458

Option 2 ID : 264330542455

Option 3 ID : 264330542456

Option 4 ID : 264330542457

Status : Answered

Chosen Option : 1

Q.11 दिए गए पैटर्न का ध्यानपूर्वक अध्ययन कीजिए और उस संख्या को चुनिए जो इस पैटर्न में प्रश्न चिन्ह (?) के स्थान पर आ सकती है।

पहली पंक्ति- 8, 96, 104

दूसरी पंक्ति- 11, 132, 143

तीसरी पंक्ति- 7, 84, ?

- Ans  1. 92  
 2. 88  
 3. 91  
 4. 95

Question Type : MCQ

Question ID : 264330134970

Option 1 ID : 264330528816

Option 2 ID : 264330528817

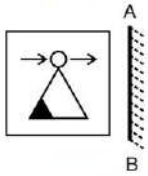
Option 3 ID : 264330528815

Option 4 ID : 264330528818

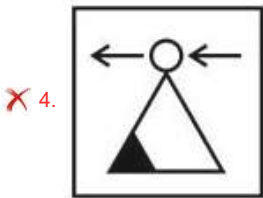
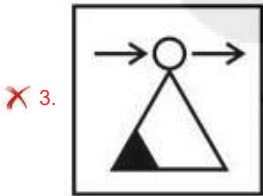
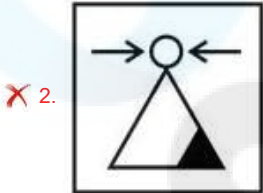
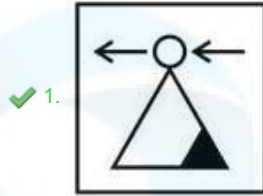
Status : Answered

Chosen Option : 3

Q.12 दी गई आकृति के उस सही दर्पण प्रतिबिंब को चुनिए, जो नीचे दर्शाए गए अनुसार दर्पण को AB पर रखने पर बनेगा।



Ans



Question Type : MCQ

Question ID : 264330133714

Option 1 ID : 264330523881

Option 2 ID : 264330523882

Option 3 ID : 264330523879

Option 4 ID : 264330523880

Status : Answered

Chosen Option : 1

Q.13 उस विकल्प को चुनिए जो तीसरे अक्षर समूह से ठीक उसी प्रकार संबंधित है जिस प्रकार दूसरी संख्या पहले अक्षर समूह से संबंधित है।  
CL : 36 :: FP : ?

Ans ✗ 1. 88

✓ 2. 96

✗ 3. 49

✗ 4. 92

Question Type : MCQ

Question ID : 264330134956

Option 1 ID : 264330528760

Option 2 ID : 264330528762

Option 3 ID : 264330528759

Option 4 ID : 264330528761

Status : Answered

Chosen Option : 2

Q.14 छः भाई K, L, M, N, O और S एक कतार में उत्तर की ओर मुख करके खड़े हैं। K, N के ठीक पीछे खड़ा है। O, M और S के ठीक बीच में खड़ा है। केवल तीन भाई L के पीछे खड़े हैं। K के ठीक पीछे कौन खड़ा है?

- Ans
- 1. N
  - 2. S
  - 3. L
  - 4. M

Question Type : MCQ

Question ID : 264330134963

Option 1 ID : 264330528788

Option 2 ID : 264330528790

Option 3 ID : 264330528787

Option 4 ID : 264330528789

Status : Answered

Chosen Option : 3

Q.15 तीन कथन दिए गए हैं और दो निष्कर्ष I और II दिए गए हैं। कथनों को सत्य मानते हुए, चाहे वे सामान्यतः ज्ञात तथ्यों से अलग प्रतीत होते हों, निश्चय कीजिए कि कौन-सा निष्कर्ष तार्किक रूप से कथनों के अनुसार है।

कथन:

कुछ शब्द, छोटे हैं।

कुछ छोटे, लंबे हैं।

सभी लंबे, पेड़ हैं।

निष्कर्ष:

I. कुछ पेड़, छोटे हैं।

II. कुछ पेड़, शब्द हैं।

- Ans
- 1. दोनों निष्कर्ष I और II कथनों के अनुसार हैं।
  - 2. केवल निष्कर्ष II कथनों के अनुसार है।
  - 3. केवल निष्कर्ष I कथनों के अनुसार है।
  - 4. न तो निष्कर्ष I और न ही II कथनों के अनुसार है।

Question Type : MCQ

Question ID : 264330134966

Option 1 ID : 264330528801

Option 2 ID : 264330528800

Option 3 ID : 264330528799

Option 4 ID : 264330528802

Status : Answered

Chosen Option : 3

Q.16 एक निश्चित कूट भाषा में, 'JUMP' को 'ITLO' लिखा जाता है और 'GIRL' को 'FHQK' लिखा जाता है। उस कूट भाषा में 'LOVE' को कैसे लिखा जाएगा?

- Ans
- ✓ 1. KNUD
  - ✗ 2. KPUD
  - ✗ 3. KNWD
  - ✗ 4. KNWF

Question Type : MCQ

Question ID : 264330133490

Option 1 ID : 264330522992

Option 2 ID : 264330522991

Option 3 ID : 264330522993

Option 4 ID : 264330522994

Status : Answered

Chosen Option : 2

Q.17 एक निश्चित कूट भाषा में, 'ABOVE' को 'DERYH' लिखा जाता है। उस कूट भाषा में 'BELOW' को कैसे लिखा जाएगा?

- Ans
- ✗ 1. FHOSY
  - ✗ 2. EHPRY
  - ✓ 3. EHORZ
  - ✗ 4. EHORY

Question Type : MCQ

Question ID : 264330138502

Option 1 ID : 264330542616

Option 2 ID : 264330542615

Option 3 ID : 264330542618

Option 4 ID : 264330542617

Status : Answered

Chosen Option : 3

Q.18 दी गई श्रृंखला में निम्नलिखित में से कौन-सा अक्षर समूह प्रश्न चिन्ह (?) के स्थान पर आएगा?  
CAM, DYL, EWK, FUJ, GSI, HQH, ?

- Ans
- ✓ 1. IOG
  - ✗ 2. IOF
  - ✗ 3. FOG
  - ✗ 4. IJG

Question Type : MCQ

Question ID : 264330134954

Option 1 ID : 264330528754

Option 2 ID : 264330528751

Option 3 ID : 264330528752

Option 4 ID : 264330528753

Status : Answered

Chosen Option : 1

Q.19 दिए गए समीकरण को सही करने के लिए किन दो संख्याओं को आपस में बदला जाना चाहिए?

$$12 \times 4 - 8 + 9 \div 3 = 32$$

- Ans
- 1. 32 और 12
  - 2. 12 और 3
  - 3. 12 और 9
  - 4. 4 और 9

Question Type : MCQ

Question ID : 264330134971

Option 1 ID : 264330528819

Option 2 ID : 264330528822

Option 3 ID : 264330528821

Option 4 ID : 264330528820

Status : Answered

Chosen Option : 3

Q.20 दो कथन दिए गए हैं और दो निष्कर्ष I और II दिए गए हैं। कथनों को सत्य मानते हुए, चाहे वे सामान्यतः ज्ञात तथ्यों से अलग प्रतीत होते हों, निश्चय कीजिए कि कौन-सा निष्कर्ष तार्किक रूप से कथनों के अनुसार है।

कथन:

कुछ घोड़े, ट्रक नहीं हैं।

सभी घोड़े, सफेद हैं।

निष्कर्ष:

I. कुछ सफेद, ट्रक हैं।

II. कुछ घोड़ों का ट्रक होना एक संभावना है।

- Ans
- 1. न तो निष्कर्ष I और न ही II कथनों के अनुसार है।
  - 2. दोनों निष्कर्ष I और II कथनों के अनुसार हैं।
  - 3. केवल निष्कर्ष I कथनों के अनुसार है।
  - 4. केवल निष्कर्ष II कथनों के अनुसार है।

Question Type : MCQ

Question ID : 264330134965

Option 1 ID : 264330528798

Option 2 ID : 264330528797

Option 3 ID : 264330528795

Option 4 ID : 264330528796

Status : Answered

Chosen Option : 4

Section : General Awareness

Q.1 गौतम बुद्ध को \_\_\_\_\_ में एक पीपल के वृक्ष के नीचे ज्ञान प्राप्ति हुई।

- Ans
- 1. वाराणसी
  - 2. बोधगया
  - 3. पाटलिपुत्र
  - 4. उज्जैन

Question Type : MCQ  
Question ID : 264330134640  
Option 1 ID : 264330527518  
Option 2 ID : 264330527515  
Option 3 ID : 264330527516  
Option 4 ID : 264330527517  
Status : Answered  
Chosen Option : 2

Q.2 वह कौन-सी पहली प्राचीन भारतीय सभ्यता थी जिसमें व्यवस्थित नगर नियोजन और भूमिगत जल निकास प्रणाली थी?

- Ans
- 1. पूर्वकालीन न्युबियन सभ्यता (Early Nubian civilization)
  - 2. सिंधु घाटी सभ्यता (Indus valley civilization)
  - 3. उत्तरकालीन वैदिक सभ्यता (Later Vedic civilization)
  - 4. ईजियन सभ्यता (Aegean civilization)

Question Type : MCQ  
Question ID : 264330137690  
Option 1 ID : 264330539368  
Option 2 ID : 264330539367  
Option 3 ID : 264330539369  
Option 4 ID : 264330539370  
Status : Answered  
Chosen Option : 2

Q.3 प्रधानमंत्री कौशल विकास योजना (PMKVY) किस वर्ष शुरू की गई थी?

- Ans
- 1. 2016
  - 2. 2014
  - 3. 2017
  - 4. 2015

Question Type : MCQ  
Question ID : 264330134639  
Option 1 ID : 264330527513  
Option 2 ID : 264330527511  
Option 3 ID : 264330527514  
Option 4 ID : 264330527512  
Status : Answered  
Chosen Option : 1

Q.4 भारतीय दंड संहिता की धारा 377 क्या परिभाषित करती है?

- Ans
- 1. सरोगेसी
  - 2. महिलाओं का मंदिर में प्रवेश
  - 3. अप्राकृतिक अपराधों को गैरकानूनी घोषित करना
  - 4. तीन तलाक

Question Type : MCQ  
Question ID : 264330137687  
Option 1 ID : 264330539356  
Option 2 ID : 264330539357  
Option 3 ID : 264330539355  
Option 4 ID : 264330539358  
Status : Answered  
Chosen Option : 4

Q.5 छऊ नृत्य युद्ध परंपराओं, मंदिर अनुष्ठानों आदि का मिश्रण है। यह भारत के किस क्षेत्र में किया जाता है?

- Ans
- 1. दक्षिणी
  - 2. उत्तरी
  - 3. पूर्वी
  - 4. पश्चिमी

Question Type : MCQ  
Question ID : 264330134619  
Option 1 ID : 264330527432  
Option 2 ID : 264330527433  
Option 3 ID : 264330527434  
Option 4 ID : 264330527431  
Status : Answered  
Chosen Option : 3

Q.6 छत्रपति शिवाजी महाराज टर्मिनस को पहले \_\_\_\_\_ के नाम से जाना जाता था।

- Ans
- 1. एलिजाबेथ टर्मिनस स्टेशन
  - 2. जेम्स टर्मिनस स्टेशन
  - 3. जॉर्ज टर्मिनस स्टेशन
  - 4. विक्टोरिया टर्मिनस स्टेशन

Question Type : MCQ  
Question ID : 264330134621  
Option 1 ID : 264330527441  
Option 2 ID : 264330527439  
Option 3 ID : 264330527442  
Option 4 ID : 264330527440  
Status : Answered  
Chosen Option : 4

Q.7 निम्नलिखित में से कौन-सा तत्व हैलोजन (Halogens) समूह के अंतर्गत नहीं आता?

- Ans
- 1. ब्रोमीन
  - 2. ऐस्टैटीन
  - 3. हीलियम
  - 4. क्लोरीन

Question Type : MCQ  
Question ID : 264330137716  
Option 1 ID : 264330539472  
Option 2 ID : 264330539474  
Option 3 ID : 264330539473  
Option 4 ID : 264330539471  
Status : Answered  
Chosen Option : 3

Q.8 प्रसिद्ध नेलापट्टु (Nelapattu) पक्षी अभयारण्य निम्नलिखित में से किस राज्य में स्थित है?

- Ans
- 1. आंध्रप्रदेश
  - 2. मध्यप्रदेश
  - 3. तमिलनाडु
  - 4. कर्नाटक

Question Type : MCQ  
Question ID : 264330137718  
Option 1 ID : 264330539481  
Option 2 ID : 264330539482  
Option 3 ID : 264330539480  
Option 4 ID : 264330539479  
Status : Answered  
Chosen Option : 1

Q.9 कारक अदायगी के समस्त मूल्यों को मापने वाली सकल घरेलू उत्पाद (GDP) की मूल्यांकन पद्धति को \_\_\_\_\_ कहा जाता है।

- Ans
- 1. उत्पाद विधि
  - 2. व्यय विधि
  - 3. आय विधि
  - 4. मूल्य वर्धित विधि

Question Type : MCQ  
Question ID : 264330134629  
Option 1 ID : 264330527471  
Option 2 ID : 264330527472  
Option 3 ID : 264330527473  
Option 4 ID : 264330527474  
Status : Answered  
Chosen Option : 4

Q.10 निम्नलिखित में से किस शख्सियत का संबंध अलीगढ़ आंदोलन से है?

- Ans
- ✓ 1. सैयद अहमद खान
  - ✗ 2. मुहम्मद अली जिन्ना
  - ✗ 3. सैयद अमीर अली
  - ✗ 4. अबुल कलाम आज़ाद

Question Type : MCQ  
Question ID : 264330134072  
Option 1 ID : 264330525314  
Option 2 ID : 264330525313  
Option 3 ID : 264330525312  
Option 4 ID : 264330525311  
Status : Answered  
Chosen Option : 1

Q.11 बजट 2022 में की गई घोषणा के मुताबिक, बाल स्वास्थ्य में सुधार के लिए \_\_\_\_\_ आंगनवाड़ियों को बेहतर बनाया जाएगा।

- Ans
- ✗ 1. 4 लाख
  - ✓ 2. 2 लाख
  - ✗ 3. 1 लाख
  - ✗ 4. 3 लाख

Question Type : MCQ  
Question ID : 264330138245  
Option 1 ID : 264330541590  
Option 2 ID : 264330541588  
Option 3 ID : 264330541587  
Option 4 ID : 264330541589  
Status : Answered  
Chosen Option : 2

Q.12 "वाइड एंगल (Wide Angle)" निम्नलिखित में से किस खिलाड़ी की आत्मकथा है?

- Ans
- ✗ 1. इमरान खान
  - ✗ 2. वसीम अकरम
  - ✗ 3. युवराज सिंह
  - ✓ 4. अनिल कुंबले

Question Type : MCQ  
Question ID : 264330138238  
Option 1 ID : 264330541561  
Option 2 ID : 264330541562  
Option 3 ID : 264330541560  
Option 4 ID : 264330541559  
Status : Answered  
Chosen Option : 2

Q.13 2011 की भारतीय जनगणना को भारत की आजादी के बाद \_\_\_\_\_ जनगणना अभियान कहा जा सकता है।

- Ans
- ✓ 1. सातवाँ
  - ✗ 2. नौवाँ
  - ✗ 3. दसवाँ
  - ✗ 4. ग्यारहवाँ

Question Type : MCQ  
Question ID : 264330137905  
Option 1 ID : 264330540230  
Option 2 ID : 264330540228  
Option 3 ID : 264330540229  
Option 4 ID : 264330540227  
Status : Answered  
Chosen Option : 1

Q.14 \_\_\_\_\_ सबसे गहरा भूपरिवेष्ठित (landlocked) और पूरी तरह से संरक्षित बंदरगाह है।

- Ans
- ✓ 1. विशाखापत्तनम
  - ✗ 2. कांडला
  - ✗ 3. पाराद्वीप
  - ✗ 4. मुंबई

Question Type : MCQ  
Question ID : 264330138230  
Option 1 ID : 264330541527  
Option 2 ID : 264330541528  
Option 3 ID : 264330541530  
Option 4 ID : 264330541529  
Status : Answered  
Chosen Option : 1

Q.15 शोबना नारायण एक प्रसिद्ध \_\_\_\_\_ नृत्यांगना हैं।

- Ans
- ✓ 1. कथक
  - ✗ 2. कुचिपुड़ी
  - ✗ 3. ओडिसी
  - ✗ 4. मणिपुरी

Question Type : MCQ  
Question ID : 264330138240  
Option 1 ID : 264330541570  
Option 2 ID : 264330541568  
Option 3 ID : 264330541567  
Option 4 ID : 264330541569  
Status : Answered  
Chosen Option : 2

Q.16 दिल्ली में हुए 1929 के असेंबली बम कांड के मुख्य आरोपी कौन थे?

- Ans
- 1. राम प्रसाद और अशफाकउल्ला
  - 2. भगत सिंह और बटुकेश्वर दत्त
  - 3. उधम सिंह और मंगल पांडे
  - 4. सूर्य सेन और राम प्रसाद

Question Type : MCQ

Question ID : 264330137701

Option 1 ID : 264330539414

Option 2 ID : 264330539413

Option 3 ID : 264330539412

Option 4 ID : 264330539411

Status : Answered

Chosen Option : 2

Q.17 1 मार्च 2023 तक, निम्नलिखित में से कौन-सा देश आसियान (ASEAN) का हिस्सा नहीं है ?

- Ans
- 1. थाईलैंड
  - 2. इंडोनेशिया
  - 3. श्रीलंका
  - 4. मलेशिया

Question Type : MCQ

Question ID : 264330133943

Option 1 ID : 264330524795

Option 2 ID : 264330524798

Option 3 ID : 264330524796

Option 4 ID : 264330524797

Status : Answered

Chosen Option : 3

Q.18 महानदी का उद्गम \_\_\_\_\_ की उच्चभूमि से होता है।

- Ans
- 1. बिहार
  - 2. छत्तीसगढ़
  - 3. आंध्रप्रदेश
  - 4. उड़ीसा

Question Type : MCQ

Question ID : 264330134637

Option 1 ID : 264330527506

Option 2 ID : 264330527505

Option 3 ID : 264330527504

Option 4 ID : 264330527503

Status : Answered

Chosen Option : 4

Q.19 कंदरिया महादेव (Kandariya Mahadeva) मंदिर का निर्माण 999 ईस्वी में \_\_\_\_\_ वंश के राजा धंगदेव ने करवाया था।

- Ans
- 1. चोल
  - 2. पाल
  - 3. पल्लव
  - 4. चंदेल

Question Type : MCQ  
Question ID : 264330134641  
Option 1 ID : 264330527520  
Option 2 ID : 264330527519  
Option 3 ID : 264330527522  
Option 4 ID : 264330527521  
Status : Answered  
Chosen Option : 4

Q.20 तुकारोई का युद्ध, जिसमें अकबर ने बंगाल और बिहार की सल्तनत को हराया था, कब लड़ा गया था?

- Ans
- 1. 1582
  - 2. 1564
  - 3. 1591
  - 4. 1575

Question Type : MCQ  
Question ID : 264330137725  
Option 1 ID : 264330539510  
Option 2 ID : 264330539508  
Option 3 ID : 264330539507  
Option 4 ID : 264330539509  
Status : Answered  
Chosen Option : 3

Q.21 वायुमंडल की निम्नलिखित परतों में से किसका अर्थ "मिश्रण का क्षेत्र (region of mixing)" है?

- Ans
- 1. मध्यमंडल (Mesosphere)
  - 2. बाह्य वायुमंडल (Thermosphere)
  - 3. समताप मंडल (Stratosphere)
  - 4. क्षोभमंडल (Troposphere)

Question Type : MCQ  
Question ID : 264330137719  
Option 1 ID : 264330539484  
Option 2 ID : 264330539483  
Option 3 ID : 264330539486  
Option 4 ID : 264330539485  
Status : Answered  
Chosen Option : 4

Q.22 निम्नलिखित में से किस टीम ने अंतर्राष्ट्रीय क्रिकेट परिषद (ICC) का पुरुष T20 विश्व कप 2021 जीता?

- Ans
- ✓ 1. ऑस्ट्रेलिया
  - ✗ 2. इंग्लैंड
  - ✗ 3. भारत
  - ✗ 4. वेस्ट इंडीज

Question Type : MCQ  
Question ID : 264330137734  
Option 1 ID : 264330539546  
Option 2 ID : 264330539543  
Option 3 ID : 264330539544  
Option 4 ID : 264330539545  
Status : Answered  
Chosen Option : 1

Q.23 भारत में, महापाषाण कब्रें (megaliths) बनाने की प्रथा लगभग \_\_\_\_\_ पहले शुरू हुई थी।

- Ans
- ✓ 1. 3000 साल
  - ✗ 2. 1000 साल
  - ✗ 3. 500 साल
  - ✗ 4. 2000 साल

Question Type : MCQ  
Question ID : 264330134069  
Option 1 ID : 264330525301  
Option 2 ID : 264330525300  
Option 3 ID : 264330525302  
Option 4 ID : 264330525299  
Status : Answered  
Chosen Option : 1

Q.24 भारत में किस धार्मिक समूह के लोग नवरोज़ (Nowruz) उत्सव मनाते हैं?

- Ans
- ✗ 1. जैन(Jains)
  - ✓ 2. पारसी(Parsis)
  - ✗ 3. यहूदी (jews)
  - ✗ 4. बौद्ध(Buddhists)

Question Type : MCQ  
Question ID : 264330134059  
Option 1 ID : 264330525259  
Option 2 ID : 264330525262  
Option 3 ID : 264330525261  
Option 4 ID : 264330525260  
Status : Answered  
Chosen Option : 2

Q.25 निम्नलिखित में से कौन एक प्रसिद्ध सरोद वादक है?

- Ans
- 1. एन. रमणी
  - 2. विलायत खाँ
  - 3. ज़रीन शर्मा
  - 4. नीलाद्री कुमार

Question Type : MCQ  
Question ID : 264330134625  
Option 1 ID : 264330527455  
Option 2 ID : 264330527457  
Option 3 ID : 264330527458  
Option 4 ID : 264330527456  
Status : Answered  
Chosen Option : 2

Section : English Language and Comprehension

Q.1 A sentence has been given with a blank to be filled with an appropriate option. Choose the correct alternative.

There is definitely \_\_\_\_\_ he is not telling me.

- Ans
- 1. somebody
  - 2. everything
  - 3. something
  - 4. anything

Question Type : MCQ  
Question ID : 264330134751  
Option 1 ID : 264330527956  
Option 2 ID : 264330527958  
Option 3 ID : 264330527955  
Option 4 ID : 264330527957  
Status : Answered  
Chosen Option : 3

Q.2 Choose the word that can substitute the given group of words.

Departure from common rule

- Ans
- 1. Pragmatic
  - 2. Stupor
  - 3. Anomaly
  - 4. Quixotic

Question Type : MCQ  
Question ID : 264330134760  
Option 1 ID : 264330527987  
Option 2 ID : 264330527989  
Option 3 ID : 264330527990  
Option 4 ID : 264330527988  
Status : Not Answered  
Chosen Option : --

**Q.3** Find the part of the given sentence that has an error in it. If there is no error, choose 'No error'.

In humans, consumption of alcohol, stimulate brain cells to release mood-altering dopamine.

- Ans**
- 1. In humans, consumption of alcohol,
  - 2. No error
  - 3. release mood-altering dopamine.
  - 4. stimulate brain cells to

Question Type : **MCQ**  
Question ID : **264330134747**  
Option 1 ID : **264330527939**  
Option 2 ID : **264330527942**  
Option 3 ID : **264330527941**  
Option 4 ID : **264330527940**  
Status : **Answered**  
Chosen Option : **4**

**Q.4** Select the most appropriate option to fill in the blank.

All the companies make an \_\_\_\_\_ to be seen and heard within communities.

- Ans**
- 1. effort
  - 2. establishment
  - 3. aisle
  - 4. excuse

Question Type : **MCQ**  
Question ID : **264330134552**  
Option 1 ID : **264330527165**  
Option 2 ID : **264330527164**  
Option 3 ID : **264330527163**  
Option 4 ID : **264330527166**  
Status : **Answered**  
Chosen Option : **1**

**Q.5** A sentence has been given with a blank to be filled with an appropriate option. Choose the correct alternative.

I am looking forward to \_\_\_\_\_ you at our favourite restaurant.

- Ans**
- 1. meeting
  - 2. meets
  - 3. met
  - 4. meet

Question Type : **MCQ**  
Question ID : **264330134726**  
Option 1 ID : **264330527861**  
Option 2 ID : **264330527859**  
Option 3 ID : **264330527860**  
Option 4 ID : **264330527862**  
Status : **Answered**  
Chosen Option : **4**

**Q.6** Select the most appropriate option to fill in the blank.

Jacqueline represents retirement as the final result of a long course of dissatisfaction with \_\_\_\_\_ life.

- Ans**
- 1. mundane
  - 2. divine
  - 3. barbaric
  - 4. joyful

Question Type : **MCQ**  
Question ID : **264330134770**  
Option 1 ID : **264330528028**  
Option 2 ID : **264330528029**  
Option 3 ID : **264330528030**  
Option 4 ID : **264330528027**  
Status : **Answered**  
Chosen Option : **4**

**Q.7** Select the most appropriate meaning of the given idiom.

Drastic times call for drastic measures

- Ans**
- 1. Do not pull all your resources in one possibility
  - 2. Don't rely on it until you sure of it
  - 3. Something that ends at the last minute or last few seconds
  - 4.

When you are extremely desperate you need to take extremely desperate actions

Question Type : **MCQ**  
Question ID : **264330136077**  
Option 1 ID : **264330533119**  
Option 2 ID : **264330533120**  
Option 3 ID : **264330533122**  
Option 4 ID : **264330533121**  
Status : **Answered**  
Chosen Option : **1**

**Q.8** Choose the incorrectly spelt word.

- Ans**
- 1. Crops
  - 2. Salute
  - 3. Shout
  - 4. Belieif

Question Type : **MCQ**  
Question ID : **264330134767**  
Option 1 ID : **264330528016**  
Option 2 ID : **264330528015**  
Option 3 ID : **264330528018**  
Option 4 ID : **264330528017**  
Status : **Answered**  
Chosen Option : **4**

**Q.9** Select the word segment that substitutes (replaces) the bracketed word segment correctly and completes the sentence meaningfully. Select the option 'no correction required' if the sentence is correct as given.

Apple has also introduced a (rule that seemed tie) to its recent dispute with Basecamp.

- Ans**
- 1. rule that seemingly tied
  - 2. rule that seems tied
  - 3. No correction required
  - 4. rule which seemed tie

Question Type : **MCQ**  
Question ID : **264330136242**  
Option 1 ID : **264330533756**  
Option 2 ID : **264330533757**  
Option 3 ID : **264330533758**  
Option 4 ID : **264330533755**  
Status : **Answered**  
Chosen Option : **2**

**Q.10** Identify the segment that contains a grammatical error. If there is no error, select 'No error'.

What evil magic does / it possess to draw the human / heart so powerful to it?

- Ans**
- 1. What evil magic does
  - 2. it possess to draw the human
  - 3. heart so powerful to it?
  - 4. No error

Question Type : **MCQ**  
Question ID : **264330136239**  
Option 1 ID : **264330533743**  
Option 2 ID : **264330533744**  
Option 3 ID : **264330533745**  
Option 4 ID : **264330533746**  
Status : **Answered**  
Chosen Option : **3**

**Q.11** Select the appropriate antonym for the underlined word.

Megan, my precious darling, where is the kettle?

- Ans**
- 1. detested
  - 2. expensive
  - 3. beloved
  - 4. steep

Question Type : **MCQ**  
Question ID : **264330134764**  
Option 1 ID : **264330528006**  
Option 2 ID : **264330528004**  
Option 3 ID : **264330528003**  
Option 4 ID : **264330528005**  
Status : **Answered**  
Chosen Option : **1**

Q.12 Select the most appropriate antonym of the given word.

Wicked

- Ans
- 1. Sarcastic
  - 2. Admirable
  - 3. Infernal
  - 4. Dissent

Question Type : MCQ  
Question ID : 264330136049  
Option 1 ID : 264330533011  
Option 2 ID : 264330533012  
Option 3 ID : 264330533014  
Option 4 ID : 264330533013  
Status : Answered  
Chosen Option : 2

Q.13 In the following question, out of the given four alternatives, select the alternative which best expresses the meaning of the Idiom/Phrase.

To stretch one's legs

- Ans
- 1. To go for a walk after you have been sitting for a long time
  - 2. To measure one's worth
  - 3. To leave a place without permission
  - 4. To go for a party

Question Type : MCQ  
Question ID : 264330134766  
Option 1 ID : 264330528012  
Option 2 ID : 264330528011  
Option 3 ID : 264330528013  
Option 4 ID : 264330528014  
Status : Answered  
Chosen Option : 4

Q.14 Find the part of the given sentence that has an error in it. If there is no error, choose 'No error'.

I spend a lot of my time at work helping my customers find an best outfit.

- Ans
- 1. my time at work helping my
  - 2. customers find an best outfit.
  - 3. I spend a lot of
  - 4. No error

Question Type : MCQ  
Question ID : 264330134745  
Option 1 ID : 264330527932  
Option 2 ID : 264330527933  
Option 3 ID : 264330527931  
Option 4 ID : 264330527934  
Status : Answered  
Chosen Option : 2

Q.15 Choose the sentence with no spelling error.

- Ans
- 1. The two are in most casies mutually exclusive.
  - 2. The two are in most cases mutualy exclusive.
  - 3. The two are in most cases mutualy exclusive.
  - 4. The two are in most cases mutually exclusive.

Question Type : MCQ  
Question ID : 264330134551  
Option 1 ID : 264330527161  
Option 2 ID : 264330527162  
Option 3 ID : 264330527160  
Option 4 ID : 264330527159  
Status : Answered  
Chosen Option : 4

Q.16 Choose the word that means the same as the given word.

Aptitude

- Ans
- 1. Attitude
  - 2. Talent
  - 3. Stress
  - 4. Faith

Question Type : MCQ  
Question ID : 264330134736  
Option 1 ID : 264330527895  
Option 2 ID : 264330527897  
Option 3 ID : 264330527898  
Option 4 ID : 264330527896  
Status : Answered  
Chosen Option : 2

Q.17 Select the most appropriate word for the given group of words.

The sound of elephants

- Ans
- 1. Quack
  - 2. Trumpet
  - 3. Laurel
  - 4. Screech

Question Type : MCQ  
Question ID : 264330136071  
Option 1 ID : 264330533098  
Option 2 ID : 264330533097  
Option 3 ID : 264330533095  
Option 4 ID : 264330533096  
Status : Answered  
Chosen Option : 2

**Q.18** Improve the underlined part of the sentence. Choose 'No improvement' as an answer if the sentence is grammatically correct.

Since 1950 the number of children in secondary schools has been increasing noticeably.

- Ans**
- 1. No improvement
  - 2. have increasingly noticeably
  - 3. has been increasing noticeably
  - 4. increasingly noticeable

Question Type : MCQ  
Question ID : 264330134776  
Option 1 ID : 264330528054  
Option 2 ID : 264330528052  
Option 3 ID : 264330528051  
Option 4 ID : 264330528053  
Status : Answered  
Chosen Option : 3

**Q.19** Select the appropriate synonym for the underlined word.

Immediate relocation is your best course of action.

- Ans**
- 1. expiration
  - 2. migration
  - 3. ending
  - 4. emergence

Question Type : MCQ  
Question ID : 264330134761  
Option 1 ID : 264330527992  
Option 2 ID : 264330527991  
Option 3 ID : 264330527994  
Option 4 ID : 264330527993  
Status : Answered  
Chosen Option : 2

**Q.20** Improve the underlined part of the sentence. Choose 'No improvement' as an answer if the sentence is grammatically correct.  
She was fined of driving over the speed limit.

- Ans**
- 1. No improvement
  - 2. fined for drive
  - 3. fine of driving
  - 4. fined for driving

Question Type : MCQ  
Question ID : 264330134428  
Option 1 ID : 264330526690  
Option 2 ID : 264330526688  
Option 3 ID : 264330526687  
Option 4 ID : 264330526689  
Status : Answered  
Chosen Option : 4

**Comprehension:**

In the following passage some words have been deleted. Fill in the blanks with the help of the alternatives given. Select the most appropriate option for each number.

In the early 1920's, settlers came to Alaska looking for (1) \_\_\_\_\_. They travelled by boat to the coastal towns of Seward and Knik, and from there by land into the gold fields. The trail they used to (2) \_\_\_\_\_ inland is known today as the Iditarod Trail, one of the National Historic Trails designated (3) \_\_\_\_\_ the Congress of the United States. The Iditarod Trail quickly became a major thoroughfare in Alaska, as the mail and supplies were (4) \_\_\_\_\_ across this trail. People also used it to get from place to place, including the priests, ministers, and judges who had to travel between villages. In the winter, the settlers' only means of travel down this trail was via dog (5) \_\_\_\_\_.

**SubQuestion No : 21**

Q.21 Select the most appropriate option to fill in the blank No. 1.

- Ans
- 1. silver
  - 2. gold
  - 3. copper
  - 4. iron

Question Type : MCQ

Question ID : 264330136040

Option 1 ID : 264330532977

Option 2 ID : 264330532978

Option 3 ID : 264330532975

Option 4 ID : 264330532976

Status : Answered

Chosen Option : 2

**Comprehension:**

In the following passage some words have been deleted. Fill in the blanks with the help of the alternatives given. Select the most appropriate option for each number.

In the early 1920's, settlers came to Alaska looking for (1) \_\_\_\_\_. They travelled by boat to the coastal towns of Seward and Knik, and from there by land into the gold fields. The trail they used to (2) \_\_\_\_\_ inland is known today as the Iditarod Trail, one of the National Historic Trails designated (3) \_\_\_\_\_ the Congress of the United States. The Iditarod Trail quickly became a major thoroughfare in Alaska, as the mail and supplies were (4) \_\_\_\_\_ across this trail. People also used it to get from place to place, including the priests, ministers, and judges who had to travel between villages. In the winter, the settlers' only means of travel down this trail was via dog (5) \_\_\_\_\_.

**SubQuestion No : 22**

Q.22 Select the most appropriate option to fill in the blank No. 2.

- Ans
- 1. submerge
  - 2. locate
  - 3. travel
  - 4. navigate

Question Type : MCQ

Question ID : 264330136041

Option 1 ID : 264330532981

Option 2 ID : 264330532982

Option 3 ID : 264330532979

Option 4 ID : 264330532980

Status : Answered

Chosen Option : 3

**Comprehension:**

In the following passage some words have been deleted. Fill in the blanks with the help of the alternatives given. Select the most appropriate option for each number.

In the early 1920's, settlers came to Alaska looking for (1) \_\_\_\_\_. They travelled by boat to the coastal towns of Seward and Knik, and from there by land into the gold fields. The trail they used to (2) \_\_\_\_\_ inland is known today as the Iditarod Trail, one of the National Historic Trails designated (3) \_\_\_\_\_ the Congress of the United States. The Iditarod Trail quickly became a major thoroughfare in Alaska, as the mail and supplies were (4) \_\_\_\_\_ across this trail. People also used it to get from place to place, including the priests, ministers, and judges who had to travel between villages. In the winter, the settlers' only means of travel down this trail was via dog (5) \_\_\_\_\_.

**SubQuestion No : 23**

**Q.23** Select the most appropriate option to fill in the blank No. 3.

- Ans**
- 1. by
  - 2. in
  - 3. at
  - 4. of

Question Type : **MCQ**

Question ID : **264330136042**

Option 1 ID : **264330532986**

Option 2 ID : **264330532984**

Option 3 ID : **264330532983**

Option 4 ID : **264330532985**

Status : **Answered**

Chosen Option : **1**

**Comprehension:**

In the following passage some words have been deleted. Fill in the blanks with the help of the alternatives given. Select the most appropriate option for each number.

In the early 1920's, settlers came to Alaska looking for (1) \_\_\_\_\_. They travelled by boat to the coastal towns of Seward and Knik, and from there by land into the gold fields. The trail they used to (2) \_\_\_\_\_ inland is known today as the Iditarod Trail, one of the National Historic Trails designated (3) \_\_\_\_\_ the Congress of the United States. The Iditarod Trail quickly became a major thoroughfare in Alaska, as the mail and supplies were (4) \_\_\_\_\_ across this trail. People also used it to get from place to place, including the priests, ministers, and judges who had to travel between villages. In the winter, the settlers' only means of travel down this trail was via dog (5) \_\_\_\_\_.

**SubQuestion No : 24**

**Q.24** Select the most appropriate option to fill in the blank No. 4.

- Ans**
- 1. carried
  - 2. transported
  - 3. imported
  - 4. deported

Question Type : **MCQ**

Question ID : **264330136043**

Option 1 ID : **264330532987**

Option 2 ID : **264330532990**

Option 3 ID : **264330532988**

Option 4 ID : **264330532989**

Status : **Answered**

Chosen Option : **2**

**Comprehension:**

In the following passage some words have been deleted. Fill in the blanks with the help of the alternatives given. Select the most appropriate option for each number.

In the early 1920s, settlers came to Alaska looking for (1) \_\_\_\_\_. They travelled by boat to the coastal towns of Seward and Knik, and from there by land into the gold fields. The trail they used to (2) \_\_\_\_\_ inland is known today as the Iditarod Trail, one of the National Historic Trails designated (3) \_\_\_\_\_ the Congress of the United States. The Iditarod Trail quickly became a major thoroughfare in Alaska, as the mail and supplies were (4) \_\_\_\_\_ across this trail. People also used it to get from place to place, including the priests, ministers, and judges who had to travel between villages. In the winter, the settlers' only means of travel down this trail was via dog (5) \_\_\_\_\_.

**SubQuestion No : 25**

**Q.25** Select the most appropriate option to fill in the blank No. 5.

- Ans**
- 1. bark
  - 2. smell
  - 3. sled
  - 4. boat

Question Type : **MCQ**

Question ID : **264330136044**

Option 1 ID : **264330532993**

Option 2 ID : **264330532994**

Option 3 ID : **264330532991**

Option 4 ID : **264330532992**

Status : **Answered**

Chosen Option : **3**