

Multi Tasking Non Technical Staff and Havaldar CBIC and CBN Examination 2022

Roll Number	
Candidate Name	
Venue Name	iON Digital Zone iDZ Naino Ka Bas
Exam Date	15/06/2023
Exam Time	9:00 AM - 10:30 AM
Subject	MTS Non Tech Havaldar CBIC and CBN Examination 2022

Section : Numerical and Mathematical Ability

Q.1 $\frac{1.2 \times 1.2 + 0.2 \times 0.2 + 1.2 \times 0.4}{1.8 \times 1.8 + 0.4 \times 0.4 - 1.8 \times 0.8}$ का मान क्या है?

- Ans
- 1. 0.25
 - 2. 0.2
 - 3. 1
 - 4. 0.1

Question Type : MCQ

Question ID : 264330140648

Option 1 ID : 264330550942

Option 2 ID : 264330550941

Option 3 ID : 264330550940

Option 4 ID : 264330550939

Status : Answered

Chosen Option : 3

Q.2 एक वस्तु को Rs. 400 में बेचने पर उतना ही लाभ होता है जितनी उसे Rs. 300 में बेचने पर हानि होती है। उस वस्तु का क्रय मूल्य कितना है?

- Ans
- 1. Rs. 400
 - 2. Rs. 250
 - 3. Rs. 350
 - 4. Rs. 450

Question Type : MCQ

Question ID : 264330140783

Option 1 ID : 264330551481

Option 2 ID : 264330551479

Option 3 ID : 264330551480

Option 4 ID : 264330551482

Status : Answered

Chosen Option : 3

Q.3 P, Q और R के वेतन का अनुपात 5 : 6 : 8 है। यदि R को Q से Rs.2200 अधिक मिलते हैं, तो P का वेतन कितना है?

- Ans
- 1. Rs.6500
 - 2. Rs.5500
 - 3. Rs.7700
 - 4. Rs.7000

Question Type : MCQ
Question ID : 264330139919
Option 1 ID : 264330548055
Option 2 ID : 264330548056
Option 3 ID : 264330548058
Option 4 ID : 264330548057
Status : Answered
Chosen Option : 2

Q.4 एक वस्तु का विक्रय मूल्य Rs.817 है। यदि हानि प्रतिशत 14 प्रतिशत है, तो वस्तु का क्रय मूल्य क्या है?

- Ans
- 1. Rs. 900
 - 2. Rs. 950
 - 3. Rs. 850
 - 4. Rs. 880

Question Type : MCQ
Question ID : 264330139614
Option 1 ID : 264330546871
Option 2 ID : 264330546872
Option 3 ID : 264330546874
Option 4 ID : 264330546873
Status : Answered
Chosen Option : 2

Q.5 अंकित मूल्य का 25 प्रतिशत क्रय मूल्य के 40 प्रतिशत के बराबर है। यदि कोई बट्टा नहीं दिया जाता है, तो लाभ प्रतिशत क्या होगा?

- Ans
- 1. 40 प्रतिशत
 - 2. 66.66 प्रतिशत
 - 3. 50 प्रतिशत
 - 4. 60 प्रतिशत

Question Type : MCQ
Question ID : 264330139600
Option 1 ID : 264330546817
Option 2 ID : 264330546818
Option 3 ID : 264330546815
Option 4 ID : 264330546816
Status : Answered
Chosen Option : 4

Q.6 8 km/hr की चाल से चलते हुए, एक आदमी एक निश्चित दूरी 2 घंटे 30 मिनट में तय करता है। 10 km/hr की चाल से दौड़ते हुए, समान दूरी तय करने में उसे कितना समय लगेगा?

- Ans
- 1. 2 घंटे 10 मिनट
 - 2. 1 घंटा 45 मिनट
 - 3. 1 घंटा
 - 4. 2 घंटे

Question Type : MCQ

Question ID : 264330139049

Option 1 ID : 264330544803

Option 2 ID : 264330544806

Option 3 ID : 264330544805

Option 4 ID : 264330544804

Status : Answered

Chosen Option : 4

Q.7 नीचे दी गई तालिका में पाँच वस्तुओं की माँग और उत्पादन को दर्शाया गया है।

वस्तुएँ	माँग	उत्पादन
A	175	225
B	200	300
C	100	250
D	50	400
E	400	500

J_1 = A, B और C की कुल माँग और कुल उत्पादन के बीच का अंतर।

J_2 = E की माँग और उत्पादन के औसत का मान।

$(J_1 - J_2)$ का मान क्या है?

- Ans
- 1. -150
 - 2. 100
 - 3. -100
 - 4. 150

Question Type : MCQ

Question ID : 264330140649

Option 1 ID : 264330550946

Option 2 ID : 264330550945

Option 3 ID : 264330550943

Option 4 ID : 264330550944

Status : Answered

Chosen Option : 1

Q.8 आधार 7 cm और संगत ऊँचाई 12 cm वाले त्रिभुज का क्षेत्रफल ज्ञात कीजिए।

- Ans
- 1. 43 cm^2
 - 2. 42 cm^2
 - 3. 44 cm^2
 - 4. 54 cm^2

Question Type : MCQ

Question ID : 264330140818

Option 1 ID : 264330551619

Option 2 ID : 264330551620

Option 3 ID : 264330551622

Option 4 ID : 264330551621

Status : Answered

Chosen Option : 2

Q.9 पाइप P अकेले एक टंकी को 18 घंटे में भर सकता है और पाइप Q अकेले उसी टंकी को 24 घंटे में भर सकता है। यदि दोनों पाइपों को बारी-बारी हर एक घंटे में खोला जाए और पहले घंटे के लिए पाइप Q को खोला जाए, तो टंकी कितने समय में पूरी भर जाएगी?

- Ans
- 1. $(62/3)$ घंटे
 - 2. $(78/5)$ घंटे
 - 3. 20 घंटे
 - 4. $(64/5)$ घंटे

Question Type : MCQ

Question ID : 264330140214

Option 1 ID : 264330549235

Option 2 ID : 264330549238

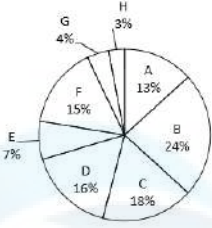
Option 3 ID : 264330549236

Option 4 ID : 264330549237

Status : Answered

Chosen Option : 1

Q.10 नीचे दिए गए वृत्त आलेख में 8 अलग-अलग कंपनियों द्वारा बेची गई कारों की संख्या को दर्शाया गया है। इन सभी 8 कंपनियों द्वारा बेची गई कारों की कुल संख्या 1000 है। इनमें से किसी एक विशिष्ट कंपनी द्वारा बेची गई कारों की संख्या को इन सभी 8 कंपनियों द्वारा बेची गई कारों की कुल संख्या के प्रतिशत के रूप में दर्शाया गया है।



वृत्तखंड A, B और C द्वारा मिलकर बनाए गए केंद्रीय कोण और वृत्तखंड E, F और G द्वारा मिलकर बनाए गए केंद्रीय कोण के बीच कितना अंतर है?

- Ans**
- 1. 102.6°
 - 2. 88.4°
 - 3. 72.8°
 - 4. 104.4°

Question Type : **MCQ**

Question ID : **264330139970**

Option 1 ID : **264330548260**

Option 2 ID : **264330548259**

Option 3 ID : **264330548262**

Option 4 ID : **264330548261**

Status : **Answered**

Chosen Option : **3**

Q.11 12 दिनों तक अकेले कार्य करने के बाद, रीना को पता चलता है कि केवल 10 प्रतिशत कार्य ही पूरा हुआ है। वह प्रिया को नियुक्त करती है जो रीना से 40 प्रतिशत अधिक कुशल है। उनको साथ मिलकर शेष कार्य को पूरा करने के लिए कितने दिन और लगेंगे?

- Ans**
- 1. 50 दिन
 - 2. 45 दिन
 - 3. 40 दिन
 - 4. 30 दिन

Question Type : **MCQ**

Question ID : **264330139932**

Option 1 ID : **264330548108**

Option 2 ID : **264330548109**

Option 3 ID : **264330548110**

Option 4 ID : **264330548107**

Status : **Answered**

Chosen Option : **2**

Q.12 साधारण ब्याज पर 3 वर्ष में Rs.1500 की धनराशि Rs.2175 हो जाती है। यदि ब्याज दर में 3 प्रतिशत की वृद्धि कर दी जाए, तो नई धनराशि क्या होगी?

- Ans 1. Rs.2310
 2. Rs.2460
 3. Rs.2050
 4. Rs.2250

Question Type : MCQ
Question ID : 264330139599
Option 1 ID : 264330546812
Option 2 ID : 264330546813
Option 3 ID : 264330546814
Option 4 ID : 264330546811
Status : Answered
Chosen Option : 1

Q.13 $\frac{25 \times 25 - 12 \times 12 + 13 \times 13}{12 \times 5 + 10 \div 2}$ का मान क्या है?

- Ans 1. 10
 2. 13
 3. 5
 4. 65

Question Type : MCQ
Question ID : 264330140169
Option 1 ID : 264330549056
Option 2 ID : 264330549057
Option 3 ID : 264330549055
Option 4 ID : 264330549058
Status : Answered
Chosen Option : 1

Q.14 किसी राशि पर प्राप्त 20 वर्षों का साधारण ब्याज उस राशि का $\frac{3}{5}$ है। वार्षिक ब्याज दर क्या है?

- Ans 1. 6 प्रतिशत
 2. 5 प्रतिशत
 3. 4 प्रतिशत
 4. 3 प्रतिशत

Question Type : MCQ
Question ID : 264330140223
Option 1 ID : 264330549273
Option 2 ID : 264330549274
Option 3 ID : 264330549272
Option 4 ID : 264330549271
Status : Answered
Chosen Option : 4

Q.15 एक ठोस धात्विक गोले की त्रिज्या 35 cm है। यदि इसे पिघलाकर 5 cm त्रिज्या के छोटे-छोटे गोले बनाए जाएँ, तो कितने छोटे गोले बनेंगे?

Ans 1. 343

2. 289

3. 429

4. 369

Question Type : MCQ

Question ID : 264330140226

Option 1 ID : 264330549284

Option 2 ID : 264330549283

Option 3 ID : 264330549286

Option 4 ID : 264330549285

Status : Answered

Chosen Option : 1

Q.16 एक व्यक्ति पहले 26 km की दूरी 60 मिनट में और अगले 34 km की दूरी 30 मिनट में तय करता है। पूरी यात्रा में उसकी औसत चाल क्या है?

Ans 1. 40 km/hr

2. 46 km/hr

3. 32 km/hr

4. 38 km/hr

Question Type : MCQ

Question ID : 264330140537

Option 1 ID : 264330550504

Option 2 ID : 264330550505

Option 3 ID : 264330550506

Option 4 ID : 264330550503

Status : Answered

Chosen Option : 1

Q.17 यदि किसी संख्या के 80 प्रतिशत का $\frac{3}{5}$ भाग 450 है, तो वह संख्या क्या है?

Ans 1. 810.8

2. 925.5

3. 945.8

4. 937.5

Question Type : MCQ

Question ID : 264330140178

Option 1 ID : 264330549094

Option 2 ID : 264330549091

Option 3 ID : 264330549093

Option 4 ID : 264330549092

Status : Answered

Chosen Option : 4

Q.18 समान धारिता (क्षमता) की तीन बोटलों में दूध और पानी के मिश्रण का अनुपात क्रमशः 4:1, 4:3 और 1:2 है। इन तीनों बोटलों को एक बड़ी बोटल में खाली किया जाता है। बड़ी बोटल में क्रमशः दूध और पानी का अनुपात क्या होगा?

- Ans 1. 179 : 136
 2. 152 : 165
 3. 198 : 175
 4. 133 : 145

Question Type : MCQ
Question ID : 264330140572
Option 1 ID : 264330550640
Option 2 ID : 264330550639
Option 3 ID : 264330550641
Option 4 ID : 264330550642
Status : Answered
Chosen Option : 1

Q.19 एक द्रव में 20% अम्ल है और दूसरे द्रव में 30% अम्ल है। एक कुप्पी को पहले द्रव के 7 भाग और दूसरे द्रव के 3 भाग से भरा जाता है। नए मिश्रण में अम्ल का प्रतिशत है:

- Ans 1. 23%
 2. 14%
 3. 30%
 4. 13%

Question Type : MCQ
Question ID : 264330138703
Option 1 ID : 264330543420
Option 2 ID : 264330543419
Option 3 ID : 264330543422
Option 4 ID : 264330543421
Status : Answered
Chosen Option : 1

Q.20 एक कक्षा में छात्रों की न्यूनतम संख्या कितनी होनी चाहिए जिससे वे 10, 15 और 20 की पंक्तियाँ बना सकें और छात्रों की कुल संख्या एक पूर्ण वर्ग हो?

- Ans 1. 6400
 2. 900
 3. 1600
 4. 1800

Question Type : MCQ
Question ID : 264330139926
Option 1 ID : 264330548086
Option 2 ID : 264330548085
Option 3 ID : 264330548084
Option 4 ID : 264330548083
Status : Answered
Chosen Option : 2

Q.1 उस विकल्प को चुनिए जो तीसरी संख्या से ठीक उसी तरह संबंधित है जिस तरह दूसरी संख्या पहली संख्या से संबंधित है।

57 : 286 :: 43 : ?

- Ans
- 1. 206
 - 2. 215
 - 3. 217
 - 4. 216

Question Type : MCQ

Question ID : 264330140485

Option 1 ID : 264330550320

Option 2 ID : 264330550322

Option 3 ID : 264330550321

Option 4 ID : 264330550319

Status : Answered

Chosen Option : 4

Q.2 एक निश्चित कूट भाषा में, 'APPALL' को 'JLYPNA' लिखा जाता है। उस कूट भाषा में 'APPEND' को कैसे लिखा जाएगा?

- Ans
- 1. BNCPNA
 - 2. BCNPNA
 - 3. BNCPAN
 - 4. BCNNPA

Question Type : MCQ

Question ID : 264330140961

Option 1 ID : 264330552193

Option 2 ID : 264330552192

Option 3 ID : 264330552194

Option 4 ID : 264330552191

Status : Answered

Chosen Option : 1

Q.3 दी गई श्रृंखला में निम्नलिखित में से कौन-सी संख्या प्रश्न चिन्ह (?) के स्थान पर आएगी?

63, 64, 60, 69, 53, ?

- Ans
- 1. 78
 - 2. 77
 - 3. 76
 - 4. 88

Question Type : MCQ

Question ID : 264330140045

Option 1 ID : 264330548561

Option 2 ID : 264330548559

Option 3 ID : 264330548560

Option 4 ID : 264330548562

Status : Answered

Chosen Option : 1

Q.4 एक श्रृंखला दी गई है जिसमें एक पद लुप्त है। दिए गए विकल्पों में से उस सही विकल्प को चुनिए जो श्रृंखला को पूरा करेगा।

CAB, DDG, EGL, FJQ, ?

- Ans
- 1. GMU
 - 2. GNV
 - 3. GMV
 - 4. GNU

Question Type : MCQ

Question ID : 264330140053

Option 1 ID : 264330548594

Option 2 ID : 264330548591

Option 3 ID : 264330548593

Option 4 ID : 264330548592

Status : Answered

Chosen Option : 3

Q.5 निम्नलिखित प्रश्न में कुछ कथन दिए गए हैं और उन कथनों के आधार पर कुछ निष्कर्ष दिए गए हैं। आपको मानना है कि दिए गए कथन सत्य हैं चाहे वे समान्यतः जात तथ्यों से अलग प्रतीत होते हों। सभी निष्कर्षों को पढ़िए और फिर निश्चय कीजिए कि दिए गए निष्कर्षों में से कौन-सा निष्कर्ष तार्किक रूप से दिए गए कथनों के अनुसार है।

कथन:

- I. कुछ लड़के, मनुष्य हैं।
- II. सभी मनुष्य, कठोर हैं।

निष्कर्ष:

- I. कुछ कठोर, लड़के नहीं हैं।
- II. कुछ मनुष्य, लड़के नहीं हैं।
- III. कोई कठोर, मनुष्य नहीं है।

- Ans
- 1. दोनों निष्कर्ष II और III कथनों के अनुसार हैं
 - 2. दोनों निष्कर्ष I और III कथनों के अनुसार हैं
 - 3. केवल निष्कर्ष I कथनों के अनुसार है
 - 4. कोई भी निष्कर्ष कथनों के अनुसार नहीं है

Question Type : MCQ

Question ID : 264330140063

Option 1 ID : 264330548632

Option 2 ID : 264330548633

Option 3 ID : 264330548631

Option 4 ID : 264330548634

Status : Answered

Chosen Option : 4

Q.6 दो कथन दिए गए हैं और दो निष्कर्ष I और II दिए गए हैं। कथनों को सत्य मानते हुए, चाहे वे सामान्यतः ज्ञात तथ्यों से अलग प्रतीत होते हों, निश्चय कीजिए कि कौन-सा निष्कर्ष तार्किक रूप से कथनों के अनुसार है।

कथन:

सभी नीले, पीले हैं।

सभी पीले, लाल हैं।

निष्कर्ष:

I. कुछ नीले, लाल हैं।

II. सभी लाल, पीले हैं।

Ans

1. दोनों निष्कर्ष I और II कथनों के अनुसार हैं
2. निष्कर्ष I और II में से कोई भी कथनों के अनुसार नहीं है
3. सिर्फ निष्कर्ष II कथनों के अनुसार है
4. सिर्फ निष्कर्ष I कथनों के अनुसार है

Question Type : MCQ

Question ID : 264330138776

Option 1 ID : 264330543713

Option 2 ID : 264330543714

Option 3 ID : 264330543712

Option 4 ID : 264330543711

Status : Answered

Chosen Option : 4

Q.7 आठ मित्र अनिल, कमल, राम, संजय, आकाश, विवेक, राहुल और रामू एक वृत्ताकार मेज के चारों ओर केंद्र की ओर मुख करके बैठे हैं (परंतु जरूरी नहीं कि वे इसी क्रम में बैठें हों)। विवेक, अनिल के दाईं ओर से दूसरे स्थान पर है। कमल, अनिल के बाईं ओर से तीसरे स्थान पर है। रामू, विवेक के दाईं ओर से दूसरे स्थान पर है। राम, रामू के दाईं ओर से दूसरे स्थान पर है। आकाश, राहुल के दाईं ओर से दूसरे स्थान पर है। राहुल, विवेक का निकटतम पड़ोसी नहीं है। आकाश के दाईं ओर से तीसरे स्थान पर कौन है?

Ans

1. राम
2. विवेक
3. कमल
4. रामू

Question Type : MCQ

Question ID : 264330139574

Option 1 ID : 264330546711

Option 2 ID : 264330546714

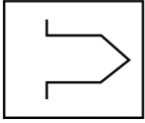
Option 3 ID : 264330546713

Option 4 ID : 264330546712

Status : Answered

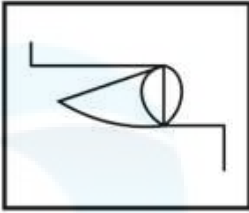
Chosen Option : 4

Q.8 उस विकल्प आकृति को चुनिए जिसमें दी गई आकृति उसके भाग के रूप में निहित है (घूर्णन की अनुमति नहीं है)।

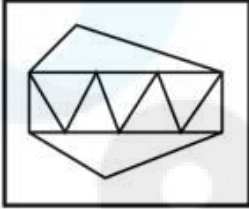


Ans

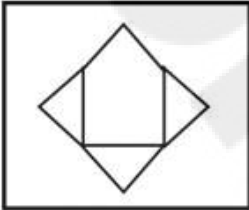
✗ 1.



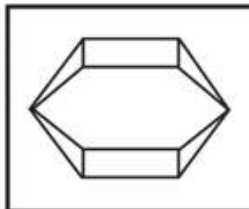
✗ 2.



✗ 3.



✓ 4.



Question Type : MCQ

Question ID : 264330140090

Option 1 ID : 264330548739

Option 2 ID : 264330548740

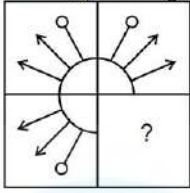
Option 3 ID : 264330548742

Option 4 ID : 264330548741

Status : Answered

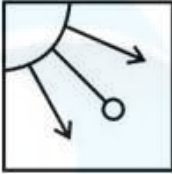
Chosen Option : 4

Q.9 उस विकल्प आकृति को चुनिए जो नीचे दी गई आकृति में पैटर्न को पूरा करने के लिए प्रश्न चिन्ह (?) के स्थान पर आएगी। (घूर्णन की अनुमति नहीं है)

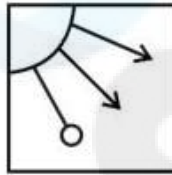


Ans

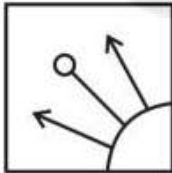
✗ 1.



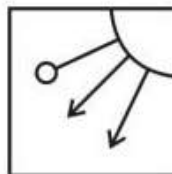
✓ 2.



✗ 3.



✗ 4.



Question Type : MCQ

Question ID : 264330135367

Option 1 ID : 264330530376

Option 2 ID : 264330530377

Option 3 ID : 264330530375

Option 4 ID : 264330530378

Status : Answered

Chosen Option : 2

Q.10 उस विकल्प को चुनिए जिसमें समुच्चय की संख्याएँ वही संबंध साझा करती हैं जो दिए गए समुच्चय में संख्याओं द्वारा साझा किया जाता है। (ध्यान दें: संख्याओं को उनके घटक अंकों में अलग-अलग किए बिना, पूर्ण संख्याओं पर संक्रियाएँ की जानी चाहिए। उदा. 13 - 13 पर संक्रियाएँ जैसे 13 को जोड़ना /घटाना /गुणा करना आदि किया जा सकता है। 13 को 1 और 3 में अलग-अलग करने की और फिर 1 और 3 पर गणितीय संक्रियाएँ करने की अनुमति नहीं है)

(4, 1, 25)

(8, 5, 169)

- Ans
- 1. (2, 7, 100)
 - 2. (4, 9, 144)
 - 3. (10, 8, 361)
 - 4. (5, 9, 196)

Question Type : MCQ
Question ID : 264330140990
Option 1 ID : 264330552307
Option 2 ID : 264330552308
Option 3 ID : 264330552310
Option 4 ID : 264330552309
Status : Answered
Chosen Option : 4

Q.11 दिए गए दो चिन्हों और दो संख्याओं को आपस में बदलने पर दिए गए समीकरण का मान क्या होगा?

+ और \times , 7 और 4 ; $7 + 6 + 4 - 3 \times 1$

- Ans
- 1. 35
 - 2. 20
 - 3. 28
 - 4. 50

Question Type : MCQ
Question ID : 264330140991
Option 1 ID : 264330552313
Option 2 ID : 264330552312
Option 3 ID : 264330552311
Option 4 ID : 264330552314
Status : Answered
Chosen Option : 3

Q.12 पाँच सहेलियों परिणीता, नाइरा, रिंकी, सृष्टि और टीना में, टीना केवल तीन अन्य सहेलियों से लंबी है। रिंकी सभी सहेलियों में सबसे लंबी है। नाइरा केवल एक सहेली से लंबी है। केवल दो सहेलियाँ परिणीता से लंबी हैं। सभी सहेलियों में किसका कद सबसे छोटा है?

- Ans
- 1. टीना
 - 2. परिणीता
 - 3. सृष्टि
 - 4. नाइरा

Question Type : MCQ
Question ID : 264330140440
Option 1 ID : 264330550141
Option 2 ID : 264330550139
Option 3 ID : 264330550142
Option 4 ID : 264330550140
Status : Answered
Chosen Option : 3

Q.13 (::) के बाईं ओर दिए गए शब्द आपस में किसी तर्क/नियम/संबंध द्वारा संबंधित हैं। समान तर्क/नियम/संबंध के आधार पर दिए गए विकल्पों में से (::) के दाईं ओर लुप्त शब्द/शब्द युग्म को चुनिए।

फसल : किसान :: किताब : ?

- Ans
- ✓ 1. लेखक
 - ✗ 2. नाटककार
 - ✗ 3. कागज़
 - ✗ 4. पढ़ना

Question Type : MCQ
Question ID : 264330140957
Option 1 ID : 264330552175
Option 2 ID : 264330552176
Option 3 ID : 264330552178
Option 4 ID : 264330552177
Status : Answered
Chosen Option : 1

Q.14 एक निश्चित कूट भाषा में, 'LUCK' को 'HQYG' लिखा जाता है। उस कूट भाषा में 'MATH' को कैसे लिखा जाएगा?

- Ans
- ✓ 1. IWPD
 - ✗ 2. IWPE
 - ✗ 3. IWQD
 - ✗ 4. IWPC

Question Type : MCQ
Question ID : 264330139974
Option 1 ID : 264330548275
Option 2 ID : 264330548278
Option 3 ID : 264330548277
Option 4 ID : 264330548276
Status : Answered
Chosen Option : 1

Q.15 सात लड़कियाँ A, B, C, D, E, F और G एक वृत्ताकार मेज के चारों ओर केंद्र से विपरीत दिशा की ओर मुख करके बैठी हैं (परंतु जरूरी नहीं कि वे इसी क्रम में बैठी हों)। D, G के दाईं ओर से दूसरे स्थान पर है। G, C के दाईं ओर से तीसरे स्थान पर है। F, B के दाईं ओर से तीसरे स्थान पर है। A, C की निकटतम पड़ोसी नहीं है। E, C की निकटतम पड़ोसी है। A के दाईं ओर से दूसरे स्थान पर कौन बैठा है?

- Ans
- ✓ 1. F
 - ✗ 2. G
 - ✗ 3. C
 - ✗ 4. E

Question Type : MCQ
Question ID : 264330139555
Option 1 ID : 264330546637
Option 2 ID : 264330546636
Option 3 ID : 264330546635
Option 4 ID : 264330546638
Status : Answered
Chosen Option : 1

Q.16 एक निश्चित कूट भाषा में, 'FUNNY' को 'LATTE' लिखा जाता है और 'DRIVE' को 'JXOBK' लिखा जाता है। उस कूट भाषा में 'CLASS' को कैसे लिखा जाएगा?

- Ans
- 1. IRHYY
 - 2. IRGZZ
 - 3. IRGY Y
 - 4. IRGXX

Question Type : MCQ
Question ID : 264330140456
Option 1 ID : 264330550206
Option 2 ID : 264330550205
Option 3 ID : 264330550204
Option 4 ID : 264330550203
Status : Answered
Chosen Option : 1

Q.17 दिए गए समीकरण को सही करने के लिए किन दो संख्याओं को आपस में बदला जाना चाहिए?
 $108 \div 6 - 18 + 8 \times 9 = 42$

- Ans
- 1. 18 और 9
 - 2. 6 और 8
 - 3. 9 और 6
 - 4. 108 और 18

Question Type : MCQ
Question ID : 264330140129
Option 1 ID : 264330548897
Option 2 ID : 264330548896
Option 3 ID : 264330548898
Option 4 ID : 264330548895
Status : Answered
Chosen Option : 3

Q.18 दी गई श्रृंखला में निम्नलिखित में से कौन-सी संख्या प्रश्न चिन्ह (?) के स्थान पर आएगी?
8, 24, 40, 56, 72, 88, 104, ?

- Ans
- 1. 320
 - 2. 120
 - 3. 420
 - 4. 220

Question Type : MCQ
Question ID : 264330140002
Option 1 ID : 264330548387
Option 2 ID : 264330548390
Option 3 ID : 264330548388
Option 4 ID : 264330548389
Status : Answered
Chosen Option : 2

Q.19 उस विकल्प को चुनिए जो तीसरे शब्द से ठीक उसी तरह संबंधित है जिस तरह दूसरा शब्द पहले शब्द से संबंधित है।
स्वीकारना : नकारना :: नफरत करना : ?

- Ans
- 1. उपेक्षा करना
 - 2. घृणा करना
 - 3. आलोचना करना
 - 4. बहुत प्रेम करना

Question Type : MCQ

Question ID : 264330140394

Option 1 ID : 264330549958

Option 2 ID : 264330549955

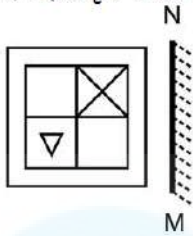
Option 3 ID : 264330549957

Option 4 ID : 264330549956

Status : Answered

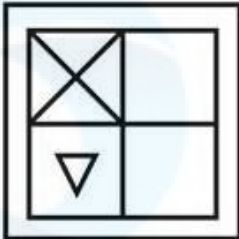
Chosen Option : 4

Q.20 दी गई आकृति के उस सही दर्पण प्रतिबिंब को चुनिए, जो दर्पण को आकृति के दाईं ओर रखने पर बनेगा।

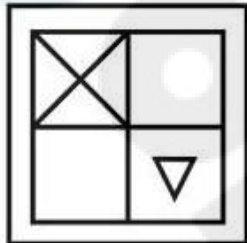


Ans

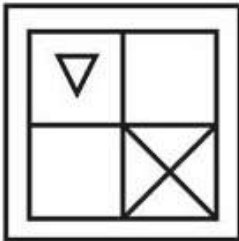
✗ 1.



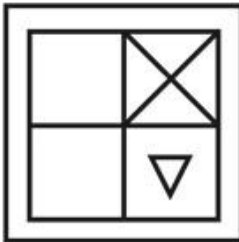
✓ 2.



✗ 3.



✗ 4.



Question Type : MCQ

Question ID : 264330140151

Option 1 ID : 264330548985

Option 2 ID : 264330548984

Option 3 ID : 264330548983

Option 4 ID : 264330548986

Status : Answered

Chosen Option : 2

Q.1 किस भारतीय संगीतकार को अपने एल्बम 'डिवाइन टाइड्स (Divine Tides)' के लिए वर्ष 2022 में दूसरा गैमी पुरस्कार मिला था?

- Ans
- 1. तन्वी शाह (Tanvi Shah)
 - 2. मनोज जॉर्ज (Manoj George)
 - 3. रिकी केज (Ricky Kej)
 - 4. पी. ए. दीपक (P. A. Deepak)

Question Type : MCQ
Question ID : 264330140385
Option 1 ID : 264330549921
Option 2 ID : 264330549922
Option 3 ID : 264330549920
Option 4 ID : 264330549919
Status : Answered
Chosen Option : 3

Q.2 _____ वे वाहिकाएँ हैं जो रक्त को हृदय से दूर शरीर के विभिन्न भागों तक ले जाती हैं।

- Ans
- 1. प्लाज्मा
 - 2. शिराएँ
 - 3. श्वासनली
 - 4. धमनियाँ

Question Type : MCQ
Question ID : 264330138960
Option 1 ID : 264330544448
Option 2 ID : 264330544449
Option 3 ID : 264330544450
Option 4 ID : 264330544447
Status : Answered
Chosen Option : 4

Q.3 निम्नलिखित में से किस राज्य के मुख्यमंत्री ने नवंबर 2022 में लाडली लक्ष्मी योजना 2.0 (Ladli Laxmi Scheme 2.0) के दूसरे चरण का शुभारंभ किया?

- Ans
- 1. मध्यप्रदेश
 - 2. बिहार
 - 3. आंध्रप्रदेश
 - 4. उत्तरप्रदेश

Question Type : MCQ
Question ID : 264330141046
Option 1 ID : 264330552531
Option 2 ID : 264330552534
Option 3 ID : 264330552532
Option 4 ID : 264330552533
Status : Answered
Chosen Option : 1

Q.4 2022 तक, निम्नलिखित में से कौन-सा देश भारतीय लौह अयस्क का सबसे बड़ा आयातक (importer) है?

- Ans
- 1. रूस
 - 2. संयुक्त राज्य अमेरिका
 - 3. फ्रांस
 - 4. चीन

Question Type : MCQ
Question ID : 264330140760
Option 1 ID : 264330551390
Option 2 ID : 264330551387
Option 3 ID : 264330551389
Option 4 ID : 264330551388
Status : Answered
Chosen Option : 1

Q.5 'गोल्डन गर्ल (Golden Girl)' _____ की आत्मकथा है।

- Ans
- 1. साइना नेहवाल
 - 2. पी.टी. उषा
 - 3. दिव्या दत्ता
 - 4. नीना गुप्ता

Question Type : MCQ
Question ID : 264330140272
Option 1 ID : 264330549470
Option 2 ID : 264330549468
Option 3 ID : 264330549467
Option 4 ID : 264330549469
Status : Answered
Chosen Option : 3

Q.6 भारतीय उपमहाद्वीप में, कितने देश उपमहाद्वीप के प्रत्येक सदस्य देश के साथ अपनी भूमि सीमाएँ साझा करते हैं?

- Ans
- 1. दो
 - 2. एक
 - 3. चार
 - 4. तीन

Question Type : MCQ
Question ID : 264330139716
Option 1 ID : 264330547280
Option 2 ID : 264330547279
Option 3 ID : 264330547282
Option 4 ID : 264330547281
Status : Answered
Chosen Option : 1

Q.7 1925 के काकोरी कांड (काकोरी ट्रेन एक्शन) में कौन-सा स्वतंत्रता सेनानी शामिल था, जिसके लिए ब्रिटिश सरकार ने उसे मौत की सजा सुनाई थी?

- Ans
- 1. राम प्रसाद बिस्मिल
 - 2. विनायक दामोदर सावरकर
 - 3. महात्मा गांधी
 - 4. लाला हरदयाल

Question Type : MCQ
Question ID : 264330140921
Option 1 ID : 264330552034
Option 2 ID : 264330552032
Option 3 ID : 264330552033
Option 4 ID : 264330552031
Status : Answered
Chosen Option : 1

Q.8 निम्नलिखित में से क्या जीवन की संरचनात्मक और मौलिक इकाई है?

- Ans
- 1. किण्वक
 - 2. कोशिका
 - 3. ऊतक
 - 4. हार्मोन

Question Type : MCQ
Question ID : 264330140323
Option 1 ID : 264330549671
Option 2 ID : 264330549673
Option 3 ID : 264330549672
Option 4 ID : 264330549674
Status : Answered
Chosen Option : 2

Q.9 प्रतिस्पर्धा संशोधन विधेयक, 2022 के अनुसार, गन-जंपिंग (gun-jumping) के लिए प्रस्तावित जुर्माना सौदे के मूल्य (deal value) का _____ है।

- Ans
- 1. 2%
 - 2. 0.5%
 - 3. 1.5%
 - 4. 1%

Question Type : MCQ
Question ID : 264330141047
Option 1 ID : 264330552538
Option 2 ID : 264330552535
Option 3 ID : 264330552537
Option 4 ID : 264330552536
Status : Not Answered
Chosen Option : --

Q.10 भीमबेटका (Bhimbetka) गुफाएँ निम्नलिखित में से किस राज्य में स्थित हैं?

- Ans
- 1. हरियाणा
 - 2. गुजरात
 - 3. मध्यप्रदेश
 - 4. राजस्थान

Question Type : MCQ
Question ID : 264330139669
Option 1 ID : 264330547094
Option 2 ID : 264330547093
Option 3 ID : 264330547092
Option 4 ID : 264330547091
Status : Answered
Chosen Option : 3

Q.11 निम्नलिखित में से कौन सी पुस्तक डॉ रघुराम राजन द्वारा लिखी गई थी?

- Ans
- 1. द थर्ड पिलर (The Third Pillar)
 - 2. माइ लाइफ इन फुल (My Life in Full)
 - 3. वी आर डिस्प्लेस्ड (We are Displaced)
 - 4. द इंडिया स्टोरी (The India Story)

Question Type : MCQ
Question ID : 264330141063
Option 1 ID : 264330552600
Option 2 ID : 264330552602
Option 3 ID : 264330552599
Option 4 ID : 264330552601
Status : Answered
Chosen Option : 1

Q.12 "खुदाई खिदमतगार (Khudai Khidmatgars)" नामक एक अहिंसक आंदोलन के संस्थापक कौन थे?

- Ans
- 1. खान अब्दुल ग़फ़्फ़ार खान
 - 2. मोहम्मद अली जिन्ना
 - 3. सी. राजगोपालाचारी
 - 4. महात्मा गांधी

Question Type : MCQ
Question ID : 264330139890
Option 1 ID : 264330547939
Option 2 ID : 264330547942
Option 3 ID : 264330547940
Option 4 ID : 264330547941
Status : Answered
Chosen Option : 1

Q.13 भारत में पहली असमकालिक (non-synchronous) जनगणना कब हुई थी?

- Ans
- 1. सन् 1792
 - 2. सन् 1972
 - 3. सन् 1772
 - 4. सन् 1872

Question Type : MCQ

Question ID : 264330140378

Option 1 ID : 264330549894

Option 2 ID : 264330549893

Option 3 ID : 264330549891

Option 4 ID : 264330549892

Status : Answered

Chosen Option : 3

Q.14 42वें संशोधन द्वारा भारत के संविधान में कितने मौलिक कर्तव्य शामिल किए गए हैं?

- Ans
- 1. 11
 - 2. 9
 - 3. 12
 - 4. 10

Question Type : MCQ

Question ID : 264330140951

Option 1 ID : 264330552151

Option 2 ID : 264330552153

Option 3 ID : 264330552154

Option 4 ID : 264330552152

Status : Answered

Chosen Option : 1

Q.15 जून 2022 में, "आर्थिक मामलों पर मंत्रिमंडलीय समिति" ने _____ के अविनियमन को मंजूरी दे दी है।

- Ans
- 1. रक्षा उपकरणों की बिक्री
 - 2. घरेलू स्तर पर उत्पादित कच्चे तेल की बिक्री
 - 3. परमाणु हथियारों की बिक्री
 - 4. रासायनिक हथियारों की बिक्री

Question Type : MCQ

Question ID : 264330139757

Option 1 ID : 264330547444

Option 2 ID : 264330547443

Option 3 ID : 264330547445

Option 4 ID : 264330547446

Status : Not Answered

Chosen Option : --

Q.16 राष्ट्रीय आदिवासी नृत्य महोत्सव 2022 कहाँ आयोजित किया गया था?

- Ans
- 1. पुणे
 - 2. पुरी
 - 3. रायपुर
 - 4. जयपुर

Question Type : MCQ
Question ID : 264330138947
Option 1 ID : 264330544397
Option 2 ID : 264330544398
Option 3 ID : 264330544395
Option 4 ID : 264330544396
Status : Answered
Chosen Option : 4

Q.17 एक वर्ष में प्रति हजार व्यक्तियों पर जीवित जन्मों (live births) की संख्या को _____ कहा जाता है।

- Ans
- 1. जन्म दर
 - 2. स्थूल दर
 - 3. मृत्यु दर
 - 4. प्रजनन दर

Question Type : MCQ
Question ID : 264330141057
Option 1 ID : 264330552578
Option 2 ID : 264330552576
Option 3 ID : 264330552577
Option 4 ID : 264330552575
Status : Answered
Chosen Option : 1

Q.18 ट्रेजरी (राजकोष) बिल _____ द्वारा जारी किए जाते हैं।

- Ans
- 1. भारतीय बीमा नियामक प्राधिकरण
 - 2. भारतीय प्रतिभूति और विनिमय बोर्ड
 - 3. भारत सरकार
 - 4. भारतीय रिज़र्व बैंक

Question Type : MCQ
Question ID : 264330138956
Option 1 ID : 264330544433
Option 2 ID : 264330544434
Option 3 ID : 264330544432
Option 4 ID : 264330544431
Status : Answered
Chosen Option : 4

Q.19 वर्ष 2018 के लिए विज्डन लीडिंग क्रिकेटर (Wisden's Leading Cricketer) कौन बने?

- Ans
- ✓ 1. विराट कोहली
 - ✗ 2. रोहित शर्मा
 - ✗ 3. बेन स्टोक्स
 - ✗ 4. केन विलियमसन

Question Type : MCQ
Question ID : 264330140271
Option 1 ID : 264330549466
Option 2 ID : 264330549465
Option 3 ID : 264330549464
Option 4 ID : 264330549463
Status : Answered
Chosen Option : 3

Q.20 यामिनी कृष्णमूर्ति किस नृत्य शैली की प्रसिद्ध नृत्यांगना हैं?

- Ans
- ✗ 1. मोहिनीअट्टम
 - ✗ 2. ओडिसी
 - ✓ 3. भरतनाट्यम
 - ✗ 4. बिहू

Question Type : MCQ
Question ID : 264330140294
Option 1 ID : 264330549556
Option 2 ID : 264330549558
Option 3 ID : 264330549555
Option 4 ID : 264330549557
Status : Answered
Chosen Option : 3

Q.21 अकबर की राजस्व प्रणाली "ज़ब्त" _____ द्वारा विकसित की गई थी।

- Ans
- ✗ 1. राजा भारमल
 - ✗ 2. राजा मानसिंह
 - ✗ 3. बैरम खाँ
 - ✓ 4. टोडरमल

Question Type : MCQ
Question ID : 264330138993
Option 1 ID : 264330544581
Option 2 ID : 264330544579
Option 3 ID : 264330544580
Option 4 ID : 264330544582
Status : Answered
Chosen Option : 3

Q.22 राइडर कप (Ryder Cup) _____ खेल से जुड़ा है।

- Ans
- ✓ 1. गोल्फ़
 - ✗ 2. क्रिकेट
 - ✗ 3. तैराकी
 - ✗ 4. साइक्लिंग

Question Type : MCQ
Question ID : 264330140723
Option 1 ID : 264330551241
Option 2 ID : 264330551239
Option 3 ID : 264330551242
Option 4 ID : 264330551240
Status : Not Answered
Chosen Option : --

Q.23 दिलवाड़ा मंदिर भारत के सबसे बेहतरीन और अपनी स्थापत्यकला के लिए प्रसिद्ध _____ मंदिरों में से एक है।

- Ans
- ✗ 1. बौद्ध
 - ✗ 2. हिंदू
 - ✓ 3. जैन
 - ✗ 4. सिख

Question Type : MCQ
Question ID : 264330140371
Option 1 ID : 264330549865
Option 2 ID : 264330549864
Option 3 ID : 264330549866
Option 4 ID : 264330549863
Status : Answered
Chosen Option : 3

Q.24 निम्न में से कौन-सी धातु अमलगम (amalgam) में सदैव एक घटक के रूप में विद्यमान होती है?

- Ans
- ✗ 1. स्ट्रॉन्शियम
 - ✓ 2. पारद
 - ✗ 3. ऐलुमीनियम
 - ✗ 4. जस्ता

Question Type : MCQ
Question ID : 264330140681
Option 1 ID : 264330551073
Option 2 ID : 264330551074
Option 3 ID : 264330551072
Option 4 ID : 264330551071
Status : Answered
Chosen Option : 2

Q.25 उपग्रह वायुमंडल की निम्नलिखित में से किस परत में पृथ्वी की परिक्रमा करते हैं?

- Ans
- 1. मध्यमंडल
 - 2. बहिर्मंडल
 - 3. समतापमंडल
 - 4. क्षोभमंडल

Question Type : MCQ

Question ID : 264330141054

Option 1 ID : 264330552565

Option 2 ID : 264330552563

Option 3 ID : 264330552566

Option 4 ID : 264330552564

Status : Answered

Chosen Option : 2

Section : English Language and Comprehension

Q.1 Select the word from the options which is exactly opposite in meaning to the bracketed word given in the sentence below.

The Prime Minister is making no (rash) promises.

- Ans
- 1. Immature
 - 2. Considerate
 - 3. Audacious
 - 4. Bold

Question Type : MCQ

Question ID : 264330135864

Option 1 ID : 264330532319

Option 2 ID : 264330532322

Option 3 ID : 264330532321

Option 4 ID : 264330532320

Status : Answered

Chosen Option : 2

Q.2 Select the word segment that substitutes (replaces) the bracketed word segment correctly and completes the sentence meaningfully. Select the option 'no correction required' if the sentence is correct as given.

He gritted his teeth and tried to act as though he (either noticed nor cared).

- Ans
- 1. neither noticed nor cared
 - 2. either noticed or cared
 - 3. neither noticed cared
 - 4. No correction required

Question Type : MCQ

Question ID : 264330136269

Option 1 ID : 264330533861

Option 2 ID : 264330533859

Option 3 ID : 264330533860

Option 4 ID : 264330533862

Status : Answered

Chosen Option : 1

Q.3 Select the most appropriate meaning of the given idiom

To pull your weight

- Ans
- 1. To buy something
 - 2. To give something
 - 3. To help one's relatives
 - 4. To do your full share of work

Question Type : MCQ
Question ID : 264330136207
Option 1 ID : 264330533622
Option 2 ID : 264330533619
Option 3 ID : 264330533621
Option 4 ID : 264330533620
Status : Answered
Chosen Option : 4

Q.4 Identify the segment that contains a grammatical error. If there is no error, select 'No error'.
Hearing those words / from his mouth, was / hard than I thought.

- Ans
- 1. No error
 - 2. from his mouth, was
 - 3. Hearing those words
 - 4. hard than I thought.

Question Type : MCQ
Question ID : 264330135690
Option 1 ID : 264330531654
Option 2 ID : 264330531652
Option 3 ID : 264330531651
Option 4 ID : 264330531653
Status : Answered
Chosen Option : 4

Q.5 Select the most appropriate option to fill in the blank.

A loud thud woke up everybody and nobody knew what all the _____ was about.

- Ans
- 1. exoneration
 - 2. commotion
 - 3. culmination
 - 4. abomination

Question Type : MCQ
Question ID : 264330136212
Option 1 ID : 264330533639
Option 2 ID : 264330533640
Option 3 ID : 264330533642
Option 4 ID : 264330533641
Status : Answered
Chosen Option : 2

Q.6 Four sentences are given, out of which three have spelling errors. Choose the sentence with all correctly spelled words.

- Ans**
- 1. The teacher told him to watch his grammer.
 - 2. Thousands protested the election fraud.
 - 3. My friend happend by around dinnertime.
 - 4. That was an impressive and an irresistable necklace.

Question Type : **MCQ**
Question ID : **264330136288**
Option 1 ID : **264330533931**
Option 2 ID : **264330533933**
Option 3 ID : **264330533932**
Option 4 ID : **264330533934**
Status : **Answered**
Chosen Option : **1**

Q.7 Select the most appropriate option to fill in the blank.

Some were very shaky and unstable, others were _____, and a few were both!

- Ans**
- 1. convoluted
 - 2. involuted
 - 3. voluted
 - 4. diluted

Question Type : **MCQ**
Question ID : **264330136351**
Option 1 ID : **264330534178**
Option 2 ID : **264330534177**
Option 3 ID : **264330534176**
Option 4 ID : **264330534175**
Status : **Answered**
Chosen Option : **3**

Q.8 Select the most appropriate word for the given group of words.

License granted to an individual or group to market a company's goods or services in a particular territory

- Ans**
- 1. Marketing
 - 2. Franchise
 - 3. Monopoly
 - 4. Branding

Question Type : **MCQ**
Question ID : **264330136175**
Option 1 ID : **264330533496**
Option 2 ID : **264330533498**
Option 3 ID : **264330533497**
Option 4 ID : **264330533495**
Status : **Answered**
Chosen Option : **1**

Q.9 Select the most appropriate word for the given group of words.

The art of careful public speaking, using clear pronunciation

- Ans
- 1. Incubation
 - 2. Abdication
 - 3. Elocution
 - 4. Obrution

Question Type : MCQ
Question ID : 264330135730
Option 1 ID : 264330531806
Option 2 ID : 264330531804
Option 3 ID : 264330531805
Option 4 ID : 264330531803
Status : Answered
Chosen Option : 3

Q.10 Select the most appropriate option to substitute the bracketed segment in the given sentence. If there is no need to substitute it, select 'no substitution required'.

The ban has landed the circus managements in a tricky (situation as they can neither use them for the shows or) abandon them.

- Ans
- 1. situation as they cannot either use them for the shows nor
 - 2. situation as them can either use them for the shows or
 - 3. situation as they can neither use them for the shows nor
 - 4. No substitution required

Question Type : MCQ
Question ID : 264330136347
Option 1 ID : 264330534159
Option 2 ID : 264330534161
Option 3 ID : 264330534160
Option 4 ID : 264330534162
Status : Answered
Chosen Option : 3

Q.11 Select the most appropriate option to fill in the blank.

The _____ term "wasteland" is proposed to be replaced by the term "urban commons."

- Ans
- 1. imperative
 - 2. indicative
 - 3. lucrative
 - 4. derogatory

Question Type : MCQ
Question ID : 264330136193
Option 1 ID : 264330533567
Option 2 ID : 264330533568
Option 3 ID : 264330533570
Option 4 ID : 264330533569
Status : Answered
Chosen Option : 2

Q.12 Select the most appropriate option to fill in the blank.

Her ribs were _____ but no longer painful.

- Ans
- 1. sure
 - 2. soar
 - 3. sore
 - 4. sour

Question Type : MCQ
Question ID : 264330135254
Option 1 ID : 264330529938
Option 2 ID : 264330529937
Option 3 ID : 264330529936
Option 4 ID : 264330529935
Status : Answered
Chosen Option : 3

Q.13 Select the most appropriate synonym of the given word.

Liberty

- Ans
- 1. Freedom
 - 2. Acclamation
 - 3. Dependence
 - 4. Statue

Question Type : MCQ
Question ID : 264330136426
Option 1 ID : 264330534463
Option 2 ID : 264330534466
Option 3 ID : 264330534464
Option 4 ID : 264330534465
Status : Answered
Chosen Option : 1

Q.14 Identify the segment that contains a grammatical error. If there is no error, select 'No error'.

Harry's eyes watered in / the chill as they soar upwards; he / could see nothing below now.

- Ans
- 1. could see nothing below now.
 - 2. the chill as they soar upwards; he
 - 3. No error
 - 4. Harry's eyes watered in

Question Type : MCQ
Question ID : 264330136111
Option 1 ID : 264330533253
Option 2 ID : 264330533252
Option 3 ID : 264330533254
Option 4 ID : 264330533251
Status : Answered
Chosen Option : 1

Q.15 Choose the word that is opposite in meaning to the given word.

Similar

- Ans
- 1. Resemblant
 - 2. Unlike
 - 3. Secretive
 - 4. Bizarre

Question Type : MCQ

Question ID : 264330135170

Option 1 ID : 264330529612

Option 2 ID : 264330529613

Option 3 ID : 264330529611

Option 4 ID : 264330529614

Status : Answered

Chosen Option : 2

Q.16 Improve the underlined part of the sentence. Choose 'No improvement' as an answer if the sentence is grammatically correct.

A health person may carry germs of typhoid, cholera, dysentery, etc. in his body.

- Ans
- 1. health persons might
 - 2. No improvement
 - 3. healthy person may
 - 4. healthy persons would

Question Type : MCQ

Question ID : 264330135540

Option 1 ID : 264330531063

Option 2 ID : 264330531066

Option 3 ID : 264330531064

Option 4 ID : 264330531065

Status : Answered

Chosen Option : 3

Q.17 Identify the segment that contains a grammatical error. If there is no error, select 'No error'.

At night, lying sleepless, he considered / sending messengers besides the country, / secretly, in search of his friend.

- Ans
- 1. sending messengers besides the country,
 - 2. At night, lying sleepless, he considered
 - 3. secretly, in search of his friend.
 - 4. No error

Question Type : MCQ

Question ID : 264330135845

Option 1 ID : 264330532248

Option 2 ID : 264330532247

Option 3 ID : 264330532249

Option 4 ID : 264330532250

Status : Answered

Chosen Option : 1

Q.18 Four words are given, out of which three words are spelt correctly. Choose the incorrectly spelt word.

- Ans**
- 1. Publically
 - 2. Referred
 - 3. Separate
 - 4. Recommend

Question Type : **MCQ**
Question ID : **264330135867**
Option 1 ID : **264330532331**
Option 2 ID : **264330532333**
Option 3 ID : **264330532334**
Option 4 ID : **264330532332**
Status : **Answered**
Chosen Option : **3**

Q.19 Select the word from the options which is similar in meaning to the bracketed word given in the sentence below.
They are institutions built to hold and (continue) power for a political group.

- Ans**
- 1. waste
 - 2. release
 - 3. maintain
 - 4. abandon

Question Type : **MCQ**
Question ID : **264330141197**
Option 1 ID : **264330553126**
Option 2 ID : **264330553125**
Option 3 ID : **264330553124**
Option 4 ID : **264330553123**
Status : **Answered**
Chosen Option : **3**

Q.20 The statement below has been given with bracketed text. Select the option with correct idiom for the bracketed text.

They were really (selecting from the last or worst of the resources left) when they picked you.

- Ans**
- 1. pulling up snakes
 - 2. going haywire
 - 3. rolling the stones
 - 4. scraping the bottom of the barrel

Question Type : **MCQ**
Question ID : **264330136286**
Option 1 ID : **264330533925**
Option 2 ID : **264330533926**
Option 3 ID : **264330533924**
Option 4 ID : **264330533923**
Status : **Answered**
Chosen Option : **4**

Comprehension:

In the following passage some words have been deleted. Fill in the blanks with the help of the alternatives given. Select the most appropriate option for each number.

The term Democracy (1) _____ from the Greek (2) _____ dêmos (people) and Kratos (power). In its (3) _____ meaning, democracy means the "rule of the people". In fact it is a form of government in which all eligible people have an (4) _____ say in the decisions that affect their lives. Democracy (5) _____ a political systems existed in some Greek city-states, notably Athens following a popular uprising in 508 BC.

SubQuestion No : 21

Q.21 Select the most appropriate option to fill in blank number 1.

- Ans**
- 1. comes
 - 2. will come
 - 3. is coming
 - 4. came

Question Type : **MCQ**

Question ID : **264330135672**

Option 1 ID : **264330531580**

Option 2 ID : **264330531581**

Option 3 ID : **264330531582**

Option 4 ID : **264330531579**

Status : **Answered**

Chosen Option : **1**

Comprehension:

In the following passage some words have been deleted. Fill in the blanks with the help of the alternatives given. Select the most appropriate option for each number.

The term Democracy (1) _____ from the Greek (2) _____ dêmos (people) and Kratos (power). In its (3) _____ meaning, democracy means the "rule of the people". In fact it is a form of government in which all eligible people have an (4) _____ say in the decisions that affect their lives. Democracy (5) _____ a political systems existed in some Greek city-states, notably Athens following a popular uprising in 508 BC.

SubQuestion No : 22

Q.22 Select the most appropriate option to fill in blank number 2.

- Ans**
- 1. words
 - 2. letters
 - 3. numbers
 - 4. symbols

Question Type : **MCQ**

Question ID : **264330135673**

Option 1 ID : **264330531585**

Option 2 ID : **264330531586**

Option 3 ID : **264330531584**

Option 4 ID : **264330531583**

Status : **Answered**

Chosen Option : **1**

Comprehension:

In the following passage some words have been deleted. Fill in the blanks with the help of the alternatives given. Select the most appropriate option for each number.

The term Democracy (1) _____ from the Greek (2) _____ dêmos (people) and Kratos (power). In its (3) _____ meaning, democracy means the "rule of the people". In fact it is a form of government in which all eligible people have an (4) _____ say in the decisions that affect their lives. Democracy (5) _____ a political systems existed in some Greek city-states, notably Athens following a popular uprising in 508 BC.

SubQuestion No : 23

Q.23 Select the most appropriate option to fill in blank number 3.

- Ans**
- 1. metaphorical
 - 2. literal
 - 3. figurative
 - 4. hyperbole

Question Type : **MCQ**

Question ID : **264330135674**

Option 1 ID : **264330531588**

Option 2 ID : **264330531590**

Option 3 ID : **264330531587**

Option 4 ID : **264330531589**

Status : **Answered**

Chosen Option : **2**

Comprehension:

In the following passage some words have been deleted. Fill in the blanks with the help of the alternatives given. Select the most appropriate option for each number.

The term Democracy (1) _____ from the Greek (2) _____ dêmos (people) and Kratos (power). In its (3) _____ meaning, democracy means the "rule of the people". In fact it is a form of government in which all eligible people have an (4) _____ say in the decisions that affect their lives. Democracy (5) _____ a political systems existed in some Greek city-states, notably Athens following a popular uprising in 508 BC.

SubQuestion No : 24

Q.24 Select the most appropriate option to fill in blank number 4.

- Ans**
- 1. irregular
 - 2. equal
 - 3. unequal
 - 4. unfair

Question Type : **MCQ**

Question ID : **264330135675**

Option 1 ID : **264330531594**

Option 2 ID : **264330531593**

Option 3 ID : **264330531592**

Option 4 ID : **264330531591**

Status : **Answered**

Chosen Option : **2**

Comprehension:

In the following passage some words have been deleted. Fill in the blanks with the help of the alternatives given. Select the most appropriate option for each number.

The term Democracy (1) _____ from the Greek (2) _____ dêmos (people) and Kratos (power). In its (3) _____ meaning, democracy means the "rule of the people". In fact it is a form of government in which all eligible people have an (4) _____ say in the decisions that affect their lives. Democracy (5) _____ a political systems existed in some Greek city-states, notably Athens following a popular uprising in 508 BC.

SubQuestion No : 25

Q.25 Select the most appropriate option to fill in blank number 5.

- Ans
- 1. as
 - 2. in
 - 3. over
 - 4. of

Question Type : **MCQ**

Question ID : **264330135676**

Option 1 ID : **264330531595**

Option 2 ID : **264330531596**

Option 3 ID : **264330531598**

Option 4 ID : **264330531597**

Status : **Answered**

Chosen Option : **2**