

Multi Tasking Non Technical Staff and Havaldar CBIC and CBN Examination 2022

| | |
|----------------|---|
| Roll Number | |
| Candidate Name | |
| Venue Name | Markandey Mahadev Infotech Pvt Ltd |
| Exam Date | 15/06/2023 |
| Exam Time | 3:30 PM - 5:00 PM |
| Subject | MTS Non Tech Havaldar CBIC and CBN Examination 2022 |

Section : Numerical and Mathematical Ability

Q.1 एक पंखे के विक्रय मूल्य का 40 प्रतिशत, पंखे के क्रय मूल्य के 4/5 के बराबर है। लाभ प्रतिशत क्या है?

- Ans
- 1. 150 प्रतिशत
 - 2. 125 प्रतिशत
 - 3. 120 प्रतिशत
 - 4. 100 प्रतिशत

Question Type : MCQ
Question ID : 264330140539
Option 1 ID : 264330550513
Option 2 ID : 264330550512
Option 3 ID : 264330550511
Option 4 ID : 264330550514
Status : Not Answered
Chosen Option : --

Q.2 एक संख्या में 20% की वृद्धि की जाती है और फिर वही संख्या में 20% की कमी की जाती है। निवल वृद्धि या कमी है:

- Ans
- 1. वृद्धि 2%
 - 2. कमी 4%
 - 3. कमी 2%
 - 4. वृद्धि 4%

Question Type : MCQ
Question ID : 264330140802
Option 1 ID : 264330551557
Option 2 ID : 264330551556
Option 3 ID : 264330551558
Option 4 ID : 264330551555
Status : Answered
Chosen Option : 2

Q.3 एक समचतुर्भुज का एक विकर्ण दूसरे विकर्ण का 70 प्रतिशत है। समचतुर्भुज के क्षेत्रफल और बड़े विकर्ण की लंबाई के वर्ग का अनुपात क्या है?

- Ans 1. 7 : 20
 2. 5 : 17
 3. 20 : 7
 4. 6 : 19

Question Type : MCQ

Question ID : 264330140577

Option 1 ID : 264330550662

Option 2 ID : 264330550661

Option 3 ID : 264330550659

Option 4 ID : 264330550660

Status : Not Answered

Chosen Option : --

Q.4 वह सबसे छोटी पूर्ण वर्ग संख्या क्या है, जो 12, 84 और 24 में से प्रत्येक से पूर्णतः विभाज्य है?

- Ans 1. 7056
 2. 1764
 3. 11664
 4. 2304

Question Type : MCQ

Question ID : 264330140548

Option 1 ID : 264330550549

Option 2 ID : 264330550550

Option 3 ID : 264330550547

Option 4 ID : 264330550548

Status : Answered

Chosen Option : 1

Q.5 Rs. 30 प्रति किलो मूल्य वाली चीनी को Rs. 40 प्रति किलो मूल्य वाली चीनी के साथ किस अनुपात में मिलाया जाना चाहिए ताकि प्राप्त मिश्रण का मूल्य Rs. 37 प्रति किलो हो जाए?

- Ans 1. 8 : 9
 2. 4 : 3
 3. 3 : 7
 4. 9 : 5

Question Type : MCQ

Question ID : 264330140541

Option 1 ID : 264330550521

Option 2 ID : 264330550519

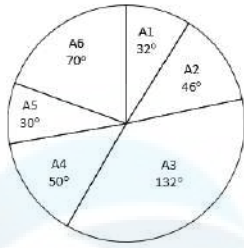
Option 3 ID : 264330550522

Option 4 ID : 264330550520

Status : Answered

Chosen Option : 3

Q.6 नीचे दिए गए वृत्त आलेख में 6 अलग-अलग वस्तुओं के मूल्यों को दर्शाया गया है। इन सभी 6 वस्तुओं का कुल मूल्य 5040 है। इनमें से किसी एक विशिष्ट वस्तु के मूल्य को इन सभी 6 वस्तुओं के कुल मूल्य के सापेक्ष डिग्री में दर्शाया गया है।



निम्नलिखित में से कौन-सा कथन सही नहीं है?

- A1, A2, A4 और A6 का कुल मूल्य 2772 है।
- A3 और A5 के कुल मूल्य तथा A4 और A6 के कुल मूल्य के बीच का अंतर 488 है।

- Ans
1. I और II दोनों
 2. न तो I और न ही II
 3. केवल I
 4. केवल II

Question Type : MCQ

Question ID : 264330140552

Option 1 ID : 264330550565

Option 2 ID : 264330550566

Option 3 ID : 264330550563

Option 4 ID : 264330550564

Status : Answered

Chosen Option : 2

Q.7 0.25 और 1.25 का महत्तम समापवर्तक (HCF) क्या होगा?

- Ans
1. 0.5
 2. 1.25
 3. 2.5
 4. 0.25

Question Type : MCQ

Question ID : 264330140798

Option 1 ID : 264330551540

Option 2 ID : 264330551539

Option 3 ID : 264330551542

Option 4 ID : 264330551541

Status : Answered

Chosen Option : 1

Q.8 एक धनराशि को A, B और C के बीच 3:2:5 के अनुपात में बाँटा जाता है। Rs.126 में से C को कितनी धनराशि मिलेगी?

- Ans
- 1. Rs.66
 - 2. Rs.63
 - 3. Rs.62
 - 4. Rs.43

Question Type : MCQ

Question ID : 264330140808

Option 1 ID : 264330551581

Option 2 ID : 264330551579

Option 3 ID : 264330551582

Option 4 ID : 264330551580

Status : Answered

Chosen Option : 2

Q.9 एक धावक 10 km/hr की चाल से सुबह 5 : 00 बजे एक बिंदु से दौड़ना शुरू करता है। एक दूसरा धावक 15 km/hr की चाल से समान बिंदु से समान दिशा में सुबह 8 : 00 बजे दौड़ना शुरू करता है। दूसरा धावक उसी दिन के कितने बजे पहले धावक से आगे निकल जाएगा?

- Ans
- 1. दोपहर 12 : 30 बजे
 - 2. दोपहर 12 : 00 बजे
 - 3. दोपहर 1 : 00 बजे
 - 4. दोपहर 2 : 00 बजे

Question Type : MCQ

Question ID : 264330140155

Option 1 ID : 264330549001

Option 2 ID : 264330548999

Option 3 ID : 264330549002

Option 4 ID : 264330549000

Status : Not Answered

Chosen Option : --

Q.10 $\frac{91 + 13 \text{ of } (45 \div 21 \times 14 \div 5) - 22 \times 4}{(42 \times 21 \div 168 \times 2) - (66 \text{ of } 15 \div 90)}$ का मान क्या है?

- Ans
- 1. -162
 - 2. -172
 - 3. -81
 - 4. -144

Question Type : MCQ

Question ID : 264330140190

Option 1 ID : 264330549141

Option 2 ID : 264330549139

Option 3 ID : 264330549140

Option 4 ID : 264330549142

Status : Not Answered

Chosen Option : --

Q.11 एक नगर की जनसंख्या में 20 प्रतिशत वार्षिक की दर से वृद्धि होती है। यदि 2 वर्ष बाद नगर की जनसंख्या 69,120 होगी, तो नगर की वर्तमान जनसंख्या कितनी है?

- Ans
- 1. 40000
 - 2. 36000
 - 3. 48000
 - 4. 42000

Question Type : MCQ
Question ID : 264330139639
Option 1 ID : 264330546972
Option 2 ID : 264330546971
Option 3 ID : 264330546973
Option 4 ID : 264330546974
Status : Answered
Chosen Option : 3

Q.12 एक बस पहले घंटे में 60 km, दूसरे घंटे में 40 km और तीसरे घंटे में 50 km की यात्रा करती है। बस की औसत चाल क्या है?

- Ans
- 1. 55 km/hr
 - 2. 50 km/hr
 - 3. 45 km/hr
 - 4. 60 km/hr

Question Type : MCQ
Question ID : 264330140825
Option 1 ID : 264330551649
Option 2 ID : 264330551648
Option 3 ID : 264330551647
Option 4 ID : 264330551650
Status : Answered
Chosen Option : 2

Q.13 20 दिनों तक कार्य करने के बाद, शिखा को पता चलता है कि केवल 20 प्रतिशत कार्य ही पूरा हुआ है। वह टीना को नियुक्त करती है जो शिखा से 100 प्रतिशत अधिक कुशल है। टीना अकेले पूरे कार्य को कितने दिनों में पूरा कर सकती है?

- Ans
- 1. 30 दिन
 - 2. 50 दिन
 - 3. 40 दिन
 - 4. 60 दिन

Question Type : MCQ
Question ID : 264330139952
Option 1 ID : 264330548190
Option 2 ID : 264330548187
Option 3 ID : 264330548188
Option 4 ID : 264330548189
Status : Not Answered
Chosen Option : --

Q.14 यदि किसी बेलन की विज्या में 16 प्रतिशत की कमी कर दी जाए, तो उसकी ऊँचाई में कितने प्रतिशत की वृद्धि करनी होगी, ताकि बेलन का आयतन वही रहे?

- Ans
- ✓ 1. 41.72 प्रतिशत
 - ✗ 2. 36.43 प्रतिशत
 - ✗ 3. 32.96 प्रतिशत
 - ✗ 4. 45.28 प्रतिशत

Question Type : MCQ

Question ID : 264330140576

Option 1 ID : 264330550658

Option 2 ID : 264330550657

Option 3 ID : 264330550655

Option 4 ID : 264330550656

Status : Answered

Chosen Option : 2

Q.15 एक कार का अंकित मूल्य Rs. 600000 है। राहुल उस कार को 30 प्रतिशत और 20 प्रतिशत की दो क्रमागत छूट पर खरीदता है। यदि कार का उपयोग करने के बाद, वह कार को Rs. 478000 में बेचता है, तो उसका लाभ प्रतिशत कितना है?

- Ans
- ✗ 1. 36.85 प्रतिशत
 - ✗ 2. 39.87 प्रतिशत
 - ✗ 3. 33.33 प्रतिशत
 - ✓ 4. 42.26 प्रतिशत

Question Type : MCQ

Question ID : 264330140595

Option 1 ID : 264330550732

Option 2 ID : 264330550731

Option 3 ID : 264330550733

Option 4 ID : 264330550734

Status : Answered

Chosen Option : 4

Q.16 यदि एक राशि का साधारण ब्याज पर निवेश किया जाता है, तो वह राशि 4 वर्ष में स्वयं की 3/2 हो जाती है। वार्षिक ब्याज दर क्या है?

- Ans
- ✗ 1. 6.5 प्रतिशत
 - ✗ 2. 10 प्रतिशत
 - ✓ 3. 12.5 प्रतिशत
 - ✗ 4. 17.5 प्रतिशत

Question Type : MCQ

Question ID : 264330140203

Option 1 ID : 264330549191

Option 2 ID : 264330549192

Option 3 ID : 264330549193

Option 4 ID : 264330549194

Status : Answered

Chosen Option : 3

Q.17 एक दुकानदार एक वस्तु को 20 प्रतिशत लाभ पर बेचता है। यदि उसने इसे 10 प्रतिशत कम मूल्य पर खरीदा होता और इसे Rs. 48 कम में बेचा होता, तो उसे 20 प्रतिशत का लाभ होता। वस्तु का क्रय मूल्य क्या है?

- Ans
- 1. Rs. 340
 - 2. Rs. 460
 - 3. Rs. 520
 - 4. Rs. 400

Question Type : MCQ

Question ID : 264330140220

Option 1 ID : 264330549261

Option 2 ID : 264330549259

Option 3 ID : 264330549262

Option 4 ID : 264330549260

Status : Answered

Chosen Option : 3

Q.18 B और C अकेले एक कार्य को क्रमशः 10 दिन और 30 दिन में पूरा कर सकते हैं। उन्होंने साथ मिलकर कार्य शुरू किया लेकिन B ने कुछ दिनों के बाद कार्य छोड़ दिया और C ने शेष कार्य को 10 दिनों में पूरा किया। कार्य की शुरुआत से कितने दिनों के बाद B ने कार्य छोड़ा?

- Ans
- 1. 6 दिन
 - 2. 4 दिन
 - 3. 8 दिन
 - 4. 5 दिन

Question Type : MCQ

Question ID : 264330140194

Option 1 ID : 264330549157

Option 2 ID : 264330549156

Option 3 ID : 264330549158

Option 4 ID : 264330549155

Status : Answered

Chosen Option : 4

Q.19 दी गई तालिका में वर्ष 2016 के एशियाई खेलों में चार अलग-अलग देशों द्वारा जीते गए पदकों की संख्या से संबंधित डेटा को दर्शाया गया है। चीन द्वारा जीते गए रजत पदकों की संख्या और भारत द्वारा जीते गए स्वर्ण पदकों की संख्या का अनुपात कितना है?

| Country | Gold Medals | Silver Medals | Bronze Medals |
|---------|-------------|---------------|---------------|
| China | 31 | 36 | 36 |
| India | 18 | 22 | 28 |
| Russia | 26 | 16 | 25 |
| Japan | 10 | 18 | 15 |

Country- देश, Gold Medals- स्वर्ण पदक, Silver Medals- रजत पदक, Bronze Medals- कांस्य पदक

China- चीन, India- भारत, Russia- रूस, Japan- जापान

- Ans**
- 1. 4:9
 - 2. 2:1
 - 3. 3:2
 - 4. 5:9

Question Type : **MCQ**

Question ID : **264330139052**

Option 1 ID : **264330544817**

Option 2 ID : **264330544816**

Option 3 ID : **264330544815**

Option 4 ID : **264330544818**

Status : **Answered**

Chosen Option : **2**

Q.20 40 परिणामों का औसत 15 है। यदि प्रत्येक परिणाम में से 5 घटा दिया जाए, तो परिणामों का नया औसत क्या होगा?

- Ans**
- 1. 11
 - 2. 15
 - 3. 12
 - 4. 10

Question Type : **MCQ**

Question ID : **264330139914**

Option 1 ID : **264330548035**

Option 2 ID : **264330548036**

Option 3 ID : **264330548037**

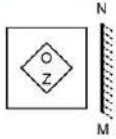
Option 4 ID : **264330548038**

Status : **Answered**

Chosen Option : **4**

Section : Reasoning Ability and Problem Solving

Q.1 दी गई आकृति के उस सही दर्पण प्रतिबिंब को चुनिए जो दर्पण MN को आकृति के दाईं ओर रखने पर बनेगा।



Ans


✗ 1.



✗ 2.



✓ 3.



✗ 4.



Question Type : MCQ

Question ID : 264330140030

Option 1 ID : 264330548502

Option 2 ID : 264330548501

Option 3 ID : 264330548499

Option 4 ID : 264330548500

Status : Answered

Chosen Option : 3

Q.2 उस विकल्प को चुनिए जिसमें समुच्चय की संख्याएँ वही संबंध साझा करती हैं जो दिए गए समुच्चय में संख्याओं द्वारा साझा किया जाता है। (ध्यान दें: संख्याओं को उनके घटक अंकों में अलग-अलग किए बिना, पूर्ण संख्याओं पर संक्रियाएँ की जानी चाहिए। उदा. 13 - 13 पर संक्रियाएँ जैसे 13 को जोड़ना /घटाना /गुणा करना आदि किया जा सकता है। 13 को 1 और 3 में अलग-अलग करने की और फिर 1 और 3 पर गणितीय संक्रियाएँ करने की अनुमति नहीं है)

(20, 70, 120)

(120, 170, 220)

Ans

✗ 1. (320, 380, 420)

✗ 2. (420, 470, 530)

✗ 3. (220, 270, 330)

✓ 4. (420, 470, 520)

Question Type : MCQ

Question ID : 264330140970

Option 1 ID : 264330552229

Option 2 ID : 264330552228

Option 3 ID : 264330552227

Option 4 ID : 264330552230

Status : Answered

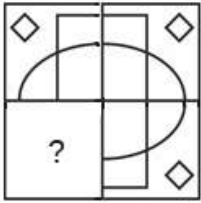
Chosen Option : 4

Q.3 उस विकल्प को चुनिए जो तीसरी संख्या से ठीक उसी प्रकार संबंधित है जिस प्रकार दूसरी संख्या पहली संख्या से संबंधित है।
289 : 306 :: 196 : ?

- Ans
- ✓ 1. 210
 - ✗ 2. 320
 - ✗ 3. 225
 - ✗ 4. 512

Question Type : MCQ
Question ID : 264330140004
Option 1 ID : 264330548395
Option 2 ID : 264330548396
Option 3 ID : 264330548397
Option 4 ID : 264330548398
Status : Answered
Chosen Option : 1

Q.4 कौनसी उत्तर आकृति प्रश्न आकृति में दिए गए पैटर्न को पूरा करेगी?



Ans

- ✗ 1.
- ✓ 2.
- ✗ 3.
- ✗ 4.

Question Type : MCQ
Question ID : 264330139587
Option 1 ID : 264330546763
Option 2 ID : 264330546765
Option 3 ID : 264330546766
Option 4 ID : 264330546764
Status : Answered
Chosen Option : 2

Q.5 उस विकल्प को चुनिए जो तीसरे शब्द से ठीक उसी तरह संबंधित है जिस तरह दूसरा शब्द पहले शब्द से संबंधित है।
पोलिया : यकृत :: क्षय रोग : ?

Ans 1. फेफड़े

2. पैर

3. आमाशय

4. हृदय

Question Type : MCQ

Question ID : 264330140034

Option 1 ID : 264330548517

Option 2 ID : 264330548516

Option 3 ID : 264330548518

Option 4 ID : 264330548515

Status : Answered

Chosen Option : 1

Q.6 दी गई श्रृंखला में निम्नलिखित में से कौन-सी संख्या प्रश्न चिन्ह (?) के स्थान पर आएगी?
43, 51, 78, 142, 267, ?

Ans 1. 483

2. 493

3. 473

4. 463

Question Type : MCQ

Question ID : 264330140484

Option 1 ID : 264330550317

Option 2 ID : 264330550318

Option 3 ID : 264330550316

Option 4 ID : 264330550315

Status : Not Answered

Chosen Option : --

Q.7 आठ खिलाड़ी अनिल, कमल, राम, संजय, आकाश, विवेक, राहुल और रामू एक वृत्ताकार मेज के चारों ओर केंद्र की ओर मुख करके बैठे हैं (परंतु जरूरी नहीं कि वे इसी क्रम में बैठें हों)। संजय, अनिल के बाईं ओर से दूसरे स्थान पर है। राहुल, अनिल के दाईं ओर से चौथे स्थान पर है। राम, राहुल या संजय का निकटतम पड़ोसी नहीं है। आकाश, राम के दाईं ओर से दूसरे स्थान पर है। कमल, विवेक के दाईं ओर से दूसरे स्थान पर है। रामू के दाईं ओर से दूसरे स्थान पर कौन है?

Ans 1. विवेक

2. राहुल

3. संजय

4. कमल

Question Type : MCQ

Question ID : 264330140982

Option 1 ID : 264330552276

Option 2 ID : 264330552278

Option 3 ID : 264330552277

Option 4 ID : 264330552275

Status : Not Answered

Chosen Option : --

Q.8 दी गई श्रृंखला में निम्नलिखित में से कौन-सा अक्षर-समूह प्रश्न चिन्ह (?) के स्थान पर आएगा?
VY, ZC, DG, HK, ?

- Ans
- 1. LM
 - 2. MO
 - 3. LO
 - 4. LN

Question Type : MCQ
Question ID : 264330140432
Option 1 ID : 264330550108
Option 2 ID : 264330550110
Option 3 ID : 264330550107
Option 4 ID : 264330550109
Status : Answered
Chosen Option : 3

Q.9 एक निश्चित कूट भाषा में, 'ARMY' को 'CPOW' लिखा जाता है। उस भाषा में 'HALF' को कैसे लिखा जाएगा?

- Ans
- 1. JYMD
 - 2. JYND
 - 3. JDYN
 - 4. JNYD

Question Type : MCQ
Question ID : 264330140017
Option 1 ID : 264330548448
Option 2 ID : 264330548449
Option 3 ID : 264330548450
Option 4 ID : 264330548447
Status : Answered
Chosen Option : 2

Q.10 तीन कथन दिए गए हैं और दो निष्कर्ष I और II दिए गए हैं। कथनों को सत्य मानते हुए, चाहे वे सामान्यतः ज्ञात तथ्यों से अलग प्रतीत होते हों, निश्चय कीजिए कि कौन-सा निष्कर्ष तार्किक रूप से कथनों के अनुसार है।

कथन:

कुछ किताबें, कलमें हैं।
कुछ किताबें, कॉपियाँ हैं।
सभी कॉपियाँ, पेंसिलें हैं।

निष्कर्ष:

- I. कुछ पेंसिलें, कलमें हैं।
- II. कुछ पेंसिलें, किताबें हैं।

- Ans
- 1. सिर्फ निष्कर्ष II कथनों के अनुसार है
 - 2. दोनों निष्कर्ष I और II कथनों के अनुसार हैं
 - 3. निष्कर्ष I और II में से कोई भी कथनों के अनुसार नहीं है
 - 4. सिर्फ निष्कर्ष I कथनों के अनुसार है

Question Type : MCQ
Question ID : 264330135358
Option 1 ID : 264330530340
Option 2 ID : 264330530341
Option 3 ID : 264330530342
Option 4 ID : 264330530339
Status : Answered
Chosen Option : 3

Q.11 दो कथन दिए गए हैं और दो निष्कर्ष I और II दिए गए हैं। कथनों को सत्य मानते हुए, चाहे वे सामान्यतः ज्ञात तथ्यों से अलग प्रतीत होते हों, निश्चय कीजिए कि कौन-सा निष्कर्ष तार्किक रूप से कथनों के अनुसार है।

कथन:

कोई बत्तख, गुड़िया नहीं है।

सभी अंडे, गुड़िया हैं।

निष्कर्ष:

I. कोई बत्तख, अंडा नहीं है।

II. कुछ गुड़िया, अंडे हैं।

Ans

- ✓ 1. दोनों निष्कर्ष I और II कथनों के अनुसार हैं
- ✗ 2. निष्कर्ष I और II में से कोई भी कथनों के अनुसार नहीं है
- ✗ 3. सिर्फ निष्कर्ष II कथनों के अनुसार है
- ✗ 4. सिर्फ निष्कर्ष I कथनों के अनुसार है

Question Type : MCQ

Question ID : 264330135357

Option 1 ID : 264330530337

Option 2 ID : 264330530338

Option 3 ID : 264330530336

Option 4 ID : 264330530335

Status : Answered

Chosen Option : 1

Q.12 पाँच लड़कियों अंजू, बिट्टू, चारुल, दृष्टि और सारा में सभी की उम्र अलग-अलग है। अंजू केवल दृष्टि और सारा से छोटी है। सारा दृष्टि से छोटी है और बिट्टू से बड़ी है। चारुल सबसे छोटी है। लड़कियों में चौथी सबसे बड़ी कौन है?

Ans

- ✓ 1. बिट्टू
- ✗ 2. सारा
- ✗ 3. दृष्टि
- ✗ 4. चारुल

Question Type : MCQ

Question ID : 264330140041

Option 1 ID : 264330548543

Option 2 ID : 264330548544

Option 3 ID : 264330548546

Option 4 ID : 264330548545

Status : Not Answered

Chosen Option : --

Q.13 यदि A का अर्थ 'जोड़', B का अर्थ 'गुणा', C का अर्थ 'घटाव' और D का अर्थ 'भाग' हो, तो निम्नलिखित समीकरण का मान क्या होगा?

8 B 4 A 7 C 21 = ?

Ans

- ✗ 1. 16
- ✓ 2. 18
- ✗ 3. 21
- ✗ 4. 26

Question Type : MCQ

Question ID : 264330135364

Option 1 ID : 264330530364

Option 2 ID : 264330530366

Option 3 ID : 264330530363

Option 4 ID : 264330530365

Status : Answered

Chosen Option : 2

Q.14 नीचे दिए गए समीकरण में कौन-से गणितीय चिन्हों को आपस में बदला जाना चाहिए जिससे यह समीकरण गणितीय रूप से सही हो जाएगा?
 $45 - 5 + 96 + 8 \times 24 = 9$

- Ans
- ✓ 1. + और ×
 - ✗ 2. × और -
 - ✗ 3. ÷ और -
 - ✗ 4. + और -

Question Type : MCQ
Question ID : 264330140108
Option 1 ID : 264330548811
Option 2 ID : 264330548813
Option 3 ID : 264330548812
Option 4 ID : 264330548814
Status : Answered
Chosen Option : 1

Q.15 एक निश्चित कूट भाषा में, 'CASHEW' को 'WEHSAC' लिखा जाता है। उस कूट भाषा में 'FLORAL' को कैसे लिखा जाएगा?

- Ans
- ✗ 1. LAROFL
 - ✗ 2. LAORLF
 - ✗ 3. ALROFL
 - ✓ 4. LAROLF

Question Type : MCQ
Question ID : 264330138792
Option 1 ID : 264330543777
Option 2 ID : 264330543775
Option 3 ID : 264330543776
Option 4 ID : 264330543778
Status : Answered
Chosen Option : 4

Q.16 उस विकल्प को चुनिए जो तीसरे शब्द से ठीक उसी तरह संबंधित है जिस तरह दूसरा शब्द पहले शब्द से संबंधित है।
ताजमहल : आगरा :: कुतुब मीनार : ?

- Ans
- ✗ 1. मुंबई
 - ✓ 2. दिल्ली
 - ✗ 3. चेन्नई
 - ✗ 4. रांची

Question Type : MCQ
Question ID : 264330140135
Option 1 ID : 264330548922
Option 2 ID : 264330548920
Option 3 ID : 264330548919
Option 4 ID : 264330548921
Status : Answered
Chosen Option : 2

Q.17 उस विकल्प आकृति को चुनिए जिसमें दी गई आकृति निहित है।(घूर्णन की अनुमति नहीं है)



Ans


✗ 1.



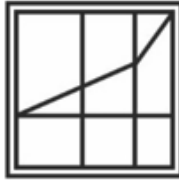
✗ 2.



✗ 3.



✓ 4.



Question Type : MCQ

Question ID : 264330139988

Option 1 ID : 264330548332

Option 2 ID : 264330548333

Option 3 ID : 264330548334

Option 4 ID : 264330548331

Status : Answered

Chosen Option : 4

Q.18 बाँब, ब्रान, बाँट, बटिस्टा और ब्राइन नाम के पाँच पुरुष एक परिधि में केंद्र की ओर मुख करके बैठे हैं। ब्राइन, बाँट के ठीक बाईं ओर और बाँब के ठीक दाईं ओर बैठा है। बटिस्टा, ब्राइन के बाईं ओर दूसरे स्थान पर बैठा है। ब्रान के ठीक दाईं ओर कौन बैठा है?

Ans

✓ 1. बटिस्टा

✗ 2. ब्राइन

✗ 3. बाँब

✗ 4. बाँट

Question Type : MCQ

Question ID : 264330139998

Option 1 ID : 264330548371

Option 2 ID : 264330548374

Option 3 ID : 264330548372

Option 4 ID : 264330548373

Status : Not Answered

Chosen Option : --

Q.19 एक निश्चित कूट भाषा में, 'SPEAKER' को '2613517' लिखा जाता है, 'TACKLE' को '934501' लिखा जाता है। उस कूट भाषा में 'PEACE' को कैसे लिखा जाएगा?

- Ans
- 1. 51341
 - 2. 61341
 - 3. 62342
 - 4. 61241

Question Type : MCQ

Question ID : 264330139532

Option 1 ID : 264330546546

Option 2 ID : 264330546544

Option 3 ID : 264330546545

Option 4 ID : 264330546543

Status : Answered

Chosen Option : 2

Q.20 दी गई श्रृंखला में निम्नलिखित में से कौन-सी संख्या प्रश्न चिन्ह (?) के स्थान पर आएगी?
71, 73, 76, 81, 88, 99, 112, ?

- Ans
- 1. 129
 - 2. 139
 - 3. 140
 - 4. 130

Question Type : MCQ

Question ID : 264330140023

Option 1 ID : 264330548472

Option 2 ID : 264330548471

Option 3 ID : 264330548474

Option 4 ID : 264330548473

Status : Answered

Chosen Option : 1

Section : General Awareness

Q.1 रामकृष्ण मिशन की स्थापना किसने की थी?

- Ans
- 1. तरुण सागर
 - 2. स्वामी विवेकानंद
 - 3. जम्बुविजय (Jambuvijaya)
 - 4. गौर गोपाल दास

Question Type : MCQ

Question ID : 264330140742

Option 1 ID : 264330551315

Option 2 ID : 264330551317

Option 3 ID : 264330551318

Option 4 ID : 264330551316

Status : Answered

Chosen Option : 2

Q.2 निम्नलिखित में से कौन सी पुस्तक मिताली राज की आत्मकथा है?

- Ans
- 1. नो होल्डिंग बैक (No Holding Back)
 - 2. वन मोर ओवर (One More Over)
 - 3. अनगार्डेड (Unguarded)
 - 4. ऑल राउंड व्यू (All Round View)

Question Type : MCQ

Question ID : 264330140359

Option 1 ID : 264330549818

Option 2 ID : 264330549815

Option 3 ID : 264330549817

Option 4 ID : 264330549816

Status : Answered

Chosen Option : 3

Q.3 मछलियों के हृदय में _____ कक्ष होता है / होते हैं।

- Ans
- 1. चार
 - 2. दो
 - 3. तीन
 - 4. एक

Question Type : MCQ

Question ID : 264330140281

Option 1 ID : 264330549506

Option 2 ID : 264330549504

Option 3 ID : 264330549505

Option 4 ID : 264330549503

Status : Answered

Chosen Option : 3

Q.4 निम्नलिखित में से किसे वर्ष 1956 में भारत सरकार द्वारा सभी मौजूदा निजी क्षेत्र की जीवन बीमा कंपनियों का राष्ट्रीयकरण करके स्थापित किया गया था?

- Ans
- 1. जनरल इश्योरेंस कारपोरेशन ऑफ इंडिया (General Insurance Corporation of India)
 - 2. न्यू इंडिया एश्योरेंस कंपनी लिमिटेड (New India Assurance Company Limited)
 - 3. यूनाइटेड इंडिया इश्योरेंस कंपनी लिमिटेड (United India Insurance Company Limited)
 - 4. भारतीय जीवन बीमा निगम (Life Insurance Corporation of India)

Question Type : MCQ

Question ID : 264330140725

Option 1 ID : 264330551247

Option 2 ID : 264330551250

Option 3 ID : 264330551248

Option 4 ID : 264330551249

Status : Answered

Chosen Option : 4

Q.5 2022 में संसद में पारित निम्नलिखित में से किस विधेयक ने 'बंदी पहचान अधिनियम, 1920' को प्रतिस्थापित किया है?

- Ans
- 1. चुनाव कानून (संशोधन) विधेयक
 - 2. कृषि कानून निरसन विधेयक
 - 3. केंद्रीय सतर्कता आयोग (संशोधन) विधेयक
 - 4. आपराधिक प्रक्रिया (पहचान) अधिनियम

Question Type : MCQ
Question ID : 264330140701
Option 1 ID : 264330551152
Option 2 ID : 264330551154
Option 3 ID : 264330551153
Option 4 ID : 264330551151
Status : Answered
Chosen Option : 4

Q.6 पंकज आडवाणी का संबंध किस खेल से है?

- Ans
- 1. बिलियर्ड्स
 - 2. शतरंज
 - 3. टेबल टेनिस
 - 4. गोल्फ

Question Type : MCQ
Question ID : 264330139677
Option 1 ID : 264330547125
Option 2 ID : 264330547123
Option 3 ID : 264330547124
Option 4 ID : 264330547126
Status : Answered
Chosen Option : 1

Q.7 वे वस्तुएँ जो एक निश्चित समय अंतराल के पश्चात् अपनी गति को दोहराती हैं, _____ में कहलाती हैं।

- Ans
- 1. वर्तुल गति
 - 2. आवर्ती गति
 - 3. सरल रेखीय गति
 - 4. अर्द्ध-वर्तुल गति

Question Type : MCQ
Question ID : 264330139689
Option 1 ID : 264330547172
Option 2 ID : 264330547171
Option 3 ID : 264330547173
Option 4 ID : 264330547174
Status : Answered
Chosen Option : 3

Q.8 चोल (Chola), चेर (Chera) और पांड्य (Pandyas) राजवंश भारत के किस प्राचीन काल के शासक थे?

- Ans
- 1. महाजनपद काल
 - 2. गुप्त काल
 - 3. मौर्य काल
 - 4. संगम काल

Question Type : MCQ

Question ID : 264330140689

Option 1 ID : 264330551104

Option 2 ID : 264330551106

Option 3 ID : 264330551103

Option 4 ID : 264330551105

Status : Answered

Chosen Option : 3

Q.9 1917 में किस भारतीय आंदोलन में पहली बार नील बागानों की समस्याओं को प्रकट किया गया?

- Ans
- 1. खेड़ा सत्याग्रह
 - 2. चंपारण आंदोलन
 - 3. असहयोग आंदोलन
 - 4. अहमदाबाद मिल हड़ताल

Question Type : MCQ

Question ID : 264330140741

Option 1 ID : 264330551313

Option 2 ID : 264330551311

Option 3 ID : 264330551314

Option 4 ID : 264330551312

Status : Answered

Chosen Option : 2

Q.10 एक राज्यसभा सदस्य का कार्यकाल कितने वर्षों का होता है?

- Ans
- 1. दो वर्ष
 - 2. छः वर्ष
 - 3. तीन वर्ष
 - 4. पाँच वर्ष

Question Type : MCQ

Question ID : 264330140672

Option 1 ID : 264330551035

Option 2 ID : 264330551038

Option 3 ID : 264330551037

Option 4 ID : 264330551036

Status : Answered

Chosen Option : 2

Q.11 भारतीय संविधान के 42वें संशोधन की प्रस्तावना में निम्नलिखित में से कौन-से शब्द जोड़े गए थे?

- Ans
- 1. गणतंत्र
 - 2. समाजवादी
 - 3. सार्वभौम
 - 4. लोकतांत्रिक

Question Type : MCQ
Question ID : 264330140337
Option 1 ID : 264330549730
Option 2 ID : 264330549728
Option 3 ID : 264330549727
Option 4 ID : 264330549729
Status : Answered
Chosen Option : 2

Q.12 निम्नलिखित में से कौन-सा भारत के महाराष्ट्र राज्य का एक प्रसिद्ध त्यौहार है?

- Ans
- 1. गुड़ी पड़वा
 - 2. ओणम
 - 3. छठ पूजा
 - 4. उगादि

Question Type : MCQ
Question ID : 264330140320
Option 1 ID : 264330549661
Option 2 ID : 264330549662
Option 3 ID : 264330549660
Option 4 ID : 264330549659
Status : Answered
Chosen Option : 1

Q.13 भारत के उत्तरी भाग में ग्रीष्मकाल में _____ होती है।

- Ans
- 1. वायु दाब में कमी
 - 2. तापमान में कमी
 - 3. भारी वर्षा
 - 4. वायु दाब में वृद्धि

Question Type : MCQ
Question ID : 264330140684
Option 1 ID : 264330551085
Option 2 ID : 264330551084
Option 3 ID : 264330551086
Option 4 ID : 264330551083
Status : Answered
Chosen Option : 4

Q.14 कथकली नृत्य शैली की उत्पत्ति निम्नलिखित में से किस राज्य में हुई है?

- Ans
- 1. केरल
 - 2. कर्नाटक
 - 3. तमिलनाडु
 - 4. उड़ीसा

Question Type : MCQ
Question ID : 264330140344
Option 1 ID : 264330549757
Option 2 ID : 264330549755
Option 3 ID : 264330549756
Option 4 ID : 264330549758
Status : Answered
Chosen Option : 1

Q.15 मध्ययुगीन शब्द "रक्स" का क्या अर्थ था?

- Ans
- 1. जाप
 - 2. अनुष्ठान
 - 3. गायन
 - 4. नृत्य

Question Type : MCQ
Question ID : 264330139888
Option 1 ID : 264330547931
Option 2 ID : 264330547934
Option 3 ID : 264330547932
Option 4 ID : 264330547933
Status : Answered
Chosen Option : 1

Q.16 एक खेल से संबंधित फिल्म, अज़हर (2016) निम्नलिखित में से किस खेल पर आधारित है?

- Ans
- 1. मिक्स्ट मार्शल आर्ट्स
 - 2. क्रिकेट
 - 3. हॉकी
 - 4. मुक्केबाज़ी

Question Type : MCQ
Question ID : 264330138949
Option 1 ID : 264330544406
Option 2 ID : 264330544405
Option 3 ID : 264330544404
Option 4 ID : 264330544403
Status : Answered
Chosen Option : 1

Q.17 किस भारतीय मंत्रालय ने जम्मू और कश्मीर पुनर्गठन विधेयक, 2019 पेश किया था?

- Ans
- 1. विदेश मंत्रालय
 - 2. संसदीय कार्य मंत्रालय
 - 3. गृह मंत्रालय
 - 4. रक्षा मंत्रालय

Question Type : MCQ
Question ID : 264330140368
Option 1 ID : 264330549853
Option 2 ID : 264330549854
Option 3 ID : 264330549852
Option 4 ID : 264330549851
Status : Answered
Chosen Option : 3

Q.18 नर्मदा नदी का उद्गम किस राज्य में स्थित अमरकंटक की पहाड़ियों से होता है?

- Ans
- 1. राजस्थान
 - 2. मध्यप्रदेश
 - 3. महाराष्ट्र
 - 4. गुजरात

Question Type : MCQ
Question ID : 264330139691
Option 1 ID : 264330547181
Option 2 ID : 264330547182
Option 3 ID : 264330547180
Option 4 ID : 264330547179
Status : Answered
Chosen Option : 2

Q.19 निम्नलिखित में से कौन कुचिपुडी नृत्य शैली से संबंधित नहीं है?

- Ans
- 1. वेम्पति चिन्ना सत्यम (Vempati Chinna Satyam)
 - 2. वैजयंती काशी (Vyjayanti Kashi)
 - 3. घनकांत बोरा बोरबायन (Ghanakanta Bora Borbayan)
 - 4. राधा रेड्डी

Question Type : MCQ
Question ID : 264330141065
Option 1 ID : 264330552608
Option 2 ID : 264330552609
Option 3 ID : 264330552610
Option 4 ID : 264330552607
Status : Answered
Chosen Option : 1

Q.20 _____ वे रक्त वाहिनियाँ हैं, जो कार्बन डाइऑक्साइड समृद्ध रक्त को वापस हृदय में ले जाती हैं।

- Ans
- 1. धमनियों
 - 2. तंत्रिका-कोशिकाएँ
 - 3. शिराएँ
 - 4. केशिकाएँ

Question Type : MCQ
Question ID : 264330140280
Option 1 ID : 264330549499
Option 2 ID : 264330549500
Option 3 ID : 264330549501
Option 4 ID : 264330549502
Status : Answered
Chosen Option : 1

Q.21 'स्वर्णिम चतुर्भुज (Golden quadrilateral)' निम्नलिखित में से किस शहर को नहीं जोड़ता है?

- Ans
- 1. दिल्ली
 - 2. चेन्नई
 - 3. मुंबई
 - 4. भोपाल

Question Type : MCQ
Question ID : 264330139765
Option 1 ID : 264330547475
Option 2 ID : 264330547478
Option 3 ID : 264330547476
Option 4 ID : 264330547477
Status : Answered
Chosen Option : 4

Q.22 बौद्ध स्थापत्यकला के स्मारकों में प्रार्थना कक्षों को _____ कहा जाता था।

- Ans
- 1. चैत्य गृह
 - 2. स्तूप
 - 3. विहार
 - 4. पिशतक

Question Type : MCQ
Question ID : 264330140321
Option 1 ID : 264330549663
Option 2 ID : 264330549664
Option 3 ID : 264330549665
Option 4 ID : 264330549666
Status : Answered
Chosen Option : 4

Q.23 निम्नलिखित में से कौन-सा भारतीय राज्य क्षेत्रफल की दृष्टि से सबसे बड़ा है?

- Ans
- ✓ 1. राजस्थान
 - ✗ 2. मध्यप्रदेश
 - ✗ 3. महाराष्ट्र
 - ✗ 4. उत्तरप्रदेश

Question Type : MCQ
Question ID : 264330139717
Option 1 ID : 264330547285
Option 2 ID : 264330547286
Option 3 ID : 264330547283
Option 4 ID : 264330547284
Status : Answered
Chosen Option : 1

Q.24 निम्नलिखित में से कौन एक वैश्विक ख्याति प्राप्त सितार वादक है?

- Ans
- ✓ 1. शाहिद परवेज़ खान
 - ✗ 2. विश्व मोहन भट्ट
 - ✗ 3. गिरिजा देवी
 - ✗ 4. बिस्मिल्लाह खान

Question Type : MCQ
Question ID : 264330138977
Option 1 ID : 264330544515
Option 2 ID : 264330544516
Option 3 ID : 264330544518
Option 4 ID : 264330544517
Status : Answered
Chosen Option : 4

Q.25 दस लाख की आबादी तक पहुँचने वाली प्रथम नगरीय बस्ती _____ थी।

- Ans
- ✓ 1. लंदन
 - ✗ 2. बर्लिन
 - ✗ 3. न्यूयॉर्क
 - ✗ 4. टोक्यो

Question Type : MCQ
Question ID : 264330138991
Option 1 ID : 264330544571
Option 2 ID : 264330544573
Option 3 ID : 264330544572
Option 4 ID : 264330544574
Status : Answered
Chosen Option : 1

Q.1 Fill in the blank with the most appropriate option.

I think she's right to warn you not to _____ your temper.

- Ans
- 1. last
 - 2. lose
 - 3. forget
 - 4. drop

Question Type : MCQ
Question ID : 264330136160
Option 1 ID : 264330533439
Option 2 ID : 264330533441
Option 3 ID : 264330533440
Option 4 ID : 264330533442
Status : Answered
Chosen Option : 2

Q.2 Choose the incorrectly spelt word.

- Ans
- 1. Magic
 - 2. Charity
 - 3. Station
 - 4. Contaxte

Question Type : MCQ
Question ID : 264330135252
Option 1 ID : 264330529927
Option 2 ID : 264330529929
Option 3 ID : 264330529928
Option 4 ID : 264330529930
Status : Answered
Chosen Option : 4

Q.3 Select the most appropriate word for the given group of words.

To reveal a secret

- Ans
- 1. Conceal
 - 2. Discern
 - 3. Divulge
 - 4. Vilify

Question Type : MCQ
Question ID : 264330136201
Option 1 ID : 264330533598
Option 2 ID : 264330533595
Option 3 ID : 264330533596
Option 4 ID : 264330533597
Status : Answered
Chosen Option : 3

Q.4 Select the word segment that substitutes (replaces) the bracketed word segment correctly and completes the sentence meaningfully. Select the option 'no correction required' if the sentence is correct as given.

(Most time) they didn't have enough to eat and went to bed hungry

- Ans**
- 1. No correction required
 - 2. More times
 - 3. Many a time
 - 4. Many a times

Question Type : **MCQ**
Question ID : **264330135692**
Option 1 ID : **264330531662**
Option 2 ID : **264330531659**
Option 3 ID : **264330531661**
Option 4 ID : **264330531660**
Status : **Answered**
Chosen Option : **4**

Q.5 Identify the segment that contains a grammatical error. If there is no error, select 'No error'.
Leaders are self-direct, / but learning and understanding / are the keys to self-direction.

- Ans**
- 1. are the keys to self-direction.
 - 2. Leaders are self-direct,
 - 3. but learning and understanding
 - 4. No error

Question Type : **MCQ**
Question ID : **264330135847**
Option 1 ID : **264330532257**
Option 2 ID : **264330532255**
Option 3 ID : **264330532256**
Option 4 ID : **264330532258**
Status : **Answered**
Chosen Option : **1**

Q.6 Identify the segment that contains a grammatical error. If there is no error, select 'No error'.

Do you have the faint / idea of what would happen / if Maa sees this?

- Ans**
- 1. No error
 - 2. idea of what would happen
 - 3. if Maa sees this?
 - 4. Do you have the faint

Question Type : **MCQ**
Question ID : **264330136562**
Option 1 ID : **264330534986**
Option 2 ID : **264330534984**
Option 3 ID : **264330534985**
Option 4 ID : **264330534983**
Status : **Answered**
Chosen Option : **2**

Q.7 Select the most appropriate synonym of the given word.

Converge

- Ans
- 1. Verbicide
 - 2. Coincide
 - 3. Fratricide
 - 4. Homicide

Question Type : MCQ
Question ID : 264330135835
Option 1 ID : 264330532207
Option 2 ID : 264330532208
Option 3 ID : 264330532209
Option 4 ID : 264330532210
Status : Answered
Chosen Option : 2

Q.8 Find the part of the given sentence that has an error in it. If there is no error, choose 'No error'.

Diseases passed from animals to humans are called zoonoses.

- Ans
- 1. animals to humans
 - 2. are called zoonoses.
 - 3. No error
 - 4. Diseases passed from

Question Type : MCQ
Question ID : 264330135153
Option 1 ID : 264330529548
Option 2 ID : 264330529549
Option 3 ID : 264330529550
Option 4 ID : 264330529547
Status : Answered
Chosen Option : 4

Q.9 Choose the sentence with no spelling error.

- Ans
- 1. Such bloms typically don't lead to deaths.
 - 2. Such blooms typically don't lead to deaths.
 - 3. Such blooms typicilly don't lead to deaths.
 - 4. Such blooms typically don't leade to deaths.

Question Type : MCQ
Question ID : 264330135532
Option 1 ID : 264330531033
Option 2 ID : 264330531031
Option 3 ID : 264330531032
Option 4 ID : 264330531034
Status : Answered
Chosen Option : 2

Q.10 Select the most appropriate synonym to substitute the bracketed word in the given sentence.

I do not object to this (accolade) on the grounds that Edinburgh has little literary tradition.

- Ans**
- 1. Stubborn
 - 2. Criticism
 - 3. Indictment
 - 4. Praise

Question Type : **MCQ**

Question ID : **264330136760**

Option 1 ID : **264330535745**

Option 2 ID : **264330535746**

Option 3 ID : **264330535743**

Option 4 ID : **264330535744**

Status : **Answered**

Chosen Option : **4**

Q.11 Select the appropriate antonym for the underlined word.

What youthful philosophers and experimentalists we are!

- Ans**
- 1. unformed
 - 2. ripened
 - 3. childlike
 - 4. raw

Question Type : **MCQ**

Question ID : **264330135171**

Option 1 ID : **264330529617**

Option 2 ID : **264330529616**

Option 3 ID : **264330529615**

Option 4 ID : **264330529618**

Status : **Answered**

Chosen Option : **3**

Q.12 Improve the underlined part of the sentence. Choose 'No improvement' as an answer if the sentence is grammatically correct.

He had thrown the wrapper into the garbage.

- Ans**
- 1. has throwing the
 - 2. throw the
 - 3. thrown the
 - 4. No improvement

Question Type : **MCQ**

Question ID : **264330135156**

Option 1 ID : **264330529561**

Option 2 ID : **264330529559**

Option 3 ID : **264330529560**

Option 4 ID : **264330529562**

Status : **Answered**

Chosen Option : **4**

Q.13 Select the most appropriate antonym of the given word.

Reservation

- Ans
- 1. Openness
 - 2. Conserve
 - 3. Catch
 - 4. Doubt

Question Type : MCQ

Question ID : 264330136179

Option 1 ID : 264330533513

Option 2 ID : 264330533514

Option 3 ID : 264330533511

Option 4 ID : 264330533512

Status : Answered

Chosen Option : 1

Q.14 Choose the word that can substitute the given group of words.

A place for housing aeroplanes

- Ans
- 1. Hutch
 - 2. Brewery
 - 3. Burrow
 - 4. Hangar

Question Type : MCQ

Question ID : 264330135245

Option 1 ID : 264330529901

Option 2 ID : 264330529902

Option 3 ID : 264330529899

Option 4 ID : 264330529900

Status : Answered

Chosen Option : 4

Q.15 Select the most appropriate option to fill in the blank.

The life of the church seems, indeed, to have been in a more stagnant and _____ condition in this age than at any other period of English history.

- Ans
- 1. torpid
 - 2. truculent
 - 3. tangential
 - 4. expedite

Question Type : MCQ

Question ID : 264330136194

Option 1 ID : 264330533572

Option 2 ID : 264330533574

Option 3 ID : 264330533571

Option 4 ID : 264330533573

Status : Answered

Chosen Option : 2

Q.16 Select the most appropriate meaning of the given idiom.

Be at a crossroads

- Ans
- 1. To be confused
 - 2. To have forgotten the way
 - 3. To make a very important decision
 - 4. To have taken the wrong road

Question Type : MCQ
Question ID : 264330135761
Option 1 ID : 264330531925
Option 2 ID : 264330531923
Option 3 ID : 264330531924
Option 4 ID : 264330531926
Status : Answered
Chosen Option : 3

Q.17 A sentence has been given with a blank to be filled with an appropriate option. Choose the correct alternative.

I smiled at my son and _____ thankful.

- Ans
- 1. feel
 - 2. feeling
 - 3. fallen
 - 4. felt

Question Type : MCQ
Question ID : 264330135643
Option 1 ID : 264330531472
Option 2 ID : 264330531474
Option 3 ID : 264330531473
Option 4 ID : 264330531471
Status : Answered
Chosen Option : 2

Q.18 Fill in the blank with the most appropriate option.

As he walked past the chambers, Samir asked everyone to quiet _____.

- Ans
- 1. rise
 - 2. down
 - 3. please
 - 4. up

Question Type : MCQ
Question ID : 264330136185
Option 1 ID : 264330533538
Option 2 ID : 264330533537
Option 3 ID : 264330533536
Option 4 ID : 264330533535
Status : Answered
Chosen Option : 2

Q.19 In the following question, out of the given four alternatives, select the alternative which best expresses the meaning of the Idiom/Phrase.

To strain every nerve

- Ans**
- 1. To claim something
 - 2. To manipulate someone in the best way
 - 3. To make a great effort
 - 4. To go for physiotherapy

Question Type : **MCQ**

Question ID : **264330135173**

Option 1 ID : **264330529623**

Option 2 ID : **264330529625**

Option 3 ID : **264330529624**

Option 4 ID : **264330529626**

Status : **Answered**

Chosen Option : **2**

Q.20 Select the word segment that substitutes (replaces) the bracketed word segment correctly and completes the sentence meaningfully. Select the option 'no correction required' if the sentence is correct as given.

(Many man) have tried to find the caves but none have succeeded.

- Ans**
- 1. No correction required
 - 2. Many a man
 - 3. Many a men
 - 4. Much man

Question Type : **MCQ**

Question ID : **264330136270**

Option 1 ID : **264330533866**

Option 2 ID : **264330533865**

Option 3 ID : **264330533863**

Option 4 ID : **264330533864**

Status : **Answered**

Chosen Option : **2**

Comprehension:

In the following passage some words have been deleted. Fill in the blanks with the help of the alternatives given. Select the most appropriate option for each number.

Professor Sprout was standing (1) _____ a trestle bench in the centre of the greenhouse. (2) _____ twenty (3) _____ of different-coloured ear muffs (4) _____ lying on the bench. Harry (5) _____ his place between Ron and Hermione.

SubQuestion No : 21

Q.21 Select the most appropriate option to fill in blank number 1.

- Ans**
- 1. afterwards
 - 2. behind
 - 3. back off
 - 4. after back

Question Type : **MCQ**
Question ID : **264330136570**
Option 1 ID : **264330535014**
Option 2 ID : **264330535013**
Option 3 ID : **264330535011**
Option 4 ID : **264330535012**
Status : **Answered**
Chosen Option : **2**

Comprehension:

In the following passage some words have been deleted. Fill in the blanks with the help of the alternatives given. Select the most appropriate option for each number.

Professor Sprout was standing (1) _____ a trestle bench in the centre of the greenhouse. (2) _____ twenty (3) _____ of different-coloured ear muffs (4) _____ lying on the bench. Harry (5) _____ his place between Ron and Hermione.

SubQuestion No : 22

Q.22 Select the most appropriate option to fill in blank number 2.

- Ans**
- 1. About
 - 2. Round
 - 3. Utmost
 - 4. Near by

Question Type : **MCQ**
Question ID : **264330136571**
Option 1 ID : **264330535017**
Option 2 ID : **264330535016**
Option 3 ID : **264330535015**
Option 4 ID : **264330535018**
Status : **Answered**
Chosen Option : **1**

Comprehension:

In the following passage some words have been deleted. Fill in the blanks with the help of the alternatives given. Select the most appropriate option for each number.

Professor Sprout was standing (1) _____ a trestle bench in the centre of the greenhouse. (2) _____ twenty (3) _____ of different-coloured ear muffs (4) _____ lying on the bench. Harry (5) _____ his place between Ron and Hermione.

SubQuestion No : 23

Q.23 Select the most appropriate option to fill in blank number 3.

- Ans**
- 1. pairs
 - 2. teams
 - 3. duality
 - 4. couples

Question Type : **MCQ**

Question ID : **264330136572**

Option 1 ID : **264330535022**

Option 2 ID : **264330535020**

Option 3 ID : **264330535021**

Option 4 ID : **264330535019**

Status : **Answered**

Chosen Option : **1**

Comprehension:

In the following passage some words have been deleted. Fill in the blanks with the help of the alternatives given. Select the most appropriate option for each number.

Professor Sprout was standing (1) _____ a trestle bench in the centre of the greenhouse. (2) _____ twenty (3) _____ of different-coloured ear muffs (4) _____ lying on the bench. Harry (5) _____ his place between Ron and Hermione.

SubQuestion No : 24

Q.24 Select the most appropriate option to fill in blank number 4.

- Ans**
- 1. were
 - 2. continue
 - 3. lay
 - 4. was

Question Type : **MCQ**

Question ID : **264330136573**

Option 1 ID : **264330535023**

Option 2 ID : **264330535025**

Option 3 ID : **264330535026**

Option 4 ID : **264330535024**

Status : **Answered**

Chosen Option : **2**

Comprehension:

In the following passage some words have been deleted. Fill in the blanks with the help of the alternatives given. Select the most appropriate option for each number.

Professor Sprout was standing (1) _____ a trestle bench in the centre of the greenhouse. (2) _____ twenty (3) _____ of different-coloured ear muffs (4) _____ lying on the bench. Harry (5) _____ his place between Ron and Hermione.

SubQuestion No : 25

Q.25 Select the most appropriate option to fill in blank number 5.

- Ans**
- 1. have to take
 - 2. had taken
 - 3. has took
 - 4. have taken

Question Type : **MCQ**

Question ID : **264330136574**

Option 1 ID : **264330535027**

Option 2 ID : **264330535028**

Option 3 ID : **264330535030**

Option 4 ID : **264330535029**

Status : **Answered**

Chosen Option : **1**