

Multi Tasking Non Technical Staff and Havaladar CBIC and CBN Examination 2022

Roll Number	
Candidate Name	
Venue Name	R K Digital Computer Centre 1
Exam Date	16/05/2023
Exam Time	9:00 AM - 10:30 AM
Subject	MTS Non Tech Havaladar CBIC and CBN Examination 2022

Section : Numerical and Mathematical Ability

Q.1 एक कार निर्धारित समय से 4 घंटे देरी से निकलती है लेकिन 480 km दूर अपने गंतव्य तक समय पर पहुँचने के लिए उसे अपनी सामान्य चाल को 10 km/hr से बढ़ाना पड़ता है। कार की सामान्य चाल क्या है?

- Ans
- 1. 40 km/hr
 - 2. 30 km/hr
 - 3. 60 km/hr
 - 4. 50 km/hr

Question Type : MCQ

Question ID : 264330137154

Option 1 ID : 264330537262

Option 2 ID : 264330537261

Option 3 ID : 264330537260

Option 4 ID : 264330537259

Status : Answered

Chosen Option : 2

Q.2 $\sqrt{[(7^2 + 6^3 + 9^2) \div 2 + 52]}$ का मान ज्ञात कीजिए।

- Ans
- 1. 16
 - 2. 14
 - 3. 15
 - 4. 13

Question Type : MCQ

Question ID : 264330135413

Option 1 ID : 264330530562

Option 2 ID : 264330530559

Option 3 ID : 264330530561

Option 4 ID : 264330530560

Status : Answered

Chosen Option : 3

Q.3 एक लम्बवृत्तीय शंकु की ऊँचाई 24 cm है। यदि इसके आधार का व्यास 36 cm है, तो शंकु का वक्र पृष्ठीय क्षेत्रफल कितना होगा?

- Ans
- 1. 2144.2 cm²
 - 2. 2400.9 cm²
 - 3. 1697.14 cm²
 - 4. 1444.6 cm²

Question Type : MCQ

Question ID : 264330135151

Option 1 ID : 264330529541

Option 2 ID : 264330529540

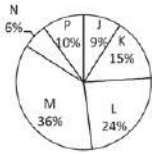
Option 3 ID : 264330529539

Option 4 ID : 264330529542

Status : Answered

Chosen Option : 2

Q.4 नीचे दिए गए वृत्त आलेख में छः विद्यालयों में पढ़ने वाले छात्रों की संख्या को दर्शाया गया है। इन सभी छः विद्यालयों में पढ़ने वाले छात्रों की कुल संख्या 7000 है। इनमें से किसी एक विशिष्ट विद्यालय में पढ़ने वाले छात्रों की संख्या को इन सभी छः विद्यालयों में पढ़ने वाले छात्रों की कुल संख्या के प्रतिशत के रूप में दर्शाया गया है।



विद्यालय K और L में पढ़ने वाले छात्रों की औसत संख्या और विद्यालय M और N में पढ़ने वाले छात्रों की औसत संख्या के बीच कितना अंतर है?

- Ans
- 1. 85
 - 2. 115
 - 3. 90
 - 4. 105

Question Type : MCQ

Question ID : 264330137173

Option 1 ID : 264330537338

Option 2 ID : 264330537335

Option 3 ID : 264330537336

Option 4 ID : 264330537337

Status : Answered

Chosen Option : 4

Q.5 14 कर्मचारी प्रतिदिन 16 घंटे कार्य करके एक इमारत को 81 दिनों में गिरा सकते हैं। 18 कर्मचारी 24 घंटे प्रतिदिन कार्य करके उसी इमारत को कितने दिनों में गिरा सकते हैं?

- Ans
- 1. 70 दिन
 - 2. 42 दिन
 - 3. 54 दिन
 - 4. 30 दिन

Question Type : MCQ

Question ID : 264330135146

Option 1 ID : 264330529520

Option 2 ID : 264330529522

Option 3 ID : 264330529519

Option 4 ID : 264330529521

Status : Answered

Chosen Option : 2

Q.6 दिए गए डेटा में वर्ष 2018, 2019 और 2020 में कंपनियों C1, C2, C3 और C4 द्वारा निर्मित मोबाइल की संख्या को (हजारों में) दर्शाया गया है। किस कंपनी ने सभी वर्षों में कुल मिलाकर सबसे कम मोबाइलों का निर्माण किया?

Company	2018	2019	2020
C1	44	33	70
C2	32	54	50
C3	72	63	82
C4	84	71	49

Company - कंपनी

- Ans
- 1. C3
 - 2. C1
 - 3. C2
 - 4. C4

Question Type : MCQ

Question ID : 264330135429

Option 1 ID : 264330530625

Option 2 ID : 264330530624

Option 3 ID : 264330530626

Option 4 ID : 264330530623

Status : Answered

Chosen Option : 3

Q.7 8 संख्याओं का औसत 44 है। पहली तीन संख्याओं का औसत 50 है और अगली दो संख्याओं का औसत 52 है। यदि छठी संख्या क्रमशः सातवीं और आठवीं संख्या से 6 और 8 कम है, तो आठवीं संख्या का मान क्या है?

- Ans
- 1. 36
 - 2. 56
 - 3. 32
 - 4. 40

Question Type : MCQ

Question ID : 264330138019

Option 1 ID : 264330540683

Option 2 ID : 264330540686

Option 3 ID : 264330540685

Option 4 ID : 264330540684

Status : Answered

Chosen Option : 3

Q.8 साधारण ब्याज पर एक धनराशि 3 वर्षों में Rs.5704 और 4 वर्षों में Rs.6072 हो जाती है। वह धनराशि है:

- Ans
- 1. Rs.4980
 - 2. Rs.5020
 - 3. Rs.4800
 - 4. Rs.4600

Question Type : MCQ

Question ID : 264330138100

Option 1 ID : 264330541010

Option 2 ID : 264330541008

Option 3 ID : 264330541009

Option 4 ID : 264330541007

Status : Answered

Chosen Option : 4

Q.9 Rs. 8400 की राशि पर 2 वर्ष के लिए 10% वार्षिक दर पर वार्षिक रूप से संयोजित चक्रवृद्धि ब्याज कितना होगा?

- Ans
- 1. Rs. 840
 - 2. Rs. 5064
 - 3. Rs. 10164
 - 4. Rs. 1764

Question Type : MCQ

Question ID : 264330138048

Option 1 ID : 264330540800

Option 2 ID : 264330540801

Option 3 ID : 264330540799

Option 4 ID : 264330540802

Status : Answered

Chosen Option : 4

Q.10 Rs. 15000 को E, F और G के बीच बाँटा जाता है। E के हिस्से और F के हिस्से का अनुपात 3: 2 है। F के हिस्से और G के हिस्से का अनुपात 6: 5 है। F को कितनी धनराशि प्राप्त होगी?

- Ans
- 1. Rs. 6750
 - 2. Rs. 4500
 - 3. Rs. 3750
 - 4. Rs. 6000

Question Type : MCQ

Question ID : 264330137162

Option 1 ID : 264330537293

Option 2 ID : 264330537292

Option 3 ID : 264330537294

Option 4 ID : 264330537291

Status : Answered

Chosen Option : 2

Q.11 50 वस्तुओं का क्रय मूल्य, x वस्तुओं के विक्रय मूल्य के समान है। यदि 25 प्रतिशत का लाभ होता है, तो x का मान क्या है? (सभी वस्तुओं का विक्रय मूल्य समान है। सभी वस्तुओं का क्रय मूल्य भी समान है)

- Ans
- 1. 30
 - 2. 25
 - 3. 40
 - 4. 20

Question Type : MCQ

Question ID : 264330137160

Option 1 ID : 264330537284

Option 2 ID : 264330537285

Option 3 ID : 264330537283

Option 4 ID : 264330537286

Status : Answered

Chosen Option : 3

Q.12 एक व्यापारी ने Rs. 1488 अंकित मूल्य वाले ट्रॉली बैग पर 25 प्रतिशत की छूट दी और 20 प्रतिशत का लाभ अर्जित किया। ट्रॉली बैग का क्रय मूल्य क्या है?

- Ans
- 1. Rs. 960
 - 2. Rs. 880
 - 3. Rs. 908
 - 4. Rs. 930

Question Type : MCQ

Question ID : 264330137165

Option 1 ID : 264330537305

Option 2 ID : 264330537306

Option 3 ID : 264330537304

Option 4 ID : 264330537303

Status : Answered

Chosen Option : 4

Q.13 एक संख्या में 20% की वृद्धि की जाती है और फिर उसमें 20% की कमी की जाती है। संख्या में निवल प्रतिशत परिवर्तन कितना हुआ?

- Ans
- 1. 4% की कमी
 - 2. 4% की वृद्धि
 - 3. 5% की वृद्धि
 - 4. 5% की कमी

Question Type : MCQ

Question ID : 264330138041

Option 1 ID : 264330540771

Option 2 ID : 264330540773

Option 3 ID : 264330540774

Option 4 ID : 264330540772

Status : Answered

Chosen Option : 1

Q.14 एक वस्तु को Rs.425 में बेचने पर एक दुकानदार को 15% की हानि होती है। 20% का लाभ अर्जित करने के लिए उसे वस्तु को किस मूल्य पर बेचना चाहिए?

- Ans
- 1. Rs.800
 - 2. Rs.600
 - 3. Rs.400
 - 4. Rs.1000

Question Type : MCQ

Question ID : 264330138095

Option 1 ID : 264330540989

Option 2 ID : 264330540988

Option 3 ID : 264330540987

Option 4 ID : 264330540990

Status : Answered

Chosen Option : 2

Q.15 वह सबसे छोटी संख्या, जिसे 14, 18 और 36 से भाग देने पर प्रत्येक स्थिति में शेषफल 1 बचता है, _____ है।

- Ans
- 1. 250
 - 2. 251
 - 3. 252
 - 4. 253

Question Type : MCQ

Question ID : 264330138037

Option 1 ID : 264330540757

Option 2 ID : 264330540758

Option 3 ID : 264330540755

Option 4 ID : 264330540756

Status : Answered

Chosen Option : 4

Q.16 रेशमा अकेले किसी कार्य को 14 दिनों में कर सकती है। भावना, रेशमा से 40% अधिक कुशल है। भावना अकेले उसी कार्य को करने में कितने दिन लेगी?

- Ans
- 1. 28 दिन
 - 2. 40 दिन
 - 3. 10 दिन
 - 4. 14 दिन

Question Type : MCQ

Question ID : 264330138714

Option 1 ID : 264330543465

Option 2 ID : 264330543466

Option 3 ID : 264330543463

Option 4 ID : 264330543464

Status : Answered

Chosen Option : 3

Q.17 9 संख्याओं का औसत 47 है। यदि एक संख्या को निकाल दिया जाए तो औसत 48 हो जाता है। कौन-सी संख्या निकाली गई?

- Ans
- 1. 39
 - 2. 45
 - 3. 40
 - 4. 42

Question Type : MCQ

Question ID : 264330137155

Option 1 ID : 264330537263

Option 2 ID : 264330537266

Option 3 ID : 264330537265

Option 4 ID : 264330537264

Status : Answered

Chosen Option : 1

Q.18 दो वृत्तों की परिधि के बीच का अंतर 4.4 cm है और छोटे वृत्त की त्रिज्या 1.4 cm है। बड़े वृत्त की त्रिज्या कितनी है?

- Ans
- 1. 3.5 cm
 - 2. 4.1 cm
 - 3. 2.1 cm
 - 4. 0.7 cm

Question Type : MCQ

Question ID : 264330138718

Option 1 ID : 264330543480

Option 2 ID : 264330543482

Option 3 ID : 264330543481

Option 4 ID : 264330543479

Status : Answered

Chosen Option : 2

Q.19 25, 15 और 75 का महत्तम समापवर्तक क्या है?

- Ans
- 1. 7
 - 2. 15
 - 3. 25
 - 4. 5

Question Type : MCQ

Question ID : 264330137169

Option 1 ID : 264330537319

Option 2 ID : 264330537322

Option 3 ID : 264330537320

Option 4 ID : 264330537321

Status : Answered

Chosen Option : 2

Q.20 यदि $X : Y = 3 : 2$, तो $(X - Y) : (X + Y)$ का मान क्या है?

- Ans
- 1. 3 : 7
 - 2. 1 : 5
 - 3. 4 : 5
 - 4. 8 : 9

Question Type : MCQ

Question ID : 264330137161

Option 1 ID : 264330537290

Option 2 ID : 264330537287

Option 3 ID : 264330537288

Option 4 ID : 264330537289

Status : Answered

Chosen Option : 2

Q.1 उस विकल्प को चुनिए जो पाँचवें पद से ठीक उसी प्रकार संबंधित है जिस प्रकार दूसरा पद पहले पद से संबंधित है और चौथा पद तीसरे पद से संबंधित है।

T3G : V16L :: R29A : T42F :: M43P : ?

- Ans
- 1. P56V
 - 2. O56V
 - 3. O56U
 - 4. P56U

Question Type : MCQ

Question ID : 264330137110

Option 1 ID : 264330537086

Option 2 ID : 264330537085

Option 3 ID : 264330537083

Option 4 ID : 264330537084

Status : Answered

Chosen Option : 3

Q.2 यदि A का अर्थ 'जोड़', B का अर्थ 'गुणा', C का अर्थ 'घटाव' और D का अर्थ 'भाग' हो, तो निम्नलिखित समीकरण का मान क्या होगा?

7 A (18 D 3) C 5 =?

- Ans
- 1. 18
 - 2. 8
 - 3. 13
 - 4. 5

Question Type : MCQ

Question ID : 264330137870

Option 1 ID : 264330540089

Option 2 ID : 264330540090

Option 3 ID : 264330540088

Option 4 ID : 264330540087

Status : Answered

Chosen Option : 2

Q.3 निम्नलिखित प्रश्न में कुछ कथन दिए गए हैं और उन कथनों के आधार पर कुछ निष्कर्ष दिए गए हैं। आपको यह मानना है कि दिए गए कथन सत्य हैं चाहे वे समान्यतः ज्ञात तथ्यों से अलग प्रतीत होते हों। सभी निष्कर्षों को पढ़िए और फिर निश्चय कीजिए कि दिए गए निष्कर्षों में से कौन-सा निष्कर्ष तार्किक रूप से दिए गए कथनों के अनुसार है।

कथन:

- I. कुछ B, T हैं।
- II. कोई K, B नहीं है।

निष्कर्ष:

- I. कोई B, K नहीं है।
- II. कुछ T, B हैं।
- III. कुछ T, K हैं।

Ans

- 1. सभी निष्कर्ष कथनों के अनुसार हैं
- 2. दोनों निष्कर्ष I और II कथनों के अनुसार हैं
- 3. दोनों निष्कर्ष I और III कथनों के अनुसार हैं
- 4. कोई भी निष्कर्ष कथनों के अनुसार नहीं है

Question Type : MCQ

Question ID : 264330137120

Option 1 ID : 264330537125

Option 2 ID : 264330537123

Option 3 ID : 264330537124

Option 4 ID : 264330537126

Status : Answered

Chosen Option : 2

Q.4 निम्नलिखित प्रश्न में, दी गई श्रृंखला में लुप्त संख्या को चुनिए।

3, 9, 54, 648, 15552, ?

Ans

- 1. 124583
- 2. 746946
- 3. 746496
- 4. 78342

Question Type : MCQ

Question ID : 264330137122

Option 1 ID : 264330537132

Option 2 ID : 264330537133

Option 3 ID : 264330537134

Option 4 ID : 264330537131

Status : Answered

Chosen Option : 3

Q.5 दिए गए दो चिन्हों को आपस में बदलने पर, दिए गए समीकरण का मान क्या होगा?

× और ÷ ; $25 + 5 \times 35 \div 7 - 26$

Ans 1. 51

2. 50

3. 0

4. 10

Question Type : MCQ

Question ID : 264330137125

Option 1 ID : 264330537145

Option 2 ID : 264330537143

Option 3 ID : 264330537144

Option 4 ID : 264330537146

Status : Answered

Chosen Option : 3

Q.6 (::) के बाईं ओर दिए गए शब्द आपस में किसी तर्क/नियम/संबंध द्वारा संबंधित हैं। समान तर्क/नियम/संबंध के आधार पर दिए गए विकल्पों में से (::) के दाईं ओर लुप्त शब्द/शब्द युग्म को चुनिए।

गाय : शाकाहारी :: ?

Ans 1. भेड़ : माँसाहारी

2. माँसाहारी : शेर

3. हाथी : शाकाहारी

4. बकरी : माँसाहारी

Question Type : MCQ

Question ID : 264330137111

Option 1 ID : 264330537087

Option 2 ID : 264330537090

Option 3 ID : 264330537089

Option 4 ID : 264330537088

Status : Answered

Chosen Option : 3

Q.7 उस विकल्प को चुनिए जिसमें समुच्चय की संख्याएँ वही संबंध साझा करती हैं जो दिए गए समुच्चय में संख्याओं द्वारा साझा किया जाता है। (ध्यान दें: संख्याओं को उनके घटक अंकों में अलग-अलग किए बिना, पूर्ण संख्याओं पर संक्रियाएँ की जानी चाहिए। उदा. 13 - 13 पर संक्रियाएँ जैसे 13 को जोड़ना /घटाना /गुणा करना आदि किया जा सकता है। 13 को 1 और 3 में अलग-अलग करने की और फिर 1 और 3 पर गणितीय संक्रियाएँ करने की अनुमति नहीं है)

(10, 30, 90)

(20, 60, 180)

- Ans
- 1. (30, 60, 90)
 - 2. (30, 90, 310)
 - 3. (30, 45, 60)
 - 4. (30, 90, 270)

Question Type : MCQ

Question ID : 264330137124

Option 1 ID : 264330537139

Option 2 ID : 264330537142

Option 3 ID : 264330537141

Option 4 ID : 264330537140

Status : Answered

Chosen Option : 4

Q.8 आठ मित्र अनिल, कमल, राम, संजय, आकाश, विवेक, राहुल और रामू एक वृत्ताकार मेज के चारों ओर केंद्र की ओर मुख करके बैठे हैं (परंतु जरूरी नहीं कि वे इसी क्रम में बैठें हों)। राम, अनिल के ठीक दाईं ओर है। अनिल, संजय के दाईं ओर से चौथे स्थान पर है। राहुल, आकाश के बाईं ओर से चौथे स्थान पर है। आकाश, अनिल के बाईं ओर से दूसरे स्थान पर है। रामू, कमल के बाईं ओर से दूसरे स्थान पर है। विवेक, कमल के दाईं ओर से दूसरे स्थान पर है। विवेक के दाईं ओर से दूसरे स्थान पर कौन है?

- Ans
- 1. राम
 - 2. आकाश
 - 3. रामू
 - 4. विवेक

Question Type : MCQ

Question ID : 264330137117

Option 1 ID : 264330537112

Option 2 ID : 264330537113

Option 3 ID : 264330537111

Option 4 ID : 264330537114

Status : Answered

Chosen Option : 1

Q.9 एक लिखित कूट भाषा में, 'HAND' को 'SZMW' लिखा जाता है। उस कूट भाषा में 'BODY' को कैसे लिखा जाएगा?

- Ans
- 1. YLWE
 - 2. YWLB
 - 3. YLWB
 - 4. BLWY

Question Type : MCQ

Question ID : 264330133700

Option 1 ID : 264330523826

Option 2 ID : 264330523824

Option 3 ID : 264330523823

Option 4 ID : 264330523825

Status : Answered

Chosen Option : 3

Q.10 दी गई श्रृंखला में निम्नलिखित में से कौन-सी संख्या प्रश्न चिन्ह (?) के स्थान पर आएगी?
16, 21, 31, 46, 66, 91, ?

- Ans
- 1. 243
 - 2. 211
 - 3. 121
 - 4. 112

Question Type : MCQ
Question ID : 264330137843
Option 1 ID : 264330539980
Option 2 ID : 264330539982
Option 3 ID : 264330539979
Option 4 ID : 264330539981
Status : Answered
Chosen Option : 3

Q.11 उस विकल्प आकृति को चुनिए जिसमें दी गई आकृति निहित है। (घूर्णन की अनुमति नहीं है)



Ans

- 1.
- 2.
- 3.
- 4.

Question Type : MCQ
Question ID : 264330135634
Option 1 ID : 264330531438
Option 2 ID : 264330531436
Option 3 ID : 264330531437
Option 4 ID : 264330531435
Status : Answered
Chosen Option : 4

Q.12 छः शब्दों B1, B2, B3, B4, B5 और B6 में अक्षरों की संख्या की तुलना की जाती है। B1 में अक्षरों की संख्या सबसे कम है। B4 में अक्षरों की संख्या B1 से अधिक लेकिन B2 से कम है। B6 में अक्षरों की संख्या B3 और B5 से अधिक है। B3 में अक्षरों की संख्या B2 से अधिक है। यदि B5 में अक्षरों की संख्या B3 से अधिक है, तो कितने शब्दों के अक्षरों की संख्या B4 में अक्षरों की संख्या से कम है?

- Ans
- 1. 2
 - 2. 1
 - 3. 4
 - 4. 3

Question Type : MCQ

Question ID : 264330137118

Option 1 ID : 264330537116

Option 2 ID : 264330537115

Option 3 ID : 264330537118

Option 4 ID : 264330537117

Status : Answered

Chosen Option : 3

Q.13 आठ मित्र राहुल, राम, रमेश, सोहन, साहिल, अनिल, सोनू और मोनू एक वृत्ताकार मेज के चारों ओर केंद्र की ओर मुख करके बैठे हैं (परंतु जरूरी नहीं कि वे इसी क्रम में बैठें हों)। साहिल, सोनू के बाईं ओर से तीसरे स्थान पर है। सोनू, राम के ठीक दाईं ओर है। राम, राहुल के बाईं ओर से तीसरे स्थान पर है। मोनू, अनिल के दाईं ओर से दूसरे स्थान पर है। अनिल, साहिल का निकटतम पड़ोसी नहीं है। सोहन, राम का निकटतम पड़ोसी नहीं है। राम के बाईं ओर से तीसरे स्थान पर कौन है?

- Ans
- 1. सोहन
 - 2. राहुल
 - 3. सोनू
 - 4. साहिल

Question Type : MCQ

Question ID : 264330137116

Option 1 ID : 264330537107

Option 2 ID : 264330537110

Option 3 ID : 264330537108

Option 4 ID : 264330537109

Status : Answered

Chosen Option : 1

Q.14 एक निश्चित कूट भाषा में, 'CENTRE' को '982748' लिखा जाता है, 'DEVICE' को '583098' लिखा जाता है। उस कूट भाषा में 'DIRECT' को कैसे लिखा जाएगा?

- Ans
- 1. 506897
 - 2. 564897
 - 3. 694879
 - 4. 504897

Question Type : MCQ

Question ID : 264330138545

Option 1 ID : 264330542787

Option 2 ID : 264330542790

Option 3 ID : 264330542789

Option 4 ID : 264330542788

Status : Answered

Chosen Option : 4

Q.15 उस विकल्प को चुनिए जो तीसरी संख्या से ठीक उसी प्रकार संबंधित है जिस प्रकार दूसरी संख्या पहली संख्या से संबंधित है।

64 : 15 :: 88 : ?

Ans 1. 12

2. 21

3. 7

4. 31

Question Type : MCQ

Question ID : 264330137845

Option 1 ID : 264330539989

Option 2 ID : 264330539988

Option 3 ID : 264330539990

Option 4 ID : 264330539987

Status : Answered

Chosen Option : 2

Q.16 एक निश्चित कूट भाषा में, 'SLDDER' को 'PEBDJS' लिखा जाता है। उस कूट भाषा में 'TALLER' को कैसे लिखा जाएगा?

Ans 1. PEJLYT

2. PDJLYT

3. PEJMYT

4. PEJLTY

Question Type : MCQ

Question ID : 264330137092

Option 1 ID : 264330537011

Option 2 ID : 264330537013

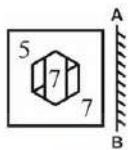
Option 3 ID : 264330537014

Option 4 ID : 264330537012

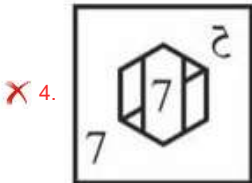
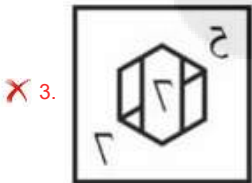
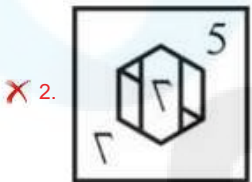
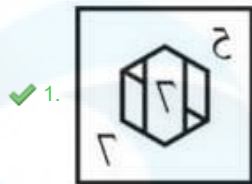
Status : Answered

Chosen Option : 1

Q.17 यदि रेखा AB पर एक दर्पण रखा जाए, तो दी गई विकल्प आकृतियों में से कौन-सी पश्च आकृति का सही प्रतिबिंब होगी?



Ans



Question Type : MCQ

Question ID : 264330135635

Option 1 ID : 264330531439

Option 2 ID : 264330531442

Option 3 ID : 264330531441

Option 4 ID : 264330531440

Status : Answered

Chosen Option : 1

Q.18 निम्नलिखित प्रश्न में कुछ कथन दिए गए हैं और उन कथनों के आधार पर कुछ निष्कर्ष दिए गए हैं। आपको यह मानना है कि दिए गए कथन सत्य हैं चाहे वे सामान्यतः ज्ञात तथ्यों से अलग प्रतीत होते हों। सभी निष्कर्षों को पढ़िए और फिर निश्चय कीजिए कि दिए गए निष्कर्षों में से कौन-सा निष्कर्ष तार्किक रूप से दिए गए कथनों के अनुसार है।

कथन:

- I. कुछ S, P हैं।
- II. कोई P, L नहीं है।

निष्कर्ष:

- I. सभी S, P हैं।
- II. सभी L, S हैं।

- Ans**
- 1. केवल निष्कर्ष I कथनों के अनुसार है
 - 2. कोई भी निष्कर्ष कथनों के अनुसार नहीं है
 - 3. केवल निष्कर्ष II कथनों के अनुसार है
 - 4. दोनों निष्कर्ष I और II कथनों के अनुसार हैं

Question Type : **MCQ**

Question ID : **264330137119**

Option 1 ID : **264330537119**

Option 2 ID : **264330537122**


Option 3 ID : **264330537120**

Option 4 ID : **264330537121**

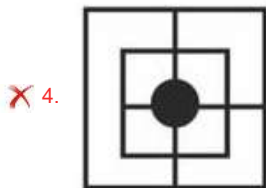
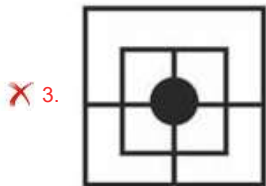
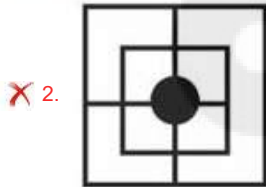
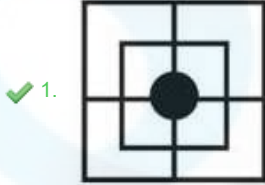
Status : **Answered**

Chosen Option : **2**

Q.19 कौन-सी उत्तर आकृति प्रश्न आकृति में दिए गए पैटर्न को पूरा करेगी? (घूर्णन की अनुमति नहीं है)



Ans



Question Type : MCQ

Question ID : 264330137129

Option 1 ID : 264330537161

Option 2 ID : 264330537160

Option 3 ID : 264330537162

Option 4 ID : 264330537159

Status : Answered

Chosen Option : 1

Q.20 एक श्रृंखला दी गई है जिसमें एक पद लुप्त है। दिए गए विकल्पों में से उस सही विकल्प को चुनिए जो श्रृंखला को पूरा करेगा।

RAIR, UBLS, XCOT, ADRU, ?

- Ans
- 1. DFUV
 - 2. DEUV
 - 3. DEVV
 - 4. DFFV

Question Type : MCQ

Question ID : 264330137108

Option 1 ID : 264330537076

Option 2 ID : 264330537077

Option 3 ID : 264330537078

Option 4 ID : 264330537075

Status : Answered

Chosen Option : 2

Section : General Awareness

Q.1 चोरी चौरा कांड कब हुआ था?

- Ans
- 1. 1922
 - 2. 1901
 - 3. 1915
 - 4. 1908

Question Type : MCQ

Question ID : 264330137984

Option 1 ID : 264330540543

Option 2 ID : 264330540546

Option 3 ID : 264330540544

Option 4 ID : 264330540545

Status : Answered

Chosen Option : 1

Q.2 किस देश ने 2022 में विश्व एथलेटिक्स चैंपियनशिप (18वीं) की मेजबानी की?

- Ans
- 1. संयुक्त राज्य अमेरिका
 - 2. जापान
 - 3. कोलंबिया
 - 4. कतर

Question Type : MCQ

Question ID : 264330137967

Option 1 ID : 264330540477

Option 2 ID : 264330540476

Option 3 ID : 264330540478

Option 4 ID : 264330540475

Status : Answered

Chosen Option : 1

Q.3 निम्नलिखित में से कौन-से पुष्पी और बीज धारण करने वाले पौधे अर्थात फैनरोगैम (पुष्पोद्भिद) हैं?

- Ans
- 1. ब्रायोफ़ाइटा
 - 2. टेरिडोफ़ाइटा
 - 3. जिम्नोस्पर्म
 - 4. थैलोफ़ाइटा

Question Type : MCQ
Question ID : 264330137951
Option 1 ID : 264330540412
Option 2 ID : 264330540414
Option 3 ID : 264330540413
Option 4 ID : 264330540411
Status : Answered
Chosen Option : 3

Q.4 भारत किस देश के साथ सबसे लंबी सीमा साझा करता है?

- Ans
- 1. बांग्लादेश
 - 2. पाकिस्तान
 - 3. चीन
 - 4. नेपाल

Question Type : MCQ
Question ID : 264330134043
Option 1 ID : 264330525197
Option 2 ID : 264330525195
Option 3 ID : 264330525198
Option 4 ID : 264330525196
Status : Answered
Chosen Option : 1

Q.5 जमी हुई गैसों, चट्टान और धूल के ब्रह्मांडीय हिमगोले (Cosmic snowballs), जो सूर्य की परिक्रमा करते हैं, _____ कहलाते हैं।

- Ans
- 1. उल्का (Meteors)
 - 2. तारा (Star)
 - 3. उल्कापिंड (Meteorites)
 - 4. धूमकेतु (Comets)

Question Type : MCQ
Question ID : 264330137952
Option 1 ID : 264330540417
Option 2 ID : 264330540416
Option 3 ID : 264330540415
Option 4 ID : 264330540418
Status : Answered
Chosen Option : 3

Q.6 भारत में, जनगणना अधिनियम _____ के प्रावधानों के तहत जनगणना की जाती है।

- Ans
- 1. 1952
 - 2. 1955
 - 3. 1948
 - 4. 1950

Question Type : MCQ
Question ID : 264330138232
Option 1 ID : 264330541537
Option 2 ID : 264330541538
Option 3 ID : 264330541536
Option 4 ID : 264330541535
Status : Answered
Chosen Option : 4

Q.7 निम्नलिखित में से कौन-सा अनुष्ठान भारत के विपरा में पृथ्वी की सफाई के साथ-साथ चौदह देवताओं की पूजा करने से संबंधित है?

- Ans
- 1. खार्ची पूजा
 - 2. बानी (Bani)
 - 3. टूसू
 - 4. दुर्गा पूजा

Question Type : MCQ
Question ID : 264330135487
Option 1 ID : 264330530858
Option 2 ID : 264330530856
Option 3 ID : 264330530857
Option 4 ID : 264330530855
Status : Answered
Chosen Option : 1

Q.8 निम्नलिखित में से कौन-सा विटामिन देखने की क्षमता में एक अहम भूमिका निभाता है?

- Ans
- 1. D
 - 2. A
 - 3. C
 - 4. B1

Question Type : MCQ
Question ID : 264330137042
Option 1 ID : 264330536814
Option 2 ID : 264330536811
Option 3 ID : 264330536813
Option 4 ID : 264330536812
Status : Answered
Chosen Option : 2

Q.9 कपास उगाने के लिए कितने पाला रहित दिनों की आवश्यकता होती है?

- Ans
- 1. 140
 - 2. 250
 - 3. 210
 - 4. 160

Question Type : MCQ

Question ID : 264330137028

Option 1 ID : 264330536755

Option 2 ID : 264330536757

Option 3 ID : 264330536756

Option 4 ID : 264330536758

Status : Answered

Chosen Option : 3

Q.10 'द व्हाइट टाइगर (The White Tiger)' नामक पुस्तक के लेखक कौन हैं?

- Ans
- 1. खुशवंत सिंह
 - 2. मुल्क राज आनंद
 - 3. रविंदर सिंह
 - 4. अरविंद अडिगा

Question Type : MCQ

Question ID : 264330137016

Option 1 ID : 264330536709

Option 2 ID : 264330536710

Option 3 ID : 264330536707

Option 4 ID : 264330536708

Status : Answered

Chosen Option : 4

Q.11 अक्टूबर 2022 तक, प्रधानमंत्री नरेंद्र मोदी _____ प्रधानमंत्री किसान समृद्धि केंद्रों का उद्घाटन कर चुके हैं।

- Ans
- 1. 500
 - 2. 300
 - 3. 600
 - 4. 400

Question Type : MCQ

Question ID : 264330137036

Option 1 ID : 264330536788

Option 2 ID : 264330536790

Option 3 ID : 264330536787

Option 4 ID : 264330536789

Status : Not Answered

Chosen Option : --

Q.12 बहुपरमाणुक धनायनों के सामान्य नाम प्रायः प्रत्यय _____ के साथ समाप्त होते हैं।

- Ans
- 1. आइड (-ide)
 - 2. अस (-ous)
 - 3. ओनियम (-onium)
 - 4. इक (-ic)

Question Type : MCQ
Question ID : 264330137949
Option 1 ID : 264330540405
Option 2 ID : 264330540404
Option 3 ID : 264330540403
Option 4 ID : 264330540406
Status : Not Answered
Chosen Option : --

Q.13 पंडित रवि शंकर को वर्ष 1999 में भारत के सर्वोच्च नागरिक सम्मान, भारतरत्न से सम्मानित किया गया था। वह निम्नलिखित में से कौन-से वाद्ययंत्र के वादक हैं?

- Ans
- 1. तबला
 - 2. शहनाई
 - 3. बांसुरी
 - 4. सितार

Question Type : MCQ
Question ID : 264330137054
Option 1 ID : 264330536860
Option 2 ID : 264330536861
Option 3 ID : 264330536862
Option 4 ID : 264330536859
Status : Answered
Chosen Option : 4

Q.14 भारतीय संविधान में एकल नागरिकता की विशेषता _____ के संविधान से ली गई थी।

- Ans
- 1. ऑस्ट्रेलिया
 - 2. संयुक्त राज्य अमेरिका
 - 3. कनाडा
 - 4. ब्रिटेन

Question Type : MCQ
Question ID : 264330137056
Option 1 ID : 264330536870
Option 2 ID : 264330536868
Option 3 ID : 264330536869
Option 4 ID : 264330536867
Status : Answered
Chosen Option : 4

Q.15 1857 के विद्रोह के बाद किस मुगल शासक का अंग्रेजों ने तख्ता पलट कर उसे बर्मा में निर्वासन के लिए भेज दिया?

- Ans
- 1. बहादुर शाह प्रथम
 - 2. शाहजहाँ
 - 3. बहादुर शाह द्वितीय
 - 4. आलमगीर द्वितीय

Question Type : MCQ

Question ID : 264330137958

Option 1 ID : 264330540440

Option 2 ID : 264330540439

Option 3 ID : 264330540442

Option 4 ID : 264330540441

Status : Answered

Chosen Option : 3

Q.16 निम्नलिखित में से कौन-सा नृत्य, युद्ध के हिंदू देवता, मुरुगन की अनुष्ठानिक पूजा के दौरान भक्तों द्वारा किया जाने वाला एक नृत्य है?

- Ans
- 1. कावड़ी अट्टम (Kavadiattam)
 - 2. मयिलाट्टम (Mayilattam)
 - 3. यक्ष (Yaksha)
 - 4. कुम्मी (Kummi)

Question Type : MCQ

Question ID : 264330137038

Option 1 ID : 264330536795

Option 2 ID : 264330536796

Option 3 ID : 264330536798

Option 4 ID : 264330536797

Status : Answered

Chosen Option : 1

Q.17 पाँचवें खेलो इंडिया यूथ गेम्स 2022 का आयोजन 2023 में _____ राज्य में किया गया ।

- Ans
- 1. मध्यप्रदेश
 - 2. उत्तरप्रदेश
 - 3. पश्चिम बंगाल
 - 4. केरल

Question Type : MCQ

Question ID : 264330137058

Option 1 ID : 264330536875

Option 2 ID : 264330536876

Option 3 ID : 264330536877

Option 4 ID : 264330536878

Status : Answered

Chosen Option : 1

Q.18 अशोक के शिलालेखों में वर्णित जानकारी के अनुसार मौर्य साम्राज्य में कितने प्रमुख राजनीतिक केंद्र थे?

- Ans
- 1. चार
 - 2. पाँच
 - 3. छः
 - 4. तीन

Question Type : MCQ

Question ID : 264330135497

Option 1 ID : 264330530895

Option 2 ID : 264330530896

Option 3 ID : 264330530897

Option 4 ID : 264330530898

Status : Answered

Chosen Option : 2

Q.19 परिवारों द्वारा प्राप्त राष्ट्रीय आय को _____ कहते हैं।

- Ans
- 1. पेशेवर आय
 - 2. व्यक्तिगत आय
 - 3. घरेलू आय
 - 4. प्रयोज्य आय

Question Type : MCQ

Question ID : 264330137021

Option 1 ID : 264330536729

Option 2 ID : 264330536728

Option 3 ID : 264330536730

Option 4 ID : 264330536727

Status : Not Answered

Chosen Option : --

Q.20 निम्नलिखित में से किसे दुनियाभर में भरतनाट्यम की साम्राज्ञी के रूप में जाना जाता है?

- Ans
- 1. शोभना नारायण
 - 2. कलामंडलम कल्याणिकुट्टी अम्मा
 - 3. मल्लिका साराभाई
 - 4. तंजौर बालासरस्वती

Question Type : MCQ

Question ID : 264330137018

Option 1 ID : 264330536715

Option 2 ID : 264330536717

Option 3 ID : 264330536718

Option 4 ID : 264330536716

Status : Answered

Chosen Option : 4

Q.21 किशोर न्याय (बच्चों की देखभाल एवं संरक्षण) संशोधन विधेयक, 2021 किशोर न्याय (बच्चों की देखभाल एवं संरक्षण) अधिनियम, _____ में संशोधन करना चाहता है।

- Ans
- 1. 2013
 - 2. 2016
 - 3. 2015
 - 4. 2014

Question Type : MCQ
Question ID : 264330137970
Option 1 ID : 264330540487
Option 2 ID : 264330540490
Option 3 ID : 264330540489
Option 4 ID : 264330540488
Status : Answered
Chosen Option : 1

Q.22 निम्नलिखित में से कौन-सी नदी बंगाल की खाड़ी में नहीं गिरती है?

- Ans
- 1. ताप्ती
 - 2. यमुना
 - 3. महानदी
 - 4. कृष्णा

Question Type : MCQ
Question ID : 264330137046
Option 1 ID : 264330536830
Option 2 ID : 264330536829
Option 3 ID : 264330536828
Option 4 ID : 264330536827
Status : Answered
Chosen Option : 1

Q.23 निम्नलिखित में से कौन-सा प्रसिद्ध मंदिर असम में स्थित है?

- Ans
- 1. मुंडेश्वरी मंदिर (Mundeshwari Temple)
 - 2. शोर मंदिर (Shore Temple)
 - 3. कामाख्या मंदिर (Kamakhya Temple)
 - 4. सोमनाथ मंदिर (Somnath Temple)

Question Type : MCQ
Question ID : 264330137973
Option 1 ID : 264330540500
Option 2 ID : 264330540499
Option 3 ID : 264330540502
Option 4 ID : 264330540501
Status : Answered
Chosen Option : 3

Q.24 भारत के राष्ट्रपति द्वारा अधिकतम _____ सदस्यों को राज्यसभा का सदस्य बनने के लिए मनोनीत किया जा सकता है।

- Ans
- ✓ 1. 12
 - ✗ 2. 10
 - ✗ 3. 18
 - ✗ 4. 25

Question Type : MCQ
Question ID : 264330137057
Option 1 ID : 264330536872
Option 2 ID : 264330536871
Option 3 ID : 264330536873
Option 4 ID : 264330536874
Status : Answered
Chosen Option : 1

Q.25 निम्नलिखित में से किस स्वतंत्रता सेनानी ने प्रसिद्ध नारा "तुम मुझे खून दो, मैं तुम्हें आजादी दूंगा!" दिया था?

- Ans
- ✓ 1. सुभाषचंद्र बोस
 - ✗ 2. लाला लाजपत राय
 - ✗ 3. बाल गंगाधर तिलक
 - ✗ 4. सरदार वल्लभ भाई पटेल

Question Type : MCQ
Question ID : 264330135500
Option 1 ID : 264330530907
Option 2 ID : 264330530910
Option 3 ID : 264330530909
Option 4 ID : 264330530908
Status : Answered
Chosen Option : 1

Section : English Language and Comprehension

Q.1 Select the most appropriate antonym of the given word.

Lethargy

- Ans
- ✗ 1. Shield
 - ✗ 2. Refusal
 - ✗ 3. Existence
 - ✓ 4. Attention

Question Type : MCQ
Question ID : 264330136527
Option 1 ID : 264330534850
Option 2 ID : 264330534849
Option 3 ID : 264330534847
Option 4 ID : 264330534848
Status : Answered
Chosen Option : 4

Q.2 Select the appropriate antonym for the underlined word.

The beauty of our landscape is important.

- Ans
- 1. nobility
 - 2. blemish
 - 3. aesthetics
 - 4. glamour

Question Type : MCQ
Question ID : 264330135327
Option 1 ID : 264330530217
Option 2 ID : 264330530218
Option 3 ID : 264330530215
Option 4 ID : 264330530216
Status : Answered
Chosen Option : 2

Q.3 Select the most appropriate option to fill in the blank.

Strength training is useful as it avoids large increases in breathing rate and _____ muscle strength.

- Ans
- 1. degrades
 - 2. regresses
 - 3. distributes
 - 4. improves

Question Type : MCQ
Question ID : 264330135333
Option 1 ID : 264330530240
Option 2 ID : 264330530242
Option 3 ID : 264330530241
Option 4 ID : 264330530239
Status : Answered
Chosen Option : 4

Q.4 Identify the segment that contains a grammatical error. If there is no error, select 'No error'.

In another words, most of us / are made by our elders or by our / peers, but leaders are self-directed.

- Ans
- 1. peers, but leaders are self-directed.
 - 2. No error
 - 3. are made by our elders or by our
 - 4. In another words, most of us

Question Type : MCQ
Question ID : 264330136587
Option 1 ID : 264330535081
Option 2 ID : 264330535082
Option 3 ID : 264330535080
Option 4 ID : 264330535079
Status : Answered
Chosen Option : 4

Q.5 Find the part of the given sentence that has an error in it. If there is no error, choose 'No error'.

Producing a different component was as simple such launching a new computer program.

- Ans**
- 1. Producing a different component was
 - 2. as simple such launching
 - 3. a new computer program.
 - 4. No error

Question Type : **MCQ**
Question ID : **264330135310**
Option 1 ID : **264330530151**
Option 2 ID : **264330530152**
Option 3 ID : **264330530153**
Option 4 ID : **264330530154**
Status : **Answered**
Chosen Option : **2**

Q.6 A sentence has been given with a blank to be filled with an appropriate option. Choose the correct alternative.

He was _____ in a pool of blood near a neighbour's house.

- Ans**
- 1. lying
 - 2. lain
 - 3. lied
 - 4. laying

Question Type : **MCQ**
Question ID : **264330135289**
Option 1 ID : **264330530073**
Option 2 ID : **264330530072**
Option 3 ID : **264330530071**
Option 4 ID : **264330530074**
Status : **Answered**
Chosen Option : **4**

Q.7 Select the most appropriate option to substitute the bracketed segment in the given sentence. If there is no need to substitute it, select 'no substitution required'.

This commodity in clay-coloured material (can't be used neither as a table mat nor as a table napkin).

- Ans**
- 1. can't be used neither as a table mat but as a table napkin
 - 2. No substitution required
 - 3. can't be used neither as a table mat or as a table napkin
 - 4. can't be used either as a table mat or as a table napkin

Question Type : **MCQ**
Question ID : **264330135772**
Option 1 ID : **264330531967**
Option 2 ID : **264330531970**
Option 3 ID : **264330531968**
Option 4 ID : **264330531969**
Status : **Answered**
Chosen Option : **2**

Q.8 In the following question, out of the given four alternatives, select the alternative which best expresses the meaning of the Idiom/Phrase.

With a pinch of salt

- Ans**
- 1. Taken forcefully
 - 2. Nefariously
 - 3. Doubt the truth or value of something
 - 4. With due respect

Question Type : **MCQ**
Question ID : **264330135329**
Option 1 ID : **264330530226**
Option 2 ID : **264330530225**
Option 3 ID : **264330530223**
Option 4 ID : **264330530224**
Status : **Answered**
Chosen Option : **3**

Q.9 Select the appropriate synonym for the underlined word.

A sudden gust of wind hits the window.

- Ans**
- 1. cramp
 - 2. feel
 - 3. blow
 - 4. pump

Question Type : **MCQ**
Question ID : **264330135324**
Option 1 ID : **264330530206**
Option 2 ID : **264330530204**
Option 3 ID : **264330530203**
Option 4 ID : **264330530205**
Status : **Answered**
Chosen Option : **3**

Q.10 A sentence has been given with a blank to be filled with an appropriate option. Choose the correct alternative.

You have the power _____ the perspective of this nation.

- Ans**
- 1. changed
 - 2. changing
 - 3. change
 - 4. to change

Question Type : **MCQ**
Question ID : **264330135314**
Option 1 ID : **264330530167**
Option 2 ID : **264330530169**
Option 3 ID : **264330530168**
Option 4 ID : **264330530170**
Status : **Answered**
Chosen Option : **4**

Q.11 Select the word segment that substitutes (replaces) the bracketed word segment correctly and completes the sentence meaningfully. Select the option 'no correction required' if the sentence is correct as given.

They said that they (were understandings) his theory very well.

- Ans**
- 1. understanding
 - 2. No correction required
 - 3. have understand
 - 4. understood

Question Type : **MCQ**
Question ID : **264330136590**
Option 1 ID : **264330535092**
Option 2 ID : **264330535094**
Option 3 ID : **264330535093**
Option 4 ID : **264330535091**
Status : **Answered**
Chosen Option : **4**

Q.12 Select the most appropriate option to fill in the blank.

He gave the horse enough room to _____ away from the wagon.

- Ans**
- 1. stalk
 - 2. walk
 - 3. woke
 - 4. watch

Question Type : **MCQ**
Question ID : **264330135280**
Option 1 ID : **264330530037**
Option 2 ID : **264330530038**
Option 3 ID : **264330530036**
Option 4 ID : **264330530035**
Status : **Answered**
Chosen Option : **2**

Q.13 Choose the incorrectly spelt word.

- Ans**
- 1. Condision
 - 2. Busy
 - 3. Sponge
 - 4. Plane

Question Type : **MCQ**
Question ID : **264330135330**
Option 1 ID : **264330530230**
Option 2 ID : **264330530228**
Option 3 ID : **264330530227**
Option 4 ID : **264330530229**
Status : **Answered**
Chosen Option : **1**

Q.14 Select the most appropriate meaning of the given idiom.

To sing a different tune

- Ans
- 1. To buy or sell something
 - 2. To be able to handle a jolt
 - 3. To brag about something
 - 4. To change the way one talks about something

Question Type : **MCQ**
Question ID : **264330136404**
Option 1 ID : **264330534380**
Option 2 ID : **264330534382**
Option 3 ID : **264330534381**
Option 4 ID : **264330534379**
Status : **Answered**
Chosen Option : **4**

Q.15 Find the part of the given sentence that has an error in it. If there is no error, choose 'No error'.

People need to made changes in agriculture and land use.

- Ans
- 1. People need to
 - 2. agriculture and land use.
 - 3. made changes in
 - 4. No error

Question Type : **MCQ**
Question ID : **264330134824**
Option 1 ID : **264330528235**
Option 2 ID : **264330528237**
Option 3 ID : **264330528236**
Option 4 ID : **264330528238**
Status : **Answered**
Chosen Option : **3**

Q.16 Choose the sentence with no spelling error.

- Ans
- 1. Near death experiences are still near death.
 - 2. Near death expereinces are stil near death.
 - 3. Near death experiences are stil near deaath.
 - 4. Near death expriences are still near death.

Question Type : **MCQ**
Question ID : **264330135279**
Option 1 ID : **264330530032**
Option 2 ID : **264330530031**
Option 3 ID : **264330530034**
Option 4 ID : **264330530033**
Status : **Answered**
Chosen Option : **1**

Q.17 Improve the underlined part of the sentence. Choose 'No improvement' as an answer if the sentence is grammatically correct.
At age 25, she taken her vows and became a nun.

- Ans
- 1. take her vowed
 - 2. No improvement
 - 3. took her vows
 - 4. take her vows

Question Type : MCQ
Question ID : 264330134532
Option 1 ID : 264330527089
Option 2 ID : 264330527090
Option 3 ID : 264330527087
Option 4 ID : 264330527088
Status : Answered
Chosen Option : 3

Q.18 Choose the word that means the same as the given word.

Easiness

- Ans
- 1. Immunity
 - 2. Indomitability
 - 3. Gullibility
 - 4. Fraternity

Question Type : MCQ
Question ID : 264330135299
Option 1 ID : 264330530109
Option 2 ID : 264330530107
Option 3 ID : 264330530110
Option 4 ID : 264330530108
Status : Answered
Chosen Option : 3

Q.19 Choose the word that can substitute the given group of words.

A case in which the blade of a sword is kept

- Ans
- 1. Pantry
 - 2. Dyke
 - 3. Infirmary
 - 4. Sheath

Question Type : MCQ
Question ID : 264330135323
Option 1 ID : 264330530202
Option 2 ID : 264330530201
Option 3 ID : 264330530199
Option 4 ID : 264330530200
Status : Answered
Chosen Option : 4

Q.20 Select the most appropriate word for the given group of words.

Government by two rulers or authorities

- Ans**
- 1. Diarchy
 - 2. Anarchy
 - 3. Monarchy
 - 4. Bureaucracy

Question Type : **MCQ**
Question ID : **264330136398**
Option 1 ID : **264330534357**
Option 2 ID : **264330534355**
Option 3 ID : **264330534356**
Option 4 ID : **264330534358**
Status : **Answered**
Chosen Option : **1**

Comprehension:

In the following passage some words have been deleted. Fill in the blanks with the help of the alternatives given. Select the most appropriate option for each number.

By contrast, depression is a (1) _____, long-term downturn in economic activity in one or more (2) _____. A depression is a more (3) _____ downturn than a recession, which is seen by some economists as part of the modern business cycle. The latter refers to (4) _____ that occur around a long-term growth trend, and typically involve shifts over time between (5) _____ of relatively rapid economic growth (an expansion or boom), and periods of relative stagnation or decline (a contraction or recession).

SubQuestion No : 21

Q.21 Select the most appropriate option to fill in blank number 1.

- Ans**
- 1. abstained
 - 2. stained
 - 3. sustained
 - 4. curtained

Question Type : **MCQ**
Question ID : **264330136518**
Option 1 ID : **264330534812**
Option 2 ID : **264330534811**
Option 3 ID : **264330534814**
Option 4 ID : **264330534813**
Status : **Answered**
Chosen Option : **3**

Comprehension:

In the following passage some words have been deleted. Fill in the blanks with the help of the alternatives given. Select the most appropriate option for each number.

By contrast, depression is a (1) _____, long-term downturn in economic activity in one or more (2) _____. A depression is a more (3) _____ downturn than a recession, which is seen by some economists as part of the modern business cycle. The latter refers to (4) _____ that occur around a long-term growth trend, and typically involve shifts over time between (5) _____ of relatively rapid economic growth (an expansion or boom), and periods of relative stagnation or decline (a contraction or recession).

SubQuestion No : 22

Q.22 Select the most appropriate option to fill in blank number 2.

- Ans**
- 1. services
 - 2. autonomies
 - 3. astronomies
 - 4. economies

Question Type : **MCQ**

Question ID : **264330136519**

Option 1 ID : **264330534815**

Option 2 ID : **264330534818**

Option 3 ID : **264330534817**

Option 4 ID : **264330534816**

Status : **Not Answered**

Chosen Option : --

Comprehension:

In the following passage some words have been deleted. Fill in the blanks with the help of the alternatives given. Select the most appropriate option for each number.

By contrast, depression is a (1) _____, long-term downturn in economic activity in one or more (2) _____. A depression is a more (3) _____ downturn than a recession, which is seen by some economists as part of the modern business cycle. The latter refers to (4) _____ that occur around a long-term growth trend, and typically involve shifts over time between (5) _____ of relatively rapid economic growth (an expansion or boom), and periods of relative stagnation or decline (a contraction or recession).

SubQuestion No : 23

Q.23 Select the most appropriate option to fill in blank number 3.

- Ans**
- 1. feral
 - 2. severe
 - 3. tamed
 - 4. simple

Question Type : **MCQ**

Question ID : **264330136520**

Option 1 ID : **264330534820**

Option 2 ID : **264330534822**

Option 3 ID : **264330534819**

Option 4 ID : **264330534821**

Status : **Answered**

Chosen Option : **2**

Comprehension:

In the following passage some words have been deleted. Fill in the blanks with the help of the alternatives given. Select the most appropriate option for each number.

By contrast, depression is a (1) _____, long-term downturn in economic activity in one or more (2) _____. A depression is a more (3) _____ downturn than a recession, which is seen by some economists as part of the modern business cycle. The latter refers to (4) _____ that occur around a long-term growth trend, and typically involve shifts over time between (5) _____ of relatively rapid economic growth (an expansion or boom), and periods of relative stagnation or decline (a contraction or recession).

SubQuestion No : 24

Q.24 Select the most appropriate option to fill in blank number 4.

- Ans**
- 1. fluctuations
 - 2. sustainability
 - 3. stability
 - 4. firmness

Question Type : **MCQ**
Question ID : **264330136521**
Option 1 ID : **264330534826**
Option 2 ID : **264330534824**
Option 3 ID : **264330534825**
Option 4 ID : **264330534823**
Status : **Answered**
Chosen Option : **1**

Comprehension:

In the following passage some words have been deleted. Fill in the blanks with the help of the alternatives given. Select the most appropriate option for each number.

By contrast, depression is a (1) _____, long-term downturn in economic activity in one or more (2) _____. A depression is a more (3) _____ downturn than a recession, which is seen by some economists as part of the modern business cycle. The latter refers to (4) _____ that occur around a long-term growth trend, and typically involve shifts over time between (5) _____ of relatively rapid economic growth (an expansion or boom), and periods of relative stagnation or decline (a contraction or recession).

SubQuestion No : 25

Q.25 Select the most appropriate option to fill in blank number 5.

- Ans**
- 1. periods
 - 2. prods
 - 3. perpetually
 - 4. perpetuity

Question Type : **MCQ**
Question ID : **264330136522**
Option 1 ID : **264330534827**
Option 2 ID : **264330534830**
Option 3 ID : **264330534829**
Option 4 ID : **264330534828**
Status : **Answered**
Chosen Option : **1**