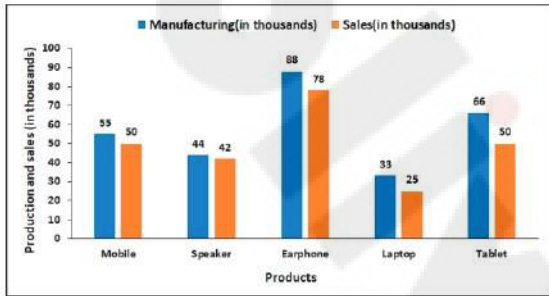


Multi Tasking Non Technical Staff and Havaldar CBIC and CBN Examination 2022

Roll Number	
Candidate Name	
Venue Name	Jaipur Engineering College
Exam Date	16/05/2023
Exam Time	12:00 PM - 2:00 PM
Subject	MTS Non Tech Havaldar CBIC and CBN Examination 2022

Section : Numerical and Mathematical Ability

Q.1 निम्न दंड आलेख में विभिन्न उत्पादों के निर्माण और बिक्री को दर्शाया गया है। जो लैपटॉप नहीं बिके उनकी संख्या ज्ञात कीजिए।



Manufacturing(in thousands)= उत्पादन(हजारों में), Sales(in thousands) = बिक्री (हजारों में)

Production and sales(in thousands)= उत्पादन और बिक्री(हजारों में), Products = उत्पाद

Mobile = मोबाइल, Speaker = स्पीकर, Earphone = ईयरफोन, Laptop = लैपटॉप, Tablet = टेबलेट

- Ans
- 1. 4000
 - 2. 5000
 - 3. 9000
 - 4. 8000

Question Type : MCQ

Question ID : 264330133772

Option 1 ID : 264330524113

Option 2 ID : 264330524112

Option 3 ID : 264330524114

Option 4 ID : 264330524111

Status : Answered

Chosen Option : 4

Q.2 64 और 144 का माध्य समानुपाती ज्ञात कीजिए।

- Ans
- 1. 108
 - 2. 96
 - 3. 12
 - 4. 8

Question Type : MCQ
Question ID : 264330133764
Option 1 ID : 264330524082
Option 2 ID : 264330524081
Option 3 ID : 264330524079
Option 4 ID : 264330524080
Status : Answered
Chosen Option : 2

Q.3 $6^2 + 4^2 - 20$ of $2 + 40$ का मान ज्ञात कीजिए।

- Ans
- 1. 54
 - 2. 56
 - 3. 50
 - 4. 52

Question Type : MCQ
Question ID : 264330133756
Option 1 ID : 264330524048
Option 2 ID : 264330524050
Option 3 ID : 264330524049
Option 4 ID : 264330524047
Status : Answered
Chosen Option : 4

Q.4 अजितकेत का वार्षिक वेतन Rs.1000000 से बढ़कर Rs.1400000 हो गया। वृद्धि प्रतिशत क्या है?

- Ans
- 1. 14%
 - 2. 40%
 - 3. 4%
 - 4. 20%

Question Type : MCQ
Question ID : 264330133585
Option 1 ID : 264330523366
Option 2 ID : 264330523364
Option 3 ID : 264330523363
Option 4 ID : 264330523365
Status : Answered
Chosen Option : 2

Q.5 A, B और C मिलकर किसी कार्य को 5 दिनों में पूरा कर सकते हैं। A और B मिलकर उसी कार्य को 6 दिनों में पूरा कर सकते हैं। C अकेले उसी कार्य को कितने दिनों में पूरा कर सकता है?

- Ans
- 1. 60 दिन
 - 2. 30 दिन
 - 3. 15 दिन
 - 4. 20 दिन

Question Type : MCQ
Question ID : 264330137130
Option 1 ID : 264330537166
Option 2 ID : 264330537165
Option 3 ID : 264330537164
Option 4 ID : 264330537163
Status : Answered
Chosen Option : 2

Q.6 एक वृत्त के क्षेत्रफल का नौ गुना, एक वर्ग के क्षेत्रफल के तीन गुना के बराबर है। वृत्त के व्यास और वर्ग के विकर्ण का अनुपात क्या है?

- Ans
- 1. $2:\sqrt{3\pi}$
 - 2. $\sqrt{5}:\sqrt{7\pi}$
 - 3. $\sqrt{2}:\sqrt{3\pi}$
 - 4. $2:3\pi$

Question Type : MCQ
Question ID : 264330139010
Option 1 ID : 264330544650
Option 2 ID : 264330544649
Option 3 ID : 264330544647
Option 4 ID : 264330544648
Status : Answered
Chosen Option : 1

Q.7 यदि किसी घनाभ की लंबाई और चौड़ाई दोनों में 12 प्रतिशत की वृद्धि कर दी जाए, तो उसकी ऊँचाई में कितने प्रतिशत की कमी की जानी चाहिए ताकि घनाभ का आयतन वही रहे?

- Ans
- 1. 24.72 प्रतिशत
 - 2. 28.44 प्रतिशत
 - 3. 14.56 प्रतिशत
 - 4. 20.28 प्रतिशत

Question Type : MCQ
Question ID : 264330137145
Option 1 ID : 264330537224
Option 2 ID : 264330537223
Option 3 ID : 264330537225
Option 4 ID : 264330537226
Status : Answered
Chosen Option : 4

Q.8 35 वस्तुओं को बेचने पर, एक दुकानदार 15 वस्तुओं के विक्रय मूल्य के बराबर लाभ अर्जित करता है। उसका लाभ प्रतिशत ज्ञात कीजिए।

- Ans
- 1. 88%
 - 2. 75%
 - 3. 60%
 - 4. 40%

Question Type : MCQ

Question ID : 264330135137

Option 1 ID : 264330529485

Option 2 ID : 264330529483

Option 3 ID : 264330529484

Option 4 ID : 264330529486

Status : Answered

Chosen Option : 2

Q.9 एक आदमी अपनी कार को 2 घंटे तक 50 km/hr की चाल से चलाता है और फिर यात्रा के अंत तक चाल को कम करके 40 km/hr की चाल से चलाता है। यदि यात्रा के दौरान उसकी औसत चाल 44 km/hr थी, तो उसने कितने समय तक अपनी कार को 40 km/hr की चाल से चलाया?

- Ans
- 1. 1 घंटे
 - 2. 2 घंटे
 - 3. 3 घंटे
 - 4. 4 घंटे

Question Type : MCQ

Question ID : 264330138040

Option 1 ID : 264330540767

Option 2 ID : 264330540768

Option 3 ID : 264330540769

Option 4 ID : 264330540770

Status : Answered

Chosen Option : 3

Q.10 $49 \times 64 \div 56 + 45 \div 5 + 25 \times 5 + 75 \div 3 + 8 \times 3$ का मान क्या है?

- Ans
- 1. 250
 - 2. 225
 - 3. 214
 - 4. 239

Question Type : MCQ

Question ID : 264330137149

Option 1 ID : 264330537242

Option 2 ID : 264330537240

Option 3 ID : 264330537239

Option 4 ID : 264330537241

Status : Answered

Chosen Option : 4

Q.11 नीचे दी गई तालिका में पाँच अलग-अलग वस्तुओं के अंकित मूल्य और छूट प्रतिशत को दर्शाया गया है।

वस्तु	अंकित मूल्य	छूट प्रतिशत
P	300	20 प्रतिशत
Q	600	25 प्रतिशत
R	400	16 प्रतिशत
S	700	22 प्रतिशत
T	800	30 प्रतिशत

$$\text{Selling Price} = \text{Marked Price} - \left(\frac{\text{Marked Price} \times \text{Discount}}{100} \right)$$

विक्रय मूल्य (selling price) = अंकित मूल्य (marked price) - (अंकित मूल्य (marked price) x छूट (discount) /100)

J1 = वस्तु P और R का कुल विक्रय मूल्य।

J2 = Q और T का कुल विक्रय मूल्य।

(J2 - J1) का मान क्या है?

- Ans
- 1. 532
 - 2. 434
 - 3. 530
 - 4. 448

Question Type : MCQ

Question ID : 264330137150

Option 1 ID : 264330537246

Option 2 ID : 264330537245

Option 3 ID : 264330537243

Option 4 ID : 264330537244

Status : Answered

Chosen Option : 2

Q.12 21 m व्यास वाले एक अर्धगोलाकार कटोरे में कितने लीटर पानी आ सकता है? ($1\text{m}^3 = 1000$ लीटर)

- Ans
- 1. 2100000 लीटर
 - 2. 2322500 लीटर
 - 3. 2425500 लीटर
 - 4. 2250500 लीटर

Question Type : MCQ

Question ID : 264330135128

Option 1 ID : 264330529447

Option 2 ID : 264330529450

Option 3 ID : 264330529449

Option 4 ID : 264330529448

Status : Answered

Chosen Option : 3

Q.13 A और B द्वारा एक निश्चित दूरी तय करने में लगने वाले समय का अनुपात 17:19 है। दोनों की चाल का क्रमशः अनुपात ज्ञात कीजिए।

- Ans
- 1. 15:19
 - 2. 11:15
 - 3. 17:15
 - 4. 19:17

Question Type : MCQ

Question ID : 264330133768

Option 1 ID : 264330524096

Option 2 ID : 264330524098

Option 3 ID : 264330524095

Option 4 ID : 264330524097

Status : Answered

Chosen Option : 4

Q.14 $\frac{39}{25} \div \frac{13}{5} + \frac{33}{5} \times \frac{4}{11}$ का मान क्या है?

- Ans
- 1. 5
 - 2. 15
 - 3. 3
 - 4. 12

Question Type : MCQ

Question ID : 264330137641

Option 1 ID : 264330539172

Option 2 ID : 264330539173

Option 3 ID : 264330539171

Option 4 ID : 264330539174

Status : Answered

Chosen Option : 3

Q.15 33% और 30% के क्रमागत बड़े किस एकल बड़े के बराबर हैं?

- Ans
- 1. 50.5%
 - 2. 45.9%
 - 3. 60.4%
 - 4. 53.1%

Question Type : MCQ

Question ID : 264330133763

Option 1 ID : 264330524075

Option 2 ID : 264330524076

Option 3 ID : 264330524078

Option 4 ID : 264330524077

Status : Answered

Chosen Option : 4

Q.16 55, 60 और 33 का चतुर्थ समानुपाती जात कीजिए।

- Ans
- 1. 28
 - 2. 30
 - 3. 36
 - 4. 24

Question Type : MCQ

Question ID : 264330133765

Option 1 ID : 264330524085

Option 2 ID : 264330524086

Option 3 ID : 264330524083

Option 4 ID : 264330524084

Status : Answered

Chosen Option : 3

Q.17 साधारण ब्याज दर पर 5 वर्षों में Rs. 21850 की धनराशि Rs. 28623.50 हो जाती है। दर प्रतिशत कितना है?

- Ans
- 1. 6.2% वार्षिक
 - 2. 7.2% वार्षिक
 - 3. 6.8% वार्षिक
 - 4. 4.8% वार्षिक

Question Type : MCQ

Question ID : 264330138736

Option 1 ID : 264330543553

Option 2 ID : 264330543554

Option 3 ID : 264330543552

Option 4 ID : 264330543551

Status : Answered

Chosen Option : 1

Q.18 चीनी की 4% मात्रा को बेचने के बाद, 6 kg चीनी बच जाती है। चीनी की कुल मात्रा जात कीजिए।

- Ans
- 1. 11.11 kg
 - 2. 7 kg
 - 3. 5.25 kg
 - 4. 6.25 kg

Question Type : MCQ

Question ID : 264330133762

Option 1 ID : 264330524073

Option 2 ID : 264330524074

Option 3 ID : 264330524071

Option 4 ID : 264330524072

Status : Answered

Chosen Option : 4

Q.19 Rs. 58 प्रति किलोग्राम मूल्य वाली चाय को, Rs. 64 प्रति किलोग्राम मूल्य वाली चाय के साथ किस अनुपात में मिलाया जाना चाहिए जिससे मिश्रण का मूल्य Rs. 60 प्रति किलोग्राम हो जाएगा?

- Ans
- 1. 3:2
 - 2. 2:1
 - 3. 1:2
 - 4. 2:3

Question Type : MCQ

Question ID : 264330138039

Option 1 ID : 264330540764

Option 2 ID : 264330540763

Option 3 ID : 264330540765

Option 4 ID : 264330540766

Status : Answered

Chosen Option : 2

Q.20 21 संख्याओं का औसत 60 है। यदि प्रत्येक संख्या में 20 की वृद्धि की जाती है, तो वह संख्या ज्ञात कीजिए जिसके द्वारा औसत में वृद्धि होती है।

- Ans
- 1. 12
 - 2. 18
 - 3. 15
 - 4. 20

Question Type : MCQ

Question ID : 264330133758

Option 1 ID : 264330524056

Option 2 ID : 264330524057

Option 3 ID : 264330524055

Option 4 ID : 264330524058

Status : Answered

Chosen Option : 4

Section : Reasoning Ability and Problem Solving

Q.1 Five students A, M, C, Y and G are sitting around a circular table facing outside the center not necessarily in the same order. M sits to the immediate left of A and to the immediate right of G. Y is not an immediate neighbour of A. Who sits second left of G?

- Ans
- 1. A
 - 2. C
 - 3. M
 - 4. Y

Question Type : MCQ

Question ID : 264330133472

Option 1 ID : 264330522919

Option 2 ID : 264330522920

Option 3 ID : 264330522921

Option 4 ID : 264330522922

Status : Answered

Chosen Option : 2

Q.2 एक निश्चित कूट भाषा में, 'CAUGHT' को 'EYWEJR' लिखा जाता है और 'ENGINE' को 'GLIGPC' लिखा जाता है। उस कूट भाषा में 'WORKER' को कैसे लिखा जाएगा?

- Ans
- 1. YMTKGP
 - 2. YMTIHP
 - 3. YMTIGP
 - 4. YMTJIP

Question Type : MCQ

Question ID : 264330137348

Option 1 ID : 264330538019

Option 2 ID : 264330538021

Option 3 ID : 264330538020

Option 4 ID : 264330538022

Status : Answered

Chosen Option : 3

Q.3 पाँच मित्रों पीयूष, निखिल, राहुल, सक्षम और तरुण के कद अलग-अलग हैं। तरुण केवल तीन अन्य मित्रों से लंबा है। राहुल सभी मित्रों में सबसे लंबा है। निखिल केवल एक मित्र से लंबा है। पीयूष से केवल दो मित्र लंबे हैं। सभी मित्रों में किसका कद सबसे कम है?

- Ans
- 1. निखिल
 - 2. पीयूष
 - 3. सक्षम
 - 4. तरुण

Question Type : MCQ

Question ID : 264330133474

Option 1 ID : 264330522928

Option 2 ID : 264330522927

Option 3 ID : 264330522930

Option 4 ID : 264330522929

Status : Answered

Chosen Option : 3

Q.4 दी गई श्रृंखला में निम्नलिखित में से कौन-सा अक्षर-समूह प्रश्न चिन्ह (?) के स्थान पर आएगा?
UX, YB, CF, GJ, ?

- Ans
- 1. LO
 - 2. KN
 - 3. KM
 - 4. LN

Question Type : MCQ

Question ID : 264330133466

Option 1 ID : 264330522898

Option 2 ID : 264330522895

Option 3 ID : 264330522896

Option 4 ID : 264330522897

Status : Answered

Chosen Option : 2

Q.5 दी गई श्रृंखला में निम्नलिखित में से कौन-सी संख्या प्रश्न चिन्ह (?) के स्थान पर आएगी?
5, 7, 11, 13, 17, 19, 23, 25, ?

- Ans
- 1. 42
 - 2. 39
 - 3. 56
 - 4. 29

Question Type : MCQ

Question ID : 264330133331

Option 1 ID : 264330522359

Option 2 ID : 264330522360

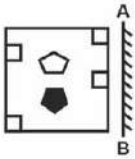
Option 3 ID : 264330522361

Option 4 ID : 264330522362

Status : Answered

Chosen Option : 4

Q.6 यदि रेखा AB पर एक दर्पण रखा जाए, तो दी गई विकल्प आकृतियों में से कौन-सी आकृति प्रश्न आकृति का सही प्रतिबिंब होगी?



Ans

- 1.
- 2.
- 3.
- 4.

Question Type : MCQ

Question ID : 264330137106

Option 1 ID : 264330537070

Option 2 ID : 264330537067

Option 3 ID : 264330537069

Option 4 ID : 264330537068

Status : Answered

Chosen Option : 3

Q.7 एक निश्चित कूट भाषा में, '3152' को 'FBJD' और '5476' को 'JHNL' लिखा जाता है। उस भाषा में '2231' को कैसे लिखा जाएगा?

- Ans
- 1. BDDF
 - 2. EFDB
 - 3. DDFB
 - 4. FBED

Question Type : MCQ

Question ID : 264330133389

Option 1 ID : 264330522589

Option 2 ID : 264330522588

Option 3 ID : 264330522590

Option 4 ID : 264330522590

Status : Answered

Chosen Option : 3

Q.8 एक निश्चित कूट भाषा में, 'CAGE' को '92' लिखा जाता है और 'BURN' को '53' लिखा जाता है। उस कूट भाषा में 'TORCH' को कैसे लिखा जाएगा?

- Ans
- 1. 65
 - 2. 71
 - 3. 98
 - 4. 82

Question Type : MCQ

Question ID : 264330137544

Option 1 ID : 264330538786

Option 2 ID : 264330538785

Option 3 ID : 264330538783

Option 4 ID : 264330538784

Status : Answered

Chosen Option : 2

Q.9 दी गई दो संख्याओं को आपस में बदलने पर, निम्नलिखित में से कौनसा समीकरण सही होगा?

7 और 4

I. $7 \times 8 + 4 - 9 \div 3 = 30$

II. $9 + 4 \times 8 \div 2 - 7 = 33$

- Ans
- 1. केवल I
 - 2. I और II दोनों
 - 3. केवल II
 - 4. न तो I और न ही II

Question Type : MCQ

Question ID : 264330138599

Option 1 ID : 264330543003

Option 2 ID : 264330543005

Option 3 ID : 264330543004

Option 4 ID : 264330543006

Status : Answered

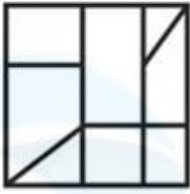
Chosen Option : 3

Q.10 उस विकल्प आकृति को चुनिए जिसमें दी गई आकृति निहित है। (घूर्णन की अनुमति नहीं है)

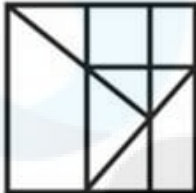


Ans

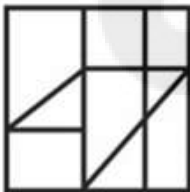
✗ 1.



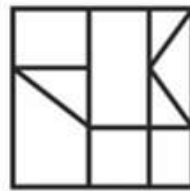
✗ 2.



✗ 3.



✓ 4.



Question Type : MCQ

Question ID : 264330137105

Option 1 ID : 264330537064

Option 2 ID : 264330537066

Option 3 ID : 264330537065

Option 4 ID : 264330537063

Status : Answered

Chosen Option : 4

Q.11 Select the option that is related to the third word in the same way as the second word is related to the first word.

Cataract : Eyes :: Psoriasis : ?

Ans ✓ 1. Skin

✗ 2. Leg

✗ 3. Hair

✗ 4. Ear

Question Type : MCQ

Question ID : 264330133467

Option 1 ID : 264330522902

Option 2 ID : 264330522900

Option 3 ID : 264330522901

Option 4 ID : 264330522899

Status : Answered

Chosen Option : 2

Q.12 दो कथन दिए गए हैं और उनके बाद दो निष्कर्ष I और II दिए गए हैं। कथनों को सत्य मानते हुए, चाहे वे सामान्यतः जात तथ्यों से अलग प्रतीत होते हों, निश्चय कीजिए कि कौन-सा निष्कर्ष तार्किक रूप से कथनों के अनुसार है।

कथन:

सभी ट्रॉली, टोकरियाँ हैं।

कुछ अटैची, ट्रॉली हैं।

निष्कर्ष:

I. सभी अटैची, टोकरियाँ हैं।

II. कुछ टोकरियाँ, अटैची हैं।

Ans

1. सिर्फ निष्कर्ष I कथनों के अनुसार है
2. सिर्फ निष्कर्ष II कथनों के अनुसार है
3. निष्कर्ष I और II दोनों कथनों के अनुसार हैं
4. निष्कर्ष I और II में से कोई भी कथनों के अनुसार नहीं है

Question Type : MCQ

Question ID : 264330133475

Option 1 ID : 264330522931

Option 2 ID : 264330522932

Option 3 ID : 264330522933

Option 4 ID : 264330522934

Status : Answered

Chosen Option : 2

Q.13 दो कथन दिए गए हैं और उनके बाद दो निष्कर्ष I और II दिए गए हैं। कथनों को सत्य मानते हुए, चाहे वे सामान्यतः जात तथ्यों से अलग प्रतीत होते हों, निश्चय कीजिए कि कौन-सा निष्कर्ष तार्किक रूप से कथनों के अनुसार है।

कथन:

केवल कुछ वयस्क, प्लंबर हैं।

केवल कुछ प्लंबर, टैक्सी चालक हैं।

निष्कर्ष:

I. कुछ वयस्क, टैक्सी चालक हैं।

II. सभी प्लंबर कभी भी टैक्सी चालक नहीं हो सकते।

Ans

1. निष्कर्ष I और II में से कोई भी कथनों के अनुसार नहीं है
2. सिर्फ निष्कर्ष I कथनों के अनुसार है
3. निष्कर्ष I और II दोनों कथनों के अनुसार हैं
4. सिर्फ निष्कर्ष II कथनों के अनुसार है

Question Type : MCQ

Question ID : 264330133476

Option 1 ID : 264330522938

Option 2 ID : 264330522935

Option 3 ID : 264330522937

Option 4 ID : 264330522936

Status : Answered

Chosen Option : 1

Q.14 नीचे दिए गए समीकरण में कौन-से गणितीय चिन्हों को आपस में बदला जाना चाहिए जिससे यह समीकरण गणितीय रूप से सही हो जाए?

$$45 - 6 + 108 \div 12 \times 14 = 5$$

- Ans
- 1. \div और $-$
 - 2. $+$ और $-$
 - 3. $+$ और \times
 - 4. \times और $-$

Question Type : MCQ

Question ID : 264330133481

Option 1 ID : 264330522956

Option 2 ID : 264330522958

Option 3 ID : 264330522955

Option 4 ID : 264330522957

Status : Answered

Chosen Option : 3

Q.15 उस समुच्चय को चुनिए जिसमें संख्याएँ ठीक उसी प्रकार संबंधित हैं जिस प्रकार निम्नलिखित समुच्चयों की संख्याएँ संबंधित हैं। (ध्यान दें: संख्याओं को उनके घटक अंकों में अलग-अलग किए बिना, पूर्ण संख्याओं पर संक्रियाएँ की जानी चाहिए। उदा. 13 - 13 पर संक्रियाएँ जैसे 13 को जोड़ना /घटाना /गुणा करना आदि किया जा सकता है। 13 को 1 और 3 में अलग-अलग करने की और फिर 1 और 3 पर गणितीय संक्रियाएँ करने की अनुमति नहीं है)
(7, 49, 343)
(8, 64, 512)

- Ans
- 1. (5, 25, 225)
 - 2. (6, 36, 206)
 - 3. (11, 121, 1221)
 - 4. (9, 81, 729)

Question Type : MCQ

Question ID : 264330133480

Option 1 ID : 264330522952

Option 2 ID : 264330522951

Option 3 ID : 264330522954

Option 4 ID : 264330522953

Status : Answered

Chosen Option : 4

Q.16 एक निश्चित कूट भाषा में, 'JACK' को 'LCEI' लिखा जाता है। उस कूट भाषा में 'FURO' को कैसे लिखा जाएगा?

- Ans
- 1. HMTW
 - 2. HTWM
 - 3. HTMW
 - 4. HWTM

Question Type : MCQ

Question ID : 264330135004

Option 1 ID : 264330528953

Option 2 ID : 264330528952

Option 3 ID : 264330528954

Option 4 ID : 264330528951

Status : Answered

Chosen Option : 4

Q.17 उस विकल्प को चुनिए जो तीसरे शब्द से ठीक उसी तरह संबंधित है जिस तरह दूसरा शब्द पहले शब्द से संबंधित है।
कसाई : माँस :: विमान-चालक : ?

- Ans
- 1. उपचार
 - 2. विमान
 - 3. बेचना
 - 4. रूपरेखा

Question Type : MCQ

Question ID : 264330133468

Option 1 ID : 264330522905

Option 2 ID : 264330522903

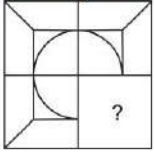
Option 3 ID : 264330522906

Option 4 ID : 264330522904

Status : Answered

Chosen Option : 2

Q.18 उस विकल्प आकृति को चुनिए जो नीचे दी गई आकृति में पैटर्न को पूरा करने के लिए प्रश्न चिन्ह (?) के स्थान पर आएगी। (घूर्णन की अनुमति नहीं है)।



Ans

- 1.
- 2.
- 3.
- 4.

Question Type : MCQ

Question ID : 264330133485

Option 1 ID : 264330522971

Option 2 ID : 264330522974

Option 3 ID : 264330522972

Option 4 ID : 264330522973

Status : Answered

Chosen Option : 4

Q.19 दी गई श्रृंखला में निम्नलिखित में से कौन-सी संख्या प्रश्न चिन्ह (?) के स्थान पर आएगी?
58, 62, 71, 87, 112, ?

- Ans
- 1. 140
 - 2. 138
 - 3. 158
 - 4. 148

Question Type : MCQ
Question ID : 264330133478
Option 1 ID : 264330522946
Option 2 ID : 264330522943
Option 3 ID : 264330522945
Option 4 ID : 264330522944
Status : Answered
Chosen Option : 4

Q.20 उस विकल्प को चुनिए जो तीसरी संख्या से ठीक उसी तरह संबंधित है जिस तरह दूसरी संख्या पहली संख्या से संबंधित है।
346 : 175 :: 250 : ?

- Ans
- 1. 271
 - 2. 213
 - 3. 127
 - 4. 174

Question Type : MCQ
Question ID : 264330133333
Option 1 ID : 264330522367
Option 2 ID : 264330522370
Option 3 ID : 264330522368
Option 4 ID : 264330522369
Status : Answered
Chosen Option : 3

Section : General Awareness

Q.1 आयनिक यौगिक $MgCl_2$ का रासायनिक नाम क्या है?

- Ans
- 1. सीज़ियम फ्लोराइड (Cesium fluoride)
 - 2. सोडियम आयोडाइड (Sodium iodide)
 - 3. मैंगनीज़ क्लोराइड (Manganese chloride)
 - 4. मैग्नीशियम क्लोराइड (Magnesium chloride)

Question Type : MCQ
Question ID : 264330133653
Option 1 ID : 264330523636
Option 2 ID : 264330523637
Option 3 ID : 264330523635
Option 4 ID : 264330523638
Status : Answered
Chosen Option : 4

Q.2 भारत की कौन-सी नदी बंगाल की खाड़ी में गिरती है?

- Ans
- 1. नर्मदा
 - 2. गोदावरी
 - 3. माही
 - 4. तापी

Question Type : MCQ
Question ID : 264330133941
Option 1 ID : 264330524789
Option 2 ID : 264330524790
Option 3 ID : 264330524788
Option 4 ID : 264330524787
Status : Answered
Chosen Option : 2

Q.3 लाला लाजपत राय किस संगठन के एक सक्रिय सदस्य थे?

- Ans
- 1. ब्रह्म सभा
 - 2. प्रार्थना सभा
 - 3. आर्य समाज
 - 4. ब्रह्म समाज

Question Type : MCQ
Question ID : 264330137035
Option 1 ID : 264330536786
Option 2 ID : 264330536784
Option 3 ID : 264330536785
Option 4 ID : 264330536783
Status : Answered
Chosen Option : 4

Q.4 निम्नलिखित में से कौन-सा नृत्य भारत के जम्मू और कश्मीर का एक लोक नृत्य है?

- Ans
- 1. रऊफ (Rouf)
 - 2. बिहू
 - 3. भांगड़ा
 - 4. कथक

Question Type : MCQ
Question ID : 264330133933
Option 1 ID : 264330524756
Option 2 ID : 264330524758
Option 3 ID : 264330524757
Option 4 ID : 264330524755
Status : Answered
Chosen Option : 1

Q.5 प्रत्येक टीम में ग्यारह खिलाड़ियों वाली दो टीमों के बीच निम्न में से कौन-सा खेल खेला जाता है?

- Ans
- 1. तैराकी
 - 2. टेबल टेनिस
 - 3. बास्केटबॉल
 - 4. क्रिकेट

Question Type : MCQ
Question ID : 264330133671
Option 1 ID : 264330523707
Option 2 ID : 264330523710
Option 3 ID : 264330523709
Option 4 ID : 264330523708
Status : Answered
Chosen Option : 4

Q.6 आठवीं शताब्दी के मध्य में, एक राष्ट्रकूट प्रमुख, दन्तिदुर्ग ने अपने चालुक्य अधिपति का तख्ता पलट करके एक अनुष्ठान करवाया जिसे शाब्दिक रूप से _____ कहा जाता था।

- Ans
- 1. प्रार्थना सभा
 - 2. घुड़सवारी
 - 3. सहायक गठबंधन
 - 4. हिरण्य गर्भ

Question Type : MCQ
Question ID : 264330137698
Option 1 ID : 264330539402
Option 2 ID : 264330539401
Option 3 ID : 264330539399
Option 4 ID : 264330539400
Status : Answered
Chosen Option : 4

Q.7 चार दिवसीय फसल कटाई उत्सव पोंगल आमतौर पर _____ में मनाया जाता है।

- Ans
- 1. दक्षिण भारत
 - 2. पूर्वी भारत
 - 3. उत्तर भारत
 - 4. उत्तर-पूर्वी भारत

Question Type : MCQ
Question ID : 264330137012
Option 1 ID : 264330536692
Option 2 ID : 264330536694
Option 3 ID : 264330536691
Option 4 ID : 264330536693
Status : Answered
Chosen Option : 1

Q.8 भारतीय शास्त्रीय नृत्यांगना सोनल मानसिंह को निम्नलिखित में से किन पुरस्कारों से सम्मानित किया गया?

Ans

- ✓ 1. पद्म भूषण और पद्म विभूषण
- ✗ 2. पद्म विभूषण और पद्म श्री
- ✗ 3. पद्म भूषण और भारतरत्न
- ✗ 4. पद्म भूषण और पद्म श्री

Question Type : MCQ

Question ID : 264330134688

Option 1 ID : 264330527708

Option 2 ID : 264330527709

Option 3 ID : 264330527710

Option 4 ID : 264330527707

Status : Answered

Chosen Option : 1

Q.9 दंत कथाओं के संग्रह, पंचतंत्र की रचना किसने की थी?

Ans

- ✗ 1. जय देव
- ✓ 2. विष्णु शर्मा
- ✗ 3. रूमी
- ✗ 4. अमर सिंह

Question Type : MCQ

Question ID : 264330134686

Option 1 ID : 264330527700

Option 2 ID : 264330527702

Option 3 ID : 264330527699

Option 4 ID : 264330527701

Status : Answered

Chosen Option : 2

Q.10 11 अगस्त 2022 तक, राज्य सभा के सभापति कौन हैं?

Ans

- ✓ 1. जगदीप धनखड़
- ✗ 2. अमित शाह
- ✗ 3. नरेंद्र मोदी
- ✗ 4. अधीर रंजन चौधरी

Question Type : MCQ

Question ID : 264330133952

Option 1 ID : 264330524832

Option 2 ID : 264330524831

Option 3 ID : 264330524834

Option 4 ID : 264330524833

Status : Answered

Chosen Option : 1

Q.11 1192 ईस्वी में तराइन के द्वितीय युद्ध में पृथ्वीराज चौहान को किसने पराजित किया था?

- Ans
- 1. अलाउद्दीन खिलजी (Alauddin Khilji)
 - 2. बाबर (Babur)
 - 3. इल्तुतमिश (Iltutmish)
 - 4. मोहम्मद गोरी (Muhammad Ghori)

Question Type : MCQ
Question ID : 264330133662
Option 1 ID : 264330523674
Option 2 ID : 264330523671
Option 3 ID : 264330523673
Option 4 ID : 264330523672
Status : Answered
Chosen Option : 4

Q.12 किसी चुनाव में मतदान करने वाले पात्र मतदाताओं के प्रतिशत को _____ कहा जाता है।

- Ans
- 1. वीटो (Veto)
 - 2. मतदान प्रतिशत (Turnout)
 - 3. कोरम (Quorum)
 - 4. मतदाता वर्ग (Constituency)

Question Type : MCQ
Question ID : 264330138660
Option 1 ID : 264330543248
Option 2 ID : 264330543247
Option 3 ID : 264330543250
Option 4 ID : 264330543249
Status : Answered
Chosen Option : 2

Q.13 टाटा आयरन एंड स्टील कंपनी (टिस्को) ने सन् _____ में स्टील का उत्पादन शुरू किया था।

- Ans
- 1. 1910
 - 2. 1914
 - 3. 1912
 - 4. 1916

Question Type : MCQ
Question ID : 264330138672
Option 1 ID : 264330543295
Option 2 ID : 264330543297
Option 3 ID : 264330543296
Option 4 ID : 264330543298
Status : Answered
Chosen Option : 1

Q.14 मीना अवसादी शैल के एक उदाहरण के बारे में चर्चा करती है। निम्न में से वह कौन-सा हो सकता है?

- Ans
- 1. बेसाल्ट (Basalt)
 - 2. ग्रेनाइट (Granite)
 - 3. बलुआ पत्थर(Sandstone)
 - 4. संगमरमर (Marble)

Question Type : MCQ
Question ID : 264330133656
Option 1 ID : 264330523647
Option 2 ID : 264330523650
Option 3 ID : 264330523648
Option 4 ID : 264330523649
Status : Answered
Chosen Option : 3

Q.15 पद्म श्री पुरस्कार पाने वाली पहली भारतीय अभिनेत्री कौन थीं?

- Ans
- 1. आशा पारेख
 - 2. नरगिस दत्त
 - 3. मधुबाला
 - 4. देविका रानी

Question Type : MCQ
Question ID : 264330133949
Option 1 ID : 264330524820
Option 2 ID : 264330524821
Option 3 ID : 264330524822
Option 4 ID : 264330524819
Status : Answered
Chosen Option : 4

Q.16 निम्नलिखित में से कौन-सा प्राणी जगत के फाइलम मैमेलिया का एक उदाहरण है?

- Ans
- 1. चूहा
 - 2. कबूतर
 - 3. मगरमच्छ
 - 4. मुर्गी

Question Type : MCQ
Question ID : 264330133937
Option 1 ID : 264330524771
Option 2 ID : 264330524774
Option 3 ID : 264330524773
Option 4 ID : 264330524772
Status : Answered
Chosen Option : 1

Q.17 निम्नलिखित में से किस फसल को बंगाल का "सुनहरा रेशा (Golden Fibre)" कहा जाता है?

- Ans
- 1. मक्का
 - 2. सोयाबीन
 - 3. चावल
 - 4. जूट

Question Type : MCQ
Question ID : 264330134678
Option 1 ID : 264330527669
Option 2 ID : 264330527668
Option 3 ID : 264330527667
Option 4 ID : 264330527670
Status : Answered
Chosen Option : 4

Q.18 जैनों के अंतिम तीर्थंकर कौन थे?

- Ans
- 1. चंद्रप्रभ
 - 2. ऋषभनाथ
 - 3. वर्धमान महावीर
 - 4. पद्मप्रभ

Question Type : MCQ
Question ID : 264330137032
Option 1 ID : 264330536773
Option 2 ID : 264330536771
Option 3 ID : 264330536772
Option 4 ID : 264330536774
Status : Answered
Chosen Option : 3

Q.19 भारत में हर _____ के अंतराल पर जनगणना की जाती है।

- Ans
- 1. 2 वर्ष
 - 2. 7 वर्ष
 - 3. 10 वर्ष
 - 4. 5 वर्ष

Question Type : MCQ
Question ID : 264330134067
Option 1 ID : 264330525294
Option 2 ID : 264330525292
Option 3 ID : 264330525291
Option 4 ID : 264330525293
Status : Answered
Chosen Option : 3

Q.20 निम्नलिखित में से कौन-सा एक पर्यावरण कार्य (environment function) नहीं है?

- Ans
- 1. जीवन की गुणवत्ता को बढ़ाना
 - 2. संसाधनों की आपूर्ति करना
 - 3. अपशिष्ट का संचय
 - 4. जीवन निर्वाह

Question Type : MCQ
Question ID : 264330133655
Option 1 ID : 264330523646
Option 2 ID : 264330523643
Option 3 ID : 264330523645
Option 4 ID : 264330523644
Status : Not Answered
Chosen Option : --

Q.21 GDP देश की अर्थव्यवस्था का सूचक है। GDP में 'D' का क्या अर्थ है?

- Ans
- 1. डेफिसिट (Deficit)
 - 2. डॉमेस्टिक (Domestic)
 - 3. डेवलपमेंट (Development)
 - 4. डिविडेंड (Dividend)

Question Type : MCQ
Question ID : 264330134693
Option 1 ID : 264330527729
Option 2 ID : 264330527730
Option 3 ID : 264330527727
Option 4 ID : 264330527728
Status : Answered
Chosen Option : 2

Q.22 क्रिकेट में, गेंद को मारने पर, गेंद मैदान पर दौड़ती हुई निर्धारित सीमा के पार जाती है, यह _____ रन के बराबर है।

- Ans
- 1. 6
 - 2. 1
 - 3. 4
 - 4. 2

Question Type : MCQ
Question ID : 264330133953
Option 1 ID : 264330524838
Option 2 ID : 264330524835
Option 3 ID : 264330524837
Option 4 ID : 264330524836
Status : Answered
Chosen Option : 3

Q.23 भारतीय संविधान में शासन के मंत्रिमंडलीय स्वरूप को _____ से लिया गया है।

- Ans
- 1. फ्रांस
 - 2. दक्षिण अफ्रीका
 - 3. ऑस्ट्रेलिया
 - 4. यूनाइटेड किंगडम

Question Type : MCQ
Question ID : 264330133951
Option 1 ID : 264330524827
Option 2 ID : 264330524830
Option 3 ID : 264330524829
Option 4 ID : 264330524828
Status : Answered
Chosen Option : 4

Q.24 The rock – cave temple of _____ is the largest monolithic structure in the world.

- Ans
- 1. Ajanta
 - 2. Badami
 - 3. Ellora
 - 4. Udaygiri

Question Type : MCQ
Question ID : 264330138651
Option 1 ID : 264330543214
Option 2 ID : 264330543212
Option 3 ID : 264330543211
Option 4 ID : 264330543213
Status : Answered
Chosen Option : 3

Q.25 भारत सरकार के किस विभाग ने अप्रैल 2022 में 'वन हैल्थ'(One Health) पायलट प्रोजेक्ट की शुरुआत की है?

- Ans
- 1. वाणिज्य विभाग
 - 2. सूचना प्रौद्योगिकी विभाग
 - 3. पशुपालन और डेयरी विभाग
 - 4. उपभोक्ता मामलों के विभाग

Question Type : MCQ
Question ID : 264330133931
Option 1 ID : 264330524750
Option 2 ID : 264330524749
Option 3 ID : 264330524748
Option 4 ID : 264330524747
Status : Answered
Chosen Option : 2

Q.1 Select the appropriate synonym for the underlined word.
"Little Red Riding Hood" is a fairy tale.

- Ans 1. story
 2. fact
 3. tail
 4. document

Question Type : MCQ
Question ID : 264330134414
Option 1 ID : 264330526633
Option 2 ID : 264330526634
Option 3 ID : 264330526631
Option 4 ID : 264330526632
Status : Answered
Chosen Option : 1

Q.2 In the following question, out of the given four alternatives, select the alternative which best expresses the meaning of the Idiom/Phrase.
On account of

- Ans 1. To mark one's territory
 2. Because of
 3. To make excuses
 4. To settle dues

Question Type : MCQ
Question ID : 264330134314
Option 1 ID : 264330526249
Option 2 ID : 264330526247
Option 3 ID : 264330526250
Option 4 ID : 264330526248
Status : Answered
Chosen Option : 2

Q.3 Select the most appropriate option to fill in the blank.

If she hadn't _____ her cell phone on the bed, she could have called him.

- Ans 1. through
 2. thrown
 3. throne
 4. throng

Question Type : MCQ
Question ID : 264330135306
Option 1 ID : 264330530135
Option 2 ID : 264330530137
Option 3 ID : 264330530138
Option 4 ID : 264330530136
Status : Answered
Chosen Option : 2

Q.4 Select the appropriate antonym for the underlined word.
He says we are poor now.

- Ans
- 1. barren
 - 2. indigent
 - 3. ruined
 - 4. opulent

Question Type : **MCQ**
Question ID : **264330134417**
Option 1 ID : **264330526646**
Option 2 ID : **264330526643**
Option 3 ID : **264330526644**
Option 4 ID : **264330526645**
Status : **Answered**
Chosen Option : **4**

Q.5 Choose the word that is opposite in meaning to the given word.

Abort

- Ans
- 1. Commence
 - 2. Collision
 - 3. Commode
 - 4. Command

Question Type : **MCQ**
Question ID : **264330136787**
Option 1 ID : **264330535849**
Option 2 ID : **264330535850**
Option 3 ID : **264330535847**
Option 4 ID : **264330535848**
Status : **Answered**
Chosen Option : **1**

Q.6 Choose the word that can substitute the given group of words.
A living organism that steals nourishment from other living beings

- Ans
- 1. Insect
 - 2. Co – Dependent
 - 3. Vector
 - 4. Parasite

Question Type : **MCQ**
Question ID : **264330134308**
Option 1 ID : **264330526225**
Option 2 ID : **264330526224**
Option 3 ID : **264330526223**
Option 4 ID : **264330526226**
Status : **Answered**
Chosen Option : **4**

Q.7 Improve the underlined part of the sentence. Choose 'No improvement' as an answer if the sentence is grammatically correct.
Though a foreigner, Mother Teresa settle in Calcutta and made it her home.

- Ans** 1. settled in Calcutta and
 2. No improvement
 3. settle over Calcutta as
 4. settling in Calcutta or

Question Type : **MCQ**
Question ID : **264330134403**
Option 1 ID : **264330526591**
Option 2 ID : **264330526594**
Option 3 ID : **264330526593**
Option 4 ID : **264330526592**
Status : **Answered**
Chosen Option : **1**

Q.8 A sentence has been given with a blank to be filled with an appropriate option. Choose the correct alternative.
_____ from humans, lions are the key natural predators of elephants.

- Ans** 1. Along
 2. Rather
 3. Aside
 4. Beside

Question Type : **MCQ**
Question ID : **264330135315**
Option 1 ID : **264330530171**
Option 2 ID : **264330530174**
Option 3 ID : **264330530172**
Option 4 ID : **264330530173**
Status : **Answered**
Chosen Option : **4**

Q.9 In the following question, out of the given four alternatives, select the alternative which best expresses the meaning of the Idiom/Phrase.
To work against the clocks

- Ans** 1. To fill one with terror
 2. To work fast
 3. To die while still working
 4. To move anti-clockwise

Question Type : **MCQ**
Question ID : **264330134419**
Option 1 ID : **264330526652**
Option 2 ID : **264330526653**
Option 3 ID : **264330526654**
Option 4 ID : **264330526651**
Status : **Answered**
Chosen Option : **2**

Q.10 Choose the word that can substitute the given group of words.
A government run by a single person

- Ans
- 1. Anocracy
 - 2. Gerontocracy
 - 3. Bureaucracy
 - 4. Autocracy

Question Type : **MCQ**
Question ID : **264330134413**
Option 1 ID : **264330526628**
Option 2 ID : **264330526627**
Option 3 ID : **264330526630**
Option 4 ID : **264330526629**
Status : **Answered**
Chosen Option : **4**

Q.11 Find the part of the given sentence that has an error in it. If there is no error, choose 'No error'.

Neither teachers or the principal revolted against the new education policy.

- Ans
- 1. Neither teachers or
 - 2. the principal revolted against
 - 3. the new education policy.
 - 4. No error

Question Type : **MCQ**
Question ID : **264330135282**
Option 1 ID : **264330530043**
Option 2 ID : **264330530044**
Option 3 ID : **264330530045**
Option 4 ID : **264330530046**
Status : **Answered**
Chosen Option : **1**

Q.12 Find the part of the given sentence that has an error in it. If there is no error, choose 'No error'.

India's claim to be a world leader in pharmaceuticals are heavily compromised.

- Ans
- 1. world leader in pharmaceuticals
 - 2. No error
 - 3. are heavily compromised.
 - 4. India's claim to be a

Question Type : **MCQ**
Question ID : **264330134400**
Option 1 ID : **264330526580**
Option 2 ID : **264330526582**
Option 3 ID : **264330526581**
Option 4 ID : **264330526579**
Status : **Answered**
Chosen Option : **3**

Q.13 Choose the sentence with no spelling error.

- Ans
- 1. Alice turned away, and shugged her shulders.
 - 2. Alice turned away, and shruged her sholders.
 - 3. Alice truned away, and shrugged her shoulders.
 - 4. Alice turned away, and shrugged her shoulders.

Question Type : MCQ
Question ID : 264330135305
Option 1 ID : 264330530134
Option 2 ID : 264330530133
Option 3 ID : 264330530131
Option 4 ID : 264330530132
Status : Answered
Chosen Option : 4

Q.14 Select the most appropriate option to substitute the bracketed segment in the given sentence. If there is no need to substitute it, select 'no substitution required'.

He has 33 years of professional experience (on the field of) Public Administration.

- Ans
- 1. in the field off
 - 2. over field of
 - 3. No substitution required
 - 4. in the field of

Question Type : MCQ
Question ID : 264330136035
Option 1 ID : 264330532961
Option 2 ID : 264330532959
Option 3 ID : 264330532962
Option 4 ID : 264330532960
Status : Answered
Chosen Option : 4

Q.15 Choose the word that means the same as the given word.

Fabulously

- Ans
- 1. Nominally
 - 2. Fantastically
 - 3. Scantly
 - 4. Scarcely

Question Type : MCQ
Question ID : 264330135325
Option 1 ID : 264330530210
Option 2 ID : 264330530209
Option 3 ID : 264330530207
Option 4 ID : 264330530208
Status : Answered
Chosen Option : 2

Q.16 Select the most appropriate option to fill in the blank.
Sometimes we wish for things, but we do not think about their _____.

- Ans
- 1. hazards
 - 2. copiousness
 - 3. fractions
 - 4. consequences

Question Type : **MCQ**
Question ID : **264330134423**
Option 1 ID : **264330526668**
Option 2 ID : **264330526667**
Option 3 ID : **264330526669**
Option 4 ID : **264330526670**
Status : **Answered**
Chosen Option : **4**

Q.17 Choose the incorrectly spelt word.

- Ans
- 1. Structure
 - 2. Havoc
 - 3. Recently
 - 4. Brush

Question Type : **MCQ**
Question ID : **264330134420**
Option 1 ID : **264330526657**
Option 2 ID : **264330526656**
Option 3 ID : **264330526655**
Option 4 ID : **264330526658**
Status : **Answered**
Chosen Option : **1**

Q.18 A sentence has been given with a blank to be filled with an appropriate option. Choose the correct alternative.
The school was _____ than a mile from their home.

- Ans
- 1. more
 - 2. most
 - 3. many
 - 4. much

Question Type : **MCQ**
Question ID : **264330134404**
Option 1 ID : **264330526595**
Option 2 ID : **264330526597**
Option 3 ID : **264330526598**
Option 4 ID : **264330526596**
Status : **Answered**
Chosen Option : **1**

Q.19 Identify the segment that contains a grammatical error. If there is no error, select 'No error'.

When he buckled down to his / work he became the slyer / and cleverest of diplomats.

- Ans**
- 1. When he buckled down to his
 - 2. and cleverest of diplomats.
 - 3. No error
 - 4. work he became the slyer

Question Type : **MCQ**

Question ID : **264330136032**

Option 1 ID : **264330532947**

Option 2 ID : **264330532949**

Option 3 ID : **264330532950**

Option 4 ID : **264330532948**

Status : **Answered**

Chosen Option : **2**

Q.20 Improve the underlined part of the sentence. Choose 'No improvement' as an answer if the sentence is grammatically correct.

She works for eight hours every weekday.

- Ans**
- 1. No improvement
 - 2. for eighth hours
 - 3. of eighth hour
 - 4. for eight hourly

Question Type : **MCQ**

Question ID : **264330134349**

Option 1 ID : **264330526386**

Option 2 ID : **264330526383**

Option 3 ID : **264330526385**

Option 4 ID : **264330526384**

Status : **Answered**

Chosen Option : **1**

Comprehension:

In the following passage some of the words have been deleted. Read the passage carefully and select the correct answer for the given blank out of the four alternatives.

After a rejection, we tend to beat ourselves up over the things that might have (1) _____ us to be rejected — and might even end up dwelling on these negative (2) _____, a process called rumination. This habit, however, inevitably causes us to (3) _____ worse. "The first thing a lot of people do when they get rejected is to be unkind to (4) _____, and they start coming up with all kinds of ideas about what's (5) _____ with them," Gottlieb notes.

SubQuestion No : 21

Q.21 Select the most appropriate option to fill in the blank No. 1.

- Ans**
- 1. let
 - 2. led
 - 3. leading
 - 4. lead

Question Type : **MCQ**

Question ID : **264330136778**

Option 1 ID : **264330535814**

Option 2 ID : **264330535811**

Option 3 ID : **264330535813**

Option 4 ID : **264330535812**

Status : **Answered**

Chosen Option : **2**

Comprehension:

In the following passage some of the words have been deleted. Read the passage carefully and select the correct answer for the given blank out of the four alternatives.

After a rejection, we tend to beat ourselves up over the things that might have (1) _____ us to be rejected — and might even end up dwelling on these negative (2) _____, a process called rumination. This habit, however, inevitably causes us to (3) _____ worse. "The first thing a lot of people do when they get rejected is to be unkind to (4) _____, and they start coming up with all kinds of ideas about what's (5) _____ with them," Gottlieb notes.

SubQuestion No : 22

Q.22 Select the most appropriate option to fill in the blank No. 2.

- Ans**
- 1. emotions
 - 2. endurance
 - 3. stoppages
 - 4. formalities

Question Type : **MCQ**

Question ID : **264330136779**

Option 1 ID : **264330535816**

Option 2 ID : **264330535815**

Option 3 ID : **264330535817**

Option 4 ID : **264330535818**

Status : **Answered**

Chosen Option : **4**

Comprehension:

In the following passage some of the words have been deleted. Read the passage carefully and select the correct answer for the given blank out of the four alternatives.

After a rejection, we tend to beat ourselves up over the things that might have (1) _____ us to be rejected — and might even end up dwelling on these negative (2) _____, a process called rumination. This habit, however, inevitably causes us to (3) _____ worse. "The first thing a lot of people do when they get rejected is to be unkind to (4) _____, and they start coming up with all kinds of ideas about what's (5) _____ with them," Gottlieb notes.

SubQuestion No : 23

Q.23 Select the most appropriate option to fill in the blank No. 3.

- Ans**
- 1. recognize
 - 2. share
 - 3. swirl
 - 4. feel

Question Type : **MCQ**

Question ID : **264330136780**

Option 1 ID : **264330535820**

Option 2 ID : **264330535819**

Option 3 ID : **264330535821**

Option 4 ID : **264330535822**

Status : **Answered**

Chosen Option : **4**

Comprehension:

In the following passage some of the words have been deleted. Read the passage carefully and select the correct answer for the given blank out of the four alternatives.

After a rejection, we tend to beat ourselves up over the things that might have (1) _____ us to be rejected — and might even end up dwelling on these negative (2) _____, a process called rumination. This habit, however, inevitably causes us to (3) _____ worse. "The first thing a lot of people do when they get rejected is to be unkind to (4) _____, and they start coming up with all kinds of ideas about what's (5) _____ with them," Gottlieb notes.

SubQuestion No : 24

Q.24 Select the most appropriate option to fill in the blank No. 4.

- Ans**
- 1. himself
 - 2. themselves
 - 3. itself
 - 4. yourself

Question Type : **MCQ**

Question ID : **264330136781**

Option 1 ID : **264330535826**

Option 2 ID : **264330535824**

Option 3 ID : **264330535825**

Option 4 ID : **264330535823**

Status : **Answered**

Chosen Option : **2**

Comprehension:

In the following passage some of the words have been deleted. Read the passage carefully and select the correct answer for the given blank out of the four alternatives.

After a rejection, we tend to beat ourselves up over the things that might have (1) _____ us to be rejected — and might even end up dwelling on these negative (2) _____, a process called rumination. This habit, however, inevitably causes us to (3) _____ worse. "The first thing a lot of people do when they get rejected is to be unkind to (4) _____, and they start coming up with all kinds of ideas about what's (5) _____ with them," Gottlieb notes.

SubQuestion No : 25

Q.25 Select the most appropriate option to fill in the blank No. 5.

- Ans**
- 1. wrong
 - 2. strong
 - 3. syncing
 - 4. taming

Question Type : **MCQ**

Question ID : **264330136782**

Option 1 ID : **264330535827**

Option 2 ID : **264330535828**

Option 3 ID : **264330535829**

Option 4 ID : **264330535830**

Status : **Answered**

Chosen Option : **1**