

## Multi Tasking Non Technical Staff and Havaldar CBIC and CBN Examination 2022

Roll Number	
Candidate Name	
Venue Name	iON Digital Zone iDZ Laxman Nagar
Exam Date	16/05/2023
Exam Time	3:30 PM - 5:00 PM
Subject	MTS Non Tech Havaldar CBIC and CBN Examination 2022

### Section : Numerical and Mathematical Ability

Q.1 यदि एक आयत की लम्बाई में 13% की कमी की जाती है और चौड़ाई में 13% की वृद्धि की जाती है, तो इसके क्षेत्रफल में प्रतिशत परिवर्तन ज्ञात कीजिए।

- Ans
- 1. 1.69% वृद्धि
  - 2. 13% कमी
  - 3. 1.69% कमी
  - 4. कोई परिवर्तन नहीं

Question Type : MCQ

Question ID : 264330135431

Option 1 ID : 264330530632

Option 2 ID : 264330530634

Option 3 ID : 264330530633

Option 4 ID : 264330530631

Status : Answered

Chosen Option : 3

Q.2 एक व्यापारी अपने माल को क्रय मूल्य से 55% अधिक मूल्य पर अंकित करता है और 20% का बट्टा देता है। उसका लाभ प्रतिशत कितना है?

- Ans
- 1. 22%
  - 2. 16%
  - 3. 24%
  - 4. 18%

Question Type : MCQ

Question ID : 264330138399

Option 1 ID : 264330542203

Option 2 ID : 264330542206

Option 3 ID : 264330542204

Option 4 ID : 264330542205

Status : Answered

Chosen Option : 2

Q.3 यदि  $(x + y) : (y + z) : (z + x) = 3 : 5 : 7$  और  $(x + y + z) = 45$  है, तो  $z$  का मान क्या है?

Ans  1. 18

2. 27

3. 30

4. 20

Question Type : MCQ

Question ID : 264330138400

Option 1 ID : 264330542209

Option 2 ID : 264330542208

Option 3 ID : 264330542207

Option 4 ID : 264330542210

Status : Answered

Chosen Option : 1

Q.4 55 मीटर कपड़ा बेचने पर, एक व्यक्ति को 11 मीटर कपड़े के विक्रय मूल्य के बराबर लाभ होता है। लाभ प्रतिशत ज्ञात कीजिए।

Ans  1. 15%

2. 25%

3. 33%

4. 23%

Question Type : MCQ

Question ID : 264330138398

Option 1 ID : 264330542199

Option 2 ID : 264330542201

Option 3 ID : 264330542202

Option 4 ID : 264330542200

Status : Answered

Chosen Option : 2

Q.5 A और B दिए गए कार्य को साथ मिलकर 10 दिनों में पूरा कर सकते हैं। C उसी कार्य को अकेले 15 दिनों में पूरा कर सकता है। यदि तीनों साथ मिलकर कार्य करें, तो वे इस कार्य को कितने दिनों में पूरा कर सकते हैं?

Ans  1. 6 दिनों

2. 8 दिनों

3. 5 दिनों

4. 10 दिनों

Question Type : MCQ

Question ID : 264330135427

Option 1 ID : 264330530616

Option 2 ID : 264330530615

Option 3 ID : 264330530618

Option 4 ID : 264330530617

Status : Answered

Chosen Option : 1

Q.6 रीमा Rs. 1000 में एक कुर्सी खरीदती है और इसे 8% की हानि पर बेच देती है। कुर्सी का विक्रय मूल्य क्या है?

- Ans
- 1. Rs. 980
  - 2. Rs. 1000
  - 3. Rs. 900
  - 4. Rs. 920

Question Type : MCQ  
Question ID : 264330141003  
Option 1 ID : 264330552360  
Option 2 ID : 264330552361  
Option 3 ID : 264330552362  
Option 4 ID : 264330552359  
Status : Answered  
Chosen Option : 4

Q.7 A का मान ज्ञात कीजिए।

$$(64 \div 8) - A + 4 \times 23 + 45 - 87 = 53$$

- Ans
- 1. 5
  - 2. 3
  - 3. 4
  - 4. 6

Question Type : MCQ  
Question ID : 264330138747  
Option 1 ID : 264330543595  
Option 2 ID : 264330543597  
Option 3 ID : 264330543596  
Option 4 ID : 264330543598  
Status : Answered  
Chosen Option : 4

Q.8 एक नाविक धारा के अनुकूल 15 मिनट में 15 km और धारा के प्रतिकूल 1 घंटे में 10 km नाव चलाता है। स्थिर जल में नाव की चाल ज्ञात कीजिए।

- Ans
- 1. 35 km/hr
  - 2. 33 km/hr
  - 3. 26 km/hr
  - 4. 40 km/hr

Question Type : MCQ  
Question ID : 264330138404  
Option 1 ID : 264330542226  
Option 2 ID : 264330542224  
Option 3 ID : 264330542223  
Option 4 ID : 264330542225  
Status : Answered  
Chosen Option : 1

Q.9 देव ने स्कूल प्रोजेक्ट को अकेले 40 दिनों में पूरा किया। यदि अरुण, देव से 25% अधिक कुशल है तो अरुण को उसी कार्य को अकेले पूरा करने में कितने दिन लगेंगे?

- Ans
- 1. 32 दिन
  - 2. 16 दिन
  - 3. 35 दिन
  - 4. 14 दिन

Question Type : MCQ  
Question ID : 264330138760  
Option 1 ID : 264330543647  
Option 2 ID : 264330543648  
Option 3 ID : 264330543650  
Option 4 ID : 264330543649  
Status : Answered  
Chosen Option : 1

Q.10 21, 49 और 18 का चतुर्थ समानुपाती ज्ञात कीजिए।

- Ans
- 1. 44
  - 2. 49
  - 3. 42
  - 4. 56

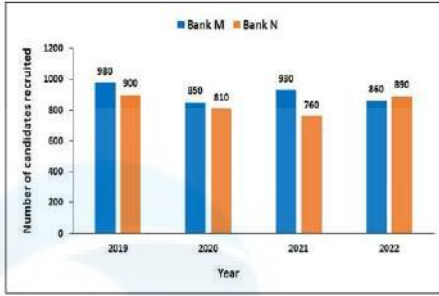
Question Type : MCQ  
Question ID : 264330138401  
Option 1 ID : 264330542211  
Option 2 ID : 264330542214  
Option 3 ID : 264330542213  
Option 4 ID : 264330542212  
Status : Answered  
Chosen Option : 3

Q.11 एक व्यक्ति किसी स्थान पर कार से 144 km/hr की चाल से जाता है और धीमी चाल से वापस आता है। यदि औसत चाल कुल 60 km/hr है, तो उसकी वापसी की चाल (km/hr में) ज्ञात कीजिए।

- Ans
- 1. 22.25 km/hr
  - 2. 40.05 km/hr
  - 3. 37.89 km/hr
  - 4. 33.33 km/hr

Question Type : MCQ  
Question ID : 264330135373  
Option 1 ID : 264330530399  
Option 2 ID : 264330530401  
Option 3 ID : 264330530402  
Option 4 ID : 264330530400  
Status : Answered  
Chosen Option : 2

Q.12 निम्न दंड आलेख में 2 अलग-अलग बैंकों M और N में अलग-अलग वर्षों में नियुक्त किए गए उम्मीदवारों की संख्या को दर्शाया गया है। सभी वर्षों में मिलाकर बैंक N में उम्मीदवारों की औसत संख्या कितनी है?



Bank - बैंक, Year - वर्ष, Number of Candidates recruited - नियुक्त किए गए उम्मीदवारों की संख्या

- Ans
- 1. 850
  - 2. 720
  - 3. 840
  - 4. 700

Question Type : MCQ

Question ID : 264330138408

Option 1 ID : 264330542241

Option 2 ID : 264330542239

Option 3 ID : 264330542242

Option 4 ID : 264330542240

Status : Answered

Chosen Option : 3

Q.13  $74 + 88 \div 8 \times 10$  of  $5 - 90 \div 15 + \{44 - (108 \div 12)\}$  का मान है:

- Ans
- 1. 700
  - 2. 770
  - 3. 653
  - 4. 605

Question Type : MCQ

Question ID : 264330133777

Option 1 ID : 264330524134

Option 2 ID : 264330524132

Option 3 ID : 264330524131

Option 4 ID : 264330524133

Status : Answered

Chosen Option : 2

Q.14 8 वर्ष और 20 वर्ष के लिए समान व्याज दर पर एक निश्चित राशि द्वारा अर्जित साधारण व्याज का अनुपात क्या होगा?

- Ans
- 1. 3:5
  - 2. 5:7
  - 3. 4:3
  - 4. 2:5

Question Type : MCQ  
Question ID : 264330138446  
Option 1 ID : 264330542393  
Option 2 ID : 264330542394  
Option 3 ID : 264330542392  
Option 4 ID : 264330542391  
Status : Answered  
Chosen Option : 4

Q.15 तीन संख्याएँ 2:3:5 के अनुपात में हैं और उनका लघुत्तम समापवर्त्य (LCM) 60 है। उन संख्याओं का महत्तम समापवर्त्य (HCF) क्या है?

- Ans
- 1. 2
  - 2. 10
  - 3. 6
  - 4. 4

Question Type : MCQ  
Question ID : 264330141011  
Option 1 ID : 264330552391  
Option 2 ID : 264330552394  
Option 3 ID : 264330552393  
Option 4 ID : 264330552392  
Status : Answered  
Chosen Option : 3

Q.16 चार भाइयों की औसत आयु 24 वर्ष है। यदि उनके पिता की आयु को भी शामिल कर लिया जाए, तो औसत में 6 वर्ष की वृद्धि हो जाती है। पिता की आयु(वर्षों में) ज्ञात कीजिए।

- Ans
- 1. 54 वर्ष
  - 2. 50 वर्ष
  - 3. 55 वर्ष
  - 4. 52 वर्ष

Question Type : MCQ  
Question ID : 264330138393  
Option 1 ID : 264330542182  
Option 2 ID : 264330542179  
Option 3 ID : 264330542180  
Option 4 ID : 264330542181  
Status : Answered  
Chosen Option : 1

Q.17  $[7 + \{4 \times (2 + 5 \times 4)\}]$  का मान ज्ञात कीजिए।

- Ans
- 1. 85
  - 2. 55
  - 3. 45
  - 4. 95

Question Type : MCQ  
Question ID : 264330138390  
Option 1 ID : 264330542170  
Option 2 ID : 264330542169  
Option 3 ID : 264330542168  
Option 4 ID : 264330542167  
Status : Answered  
Chosen Option : 2

Q.18 80 के 80 प्रतिशत का 225 प्रतिशत = \_\_\_\_\_।

- Ans
- 1. 138
  - 2. 156
  - 3. 144
  - 4. 132

Question Type : MCQ  
Question ID : 264330137180  
Option 1 ID : 264330537363  
Option 2 ID : 264330537365  
Option 3 ID : 264330537366  
Option 4 ID : 264330537364  
Status : Answered  
Chosen Option : 3

Q.19 यदि एक निश्चित धनराशि साधारण ब्याज पर 3 वर्ष 6 माह में स्वयं की दोगुनी हो जाती है, तो वार्षिक ब्याज दर क्या होगी?

- Ans
- 1. 30.53 प्रतिशत
  - 2. 28.57 प्रतिशत
  - 3. 26.57 प्रतिशत
  - 4. 22.5 प्रतिशत

Question Type : MCQ  
Question ID : 264330137185  
Option 1 ID : 264330537385  
Option 2 ID : 264330537383  
Option 3 ID : 264330537386  
Option 4 ID : 264330537384  
Status : Answered  
Chosen Option : 1

**Q.20** निम्नलिखित तालिका में अलग-अलग कक्षाओं में लड़कियों और लड़कों की संख्या को दर्शाया गया है। सभी कक्षाओं में छात्रों की कुल संख्या का योग ज्ञात कीजिए।

Class	Number of girls	Number of boys
5	88	76
6	140	92
7	54	80
8	84	68
9	90	70

Class = कक्षा, Number of girls = लड़कियों की संख्या, Number of boys = लड़कों की संख्या

- Ans**
- 1. 840
  - 2. 842
  - 3. 800
  - 4. 760

Question Type : MCQ

Question ID : 264330133791

Option 1 ID : 264330524189

Option 2 ID : 264330524188

Option 3 ID : 264330524187

Option 4 ID : 264330524190

Status : Not Answered

Chosen Option : --

Section : Reasoning Ability and Problem Solving

**Q.1** सात श्रमिक राहुल, राम, रमेश, सोहन, साहिल, अनिल और सोनू एक वृत्ताकार मेज के चारों ओर केंद्र की ओर मुख करके बैठे हैं (परंतु जरूरी नहीं कि वे इसी क्रम में बैठें हों)। अनिल, राम और सोनू दोनों का निकटतम पड़ोसी है। राम, साहिल के दाईं ओर से दूसरे स्थान पर है। राहुल, साहिल और सोहन दोनों का निकटतम पड़ोसी है। साहिल के बाईं ओर से दूसरे स्थान पर कौन है?

- Ans**
- 1. सोहन
  - 2. रमेश
  - 3. अनिल
  - 4. सोनू

Question Type : MCQ

Question ID : 264330138506

Option 1 ID : 264330542632

Option 2 ID : 264330542631

Option 3 ID : 264330542634

Option 4 ID : 264330542633

Status : Answered

Chosen Option : 1

Q.2 दी गई श्रृंखला में निम्नलिखित में से कौन-सी संख्या प्रश्न चिन्ह (?) के स्थान पर आएगी?  
17, 24, 32, 41, 51, ?

- Ans
- 1. 63
  - 2. 61
  - 3. 64
  - 4. 62

Question Type : MCQ  
Question ID : 264330137356  
Option 1 ID : 264330538053  
Option 2 ID : 264330538051  
Option 3 ID : 264330538054  
Option 4 ID : 264330538052  
Status : Answered  
Chosen Option : 4

Q.3 दी गई आकृति के उस सही दर्पण प्रतिबिंब को चुनिए, जो नीचे दर्शाए गए अनुसार दर्पण को MN पर रखने पर बनेगा।

R A M B O W A K L 

- Ans
- 1. K L A W O B M A R
  - 2. K L A W O B M A R
  - 3. K L A W O B M A R
  - 4. K L A W O B M A R

Question Type : MCQ  
Question ID : 264330133504  
Option 1 ID : 264330523048  
Option 2 ID : 264330523050  
Option 3 ID : 264330523047  
Option 4 ID : 264330523049  
Status : Answered  
Chosen Option : 1

Q.4 आठ मित्र अनिल, कमल, राम, संजय, आकाश, विवेक, राहुल और रामू एक वृत्ताकार मेज के चारों ओर केंद्र की ओर मुख करके बैठे हैं (परंतु जरूरी नहीं कि वे इसी क्रम में बैठें हों)। विवेक, अनिल के दाईं ओर से दूसरे स्थान पर है। कमल, अनिल के बाईं ओर से तीसरे स्थान पर है। रामू, विवेक के दाईं ओर से दूसरे स्थान पर है। राम, रामू के दाईं ओर से दूसरे स्थान पर है। आकाश, राहुल के दाईं ओर से दूसरे स्थान पर है। राहुल, विवेक का निकटतम पड़ोसी नहीं है। अनिल के बाईं ओर से दूसरे स्थान पर कौन है?

- Ans
- 1. विवेक
  - 2. कमल
  - 3. राम
  - 4. रामू

Question Type : MCQ  
Question ID : 264330138505  
Option 1 ID : 264330542630  
Option 2 ID : 264330542629  
Option 3 ID : 264330542627  
Option 4 ID : 264330542628  
Status : Answered  
Chosen Option : 3

Q.5 उस विकल्प को चुनिए जो तीसरी संख्या से ठीक उसी तरह संबंधित है जिस तरह दूसरी संख्या पहली संख्या से संबंधित है।

67 : 336 :: 43 : ?

- Ans
- 1. 236
  - 2. 214
  - 3. 216
  - 4. 226

Question Type : MCQ

Question ID : 264330137358

Option 1 ID : 264330538061

Option 2 ID : 264330538060

Option 3 ID : 264330538059

Option 4 ID : 264330538062

Status : Answered

Chosen Option : 3

Q.6 किन दो चिन्हों को आपस में बदलने पर समीकरण का मान सही होगा?

$$27 \div 3 - 18 + 3 \times 2 = 18$$

- Ans
- 1.  $\times$  और  $+$
  - 2.  $+$  और  $\div$
  - 3.  $+$  और  $-$
  - 4.  $\div$  और  $\times$

Question Type : MCQ

Question ID : 264330138514

Option 1 ID : 264330542664

Option 2 ID : 264330542665

Option 3 ID : 264330542663

Option 4 ID : 264330542666

Status : Answered

Chosen Option : 2

Q.7 निम्नलिखित प्रश्न में कुछ कथन दिए गए हैं और उन कथनों के आधार पर कुछ निष्कर्ष दिए गए हैं। आपको यह मानना है कि दिए गए कथन सत्य हैं चाहे वे सामान्यतः ज्ञात तथ्यों से अलग प्रतीत होते हों। सभी निष्कर्षों को पढ़िए और फिर निश्चय कीजिए कि दिए गए निष्कर्षों में से कौन-सा निष्कर्ष तार्किक रूप से दिए गए कथनों के अनुसार है।

कथन:

I. सभी बाइक, साइकिल हैं।

II कुछ साइकिल, टब हैं।

निष्कर्ष:

I. सभी टब, बाइक हैं।

II सभी साइकिल, टब हैं।

III सभी साइकिल, बाइक हैं।

Ans

✓ 1. कोई भी निष्कर्ष कथनों के अनुसार नहीं है

✗ 2. सभी निष्कर्ष कथनों के अनुसार हैं

✗ 3. केवल निष्कर्ष II कथनों के अनुसार है

✗ 4. दोनों निष्कर्ष I और II कथनों के अनुसार हैं

Question Type : MCQ

Question ID : 264330138509

Option 1 ID : 264330542646

Option 2 ID : 264330542645

Option 3 ID : 264330542644

Option 4 ID : 264330542643

Status : Answered

Chosen Option : 1

Q.8 पाँच पेन P1, P2, P3, P4 और P5 के भारों (Weights) की तुलना की जाती है। P3 का भार P1 से कम है लेकिन P2 से अधिक है। P2 का भार केवल दो पेन से अधिक है। P5 का भार सबसे कम नहीं है। यदि P5 का भार 100 ग्राम है, तो P1 का भार कितना हो सकता है?

Ans

✗ 1. 96 ग्राम

✗ 2. 90 ग्राम

✗ 3. 95 ग्राम

✓ 4. 108 ग्राम

Question Type : MCQ

Question ID : 264330138507

Option 1 ID : 264330542637

Option 2 ID : 264330542636

Option 3 ID : 264330542635

Option 4 ID : 264330542638

Status : Answered

Chosen Option : 4

Q.9 उस विकल्प आकृति को चुनिए जिसमें दी गई आकृति (X) इसके भाग के रूप में निहित है।  
(घूर्णन की अनुमति नहीं है)।



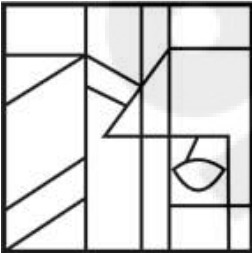
(X)

Ans

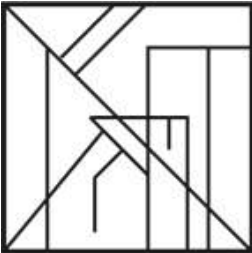
✗ 1.



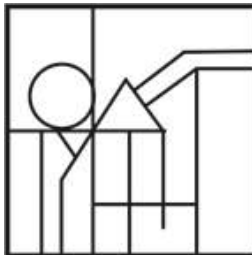
✗ 2.



✗ 3.



✓ 4.



Question Type : MCQ

Question ID : 264330133503

Option 1 ID : 264330523043

Option 2 ID : 264330523044

Option 3 ID : 264330523045

Option 4 ID : 264330523046

Status : Answered

Chosen Option : 4

Q.10 (::) के बाईं ओर दिए गए शब्द आपस में किसी तर्क/नियम/संबंध द्वारा संबंधित हैं। समान तर्क/नियम/संबंध के आधार पर दिए गए विकल्पों में से (::) के दाईं ओर लुप्त शब्द/शब्द युग्म को चुनिए।

रिंक (Rink) : स्केटिंग (Skating) :: पिच (Pitch) : ?

- Ans
- ✓ 1. क्रिकेट
  - ✗ 2. कुश्ती
  - ✗ 3. हॉकी
  - ✗ 4. फुटबॉल

Question Type : MCQ

Question ID : 264330138500

Option 1 ID : 264330542609

Option 2 ID : 264330542607

Option 3 ID : 264330542610

Option 4 ID : 264330542608

Status : Answered

Chosen Option : 1

Q.11 एक निश्चित कूट भाषा में, 'REPORT' को '18, 5, 16, 15, 18, 20' लिखा जाता है, 'BEYOND' को '2, 5, 25, 15, 14, 4' लिखा जाता है। उस कूट भाषा में 'MONEY' को कैसे लिखा जाएगा?

- Ans
- ✗ 1. 13, 15, 12, 6, 25
  - ✗ 2. 13, 15, 14, 6, 25
  - ✓ 3. 13, 15, 14, 5, 25
  - ✗ 4. 15, 13, 12, 6, 25

Question Type : MCQ

Question ID : 264330138461

Option 1 ID : 264330542452

Option 2 ID : 264330542454

Option 3 ID : 264330542451

Option 4 ID : 264330542453

Status : Answered

Chosen Option : 3

Q.12 (::) के बाईं ओर दिए गए शब्द आपस में किसी तर्क/नियम/संबंध द्वारा संबंधित हैं। समान तर्क/नियम/संबंध के आधार पर दिए गए विकल्पों में से (::) के दाईं ओर लुप्त शब्द/शब्द युग्म को चुनिए।

आमलेट (Omelette) : अंडा :: ?

- Ans
- ✗ 1. डामर : सड़क
  - ✗ 2. अयस्क : धातु
  - ✗ 3. बीज : तेल
  - ✓ 4. फर्नीचर : लकड़ी

Question Type : MCQ

Question ID : 264330138501

Option 1 ID : 264330542612

Option 2 ID : 264330542614

Option 3 ID : 264330542611

Option 4 ID : 264330542613

Status : Answered

Chosen Option : 4

Q.13 एक निश्चित कूट भाषा में, 'PIECES' को 'PKBCGP' लिखा जाता है। उस कूट भाषा में 'OBTAIN' को कैसे लिखा जाएगा?

- Ans
- 1. ODQAJK
  - 2. ODQALL
  - 3. ODQAKK
  - 4. ODQBKK

Question Type : MCQ

Question ID : 264330138546

Option 1 ID : 264330542792

Option 2 ID : 264330542791

Option 3 ID : 264330542794

Option 4 ID : 264330542793

Status : Answered

Chosen Option : 3

Q.14 एक श्रृंखला दी गई है जिसमें एक पद लुप्त है। दिए गए विकल्पों में से उस सही विकल्प को चुनिए जो श्रृंखला को पूरा करेगा।

FOC, IMF, LKI, OIL, ?

- Ans
- 1. SGO
  - 2. SHO
  - 3. RHO
  - 4. RGO

Question Type : MCQ

Question ID : 264330138498

Option 1 ID : 264330542602

Option 2 ID : 264330542599

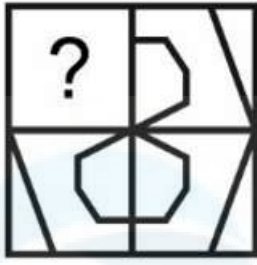
Option 3 ID : 264330542601

Option 4 ID : 264330542600

Status : Answered

Chosen Option : 4

Q.15 कौन-सी उत्तर आकृति प्रश्न आकृति में दिए गए पैटर्न को पूरा करेगी?



Ans

✗ 1.



✗ 2.



✗ 3.



✓ 4.



Question Type : MCQ

Question ID : 264330138518

Option 1 ID : 264330542682

Option 2 ID : 264330542680

Option 3 ID : 264330542681

Option 4 ID : 264330542679

Status : Answered

Chosen Option : 4

Q.16 निम्नलिखित प्रश्न में, दी गई श्रृंखला में लुप्त संख्या को चुनिए ।

30, 60, 180, 720, 3600, ?

Ans

✗ 1. 25000

✓ 2. 21600

✗ 3. 14400

✗ 4. 12000

Question Type : MCQ

Question ID : 264330138511

Option 1 ID : 264330542653

Option 2 ID : 264330542651

Option 3 ID : 264330542652

Option 4 ID : 264330542654

Status : Answered

Chosen Option : 2

Q.17 एक निश्चित कूट भाषा में, 'HEAVY' को 'EBXSV' लिखा जाता है। उस कूट भाषा में 'LABEL' को कैसे लिखा जाएगा?

- Ans
- 1. JXYBJ
  - 2. IXZBI
  - 3. IXYBI
  - 4. IXYBJ

Question Type : MCQ

Question ID : 264330135597

Option 1 ID : 264330531288

Option 2 ID : 264330531287

Option 3 ID : 264330531289

Option 4 ID : 264330531290

Status : Answered

Chosen Option : 3

Q.18 निम्नलिखित प्रश्न में कुछ कथन दिए गए हैं और उन कथनों के आधार पर कुछ निष्कर्ष दिए गए हैं। आपको यह मानना है कि दिए गए कथन सत्य हैं चाहे वे समान्यतः ज्ञात तथ्यों से अलग प्रतीत होते हों। सभी निष्कर्षों को पढ़िए और फिर निश्चय कीजिए कि दिए गए निष्कर्षों में से कौन-सा निष्कर्ष तार्किक रूप से दिए गए कथनों के अनुसार है।

कथन:

- I. कुछ पुरुष, लड़कियाँ हैं।
- II. कुछ ताकतवर, लड़कियाँ हैं।

निष्कर्ष:

- I. कुछ ताकतवर, पुरुष नहीं हैं।
- II. कुछ लड़कियाँ, पुरुष हैं।

- Ans
- 1. दोनों निष्कर्ष I और II कथनों के अनुसार हैं
  - 2. कोई भी निष्कर्ष कथनों के अनुसार नहीं है
  - 3. केवल निष्कर्ष I कथनों के अनुसार है
  - 4. केवल निष्कर्ष II कथनों के अनुसार है

Question Type : MCQ

Question ID : 264330138508

Option 1 ID : 264330542641

Option 2 ID : 264330542642

Option 3 ID : 264330542639

Option 4 ID : 264330542640

Status : Answered

Chosen Option : 4

Q.19 दी गई दो संख्याओं को आपस में बदलने पर, निम्नलिखित में से कौनसा समीकरण सही होगा?

5 और 4

I.  $4 + 8 \times 5 - 7 \div 1 = 30$

II.  $5 \times 3 - 4 + 6 \div 2 = 11$

Ans  1. केवल II

2. केवल I

3. I और II दोनों

4. न तो I और न ही II

Question Type : MCQ

Question ID : 264330138557

Option 1 ID : 264330542836

Option 2 ID : 264330542835

Option 3 ID : 264330542837

Option 4 ID : 264330542838

Status : Answered

Chosen Option : 4

Q.20 उस विकल्प को चुनिए जिसमें समुच्चय की संख्याएँ वही संबंध साझा करती हैं जो दिए गए समुच्चय में संख्याओं द्वारा साझा किया जाता है। (ध्यान दें: संख्याओं को उनके घटक अंकों में अलग-अलग किए बिना, पूर्ण संख्याओं पर संक्रियाएँ की जानी चाहिए। उदा. 13 - 13 पर संक्रियाएँ जैसे 13 को जोड़ना /घटाना /गुणा करना आदि किया जा सकता है। 13 को 1 और 3 में अलग-अलग करने की और फिर 1 और 3 पर गणितीय संक्रियाएँ करने की अनुमति नहीं है)

(64, 8, 16)

(40, 20, 4)

Ans  1. (54, 9, 14)

2. (100, 50, 8)

3. (120, 100, 5)

4. (56, 14, 8)

Question Type : MCQ

Question ID : 264330138513

Option 1 ID : 264330542662

Option 2 ID : 264330542659

Option 3 ID : 264330542661

Option 4 ID : 264330542660

Status : Answered

Chosen Option : 4

Section : General Awareness

Q.1 भारत के तेलंगाना का निम्नलिखित में से कौन-सा पारंपरिक हिंदू त्योहार देवी महाकाली को समर्पित है?

- Ans
- 1. उगादि (Ugadi)
  - 2. लोहड़ी (Lohri)
  - 3. देहिंग पटकाई (Dehing Patkai)
  - 4. बोनालु (Bonalu)

Question Type : MCQ  
Question ID : 264330133959  
Option 1 ID : 264330524861  
Option 2 ID : 264330524859  
Option 3 ID : 264330524862  
Option 4 ID : 264330524860  
Status : Answered  
Chosen Option : 1

Q.2 निम्नलिखित में से कौन पीएम-केयर्स फंड के ट्रस्टियों में से एक है?

- Ans
- 1. श्री रतन एन. टाटा
  - 2. श्री गौतम अडानी
  - 3. श्री अज़ीम प्रेमजी
  - 4. श्री मुकेश अंबानी

Question Type : MCQ  
Question ID : 264330138279  
Option 1 ID : 264330541726  
Option 2 ID : 264330541724  
Option 3 ID : 264330541725  
Option 4 ID : 264330541723  
Status : Answered  
Chosen Option : 1

Q.3 निम्नलिखित में से कौन-सी जैविक खेती की एक विशेषता 'नहीं' है?

- Ans
- 1. जैविक उर्वरकों का उपयोग
  - 2. मिश्रित कृषि का कोई उपयोग नहीं
  - 3. रसायनों का न्यूनतम या कोई उपयोग नहीं
  - 4. कृषि अपशिष्ट का पुनर्चक्रण

Question Type : MCQ  
Question ID : 264330138284  
Option 1 ID : 264330541744  
Option 2 ID : 264330541746  
Option 3 ID : 264330541745  
Option 4 ID : 264330541743  
Status : Not Attempted and Marked For Review  
Chosen Option : --

Q.4 कुमारी कमला को वर्ष 1970 में पद्म भूषण से सम्मानित किया गया था। उन्हें किस शास्त्रीय नृत्य शैली के लिए जाना जाता था?

- Ans
- ✓ 1. भरतनाट्यम
  - ✗ 2. कथक
  - ✗ 3. मोहिनीअट्टम
  - ✗ 4. मणिपुरी

Question Type : MCQ  
Question ID : 264330138328  
Option 1 ID : 264330541922  
Option 2 ID : 264330541919  
Option 3 ID : 264330541921  
Option 4 ID : 264330541920  
Status : Answered  
Chosen Option : 3

Q.5 निम्नलिखित में से कौन-सी किताब मुल्क राज आनंद द्वारा लिखी गई है?

- Ans
- ✗ 1. द इंग्लिश टीचर (The English Teacher)
  - ✗ 2. अ सूटेबल बॉय (A Suitable Boy)
  - ✓ 3. अनटचेबल (Untouchable)
  - ✗ 4. द ब्लू अम्ब्रेला (The Blue Umbrella)

Question Type : MCQ  
Question ID : 264330138326  
Option 1 ID : 264330541913  
Option 2 ID : 264330541911  
Option 3 ID : 264330541912  
Option 4 ID : 264330541914  
Status : Answered  
Chosen Option : 2

Q.6 मेरठ के सिपाही \_\_\_\_\_ को मुगल सम्राट बहादुर शाह से मिलने के लिए लाल किले के फाटक पर पहुँचे।

- Ans
- ✗ 1. 11 मार्च, 1857
  - ✗ 2. 10 मार्च, 1857
  - ✗ 3. 10 मई, 1857
  - ✓ 4. 11 मई, 1857

Question Type : MCQ  
Question ID : 264330138344  
Option 1 ID : 264330541986  
Option 2 ID : 264330541985  
Option 3 ID : 264330541983  
Option 4 ID : 264330541984  
Status : Answered  
Chosen Option : 4

Q.7 भारत में सामाजिक समूहों के संबंध में, PVTGs का अर्थ \_\_\_\_\_ है।

Ans ✗ 1.

पटिकुलरली वेरियस ट्राइबल ग्रुप्स (Particularly Various Tribal Groups)

✗ 2.

पीरियोडिक वलनरेबल ट्राइबल ग्रुप्स (Periodic Vulnerable Tribal Groups)

✓ 3.

पटिकुलरली वलनरेबल ट्राइबल ग्रुप्स (Particularly Vulnerable Tribal Groups)

✗ 4.

पीरियोडिक वेरियस ट्राइबल ग्रुप्स (Periodic Various Tribal Groups)

Question Type : MCQ

Question ID : 264330133901

Option 1 ID : 264330524629

Option 2 ID : 264330524628

Option 3 ID : 264330524627

Option 4 ID : 264330524630

Status : Answered

Chosen Option : 1

Q.8 बैंकों को अपने पास तरल परिसंपत्तियों के रूप में कुछ आरक्षित मुद्रा रखना आवश्यक होता है। इसे \_\_\_\_\_ कहा जाता है।

Ans

✓ 1. सांविधिक चलनिधि अनुपात

✗ 2. सीमांत स्थिरता योजना

✗ 3. वैध जमा अनुपात

✗ 4. खुली बाज़ार कार्यवाही

Question Type : MCQ

Question ID : 264330138331

Option 1 ID : 264330541932

Option 2 ID : 264330541931

Option 3 ID : 264330541933

Option 4 ID : 264330541934

Status : Answered

Chosen Option : 4

Q.9 निम्नलिखित में से किस अनुच्छेद में, "अंतःकरण की और धर्म की अगाध रूप से मानने, आचरण और प्रचार करने की स्वतंत्रता" का उल्लेख है?

Ans

✗ 1. अनुच्छेद 27

✓ 2. अनुच्छेद 25

✗ 3. अनुच्छेद 26

✗ 4. अनुच्छेद 28

Question Type : MCQ

Question ID : 264330138283

Option 1 ID : 264330541742

Option 2 ID : 264330541739

Option 3 ID : 264330541740

Option 4 ID : 264330541741

Status : Answered

Chosen Option : 1

Q.10 एक नाटक में, हेमा ने कहा "स्वराज मेरा जन्मसिद्ध अधिकार है और मैं इसे लेकर रहूंगी।" यह नारा किस भारतीय स्वतंत्रता सेनानी ने दिया था?

- Ans
- 1. महात्मा गांधी
  - 2. लोकमान्य बाल गंगाधर तिलक
  - 3. अंबिका चरण मजूमदार
  - 4. भगत सिंह

Question Type : MCQ  
Question ID : 264330133972  
Option 1 ID : 264330524911  
Option 2 ID : 264330524912  
Option 3 ID : 264330524914  
Option 4 ID : 264330524913  
Status : Answered  
Chosen Option : 2

Q.11 वे बस्तियाँ जिनमें मकान एक दूसरे के समीप बनाए जाते हैं, \_\_\_\_\_ कहलाती हैं।

- Ans
- 1. रैखिक बस्तियाँ
  - 2. संहत बस्तियाँ
  - 3. तारे के आकार की बस्तियाँ
  - 4. प्रकीर्ण बस्तियाँ

Question Type : MCQ  
Question ID : 264330138669  
Option 1 ID : 264330543284  
Option 2 ID : 264330543283  
Option 3 ID : 264330543286  
Option 4 ID : 264330543285  
Status : Answered  
Chosen Option : 2

Q.12 विश्व में कॉफी के उत्पादन में अग्रणी देश कौन-सा है?

- Ans
- 1. चीन
  - 2. ब्राज़ील
  - 3. अमेरिका
  - 4. भारत

Question Type : MCQ  
Question ID : 264330138338  
Option 1 ID : 264330541959  
Option 2 ID : 264330541962  
Option 3 ID : 264330541961  
Option 4 ID : 264330541960  
Status : Answered  
Chosen Option : 2

Q.13 निम्नलिखित में से किसने जयपुर शहर की स्थापना की थी?

- Ans
- 1. राजा मानसिंह
  - 2. सवाई जयसिंह द्वितीय
  - 3. राजा भारमल
  - 4. पृथ्वीराज चौहान

Question Type : MCQ  
Question ID : 264330138323  
Option 1 ID : 264330541899  
Option 2 ID : 264330541901  
Option 3 ID : 264330541900  
Option 4 ID : 264330541902  
Status : Answered  
Chosen Option : 2

Q.14 भागीरथी और अलकनंदा का संगम \_\_\_\_\_ में होता है।

- Ans
- 1. रुद्रप्रयाग
  - 2. नंदप्रयाग
  - 3. विष्णुप्रयाग
  - 4. देवप्रयाग

Question Type : MCQ  
Question ID : 264330138289  
Option 1 ID : 264330541765  
Option 2 ID : 264330541766  
Option 3 ID : 264330541763  
Option 4 ID : 264330541764  
Status : Answered  
Chosen Option : 4

Q.15 शास्त्रीय नृत्य कथक की उत्पत्ति \_\_\_\_\_ में हुई थी।

- Ans
- 1. असम
  - 2. उड़ीसा
  - 3. उत्तरप्रदेश
  - 4. राजस्थान

Question Type : MCQ  
Question ID : 264330138271  
Option 1 ID : 264330541692  
Option 2 ID : 264330541693  
Option 3 ID : 264330541694  
Option 4 ID : 264330541691  
Status : Answered  
Chosen Option : 3

Q.16 निम्नलिखित में से कौनसे देश 'I2U2' शिखर सम्मेलन का हिस्सा हैं?

- Ans
- 1. भारत, इज़राइल, संयुक्त अरब अमीरात और युगांडा
  - 2. इराक, ईरान, संयुक्त अरब अमीरात और अमेरिका
  - 3. भारत, इज़राइल, संयुक्त अरब अमीरात और अमेरिका
  - 4. भारत, ईरान, संयुक्त अरब अमीरात और अमेरिका

Question Type : MCQ  
Question ID : 264330138280  
Option 1 ID : 264330541728  
Option 2 ID : 264330541727  
Option 3 ID : 264330541729  
Option 4 ID : 264330541730  
Status : Answered  
Chosen Option : 4

Q.17 निम्नलिखित में से किस भारतीय खिलाड़ी ने क्रिकेट विश्व कप 1983 में अधिकतम रन बनाए हैं?

- Ans
- 1. एस.एम. पाटिल
  - 2. के. श्रीकांत
  - 3. एस.एम. गावस्कर
  - 4. कपिल देव

Question Type : MCQ  
Question ID : 264330138274  
Option 1 ID : 264330541706  
Option 2 ID : 264330541704  
Option 3 ID : 264330541703  
Option 4 ID : 264330541705  
Status : Answered  
Chosen Option : 4

Q.18 यूनानियों (Greeks) द्वारा किस मौर्य शासक को अमित्रघात (Amitrochates) कहा जाता था?

- Ans
- 1. कनिष्क
  - 2. समुद्रगुप्त
  - 3. बिंदुसार
  - 4. चंद्रगुप्त प्रथम

Question Type : MCQ  
Question ID : 264330133969  
Option 1 ID : 264330524901  
Option 2 ID : 264330524900  
Option 3 ID : 264330524899  
Option 4 ID : 264330524902  
Status : Answered  
Chosen Option : 3

Q.19 निम्नलिखित में से कौन वर्ष 1996 में स्पेन के मेनोर्का (Menorca) में अंडर-10 वर्ल्ड चेस चैम्पियनशिप जीतने वाला पहला भारतीय है?

- Ans
- 1. विदित संतोष गुजराती
  - 2. विश्वनाथन आनंद
  - 3. पी हरिकृष्णा
  - 4. कोनेरू हम्पी

Question Type : MCQ  
Question ID : 264330137084  
Option 1 ID : 264330536981  
Option 2 ID : 264330536979  
Option 3 ID : 264330536980  
Option 4 ID : 264330536982  
Status : Answered  
Chosen Option : 2

Q.20 निम्नलिखित में से कौन-सा सौर मंडल का सबसे ठंडा ग्रह है?

- Ans
- 1. शनि
  - 2. नेपच्यून
  - 3. मंगल
  - 4. यूरेनस

Question Type : MCQ  
Question ID : 264330137069  
Option 1 ID : 264330536919  
Option 2 ID : 264330536921  
Option 3 ID : 264330536922  
Option 4 ID : 264330536920  
Status : Answered  
Chosen Option : 4

Q.21 विदुषी शरण रानी किस वाद्य यंत्र की प्रसिद्ध वादक हैं?

- Ans
- 1. सरोद
  - 2. सितार
  - 3. बाँसुरी
  - 4. तबला

Question Type : MCQ  
Question ID : 264330138277  
Option 1 ID : 264330541716  
Option 2 ID : 264330541717  
Option 3 ID : 264330541718  
Option 4 ID : 264330541715  
Status : Answered  
Chosen Option : 1

Q.22 निम्नलिखित में से कौन-सा एक क्षार धातु नहीं है और आवर्त सारणी के प्रथम वर्ग के अंतर्गत नहीं आता?

- Ans
- 1. सोडियम
  - 2. पोटैशियम
  - 3. लीथियम
  - 4. कैल्सियम

Question Type : MCQ  
Question ID : 264330137066  
Option 1 ID : 264330536907  
Option 2 ID : 264330536909  
Option 3 ID : 264330536910  
Option 4 ID : 264330536908  
Status : Answered  
Chosen Option : 4

Q.23 केरल के मध्य और उत्तरी भागों और तमिलनाडु के कोंगु (Kongu) क्षेत्र को नियंत्रित करने वाले चेर राजवंश का प्रतीक \_\_\_\_\_ था।

- Ans
- 1. पक्षी
  - 2. धनुष और बाण
  - 3. मछली
  - 4. बाघ

Question Type : MCQ  
Question ID : 264330137075  
Option 1 ID : 264330536945  
Option 2 ID : 264330536944  
Option 3 ID : 264330536946  
Option 4 ID : 264330536943  
Status : Answered  
Chosen Option : 2

Q.24 भारतीय न्यायिक प्रणाली में, PIL का अर्थ \_\_\_\_\_ है।

- Ans
- 1. पीरियोडिक इंडिविजुअल लिटिगेशन (Periodic Individual Litigation)
  - 2. पब्लिक इंटरेस्ट लिटिगेशन (Public Interest Litigation)
  - 3. पीरियोडिक इंटरेस्ट लिटिगेशन (Periodic Interest Litigation)
  - 4. प्राइवेट इंटरेस्ट लाइसेंस (Private Interest License)

Question Type : MCQ  
Question ID : 264330138332  
Option 1 ID : 264330541937  
Option 2 ID : 264330541936  
Option 3 ID : 264330541935  
Option 4 ID : 264330541938  
Status : Answered  
Chosen Option : 2

Q.25 सोडियम हाइड्रॉक्साइड निम्नलिखित में से किस सामान्य पदार्थ का रासायनिक नाम है?

- Ans
- 1. दाहक सोडा (Caustic Soda)
  - 2. चाक (Chalk)
  - 3. विरंजक चूर्ण (Bleaching Powder)
  - 4. सुहागा (Borax)

Question Type : MCQ  
Question ID : 264330137068  
Option 1 ID : 264330536915  
Option 2 ID : 264330536917  
Option 3 ID : 264330536916  
Option 4 ID : 264330536918  
Status : Answered  
Chosen Option : 4

Section : English Language and Comprehension

Q.1 Select the most appropriate synonym of the given word.

Subtle

- Ans
- 1. Corrupt
  - 2. Wrong
  - 3. Homely
  - 4. Exquisite

Question Type : MCQ  
Question ID : 264330136655  
Option 1 ID : 264330535340  
Option 2 ID : 264330535342  
Option 3 ID : 264330535339  
Option 4 ID : 264330535341  
Status : Answered  
Chosen Option : 1

Q.2 Select the most appropriate antonym of the given word.

Calm

- Ans
- 1. Placid
  - 2. Low-key
  - 3. Frenzy
  - 4. Harmonious

Question Type : MCQ  
Question ID : 264330136709  
Option 1 ID : 264330535549  
Option 2 ID : 264330535548  
Option 3 ID : 264330535550  
Option 4 ID : 264330535547  
Status : Answered  
Chosen Option : 3

**Q.3** A sentence has been given with a blank to be filled with an appropriate option. Choose the correct alternative.

I went to the lake and \_\_\_\_\_ some of its water in my metallic cup.

- Ans**
- 1. drank
  - 2. drunken
  - 3. drinking
  - 4. drunk

Question Type : **MCQ**  
Question ID : **264330134457**  
Option 1 ID : **264330526800**  
Option 2 ID : **264330526802**  
Option 3 ID : **264330526799**  
Option 4 ID : **264330526801**  
Status : **Answered**  
Chosen Option : **1**

**Q.4** Select the most appropriate meaning of the given idiom.

**Gut Feeling**

- Ans**
- 1. Doing things recklessly
  - 2. Very excited and/or joyful, especially when in love
  - 3. A personal intuition you get, especially when feel something may not be right
  - 4. To have a dispute with someone

Question Type : **MCQ**  
Question ID : **264330135787**  
Option 1 ID : **264330532024**  
Option 2 ID : **264330532026**  
Option 3 ID : **264330532023**  
Option 4 ID : **264330532025**  
Status : **Answered**  
Chosen Option : **2**

**Q.5** Select the most appropriate option to substitute the bracketed segment in the given sentence. If there is no need to substitute it, select 'no substitution required'.

(The transit of the Planet of Love happen in pairs), eight years apart every century.

- Ans**
- 1. No substitution required
  - 2. The transits of the Planet of Love happens at pairs
  - 3. The transit of Planet of Love happen in pairs
  - 4. The transits of the Planet of Love happen in pairs

Question Type : **MCQ**  
Question ID : **264330136670**  
Option 1 ID : **264330535402**  
Option 2 ID : **264330535399**  
Option 3 ID : **264330535400**  
Option 4 ID : **264330535401**  
Status : **Answered**  
Chosen Option : **4**

**Q.6** Find the part of the given sentence that has an error in it. If there is no error, choose 'No error'.

I am not going to help you of this science project.

- Ans**
- 1. No error
  - 2. this science project.
  - 3. I am not going to
  - 4. help you of

Question Type : **MCQ**  
Question ID : **264330135256**  
Option 1 ID : **264330529946**  
Option 2 ID : **264330529945**  
Option 3 ID : **264330529943**  
Option 4 ID : **264330529944**  
Status : **Answered**  
Chosen Option : **4**

**Q.7** Identify the segment that contains a grammatical error. If there is no error, select 'No error'.

George handing the / hairpin to Ron, / a moment later.

- Ans**
- 1. George handing the
  - 2. hairpin to Ron,
  - 3. a moment later.
  - 4. No error

Question Type : **MCQ**  
Question ID : **264330136641**  
Option 1 ID : **264330535287**  
Option 2 ID : **264330535288**  
Option 3 ID : **264330535289**  
Option 4 ID : **264330535290**  
Status : **Answered**  
Chosen Option : **3**

**Q.8** Choose the word that is correctly spelt.

- Ans**
- 1. Liasion
  - 2. Indispensible
  - 3. Occurred
  - 4. Privilige

Question Type : **MCQ**  
Question ID : **264330136661**  
Option 1 ID : **264330535365**  
Option 2 ID : **264330535366**  
Option 3 ID : **264330535363**  
Option 4 ID : **264330535364**  
Status : **Answered**  
Chosen Option : **1**

**Q.9** Select the most appropriate word for the given group of words.

The medieval forerunner of chemistry

- Ans**
- 1. Anchor
  - 2. Alchemy
  - 3. Anthropologist
  - 4. Curator

Question Type : **MCQ**  
Question ID : **264330135781**  
Option 1 ID : **264330532000**  
Option 2 ID : **264330532001**  
Option 3 ID : **264330532002**  
Option 4 ID : **264330531999**  
Status : **Answered**  
Chosen Option : **2**

**Q.10** Choose the sentence with no spelling error.

- Ans**
- 1. He supposed he should be thankful.
  - 2. He supposed he shuld be thankful.
  - 3. He supposed he should be thankful.
  - 4. He suposed he should be thankful.

Question Type : **MCQ**  
Question ID : **264330134447**  
Option 1 ID : **264330526759**  
Option 2 ID : **264330526761**  
Option 3 ID : **264330526762**  
Option 4 ID : **264330526760**  
Status : **Answered**  
Chosen Option : **1**

**Q.11** Select the word from the options which is exactly opposite in meaning to the bracketed word given in the sentence below.

Our financial situation had become (precarious).

- Ans**
- 1. Noisy
  - 2. Insecure
  - 3. Delicate
  - 4. Stable

Question Type : **MCQ**  
Question ID : **264330136658**  
Option 1 ID : **264330535354**  
Option 2 ID : **264330535353**  
Option 3 ID : **264330535351**  
Option 4 ID : **264330535352**  
Status : **Answered**  
Chosen Option : **3**

Q.12 Select the most appropriate option to fill in the blank.  
Fear evolved over millions of years to protect us from \_\_\_\_\_.

- Ans  1. confidence  
 2. danger  
 3. birth  
 4. courage

Question Type : MCQ  
Question ID : 264330134448  
Option 1 ID : 264330526766  
Option 2 ID : 264330526763  
Option 3 ID : 264330526765  
Option 4 ID : 264330526764  
Status : Answered  
Chosen Option : 2

Q.13 Select the most appropriate word for the given group of words.

A long wandering or voyage usually marked by many changes of fortune

- Ans  1. Odyssey  
 2. Ode  
 3. Trip  
 4. Pilgrimage

Question Type : MCQ  
Question ID : 264330136654  
Option 1 ID : 264330535335  
Option 2 ID : 264330535337  
Option 3 ID : 264330535336  
Option 4 ID : 264330535338  
Status : Answered  
Chosen Option : 4

Q.14 Fill in the blank with the most appropriate option.

I watched him with the excitement of \_\_\_\_\_ him to do anything at any time.

- Ans  1. expecting  
 2. accepting  
 3. lacking  
 4. excepting

Question Type : MCQ  
Question ID : 264330136645  
Option 1 ID : 264330535303  
Option 2 ID : 264330535304  
Option 3 ID : 264330535306  
Option 4 ID : 264330535305  
Status : Answered  
Chosen Option : 4

**Q.15** The statement below has been given with bracketed text. Select the option with correct idiom for the bracketed text.

Although Shagun was competently doing the project on her own, Pranav couldn't stop himself from (giving her unnecessary advice).

- Ans**
- 1. devil's advocate
  - 2. being a backseat driver
  - 3. a bitter pill to swallow
  - 4. cutting the mustard

Question Type : **MCQ**  
Question ID : **264330136660**  
Option 1 ID : **264330535362**  
Option 2 ID : **264330535360**  
Option 3 ID : **264330535359**  
Option 4 ID : **264330535361**  
Status : **Answered**  
Chosen Option : **1**

**Q.16** Improve the underlined part of the sentence. Choose 'No improvement' as an answer if the sentence is grammatically correct.

The cat sits in the window and staring at the squirrel.

- Ans**
- 1. stared at
  - 2. stare on
  - 3. No improvement
  - 4. stares at

Question Type : **MCQ**  
Question ID : **264330136773**  
Option 1 ID : **264330535797**  
Option 2 ID : **264330535795**  
Option 3 ID : **264330535798**  
Option 4 ID : **264330535796**  
Status : **Answered**  
Chosen Option : **3**

**Q.17** Fill in the blank with the most appropriate option.

The plan began to \_\_\_\_\_ once we all met to discuss it.

- Ans**
- 1. gel
  - 2. gale
  - 3. jail
  - 4. jell

Question Type : **MCQ**  
Question ID : **264330136664**  
Option 1 ID : **264330535375**  
Option 2 ID : **264330535378**  
Option 3 ID : **264330535376**  
Option 4 ID : **264330535377**  
Status : **Answered**  
Chosen Option : **2**

**Q.18** Improve the underlined part of the sentence. Choose 'No improvement' as an answer if the sentence is grammatically correct.

I'm recovering from the flu, and I still is feeling weak.

- Ans**
- 1. felt weakest
  - 2. No improvement
  - 3. feel weak
  - 4. feels weakened

Question Type : **MCQ**  
Question ID : **264330135207**  
Option 1 ID : **264330529755**  
Option 2 ID : **264330529758**  
Option 3 ID : **264330529756**  
Option 4 ID : **264330529757**  
Status : **Answered**  
Chosen Option : **2**

**Q.19** Choose the word that means the same as the given word.  
**Consensus**

- Ans**
- 1. Censure
  - 2. Census
  - 3. Agreement
  - 4. Puck

Question Type : **MCQ**  
Question ID : **264330134467**  
Option 1 ID : **264330526838**  
Option 2 ID : **264330526837**  
Option 3 ID : **264330526835**  
Option 4 ID : **264330526836**  
Status : **Answered**  
Chosen Option : **2**

**Q.20** Find the part of the given sentence that has an error in it. If there is no error, choose 'No error'.  
Humans have rapidly changing the balance of gases in the atmosphere.

- Ans**
- 1. changing the balance of
  - 2. gases in the atmosphere.
  - 3. No error
  - 4. Humans have rapidly

Question Type : **MCQ**  
Question ID : **264330136770**  
Option 1 ID : **264330535784**  
Option 2 ID : **264330535785**  
Option 3 ID : **264330535786**  
Option 4 ID : **264330535783**  
Status : **Answered**  
Chosen Option : **4**

**Comprehension:**

In the following passage some words have been deleted. Fill in the blanks with the help of the alternatives given. Select the most appropriate option for each number.

I was surprised—(1) \_\_\_\_\_ at the news that my father spared me any thought, and second at my brother's compliment, (2) \_\_\_\_\_ it was backhanded. Dhri (3) \_\_\_\_\_ commented on my looks; nor did he encourage me to comment on his. Such useless (4) \_\_\_\_\_, he believed, made people vain. Was this another (5) \_\_\_\_\_ of change?

**SubQuestion No : 21**

**Q.21** Select the most appropriate option to fill in the blank No. 1.

- Ans**
- 1. earlier
  - 2. in the beginning
  - 3. first
  - 4. second

Question Type : **MCQ**  
Question ID : **264330136700**  
Option 1 ID : **264330535513**  
Option 2 ID : **264330535514**  
Option 3 ID : **264330535512**  
Option 4 ID : **264330535511**  
Status : **Answered**  
Chosen Option : **3**

**Comprehension:**

In the following passage some words have been deleted. Fill in the blanks with the help of the alternatives given. Select the most appropriate option for each number.

I was surprised—(1) \_\_\_\_\_ at the news that my father spared me any thought, and second at my brother's compliment, (2) \_\_\_\_\_ it was backhanded. Dhri (3) \_\_\_\_\_ commented on my looks; nor did he encourage me to comment on his. Such useless (4) \_\_\_\_\_, he believed, made people vain. Was this another (5) \_\_\_\_\_ of change?

**SubQuestion No : 22**

**Q.22** Select the most appropriate option to fill in the blank No. 2.

- Ans**
- 1. all
  - 2. through
  - 3. though
  - 4. afterwards

Question Type : **MCQ**  
Question ID : **264330136701**  
Option 1 ID : **264330535517**  
Option 2 ID : **264330535516**  
Option 3 ID : **264330535518**  
Option 4 ID : **264330535515**  
Status : **Answered**  
Chosen Option : **1**

**Comprehension:**

In the following passage some words have been deleted. Fill in the blanks with the help of the alternatives given. Select the most appropriate option for each number.

I was surprised—(1) \_\_\_\_\_ at the news that my father spared me any thought, and second at my brother's compliment, (2) \_\_\_\_\_ it was backhanded. Dhri (3) \_\_\_\_\_ commented on my looks; nor did he encourage me to comment on his. Such useless (4) \_\_\_\_\_, he believed, made people vain. Was this another (5) \_\_\_\_\_ of change?

**SubQuestion No : 23**

**Q.23** Select the most appropriate option to fill in the blank No. 3.

- Ans**
- 1. ever
  - 2. always
  - 3. never
  - 4. forever

Question Type : **MCQ**

Question ID : **264330136702**

Option 1 ID : **264330535520**

Option 2 ID : **264330535521**

Option 3 ID : **264330535519**

Option 4 ID : **264330535522**

Status : **Answered**

Chosen Option : **2**

**Comprehension:**

In the following passage some words have been deleted. Fill in the blanks with the help of the alternatives given. Select the most appropriate option for each number.

I was surprised—(1) \_\_\_\_\_ at the news that my father spared me any thought, and second at my brother's compliment, (2) \_\_\_\_\_ it was backhanded. Dhri (3) \_\_\_\_\_ commented on my looks; nor did he encourage me to comment on his. Such useless (4) \_\_\_\_\_, he believed, made people vain. Was this another (5) \_\_\_\_\_ of change?

**SubQuestion No : 24**

**Q.24** Select the most appropriate option to fill in the blank No. 4.

- Ans**
- 1. disclosure
  - 2. talk
  - 3. ode
  - 4. babble

Question Type : **MCQ**

Question ID : **264330136703**

Option 1 ID : **264330535523**

Option 2 ID : **264330535525**

Option 3 ID : **264330535524**

Option 4 ID : **264330535526**

Status : **Not Answered**

Chosen Option : **--**

**Comprehension:**

In the following passage some words have been deleted. Fill in the blanks with the help of the alternatives given. Select the most appropriate option for each number.

I was surprised—(1) \_\_\_\_\_ at the news that my father spared me any thought, and second at my brother's compliment, (2) \_\_\_\_\_ it was backhanded. Dhri (3) \_\_\_\_\_ commented on my looks; nor did he encourage me to comment on his. Such useless (4) \_\_\_\_\_, he believed, made people vain. Was this another (5) \_\_\_\_\_ of change?

**SubQuestion No : 25**

**Q.25** Select the most appropriate option to fill in the blank No. 5.

- Ans**
- 1. signature
  - 2. symbolic
  - 3. light
  - 4. sign

Question Type : **MCQ**

Question ID : **264330136704**

Option 1 ID : **264330535527**

Option 2 ID : **264330535529**

Option 3 ID : **264330535530**

Option 4 ID : **264330535528**

Status : **Not Answered**

Chosen Option : --