

Multi Tasking Non Technical Staff and Havaldar CBIC and CBN Examination 2022

Roll Number	
Candidate Name	
Venue Name	Uma Digital Online Mock And Assessment Centre
Exam Date	16/06/2023
Exam Time	9:00 AM - 10:30 AM
Subject	MTS Non Tech Havaldar CBIC and CBN Examination 2022

Section : Numerical and Mathematical Ability

Q.1 एक आदमी को नाव से 100 km दूर स्थित एक स्थान पर जाने और वापस आने में 10 घंटे का समय लगता है। वह समान समय में 12 km धारा के अनुकूल या 8 km धारा के प्रतिकूल नाव चला सकता है। धारा की चाल क्या है?

- Ans
- 1. (29/5) km/hr
 - 2. (23/8) km/hr
 - 3. (25/6) km/hr
 - 4. (20/9) km/hr

Question Type : **MCQ**
Question ID : **264330140241**
Option 1 ID : **264330549346**
Option 2 ID : **264330549345**
Option 3 ID : **264330549343**
Option 4 ID : **264330549344**
Status : **Answered**
Chosen Option : 1

Q.2 दो नल P और Q अकेले एक टंकी को क्रमशः 10 घंटे और 12 घंटे में भर सकते हैं। यदि दोनों नलों को सुबह 9 बजे खोला जाए, तो ठीक दोपहर 3 बजे तक टंकी को पूरा भरने के लिए नल P को कितने बजे बंद करना होगा?

- Ans
- 1. दोपहर 1 बजे
 - 2. दोपहर 12 बजे
 - 3. दोपहर 2 बजे
 - 4. दोपहर 3 बजे

Question Type : **MCQ**
Question ID : **264330140534**
Option 1 ID : **264330550492**
Option 2 ID : **264330550493**
Option 3 ID : **264330550491**
Option 4 ID : **264330550494**
Status : **Answered**
Chosen Option : 3

Q.3 एक मिश्रण में ऐल्कोहॉल (alcohol) और पानी का अनुपात क्रमशः 4 : 5 है। इसमें 20 लीटर पानी मिलाया जाता है। यदि नए मिश्रण में ऐल्कोहॉल और पानी का अनुपात क्रमशः 1 : 3 है, तो नए मिश्रण में ऐल्कोहॉल की कुल मात्रा कितनी है?

- Ans
- 1. 90/11 लीटर
 - 2. 15 लीटर
 - 3. 60/7 लीटर
 - 4. 80/7 लीटर

Question Type : MCQ
Question ID : 264330140542
Option 1 ID : 264330550524
Option 2 ID : 264330550525
Option 3 ID : 264330550523
Option 4 ID : 264330550526
Status : Answered
Chosen Option : 4

Q.4 Rs. 8000 पर 15% वार्षिक दर पर 2 वर्षों का चक्रवृद्धि ब्याज ज्ञात कीजिए (वार्षिक रूप से संयोजित)।

- Ans
- 1. Rs. 2580
 - 2. Rs. 2450
 - 3. Rs. 2400
 - 4. Rs. 2550

Question Type : MCQ
Question ID : 264330140810
Option 1 ID : 264330551587
Option 2 ID : 264330551589
Option 3 ID : 264330551588
Option 4 ID : 264330551590
Status : Answered
Chosen Option : 1

Q.5 एक व्यक्ति ने एक रुपए में 25 पेन की दर से कुछ पेन खरीदे और एक रुपए में 20 पेन की दर से बेच दिए। उसका लाभ प्रतिशत कितना है?

- Ans
- 1. 25 प्रतिशत
 - 2. 30 प्रतिशत
 - 3. 15 प्रतिशत
 - 4. 10 प्रतिशत

Question Type : MCQ
Question ID : 264330140589
Option 1 ID : 264330550707
Option 2 ID : 264330550709
Option 3 ID : 264330550708
Option 4 ID : 264330550710
Status : Answered
Chosen Option : 1

Q.6 यदि $x : y : z = 2 : 3 : 4$, तो $7x : 3y : 2z$ का मान क्या है?

- Ans
- 1. 16 : 9 : 8
 - 2. 12 : 6 : 11
 - 3. 14 : 9 : 8
 - 4. 18 : 7 : 12

Question Type : MCQ

Question ID : 264330140221

Option 1 ID : 264330549264

Option 2 ID : 264330549265

Option 3 ID : 264330549266

Option 4 ID : 264330549263

Status : Answered

Chosen Option : 3

Q.7 एक कैलकुलेटर का अंकित मूल्य Rs.1600 है। इसे 28 प्रतिशत की छूट पर बेचा जाता है। यदि कैलकुलेटर का क्रय मूल्य Rs.700 है, तो लाभ का मूल्य क्या है?

- Ans
- 1. Rs.405
 - 2. Rs.438
 - 3. Rs.498
 - 4. Rs.452

Question Type : MCQ

Question ID : 264330139963

Option 1 ID : 264330548232

Option 2 ID : 264330548233

Option 3 ID : 264330548231

Option 4 ID : 264330548234

Status : Answered

Chosen Option : 4

Q.8 यदि x का x प्रतिशत 256 है, तो x का मान क्या है?

- Ans
- 1. 200
 - 2. 150
 - 3. 160
 - 4. 180

Question Type : MCQ

Question ID : 264330139633

Option 1 ID : 264330546948

Option 2 ID : 264330546947

Option 3 ID : 264330546949

Option 4 ID : 264330546950

Status : Answered

Chosen Option : 3

Q.9 एक आयताकार मैज के शीर्ष का परिमाण 42 मीटर है और इसका क्षेत्रफल 108 metre² है। इसके विकर्ण की लंबाई

कितनी है?

- Ans
- 1. 9 मीटर
 - 2. 15 मीटर
 - 3. 11 मीटर
 - 4. 12 मीटर

Question Type : MCQ

Question ID : 264330139925

Option 1 ID : 264330548082

Option 2 ID : 264330548079

Option 3 ID : 264330548081

Option 4 ID : 264330548080

Status : Answered

Chosen Option : 2

Q.10 एक वस्तु को 5 प्रतिशत हानि पर बेचा जाता है। यदि इसके क्रय मूल्य में Rs.20 की कमी की जाती है और विक्रय मूल्य में Rs.13 की वृद्धि की जाती है, तो इस पर 10 प्रतिशत का लाभ प्राप्त होता है। वस्तु का वास्तविक विक्रय मूल्य क्या है?

- Ans
- 1. Rs. 221.66
 - 2. Rs. 283.33
 - 3. Rs. 250
 - 4. Rs. 266.66

Question Type : MCQ

Question ID : 264330140160

Option 1 ID : 264330549020

Option 2 ID : 264330549022

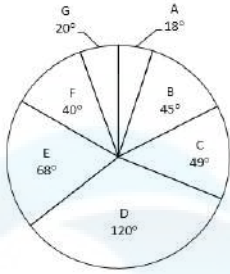
Option 3 ID : 264330549019

Option 4 ID : 264330549021

Status : Answered

Chosen Option : 4

Q.11 नीचे दिए गए वृत्त आलेख में 7 अलग-अलग कंपनियों की बिक्री को दर्शाया गया है। इन सभी 7 कंपनियों की कुल बिक्री 1440 है। इनमें से किसी एक विशिष्ट कंपनी की बिक्री को इन सभी 7 कंपनियों की कुल बिक्री के सापेक्ष डिग्री में दर्शाया गया है।



A और B की औसत बिक्री तथा D और E की औसत बिक्री का अनुपात क्या है?

- Ans
- 1. 169 : 49
 - 2. 59 : 177
 - 3. 63 : 188
 - 4. 51 : 186

Question Type : MCQ

Question ID : 264330140192

Option 1 ID : 264330549148

Option 2 ID : 264330549147

Option 3 ID : 264330549149

Option 4 ID : 264330549150

Status : Answered

Chosen Option : 3

Q.12 A किसी कार्य को 48 दिनों में कर सकता है। कुल कार्य का कितना भाग A द्वारा 18 दिनों में पूरा किया जा सकता है?

- Ans
- 1. 3/5
 - 2. 4/9
 - 3. 3/8
 - 4. 5/6

Question Type : MCQ

Question ID : 264330139588

Option 1 ID : 264330546768

Option 2 ID : 264330546769

Option 3 ID : 264330546767

Option 4 ID : 264330546770

Status : Answered

Chosen Option : 3

Q.13 दो बेलनों के आयतन का अनुपात 27 : 25 है और उनकी ऊँचाइयों का अनुपात 3 : 4 है। यदि दूसरे बेलन के आधार का क्षेत्रफल 3850 cm^2 है, तो पहले बेलन की त्रिज्या कितनी होगी?

- Ans
- ✓ 1. 42 cm
 - ✗ 2. 34 cm
 - ✗ 3. 63 cm
 - ✗ 4. 56 cm

Question Type : MCQ

Question ID : 264330140596

Option 1 ID : 264330550737

Option 2 ID : 264330550738

Option 3 ID : 264330550736

Option 4 ID : 264330550735

Status : Answered

Chosen Option : 1

Q.14 $\left(\frac{21}{46} \div \frac{1}{6}\right)$ of $\frac{23}{42} + \frac{96}{576} \times \frac{24}{3} - \left(\frac{88}{56} \times \frac{7}{9} \div \frac{5}{36}\right)$ का मान क्या है?

- Ans
- ✗ 1. $-163/28$
 - ✗ 2. $5/2$
 - ✗ 3. $11/2$
 - ✓ 4. $-179/30$

Question Type : MCQ

Question ID : 264330139948

Option 1 ID : 264330548173

Option 2 ID : 264330548174

Option 3 ID : 264330548171

Option 4 ID : 264330548172

Status : Answered

Chosen Option : 4

Q.15 $11 \times 2 + (45 \div 9) + (72 \div 8) - 5 + 4$ का मान है :

- Ans
- ✗ 1. 32
 - ✗ 2. 40
 - ✗ 3. 41
 - ✓ 4. 35

Question Type : MCQ

Question ID : 264330140796

Option 1 ID : 264330551532

Option 2 ID : 264330551534

Option 3 ID : 264330551533

Option 4 ID : 264330551531

Status : Answered

Chosen Option : 4

Q.16 7 क्रमागत विषम संख्याओं का औसत A है। यदि अगली 3 और पिछली 2 विषम संख्याओं को भी इन 7 विषम संख्याओं में शामिल कर लिया जाए, तो इन 12 क्रमागत विषम संख्याओं का नया औसत क्या है?

- Ans
- 1. A - 2
 - 2. A + 3
 - 3. A + 1
 - 4. A + 2

Question Type : MCQ
Question ID : 264330139895
Option 1 ID : 264330547959
Option 2 ID : 264330547962
Option 3 ID : 264330547961
Option 4 ID : 264330547960
Status : Answered
Chosen Option : 3

Q.17 निम्नलिखित तालिका का अध्ययन करें और उत्तर दें। किस वर्ष में कंपनी ने ईंधन और परिवहन (fuel and transport) पर न्यूनतम खर्च किया?

Year	Item of Expenditure				
	Salary	Fuel and Transport	Bonus	Interest on Loans	Taxes
2001	288	198	3	23.4	83
2002	342	112	2.52	32.5	108
2003	324	91	3.84	41.6	74
2004	336	98	3.68	36.4	88
2005	420	142	3.96	49.4	98

Item of Expenditure - वस्तुएँ जिन पर खर्च किया गया है , Year - वर्ष, Salary - वेतन, Fuel and Transport - ईंधन और परिवहन, Bonus - बोनस, Interests on loans - ऋण पर ब्याज, Taxes - कर

- Ans
- 1. 2003
 - 2. 2000
 - 3. 2001
 - 4. 2002

Question Type : MCQ
Question ID : 264330140815
Option 1 ID : 264330551610
Option 2 ID : 264330551607
Option 3 ID : 264330551608
Option 4 ID : 264330551609
Status : Answered
Chosen Option : 1

Q.18 एक निश्चित राशि पर 3 वर्ष के लिए 20 प्रतिशत वार्षिक दर से साधारण ब्याज और चक्रवृद्धि ब्याज (ब्याज का संयोजन वार्षिक रूप से किया जाता है) के बीच का अंतर Rs. 192 है। वह राशि क्या है?

- Ans
- 1. Rs. 1400
 - 2. Rs. 1200
 - 3. Rs. 1500
 - 4. Rs. 1000

Question Type : MCQ

Question ID : 264330140224

Option 1 ID : 264330549276

Option 2 ID : 264330549278

Option 3 ID : 264330549277

Option 4 ID : 264330549275

Status : Answered

Chosen Option : 3

Q.19 $\frac{11 \times 11 - 24 \times 6 \div 2 + 12 \times 12}{4 \times 5 + 6 \times 2 \div 4}$ का मान क्या है?

- Ans
- 1. 2
 - 2. -1
 - 3. -2
 - 4. 1

Question Type : MCQ

Question ID : 264330140229

Option 1 ID : 264330549298

Option 2 ID : 264330549296

Option 3 ID : 264330549295

Option 4 ID : 264330549297

Status : Answered

Chosen Option : 2

Q.20 एक दुकानदार को Rs.30 और Rs.20 प्रति किलोग्राम मूल्य वाली मिठाइयों की दो किस्मों को किस अनुपात में मिलाना चाहिए, जिससे Rs.25 प्रति किलोग्राम मूल्य वाला मिश्रण प्राप्त हो?

- Ans
- 1. 1:1
 - 2. 2:3
 - 3. 5:4
 - 4. 4:5

Question Type : MCQ

Question ID : 264330133739

Option 1 ID : 264330523979

Option 2 ID : 264330523980

Option 3 ID : 264330523982

Option 4 ID : 264330523981

Status : Answered

Chosen Option : 1

Q.1 एक निश्चित कूट भाषा में, 'SETTLE' को 'DLSTDS' लिखा जाता है। उस कूट भाषा में 'STRUCK' को कैसे लिखा जाएगा?

- Ans
- ✓ 1. JCTRSS
 - ✗ 2. JTCRSS
 - ✗ 3. JCTSRS
 - ✗ 4. JCTRST

Question Type : MCQ

Question ID : 264330139976

Option 1 ID : 264330548285

Option 2 ID : 264330548283

Option 3 ID : 264330548284

Option 4 ID : 264330548286

Status : Answered

Chosen Option : 1

Q.2 दी गई श्रृंखला में निम्नलिखित में से कौन-सी संख्या प्रश्न चिन्ह (?) के स्थान पर आएगी?
61, 65, 73, 85, 101, ?

- Ans
- ✗ 1. 123
 - ✓ 2. 121
 - ✗ 3. 120
 - ✗ 4. 119

Question Type : MCQ

Question ID : 264330140104

Option 1 ID : 264330548797

Option 2 ID : 264330548796

Option 3 ID : 264330548798

Option 4 ID : 264330548795

Status : Answered

Chosen Option : 2

Q.3 G, H, I, J और K एक वृत्ताकार मेज के चारों ओर केंद्र की ओर मुख करके बैठे हैं। G, H के ठीक दाईं ओर बैठा है। J, K और H के बीच में बैठा है। K के ठीक बाईं ओर कौन बैठा है?

- Ans
- ✗ 1. H
 - ✓ 2. I
 - ✗ 3. J
 - ✗ 4. G

Question Type : MCQ

Question ID : 264330140139

Option 1 ID : 264330548936

Option 2 ID : 264330548937

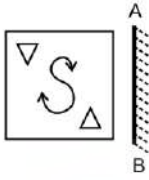
Option 3 ID : 264330548938

Option 4 ID : 264330548935

Status : Answered

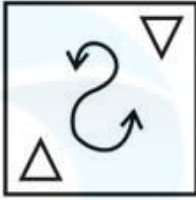
Chosen Option : 2

Q.4 दी गई आकृति के उस सही दर्पण प्रतिबिंब को चुनिए जो दर्पण को नीचे दर्शाए गए अनुसार AB पर रखने पर बनेगा।

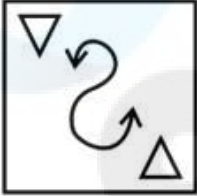


Ans

✓ 1.



✗ 2.



✗ 3.



✗ 4.



Question Type : MCQ

Question ID : 264330140091

Option 1 ID : 264330548746

Option 2 ID : 264330548743

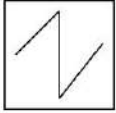
Option 3 ID : 264330548744

Option 4 ID : 264330548745

Status : Answered

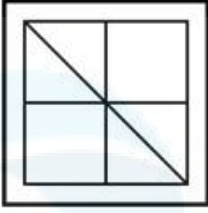
Chosen Option : 1

Q.5 उस विकल्प आकृति को चुनिए जिसमें दी गई आकृति इसके भाग के रूप में निहित है। (घूर्णन की अनुमति नहीं है)।

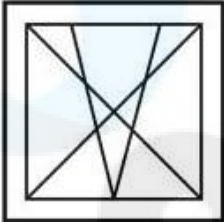


Ans

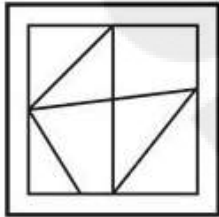
✗ 1.



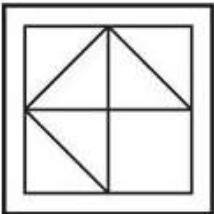
✗ 2.



✓ 3.



✗ 4.



Question Type : MCQ

Question ID : 264330138805

Option 1 ID : 264330543827

Option 2 ID : 264330543830

Option 3 ID : 264330543829

Option 4 ID : 264330543828

Status : Answered

Chosen Option : 3

Q.6 पाँच छात्रों विराट, कमल, अनिल, संजय और राहुल के अंकों की तुलना की जाती है। कोई भी दो छात्रों के अंक समान नहीं हैं। अनिल के अंक केवल दो छात्रों से कम हैं। कमल के अंक किसी भी छात्र से कम नहीं हैं। संजय के अंक अनिल से अधिक और कमल से कम हैं। यदि राहुल के अंक विराट के अंक से अधिक हैं, तो कितने छात्रों के अंक विराट के अंकों से कम हैं?

Ans

✗ 1. 1

✗ 2. 3

✓ 3. 0

✗ 4. 2

Question Type : MCQ

Question ID : 264330139536

Option 1 ID : 264330546559

Option 2 ID : 264330546561

Option 3 ID : 264330546562

Option 4 ID : 264330546560

Status : Answered

Chosen Option : 3

Q.7 एक निश्चित कूट भाषा में, 'MAPS' को '49' और 'SOLD' को '50' लिखा जाता है। उस भाषा में 'KIDS' को कैसे लिखा जाएगा?

- Ans
- 1. 44
 - 2. 43
 - 3. 42
 - 4. 45

Question Type : MCQ
Question ID : 264330140096
Option 1 ID : 264330548764
Option 2 ID : 264330548765
Option 3 ID : 264330548763
Option 4 ID : 264330548766
Status : Answered
Chosen Option : 2

Q.8 एक निश्चित कूट भाषा में, 'LABOR' को 'RALOB' लिखा जाता है। उस कूट भाषा में 'EARLY' को कैसे लिखा जाएगा?

- Ans
- 1. YALER
 - 2. YAELR
 - 3. YAERL
 - 4. ZAELR

Question Type : MCQ
Question ID : 264330138771
Option 1 ID : 264330543691
Option 2 ID : 264330543692
Option 3 ID : 264330543693
Option 4 ID : 264330543694
Status : Answered
Chosen Option : 2

Q.9 उस विकल्प को चुनिए जो तीसरे शब्द से ठीक उसी प्रकार संबंधित है जिस प्रकार दूसरा शब्द पहले शब्द से संबंधित है।

मिजोरम : आइजोल (Aizawl) :: तेलंगाना : ?

- Ans
- 1. चेन्नई
 - 2. बेंगलोर
 - 3. जयपुर
 - 4. हैदराबाद

Question Type : MCQ
Question ID : 264330137582
Option 1 ID : 264330538936
Option 2 ID : 264330538938
Option 3 ID : 264330538937
Option 4 ID : 264330538935
Status : Answered
Chosen Option : 4

Q.10 कौन-सी उत्तर आकृति प्रश्न आकृति में दिए गए पैटर्न को पूरा करेगी?



Ans

✗ 1.



✓ 2.



✗ 3.



✗ 4.



Question Type : MCQ

Question ID : 264330139547

Option 1 ID : 264330546604

Option 2 ID : 264330546605

Option 3 ID : 264330546606

Option 4 ID : 264330546603

Status : Answered

Chosen Option : 4

Q.11 D, N, U, L और O एक सीधी रेखा में उत्तर की ओर मुख करके खड़े हैं। N, D के ठीक दाईं ओर खड़ा है, जो एक छोर पर खड़ा है। O, L के ठीक बाईं ओर खड़ा है, जो छोर पर नहीं खड़ा है। O के ठीक बाईं ओर कौन खड़ा है?

- Ans
- 1. U
 - 2. N
 - 3. L
 - 4. D

Question Type : MCQ
Question ID : 264330135355
Option 1 ID : 264330530330
Option 2 ID : 264330530328
Option 3 ID : 264330530329
Option 4 ID : 264330530327
Status : Answered
Chosen Option : 2

Q.12 उस विकल्प को चुनिए जो तीसरी संख्या से ठीक उसी तरह संबंधित है जिस तरह दूसरी संख्या पहली संख्या से संबंधित है।

441 : 485 :: 676 : ?

- Ans
- 1. 730
 - 2. 1030
 - 3. 729
 - 4. 740

Question Type : MCQ
Question ID : 264330140126
Option 1 ID : 264330548884
Option 2 ID : 264330548883
Option 3 ID : 264330548885
Option 4 ID : 264330548886
Status : Answered
Chosen Option : 1

Q.13 दी गई श्रृंखला में निम्नलिखित में से कौन-सा अक्षर-समूह प्रश्न चिन्ह (?) के स्थान पर आएगा?
FT, IR, LP, ON, RL, UJ, ?

- Ans
- 1. XH
 - 2. MK
 - 3. FN
 - 4. HW

Question Type : MCQ
Question ID : 264330140133
Option 1 ID : 264330548914
Option 2 ID : 264330548913
Option 3 ID : 264330548911
Option 4 ID : 264330548912
Status : Answered
Chosen Option : 1

Q.14 निम्नलिखित प्रश्न में, दी गई श्रृंखला में लुप्त संख्या को चुनिए ।

40, 43, 52, 79, 160, ?

- Ans
- 1. 415
 - 2. 413
 - 3. 410
 - 4. 403

Question Type : MCQ
Question ID : 264330140065
Option 1 ID : 264330548641
Option 2 ID : 264330548642
Option 3 ID : 264330548640
Option 4 ID : 264330548639
Status : Answered
Chosen Option : 4

Q.15 किन दो संख्याओं को आपस में बदलने के बाद, दिए गए समीकरण का मान '30' होगा?

$$8 \times 1 - 9 + 3 + 4$$

- Ans
- 1. 3 और 9
 - 2. 1 और 4
 - 3. 8 और 4
 - 4. 4 और 3

Question Type : MCQ
Question ID : 264330140971
Option 1 ID : 264330552231
Option 2 ID : 264330552233
Option 3 ID : 264330552234
Option 4 ID : 264330552232
Status : Answered
Chosen Option : 2

Q.16 दो कथन दिए गए हैं और दो निष्कर्ष I और II दिए गए हैं। कथनों को सत्य मानते हुए, चाहे वे सामान्यतः ज्ञात तथ्यों से अलग प्रतीत होते हों, निश्चय कीजिए कि कौन-सा निष्कर्ष तार्किक रूप से कथनों के अनुसार है।
कथन:
कुछ घड़ियाँ, मक्का हैं।
सभी मक्के, लकड़ियाँ हैं।
निष्कर्ष:
I. कुछ घड़ियाँ, लकड़ियाँ हैं।
II. कुछ लकड़ियाँ, मक्का हैं।

- Ans
- 1. सिर्फ निष्कर्ष II कथनों के अनुसार है
 - 2. सिर्फ निष्कर्ष I कथनों के अनुसार है
 - 3. दोनों निष्कर्ष I और II कथनों के अनुसार हैं
 - 4. निष्कर्ष I और II में से कोई भी कथनों के अनुसार नहीं है

Question Type : MCQ
Question ID : 264330140142
Option 1 ID : 264330548948
Option 2 ID : 264330548947
Option 3 ID : 264330548949
Option 4 ID : 264330548950
Status : Answered
Chosen Option : 1

Q.17 दिए गए दो चिन्हों को आपस में बदलने पर निम्नलिखित में से कौनसा समीकरण सही होगा?
+ और ÷
I. $4 \div 2 + 1 - 8 \times 3 = -10$
II. $18 \div 2 - 8 + 4 \times 3 = 14$

- Ans
- 1. न तो I और न ही II
 - 2. केवल II
 - 3. I और II दोनों
 - 4. केवल I

Question Type : MCQ
Question ID : 264330139584
Option 1 ID : 264330546754
Option 2 ID : 264330546752
Option 3 ID : 264330546753
Option 4 ID : 264330546751
Status : Answered
Chosen Option : 2

Q.18 दिए गए पैटर्न का ध्यानपूर्वक अध्ययन कीजिए और उस संख्या को चुनिए जो इसमें प्रश्न चिन्ह (?) के स्थान पर आ सकती है।
पहली पंक्ति- 12, 19, 26
दूसरी पंक्ति- 28, 35, 42
तीसरी पंक्ति- 39, 46, ?

- Ans
- 1. 49
 - 2. 53
 - 3. 75
 - 4. 63

Question Type : MCQ
Question ID : 264330140026
Option 1 ID : 264330548486
Option 2 ID : 264330548483
Option 3 ID : 264330548485
Option 4 ID : 264330548484
Status : Answered
Chosen Option : 2

Q.19 उस विकल्प को चुनिए जो तीसरे शब्द से ठीक उसी तरह संबंधित है जिस तरह दूसरा शब्द पहले शब्द से संबंधित है।
परलोक : स्वर्ग :: श्रद्धा : ?

- Ans
- 1. विश्वासघात
 - 2. खजाना
 - 3. नास्तिकता
 - 4. आस्था

Question Type : MCQ
Question ID : 264330138790
Option 1 ID : 264330543768
Option 2 ID : 264330543770
Option 3 ID : 264330543767
Option 4 ID : 264330543769
Status : Answered
Chosen Option : 4

Q.20 निम्नलिखित प्रश्न में कुछ कथन दिए गए हैं और उन कथनों के आधार पर कुछ निष्कर्ष दिए गए हैं। आपको मानना है कि दिए गए कथन सत्य हैं चाहे वे सामान्यतः ज्ञात तथ्यों से अलग प्रतीत होते हों। सभी निष्कर्षों को पढ़िए और फिर निश्चय कीजिए कि दिए गए निष्कर्षों में से कौन-सा निष्कर्ष तार्किक रूप से दिए गए कथनों के अनुसार है।

कथन:

I. सभी A, Y हैं।

II. कोई Z, A नहीं है।

निष्कर्ष:

I. सभी Y, A हैं।

II. कुछ Y, A हैं।

III. कुछ A, Z हैं।

Ans

- ✓ 1. केवल निष्कर्ष II कथनों के अनुसार है
- ✗ 2. कोई भी निष्कर्ष कथनों के अनुसार नहीं है
- ✗ 3. दोनों निष्कर्ष I और III कथनों के अनुसार हैं
- ✗ 4. सभी निष्कर्ष कथनों के अनुसार हैं

Question Type : MCQ

Question ID : 264330140986

Option 1 ID : 264330552291

Option 2 ID : 264330552294

Option 3 ID : 264330552292

Option 4 ID : 264330552293

Status : Answered

Chosen Option : 1

Section : General Awareness

Q.1 फलों को कृत्रिम रूप से पकाने के लिए निम्नलिखित में से किस गैस का उपयोग किया जाता है?

Ans

- ✗ 1. फ्रीऑन (Freon)
- ✓ 2. ऐसीटिलीन (Acetylene)
- ✗ 3. आर्गन (Argon)
- ✗ 4. हीलियम

Question Type : MCQ

Question ID : 264330141051

Option 1 ID : 264330552552

Option 2 ID : 264330552553

Option 3 ID : 264330552554

Option 4 ID : 264330552551

Status : Answered

Chosen Option : 2

Q.2 प्रधानमंत्री आवास योजना-शहरी (Pradhan Mantri Awas Yojana-Urban - PMAY-U) पुरस्कार 2021 में किस राज्य को पहला स्थान मिला है?

- Ans
- 1. तमिलनाडु
 - 2. उत्तरप्रदेश
 - 3. हरियाणा
 - 4. केरल

Question Type : MCQ
Question ID : 264330139657
Option 1 ID : 264330547044
Option 2 ID : 264330547045
Option 3 ID : 264330547046
Option 4 ID : 264330547043
Status : Answered
Chosen Option : 1

Q.3 कितने भारतीय राज्य "1 नवंबर" को अपने स्थापना दिवस के रूप में मनाते हैं?

- Ans
- 1. छः
 - 2. सात
 - 3. आठ
 - 4. पाँच

Question Type : MCQ
Question ID : 264330140890
Option 1 ID : 264330551908
Option 2 ID : 264330551909
Option 3 ID : 264330551910
Option 4 ID : 264330551907
Status : Answered
Chosen Option : 1

Q.4 _____ वह ब्याज दर है जिस पर भारतीय रिजर्व बैंक (RBI) देश के व्यावसायिक बैंकों को ऋण देता है।

- Ans
- 1. रेपो दर
 - 2. रिवर्स रेपो दर
 - 3. सीमांत दर
 - 4. आधार दर

Question Type : MCQ
Question ID : 264330140955
Option 1 ID : 264330552168
Option 2 ID : 264330552169
Option 3 ID : 264330552167
Option 4 ID : 264330552170
Status : Answered
Chosen Option : 1

Q.5 भगत सिंह को 23 मार्च, 1931 को _____ के साथ फांसी दी गई थी।

- Ans
- 1. बी.के. दत्त और राजगुरु
 - 2. सुखदेव और राजगुरु
 - 3. सुखदेव और चंद्रशेखर आजाद
 - 4. सुखदेव और बी.के. दत्त

Question Type : MCQ
Question ID : 264330138970
Option 1 ID : 264330544488
Option 2 ID : 264330544489
Option 3 ID : 264330544490
Option 4 ID : 264330544487
Status : Answered
Chosen Option : 2

Q.6 वर्ष 1900 में, भारत ने ओलंपिक खेलों में भाग लिया था जो _____ में आयोजित किए गए थे।

- Ans
- 1. पेरिस
 - 2. बर्लिन
 - 3. टोक्यो
 - 4. एथेंस

Question Type : MCQ
Question ID : 264330139869
Option 1 ID : 264330547855
Option 2 ID : 264330547857
Option 3 ID : 264330547856
Option 4 ID : 264330547858
Status : Answered
Chosen Option : 2

Q.7 निम्नलिखित शास्त्रीय नर्तकों में से कौन उड़ीसा के पहले ऐसे नर्तक थे जिसे पद्म विभूषण से सम्मानित किया गया था?

- Ans
- 1. पंकज चरण दास
 - 2. देब प्रसाद दास
 - 3. केलुचरण महापात्र
 - 4. रघुनाथ दत्ता

Question Type : MCQ
Question ID : 264330139730
Option 1 ID : 264330547338
Option 2 ID : 264330547337
Option 3 ID : 264330547335
Option 4 ID : 264330547336
Status : Answered
Chosen Option : 3

Q.8 वाइटमैन कप (Wightman Cup) निम्नलिखित में से किस खेल से संबंधित है?

- Ans
- 1. हॉकी
 - 2. टेनिस
 - 3. गोल्फ़
 - 4. क्रिकेट

Question Type : MCQ
Question ID : 264330140365
Option 1 ID : 264330549839
Option 2 ID : 264330549840
Option 3 ID : 264330549842
Option 4 ID : 264330549841
Status : Answered
Chosen Option : 4

Q.9 रक्त पट्टिकाणु (प्लेटलेट्स) को _____ के नाम से भी जाना जाता है।

- Ans
- 1. ल्युकोसाइट (leucocytes)
 - 2. एरिथ्रोसाइट्स (erythrocytes)
 - 3. थ्रोम्बोसाइट (thrombocytes)
 - 4. थ्रोम्बिन (thrombin)

Question Type : MCQ
Question ID : 264330140682
Option 1 ID : 264330551075
Option 2 ID : 264330551078
Option 3 ID : 264330551076
Option 4 ID : 264330551077
Status : Answered
Chosen Option : 3

Q.10 निम्नलिखित में से कौन-सी पर्वत श्रृंखला भारत में सबसे पुरानी है?

- Ans
- 1. सतपुड़ा और विंध्य पर्वतमाला
 - 2. पश्चिमी घाट
 - 3. पूर्वांचल पर्वतमाला
 - 4. अरावली पर्वतमाला

Question Type : MCQ
Question ID : 264330140377
Option 1 ID : 264330549887
Option 2 ID : 264330549889
Option 3 ID : 264330549890
Option 4 ID : 264330549888
Status : Answered
Chosen Option : 4

Q.11 किस लोदी शासक (1489 ई.से 1517 ई.से) का वास्तविक नाम निज़ाम खां था?

Ans ✓ 1. सिकंदर लोदी (Sikandar Lodi)

✗ 2. बहलोल लोदी (Bahlul Lodi)

✗ 3. कुतुबुद्दीन मुबारक शाह (Qutbuddin Mubarak Shah)

✗ 4. इब्राहिम लोदी (Ibrahim Lodi)

Question Type : MCQ

Question ID : 264330140920

Option 1 ID : 264330552030

Option 2 ID : 264330552029

Option 3 ID : 264330552028

Option 4 ID : 264330552027

Status : Answered

Chosen Option : 2

Q.12 डॉ. बी.आर. अम्बेडकर का संबंध निम्नलिखित में से किस समुदाय से था?

Ans ✗ 1. संथाल (Santal)

✗ 2. बरार (Berar)

✓ 3. महार (Mahar)

✗ 4. सांगोई (Sangoi)

Question Type : MCQ

Question ID : 264330139771

Option 1 ID : 264330547501

Option 2 ID : 264330547500

Option 3 ID : 264330547499

Option 4 ID : 264330547502

Status : Answered

Chosen Option : 3

Q.13 The music of Bharatanatyam belongs to _____ of southern India.

Ans ✗ 1. Hindustani system

✗ 2. Fusion system

✓ 3. Carnatic system

✗ 4. Folk system

Question Type : MCQ

Question ID : 264330139648

Option 1 ID : 264330547008

Option 2 ID : 264330547009

Option 3 ID : 264330547007

Option 4 ID : 264330547010

Status : Answered

Chosen Option : 3

Q.14 निम्नलिखित में से कौन-सा कारक जनसंख्या के वितरण को प्रभावित कर सकता है?

- I. भौगोलिक कारक
- II. सामाजिक कारक
- III. सांस्कृतिक कारक
- IV. आर्थिक कारक

- Ans
- 1. केवल I और II
 - 2. I, II, III और IV
 - 3. केवल I, II, III
 - 4. केवल II और III

Question Type : MCQ

Question ID : 264330140901

Option 1 ID : 264330551951

Option 2 ID : 264330551954

Option 3 ID : 264330551952

Option 4 ID : 264330551953

Status : Answered

Chosen Option : 2

Q.15 असम में वार्षिक फसलों की कटाई शुरू होने पर कौन-सा त्योहार मनाया जाता है?

- Ans
- 1. मकरविलक्कू
 - 2. पोंगल
 - 3. माघ बिहू
 - 4. लोहड़ी

Question Type : MCQ

Question ID : 264330140754

Option 1 ID : 264330551365

Option 2 ID : 264330551364

Option 3 ID : 264330551366

Option 4 ID : 264330551363

Status : Answered

Chosen Option : 3

Q.16 श्रीलंका भारत से _____ द्वारा अलग होता है।

- Ans
- 1. बेरिंग जलडमरूमध्य (Bering strait)
 - 2. मलक्का जलडमरूमध्य (Malacca strait)
 - 3. पाक जलडमरूमध्य (Palk strait)
 - 4. जिब्राल्टर जलडमरूमध्य (Strait of Gibraltar)

Question Type : MCQ
Question ID : 264330139742
Option 1 ID : 264330547383
Option 2 ID : 264330547384
Option 3 ID : 264330547386
Option 4 ID : 264330547385
Status : Answered
Chosen Option : 3

Q.17 हिमालय की सबसे बाहरी श्रृंखला को _____ कहा जाता है।

- Ans
- 1. हिमवत
 - 2. शिवालिक
 - 3. हिमाद्री
 - 4. कोंकण

Question Type : MCQ
Question ID : 264330140914
Option 1 ID : 264330552003
Option 2 ID : 264330552005
Option 3 ID : 264330552004
Option 4 ID : 264330552006
Status : Answered
Chosen Option : 2

Q.18 उच्च न्यायालयों की कुछ रिट (writs) जारी करने की शक्ति भारतीय संविधान के किस अनुच्छेद के तहत शामिल की गई है?

- Ans
- 1. अनुच्छेद 224
 - 2. अनुच्छेद 220
 - 3. अनुच्छेद 222
 - 4. अनुच्छेद 226

Question Type : MCQ
Question ID : 264330138982
Option 1 ID : 264330544537
Option 2 ID : 264330544535
Option 3 ID : 264330544536
Option 4 ID : 264330544538
Status : Answered
Chosen Option : 4

Q.19 वर्ष 2011 की जनगणना के अनुसार भारत में सर्वाधिक जनसंख्या घनत्व _____ का है।

- Ans
- 1. मध्यप्रदेश
 - 2. बिहार
 - 3. दिल्ली राष्ट्रीय राजधानी क्षेत्र
 - 4. केंद्र शासित प्रदेश चंडीगढ़

Question Type : MCQ
Question ID : 264330139692
Option 1 ID : 264330547183
Option 2 ID : 264330547184
Option 3 ID : 264330547186
Option 4 ID : 264330547185
Status : Answered
Chosen Option : 3

Q.20 भीमबेटका के शैलाश्रय किस पर्वत की तलहटी में स्थित हैं?

- Ans
- 1. जास्कर
 - 2. सतपुड़ा
 - 3. विंध्य
 - 4. पीर पंजाल

Question Type : MCQ
Question ID : 264330139675
Option 1 ID : 264330547118
Option 2 ID : 264330547116
Option 3 ID : 264330547115
Option 4 ID : 264330547117
Status : Answered
Chosen Option : 2

Q.21 निम्नलिखित में से कौन एक प्रसिद्ध भारतीय शहनाई वादक हैं जिन्हें वर्ष 2001 में भारत रत्न से सम्मानित किया गया था?

- Ans
- 1. उस्ताद जाकिर हुसैन
 - 2. पंडित रविशंकर
 - 3. पंडित शिवकुमार शर्मा
 - 4. उस्ताद बिस्मिल्लाह खां

Question Type : MCQ
Question ID : 264330140719
Option 1 ID : 264330551226
Option 2 ID : 264330551224
Option 3 ID : 264330551225
Option 4 ID : 264330551223
Status : Answered
Chosen Option : 3

Q.22 निम्नलिखित में से कौन 'रिवर ऑफ स्मोक (River of Smoke)' उपन्यास के लेखक हैं?

- Ans
- 1. बी.बी. लाल
 - 2. मनोहर मालगांवकर
 - 3. अमिताव घोष
 - 4. जीत थायिल

Question Type : MCQ
Question ID : 264330138951
Option 1 ID : 264330544412
Option 2 ID : 264330544411
Option 3 ID : 264330544414
Option 4 ID : 264330544413
Status : Answered
Chosen Option : 1

Q.23 भारतीय संविधान के निम्नलिखित में से किस अनुच्छेद में मौलिक कर्तव्य, "भारत की संप्रभुता, एकता और अखंडता" का उल्लेख है?

- Ans
- 1. अनुच्छेद 51A (b)
 - 2. अनुच्छेद 51A (d)
 - 3. अनुच्छेद 51A (e)
 - 4. अनुच्छेद 51A (c)

Question Type : MCQ
Question ID : 264330139735
Option 1 ID : 264330547355
Option 2 ID : 264330547357
Option 3 ID : 264330547358
Option 4 ID : 264330547356
Status : Answered
Chosen Option : 1

Q.24 नवंबर 2022 की स्थिति के अनुसार, भारत के पड़ोसी देश भूटान की राजधानी क्या है?

- Ans
- 1. पारो (Paro)
 - 2. थिम्पू
 - 3. बीजिंग
 - 4. ढाका

Question Type : MCQ
Question ID : 264330140739
Option 1 ID : 264330551306
Option 2 ID : 264330551304
Option 3 ID : 264330551303
Option 4 ID : 264330551305
Status : Answered
Chosen Option : 2

Q.25 कौन-सा रोग आहार में प्रोटीन की कमी से होता है?

- Ans
- 1. पीलिया (Jaundice)
 - 2. स्कर्वी (Scurvy)
 - 3. सूखा रोग (Rickets)
 - 4. क्वाशिओरकर (Kwashiorkor)

Question Type : MCQ
Question ID : 264330140374
Option 1 ID : 264330549877
Option 2 ID : 264330549876
Option 3 ID : 264330549878
Option 4 ID : 264330549875
Status : Answered
Chosen Option : 4

Section : English Language and Comprehension

Q.1 Select the most appropriate option to fill in the blank.

My friends, being incredibly nerdy linguists, _____ to make fun of the syntax.

- Ans
- 1. stalked
 - 2. braided
 - 3. traded
 - 4. decided

Question Type : MCQ
Question ID : 264330136559
Option 1 ID : 264330534972
Option 2 ID : 264330534971
Option 3 ID : 264330534973
Option 4 ID : 264330534974
Status : Answered
Chosen Option : 4

Q.2 Improve the underlined part of the sentence. Choose 'No improvement' as an answer if the sentence is grammatically correct.

He teaches me algebraic and geometry twice a week.

- Ans
- 1. taught I algebra
 - 2. No improvement
 - 3. taught me algebra
 - 4. teach me algebraic

Question Type : MCQ
Question ID : 264330135514
Option 1 ID : 264330530965
Option 2 ID : 264330530966
Option 3 ID : 264330530963
Option 4 ID : 264330530964
Status : Answered
Chosen Option : 3

Q.3 Choose the incorrectly spelt word.

- Ans** ✓ 1. Graetar
✗ 2. Frame
✗ 3. Decrease
✗ 4. Rocking

Question Type : **MCQ**
Question ID : **264330135659**
Option 1 ID : **264330531534**
Option 2 ID : **264330531532**
Option 3 ID : **264330531531**
Option 4 ID : **264330531533**
Status : **Answered**
Chosen Option : **1**

Q.4 Four sentences are given, out of which three have spelling errors. Choose the sentence with all correctly spelt words.

- Ans** ✗ 1.
Moving between floors, their journey seems both improbable and inevitable.
✗ 2.
The Secretary requested to be informed only as necessary to perform his job.
✓ 3.
The extended phenotype is noticeable when we look at parasites.
✗ 4. They predicted a similarly miniscule drop for September.

Question Type : **MCQ**
Question ID : **264330136184**
Option 1 ID : **264330533533**
Option 2 ID : **264330533532**
Option 3 ID : **264330533531**
Option 4 ID : **264330533534**
Status : **Answered**
Chosen Option : **3**

Q.5 Find the part of the given sentence that has an error in it. If there is no error, choose 'No error'.

Land management choices also affect the amount of carbon stored on trees.

- Ans** ✗ 1. also affect the amount of
✗ 2. No error
✗ 3. Land management choices
✓ 4. carbon stored on trees.

Question Type : **MCQ**
Question ID : **264330135152**
Option 1 ID : **264330529544**
Option 2 ID : **264330529546**
Option 3 ID : **264330529543**
Option 4 ID : **264330529545**
Status : **Answered**
Chosen Option : **4**

Q.6 Select the most appropriate option to fill in the blank.

Indonesian police fired warning shots, tear gas and water cannon to try and _____ the crowd.

- Ans**
- 1. Delimit
 - 2. Deleterious
 - 3. Disperse
 - 4. Discrete

Question Type : **MCQ**
Question ID : **264330136541**
Option 1 ID : **264330534905**
Option 2 ID : **264330534903**
Option 3 ID : **264330534904**
Option 4 ID : **264330534906**
Status : **Answered**
Chosen Option : **3**

Q.7 Select the word segment that substitutes (replaces) the bracketed word segment correctly and completes the sentence meaningfully. Select the option 'no correction required' if the sentence is correct as given.
(Then got of on) a station in the very heart of London.

- Ans**
- 1. They got off at
 - 2. They got of by
 - 3. No correction required
 - 4. They got off on

Question Type : **MCQ**
Question ID : **264330136113**
Option 1 ID : **264330533259**
Option 2 ID : **264330533260**
Option 3 ID : **264330533262**
Option 4 ID : **264330533261**
Status : **Answered**
Chosen Option : **1**

Q.8 Fill in the blank with the most appropriate option.

They bought _____ tickets instead from a sleepy-looking guard.

- Ans**
- 1. there
 - 2. their
 - 3. dare
 - 4. dire

Question Type : **MCQ**
Question ID : **264330136186**
Option 1 ID : **264330533540**
Option 2 ID : **264330533539**
Option 3 ID : **264330533541**
Option 4 ID : **264330533542**
Status : **Answered**
Chosen Option : **2**

Q.9 Select the most appropriate synonym to substitute the bracketed word in the given sentence.

Spreading from the ports, Formosan termites began a (subterranean) colonization of the country.

- Ans**
- 1. Terrestrial
 - 2. Underground
 - 3. Overt
 - 4. Subcutaneous

Question Type : **MCQ**
Question ID : **264330136361**
Option 1 ID : **264330534213**
Option 2 ID : **264330534212**
Option 3 ID : **264330534211**
Option 4 ID : **264330534214**
Status : **Answered**
Chosen Option : 1

Q.10 Select the most appropriate meaning of the given idiom.

Add fuel to the fire

- Ans**
- 1. A mistake made in something you are trying to achieve
 - 2. To make an argument or bad situation worse
 - 3. Having to start all over again
 - 4. When an attempt fails and it's time to start all over

Question Type : **MCQ**
Question ID : **264330136503**
Option 1 ID : **264330534758**
Option 2 ID : **264330534755**
Option 3 ID : **264330534756**
Option 4 ID : **264330534757**
Status : **Answered**
Chosen Option : 2

Q.11 Select the most appropriate antonym of the given word.

Glamour

- Ans**
- 1. Dullness
 - 2. Magnanimous
 - 3. Charm
 - 4. Appeal

Question Type : **MCQ**
Question ID : **264330136579**
Option 1 ID : **264330535047**
Option 2 ID : **264330535050**
Option 3 ID : **264330535049**
Option 4 ID : **264330535048**
Status : **Answered**
Chosen Option : 1

Q.12 Select the appropriate synonym for the underlined word.

I mean that is a remarkable finding.

- Ans
- 1. standard
 - 2. subtle
 - 3. noticeable
 - 4. Dim

Question Type : MCQ
Question ID : 264330135551
Option 1 ID : 264330531103
Option 2 ID : 264330531104
Option 3 ID : 264330531105
Option 4 ID : 264330531106
Status : Answered
Chosen Option : 3

Q.13 In the following question, out of the given four alternatives, select the alternative which best expresses the meaning of the Idiom/Phrase.

To pick holes in someone's coat

- Ans
- 1. To find fault with someone
 - 2. To deceive someone for personal gain
 - 3. To aspire for something difficult
 - 4. To discharge one's duty well

Question Type : MCQ
Question ID : 264330135251
Option 1 ID : 264330529925
Option 2 ID : 264330529926
Option 3 ID : 264330529924
Option 4 ID : 264330529923
Status : Answered
Chosen Option : 1

Q.14 Identify the segment that contains a grammatical error. If there is no error, select 'No error'.

Do you think I'd rather / be stuck in a room with that old / toad or be played Quidditch?

- Ans
- 1. Do you think I'd rather
 - 2. No error
 - 3. toad or be played Quidditch?
 - 4. be stuck in a room with that old

Question Type : MCQ
Question ID : 264330136137
Option 1 ID : 264330533351
Option 2 ID : 264330533354
Option 3 ID : 264330533353
Option 4 ID : 264330533352
Status : Answered
Chosen Option : 4

Q.15 Select the word segment that substitutes (replaces) the bracketed word segment correctly and completes the sentence meaningfully. Select the option 'no correction required' if the sentence is correct as given.
We saw him (the more) during Hogsmeade weekend.

- Ans**
- 1. the many
 - 2. the most
 - 3. the bigger
 - 4. No correction required

Question Type : **MCQ**
Question ID : **264330136165**
Option 1 ID : **264330533459**
Option 2 ID : **264330533460**
Option 3 ID : **264330533461**
Option 4 ID : **264330533462**
Status : **Answered**
Chosen Option : **2**

Q.16 Identify the segment that contains a grammatical error. If there is no error, select 'No error'.

For example, the parent mountain/ of Mont Blanc, the/ high peak in the Alps, is the Mount Everest.

- Ans**
- 1. high peak in the Alps, is the Mount Everest.
 - 2. For example, the parent mountain
 - 3. of Mont Blanc, the
 - 4. No error

Question Type : **MCQ**
Question ID : **264330136484**
Option 1 ID : **264330534685**
Option 2 ID : **264330534683**
Option 3 ID : **264330534684**
Option 4 ID : **264330534686**
Status : **Answered**
Chosen Option : **1**

Q.17 Choose the word that can substitute the given group of words.

Fit to drink

- Ans**
- 1. Ostensible
 - 2. Potable
 - 3. Deplorable
 - 4. Liable

Question Type : **MCQ**
Question ID : **264330135166**
Option 1 ID : **264330529598**
Option 2 ID : **264330529597**
Option 3 ID : **264330529595**
Option 4 ID : **264330529596**
Status : **Answered**
Chosen Option : **2**

Q.18 Select the most appropriate word for the given group of words.

A person who likes or admires women

- Ans
- 1. Polyglot
 - 2. Conversationalist
 - 3. Misogynist
 - 4. Philogynist

Question Type : MCQ
Question ID : 264330135834
Option 1 ID : 264330532204
Option 2 ID : 264330532203
Option 3 ID : 264330532206
Option 4 ID : 264330532205
Status : Answered
Chosen Option : 3

Q.19 Select the most appropriate antonym to substitute the bracketed word in the given sentence.

For high-moisture areas, like kitchens and baths or where (frequent) cleaning is required, use only oil-based.

- Ans
- 1. confirmed
 - 2. constant
 - 3. seldom
 - 4. dawdle

Question Type : MCQ
Question ID : 264330135682
Option 1 ID : 264330531619
Option 2 ID : 264330531620
Option 3 ID : 264330531621
Option 4 ID : 264330531622
Status : Answered
Chosen Option : 2

Q.20 Select the most appropriate option to fill in the blank.

Nickel or brass can cause an allergic reaction when in _____ with human skin .

- Ans
- 1. parallel
 - 2. contact
 - 3. accordance
 - 4. surface

Question Type : MCQ
Question ID : 264330136750
Option 1 ID : 264330535710
Option 2 ID : 264330535708
Option 3 ID : 264330535707
Option 4 ID : 264330535709
Status : Answered
Chosen Option : 2

Comprehension:

In the following passage some words have been deleted. Fill in the blanks with the help of the alternatives given. Select the most appropriate option for each number.

A loud, echoing crack broke the sleepy (1) _____ like a gunshot; a cat streaked out (2) _____ a parked car and flew out of sight; a shriek, a bellowed oath and the (3) _____ of breaking (4) _____ came from the Paula's living room, and as (5) _____ this was the signal Mansi had been waiting for.

SubQuestion No : 21

Q.21 Select the most appropriate option to fill in the blank No. 1.

- Ans**
- 1. silence
 - 2. blackout
 - 3. blast
 - 4. lull

Question Type : **MCQ**

Question ID : **264330136118**

Option 1 ID : **264330533276**

Option 2 ID : **264330533275**

Option 3 ID : **264330533278**

Option 4 ID : **264330533277**

Status : **Answered**

Chosen Option : **1**

Comprehension:

In the following passage some words have been deleted. Fill in the blanks with the help of the alternatives given. Select the most appropriate option for each number.

A loud, echoing crack broke the sleepy (1) _____ like a gunshot; a cat streaked out (2) _____ a parked car and flew out of sight; a shriek, a bellowed oath and the (3) _____ of breaking (4) _____ came from the Paula's living room, and as (5) _____ this was the signal Mansi had been waiting for.

SubQuestion No : 22

Q.22 Select the most appropriate option to fill in the blank No. 2.

- Ans**
- 1. side under
 - 2. by under
 - 3. from under
 - 4. from over

Question Type : **MCQ**

Question ID : **264330136119**

Option 1 ID : **264330533282**

Option 2 ID : **264330533280**

Option 3 ID : **264330533281**

Option 4 ID : **264330533279**

Status : **Answered**

Chosen Option : **3**

Comprehension:

In the following passage some words have been deleted. Fill in the blanks with the help of the alternatives given. Select the most appropriate option for each number.

A loud, echoing crack broke the sleepy (1) _____ like a gunshot; a cat streaked out (2) _____ a parked car and flew out of sight; a shriek, a bellowed oath and the (3) _____ of breaking (4) _____ came from the Paula's living room, and as (5) _____ this was the signal Mansi had been waiting for.

SubQuestion No : 23

Q.23 Select the most appropriate option to fill in the blank No. 3.

- Ans**
- 1. vibrant
 - 2. sound
 - 3. intact
 - 4. flawless

Question Type : **MCQ**

Question ID : **264330136120**

Option 1 ID : **264330533285**

Option 2 ID : **264330533286**

Option 3 ID : **264330533284**

Option 4 ID : **264330533283**

Status : **Answered**

Chosen Option : **2**

Comprehension:

In the following passage some words have been deleted. Fill in the blanks with the help of the alternatives given. Select the most appropriate option for each number.

A loud, echoing crack broke the sleepy (1) _____ like a gunshot; a cat streaked out (2) _____ a parked car and flew out of sight; a shriek, a bellowed oath and the (3) _____ of breaking (4) _____ came from the Paula's living room, and as (5) _____ this was the signal Mansi had been waiting for.

SubQuestion No : 24

Q.24 Select the most appropriate option to fill in the blank No. 4.

- Ans**
- 1. heart
 - 2. atrocity
 - 3. tyre
 - 4. china

Question Type : **MCQ**

Question ID : **264330136121**

Option 1 ID : **264330533289**

Option 2 ID : **264330533290**

Option 3 ID : **264330533287**

Option 4 ID : **264330533288**

Status : **Answered**

Chosen Option : **1**

Comprehension:

In the following passage some words have been deleted. Fill in the blanks with the help of the alternatives given. Select the most appropriate option for each number.

A loud, echoing crack broke the sleepy (1) _____ like a gunshot; a cat streaked out (2) _____ a parked car and flew out of sight; a shriek, a bellowed oath and the (3) _____ of breaking (4) _____ came from the Paula's living room, and as (5) _____ this was the signal Mansi had been waiting for.

SubQuestion No : 25

Q.25 Select the most appropriate option to fill in the blank No. 5.

- Ans**
- 1. through
 - 2. like
 - 3. though
 - 4. throughout

Question Type : **MCQ**

Question ID : **264330136122**

Option 1 ID : **264330533293**

Option 2 ID : **264330533292**

Option 3 ID : **264330533291**

Option 4 ID : **264330533294**

Status : **Answered**

Chosen Option : **3**