

Multi Tasking Non Technical Staff and Havaladar CBIC and CBN Examination 2022

Roll Number	
Candidate Name	
Venue Name	iON Digital Zone iDZ Hamirpur
Exam Date	16/06/2023
Exam Time	12:00 PM - 2:00 PM
Subject	MTS Non Tech Havaladar CBIC and CBN Examination 2022

Section : Numerical and Mathematical Ability

Q.1 1 kg चावल के मूल्य में 50 प्रतिशत की वृद्धि होती है और चावल का पुराना मूल्य Rs.60 है। चावल का नया (प्रति किलोग्राम) मूल्य क्या है?

- Ans
- ✓ 1. Rs. 90
 - ✗ 2. Rs. 80
 - ✗ 3. Rs. 60
 - ✗ 4. Rs. 72

Question Type : MCQ

Question ID : 264330140244

Option 1 ID : 264330549358

Option 2 ID : 264330549356

Option 3 ID : 264330549355

Option 4 ID : 264330549357

Status : Answered

Chosen Option : 1

Q.2 A अकेले एक डिवाइडर का निर्माण 60 दिनों में कर सकता है, जबकि B अकेले इसका निर्माण 80 दिनों में कर सकता है। यदि वे इसे साथ मिलकर बनाते हैं और उन्हें Rs. 7000 मिलते हैं, तो इसमें B का हिस्सा कितना है?

- Ans
- ✓ 1. Rs. 3000
 - ✗ 2. Rs. 2880
 - ✗ 3. Rs. 3500
 - ✗ 4. Rs. 3200

Question Type : MCQ

Question ID : 264330140790

Option 1 ID : 264330551508

Option 2 ID : 264330551507

Option 3 ID : 264330551509

Option 4 ID : 264330551510

Status : Answered

Chosen Option : 1

Q.3 500 लीटर ऐल्कोहॉल (alcohol) और पानी के मिश्रण में 20 प्रतिशत पानी है। इसमें और कितना पानी मिलाया जाए कि नए मिश्रण में पानी 50 प्रतिशत हो जाए?

- Ans
- ✓ 1. 300 लीटर
 - ✗ 2. 350 लीटर
 - ✗ 3. 450 लीटर
 - ✗ 4. 400 लीटर

Question Type : MCQ

Question ID : 264330140222

Option 1 ID : 264330549270

Option 2 ID : 264330549268

Option 3 ID : 264330549267

Option 4 ID : 264330549269

Status : Answered

Chosen Option : 1

Q.4 एक निश्चित राशि पर 20 प्रतिशत वार्षिक दर से 2 वर्ष का चक्रवृद्धि ब्याज (वार्षिक रूप से संयोजित) Rs. 2420 है। समान राशि और समान ब्याज दर पर 3 वर्ष का साधारण ब्याज कितना होगा?

- Ans
- ✓ 1. Rs. 3300
 - ✗ 2. Rs. 3000
 - ✗ 3. Rs. 4200
 - ✗ 4. Rs. 3800

Question Type : MCQ

Question ID : 264330140594

Option 1 ID : 264330550727

Option 2 ID : 264330550728

Option 3 ID : 264330550730

Option 4 ID : 264330550729

Status : Answered

Chosen Option : 1

Q.5 $\frac{132}{11} \times \frac{13}{12} \div \frac{169}{14} - \frac{1}{13}$ का मान क्या है?

- Ans
- ✗ 1. 5
 - ✗ 2. 6
 - ✓ 3. 1
 - ✗ 4. 3

Question Type : MCQ

Question ID : 264330140579

Option 1 ID : 264330550669

Option 2 ID : 264330550670

Option 3 ID : 264330550667

Option 4 ID : 264330550668

Status : Answered

Chosen Option : 3

Q.6 दो पाइप अकेले एक टंकी को क्रमशः 20 घंटे और 24 घंटे में भर सकते हैं और एक निकासी पाइप अकेले प्रति घंटे 20 गैलन (gallons) पानी खाली कर सकता है। तीनों पाइप एक साथ काम करते हुए उसी खाली टंकी को 40 घंटे में भर सकते हैं। टंकी की क्षमता (धारिता) कितनी है?

- Ans
- 1. 450 गैलन
 - 2. 600 गैलन
 - 3. 300 गैलन
 - 4. 480 गैलन

Question Type : MCQ

Question ID : 264330140240

Option 1 ID : 264330549340

Option 2 ID : 264330549341

Option 3 ID : 264330549339

Option 4 ID : 264330549342

Status : Not Answered

Chosen Option : --

Q.7 यदि $P : Q : R = 4 : 7 : 9$ और $R : S = 2 : 5$ है, तो $P : S$ का मान क्या है?

- Ans
- 1. 8 : 45
 - 2. 1 : 5
 - 3. 9 : 57
 - 4. 10 : 43

Question Type : MCQ

Question ID : 264330140591

Option 1 ID : 264330550718

Option 2 ID : 264330550717

Option 3 ID : 264330550715

Option 4 ID : 264330550716

Status : Answered

Chosen Option : 1

Q.8 दो गोलों की त्रिज्याओं का अनुपात 1 : 5 है। दोनों गोलों के आयतनों का अनुपात क्या है?

- Ans
- 1. 1 : 25
 - 2. 1 : 64
 - 3. 1 : 125
 - 4. 8 : 27

Question Type : MCQ

Question ID : 264330140546

Option 1 ID : 264330550541

Option 2 ID : 264330550542

Option 3 ID : 264330550540

Option 4 ID : 264330550539

Status : Answered

Chosen Option : 3

Q.9 एक घनाभ की लंबाई और चौड़ाई का योग 16 cm है। यदि घनाभ की ऊँचाई उसकी लंबाई और चौड़ाई के योग का $\frac{1}{4}$ भाग है, तो घनाभ का पार्श्व पृष्ठीय क्षेत्रफल क्या है?

- Ans
- ✓ 1. 128 cm^2
 - ✗ 2. 156 cm^2
 - ✗ 3. 96 cm^2
 - ✗ 4. 196 cm^2

Question Type : MCQ
Question ID : 264330139924
Option 1 ID : 264330548076
Option 2 ID : 264330548077
Option 3 ID : 264330548078
Option 4 ID : 264330548075
Status : Not Answered
Chosen Option : --

Q.10 एक वस्तु का अंकित मूल्य उसके क्रय मूल्य का 160 प्रतिशत है। यदि 30 प्रतिशत का बट्टा दिया जाता है, तो लाभ प्रतिशत क्या होगा?

- Ans
- ✗ 1. 10 प्रतिशत
 - ✗ 2. 15 प्रतिशत
 - ✗ 3. 14 प्रतिशत
 - ✓ 4. 12 प्रतिशत

Question Type : MCQ
Question ID : 264330139620
Option 1 ID : 264330546895
Option 2 ID : 264330546896
Option 3 ID : 264330546898
Option 4 ID : 264330546897
Status : Answered
Chosen Option : 4

Q.11 विक्रय मूल्य और क्रय मूल्य का अनुपात 9 : 8 है। लाभ प्रतिशत कितना है?

- Ans
- ✗ 1. 15 प्रतिशत
 - ✗ 2. 10.5 प्रतिशत
 - ✓ 3. 12.5 प्रतिशत
 - ✗ 4. 20 प्रतिशत

Question Type : MCQ
Question ID : 264330139957
Option 1 ID : 264330548207
Option 2 ID : 264330548210
Option 3 ID : 264330548208
Option 4 ID : 264330548209
Status : Answered
Chosen Option : 3

Q.12 किसी धनराशि पर 8 प्रतिशत वार्षिक दर से आठ माह का साधारण ब्याज Rs.240 है। वह धनराशि है:

- Ans
- ✓ 1. Rs. 4500
 - ✗ 2. Rs. 7200
 - ✗ 3. Rs. 6000
 - ✗ 4. Rs. 7500

Question Type : MCQ

Question ID : 264330139618

Option 1 ID : 264330546890

Option 2 ID : 264330546889

Option 3 ID : 264330546888

Option 4 ID : 264330546887

Status : Answered

Chosen Option : 1

Q.13 सुनील ने 2 घंटे, 50 मील प्रति घंटे की चाल से गाड़ी चलाई और फिर 3 घंटे, 60 मील प्रति घंटे की चाल से गाड़ी चलाई। पूरी यात्रा में उसकी औसत चाल क्या थी?

- Ans
- ✗ 1. 50 मील प्रति घंटे
 - ✗ 2. 52 मील प्रति घंटे
 - ✗ 3. 55 मील प्रति घंटे
 - ✓ 4. 56 मील प्रति घंटे

Question Type : MCQ

Question ID : 264330140801

Option 1 ID : 264330551554

Option 2 ID : 264330551551

Option 3 ID : 264330551552

Option 4 ID : 264330551553

Status : Answered

Chosen Option : 4

Q.14 दो संख्याओं का योग 45 है। उनका महत्तम समापवर्तक (HCF) और लघुत्तम समापवर्त्य (LCM) क्रमशः 5 और 70 है। दो संख्याओं के व्युत्क्रम का योग ज्ञात कीजिए।

- Ans
- ✗ 1. 3/140
 - ✓ 2. 9/70
 - ✗ 3. 3/16
 - ✗ 4. 4/35

Question Type : MCQ

Question ID : 264330139623

Option 1 ID : 264330546907

Option 2 ID : 264330546908

Option 3 ID : 264330546910

Option 4 ID : 264330546909

Status : Answered

Chosen Option : 2

Q.15 P और Q समान बिंदु से और समान समय पर क्रमशः 20 km/hr और 16 km/hr की चाल से चलना शुरू करते हैं। यदि वे दोनों समान दिशा में चलते हैं, तो 4 घंटे बाद P और Q के बीच की दूरी कितनी होगी?

- Ans
- 1. 15 km
 - 2. 12 km
 - 3. 16 km
 - 4. 20 km

Question Type : MCQ

Question ID : 264330140834

Option 1 ID : 264330551684

Option 2 ID : 264330551683

Option 3 ID : 264330551685

Option 4 ID : 264330551686

Status : Answered

Chosen Option : 3

Q.16 $\sqrt{0.48 \times 0.48 + 0.25 \times 0.25 + 0.5 \times 0.48}$ का मान क्या है?

- Ans
- 1. 0.63
 - 2. 0.73
 - 3. 0.83
 - 4. 0.93

Question Type : MCQ

Question ID : 264330140256

Option 1 ID : 264330549405

Option 2 ID : 264330549403

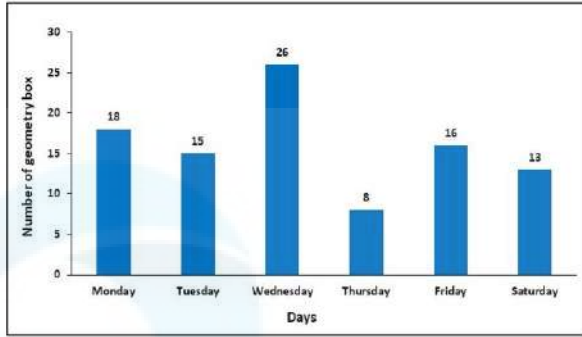
Option 3 ID : 264330549404

Option 4 ID : 264330549406

Status : Not Answered

Chosen Option : --

Q.17 निम्नलिखित दंड आलेख में 6 दिनों में एक स्टेशनरी की दुकान द्वारा की गई जियॉमेट्री बॉक्स की बिक्री को दर्शाया गया है। प्रति दिन औसत बिक्री कितनी है?



Number of geometry box - जियॉमेट्री बॉक्स की संख्या, Days - दिन, Monday- सोमवार, Tuesday - मंगलवार, Wednesday - बुधवार, Thursday - गुरुवार, Friday - शुक्रवार, Saturday - शनिवार,

- Ans
- ✓ 1. 16
 - ✗ 2. 20
 - ✗ 3. 15
 - ✗ 4. 18

Question Type : MCQ

Question ID : 264330140838

Option 1 ID : 264330551699

Option 2 ID : 264330551702

Option 3 ID : 264330551701

Option 4 ID : 264330551700

Status : Answered

Chosen Option : 1

Q.18 नीचे दी गई तालिका में 6 वर्षों में दो कंपनियों द्वारा किए गए टैक्स की उत्पादन को दर्शाया गया है।

वर्ष	A	B
Y1	800	1300
Y2	500	1000
Y3	700	800
Y4	1200	400
Y5	900	300
Y6	600	500

निम्नलिखित में से कौन-सा कथन सही नहीं है?

- I. वर्ष Y1 में A द्वारा किया गया टैक्स का उत्पादन, वर्ष Y2 में B द्वारा किए गए टैक्स के उत्पादन से 20 प्रतिशत अधिक है।
- II. वर्ष Y3 और Y4 में A द्वारा किए गए टैक्स के कुल उत्पादन और वर्ष Y5 और Y6 में B द्वारा किए गए टैक्स के कुल उत्पादन का अनुपात 8 : 19 है।

- Ans
- ✓ 1. I और II दोनों
 - ✗ 2. केवल I
 - ✗ 3. न तो I और न ही II
 - ✗ 4. केवल II

Question Type : MCQ

Question ID : 264330140211

Option 1 ID : 264330549225

Option 2 ID : 264330549223

Option 3 ID : 264330549226

Option 4 ID : 264330549224

Status : Answered

Chosen Option : 1

Q.19 एक जैकेट को Rs.3860 में बेचने पर अर्जित लाभ उसी जैकेट को Rs.1900 में बेचने पर हुई हानि के बराबर है। 10 प्रतिशत लाभ अर्जित करने के लिए जैकेट का विक्रय मूल्य क्या होना चाहिए?

- Ans
- 1. Rs. 3250
 - 2. Rs. 3450
 - 3. Rs. 3360
 - 4. Rs. 3168

Question Type : MCQ

Question ID : 264330140618

Option 1 ID : 264330550820

Option 2 ID : 264330550819

Option 3 ID : 264330550822

Option 4 ID : 264330550821

Status : Not Answered

Chosen Option : --

Q.20 एक बोटल में दूध और पानी का 8 लीटर मिश्रण 3:1 के अनुपात में है। दिए गए मिश्रण में 3 लीटर पानी मिलाया जाता है। मिश्रण में दूध और पानी का नया अनुपात ज्ञात कीजिए।

- Ans
- 1. 2:3
 - 2. 6:5
 - 3. 3:2
 - 4. 1:3

Question Type : MCQ

Question ID : 264330133759

Option 1 ID : 264330524061

Option 2 ID : 264330524059

Option 3 ID : 264330524060

Option 4 ID : 264330524062

Status : Answered

Chosen Option : 2

Section : Reasoning Ability and Problem Solving

Q.1 दो कथन दिए गए हैं और दो निष्कर्ष I और II दिए गए हैं। कथनों को सत्य मानते हुए, चाहे वे सामान्यतः ज्ञात तथ्यों से अलग प्रतीत होते हों, निश्चय कीजिए कि कौन-सा निष्कर्ष तार्किक रूप से कथनों के अनुसार है।

कथन:

कुछ कंबल, चादरें हैं।

कुछ चादरें, तकिरें हैं।

निष्कर्ष:

I. कुछ कंबल, तकिरें हैं।

II. सभी चादरें कभी भी तकिरें नहीं हो सकते।

Ans

- ✗ 1. सिर्फ निष्कर्ष I कथनों के अनुसार है
- ✗ 2. सिर्फ निष्कर्ष II कथनों के अनुसार है
- ✗ 3. दोनों निष्कर्ष I और II कथनों के अनुसार हैं
- ✓ 4. निष्कर्ष I और II में से कोई भी कथनों के अनुसार नहीं है

Question Type : MCQ

Question ID : 264330140442

Option 1 ID : 264330550147

Option 2 ID : 264330550148

Option 3 ID : 264330550149

Option 4 ID : 264330550150

Status : Answered

Chosen Option : 4

Q.2 सात लड़कियाँ, मानसी, श्वेता, मोनिका, पायल, आरती, काजल और लक्ष्मी एक वृत्ताकार मेज के चारों ओर केंद्र की विपरीत दिशा की ओर मुख करके बैठी हैं (परंतु जरूरी नहीं कि वे इसी क्रम में बैठी हों)। काजल, लक्ष्मी के बाईं ओर से दूसरे स्थान पर है। पायल, मानसी और लक्ष्मी दोनों की निकटतम पड़ोसी हैं। मोनिका, लक्ष्मी की निकटतम पड़ोसी नहीं है। आरती, काजल के बाईं ओर से दूसरे स्थान पर है। पायल के बाईं ओर से दूसरे स्थान पर कौन बैठा है?

Ans

- ✗ 1. काजल
- ✓ 2. श्वेता
- ✗ 3. आरती
- ✗ 4. लक्ष्मी

Question Type : MCQ

Question ID : 264330140963

Option 1 ID : 264330552201

Option 2 ID : 264330552199

Option 3 ID : 264330552200

Option 4 ID : 264330552202

Status : Answered

Chosen Option : 3

Q.3 एक निश्चित कूट भाषा में, 'CAMERA' को 'B185131D' लिखा जाता है। उस कूट भाषा में 'EXTEND' को कैसे लिखा जाएगा?

- Ans
- 1. C1452024F
 - 2. E1452024D
 - 3. E1452024F
 - 4. C1452024D

Question Type : MCQ
Question ID : 264330140137
Option 1 ID : 264330548928
Option 2 ID : 264330548929
Option 3 ID : 264330548927
Option 4 ID : 264330548930
Status : Answered
Chosen Option : 3

Q.4 दी गई श्रृंखला में निम्नलिखित में से कौन-सी संख्या प्रश्न चिन्ह (?) के स्थान पर आएगी?
25, -75, 225, -675, 2025, ?

- Ans
- 1. -7250
 - 2. -5160
 - 3. -6075
 - 4. -8400

Question Type : MCQ
Question ID : 264330140085
Option 1 ID : 264330548719
Option 2 ID : 264330548721
Option 3 ID : 264330548722
Option 4 ID : 264330548720
Status : Answered
Chosen Option : 3

Q.5 यदि A का अर्थ 'जोड़', B का अर्थ 'गुणा', C का अर्थ 'घटाव' और D का अर्थ 'भाग' हो, तो निम्नलिखित समीकरण का मान क्या होगा?
 $7 B 3 C 18 A (4 D 2) = ?$

- Ans
- 1. 6
 - 2. 4
 - 3. 5
 - 4. 7

Question Type : MCQ
Question ID : 264330140149
Option 1 ID : 264330548976
Option 2 ID : 264330548978
Option 3 ID : 264330548977
Option 4 ID : 264330548975
Status : Answered
Chosen Option : 3

Q.6 दिए गए दो चिहनों और दो संख्याओं को आपस में बदलने पर, दिए गए समीकरण का मान क्या होगा?

+ और ÷, 4 और 6 ; $8 \div 6 \times 3 + 4 - 9$

- Ans
- 1. 6
 - 2. 1
 - 3. 2
 - 4. 0

Question Type : MCQ

Question ID : 264330139986

Option 1 ID : 264330548324

Option 2 ID : 264330548325

Option 3 ID : 264330548323

Option 4 ID : 264330548326

Status : Answered

Chosen Option : 2

Q.7 दी गई श्रृंखला में निम्नलिखित में से कौन-सा अक्षर-समूह प्रश्न चिन्ह (?) के स्थान पर आएगा?

XG, UJ, RM, OP, ?

- Ans
- 1. MS
 - 2. LR
 - 3. LS
 - 4. MR

Question Type : MCQ

Question ID : 264330140472

Option 1 ID : 264330550267

Option 2 ID : 264330550270

Option 3 ID : 264330550268

Option 4 ID : 264330550269

Status : Answered

Chosen Option : 3

Q.8 एक निश्चित कूट भाषा में, 'IGNORE' को 'REONGI' लिखा जाता है। उस भाषा में 'JUNIOR' को कैसे लिखा जाएगा?

- Ans
- 1. ORIUNJ
 - 2. ORIJUN
 - 3. OIRNUJ
 - 4. ORINUJ

Question Type : MCQ

Question ID : 264330140417

Option 1 ID : 264330550049

Option 2 ID : 264330550050

Option 3 ID : 264330550048

Option 4 ID : 264330550047

Status : Answered

Chosen Option : 4

Q.9 उस विकल्प को चुनिए जो तीसरी संख्या से ठीक उसी तरह संबंधित है जिस तरह दूसरी संख्या पहली संख्या से संबंधित है।

14 : 75 :: 11 : ?

- Ans
- 1. 78
 - 2. 64
 - 3. 55
 - 4. 60

Question Type : MCQ

Question ID : 264330138780

Option 1 ID : 264330543730

Option 2 ID : 264330543729

Option 3 ID : 264330543728

Option 4 ID : 264330543727

Status : Answered

Chosen Option : 4

Q.10 उस विकल्प को चुनिए जो पाँचवें पद से ठीक उसी प्रकार संबंधित है जिस प्रकार दूसरा पद पहले पद से संबंधित है और चौथा पद तीसरे पद से संबंधित है।

TRA : XNO :: GBT : QXB :: NOQ : ?

- Ans
- 1. NIJ
 - 2. NII
 - 3. NKI
 - 4. NKJ

Question Type : MCQ

Question ID : 264330139973

Option 1 ID : 264330548271

Option 2 ID : 264330548274

Option 3 ID : 264330548272

Option 4 ID : 264330548273

Status : Answered

Chosen Option : 2

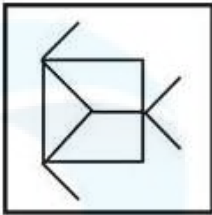
Q.11 उस विकल्प आकृति को चुनिए जिसमें दी गई आकृति (X) इसके भाग के रूप में निहित है। (घूर्णन की अनुमति नहीं है)।



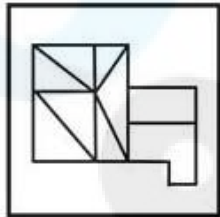
(X)

Ans

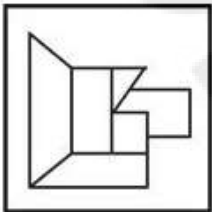
✗ 1.



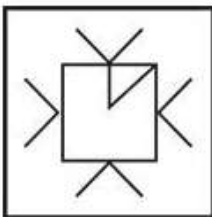
✓ 2.



✗ 3.



✗ 4.



Question Type : MCQ

Question ID : 264330140050

Option 1 ID : 264330548581

Option 2 ID : 264330548582

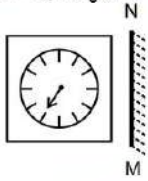
Option 3 ID : 264330548579

Option 4 ID : 264330548580

Status : Answered

Chosen Option : 2

Q.12 दी गई आकृति के उस सही दर्पण प्रतिबिंब को चुनिए, जो दर्पण MN को आकृति के दाईं ओर रखने पर बनेगा।



Ans

✗ 1.



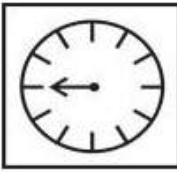
✓ 2.



✗ 3.



✗ 4.



Question Type : MCQ

Question ID : 264330138806

Option 1 ID : 264330543832

Option 2 ID : 264330543833

Option 3 ID : 264330543831

Option 4 ID : 264330543834

Status : Answered

Chosen Option : 2

Q.13 एक निश्चित कूट भाषा में, 'JPTM' को '9421' लिखा जाता है, 'MOST' को '3279' लिखा जाता है, 'OPJB' को '4617' लिखा जाता है। उस कूट भाषा में 'S' को कैसे लिखा जाएगा?

Ans ✗ 1. 2

✓ 2. 3

✗ 3. 9

✗ 4. 7

Question Type : MCQ

Question ID : 264330139552

Option 1 ID : 264330546625

Option 2 ID : 264330546623

Option 3 ID : 264330546626

Option 4 ID : 264330546624

Status : Answered

Chosen Option : 2

Q.14 पाँच दुकानों M1, M2, M3, M4 और M5 में पेन की संख्या की तुलना की जाती है। M3 में पेन की संख्या केवल M1 से अधिक है। कोई भी दो दुकानों में पेन की संख्या समान नहीं है। M4 में पेन की संख्या M2 से कम लेकिन M5 से अधिक है। M4 में पेन की संख्या कितनी दुकानों से अधिक है?

- Ans
- 1. 2
 - 2. 3
 - 3. 4
 - 4. 1

Question Type : MCQ

Question ID : 264330140061

Option 1 ID : 264330548625

Option 2 ID : 264330548624

Option 3 ID : 264330548626

Option 4 ID : 264330548623

Status : Answered

Chosen Option : 2

Q.15 पाँच मित्र माही, मिलि, मिलन, मानस, और मोनिका एक बेंच पर उत्तर की ओर मुख करके बैठे हैं। मिलि और मोनिका के बीच केवल माही बैठी है। मानस, मिलि के ठीक बाईं ओर बैठा है। मानस सबसे आखिर में नहीं बैठा है। मिलन के ठीक दाईं ओर कौन बैठा है?

- Ans
- 1. मानस
 - 2. मिलि
 - 3. मोनिका
 - 4. माही

Question Type : MCQ

Question ID : 264330138794

Option 1 ID : 264330543785

Option 2 ID : 264330543784

Option 3 ID : 264330543786

Option 4 ID : 264330543783

Status : Answered

Chosen Option : 1

Q.16 निम्नलिखित प्रश्न में कुछ कथन दिए गए हैं और उन कथनों के आधार पर कुछ निष्कर्ष दिए गए हैं। आपको मानना है कि दिए गए कथन सत्य हैं चाहे वे समान्यतः जात तथ्यों से अलग प्रतीत होते हों। सभी निष्कर्षों को पढ़िए और फिर निश्चय कीजिए कि दिए गए निष्कर्षों में से कौन-सा निष्कर्ष तार्किक रूप से दिए गए कथनों के अनुसार है।

कथन:

- I. सभी भूमि, ठोस हैं।
- II. कोई भूमि, लड़का नहीं है।

निष्कर्ष:

- I. सभी ठोस, भूमि हैं।
- II. सभी लड़के, ठोस हैं।

- Ans
1. दोनों निष्कर्ष I और II कथनों के अनुसार हैं
 2. केवल निष्कर्ष I कथनों के अनुसार है
 3. केवल निष्कर्ष II कथनों के अनुसार है
 4. कोई भी निष्कर्ष कथनों के अनुसार नहीं है

Question Type : MCQ

Question ID : 264330140985

Option 1 ID : 264330552289

Option 2 ID : 264330552287

Option 3 ID : 264330552288

Option 4 ID : 264330552290

Status : Answered

Chosen Option : 2

Q.17 उस विकल्प को चुनिए जो तीसरे शब्द से ठीक उसी तरह संबंधित है जिस तरह दूसरा शब्द पहले शब्द से संबंधित है।
घोड़े : हिनहिनाना :: मेंढक : ?

- Ans
1. उभयचर
 2. टरटराना
 3. दहाड़ना
 4. भौंकना

Question Type : MCQ

Question ID : 264330140114

Option 1 ID : 264330548837

Option 2 ID : 264330548836

Option 3 ID : 264330548838

Option 4 ID : 264330548835

Status : Answered

Chosen Option : 2

Q.18 उस समुच्चय को चुनिए जिसमें संख्याएँ ठीक उसी प्रकार से संबंधित हैं जिस प्रकार निम्नलिखित समुच्चयों की संख्याएँ संबंधित हैं। (ध्यान दें: संख्याओं को उनके घटक अंकों में अलग-अलग किए बिना, पूर्ण संख्याओं पर संक्रियाएँ की जानी चाहिए। उदा. 13 - 13 पर संक्रियाएँ जैसे 13 को जोड़ना /घटाना /गुणा करना आदि किया जा सकता है। 13 को 1 और 3 में अलग-अलग करने की और फिर 1 और 3 पर गणितीय संक्रियाएँ करने की अनुमति नहीं है)
(2, 7, 81)
(5, 6, 121)

- Ans**
- 1. (6, 2, 36)
 - 2. (7, 5, 134)
 - 3. (6, 7, 169)
 - 4. (5, 4, 100)

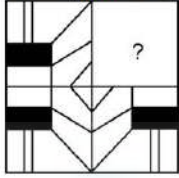
Question Type : **MCQ**
Question ID : **264330140127**
Option 1 ID : **264330548889**
Option 2 ID : **264330548890**
Option 3 ID : **264330548888**
Option 4 ID : **264330548887**
Status : **Not Answered**
Chosen Option : --

Q.19 दी गई श्रृंखला में निम्नलिखित में से कौन-सी संख्या प्रश्न चिन्ह (?) के स्थान पर आएगी?
29, 36, 44, 53, 63, ?

- Ans**
- 1. 78
 - 2. 74
 - 3. 72
 - 4. 76

Question Type : **MCQ**
Question ID : **264330140483**
Option 1 ID : **264330550313**
Option 2 ID : **264330550311**
Option 3 ID : **264330550314**
Option 4 ID : **264330550312**
Status : **Answered**
Chosen Option : 2

Q.20 उस विकल्प आकृति को चुनिए जो नीचे दी गई आकृति में पैटर्न को पूरा करने के लिए प्रश्न चिन्ह (?) के स्थान पर आएगी। (घूर्णन की अनुमति नहीं है)।



Ans

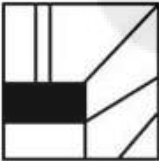
✓ 1.



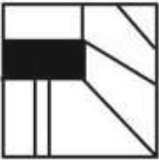
✗ 2.



✗ 3.



✗ 4.



Question Type : MCQ

Question ID : 264330140491

Option 1 ID : 264330550343

Option 2 ID : 264330550344

Option 3 ID : 264330550346

Option 4 ID : 264330550345

Status : Answered

Chosen Option : 1

Section : General Awareness

Q.1 चौसा और कन्नौज के युद्ध में किस शासक ने हुमायूँ को पराजित किया था?

- Ans
- 1. मुहम्मद आदिल शाह
 - 2. इस्लाम शाह
 - 3. अली आदिल शाह द्वितीय
 - 4. शेर शाह

Question Type : MCQ
Question ID : 264330140690
Option 1 ID : 264330551109
Option 2 ID : 264330551107
Option 3 ID : 264330551110
Option 4 ID : 264330551108
Status : Answered
Chosen Option : 4

Q.2 If we deduct depreciation from GNP the measure of aggregate income that we obtain is called _____.

- Ans
- 1. Net National Product
 - 2. Gross domestic product
 - 3. National income
 - 4. Private income

Question Type : MCQ
Question ID : 264330140775
Option 1 ID : 264330551447
Option 2 ID : 264330551449
Option 3 ID : 264330551450
Option 4 ID : 264330551448
Status : Answered
Chosen Option : 1

Q.3 महात्मा गांधी को "राष्ट्रपिता (Father of the Nation)" की उपाधि किसने दी थी?

- Ans
- 1. सुभाष चंद्र बोस
 - 2. सरदार वल्लभभाई पटेल
 - 3. रवीन्द्रनाथ टैगोर
 - 4. जवाहर लाल नेहरू

Question Type : MCQ
Question ID : 264330139747
Option 1 ID : 264330547405
Option 2 ID : 264330547406
Option 3 ID : 264330547404
Option 4 ID : 264330547403
Status : Answered
Chosen Option : 3

Q.4 जूडो की उत्पत्ति जू-जित्सु (Ju-jitsu) की प्राचीन _____ कला से हुई है।

- Ans
- 1. मलेशियाई
 - 2. चीनी
 - 3. जापानी
 - 4. कोरियाई

Question Type : MCQ

Question ID : 264330139870

Option 1 ID : 264330547860

Option 2 ID : 264330547859

Option 3 ID : 264330547861

Option 4 ID : 264330547862

Status : Answered

Chosen Option : 3

Q.5 एक संक्रामक बीमारी से उबरने के बाद, खास तौर पर चेचक से उबरने पर, स्थानीय देवता को धन्यवाद देने के लिए आमतौर पर ब्रिता (Brita) नृत्य किया जाता है। यह _____ राज्य के सबसे प्रसिद्ध नृत्यों में से एक है।

- Ans
- 1. झारखंड
 - 2. उत्तरप्रदेश
 - 3. पश्चिम बंगाल
 - 4. बिहार

Question Type : MCQ

Question ID : 264330141048

Option 1 ID : 264330552540

Option 2 ID : 264330552539

Option 3 ID : 264330552542

Option 4 ID : 264330552541

Status : Answered

Chosen Option : 1

Q.6 कर्तन - दहन प्रणाली (slash and burn) कृषि को _____ राज्य में 'बेबर' या 'दहिया' के नाम से जाना जाता है।

- Ans
- 1. उत्तरप्रदेश
 - 2. असम
 - 3. मध्यप्रदेश
 - 4. उड़ीसा

Question Type : MCQ

Question ID : 264330140710

Option 1 ID : 264330551188

Option 2 ID : 264330551189

Option 3 ID : 264330551187

Option 4 ID : 264330551190

Status : Answered

Chosen Option : 2

Q.7 भारत निम्नलिखित में से किस देश के साथ सबसे लंबी भूमि सीमा साझा करता है?

- Ans
- 1. नेपाल
 - 2. बांग्लादेश
 - 3. पाकिस्तान
 - 4. चीन

Question Type : MCQ
Question ID : 264330139767
Option 1 ID : 264330547486
Option 2 ID : 264330547485
Option 3 ID : 264330547484
Option 4 ID : 264330547483
Status : Answered
Chosen Option : 2

Q.8 पीएम स्वनिधि (PM SVANidhi) योजना का उद्देश्य _____ को सशक्त बनाना है।

- Ans
- 1. बीपीएल परिवारों (BPL Families)
 - 2. छोटे व्यवसायियों (Small Businessman)
 - 3. पथ विक्रेताओं (Street Vendors)
 - 4. गर्भवती महिलाओं (Pregnant women)

Question Type : MCQ
Question ID : 264330139682
Option 1 ID : 264330547143
Option 2 ID : 264330547145
Option 3 ID : 264330547144
Option 4 ID : 264330547146
Status : Answered
Chosen Option : 1

Q.9 _____ फूल का मादा जनन अंग है।

- Ans
- 1. तंतु
 - 2. परागकोश
 - 3. अंकुरण
 - 4. स्त्रीकेसर

Question Type : MCQ
Question ID : 264330140894
Option 1 ID : 264330551923
Option 2 ID : 264330551924
Option 3 ID : 264330551926
Option 4 ID : 264330551925
Status : Answered
Chosen Option : 4

Q.10 सत्यजीत रे को वर्ष 1992 में भारत रत्न से सम्मानित किया गया था। वह एक प्रसिद्ध _____ थे।

- Ans
- ✓ 1. फिल्म निर्माता और निर्देशक
 - ✗ 2. क्रिकेटर
 - ✗ 3. वकील
 - ✗ 4. भौतिक विज्ञानी

Question Type : MCQ
Question ID : 264330139706
Option 1 ID : 264330547241
Option 2 ID : 264330547239
Option 3 ID : 264330547240
Option 4 ID : 264330547242
Status : Answered
Chosen Option : 1

Q.11 वह 'घटम के देवता (God of ghatam)' के नाम से भी जाने जाते हैं। पिछली पंक्ति में 'वह' निम्न में से किसे संदर्भित करता है?

- Ans
- ✓ 1. टी.एच. विनायकराम
 - ✗ 2. उस्ताद बुंदू खां
 - ✗ 3. पंडित रविशंकर
 - ✗ 4. उस्ताद बिस्मिल्लाह खां

Question Type : MCQ
Question ID : 264330140887
Option 1 ID : 264330551895
Option 2 ID : 264330551896
Option 3 ID : 264330551897
Option 4 ID : 264330551898
Status : Answered
Chosen Option : 2

Q.12 "ओलिवर ट्विस्ट (Oliver Twist)" उपन्यास के लेखक कौन हैं?

- Ans
- ✓ 1. चार्ल्स डिकेन्स (Charles Dickens)
 - ✗ 2. ऑस्कर वाइल्ड (Oscar Wilde)
 - ✗ 3. मार्क ट्वेन (Mark Twain)
 - ✗ 4. जेन ऑस्टेन (Jane Austen)

Question Type : MCQ
Question ID : 264330140384
Option 1 ID : 264330549917
Option 2 ID : 264330549916
Option 3 ID : 264330549915
Option 4 ID : 264330549918
Status : Answered
Chosen Option : 1

Q.13 विश्व का वह एकमात्र देश कौन-सा है जहाँ बाघ और शेर दोनों पाए जाते हैं?

- Ans
- 1. दक्षिण अफ्रीका
 - 2. केन्या
 - 3. चीन
 - 4. भारत

Question Type : MCQ
Question ID : 264330139766
Option 1 ID : 264330547479
Option 2 ID : 264330547480
Option 3 ID : 264330547481
Option 4 ID : 264330547482
Status : Answered
Chosen Option : 4

Q.14 निम्नलिखित में से किस गायक को भारत सरकार द्वारा 2022 में पद्म श्री से सम्मानित किया गया है?

- Ans
- 1. लेस्ली लुईस (Leslie Lewis)
 - 2. अभिजीत भट्टाचार्य
 - 3. अनु मलिक
 - 4. सोनू निगम

Question Type : MCQ
Question ID : 264330140694
Option 1 ID : 264330551123
Option 2 ID : 264330551124
Option 3 ID : 264330551126
Option 4 ID : 264330551125
Status : Answered
Chosen Option : 4

Q.15 पोंगल, मकर संक्रांति का ही दूसरा नाम है तथा यह मकर संक्रांति के समय ही _____ राज्य के विभिन्न शहरों में मनाया जाता है।

- Ans
- 1. तमिलनाडु
 - 2. आंध्रप्रदेश
 - 3. कर्नाटक
 - 4. केरल

Question Type : MCQ
Question ID : 264330141049
Option 1 ID : 264330552544
Option 2 ID : 264330552546
Option 3 ID : 264330552545
Option 4 ID : 264330552543
Status : Answered
Chosen Option : 1

Q.16 महाबोधि मंदिर परिसर का _____ के जीवन से सीधा संबंध है।

Ans 1. मुगल शासक

2. सिख गुरु

3. भगवान बुद्ध

4. जैन तीर्थंकर

Question Type : MCQ

Question ID : 264330140730

Option 1 ID : 264330551267

Option 2 ID : 264330551268

Option 3 ID : 264330551270

Option 4 ID : 264330551269

Status : Answered

Chosen Option : 3

Q.17 भोजन पकाने की निम्नलिखित में से किस प्रक्रिया में भोजन में मौजूद चीनी ऑक्सीकृत होकर भूरे रंग में बदल जाती है?

Ans 1. निस्स्यंदन

2. कैरामेलीकरण (Caramelisation)

3. ब्रोमीनन (Bromination)

4. पायसीकरण

Question Type : MCQ

Question ID : 264330140708

Option 1 ID : 264330551180

Option 2 ID : 264330551181

Option 3 ID : 264330551182

Option 4 ID : 264330551179

Status : Answered

Chosen Option : 4

Q.18 कौन-सी ओडिसी नृत्यांगना 2006 में पद्म श्री से सम्मानित होने वाली विदेशी मूल की पहली नर्तकी बनी थी?

Ans 1. सोफिया बुटेला (Sofia Boutella)

2. एरी नाकामुरा (Eri Nakamura)

3. इलियाना सितारिस्ती (Ileana Citaristi)

4. मृणालिनी साराभाई (Mrinalini Sarabhai)

Question Type : MCQ

Question ID : 264330140925

Option 1 ID : 264330552049

Option 2 ID : 264330552050

Option 3 ID : 264330552047

Option 4 ID : 264330552048

Status : Answered

Chosen Option : 1

Q.19 निम्नलिखित में से कौन दक्षिण भारत की एक प्रमुख जनजाति नहीं है?

Ans 1. बडागा (Badaga)

2. डांग (Dang)

3. टोडा (Toda)

4. इरुला (Irula)

Question Type : MCQ

Question ID : 264330138966

Option 1 ID : 264330544473

Option 2 ID : 264330544474

Option 3 ID : 264330544472

Option 4 ID : 264330544471

Status : Answered

Chosen Option : 2

Q.20 ब्रिटिश सरकार द्वारा चंपारण कृषि कानून कब पारित किया गया था?

Ans 1. 1917

2. 1918

3. 1916

4. 1919

Question Type : MCQ

Question ID : 264330140946

Option 1 ID : 264330552133

Option 2 ID : 264330552131

Option 3 ID : 264330552132

Option 4 ID : 264330552134

Status : Answered

Chosen Option : 1

Q.21 राज्यों के विधानसभा और विधायिका वाले केंद्रशासित प्रदेशों के आम चुनावों वाले वर्ष में _____ अतिरिक्त दिनों की चुनावी बॉन्ड की बिक्री की अनुमति देने के लिए चुनावी बॉन्ड योजना में संशोधन करते हुए केंद्रीय वित्त मंत्रालय ने एक अधिसूचना जारी की है।

Ans 1. 15

2. 35

3. 25

4. 45

Question Type : MCQ

Question ID : 264330140932

Option 1 ID : 264330552076

Option 2 ID : 264330552077

Option 3 ID : 264330552075

Option 4 ID : 264330552078

Status : Answered

Chosen Option : 4

Q.22 भारतीय संविधान के निम्नलिखित में से किस अनुच्छेद में मौलिक कर्तव्य "सार्वजनिक संपत्ति की रक्षा करना और हिंसा को त्यागना" का उल्लेख है?

- Ans
- 1. अनुच्छेद 51A (d)
 - 2. अनुच्छेद 51A (g)
 - 3. अनुच्छेद 51A (a)
 - 4. अनुच्छेद 51A (i)

Question Type : MCQ
Question ID : 264330139760
Option 1 ID : 264330547456
Option 2 ID : 264330547457
Option 3 ID : 264330547455
Option 4 ID : 264330547458
Status : Answered
Chosen Option : 2

Q.23 निम्नलिखित में से कौन फ़ारस के राजा का एक राजदूत था जिसे विजयनगर भेजा गया था?

- Ans
- 1. निकोलो दे कॉन्ती (Nicolo de Conti)
 - 2. फ़र्नावो नूनिज़ (Fernaõ Nuniz)
 - 3. दुआर्ते बरबोसा (Duarte Barbosa)
 - 4. अब्दुर रज़्ज़ाक (Abdur Razzaq)

Question Type : MCQ
Question ID : 264330140903
Option 1 ID : 264330551959
Option 2 ID : 264330551961
Option 3 ID : 264330551960
Option 4 ID : 264330551962
Status : Answered
Chosen Option : 4

Q.24 _____ और _____ के ऑक्साइड वर्षाजल में घुल जाते हैं और अम्ल बनाते हैं जिसे अम्लवर्षा कहा जाता है।

- Ans
- 1. फास्फोरस, सल्फर
 - 2. कैल्शियम, मैग्नीशियम
 - 3. सल्फर, नाइट्रोजन
 - 4. कार्बन डाइऑक्साइड, मीथेन

Question Type : MCQ
Question ID : 264330139739
Option 1 ID : 264330547373
Option 2 ID : 264330547374
Option 3 ID : 264330547372
Option 4 ID : 264330547371
Status : Answered
Chosen Option : 1

Q.25 "जनजातीय गौरव दिवस (Janjatiya Gaurav Diwas)" _____ की जयंती पर मनाया जाता है।

Ans

- 1. महात्मा गांधी
- 2. बी.आर. अम्बेडकर
- 3. सरदार वल्लभभाई पटेल
- 4. बिरसा मुंडा

Question Type : MCQ

Question ID : 264330140889

Option 1 ID : 264330551904

Option 2 ID : 264330551906

Option 3 ID : 264330551903

Option 4 ID : 264330551905

Status : Answered

Chosen Option : 4

Section : English Language and Comprehension

Q.1 Select the word from the options which is similar in meaning to the bracketed part given in the sentence below.
The women stared at me with (great interest or concern).

Ans

- 1. possession
- 2. curiosity
- 3. control
- 4. intellect

Question Type : MCQ

Question ID : 264330136178

Option 1 ID : 264330533509

Option 2 ID : 264330533507

Option 3 ID : 264330533510

Option 4 ID : 264330533508

Status : Answered

Chosen Option : 2

Q.2 Select the correctly spelt word.

Ans

- 1. ubiquitous
- 2. ubquitous
- 3. ubiqoitous
- 4. ubiquitous

Question Type : MCQ

Question ID : 264330136505

Option 1 ID : 264330534763

Option 2 ID : 264330534765

Option 3 ID : 264330534766

Option 4 ID : 264330534764

Status : Answered

Chosen Option : 4

Q.3 Four sentences are given, out of which three have spelling errors. Choose the sentence with all correctly spelled words.

Ans ✗ 1. It turns out multiple groups have measured the concensus.

✗ 2. The proposed cuts have caused considerable controversy.

✗ 3.

She was in a bouyant mood and was looking forward to her new life.

✓ 4. The companies may lose a lot of their overseas exposure.

Question Type : **MCQ**

Question ID : **264330135764**

Option 1 ID : **264330531936**

Option 2 ID : **264330531935**

Option 3 ID : **264330531938**

Option 4 ID : **264330531937**

Status : **Answered**

Chosen Option : **4**

Q.4 Fill in the blank with the most appropriate option.

Aunt Petunia was _____ a box of after-dinner mints.

Ans ✗ 1. passing round

✓ 2. passing around

✗ 3. passed away

✗ 4. passed around

Question Type : **MCQ**

Question ID : **264330135852**

Option 1 ID : **264330532278**

Option 2 ID : **264330532276**

Option 3 ID : **264330532277**

Option 4 ID : **264330532275**

Status : **Answered**

Chosen Option : **2**

Q.5 Fill in the blank with the most appropriate option.

I wanted to _____ things that girls weren't supposed to do.

Ans ✗ 1. do allot of

✓ 2. do a lot of

✗ 3. do a lot off

✗ 4. done a lot of

Question Type : **MCQ**

Question ID : **264330135851**

Option 1 ID : **264330532274**

Option 2 ID : **264330532273**

Option 3 ID : **264330532272**

Option 4 ID : **264330532271**

Status : **Answered**

Chosen Option : **2**

Q.6 Select the most appropriate antonym of the given word.

Impertinent

- Ans
- 1. Polite
 - 2. Insolent
 - 3. Irrelevant
 - 4. Personal

Question Type : MCQ
Question ID : 264330136362
Option 1 ID : 264330534217
Option 2 ID : 264330534215
Option 3 ID : 264330534218
Option 4 ID : 264330534216
Status : Answered
Chosen Option : 1

Q.7 Select the most appropriate word for the given group of words.

A state of agitation especially over a trivial matter

- Ans
- 1. Worry
 - 2. Fuss
 - 3. Harmony
 - 4. Storm

Question Type : MCQ
Question ID : 264330136279
Option 1 ID : 264330533898
Option 2 ID : 264330533896
Option 3 ID : 264330533895
Option 4 ID : 264330533897
Status : Answered
Chosen Option : 2

Q.8 Select the most appropriate option to substitute the bracketed segment in the given sentence. If there is no need to substitute it, select 'no substitution required'.

Besides the atmospheric changes that make us sweat, (hormonal or emotional stimulus can also cause sweating).

- Ans
- 1. hormonal and emotional stimuli also causes sweating
 - 2. hormonal or emotional stimuli can also cause sweating
 - 3. hormonal or emotional stimulus also causing sweating
 - 4. No substitution required

Question Type : MCQ
Question ID : 264330135667
Option 1 ID : 264330531565
Option 2 ID : 264330531564
Option 3 ID : 264330531563
Option 4 ID : 264330531566
Status : Answered
Chosen Option : 3

Q.9 The statement below has been given with bracketed text. Select the option with correct Idiom for the bracketed text.
That's just like Julie – always (coming to conclusions too quickly) even before she knows the facts.

- Ans**
- 1. jumping in with both feet
 - 2. biting her own tongue
 - 3. raring to go
 - 4. sailing in the same boat

Question Type : **MCQ**
Question ID : **264330135736**
Option 1 ID : **264330531830**
Option 2 ID : **264330531827**
Option 3 ID : **264330531829**
Option 4 ID : **264330531828**
Status : **Answered**
Chosen Option : **1**

Q.10 Find the part of the given sentence that has an error in it. If there is no error, choose 'No error'.
The 1918 influenza pandemic sweep the world within months.

- Ans**
- 1. pandemic sweep the
 - 2. No error
 - 3. The 1918 influenza
 - 4. world within months.

Question Type : **MCQ**
Question ID : **264330135230**
Option 1 ID : **264330529844**
Option 2 ID : **264330529846**
Option 3 ID : **264330529843**
Option 4 ID : **264330529845**
Status : **Answered**
Chosen Option : **1**

Q.11 Identify the segment that contains a grammatical error. If there is no error, select 'No error'.
He best understand that / because of the fight it is no / longer his decision to make.

- Ans**
- 1. He best understand that
 - 2. No error
 - 3. because of the fight it is no
 - 4. longer his decision to make.

Question Type : **MCQ**
Question ID : **264330135716**
Option 1 ID : **264330531751**
Option 2 ID : **264330531754**
Option 3 ID : **264330531752**
Option 4 ID : **264330531753**
Status : **Answered**
Chosen Option : **1**

Q.12 Select the most appropriate option to fill in the blank.

She _____ and left the room, carefully pulling the door shut.

- Ans
- 1. side
 - 2. site
 - 3. sighed
 - 4. slide

Question Type : MCQ
Question ID : 264330135176
Option 1 ID : 264330529638
Option 2 ID : 264330529636
Option 3 ID : 264330529637
Option 4 ID : 264330529635
Status : Answered
Chosen Option : 4

Q.13 Select the word segment that substitutes (replaces) the bracketed word segment correctly and completes the sentence meaningfully. Select the option 'no correction required' if the sentence is correct as given.

The relationship between two people is (by the way in what) they feel and behave towards each other.

- Ans
- 1. the way by which
 - 2. No correction required
 - 3. by which ways
 - 4. the way in which

Question Type : MCQ
Question ID : 264330135694
Option 1 ID : 264330531669
Option 2 ID : 264330531670
Option 3 ID : 264330531668
Option 4 ID : 264330531667
Status : Answered
Chosen Option : 1

Q.14 Select the most appropriate word for the given group of words.

Sets of principles concerned with the nature and appreciation of beauty

- Ans
- 1. Aesthetics
 - 2. Asylum
 - 3. Atonement
 - 4. Aspersion

Question Type : MCQ
Question ID : 264330136498
Option 1 ID : 264330534738
Option 2 ID : 264330534736
Option 3 ID : 264330534735
Option 4 ID : 264330534737
Status : Answered
Chosen Option : 1

Q.15 Select the word segment that substitutes (replaces) the bracketed word segment correctly and completes the sentence meaningfully. Select the option 'no correction required' if the sentence is correct as given.
Welcome to the Ministry of Magic, (please administer your name) and business.

- Ans**
- 1. No correction required
 - 2. please inform your entitle
 - 3. please direct your name
 - 4. please state your name

Question Type : **MCQ**
Question ID : **264330136139**
Option 1 ID : **264330533362**
Option 2 ID : **264330533361**
Option 3 ID : **264330533359**
Option 4 ID : **264330533360**
Status : **Answered**
Chosen Option : **1**

Q.16 In the following question, out of the given four alternatives, select the alternative which best expresses the meaning of the Idiom/Phrase.
As easy as pie

- Ans**
- 1. Difficult choice
 - 2. Tasteful
 - 3. Auspicious
 - 4. Very easy

Question Type : **MCQ**
Question ID : **264330135250**
Option 1 ID : **264330529919**
Option 2 ID : **264330529921**
Option 3 ID : **264330529922**
Option 4 ID : **264330529920**
Status : **Answered**
Chosen Option : **4**

Q.17 Fill in the blank with the most appropriate choice.
In more civilized times even the most _____ enemies were treated with dignity.

- Ans**
- 1. ineducable
 - 2. vindicable
 - 3. explicable
 - 4. implacable

Question Type : **MCQ**
Question ID : **264330135844**
Option 1 ID : **264330532246**
Option 2 ID : **264330532244**
Option 3 ID : **264330532243**
Option 4 ID : **264330532245**
Status : **Answered**
Chosen Option : **2**

Q.18 Find the part of the given sentence that has an error in it. If there is no error, choose 'No error'.

If I was your sister, I would have never slapped you.

- Ans
- 1. sister, I would have
 - 2. never slapped you.
 - 3. No error
 - 4. If I was your

Question Type : MCQ
Question ID : 264330135639
Option 1 ID : 264330531456
Option 2 ID : 264330531457
Option 3 ID : 264330531458
Option 4 ID : 264330531455
Status : Answered
Chosen Option : 4

Q.19 Select the most appropriate synonym of the given word.

Capricious

- Ans
- 1. Stable
 - 2. Cautious
 - 3. Steadfast
 - 4. Arbitrary

Question Type : MCQ
Question ID : 264330136499
Option 1 ID : 264330534741
Option 2 ID : 264330534739
Option 3 ID : 264330534742
Option 4 ID : 264330534740
Status : Answered
Chosen Option : 4

Q.20 Select the appropriate antonym for the underlined word.

His gray, lifeless eyes were sunken.

- Ans
- 1. pointed
 - 2. vibrant
 - 3. lapsed
 - 4. extinct

Question Type : MCQ
Question ID : 264330135554
Option 1 ID : 264330531118
Option 2 ID : 264330531116
Option 3 ID : 264330531117
Option 4 ID : 264330531115
Status : Answered
Chosen Option : 1

Comprehension:

In the following passage some words have been deleted. Fill in the blanks with the help of the alternatives given. Select the most appropriate option for each number.

Louisiana hosts one of the (1) _____ well known celebrations - Mardi Gras. Mardi Gras is French for "Fat Tuesday". This (2) _____ is sometimes called "Shrove Tuesday". (3) _____ wear masks and costumes, overturn social conventions, dance, organize competitions and parades. Related popular practices (4) _____ associated with celebrations before the fasting and religious obligations associated (5) _____ the penitential season of Lent.

SubQuestion No : 21

Q.21 Select the most appropriate option to fill in the blank No. 1.

- Ans**
- 1. more
 - 2. some
 - 3. all
 - 4. most

Question Type : **MCQ**
Question ID : **264330136752**
Option 1 ID : **264330535712**
Option 2 ID : **264330535714**
Option 3 ID : **264330535711**
Option 4 ID : **264330535713**
Status : **Answered**
Chosen Option : **4**

Comprehension:

In the following passage some words have been deleted. Fill in the blanks with the help of the alternatives given. Select the most appropriate option for each number.

Louisiana hosts one of the (1) _____ well known celebrations - Mardi Gras. Mardi Gras is French for "Fat Tuesday". This (2) _____ is sometimes called "Shrove Tuesday". (3) _____ wear masks and costumes, overturn social conventions, dance, organize competitions and parades. Related popular practices (4) _____ associated with celebrations before the fasting and religious obligations associated (5) _____ the penitential season of Lent.

SubQuestion No : 22

Q.22 Select the most appropriate option to fill in the blank No. 2.

- Ans**
- 1. vocation
 - 2. holiday
 - 3. vacation
 - 4. variation

Question Type : **MCQ**
Question ID : **264330136753**
Option 1 ID : **264330535717**
Option 2 ID : **264330535715**
Option 3 ID : **264330535716**
Option 4 ID : **264330535718**
Status : **Answered**
Chosen Option : **2**

Comprehension:

In the following passage some words have been deleted. Fill in the blanks with the help of the alternatives given. Select the most appropriate option for each number.

Louisiana hosts one of the (1) _____ well known celebrations - Mardi Gras. Mardi Gras is French for "Fat Tuesday". This (2) _____ is sometimes called "Shrove Tuesday". (3) _____ wear masks and costumes, overturn social conventions, dance, organize competitions and parades. Related popular practices (4) _____ associated with celebrations before the fasting and religious obligations associated (5) _____ the penitential season of Lent.

SubQuestion No : 23

Q.23 Select the most appropriate option to fill in the blank No. 3.

- Ans**
- 1. Animals
 - 2. Birds
 - 3. Plants
 - 4. People

Question Type : **MCQ**

Question ID : **264330136754**

Option 1 ID : **264330535722**

Option 2 ID : **264330535719**

Option 3 ID : **264330535720**

Option 4 ID : **264330535721**

Status : **Answered**

Chosen Option : **4**

Comprehension:

In the following passage some words have been deleted. Fill in the blanks with the help of the alternatives given. Select the most appropriate option for each number.

Louisiana hosts one of the (1) _____ well known celebrations - Mardi Gras. Mardi Gras is French for "Fat Tuesday". This (2) _____ is sometimes called "Shrove Tuesday". (3) _____ wear masks and costumes, overturn social conventions, dance, organize competitions and parades. Related popular practices (4) _____ associated with celebrations before the fasting and religious obligations associated (5) _____ the penitential season of Lent.

SubQuestion No : 24

Q.24 Select the most appropriate option to fill in the blank No. 4.

- Ans**
- 1. have
 - 2. were
 - 3. is
 - 4. will be

Question Type : **MCQ**

Question ID : **264330136755**

Option 1 ID : **264330535725**

Option 2 ID : **264330535723**

Option 3 ID : **264330535726**

Option 4 ID : **264330535724**

Status : **Answered**

Chosen Option : **2**

Comprehension:

In the following passage some words have been deleted. Fill in the blanks with the help of the alternatives given. Select the most appropriate option for each number.

Louisiana hosts one of the (1) _____ well known celebrations - Mardi Gras. Mardi Gras is French for "Fat Tuesday". This (2) _____ is sometimes called "Shrove Tuesday". (3) _____ wear masks and costumes, overturn social conventions, dance, organize competitions and parades. Related popular practices (4) _____ associated with celebrations before the fasting and religious obligations associated (5) _____ the penitential season of Lent.

SubQuestion No : 25

Q.25 Select the most appropriate option to fill in the blank No. 5.

- Ans**
- 1. of
 - 2. from
 - 3. off
 - 4. with

Question Type : **MCQ**

Question ID : **264330136756**

Option 1 ID : **264330535728**

Option 2 ID : **264330535730**

Option 3 ID : **264330535727**

Option 4 ID : **264330535729**

Status : **Answered**

Chosen Option : **4**