

## Multi Tasking Non Technical Staff and Havaldar CBIC and CBN Examination 2022

Roll Number	
Candidate Name	
Venue Name	Aurobindo International School Jaipur
Exam Date	16/06/2023
Exam Time	3:30 PM - 5:00 PM
Subject	MTS Non Tech Havaldar CBIC and CBN Examination 2022

Section : Numerical and Mathematical Ability

Q.1 54 और 48 का महत्तम समापवर्तक (HCF) क्या होगा?

- Ans  1. 6  
 2. 8  
 3. 7  
 4. 4

Question Type : MCQ  
Question ID : 264330140778  
Option 1 ID : 264330551459  
Option 2 ID : 264330551460  
Option 3 ID : 264330551461  
Option 4 ID : 264330551462  
Status : Answered  
Chosen Option : 1

Q.2 एक राशि पर 5 वर्षों का साधारण ब्याज Rs. 7590 है। ब्याज दर, पहले 3 वर्षों के लिए 6 प्रतिशत वार्षिक है और अगले 2 वर्षों के लिए 14 प्रतिशत वार्षिक है। वह राशि क्या है?

- Ans  1. Rs. 16500  
 2. Rs. 17000  
 3. Rs. 15000  
 4. Rs. 14000

Question Type : MCQ  
Question ID : 264330139942  
Option 1 ID : 264330548147  
Option 2 ID : 264330548148  
Option 3 ID : 264330548150  
Option 4 ID : 264330548149  
Status : Answered  
Chosen Option : 1

Q.3 एक व्यक्ति पहले 30 km की दूरी 60 मिनट में और अगले 40 km की दूरी 30 मिनट में तय करता है। पूरी यात्रा के दौरान उसकी औसत चाल क्या है?

- Ans
- ✓ 1.  $(140/3)$  km/hr
  - ✗ 2. 60 km/hr
  - ✗ 3. 30 km/hr
  - ✗ 4.  $(160/3)$  km/hr

Question Type : MCQ

Question ID : 264330139630

Option 1 ID : 264330546936

Option 2 ID : 264330546938

Option 3 ID : 264330546935

Option 4 ID : 264330546937

Status : Answered

Chosen Option : 1

Q.4 सचिन, रोहित से 12.5 प्रतिशत कम कुशल है। यदि सचिन अकेला किसी कार्य को 24 दिनों में पूरा कर सकता है, तो रोहित अकेले उसी कार्य को कितने दिनों में पूरा करेगा?

- Ans
- ✗ 1. 20 दिनों में
  - ✓ 2. 21 दिनों में
  - ✗ 3. 16 दिनों में
  - ✗ 4. 18 दिनों में

Question Type : MCQ

Question ID : 264330139911

Option 1 ID : 264330548026

Option 2 ID : 264330548025

Option 3 ID : 264330548023

Option 4 ID : 264330548024

Status : Answered

Chosen Option : 2

Q.5 एक घनाभ की लंबाई 10 cm है। यदि घनाभ की चौड़ाई उसकी लंबाई की आधी है और घनाभ की ऊँचाई उसकी लंबाई की दुगुनी है, तो घनाभ का पार्श्व पृष्ठीय क्षेत्रफल कितना है?

- Ans
- ✗ 1.  $720 \text{ cm}^2$
  - ✗ 2.  $560 \text{ cm}^2$
  - ✗ 3.  $500 \text{ cm}^2$
  - ✓ 4.  $600 \text{ cm}^2$

Question Type : MCQ

Question ID : 264330139601

Option 1 ID : 264330546821

Option 2 ID : 264330546820

Option 3 ID : 264330546819

Option 4 ID : 264330546822

Status : Answered

Chosen Option : 4

Q.6 513 और 1017 का महत्तम समापवर्तक (HCF) क्या है?

- Ans  1. 9  
 2. 13  
 3. 15  
 4. 8

Question Type : MCQ  
Question ID : 264330140228  
Option 1 ID : 264330549291  
Option 2 ID : 264330549293  
Option 3 ID : 264330549294  
Option 4 ID : 264330549292  
Status : Answered  
Chosen Option : 1

Q.7 एक व्यक्ति ने एक रुपए में 30 आम खरीदे। एक रुपए में कितने आम बेचने पर, उसे 40 प्रतिशत की हानि होती?

- Ans  1. 40  
 2. 45  
 3. 50  
 4. 60

Question Type : MCQ  
Question ID : 264330139594  
Option 1 ID : 264330546792  
Option 2 ID : 264330546791  
Option 3 ID : 264330546793  
Option 4 ID : 264330546794  
Status : Answered  
Chosen Option : 3

Q.8 एक व्यक्ति को एक स्थान तक पैदल चलकर जाने और वहाँ से पैदल चलकर वापस आने में 20 घंटे लगते हैं। वह दोनों ओर गाड़ी से जाकर 4 घंटे का समय बचा सकता था। पूरी यात्रा में तय की गई दूरी 36 मील है। यदि वह पैदल चलकर जाता है और गाड़ी से वापस आता है, तो पूरी यात्रा के लिए उसकी औसत चाल ज्ञात कीजिए।

- Ans  1. 2 miles/hr  
 2. 1 miles/hr  
 3. 4 miles/hr  
 4. 3 miles/hr

Question Type : MCQ  
Question ID : 264330140780  
Option 1 ID : 264330551467  
Option 2 ID : 264330551470  
Option 3 ID : 264330551469  
Option 4 ID : 264330551468  
Status : Answered  
Chosen Option : 1

Q.9  $\frac{6}{13} \left[ \frac{29}{12} + \frac{4}{18} \left( \frac{16}{12} + \frac{18}{9} \right) - \frac{46}{15} + \frac{23}{45} \right]$  का मान क्या है?

- Ans
- 1. -207/119
  - 2. -312/137
  - 3. -307/234
  - 4. -294/117

Question Type : MCQ  
Question ID : 264330139968  
Option 1 ID : 264330548253  
Option 2 ID : 264330548252  
Option 3 ID : 264330548251  
Option 4 ID : 264330548254  
Status : Answered  
Chosen Option : 3

Q.10 क्रय मूल्य और विक्रय मूल्य के बीच का अंतर Rs.341 है। यदि लाभ प्रतिशत 22 प्रतिशत है, तो विक्रय मूल्य क्या है?

- Ans
- 1. Rs.1972
  - 2. Rs.1891
  - 3. Rs.1752
  - 4. Rs.1858

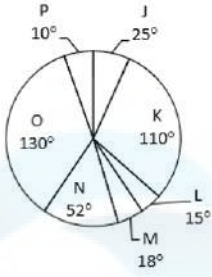
Question Type : MCQ  
Question ID : 264330139595  
Option 1 ID : 264330546796  
Option 2 ID : 264330546795  
Option 3 ID : 264330546797  
Option 4 ID : 264330546798  
Status : Answered  
Chosen Option : 2

Q.11 10 cm त्रिज्या और 20 cm ऊँचाई वाले बेलन का वक्र पृष्ठीय क्षेत्रफल क्या होगा? ( $\pi = 3.14$  प्रयोग करें)

- Ans
- 1. 1256 cm<sup>2</sup>
  - 2. 1345 cm<sup>2</sup>
  - 3. 1453 cm<sup>2</sup>
  - 4. 1234 cm<sup>2</sup>

Question Type : MCQ  
Question ID : 264330140820  
Option 1 ID : 264330551628  
Option 2 ID : 264330551630  
Option 3 ID : 264330551629  
Option 4 ID : 264330551627  
Status : Answered  
Chosen Option : 1

**Q.12** नीचे दिए गए वृत्त आलेख में एक व्यक्ति द्वारा 7 वस्तुओं पर किए गए खर्च को दर्शाया गया है। इन सभी 7 वस्तुओं का कुल खर्च 1800 है। इनमें से किसी एक विशिष्ट वस्तु पर किए गए खर्च को इन सभी 7 वस्तुओं पर किए गए कुल खर्च के सापेक्ष डिग्री में दर्शाया गया है।



वस्तु L पर किया गया खर्च, वस्तु P पर किए गए खर्च का कितना प्रतिशत है?

- Ans
- 1. 125 प्रतिशत
  - 2. 75 प्रतिशत
  - 3. 100 प्रतिशत
  - 4. 150 प्रतिशत

Question Type : MCQ

Question ID : 264330140582

Option 1 ID : 264330550681

Option 2 ID : 264330550679

Option 3 ID : 264330550682

Option 4 ID : 264330550680

Status : Answered

Chosen Option : 4

**Q.13** 46 लीटर और 50 लीटर के दो मिश्रणों में स्पिरिट और पानी का अनुपात क्रमशः 11:12 और 2:3 है। दोनों मिश्रणों को आपस में मिला दिया जाता है। नए मिश्रण में स्पिरिट और पानी का अनुपात ज्ञात कीजिए।

- Ans
- 1. 7:9
  - 2. 3:7
  - 3. 8:9
  - 4. 5:6

Question Type : MCQ

Question ID : 264330138416

Option 1 ID : 264330542272

Option 2 ID : 264330542271

Option 3 ID : 264330542274

Option 4 ID : 264330542273

Status : Answered

Chosen Option : 1

Q.14 Rs. 16000 के मूलधन का 4 वर्ष के लिए साधारण ब्याज पर निवेश किया जाता है। यदि ब्याज की वार्षिक दर 20 प्रतिशत है, तो 4 वर्ष बाद धनराशि कितनी होगी?

- Ans
- 1. Rs. 23480
  - 2. Rs. 26480
  - 3. Rs. 28800
  - 4. Rs. 30420

Question Type : MCQ  
Question ID : 264330139941  
Option 1 ID : 264330548143  
Option 2 ID : 264330548144  
Option 3 ID : 264330548146  
Option 4 ID : 264330548145  
Status : Answered  
Chosen Option : 3

Q.15 Z1 और Z2 मिलकर एक कार्य को 15 दिनों में पूरा करते हैं। Z2 अकेले उसी कार्य को 30 दिनों में पूरा कर सकता है। उन्होंने साथ मिलकर कार्य पूरा करने के लिए Rs. 2000 लिए। इसमें Z1 का हिस्सा कितना होगा?

- Ans
- 1. Rs. 1000
  - 2. Rs. 1500
  - 3. Rs. 500
  - 4. Rs. 2000

Question Type : MCQ  
Question ID : 264330140533  
Option 1 ID : 264330550487  
Option 2 ID : 264330550488  
Option 3 ID : 264330550490  
Option 4 ID : 264330550489  
Status : Answered  
Chosen Option : 1

Q.16 संख्याओं 49, 51 और 98 का चतुर्थ समानुपाती ज्ञात कीजिए

- Ans
- 1. 112
  - 2. 102
  - 3. 90
  - 4. 96

Question Type : MCQ  
Question ID : 264330140182  
Option 1 ID : 264330549108  
Option 2 ID : 264330549107  
Option 3 ID : 264330549109  
Option 4 ID : 264330549110  
Status : Answered  
Chosen Option : 2

Q.17 नीचे दी गई तालिका में विभिन्न विषयों में लड़कों और लड़कियों द्वारा प्राप्त अंकों को दर्शाया गया है।

विषय	लड़के	लड़कियाँ
A	60	120
B	80	100
C	140	40
D	120	60
E	100	40

L1 = सभी विषयों में लड़कों और लड़कियों द्वारा प्राप्त अंकों के बीच का अंतर।

L2 = C, D और E में लड़कों द्वारा प्राप्त अंकों के औसत का मान।

(L1 - L2) का मान क्या है?

- Ans
- 1. 40
  - 2. 20
  - 3. 10
  - 4. 50

Question Type : MCQ

Question ID : 264330140551

Option 1 ID : 264330550560

Option 2 ID : 264330550562

Option 3 ID : 264330550561

Option 4 ID : 264330550559

Status : Answered

Chosen Option : 2

Q.18 यदि  $A = 8X$  और  $B = 6X$ , तो A, B से कितने प्रतिशत अधिक है?

- Ans
- 1. 66.6 प्रतिशत
  - 2. 50 प्रतिशत
  - 3. 100 प्रतिशत
  - 4. 33.33 प्रतिशत

Question Type : MCQ

Question ID : 264330139613

Option 1 ID : 264330546868

Option 2 ID : 264330546869

Option 3 ID : 264330546870

Option 4 ID : 264330546867

Status : Answered

Chosen Option : 4

Q.19 अंकित मूल्य का 35 प्रतिशत क्रय मूल्य के 40 प्रतिशत के बराबर है। यदि कोई बट्टा नहीं दिया जाता है, तो लाभ प्रतिशत क्या होगा?

- Ans
- ✓ 1. 14.28 प्रतिशत
  - ✗ 2. 16.66 प्रतिशत
  - ✗ 3. 12.5 प्रतिशत
  - ✗ 4. 25 प्रतिशत

Question Type : MCQ  
Question ID : 264330140623  
Option 1 ID : 264330550840  
Option 2 ID : 264330550839  
Option 3 ID : 264330550842  
Option 4 ID : 264330550841  
Status : Answered  
Chosen Option : 1

Q.20 एक त्रिभुज के कोणों का अनुपात 2 : 3 : 4 है। त्रिभुज के सबसे बड़े कोण का मान क्या है?

- Ans
- ✗ 1. 100 डिग्री
  - ✗ 2. 120 डिग्री
  - ✓ 3. 80 डिग्री
  - ✗ 4. 90 डिग्री

Question Type : MCQ  
Question ID : 264330139899  
Option 1 ID : 264330547977  
Option 2 ID : 264330547978  
Option 3 ID : 264330547976  
Option 4 ID : 264330547975  
Status : Answered  
Chosen Option : 3

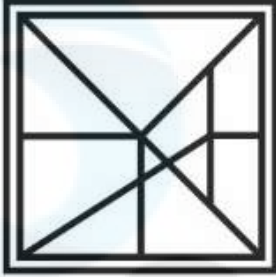
Section : Reasoning Ability and Problem Solving

Q.1 उस विकल्प आकृति को चुनिए जिसमें दी गई आकृति निहित है।(घूर्णन की अनुमति नहीं है)




Ans

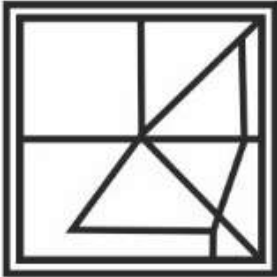
✓ 1.



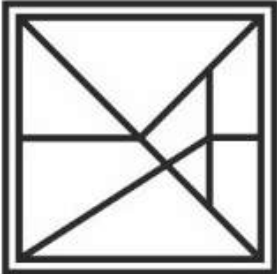
✗ 2.



✗ 3.



✗ 4.



Question Type : MCQ

Question ID : 264330139565

Option 1 ID : 264330546677

Option 2 ID : 264330546678

Option 3 ID : 264330546676

Option 4 ID : 264330546675

Status : Answered

Chosen Option : 1

Q.2 आठ लड़के B1, B2, B3, B4, B5, B6, B7 और B8 एक वृत्ताकार मेज के चारों ओर केंद्र की विपरीत दिशा की ओर मुख करके बैठे हैं (परंतु जरूरी नहीं कि वे इसी क्रम में बैठें हों)। B1, B3 के दाईं ओर से तीसरे स्थान पर है। B5, B3 के बाईं ओर से दूसरे स्थान पर है। B2, B4 के दाईं ओर से चौथे स्थान पर है। B4, B1 के दाईं ओर से दूसरे स्थान पर है। B8, B6 के बाईं ओर से तीसरे स्थान पर है। B6, B1 का निकटतम पड़ोसी नहीं है। B7 के दाईं ओर से तीसरे स्थान पर कौन है?

- Ans
- 1. B5
  - 2. B3
  - 3. B7
  - 4. B4

Question Type : MCQ

Question ID : 264330140983

Option 1 ID : 264330552279

Option 2 ID : 264330552282

Option 3 ID : 264330552281

Option 4 ID : 264330552280

Status : Answered

Chosen Option : 2

Q.3 निम्नलिखित प्रश्न में, दी गई श्रृंखला में लुप्त संख्या को चुनिए।

283, 295, 281, 297, 279, ?

- Ans
- 1. 294
  - 2. 298
  - 3. 299
  - 4. 291

Question Type : MCQ

Question ID : 264330139560

Option 1 ID : 264330546656

Option 2 ID : 264330546655

Option 3 ID : 264330546657

Option 4 ID : 264330546658

Status : Answered

Chosen Option : 3

Q.4 एक निश्चित कूट भाषा में, 'VRH' को 'TPJ' लिखा जाता है। उस भाषा में 'LYS' को कैसे लिखा जाएगा?

- Ans
- 1. JUW
  - 2. WUJ
  - 3. JWU
  - 4. JUT

Question Type : MCQ

Question ID : 264330137588

Option 1 ID : 264330538959

Option 2 ID : 264330538961

Option 3 ID : 264330538960

Option 4 ID : 264330538962

Status : Answered

Chosen Option : 3

Q.5 दिए गए दो चिहनों को आपस में बदलने पर, दिए गए समीकरण का मान क्या होगा?

+ और - ;  $12 + 8 \times 6 \div 3 - 11$

Ans  1. 7

2. 8

3. 9

4. 5

Question Type : MCQ

Question ID : 264330139543

Option 1 ID : 264330546588

Option 2 ID : 264330546587

Option 3 ID : 264330546589

Option 4 ID : 264330546590

Status : Answered

Chosen Option : 1

Q.6 दी गई श्रृंखला में निम्नलिखित में से कौन-सा अक्षर प्रश्न चिन्ह (?) के स्थान पर आएगा?

T, Q, N, K, H, ?

Ans  1. R

2. P

3. O

4. E

Question Type : MCQ

Question ID : 264330140011

Option 1 ID : 264330548423

Option 2 ID : 264330548424

Option 3 ID : 264330548426

Option 4 ID : 264330548425

Status : Answered

Chosen Option : 4

Q.7 दिए गए समीकरण को सही करने के लिए किन दो संख्याओं को आपस में बदला जाना चाहिए?

$96 \div 3 - 24 + 16 \times 8 = 36$

Ans  1. 8 और 3

2. 8 और 16

3. 96 और 24

4. 24 और 3

Question Type : MCQ

Question ID : 264330140468

Option 1 ID : 264330550254

Option 2 ID : 264330550252

Option 3 ID : 264330550251

Option 4 ID : 264330550253

Status : Answered

Chosen Option : 1

Q.8 चार छात्र M, N, O, और P एक रेस्तरां में अपना ऑर्डर देने के लिए एक कतार में खड़े हैं। M, O के पीछे नहीं खड़ा है परंतु P के पीछे खड़ा है। O सबसे आखिर में ऑर्डर नहीं देता है। कतार में सबसे आगे कौन खड़ा है?

- Ans
- 1. N
  - 2. P
  - 3. O
  - 4. M

Question Type : MCQ

Question ID : 264330140079

Option 1 ID : 264330548696

Option 2 ID : 264330548698

Option 3 ID : 264330548697

Option 4 ID : 264330548695

Status : Answered

Chosen Option : 3

Q.9 उषा, सावित्री से बड़ी हैं। सुरुचि, निशा से छोटी है लेकिन उषा से बड़ी है। तानिया, रिनु से बड़ी है, लेकिन सावित्री से छोटी है। मनीषा सबसे छोटी हैं। इनमें से सबसे बड़ा कौन है?

- Ans
- 1. तानिया
  - 2. निशा
  - 3. मनीषा
  - 4. उषा

Question Type : MCQ

Question ID : 264330138775

Option 1 ID : 264330543709

Option 2 ID : 264330543707

Option 3 ID : 264330543710

Option 4 ID : 264330543708

Status : Answered

Chosen Option : 2

Q.10 तीन कथन दिए गए हैं और दो निष्कर्ष I और II दिए गए हैं। कथनों को सत्य मानते हुए, चाहे वे सामान्यतः ज्ञात तथ्यों से अलग प्रतीत होते हों, निश्चय कीजिए कि कौन-सा निष्कर्ष तार्किक रूप से कथनों के अनुसार है।  
कथन:

कुछ if's, but's हैं।

सभी but's, so's हैं।

कोई so, then नहीं है।

निष्कर्ष:

I. सभी if's के then होने की संभावना है।

II. सभी then's के if होने की संभावना है।

Ans  1. दोनों निष्कर्ष I और II कथनों के अनुसार हैं।

2. केवल निष्कर्ष II कथनों के अनुसार है।

3. केवल निष्कर्ष I कथनों के अनुसार है।

4. न तो निष्कर्ष I और न ही II कथनों के अनुसार है।

Question Type : MCQ

Question ID : 264330140001

Option 1 ID : 264330548385

Option 2 ID : 264330548384

Option 3 ID : 264330548383

Option 4 ID : 264330548386

Status : Answered

Chosen Option : 2

Q.11 दो कथन दिए गए हैं और दो निष्कर्ष I और II दिए गए हैं। कथनों को सत्य मानते हुए, चाहे वे सामान्यतः ज्ञात तथ्यों से अलग प्रतीत होते हों, निश्चय कीजिए कि कौन-सा निष्कर्ष तार्किक रूप से कथनों के अनुसार है।  
कथन:

सभी अँगूठी, गोल हैं।

कोई गोल, वर्गाकार नहीं है।

निष्कर्ष:

I. कोई अँगूठी, वर्गाकार नहीं है।

II. कोई वर्गाकार, गोल नहीं है।

Ans  1. दोनों निष्कर्ष I और II कथनों के अनुसार हैं।

2. केवल निष्कर्ष II कथनों के अनुसार है।

3. केवल निष्कर्ष I कथनों के अनुसार है।

4. न तो निष्कर्ष I और न ही II कथनों के अनुसार है।

Question Type : MCQ

Question ID : 264330140000

Option 1 ID : 264330548381

Option 2 ID : 264330548380

Option 3 ID : 264330548379

Option 4 ID : 264330548382

Status : Answered

Chosen Option : 1

Q.12 (::) के बाईं ओर दिए गए शब्द आपस में किसी तर्क/नियम/संबंध द्वारा संबंधित हैं। समान तर्क/नियम/संबंध के आधार पर दिए गए विकल्पों में से (::) के दाईं ओर लुप्त शब्द/शब्द युग्म को चुनिए।

कोहिमा : नगालैंड :: ?

- Ans
- 1. बिहार : पटना
  - 2. शिलांग : मेघालय
  - 3. उत्तरप्रदेश : लखनऊ
  - 4. सिक्किम: गंगटोक

Question Type : MCQ

Question ID : 264330139530

Option 1 ID : 264330546536

Option 2 ID : 264330546537

Option 3 ID : 264330546538

Option 4 ID : 264330546535

Status : Answered

Chosen Option : 2

Q.13 उस विकल्प को चुनिए जो पाँचवें पद से ठीक उसी प्रकार संबंधित है जिस प्रकार दूसरा पद पहले पद से संबंधित है और चौथा पद तीसरे पद से संबंधित है।

GT16 : KW32 :: MQ29 : QT45 :: VA16 : ?

- Ans
- 1. ZB32
  - 2. ZD32
  - 3. YD32
  - 4. YC32

Question Type : MCQ

Question ID : 264330138583

Option 1 ID : 264330542941

Option 2 ID : 264330542939

Option 3 ID : 264330542940

Option 4 ID : 264330542942

Status : Answered

Chosen Option : 2

Q.14 दिए गए पैटर्न का ध्यानपूर्वक अध्ययन करें और उस संख्या को चुनिए जो इसमें प्रश्न चिन्ह(?) के स्थान पर आ सकती है।

पहली पंक्ति- 15, 12, 180

दूसरी पंक्ति- 18,13, 234

तीसरी पंक्ति- 7, 32, ?

- Ans
- 1. 224
  - 2. 308
  - 3. 215
  - 4. 179

Question Type : MCQ

Question ID : 264330140087

Option 1 ID : 264330548727

Option 2 ID : 264330548729

Option 3 ID : 264330548728

Option 4 ID : 264330548730

Status : Answered

Chosen Option : 1

Q.15 एक निश्चित कूट भाषा में, 'RUDE' को 'EDUR48' लिखा जाता है। उस भाषा में 'SOUP' को कैसे लिखा जाएगा?

- Ans
- 1. PUOS81
  - 2. PUPS71
  - 3. PUOS71
  - 4. PUPS81

Question Type : MCQ  
Question ID : 264330139995  
Option 1 ID : 264330548360  
Option 2 ID : 264330548361  
Option 3 ID : 264330548359  
Option 4 ID : 264330548362  
Status : Answered  
Chosen Option : 3

Q.16 उस विकल्प को चुनिए जो छठी संख्या से ठीक उसी प्रकार संबंधित है जिस प्रकार पहली संख्या दूसरी संख्या से संबंधित है और तीसरी संख्या चौथी संख्या से संबंधित है।

13 : 168 :: 16 : 255 :: ? : 143

- Ans
- 1. 15
  - 2. 12
  - 3. 11
  - 4. 14

Question Type : MCQ  
Question ID : 264330139541  
Option 1 ID : 264330546582  
Option 2 ID : 264330546580  
Option 3 ID : 264330546579  
Option 4 ID : 264330546581  
Status : Answered  
Chosen Option : 2

Q.17 एक निश्चित कूट भाषा में, 'DUKE' को 'ZQGA' लिखा जाता है। उस कूट भाषा में 'EXIT' को कैसे लिखा जाएगा?

- Ans
- 1. ATEQ
  - 2. ATEP
  - 3. AUPE
  - 4. AUFQ

Question Type : MCQ  
Question ID : 264330140056  
Option 1 ID : 264330548606  
Option 2 ID : 264330548605  
Option 3 ID : 264330548603  
Option 4 ID : 264330548604  
Status : Answered  
Chosen Option : 2

Q.18 दी गई श्रृंखला में निम्नलिखित में से कौन-सी संख्या प्रश्न चिन्ह (?) के स्थान पर आएगी?  
14, 9, 4, -1, -6, ?

- Ans
- 1. -8
  - 2. -14
  - 3. -11
  - 4. -23

Question Type : MCQ

Question ID : 264330140423

Option 1 ID : 264330550074

Option 2 ID : 264330550071

Option 3 ID : 264330550073

Option 4 ID : 264330550072

Status : Answered

Chosen Option : 3

Q.19 यदि एक दर्पण को रेखा AB पर रखा जाए, तो दी गई विकल्प आकृतियों में से कौन-सी आकृति प्रश्न आकृति का सही प्रतिबिम्ब होगी?



Ans

- 1.
- 2.
- 3.
- 4.

Question Type : MCQ

Question ID : 264330139546

Option 1 ID : 264330546602

Option 2 ID : 264330546599

Option 3 ID : 264330546601

Option 4 ID : 264330546600

Status : Answered

Chosen Option : 4

Q.20 कौन-सी उत्तर आकृति प्रश्न आकृति में दिए गए पैटर्न को पूरा करेगी?



Ans

✓ 1.



✗ 2.



✗ 3.



✗ 4.



Question Type : MCQ

Question ID : 264330139567

Option 1 ID : 264330546684

Option 2 ID : 264330546686

Option 3 ID : 264330546683

Option 4 ID : 264330546685

Status : Answered

Chosen Option : 4

Section : General Awareness

Q.1 प्राचीन काल में 'कम्मकार (Kammakaras )' शब्द का संबंध \_\_\_\_\_ से था।

Ans

✗ 1. कर संग्रह अधिकारी

✓ 2. भूमिहीन खेतिहर मजदूरों

✗ 3. कारीगरों

✗ 4. सुनार

Question Type : MCQ

Question ID : 264330139694

Option 1 ID : 264330547191

Option 2 ID : 264330547192

Option 3 ID : 264330547193

Option 4 ID : 264330547194

Status : Answered

Chosen Option : 3

Q.2 जैवि विविधता (संशोधन) विधेयक (Biological Diversity (Amendment) Bill), 2021 भारत के \_\_\_\_\_ मंत्रालय से संबंधित है।

- Ans
- ✓ 1. पर्यावरण, वन और जलवायु परिवर्तन
  - ✗ 2. पृथ्वी विज्ञान
  - ✗ 3. कृषि और किसान कल्याण
  - ✗ 4. कॉर्पोरेट कार्य

Question Type : MCQ  
Question ID : 264330140906  
Option 1 ID : 264330551971  
Option 2 ID : 264330551974  
Option 3 ID : 264330551972  
Option 4 ID : 264330551973  
Status : Answered  
Chosen Option : 1

Q.3 कॉमनवेल्थ गेम्स 2022 में भारत ने कितने रजत पदक जीते?

- Ans
- ✗ 1. 20
  - ✗ 2. 14
  - ✓ 3. 16
  - ✗ 4. 18

Question Type : MCQ  
Question ID : 264330140270  
Option 1 ID : 264330549462  
Option 2 ID : 264330549459  
Option 3 ID : 264330549460  
Option 4 ID : 264330549461  
Status : Answered  
Chosen Option : 2

Q.4 किस प्रसिद्ध भारतीय संगीतकार का संबंध संतूर नामक वादय यंत्र से है?

- Ans
- ✓ 1. पंडित शिव कुमार शर्मा
  - ✗ 2. उस्ताद अमजद अली खान
  - ✗ 3. उस्ताद जाकिर हुसैन
  - ✗ 4. हरिप्रसाद चौरसिया

Question Type : MCQ  
Question ID : 264330140744  
Option 1 ID : 264330551324  
Option 2 ID : 264330551326  
Option 3 ID : 264330551325  
Option 4 ID : 264330551323  
Status : Answered  
Chosen Option : 1

Q.5 रोग उत्पन्न करने वाले सूक्ष्मजीवों को \_\_\_\_\_ कहा जाता है।

- Ans
- 1. रोगजनक
  - 2. रोग-प्रतिकारक
  - 3. अपघटक
  - 4. विषाक्त पदार्थ

Question Type : MCQ  
Question ID : 264330139687  
Option 1 ID : 264330547165  
Option 2 ID : 264330547166  
Option 3 ID : 264330547164  
Option 4 ID : 264330547163  
Status : Answered  
Chosen Option : 1

Q.6 निम्नलिखित में से किस प्रकार की बेरोजगारी को वास्तविक मजदूरी बेरोजगारी के रूप में भी जाना जाता है?

- Ans
- 1. मौसमी (Seasonal)
  - 2. प्रतिरोधात्मक (Frictional)
  - 3. चिरसम्मत (Classical)
  - 4. संरचनात्मक (Structural)

Question Type : MCQ  
Question ID : 264330140354  
Option 1 ID : 264330549798  
Option 2 ID : 264330549796  
Option 3 ID : 264330549797  
Option 4 ID : 264330549795  
Status : Answered  
Chosen Option : 3

Q.7 भारतीय संविधान के किस भाग में नगर पालिकाओं से संबंधित प्रावधानों का उल्लेख है?

- Ans
- 1. भाग V
  - 2. भाग XII
  - 3. भाग VII
  - 4. भाग IXA

Question Type : MCQ  
Question ID : 264330139759  
Option 1 ID : 264330547451  
Option 2 ID : 264330547454  
Option 3 ID : 264330547452  
Option 4 ID : 264330547453  
Status : Answered  
Chosen Option : 4

Q.8 निम्नलिखित में से कौन-सा पादप जगत द्विवीजपत्री और एकबीजपत्री में विभक्त होता है?

Ans  1. जिम्नोस्पर्म (अनावृतबीजी)

2. ब्रायोफाइट

3. एंजियोस्पर्म (आवृतबीजी)

4. टैरिडोफाइट

Question Type : MCQ

Question ID : 264330140348

Option 1 ID : 264330549773

Option 2 ID : 264330549771

Option 3 ID : 264330549774

Option 4 ID : 264330549772

Status : Answered

Chosen Option : 2

Q.9 संगीत नाटक अकादमी पुरस्कार से सम्मानित किस पूर्व मिस इंडिया ने पश्चिम में भारतीय शास्त्रीय नृत्य को लोकप्रिय बनाया?

Ans  1. लोना पिंटो (Lona Pinto)

2. इंद्राणी रहमान

3. पीस कंवल (Peace Kanwal)

4. लीला नायडू

Question Type : MCQ

Question ID : 264330140670

Option 1 ID : 264330551028

Option 2 ID : 264330551029

Option 3 ID : 264330551030

Option 4 ID : 264330551027

Status : Not Answered

Chosen Option : --

Q.10 निम्नलिखित में से किसने 2022 में पुरुष एकल का पेरिस मास्टर्स खिताब (Men's Singles Paris Masters Title) जीता?

Ans  1. नोवाक जोकोविच (Novak Djokovic)

2. कैस्पर रूड (Casper Ruud)

3. होल्गर रूने (Holger Rune)

4. कार्लोस अल्कारेज (Carlos Alcaraz)

Question Type : MCQ

Question ID : 264330141069

Option 1 ID : 264330552626

Option 2 ID : 264330552624

Option 3 ID : 264330552625

Option 4 ID : 264330552623

Status : Answered

Chosen Option : 1

Q.11 किस स्वतंत्रता सेनानी को भारतीय क्रांति की जननी (mother of the Indian revolution) के तौर पर जाना जाता है?

- Ans
- ✓ 1. मैडम भीकाजी कामा
  - ✗ 2. एनी बेसेंट (Annie Besant)
  - ✗ 3. सरोजिनी नायडू
  - ✗ 4. अरुणा आसफ अली

Question Type : MCQ

Question ID : 264330140667

Option 1 ID : 264330551017

Option 2 ID : 264330551016

Option 3 ID : 264330551015

Option 4 ID : 264330551018

Status : Answered

Chosen Option : 1

Q.12 विंध्य और सतपुड़ा पर्वतमालाओं के बीच कौन सी नदी बहती है?

- Ans
- ✗ 1. महानदी
  - ✗ 2. गोदावरी
  - ✓ 3. नर्मदा
  - ✗ 4. सोन

Question Type : MCQ

Question ID : 264330140686

Option 1 ID : 264330551094

Option 2 ID : 264330551092

Option 3 ID : 264330551093

Option 4 ID : 264330551091

Status : Answered

Chosen Option : 2

Q.13 भारतीय संविधान का निम्नलिखित में से कौन-सा भाग 'पंचायतों' से संबंधित है?

- Ans
- ✓ 1. IX
  - ✗ 2. VI
  - ✗ 3. X
  - ✗ 4. III

Question Type : MCQ

Question ID : 264330140363

Option 1 ID : 264330549831

Option 2 ID : 264330549832

Option 3 ID : 264330549833

Option 4 ID : 264330549834

Status : Answered

Chosen Option : 1

Q.14 दिल्ली सल्तनत के अधीन, भारत में धनवान मुसलमानों पर एक धार्मिक कर \_\_\_\_\_ लगाया गया था।

- Ans
- ✓ 1. ज़कात (Zakat)
  - ✗ 2. फिरूज़ (Firuz)
  - ✗ 3. किस्मत (Kismat)
  - ✗ 4. मामलुक (Mamluk)

Question Type : MCQ  
Question ID : 264330140715  
Option 1 ID : 264330551209  
Option 2 ID : 264330551208  
Option 3 ID : 264330551207  
Option 4 ID : 264330551210  
Status : Answered  
Chosen Option : 1

Q.15 वित्त वर्ष (FY) 2020-21 के लिए कौन-सा देश दुनिया में कच्चे इस्पात (crude steel) का दूसरा सबसे बड़ा उत्पादक है?

- Ans
- ✓ 1. भारत
  - ✗ 2. ऑस्ट्रेलिया
  - ✗ 3. जापान
  - ✗ 4. चीन

Question Type : MCQ  
Question ID : 264330140660  
Option 1 ID : 264330550988  
Option 2 ID : 264330550989  
Option 3 ID : 264330550987  
Option 4 ID : 264330550990  
Status : Answered  
Chosen Option : 1

Q.16 भारतीय लघु उद्योग विकास बैंक (Small Industries Development Bank of India (SIDBI)) को \_\_\_\_\_ द्वारा विनियमित किया जाता है।

- Ans
- ✗ 1. इंडियन बैंक
  - ✓ 2. भारतीय रिज़र्व बैंक
  - ✗ 3. आईसीआईसीआई बैंक (ICICI Bank)
  - ✗ 4. भारतीय स्टेट बैंक

Question Type : MCQ  
Question ID : 264330140750  
Option 1 ID : 264330551348  
Option 2 ID : 264330551350  
Option 3 ID : 264330551347  
Option 4 ID : 264330551349  
Status : Not Answered  
Chosen Option : --

Q.17 विरुपाक्ष मंदिर \_\_\_\_\_ में स्थित है।

- Ans
- ✓ 1. हम्पी
  - ✗ 2. सूरत
  - ✗ 3. सांची
  - ✗ 4. जयपुर

Question Type : MCQ  
Question ID : 264330139725  
Option 1 ID : 264330547316  
Option 2 ID : 264330547317  
Option 3 ID : 264330547315  
Option 4 ID : 264330547318  
Status : Not Answered  
Chosen Option : --

Q.18 भारतीय संविधान का अनुच्छेद 40, "ग्राम पंचायतों का संगठन (Organisation of village panchayats)", एक \_\_\_\_\_ है।

- Ans
- ✗ 1. मौलिक अधिकार
  - ✗ 2. मौलिक कर्तव्य
  - ✓ 3. राज्य का नीति-निर्देशक तत्त्व
  - ✗ 4. कानूनी अधिकार

Question Type : MCQ  
Question ID : 264330140671  
Option 1 ID : 264330551032  
Option 2 ID : 264330551031  
Option 3 ID : 264330551034  
Option 4 ID : 264330551033  
Status : Answered  
Chosen Option : 4

Q.19 किसी स्थान पर तापमान, आर्द्रता, वर्षा, वायु वेग आदि के संदर्भ में वायुमंडल की प्रतिदिन की परिस्थिति उस स्थान का/की \_\_\_\_\_ कहलाती है।

- Ans
- ✓ 1. मौसम
  - ✗ 2. पर्यावरण
  - ✗ 3. परिस्थितिकी
  - ✗ 4. जलवायु

Question Type : MCQ  
Question ID : 264330139663  
Option 1 ID : 264330547069  
Option 2 ID : 264330547068  
Option 3 ID : 264330547070  
Option 4 ID : 264330547067  
Status : Answered  
Chosen Option : 4

Q.20 नालंदा विश्वविद्यालय, प्राचीन काल का एक महत्वपूर्ण शिक्षा केंद्र किस राज्य में स्थित है?

- Ans
- 1. पश्चिम बंगाल
  - 2. बिहार
  - 3. हरियाणा
  - 4. उत्तरप्रदेश

Question Type : MCQ  
Question ID : 264330140883  
Option 1 ID : 264330551882  
Option 2 ID : 264330551881  
Option 3 ID : 264330551880  
Option 4 ID : 264330551879  
Status : Answered  
Chosen Option : 2

Q.21 घर्षण कम करने वाले पदार्थों को \_\_\_\_\_ कहते हैं।

- Ans
- 1. तरल
  - 2. कमानी
  - 3. स्नेहक
  - 4. चुंबक

Question Type : MCQ  
Question ID : 264330140283  
Option 1 ID : 264330549512  
Option 2 ID : 264330549514  
Option 3 ID : 264330549511  
Option 4 ID : 264330549513  
Status : Answered  
Chosen Option : 3

Q.22 निम्नलिखित में से कौन-से भारत के महत्वपूर्ण इस्पात उत्पादक केंद्र हैं?

- I. भिलाई
- II. जमशेदपुर
- III. राउरकेला

- Ans
- 1. केवल I और II
  - 2. केवल I और III
  - 3. I, II और III
  - 4. केवल II और III

Question Type : MCQ  
Question ID : 264330140898  
Option 1 ID : 264330551940  
Option 2 ID : 264330551939  
Option 3 ID : 264330551942  
Option 4 ID : 264330551941  
Status : Answered  
Chosen Option : 3

Q.23 निम्नलिखित में से कौन-सा राज्य नेपाल के साथ सीमा साझा नहीं करता है?

- Ans
- 1. बिहार
  - 2. हिमाचल प्रदेश
  - 3. उत्तरप्रदेश
  - 4. उत्तराखंड

Question Type : MCQ  
Question ID : 264330140286  
Option 1 ID : 264330549524  
Option 2 ID : 264330549526  
Option 3 ID : 264330549523  
Option 4 ID : 264330549525  
Status : Answered  
Chosen Option : 1

Q.24 1927 में बी. आर. अंबेडकर ने दलितों के साथ किस आंदोलन की शुरुआत की थी?

- Ans
- 1. स्वतंत्रता आंदोलन
  - 2. मंदिर प्रवेश आंदोलन
  - 3. स्वाभिमान आंदोलन
  - 4. समान वेतन आंदोलन

Question Type : MCQ  
Question ID : 264330139889  
Option 1 ID : 264330547935  
Option 2 ID : 264330547936  
Option 3 ID : 264330547938  
Option 4 ID : 264330547937  
Status : Answered  
Chosen Option : 2

Q.25 आदि जनजाति द्वारा मनाए जाने वाले "सोलुंग (Solung)" त्योहार का संबंध किस राज्य से है?

- Ans
- 1. मध्यप्रदेश
  - 2. अरुणाचल प्रदेश
  - 3. हिमाचल प्रदेश
  - 4. आंध्रप्रदेश

Question Type : MCQ  
Question ID : 264330139699  
Option 1 ID : 264330547213  
Option 2 ID : 264330547212  
Option 3 ID : 264330547214  
Option 4 ID : 264330547211  
Status : Answered  
Chosen Option : 2

**Q.1** Improve the underlined part of the sentence. Choose 'No improvement' as an answer if the sentence is grammatically correct.

He would prefer to speak with you in persona.

- Ans**
- 1. you in person
  - 2. you in personal
  - 3. you on person
  - 4. No improvement

Question Type : **MCQ**  
Question ID : **264330135234**  
Option 1 ID : **264330529859**  
Option 2 ID : **264330529860**  
Option 3 ID : **264330529861**  
Option 4 ID : **264330529862**  
Status : **Answered**  
Chosen Option : **2**

**Q.2** Select the most appropriate option to fill in the blank.

She was trying to help that little boy in the grocery \_\_\_\_\_.

- Ans**
- 1. store
  - 2. asylum
  - 3. park
  - 4. road

Question Type : **MCQ**  
Question ID : **264330135661**  
Option 1 ID : **264330531541**  
Option 2 ID : **264330531542**  
Option 3 ID : **264330531540**  
Option 4 ID : **264330531539**  
Status : **Answered**  
Chosen Option : **2**

**Q.3** Fill in the blank with the most appropriate option.

Many Americans appear to be \_\_\_\_\_ those warnings seriously.

- Ans**
- 1. taking
  - 2. making
  - 3. sacking
  - 4. understanding

Question Type : **MCQ**  
Question ID : **264330136168**  
Option 1 ID : **264330533471**  
Option 2 ID : **264330533472**  
Option 3 ID : **264330533474**  
Option 4 ID : **264330533473**  
Status : **Not Answered**  
Chosen Option : **--**

Q.4 Identify the segment that contains a grammatical error. If there is no error, select 'No error'.

The differences were/ imperceptible to all but/ the most trained eye.

- Ans
- 1. No error
  - 2. imperceptible to all but
  - 3. the most trained eye.
  - 4. The differences were

Question Type : MCQ  
Question ID : 264330136345  
Option 1 ID : 264330534154  
Option 2 ID : 264330534152  
Option 3 ID : 264330534153  
Option 4 ID : 264330534151  
Status : Answered  
Chosen Option : 3

Q.5 Select the wrongly spelt word.

- Ans
- 1. enormous
  - 2. courteous
  - 3. indolent
  - 4. mordern

Question Type : MCQ  
Question ID : 264330136766  
Option 1 ID : 264330535767  
Option 2 ID : 264330535770  
Option 3 ID : 264330535769  
Option 4 ID : 264330535768  
Status : Answered  
Chosen Option : 4

Q.6 Select the appropriate antonym for the underlined word.

Educators play a key role as nation builders.

- Ans
- 1. negligible
  - 2. predominant
  - 3. primitive
  - 4. principal

Question Type : MCQ  
Question ID : 264330135249  
Option 1 ID : 264330529915  
Option 2 ID : 264330529917  
Option 3 ID : 264330529918  
Option 4 ID : 264330529916  
Status : Answered  
Chosen Option : 1

**Q.7** Select the word from the options which is similar in meaning to the bracketed word given in the sentence below.

The (departure) of people from the city isn't necessarily good news.

- Ans**
- 1. continuation
  - 2. exodus
  - 3. abidance
  - 4. excavation

Question Type : **MCQ**  
Question ID : **264330136282**  
Option 1 ID : **264330533909**  
Option 2 ID : **264330533907**  
Option 3 ID : **264330533910**  
Option 4 ID : **264330533908**  
Status : **Answered**  
Chosen Option : **2**

**Q.8** Fill in the blank with the most appropriate option.

Pranav, Shagun and Munshi took a bus to the same \_\_\_\_\_.

- Ans**
- 1. end
  - 2. slot
  - 3. target
  - 4. destination

Question Type : **MCQ**  
Question ID : **264330135766**  
Option 1 ID : **264330531946**  
Option 2 ID : **264330531943**  
Option 3 ID : **264330531944**  
Option 4 ID : **264330531945**  
Status : **Answered**  
Chosen Option : **4**

**Q.9** Select the most appropriate meaning of the bracketed idiom in the given sentence.

She invited (all and sundry) to her party.

- Ans**
- 1. To suffer humiliation
  - 2. Everyone without distinction
  - 3. To remove a misapprehension
  - 4. To take reckless risks

Question Type : **MCQ**  
Question ID : **264330136208**  
Option 1 ID : **264330533623**  
Option 2 ID : **264330533626**  
Option 3 ID : **264330533625**  
Option 4 ID : **264330533624**  
Status : **Answered**  
Chosen Option : **2**

**Q.10** Identify the segment that contains a grammatical error. If there is no error, select 'No error'.

Even the most wise don't / know what's hidden in / the depths of their being.

- Ans**
- 1. know what's hidden in
  - 2. No error
  - 3. the depths of their being.
  - 4. Even the most wise don't

Question Type : **MCQ**  
Question ID : **264330136411**  
Option 1 ID : **264330534408**  
Option 2 ID : **264330534410**  
Option 3 ID : **264330534409**  
Option 4 ID : **264330534407**  
Status : **Answered**  
Chosen Option : **1**

**Q.11** Select the most appropriate option to fill in the blank.

The event acts as a trigger or \_\_\_\_\_, which catapults them into an awareness of this phenomena.

- Ans**
- 1. dogma
  - 2. elegy
  - 3. catalyst
  - 4. harangue

Question Type : **MCQ**  
Question ID : **264330136350**  
Option 1 ID : **264330534172**  
Option 2 ID : **264330534174**  
Option 3 ID : **264330534173**  
Option 4 ID : **264330534171**  
Status : **Answered**  
Chosen Option : **3**

**Q.12** Identify the segment that contains a grammatical error. If there is no error, select 'No error'.

'He wants something done, / and it has not happen / fast enough,' he said.

- Ans**
- 1. He wants something done
  - 2. and it has not happen
  - 3. fast enough,' he said.
  - 4. No error

Question Type : **MCQ**  
Question ID : **264330136412**  
Option 1 ID : **264330534411**  
Option 2 ID : **264330534412**  
Option 3 ID : **264330534413**  
Option 4 ID : **264330534414**  
Status : **Answered**  
Chosen Option : **4**

Q.13 Select the most appropriate synonym of the given word.

Small

- Ans
- 1. Rich
  - 2. Liberal
  - 3. Slight
  - 4. Adequate

Question Type : MCQ  
Question ID : 264330136125  
Option 1 ID : 264330533306  
Option 2 ID : 264330533305  
Option 3 ID : 264330533303  
Option 4 ID : 264330533304  
Status : Answered  
Chosen Option : 3

Q.14 Select the most appropriate meaning of the given idiom.

Rust bucket

- Ans
- 1. To be absent minded
  - 2. An old man
  - 3. A vehicle that is old or almost broken
  - 4. To be late for everything

Question Type : MCQ  
Question ID : 264330135865  
Option 1 ID : 264330532323  
Option 2 ID : 264330532325  
Option 3 ID : 264330532324  
Option 4 ID : 264330532326  
Status : Answered  
Chosen Option : 2

Q.15 Select the most appropriate option to substitute the bracketed segment in the given sentence. If there is no need to substitute it, select 'no substitution required'.

It is expected that this police power will only apply to air and (sea routes between the Great Britain and the Northern Ireland).

- Ans
- 1. No substitution required
  - 2. sea routes between Great Britain and Northern Ireland
  - 3. sea routes across the Great Britain and Northern Ireland
  - 4. sea routes across the Great Britain and the Northern Ireland

Question Type : MCQ  
Question ID : 264330136348  
Option 1 ID : 264330534166  
Option 2 ID : 264330534165  
Option 3 ID : 264330534163  
Option 4 ID : 264330534164  
Status : Answered  
Chosen Option : 4

Q.16 Select the correctly spelt word.

- Ans
- 1. simultenaous
  - 2. simulteneous
  - 3. simultaneous
  - 4. simultanous

Question Type : MCQ  
Question ID : 264330135685  
Option 1 ID : 264330531634  
Option 2 ID : 264330531631  
Option 3 ID : 264330531632  
Option 4 ID : 264330531633  
Status : Answered  
Chosen Option : 2

Q.17 Choose the word that is opposite in meaning to the given word.

Pardon

- Ans
- 1. Release
  - 2. Spite
  - 3. Condemn
  - 4. Boast

Question Type : MCQ  
Question ID : 264330135248  
Option 1 ID : 264330529912  
Option 2 ID : 264330529913  
Option 3 ID : 264330529911  
Option 4 ID : 264330529914  
Status : Answered  
Chosen Option : 3

Q.18 Select the most appropriate word for the given group of words.

People who belong to the same country.

- Ans
- 1. Soldiers
  - 2. Communists
  - 3. Natives
  - 4. Folks

Question Type : MCQ  
Question ID : 264330135703  
Option 1 ID : 264330531700  
Option 2 ID : 264330531702  
Option 3 ID : 264330531699  
Option 4 ID : 264330531701  
Status : Answered  
Chosen Option : 2

**Q.19** Choose the word that can substitute the given group of words.

One who gives shape to stone

- Ans**
- 1. Auditor
  - 2. Sculptor
  - 3. Apostate
  - 4. Curator

Question Type : **MCQ**

Question ID : **264330135524**

Option 1 ID : **264330531000**

Option 2 ID : **264330531002**

Option 3 ID : **264330530999**

Option 4 ID : **264330531001**

Status : **Answered**

Chosen Option : **4**

**Q.20** Select the word segment that substitutes (replaces) the bracketed word segment correctly and completes the sentence meaningfully. Select the option 'no correction required' if the sentence is correct as given.

We've made extraordinary (flowering as a) society in that regard.

- Ans**
- 1. advance as a
  - 2. improvement by a
  - 3. No correction required
  - 4. progress as a

Question Type : **MCQ**

Question ID : **264330135720**

Option 1 ID : **264330531769**

Option 2 ID : **264330531767**

Option 3 ID : **264330531770**

Option 4 ID : **264330531768**

Status : **Answered**

Chosen Option : **4**

**Comprehension:**

In the following passage some of the words have been deleted. Read the passage carefully and select the correct answer for the given blank out of the four alternatives.

One headteacher asked what she should say to parents who request guidance \_\_\_\_\_ (1) getting their child "school-ready", because she was concerned that too \_\_\_\_\_ (2) parents have become convinced that an expert (the teacher) knows more than they do about their own child's \_\_\_\_\_ (3). Her intention was not to bash parents, \_\_\_\_\_ (4) she wanted to know how to encourage parents to see "school" as a distinct domain from "home", where their own \_\_\_\_\_ (5) ought to hold sway.

**SubQuestion No : 21**

**Q.21** Select the most appropriate option to fill in the blank 1

- Ans**
- 1. of
  - 2. at
  - 3. on
  - 4. to

Question Type : **MCQ**

Question ID : **264330141191**

Option 1 ID : **264330553100**

Option 2 ID : **264330553101**

Option 3 ID : **264330553099**

Option 4 ID : **264330553102**

Status : **Answered**

Chosen Option : **4**

**Comprehension:**

In the following passage some of the words have been deleted. Read the passage carefully and select the correct answer for the given blank out of the four alternatives.

One headteacher asked what she should say to parents who request guidance \_\_\_\_\_ (1) getting their child "school-ready", because she was concerned that too \_\_\_\_\_ (2) parents have become convinced that an expert (the teacher) knows more than they do about their own child's \_\_\_\_\_ (3). Her intention was not to bash parents, \_\_\_\_\_ (4) she wanted to know how to encourage parents to see "school" as a distinct domain from "home", where their own \_\_\_\_\_ (5) ought to hold sway.

**SubQuestion No : 22**

**Q.22** Select the most appropriate option to fill in the blank 2

- Ans**
- 1. many
  - 2. more
  - 3. most
  - 4. much

Question Type : **MCQ**

Question ID : **264330141192**

Option 1 ID : **264330553104**

Option 2 ID : **264330553103**

Option 3 ID : **264330553106**

Option 4 ID : **264330553105**

Status : **Answered**

Chosen Option : **1**

**Comprehension:**

In the following passage some of the words have been deleted. Read the passage carefully and select the correct answer for the given blank out of the four alternatives.

One headteacher asked what she should say to parents who request guidance \_\_\_\_\_ (1) getting their child "school-ready", because she was concerned that too \_\_\_\_\_ (2) parents have become convinced that an expert (the teacher) knows more than they do about their own child's \_\_\_\_\_ (3). Her intention was not to bash parents, \_\_\_\_\_ (4) she wanted to know how to encourage parents to see "school" as a distinct domain from "home", where their own \_\_\_\_\_ (5) ought to hold sway.

**SubQuestion No : 23**

**Q.23** Select the most appropriate option to fill in the blank 3

- Ans**
- 1. submission
  - 2. development
  - 3. maniacs
  - 4. consistence

Question Type : **MCQ**

Question ID : **264330141193**

Option 1 ID : **264330553110**

Option 2 ID : **264330553109**

Option 3 ID : **264330553107**

Option 4 ID : **264330553108**

Status : **Answered**

Chosen Option : **2**

**Comprehension:**

In the following passage some of the words have been deleted. Read the passage carefully and select the correct answer for the given blank out of the four alternatives.

One headteacher asked what she should say to parents who request guidance \_\_\_\_\_ (1) getting their child "school-ready", because she was concerned that too \_\_\_\_\_ (2) parents have become convinced that an expert (the teacher) knows more than they do about their own child's \_\_\_\_\_ (3). Her intention was not to bash parents, \_\_\_\_\_ (4) she wanted to know how to encourage parents to see "school" as a distinct domain from "home", where their own \_\_\_\_\_ (5) ought to hold sway.

**SubQuestion No : 24**

**Q.24** Select the most appropriate option to fill in the blank 4

- Ans**
- 1. so
  - 2. yet
  - 3. or
  - 4. rather

Question Type : **MCQ**

Question ID : **264330141194**

Option 1 ID : **264330553113**

Option 2 ID : **264330553112**

Option 3 ID : **264330553111**

Option 4 ID : **264330553114**

Status : **Answered**

Chosen Option : **1**

**Comprehension:**

In the following passage some of the words have been deleted. Read the passage carefully and select the correct answer for the given blank out of the four alternatives.

One headteacher asked what she should say to parents who request guidance \_\_\_\_\_ (1) getting their child "school-ready", because she was concerned that too \_\_\_\_\_ (2) parents have become convinced that an expert (the teacher) knows more than they do about their own child's \_\_\_\_\_ (3). Her intention was not to bash parents, \_\_\_\_\_ (4) she wanted to know how to encourage parents to see "school" as a distinct domain from "home", where their own \_\_\_\_\_ (5) ought to hold sway.

**SubQuestion No : 25**

**Q.25** Select the most appropriate option to fill in the blank 5

- Ans**
- 1. games
  - 2. commotion
  - 3. turbulence
  - 4. judgement

Question Type : **MCQ**

Question ID : **264330141195**

Option 1 ID : **264330553117**

Option 2 ID : **264330553115**

Option 3 ID : **264330553118**

Option 4 ID : **264330553116**

Status : **Answered**

Chosen Option : **1**