

Multi Tasking Non Technical Staff and Havaldar CBIC and CBN Examination 2022

Roll Number	
Candidate Name	
Venue Name	iON Digital Zone iDZ Karhi Road Amoudha
Exam Date	17/05/2023
Exam Time	9:00 AM - 10:30 AM
Subject	MTS Non Tech Havaldar CBIC and CBN Examination 2022

Section : Numerical and Mathematical Ability

Q.1 $44 \div 11 \times 4 + 5 \times 8 \div 4 - 7 \times 36 \div 14 + 7 \times 4$ का मान क्या है?

Ans 1. 24

2. 36

3. 33

4. 28

Question Type : MCQ

Question ID : 264330139013

Option 1 ID : 264330544659

Option 2 ID : 264330544662

Option 3 ID : 264330544660

Option 4 ID : 264330544661

Status : Answered

Chosen Option : 2

Q.2 एक दुकानदार एक वस्तु के अंकित मूल्य पर 20 प्रतिशत की छूट देता है और उसे 12 प्रतिशत की हानि होती है। यदि वस्तु को अंकित मूल्य पर बेचा जाए, तो लाभ प्रतिशत कितना होगा?

Ans 1. 9.69 प्रतिशत

2. 10 प्रतिशत

3. 8.33 प्रतिशत

4. 12.5 प्रतिशत

Question Type : MCQ

Question ID : 264330137143

Option 1 ID : 264330537215

Option 2 ID : 264330537216

Option 3 ID : 264330537217

Option 4 ID : 264330537218

Status : Answered

Chosen Option : 2

Q.3 56 व्यक्ति एक पुल की मरम्मत 20 दिनों में कर सकते हैं। यदि 14 व्यक्ति और शामिल हो जाते हैं, तो कितने दिनों में पुल की मरम्मत की जा सकती है?

- Ans
- 1. 14 दिनों में
 - 2. 12 दिनों में
 - 3. 16 दिनों में
 - 4. 18 दिनों में

Question Type : MCQ
Question ID : 264330133770
Option 1 ID : 264330524103
Option 2 ID : 264330524104
Option 3 ID : 264330524105
Option 4 ID : 264330524106
Status : Answered
Chosen Option : 3

Q.4 यदि $2A = 3B = 7C$ है, तो $A : B : C$ का मान क्या है?

- Ans
- 1. 14 : 18 : 5
 - 2. 21 : 7 : 6
 - 3. 3 : 2 : 1
 - 4. 21 : 14 : 6

Question Type : MCQ
Question ID : 264330137139
Option 1 ID : 264330537202
Option 2 ID : 264330537201
Option 3 ID : 264330537199
Option 4 ID : 264330537200
Status : Answered
Chosen Option : 4

Q.5 कार्तिक को 80 km/hr की चाल से स्थान X से स्थान Y तक की यात्रा करने में 4 घंटे का समय लगता है। वह 80% अधिक तेज़ चाल के साथ स्थान Y से स्थान Z तक की यात्रा करने में 1 घंटे का समय लेता है। पूरी यात्रा में स्थान X से स्थान Z तक की औसत चाल क्या है?

- Ans
- 1. 88.6 km/hr
 - 2. 82.6 km/hr
 - 3. 92.8 km/hr
 - 4. 90.8 km/hr

Question Type : MCQ
Question ID : 264330141032
Option 1 ID : 264330552477
Option 2 ID : 264330552478
Option 3 ID : 264330552476
Option 4 ID : 264330552475
Status : Not Answered
Chosen Option : --

Q.6 साधारण ब्याज की किसी दर पर Rs. 14500 की धनराशि 36 महीनों में Rs. 16675 हो जाएगी। तो वार्षिक ब्याज दर क्या है?

- Ans
- 1. 4% वार्षिक
 - 2. 6% वार्षिक
 - 3. 7% वार्षिक
 - 4. 5% वार्षिक

Question Type : MCQ

Question ID : 264330134091

Option 1 ID : 264330525387

Option 2 ID : 264330525389

Option 3 ID : 264330525390

Option 4 ID : 264330525388

Status : Answered

Chosen Option : 1

Q.7 एक बेलन की ऊँचाई और वक्र पृष्ठीय क्षेत्रफल क्रमशः 15 cm और 330 cm^2 है। बेलन का व्यास ज्ञात कीजिए।

- Ans
- 1. 5 cm
 - 2. 2 cm
 - 3. 6 cm
 - 4. 7 cm

Question Type : MCQ

Question ID : 264330133775

Option 1 ID : 264330524124

Option 2 ID : 264330524126

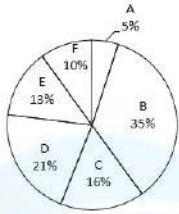
Option 3 ID : 264330524123

Option 4 ID : 264330524125

Status : Answered

Chosen Option : 4

Q.8 नीचे दिए गए वृत्त आलेख में छः विद्यालयों में पढ़ने वाले छात्रों की संख्या को दर्शाया गया है। इन सभी छः विद्यालयों में पढ़ने वाले छात्रों की कुल संख्या 9000 है। इनमें से किसी एक विशिष्ट विद्यालय में पढ़ने वाले छात्रों की संख्या को इन सभी छः विद्यालयों में पढ़ने वाले छात्रों की कुल संख्या के प्रतिशत के रूप में दर्शाया गया है।



स्कूल A और B में मिलाकर पढ़ने वाले छात्रों की संख्या और स्कूल D और F में मिलाकर पढ़ने वाले छात्रों की संख्या के बीच कितना अंतर है?

- Ans**
- 1. 840
 - 2. 810
 - 3. 770
 - 4. 790

Question Type : MCQ

Question ID : 264330137151

Option 1 ID : 264330537249

Option 2 ID : 264330537248

Option 3 ID : 264330537250

Option 4 ID : 264330537247

Status : Answered

Chosen Option : 2

Q.9 18 पुरुष एक कार्य को 50 दिनों में पूरा कर सकते हैं। यदि 25 पुरुष कार्य करते हैं, तो कार्य कितने दिनों में पूरा होगा?

- Ans**
- 1. 32 दिन
 - 2. 48 दिन
 - 3. 36 दिन
 - 4. 25 दिन

Question Type : MCQ

Question ID : 264330137665

Option 1 ID : 264330539269

Option 2 ID : 264330539270

Option 3 ID : 264330539267

Option 4 ID : 264330539268

Status : Answered

Chosen Option : 3

Q.10 वार्षिक चक्रवृद्धि ब्याज (वार्षिक रूप से संयोजित) की किस दर पर Rs.250000 की राशि 2 वर्षों में Rs.275625 हो जाएगी?

- Ans
- 1. 3% वार्षिक
 - 2. 8% वार्षिक
 - 3. 5% वार्षिक
 - 4. 10% वार्षिक

Question Type : MCQ

Question ID : 264330133638

Option 1 ID : 264330523578

Option 2 ID : 264330523576

Option 3 ID : 264330523577

Option 4 ID : 264330523575

Status : Not Answered

Chosen Option : --

Q.11 Rs. 120 की धनराशि को p, q और r के बीच इस प्रकार बाँटा जाता है कि p को q से Rs. 9 अधिक मिलते हैं और q को r से Rs. 6 अधिक मिलते हैं। p, q और r के हिस्सों का क्रमशः अनुपात क्या है?

- Ans
- 1. 11 : 8 : 10
 - 2. 16 : 13 : 11
 - 3. 18 : 15 : 13
 - 4. 15 : 12 : 10

Question Type : MCQ

Question ID : 264330137140

Option 1 ID : 264330537205

Option 2 ID : 264330537206

Option 3 ID : 264330537204

Option 4 ID : 264330537203

Status : Answered

Chosen Option : 2

Q.12 नीचे दी गई तालिका में दो कंपनियों द्वारा बेची गई 5 अलग-अलग प्रकार की वाइकों की संख्या को दर्शाया गया है।

वाइक	कंपनी	
	C1	C2
A	50	80
B	30	40
C	70	90
D	80	110
E	100	140

निम्नलिखित में से कौन-सा कथन सही है?

I. C1 द्वारा बेची गई वाइक A की संख्या और C2 द्वारा बेची गई वाइक D की संख्या का अनुपात 5 : 11 है।

II. C1 द्वारा बेची गई वाइक A, B, D और E की औसत संख्या 75 है।

Ans

- ✓ 1. केवल I
✗ 2. न तो I और न ही II
✗ 3. केवल II
✗ 4. I और II दोनों

Question Type : MCQ

Question ID : 264330139014

Option 1 ID : 264330544663

Option 2 ID : 264330544666

Option 3 ID : 264330544664

Option 4 ID : 264330544665

Status : Answered

Chosen Option : 1

Q.13 एक ठोस बेलन, जिसकी आधार की त्रिज्या 28 cm और ऊँचाई 24 cm है, को इसकी ऊँचाई से समद्विभाजित करके दो समरूप बेलन प्राप्त किए जाते हैं। कुल पृष्ठीय क्षेत्रफल में कितने प्रतिशत की वृद्धि होगी?

Ans

- ✗ 1. 41.92 प्रतिशत
✓ 2. 53.85 प्रतिशत
✗ 3. 61.72 प्रतिशत
✗ 4. 48.64 प्रतिशत

Question Type : MCQ

Question ID : 264330137678

Option 1 ID : 264330539319

Option 2 ID : 264330539322

Option 3 ID : 264330539321

Option 4 ID : 264330539320

Status : Answered

Chosen Option : 2

Q.14 एक कमरे की लंबाई, चौड़ाई, और ऊँचाई क्रमशः 6 m 40 cm, 4 m 80 cm और 3 m 20 cm है। ऐसे सबसे लंबे फीते की लंबाई ज्ञात कीजिए जो कमरे के आयामों को सटीक रूप से नाप सकता है।

- Ans
- 1. 1 m 20 cm
 - 2. 1 m 60 cm
 - 3. 1 m 40 cm
 - 4. 1 m 80 cm

Question Type : MCQ

Question ID : 264330137147

Option 1 ID : 264330537234

Option 2 ID : 264330537231

Option 3 ID : 264330537233

Option 4 ID : 264330537232

Status : Answered

Chosen Option : 2

Q.15 11 संख्याओं का औसत 8 है। यदि प्रत्येक संख्या को तीन गुना कर दिया जाए, तो संख्याओं का नया औसत क्या होगा?

- Ans
- 1. 24
 - 2. 16
 - 3. 32
 - 4. 8

Question Type : MCQ

Question ID : 264330137133

Option 1 ID : 264330537177

Option 2 ID : 264330537175

Option 3 ID : 264330537178

Option 4 ID : 264330537176

Status : Answered

Chosen Option : 1

Q.16 एक व्यक्ति स्थान A से शुरू करके स्थान B तक 50 घंटे में पहुँचता है। वह $\frac{1}{4}$ दूरी 5 km/hr की चाल से और शेष दूरी 15 km/hr की चाल से तय करता है। A से B के बीच की दूरी कितनी है?

- Ans
- 1. 375 km
 - 2. 525 km
 - 3. 500 km
 - 4. 425 km

Question Type : MCQ

Question ID : 264330137132

Option 1 ID : 264330537174

Option 2 ID : 264330537171

Option 3 ID : 264330537173

Option 4 ID : 264330537172

Status : Answered

Chosen Option : 2

Q.17 यदि दो संख्याओं 260 और 390 का लघुत्तम समापवर्त्य (LCM) 780 है, तो उनका महत्तम समापवर्तक (HCF) ज्ञात कीजिए।

- Ans 1. 130
 2. 120
 3. 133
 4. 140

Question Type : MCQ

Question ID : 264330138414

Option 1 ID : 264330542264

Option 2 ID : 264330542263

Option 3 ID : 264330542265

Option 4 ID : 264330542266

Status : Answered

Chosen Option : 1

Q.18 एक संख्या में 5% की वृद्धि की जाती है और फिर बड़ी हुई संख्या में 5% की कमी की जाती है। निवल वृद्धि या कमी प्रतिशत कितना है?

- Ans 1. 0.50% कमी
 2. 0.25% कमी
 3. 1% वृद्धि
 4. 0.75% वृद्धि

Question Type : MCQ

Question ID : 264330133631

Option 1 ID : 264330523548

Option 2 ID : 264330523549

Option 3 ID : 264330523547

Option 4 ID : 264330523550

Status : Answered

Chosen Option : 1

Q.19 एक व्यक्ति को 80 पेन Rs. 40 में बेचने पर 20 प्रतिशत की हानि होती है। 10 प्रतिशत का लाभ अर्जित करने के लिए 80 पेन का विक्रय मूल्य क्या होना चाहिए?

- Ans 1. Rs. 60
 2. Rs. 55
 3. Rs. 80
 4. Rs. 65

Question Type : MCQ

Question ID : 264330137138

Option 1 ID : 264330537195

Option 2 ID : 264330537196

Option 3 ID : 264330537197

Option 4 ID : 264330537198

Status : Answered

Chosen Option : 2

Q.20 एक दुकानदार 105 m कपड़ा Rs. 12600 में Rs. 20 प्रति मीटर के लाभ पर बेचता है। 20 m कपड़े का क्रय मूल्य कितना है?

- Ans**
- 1. Rs. 1000
 - 2. Rs. 4000
 - 3. Rs. 2000
 - 4. Rs. 3000

Question Type : **MCQ**

Question ID : **264330138042**

Option 1 ID : **264330540778**

Option 2 ID : **264330540775**

Option 3 ID : **264330540777**

Option 4 ID : **264330540776**

Status : **Answered**

Chosen Option : **3**

Section : Reasoning Ability and Problem Solving

Q.1 एक निश्चित कूट भाषा में, 'ASKING' को 'SAIKGN' लिखा जाता है। उस कूट भाषा में 'DECIDE' को कैसे लिखा जाएगा?

- Ans**
- 1. EDICED
 - 2. EDCIDE
 - 3. EDIBED
 - 4. EDICDE

Question Type : **MCQ**

Question ID : **264330137369**

Option 1 ID : **264330538105**

Option 2 ID : **264330538104**

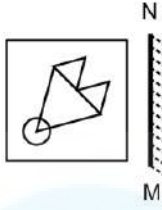
Option 3 ID : **264330538106**

Option 4 ID : **264330538103**

Status : **Answered**

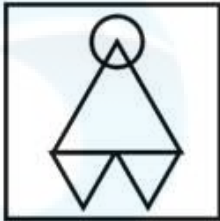
Chosen Option : **1**

Q.2 दी गई आकृति के उस सही दर्पण प्रतिबिंब को चुनिए, जो दर्पण MN को आकृति के दाईं ओर रखने पर बनेगा।

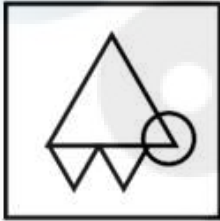


Ans

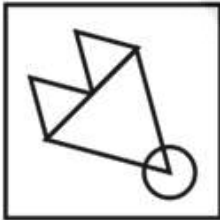
✗ 1.



✗ 2.



✓ 3.



✗ 4.



Question Type : MCQ

Question ID : 264330138827

Option 1 ID : 264330543917

Option 2 ID : 264330543916

Option 3 ID : 264330543915

Option 4 ID : 264330543918

Status : Answered

Chosen Option : 3

Q.3 (::) के बाईं ओर दिए गए शब्द एक-दूसरे से किसी तर्क/नियम/संबंध द्वारा संबंधित हैं। उसी तर्क/नियम/संबंध के आधार पर दिए गए विकल्पों में से (::) के दाईं ओर लुप्त शब्द/शब्द युग्म को चुनिए।

वियना (Vienna) : ऑस्ट्रिया :: ?

- Ans**
- 1. रूस : मास्को
 - 2. केन्या : नायरोबी
 - 3. थिम्फू : भूटान
 - 4. पाकिस्तान : इस्लामाबाद

Question Type : MCQ

Question ID : 264330137089

Option 1 ID : 264330536999

Option 2 ID : 264330537002

Option 3 ID : 264330537001

Option 4 ID : 264330537000

Status : Answered

Chosen Option : 2

Q.4 नीचे दिए गए प्रश्न में कुछ कथन दिए गए हैं और उन कथनों के आधार पर कुछ निष्कर्ष दिए गए हैं। आपको मानना है कि दिए गए कथन सत्य हैं चाहे वे समान्यतः जात तथ्यों से अलग प्रतीत होते हों। सभी निष्कर्षों को पढ़िए और फिर निश्चय कीजिए कि दिए गए निष्कर्षों में से कौन-सा निष्कर्ष तार्किक रूप से दिए गए कथनों के अनुसार है।

कथन:

I. कोई N, A नहीं है।

II. सभी A, T हैं।

निष्कर्ष:

I. कुछ T, A हैं।

II. कुछ N, T हैं।

III. कोई A, N नहीं है।

- Ans**
- 1. सभी निष्कर्ष कथनों के अनुसार हैं
 - 2. दोनों निष्कर्ष I और III कथनों के अनुसार हैं
 - 3. दोनों निष्कर्ष II और III कथनों के अनुसार हैं
 - 4. दोनों निष्कर्ष I और II कथनों के अनुसार हैं

Question Type : MCQ

Question ID : 264330137098

Option 1 ID : 264330537038

Option 2 ID : 264330537037

Option 3 ID : 264330537036

Option 4 ID : 264330537035

Status : Answered

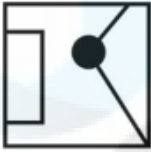
Chosen Option : 2

Q.5 कौन-सी उत्तर आकृति प्रश्न आकृति में पैटर्न को पूरा करेगी?

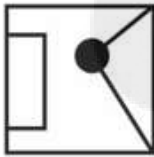


Ans

✗ 1.



✓ 2.



✗ 3.



✗ 4.



Question Type : MCQ

Question ID : 264330137107

Option 1 ID : 264330537071

Option 2 ID : 264330537074

Option 3 ID : 264330537072

Option 4 ID : 264330537073

Status : Answered

Chosen Option : 2

Q.6 दी गई श्रृंखला में निम्नलिखित में से कौन-सी संख्या प्रश्न चिन्ह (?) के स्थान पर आएगी?
25, 36, 49, 64, 81, 100, 121, 144, 169, ?

Ans ✓ 1. 196

✗ 2. 256

✗ 3. 204

✗ 4. 342

Question Type : MCQ

Question ID : 264330133377

Option 1 ID : 264330522539

Option 2 ID : 264330522541

Option 3 ID : 264330522540

Option 4 ID : 264330522542

Status : Answered

Chosen Option : 1

Q.7 छः शिक्षक अनिल, कमल, राम, संजय, आकाश और विवेक एक वृत्ताकार मेज के चारों ओर केंद्र की ओर मुख करके बैठे हैं (परंतु जरूरी नहीं कि वे इसी क्रम में बैठे हों)। राम, विवेक के दाईं ओर तीसरे स्थान पर बैठा है। विवेक, अनिल के दाईं ओर दूसरे स्थान पर बैठा है। आकाश, अनिल के ठीक दाईं ओर है। कमल, विवेक का निकटतम पड़ोसी नहीं है। कमल और विवेक दोनों का निकटतम पड़ोसी कौन है?

- Ans
- 1. राम
 - 2. आकाश
 - 3. संजय
 - 4. अनिल

Question Type : MCQ
Question ID : 264330137094
Option 1 ID : 264330537022
Option 2 ID : 264330537019
Option 3 ID : 264330537021
Option 4 ID : 264330537020
Status : Answered
Chosen Option : 2

Q.8 एक श्रृंखला दी गई है जिसमें एक पद लुप्त है। दिए गए विकल्पों में से उस सही विकल्प को चुनिए जो श्रृंखला को पूरा करेगा।

APCE, DSYA, GVUW, JYQS, ?

- Ans
- 1. BMMO
 - 2. MBMO
 - 3. NBNO
 - 4. NBMO

Question Type : MCQ
Question ID : 264330137086
Option 1 ID : 264330536988
Option 2 ID : 264330536987
Option 3 ID : 264330536990
Option 4 ID : 264330536989
Status : Answered
Chosen Option : 2

Q.9 उस विकल्प को चुनिए जो तीसरी संख्या से ठीक उसी तरह संबंधित है जिस तरह दूसरी संख्या पहली संख्या से संबंधित है।

7 : 56 :: 12 : ?

- Ans
- 1. 156
 - 2. 165
 - 3. 256
 - 4. 110

Question Type : MCQ
Question ID : 264330133379
Option 1 ID : 264330522550
Option 2 ID : 264330522547
Option 3 ID : 264330522549
Option 4 ID : 264330522548
Status : Answered
Chosen Option : 1

Q.10 सात व्यक्ति अनिल, कमल, राम, संजय, आकाश, विवेक और राहुल एक वृत्ताकार मेज के चारों ओर केंद्र से विपरीत दिशा में मुख करके बैठे हैं (परंतु जरूरी नहीं कि वे इसी क्रम में बैठें हों)। विवेक, कमल और राहुल दोनों का निकटतम पड़ोसी है। कमल, आकाश के बाईं ओर दूसरे स्थान पर बैठा है। अनिल, आकाश और संजय दोनों का निकटतम पड़ोसी है। संजय के दाईं ओर दूसरे स्थान पर कौन बैठा है?

- Ans
- ✓ 1. विवेक
 - ✗ 2. आकाश
 - ✗ 3. कमल
 - ✗ 4. अनिल

Question Type : MCQ
Question ID : 264330137095
Option 1 ID : 264330537026
Option 2 ID : 264330537025
Option 3 ID : 264330537023
Option 4 ID : 264330537024
Status : Answered
Chosen Option : 2

Q.11 एक लिखित कूट भाषा में, 'WALL' को '24' लिखा जाता है। उस कूट भाषा में 'FLOOR' को कैसे लिखा जाएगा?

- Ans
- ✓ 1. 33
 - ✗ 2. 23
 - ✗ 3. 66
 - ✗ 4. 43

Question Type : MCQ
Question ID : 264330133699
Option 1 ID : 264330523821
Option 2 ID : 264330523820
Option 3 ID : 264330523822
Option 4 ID : 264330523819
Status : Answered
Chosen Option : 3

Q.12 दिए गए समीकरण को सही करने के लिए किन दो चिन्हों को आपस में बदला जाना चाहिए?

$$44 \div 11 + 7 \times 3 - 19 = 2$$

- Ans
- ✓ 1. - और +
 - ✗ 2. - और =
 - ✗ 3. + और ÷
 - ✗ 4. = और ÷

Question Type : MCQ
Question ID : 264330133712
Option 1 ID : 264330523872
Option 2 ID : 264330523871
Option 3 ID : 264330523874
Option 4 ID : 264330523873
Status : Answered
Chosen Option : 3

Q.13 दिए गए दो चिन्हों और दो संख्याओं को आपस में बदलने पर, दिए गए समीकरण का मान क्या होगा?

+ और -, 7 और 9 ; $8 \times 7 + 9 \div 1 - 5$

Ans 1. 70

2. 10

3. 60

4. 40

Question Type : MCQ

Question ID : 264330137103

Option 1 ID : 264330537056

Option 2 ID : 264330537055

Option 3 ID : 264330537058

Option 4 ID : 264330537057

Status : Answered

Chosen Option : 3

Q.14 उस विकल्प आकृति को चुनिए जिसमें दी गई आकृति (X) इसके भाग के रूप में निहित है (घूर्णन की अनुमति नहीं है)।



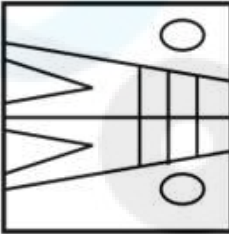
X

Ans

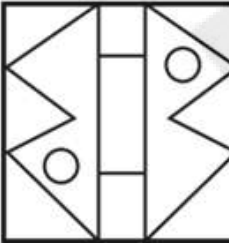
✓ 1.



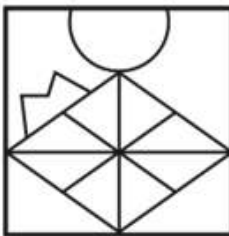
✗ 2.



✗ 3.



✗ 4.



Question Type : MCQ

Question ID : 264330138826

Option 1 ID : 264330543911

Option 2 ID : 264330543913

Option 3 ID : 264330543914

Option 4 ID : 264330543912

Status : Answered

Chosen Option : 1

Q.15 एक निश्चित कूट भाषा में, 'FOREIGN' को 'EFGINOR' लिखा जाता है। उस कूट भाषा में 'NUCLEAR' को कैसे लिखा जाएगा?

- Ans
- 1. AECLNRU
 - 2. ACELRUN
 - 3. ACELNUR
 - 4. ACELNRU

Question Type : MCQ
Question ID : 264330137543
Option 1 ID : 264330538780
Option 2 ID : 264330538781
Option 3 ID : 264330538782
Option 4 ID : 264330538779
Status : Answered
Chosen Option : 1

Q.16 पाँच लड़कियाँ मानसी, काजल, रीतू, टीना और रिया के अंकों की तुलना की जाती हैं। रिया के अंक मानसी से कम लेकिन टीना से अधिक हैं। रीतू के अंक टीना, रिया और मानसी से कम हैं। काजल के अंक रीतू से कम हैं। कितनी लड़कियों के अंक रिया के अंकों से कम हैं?

- Ans
- 1. 3
 - 2. 0
 - 3. 2
 - 4. 1

Question Type : MCQ
Question ID : 264330137096
Option 1 ID : 264330537029
Option 2 ID : 264330537030
Option 3 ID : 264330537028
Option 4 ID : 264330537027
Status : Answered
Chosen Option : 3

Q.17 (::) के बाईं ओर दिए गए शब्द एक-दूसरे से किसी तर्क/नियम/संबंध द्वारा संबंधित हैं। उसी तर्क/नियम/संबंध के आधार पर दिए गए विकल्पों में से (::) के दाईं ओर लुप्त शब्द/शब्द युग्म को चुनिए।

आर्द्रतामापी : आर्द्रता :: वायुवेगमापी : ?

- Ans
- 1. लंबाई
 - 2. पवन
 - 3. ताप
 - 4. विद्युत धारा

Question Type : MCQ
Question ID : 264330137088
Option 1 ID : 264330536997
Option 2 ID : 264330536998
Option 3 ID : 264330536996
Option 4 ID : 264330536995
Status : Answered
Chosen Option : 2

Q.18 निम्नलिखित प्रश्न में, दी गई श्रृंखला में लुप्त संख्या को चुनिए।

10, 4, 3, 3.5, 6, ?

- Ans
- 1. 9
 - 2. 14
 - 3. 10
 - 4. 12

Question Type : MCQ

Question ID : 264330137100

Option 1 ID : 264330537046

Option 2 ID : 264330537044

Option 3 ID : 264330537043

Option 4 ID : 264330537045

Status : Answered

Chosen Option : 1

Q.19 नीचे दिए गए प्रश्न में कुछ कथन दिए गए हैं और उन कथनों के आधार पर कुछ निष्कर्ष दिए गए हैं। आपको मानना है कि दिए गए कथन सत्य हैं चाहे वे समान्यतः जात तथ्यों से अलग प्रतीत होते हों। सभी निष्कर्षों को पढ़िए और फिर निश्चय कीजिए कि दिए गए निष्कर्षों में से कौन-सा निष्कर्ष तार्किक रूप से दिए गए कथनों के अनुसार है।

कथन:

- I. कोई कुर्सी, ठोस नहीं है।
- II. कोई मेज, ठोस नहीं है।

निष्कर्ष:

- I. कुछ मेज, कुर्सी हैं।
- II. कोई ठोस, कुर्सी नहीं है।

- Ans
- 1. दोनों निष्कर्ष I और II कथनों के अनुसार हैं
 - 2. केवल निष्कर्ष II कथनों के अनुसार है
 - 3. केवल निष्कर्ष I कथनों के अनुसार है
 - 4. कोई भी निष्कर्ष कथनों के अनुसार नहीं है

Question Type : MCQ

Question ID : 264330137097

Option 1 ID : 264330537033

Option 2 ID : 264330537032

Option 3 ID : 264330537031

Option 4 ID : 264330537034

Status : Answered

Chosen Option : 4

Q.20 उस विकल्प को चुनिए जिसमें समुच्चय की संख्याएँ वही संबंध साझा करती हैं जो दिए गए समुच्चय में संख्याओं द्वारा साझा किया जाता है। (ध्यान दें: संख्याओं को उनके घटक अंकों में अलग-अलग किए बिना, पूर्ण संख्याओं पर संक्रियाएँ की जानी चाहिए। उदा. 13 - 13 पर संक्रियाएँ जैसे 13 को जोड़ना /घटाना /गुणा करना आदि किया जा सकता है। 13 को 1 और 3 में अलग-अलग करने की और फिर 1 और 3 पर गणितीय संक्रियाएँ करने की अनुमति नहीं है)

(5, 50, 500)

(3, 30, 300)

Ans ✓ 1. (7, 70, 700)

✗ 2. (11, 110, 2200)

✗ 3. (14, 140, 1500)

✗ 4. (12, 220, 440)

Question Type : **MCQ**

Question ID : **264330137102**

Option 1 ID : **264330537051**

Option 2 ID : **264330537052**

Option 3 ID : **264330537054**

Option 4 ID : **264330537053**

Status : **Answered**

Chosen Option : **1**

Section : **General Awareness**

Q.1 भारत में अभियंता दिवस _____ की स्मृति में मनाया जाता है।

Ans ✗ 1. कल्पना चावला

✓ 2. डॉ. एम. विश्वेश्वरैया

✗ 3. सतीश धवन

✗ 4. ए. पी. जे. अब्दुल कलाम

Question Type : **MCQ**

Question ID : **264330137019**

Option 1 ID : **264330536721**

Option 2 ID : **264330536722**

Option 3 ID : **264330536719**

Option 4 ID : **264330536720**

Status : **Answered**

Chosen Option : **2**

Q.2 वृक्ष और झाड़ियों की खेती _____ कहलाती है।

- Ans
- ✓ 1. अर्बोरीकल्चर
 - ✗ 2. ऐविकल्चर
 - ✗ 3. एपिकल्चर
 - ✗ 4. विटिकल्चर

Question Type : MCQ
Question ID : 264330137720
Option 1 ID : 264330539488
Option 2 ID : 264330539487
Option 3 ID : 264330539490
Option 4 ID : 264330539489
Status : Answered
Chosen Option : 1

Q.3 बजट 2022 में की गई घोषणा के अनुसार, कॉर्पोरेट अधिभार (surcharge) को 12% से घटाकर _____ कर दिया गया था।

- Ans
- ✓ 1. 7%
 - ✗ 2. 10%
 - ✗ 3. 9%
 - ✗ 4. 5%

Question Type : MCQ
Question ID : 264330137735
Option 1 ID : 264330539549
Option 2 ID : 264330539547
Option 3 ID : 264330539550
Option 4 ID : 264330539548
Status : Answered
Chosen Option : 2

Q.4 कथक नृत्य का राष्ट्रीय संस्थान _____ में स्थित है।

- Ans
- ✗ 1. लखनऊ
 - ✓ 2. नई दिल्ली
 - ✗ 3. वाराणसी
 - ✗ 4. मेरठ

Question Type : MCQ
Question ID : 264330137011
Option 1 ID : 264330536687
Option 2 ID : 264330536690
Option 3 ID : 264330536688
Option 4 ID : 264330536689
Status : Answered
Chosen Option : 2

Q.5 भारत ने टोक्यो ओलंपिक 2020 (वर्ष 2021 में खेले गए) में कुल कितने पदक जीते?

- Ans
- 1. छः
 - 2. सात
 - 3. पाँच
 - 4. आठ

Question Type : MCQ
Question ID : 264330133860
Option 1 ID : 264330524464
Option 2 ID : 264330524465
Option 3 ID : 264330524463
Option 4 ID : 264330524466
Status : Answered
Chosen Option : 2

Q.6 संकरी नलियों द्वारा पौधों को जल देने की तकनीक, जो सीधे उनकी जड़ों तक जल पहुँचाती है _____ कहलाती है।

- Ans
- 1. पृष्ठीय सिंचाई
 - 2. ड्रिप सिंचाई
 - 3. नहर सिंचाई
 - 4. छिड़काव सिंचाई

Question Type : MCQ
Question ID : 264330133870
Option 1 ID : 264330524505
Option 2 ID : 264330524503
Option 3 ID : 264330524504
Option 4 ID : 264330524506
Status : Answered
Chosen Option : 2

Q.7 भारत में मेलोडी क्वीन के नाम से किसे जाना जाता था?

- Ans
- 1. अनुराधा पौडवाल
 - 2. ज़रीन एस. शर्मा
 - 3. लता मंगेशकर
 - 4. शुभा मुद्गल

Question Type : MCQ
Question ID : 264330137017
Option 1 ID : 264330536711
Option 2 ID : 264330536714
Option 3 ID : 264330536713
Option 4 ID : 264330536712
Status : Answered
Chosen Option : 3

Q.8 भारत के सर्वोच्च न्यायालय द्वारा, बेटियों को उनकी पैतृक संपत्ति में समान अधिकार प्रदान करने के लिए किस अधिनियम में संशोधन किया गया है?

Ans 1.

न्यायिक अवमानना अधिनियम (The Contempt of Courts Act)

2. हिन्दू विवाह अधिनियम (Hindu Marriage Act)

3.

हिन्दू उत्तराधिकार अधिनियम (Hindu Succession Act)

4. शारदा अधिनियम (Sarda Act)

Question Type : MCQ

Question ID : 264330134057

Option 1 ID : 264330525252

Option 2 ID : 264330525254

Option 3 ID : 264330525253

Option 4 ID : 264330525251

Status : Answered

Chosen Option : 3

Q.9 भारत की सीमा _____ में अफगानिस्तान और पाकिस्तान से लगती है।

Ans 1. उत्तर-पश्चिम

2. उत्तर-पूर्व

3. दक्षिण

4. दक्षिण-पश्चिम

Question Type : MCQ

Question ID : 264330137981

Option 1 ID : 264330540531

Option 2 ID : 264330540532

Option 3 ID : 264330540534

Option 4 ID : 264330540533

Status : Answered

Chosen Option : 1

Q.10 वी. सत्यनारायण सरमा (V. Satyanarayana Sarma), जिन्हें 'सत्यम' के नाम से जाना जाता है, निम्नलिखित में से किस नृत्य शैली से संबंधित हैं?

Ans 1. मोहिनीअट्टम

2. भरतनाट्यम

3. कथकली

4. कुचिपुड़ी

Question Type : MCQ

Question ID : 264330137730

Option 1 ID : 264330539528

Option 2 ID : 264330539529

Option 3 ID : 264330539530

Option 4 ID : 264330539527

Status : Answered

Chosen Option : 2

Q.11 2011 की जनगणना के अनुसार, निम्न में से किस राज्य का जनसंख्या घनत्व सर्वाधिक है?

- Ans
- 1. उत्तरप्रदेश
 - 2. तमिलनाडु
 - 3. महाराष्ट्र
 - 4. बिहार

Question Type : MCQ
Question ID : 264330137047
Option 1 ID : 264330536834
Option 2 ID : 264330536833
Option 3 ID : 264330536832
Option 4 ID : 264330536831
Status : Answered
Chosen Option : 1

Q.12 वर्षा को _____ नामक एक यंत्र द्वारा मापा जाता है।

- Ans
- 1. वर्षामापी (rain gauge)
 - 2. वर्षा परिकलक (rain calculator)
 - 3. अवक्षेपक (precipitator)
 - 4. रेन कैचर (rain catcher)

Question Type : MCQ
Question ID : 264330133871
Option 1 ID : 264330524508
Option 2 ID : 264330524509
Option 3 ID : 264330524510
Option 4 ID : 264330524507
Status : Answered
Chosen Option : 1

Q.13 राष्ट्रकूट वंश के संस्थापक _____ थे।

- Ans
- 1. दन्तिदुर्ग
 - 2. कृष्णादुर्ग
 - 3. अमोघवर्ष
 - 4. गोविंददुर्ग

Question Type : MCQ
Question ID : 264330133878
Option 1 ID : 264330524536
Option 2 ID : 264330524538
Option 3 ID : 264330524535
Option 4 ID : 264330524537
Status : Answered
Chosen Option : 2

Q.14 "उगादि" का त्योहार हर वर्ष हिंदू महीने _____ के पहले दिन मनाया जाता है।

Ans 1. आषाढ़

2. चैत्र

3. ज्येष्ठ

4. कार्तिक

Question Type : MCQ

Question ID : 264330138872

Option 1 ID : 264330544097

Option 2 ID : 264330544096

Option 3 ID : 264330544098

Option 4 ID : 264330544095

Status : Answered

Chosen Option : 1

Q.15 मोतीलाल नेहरू और सी.आर. दास ने किस आंदोलन में अपनी वकालत छोड़ दी?

Ans 1. असहयोग आंदोलन (Non-Cooperation Movement)

2.

सविनय अवज्ञा आंदोलन (Civil Disobedience Movement)

3. स्वाभिमान आंदोलन (Self-respect Movement)

4. भारत छोड़ो आंदोलन (Quit India Movement)

Question Type : MCQ

Question ID : 264330138895

Option 1 ID : 264330544189

Option 2 ID : 264330544188

Option 3 ID : 264330544190

Option 4 ID : 264330544187

Status : Answered

Chosen Option : 4

Q.16 "वन लाइफ इज नॉट इनफ (One Life is Not Enough)" निम्नलिखित में से किस लेखक द्वारा लिखी गई है?

Ans 1. झुंपा लाहिड़ी

2. फ़राज़ अहमद

3. के. नटवर सिंह

4. खुशवंत सिंह

Question Type : MCQ

Question ID : 264330137728

Option 1 ID : 264330539522

Option 2 ID : 264330539521

Option 3 ID : 264330539519

Option 4 ID : 264330539520

Status : Not Answered

Chosen Option : --

Q.17 ऐसे पदार्थों, जिनसे होकर वस्तुओं को देख तो सकते हैं, परंतु बहुत स्पष्ट नहीं देखा जा सकता, उन्हें _____ कहते हैं।

- Ans
- 1. अपारदर्शी पदार्थ
 - 2. पारभासी पदार्थ
 - 3. संवाही पदार्थ
 - 4. पारदर्शी पदार्थ

Question Type : MCQ
Question ID : 264330133872
Option 1 ID : 264330524513
Option 2 ID : 264330524512
Option 3 ID : 264330524514
Option 4 ID : 264330524511
Status : Answered
Chosen Option : 2

Q.18 "गोपुरम (Gopuram)" या मंदिर का प्रवेश द्वार किस मंदिर स्थापत्यकला की विशेषता है?

- Ans
- 1. उत्तर भारतीय मंदिर स्थापत्यकला
 - 2. बौद्ध स्थापत्यकला
 - 3. दक्षिण भारतीय मंदिर स्थापत्यकला
 - 4. जैन स्थापत्यकला

Question Type : MCQ
Question ID : 264330134060
Option 1 ID : 264330525263
Option 2 ID : 264330525265
Option 3 ID : 264330525264
Option 4 ID : 264330525266
Status : Answered
Chosen Option : 3

Q.19 कलिंग (Kalinga), जिसे सम्राट अशोक ने जीता था, _____ का प्राचीन नाम है।

- Ans
- 1. तटीय उड़ीसा
 - 2. तटीय बंगाल
 - 3. तटीय कर्नाटक
 - 4. तटीय तमिलनाडु

Question Type : MCQ
Question ID : 264330138892
Option 1 ID : 264330544176
Option 2 ID : 264330544175
Option 3 ID : 264330544177
Option 4 ID : 264330544178
Status : Answered
Chosen Option : 1

Q.20 1875 के दक्कन विद्रोह _____ में हुए थे।

- Ans
- 1. बिहार
 - 2. हिमाचल प्रदेश
 - 3. महाराष्ट्र
 - 4. पश्चिम बंगाल

Question Type : MCQ
Question ID : 264330134071
Option 1 ID : 264330525309
Option 2 ID : 264330525307
Option 3 ID : 264330525308
Option 4 ID : 264330525310
Status : Answered
Chosen Option : 3

Q.21 निम्नलिखित में से किस अनुच्छेद में, "संस्कृति एवं शिक्षा के अधिकार" का उल्लेख किया गया है?

- Ans
- 1. अनुच्छेद 19 - 22
 - 2. अनुच्छेद 23 - 24
 - 3. अनुच्छेद 25 - 28
 - 4. अनुच्छेद 29 - 30

Question Type : MCQ
Question ID : 264330137023
Option 1 ID : 264330536738
Option 2 ID : 264330536737
Option 3 ID : 264330536736
Option 4 ID : 264330536735
Status : Answered
Chosen Option : 1

Q.22 Water comes out of the leaves in the form of vapour by a process called _____.

- Ans
- 1. creepers
 - 2. venation
 - 3. transportation
 - 4. transpiration

Question Type : MCQ
Question ID : 264330137024
Option 1 ID : 264330536740
Option 2 ID : 264330536739
Option 3 ID : 264330536742
Option 4 ID : 264330536741
Status : Answered
Chosen Option : 4

Q.23 डूरंड कप (Durand Cup) की स्थापना शिमला में वर्ष _____ में हुई थी।

- Ans
- ✓ 1. 1888
 - ✗ 2. 1868
 - ✗ 3. 1858
 - ✗ 4. 1878

Question Type : MCQ
Question ID : 264330137014
Option 1 ID : 264330536702
Option 2 ID : 264330536700
Option 3 ID : 264330536699
Option 4 ID : 264330536701
Status : Not Answered
Chosen Option : --

Q.24 किस बल के कारण पवनें उत्तरी गोलार्ध में दाहिनी ओर तथा दक्षिणी गोलार्ध में बाईं ओर विक्षेपित हो जाती हैं?

- Ans
- ✓ 1. कोरिआलिस बल
 - ✗ 2. चुंबकीय बल
 - ✗ 3. गुरुत्वाकर्षण बल
 - ✗ 4. घर्षण बल

Question Type : MCQ
Question ID : 264330137029
Option 1 ID : 264330536760
Option 2 ID : 264330536761
Option 3 ID : 264330536759
Option 4 ID : 264330536762
Status : Answered
Chosen Option : 1

Q.25 केंद्र सरकार की "पहल योजना (PAHAL Scheme)" _____ से संबंधित है।

- Ans
- ✓ 1. एलपीजी (LPG) सब्सिडी
 - ✗ 2. स्नानगृह निर्माण
 - ✗ 3. बालिका छात्रवृत्ति
 - ✗ 4. चिकित्सा सब्सिडी

Question Type : MCQ
Question ID : 264330137020
Option 1 ID : 264330536725
Option 2 ID : 264330536723
Option 3 ID : 264330536726
Option 4 ID : 264330536724
Status : Answered
Chosen Option : 3

Q.1 In the following question, out of the given four alternatives, select the alternative which best expresses the meaning of the Idiom/Phrase.

To fly into a rage

- Ans**
- 1. To get very angry
 - 2. To make inappropriate gestures
 - 3. To be very excited
 - 4. To harm oneself

Question Type : **MCQ**
Question ID : **264330135303**
Option 1 ID : **264330530125**
Option 2 ID : **264330530123**
Option 3 ID : **264330530124**
Option 4 ID : **264330530126**
Status : **Answered**
Chosen Option : **3**

Q.2 Select the appropriate synonym for the underlined word.

There are actually many different versions of "Cinderella."

- Ans**
- 1. Signals
 - 2. Variations
 - 3. Problems
 - 4. Features

Question Type : **MCQ**
Question ID : **264330135298**
Option 1 ID : **264330530105**
Option 2 ID : **264330530103**
Option 3 ID : **264330530106**
Option 4 ID : **264330530104**
Status : **Answered**
Chosen Option : **2**

Q.3 Choose the sentence with no spelling error.

- Ans**
- 1. We can't blame a bad governmnet budget.
 - 2. We can't blamme a bad government buget.
 - 3. We can't blame a bad government budget.
 - 4. We can't blame a bad goverment budget.

Question Type : **MCQ**
Question ID : **264330136844**
Option 1 ID : **264330536067**
Option 2 ID : **264330536069**
Option 3 ID : **264330536068**
Option 4 ID : **264330536070**
Status : **Answered**
Chosen Option : **3**

Q.4 A sentence has been given with a blank to be filled with an appropriate option. Choose the correct alternative.

I have _____ to understand your problem.

- Ans**
- 1. begin
 - 2. begun
 - 3. beginning
 - 4. began

Question Type : **MCQ**
Question ID : **264330135288**
Option 1 ID : **264330530068**
Option 2 ID : **264330530069**
Option 3 ID : **264330530067**
Option 4 ID : **264330530070**
Status : **Answered**
Chosen Option : **2**

Q.5 Select the appropriate antonym for the underlined word.

Many children still do not have access to quality education that will harness their inherent abilities and talent.

- Ans**
- 1. handle
 - 2. exploit
 - 3. misapply
 - 4. direct

Question Type : **MCQ**
Question ID : **264330135301**
Option 1 ID : **264330530116**
Option 2 ID : **264330530115**
Option 3 ID : **264330530117**
Option 4 ID : **264330530118**
Status : **Answered**
Chosen Option : **1**

Q.6 A sentence has been given with a blank to be filled with an appropriate option. Choose the correct alternative.

The small amount of fusion fuel _____ to be heated to huge temperatures.

- Ans**
- 1. needing
 - 2. need
 - 3. needful
 - 4. needs

Question Type : **MCQ**
Question ID : **264330136880**
Option 1 ID : **264330536210**
Option 2 ID : **264330536208**
Option 3 ID : **264330536209**
Option 4 ID : **264330536207**
Status : **Answered**
Chosen Option : **4**

Q.7 Select the most appropriate option to fill in the blank.

His _____ of smoking in restaurants created a lot of issues in New York.

- Ans
- 1. habit
 - 2. reputation
 - 3. orbit
 - 4. hatred

Question Type : MCQ
Question ID : 264330136845
Option 1 ID : 264330536073
Option 2 ID : 264330536071
Option 3 ID : 264330536074
Option 4 ID : 264330536072
Status : Answered
Chosen Option : 1

Q.8 Find the part of the given sentence that has an error in it. If there is no error, choose 'No error'.

Largest farmers usually have more money, social power and local influence.

- Ans
- 1. No error
 - 2. Largest farmers usually
 - 3. and local influence.
 - 4. have more money, social power

Question Type : MCQ
Question ID : 264330135284
Option 1 ID : 264330530054
Option 2 ID : 264330530051
Option 3 ID : 264330530053
Option 4 ID : 264330530052
Status : Answered
Chosen Option : 4

Q.9 Improve the underlined part of the sentence. Choose 'No improvement' as an answer if the sentence is grammatically correct.

I have to work in the morning, but I is freer in the afternoon.

- Ans
- 1. am frees
 - 2. am free
 - 3. is freed
 - 4. No improvement

Question Type : MCQ
Question ID : 264330134531
Option 1 ID : 264330527084
Option 2 ID : 264330527085
Option 3 ID : 264330527083
Option 4 ID : 264330527086
Status : Answered
Chosen Option : 2

Q.10 Choose the word that can substitute the given group of words.
To renounce a throne

- Ans 1. Abdicate
 2. Abort
 3. Assert
 4. Avow

Question Type : **MCQ**
Question ID : **264330134334**
Option 1 ID : **264330526326**
Option 2 ID : **264330526324**
Option 3 ID : **264330526325**
Option 4 ID : **264330526323**
Status : **Not Answered**
Chosen Option : --

Q.11 Select the most appropriate option to substitute the bracketed segment in the given sentence. If there is no need to substitute it, select 'no substitution required'.

Some of them were nearly (as hard as ligament, and many an inch in length).

- Ans 1. hard as ligament, and many an inch at length
 2. as hard as ligaments, and many were an inch long
 3. as hard as a ligament, and many an inches in length
 4. No substitution required

Question Type : **MCQ**
Question ID : **264330136513**
Option 1 ID : **264330534797**
Option 2 ID : **264330534796**
Option 3 ID : **264330534795**
Option 4 ID : **264330534798**
Status : **Answered**
Chosen Option : **2**

Q.12 Identify the segment that contains a grammatical error. If there is no error, select 'No error'.

His struggles were becoming/ more and more frenzier,/ a wild look creeping into his blue eyes.

- Ans 1. a wild look creeping into his blue eyes.
 2. His struggles were becoming
 3. more and more frenzier,
 4. No error

Question Type : **MCQ**
Question ID : **264330136510**
Option 1 ID : **264330534785**
Option 2 ID : **264330534783**
Option 3 ID : **264330534784**
Option 4 ID : **264330534786**
Status : **Answered**
Chosen Option : **3**

Q.13 Choose the incorrectly spelt word.

- Ans
- 1. Loss
 - 2. Loose
 - 3. Local
 - 4. Losare

Question Type : MCQ
Question ID : 264330135304
Option 1 ID : 264330530129
Option 2 ID : 264330530128
Option 3 ID : 264330530130
Option 4 ID : 264330530127
Status : Answered
Chosen Option : 4

Q.14 Find the part of the given sentence that has an error in it. If there is no error, choose 'No error'.
I want all the culprits to be punished immediate.

- Ans
- 1. the culprits to
 - 2. No error
 - 3. I want all
 - 4. be punished immediate.

Question Type : MCQ
Question ID : 264330134399
Option 1 ID : 264330526576
Option 2 ID : 264330526578
Option 3 ID : 264330526575
Option 4 ID : 264330526577
Status : Answered
Chosen Option : 4

Q.15 Choose the word that can substitute the given group of words.

A place where fruit trees are grown

- Ans
- 1. Cemetery
 - 2. Botanical
 - 3. Orchard
 - 4. Dyke

Question Type : MCQ
Question ID : 264330135297
Option 1 ID : 264330530101
Option 2 ID : 264330530100
Option 3 ID : 264330530099
Option 4 ID : 264330530102
Status : Answered
Chosen Option : 2

Q.16 Improve the underlined part of the sentence. Choose 'No improvement' as an answer if the sentence is grammatically correct.

The rise in temperature disturbs the rain cycle.

- Ans**
- 1. No improvement
 - 2. was disturbed the rain order
 - 3. disturb the rainy cycle
 - 4. disturbing the rain cycle

Question Type : **MCQ**
Question ID : **264330135313**
Option 1 ID : **264330530166**
Option 2 ID : **264330530165**
Option 3 ID : **264330530164**
Option 4 ID : **264330530163**
Status : **Answered**
Chosen Option : **1**

Q.17 Choose the word that is opposite in meaning to the given word.
Suspicion

- Ans**
- 1. Tremor
 - 2. Conviction
 - 3. Incertitude
 - 4. Niggle

Question Type : **MCQ**
Question ID : **264330134546**
Option 1 ID : **264330527142**
Option 2 ID : **264330527140**
Option 3 ID : **264330527139**
Option 4 ID : **264330527141**
Status : **Not Answered**
Chosen Option : **--**

Q.18 Select the most appropriate option to fill in the blank.

I am just saying that maybe you are letting emotion _____ your better judgment right now.

- Ans**
- 1. cloud
 - 2. clamp
 - 3. finger
 - 4. clog

Question Type : **MCQ**
Question ID : **264330135307**
Option 1 ID : **264330530140**
Option 2 ID : **264330530142**
Option 3 ID : **264330530139**
Option 4 ID : **264330530141**
Status : **Answered**
Chosen Option : **1**

Q.19 Choose the word that means the same as the given word.

Backstab

- Ans 1. Betray
 2. Berate
 3. Bleary
 4. Blare

Question Type : MCQ
Question ID : 264330136864
Option 1 ID : 264330536145
Option 2 ID : 264330536144
Option 3 ID : 264330536146
Option 4 ID : 264330536143
Status : Not Answered
Chosen Option : --

Q.20 In the following question, out of the given four alternatives, select the alternative which best expresses the meaning of the Idiom/Phrase.
To button one's lips

- Ans 1. To keep silence
 2. To kidnap somebody
 3. To advance in harmony
 4. To rain heavily

Question Type : MCQ
Question ID : 264330134340
Option 1 ID : 264330526349
Option 2 ID : 264330526350
Option 3 ID : 264330526347
Option 4 ID : 264330526348
Status : Answered
Chosen Option : 2

Comprehension:

In the following passage some of the words have been deleted. Read the passage carefully and select the correct answer for the given blank out of the four alternatives.

An 'occupational disease' is any disease (1)_____ primarily by exposure at work (2)_____ a physical, organisational, chemical or biological risk (3)_____ or to a combination of these factors. Occupational diseases are (4)_____ those listed in national legislation as resulting from exposure to risk factors at (5)_____.

SubQuestion No : 21

Q.21 Select the most appropriate option to fill in blank number 1.

- Ans 1. caused
 2. flawed
 3. posed
 4. abated

Question Type : MCQ
Question ID : 264330134537
Option 1 ID : 264330527104
Option 2 ID : 264330527105
Option 3 ID : 264330527106
Option 4 ID : 264330527103
Status : Answered
Chosen Option : 1

Comprehension:

In the following passage some of the words have been deleted. Read the passage carefully and select the correct answer for the given blank out of the four alternatives.

An 'occupational disease' is any disease (1)_____ primarily by exposure at work (2)_____ a physical, organisational, chemical or biological risk (3)_____ or to a combination of these factors. Occupational diseases are (4)_____ those listed in national legislation as resulting from exposure to risk factors at (5)_____.

SubQuestion No : 22

Q.22 Select the most appropriate option to fill in blank number 2.

- Ans
- 1. on
 - 2. in
 - 3. of
 - 4. to

Question Type : **MCQ**

Question ID : **264330134538**

Option 1 ID : **264330527110**

Option 2 ID : **264330527107**

Option 3 ID : **264330527108**

Option 4 ID : **264330527109**

Status : **Answered**

Chosen Option : **2**

Comprehension:

In the following passage some of the words have been deleted. Read the passage carefully and select the correct answer for the given blank out of the four alternatives.

An 'occupational disease' is any disease (1)_____ primarily by exposure at work (2)_____ a physical, organisational, chemical or biological risk (3)_____ or to a combination of these factors. Occupational diseases are (4)_____ those listed in national legislation as resulting from exposure to risk factors at (5)_____.

SubQuestion No : 23

Q.23 Select the most appropriate option to fill in blank number 3.

- Ans
- 1. maker
 - 2. part
 - 3. exposure
 - 4. factor

Question Type : **MCQ**

Question ID : **264330134539**

Option 1 ID : **264330527111**

Option 2 ID : **264330527114**

Option 3 ID : **264330527112**

Option 4 ID : **264330527113**

Status : **Answered**

Chosen Option : **4**

Comprehension:

In the following passage some of the words have been deleted. Read the passage carefully and select the correct answer for the given blank out of the four alternatives.

An 'occupational disease' is any disease (1)_____ primarily by exposure at work (2)_____ a physical, organisational, chemical or biological risk (3)_____ or to a combination of these factors. Occupational diseases are (4)_____ those listed in national legislation as resulting from exposure to risk factors at (5)_____.

SubQuestion No : 24

Q.24 Select the most appropriate option to fill in blank number 4.

- Ans 1. manually
 2. radically
 3. mostly
 4. oddly

Question Type : **MCQ**

Question ID : **264330134540**

Option 1 ID : **264330527115**

Option 2 ID : **264330527116**

Option 3 ID : **264330527118**

Option 4 ID : **264330527117**

Status : **Answered**

Chosen Option : **3**

Comprehension:

In the following passage some of the words have been deleted. Read the passage carefully and select the correct answer for the given blank out of the four alternatives.

An 'occupational disease' is any disease (1)_____ primarily by exposure at work (2)_____ a physical, organisational, chemical or biological risk (3)_____ or to a combination of these factors. Occupational diseases are (4)_____ those listed in national legislation as resulting from exposure to risk factors at (5)_____.

SubQuestion No : 25

Q.25 Select the most appropriate option to fill in blank number 5.

- Ans 1. home
 2. work
 3. office
 4. bank

Question Type : **MCQ**

Question ID : **264330134541**

Option 1 ID : **264330527120**

Option 2 ID : **264330527121**

Option 3 ID : **264330527122**

Option 4 ID : **264330527119**

Status : **Answered**

Chosen Option : **2**