

Multi Tasking Non Technical Staff and Havaldar CBIC and CBN Examination 2022

Roll Number	
Candidate Name	
Venue Name	Vibrant Assessment Centre
Exam Date	17/05/2023
Exam Time	12:00 PM - 2:00 PM
Subject	MTS Non Tech Havaldar CBIC and CBN Examination 2022

Section : Numerical and Mathematical Ability

Q.1 साधारण ब्याज पर 20 वर्ष में कोई धनराशि कितने प्रतिशत वार्षिक दर पर तिगुनी हो जाएगी?

- Ans
- 1. 18% वार्षिक
 - 2. 10% वार्षिक
 - 3. 20% वार्षिक
 - 4. 12% वार्षिक

Question Type : MCQ

Question ID : 264330138358

Option 1 ID : 264330542042

Option 2 ID : 264330542039

Option 3 ID : 264330542040

Option 4 ID : 264330542041

Status : Answered

Chosen Option : 2

Q.2 15% का बढा देने के बाद, एक डीलर एक मोटर को Rs.3570 में बेचना चाहता है। मोटर का अंकित मूल्य क्या होना चाहिए?

- Ans
- 1. Rs.4000
 - 2. Rs.3900
 - 3. Rs.4800
 - 4. Rs.4200

Question Type : MCQ

Question ID : 264330133680

Option 1 ID : 264330523743

Option 2 ID : 264330523746

Option 3 ID : 264330523745

Option 4 ID : 264330523744

Status : Answered

Chosen Option : 4

Q.3 हानि प्रतिशत ज्ञात कीजिए यदि: क्रय मूल्य = Rs. 4500 और विक्रय मूल्य = Rs. 3900

- Ans
- ✓ 1. 13.3 %
 - ✗ 2. 14.5 %
 - ✗ 3. 14 %
 - ✗ 4. 13 %

Question Type : MCQ
Question ID : 264330135093
Option 1 ID : 264330529308
Option 2 ID : 264330529310
Option 3 ID : 264330529309
Option 4 ID : 264330529307
Status : Answered
Chosen Option : 1

Q.4 तीन कक्षाओं में छात्रों की संख्या 3:7:8 के अनुपात में है। यदि प्रत्येक कक्षा में 6 छात्रों की वृद्धि होती है, तो अनुपात 11:23:26 हो जाता है। वृद्धि से पहले तीनों कक्षाओं में छात्रों की कुल संख्या ज्ञात कीजिए।

- Ans
- ✓ 1. 162
 - ✗ 2. 144
 - ✗ 3. 90
 - ✗ 4. 112

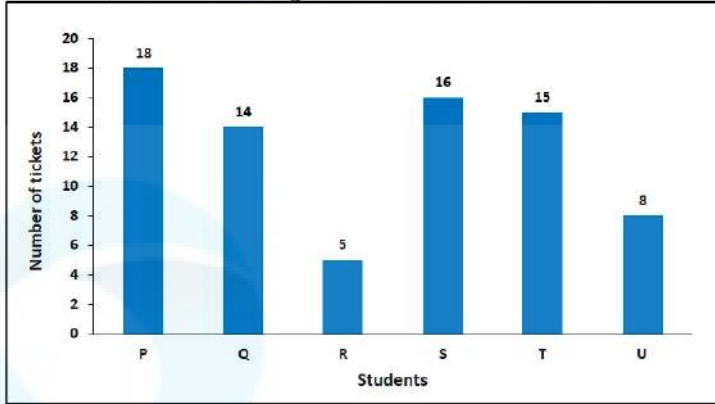
Question Type : MCQ
Question ID : 264330135372
Option 1 ID : 264330530395
Option 2 ID : 264330530396
Option 3 ID : 264330530398
Option 4 ID : 264330530397
Status : Answered
Chosen Option : 4

Q.5 12 वर्षों में एक व्यक्ति द्वारा Rs.12000 के मूलधन पर प्राप्त साधारण ब्याज मूलधन का 120 प्रतिशत है। वार्षिक ब्याज दर क्या है?

- Ans
- ✗ 1. 5 प्रतिशत
 - ✗ 2. 12 प्रतिशत
 - ✗ 3. 20 प्रतिशत
 - ✓ 4. 10 प्रतिशत

Question Type : MCQ
Question ID : 264330137655
Option 1 ID : 264330539227
Option 2 ID : 264330539230
Option 3 ID : 264330539229
Option 4 ID : 264330539228
Status : Answered
Chosen Option : 4

Q.6 निम्नलिखित आलेख में एक मेले के दौरान 6 छात्रों P, Q, R, S, T और U द्वारा बेचे गए टिकटों की संख्या को दर्शाया गया है। Q, S और U द्वारा कुल टिकटों का कितना प्रतिशत बेचा गया?



Number of tickets = टिकटों की संख्या, Students = छात्र

- Ans
- 1. 40%
 - 2. 20%
 - 3. 50%
 - 4. 30%

Question Type : MCQ

Question ID : 264330133689

Option 1 ID : 264330523781

Option 2 ID : 264330523779

Option 3 ID : 264330523782

Option 4 ID : 264330523780

Status : Answered

Chosen Option : 3

Q.7 एक टीवी को Rs.39216 में बेचने पर राकेश को 4% की हानि होती है। 4% लाभ अर्जित करने के लिए टीवी को किस मूल्य पर बेचा जाना चाहिए?

- Ans
- 1. Rs.42484
 - 2. Rs.45600
 - 3. Rs.48560
 - 4. Rs.49780

Question Type : MCQ

Question ID : 264330133679

Option 1 ID : 264330523741

Option 2 ID : 264330523739

Option 3 ID : 264330523740

Option 4 ID : 264330523742

Status : Answered

Chosen Option : 2

Q.8 $0.4 \times 0.5 + 2 \times (0.10 - 0.5)$ का मान क्या है?

- Ans
- 1. 0.40
 - 2. 1
 - 3. 0
 - 4. -0.60

Question Type : MCQ

Question ID : 264330133673

Option 1 ID : 264330523715

Option 2 ID : 264330523717

Option 3 ID : 264330523718

Option 4 ID : 264330523716

Status : Answered

Chosen Option : 1

Q.9 एक घनाभ की विमाएँ $80 \text{ cm} \times 64 \text{ cm} \times 50 \text{ cm}$ हैं। दिए गए घनाभ में 8 cm भुजा वाले कितने छोटे घन रखे जा सकते हैं?

- Ans
- 1. 1000
 - 2. 200
 - 3. 480
 - 4. 700

Question Type : MCQ

Question ID : 264330138720

Option 1 ID : 264330543487

Option 2 ID : 264330543488

Option 3 ID : 264330543490

Option 4 ID : 264330543489

Status : Answered

Chosen Option : 1

Q.10 पाँच घंटियाँ एक साथ बजने लगती हैं और क्रमशः 5, 10, 15, 20 और 25 सेकंड के अंतराल पर बजती हैं। 1 घंटे 20 मिनट में वे कितनी बार एक साथ बजती हैं?

- Ans
- 1. 20 बार
 - 2. 15 बार
 - 3. 14 बार
 - 4. 17 बार

Question Type : MCQ

Question ID : 264330138436

Option 1 ID : 264330542354

Option 2 ID : 264330542353

Option 3 ID : 264330542351

Option 4 ID : 264330542352

Status : Answered

Chosen Option : 4

Q.11 निम्न तालिका में विभिन्न कारखानों में स्कूटरों के वार्षिक उत्पादन (हजारों में) को दर्शाया गया है। किस वर्ष सभी कारखानों में स्कूटरों का कुल उत्पादन, वर्ष 2015-2019 के दौरान उत्पादित स्कूटरों की वार्षिक औसत संख्या के बराबर था?

Factory	Year				
	2015	2016	2017	2018	2019
A	25	30	15	23	16
B	14	24	12	17	20
C	20	41	17	21	13
D	40	39	35	32	41
E	16	15	22	15	12
Total	115	149	101	108	102

Factory = कारखाना, Year = वर्ष, Total = कुल

- Ans
- ✓ 1. 2015
 - ✗ 2. 2016
 - ✗ 3. 2017
 - ✗ 4. 2018

Question Type : MCQ

Question ID : 264330133688

Option 1 ID : 264330523775

Option 2 ID : 264330523776

Option 3 ID : 264330523777

Option 4 ID : 264330523778

Status : Answered

Chosen Option : 1

Q.12 40 km/hr की चाल से चल रही एक कार की चाल आधी दूरी तय करने के बाद 30 km/hr तक धीमी हो जाती है। कार की औसत चाल क्या है?

- Ans
- ✓ 1. $\frac{240}{7}$ km/hr
 - ✗ 2. $\frac{120}{7}$ km/hr
 - ✗ 3. 35 km/hr
 - ✗ 4. 30 km/hr

Question Type : MCQ

Question ID : 264330135091

Option 1 ID : 264330529299

Option 2 ID : 264330529302

Option 3 ID : 264330529300

Option 4 ID : 264330529301

Status : Answered

Chosen Option : 1

Q.13 A अकेले किसी कार्य को 16 दिनों में कर सकता है और B अकेले उसी कार्य को 12 दिनों में कर सकता है। यदि वे 4 दिनों तक साथ मिलकर कार्य करते हैं और फिर A कार्य छोड़कर चला जाता है, तो शेष कार्य को पूरा करने में B को कितना समय लगा?

- Ans
- 1. 6 दिन
 - 2. 8 दिन
 - 3. 5 दिन
 - 4. 7 दिन

Question Type : MCQ

Question ID : 264330138715

Option 1 ID : 264330543469

Option 2 ID : 264330543470

Option 3 ID : 264330543467

Option 4 ID : 264330543468

Status : Answered

Chosen Option : 3

Q.14 मिश्रधातु X में 70% तांबा और 30% जस्ता है। मिश्र धातु Y में 40% तांबा, 25% जस्ता और 35% एल्यूमीनियम है। मिश्रधातु X और Y को 1 : 3 के अनुपात में मिलाया जाता है। नई बनी मिश्रधातु में तांबे और जस्ते का अनुपात क्या है?

- Ans
- 1. 19 : 33
 - 2. 38 : 21
 - 3. 19 : 21
 - 4. 11 : 32

Question Type : MCQ

Question ID : 264330133682

Option 1 ID : 264330523753

Option 2 ID : 264330523754

Option 3 ID : 264330523751

Option 4 ID : 264330523752

Status : Answered

Chosen Option : 3

Q.15 8 cm त्रिज्या के एक ठोस अर्धगोले को पिघलाकर N समरूप शंकु बनाए जाते हैं, जिनकी त्रिज्या 4 cm और ऊँचाई 2 cm है। तो, N का मान क्या है?

- Ans
- 1. 26
 - 2. 25
 - 3. 32
 - 4. 10

Question Type : MCQ

Question ID : 264330135084

Option 1 ID : 264330529272

Option 2 ID : 264330529273

Option 3 ID : 264330529274

Option 4 ID : 264330529271

Status : Answered

Chosen Option : 3

Q.16 एक आदमी 5 kmph की चाल से चलकर 3 घंटे में एक निश्चित दूरी तय करता है। 15 kmph की चाल से दौड़ते हुए वह आदमी समान दूरी कितने समय में तय करेगा?

- Ans
- ✓ 1. 1 घंटे
 - ✗ 2. 30 मिनट
 - ✗ 3. 2 घंटे
 - ✗ 4. 1 घंटे 30 मिनट

Question Type : MCQ
Question ID : 264330133685
Option 1 ID : 264330523764
Option 2 ID : 264330523763
Option 3 ID : 264330523766
Option 4 ID : 264330523765
Status : Answered
Chosen Option : 1

Q.17 11 के पहले पाँच गुणजों का औसत क्या है?

- Ans
- ✗ 1. 11
 - ✓ 2. 33
 - ✗ 3. 55
 - ✗ 4. 22

Question Type : MCQ
Question ID : 264330133675
Option 1 ID : 264330523723
Option 2 ID : 264330523726
Option 3 ID : 264330523725
Option 4 ID : 264330523724
Status : Answered
Chosen Option : 2

Q.18 यदि एक वृत्त का व्यास 14 cm है, तो वृत्त के उस त्रिज्यखंड का क्षेत्रफल ज्ञात कीजिए जिसका केंद्रीय कोण 60 डिग्री है।

- Ans
- ✗ 1. 38.12 cm^2
 - ✓ 2. 25.66 cm^2
 - ✗ 3. 21.66 cm^2
 - ✗ 4. 18.12 cm^2

Question Type : MCQ
Question ID : 264330135387
Option 1 ID : 264330530456
Option 2 ID : 264330530458
Option 3 ID : 264330530457
Option 4 ID : 264330530455
Status : Answered
Chosen Option : 2

Q.19 14 व्यक्ति 28 दिनों में एक कार्य कर सकते हैं। 8 व्यक्ति इससे दुगने कार्य को कितने दिनों में पूरा कर सकते हैं?

- Ans
- ✗ 1. 80 दिनों में
 - ✗ 2. 32 दिनों में
 - ✓ 3. 98 दिनों में
 - ✗ 4. 55 दिनों में

Question Type : MCQ

Question ID : 264330135383

Option 1 ID : 264330530441

Option 2 ID : 264330530442

Option 3 ID : 264330530439

Option 4 ID : 264330530440

Status : Answered

Chosen Option : 1

Q.20 यदि एक संख्या A एक दूसरी संख्या B से 40 प्रतिशत कम है और B, 100 से 20 प्रतिशत अधिक है, तो A का मान क्या है?

- Ans
- ✗ 1. 84
 - ✓ 2. 72
 - ✗ 3. 66
 - ✗ 4. 58

Question Type : MCQ

Question ID : 264330137650

Option 1 ID : 264330539208

Option 2 ID : 264330539207

Option 3 ID : 264330539210

Option 4 ID : 264330539209

Status : Answered

Chosen Option : 1

Section : Reasoning Ability and Problem Solving

Q.1 छः भाइयों अमन, बंटी, चंदू, दीपक, इमाद और फैजल, प्रत्येक का कद अलग-अलग है। बंटी केवल तीन भाइयों से लंबा है। फैजल केवल दीपक से लंबा है। चंदू केवल अमन से छोटा है। सभी भाइयों में चौथा सबसे लंबा कौन है?

- Ans
- ✓ 1. इमाद
 - ✗ 2. चंदू
 - ✗ 3. बंटी
 - ✗ 4. दीपक

Question Type : MCQ

Question ID : 264330133394

Option 1 ID : 264330522609

Option 2 ID : 264330522610

Option 3 ID : 264330522607

Option 4 ID : 264330522608

Status : Answered

Chosen Option : 3

Q.2 छः बहनें हिना, इशिता, जेना, कमला, ललिता, मीना दो पंक्तियों में बैठी हैं। उनमें से तीन का मुख उत्तर की ओर है और अन्य तीन का मुख दक्षिण की ओर है। एक ही पंक्ति में बैठी सभी बहनों का मुख समान दिशा की ओर है। मीना का मुख दक्षिण की ओर है और वह कोने में नहीं बैठी है। ललिता का मुख हिना की ओर है जो मीना के दायीं ओर बैठी है। इशिता, जेना के ठीक दाएँ पर है। इशिता के सम्मुख कौन बैठा है?

- Ans
- 1. हिना
 - 2. कमला
 - 3. ललिता
 - 4. मीना

Question Type : MCQ
Question ID : 264330133393
Option 1 ID : 264330522603
Option 2 ID : 264330522604
Option 3 ID : 264330522606
Option 4 ID : 264330522605
Status : Answered
Chosen Option : 4

Q.3 उस विकल्प को चुनिए जो तीसरे अक्षर-समूह से ठीक उसी प्रकार संबंधित है जिस प्रकार दूसरा अक्षर-समूह पहले अक्षर-समूह से संबंधित है।
TREE : USDD :: SOAP : ?

- Ans
- 1. TZPO
 - 2. TZNQ
 - 3. TPZO
 - 4. TNQZ


Question Type : MCQ
Question ID : 264330133388
Option 1 ID : 264330522584
Option 2 ID : 264330522583
Option 3 ID : 264330522586
Option 4 ID : 264330522585
Status : Answered
Chosen Option : 3

Q.4 किसी एक खास कूट भाषा में, 'SPEAKER' को 'RQDBJFQ' लिखा जाता है। उस कूट भाषा में 'MOBILE' को कैसे लिखा जाएगा?

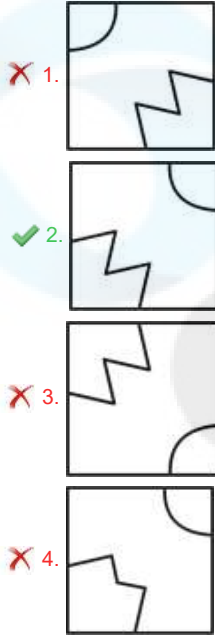
- Ans
- 1. LSPJKS
 - 2. LPSJAK
 - 3. LPAJKS
 - 4. LPAJKF

Question Type : MCQ
Question ID : 264330133369
Option 1 ID : 264330522509
Option 2 ID : 264330522507
Option 3 ID : 264330522510
Option 4 ID : 264330522508
Status : Answered
Chosen Option : 4

Q.5 उस विकल्प आकृति को चुनिए जो नीचे दी गई आकृति में पैटर्न को पूरा करने के लिए प्रश्न चिन्ह (?) के स्थान पर आएगी। (घूर्णन की अनुमति नहीं है)।



Ans



Question Type : MCQ

Question ID : 264330133405

Option 1 ID : 264330522652

Option 2 ID : 264330522651

Option 3 ID : 264330522654

Option 4 ID : 264330522653

Status : Answered

Chosen Option : 2

Q.6 दी गई श्रृंखला में निम्नलिखित में से कौन-सी संख्या प्रश्न चिन्ह (?) के स्थान पर आएगी?
158, 160, 164, 170, 178, 188, 200, ?

- Ans
- 1. 230
 - 2. 210
 - 3. 215
 - 4. 214

Question Type : MCQ

Question ID : 264330133398

Option 1 ID : 264330522624

Option 2 ID : 264330522623

Option 3 ID : 264330522625

Option 4 ID : 264330522626

Status : Answered

Chosen Option : 4

Q.7 दो कथन दिए गए हैं और उनके बाद दो निष्कर्ष I और II दिए गए हैं। कथनों को सत्य मानते हुए, चाहे वे सामान्यतः ज्ञात तथ्यों से अलग प्रतीत होते हों, निश्चय कीजिए कि कौन-सा निष्कर्ष तार्किक रूप से कथनों के अनुसार है।
कथन:

कुछ राजा, अमीर हैं।

कुछ अमीर, अभिमानी हैं।

निष्कर्ष:

I. कुछ राजा, अभिमानी नहीं हैं।

II. कुछ अमीर, अभिमानी नहीं हैं।

Ans

✓ 1. न तो निष्कर्ष I और न ही II कथनों के अनुसार है।

✗ 2. केवल निष्कर्ष II कथनों के अनुसार है।

✗ 3. निष्कर्ष I और II दोनों कथनों के अनुसार हैं।

✗ 4. केवल निष्कर्ष I कथनों के अनुसार है।

Question Type : MCQ

Question ID : 264330133395

Option 1 ID : 264330522614

Option 2 ID : 264330522612

Option 3 ID : 264330522613

Option 4 ID : 264330522611

Status : Answered

Chosen Option : 2

Q.8 एक निश्चित कूट भाषा में, 'FALF' को 'HCJD' लिखा जाता है। उस भाषा में 'OEMC' को कैसे लिखा जाएगा?

Ans

✗ 1. QKGA

✓ 2. QGKA

✗ 3. QKAG

✗ 4. QGAK

Question Type : MCQ

Question ID : 264330137565

Option 1 ID : 264330538869

Option 2 ID : 264330538870

Option 3 ID : 264330538867

Option 4 ID : 264330538868

Status : Answered

Chosen Option : 2

Q.9 उस विकल्प को चुनिए जो तीसरी संख्या से ठीक उसी प्रकार संबंधित है जिस प्रकार दूसरी संख्या पहली संख्या से संबंधित है।

5 : 125 :: 8 : ?

- Ans
- 1. 216
 - 2. 343
 - 3. 576
 - 4. 512

Question Type : MCQ

Question ID : 264330137574

Option 1 ID : 264330538905

Option 2 ID : 264330538903

Option 3 ID : 264330538906

Option 4 ID : 264330538904

Status : Answered

Chosen Option : 4

Q.10 दी गई श्रृंखला में निम्नलिखित में से कौन-सी संख्या प्रश्न चिन्ह (?) के स्थान पर आएगी?

15, 16, 32, 35, 140, 145, ?

- Ans
- 1. 790
 - 2. 910
 - 3. 840
 - 4. 870

Question Type : MCQ

Question ID : 264330137572

Option 1 ID : 264330538897

Option 2 ID : 264330538898

Option 3 ID : 264330538896

Option 4 ID : 264330538895

Status : Answered

Chosen Option : 4

Q.11 छः महिलाएँ अदिति, पिकी, रीना, मीनल, स्नेहा और ज़ोया एक सीधी पंक्ति में उत्तर की ओर मुख करके बैठी हैं। स्नेहा और ज़ोया मध्य में बैठी हैं। अदिति और पिकी दोनों कोनों पर बैठी हैं। रीना, अदिति के ठीक बाएँ पर बैठी है। पिकी के ठीक दाएँ पर कौन बैठा है?

- Ans
- 1. ज़ोया
 - 2. स्नेहा
 - 3. मीनल
 - 4. अदिति

Question Type : MCQ

Question ID : 264330133392

Option 1 ID : 264330522599

Option 2 ID : 264330522601

Option 3 ID : 264330522600

Option 4 ID : 264330522602

Status : Answered

Chosen Option : 3

Q.12 उस विकल्प को चुनिए जो तीसरे अक्षर-समूह से ठीक उसी प्रकार संबंधित है जिस प्रकार दूसरा अक्षर-समूह पहले शब्द से संबंधित है।

KITCHEN : TIKCNEH :: PLUMBER : ?

- Ans
- 1. ULPRMBE
 - 2. ULPBREM
 - 3. ULPMREB
 - 4. ULPREMB

Question Type : MCQ

Question ID : 264330133387

Option 1 ID : 264330522581

Option 2 ID : 264330522582

Option 3 ID : 264330522580

Option 4 ID : 264330522579

Status : Answered

Chosen Option : 3

Q.13 उस विकल्प आकृति को चुनिए जिसमें दी गई आकृति (X) उसके भाग के रूप में निहित है (घूर्णन की अनुमति नहीं है)।



X

Ans

- 1.
- 2.
- 3.
- 4.

Question Type : MCQ

Question ID : 264330133403

Option 1 ID : 264330522645

Option 2 ID : 264330522643

Option 3 ID : 264330522644

Option 4 ID : 264330522646

Status : Answered

Chosen Option : 4

Q.14 दिए गए समीकरण को सही करने के लिए किन दो संख्याओं को आपस में बदला जाना चाहिए?

$$84 \div 6 + 16 - 14 \times 2 = 10$$

Ans 1. 6 और 14

2. 10 और 14

3. 6 और 10

4. 2 और 84

Question Type : MCQ

Question ID : 264330133401

Option 1 ID : 264330522637

Option 2 ID : 264330522635

Option 3 ID : 264330522638

Option 4 ID : 264330522636

Status : Answered

Chosen Option : 1

Q.15 दिए गए दो चिन्हों को आपस में बदलने पर, समीकरण (I) और (II) के क्रमशः मान क्या होंगे?

× और -

I. $18 \times 8 - 6 \div 3 + 4$

II. $7 - 8 \times 4 \div 2 + 15$

Ans 1. 18 और 10

2. 6 और 69

3. -8 और 10

4. 89 और 6

Question Type : MCQ

Question ID : 264330138473

Option 1 ID : 264330542501

Option 2 ID : 264330542499

Option 3 ID : 264330542500

Option 4 ID : 264330542502

Status : Answered

Chosen Option : 2

Q.16 दिए गए पैटर्न का ध्यानपूर्वक अध्ययन कीजिए और उस संख्या को चुनिए जो इसमें प्रश्न चिन्ह (?) के स्थान पर आ सकती है।

पहली पंक्ति- 6, 216, 180

दूसरी पंक्ति- 8, 512, 448

तीसरी पंक्ति- 10, 1000, ?

Ans 1. 1100

2. 900

3. 1300

4. 800

Question Type : MCQ

Question ID : 264330133400

Option 1 ID : 264330522631

Option 2 ID : 264330522633

Option 3 ID : 264330522634

Option 4 ID : 264330522632

Status : Answered

Chosen Option : 2

Q.17 निम्नलिखित में से कौन-सा अक्षर-समूह दी गई श्रृंखला में रिक्त स्थानों को पूरा करेगा?
stss_ssstsss_tss__stssssst

- Ans
- 1. ttss
 - 2. ssst
 - 3. ssst
 - 4. tsss

Question Type : MCQ

Question ID : 264330133386

Option 1 ID : 264330522578

Option 2 ID : 264330522575

Option 3 ID : 264330522576

Option 4 ID : 264330522577

Status : Answered

Chosen Option : 4

Q.18 दो कथन दिए गए हैं और उनके बाद दो निष्कर्ष I और II दिए गए हैं। कथनों को सत्य मानते हुए, चाहे वे सामान्यतः
ज्ञात तथ्यों से अलग प्रतीत होते हों, निश्चय कीजिए कि कौन-सा निष्कर्ष तार्किक रूप से कथनों के अनुसार है।
कथन:

कोई लड़की, घोड़ा नहीं है।

रेचेल, लड़की है।

निष्कर्ष:

I. रेचेल, घोड़ा नहीं है।

II. सभी लड़कियाँ, रेचेल नहीं हैं।

- Ans
- 1. केवल निष्कर्ष I कथनों के अनुसार है।
 - 2. निष्कर्ष I और II दोनों कथनों के अनुसार हैं।
 - 3. केवल निष्कर्ष II कथनों के अनुसार है।
 - 4. न तो निष्कर्ष I और न ही II कथनों के अनुसार है।

Question Type : MCQ

Question ID : 264330133396

Option 1 ID : 264330522615

Option 2 ID : 264330522617

Option 3 ID : 264330522616

Option 4 ID : 264330522618

Status : Answered

Chosen Option : 2

Q.19 एक निश्चित कूट भाषा में, 'HERO' को '7, 4, 17, 14' लिखा जाता है, 'ICON' को '8, 2, 14, 13' लिखा जाता है। उस कूट भाषा में 'JOIN' को कैसे लिखा जाएगा?

- Ans
- ✗ 1. 8, 14, 9, 13
 - ✗ 2. 10, 14, 8, 13
 - ✓ 3. 9, 14, 8, 13
 - ✗ 4. 9, 14, 9, 13

Question Type : MCQ

Question ID : 264330138503

Option 1 ID : 264330542622

Option 2 ID : 264330542619

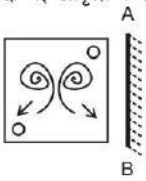
Option 3 ID : 264330542621

Option 4 ID : 264330542620

Status : Answered

Chosen Option : 3

Q.20 दी गई आकृति के उस सही दर्पण प्रतिबिंब को चुनिए जो नीचे दर्शाए गए अनुसार दर्पण को AB पर रखने पर बनेगा।



Ans

- ✓ 1.
- ✗ 2.
- ✗ 3.
- ✗ 4.

Question Type : MCQ

Question ID : 264330133404

Option 1 ID : 264330522648

Option 2 ID : 264330522647

Option 3 ID : 264330522650

Option 4 ID : 264330522649

Status : Answered

Chosen Option : 1

Q.1 छः दिवसीय खजुराहो नृत्य उत्सव निम्नलिखित में से किस राज्य में मनाया जाता है?

- Ans
- 1. हरियाणा
 - 2. केरल
 - 3. मध्यप्रदेश
 - 4. असम

Question Type : MCQ
Question ID : 264330133882
Option 1 ID : 264330524551
Option 2 ID : 264330524553
Option 3 ID : 264330524552
Option 4 ID : 264330524554
Status : Not Answered
Chosen Option : --

Q.2 कुमारी कमला को 1970 में पद्म भूषण से सम्मानित किया गया था। वह नृत्य की _____ परंपरा की एक श्रेष्ठ कलाकार हैं।

- Ans
- 1. वजुवूर (Vazhuvoor)
 - 2. तमज़ारा (Tamzara)
 - 3. कुचिपुड़ी
 - 4. कुर्दिश (Kurdish)

Question Type : MCQ
Question ID : 264330137755
Option 1 ID : 264330539629
Option 2 ID : 264330539627
Option 3 ID : 264330539628
Option 4 ID : 264330539630
Status : Answered
Chosen Option : 3

Q.3 मर्डेका (Merdeka) कप निम्नलिखित में से किस खेल से संबंधित है?

- Ans
- 1. हॉकी
 - 2. फुटबॉल
 - 3. गोल्फ़
 - 4. शतरंज

Question Type : MCQ
Question ID : 264330137759
Option 1 ID : 264330539645
Option 2 ID : 264330539643
Option 3 ID : 264330539644
Option 4 ID : 264330539646
Status : Answered
Chosen Option : 2

Q.4 निम्नलिखित में से किसने जयपुर में हवा महल का निर्माण करवाया था?

- Ans
- 1. कृष्णराजेंद्र वाडियार चतुर्थ
 - 2. राजा मानसिंह प्रथम
 - 3. महाराजा नरिंदर सिंह
 - 4. महाराजा सवाई प्रताप सिंह

Question Type : MCQ

Question ID : 264330138225

Option 1 ID : 264330541507

Option 2 ID : 264330541510

Option 3 ID : 264330541508

Option 4 ID : 264330541509

Status : Not Answered

Chosen Option : --

Q.5 निम्नलिखित में से किस शासक ने 'देवपुत्र (devaputra)' की उपाधि धारण की थी?

- Ans
- 1. होयसल (Hoyasala)
 - 2. कुषाण
 - 3. चोल
 - 4. शक (Saka)

Question Type : MCQ

Question ID : 264330137750

Option 1 ID : 264330539608

Option 2 ID : 264330539610

Option 3 ID : 264330539609

Option 4 ID : 264330539607

Status : Not Answered

Chosen Option : --

Q.6 वधावन (Vadhavan) बंदरगाह _____ में स्थित है।

- Ans
- 1. तमिलनाडु
 - 2. पश्चिम बंगाल
 - 3. केरल
 - 4. महाराष्ट्र

Question Type : MCQ

Question ID : 264330137745

Option 1 ID : 264330539588

Option 2 ID : 264330539587

Option 3 ID : 264330539590

Option 4 ID : 264330539589

Status : Answered

Chosen Option : 2

Q.7 फिजियोलॉजी या मेडिसिन में 2022 का नोबेल पुरस्कार _____ को दिया गया है।

- Ans
- 1. वलेरी पोल्याकोव (Valeri Polyakov)
 - 2. स्वंते पाबो (Svante Paabo)
 - 3. एलेस बियालियात्स्की (Ales Bialiatski)
 - 4. जियोर्जिया मेलोनी (Giorgia Meloni)

Question Type : MCQ
Question ID : 264330133889
Option 1 ID : 264330524581
Option 2 ID : 264330524580
Option 3 ID : 264330524582
Option 4 ID : 264330524579
Status : Not Answered
Chosen Option : --

Q.8 निम्नलिखित में से कौन-सा भारतीय दर्शन के छः पद्धतियों का हिस्सा नहीं है?

- Ans
- 1. सांख्य
 - 2. द्रविड़
 - 3. योग
 - 4. न्याय

Question Type : MCQ
Question ID : 264330133902
Option 1 ID : 264330524633
Option 2 ID : 264330524634
Option 3 ID : 264330524632
Option 4 ID : 264330524631
Status : Answered
Chosen Option : 4

Q.9 "इंडिया एट रिस्क (India at Risk)" निम्नलिखित में से किस लेखक द्वारा लिखी गई है?

- Ans
- 1. जसवंत सिंह
 - 2. विजय दर्डा (Vijay Darda)
 - 3. खुशवंत सिंह
 - 4. नटवर सिंह

Question Type : MCQ
Question ID : 264330137753
Option 1 ID : 264330539621
Option 2 ID : 264330539620
Option 3 ID : 264330539619
Option 4 ID : 264330539622
Status : Not Answered
Chosen Option : --

Q.10 अंतर्राष्ट्रीय योग दिवस (2022) का विषय क्या था?

- Ans
- 1. स्वस्थ शरीर के लिए योग
 - 2. स्वस्थ मस्तिष्क के लिए योग
 - 3. बेहतर जीवन के लिए योग
 - 4. मानवता के लिए योग

Question Type : MCQ
Question ID : 264330133890
Option 1 ID : 264330524584
Option 2 ID : 264330524583
Option 3 ID : 264330524585
Option 4 ID : 264330524586
Status : Answered
Chosen Option : 1

Q.11 बास्केटबॉल खेल दो टीमों के बीच खेला जाता है जिसमें प्रत्येक टीम में _____ खिलाड़ी होते हैं।

- Ans
- 1. आठ
 - 2. छः
 - 3. पाँच
 - 4. चार

Question Type : MCQ
Question ID : 264330133884
Option 1 ID : 264330524562
Option 2 ID : 264330524560
Option 3 ID : 264330524559
Option 4 ID : 264330524561
Status : Answered
Chosen Option : 2

Q.12 भारत में पहली जनसंख्या जनगणना वर्ष _____ में आयोजित की गई थी।

- Ans
- 1. 1865
 - 2. 1870
 - 3. 1872
 - 4. 1862

Question Type : MCQ
Question ID : 264330133875
Option 1 ID : 264330524525
Option 2 ID : 264330524523
Option 3 ID : 264330524524
Option 4 ID : 264330524526
Status : Answered
Chosen Option : 1

Q.13 श्री दीपक मजूमदार को वर्ष _____ का संगीत नाटक अकादमी पुरस्कार मिला।

Ans 1. 2017

2. 2018

3. 2016

4. 2019

Question Type : MCQ

Question ID : 264330133881

Option 1 ID : 264330524548

Option 2 ID : 264330524549

Option 3 ID : 264330524547

Option 4 ID : 264330524550

Status : Not Answered

Chosen Option : --

Q.14 _____ के नियम के अनुसार, किसी विद्युत धारा द्वारा उत्पन्न ऊष्मा, चालक के प्रतिरोध, धारा के वर्ग और धारा प्रवाह की समयावधि के समानुपाती होती है।

Ans 1. फैराडे

2. हुक

3. जूल

4. चार्ल्स

Question Type : MCQ

Question ID : 264330137741

Option 1 ID : 264330539573

Option 2 ID : 264330539572

Option 3 ID : 264330539571

Option 4 ID : 264330539574

Status : Answered

Chosen Option : 1

Q.15 अन्नपूर्णा देवी किस वाद्य यंत्र का अभ्यास करने के लिए जानी जाती थीं?

Ans 1. वायलिन

2. सुरबहार

3. बाँसुरी

4. सरोद

Question Type : MCQ

Question ID : 264330133887

Option 1 ID : 264330524571

Option 2 ID : 264330524572

Option 3 ID : 264330524573

Option 4 ID : 264330524574

Status : Not Answered

Chosen Option : --

Q.16 निम्नलिखित में से किस अनुच्छेद में, "अल्पसंख्यक-वर्गों को अपनी रूचि की शिक्षण संस्थाओं की स्थापना करने और संचालन करने के अधिकार" का उल्लेख किया गया है?

- Ans
- ✓ 1. अनुच्छेद 30
 - ✗ 2. अनुच्छेद 29
 - ✗ 3. अनुच्छेद 28
 - ✗ 4. अनुच्छेद 31

Question Type : MCQ
Question ID : 264330133893
Option 1 ID : 264330524597
Option 2 ID : 264330524596
Option 3 ID : 264330524595
Option 4 ID : 264330524598
Status : Answered
Chosen Option : 2

Q.17 मध्यस्थता विधेयक (Mediation Bill), 2021 के अनुसार, मध्यस्थता प्रक्रिया को 180 दिनों के भीतर पूरा किया जाना चाहिए, जिसे पक्षों द्वारा और _____ दिनों तक बढ़ाया जा सकता है।

- Ans
- ✗ 1. 200
 - ✗ 2. 220
 - ✗ 3. 120
 - ✓ 4. 180

Question Type : MCQ
Question ID : 264330138222
Option 1 ID : 264330541497
Option 2 ID : 264330541498
Option 3 ID : 264330541495
Option 4 ID : 264330541496
Status : Answered
Chosen Option : 2

Q.18 कुइपर बेल्ट (Kuiper Belt) _____ की कक्षा के ठीक बाहर मौजूद बर्फ की चट्टानों और धूल के पिंडों का एक छल्ला है।

- Ans
- ✗ 1. शनि
 - ✗ 2. बृहस्पति
 - ✓ 3. नेपच्यून
 - ✗ 4. शुक्र

Question Type : MCQ
Question ID : 264330137744
Option 1 ID : 264330539585
Option 2 ID : 264330539583
Option 3 ID : 264330539584
Option 4 ID : 264330539586
Status : Answered
Chosen Option : 4

Q.19 वित्त मंत्री निर्मला सीतारमण ने केंद्रीय बजट 2022 पेश करते हुए कहा कि भारत की आर्थिक विकास दर मौजूदा वित्त वर्ष में _____ प्रतिशत की दर से बढ़ रही है।

- Ans
- 1. 5.3
 - 2. 9.2
 - 3. 6.5
 - 4. 7.4

Question Type : MCQ
Question ID : 264330137760
Option 1 ID : 264330539648
Option 2 ID : 264330539647
Option 3 ID : 264330539650
Option 4 ID : 264330539649
Status : Answered
Chosen Option : 3

Q.20 एक वर्ष के दौरान वायु की दिशा में ऋतु के अनुसार परिवर्तन को _____ कहते हैं।

- Ans
- 1. मानसून
 - 2. जलवायु
 - 3. उत्सर्जन
 - 4. समीर

Question Type : MCQ
Question ID : 264330133899
Option 1 ID : 264330524622
Option 2 ID : 264330524620
Option 3 ID : 264330524621
Option 4 ID : 264330524619
Status : Answered
Chosen Option : 1

Q.21 कंचनजंगा जीव मंडल निचय (आरक्षित क्षेत्र) निम्नलिखित में से किस राज्य में स्थित है?

- Ans
- 1. केरल
 - 2. असम
 - 3. मणिपुर
 - 4. सिक्किम

Question Type : MCQ
Question ID : 264330137743
Option 1 ID : 264330539580
Option 2 ID : 264330539579
Option 3 ID : 264330539581
Option 4 ID : 264330539582
Status : Answered
Chosen Option : 2

Q.22 मराठी समाचार पत्र "केसरी (Kesari)" के संपादक _____ थे।

- Ans
- 1. बाल गंगाधर तिलक
 - 2. लाला लाजपत राय
 - 3. बिपिन चंद्र पाल
 - 4. अरबिंदो घोष

Question Type : MCQ
Question ID : 264330133905
Option 1 ID : 264330524644
Option 2 ID : 264330524643
Option 3 ID : 264330524645
Option 4 ID : 264330524646
Status : Answered
Chosen Option : 2

Q.23 नीति आयोग (NITI Aayog) के पहले राष्ट्रीय बहुआयामी गरीबी सूचकांक के अनुसार, किस राज्य में गरीब लोगों की संख्या का प्रतिशत सबसे अधिक है?

- Ans
- 1. उत्तरप्रदेश
 - 2. बिहार
 - 3. झारखंड
 - 4. मध्यप्रदेश

Question Type : MCQ
Question ID : 264330137407
Option 1 ID : 264330538256
Option 2 ID : 264330538257
Option 3 ID : 264330538255
Option 4 ID : 264330538258
Status : Answered
Chosen Option : 2

Q.24 इल्बर्ट बिल लॉर्ड रिपन के कार्यकाल के दौरान सन् _____ में भारतीय और यूरोपीय न्यायाधीशों के बीच समानता स्थापित करने के लिए पारित किया गया था

- Ans
- 1. 1876
 - 2. 1871
 - 3. 1883
 - 4. 1892

Question Type : MCQ
Question ID : 264330138236
Option 1 ID : 264330541551
Option 2 ID : 264330541554
Option 3 ID : 264330541552
Option 4 ID : 264330541553
Status : Answered
Chosen Option : 2

Q.25 पत्ती के चपटे हरे भाग को _____ कहते हैं।

- Ans
- 1. मध्य शिरा
 - 2. फलक
 - 3. शिरा
 - 4. पर्णवृंत

Question Type : MCQ
Question ID : 264330133894
Option 1 ID : 264330524602
Option 2 ID : 264330524601
Option 3 ID : 264330524600
Option 4 ID : 264330524599
Status : Answered
Chosen Option : 4

Section : English Language and Comprehension

Q.1 Select the most appropriate antonym of the given word.

Culpable

- Ans
- 1. Edible
 - 2. Rigorous
 - 3. Innocent
 - 4. Reasonable

Question Type : MCQ
Question ID : 264330136605
Option 1 ID : 264330535147
Option 2 ID : 264330535149
Option 3 ID : 264330535150
Option 4 ID : 264330535148
Status : Not Answered
Chosen Option : --

Q.2 Select the most appropriate word for the given group of words.

A large, tall cupboard in which clothes may be hung or stored

- Ans
- 1. Hypergamy
 - 2. Honorary
 - 3. Wardrobe
 - 4. Gibber

Question Type : MCQ
Question ID : 264330136097
Option 1 ID : 264330533197
Option 2 ID : 264330533198
Option 3 ID : 264330533196
Option 4 ID : 264330533195
Status : Answered
Chosen Option : 3

Q.3 In the following question, out of the given four alternatives, select the alternative which best expresses the meaning of the Idiom/Phrase.
To bear the brunt of

- Ans 1. To endure the impact of something
 2. To become free from
 3. For one's sake
 4. An inexperienced person

Question Type : **MCQ**
Question ID : **264330134367**
Option 1 ID : **264330526453**
Option 2 ID : **264330526452**
Option 3 ID : **264330526451**
Option 4 ID : **264330526454**
Status : **Answered**
Chosen Option : **1**

Q.4 Improve the underlined part of the sentence. Choose 'No improvement' as an answer if the sentence is grammatically correct.
Dr. Mark said I can came to his office on Friday or Saturday of next week.

- Ans 1. come to his office on
 2. No improvement
 3. comes to his office in
 4. coming to his office at

Question Type : **MCQ**
Question ID : **264330134351**
Option 1 ID : **264330526391**
Option 2 ID : **264330526394**
Option 3 ID : **264330526393**
Option 4 ID : **264330526392**
Status : **Answered**
Chosen Option : **1**

Q.5 Select the most appropriate option to fill in the blank.
He _____ his teeth against the curse on his tongue.

- Ans 1. unclasped
 2. clenched
 3. dropped
 4. yielded

Question Type : **MCQ**
Question ID : **264330134371**
Option 1 ID : **264330526468**
Option 2 ID : **264330526469**
Option 3 ID : **264330526470**
Option 4 ID : **264330526467**
Status : **Answered**
Chosen Option : **4**

Q.6 Identify the segment that contains a grammatical error. If there is no error, select 'No error'.

And how amorous you become / when your courtship with the / muses is going stronger.

Ans 1. And how amorous you become

2. muses is going stronger.

3. No Error

4. when your courtship with the

Question Type : **MCQ**

Question ID : **264330135794**

Option 1 ID : **264330532051**

Option 2 ID : **264330532053**

Option 3 ID : **264330532054**

Option 4 ID : **264330532052**

Status : **Answered**

Chosen Option : **1**

Q.7 Improve the underlined part of the sentence. Choose 'No improvement' as an answer if the sentence is grammatically correct.

The sea wall protected the village in the waves.

Ans 1. village through

2. village by

3. village from

4. No improvement

Question Type : **MCQ**

Question ID : **264330134323**

Option 1 ID : **264330526284**

Option 2 ID : **264330526285**

Option 3 ID : **264330526283**

Option 4 ID : **264330526286**

Status : **Answered**

Chosen Option : **1**

Q.8 Find the part of the given sentence that has an error in it. If there is no error, choose 'No error'.

You can find these books into the extreme corner of this shelf.

Ans 1. No error

2. corner of this shelf.

3. books into the extreme

4. You can find these

Question Type : **MCQ**

Question ID : **264330134348**

Option 1 ID : **264330526382**

Option 2 ID : **264330526381**

Option 3 ID : **264330526380**

Option 4 ID : **264330526379**

Status : **Answered**

Chosen Option : **1**

Q.9 Select the most appropriate meaning of the given idiom.

Between a rock and a hard place

Ans 1.

Avoiding the main topic, not speaking directly about the issue

2. Stuck between two very bad options

3. Willing to do anything

4. On the point of achievement

Question Type : MCQ

Question ID : 264330136103

Option 1 ID : 264330533222

Option 2 ID : 264330533221

Option 3 ID : 264330533219

Option 4 ID : 264330533220

Status : Answered

Chosen Option : 1

Q.10 Select the appropriate antonym for the underlined word.

A mysterious glowing girl has informed him of the death.

Ans 1. evident

2. cryptic

3. critical

4. murky

Question Type : MCQ

Question ID : 264330134365

Option 1 ID : 264330526446

Option 2 ID : 264330526444

Option 3 ID : 264330526445

Option 4 ID : 264330526443

Status : Answered

Chosen Option : 3

Q.11 Choose the word that can substitute the given group of words.

One who is 100 years old or older

Ans 1. Sententia

2. Immortal

3. Mortal

4. Centenarian

Question Type : MCQ

Question ID : 264330134361

Option 1 ID : 264330526429

Option 2 ID : 264330526428

Option 3 ID : 264330526430

Option 4 ID : 264330526427

Status : Answered

Chosen Option : 3

Q.12 Select the appropriate synonym for the underlined word.
John says, "I am serious."

- Ans
- 1. comical
 - 2. light
 - 3. safe
 - 4. severe

Question Type : MCQ
Question ID : 264330134362
Option 1 ID : 264330526433
Option 2 ID : 264330526434
Option 3 ID : 264330526431
Option 4 ID : 264330526432
Status : Answered
Chosen Option : 2

Q.13 Choose the sentence with no spelling error.

- Ans
- 1. He wondared about lots of things.
 - 2. He wondered about lotts of things.
 - 3. He wondered about lots of things.
 - 4. He wondered about lots of thinggs.

Question Type : MCQ
Question ID : 264330134369
Option 1 ID : 264330526461
Option 2 ID : 264330526460
Option 3 ID : 264330526462
Option 4 ID : 264330526459
Status : Answered
Chosen Option : 3

Q.14 A sentence has been given with a blank to be filled with an appropriate option. Choose the correct alternative.
The royal messengers _____ out last night.

- Ans
- 1. goes
 - 2. gone
 - 3. go
 - 4. went

Question Type : MCQ
Question ID : 264330134352
Option 1 ID : 264330526395
Option 2 ID : 264330526397
Option 3 ID : 264330526398
Option 4 ID : 264330526396
Status : Answered
Chosen Option : 4

Q.15 Find the part of the given sentence that has an error in it. If there is no error, choose 'No error'.

Mothers can pass the HIV virus to their newborns during delivery as well, WHO says.

- Ans**
- 1. Mothers can pass the HIV virus to
 - 2. No error
 - 3. their newborns during delivery
 - 4. as well, WHO says.

Question Type : **MCQ**

Question ID : **264330135178**

Option 1 ID : **264330529643**

Option 2 ID : **264330529646**

Option 3 ID : **264330529644**

Option 4 ID : **264330529645**

Status : **Answered**

Chosen Option : **3**

Q.16 Select the most appropriate option to fill in the blank.

Enzymes can _____ starches into sugars and proteins into amino acids.

- Ans**
- 1. cover
 - 2. covert
 - 3. convert
 - 4. conserve

Question Type : **MCQ**

Question ID : **264330134370**

Option 1 ID : **264330526464**

Option 2 ID : **264330526465**

Option 3 ID : **264330526466**

Option 4 ID : **264330526463**

Status : **Answered**

Chosen Option : **3**

Q.17 Select the most appropriate option to substitute the bracketed segment in the given sentence. If there is no need to substitute it, select 'no substitution required'.

The only course of action to (fend of the loud clamour off conspiracy theories) is to keep everyone fully informed.

- Ans**
- 1. fend off the loud clamour of conspiracy theories
 - 2. No substitution required
 - 3. fend off the loud clamour off conspiracy theories
 - 4. fend of the loud clamour of conspiracy theories

Question Type : **MCQ**

Question ID : **264330135797**

Option 1 ID : **264330532065**

Option 2 ID : **264330532066**

Option 3 ID : **264330532063**

Option 4 ID : **264330532064**

Status : **Answered**

Chosen Option : **4**

Q.18 A sentence has been given with a blank to be filled with an appropriate option. Choose the correct alternative.

I _____ only a few steps before I was forced to stop.

- Ans
- 1. walk
 - 2. walked
 - 3. had walked
 - 4. have walked

Question Type : MCQ

Question ID : 264330134353

Option 1 ID : 264330526402

Option 2 ID : 264330526401

Option 3 ID : 264330526400

Option 4 ID : 264330526399

Status : Answered

Chosen Option : 3

Q.19 Choose the incorrectly spelt word.

- Ans
- 1. Pleasurre
 - 2. Heaven
 - 3. Slogan
 - 4. Brinjal

Question Type : MCQ

Question ID : 264330134368

Option 1 ID : 264330526457

Option 2 ID : 264330526455

Option 3 ID : 264330526456

Option 4 ID : 264330526458

Status : Answered

Chosen Option : 1

Q.20 Choose the word that means the same as the given word.
Villainous

- Ans
- 1. Famous
 - 2. Nefarious
 - 3. Wholesome
 - 4. Lucid

Question Type : MCQ

Question ID : 264330134389

Option 1 ID : 264330526536

Option 2 ID : 264330526535

Option 3 ID : 264330526538

Option 4 ID : 264330526537

Status : Answered

Chosen Option : 1

Comprehension:

In the following passage some words have been deleted. Fill in the blanks with the help of the alternatives given. Select the most appropriate option for each number.

"Why?" said Harry in surprise. "There is a (1) _____, Harry Potter. A plot to make most terrible things (2) _____ at Hogwarts School of Witchcraft and Wizardry (3) _____," whispered Dobby, suddenly trembling all over. "Dobby has (4) _____ months, sir. Harry Potter (5) _____ in peril.

SubQuestion No : 21

Q.21 Select the most appropriate option to fill in blank number 1.

- Ans**
- 1. plot
 - 2. diary
 - 3. paper
 - 4. notebook

Question Type : **MCQ**

Question ID : **264330136596**

Option 1 ID : **264330535112**

Option 2 ID : **264330535114**

Option 3 ID : **264330535111**

Option 4 ID : **264330535113**

Status : **Answered**

Chosen Option : **1**

Comprehension:

In the following passage some words have been deleted. Fill in the blanks with the help of the alternatives given. Select the most appropriate option for each number.

"Why?" said Harry in surprise. "There is a (1) _____, Harry Potter. A plot to make most terrible things (2) _____ at Hogwarts School of Witchcraft and Wizardry (3) _____," whispered Dobby, suddenly trembling all over. "Dobby has (4) _____ months, sir. Harry Potter (5) _____ in peril.

SubQuestion No : 22

Q.22 Select the most appropriate option to fill in blank number 2.

- Ans**
- 1. happening
 - 2. happened
 - 3. happen
 - 4. happens

Question Type : **MCQ**

Question ID : **264330136597**

Option 1 ID : **264330535118**

Option 2 ID : **264330535116**

Option 3 ID : **264330535117**

Option 4 ID : **264330535115**

Status : **Answered**

Chosen Option : **4**

Comprehension:

In the following passage some words have been deleted. Fill in the blanks with the help of the alternatives given. Select the most appropriate option for each number.

"Why?" said Harry in surprise. "There is a (1) _____, Harry Potter. A plot to make most terrible things (2) _____ at Hogwarts School of Witchcraft and Wizardry (3) _____," whispered Dobby, suddenly trembling all over. "Dobby has (4) _____ months, sir. Harry Potter (5) _____ in peril.

SubQuestion No : 23

Q.23 Select the most appropriate option to fill in blank number 3.

- Ans**
- 1. the year
 - 2. those years
 - 3. that year
 - 4. this year

Question Type : **MCQ**
Question ID : **264330136598**
Option 1 ID : **264330535119**
Option 2 ID : **264330535121**
Option 3 ID : **264330535120**
Option 4 ID : **264330535122**
Status : **Answered**
Chosen Option : **4**

Comprehension:

In the following passage some words have been deleted. Fill in the blanks with the help of the alternatives given. Select the most appropriate option for each number.

"Why?" said Harry in surprise. "There is a (1) _____, Harry Potter. A plot to make most terrible things (2) _____ at Hogwarts School of Witchcraft and Wizardry (3) _____," whispered Dobby, suddenly trembling all over. "Dobby has (4) _____ months, sir. Harry Potter (5) _____ in peril.

SubQuestion No : 24

Q.24 Select the most appropriate option to fill in blank number 4.

- Ans**
- 1. had knowing for
 - 2. known it for
 - 3. had acknowledging for
 - 4. been known since

Question Type : **MCQ**
Question ID : **264330136599**
Option 1 ID : **264330535125**
Option 2 ID : **264330535123**
Option 3 ID : **264330535126**
Option 4 ID : **264330535124**
Status : **Answered**
Chosen Option : **4**

Comprehension:

In the following passage some words have been deleted. Fill in the blanks with the help of the alternatives given. Select the most appropriate option for each number.

"Why?" said Harry in surprise. "There is a (1) _____, Harry Potter. A plot to make most terrible things (2) _____ at Hogwarts School of Witchcraft and Wizardry (3) _____," whispered Dobby, suddenly trembling all over. "Dobby has (4) _____ months, sir. Harry Potter (5) _____ in peril."

SubQuestion No : 25

Q.25 Select the most appropriate option to fill in blank number 5.

- Ans**
- 1. must not insert himself
 - 2. must not put his self
 - 3. must not put himself
 - 4. might not put oneself

Question Type : **MCQ**

Question ID : **264330136600**

Option 1 ID : **264330535130**

Option 2 ID : **264330535129**

Option 3 ID : **264330535128**

Option 4 ID : **264330535127**

Status : **Answered**

Chosen Option : **3**