

## Multi Tasking Non Technical Staff and Havaldar CBIC and CBN Examination 2022

Roll Number	
Candidate Name	
Venue Name	Vibrant Assessment Centre
Exam Date	17/05/2023
Exam Time	3:30 PM - 5:00 PM
Subject	MTS Non Tech Havaldar CBIC and CBN Examination 2022

### Section : Numerical and Mathematical Ability

Q.1 यदि एक संख्या का 20% दूसरी संख्या का  $(1/6)$  भाग है, तो पहली संख्या का दूसरी संख्या से अनुपात कितना है?

- Ans
- 1. 4:5
  - 2. 5:6
  - 3. 4:7
  - 4. 5:3

Question Type : MCQ

Question ID : 264330135118

Option 1 ID : 264330529407

Option 2 ID : 264330529409

Option 3 ID : 264330529410

Option 4 ID : 264330529408

Status : Answered

Chosen Option : 2

Q.2  $\frac{13 \times 4 - 26}{54 - 7 \times 4}$  का मान क्या है?

- Ans
- 1. 1
  - 2. 0
  - 3. -1
  - 4. 10

Question Type : MCQ

Question ID : 264330137619

Option 1 ID : 264330539084

Option 2 ID : 264330539085

Option 3 ID : 264330539083

Option 4 ID : 264330539086

Status : Answered

Chosen Option : 1

Q.3 एक वृत्ताकार पथ की बाहरी और आंतरिक परिधियों का अनुपात 11 : 7 है। यदि पथ की चौड़ाई 20 मीटर है, तो आंतरिक वृत्त की त्रिज्या कितनी है?

- Ans
- 1. 55 मीटर
  - 2. 20 मीटर
  - 3. 65 मीटर
  - 4. 35 मीटर

Question Type : MCQ

Question ID : 264330137168

Option 1 ID : 264330537317

Option 2 ID : 264330537315

Option 3 ID : 264330537316

Option 4 ID : 264330537318

Status : Answered

Chosen Option : 4

Q.4 रीनल ने Rs. 28500 में एक एसी (AC) खरीदा और उसकी दुलाई के लिए Rs. 600 का भुगतान किया। फिर उसने इसे Rs. 30264 में बेच दिया। उसका लाभ % क्या है?

- Ans
- 1. 8%
  - 2. 5%
  - 3. 10%
  - 4. 4%

Question Type : MCQ

Question ID : 264330135116

Option 1 ID : 264330529401

Option 2 ID : 264330529400

Option 3 ID : 264330529399

Option 4 ID : 264330529402

Status : Answered

Chosen Option : 4

Q.5 A अकेले किसी कार्य का(1/10) भाग 8 घंटों में कर सकता है। B अकेले उसी कार्य का(1/5) भाग 4 घंटों में कर सकता है। यदि वे मिलकर कार्य करें, तो उसी कार्य के(9/16) भाग को पूरा करने में उन्हें कितने घंटे लगेंगे?

- Ans
- 1. 8 घंटे
  - 2. 9 घंटे
  - 3. 4 घंटे
  - 4. 5 घंटे

Question Type : MCQ

Question ID : 264330137153

Option 1 ID : 264330537258

Option 2 ID : 264330537255

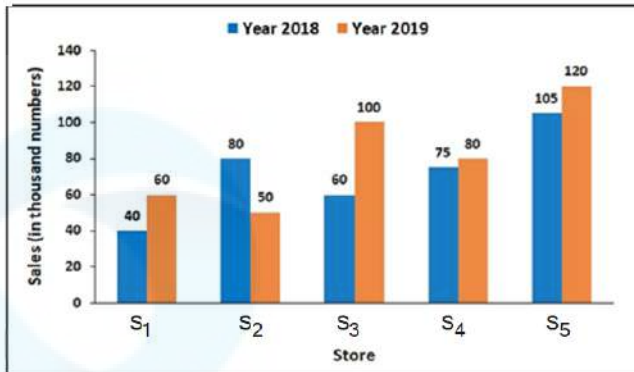
Option 3 ID : 264330537257

Option 4 ID : 264330537256

Status : Answered

Chosen Option : 2

- Q.6 निम्नलिखित दंड आलेख में दो क्रमागत वर्षों 2018 और 2019 के दौरान एक कंपनी के पाँच स्टोर से की गई सेलफोन की बिक्री (हजार संख्या में) को दर्शाया गया है।  
दोनों वर्षों में स्टोर  $S_3$  की कुल बिक्री और दोनों वर्षों में स्टोर  $S_1$  की कुल बिक्री का अनुपात कितना है?



Sales (in thousand numbers) = बिक्री (हजार संख्या में)  
Year 2018 = वर्ष 2018, Year 2019 = वर्ष 2019  
Store = स्टोर

- Ans
- 1. 4:5
  - 2. 3:7
  - 3. 8:5
  - 4. 7:4

Question Type : MCQ

Question ID : 264330135126

Option 1 ID : 264330529440

Option 2 ID : 264330529442

Option 3 ID : 264330529439

Option 4 ID : 264330529441

Status : Answered

Chosen Option : 3

- Q.7 एक बेलन की त्रिज्या 14 cm है। यदि बेलन की ऊँचाई उसकी त्रिज्या की चार गुनी है, तो बेलन का वक्र पृष्ठीय क्षेत्रफल क्या है?

- Ans
- 1. 5546 cm<sup>2</sup>
  - 2. 4928 cm<sup>2</sup>
  - 3. 4694 cm<sup>2</sup>
  - 4. 5214 cm<sup>2</sup>

Question Type : MCQ

Question ID : 264330139089

Option 1 ID : 264330544963

Option 2 ID : 264330544964

Option 3 ID : 264330544966

Option 4 ID : 264330544965

Status : Answered

Chosen Option : 2

Q.8 यदि 2 वर्षों के लिए चक्रवृद्धि ब्याज Rs.618 है, तो एक व्यक्ति द्वारा निवेश की गई वह धनराशि ज्ञात कीजिए जो उसने 6% वार्षिक दर पर चक्रवृद्धि ब्याज (वार्षिक रूप से संयोजित) प्रदान करने वाली योजना में निवेश की है।

- Ans
- 1. Rs.9000
  - 2. Rs.5000
  - 3. Rs.4000
  - 4. Rs.7000

Question Type : MCQ

Question ID : 264330135425

Option 1 ID : 264330530607

Option 2 ID : 264330530610

Option 3 ID : 264330530609

Option 4 ID : 264330530608

Status : Answered

Chosen Option : 2

Q.9 Rs. 6000 की राशि 8 प्रतिशत वार्षिक दर से चक्रवृद्धि ब्याज (तिमाही रूप से संयोजित) पर ऋण पर दी जाती है। 6 माह का चक्रवृद्धि ब्याज कितना होगा?

- Ans
- 1. Rs. 164.6
  - 2. Rs. 268.6
  - 3. Rs. 242.4
  - 4. Rs. 190.5

Question Type : MCQ

Question ID : 264330139067

Option 1 ID : 264330544876

Option 2 ID : 264330544877

Option 3 ID : 264330544875

Option 4 ID : 264330544878

Status : Answered

Chosen Option : 2

Q.10 10 संख्याओं का औसत 8 है। यदि प्रत्येक संख्या को 10 से गुणा किया जाए, तो नया औसत \_\_\_\_\_ होगा।

- Ans
- 1. 80
  - 2. 50
  - 3. 8
  - 4. 18

Question Type : MCQ

Question ID : 264330135111

Option 1 ID : 264330529381

Option 2 ID : 264330529382

Option 3 ID : 264330529379

Option 4 ID : 264330529380

Status : Answered

Chosen Option : 4

Q.11 एक कक्षा में, यदि 55% छात्र, लड़के हैं और लड़कियों की संख्या 90 है, तो लड़कों की संख्या ज्ञात कीजिए।

- Ans
- 1. 198
  - 2. 120
  - 3. 135
  - 4. 110

Question Type : MCQ

Question ID : 264330135418

Option 1 ID : 264330530582

Option 2 ID : 264330530579

Option 3 ID : 264330530581

Option 4 ID : 264330530580

Status : Answered

Chosen Option : 4

Q.12 A अकेले किसी कार्य को 25 दिनों में पूरा कर सकता है और B अकेले उसी कार्य को 50 दिनों में पूरा कर सकता है। यदि वे दोनों साथ मिलकर कार्य करते हैं, तो कुल कार्य का कितना प्रतिशत कार्य 9 दिनों में पूरा होगा?

- Ans
- 1. 49 प्रतिशत
  - 2. 60 प्रतिशत
  - 3. 54 प्रतिशत
  - 4. 45 प्रतिशत

Question Type : MCQ

Question ID : 264330139076

Option 1 ID : 264330544914

Option 2 ID : 264330544911

Option 3 ID : 264330544912

Option 4 ID : 264330544913

Status : Answered

Chosen Option : 3

Q.13 एक लड़की अपने बगीचे में पेड़ों को पंक्तियों में इस प्रकार लगाना चाहती है कि प्रत्येक पंक्ति में पेड़ों की संख्या समान हो। बगीचे में 10 पंक्तियाँ हैं और प्रत्येक पंक्ति में पेड़ों की संख्या 12 है, यदि बगीचे में 5 और पंक्तियाँ बना दी जाती हैं, तो प्रत्येक पंक्ति में पेड़ों की संख्या कितनी होगी?

- Ans
- 1. 12
  - 2. 10
  - 3. 8
  - 4. 6

Question Type : MCQ

Question ID : 264330135119

Option 1 ID : 264330529412

Option 2 ID : 264330529411

Option 3 ID : 264330529413

Option 4 ID : 264330529414

Status : Answered

Chosen Option : 1

Q.14 निम्न तालिका में वर्ष 2012 से 2018 तक 5 विभिन्न कंपनियों में कर्मचारियों की संख्या को दर्शाया गया है। वर्ष 2015 में, कंपनी C में कर्मचारियों की संख्या, कंपनी E से कितने प्रतिशत कम है?

Year/ Company	A	B	C	D	E
2012	242	215	223	211	177
2013	245	163	165	213	211
2014	231	191	221	241	215
2015	198	188	222	223	250
2016	197	240	175	221	254
2017	177	245	268	198	268
2018	158	230	213	215	218

Year - वर्ष, Company - कंपनी

- Ans  1. 11.2%  
 2. 16%  
 3. 28%  
 4. 18.8%

Question Type : MCQ

Question ID : 264330138451

Option 1 ID : 264330542412

Option 2 ID : 264330542414

Option 3 ID : 264330542411

Option 4 ID : 264330542413

Status : Answered

Chosen Option : 1

Q.15 एक वस्तु 20 m की दूरी 5 सेकंड में तथा एक और 25 m की दूरी 10 सेकंड में तय करती है। वस्तु की औसत चाल क्या है?

- Ans  1. 3 m/sec  
 2. 4 m/sec  
 3. 5 m/sec  
 4. 2 m/sec

Question Type : MCQ

Question ID : 264330141012

Option 1 ID : 264330552397

Option 2 ID : 264330552395

Option 3 ID : 264330552398

Option 4 ID : 264330552396

Status : Answered

Chosen Option : 1

Q.16 एक थोक विक्रेता अपने माल को क्रय मूल्य से 35% अधिक पर अंकित करता है परंतु बिक्री के समय 15% का बट्टा देता है। उसका लाभ है:

- Ans
- 1. 24.85%
  - 2. 20.45%
  - 3. 25.50%
  - 4. 14.75%

Question Type : MCQ

Question ID : 264330135117

Option 1 ID : 264330529403

Option 2 ID : 264330529406

Option 3 ID : 264330529405

Option 4 ID : 264330529404

Status : Answered

Chosen Option : 4

Q.17 यदि  $48 \div 4 + A \times 2 - 8 = 14$ , तो A का मान ज्ञात कीजिए।

- Ans
- 1. 14
  - 2. 10
  - 3. 5
  - 4. 8

Question Type : MCQ

Question ID : 264330138435

Option 1 ID : 264330542349

Option 2 ID : 264330542348

Option 3 ID : 264330542347

Option 4 ID : 264330542350

Status : Answered

Chosen Option : 3

Q.18  $8 + \{12 - (8 \div 2)\} \times (1/4)$  का मान है:

- Ans
- 1. 10
  - 2. 6
  - 3. 2
  - 4. 8

Question Type : MCQ

Question ID : 264330135108

Option 1 ID : 264330529367

Option 2 ID : 264330529370

Option 3 ID : 264330529369

Option 4 ID : 264330529368

Status : Answered

Chosen Option : 1

Q.19 सौम्य 50 km की दूरी तय करने में सन्नी से 1 घंटा अधिक लेता है। यदि सौम्य अपनी चाल दोगुनी कर देता, तो वह सन्नी से 1 घंटा कम समय लेता। सौम्य की चाल है:

- Ans
- 1. 15.6 km/hr
  - 2. 18.4 km/hr
  - 3. 12.5 km/hr
  - 4. 14.8 km/hr

Question Type : MCQ  
Question ID : 264330135122  
Option 1 ID : 264330529424  
Option 2 ID : 264330529423  
Option 3 ID : 264330529426  
Option 4 ID : 264330529425  
Status : Answered  
Chosen Option : 3

Q.20 एक वस्तु के क्रय मूल्य का 40 प्रतिशत उसके विक्रय मूल्य के 24 प्रतिशत के बराबर है। लाभ प्रतिशत क्या है?

- Ans
- 1. 50 प्रतिशत
  - 2. 66.66 प्रतिशत
  - 3. 60 प्रतिशत
  - 4. 52.5 प्रतिशत

Question Type : MCQ  
Question ID : 264330137630  
Option 1 ID : 264330539129  
Option 2 ID : 264330539128  
Option 3 ID : 264330539127  
Option 4 ID : 264330539130  
Status : Answered  
Chosen Option : 2

Section : Reasoning Ability and Problem Solving

Q.1 एक निश्चित कूट भाषा में, 'JAPAN' को 'KZPZO' लिखा जाता है। उस कूट भाषा में 'GROUP' को कैसे लिखा जाएगा?

- Ans
- 1. HOTOQ
  - 2. HOQTQ
  - 3. HQOTQ
  - 4. HQQTO

Question Type : MCQ  
Question ID : 264330134982  
Option 1 ID : 264330528866  
Option 2 ID : 264330528865  
Option 3 ID : 264330528864  
Option 4 ID : 264330528863  
Status : Answered  
Chosen Option : 3

Q.2 तीन कथन दिए गए हैं और दो निष्कर्ष I और II दिए गए हैं। कथनों को सत्य मानते हुए, चाहे वे सामान्यतः ज्ञात तथ्यों से अलग प्रतीत होते हों, निश्चय कीजिए कि कौन-सा निष्कर्ष तार्किक रूप से कथनों के अनुसार है।

कथन:

सभी महासागर, तेल हैं।

सभी तेल, दूध हैं।

सभी दूध, पानी हैं।

निष्कर्ष:

I. कुछ पानी, दूध हैं।

II. सभी दूध, महासागर हैं।

Ans

- ✗ 1. केवल निष्कर्ष II कथनों के अनुसार है।
- ✗ 2. दोनों निष्कर्ष I और II कथनों के अनुसार हैं।
- ✓ 3. केवल निष्कर्ष I कथनों के अनुसार है।
- ✗ 4. न तो निष्कर्ष I और न ही II कथनों के अनुसार है।

Question Type : MCQ

Question ID : 264330135010

Option 1 ID : 264330528976

Option 2 ID : 264330528977

Option 3 ID : 264330528975

Option 4 ID : 264330528978

Status : Answered

Chosen Option : 3

Q.3 उस विकल्प आकृति को चुनिए जिसमें दी गई आकृति निहित है। (घूर्णन की अनुमति नहीं है)



Ans

✓ 1.



✗ 2.



✗ 3.



✗ 4.



Question Type : MCQ

Question ID : 264330138558

Option 1 ID : 264330542841

Option 2 ID : 264330542840

Option 3 ID : 264330542842

Option 4 ID : 264330542839

Status : Answered

Chosen Option : 1

Q.4 R, M से लंबा है। M, P से लंबा है। S, R से लंबा है। H, P से कद में छोटा है। U, N से लंबा है और H से कद में छोटा है। इनमें से सबसे लंबा कौन है?

Ans ✗ 1. U

✓ 2. S

✗ 3. M

✗ 4. R

Question Type : MCQ

Question ID : 264330135008

Option 1 ID : 264330528967

Option 2 ID : 264330528970

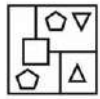
Option 3 ID : 264330528968

Option 4 ID : 264330528969

Status : Answered

Chosen Option : 2

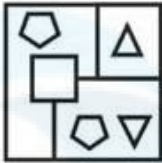
Q.5 यदि एक दर्पण को रेखा AB पर रखा जाए, तो दी गई विकल्प आकृतियों में से कौन-सी आकृति प्रश्न आकृति का सही प्रतिबिम्ब होगी?



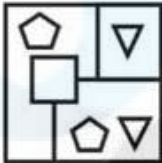
A B

Ans

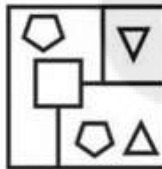
✗ 1.



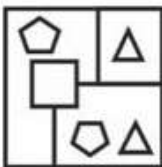
✗ 2.



✓ 3.



✗ 4.



Question Type : MCQ

Question ID : 264330138559

Option 1 ID : 264330542844

Option 2 ID : 264330542845

Option 3 ID : 264330542846

Option 4 ID : 264330542843

Status : Answered

Chosen Option : 3

Q.6 दी गई श्रृंखला में निम्नलिखित में से कौन-सी संख्या प्रश्न चिन्ह (?) के स्थान पर आएगी?  
53, 60, 67, 74, 81, 88, ?

Ans

✓ 1. 95

✗ 2. 98

✗ 3. 104

✗ 4. 93

Question Type : MCQ

Question ID : 264330135012

Option 1 ID : 264330528983

Option 2 ID : 264330528985

Option 3 ID : 264330528986

Option 4 ID : 264330528984

Status : Answered

Chosen Option : 1

Q.7 एक निश्चित कूट भाषा में, 'EAR' को '24' लिखा जाता है। उस भाषा में 'ICY' को कैसे लिखा जाएगा?

- Ans
- 1. 34
  - 2. 37
  - 3. 38
  - 4. 42

Question Type : MCQ  
Question ID : 264330137856  
Option 1 ID : 264330540033  
Option 2 ID : 264330540032  
Option 3 ID : 264330540034  
Option 4 ID : 264330540031  
Status : Answered  
Chosen Option : 2

Q.8 उस विकल्प को चुनिए जो तीसरे अक्षर-समूह से ठीक उसी प्रकार संबंधित है जिस प्रकार दूसरा अक्षर-समूह पहले अक्षर-समूह से संबंधित है।  
AFN : BDQ :: DLR : ?

- Ans
- 1. EJU
  - 2. JUN
  - 3. EUJ
  - 4. UJE

Question Type : MCQ  
Question ID : 264330135000  
Option 1 ID : 264330528935  
Option 2 ID : 264330528938  
Option 3 ID : 264330528936  
Option 4 ID : 264330528937  
Status : Answered  
Chosen Option : 1

Q.9 दी गई श्रृंखला में निम्नलिखित में से कौनसा अक्षर प्रश्न चिन्ह (?) के स्थान पर आएगा?  
L, N, R, X, F, P, ?

- Ans
- 1. M
  - 2. S
  - 3. B
  - 4. F

Question Type : MCQ  
Question ID : 264330134998  
Option 1 ID : 264330528927  
Option 2 ID : 264330528929  
Option 3 ID : 264330528928  
Option 4 ID : 264330528930  
Status : Answered  
Chosen Option : 3

Q.10 P, Q, R, S और T एक वृत्ताकार मेज पर केंद्र की ओर मुख करके बैठे हैं। R, T के ठीक बाईं ओर बैठा है। Q, S के ठीक बाईं ओर, और T के ठीक दाईं ओर बैठा है। S के ठीक दाईं ओर कौन बैठा है?

- Ans  1. P  
 2. T  
 3. R  
 4. Q

Question Type : MCQ  
Question ID : 264330135007  
Option 1 ID : 264330528963  
Option 2 ID : 264330528966  
Option 3 ID : 264330528965  
Option 4 ID : 264330528964  
Status : Answered  
Chosen Option : 1

Q.11 दिए गए पैटर्न का ध्यानपूर्वक अध्ययन कीजिए और उस संख्या को चुनिए जो इसमें प्रश्न चिन्ह (?) के स्थान पर आ सकती है।  
पहली पंक्ति- 68, 56, 44  
दूसरी पंक्ति- 245, 233, 221  
तीसरी पंक्ति- 97, 85, ?

- Ans  1. 89  
 2. 93  
 3. 73  
 4. 90

Question Type : MCQ  
Question ID : 264330135014  
Option 1 ID : 264330528992  
Option 2 ID : 264330528993  
Option 3 ID : 264330528991  
Option 4 ID : 264330528994  
Status : Answered  
Chosen Option : 3

Q.12 एक निश्चित कूट भाषा में, 'FIELD' को 'LOKRJ' लिखा जाता है और 'GLOBE' को 'MRUHK' लिखा जाता है। उस भाषा में 'GLASS' को कैसे लिखा जाएगा?

- Ans  1. MRHYY  
 2. MRGZZ  
 3. MRGY Y  
 4. MSGYY

Question Type : MCQ  
Question ID : 264330133510  
Option 1 ID : 264330523073  
Option 2 ID : 264330523074  
Option 3 ID : 264330523071  
Option 4 ID : 264330523072  
Status : Answered  
Chosen Option : 3

Q.13 अयान, प्रशांत, रितु, नीता, स्नेहा और जैन एक पंक्ति में दक्षिण की ओर मुख करके बैठे हैं। स्नेहा और जैन मध्य में बैठे हैं। अयान और प्रशांत कौनों पर बैठे हैं। रितु अयान के ठीक बाएँ पर बैठी है। प्रशांत के ठीक दाएँ पर कौन बैठा है?

- Ans
- ✓ 1. नीता
  - ✗ 2. स्नेहा
  - ✗ 3. अयान
  - ✗ 4. रितु

Question Type : MCQ

Question ID : 264330135006

Option 1 ID : 264330528959

Option 2 ID : 264330528961

Option 3 ID : 264330528962

Option 4 ID : 264330528960

Status : Answered

Chosen Option : 1

Q.14 दो कथन दिए गए हैं और दो निष्कर्ष I और II दिए गए हैं। कथनों को सत्य मानते हुए, चाहे वे सामान्यतः ज्ञात तथ्यों से अलग प्रतीत होते हों, निश्चय कीजिए कि कौन-सा निष्कर्ष तार्किक रूप से कथनों के अनुसार है।

कथन:

सभी घंटियाँ, पक्षी हैं।

कुछ घंटियाँ, खिलौने हैं।

निष्कर्ष:

I. कोई पक्षी, खिलौना नहीं है।

II. कुछ खिलौने, पक्षी हैं।

- Ans
- ✗ 1. केवल निष्कर्ष I कथनों के अनुसार है।
  - ✗ 2. न तो निष्कर्ष I और न ही II कथनों के अनुसार है।
  - ✓ 3. केवल निष्कर्ष II कथनों के अनुसार है।
  - ✗ 4. दोनों निष्कर्ष I और II कथनों के अनुसार हैं।

Question Type : MCQ

Question ID : 264330135009

Option 1 ID : 264330528971

Option 2 ID : 264330528974

Option 3 ID : 264330528972

Option 4 ID : 264330528973

Status : Answered

Chosen Option : 3

Q.15 दिए गए समीकरण को सही करने के लिए किन दो संख्याओं को आपस में बदला जाना चाहिए?

$$5 \times 7 - 4 + 21 \div 6 = 29$$

Ans  1. 5 और 4

2. 21 और 29

3. 6 और 5

4. 6 और 7

Question Type : MCQ

Question ID : 264330135015

Option 1 ID : 264330528995

Option 2 ID : 264330528997

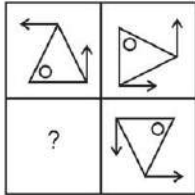
Option 3 ID : 264330528996

Option 4 ID : 264330528998

Status : Answered

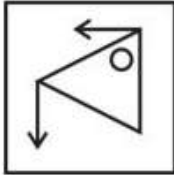
Chosen Option : 4

Q.16 उस विकल्प आकृति को चुनिए जो पैटर्न को पूरा करने के लिए नीचे दी गई आकृति में प्रश्न चिन्ह (?) के स्थान पर आएगी। (पूर्णा की अनुमति नहीं है)

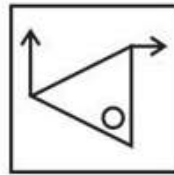


Ans

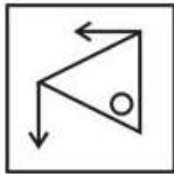
1.



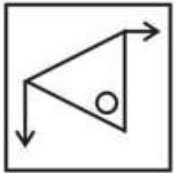
2.



3.



4.



Question Type : MCQ

Question ID : 264330135019

Option 1 ID : 264330529014

Option 2 ID : 264330529013

Option 3 ID : 264330529012

Option 4 ID : 264330529011

Status : Answered

Chosen Option : 3

Q.17 निम्नलिखित प्रश्न में दी गई श्रृंखला में लुप्त संख्या को चुनिए।

43, 42, 39, 34, 27, ?

- Ans
- 1. 21
  - 2. 16
  - 3. 20
  - 4. 18

Question Type : MCQ  
Question ID : 264330135628  
Option 1 ID : 264330531413  
Option 2 ID : 264330531414  
Option 3 ID : 264330531411  
Option 4 ID : 264330531412  
Status : Answered  
Chosen Option : 4

Q.18 उस विकल्प को चुनिए जो तीसरे शब्द से ठीक उसी प्रकार संबंधित है जिस प्रकार दूसरा शब्द पहले शब्द से संबंधित है।  
घर : कमरा :: दुनिया : ?

- Ans
- 1. चेहरा
  - 2. पेंसिल
  - 3. महाद्वीप
  - 4. बिस्तर

Question Type : MCQ  
Question ID : 264330135001  
Option 1 ID : 264330528941  
Option 2 ID : 264330528940  
Option 3 ID : 264330528939  
Option 4 ID : 264330528942  
Status : Answered  
Chosen Option : 3

Q.19 उस विकल्प को चुनिए जो पाँचवीं संख्या से ठीक उसी प्रकार संबंधित है जिस प्रकार दूसरी संख्या पहली संख्या से संबंधित है और चौथी संख्या तीसरी संख्या से संबंधित है।

5 : 50 :: 17 : 170 :: 19 : ?

- Ans
- 1. 200
  - 2. 210
  - 3. 190
  - 4. 180

Question Type : MCQ  
Question ID : 264330135630  
Option 1 ID : 264330531420  
Option 2 ID : 264330531422  
Option 3 ID : 264330531421  
Option 4 ID : 264330531419  
Status : Answered  
Chosen Option : 3

Q.20 दी गई दो संख्याओं को आपस में बदलने पर निम्नलिखित में से कौन-सा समीकरण सही नहीं होगा?

8 और 2

I.  $8 \times 4 - 6 \div 3 + 2 = 14$

II.  $6 - 8 \times 3 + 2 \div 1 = 9$

Ans

1. केवल I

2. केवल II

3. I और II दोनों

4. न तो I और न ही II

Question Type : MCQ

Question ID : 264330138846

Option 1 ID : 264330543991

Option 2 ID : 264330543992

Option 3 ID : 264330543993

Option 4 ID : 264330543994

Status : Answered

Chosen Option : 2

Section : General Awareness

Q.1 निम्नलिखित में से कौन-सा वनस्पति जगत में आवृतबीजियों (Angiosperm) का एक उदाहरण है?

Ans

1. फ्यूनेरिया (Funaria)

2. पाइनस (Pinus)

3. कारा (Chara)

4. टमाटर (Tomato)

Question Type : MCQ

Question ID : 264330135491

Option 1 ID : 264330530873

Option 2 ID : 264330530871

Option 3 ID : 264330530872

Option 4 ID : 264330530874

Status : Answered

Chosen Option : 4

Q.2 फरवरी 2022 में, कैबिनेट ने 'आयुष्मान भारत डिजिटल मिशन (Ayushman Bharat Digital Mission)' लागू करने की मंजूरी दी थी। केंद्र सरकार के किस मंत्रालय ने देशभर में आयुष्मान भारत योजना की शुरुआत की?

- Ans
- 1. महिला एवं बाल विकास मंत्रालय
  - 2. शिक्षा मंत्रालय
  - 3. आयुष मंत्रालय
  - 4. स्वास्थ्य एवं परिवार कल्याण मंत्रालय

Question Type : MCQ  
Question ID : 264330134669  
Option 1 ID : 264330527631  
Option 2 ID : 264330527632  
Option 3 ID : 264330527634  
Option 4 ID : 264330527633  
Status : Answered  
Chosen Option : 2

Q.3 ब्रह्म सभा के संस्थापक \_\_\_\_\_ थे।

- Ans
- 1. राजा राम मोहन राय
  - 2. केशव चंद्र सेन
  - 3. रवीन्द्रनाथ टैगोर
  - 4. राधाकांत देब

Question Type : MCQ  
Question ID : 264330138919  
Option 1 ID : 264330544283  
Option 2 ID : 264330544286  
Option 3 ID : 264330544284  
Option 4 ID : 264330544285  
Status : Answered  
Chosen Option : 3

Q.4 भारतीय संविधान के किस अनुच्छेद में शोषण के विरुद्ध अधिकार निहित है?

- Ans
- 1. अनुच्छेद 23 और 24
  - 2. अनुच्छेद 21
  - 3. अनुच्छेद 27 और 28
  - 4. अनुच्छेद 15

Question Type : MCQ  
Question ID : 264330134689  
Option 1 ID : 264330527714  
Option 2 ID : 264330527713  
Option 3 ID : 264330527712  
Option 4 ID : 264330527711  
Status : Answered  
Chosen Option : 1

Q.5 कोशिकाविज्ञान \_\_\_\_\_ का अध्ययन है।

- Ans
- 1. ऊतकों
  - 2. वंशाणुओं
  - 3. कोशिकाओं
  - 4. हरितलवकों

Question Type : MCQ  
Question ID : 264330134675  
Option 1 ID : 264330527655  
Option 2 ID : 264330527658  
Option 3 ID : 264330527656  
Option 4 ID : 264330527657  
Status : Answered  
Chosen Option : 3

Q.6 2011 की जनगणना के अनुसार, भारत में कुल जनसंख्या की दृष्टि से महाराष्ट्र किस स्थान पर है?

- Ans
- 1. पहले
  - 2. दूसरे
  - 3. तीसरे
  - 4. चौथे

Question Type : MCQ  
Question ID : 264330135495  
Option 1 ID : 264330530887  
Option 2 ID : 264330530888  
Option 3 ID : 264330530889  
Option 4 ID : 264330530890  
Status : Answered  
Chosen Option : 3

Q.7 भारत के रक्षा बलों का सर्वोच्च सेनापति कौन होता है?

- Ans
- 1. भारत का राष्ट्रपति
  - 2. भारत का मुख्य न्यायाधीश
  - 3. भारत का प्रधानमंत्री
  - 4. सेनाध्यक्ष

Question Type : MCQ  
Question ID : 264330138907  
Option 1 ID : 264330544236  
Option 2 ID : 264330544235  
Option 3 ID : 264330544237  
Option 4 ID : 264330544238  
Status : Answered  
Chosen Option : 1

Q.8 निम्नलिखित में से किसे वर्ष 1986 में 'पद्म विभूषण (Padma Vibhushan )' से सम्मानित किया गया था और उन्होंने देवदास (Devdas) फिल्म के प्रसिद्ध गीत 'काहे छेड़ मोहे (Kahe Chhed Mohe)' और बाजीराव मस्तानी (Bajirao Mastani) के 'मोहे रंग दो लाल (Mohe Rang Do Laal)' को कोरियोग्राफ किया था?

- Ans
- 1. बिपिन सिंह
  - 2. केलुचरण महापात्र
  - 3. बिरजू महाराज
  - 4. उदय शंकर

Question Type : MCQ  
Question ID : 264330134663  
Option 1 ID : 264330527610  
Option 2 ID : 264330527609  
Option 3 ID : 264330527607  
Option 4 ID : 264330527608  
Status : Answered  
Chosen Option : 4

Q.9 अमरावती कला शैली \_\_\_\_\_ के संरक्षण में विकसित हुई है।

- Ans
- 1. पाल
  - 2. चोल
  - 3. चेर
  - 4. सातवाहन

Question Type : MCQ  
Question ID : 264330138898  
Option 1 ID : 264330544202  
Option 2 ID : 264330544199  
Option 3 ID : 264330544201  
Option 4 ID : 264330544200  
Status : Answered  
Chosen Option : 3

Q.10 हिमालय पर्वत श्रृंखला \_\_\_\_\_ का एक प्रकार है।

- Ans
- 1. अवशिष्ट पर्वत (residual mountains)
  - 2. संचित पर्वत (accumulated mountains)
  - 3. वलित पर्वत (fold mountains)
  - 4. अंशोत्थ पर्वत (block mountains)

Question Type : MCQ  
Question ID : 264330134679  
Option 1 ID : 264330527672  
Option 2 ID : 264330527674  
Option 3 ID : 264330527671  
Option 4 ID : 264330527673  
Status : Answered  
Chosen Option : 4

Q.11 भारत ने किस वर्ष अपना 76वाँ स्वतंत्रता दिवस मनाया?

- Ans
- ✓ 1. 2022
  - ✗ 2. 2019
  - ✗ 3. 2021
  - ✗ 4. 2018

Question Type : MCQ  
Question ID : 264330138322  
Option 1 ID : 264330541895  
Option 2 ID : 264330541897  
Option 3 ID : 264330541896  
Option 4 ID : 264330541898  
Status : Answered  
Chosen Option : 1

Q.12 पृथ्वी पर ज्वालामुखी विस्फोट होने पर, उद्गर्माण सामग्री समान्यतः तरल चट्टान के रूप में निकलती है जिसे \_\_\_\_\_ कहते हैं।

- Ans
- ✗ 1. पारा (Mercury)
  - ✓ 2. लावा (Lava)
  - ✗ 3. प्लाज्मा (Plasma)
  - ✗ 4. ओला (Hailstone)

Question Type : MCQ  
Question ID : 264330135492  
Option 1 ID : 264330530878  
Option 2 ID : 264330530877  
Option 3 ID : 264330530876  
Option 4 ID : 264330530875  
Status : Answered  
Chosen Option : 2

Q.13 एक ही परमाणु से बने ऋणायन (Negative ions) को तत्व के मूल नाम में \_\_\_\_\_ प्रत्यय लगाकर नामांकित किया जाता है।

- Ans
- ✗ 1. -अस (-ous)
  - ✗ 2. -इक (-ic)
  - ✓ 3. -आइड (-ide)
  - ✗ 4. -ओनियम (-onium)

Question Type : MCQ  
Question ID : 264330135489  
Option 1 ID : 264330530864  
Option 2 ID : 264330530866  
Option 3 ID : 264330530865  
Option 4 ID : 264330530863  
Status : Not Answered  
Chosen Option : --

Q.14 निम्नलिखित में से कौन-सा राजस्थान का एक पारंपरिक लोकनृत्य है?

- Ans
- 1. बिहू
  - 2. घूमर
  - 3. भांगड़ा
  - 4. गिद्धा

Question Type : MCQ  
Question ID : 264330134671  
Option 1 ID : 264330527642  
Option 2 ID : 264330527641  
Option 3 ID : 264330527640  
Option 4 ID : 264330527639  
Status : Answered  
Chosen Option : 2

Q.15 पानीपत का तीसरा युद्ध सन् \_\_\_\_\_ में हुआ था।

- Ans
- 1. 1754
  - 2. 1761
  - 3. 1765
  - 4. 1757

Question Type : MCQ  
Question ID : 264330135498  
Option 1 ID : 264330530902  
Option 2 ID : 264330530899  
Option 3 ID : 264330530901  
Option 4 ID : 264330530900  
Status : Not Answered  
Chosen Option : --

Q.16 उस्ताद ज़ाकिर हुसैन \_\_\_\_\_ के सबसे महान वादकों में से एक हैं।

- Ans
- 1. शहनाई
  - 2. वायलिन
  - 3. सितार
  - 4. तबला

Question Type : MCQ  
Question ID : 264330134687  
Option 1 ID : 264330527703  
Option 2 ID : 264330527704  
Option 3 ID : 264330527705  
Option 4 ID : 264330527706  
Status : Answered  
Chosen Option : 4

Q.17 जैन तथा बौद्ध धर्म जिस समय लोकप्रिय हो रहे थे, उसी समय ब्राह्मणों ने चार आश्रमों की व्यवस्था की। निम्नलिखित में से किस आश्रम की व्यवस्था नहीं की गई थी?

- Ans
- 1. गृहस्थ
  - 2. परमार्थ
  - 3. वानप्रस्थ
  - 4. ब्रह्मचर्य

Question Type : MCQ  
Question ID : 264330138342  
Option 1 ID : 264330541976  
Option 2 ID : 264330541977  
Option 3 ID : 264330541978  
Option 4 ID : 264330541975  
Status : Answered  
Chosen Option : 4

Q.18 निम्नलिखित में से किस मृदा को रेगर (Regur) मृदा के नाम से भी जाना जाता है?

- Ans
- 1. काली मृदा
  - 2. लैटेराइट मृदा
  - 3. पीटमय (Peaty) मृदा
  - 4. जलोढ़ मृदा

Question Type : MCQ  
Question ID : 264330134653  
Option 1 ID : 264330527567  
Option 2 ID : 264330527569  
Option 3 ID : 264330527568  
Option 4 ID : 264330527570  
Status : Answered  
Chosen Option : 4

Q.19 मेजर ध्यानचंद किस खेल के लिए जाने जाते थे?

- Ans
- 1. फुटबॉल
  - 2. फील्ड हॉकी
  - 3. पोलो
  - 4. वॉलीबॉल

Question Type : MCQ  
Question ID : 264330134691  
Option 1 ID : 264330527719  
Option 2 ID : 264330527721  
Option 3 ID : 264330527722  
Option 4 ID : 264330527720  
Status : Answered  
Chosen Option : 2

Q.20 केंद्र ने 2019 में संविधान के अनुच्छेद 370 को रद्द कर दिया। इस अनुच्छेद ने \_\_\_\_\_ को विशेष राज्य का दर्जा दिया था।

Ans  1. जम्मू और कश्मीर

2. हिमाचल प्रदेश

3. पंजाब

4. उत्तरप्रदेश

Question Type : MCQ

Question ID : 264330134690

Option 1 ID : 264330527715

Option 2 ID : 264330527716

Option 3 ID : 264330527718

Option 4 ID : 264330527717

Status : Answered

Chosen Option : 1

Q.21 2011 की जनगणना के अनुसार, भारत का जनसंख्या घनत्व कितना है?

Ans  1. 356 व्यक्ति प्रति वर्ग किलोमीटर

2. 382 व्यक्ति प्रति वर्ग किलोमीटर

3. 482 व्यक्ति प्रति वर्ग किलोमीटर

4. 495 व्यक्ति प्रति वर्ग किलोमीटर

Question Type : MCQ

Question ID : 264330137930

Option 1 ID : 264330540329

Option 2 ID : 264330540327

Option 3 ID : 264330540330

Option 4 ID : 264330540328

Status : Answered

Chosen Option : 2

Q.22 'लॉन्ग वॉक टू फ्रीडम (Long Walk to Freedom)' \_\_\_\_\_ की आत्मकथा है।

Ans  1. बेंजामिन फ्रैंकलिन

2. नेल्सन मंडेला

3. जवाहर लाल नेहरू

4. महात्मा गांधी

Question Type : MCQ

Question ID : 264330134661

Option 1 ID : 264330527602

Option 2 ID : 264330527600

Option 3 ID : 264330527601

Option 4 ID : 264330527599

Status : Answered

Chosen Option : 4

Q.23 2022 के शीतकालीन ओलंपिक खेल बीजिंग में \_\_\_\_\_ के महीने में आयोजित किए गए थे।

- Ans
- 1. अप्रैल
  - 2. फरवरी
  - 3. जनवरी
  - 4. मार्च

Question Type : MCQ  
Question ID : 264330135507  
Option 1 ID : 264330530938  
Option 2 ID : 264330530936  
Option 3 ID : 264330530935  
Option 4 ID : 264330530937  
Status : Not Answered  
Chosen Option : --

Q.24 भारतीय राष्ट्रीय कांग्रेस का विभाजन सन् \_\_\_\_\_ में हुआ।

- Ans
- 1. 1907
  - 2. 1903
  - 3. 1905
  - 4. 1901

Question Type : MCQ  
Question ID : 264330138345  
Option 1 ID : 264330541990  
Option 2 ID : 264330541988  
Option 3 ID : 264330541989  
Option 4 ID : 264330541987  
Status : Answered  
Chosen Option : 1

Q.25 केंद्रीय बैंक द्वारा देश के आर्थिक हित में बैंकों को ऋण (credit) देने के लिए प्रोत्साहित करने के लिए अपनाई जाने वाली एक विधि को \_\_\_\_\_ कहते हैं।

- Ans
- 1. ऋण-राशि-नियतन (Credit Rationing)
  - 2. सीमांत स्थायी सुविधा (Marginal Standing Facility)
  - 3. नैतिक दबाव (Moral Suasion)
  - 4. सीमा अनिवार्यता (Margin Requirements)

Question Type : MCQ  
Question ID : 264330134668  
Option 1 ID : 264330527628  
Option 2 ID : 264330527627  
Option 3 ID : 264330527630  
Option 4 ID : 264330527629  
Status : Answered  
Chosen Option : 1

**Q.1** Find the part of the given sentence that has an error in it. If there is no error, choose 'No error'.

We don't know exactly when first stars formed.

- Ans**
- 1. stars formed.
  - 2. We don't know
  - 3. exactly when first
  - 4. No error

Question Type : **MCQ**  
Question ID : **264330135309**  
Option 1 ID : **264330530149**  
Option 2 ID : **264330530147**  
Option 3 ID : **264330530148**  
Option 4 ID : **264330530150**  
Status : **Answered**  
Chosen Option : 1

**Q.2** A sentence has been given with a blank to be filled with an appropriate option. Choose the correct alternative.

I did not \_\_\_\_\_ everyone all at once.

- Ans**
- 1. losing
  - 2. lose
  - 3. loose
  - 4. lost

Question Type : **MCQ**  
Question ID : **264330134803**  
Option 1 ID : **264330528158**  
Option 2 ID : **264330528155**  
Option 3 ID : **264330528157**  
Option 4 ID : **264330528156**  
Status : **Answered**  
Chosen Option : 2

**Q.3** A sentence has been given with a blank to be filled with an appropriate option. Choose the correct alternative.

Nigeria \_\_\_\_\_ restrictions in place since 2015 in a bid to boost local production.

- Ans**
- 1. has had
  - 2. had has
  - 3. have had
  - 4. have has

Question Type : **MCQ**  
Question ID : **264330136776**  
Option 1 ID : **264330535809**  
Option 2 ID : **264330535808**  
Option 3 ID : **264330535807**  
Option 4 ID : **264330535810**  
Status : **Answered**  
Chosen Option : 3

Q.4 Choose the incorrectly spelt word.

- Ans
- 1. Serious
  - 2. Positon
  - 3. Continue
  - 4. Source

Question Type : MCQ  
Question ID : 264330134819  
Option 1 ID : 264330528215  
Option 2 ID : 264330528216  
Option 3 ID : 264330528218  
Option 4 ID : 264330528217  
Status : Answered  
Chosen Option : 2

Q.5 Select the most appropriate option to substitute the bracketed segment in the given sentence. If there is no need to substitute it, select 'no substitution required'.

We were asked by (Jane's aunt where she was last night.)

- Ans
- 1. Jane's aunt where was she was last night?
  - 2. Jane's aunt where was she last night.
  - 3. No substitution required
  - 4. Jane aunt's where she was last night?

Question Type : MCQ  
Question ID : 264330136294  
Option 1 ID : 264330533957  
Option 2 ID : 264330533955  
Option 3 ID : 264330533958  
Option 4 ID : 264330533956  
Status : Answered  
Chosen Option : 2

Q.6 Choose the word that can substitute the given group of words.

Liable to catch fire easily

- Ans
- 1. Venial
  - 2. Agnostic
  - 3. Inflammable
  - 4. Incombustible

Question Type : MCQ  
Question ID : 264330134812  
Option 1 ID : 264330528190  
Option 2 ID : 264330528187  
Option 3 ID : 264330528188  
Option 4 ID : 264330528189  
Status : Answered  
Chosen Option : 3

**Q.7** Find the part of the given sentence that has an error in it. If there is no error, choose 'No error'.

Until few decades ago, researchers believed the moon was completely dry.

- Ans**
- 1. No error
  - 2. Until few decades ago,
  - 3. researchers believed the moon
  - 4. was completely dry.

Question Type : **MCQ**  
Question ID : **264330134799**  
Option 1 ID : **264330528142**  
Option 2 ID : **264330528139**  
Option 3 ID : **264330528140**  
Option 4 ID : **264330528141**  
Status : **Answered**  
Chosen Option : **2**

**Q.8** In the following question, out of the given four alternatives, select the alternative which best expresses the meaning of the Idiom/Phrase.

To mind one's P's and Q's

- Ans**
- 1. To be polite and careful in one's behaviour and speech
  - 2. To supervise something carefully
  - 3. To make amends after a fight
  - 4. To write English alphabets accurately

Question Type : **MCQ**  
Question ID : **264330135276**  
Option 1 ID : **264330530021**  
Option 2 ID : **264330530022**  
Option 3 ID : **264330530019**  
Option 4 ID : **264330530020**  
Status : **Answered**  
Chosen Option : **1**

**Q.9** Identify the segment that contains a grammatical error. If there is no error, select 'No error'

Droughts effect water supply in Southern/ Spain, which is increasingly turning towards/ seawater desalination to meet its water needs.

- Ans**
- 1. Droughts effect water supply in Southern
  - 2. No error
  - 3. seawater desalination to meet its water needs.
  - 4. Spain, which is increasingly turning towards

Question Type : **MCQ**  
Question ID : **264330136291**  
Option 1 ID : **264330533943**  
Option 2 ID : **264330533946**  
Option 3 ID : **264330533945**  
Option 4 ID : **264330533944**  
Status : **Answered**  
Chosen Option : **3**

Q.10 Fill in the blank with the most appropriate option.

Then Bheeshma entered their lives with his \_\_\_\_\_ lion's laugh.

- Ans
- 1. elephantine
  - 2. narrow
  - 3. moment
  - 4. large

Question Type : MCQ  
Question ID : 264330136715  
Option 1 ID : 264330535574  
Option 2 ID : 264330535571  
Option 3 ID : 264330535573  
Option 4 ID : 264330535572  
Status : Answered  
Chosen Option : 4

Q.11 Select the appropriate antonym for the underlined word.

We will brush out the damp hair.

- Ans
- 1. droughty
  - 2. saturated
  - 3. moist
  - 4. sticky

Question Type : MCQ  
Question ID : 264330134816  
Option 1 ID : 264330528205  
Option 2 ID : 264330528206  
Option 3 ID : 264330528204  
Option 4 ID : 264330528203  
Status : Answered  
Chosen Option : 2

Q.12 Select the appropriate synonym for the underlined word.

Photosynthesis can be hindered by extreme temperatures.

- Ans
- 1. discouraged
  - 2. tolerated
  - 3. gained
  - 4. revert

Question Type : MCQ  
Question ID : 264330134813  
Option 1 ID : 264330528192  
Option 2 ID : 264330528194  
Option 3 ID : 264330528191  
Option 4 ID : 264330528193  
Status : Answered  
Chosen Option : 4

**Q.13** Improve the underlined part of the sentence. Choose 'No improvement' as an answer if the sentence is grammatically correct.

This has sharp decreased the cases of water-borne diseases.

- Ans**
- 1. sharper decreases
  - 2. No improvement
  - 3. sharply decreased
  - 4. sharp decrease

Question Type : **MCQ**  
Question ID : **264330134828**  
Option 1 ID : **264330528253**  
Option 2 ID : **264330528254**  
Option 3 ID : **264330528252**  
Option 4 ID : **264330528251**  
Status : **Answered**  
Chosen Option : **3**

**Q.14** Four sentences are given, out of which three have spelling errors. Choose the sentence with all correctly spelt words.

- Ans**
- 1. Never interrupt an earnest or apparently interesting conversation.
  - 2. The person who received the alert doesn't know when it happened.
  - 3. Life is complicated, and there's a lot to be grateful for.
  - 4. The goal of this endeavor is to create significant ties for your city.

Question Type : **MCQ**  
Question ID : **264330136714**  
Option 1 ID : **264330535567**  
Option 2 ID : **264330535568**  
Option 3 ID : **264330535570**  
Option 4 ID : **264330535569**  
Status : **Answered**  
Chosen Option : **2**

**Q.15** Improve the underlined part of the sentence. Choose 'No improvement' as an answer if the sentence is grammatically correct.  
The loft is fill in hay for the winter.

- Ans**
- 1. No improvement
  - 2. filled with
  - 3. fills with
  - 4. fill with

Question Type : **MCQ**  
Question ID : **264330134454**  
Option 1 ID : **264330526790**  
Option 2 ID : **264330526788**  
Option 3 ID : **264330526789**  
Option 4 ID : **264330526787**  
Status : **Answered**  
Chosen Option : **4**

**Q.16** Select the most appropriate option to fill in the blank.

Some health experts optimistically argue that disinfecting indoor spaces with light could be a \_\_\_\_\_.

- Ans**
- 1. game-changer
  - 2. interchanger
  - 3. hand over
  - 4. roundabout

Question Type : **MCQ**  
Question ID : **264330134822**  
Option 1 ID : **264330528230**  
Option 2 ID : **264330528228**  
Option 3 ID : **264330528229**  
Option 4 ID : **264330528227**  
Status : **Answered**  
Chosen Option : **1**

**Q.17** Choose the word that can substitute the given group of words.

A ground where the last funeral rites are performed

- Ans**
- 1. Mortuary
  - 2. Barracks
  - 3. Crematorium
  - 4. Tomb

Question Type : **MCQ**  
Question ID : **264330135270**  
Option 1 ID : **264330529996**  
Option 2 ID : **264330529995**  
Option 3 ID : **264330529997**  
Option 4 ID : **264330529998**  
Status : **Answered**  
Chosen Option : **1**

**Q.18** Select the most appropriate synonym to substitute the bracketed word in the given sentence.

So can our community leaders come up with a plan of action to help (alleviate) this problem?

- Ans**
- 1. Aggravate
  - 2. Falter
  - 3. Altruistic
  - 4. Diminish

Question Type : **MCQ**  
Question ID : **264330136734**  
Option 1 ID : **264330535646**  
Option 2 ID : **264330535644**  
Option 3 ID : **264330535643**  
Option 4 ID : **264330535645**  
Status : **Answered**  
Chosen Option : **3**

**Q.19** Choose the word that is opposite in meaning to the given word.

Absorb

- Ans**
- 1. Permit
  - 2. Dwindle
  - 3. Dismiss
  - 4. Reconcile

Question Type : **MCQ**

Question ID : **264330136865**

Option 1 ID : **264330536147**

Option 2 ID : **264330536150**

Option 3 ID : **264330536149**

Option 4 ID : **264330536148**

Status : **Answered**

Chosen Option : **3**

**Q.20** In the following question, out of the given four alternatives, select the alternative which best expresses the meaning of the Idiom/Phrase.

Hard/tough nut to crack

- Ans**
- 1. A difficult person, problem or situation
  - 2. Not being able to enjoy oneself
  - 3. To understand clearly
  - 4. Good for nothing

Question Type : **MCQ**

Question ID : **264330134818**

Option 1 ID : **264330528211**

Option 2 ID : **264330528213**

Option 3 ID : **264330528214**

Option 4 ID : **264330528212**

Status : **Answered**

Chosen Option : **1**

**Comprehension:**

In the following passage some of the words have been deleted. Read the passage carefully and select the correct answer for the given blank out of the four alternatives.

Gardenia is one of the most (1) \_\_\_\_\_ flowers, producing one of the most beloved scents in the garden world. Fall or spring is the best time to (2) \_\_\_\_\_ this shrub in warmer climates. It also (3) \_\_\_\_\_ a fragrant houseplant, though it can be fussy about indoor humidity. Container plants can be (4) \_\_\_\_\_ outdoors during summer and returned to moderate indoor temperatures in the (5) \_\_\_\_\_.

**SubQuestion No : 21**

Q.21 Select the most appropriate option to fill in the blank No. 1.

- Ans
- 1. polluted
  - 2. fragrant
  - 3. stenchy
  - 4. soluble

Question Type : MCQ

Question ID : 264330136856

Option 1 ID : 264330536114

Option 2 ID : 264330536113

Option 3 ID : 264330536111

Option 4 ID : 264330536112

Status : Answered

Chosen Option : 2

**Comprehension:**

In the following passage some of the words have been deleted. Read the passage carefully and select the correct answer for the given blank out of the four alternatives.

Gardenia is one of the most (1) \_\_\_\_\_ flowers, producing one of the most beloved scents in the garden world. Fall or spring is the best time to (2) \_\_\_\_\_ this shrub in warmer climates. It also (3) \_\_\_\_\_ a fragrant houseplant, though it can be fussy about indoor humidity. Container plants can be (4) \_\_\_\_\_ outdoors during summer and returned to moderate indoor temperatures in the (5) \_\_\_\_\_.

**SubQuestion No : 22**

Q.22 Select the most appropriate option to fill in the blank No. 2.

- Ans
- 1. plant
  - 2. train
  - 3. host
  - 4. stamp

Question Type : MCQ

Question ID : 264330136857

Option 1 ID : 264330536118

Option 2 ID : 264330536115

Option 3 ID : 264330536116

Option 4 ID : 264330536117

Status : Answered

Chosen Option : 1

**Comprehension:**

In the following passage some of the words have been deleted. Read the passage carefully and select the correct answer for the given blank out of the four alternatives.

Gardenia is one of the most (1) \_\_\_\_\_ flowers, producing one of the most beloved scents in the garden world. Fall or spring is the best time to (2) \_\_\_\_\_ this shrub in warmer climates. It also (3) \_\_\_\_\_ a fragrant houseplant, though it can be fussy about indoor humidity. Container plants can be (4) \_\_\_\_\_ outdoors during summer and returned to moderate indoor temperatures in the (5) \_\_\_\_\_.

**SubQuestion No : 23**

**Q.23** Select the most appropriate option to fill in the blank No. 3.

- Ans**
- 1. make
  - 2. makes
  - 3. made
  - 4. making

Question Type : **MCQ**  
Question ID : **264330136858**  
Option 1 ID : **264330536119**  
Option 2 ID : **264330536122**  
Option 3 ID : **264330536120**  
Option 4 ID : **264330536121**  
Status : **Answered**  
Chosen Option : **2**

**Comprehension:**

In the following passage some of the words have been deleted. Read the passage carefully and select the correct answer for the given blank out of the four alternatives.

Gardenia is one of the most (1) \_\_\_\_\_ flowers, producing one of the most beloved scents in the garden world. Fall or spring is the best time to (2) \_\_\_\_\_ this shrub in warmer climates. It also (3) \_\_\_\_\_ a fragrant houseplant, though it can be fussy about indoor humidity. Container plants can be (4) \_\_\_\_\_ outdoors during summer and returned to moderate indoor temperatures in the (5) \_\_\_\_\_.

**SubQuestion No : 24**

**Q.24** Select the most appropriate option to fill in the blank No. 4.

- Ans**
- 1. classified
  - 2. sorted
  - 3. sailed
  - 4. placed

Question Type : **MCQ**  
Question ID : **264330136859**  
Option 1 ID : **264330536126**  
Option 2 ID : **264330536125**  
Option 3 ID : **264330536123**  
Option 4 ID : **264330536124**  
Status : **Answered**  
Chosen Option : **4**

**Comprehension:**

In the following passage some of the words have been deleted. Read the passage carefully and select the correct answer for the given blank out of the four alternatives.

Gardenia is one of the most (1) \_\_\_\_\_ flowers, producing one of the most beloved scents in the garden world. Fall or spring is the best time to (2) \_\_\_\_\_ this shrub in warmer climates. It also (3) \_\_\_\_\_ a fragrant houseplant, though it can be fussy about indoor humidity. Container plants can be (4) \_\_\_\_\_ outdoors during summer and returned to moderate indoor temperatures in the (5) \_\_\_\_\_.

**SubQuestion No : 25**

**Q.25** Select the most appropriate option to fill in the blank No. 5.

- Ans**
- 1. fall
  - 2. tropics
  - 3. arena
  - 4. climate

Question Type : **MCQ**

Question ID : **264330136860**

Option 1 ID : **264330536130**

Option 2 ID : **264330536127**

Option 3 ID : **264330536129**

Option 4 ID : **264330536128**

Status : **Answered**

Chosen Option : **4**