

## Multi Tasking Non Technical Staff and Havaldar CBIC and CBN Examination 2022

Roll Number	
Candidate Name	
Venue Name	iON Digital Zone iDZ Laxman Nagar
Exam Date	18/05/2023
Exam Time	9:00 AM - 10:30 AM
Subject	MTS Non Tech Havaldar CBIC and CBN Examination 2022

### Section : Numerical and Mathematical Ability

Q.1 A ने क्रमशः Rs.400 और Rs.600 में दो वस्तुएँ खरीदीं और क्रमशः 10% और 20% के लाभ पर बेच दीं। उसका कुल लाभ प्रतिशत कितना था?

- Ans
- 1. 15%
  - 2. 18%
  - 3. 20%
  - 4. 16%

Question Type : MCQ

Question ID : 264330133782

Option 1 ID : 264330524151

Option 2 ID : 264330524153

Option 3 ID : 264330524154

Option 4 ID : 264330524152

Status : Answered

Chosen Option : 4

Q.2 एक वस्तु को 14% की हानि पर बेचा गया। यदि इसे Rs. 756 अधिक में बेचा जाता, तो 7% का लाभ होता। वस्तु का क्रय मूल्य ज्ञात कीजिए।

- Ans
- 1. Rs.3600
  - 2. Rs.3000
  - 3. Rs.2300
  - 4. Rs.5000

Question Type : MCQ

Question ID : 264330135375

Option 1 ID : 264330530407

Option 2 ID : 264330530410

Option 3 ID : 264330530408

Option 4 ID : 264330530409

Status : Answered

Chosen Option : 1

Q.3 एक खेत में 8 श्रमिक एक कार्य को 22 दिनों में पूरा करते हैं। यदि इस कार्य को 44 दिनों में पूरा करना हो, तो कितने श्रमिकों की आवश्यकता होगी?

- Ans  1. 4  
 2. 5  
 3. 2  
 4. 3

Question Type : MCQ  
Question ID : 264330135405  
Option 1 ID : 264330530528  
Option 2 ID : 264330530529  
Option 3 ID : 264330530530  
Option 4 ID : 264330530527  
Status : Answered  
Chosen Option : 1

Q.4 यदि एक रेफ्रिजरेटर का क्रय मूल्य Rs.17200 है और हानि प्रतिशत 8% है, तो रेफ्रिजरेटर का विक्रय मूल्य (Rs. में) क्या है?

- Ans  1. Rs.14444  
 2. Rs.14564  
 3. Rs.15824  
 4. Rs.15500

Question Type : MCQ  
Question ID : 264330133783  
Option 1 ID : 264330524155  
Option 2 ID : 264330524158  
Option 3 ID : 264330524157  
Option 4 ID : 264330524156  
Status : Answered  
Chosen Option : 3

Q.5  $14 + [100 \div \{60 \div (18 \div 6)\}]$  of 400 का मान है:

- Ans  1. 2020  
 2. 2014  
 3. 2015  
 4. 2000

Question Type : MCQ  
Question ID : 264330133776  
Option 1 ID : 264330524130  
Option 2 ID : 264330524128  
Option 3 ID : 264330524129  
Option 4 ID : 264330524127  
Status : Answered  
Chosen Option : 2

**Q.6** X अकेले किसी कार्य को 18 दिनों में पूरा कर सकता है, Y अकेले उसी कार्य को 9 दिनों में पूरा कर सकता है। यदि X, Y और Z मिलकर उसी कार्य को 4 दिनों में पूरा कर सकते हैं, तो Z अकेले उस कार्य को कितने दिनों में पूरा कर सकता है?

- Ans**
- ✓ 1. 12 दिन
  - ✗ 2. 16 दिन
  - ✗ 3. 14 दिन
  - ✗ 4. 10 दिन

Question Type : **MCQ**

Question ID : **264330138740**

Option 1 ID : **264330543568**

Option 2 ID : **264330543570**

Option 3 ID : **264330543569**

Option 4 ID : **264330543567**

Status : **Answered**

Chosen Option : **1**

**Q.7** अधिक कोण त्रिभुज की सबसे लंबी भुजा 7 cm है और त्रिभुज की अन्य दो भुजाएँ 4 cm और 5 cm हैं। त्रिभुज का क्षेत्रफल ज्ञात कीजिए।

- Ans**
- ✓ 1.  $4\sqrt{6} \text{ cm}^2$
  - ✗ 2.  $1\sqrt{3} \text{ cm}^2$
  - ✗ 3.  $3\sqrt{2} \text{ cm}^2$
  - ✗ 4.  $6\sqrt{3} \text{ cm}^2$

Question Type : **MCQ**

Question ID : **264330135409**

Option 1 ID : **264330530543**

Option 2 ID : **264330530546**

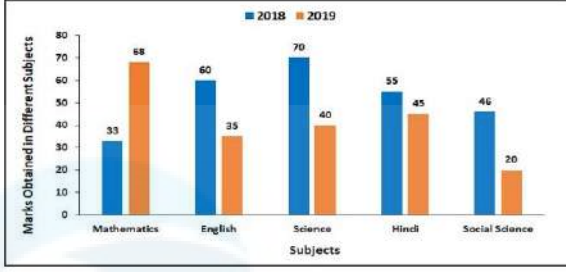
Option 3 ID : **264330530545**

Option 4 ID : **264330530544**

Status : **Answered**

Chosen Option : **1**

Q.8 निम्नलिखित टंड आलेख में वर्ष 2018 और 2019 में 5 विभिन्न विषयों में एक छात्र के प्राप्तांकों को दर्शाया गया है। वर्ष 2018 के कुल प्राप्तांकों और वर्ष 2019 के कुल प्राप्तांकों का अनुपात ज्ञात कीजिए।



Marks Obtained in Different Subjects = विभिन्न विषयों में प्राप्त अंक, Mathematics = गणित, English = अंग्रेज़ी, Science = विज्ञान, Hindi = हिन्दी, Social Science = सामाजिक विज्ञान, Subjects = विषय

- Ans
- ✓ 1. 33 : 26
  - ✗ 2. 66 : 23
  - ✗ 3. 44 : 15
  - ✗ 4. 80 : 3

Question Type : MCQ  
Question ID : 264330133792  
Option 1 ID : 264330524191  
Option 2 ID : 264330524193  
Option 3 ID : 264330524192  
Option 4 ID : 264330524194  
Status : Answered  
Chosen Option : 1

Q.9 संख्या 15 और 30 का तृतीय समानुपाती क्या है?

- Ans
- ✗ 1. 45
  - ✗ 2. 40
  - ✓ 3. 60
  - ✗ 4. 50

Question Type : MCQ  
Question ID : 264330133785  
Option 1 ID : 264330524165  
Option 2 ID : 264330524163  
Option 3 ID : 264330524166  
Option 4 ID : 264330524164  
Status : Answered  
Chosen Option : 3

Q.10 यदि A का वेतन B के वेतन से 60% कम है, तो B का वेतन A के वेतन से कितने प्रतिशत अधिक है?

- Ans
- 1. 40%
  - 2. 150%
  - 3. 120%
  - 4. 60%

Question Type : MCQ

Question ID : 264330133780

Option 1 ID : 264330524144

Option 2 ID : 264330524146

Option 3 ID : 264330524143

Option 4 ID : 264330524145

Status : Answered

Chosen Option : 2

Q.11  $2[3.5 \times 3.5 + 2.5 \times 2.5]$  का मान क्या है?

- Ans
- 1. 38
  - 2. 39
  - 3. 37
  - 4. 36

Question Type : MCQ

Question ID : 264330137891

Option 1 ID : 264330540173

Option 2 ID : 264330540174

Option 3 ID : 264330540172

Option 4 ID : 264330540171

Status : Answered

Chosen Option : 3

Q.12 दो संख्याओं के लघुत्तम समापवर्त्य (LCM) और महत्तम समापवर्तक (HCF) का गुणनफल 2028 है। यदि एक संख्या 78 है, तो दूसरी संख्या क्या है?

- Ans
- 1. 26
  - 2. 13
  - 3. 52
  - 4. 39

Question Type : MCQ

Question ID : 264330138348

Option 1 ID : 264330542000

Option 2 ID : 264330541999

Option 3 ID : 264330542002

Option 4 ID : 264330542001

Status : Answered

Chosen Option : 1

Q.13 एक बस की चाल 108 km/hr है। बस द्वारा 2 सेकंड में तय की गई दूरी ज्ञात कीजिए।

- Ans
- 1. 20 m
  - 2. 60 m
  - 3. 30 m
  - 4. 16 m

Question Type : MCQ

Question ID : 264330133788

Option 1 ID : 264330524178

Option 2 ID : 264330524177

Option 3 ID : 264330524175

Option 4 ID : 264330524176

Status : Answered

Chosen Option : 2

Q.14 एक ऑटो रिक्शा बिंदु P से Q तक 20 km और फिर Q से R तक 25 km की यात्रा करता है। इस यात्रा में कुल 1 घंटा 30 मिनट का समय लगा। ऑटो रिक्शा की औसत चाल क्या थी?

- Ans
- 1. 15 km/hr
  - 2. 45 km/hr
  - 3. 60 km/hr
  - 4. 30 km/hr

Question Type : MCQ

Question ID : 264330138729

Option 1 ID : 264330543525

Option 2 ID : 264330543524

Option 3 ID : 264330543526

Option 4 ID : 264330543523

Status : Answered

Chosen Option : 4

Q.15 Rs. 11064 की धनराशि 5% वार्षिक साधारण ब्याज दर पर x वर्षों में Rs. 2766 का ब्याज देती है। x का मान क्या होगा?

- Ans
- 1. 2
  - 2. 3
  - 3. 4
  - 4. 5

Question Type : MCQ

Question ID : 264330138402

Option 1 ID : 264330542217

Option 2 ID : 264330542216

Option 3 ID : 264330542215

Option 4 ID : 264330542218

Status : Answered

Chosen Option : 4

Q.16 तीन संख्याएँ 4 : 5 : 7 के अनुपात में हैं। सबसे छोटी और सबसे बड़ी संख्या का योग 44 है। दूसरी सबसे छोटी संख्या कौनसी है?

- Ans
- 1. 32
  - 2. 28
  - 3. 20
  - 4. 24

Question Type : MCQ  
Question ID : 264330133784  
Option 1 ID : 264330524160  
Option 2 ID : 264330524162  
Option 3 ID : 264330524159  
Option 4 ID : 264330524161  
Status : Answered  
Chosen Option : 3

Q.17 नीचे दी गई तालिका में विभिन्न कंपनियों द्वारा किए गए टेलीविज़न और फ्रिज के उत्पादन को दर्शाया गया है।

कंपनियाँ	टेलीविज़न	फ्रिज
P	80	100
Q	70	50
R	60	40
S	50	70
T	90	55

निम्नलिखित में से कौन-सा कथन सही नहीं है?

- I. R द्वारा किए गए टेलीविज़न और फ्रिज के औसत उत्पादन और S द्वारा किए गए टेलीविज़न और फ्रिज के औसत उत्पादन के बीच का अंतर 10 है।
- II. P द्वारा किया गया टेलीविज़न और फ्रिज का उत्पादन, I द्वारा किए गए टेलीविज़न के उत्पादन का 20 प्रतिशत है।

- Ans
- 1. I और II दोनों
  - 2. केवल I
  - 3. न तो I और न ही II
  - 4. केवल II

Question Type : MCQ  
Question ID : 264330137892  
Option 1 ID : 264330540177  
Option 2 ID : 264330540175  
Option 3 ID : 264330540178  
Option 4 ID : 264330540176  
Status : Answered  
Chosen Option : 4

Q.18 प्रत्येक  $125 \text{ cm}^3$  आयतन वाले 2 घनों को एक सिरे से दूसरे सिरे तक जोड़ा जाता है। परिणामी घनाभ का पृष्ठीय क्षेत्रफल कितना है?

- Ans
- 1.  $125 \text{ cm}^2$
  - 2.  $325 \text{ cm}^2$
  - 3.  $250 \text{ cm}^2$
  - 4.  $350 \text{ cm}^2$

Question Type : MCQ  
Question ID : 264330138745  
Option 1 ID : 264330543587  
Option 2 ID : 264330543589  
Option 3 ID : 264330543588  
Option 4 ID : 264330543590  
Status : Answered  
Chosen Option : 3

Q.19 Rs.7500 की धनराशि वार्षिक रूप से संयोजित चक्रवृद्धि ब्याज पर दो वर्ष में Rs.15000 हो जाती है। चार वर्ष में Rs.7500 की धनराशि कितनी हो जाएगी?

- Ans
- 1. Rs.30000
  - 2. Rs.60000
  - 3. Rs.45000
  - 4. Rs.50000

Question Type : MCQ  
Question ID : 264330133787  
Option 1 ID : 264330524171  
Option 2 ID : 264330524173  
Option 3 ID : 264330524172  
Option 4 ID : 264330524174  
Status : Answered  
Chosen Option : 3

Q.20 एक छात्र ने पाँच विषयों में 100 में से 77, 80, 88, 73 और 62 अंक प्राप्त किए। उसके अंकों का औसत कितना है?

- Ans
- 1. 74
  - 2. 76
  - 3. 75
  - 4. 78

Question Type : MCQ  
Question ID : 264330133778  
Option 1 ID : 264330524135  
Option 2 ID : 264330524137  
Option 3 ID : 264330524138  
Option 4 ID : 264330524136  
Status : Answered  
Chosen Option : 2

Q.1 एक निश्चित कूट भाषा में, 'NATURE' को 'MASUQE' लिखा जाता है। उस कूट भाषा में 'POTATO' को कैसे लिखा जाएगा?

- Ans
- 1. OSPAOS
  - 2. OOSASO
  - 3. OPSAOS
  - 4. OSSASO

Question Type : MCQ

Question ID : 264330137541

Option 1 ID : 264330538771

Option 2 ID : 264330538774

Option 3 ID : 264330538772

Option 4 ID : 264330538773

Status : Answered

Chosen Option : 2

Q.2 पाँच मित्रों अल्फा, बीटा, गामा, रो और थीटा को एक पंक्ति में उत्तर की ओर मुख करके बैठाया गया है, परंतु जरूरी नहीं है कि वे इसी क्रम में बैठें हैं। बीटा पंक्ति के बाएँ छोर पर बैठा है। अल्फा और गामा के बीच केवल दो मित्र बैठे हैं। अल्फा, बीटा के ठीक बगल में बैठा है और रो, बीटा के दाएँ से दूसरे स्थान पर बैठा है। रो और गामा के बीच कौन बैठा है?

- Ans
- 1. अल्फा
  - 2. कोई भी नहीं
  - 3. बीटा
  - 4. थीटा

Question Type : MCQ

Question ID : 264330133492

Option 1 ID : 264330523002

Option 2 ID : 264330523000

Option 3 ID : 264330522999

Option 4 ID : 264330523001

Status : Answered

Chosen Option : 4

Q.3 पाँच लड़कियाँ अनीता, बबीता, चम्मा, डायना और एरिका की उम्र अलग-अलग है, अनीता केवल डायना और एरिका से छोटी है। एरिका डायना से छोटी है। चम्मा सबसे छोटी है। समूह में चौथी सबसे बड़ी कौन है?

- Ans
- 1. एरिका
  - 2. बबीता
  - 3. डायना
  - 4. चम्मा

Question Type : MCQ

Question ID : 264330133494

Option 1 ID : 264330523008

Option 2 ID : 264330523007

Option 3 ID : 264330523010

Option 4 ID : 264330523009

Status : Answered

Chosen Option : 2

Q.4 Select the option that is related to the third word in the same way as the second word is related to the first word.

Cricket : Pitch :: Golf : ?

- Ans
- 1. Arena
  - 2. Court
  - 3. Track
  - 4. Course

Question Type : MCQ

Question ID : 264330133488

Option 1 ID : 264330522984

Option 2 ID : 264330522985

Option 3 ID : 264330522986

Option 4 ID : 264330522983

Status : Answered

Chosen Option : 4

Q.5 नीचे दिए गए समीकरण में कौन-से गणितीय चिन्हों को आपस में बदला जाना चाहिए जिससे यह समीकरण गणितीय रूप से सही हो जाएगा?

$$4 \div 32 + 8 \times 9 - 5 = 35$$

- Ans
- 1.  $\div$  और  $\times$
  - 2.  $\div$  और  $+$
  - 3.  $\times$  और  $+$
  - 4.  $\times$  और  $-$

Question Type : MCQ

Question ID : 264330133501

Option 1 ID : 264330523035

Option 2 ID : 264330523036

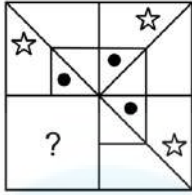
Option 3 ID : 264330523037

Option 4 ID : 264330523038

Status : Answered

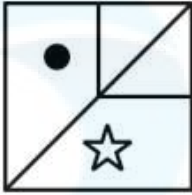
Chosen Option : 2

Q.6 उस विकल्प आकृति को चुनिए जो नीचे दी गई आकृति में पैटर्न को पूरा करने के लिए प्रश्न चिन्ह (?) के स्थान पर आएगी।  
(घर्षण की अनुमति नहीं है।)

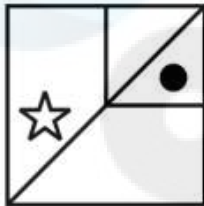


Ans

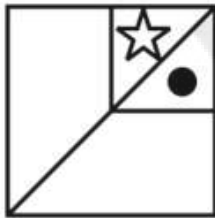
✗ 1.



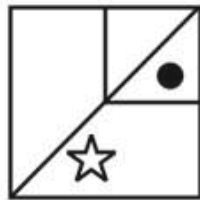
✗ 2.



✗ 3.



✓ 4.



Question Type : MCQ

Question ID : 264330133505

Option 1 ID : 264330523051

Option 2 ID : 264330523052

Option 3 ID : 264330523054

Option 4 ID : 264330523053

Status : Answered

Chosen Option : 4

Q.7 दी गई श्रृंखला में निम्नलिखित में से कौन-सा अक्षर-समूह प्रश्न चिन्ह (?) के स्थान पर आएगा?  
ND, KA, HX, EU, ?

- Ans
- 1. BT
  - 2. AR
  - 3. BS
  - 4. BR

Question Type : MCQ

Question ID : 264330133486

Option 1 ID : 264330522978

Option 2 ID : 264330522977

Option 3 ID : 264330522975

Option 4 ID : 264330522976

Status : Answered

Chosen Option : 4

Q.8 दो कथन दिए गए हैं और दो निष्कर्ष I और II दिए गए हैं। कथनों को सत्य मानते हुए, चाहे वे सामान्यतः ज्ञात तथ्यों से अलग प्रतीत होते हों, निश्चय कीजिए कि कौन-सा निष्कर्ष तार्किक रूप से कथनों के अनुसार है।

कथन:

कोई अंतरिक्ष यात्री, लंबा नहीं है।

कुछ लंबे, नीले हैं।

निष्कर्ष:

I. कुछ अंतरिक्ष यात्री, नीले हैं।

II. कोई लंबा, अंतरिक्ष यात्री नहीं है।

- Ans
- 1. सिर्फ निष्कर्ष I कथनों के अनुसार है
  - 2. सिर्फ निष्कर्ष II कथनों के अनुसार है
  - 3. निष्कर्ष I और II में से कोई भी कथनों के अनुसार नहीं है
  - 4. दोनों निष्कर्ष I और II कथनों के अनुसार है

Question Type : MCQ

Question ID : 264330133495

Option 1 ID : 264330523011

Option 2 ID : 264330523012

Option 3 ID : 264330523014

Option 4 ID : 264330523013

Status : Answered

Chosen Option : 2

Q.9 दी गई श्रृंखला में निम्नलिखित में से कौन-सी संख्या प्रश्न चिन्ह (?) के स्थान पर आएगी?  
47, 48, 44, 53, 37, ?

- Ans
- 1. 55
  - 2. 52
  - 3. 64
  - 4. 62

Question Type : MCQ  
Question ID : 264330133498  
Option 1 ID : 264330523025  
Option 2 ID : 264330523023  
Option 3 ID : 264330523026  
Option 4 ID : 264330523024  
Status : Answered  
Chosen Option : 4

Q.10 उस समुच्चय को चुनिए जिसमें संख्याएँ ठीक उसी प्रकार से संबंधित हैं जिस प्रकार निम्नलिखित समुच्चयों की संख्याएँ संबंधित हैं। (ध्यान दें: संख्याओं को उनके घटक अंकों में अलग-अलग किए बिना, पूर्ण संख्याओं पर संक्रियाएँ की जानी चाहिए। उदा. 13 - 13 पर संक्रियाएँ जैसे 13 को जोड़ना /घटाना/गुणा करना आदि किया जा सकता है। 13 को 1 और 3 में अलग-अलग करने की और फिर 1 और 3 पर गणितीय संक्रियाएँ करने की अनुमति नहीं है)

(13, 28, 58)  
(16, 34, 70)

- Ans
- 1. (15, 32, 64)
  - 2. (18, 36, 110)
  - 3. (12, 26, 56)
  - 4. (11, 24, 50)

Question Type : MCQ  
Question ID : 264330133500  
Option 1 ID : 264330523031  
Option 2 ID : 264330523032  
Option 3 ID : 264330523034  
Option 4 ID : 264330523033  
Status : Answered  
Chosen Option : 4

Q.11 एक परीक्षा भवन में सात छात्र अदिति, सिंडी, जेनी, कीर्ति, नीति, प्रीति और स्वीटी एक पंक्ति में उत्तर की ओर मुख करके बैठे हैं, परंतु जरूरी नहीं है कि वे इसी क्रम में बैठे हैं। सिंडी, स्वीटी के दाएँ से तीसरे स्थान पर बैठी है। अदिति और प्रीति, सिंडी की निकटतम पड़ोसी हैं। प्रीति और स्वीटी के बीच दो से अधिक छात्र बैठे हैं। जेनी नीति की इकलौती पड़ोसी है। जेनी अदिति के दाएँ पर बैठी है। कीर्ति के स्थान के अनुसार नीति का स्थान क्या है?

- Ans
- 1. दाएँ से पाँचवाँ
  - 2. बाएँ से पाँचवाँ
  - 3. दाएँ से तीसरा
  - 4. बाएँ से तीसरा

Question Type : MCQ  
Question ID : 264330133493  
Option 1 ID : 264330523004  
Option 2 ID : 264330523006  
Option 3 ID : 264330523003  
Option 4 ID : 264330523005  
Status : Answered  
Chosen Option : 1

Q.12 दो कथन दिए गए हैं और दो निष्कर्ष I और II दिए गए हैं। कथनों को सत्य मानते हुए, चाहे वे सामान्यतः ज्ञात तथ्यों से अलग प्रतीत होते हों, निश्चय कीजिए कि कौन-सा निष्कर्ष तार्किक रूप से कथनों के अनुसार है।  
कथन:

सभी मोबाइल, विद्युत उपकरण हैं।

कुछ टेलीफोन विद्युत उपकरण हैं।

निष्कर्ष:

I. कोई मोबाइल टेलीफोन नहीं है।

II. कुछ मोबाइल टेलीफोन हैं।

Ans  1. सिर्फ निष्कर्ष II कथनों के अनुसार है

2.

न तो निष्कर्ष I और न ही निष्कर्ष II में से कोई भी कथनों के अनुसार है

3. दोनों निष्कर्ष I और II कथनों के अनुसार है

4. सिर्फ निष्कर्ष I कथनों के अनुसार है

Question Type : MCQ

Question ID : 264330133496

Option 1 ID : 264330523016

Option 2 ID : 264330523018

Option 3 ID : 264330523017

Option 4 ID : 264330523015

Status : Answered

Chosen Option : 4

Q.13 उस विकल्प को चुनिए जो तीसरे शब्द से ठीक उसी तरह संबंधित है जिस तरह दूसरा शब्द पहले शब्द से संबंधित है।  
भालू : गुरगना:: हाथी : ?

Ans  1. दहाड़ना (Roar)

2. फुफकारना (Hiss)

3. रेंकना (Bray)

4. चिंघाड़ना (Trumpet)

Question Type : MCQ

Question ID : 264330133487

Option 1 ID : 264330522981

Option 2 ID : 264330522982

Option 3 ID : 264330522979

Option 4 ID : 264330522980

Status : Answered

Chosen Option : 4

Q.14 उस विकल्प को चुनिए जो तीसरी संख्या से ठीक उसी तरह संबंधित है जिस तरह दूसरी संख्या पहली संख्या से संबंधित है।

8 : 514 :: 6 : ?

- Ans
- 1. 238
  - 2. 218
  - 3. 208
  - 4. 228

Question Type : MCQ

Question ID : 264330133499

Option 1 ID : 264330523030

Option 2 ID : 264330523027

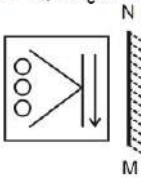
Option 3 ID : 264330523028

Option 4 ID : 264330523029

Status : Answered

Chosen Option : 2

Q.15 दी गई आकृति के उस सही दर्पण प्रतिबिंब को चुनिए, जो दर्पण MN को आकृति के दाईं ओर रखने पर बनेगा।



Ans

- 1.
- 2.
- 3.
- 4.

Question Type : MCQ

Question ID : 264330137806

Option 1 ID : 264330539834

Option 2 ID : 264330539831

Option 3 ID : 264330539832

Option 4 ID : 264330539833

Status : Answered

Chosen Option : 1

Q.16 एक निश्चित कूट भाषा में, 'FINGER' को '69147518' लिखा जाता है और 'DOG' को '4157' लिखा जाता है। उस कूट भाषा में 'FOREST' को कैसे लिखा जाएगा?

- Ans
- 1. 6151851921
  - 2. 6151851820
  - 3. 6151751920
  - 4. 6151851920

Question Type : MCQ

Question ID : 264330137349

Option 1 ID : 264330538024

Option 2 ID : 264330538025

Option 3 ID : 264330538026

Option 4 ID : 264330538023

Status : Answered

Chosen Option : 4

Q.17 किसी एक खास कूट भाषा में, 'TYPE' को 'SXOD' लिखा जाता है। उस भाषा में 'SING' को कैसे लिखा जाएगा?

- Ans
- 1. RFHM
  - 2. RMHF
  - 3. MRHF
  - 4. RHMf

Question Type : MCQ

Question ID : 264330133390

Option 1 ID : 264330522593

Option 2 ID : 264330522592

Option 3 ID : 264330522594

Option 4 ID : 264330522591

Status : Answered

Chosen Option : 4

Q.18 दी गई श्रृंखला में निम्नलिखित में से कौन-सी संख्या प्रश्न चिन्ह (?) के स्थान पर आएगी?  
46, 36, 28, 22, 18, ?

- Ans
- 1. 14
  - 2. 13
  - 3. 16
  - 4. 15

Question Type : MCQ

Question ID : 264330133497

Option 1 ID : 264330523022

Option 2 ID : 264330523021

Option 3 ID : 264330523019

Option 4 ID : 264330523020

Status : Answered

Chosen Option : 4

Q.19 दी गई दो संख्याओं को आपस में बदलने पर निम्नलिखित में से कौन-सा समीकरण सही नहीं होगा?

9 और 3

I.  $7 \times 4 \div 2 - 9 + 3 = 22$

II.  $9 + 4 - 6 \times 3 \div 2 = -10$

Ans

✓ 1. I और II दोनों

✗ 2. न तो I और न ही II

✗ 3. केवल II

✗ 4. केवल I

Question Type : MCQ

Question ID : 264330138515

Option 1 ID : 264330542669

Option 2 ID : 264330542670

Option 3 ID : 264330542668

Option 4 ID : 264330542667

Status : Answered

Chosen Option : 1


**Q.20** उस विकल्प आकृति को चुनिए जिसमें दी गई आकृति (X) उसके भाग के रूप में निहित है (घूर्णन की अनुमति नहीं है)।



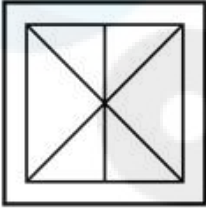
X

Ans

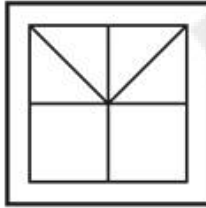
✗ 1.



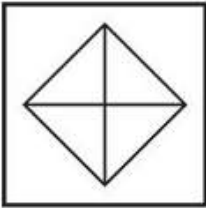
✗ 2.



✓ 3.



✗ 4.



Question Type : MCQ

Question ID : 264330137805

Option 1 ID : 264330539829

Option 2 ID : 264330539827

Option 3 ID : 264330539830

Option 4 ID : 264330539828

Status : Answered

Chosen Option : 3

Section : General Awareness

Q.1 Panthi dance form is associated with \_\_\_\_\_ state of India.

- Ans
- 1. Maharashtra
  - 2. Kerala
  - 3. Chhattisgarh
  - 4. Punjab

Question Type : MCQ  
Question ID : 264330133958  
Option 1 ID : 264330524858  
Option 2 ID : 264330524856  
Option 3 ID : 264330524857  
Option 4 ID : 264330524855  
Status : Answered  
Chosen Option : 3

Q.2 "बॉम्बे" जयश्री रामनाथ भारत की एक प्रसिद्ध \_\_\_\_\_ गायिका हैं।

- Ans
- 1. कर्नाटक (Carnatic)
  - 2. जैज़ (Jazz)
  - 3. लोक (Folk)
  - 4. हिप हॉप (Hip-hop)

Question Type : MCQ  
Question ID : 264330133974  
Option 1 ID : 264330524922  
Option 2 ID : 264330524920  
Option 3 ID : 264330524919  
Option 4 ID : 264330524921  
Status : Answered  
Chosen Option : 1

Q.3 किस विदेशी आक्रमणकारी ने अपने प्रदेश चंद्रगुप्त मौर्य को सौंप दिए थे?

- Ans
- 1. मेनान्डर(Menander)
  - 2. गोंडोफर्नीज (Gondophernes)
  - 3. सेल्यूकस निकेटर (Seleucus Nicator)
  - 4. डेमोस्थनीज (Demosthenes)

Question Type : MCQ  
Question ID : 264330137907  
Option 1 ID : 264330540236  
Option 2 ID : 264330540238  
Option 3 ID : 264330540237  
Option 4 ID : 264330540235  
Status : Answered  
Chosen Option : 3

Q.4 निम्नलिखित में से किसे सामान्यतः ब्लड थिनर (blood thinner) के नाम से जाना जाता है?

- Ans
- 1. पिंडन निरोधक कारक (Anticaking agent)
  - 2. प्रतिजैविक (Antibiotics)
  - 3. रोग-प्रतिकारक (Antibodies)
  - 4. स्कंदनरोधी (Anticoagulants)

Question Type : MCQ  
Question ID : 264330133963  
Option 1 ID : 264330524875  
Option 2 ID : 264330524877  
Option 3 ID : 264330524878  
Option 4 ID : 264330524876  
Status : Answered  
Chosen Option : 1

Q.5 भारतीय संविधान का भाग XVI \_\_\_\_\_ से संबंधित है।

- Ans
- 1. नगर निगम से संबंधित विशेष प्रावधान
  - 2. कुछ वर्गों से संबंधित विशेष प्रावधान
  - 3. चुनाव
  - 4. संवैधानिक संशोधन

Question Type : MCQ  
Question ID : 264330133976  
Option 1 ID : 264330524928  
Option 2 ID : 264330524927  
Option 3 ID : 264330524930  
Option 4 ID : 264330524929  
Status : Answered  
Chosen Option : 2

Q.6 निम्नलिखित में से कौन-सी फसल खरीफ फसल का एक उदाहरण है?

- Ans
- 1. गेहूँ
  - 2. चावल
  - 3. सरसों
  - 4. जौ

Question Type : MCQ  
Question ID : 264330137070  
Option 1 ID : 264330536924  
Option 2 ID : 264330536923  
Option 3 ID : 264330536926  
Option 4 ID : 264330536925  
Status : Answered  
Chosen Option : 2

Q.7 भारत में दिल्ली शहर के लिए अक्टूबर 2022 में SAMRIDDI (अवसंरचना विकास के लिए नगर निगम के राजस्व का सुदृढीकरण और संवर्धन (Strengthening and Augmentation of Municipal Revenue for Infrastructure Development)) योजना की शुरुआत किसने की है?

- Ans
- 1. भारत के प्रधानमंत्री (Prime Minister of India)
  - 2. दिल्ली के मुख्यमंत्री (Chief Minister of Delhi)
  - 3. भारत के राष्ट्रपति (President of India)
  - 4. दिल्ली के उपराज्यपाल (Lieutenant Governor)

Question Type : MCQ  
Question ID : 264330133956  
Option 1 ID : 264330524847  
Option 2 ID : 264330524850  
Option 3 ID : 264330524848  
Option 4 ID : 264330524849  
Status : Answered  
Chosen Option : 2

Q.8 कौन-सा त्यौहार राक्षस राजा महिषासुर पर देवी दुर्गा की विजय का प्रतीक है?

- Ans
- 1. जन्माष्टमी
  - 2. होली
  - 3. नवरात्रि
  - 4. दिवाली

Question Type : MCQ  
Question ID : 264330137897  
Option 1 ID : 264330540198  
Option 2 ID : 264330540195  
Option 3 ID : 264330540196  
Option 4 ID : 264330540197  
Status : Answered  
Chosen Option : 3

Q.9 "एंड देन वन डे: ए मेमॉयर (And then One Day: A Memoir)" निम्नलिखित में से किस बॉलीवुड कलाकार की आत्मकथा है?

- Ans
- 1. प्रियंका चोपड़ा
  - 2. करण जौहर
  - 3. नसीरुद्दीन शाह
  - 4. शाहरुख खान

Question Type : MCQ  
Question ID : 264330137078  
Option 1 ID : 264330536958  
Option 2 ID : 264330536955  
Option 3 ID : 264330536957  
Option 4 ID : 264330536956  
Status : Answered  
Chosen Option : 1

Q.10 2011 की जनगणना के अनुसार, भारत में कुल साक्षरता दर (लगभग) कितनी है?

- Ans
- 1. 81%
  - 2. 74%
  - 3. 62%
  - 4. 65%

Question Type : MCQ  
Question ID : 264330137722  
Option 1 ID : 264330539497  
Option 2 ID : 264330539496  
Option 3 ID : 264330539495  
Option 4 ID : 264330539498  
Status : Answered  
Chosen Option : 2

Q.11 कलामंडलम कल्याणिकुट्टी अम्मा (Kalamandalam Kalyanikutty Amma) को \_\_\_\_\_ नृत्य शैली की रूपात्मक संरचना और अलंकरण तैयार करने के लिए जाना जाता है।

- Ans
- 1. कथकली
  - 2. भरतनाट्यम
  - 3. मोहिनीअट्टम
  - 4. कुचिपुडी

Question Type : MCQ  
Question ID : 264330137080  
Option 1 ID : 264330536966  
Option 2 ID : 264330536965  
Option 3 ID : 264330536964  
Option 4 ID : 264330536963  
Status : Answered  
Chosen Option : 2

Q.12 सोहम घेंघा (goitre) रोग से पीड़ित है। किसकी कमी इसका सबसे आम कारण है?

- Ans
- 1. आयरन की कमी
  - 2. प्रोटीन की कमी
  - 3. विटामिन ए की कमी
  - 4. आयोडीन की कमी

Question Type : MCQ  
Question ID : 264330133962  
Option 1 ID : 264330524874  
Option 2 ID : 264330524873  
Option 3 ID : 264330524871  
Option 4 ID : 264330524872  
Status : Answered  
Chosen Option : 4

Q.13 निम्नलिखित में से कौन-सा कथन गलत है?

Ans  1.

नकद आरक्षित अनुपात (Cash Reserve Ratio) जितना अधिक होगा, बैंकिंग प्रणाली में तरलता उतनी ही कम होगी।

2.

सांविधिक चलनिधि अनुपात (Statutory Liquidity Ratio) जितना कम होगा, बैंकिंग प्रणाली में तरलता उतनी ही अधिक होगी।

3. बैंक दर में वृद्धि से मुद्रा आपूर्ति में कमी आएगी।

4.

नकद आरक्षित अनुपात (Cash Reserve Ratio) जितना कम होगा, बैंकिंग प्रणाली में तरलता उतनी ही कम होगी।

Question Type : MCQ

Question ID : 264330137085

Option 1 ID : 264330536983

Option 2 ID : 264330536985

Option 3 ID : 264330536986

Option 4 ID : 264330536984

Status : Answered

Chosen Option : 4

Q.14 भारत के कितने प्राकृतिक विश्व धरोहर स्थल यूनेस्को (UNESCO) में सूचीबद्ध हैं?

Ans  1. सात

2. पाँच

3. छः

4. चार

Question Type : MCQ

Question ID : 264330138273

Option 1 ID : 264330541702

Option 2 ID : 264330541700

Option 3 ID : 264330541701

Option 4 ID : 264330541699

Status : Answered

Chosen Option : 1

Q.15 निम्नलिखित में से कौन-सा एक सहसंयोजक यौगिक है?

Ans  1. हाइड्रोजन क्लोराइड

2. सोडियम क्लोराइड

3. कैल्शियम कार्बोनेट

4. मैग्नीशियम हाइड्रॉक्साइड

Question Type : MCQ

Question ID : 264330133961

Option 1 ID : 264330524868

Option 2 ID : 264330524867

Option 3 ID : 264330524869

Option 4 ID : 264330524870

Status : Answered

Chosen Option : 4

Q.16 निम्नलिखित में से कौन दक्षिण भारत के पांड्य वंश का प्रसिद्ध शासक था?

- Ans
- 1. करिकाल
  - 2. अशोक
  - 3. नेदुंज चेलियन द्वितीय
  - 4. निज़ाम शाह

Question Type : MCQ  
Question ID : 264330133970  
Option 1 ID : 264330524903  
Option 2 ID : 264330524905  
Option 3 ID : 264330524906  
Option 4 ID : 264330524904  
Status : Answered  
Chosen Option : 3

Q.17 नगर पालिकाओं के सभी चुनावों का अधीक्षण, नियंत्रण और संचालन \_\_\_\_\_ की जिम्मेदारी है।

- Ans
- 1. राज्य निर्वाचन आयोग
  - 2. राज्य के गृह मंत्रालय
  - 3. राज्य के राज्यपाल
  - 4. भारत निर्वाचन आयोग

Question Type : MCQ  
Question ID : 264330138282  
Option 1 ID : 264330541736  
Option 2 ID : 264330541737  
Option 3 ID : 264330541738  
Option 4 ID : 264330541735  
Status : Answered  
Chosen Option : 1

Q.18 नवंबर 2022 तक लोकसभा के अध्यक्ष (Speaker) कौन हैं?

- Ans
- 1. ओम बिरला
  - 2. अमित शाह
  - 3. द्रौपदी मुर्मू
  - 4. नरेंद्र मोदी

Question Type : MCQ  
Question ID : 264330133977  
Option 1 ID : 264330524934  
Option 2 ID : 264330524931  
Option 3 ID : 264330524933  
Option 4 ID : 264330524932  
Status : Answered  
Chosen Option : 1

Q.19 धर्म सभा के संस्थापक कौन थे?

- Ans
- ✓ 1. राधाकांत देव
  - ✗ 2. दादोबा पांडुरंग
  - ✗ 3. आर.जी. भंडारकर
  - ✗ 4. राजा राम मोहन राय

Question Type : MCQ  
Question ID : 264330137910  
Option 1 ID : 264330540250  
Option 2 ID : 264330540249  
Option 3 ID : 264330540248  
Option 4 ID : 264330540247  
Status : Answered  
Chosen Option : 3

Q.20 किस भारतीय क्रिकेटर को 'द वॉल (The Wall)' के नाम से भी जाना जाता है?

- Ans
- ✗ 1. सचिन तेंडुलकर
  - ✗ 2. कपिल देव
  - ✓ 3. राहुल द्रविड़
  - ✗ 4. महेन्द्र सिंह धोनी

Question Type : MCQ  
Question ID : 264330133979  
Option 1 ID : 264330524941  
Option 2 ID : 264330524940  
Option 3 ID : 264330524939  
Option 4 ID : 264330524942  
Status : Answered  
Chosen Option : 3

Q.21 \_\_\_\_\_ दुनिया का सबसे बड़ा उष्णकटिबंधीय वर्षावन है।

- Ans
- ✗ 1. कांगो (Congo)
  - ✗ 2. प्रेयरी (Prairies)
  - ✓ 3. अमेज़न (Amazon)
  - ✗ 4. डैनट्री (Daintree)

Question Type : MCQ  
Question ID : 264330133964  
Option 1 ID : 264330524880  
Option 2 ID : 264330524879  
Option 3 ID : 264330524881  
Option 4 ID : 264330524882  
Status : Answered  
Chosen Option : 3

Q.22 बनारस में हिंदू कॉलेज की स्थापना \_\_\_\_\_ में हुई थी।

- Ans
- 1. 1784
  - 2. 1786
  - 3. 1791
  - 4. 1785

Question Type : MCQ  
Question ID : 264330138294  
Option 1 ID : 264330541786  
Option 2 ID : 264330541784  
Option 3 ID : 264330541785  
Option 4 ID : 264330541783  
Status : Answered  
Chosen Option : 1

Q.23 भागीरथी नदी की प्रमुख सहायक नदी कौन-सी है?

- Ans
- 1. पिंडर (Pindar)
  - 2. धौलीगंगा (Dhauliganga)
  - 3. बिशनगंगा (Bishenganga)
  - 4. भीलांगना (Bhilangna)

Question Type : MCQ  
Question ID : 264330133966  
Option 1 ID : 264330524888  
Option 2 ID : 264330524889  
Option 3 ID : 264330524890  
Option 4 ID : 264330524887  
Status : Answered  
Chosen Option : 2

Q.24 \_\_\_\_\_ के खेल में, पाँच-पाँच खिलाड़ियों की दो टीमों में गेंद को जमीन से 10 फीट ऊपर मौजूद हूप्स में डालकर स्कोर करने का प्रयास करती हैं।

- Ans
- 1. रग्बी
  - 2. बास्केटबॉल
  - 3. बैडमिंटन
  - 4. लॉन टेनिस

Question Type : MCQ  
Question ID : 264330133978  
Option 1 ID : 264330524938  
Option 2 ID : 264330524936  
Option 3 ID : 264330524935  
Option 4 ID : 264330524937  
Status : Answered  
Chosen Option : 2

Q.25 मानव भूगोल के संदर्भ में, TFR का अर्थ \_\_\_\_\_ है।

- Ans
- 1. टोटल फ़ाइनेंस रेट (Total Finance Rate)
  - 2. टोटल फॉल रेट (Total Fall Rate)
  - 3. टोटल फ़र्टिलिटी रेट (Total Fertility Rate)
  - 4. टोटल फ़ीमेल रेश्यो (Total Female Ratio)

Question Type : MCQ  
Question ID : 264330134680  
Option 1 ID : 264330527675  
Option 2 ID : 264330527678  
Option 3 ID : 264330527677  
Option 4 ID : 264330527676  
Status : Answered  
Chosen Option : 3

Section : English Language and Comprehension

Q.1 Find the part of the given sentence that has an error in it. If there is no error, choose 'No error'.

Tax dispute settlement might not work out in the desired scale.

- Ans
- 1. Tax dispute settlement
  - 2. might not work out in
  - 3. No error
  - 4. the desired scale.

Question Type : MCQ  
Question ID : 264330134426  
Option 1 ID : 264330526679  
Option 2 ID : 264330526680  
Option 3 ID : 264330526682  
Option 4 ID : 264330526681  
Status : Answered  
Chosen Option : 1

Q.2 Select the most appropriate option to fill in the blank.  
Participate in a mock interview to prepare for \_\_\_\_\_ on your feet and formulating answers under pressure.

- Ans
- 1. cursing
  - 2. building
  - 3. thinking
  - 4. blocking

Question Type : MCQ  
Question ID : 264330134449  
Option 1 ID : 264330526768  
Option 2 ID : 264330526770  
Option 3 ID : 264330526767  
Option 4 ID : 264330526769  
Status : Answered  
Chosen Option : 2

**Q.3 Choose the incorrectly spelt word.**

- Ans  1. Insigt  
 2. Supply  
 3. Optical  
 4. Cares

Question Type : **MCQ**  
Question ID : **264330134446**  
Option 1 ID : **264330526758**  
Option 2 ID : **264330526755**  
Option 3 ID : **264330526756**  
Option 4 ID : **264330526757**  
Status : **Answered**  
Chosen Option : **1**

**Q.4 In the following question, out of the given four alternatives, select the alternative which best expresses the meaning of the Idiom/Phrase.  
Rolling in cash**

- Ans  1. Have a large quantity of money  
 2. A business magnate  
 3. To borrow a costly attire  
 4. Buying things on interest

Question Type : **MCQ**  
Question ID : **264330134444**  
Option 1 ID : **264330526748**  
Option 2 ID : **264330526750**  
Option 3 ID : **264330526749**  
Option 4 ID : **264330526747**  
Status : **Answered**  
Chosen Option : **1**

**Q.5 A sentence has been given with a blank to be filled with an appropriate option. Choose the correct alternative.**

Farms are increasingly turning to automation for \_\_\_\_\_ reasons.

- Ans  1. much  
 2. most  
 3. little  
 4. many

Question Type : **MCQ**  
Question ID : **264330134430**  
Option 1 ID : **264330526698**  
Option 2 ID : **264330526696**  
Option 3 ID : **264330526695**  
Option 4 ID : **264330526697**  
Status : **Answered**  
Chosen Option : **4**

**Q.6** Select the most appropriate option to substitute the bracketed segment in the given sentence. If there is no need to substitute it, select 'no substitution required'.

(Beside myself, the only English people) there were Keith and Doreen.

- Ans**
- 1. Besides I, the only English speaking people
  - 2. Beside me, the only English people
  - 3. No substitution required
  - 4. Besides myself, the only English people

Question Type : **MCQ**  
Question ID : **264330136060**  
Option 1 ID : **264330533056**  
Option 2 ID : **264330533055**  
Option 3 ID : **264330533058**  
Option 4 ID : **264330533057**  
Status : **Answered**  
Chosen Option : **1**

**Q.7** Select the most appropriate synonym to substitute the bracketed word in the given sentence.

Confession had always rested on a clear distinction between mortal and (venial) sins.

- Ans**
- 1. Intolerable
  - 2. Major
  - 3. Pardonable
  - 4. Genial

Question Type : **MCQ**  
Question ID : **264330136308**  
Option 1 ID : **264330534008**  
Option 2 ID : **264330534007**  
Option 3 ID : **264330534009**  
Option 4 ID : **264330534010**  
Status : **Answered**  
Chosen Option : **3**

**Q.8** Improve the underlined part of the sentence. Choose 'No improvement' as an answer if the sentence is grammatically correct.

Cell phones keeps loved ones and those nearby them well connected.

- Ans**
- 1. keep loved ones and those near
  - 2. keeping loved and nearby
  - 3. kept love and near
  - 4. No improvement

Question Type : **MCQ**  
Question ID : **264330134429**  
Option 1 ID : **264330526693**  
Option 2 ID : **264330526692**  
Option 3 ID : **264330526691**  
Option 4 ID : **264330526694**  
Status : **Answered**  
Chosen Option : **1**

**Q.9** Improve the underlined part of the sentence. Choose 'No improvement' as an answer if the sentence is grammatically correct.  
She blew out the candle and gone to sleep.

- Ans
- 1. go to sleep
  - 2. No improvement
  - 3. went to sleeps
  - 4. went to sleep

Question Type : **MCQ**  
Question ID : **264330134350**  
Option 1 ID : **264330526389**  
Option 2 ID : **264330526390**  
Option 3 ID : **264330526387**  
Option 4 ID : **264330526388**  
Status : **Answered**  
Chosen Option : **4**

**Q.10** In the following question, out of the given four alternatives, select the alternative which best expresses the meaning of the Idiom/Phrase.  
**At all costs**

- Ans
- 1. Whatever is needed to achieve something
  - 2. An expensive purchase
  - 3. Not to be trifled with
  - 4. To be master of

Question Type : **MCQ**  
Question ID : **264330134445**  
Option 1 ID : **264330526752**  
Option 2 ID : **264330526751**  
Option 3 ID : **264330526753**  
Option 4 ID : **264330526754**  
Status : **Answered**  
Chosen Option : **1**

**Q.11** Fill in the blank with the most appropriate option.

He had moved about two inches when several things happened in very \_\_\_\_\_ succession.

- Ans
- 1. brief
  - 2. absurd
  - 3. quick
  - 4. desperate

Question Type : **MCQ**  
Question ID : **264330136263**  
Option 1 ID : **264330533837**  
Option 2 ID : **264330533838**  
Option 3 ID : **264330533836**  
Option 4 ID : **264330533835**  
Status : **Answered**  
Chosen Option : **1**

Q.12 Choose the word that can substitute the given group of words.  
A unit to measure light

- Ans  1. Watt  
 2. Lumen  
 3. Horse-power  
 4. Ampere

Question Type : MCQ  
Question ID : 264330134439  
Option 1 ID : 264330526728  
Option 2 ID : 264330526729  
Option 3 ID : 264330526730  
Option 4 ID : 264330526727  
Status : Answered  
Chosen Option : 1

Q.13 Select the appropriate antonym for the underlined word.  
The peach-tree is most productive when the roots are kept near the surface.

- Ans  1. potent  
 2. lush  
 3. futile  
 4. fertile

Question Type : MCQ  
Question ID : 264330134443  
Option 1 ID : 264330526745  
Option 2 ID : 264330526744  
Option 3 ID : 264330526746  
Option 4 ID : 264330526743  
Status : Answered  
Chosen Option : 3

Q.14 Select the appropriate synonym for the underlined word.  
I didn't have time to give them proof.

- Ans  1. snap  
 2. guess  
 3. evidence  
 4. charge

Question Type : MCQ  
Question ID : 264330134440  
Option 1 ID : 264330526732  
Option 2 ID : 264330526731  
Option 3 ID : 264330526734  
Option 4 ID : 264330526733  
Status : Answered  
Chosen Option : 3

**Q.15** Four sentences are given, out of which three have spelling errors. Choose the sentence with all correctly spelled words.

- Ans**
- 1. I don't know weather to eat it or rubb it on.
  - 2. Goodbye untill later now, foks. Have a good night.
  - 3. Had I known what was coming, I could have prepared myself better.
  - 4. She always says something humerous.

Question Type : **MCQ**  
Question ID : **264330136262**  
Option 1 ID : **264330533832**  
Option 2 ID : **264330533834**  
Option 3 ID : **264330533833**  
Option 4 ID : **264330533831**  
Status : **Answered**  
Chosen Option : **3**

**Q.16** Find the part of the given sentence that has an error in it. If there is no error, choose 'No error'.

The benefits of rebuilding healthy, fertile soil are clear.

- Ans**
- 1. No error
  - 2. healthy, fertile soil
  - 3. The benefits of rebuilding
  - 4. are clear.

Question Type : **MCQ**  
Question ID : **264330135204**  
Option 1 ID : **264330529746**  
Option 2 ID : **264330529744**  
Option 3 ID : **264330529743**  
Option 4 ID : **264330529745**  
Status : **Answered**  
Chosen Option : **2**

**Q.17** Select the most appropriate antonym of the given word.

Discreet

- Ans**
- 1. Open
  - 2. Release
  - 3. Lose
  - 4. Zenith

Question Type : **MCQ**  
Question ID : **264330136657**  
Option 1 ID : **264330535348**  
Option 2 ID : **264330535350**  
Option 3 ID : **264330535347**  
Option 4 ID : **264330535349**  
Status : **Answered**  
Chosen Option : **4**

**Q.18** Choose the word that can substitute the given group of words.  
Destruction of a fetus

- Ans
- 1. Ellipse
  - 2. Abhor
  - 3. Fratricide
  - 4. Feticide

Question Type : **MCQ**  
Question ID : **264330134438**  
Option 1 ID : **264330526726**  
Option 2 ID : **264330526723**  
Option 3 ID : **264330526725**  
Option 4 ID : **264330526724**  
Status : **Answered**  
Chosen Option : **4**

**Q.19** Identify the segment that contains a grammatical error. If there is no error, select 'No error'.  
Rapid climate warming in / the tundra biome have been linked / to increasing shrub dominance.

- Ans
- 1. Rapid climate warming in
  - 2. No error
  - 3. the tundra biome have been linked
  - 4. to increasing shrub dominance.

Question Type : **MCQ**  
Question ID : **264330136057**  
Option 1 ID : **264330533043**  
Option 2 ID : **264330533046**  
Option 3 ID : **264330533044**  
Option 4 ID : **264330533045**  
Status : **Answered**  
Chosen Option : **4**

**Q.20** Fill in the blank with the most appropriate option.

Sam knew who those people were; the figure in front was \_\_\_\_\_ his cousin.

- Ans
- 1. at mistake
  - 2. unmistakably
  - 3. mistaken of
  - 4. by mistake

Question Type : **MCQ**  
Question ID : **264330136391**  
Option 1 ID : **264330534331**  
Option 2 ID : **264330534333**  
Option 3 ID : **264330534332**  
Option 4 ID : **264330534334**  
Status : **Answered**  
Chosen Option : **3**

**Comprehension:**

In the following passage some words have been deleted. Fill in the blanks with the help of the alternatives given. Select the most appropriate option for each number.

By the (1) \_\_\_\_\_ we reach puberty, the world has reached us and (2) \_\_\_\_\_ us to a greater extent than we realize. (3) \_\_\_\_\_ family, friends, school, and society in general (4) \_\_\_\_\_-by word and example-how to be. But people (5) \_\_\_\_\_ leaders at that moment when they decide for themselves how to be.

**SubQuestion No : 21**

**Q.21** Select the most appropriate option to fill in blank number 1.

- Ans**
- 1. age
  - 2. time
  - 3. era
  - 4. moment

Question Type : **MCQ**  
Question ID : **264330136648**  
Option 1 ID : **264330535313**  
Option 2 ID : **264330535312**  
Option 3 ID : **264330535311**  
Option 4 ID : **264330535314**  
Status : **Answered**  
Chosen Option : **1**

**Comprehension:**

In the following passage some words have been deleted. Fill in the blanks with the help of the alternatives given. Select the most appropriate option for each number.

By the (1) \_\_\_\_\_ we reach puberty, the world has reached us and (2) \_\_\_\_\_ us to a greater extent than we realize. (3) \_\_\_\_\_ family, friends, school, and society in general (4) \_\_\_\_\_-by word and example-how to be. But people (5) \_\_\_\_\_ leaders at that moment when they decide for themselves how to be.

**SubQuestion No : 22**

**Q.22** Select the most appropriate option to fill in blank number 2.

- Ans**
- 1. formats
  - 2. contours
  - 3. shapes
  - 4. shaped

Question Type : **MCQ**  
Question ID : **264330136649**  
Option 1 ID : **264330535317**  
Option 2 ID : **264330535316**  
Option 3 ID : **264330535315**  
Option 4 ID : **264330535318**  
Status : **Answered**  
Chosen Option : **3**

**Comprehension:**

In the following passage some words have been deleted. Fill in the blanks with the help of the alternatives given. Select the most appropriate option for each number.

By the (1) \_\_\_\_\_ we reach puberty, the world has reached us and (2) \_\_\_\_\_ us to a greater extent than we realize. (3) \_\_\_\_\_ family, friends, school, and society in general (4) \_\_\_\_\_ -by word and example-how to be. But people (5) \_\_\_\_\_ leaders at that moment when they decide for themselves how to be.

**SubQuestion No : 23**

**Q.23** Select the most appropriate option to fill in blank number 3.

- Ans**
- 1. Their
  - 2. Our
  - 3. Her
  - 4. There

Question Type : **MCQ**  
Question ID : **264330136650**  
Option 1 ID : **264330535321**  
Option 2 ID : **264330535319**  
Option 3 ID : **264330535320**  
Option 4 ID : **264330535322**  
Status : **Answered**  
Chosen Option : **2**

**Comprehension:**

In the following passage some words have been deleted. Fill in the blanks with the help of the alternatives given. Select the most appropriate option for each number.

By the (1) \_\_\_\_\_ we reach puberty, the world has reached us and (2) \_\_\_\_\_ us to a greater extent than we realize. (3) \_\_\_\_\_ family, friends, school, and society in general (4) \_\_\_\_\_ -by word and example-how to be. But people (5) \_\_\_\_\_ leaders at that moment when they decide for themselves how to be.

**SubQuestion No : 24**

**Q.24** Select the most appropriate option to fill in blank number 4.

- Ans**
- 1. have tell us
  - 2. has told us
  - 3. have told us
  - 4. have been told us

Question Type : **MCQ**  
Question ID : **264330136651**  
Option 1 ID : **264330535326**  
Option 2 ID : **264330535323**  
Option 3 ID : **264330535325**  
Option 4 ID : **264330535324**  
Status : **Answered**  
Chosen Option : **1**

**Comprehension:**

In the following passage some words have been deleted. Fill in the blanks with the help of the alternatives given. Select the most appropriate option for each number.

By the (1) \_\_\_\_\_ we reach puberty, the world has reached us and (2) \_\_\_\_\_ us to a greater extent than we realize. (3) \_\_\_\_\_ family, friends, school, and society in general (4) \_\_\_\_\_-by word and example-how to be. But people (5) \_\_\_\_\_ leaders at that moment when they decide for themselves how to be.

**SubQuestion No : 25**

**Q.25** Select the most appropriate option to fill in blank number 5.

- Ans**
- 1. begin to become
  - 2. onset to became
  - 3. start to became
  - 4. began to become

Question Type : **MCQ**

Question ID : **264330136652**

Option 1 ID : **264330535328**

Option 2 ID : **264330535330**

Option 3 ID : **264330535329**

Option 4 ID : **264330535327**

Status : **Answered**

Chosen Option : **1**