

## Multi Tasking Non Technical Staff and Havaldar CBIC and CBN Examination 2022

Roll Number	
Candidate Name	
Venue Name	iON Digital Zone iDZ Karsua
Exam Date	18/05/2023
Exam Time	12:00 PM - 2:00 PM
Subject	MTS Non Tech Havaldar CBIC and CBN Examination 2022

Section : Numerical and Mathematical Ability

Q.1 6, 18, 20 और 32 से विभाज्य सबसे छोटी संख्या कौन-सी है?

- Ans
- 1. 360
  - 2. 108
  - 3. 1440
  - 4. 640

Question Type : MCQ  
Question ID : 264330140996  
Option 1 ID : 264330552332  
Option 2 ID : 264330552331  
Option 3 ID : 264330552334  
Option 4 ID : 264330552333  
Status : Answered  
Chosen Option : 3

Q.2 12 cm त्रिज्या और 14 cm तिर्यक ऊँचाई वाले शंकु का वक्र पृष्ठीय क्षेत्रफल ज्ञात कीजिए।  
( $\pi = 3.14$  का प्रयोग करें)

- Ans
- 1. 527.52 cm<sup>2</sup>
  - 2. 5436.6 cm<sup>2</sup>
  - 3. 4325.5 cm<sup>2</sup>
  - 4. 501.54 cm<sup>2</sup>

Question Type : MCQ  
Question ID : 264330135107  
Option 1 ID : 264330529364  
Option 2 ID : 264330529366  
Option 3 ID : 264330529365  
Option 4 ID : 264330529363  
Status : Answered  
Chosen Option : 1

Q.3 जब एक दुकानदार ने Rs. 24500 प्रति एसी (AC) के अंकित मूल्य वाले 40 एसी का ऑर्डर दिया, तो एसी कंपनी के वितरक ने 5% का बढ़ा दिया। चालान (invoice) का कुल मूल्य कितना होगा?

- Ans
- 1. Rs. 890000
  - 2. Rs. 931000
  - 3. Rs. 980000
  - 4. Rs. 964000

Question Type : MCQ

Question ID : 264330138733

Option 1 ID : 264330543540

Option 2 ID : 264330543541

Option 3 ID : 264330543539

Option 4 ID : 264330543542

Status : Answered

Chosen Option : 2

Q.4 Rs. 980 के मूलधन पर 12 प्रतिशत वार्षिक दर से 4 वर्षों के लिए साधारण ब्याज कितना होगा?

- Ans
- 1. Rs. 460.4
  - 2. Rs. 470.4
  - 3. Rs. 380.4
  - 4. Rs. 430.4

Question Type : MCQ

Question ID : 264330137675

Option 1 ID : 264330539308

Option 2 ID : 264330539310

Option 3 ID : 264330539307

Option 4 ID : 264330539309

Status : Answered

Chosen Option : 2

Q.5 एक विक्रेता अपने क्रय मूल्य पर 15% लाभ की अपेक्षा करता है। यदि एक माह में उसकी बिक्री Rs.138000 थी, तो उसका लाभ कितना था?

- Ans
- 1. Rs. 18000
  - 2. Rs. 15500
  - 3. Rs. 13800
  - 4. Rs. 12000

Question Type : MCQ

Question ID : 264330141023

Option 1 ID : 264330552441

Option 2 ID : 264330552442

Option 3 ID : 264330552440

Option 4 ID : 264330552439

Status : Answered

Chosen Option : 1

Q.6 एक बेलन के आधार की परिधि  $28\pi$  cm है। यदि बेलन की ऊँचाई 17 cm है, तो बेलन का वक्र पृष्ठीय क्षेत्रफल कितना होगा?

- Ans
- 1.  $524\pi$  cm<sup>2</sup>
  - 2.  $436\pi$  cm<sup>2</sup>
  - 3.  $372\pi$  cm<sup>2</sup>
  - 4.  $476\pi$  cm<sup>2</sup>

Question Type : MCQ  
Question ID : 264330137188  
Option 1 ID : 264330537398  
Option 2 ID : 264330537396  
Option 3 ID : 264330537395  
Option 4 ID : 264330537397  
Status : Answered  
Chosen Option : 4

Q.7 किसी संख्या के 40 प्रतिशत का 60 प्रतिशत 150 के बराबर है। उस संख्या का 20 प्रतिशत क्या है?

- Ans
- 1. 125
  - 2. 200
  - 3. 145
  - 4. 175

Question Type : MCQ  
Question ID : 264330137670  
Option 1 ID : 264330539288  
Option 2 ID : 264330539287  
Option 3 ID : 264330539289  
Option 4 ID : 264330539290  
Status : Answered  
Chosen Option : 1

Q.8 180 km/hr की चाल से चल रही एक रेलगाड़ी, 108 km/hr की चाल से चल रही एक कार से 5 सेकंड में आगे निकल जाती है। रेलगाड़ी की लंबाई कितनी है?

- Ans
- 1. 100 मीटर
  - 2. 120 मीटर
  - 3. 150 मीटर
  - 4. 200 मीटर

Question Type : MCQ  
Question ID : 264330138738  
Option 1 ID : 264330543562  
Option 2 ID : 264330543559  
Option 3 ID : 264330543561  
Option 4 ID : 264330543560  
Status : Answered  
Chosen Option : 1

Q.9 नीचे दी गई तालिका में वर्ष 2013 से 2016 में एक शोरूम द्वारा बेचे गए एसी (AC) की संख्या को दर्शाया गया है। वर्ष 2014 में शोरूम B द्वारा बेचे गए एसी, वर्ष 2016 में शोरूम D द्वारा बेचे गए एसी से कितने प्रतिशत कम हैं?

Showroom	Years			
	2013	2014	2015	2016
A	100	54	98	72
B	180	92	105	88
C	120	122	100	140
D	60	152	80	100

- Ans
- 1. 12%
  - 2. 8%
  - 3. 10%
  - 4. 14%

Question Type : MCQ  
Question ID : 264330133596  
Option 1 ID : 264330523409  
Option 2 ID : 264330523407  
Option 3 ID : 264330523408  
Option 4 ID : 264330523410  
Status : Answered  
Chosen Option : 2

Q.10 एक कॉलेज में, लड़के और लड़कियों की संख्या का अनुपात 3:8 है। यदि लड़को की संख्या 180 है, तो कॉलेज में कितनी लड़कियाँ हैं?

- Ans
- 1. 420
  - 2. 480
  - 3. 380
  - 4. 660

Question Type : MCQ  
Question ID : 264330138735  
Option 1 ID : 264330543550  
Option 2 ID : 264330543548  
Option 3 ID : 264330543549  
Option 4 ID : 264330543547  
Status : Answered  
Chosen Option : 2

Q.11  $P = (8 + 8) \times (8 \div 8) \times (8 \times 8)$

P का मान ज्ञात कीजिए।

- Ans
- 1. 1024
  - 2. 512
  - 3. 1440
  - 4. 1120

Question Type : MCQ  
Question ID : 264330138724  
Option 1 ID : 264330543504  
Option 2 ID : 264330543503  
Option 3 ID : 264330543505  
Option 4 ID : 264330543506  
Status : Answered  
Chosen Option : 1

Q.12 दूध और पानी के 255 लीटर मिश्रण में दूध और पानी का अनुपात 4:1 है। दूध और पानी का अनुपात 4:3 बनाने के लिए पानी की आवश्यक मात्रा ज्ञात कीजिए।

- Ans
- 1. 94 लीटर
  - 2. 51 लीटर
  - 3. 55 लीटर
  - 4. 102 लीटर

Question Type : MCQ  
Question ID : 264330135134  
Option 1 ID : 264330529472  
Option 2 ID : 264330529471  
Option 3 ID : 264330529474  
Option 4 ID : 264330529473  
Status : Answered  
Chosen Option : 4

Q.13  $3 \times \left[ \left\{ (11 - 3) \div \left( \frac{1}{2} \right) \text{ of } 8 \right\} + 15 \div 3 \right]$  का मान है:

- Ans
- 1. 21
  - 2. 19
  - 3. 15
  - 4. 30

Question Type : MCQ  
Question ID : 264330133582  
Option 1 ID : 264330523352  
Option 2 ID : 264330523354  
Option 3 ID : 264330523353  
Option 4 ID : 264330523351  
Status : Answered  
Chosen Option : 1

Q.14 63 पुरुष एक कार्य को 30 दिनों में पूरा कर सकते हैं। उसी कार्य को 21 पुरुष कितने दिनों में पूरा करेंगे?

- Ans
- 1. 70 दिनों में
  - 2. 90 दिनों में
  - 3. 88 दिनों में
  - 4. 85 दिनों में

Question Type : MCQ  
Question ID : 264330138427  
Option 1 ID : 264330542315  
Option 2 ID : 264330542318  
Option 3 ID : 264330542316  
Option 4 ID : 264330542317  
Status : Answered  
Chosen Option : 2

Q.15 A किसी कार्य को 6 दिनों में कर सकता है, जिसे B अकेले 8 दिनों में कर सकता है। दोनों मिलकर इसे कितने दिनों में कर सकते हैं?

Ans

✗ 1.  $\frac{25}{7}$  दिन

✗ 2.  $\frac{22}{3}$  दिन

✗ 3.  $\frac{27}{4}$  दिन

✓ 4.  $\frac{24}{7}$  दिन

Question Type : MCQ

Question ID : 264330135102

Option 1 ID : 264330529344

Option 2 ID : 264330529345

Option 3 ID : 264330529346

Option 4 ID : 264330529343

Status : Answered

Chosen Option : 4

Q.16 एक डिब्बे में 45 बल्ब हैं, जिनमें से 12 बल्ब खराब पाए गए। डिब्बे में अच्छे बल्बों और कुल बल्बों का अनुपात कितना है?

Ans

✗ 1. 8:13

✗ 2. 5:8

✓ 3. 11:15

✗ 4. 7:11

Question Type : MCQ

Question ID : 264330138734

Option 1 ID : 264330543545

Option 2 ID : 264330543546

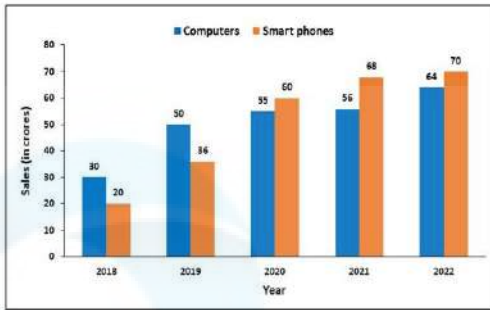
Option 3 ID : 264330543543

Option 4 ID : 264330543544

Status : Answered

Chosen Option : 3

Q.17 निम्नलिखित दंड आलेख में वर्ष 2018 से 2022 के दौरान एक देश में कंप्यूटर और स्मार्टफोन की बिक्री (करोड़ में) को दर्शाया गया है। इन वर्षों के दौरान कंप्यूटर की औसत बिक्री और स्मार्टफोन की औसत बिक्री के बीच कितना अंतर है?



Sales (in crores) - बिक्री (करोड़ में), Computers - कंप्यूटर, Smart phones - स्मार्टफोन, Year - वर्ष

- Ans
- ✗ 1. 0.5 करोड़
  - ✗ 2. 1 करोड़
  - ✗ 3. 0.8 करोड़
  - ✓ 4. 0.2 करोड़

Question Type : MCQ  
Question ID : 264330138742  
Option 1 ID : 264330543576  
Option 2 ID : 264330543577  
Option 3 ID : 264330543578  
Option 4 ID : 264330543575  
Status : Not Answered  
Chosen Option : --

Q.18 एक समलंब की समानांतर भुजाएँ 14 cm और 18 cm हैं तथा समानांतर भुजाओं के बीच की दूरी 15 cm है। समलंब का क्षेत्रफल ज्ञात कीजिए।

- Ans
- ✓ 1.  $240 \text{ cm}^2$
  - ✗ 2.  $300 \text{ cm}^2$
  - ✗ 3.  $310 \text{ cm}^2$
  - ✗ 4.  $220 \text{ cm}^2$

Question Type : MCQ  
Question ID : 264330138431  
Option 1 ID : 264330542332  
Option 2 ID : 264330542334  
Option 3 ID : 264330542333  
Option 4 ID : 264330542331  
Status : Answered  
Chosen Option : 1

Q.19 एक वस्तु को Rs. 41275 में बेचने पर सुमन को 35% की हानि हुई। वस्तु का क्रय मूल्य क्या था?

- Ans
- 1. Rs. 48675
  - 2. Rs. 54020
  - 3. Rs. 63500
  - 4. Rs. 45910

Question Type : MCQ  
Question ID : 264330138732  
Option 1 ID : 264330543538  
Option 2 ID : 264330543537  
Option 3 ID : 264330543535  
Option 4 ID : 264330543536  
Status : Answered  
Chosen Option : 3

Q.20 Rs. 2400 की धनराशि 10 प्रतिशत वार्षिक दर पर ऋण पर दी जाती है। निम्नलिखित में से कौन-सा/से कथन सही हैं/हैं?

- I. 3 वर्षों के लिए चक्रवृद्धि ब्याज (वार्षिक रूप से संयोजित) Rs.794.4 है।
- II. 3 वर्षों के बाद साधारण ब्याज और चक्रवृद्धि ब्याज (वार्षिक रूप से संयोजित) के बीच का अंतर Rs.75.8 है।

- Ans
- 1. केवल कथन I सही है
  - 2. कोई भी कथन सही नहीं है
  - 3. कथन I और II दोनों सही हैं
  - 4. केवल कथन II सही है

Question Type : MCQ  
Question ID : 264330137676  
Option 1 ID : 264330539311  
Option 2 ID : 264330539314  
Option 3 ID : 264330539313  
Option 4 ID : 264330539312  
Status : Not Answered  
Chosen Option : --

Section : Reasoning Ability and Problem Solving

Q.1 निम्नलिखित प्रश्न में, दी गई श्रृंखला में लुप्त संख्या को चुनिए ।

144, 140, 132, 116, 84, ?

- Ans
- 1. 29
  - 2. 20
  - 3. 25
  - 4. 30

Question Type : MCQ  
Question ID : 264330138595  
Option 1 ID : 264330542989  
Option 2 ID : 264330542987  
Option 3 ID : 264330542988  
Option 4 ID : 264330542990  
Status : Answered  
Chosen Option : 2

Q.2 एक निश्चित कूट भाषा में, 'MOTION' को 'NNUHPM' लिखा जाता है। उस कूट भाषा में 'NORMAL' को कैसे लिखा जाएगा?

- Ans
- 1. ONTLCK
  - 2. ONSLBK
  - 3. ONSLBL
  - 4. ONSLCK

Question Type : MCQ

Question ID : 264330137090

Option 1 ID : 264330537006

Option 2 ID : 264330537003

Option 3 ID : 264330537005

Option 4 ID : 264330537004

Status : Answered

Chosen Option : 2

Q.3 किन दो चिन्हों को आपस में बदलने पर, दिए गए समीकरण का मान '1' होगा?

$$3 \div 1 + 6 \times 2 - 5$$

- Ans
- 1.  $\div$  और  $+$
  - 2.  $\div$  और  $\times$
  - 3.  $\times$  और  $-$
  - 4.  $+$  और  $-$

Question Type : MCQ

Question ID : 264330138598

Option 1 ID : 264330543000

Option 2 ID : 264330543002

Option 3 ID : 264330543001

Option 4 ID : 264330542999

Status : Answered

Chosen Option : 2

Q.4 कौन-सी उत्तर आकृति प्रश्न आकृति में दिए गए पैटर्न को पूरा करेगी?




Ans

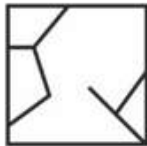
✗ 1.



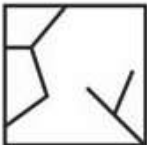
✗ 2.



✓ 3.



✗ 4.



Question Type : MCQ

Question ID : 264330138602

Option 1 ID : 264330543015

Option 2 ID : 264330543017

Option 3 ID : 264330543016

Option 4 ID : 264330543018

Status : Answered

Chosen Option : 3

Q.5 छः लड़कियाँ प्रिया, मुस्कान, रानी, सिरजाना, टीना और लक्ष्मी एक पंक्ति में दक्षिण की ओर मुख करके बैठी हैं (परंतु जरूरी नहीं वे कि इसी क्रम में बैठी हों)। मुस्कान, टीना के दाईं ओर से दूसरे स्थान पर है। सिरजाना, टीना के बाईं ओर से दूसरे स्थान पर है। लक्ष्मी, रानी के बाईं ओर से दूसरे स्थान पर है। रानी, मुस्कान के ठीक दाईं ओर है। प्रिया के ठीक दाईं ओर कौन बैठा है?

- Ans
- 1. मुस्कान
  - 2. लक्ष्मी
  - 3. सिरजाना
  - 4. टीना

Question Type : MCQ

Question ID : 264330138590

Option 1 ID : 264330542967

Option 2 ID : 264330542968

Option 3 ID : 264330542970

Option 4 ID : 264330542969

Status : Answered

Chosen Option : 3

Q.6 दी गई श्रृंखला में निम्नलिखित में से कौन-सी संख्या प्रश्न चिन्ह (?) के स्थान पर आएगी?  
85, 105, 126, 148, 171, 195, ?

- Ans
- 1. 420
  - 2. 280
  - 3. 220
  - 4. 530

Question Type : MCQ

Question ID : 264330137594

Option 1 ID : 264330538983

Option 2 ID : 264330538984

Option 3 ID : 264330538985

Option 4 ID : 264330538986

Status : Answered

Chosen Option : 3

Q.7 निम्नलिखित प्रश्न में कुछ कथन दिए गए हैं और उन कथनों के आधार पर कुछ निष्कर्ष दिए गए हैं। आपको मानना है कि दिए गए कथन सत्य हैं चाहे वे समान्यतः ज्ञात तथ्यों से अलग प्रतीत होते हों। सभी निष्कर्षों को पढ़िए और फिर निश्चय कीजिए कि दिए गए निष्कर्षों में से कौन-सा निष्कर्ष तार्किक रूप से दिए गए कथनों के अनुसार है।

कथन:

- I. सभी P, M हैं।
- II. कोई भी P, R नहीं है।

निष्कर्ष:

- I. कुछ R, P नहीं हैं।
- II. कुछ M, R नहीं हैं।

Ans

- 1. केवल निष्कर्ष II कथनों के अनुसार है
- 2. दोनों निष्कर्ष I और II कथनों के अनुसार हैं
- 3. कोई भी निष्कर्ष कथनों के अनुसार नहीं है
- 4. केवल निष्कर्ष I कथनों के अनुसार है

Question Type : MCQ

Question ID : 264330138592

Option 1 ID : 264330542976

Option 2 ID : 264330542977

Option 3 ID : 264330542978

Option 4 ID : 264330542975

Status : Answered

Chosen Option : 3

Q.8 एक निश्चित कूट भाषा में, 'FANS' को 'JERW' लिखा जाता है। उस कूट भाषा में 'HERO' को कैसे लिखा जाएगा?

Ans

- 1. LIWS
- 2. LJVS
- 3. LIVT
- 4. LIVS

Question Type : MCQ

Question ID : 264330138523

Option 1 ID : 264330542700

Option 2 ID : 264330542699

Option 3 ID : 264330542701

Option 4 ID : 264330542702

Status : Answered

Chosen Option : 4

Q.9 उस विकल्प को चुनिए जो तीसरी संख्या से ठीक उसी प्रकार संबंधित है जिस प्रकार दूसरी संख्या पहली संख्या से संबंधित है।

12 : 132 :: 16 : ?

- Ans
- 1. 135
  - 2. 215
  - 3. 167
  - 4. 176

Question Type : MCQ

Question ID : 264330137596

Option 1 ID : 264330538991

Option 2 ID : 264330538993

Option 3 ID : 264330538994

Option 4 ID : 264330538992

Status : Answered

Chosen Option : 4

Q.10 उस विकल्प को चुनिए जो पाँचवें पद से ठीक उसी प्रकार संबंधित है जिस प्रकार दूसरा पद पहले पद से संबंधित है और चौथा पद तीसरे पद से संबंधित है।

KIT : PNY :: PFC : UKH :: ANG : ?

- Ans
- 1. ESL
  - 2. FSL
  - 3. ESK
  - 4. FSK

Question Type : MCQ

Question ID : 264330138584

Option 1 ID : 264330542945

Option 2 ID : 264330542946

Option 3 ID : 264330542943

Option 4 ID : 264330542944

Status : Answered

Chosen Option : 2

Q.11 उस विकल्प को चुनिए जो पाँचवें पद से ठीक उसी प्रकार संबंधित है जिस प्रकार दूसरा पद पहले पद से संबंधित है और चौथा पद तीसरे पद से संबंधित है।

TBA : SZX :: KRB : JPY :: GOT : ?

- Ans
- 1. FNR
  - 2. FMR
  - 3. FNQ
  - 4. FMQ

Question Type : MCQ

Question ID : 264330138585

Option 1 ID : 264330542948

Option 2 ID : 264330542950

Option 3 ID : 264330542949

Option 4 ID : 264330542947

Status : Answered

Chosen Option : 4

**Q.12** निम्नलिखित प्रश्न में कुछ कथन दिए गए हैं और उन कथनों के आधार पर कुछ निष्कर्ष दिए गए हैं। आपको मानना है कि दिए गए कथन सत्य हैं चाहे वे समान्यतः ज्ञात तथ्यों से अलग प्रतीत होते हों। सभी निष्कर्षों को पढ़िए और फिर निश्चय कीजिए कि दिए गए निष्कर्षों में से कौन-सा निष्कर्ष तार्किक रूप से दिए गए कथनों के अनुसार है।

कथन:

I. कुछ L, G हैं।

II. सभी M, L हैं।

निष्कर्ष:

I. सभी L, M हैं।

II. कुछ G, M नहीं हैं।

III. कोई M, G नहीं है।

Ans

1. दोनों निष्कर्ष II और III कथनों के अनुसार हैं
2. दोनों निष्कर्ष I और II कथनों के अनुसार हैं
3. दोनों निष्कर्ष I और III कथनों के अनुसार हैं
4. कोई भी निष्कर्ष कथनों के अनुसार नहीं है

Question Type : MCQ

Question ID : 264330138593

Option 1 ID : 264330542981

Option 2 ID : 264330542982

Option 3 ID : 264330542980

Option 4 ID : 264330542979

Status : Answered

Chosen Option : 4

**Q.13** एक श्रृंखला दी गई है जिसमें एक पद लुप्त है। दिए गए विकल्पों में से उस सही विकल्प को चुनिए जो श्रृंखला को पूरा करेगा।

MCHQ, LYGM, KUFI?, IMDA

Ans

1. JQEE
2. JRFF
3. JREF
4. JQFE

Question Type : MCQ

Question ID : 264330138582

Option 1 ID : 264330542937

Option 2 ID : 264330542938

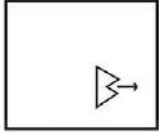
Option 3 ID : 264330542935

Option 4 ID : 264330542936

Status : Answered

Chosen Option : 1

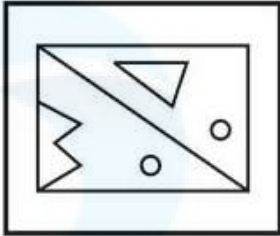
Q.14 उस विकल्प आकृति को चुनिए जिसमें दी गई आकृति (X) उसके भाग के रूप में लिहित है। (घूर्णन की अनुमति नहीं है)।



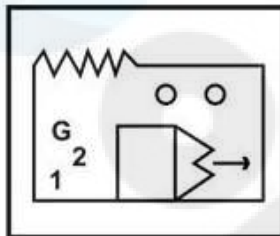
X

Ans

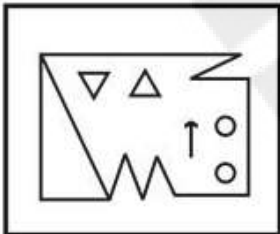
✗ 1.



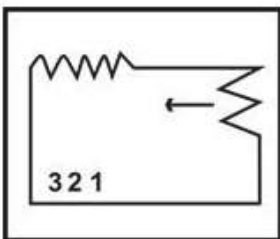
✓ 2.



✗ 3.



✗ 4.



Question Type : MCQ

Question ID : 264330133337

Option 1 ID : 264330522386

Option 2 ID : 264330522383

Option 3 ID : 264330522385

Option 4 ID : 264330522384

Status : Answered

Chosen Option : 2

Q.15 एक निश्चित कूट भाषा में, 'HORN' को '8695' लिखा जाता है और 'LURP' को '3397' लिखा जाता है। उस भाषा में 'BLUE' को कैसे लिखा जाएगा?

Ans  1. 2553

2. 5223

3. 2335

4. 2365

Question Type : MCQ

Question ID : 264330135027

Option 1 ID : 264330529043

Option 2 ID : 264330529045

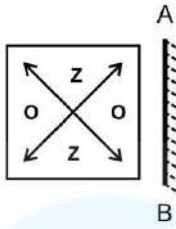
Option 3 ID : 264330529046

Option 4 ID : 264330529044

Status : Answered

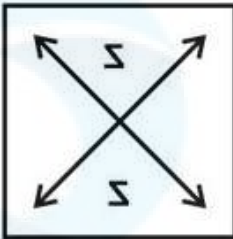
Chosen Option : 3

Q.16 दी गई आकृति के उस सही दर्पण प्रतिबिंब को चुनिए, जो नीचे दर्शाए गए अनुसार दर्पण को AB पर रखने पर बनेगा।

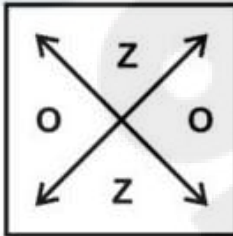


Ans

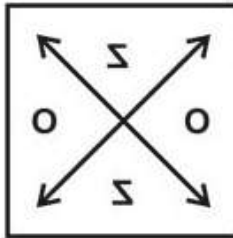
✗ 1.



✗ 2.



✓ 3.



✗ 4.



Question Type : MCQ

Question ID : 264330133338

Option 1 ID : 264330522390

Option 2 ID : 264330522387

Option 3 ID : 264330522389

Option 4 ID : 264330522388

Status : Answered

Chosen Option : 3

Q.17 यदि A का अर्थ 'जोड़', B का अर्थ 'गुणा', C का अर्थ 'घटाव' और D का अर्थ 'भाग' हो, तो निम्नलिखित समीकरण का मान क्या होगा?  
7 C 8 A (6 D 3) = ?

- Ans
- 1. 1
  - 2. 5
  - 3. 3
  - 4. 7

Question Type : MCQ  
Question ID : 264330137599  
Option 1 ID : 264330539004  
Option 2 ID : 264330539003  
Option 3 ID : 264330539006  
Option 4 ID : 264330539005  
Status : Answered  
Chosen Option : 1

Q.18 पाँच कारों C1, C2, C3, C4 और C5 की कीमतों की तुलना की जाती है। C1 की कीमत सबसे कम है। कोई भी दो कारों की कीमत समान नहीं है। C3 की कीमत C5, C2 और C4 से कम है। न तो C5 और न ही C2 की कीमत सबसे अधिक है। C5 की कीमत C2 से कम है। कितनी कारों की कीमत C4 की कीमत से अधिक है?

- Ans
- 1. 4
  - 2. 0
  - 3. 1
  - 4. 2

Question Type : MCQ  
Question ID : 264330138591  
Option 1 ID : 264330542974  
Option 2 ID : 264330542973  
Option 3 ID : 264330542971  
Option 4 ID : 264330542972  
Status : Answered  
Chosen Option : 2

Q.19 एक निश्चित कूट भाषा में, 'ROYAL' को 'HWUKN' लिखा जाता है। उस कूट भाषा में 'SEEMS' को कैसे लिखा जाएगा?

- Ans
- 1. OIBBO
  - 2. OJAAO
  - 3. OIAAP
  - 4. OIAAO

Question Type : MCQ  
Question ID : 264330138483  
Option 1 ID : 264330542542  
Option 2 ID : 264330542540  
Option 3 ID : 264330542539  
Option 4 ID : 264330542541  
Status : Not Answered  
Chosen Option : --

Q.20 उस विकल्प को चुनिए जो तीसरे शब्द से ठीक उसी प्रकार संबंधित है जिस प्रकार दूसरा शब्द पहले शब्द से संबंधित है।  
क्षेत्राधिकार : अधिकार :: असमंजस : ?

- Ans
- 1. प्रतिभूति
  - 2. दुविधा
  - 3. निर्णायक
  - 4. निश्चित

Question Type : MCQ  
Question ID : 264330135021  
Option 1 ID : 264330529020  
Option 2 ID : 264330529019  
Option 3 ID : 264330529022  
Option 4 ID : 264330529021  
Status : Answered  
Chosen Option : 2

Section : General Awareness

Q.1 दिल्ली में लाल किला किसने बनवाया था?

- Ans
- 1. शाहजहाँ
  - 2. जहाँगीर
  - 3. बाबर
  - 4. हुमायूँ

Question Type : MCQ  
Question ID : 264330137775  
Option 1 ID : 264330539708  
Option 2 ID : 264330539710  
Option 3 ID : 264330539709  
Option 4 ID : 264330539707  
Status : Answered  
Chosen Option : 1

Q.2 समस्थानिकों की विशेषता क्या है?

- Ans
- 1. समान न्यूट्रॉन संख्या और समान प्रोटॉन संख्या
  - 2. समान न्यूट्रॉन संख्या और अलग-अलग प्रोटॉन संख्या
  - 3. समान परमाणु संख्या और अलग-अलग द्रव्यमान संख्या
  - 4. समान परमाणु संख्या और समान द्रव्यमान संख्या

Question Type : MCQ  
Question ID : 264330137766  
Option 1 ID : 264330539674  
Option 2 ID : 264330539673  
Option 3 ID : 264330539672  
Option 4 ID : 264330539671  
Status : Answered  
Chosen Option : 3

Q.3 सरोगेसी (विनियमन) विधेयक, 2016 क्या प्रतिबंधित करता है?

Ans  1.

सरोगेट (किराए की कोख) के रूप में 23 से 50 वर्ष की महिलाएँ

2. व्यावसायिक (कमर्शियल) सरोगेसी

3. सरोगेट के रूप में विवाहित महिलाएँ

4. सरोगेट के रूप में तलाकशुदा महिलाएँ

Question Type : MCQ

Question ID : 264330137762

Option 1 ID : 264330539655

Option 2 ID : 264330539656

Option 3 ID : 264330539657

Option 4 ID : 264330539658

Status : Answered

Chosen Option : 2

Q.4 निम्नलिखित में से किसे मणिपुर के महाराजा द्वारा प्रदान की गई 'नृत्याचार्य (Nriyacharya )' की प्रतिष्ठित उपाधि से सम्मानित किया गया था?

Ans  1. रुक्मिणी देवी

2. गुरु केलुचरण महापात्र

3. गुरु बिपिन सिंह

4. उदय शंकर

Question Type : MCQ

Question ID : 264330138253

Option 1 ID : 264330541621

Option 2 ID : 264330541619

Option 3 ID : 264330541620

Option 4 ID : 264330541622

Status : Not Answered

Chosen Option : --

Q.5 धनगर नृत्य \_\_\_\_\_ के धनगर समुदाय से संबंधित है।

Ans  1. तमिलनाडु

2. गुजरात

3. आंध्रप्रदेश

4. गोवा

Question Type : MCQ

Question ID : 264330138649

Option 1 ID : 264330543203

Option 2 ID : 264330543205

Option 3 ID : 264330543204

Option 4 ID : 264330543206

Status : Answered

Chosen Option : 2

Q.6 निम्नलिखित में से कौन-सा महासागर विश्व में सबसे छोटा है?

- Ans
- ✓ 1. आर्कटिक महासागर
  - ✗ 2. हिंद महासागर
  - ✗ 3. प्रशांत महासागर
  - ✗ 4. अटलांटिक महासागर

Question Type : MCQ  
Question ID : 264330137769  
Option 1 ID : 264330539683  
Option 2 ID : 264330539686  
Option 3 ID : 264330539684  
Option 4 ID : 264330539685  
Status : Answered  
Chosen Option : 4

Q.7 भारतीय संविधान का निम्नलिखित में से कौन-सा अनुच्छेद "ग्राम पंचायतों के संगठन" से संबंधित है?

- Ans
- ✗ 1. अनुच्छेद 41
  - ✗ 2. अनुच्छेद 42
  - ✗ 3. अनुच्छेद 43
  - ✓ 4. अनुच्छेद 40

Question Type : MCQ  
Question ID : 264330138661  
Option 1 ID : 264330543252  
Option 2 ID : 264330543253  
Option 3 ID : 264330543254  
Option 4 ID : 264330543251  
Status : Answered  
Chosen Option : 4

Q.8 पानीपत का तीसरा युद्ध \_\_\_\_\_ के बीच लड़ा गया था।

- Ans
- ✗ 1. मराठा और मुगल
  - ✗ 2. अफगान और मुगल
  - ✓ 3. मराठा और अफगान
  - ✗ 4. अफगान और तुर्क

Question Type : MCQ  
Question ID : 264330137776  
Option 1 ID : 264330539712  
Option 2 ID : 264330539713  
Option 3 ID : 264330539711  
Option 4 ID : 264330539714  
Status : Answered  
Chosen Option : 3

Q.9 प्रसिद्ध एथलीट ज्वाला गुट्टा किस खेल से संबंधित हैं?

- Ans
- ✓ 1. बैडमिंटन (Badminton)
  - ✗ 2. स्क्वाश (Squash)
  - ✗ 3. लॉन टेनिस (Lawn Tennis)
  - ✗ 4. टेबल टेनिस (Table Tennis)

Question Type : MCQ  
Question ID : 264330137784  
Option 1 ID : 264330539744  
Option 2 ID : 264330539743  
Option 3 ID : 264330539745  
Option 4 ID : 264330539746  
Status : Answered  
Chosen Option : 1

Q.10 वॉलीबॉल खेल दो टीमों के बीच खेला जाता है जिसमें प्रत्येक टीम में \_\_\_\_\_ खिलाड़ी होते हैं।

- Ans
- ✗ 1. पाँच
  - ✗ 2. सात
  - ✓ 3. छः
  - ✗ 4. आठ

Question Type : MCQ  
Question ID : 264330138652  
Option 1 ID : 264330543215  
Option 2 ID : 264330543217  
Option 3 ID : 264330543216  
Option 4 ID : 264330543218  
Status : Answered  
Chosen Option : 1

Q.11 किसने भारत के पंजाब में भगवान के निरंकार (निराकार) रूप की पूजा को बढ़ावा दिया?

- Ans
- ✗ 1. महाराजा रणजीत सिंह
  - ✗ 2. बाबा राम सिंह
  - ✓ 3. बाबा दयाल दास
  - ✗ 4. गुरु गोबिंद सिंह

Question Type : MCQ  
Question ID : 264330133664  
Option 1 ID : 264330523682  
Option 2 ID : 264330523680  
Option 3 ID : 264330523679  
Option 4 ID : 264330523681  
Status : Answered  
Chosen Option : 3

Q.12 "भुगतान विज़न 2025 (Payments Vision 2025)" नाम की एक रिपोर्ट किस संस्था द्वारा जारी की गई है?

- Ans
- ✓ 1. भारतीय रिज़र्व बैंक
  - ✗ 2. नीति आयोग
  - ✗ 3. वित्त मंत्रालय
  - ✗ 4. कॉर्पोरेट मामलों के मंत्रालय

Question Type : MCQ  
Question ID : 264330138658  
Option 1 ID : 264330543241  
Option 2 ID : 264330543242  
Option 3 ID : 264330543239  
Option 4 ID : 264330543240  
Status : Answered  
Chosen Option : 1

Q.13 सजीवों का शरीर सूक्ष्म इकाइयों से बनता है जो \_\_\_\_\_ कहलाती हैं।

- Ans
- ✗ 1. कलिकाएँ (buds)
  - ✗ 2. जीन (genes)
  - ✗ 3. तारक केन्द्र (centrioles)
  - ✓ 4. कोशिकाएँ (cells)

Question Type : MCQ  
Question ID : 264330138662  
Option 1 ID : 264330543255  
Option 2 ID : 264330543256  
Option 3 ID : 264330543257  
Option 4 ID : 264330543258  
Status : Answered  
Chosen Option : 4

Q.14 किसी फर्म की माल-सूची में परिवर्तन को \_\_\_\_\_ के रूप में समझा जाता है।

- Ans
- ✓ 1. निवेश
  - ✗ 2. देयता
  - ✗ 3. परिसंपत्तियों
  - ✗ 4. विनिवेश

Question Type : MCQ  
Question ID : 264330138256  
Option 1 ID : 264330541632  
Option 2 ID : 264330541631  
Option 3 ID : 264330541633  
Option 4 ID : 264330541634  
Status : Answered  
Chosen Option : 4

Q.15 किस प्रकार की कृषि कृषक परिवार की आवश्यकताओं को पूरा करने के लिए की जाती है?

- Ans
- 1. वाणिज्यिक कृषि
  - 2. मत्स्यपालन
  - 3. रेशम उत्पादन
  - 4. निर्वाह कृषि

Question Type : MCQ  
Question ID : 264330138263  
Option 1 ID : 264330541659  
Option 2 ID : 264330541662  
Option 3 ID : 264330541660  
Option 4 ID : 264330541661  
Status : Answered  
Chosen Option : 4

Q.16 राष्ट्रीय जनसंख्या नीति (NPP) 2000 का दीर्घकालीन उद्देश्य वर्ष \_\_\_\_\_ तक स्थायी आर्थिक विकास, सामाजिक विकास और पर्यावरण संरक्षण के साथ देश की आबादी को स्थिर बनाए रखना है।

- Ans
- 1. 2045
  - 2. 2025
  - 3. 2055
  - 4. 2035

Question Type : MCQ  
Question ID : 264330138891  
Option 1 ID : 264330544173  
Option 2 ID : 264330544171  
Option 3 ID : 264330544174  
Option 4 ID : 264330544172  
Status : Answered  
Chosen Option : 1

Q.17 हाल ही में संयुक्त राष्ट्र शरणार्थी पुरस्कार (UN refugee prize) पाने वाली एंजेला मर्केल (Angela Merkel) \_\_\_\_\_ हैं।

- Ans
- 1. शरणार्थियों के लिए संयुक्त राष्ट्र की उच्चायुक्त
  - 2. संयुक्त राष्ट्र की महासचिव
  - 3. यूक्रेन की राष्ट्रपति
  - 4. पूर्व जर्मन चांसलर

Question Type : MCQ  
Question ID : 264330138657  
Option 1 ID : 264330543237  
Option 2 ID : 264330543238  
Option 3 ID : 264330543236  
Option 4 ID : 264330543235  
Status : Answered  
Chosen Option : 4

Q.18 निम्नलिखित में से कौन एक सारंगी वादक हैं?

- Ans
- ✓ 1. उस्ताद शकूर खान
  - ✗ 2. अनुराधा पौडवाल
  - ✗ 3. संदीप दास
  - ✗ 4. पंडित कृष्ण महाराज

Question Type : MCQ  
Question ID : 264330138655  
Option 1 ID : 264330543227  
Option 2 ID : 264330543229  
Option 3 ID : 264330543228  
Option 4 ID : 264330543230  
Status : Not Answered  
Chosen Option : --

Q.19 'द रेस ऑफ माई लाइफ: एन ऑटोबायोग्राफी (The Race of My Life: An Autobiography)' किस प्रसिद्ध एथलीट द्वारा लिखी गई है?

- Ans
- ✗ 1. पी.वी. सिंधु
  - ✗ 2. राजविंदर कौर
  - ✓ 3. मिल्खा सिंह
  - ✗ 4. नितेंदर रावत

Question Type : MCQ  
Question ID : 264330138251  
Option 1 ID : 264330541611  
Option 2 ID : 264330541613  
Option 3 ID : 264330541614  
Option 4 ID : 264330541612  
Status : Answered  
Chosen Option : 3

Q.20 अक्टूबर-नवंबर के दौरान, सूर्य की आभासी गति \_\_\_\_\_ की तरफ होती है।

- Ans
- ✗ 1. उत्तर-पश्चिम
  - ✗ 2. उत्तर-पूर्व
  - ✓ 3. दक्षिण
  - ✗ 4. उत्तर

Question Type : MCQ  
Question ID : 264330138667  
Option 1 ID : 264330543277  
Option 2 ID : 264330543278  
Option 3 ID : 264330543276  
Option 4 ID : 264330543275  
Status : Not Answered  
Chosen Option : --

Q.21 बस्तर दशहरा भारत के \_\_\_\_\_ राज्य का एक प्रसिद्ध त्योहार है।

- Ans
- 1. बिहार
  - 2. छत्तीसगढ़
  - 3. अरुणाचल प्रदेश
  - 4. मणिपुर

Question Type : MCQ  
Question ID : 264330133651  
Option 1 ID : 264330523629  
Option 2 ID : 264330523627  
Option 3 ID : 264330523628  
Option 4 ID : 264330523630  
Status : Answered  
Chosen Option : 1

Q.22 हौज़-ए-सुल्तानी (Hauz-i-Sultani) का निर्माण \_\_\_\_\_ ने करवाया था।

- Ans
- 1. बाबर
  - 2. सिकंदर लोदी
  - 3. इल्तुतमिश
  - 4. अकबर

Question Type : MCQ  
Question ID : 264330137765  
Option 1 ID : 264330539667  
Option 2 ID : 264330539669  
Option 3 ID : 264330539668  
Option 4 ID : 264330539670  
Status : Answered  
Chosen Option : 2

Q.23 2011 की जनगणना के अनुसार भारत के किस राज्य की जनसंख्या सबसे कम है?

- Ans
- 1. छत्तीसगढ़
  - 2. बिहार
  - 3. सिक्किम
  - 4. केरल

Question Type : MCQ  
Question ID : 264330133659  
Option 1 ID : 264330523659  
Option 2 ID : 264330523662  
Option 3 ID : 264330523661  
Option 4 ID : 264330523660  
Status : Answered  
Chosen Option : 3

Q.24 कौटिल्य की सहायता से किसने अंतिम नंद शासक धनानंद को पराजित किया था?

- Ans
- 1. अशोक
  - 2. चंद्रगुप्त मौर्य
  - 3. अकबर
  - 4. कालाशोक

Question Type : MCQ  
Question ID : 264330133661  
Option 1 ID : 264330523667  
Option 2 ID : 264330523669  
Option 3 ID : 264330523668  
Option 4 ID : 264330523670  
Status : Answered  
Chosen Option : 2

Q.25 पेट की अम्लता को उदासीन करने के लिए निम्नलिखित में से किसका उपयोग प्रतिअम्ल (antacid) के रूप में किया जाता है?

- Ans
- 1. मॉर्फिन (Morphine)
  - 2. क्लोरीन (Chlorine)
  - 3. मैग्नीशियम हाइड्रॉक्साइड (Magnesium Hydroxide)
  - 4. आयोडोफार्म (Iodoform)

Question Type : MCQ  
Question ID : 264330137768  
Option 1 ID : 264330539681  
Option 2 ID : 264330539680  
Option 3 ID : 264330539679  
Option 4 ID : 264330539682  
Status : Answered  
Chosen Option : 3

Section : English Language and Comprehension

Q.1 Improve the underlined part of the sentence. Choose 'No improvement' as an answer if the sentence is grammatically correct.

You can't bought anything with one cent anymore.

- Ans
- 1. could not buying anything
  - 2. No improvement
  - 3. can't buy anything
  - 4. should not bought anything

Question Type : MCQ  
Question ID : 264330136800  
Option 1 ID : 264330535899  
Option 2 ID : 264330535902  
Option 3 ID : 264330535901  
Option 4 ID : 264330535900  
Status : Answered  
Chosen Option : 3

Q.2 Choose the incorrectly spelt word.

- Ans
- 1. Booking
  - 2. Rubing
  - 3. Shocker
  - 4. Tram

Question Type : MCQ  
Question ID : 264330136791  
Option 1 ID : 264330535865  
Option 2 ID : 264330535863  
Option 3 ID : 264330535864  
Option 4 ID : 264330535866  
Status : Answered  
Chosen Option : 2

Q.3 Improve the underlined part of the sentence. Choose 'No improvement' as an answer if the sentence is grammatically correct.

It's going to rain today whether you like it or not.

- Ans
- 1. you liked it
  - 2. you likes it
  - 3. you likened it
  - 4. No improvement

Question Type : MCQ  
Question ID : 264330136825  
Option 1 ID : 264330535996  
Option 2 ID : 264330535995  
Option 3 ID : 264330535997  
Option 4 ID : 264330535998  
Status : Answered  
Chosen Option : 4

Q.4 Select the most appropriate antonym of the given word.

Maladroit

- Ans
- 1. Inept
  - 2. Arrogant
  - 3. Awkward
  - 4. Skilful

Question Type : MCQ  
Question ID : 264330136231  
Option 1 ID : 264330533713  
Option 2 ID : 264330533714  
Option 3 ID : 264330533712  
Option 4 ID : 264330533711  
Status : Answered  
Chosen Option : 4

**Q.5** A sentence has been given with a blank to be filled with an appropriate option. Choose the correct alternative.

I don't remember exactly when the clouds rolled in and \_\_\_\_\_ you from me.

- Ans
- 1. stealing
  - 2. steal
  - 3. stolen
  - 4. stole

Question Type : **MCQ**  
Question ID : **264330134301**  
Option 1 ID : **264330526199**  
Option 2 ID : **264330526202**  
Option 3 ID : **264330526201**  
Option 4 ID : **264330526200**  
Status : **Answered**  
Chosen Option : **2**

**Q.6** Select the most appropriate word for the given group of words.

To forbid something, especially by law

- Ans
- 1. Propound
  - 2. Quarantine
  - 3. Proscribe
  - 4. Quench

Question Type : **MCQ**  
Question ID : **264330136227**  
Option 1 ID : **264330533697**  
Option 2 ID : **264330533695**  
Option 3 ID : **264330533698**  
Option 4 ID : **264330533696**  
Status : **Answered**  
Chosen Option : **3**

**Q.7** Find the part of the given sentence that has an error in it. If there is no error, choose 'No error'.

It's your carelessness that makes me went crazy all the time.

- Ans
- 1. crazy all the time.
  - 2. No error
  - 3. It's your carelessness
  - 4. that makes me went

Question Type : **MCQ**  
Question ID : **264330134772**  
Option 1 ID : **264330528037**  
Option 2 ID : **264330528038**  
Option 3 ID : **264330528035**  
Option 4 ID : **264330528036**  
Status : **Answered**  
Chosen Option : **4**

**Q.8** In the following question, out of the given four alternatives, select the alternative which best expresses the meaning of the Idiom/Phrase.  
Bark up the wrong tree

- Ans**
- 1. To reach at a wrong address
  - 2. To scold someone for the mistake they have not done
  - 3. To waste one's energy or effort by pursuing the wrong thing
  - 4. To invest one's money in wrong business

Question Type : **MCQ**  
Question ID : **264330136790**  
Option 1 ID : **264330535860**  
Option 2 ID : **264330535862**  
Option 3 ID : **264330535859**  
Option 4 ID : **264330535861**  
Status : **Answered**  
Chosen Option : **3**

**Q.9** Choose the word that can substitute the given group of words.

Impossible to change or reverse

- Ans**
- 1. Order
  - 2. Coerce
  - 3. Irrevocable
  - 4. Intimidate

Question Type : **MCQ**  
Question ID : **264330136784**  
Option 1 ID : **264330535836**  
Option 2 ID : **264330535837**  
Option 3 ID : **264330535838**  
Option 4 ID : **264330535835**  
Status : **Answered**  
Chosen Option : **3**

**Q.10** Select the most appropriate meaning of the given idiom.

Queer somebody's pitch

- Ans**
- 1. To come out successfully
  - 2. To make an exaggerated statement
  - 3. A secret plan
  - 4. Upset someone's plans

Question Type : **MCQ**  
Question ID : **264330136233**  
Option 1 ID : **264330533719**  
Option 2 ID : **264330533722**  
Option 3 ID : **264330533721**  
Option 4 ID : **264330533720**  
Status : **Answered**  
Chosen Option : **4**

**Q.11** Find the part of the given sentence that has an error in it. If there is no error, choose 'No error'.

When you're chatting on the phone, do it in the living room instead off the kitchen.

- Ans**
- 1. No error
  - 2. instead off the kitchen.
  - 3. the phone, do it in the living room
  - 4. When you're chatting on

Question Type : **MCQ**  
Question ID : **264330136822**  
Option 1 ID : **264330535986**  
Option 2 ID : **264330535985**  
Option 3 ID : **264330535984**  
Option 4 ID : **264330535983**  
Status : **Answered**  
Chosen Option : **2**

**Q.12** Select the most appropriate option to fill in the blank.

"The Boarded Window" is a horror story about a man who has to \_\_\_\_\_ with his wife's death.

- Ans**
- 1. deed
  - 2. drill
  - 3. dwell
  - 4. deal

Question Type : **MCQ**  
Question ID : **264330134318**  
Option 1 ID : **264330526266**  
Option 2 ID : **264330526264**  
Option 3 ID : **264330526265**  
Option 4 ID : **264330526263**  
Status : **Answered**  
Chosen Option : **4**

**Q.13** Find the part of the given sentence that has an error in it. If there is no error, choose 'No error'.

The government have a rudimentary plan for an ecosystem for defence startups to fast-forward innovation.

- Ans**
- 1. an ecosystem for defence startups
  - 2. No error
  - 3. to fast-forward innovation.
  - 4. The government have a rudimentary plan for

Question Type : **MCQ**  
Question ID : **264330136771**  
Option 1 ID : **264330535788**  
Option 2 ID : **264330535790**  
Option 3 ID : **264330535789**  
Option 4 ID : **264330535787**  
Status : **Answered**  
Chosen Option : **4**

Q.14 Select the most appropriate option to fill in the blank.

\_\_\_\_\_ food consumption can affect our bodies' immune systems.

- Ans
- 1. Nutritious
  - 2. Sanitary
  - 3. Unhygienic
  - 4. Unwise

Question Type : MCQ

Question ID : 264330136794

Option 1 ID : 264330535876

Option 2 ID : 264330535878

Option 3 ID : 264330535877

Option 4 ID : 264330535875

Status : Answered

Chosen Option : 3

Q.15 Choose the sentence with no spelling error.

- Ans
- 1. Sneha caught it and frownned.
  - 2. Sneha caught it and frouned.
  - 3. Sneha caught it and frowned.
  - 4. Sneha cuaght it and frowned.

Question Type : MCQ

Question ID : 264330134317

Option 1 ID : 264330526259

Option 2 ID : 264330526262

Option 3 ID : 264330526261

Option 4 ID : 264330526260

Status : Answered

Chosen Option : 3

Q.16 Select the appropriate antonym for the underlined word.

We frequently congratulate people on their accomplishment in becoming famous, but we seldom ever talk about the price of fame.

- Ans
- 1. Triumph
  - 2. Execution
  - 3. Fiasco
  - 4. Feat

Question Type : MCQ

Question ID : 264330136788

Option 1 ID : 264330535853

Option 2 ID : 264330535854

Option 3 ID : 264330535852

Option 4 ID : 264330535851

Status : Answered

Chosen Option : 1

Q.17 Select the appropriate synonym for the underlined word.

The physics of laser-driven fusion is very complex.

- Ans  1. Convoluted  
 2. Modest  
 3. Simplified  
 4. Streamline

Question Type : MCQ  
Question ID : 264330136785  
Option 1 ID : 264330535840  
Option 2 ID : 264330535842  
Option 3 ID : 264330535841  
Option 4 ID : 264330535839  
Status : Answered  
Chosen Option : 1

Q.18 Improve the underlined part of the sentence. Choose 'No improvement' as an answer if the sentence is grammatically correct.

Many restaurants serving compliment bread with the meal.

- Ans  1. serve complimentary  
 2. No improvement  
 3. serve compliment  
 4. serves complimentary

Question Type : MCQ  
Question ID : 264330135285  
Option 1 ID : 264330530056  
Option 2 ID : 264330530058  
Option 3 ID : 264330530055  
Option 4 ID : 264330530057  
Status : Answered  
Chosen Option : 1

Q.19 Choose the word that means the same as the given word.  
Upsetting

- Ans  1. Perturbing  
 2. Amusing  
 3. Aware  
 4. Dreamy

Question Type : MCQ  
Question ID : 264330134337  
Option 1 ID : 264330526335  
Option 2 ID : 264330526336  
Option 3 ID : 264330526337  
Option 4 ID : 264330526338  
Status : Answered  
Chosen Option : 2

**Q.20** A sentence has been given with a blank to be filled with an appropriate option. Choose the correct alternative.  
Sam was 24 years old when he \_\_\_\_\_ to California.

- Ans**
- 1. movement
  - 2. moving
  - 3. moved
  - 4. moves

Question Type : **MCQ**  
Question ID : **264330136775**  
Option 1 ID : **264330535806**  
Option 2 ID : **264330535803**  
Option 3 ID : **264330535805**  
Option 4 ID : **264330535804**  
Status : **Answered**  
Chosen Option : **3**

**Comprehension:**

In the following passage some words have been deleted. Fill in the blanks with the help of the alternatives given. Select the most appropriate option for each number.

One of the myths (1) \_\_\_\_\_ with the Great Wall of China is that it is the only man-made (2) \_\_\_\_\_ that can be seen from the moon with the naked eye. The (3) \_\_\_\_\_ originated in Richard Halliburton's 1938 book Second Book of Marvels. However, this myth is simply not true. Richard Halliburton's claim was contradicted (4) \_\_\_\_\_ astronauts Neil Armstrongby and Yang Liwei. A more (5) \_\_\_\_\_ assumption would be to say that the Great Wall can be visible from a low orbit of the earth which is not unique in this regard as many other artificial constructions can be seen from that height.

**SubQuestion No : 21**

**Q.21** Select the most appropriate option to fill in blank number 1.

- Ans**
- 1. organized
  - 2. associated
  - 3. depreciated
  - 4. disassociated

Question Type : **MCQ**  
Question ID : **264330136222**  
Option 1 ID : **264330533676**  
Option 2 ID : **264330533678**  
Option 3 ID : **264330533675**  
Option 4 ID : **264330533677**  
Status : **Answered**  
Chosen Option : **2**

**Comprehension:**

In the following passage some words have been deleted. Fill in the blanks with the help of the alternatives given. Select the most appropriate option for each number.

One of the myths (1) \_\_\_\_\_ with the Great Wall of China is that it is the only man-made (2) \_\_\_\_\_ that can be seen from the moon with the naked eye. The (3) \_\_\_\_\_ originated in Richard Halliburton's 1938 book Second Book of Marvels. However, this myth is simply not true. Richard Halliburton's claim was contradicted (4) \_\_\_\_\_ astronauts Neil Armstrongby and Yang Liwei. A more (5) \_\_\_\_\_ assumption would be to say that the Great Wall can be visible from a low orbit of the earth which is not unique in this regard as many other artificial constructions can be seen from that height.

**SubQuestion No : 22****Q.22** Select the most appropriate option to fill in blank number 2.

- Ans
- 1. structure
  - 2. sculpture
  - 3. contracture
  - 4. conjecture

Question Type : **MCQ**Question ID : **264330136223**Option 1 ID : **264330533679**Option 2 ID : **264330533680**Option 3 ID : **264330533681**Option 4 ID : **264330533682**Status : **Answered**Chosen Option : **1****Comprehension:**

In the following passage some words have been deleted. Fill in the blanks with the help of the alternatives given. Select the most appropriate option for each number.

One of the myths (1) \_\_\_\_\_ with the Great Wall of China is that it is the only man-made (2) \_\_\_\_\_ that can be seen from the moon with the naked eye. The (3) \_\_\_\_\_ originated in Richard Halliburton's 1938 book Second Book of Marvels. However, this myth is simply not true. Richard Halliburton's claim was contradicted (4) \_\_\_\_\_ astronauts Neil Armstrongby and Yang Liwei. A more (5) \_\_\_\_\_ assumption would be to say that the Great Wall can be visible from a low orbit of the earth which is not unique in this regard as many other artificial constructions can be seen from that height.

**SubQuestion No : 23****Q.23** Select the most appropriate option to fill in blank number 3.

- Ans
- 1. verity
  - 2. legend
  - 3. candour
  - 4. lagend

Question Type : **MCQ**Question ID : **264330136224**Option 1 ID : **264330533683**Option 2 ID : **264330533685**Option 3 ID : **264330533686**Option 4 ID : **264330533684**Status : **Answered**Chosen Option : **1**

**Comprehension:**

In the following passage some words have been deleted. Fill in the blanks with the help of the alternatives given. Select the most appropriate option for each number.

One of the myths (1) \_\_\_\_\_ with the Great Wall of China is that it is the only man-made (2) \_\_\_\_\_ that can be seen from the moon with the naked eye. The (3) \_\_\_\_\_ originated in Richard Halliburton's 1938 book Second Book of Marvels. However, this myth is simply not true. Richard Halliburton's claim was contradicted (4) \_\_\_\_\_ astronauts Neil Armstrong and Yang Liwei. A more (5) \_\_\_\_\_ assumption would be to say that the Great Wall can be visible from a low orbit of the earth which is not unique in this regard as many other artificial constructions can be seen from that height.

**SubQuestion No : 24**

**Q.24** Select the most appropriate option to fill in blank number 4.

- Ans**
- 1. in
  - 2. by
  - 3. from
  - 4. under

Question Type : **MCQ**

Question ID : **264330136225**

Option 1 ID : **264330533687**

Option 2 ID : **264330533688**

Option 3 ID : **264330533689**

Option 4 ID : **264330533690**

Status : **Answered**

Chosen Option : **2**

**Comprehension:**

In the following passage some words have been deleted. Fill in the blanks with the help of the alternatives given. Select the most appropriate option for each number.

One of the myths (1) \_\_\_\_\_ with the Great Wall of China is that it is the only man-made (2) \_\_\_\_\_ that can be seen from the moon with the naked eye. The (3) \_\_\_\_\_ originated in Richard Halliburton's 1938 book Second Book of Marvels. However, this myth is simply not true. Richard Halliburton's claim was contradicted (4) \_\_\_\_\_ astronauts Neil Armstrong and Yang Liwei. A more (5) \_\_\_\_\_ assumption would be to say that the Great Wall can be visible from a low orbit of the earth which is not unique in this regard as many other artificial constructions can be seen from that height.

**SubQuestion No : 25**

**Q.25** Select the most appropriate option to fill in blank number 5.

- Ans**
- 1. accessible
  - 2. apprehensible
  - 3. permissible
  - 4. plausible

Question Type : **MCQ**

Question ID : **264330136226**

Option 1 ID : **264330533691**

Option 2 ID : **264330533693**

Option 3 ID : **264330533692**

Option 4 ID : **264330533694**

Status : **Answered**

Chosen Option : **4**