

## Multi Tasking Non Technical Staff and Havaladar CBIC and CBN Examination 2022

Roll Number	
Candidate Name	
Venue Name	Tech Testing Solution
Exam Date	18/05/2023
Exam Time	3:30 PM - 5:00 PM
Subject	MTS Non Tech Havaladar CBIC and CBN Examination 2022

Section : Numerical and Mathematical Ability

Q.1 225 और 425 का महत्तम समापवर्तक (HCF) क्या है?

Ans  1. 17

2. 25

3. 5

4. 9

Question Type : MCQ

Question ID : 264330138726

Option 1 ID : 264330543513

Option 2 ID : 264330543512

Option 3 ID : 264330543511

Option 4 ID : 264330543514

Status : Answered

Chosen Option : 2

Q.2 नीचे दी गई तालिका में सात वर्षों में दो कंपनियों P और Q की आय को दर्शाया गया है।

वर्ष	P	Q
Y1	200	250
Y2	350	150
Y3	500	650
Y4	650	450
Y5	600	550
Y6	450	700
Y7	400	500

निम्नलिखित में से कौन-सा कथन सही नहीं है?

- I. वर्ष Y1 में P की आय, वर्ष Y1 में Q की आय से 20 प्रतिशत कम है।  
II. सभी वर्षों में P की कुल आय और Q की कुल आय का अनुपात 63 : 64 है।

Ans

- ✓ 1. केवल II  
✗ 2. I और II दोनों  
✗ 3. न तो I और न ही II  
✗ 4. केवल I

Question Type : MCQ

Question ID : 264330137663

Option 1 ID : 264330539260

Option 2 ID : 264330539261

Option 3 ID : 264330539262

Option 4 ID : 264330539259

Status : Answered

Chosen Option : 1

Q.3 If the diagonal of a square is 18.4 cm, then the area of that square is:

Ans

- ✗ 1. 338.56 cm<sup>2</sup>  
✗ 2. 84.64 cm<sup>2</sup>  
✓ 3. 169.28 cm<sup>2</sup>  
✗ 4. 324.42 cm<sup>2</sup>

Question Type : MCQ

Question ID : 264330138743

Option 1 ID : 264330543580

Option 2 ID : 264330543582

Option 3 ID : 264330543581

Option 4 ID : 264330543579

Status : Answered

Chosen Option : 3

Q.4 तीन संख्याओं का योग 126 है। यदि पहली और तीसरी का अनुपात 3:7 है और दूसरी और तीसरी का अनुपात 4:7 है, तो दूसरी संख्या क्या है?

- Ans
- ✓ 1. 36
  - ✗ 2. 56
  - ✗ 3. 27
  - ✗ 4. 63

Question Type : MCQ

Question ID : 264330134089

Option 1 ID : 264330525381

Option 2 ID : 264330525382

Option 3 ID : 264330525379

Option 4 ID : 264330525380

Status : Answered

Chosen Option : 1

Q.5  $2[1.5 \times 1.5 + 0.5 \times 0.5]$  का मान क्या है?

- Ans
- ✗ 1. 4
  - ✓ 2. 5
  - ✗ 3. 4.5
  - ✗ 4. 10

Question Type : MCQ

Question ID : 264330137662

Option 1 ID : 264330539255

Option 2 ID : 264330539257

Option 3 ID : 264330539256

Option 4 ID : 264330539258

Status : Answered

Chosen Option : 4

Q.6 A अकेले 12 दिनों में कार्य का  $\frac{1}{4}$  भाग पूरा कर सकता है। B अकेले 4 दिनों में कार्य का  $\frac{1}{5}$  भाग कर सकता है। A और B मिलकर समान कार्य को कितने दिनों में कर सकते हैं?

- Ans
- ✓ 1. 240/17 दिनों में
  - ✗ 2. 255/7 दिनों में
  - ✗ 3. 330/13 दिनों में
  - ✗ 4. 210/4 दिनों में

Question Type : MCQ

Question ID : 264330135384

Option 1 ID : 264330530444

Option 2 ID : 264330530443

Option 3 ID : 264330530445

Option 4 ID : 264330530446

Status : Answered

Chosen Option : 1

Q.7 66 cm त्रिज्या वाली एक ठोस गोलाकार गेंद से प्रत्येक 33 cm त्रिज्या वाली कितनी ठोस गोलाकार गेंदें बनाई जा सकती हैं?

- Ans
- 1. 4
  - 2. 7
  - 3. 8
  - 4. 3

Question Type : MCQ

Question ID : 264330135389

Option 1 ID : 264330530465

Option 2 ID : 264330530466

Option 3 ID : 264330530464

Option 4 ID : 264330530463

Status : Answered

Chosen Option : 3

Q.8 P, Q और R अकेले किसी कार्य को क्रमशः 30 घंटे, 10 घंटे और 15 घंटे में पूरा कर सकते हैं। यदि वे साथ मिलकर कार्य करें, तो वे कितने समय में इस कार्य को पूरा करेंगे?

- Ans
- 1. 4 घंटे
  - 2. 10 घंटे
  - 3. 5 घंटे
  - 4. 8 घंटे

Question Type : MCQ

Question ID : 264330138739

Option 1 ID : 264330543564

Option 2 ID : 264330543565

Option 3 ID : 264330543563

Option 4 ID : 264330543566

Status : Answered

Chosen Option : 3

Q.9 Rs. 21000 की राशि पर 6 माह के लिए 10% वार्षिक दर पर अर्धवार्षिक रूप से संयोजित चक्रवृद्धि ब्याज कितना होगा?

- Ans
- 1. Rs. 1250
  - 2. Rs. 1680
  - 3. Rs. 1850
  - 4. Rs. 1050

Question Type : MCQ

Question ID : 264330138737

Option 1 ID : 264330543558

Option 2 ID : 264330543557

Option 3 ID : 264330543556

Option 4 ID : 264330543555

Status : Answered

Chosen Option : 4

Q.10 कबीर और विकी के वेतन का अनुपात 5:2 है। यदि उनके वेतन में क्रमशः 20% और 12% की वृद्धि की जाती है, तो उनके वेतन का नया अनुपात क्या होगा?

- Ans
- 1. 91:25
  - 2. 81:28
  - 3. 75:28
  - 4. 25:73

Question Type : MCQ

Question ID : 264330134090

Option 1 ID : 264330525386

Option 2 ID : 264330525385

Option 3 ID : 264330525383

Option 4 ID : 264330525384

Status : Answered

Chosen Option : 3

Q.11 एक वस्तु के मूल्य में 15% और 40% की दो क्रमागत वृद्धि, किस एकल मूल्य वृद्धि के बराबर है?

- Ans
- 1. 55%
  - 2. 52%
  - 3. 61%
  - 4. 60%

Question Type : MCQ

Question ID : 264330138730

Option 1 ID : 264330543528

Option 2 ID : 264330543530

Option 3 ID : 264330543529

Option 4 ID : 264330543527

Status : Answered

Chosen Option : 3

Q.12 मीना एक यात्रा 33 घंटों में पूरी करती है। वह यात्रा की एक-चौथाई दूरी 60 km/hr की चाल से और शेष दूरी 40 km/hr की चाल से तय करती है। km में कुल तय की गई दूरी कितनी है?

- Ans
- 1. 1440 km
  - 2. 480 km
  - 3. 1220 km
  - 4. 680 km

Question Type : MCQ

Question ID : 264330134093

Option 1 ID : 264330525398

Option 2 ID : 264330525395

Option 3 ID : 264330525397

Option 4 ID : 264330525396

Status : Not Answered

Chosen Option : --

Q.13 P, Q और R की औसत आयु 19 वर्ष है और P और Q की औसत आयु 20 वर्ष है। R की वर्तमान आयु है:

- Ans
- ✓ 1. 17 वर्ष
  - ✗ 2. 20 वर्ष
  - ✗ 3. 22 वर्ष
  - ✗ 4. 15 वर्ष

Question Type : MCQ  
Question ID : 264330134083  
Option 1 ID : 264330525357  
Option 2 ID : 264330525355  
Option 3 ID : 264330525356  
Option 4 ID : 264330525358  
Status : Answered  
Chosen Option : 1

Q.14 साधारण ब्याज पर एक धनराशि 3 वर्ष में Rs. 14,400 और 4 वर्ष में Rs. 15,500 हो जाती है। वह धनराशि ज्ञात कीजिए।

- Ans
- ✗ 1. Rs. 20,000
  - ✗ 2. Rs. 10,000
  - ✗ 3. Rs. 10,080
  - ✓ 4. Rs. 11,100

Question Type : MCQ  
Question ID : 264330138380  
Option 1 ID : 264330542130  
Option 2 ID : 264330542128  
Option 3 ID : 264330542127  
Option 4 ID : 264330542129  
Status : Answered  
Chosen Option : 4

Q.15 रोहित Rs. 1280 में एक पुराना बल्ला खरीदता है और उसकी मरम्मत पर Rs. 120 खर्च करता है। यदि वह इसे Rs. 1050 में बेचता है, तो उसका हानि प्रतिशत क्या है?

- Ans
- ✓ 1. 25 प्रतिशत
  - ✗ 2. 20 प्रतिशत
  - ✗ 3. 40 प्रतिशत
  - ✗ 4. 30 प्रतिशत

Question Type : MCQ  
Question ID : 264330137159  
Option 1 ID : 264330537281  
Option 2 ID : 264330537282  
Option 3 ID : 264330537279  
Option 4 ID : 264330537280  
Status : Answered  
Chosen Option : 1

Q.16  $\left\{ \frac{3}{4} \text{ of } 60 \div 9 \right\} \times 0.02$  का मान है:

- Ans  1. 0.10  
 2. 0.05  
 3. 0.20  
 4. 0.02

Question Type : MCQ

Question ID : 264330134081

Option 1 ID : 264330525349

Option 2 ID : 264330525348

Option 3 ID : 264330525350

Option 4 ID : 264330525347

Status : Answered

Chosen Option : 1

Q.17 एक रेफ्रिजरेटर और एक वॉशिंग मशीन को Rs. 24000 प्रति मूल्य पर बेचा गया। यदि रेफ्रिजरेटर को 20% के लाभ पर और वॉशिंग मशीन को 20% की हानि पर बेचा गया, तो पूरे लेन-देन में कुल लाभ या हानि प्रतिशत कितना है?

- Ans  1. 5% हानि  
 2. 5% लाभ  
 3. 4% लाभ  
 4. 4% हानि

Question Type : MCQ

Question ID : 264330134087

Option 1 ID : 264330525374

Option 2 ID : 264330525372

Option 3 ID : 264330525371

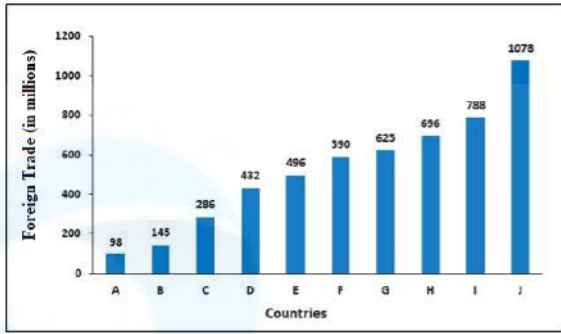
Option 4 ID : 264330525373

Status : Answered

Chosen Option : 4

Q.18 नीचे दिए गए दंड आलेख में वर्ष 2015-2016 में देशों द्वारा किए गए विदेशी व्यापार को दर्शाया गया है।

न्यूनतम व्यापार और अधिकतम व्यापार का अनुपात कितना था?



Foreign trade (in millions)- विदेशी व्यापार (मिलियन में), Countries- देश

- Ans
- 1. 8:5
  - 2. 3:14
  - 3. 4:11
  - 4. 1:11

Question Type : MCQ

Question ID : 264330134097

Option 1 ID : 264330525413

Option 2 ID : 264330525411

Option 3 ID : 264330525412

Option 4 ID : 264330525414

Status : Answered

Chosen Option : 4

Q.19 Rs. 10000 के एक बिल पर मिले 20% के एक बट्टे और 16% और 4% के दो क्रमागत बट्टों के बीच का अंतर है:

- Ans
- 1. Rs. 72
  - 2. Rs. 19.36
  - 3. Rs. 22.32
  - 4. Rs. 64

Question Type : MCQ

Question ID : 264330134088

Option 1 ID : 264330525378

Option 2 ID : 264330525375

Option 3 ID : 264330525377

Option 4 ID : 264330525376

Status : Answered

Chosen Option : 2

Q.20 एक ट्रक पहले घंटे में 40 km और दूसरे घंटे में 50 km की यात्रा करता है। ट्रक की औसत चाल क्या है?

- Ans
- 1. 48 km/hr
  - 2. 45 km/hr
  - 3. 50 km/hr
  - 4. 40 km/hr

Question Type : MCQ

Question ID : 264330138439

Option 1 ID : 264330542365

Option 2 ID : 264330542366

Option 3 ID : 264330542364

Option 4 ID : 264330542363

Status : Answered

Chosen Option : 2

Section : Reasoning Ability and Problem Solving

Q.1 दिए गए समीकरण को सही करने के लिए किन दो संख्याओं को आपस में बदला जाना चाहिए?

$$12 \div 72 \times 3 - 13 = 5$$

- Ans
- 1. 13 और 5
  - 2. 12 और 3
  - 3. 12 और 72
  - 4. 13 और 3

Question Type : MCQ

Question ID : 264330133711

Option 1 ID : 264330523867

Option 2 ID : 264330523868

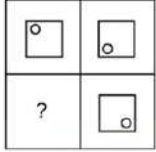
Option 3 ID : 264330523869

Option 4 ID : 264330523870

Status : Answered

Chosen Option : 3

Q.2 उस विकल्प आकृति को चुनिए जो नीचे दी गई आकृति में पैटर्न को पूरा करने के लिए प्रश्न चिन्ह (?) के स्थान पर आएगी। (घूर्णन की अनुमति नहीं है)।



Ans

- ✗ 1.
- ✓ 2.
- ✗ 3.
- ✗ 4.

Question Type : MCQ

Question ID : 264330133715

Option 1 ID : 264330523883

Option 2 ID : 264330523886

Option 3 ID : 264330523885

Option 4 ID : 264330523884

Status : Answered

Chosen Option : 2

Q.3 M, N, O, P, Q, और R एक वृत्ताकार मेज पर एक-दूसरे की ओर मुख करके बैठे हैं। O, R के ठीक बाईं ओर बैठा है और N, O की बाईं ओर, दूसरे स्थान पर बैठा है। M, Q की बाईं ओर, दूसरे स्थान पर बैठा है। R और M के ठीक मध्य में कौन बैठा है?

- ✗ 1. Q
- ✗ 2. O
- ✓ 3. P
- ✗ 4. N

Question Type : MCQ

Question ID : 264330133703

Option 1 ID : 264330523837

Option 2 ID : 264330523836

Option 3 ID : 264330523835

Option 4 ID : 264330523838

Status : Answered

Chosen Option : 3

Q.4 पाँच पुरुष अंकित, विशाल, चैंडलर , दक्ष और जॉय एक मेज पर उत्तर की ओर मुख करके बैठे हैं। अंकित, दक्ष के ठीक बाईं ओर बैठा है, जो कोने पर नहीं बैठा है। जॉय, विशाल और चैंडलर के ठीक मध्य में बैठा है। सबसे बाएँ छोर पर कौन बैठा है?

- Ans
- 1. जॉय
  - 2. चैंडलर
  - 3. विशाल
  - 4. अंकित

Question Type : MCQ  
Question ID : 264330133702  
Option 1 ID : 264330523833  
Option 2 ID : 264330523834  
Option 3 ID : 264330523832  
Option 4 ID : 264330523831  
Status : Answered  
Chosen Option : 4

Q.5 निम्नलिखित प्रश्न में, दी गई श्रृंखला में लुप्त संख्या को चुनिए ।

200, 174, 148, 122, 96, ?

- Ans
- 1. 80
  - 2. 70
  - 3. 74
  - 4. 71

Question Type : MCQ  
Question ID : 264330138594  
Option 1 ID : 264330542985  
Option 2 ID : 264330542984  
Option 3 ID : 264330542983  
Option 4 ID : 264330542986  
Status : Answered  
Chosen Option : 2

Q.6 उस विकल्प को चुनिए जो तीसरे शब्द से ठीक उसी तरह संबंधित है जिस तरह दूसरा शब्द पहले शब्द से संबंधित है।  
हैदराबाद : तेलंगाना :: गंगटोक : ?

- Ans
- 1. केरल
  - 2. सिक्किम
  - 3. उत्तराखंड
  - 4. गोवा

Question Type : MCQ  
Question ID : 264330133697  
Option 1 ID : 264330523811  
Option 2 ID : 264330523813  
Option 3 ID : 264330523814  
Option 4 ID : 264330523812  
Status : Answered  
Chosen Option : 2

**Q.7** सुबह की सभा के दौरान सात छात्र M, N, O, P, Q, R और S अपने कद के आरोही क्रम में खड़े हैं। सबसे छोटे कद वाला छात्र सभा की लाइन में सबसे आगे खड़ा है और सबसे ऊँचे कद वाला छात्र लाइन में सबसे पीछे खड़ा है। M, Q के ठीक पीछे और P के ठीक सामने खड़ा है। R और S के बीच केवल दो छात्र खड़े हैं। N केवल एक छात्र से लंबा है। R सबसे छोटा नहीं है। सबसे लंबा छात्र कौन है?

- Ans**
- 1. R
  - 2. O
  - 3. M
  - 4. P

Question Type : **MCQ**

Question ID : **264330133704**

Option 1 ID : **264330523840**

Option 2 ID : **264330523842**

Option 3 ID : **264330523841**

Option 4 ID : **264330523839**

Status : **Answered**

Chosen Option : 1

**Q.8** दी गई श्रृंखला में निम्नलिखित में से कौन-सी संख्या प्रश्न चिन्ह (?) के स्थान पर आएगी?  
46, 50, 58, 70, 86, 106, ?

- Ans**
- 1. 140
  - 2. 280
  - 3. 150
  - 4. 130

Question Type : **MCQ**

Question ID : **264330133708**

Option 1 ID : **264330523855**

Option 2 ID : **264330523856**

Option 3 ID : **264330523857**

Option 4 ID : **264330523858**

Status : **Answered**

Chosen Option : 4

**Q.9** उस विकल्प को चुनिए जो तीसरे शब्द से ठीक उसी तरह संबंधित है जिस तरह दूसरा शब्द पहले शब्द से संबंधित है।  
हाइड्रोजन : तत्व :: कार्बन डाइऑक्साइड : ?

- Ans**
- 1. द्रव (Liquid)
  - 2. फल (Fruit)
  - 3. यौगिक (Compound)
  - 4. अंग (Organ)

Question Type : **MCQ**

Question ID : **264330133698**

Option 1 ID : **264330523818**

Option 2 ID : **264330523817**

Option 3 ID : **264330523815**

Option 4 ID : **264330523816**

Status : **Answered**

Chosen Option : 3

Q.10 एक निश्चित कूट भाषा में, 'UKSH' को '8TL21' लिखा जाता है। उस कूट भाषा में 'GAIN' को कैसे लिखा जाएगा?

- Ans
- 1. 15JB7
  - 2. 14J7B
  - 3. 14JB8
  - 4. 14JB7

Question Type : MCQ

Question ID : 264330137792

Option 1 ID : 264330539778

Option 2 ID : 264330539776

Option 3 ID : 264330539777

Option 4 ID : 264330539775

Status : Answered

Chosen Option : 4

Q.11 Two Statements are given followed by two conclusions numbered I and II. Assuming the statements to be true, even if they seem to be at variance with commonly known facts, decide which of the conclusions logically follow (s) from the statements.

Statements:

Some pens are black.

No black is blue.

Conclusions:

I. No pen is blue.

II. Some pens are not black.

- Ans
- 1. Only conclusion II follows
  - 2. Both conclusions I and II follow
  - 3. Only conclusion I follows
  - 4. Neither conclusion I nor II follows

Question Type : MCQ

Question ID : 264330133705

Option 1 ID : 264330523844

Option 2 ID : 264330523845

Option 3 ID : 264330523843

Option 4 ID : 264330523846

Status : Answered

Chosen Option : 4

Q.12 दिए गए दो चिन्हों को आपस में बदलने पर, समीकरण (I) और (II) के क्रमशः मान क्या होंगे?

+ और -

I.  $18 \div 3 + 6 \times 2 - 8$

II.  $15 \times 3 - 45 \div 5 + 30$

- Ans
- 1. 3 और 25
  - 2. 2 और 24
  - 3. 24 और 2
  - 4. 2 और 66

Question Type : MCQ

Question ID : 264330138494

Option 1 ID : 264330542586

Option 2 ID : 264330542584

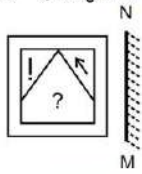
Option 3 ID : 264330542585

Option 4 ID : 264330542583

Status : Answered


Chosen Option : 2

Q.13 दी गई आकृति के उस सही दर्पण प्रतिबिंब को चुनिए, जो दर्पण MN को आकृति के दाईं ओर रखने पर बनेगा।

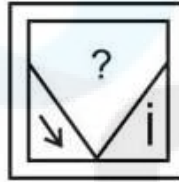


Ans

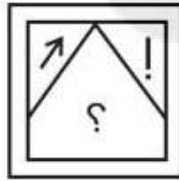
✗ 1.




✗ 2.



✓ 3.



✗ 4.



Question Type : MCQ

Question ID : 264330137579

Option 1 ID : 264330538925

Option 2 ID : 264330538923

Option 3 ID : 264330538924

Option 4 ID : 264330538926

Status : Answered

Chosen Option : 3

Q.14 एक निश्चित कूट भाषा में, 'COSTLY' को '3P19U12Z' लिखा जाता है। उस कूट भाषा में 'EXTEND' को कैसे लिखा जाएगा?

Ans ✗ 1. 5X20F14E

✗ 2. 5Y20G14E

✗ 3. 5Y30F14E

✓ 4. 5Y20F14E

Question Type : MCQ

Question ID : 264330138813

Option 1 ID : 264330543862

Option 2 ID : 264330543860

Option 3 ID : 264330543859

Option 4 ID : 264330543861

Status : Answered

Chosen Option : 4

Q.15 उस विकल्प को चुनिए जो पाँचवीं संख्या से ठीक उसी प्रकार संबंधित है जिस प्रकार दूसरी संख्या पहली संख्या से संबंधित है और चौथी संख्या तीसरी संख्या से संबंधित है।

18 : 190 :: 20 : 210 :: 22 : ?

- Ans  1. 230  
 2. 190  
 3. 200  
 4. 210

Question Type : MCQ  
Question ID : 264330138596  
Option 1 ID : 264330542993  
Option 2 ID : 264330542994  
Option 3 ID : 264330542991  
Option 4 ID : 264330542992  
Status : Answered  
Chosen Option : 1

Q.16 दी गई श्रृंखला में निम्नलिखित में से कौन-सा अक्षर प्रश्न चिन्ह (?) के स्थान पर आएगा?  
E, J, O, T, Y, D, ?

- Ans  1. I  
 2. M  
 3. O  
 4. R

Question Type : MCQ  
Question ID : 264330133696  
Option 1 ID : 264330523808  
Option 2 ID : 264330523807  
Option 3 ID : 264330523809  
Option 4 ID : 264330523810  
Status : Answered  
Chosen Option : 1

Q.17 दिए गए पैटर्न का ध्यानपूर्वक अध्ययन कीजिए और उस संख्या को चुनिए जो इस पैटर्न में प्रश्न चिन्ह (?) के स्थान पर आ सकती है?  
प्रथम पंक्ति- 11, 19, 27  
द्वितीय पंक्ति- 17, 25, 33  
तृतीय पंक्ति- 23, 31, ?

- Ans  1. 33  
 2. 39  
 3. 14  
 4. 40

Question Type : MCQ  
Question ID : 264330133710  
Option 1 ID : 264330523866  
Option 2 ID : 264330523864  
Option 3 ID : 264330523865  
Option 4 ID : 264330523863  
Status : Answered  
Chosen Option : 2

Q.18 किसी एक खास कूट भाषा में, 'RIVER' को 'SJWFS' लिखा जाता है और 'BROWN' को 'CSPXO' लिखा जाता है। उस कूट भाषा में 'PRESS' को कैसे लिखा जाएगा?

- Ans
- 1. QSGTT
  - 2. QSFUU
  - 3. GSFRR
  - 4. QSFTT

Question Type : MCQ

Question ID : 264330133470

Option 1 ID : 264330522912

Option 2 ID : 264330522913

Option 3 ID : 264330522914

Option 4 ID : 264330522911

Status : Answered

Chosen Option : 4

Q.19 Three Statements are given followed by two conclusions numbered I and II. Assuming the statements to be true, even if they seem to be at variance with commonly known facts, decide which of the conclusions logically follow (s) from the statements.

Statements:

Some nachos are patties.

Some patties are pastries.

No pastry is a chocolate.

Conclusions:

I. No nacho is a chocolate.

II. Some nachos are pastries.

- Ans
- 1. Both conclusions I and II follow
  - 2. Only conclusion I follows
  - 3. Neither conclusion I nor II follows
  - 4. Only conclusion II follows

Question Type : MCQ

Question ID : 264330133706

Option 1 ID : 264330523849

Option 2 ID : 264330523847

Option 3 ID : 264330523850

Option 4 ID : 264330523848

Status : Answered

Chosen Option : 3

**Q.20** उस विकल्प आकृति को चुनिए जिसमें दी गई आकृति (X) उसके भाग के रूप में निहित है (घूर्णन की अनुमति नहीं है)।



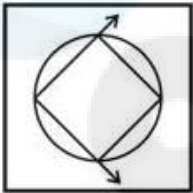
(X)

**Ans**

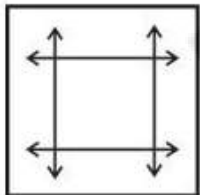
✗ 1.



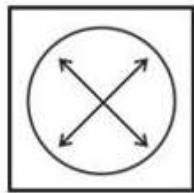
✗ 2.



✓ 3.



✗ 4.



Question Type : **MCQ**

Question ID : **264330137578**

Option 1 ID : **264330538920**

Option 2 ID : **264330538921**

Option 3 ID : **264330538922**

Option 4 ID : **264330538919**

Status : **Answered**

Chosen Option : **3**

Section : **General Awareness**

Q.1 पादप कोशिका में एक बड़ी केन्द्रीय \_\_\_\_\_ होती है जबकि जंतु कोशिका में अनेक छोटी-छोटी \_\_\_\_\_ होती हैं।

- Ans
- 1. कोशिका भित्ति, कोशिका भित्तियाँ
  - 2. ऊतक, ऊतक
  - 3. कोशिका झिल्ली, कोशिका झिल्लियाँ
  - 4. रिक्तिका, रिक्तिकाएँ

Question Type : MCQ  
Question ID : 264330138663  
Option 1 ID : 264330543261  
Option 2 ID : 264330543259  
Option 3 ID : 264330543262  
Option 4 ID : 264330543260  
Status : Answered  
Chosen Option : 3

Q.2 According to Census 2011, which among the following has the minimum population density?

- Ans
- 1. Andhra Pradesh
  - 2. Arunachal Pradesh
  - 3. Chandigarh
  - 4. Sikkim

Question Type : MCQ  
Question ID : 264330134655  
Option 1 ID : 264330527577  
Option 2 ID : 264330527575  
Option 3 ID : 264330527576  
Option 4 ID : 264330527578  
Status : Answered  
Chosen Option : 2

Q.3 The basic unit of speed of an object is \_\_\_\_\_.

- Ans
- 1. metre per km (m/km)
  - 2. metre per minute (m/m)
  - 3. metre per hour (m/h)
  - 4. metre per second (m/s)

Question Type : MCQ  
Question ID : 264330138665  
Option 1 ID : 264330543270  
Option 2 ID : 264330543268  
Option 3 ID : 264330543269  
Option 4 ID : 264330543267  
Status : Answered  
Chosen Option : 4

Q.4 1540 में कन्नौज के युद्ध में निम्नलिखित में से किसकी हार हुई थी?

- Ans
- 1. हेमू
  - 2. हुमायूँ
  - 3. अकबर
  - 4. शेरशाह

Question Type : MCQ

Question ID : 264330137749

Option 1 ID : 264330539603

Option 2 ID : 264330539604

Option 3 ID : 264330539605

Option 4 ID : 264330539606

Status : Answered

Chosen Option : 2

Q.5 एनी बेसेंट ने 1898 में \_\_\_\_\_ में सेंट्रल हिंदू कॉलेज की नींव रखी जहाँ हिंदू धर्म (Hindu religion) और पश्चिमी वैज्ञानिक विषय (Western scientific subjects) दोनों पढ़ाए जाते थे।

- Ans
- 1. चेन्नई
  - 2. पुणे
  - 3. बनारस
  - 4. कोलकाता

Question Type : MCQ

Question ID : 264330137752

Option 1 ID : 264330539617

Option 2 ID : 264330539618

Option 3 ID : 264330539616

Option 4 ID : 264330539615

Status : Answered

Chosen Option : 4

Q.6 निम्न में से कौन-सा विटामिन जल में विलेय है?

- Ans
- 1. विटामिन डी (Vitamin-D)
  - 2. विटामिन सी (Vitamin-C)
  - 3. विटामिन ए (Vitamin-A)
  - 4. विटामिन ई (Vitamin-E)

Question Type : MCQ

Question ID : 264330134062

Option 1 ID : 264330525273

Option 2 ID : 264330525271

Option 3 ID : 264330525272

Option 4 ID : 264330525274

Status : Answered

Chosen Option : 2

Q.7 A temporary alliance of groups or parties is called a \_\_\_\_\_.

- Ans
- 1. Federalism
  - 2. Constituency
  - 3. Veto
  - 4. Coalition

Question Type : MCQ  
Question ID : 264330138257  
Option 1 ID : 264330541636  
Option 2 ID : 264330541637  
Option 3 ID : 264330541638  
Option 4 ID : 264330541635  
Status : Answered  
Chosen Option : 4

Q.8 शतरंज की बिसात पर कितने सफेद वर्ग होते हैं?

- Ans
- 1. 32
  - 2. 22
  - 3. 64
  - 4. 204

Question Type : MCQ  
Question ID : 264330134078  
Option 1 ID : 264330525335  
Option 2 ID : 264330525337  
Option 3 ID : 264330525336  
Option 4 ID : 264330525338  
Status : Answered  
Chosen Option : 2

Q.9 एलीफेंटा की गुफाएँ किस राज्य में स्थित हैं?

- Ans
- 1. महाराष्ट्र
  - 2. राजस्थान
  - 3. गुजरात
  - 4. कर्नाटक

Question Type : MCQ  
Question ID : 264330138248  
Option 1 ID : 264330541601  
Option 2 ID : 264330541599  
Option 3 ID : 264330541600  
Option 4 ID : 264330541602  
Status : Answered  
Chosen Option : 1

Q.10 सुल्तान मुहम्मद गोरी ने सन् \_\_\_\_\_ में पृथ्वीराज तृतीय को हराया था।

- Ans
- 1. 1191
  - 2. 1195
  - 3. 1211
  - 4. 1192

Question Type : MCQ  
Question ID : 264330138671  
Option 1 ID : 264330543291  
Option 2 ID : 264330543293  
Option 3 ID : 264330543294  
Option 4 ID : 264330543292  
Status : Answered  
Chosen Option : 4

Q.11 संयुक्त राष्ट्र की एक रिपोर्ट के अनुसार, भारत 2023 तक \_\_\_\_\_ को पीछे छोड़कर दुनिया का सर्वाधिक आबादी वाला देश बन जाएगा।

- Ans
- 1. पाकिस्तान
  - 2. चीन
  - 3. संयुक्त राज्य अमेरिका
  - 4. इंडोनेशिया

Question Type : MCQ  
Question ID : 264330137772  
Option 1 ID : 264330539697  
Option 2 ID : 264330539696  
Option 3 ID : 264330539695  
Option 4 ID : 264330539698  
Status : Answered  
Chosen Option : 2

Q.12 कुचिपुड़ी किस राज्य का शास्त्रीय नृत्य है?

- Ans
- 1. केरल
  - 2. बिहार
  - 3. आंध्रप्रदेश
  - 4. तमिलनाडु

Question Type : MCQ  
Question ID : 264330134058  
Option 1 ID : 264330525255  
Option 2 ID : 264330525256  
Option 3 ID : 264330525258  
Option 4 ID : 264330525257  
Status : Answered  
Chosen Option : 3

Q.13 Among the following, which of these are an example of capital receipt?

- Ans
- 1. Commission and dividend received
  - 2. Rent and commission received
  - 3. Borrowings and loan recovery
  - 4. Sale of goods and rent

Question Type : MCQ  
Question ID : 264330137918  
Option 1 ID : 264330540282  
Option 2 ID : 264330540281  
Option 3 ID : 264330540279  
Option 4 ID : 264330540280  
Status : Not Answered  
Chosen Option : --

Q.14 'खिचड़ी (Kicheri)', एक फसल कटाई उत्सव है जिसमें अनुष्ठानिक स्नान किया जाता है, यह मुख्य रूप से \_\_\_\_\_ में मनाया जाता है।

- Ans
- 1. मध्यप्रदेश
  - 2. उत्तरप्रदेश
  - 3. गुजरात
  - 4. हरियाणा

Question Type : MCQ  
Question ID : 264330137739  
Option 1 ID : 264330539563  
Option 2 ID : 264330539564  
Option 3 ID : 264330539566  
Option 4 ID : 264330539565  
Status : Answered  
Chosen Option : 2

Q.15 The Himalayan Mountain range was formed by the collision of \_\_\_\_\_ .

- Ans
- 1. Indian Plate and Eurasian Plate
  - 2. African Plate and Australian Plate
  - 3. Eurasian Plate and African Plate
  - 4. Indian Plate and African Plate

Question Type : MCQ  
Question ID : 264330134066  
Option 1 ID : 264330525288  
Option 2 ID : 264330525287  
Option 3 ID : 264330525290  
Option 4 ID : 264330525289  
Status : Answered  
Chosen Option : 1

Q.16 "प्लेइंग इट माई वे" \_\_\_\_\_ की आत्मकथा है।

- Ans
- 1. राहुल द्रविड़
  - 2. युवराज सिंह
  - 3. सचिन तेंदुलकर
  - 4. एम एस धोनी

Question Type : MCQ  
Question ID : 264330137911  
Option 1 ID : 264330540252  
Option 2 ID : 264330540253  
Option 3 ID : 264330540254  
Option 4 ID : 264330540251  
Status : Answered  
Chosen Option : 3

Q.17 राज्य सभा में राष्ट्रपति द्वारा मनोनीत किए जाने वाले \_\_\_\_\_ सदस्य होते हैं।

- Ans
- 1. दस
  - 2. छः
  - 3. बारह
  - 4. पाँच

Question Type : MCQ  
Question ID : 264330134077  
Option 1 ID : 264330525332  
Option 2 ID : 264330525334  
Option 3 ID : 264330525333  
Option 4 ID : 264330525331  
Status : Answered  
Chosen Option : 2

Q.18 सचिन तेंदुलकर को "भारत रत्न पुरस्कार" किस वर्ष मिला था?

- Ans
- 1. 2012
  - 2. 2011
  - 3. 2013
  - 4. 2014

Question Type : MCQ  
Question ID : 264330138653  
Option 1 ID : 264330543220  
Option 2 ID : 264330543219  
Option 3 ID : 264330543221  
Option 4 ID : 264330543222  
Status : Answered  
Chosen Option : 4

Q.19 किस कथक नर्तकी को पद्म श्री और संगीत नाटक अकादमी पुरस्कार से सम्मानित किया गया था?

- Ans
- 1. हेमा मालिनी
  - 2. कौशल्या रेड्डी
  - 3. श्रीदेवी
  - 4. सितारा देवी

Question Type : MCQ  
Question ID : 264330137913  
Option 1 ID : 264330540260  
Option 2 ID : 264330540262  
Option 3 ID : 264330540261  
Option 4 ID : 264330540259  
Status : Answered  
Chosen Option : 4

Q.20 भारतीय संविधान के अनुच्छेद 356 और 360 \_\_\_\_\_ पर आधारित अनुच्छेद हैं।

- Ans
- 1. क्षेत्रीय भाषाओं
  - 2. निर्वाचनों
  - 3. आपातकालीन प्रावधानों
  - 4. संविधान संशोधन

Question Type : MCQ  
Question ID : 264330134076  
Option 1 ID : 264330525330  
Option 2 ID : 264330525328  
Option 3 ID : 264330525327  
Option 4 ID : 264330525329  
Status : Answered  
Chosen Option : 3

Q.21 निम्नलिखित में से किस भारतीय गायक ने ग्रैमी (Grammy) पुरस्कार जीता है?

- Ans
- 1. मोहम्मद रफ़ी(Mohammed Rafi)
  - 2. कुमार सानू(Kumar Sanu)
  - 3. अरिजीत सिंह(Arijit Singh)
  - 4. ए. आर. रहमान (A R Rahman)

Question Type : MCQ  
Question ID : 264330134074  
Option 1 ID : 264330525322  
Option 2 ID : 264330525321  
Option 3 ID : 264330525320  
Option 4 ID : 264330525319  
Status : Answered  
Chosen Option : 4

Q.22 The breaking up of the rocks on the earth's surface is called as \_\_\_\_\_.

- Ans
- 1. weathering
  - 2. stacking
  - 3. meandering
  - 4. sorting

Question Type : MCQ  
Question ID : 264330138664  
Option 1 ID : 264330543264  
Option 2 ID : 264330543266  
Option 3 ID : 264330543263  
Option 4 ID : 264330543265  
Status : Answered  
Chosen Option : 2

Q.23 In 1600, the East India company acquired a charter from \_\_\_\_\_.

- Ans
- 1. Queen Elizabeth I
  - 2. Queen Victoria
  - 3. King Henry IV
  - 4. King Edward VI

Question Type : MCQ  
Question ID : 264330138269  
Option 1 ID : 264330541683  
Option 2 ID : 264330541685  
Option 3 ID : 264330541686  
Option 4 ID : 264330541684  
Status : Answered  
Chosen Option : 1

Q.24 मनरेगा (MGNREGA) योजना के संदर्भ में, ग्रामीण अकुशल श्रमिकों को कितने दिनों का गारंटीयुक्त मजदूरी रोजगार उपलब्ध कराया जाता है?

- Ans
- 1. 150
  - 2. 100
  - 3. 120
  - 4. 90

Question Type : MCQ  
Question ID : 264330134056  
Option 1 ID : 264330525250  
Option 2 ID : 264330525248  
Option 3 ID : 264330525249  
Option 4 ID : 264330525247  
Status : Not Answered  
Chosen Option : --

Q.25 निम्नलिखित में से सिंचाई की किस विधि में जल बूँद-बूँद करके सीधे पौधों की जड़ों में गिरता है?

- Ans
- 1. हस्त-सिंचाई (Manual irrigation)
  - 2. छिड़काव तंत्र (Sprinkler system)
  - 3. ड्रिप तंत्र (Drip system)
  - 4. लेटरल मूव इरीगेशन (Lateral move irrigation)

Question Type : MCQ  
Question ID : 264330137903  
Option 1 ID : 264330540220  
Option 2 ID : 264330540221  
Option 3 ID : 264330540222  
Option 4 ID : 264330540219  
Status : Answered  
Chosen Option : 3

Section : English Language and Comprehension

Q.1 In the following question, out of the given four alternatives, select the alternative which best expresses the meaning of the Idiom/Phrase.  
To go a long way

- Ans
- 1. To avoid short cuts
  - 2. To become successful in life
  - 3. To join a foreign company
  - 4. To go on a long drive

Question Type : MCQ  
Question ID : 264330134549  
Option 1 ID : 264330527154  
Option 2 ID : 264330527151  
Option 3 ID : 264330527152  
Option 4 ID : 264330527153  
Status : Answered  
Chosen Option : 2

Q.2 Improve the underlined part of the sentence. Choose 'No improvement' as an answer if the sentence is grammatically correct.

There has been a spate of some unfortunately events in Madurai.

- Ans
- 1. unfortunate some events
  - 2. unfortunate events
  - 3. unfortunately event
  - 4. No improvement

Question Type : MCQ  
Question ID : 264330134724  
Option 1 ID : 264330527853  
Option 2 ID : 264330527851  
Option 3 ID : 264330527852  
Option 4 ID : 264330527854  
Status : Answered  
Chosen Option : 2

**Q.3** Select the most appropriate synonym to substitute the bracketed word in the given sentence.

They have also tested fully (autonomous) landings and semi-autonomous take-offs for the gas-powered rotorcraft.

**Ans** ✓ 1. Independent

✗ 2. Unanimous

✗ 3. Obstruct

✗ 4. Occlude

Question Type : **MCQ**

Question ID : **264330136230**

Option 1 ID : **264330533710**

Option 2 ID : **264330533708**

Option 3 ID : **264330533707**

Option 4 ID : **264330533709**

Status : **Answered**

Chosen Option : **1**

**Q.4** In the following question, out of the given four alternatives, select the alternative which best expresses the meaning of the Idiom/Phrase.

Get the ball rolling

**Ans** ✓ 1. Set an activity in motion

✗ 2. Behave in a crazy manner

✗ 3. Get everyone's vote

✗ 4. Collect one's belongings

Question Type : **MCQ**

Question ID : **264330136789**

Option 1 ID : **264330535855**

Option 2 ID : **264330535857**

Option 3 ID : **264330535856**

Option 4 ID : **264330535858**

Status : **Answered**

Chosen Option : **1**

**Q.5** Select the most appropriate antonym of the given word.

Administer

**Ans** ✗ 1. Entertaining

✓ 2. Forego

✗ 3. Pictural

✗ 4. Steady

Question Type : **MCQ**

Question ID : **264330136631**

Option 1 ID : **264330535248**

Option 2 ID : **264330535249**

Option 3 ID : **264330535250**

Option 4 ID : **264330535247**

Status : **Not Answered**

Chosen Option : **--**

**Q.6** Identify the segment that contains a grammatical error. If there is no error, select 'No error'

Do not be put of by the/ mathematical equation, because/ this is really not very complicated.

- Ans**
- 1. mathematical equation, because
  - 2. No error
  - 3. Do not be put of by the
  - 4. this is really not very complicated.

Question Type : **MCQ**  
Question ID : **264330136213**  
Option 1 ID : **264330533644**  
Option 2 ID : **264330533646**  
Option 3 ID : **264330533643**  
Option 4 ID : **264330533645**  
Status : **Answered**  
Chosen Option : **3**

**Q.7** Choose the word that can substitute the given group of words.  
A man who is womanish in his habits

- Ans**
- 1. Henpecked
  - 2. Fastidious
  - 3. Stoic
  - 4. Effeminate

Question Type : **MCQ**  
Question ID : **264330134543**  
Option 1 ID : **264330527128**  
Option 2 ID : **264330527127**  
Option 3 ID : **264330527130**  
Option 4 ID : **264330527129**  
Status : **Answered**  
Chosen Option : **4**

**Q.8** Select the appropriate synonym for the underlined word.  
They have no reason to trust you.

- Ans**
- 1. believe
  - 2. doubt
  - 3. dispute
  - 4. condemn

Question Type : **MCQ**  
Question ID : **264330134544**  
Option 1 ID : **264330527132**  
Option 2 ID : **264330527134**  
Option 3 ID : **264330527133**  
Option 4 ID : **264330527131**  
Status : **Answered**  
Chosen Option : **1**

**Q.9** Find the part of the given sentence that has an error in it. If there is no error, choose 'No error'.

All of the farmers I interviewed shared three things on common.

- Ans**
- 1. All of the farmers I
  - 2. things on common.
  - 3. No error
  - 4. interviewed shared three

Question Type : **MCQ**  
Question ID : **264330135179**  
Option 1 ID : **264330529647**  
Option 2 ID : **264330529649**  
Option 3 ID : **264330529650**  
Option 4 ID : **264330529648**  
Status : **Answered**  
Chosen Option : **2**

**Q.10** Select the most appropriate option to fill in the blank.

Without vision, the process of conceptualisation can become \_\_\_\_\_ task for any individual.

- Ans**
- 1. a gregarious
  - 2. an onerous
  - 3. a contrarious
  - 4. a lively

Question Type : **MCQ**  
Question ID : **264330136107**  
Option 1 ID : **264330533235**  
Option 2 ID : **264330533238**  
Option 3 ID : **264330533237**  
Option 4 ID : **264330533236**  
Status : **Not Answered**  
Chosen Option : **--**

**Q.11** Select the most appropriate option to fill in the blank.

Although she has used the typewriter since she was eleven years old, she is rather \_\_\_\_\_ than rapid.

- Ans**
- 1. heedless
  - 2. hasty
  - 3. energetic
  - 4. careful

Question Type : **MCQ**  
Question ID : **264330134553**  
Option 1 ID : **264330527169**  
Option 2 ID : **264330527168**  
Option 3 ID : **264330527167**  
Option 4 ID : **264330527170**  
Status : **Answered**  
Chosen Option : **4**

**Q.12** Improve the underlined part of the sentence. Choose 'No improvement' as an answer if the sentence is grammatically correct.  
Your parcel should arrived at three days.

- Ans
- 1. arrive in third
  - 2. arrive in the third
  - 3. arrive in three
  - 4. No improvement

Question Type : MCQ  
Question ID : 264330134402  
Option 1 ID : 264330526587  
Option 2 ID : 264330526588  
Option 3 ID : 264330526589  
Option 4 ID : 264330526590  
Status : Answered  
Chosen Option : 3

**Q.13** Fill in the blank with the most appropriate option.  
Earlier I'd thought that it was for my sake, but then I learnt \_\_\_\_\_ Arjun the power to resist her.

- Ans
- 1. what has gave
  - 2. what gives
  - 3. what gave
  - 4. what give

Question Type : MCQ  
Question ID : 264330136246  
Option 1 ID : 264330533774  
Option 2 ID : 264330533772  
Option 3 ID : 264330533773  
Option 4 ID : 264330533771  
Status : Answered  
Chosen Option : 3

**Q.14** Select the most appropriate option to substitute the bracketed segment in the given sentence. If there is no need to substitute it, select 'no substitution required'.

(I wouldn't date him if I was you), he doesn't seem like a good person.

- Ans
- 1. No substitution required
  - 2. I will not date him if I were you, not
  - 3. I wouldn't has dated him if I were you,
  - 4. I wouldn't have dated him if I were you,

Question Type : MCQ  
Question ID : 264330136216  
Option 1 ID : 264330533658  
Option 2 ID : 264330533657  
Option 3 ID : 264330533656  
Option 4 ID : 264330533655  
Status : Answered  
Chosen Option : 4

**Q.15** A sentence has been given with a blank to be filled with an appropriate option. Choose the correct alternative.

The victim was \_\_\_\_\_ in the back of his head.

- Ans
- 1. shot
  - 2. shooted
  - 3. shoot
  - 4. shooting

Question Type : **MCQ**  
Question ID : **264330134534**  
Option 1 ID : **264330527098**  
Option 2 ID : **264330527095**  
Option 3 ID : **264330527097**  
Option 4 ID : **264330527096**  
Status : **Answered**  
Chosen Option : 1

**Q.16** Choose the incorrectly spelt word.

- Ans
- 1. Friying
  - 2. Addition
  - 3. Hazard
  - 4. Common

Question Type : **MCQ**  
Question ID : **264330134550**  
Option 1 ID : **264330527158**  
Option 2 ID : **264330527156**  
Option 3 ID : **264330527157**  
Option 4 ID : **264330527155**  
Status : **Answered**  
Chosen Option : 1

**Q.17** Select the appropriate antonym for the underlined word.  
Sam was looking gloomy and downcast, and Meg in tears.

- Ans
- 1. sullen
  - 2. plain
  - 3. buoyant
  - 4. morose

Question Type : **MCQ**  
Question ID : **264330134547**  
Option 1 ID : **264330527146**  
Option 2 ID : **264330527144**  
Option 3 ID : **264330527143**  
Option 4 ID : **264330527145**  
Status : **Answered**  
Chosen Option : 3

Q.18 Select the wrongly spelt word.

- Ans
- 1. Enclosed
  - 2. Sizeable
  - 3. Disgusting
  - 4. Contradictory

Question Type : MCQ  
Question ID : 264330136106  
Option 1 ID : 264330533233  
Option 2 ID : 264330533232  
Option 3 ID : 264330533231  
Option 4 ID : 264330533234  
Status : Answered  
Chosen Option : 3

Q.19 Find the part of the given sentence that has an error in it. If there is no error, choose 'No error'.

You will get a discount on this products, if you buy one more outfit.

- Ans
- 1. you buy one more outfit.
  - 2. No error
  - 3. You will get a discount
  - 4. on this products, if

Question Type : MCQ  
Question ID : 264330134530  
Option 1 ID : 264330527081  
Option 2 ID : 264330527082  
Option 3 ID : 264330527079  
Option 4 ID : 264330527080  
Status : Answered  
Chosen Option : 4

Q.20 Choose the word that can substitute the given group of words.

A circular house made of blocks of hard snow

- Ans
- 1. Igloo
  - 2. Hut
  - 3. Nest
  - 4. Hutch

Question Type : MCQ  
Question ID : 264330136783  
Option 1 ID : 264330535831  
Option 2 ID : 264330535832  
Option 3 ID : 264330535833  
Option 4 ID : 264330535834  
Status : Answered  
Chosen Option : 1

**Comprehension:**

In the following passage some words have been deleted. Fill in the blanks with the help of the alternatives given. Select the most appropriate option for each number.

It was this (1) \_\_\_\_\_ that made John so particularly unusual, even for a wizard. This scar was (2) \_\_\_\_\_ hint of John's very mysterious past, of the reason (3) \_\_\_\_\_ the Samuel's doorstep eleven years (4) \_\_\_\_\_. At the age of one, John (5) \_\_\_\_\_ a curse from the greatest Dark sorcerer of all time.

**SubQuestion No : 21**

**Q.21** Select the most appropriate option to fill in blank number 1.

- Ans**
- 1. defect
  - 2. scar
  - 3. blister
  - 4. scab

Question Type : **MCQ**

Question ID : **264330136622**

Option 1 ID : **264330535211**

Option 2 ID : **264330535213**

Option 3 ID : **264330535212**

Option 4 ID : **264330535214**

Status : **Answered**

Chosen Option : **2**

**Comprehension:**

In the following passage some words have been deleted. Fill in the blanks with the help of the alternatives given. Select the most appropriate option for each number.

It was this (1) \_\_\_\_\_ that made John so particularly unusual, even for a wizard. This scar was (2) \_\_\_\_\_ hint of John's very mysterious past, of the reason (3) \_\_\_\_\_ the Samuel's doorstep eleven years (4) \_\_\_\_\_. At the age of one, John (5) \_\_\_\_\_ a curse from the greatest Dark sorcerer of all time.

**SubQuestion No : 22**

**Q.22** Select the most appropriate option to fill in blank number 2.

- Ans**
- 1. the only
  - 2. the alone
  - 3. that only
  - 4. that individual

Question Type : **MCQ**

Question ID : **264330136623**

Option 1 ID : **264330535215**

Option 2 ID : **264330535218**

Option 3 ID : **264330535216**

Option 4 ID : **264330535217**

Status : **Answered**

Chosen Option : **1**

**Comprehension:**

In the following passage some words have been deleted. Fill in the blanks with the help of the alternatives given. Select the most appropriate option for each number.

It was this (1) \_\_\_\_\_ that made John so particularly unusual, even for a wizard. This scar was (2) \_\_\_\_\_ hint of John's very mysterious past, of the reason (3) \_\_\_\_\_ the Samuel's doorstep eleven years (4) \_\_\_\_\_. At the age of one, John (5) \_\_\_\_\_ a curse from the greatest Dark sorcerer of all time.

**SubQuestion No : 23**

**Q.23** Select the most appropriate option to fill in blank number 3.

- Ans**
- 1. he had been left up
  - 2. he have been left on
  - 3. he was been left in
  - 4. he had been left on

Question Type : **MCQ**  
Question ID : **264330136624**  
Option 1 ID : **264330535219**  
Option 2 ID : **264330535220**  
Option 3 ID : **264330535222**  
Option 4 ID : **264330535221**  
Status : **Answered**  
Chosen Option : **4**

**Comprehension:**

In the following passage some words have been deleted. Fill in the blanks with the help of the alternatives given. Select the most appropriate option for each number.

It was this (1) \_\_\_\_\_ that made John so particularly unusual, even for a wizard. This scar was (2) \_\_\_\_\_ hint of John's very mysterious past, of the reason (3) \_\_\_\_\_ the Samuel's doorstep eleven years (4) \_\_\_\_\_. At the age of one, John (5) \_\_\_\_\_ a curse from the greatest Dark sorcerer of all time.

**SubQuestion No : 24**

**Q.24** Select the most appropriate option to fill in blank number 4.

- Ans**
- 1. sooner
  - 2. before
  - 3. prior
  - 4. ago

Question Type : **MCQ**  
Question ID : **264330136625**  
Option 1 ID : **264330535223**  
Option 2 ID : **264330535225**  
Option 3 ID : **264330535224**  
Option 4 ID : **264330535226**  
Status : **Answered**  
Chosen Option : **4**

**Comprehension:**

In the following passage some words have been deleted. Fill in the blanks with the help of the alternatives given. Select the most appropriate option for each number.

It was this (1) \_\_\_\_\_ that made John so particularly unusual, even for a wizard. This scar was (2) \_\_\_\_\_ hint of John's very mysterious past, of the reason (3) \_\_\_\_\_ the Samuel's doorstep eleven years (4) \_\_\_\_\_. At the age of one, John (5) \_\_\_\_\_ a curse from the greatest Dark sorcerer of all time.

**SubQuestion No : 25**

**Q.25** Select the most appropriate option to fill in blank number 5.

- Ans**
- 1. have somehow survived
  - 2. had somehow survived
  - 3. had somehow existed through
  - 4. has had someway survived

Question Type : **MCQ**

Question ID : **264330136626**

Option 1 ID : **264330535229**

Option 2 ID : **264330535228**

Option 3 ID : **264330535227**

Option 4 ID : **264330535230**

Status : **Answered**

Chosen Option : **2**